

نگاهی به جغرافیای انسانی ایران

کشاورزی و عده‌ای از آن‌ها زندگی کوچ‌رو را برگزیدند. به تدریج با افزایش جمعیت و پیشرفت فناوری، اشکال مختلف بهره‌برداری از محیط به وجود آمد. امروزه سه نوع شیوه‌ی زندگی کوچ‌رو، روستایی و شهری در ایران وجود دارد که به طور مختصر به اشکال سکونت در ایران می‌پردازیم.

فلات ایران حدود سه هزار سال پیش مورد توجه اقوام کوچ‌نشین آریایی قرار گرفت. آریایی‌ها دامپرورانی بودند که از آسیای مرکزی و جنوب سیبری حرکت کردند و به تدریج در بخش‌هایی از فلات ایران ساکن شدند. گروهی از آنان در نواحی مرکزی و گروهی در دره‌ها و دشت‌های رشته کوه زاگرس ساکن شدند. اغلب آریایی‌ها



شکل ۳۱-۲- آریایی‌ها پس از ورود به ایران هم‌چون سایر ایرانیان در فلات ایران اغلب به کشت و زرع مشغول شدند.

● زندگی عشایری

پست و هموار مجاور آن‌ها، از قرن‌ها پیش شرایط مساعدی را برای دامپروری فراهم کرده است. عشایر، زندگی اجتماعی - قبیله‌ای دارند و از ایل و طایفه تشکیل شده‌اند. افراد یک طایفه غالباً با هم خویشاوند هستند. اقتصاد عشایر متکی به دام است. عشایر کشور ما، مردمانی سلحشور، میهمان‌نواز و سخت‌کوش‌اند که با فعالیت خود بخشی از مواد پروتئینی و لبنی کشور را تأمین می‌کنند و از این جهت در اقتصاد کشور ما نقش قابل توجهی دارند.

علاوه بر زندگی روستایی و شهری، در کشور ما نوع دیگری از زندگی وجود دارد که به آن زندگی عشایری گفته می‌شود. این شیوه‌ی زندگی که سکونت و یکجانشینی دائمی در آن دیده نمی‌شود، زاینده‌ی استفاده مستقیم انسان از منابع طبیعت است. وجود کوه‌های بلند با دامنه‌های سرسبز (مراتع بیلاقی) در مجاور دشت‌های وسیع (مراتع قشلاقی) زمینه‌ی مناسبی را برای شکل‌گیری زندگی عشایری فراهم کرده است. در ایران وجود کوه‌های البرز و زاگرس و نیز دشت‌های



شکل ۳۲-۲- مراتع سرسبز ارتفاعات زاگرس و دشت‌های مجاور آن



شکل ۳۳-۲- مراتع بیلاقی دامنه‌های جنوبی البرز

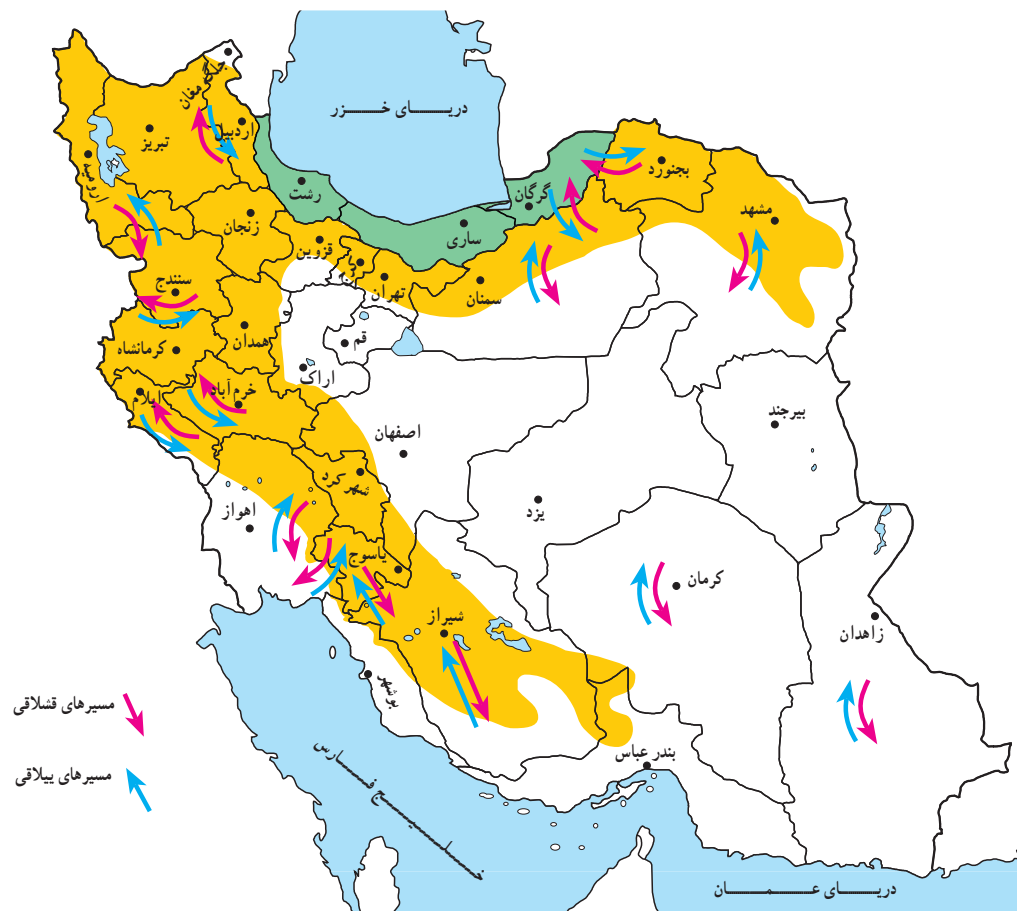
● ایلات مهم کشور

شمال غرب) و قشلاق خود را در جلگه‌ی خوزستان می‌گذرانند. ایلات قشقایی در زاگرس بین شمال و جنوب استان فارس و ایل سون‌ها بین جلگه‌ی مغان و دامنه‌های سبلان و ارتفاعات آذربایجان جابه‌جا می‌شوند.

سه ایل پرجمعیت کشور ما ایل بختیاری، قشقایی و ایل سون (شاهسون) است. ایلات بختیاری بیلاق خود را در اطراف شهرکرد (زاگرس



شکل ۳۴-۲- قشلاق‌های اطراف اندیمشک در جلگه‌ی خوزستان



شکل ۳۵-۲- نقشه‌ی مسیرهای ییلاق و قشلاق عشایر در ایران

فعالیت

۲-۹

اقتصاد و شیوه‌ی زندگی کوچ‌نشینان متکی به دام است. از دام در چه زمینه‌هایی استفاده می‌شود؟ نام ببرید.

گفتنی است، زنان عشایر در ایران، هم‌دوش با مردان در امور دامداری، تهیه‌ی شیر و مشتقات لبنی و صنایع دستی مشارکت دارند. امروزه به دلیل سختی این نوع زندگی و تحولات اجتماعی، تعداد کوچ‌نشینان روبه کاهش است و عشایر به شیوه‌ی زندگی یکجانشینی تمایل پیدا کرده‌اند.



شکل ۳۶-۲- همکاری زنان در زندگی عشایری



مشاهده می‌شود. در اطراف هر خانه روستایی زمین‌های کشاورزی و شالیزارهای بزرگ شکل گرفته است. این شکل‌بندی روستایی را روستاهای پراکنده می‌گویند.

روستاهایی که در امتداد یک رود شکل گرفته‌اند به روستاهای طولی معروف‌اند. در مناطق کوهستانی کشور ممکن



شکل ۳۷-۲- روستای متمرکز



شکل ۳۸-۲- روستای پراکنده - گیلان



شکل ۳۹-۲- شکل‌گیری روستاهای طولی در امتداد رودخانه

زندگی روستایی

● عوامل مؤثر در پیدایش سکونت‌گاه‌های روستایی

شکل‌گیری سکونت‌گاه‌ها در ایران بیش از هر چیز به میزان دسترسی به آب بستگی داشته است، به طوری که روستاهای اولیه در کنار چشمه‌ها و رودها دایر شده‌اند و شکل استقرار خود را از مسیر آب‌ها کسب کرده‌اند.

در ایران امکان دسترسی به آب، در پایکوه‌ها و در دامنه‌های کوهستان‌ها بیش از هر جای دیگر است. نخستین روستاهای داخل فلات ایران نیز در همین مناطق به وجود آمدند. علاوه بر آب، جنس خاک نیز در ایجاد و توسعه روستاهای این سرزمین نقش مهمی داشته است؛ مثلاً مخروطه‌افکنه‌ها بهترین و حاصل‌خیزترین خاک‌ها را برای کشت و زرع فراهم نمودند.

در حاشیه‌ی بیابان‌ها هم چنانچه آب‌های زیرزمینی به سطح زمین نزدیک شده باشند، با احداث چاه و قنات، امکان کشاورزی و زندگی روستایی به وجود می‌آید به چنین آبادی‌هایی در نواحی بیابانی واحه گفته می‌شود.

● شکل سکونتگاه‌های روستایی

اگر عامل آب را در شکل‌گیری روستاها یک عامل اساسی بدانیم، بنابراین، طبیعی‌ترین نوع شکل‌گیری روستاها در پیرامون منابع آب، (مانند چشمه و چاه) را به صورت متمرکز درمی‌یابیم. در نواحی خشک و نیمه خشک کشور ما هر جا آب به صورت قنات یا چاه در سطح زمین پیدا شده است، خانه‌های روستایی در اطراف آن گسترش یافته‌اند. این گونه سکونت‌گاه‌های روستایی را روستای متمرکز گویند. در این نواحی فاصله‌ی روستاها از هم بسیار زیاد است و زمین‌های کشاورزی در بخش حاصلخیزتر و دورتر از خانه‌ها قرار گرفته‌اند. در نواحی مرطوب و جلگه‌ای شمال ایران، به دلیل آن‌که آب و خاک حاصلخیز همه‌جا در دسترس است و امکان کار کشاورزی در همه جا فراهم شده است، روستاها در یک مکان متمرکز نیستند و مرز روستاها به خوبی از یکدیگر مشخص نیست، خانه‌های روستایی در همه‌جا

است خانه‌های روستایی بر دامنه‌ی یک کوه استقرار یافته باشد، معمولاً در دامنه‌های رو به آفتاب ساختمان‌ها به صورت پلکانی در بالا دست ساختمان‌های دیگر قرار می‌گیرد. این گونه روستاها، به روستاهای پلکانی معروف‌اند.



شکل ۴۰-۲- روستای پلکانی هجیج در منطقه‌ی پاوه‌ی کرمانشاه

آفتاب می‌کاهد.

در مورد سقف خانه‌های مناطق جنگلی که در تصویر زیر آمده است چه می‌دانید؟ توضیح دهید. امروزه به علت گسترش امکانات و مصالح شهری به نواحی روستایی، مصالح مورد استفاده در ساختمان‌های روستایی تغییر کرده است، و مصالح بهتر با استحکام بیشتر مانند آجر، سیمان و آهن به کار گرفته می‌شود.



شکل ۴۲-۲- سقف خانه‌ها در مناطق جنگلی - گیلان

خانه‌های روستایی

در ساختمان‌های روستایی، مصالحی به کار می‌رود که معمولاً در محیط اطراف وجود دارد و به این جهت روستاها با محیط جغرافیایی خود پیوند زیادی دارند.

در مناطق گرم و خشک، روستاییان، سقف خانه‌های خود را گنبدی شکل می‌سازند؛ زیرا در این حالت معمولاً روزها به نیمی از سقف خانه آفتاب مستقیم نمی‌تابد و این امر در خنک نگه داشتن داخل خانه‌ها مؤثر می‌باشد و از شدت گرمای تابش



شکل ۴۱-۲- سقف خانه‌ها در مناطق گرم - سمنان

فعالیت گروهی

۲-۱۰

خانه‌های روستایی در مناطق جنگلی، کوهستانی، خشک و بیابانی بیش‌تر از چه موادی ساخته می‌شود؟

(جدول را کامل کنید)

	مناطق جنگلی
	مناطق کوهستانی
	مناطق خشک



● منابع درآمد روستاییان

معمولاً روستاییان علاوه بر کار زراعت و باغداری تعدادی دام نیز پرورش می دهند، و از فرآورده های آن استفاده می کنند. برخی روستاییان چنانچه شرایط محیطی فراهم باشد به پرورش زنبور عسل نیز می پردازند.

صنایع دستی از دیگر فعالیت های اقتصادی روستاییان کشور ماست. فعالیت دامپروری زمینه ی صنعت قالی بافی را ایجاد می کند. روستاییان نواحی شمالی کشور با بهره گیری از چوب گیاهان و درختان به ساخت وسایل گوناگون حصیری و چوبی می پردازند. در روستاهای مناطق نیمه خشک که خاک فراوان است ساخت ظروف و اشیای سفالی رواج دارد. روستاییان سواحل شمالی و جنوبی کشور به صید ماهی هم اشتغال دارند. این شغل در سواحل جنوبی کشور که کشاورزی و دامپروری کم تر امکان پذیر است، رواج بیشتری دارد.

در برخی از تعاریف در مورد روستا، آمده است: روستا محلی است که فعالیت اغلب ساکنان آن وابسته به زمین باشد، مانند کشت و زرع، اکثر روستاییان ما به کشاورزی اشتغال دارند.



شکل ۴۳-۲- کشت و زرع



شکل ۴۴-۲- دامداری



شکل ۴۵-۲- زنبورداری - استان زنجان



شکل ۴۷-۲- صید ماهی در کنار دریا



شکل ۴۶-۲- نمونه ای از صنایع دستی روستاییان - گیلان

فعالیت گروهی

۲-۱۱

- ۱- چند نمونه از صنایع دستی روستاییان مناطق مختلف کشور را نام ببرید.
- ۲- چرا در کناره‌های دریای خزر روستاهای متمرکز شکل نگرفته‌اند؟
- ۳- منابع عمده‌ی درآمد روستاییان استان محل زندگی خود را ذکر کنید.

زندگی شهری


● عوامل مؤثر در شکل‌گیری سکونتگاه‌های شهری ایران

شرقی ایران، تعداد جوامع شهری محدود است. برخی از شهرهای این نواحی مثل یزد و کرمان که از منابع آب دورند با انتقال آب از نواحی کوهستانی به دشت‌های مزروعی و یا با حفر کانال‌های زیرزمینی به شکل قنات به حیات خود ادامه داده‌اند.

۱- آب: هسته‌ی اولیه‌ی بسیاری از شهرهای ایران در جایی بوده که به آب دسترسی داشته‌اند. در نواحی مرکزی و



شکل ۲-۴۸- جریان زاینده‌رود از میان شهر تاریخی اصفهان



شکل ۲-۴۹- ارگ بم - قبل از زلزله سال ۱۳۸۲



شکل ۲-۵۰- گسترش شهر کرمانشاه به سبب موقعیت ارتباطی

در ایران، گاهی به شهرهای بزرگی برخورد می‌کنیم که در کنار رودهای پرآب تأسیس شده و توسعه یافته‌اند؛ مانند اصفهان. **۲- ناهمواری:** ویژگی‌های طبیعی از جمله ناهمواری و ارتفاع از عوامل مهم در استقرار و توسعه شهرهای ایران بوده‌اند. به جدول ۲-۵۱ توجه کنید.



شکل ۲-۵۲- میدان شهدای تبریز در منطقه‌ی کوهستانی

جدول ۲-۵۱

تعداد شهرها	مشخصات ارتفاع شهرها در ایران
۱۱۳	نواحی جلگه‌ای و پست تا ارتفاع حداکثر ۳۰۰ متر
۵۱	نواحی دشتی با ارتفاع ۳۰۰ تا ۹۰۰ متری
۳۰۸	نواحی پایکوهی با ارتفاع ۹۰۰ تا ۲۱۵۰ متری
۲۴	نواحی مرتفع کوهستانی بالای ۲۱۵۰ متری

فعالیت

۲-۱۲

- ۱- آیا غیر از اصفهان شهر مهم دیگری در ایران می‌شناسید که رود بزرگی از میان آن بگذرد؟ کدام شهرها در استان محل زندگی شما وجود دارند که در کنار رودی قرار گرفته باشند؟
- ۲- به جدول ۲-۵۱ دقت کنید. در کدام نواحی شهرهای بیش‌تری ایجاد شده است؟ چرا؟
- ۳- در نواحی بسیار مرتفع کوهستانی، تعداد شهرها کم و محدود است، چگونه عامل ارتفاع از شکل‌گیری شهرها در این ناحیه جلوگیری کرده است؟ توضیح دهید.

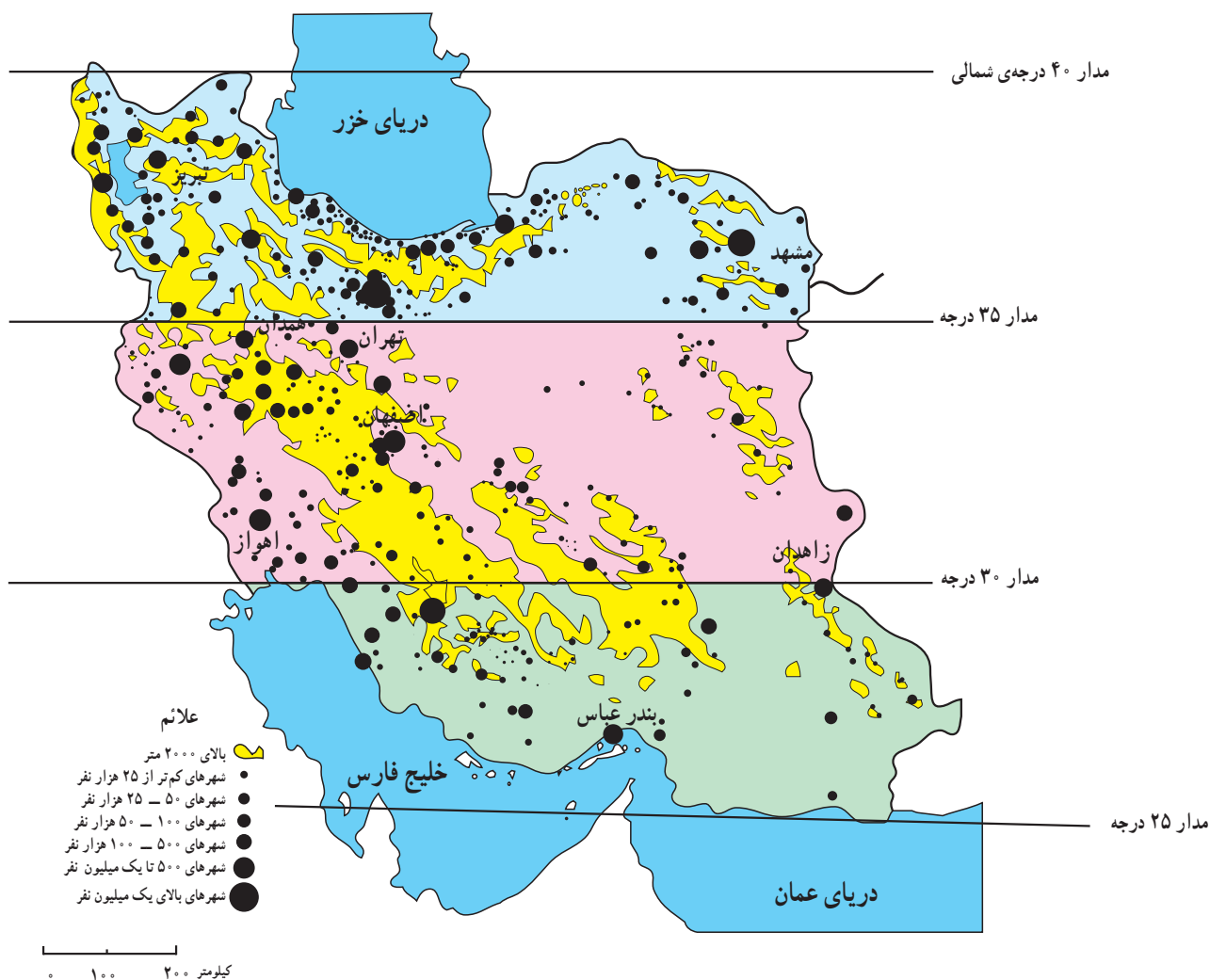
هموار بودن زمین‌ها تعداد مراکز شهری کم است و برعکس در نیمه‌ی شمالی کشور (عرض‌های جغرافیایی بالا) تراکم بیش‌تری از شهرها را ملاحظه می‌کنیم. چرا؟ به جدول توجه کنید.

۳- عرض جغرافیایی: عرض جغرافیایی نیز همچون دو عامل دیگر در ایجاد و توسعه‌ی شهری در ایران دخالت دارد. با توجه به نقشه‌ی ۲-۴۸ در نواحی جنوبی کشور علی‌رغم

برای مطالعه

پراکندگی شهرهای ایران بر حسب عرض جغرافیایی

عرض‌های جغرافیایی	تعداد شهر
۳۵ تا ۴۰ درجه	۲۲۳ شهر
۳۰ تا ۳۵ درجه	۱۹۳ شهر
۲۵ تا ۳۰ درجه	۶۸ شهر



شکل ۲-۵۳- نقشه‌ی پراکندگی جغرافیایی نقاط شهری



شکل ۵۴-۲- بندرعباس، شهری در منطقه‌ی گرم و خشک

شهر می‌گویند؛ به عنوان مثال، تهران به عنوان پایتخت کشور ما یک نقش سیاسی دارد، گرچه کارایی‌های دیگری نیز در آن مشهود است. شهر اصفهان با آن که یک شهر تاریخی بوده، اما امروزه بیش تر به صورت یک شهر صنعتی و خدماتی نیز نقش خود را ایفا می‌کند. شهرهای مشهد و قم از دیرباز به دلیل وجود مرقده امام هشتم علیه السلام و حضرت معصومه سلام الله علیها چهره‌ی یک شهر مذهبی را داشته‌اند و نقش مذهبی از عوامل مهم توسعه و گسترش این شهرها بوده است. شهرهای بندری در ایران از گذشته تاکنون نقش بازرگانی و ارتباطی داشته‌اند. بنابراین، نقش شهر ممکن است، سیاسی، مذهبی، صنعتی - فرهنگی، بازرگانی، نظامی، توریستی، گذرگاهی و حتی دانشگاهی باشد.

● برنامه توسعه‌ی شهری

در دو - سه دهه‌ی اخیر رشد شهرها در کشور ما سرعت گرفته است. از یک سو بر تعداد جمعیت شهرها افزوده می‌شود و از سوی دیگر با تبدیل نقاط روستایی به شهر و تأسیس شهرداری، تعداد نقاط شهری افزایش می‌یابد. پیدایش بافت جدید و حومه‌ای در اطراف شهرها و پیدایش شهرک‌ها مشکلاتی را برای مسئولان

نابرابری در پراکندگی شهرهای ایران در عرض‌های مختلف جغرافیایی نشان‌دهنده‌ی تفاوت در ویژگی‌های اقلیمی و شرایط محیطی و زیستی است.

۴- راه‌های ارتباطی و عامل دفاعی: عامل دیگری که در ایجاد و توسعه‌ی شهرهای ایران دخالت دارد راه‌های ارتباطی است، این عامل در طول تاریخ به بعضی از شهرها ارج و اعتباری بخشیده است. بزرگ‌ترین شهرهای ایران در گذشته در مسیر راه‌های کاروان‌رو و بازرگانی شکل گرفته‌اند مانند کرمانشاه. امروزه نیز توسعه‌ی راه‌های ارتباطی و وضعیت مناسب گذرگاهی، موجب گسترش برخی از شهرها شده است. بنادر نیز از این نظر حائز اهمیت‌اند.

عامل دفاعی هم در گذشته از اهمیت بسیاری برخوردار بوده است، بسیاری از سکونتگاه‌ها در گذشته بر اثر ناامنی از بین رفته‌اند؛ مانند شهرهای تاریخی و بزرگ نیشابور و ری که بر اثر حمله‌ی مغول‌ها از بین رفتند و مجدداً بازسازی شدند.

● نقش شهرها

در گذشته و حتی امروز برخی از شهرها ویژگی خاصی داشته و کارایی خاصی را از خود نشان می‌دهند که به آن نقش

فعالیت گروهی

۲-۱۳

۱- نقش شهرهای زیر را مشخص کنید.

الف- آبادان ب- انزلی پ- شیراز ت- قم

۲- نقش یک شهر را در استان محل زندگی خود به دلخواه بنویسید.

شهری به وجود آورده است. به همین دلیل سازمان‌ها و وزارتخانه‌های مسئول برای کنترل رشد شهرها، برنامه‌های توسعه‌ی شهری را تدوین نموده‌اند. در این برنامه و طرح‌ها، از عکس‌های ماهواره‌ای و نقشه‌های کاربری زمین* استفاده می‌شود.

● تقسیمات سیاسی کشور

تاکنون با پراکندگی سکونتگاه‌های شهری و روستایی در ایران آشنا شدید. در سال ۱۳۸۹ حدود ۱۱۲۷ نقطه‌ی شهری و ۹۶۴ بخش و ۲۴۷۵ دهستان در ایران وجود دارد. برای اداره‌ی هرچه بهتر این سکونتگاه‌ها نیاز به تقسیمات سیاسی و اداری است. نخستین تقسیمات سیاسی استانی در سال ۱۳۱۶ شمسی انجام شد. به نقشه‌ی ۵۶-۲ توجه کنید. کشور ایران دارای ۳۱ استان است.



شکل ۵۵-۲- نقشه کاربری اراضی بخشی از منطقه فیروزکوه - دماوند

فعالیت گروهی

۲-۱۴

چرا تعداد استان‌ها در غرب کشور بیش‌تر از شرق کشور است؟



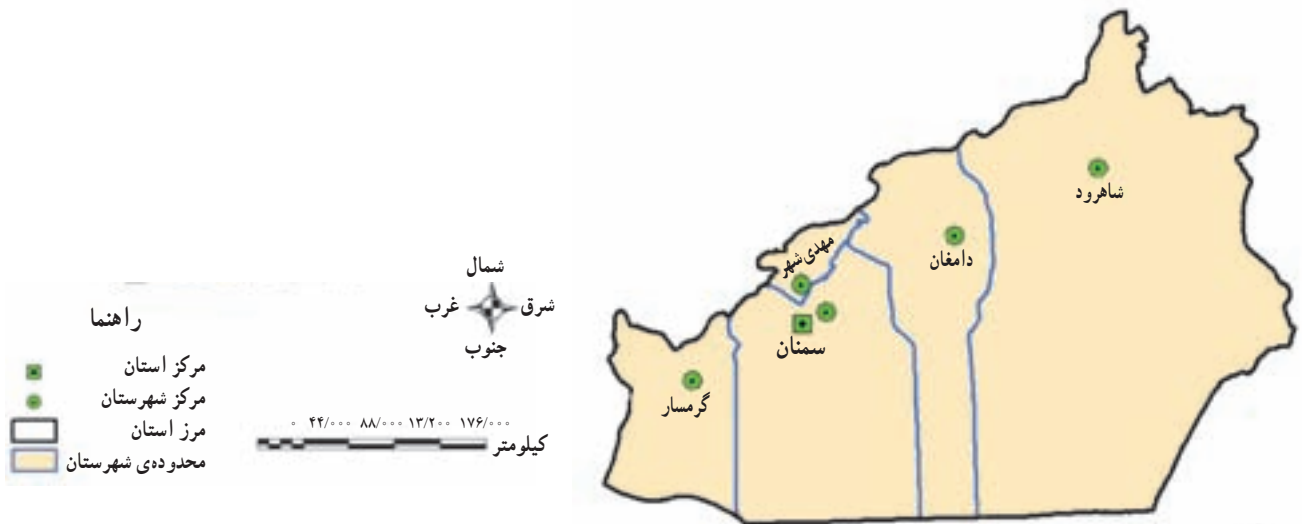
شکل ۵۶-۲- نقشه‌ی تقسیمات سیاسی ایران

- ۱- آذربایجان غربی
- ۲- آذربایجان شرقی
- ۳- اردبیل
- ۴- اصفهان
- ۵- البرز
- ۶- ایلام
- ۷- بوشهر
- ۸- تهران
- ۹- چهارمحال و بختیاری
- ۱۰- خراسان جنوبی
- ۱۱- خراسان رضوی
- ۱۲- خراسان شمالی
- ۱۳- خوزستان
- ۱۴- زنجان
- ۱۵- سمنان
- ۱۶- سیستان و بلوچستان
- ۱۷- فارس
- ۱۸- قزوین
- ۱۹- قم
- ۲۰- کردستان
- ۲۱- کرمان
- ۲۲- کرمانشاه
- ۲۳- کهگیلویه و بویراحمد
- ۲۴- گلستان
- ۲۵- گیلان
- ۲۶- لرستان
- ۲۷- مازندران
- ۲۸- مرکزی
- ۲۹- هرمزگان
- ۳۰- همدان
- ۳۱- یزد



تقسیمات داخلی در یک استان چگونه است؟
 بزرگترین تقسیمات کشور، استان است اما در داخل هر استان تقسیمات کوچک تری نیز وجود دارد.
 سوی وزیر کشور تعیین می‌شوند و به حل مشکلات استان و توسعه و پیشرفت آن می‌پردازند.
 امروزه به سکونتگاه‌هایی که شهرداری داشته باشد، شهر استان به وسیله‌ی استاندار اداره می‌شود. استانداران از گفته می‌شود.

استان:	استان از چند شهرستان تشکیل شده است و استاندار آن را اداره می‌کند.
شهرستان:	هر شهرستان از چند بخش تشکیل شده است که فرماندار آن را اداره می‌کند.
بخش:	هر بخش از چند دهستان تشکیل شده است که بخشدار آن را اداره می‌کند.
شهر:	در محدوده‌ی یک بخش، یک یا چند نقطه‌ی شهری قرار دارد که شهردار آن را اداره می‌کند.
دهستان:	از مجموع چند روستا یک دهستان تشکیل می‌شود که ده‌دار آن را اداره می‌کند.
روستا یا ده:	کوچک‌ترین واحد سکونت و مبدأ تقسیمات کشوری، روستاست.



شکل ۵۷ - ۲ - استان سمنان به تفکیک شهرستان

خلاصه

- زندگی عشایری: بخشی از مردم کشور ما، در فصول مختلف بین کوهپایه‌ها و دشت‌های مجاور به همراه دام‌های خود جابه‌جا می‌شوند و به پرورش دام مشغولند.
- زندگی روستایی: وجود آب در پیدایش و شکل روستا در ایران نقش مهمی داشته است. اغلب روستاها در کوهپایه‌ها و جلگه‌های ساحلی ایران پراکنده شده‌اند.
- زندگی شهری: با گسترش روستاها و افزایش جمعیت، شهرها شکل گرفتند. پراکندگی شهرها با عامل آب، ناهمواری و آب و هوا رابطه دارد.
- تقسیمات سیاسی: ایران به بخش‌های بزرگی به نام استان تقسیم شده است و هر بخش برای اداره‌ی بهتر به قسمت‌های کوچک‌تری نیز تقسیم گردیده است.