

کلیات و تعاریف

هدف‌های رفتاری: پس از پایان این فصل هنرجو باید بتواند:

- ۱- مفهوم گرما را توضیح دهد.
- ۲- نظریه مولکولی گرما را شرح دهد.
- ۳- مفهوم دما را توضیح دهد.
- ۴- سه حالت ماده را با ذکر مثال بیان کند.
- ۵- تغییر حالت ماده را بیان کند.
- ۶- نمودار دما - گرما در مورد آب را توضیح دهد.
- ۷- مفاهیم بخار اشباع و مایع اشباع را تعریف کند.
- ۸- فشار - واحدهای سنجش و انواع فشار را توضیح دهد.

۱- کلیات و تعاریف

۱-۱- گرما

فلاسفه‌ی باستان بر این باور بودند که گرما شماره‌ای (سیالی) نامیری است که از جسم گرم به سوی جسم سرد جریان دارد و برای این شماره اصطلاح کالری^۱ را به کار می‌بردند. آزمایش‌های بنجامین تامپسون (۱۸۱۴-۱۷۵۳) ثابت کرد که گرما در واقع انرژی حرکتی مولکول‌ها و اتم‌ها است. پژوهشگران بعدی از جمله ژول، فاراد و ماکسول آزمایش‌هایی انجام دادند که نتایج آن نظریه تامپسون را تأیید می‌کرد. مفهوم قدیمی گرما به عنوان شماره‌ای مرموز و عجیب منسوخ شد و ایده‌ی جدیدی از گرما به عنوان انرژی حرکت مولکولی پذیرفته شد. این مفهوم را اغلب فرضیه جنبشی - مولکولی می‌نامند.

۱-۲- مولکول‌ها و گرما

طبق نظریه مولکولی همه‌ی اجسام از میلیون‌ها ذرات ریز به نام مولکول تشکیل شده‌اند. واژه‌ی مولکول کوچکترین ذره‌ی ممکن یک جسم است که همه خواص آن را داراست. مولکول‌ها به نوبه خود از ذرات کوچکتری به نام اتم تشکیل شده‌اند. در دماهای معمولی مولکول‌ها در حرکت دائمی‌اند و سرعت حرکت آن‌ها به انرژی گرمایی آن‌ها بستگی دارد. طبق نظریه مولکولی ۱- گرما صورتی از انرژی است و انرژی گرمایی کل یک جسم مجموع انرژی مولکول‌های آن جسم است. ۲- دمای یک جسم یا یک ماده نشانگر شدت گرما یا

۱- کلمه‌ی لاتین به معنای گرما

درجه‌ی گرماسی و با دماسنج اندازه‌گیری می‌شود. چون گرما نوعی انرژی است واحد اندازه‌گیری آن در سیستم SI ژول (J) است. کالری و بی‌تی‌یو واحدهای دیگر متداول گرما هستند.

$$1 \text{ کالری} = 4/186 \text{ ژول}$$

$$\text{kcal} = 3/96 \approx 4 \text{ BTU}$$

$$\text{BTU} = 252 \text{ cal}$$

$$\text{kcal} = 4186 \text{ J}$$

اما فرق بین این دو چیست؟ فرض کنید اتاقی که در آن نشست‌اید به طور کامل بسته و ایزوله باشد کبریتی روشن کنید و سپس ترمومتر نصب شده در اتاق را به دقت تحت نظر بگیرید با وجود این که دمای شعله کبریت بالای 1000°C می‌باشد نمی‌توانید مقدار گرمایی که هوای اتاق را گرم می‌کند اندازه بگیرید. سپس اجازه دهید یک شمش فولادی به وزن 3000 کیلوگرم و درجه حرارت 20°C داخل همان اتاق بیاوریم. در مدت زمان کمتری دیگر نیازی به ترمومتر جهت تشخیص گرمای اضافه شده به هوای اتاق از طریق شمش فولادی را ندارید و به صورت محسوس درجه حرارت اتاق بالا می‌رود.

گرچه دمای تولید شده به وسیله شعله کبریت خیلی بیشتر از شمش فولادی می‌باشد. شمش فولادی گرمای خیلی بیشتری دارد و دمای اتاق را بالا می‌برد.

۱-۳-۱- دما یا درجه حرارت

درجه‌ی گرمی هر جسم را دمای آن جسم می‌گویند. درجه‌ی گرمی یا دما را با گرما که شکلی از انرژی است نباید اشتباه کرد. درجه حرارت و گرما به نحوی به هم وابسته هستند



شکل ۱-۱- شعله کبریت درجه حرارت بیشتری را از بلوک فولادی دارد با وجود این بلوک فولادی گرمای بیشتری را در وجود خود دارد و هوای اتاق را بیشتر گرم خواهد کرد.

$$F = 1/AC + 32$$

$$C = \frac{F - 32}{1/8}$$

۱-۴- سه حالت ماده

در دماها و فشارهای معمولی مواد به سه حالت دیده می‌شوند. به صورت جامد مانند فلز، چوب؛ به صورت مایع مانند آب، الکل و بنزین و به صورت گاز مانند اکسیژن - ازت، دی‌اکسید کربن.

ما از روی عادت فکر می‌کنیم که آب همیشه مایع است ولی می‌دانیم که در دمای زیر 0°C آب جامد (یخ) می‌شود یا در

۱-۳-۱- اندازه‌گیری دما: وسیله‌ی اندازه‌گیری دما،

دماسنج است. بیشتر دماسنج‌ها، بر مبنای خاصیت انبساط و انقباض یک مایع بر اثر افزایش یا کاهش دما کار می‌کنند. در دماسنج‌ها معمولاً از الکل یا جیوه استفاده می‌شود. زیرا دمای انجماد آن‌ها کم و ضریب انبساطشان تقریباً ثابت است. دماسنج جیوه‌ای از دماسنج الکلی دقیق‌تر است، چون ضریب انبساط آن در سطح وسیعی از دما، از ضریب انبساط الکل ثابت‌تر است. واحد سنجش دما در سیستم SI درجه سلسیوس یا سانتی‌گراد و در سیستم IP درجه فارنهایت است. برای تبدیل درجه از یک سیستم به سیستم دیگر می‌توان از جدول ۱-۱ یا فرمول‌های زیر استفاده نمود.

دماهای بالاتر از 10°C به گاز یا بخار تبدیل می‌شود. به همین ترتیب سرب معمولاً جامد است ولی در 327°C مایع و در 1621°C بخار می‌شود. دی‌اکسید کربن معمولاً به صورت گاز است ولی در دمای 6°C - مایع و در دمای 79°C - جامد (یخ خشک) می‌شود.

جدول ۱-۱- جدول تبدیل درجه حرارت سانتی‌گراد و فارنهایت

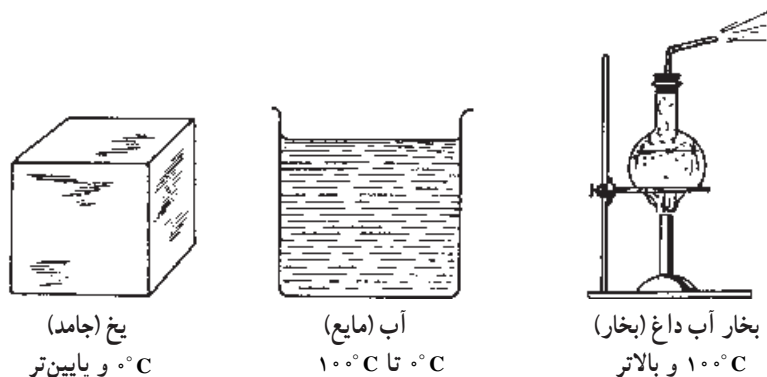
Temperature			Temperature			Temperature			Temperature		
Celsius	C or F	Fahr	Celsius	C or F	Fahr	Celsius	C or F	Fahr	Celsius	C or F	Fahr
-40.0	-40	-40.0	-6.7	+20	+68.0	+26.7	+80	+176.0	+60.0	+140	+284.0
-39.4	-39	-38.2	-6.1	+21	+69.8	+27.2	+81	+177.8	+60.6	+141	+285.8
-38.9	-38	-36.4	-5.5	+22	+71.6	+27.8	+82	+179.6	+61.1	+142	+287.6
-38.3	-37	-34.6	-5.0	+23	+73.4	+28.3	+83	+181.4	+61.7	+143	+289.4
-37.8	-36	-32.8	-4.4	+24	+75.2	+28.9	+84	+183.2	+62.2	+144	+291.2
-37.2	-35	-31.0	-3.9	+25	+77.0	+29.4	+85	+185.0	+62.8	+145	+293.0
-36.7	-34	-29.2	-3.3	+26	+78.8	+30.0	+86	+186.8	+63.3	+146	+294.8
-36.1	-33	-27.4	-2.8	+27	+80.6	+30.6	+87	+188.6	+63.9	+147	+296.6
-35.6	-32	-25.6	-2.2	+28	+82.4	+31.1	+88	+190.4	+64.4	+148	+298.4
-35.0	-31	-23.8	-1.7	+29	+84.2	+31.7	+89	+192.2	+65.0	+149	+300.2
-34.4	-30	-22.0	-1.1	+30	+86.0	+32.2	+90	+194.0	+65.6	+150	+302.0
-33.9	-29	-20.2	-0.6	+31	+87.8	+32.8	+91	+195.8	+66.1	+151	+303.8
-33.3	-28	-18.4	0	+32	+89.6	+33.3	+92	+197.6	+66.7	+152	+305.6
-32.8	-27	-16.6	+0.6	+33	+91.4	+33.9	+93	+199.4	+67.2	+153	+307.4
-32.2	-26	-14.8	+1.1	+34	+93.2	+34.4	+94	+201.2	+67.8	+154	+309.2
-31.7	-25	-13.0	+1.7	+35	+95.0	+35.0	+95	+203.0	+68.3	+155	+311.0
-31.1	-24	-11.2	+2.2	+36	+96.8	+35.6	+96	+204.8	+68.9	+156	+312.8
-30.6	-23	-9.4	+2.8	+37	+98.6	+36.1	+97	+206.6	+69.4	+157	+314.6
-30.0	-22	-7.6	+3.3	+38	+100.4	+36.7	+98	+208.4	+70.0	+158	+316.4
-29.4	-21	-5.8	+3.9	+39	+102.2	+37.2	+99	+210.2	+70.6	+159	+318.2
-28.9	-20	-4.0	+4.4	+40	+104.0	+37.8	+100	+212.0	+71.1	+160	+320.0
-28.3	-19	-2.2	+5.0	+41	+105.8	+38.3	+101	+213.8	+71.7	+161	+321.8
-27.8	-18	-0.4	+5.5	+42	+107.6	+38.9	+102	+215.6	+72.2	+162	+323.6
-27.2	-17	+1.4	+6.1	+43	+109.4	+39.4	+103	+217.4	+72.8	+163	+325.4
-26.7	-16	+3.2	+6.7	+44	+111.2	+40.0	+104	+219.2	+73.3	+164	+327.2
-26.1	-15	+5.0	+7.2	+45	+113.0	+40.6	+105	+221.0	+73.9	+165	+329.0
-25.6	-14	+6.8	+7.8	+46	+114.8	+41.1	+106	+222.8	+74.4	+166	+330.8
-25.0	-13	+8.6	+8.3	+47	+116.6	+41.7	+107	+224.6	+75.0	+167	+332.6
-24.4	-12	+10.4	+8.9	+48	+118.4	+42.2	+108	+226.4	+75.6	+168	+334.4
-23.9	-11	+12.2	+9.4	+49	+120.2	+42.8	+109	+228.2	+76.1	+169	+336.2
-23.3	-10	+14.0	+10.0	+50	+122.0	+43.3	+110	+230.0	+76.7	+170	+338.0
-22.8	-9	+15.8	+10.6	+51	+123.8	+43.9	+111	+231.8	+77.2	+171	+339.8
-22.2	-8	+17.6	+11.1	+52	+125.6	+44.4	+112	+233.6	+77.8	+172	+341.6
-21.7	-7	+19.4	+11.7	+53	+127.4	+45.0	+113	+235.4	+78.3	+173	+343.4
-21.1	-6	+21.2	+12.2	+54	+129.2	+45.6	+114	+237.2	+78.9	+174	+345.2
-20.6	-5	+23.0	+12.8	+55	+131.0	+46.1	+115	+239.0	+79.4	+175	+347.0
-20.0	-4	+24.8	+13.3	+56	+132.8	+46.7	+116	+240.8	+80.0	+176	+348.8
-19.4	-3	+26.6	+13.9	+57	+134.6	+47.2	+117	+242.6	+80.6	+177	+350.6
-18.9	-2	+28.4	+14.4	+58	+136.4	+47.8	+118	+244.4	+81.1	+178	+352.4
-18.3	-1	+30.2	+15.0	+59	+138.2	+48.3	+119	+246.2	+81.7	+179	+354.2
-17.8	0	+32.0	+15.6	+60	+140.0	+48.9	+120	+248.0	+82.2	+180	+356.0
-17.2	+1	+33.8	+16.1	+61	+141.8	+49.4	+121	+249.8	+82.8	+181	+357.8
-16.7	+2	+35.6	+16.7	+62	+143.6	+50.0	+122	+251.6	+83.3	+182	+359.6
-16.1	+3	+37.4	+17.2	+63	+145.4	+50.6	+123	+253.4	+83.9	+183	+361.4
-15.6	+4	+39.2	+17.8	+64	+147.2	+51.1	+124	+255.2	+84.4	+184	+363.2
-15.0	+5	+41.0	+18.3	+65	+149.0	+51.7	+125	+257.0	+85.0	+185	+365.0
-14.4	+6	+42.8	+18.9	+66	+150.8	+52.2	+126	+258.8	+85.6	+186	+366.8
-13.9	+7	+44.6	+19.4	+67	+152.6	+52.8	+127	+260.6	+86.1	+187	+368.6
-13.3	+8	+46.4	+20.0	+68	+154.4	+53.3	+128	+262.4	+86.7	+188	+370.4
-12.8	+9	+48.2	+20.6	+69	+156.2	+53.9	+129	+264.2	+87.2	+189	+372.2
-12.2	+10	+50.0	+21.1	+70	+158.0	+54.4	+130	+266.0	+87.8	+190	+374.0
-11.7	+11	+51.8	+21.7	+71	+159.8	+55.0	+131	+267.8	+88.3	+191	+375.8
-11.1	+12	+53.6	+22.2	+72	+161.6	+55.6	+132	+269.6	+88.9	+192	+377.6
-10.6	+13	+55.4	+22.8	+73	+163.4	+56.1	+133	+271.4	+89.4	+193	+379.4
-10.0	+14	+57.2	+23.3	+74	+165.2	+56.7	+134	+273.2	+90.0	+194	+381.2
-9.4	+15	+59.0	+23.9	+75	+167.0	+57.2	+135	+275.0	+90.6	+195	+383.0
-8.9	+16	+60.8	+24.4	+76	+168.8	+57.8	+136	+276.8	+91.1	+196	+384.8
-8.3	+17	+62.6	+25.0	+77	+170.6	+58.3	+137	+278.6	+91.7	+197	+386.6
-7.8	+18	+64.4	+25.6	+78	+172.4	+58.9	+138	+280.4	+92.2	+198	+388.4
-7.2	+19	+66.2	+26.1	+79	+174.2	+59.4	+139	+282.2	+92.8	+199	+390.2

The numbers in boldface in the center column refer to the temperature, either in Celsius or Fahrenheit which is to be converted to the other scale. If converting Fahrenheit to Celsius the equivalent temperature will be found in the left column. If converting Celsius to Fahrenheit, the equivalent temperature will be found in the column on the right.

۱-۵- فشار، دما و تغییر حالت

را ملاحظه می کنید.

در شکل ۱-۲ سه حالت جامد، مایع و گاز مربوط به آب



شکل ۱-۲- سه حالت ماده (آب)

متداولی است و تغییر حالت آن در فشار جو و دماهای معمولی روزمره صورت می گیرد از آب به عنوان مثال برای بررسی تغییر حالت استفاده می کنیم.

۱-۶- نمودار دما- گرما (T-H) برای آب

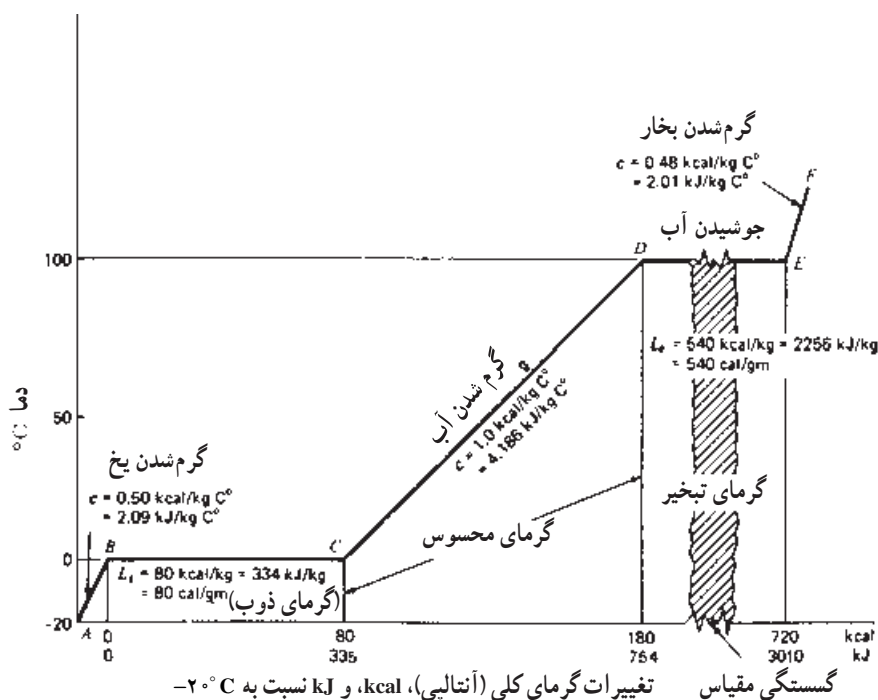
یک کیلوگرم یخ با دمای 2°C - در ظرفی که دماسنجی داخل آن است آماده می کنیم. ظرف را توسط شعله ای گرم می کنیم و تغییرات حاصل بر روی دمای آب در حالت های مختلف بر روی نموداری که محور افقی آن برحسب kJ (کیلو ژول) و محور عمودی آن برحسب درجه سلسیوس ($^{\circ}\text{C}$) مدرج شده است درج می نماییم. نموداری مطابق شکل ۱-۳ به دست می آید. نقطه A نشان دهنده ی یک کیلوگرم یخ 2°C - در ابتدای آزمایش است. با گرم شدن ظرف دمای یخ افزایش پیدا می کند تا در نقطه B دمای یخ به $^{\circ}\text{C}$ می رسد خط مورب AB افزایش دمای یخ از 2°C - تا $^{\circ}\text{C}$ را نشان می دهد.

در نقطه B با دمای $^{\circ}\text{C}$ یخ شروع به ذوب شدن می نماید. گرم کردن ظرف ادامه دارد ملاحظه می شود که درجه دماسنج روی $^{\circ}\text{C}$ ثابت مانده و تغییری نمی کند ولی به تدریج به میزان آب اضافه می شود و از مقدار یخ کاسته می گردد. معلوم می شود که گرمای داده شده صرف تبدیل یخ به آب شده است. خط افقی دما

آب در دمای اتاق و فشار جو به حالت مایع است در این حالت مولکول های آب به قدر کافی از هم دور هستند که بر روی هم می لغزند و شکل ظرف را به خود می گیرند ولی از هم جدا نمی شوند. در مورد مایعات قانون پاسکال دارای اهمیت است طبق این قانون فشار وارد بر یک نقطه از مایع عیناً به تمام نقاط آن وارد می شود.

اگر در فشار جو به آب گرما داده شود تا دما به 10°C برسد آب می جوشد و بخار آب تشکیل می شود و تغییر حالت از مایع به گاز صورت می گیرد. بخار آب همان حالت گازی آب است. در حالت گازی مولکول ها از هم دورند و نیروی بین مولکولی خیلی کم است. مولکول ها می توانند آزادانه در هر جهتی حرکت نمایند و به همدیگر برخورد نمایند برعکس مایعات که تراکم پذیر نیستند گازها تراکم پذیر می باشند.

اگر آب را سرد کنیم تا دمای آن به $^{\circ}\text{C}$ برسد تشکیل یخ آغاز می شود. در حالت یخ آب به صورت جامد است. جسم جامد حالتی از ماده است که بدون اتکا به چیزی شکل و وضعیت خود را حفظ می کند. مولکول ها در یک جا ثابت هستند و دائماً در حال ارتعاش می باشند. دامنه ارتعاش آن ها به میزان دما بستگی دارد هر چه دما کمتر باشد ارتعاش مولکول کمتر است و اگر دما بیشتر شود میزان ارتعاش بیشتر می شود، از آن جایی که آب ماده



شکل ۱-۳- نمودار دما- گرما (T-H) برای ۱ kg آب خالص در فشار جو

۲۲۵۶kJ گرما به آب اضافه شده است.

خط EF نشان می‌دهد اگر بخار تولید در ظرف بسته باشد و عمل گرمادهی ادامه یابد دمای بخار بالاتر خواهد رفت.

با توجه به نمودار مذکور به تعاریف زیر می‌پردازیم.

۱-۶-۱- نقطه ذوب: نقطه ذوب عبارت از دمایی است که هر جسم جامد در فشار معینی در آن دما به مایع تبدیل شود. نقطه ذوب آب (یخ) در فشار اتمسفر برابر 0°C است. افزایش فشار وارد بر جسم به جز در چند مورد سبب بالا رفتن نقطه ذوب آن می‌شود. در بعضی از جسم‌ها مانند یخ افزایش فشار سبب کاهش نقطه ذوب می‌شود.

۱-۶-۲- گرمای نهان ذوب: گرمای نهان ذوب یک جسم جامد برابر است با مقدار گرمایی که به یک کیلوگرم از آن جسم جامد در نقطه ذوب بدسیم تا به مایع در همان دما تبدیل شود. گرمای نهان ذوب برابر با گرمایی که در نمودار در فاصله نقطه B تا نقطه C به آب داده شد که برابر $\frac{335}{\text{kg}}$ می‌باشد.

ثابت BC ذوب شدن یخ در دمای 0°C را نشان می‌دهد. در نقطه C آخرین ذره یخ آب می‌شود. در فاصله نقطه B تا نقطه C 334KJ گرما به یخ داده شده است.

پس از تمام شدن فرآیند ذوب یخ مشاهده می‌کنیم که دما افزایش پیدا می‌کند. هرچه بر میزان گرمای داده شده افزوده می‌شود، میزان دمای آن نیز افزایش می‌یابد. تا در نقطه D دما به 100°C می‌رسد و آب به جوش می‌آید. خط مورب CD افزایش دمای آب از 0°C تا 100°C را نشان می‌دهد. در این مرحله 457KJ گرما به آب داده شده است.

$$Q = mc(\Delta t) = 1\text{kg} \times \frac{4}{18} \frac{\text{kJ}}{\text{kg}^{\circ}\text{C}} \times 100^{\circ}\text{C} = 418/6\text{kJ} = 419\text{kJ}$$

از نقطه D که آب به جوش می‌آید باز هم ملاحظه می‌شود که با افزایش گرما دما ثابت می‌ماند این فرآیند تا نقطه E که آخرین ذره مایع به بخار تبدیل می‌شود ادامه دارد در این مرحله

یک ماده را نسبت به نقطه مبنا بیان می‌کند. انتالپی را اغلب به عنوان گرمای کلی ماده می‌شناسند که تعریف دقیقی نیست در مورد نمودار ۱-۳ نقطه مبنا نقطه با دمای 100°C (نقطه B) می‌باشد. انتالپی آب در نقطه B 419 kJ/kg در نقطه C 335 kJ/kg ، در نقطه D $754 \text{ kJ/kg} = 419 + 335$ و در نقطه E $3010 \text{ kJ/kg} = 2256 + 754$ می‌باشد

گرمای لازم برای تبدیل یخ 10°C به آب 10°C 335 kJ/kg
 گرمای لازم برای تبدیل آب 10°C به آب 100°C 419 kJ/kg
 گرمای لازم برای تبدیل آب 100°C به بخار 100°C 2256 kJ/kg
 انتالپی بخار آب 100°C 3010 kJ/kg

۱-۷- بخار اشباع و مایع اشباع

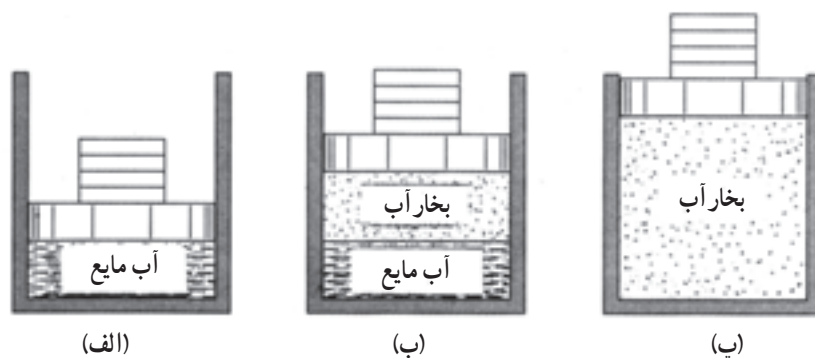
یک کیلوگرم آب در داخل سیلندر و پیستون نشان داده شده در شکل ۱-۴ را در نظر می‌گیریم. فرض می‌کنیم پیستون و وزنه‌ی روی آن فشار یک اتمسفر را در سیلندر برقرار نمایند و دمای اولیه آب 20°C باشد. با انتقال گرما به آب دمای آن بالا می‌رود و حجم نیز کمی افزایش می‌یابد (فشار ثابت است). این حالت در شکل ۱-۴ الف نشان داده شده است.

۱-۶-۳- نقطه جوش^۱: دمایی را که در آن هر مایعی در فشار ثابت معینی به جوش می‌آید، نقطه جوش نامند. نقطه جوش آب در فشار اتمسفر برابر 100°C است. نقطه جوش هر مایع به فشار وارد بر سطح آن بستگی دارد. افزایش فشار وارد بر مایع سبب بالا رفتن نقطه جوش می‌شود.

۱-۶-۴- گرمای محسوس^۲: به گرمایی که سبب بالا رفتن دمای جسم شود گرمای محسوس گویند. در نمودار ۱-۳ گرمای داده شده به یخ از نقطه A تا B (419 kJ) و گرمای داده شده به آب از نقطه C تا D (419 kJ) را گرمای محسوس گویند زیرا موجب بالا رفتن دمای یخ از 10°C تا 100°C و بالا رفتن دمای آب از 100°C تا 100°C شده است.

۱-۶-۵- گرمای نهان^۳: گرمایی که در دمای ثابت به یک جسم داده می‌شود تا سبب تغییر حالت آن جسم شود گرمای نهان گفته می‌شود و به صورت گرمای نهان ذوب و گرمای نهان تبخیر وجود دارد. در نمودار ۱-۳ 335 kJ گرمایی که از نقطه B تا C به آب داده می‌شود گرمای نهان ذوب آب و 2256 kJ گرمایی که از نقطه D تا E در حین جوش به آب داده شده است گرمای نهان تبخیر می‌باشد.

۱-۶-۶- انتالپی^۴: انتالپی مقدار گرمای موجود در



شکل ۱-۴- بخار اشباع و فشار اشباع

شده است یعنی مقداری از مایع به بخار تبدیل می‌شود. در طول این فرآیند دما ثابت باقی می‌ماند ولی حجم به مقدار قابل ملاحظه‌ای

با ادامه گرمادهی وقتی دمای آب به 100°C می‌رسد تغییری در حالت (فاز) مشاهده می‌شود که در شکل ۱-۴ ب نشان داده

۱- Boiling point

۲- Sensible Heat

۳- Latent Heat

۴- Enthalpy

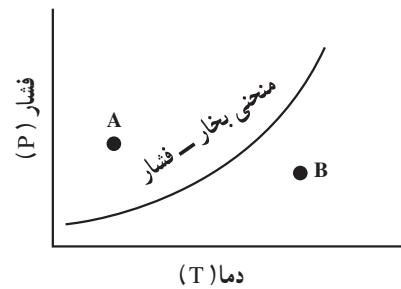
افزایش می‌یابد.

باشد به آن «بخار اشباع» گویند. و اگر بخار در دمایی بالاتر از دمای اشباع باشد، «بخار فوق گرم» یا «بخار داغ» یا «بخار سوپرهیت» نامیده می‌شوند (نقطه B).

مثال: شکل ۶-۱ مفاهیم دمای اشباع، ساب کول شدن و سوپرهیت شدن به یکدیگر گره می‌زند. سیستم بسته‌ای در نظر بگیرید که تمام قسمت‌های آن به طور تقریب در فشار اتمسفریک نگه داشته شده باشد. آب خروجی از پمپ دارای دمایی 88°C است که در شرایط ساب کولد قرار دارد. با افزودن گرما دمای آب تا 100°C بالا می‌رود (گرمای محسوس). اگر به گرمادادن ادامه دهیم دما در 100°C (دمای اشباع) ثابت می‌ماند در حالی که آب به بخار تبدیل می‌شود. گرمای داده شده به آب در این مرحله از نوع گرمای نهان است. وقتی تمام آب به جوش آمده و تبدیل به بخار شود افزایش گرما باعث افزایش دمای بخار تا 105°C می‌شود (گرمای محسوس) و بخار سوپرهیت حاصل می‌شود.

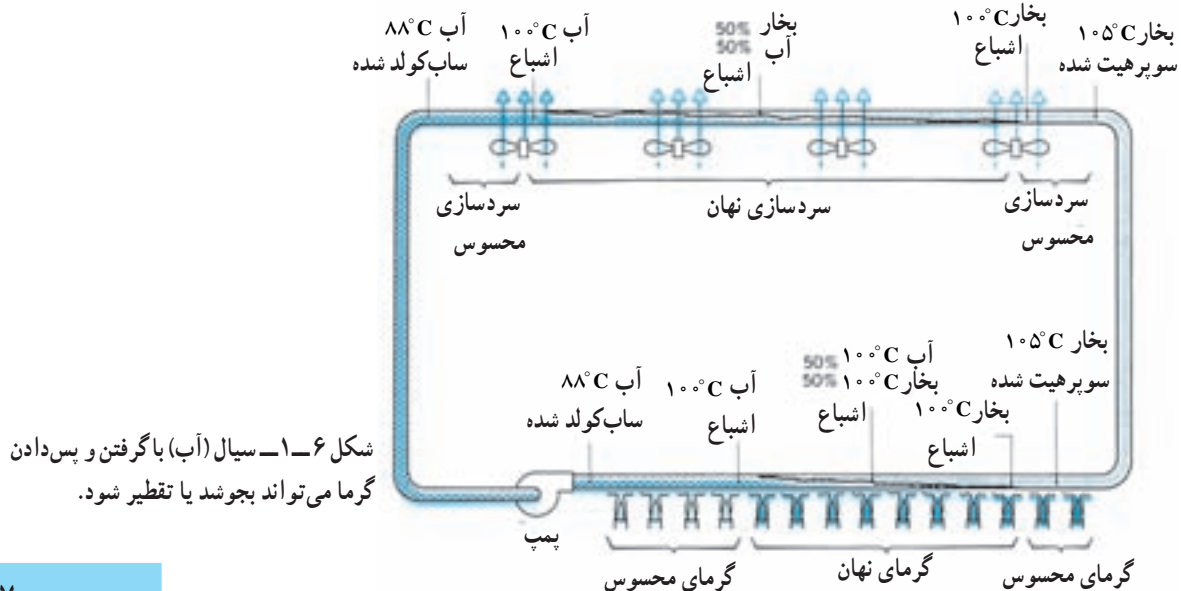
و اگر در قسمت بعدی با استفاده از فن‌های سردکننده اقدام به گرفتن گرما از سیستم نماییم، ابتدا بخار سوپرهیت گرمای خود را از دست می‌دهد (گرمای محسوس) و به دمای اشباع 100°C می‌رسد. با ادامه عمل گرمایی بخار اشباع تبدیل به مایع اشباع می‌شود (گرمای نهان) و در نهایت مایع ساب کولد با دمای 88°C به دست می‌آید که وارد پمپ می‌گردد.

در یک فشار معین عبارت «دمای اشباع» یا «دمای سیر شده» نشان دهنده دمای است که عمل جوش اتفاق می‌افتد. فشار مربوط به دمای اشباع را فشار اشباع می‌نامند. بنابراین برای آب دمای جوش 100°C دمای اشباع در فشار یک اتمسفر است و فشار یک اتمسفر فشار اشباع در دمای 100°C می‌باشد. برای هر ماده‌ی خالص رابطه معینی بین فشار اشباع و دمای اشباع وجود دارد. که نمونه‌ای از آن در منحنی «فشار - دما» در شکل ۵-۱ نشان داده شده است.



شکل ۵-۱ - منحنی فشار - دما

چنانچه ماده‌ای به صورت مایع در دما و فشار اشباع وجود داشته باشد «مایع اشباع» نامیده می‌شود. اگر دمای مایعی کم‌تر از دمای اشباع در یک فشار معین باشد. مایع «مادون سرد» یا «ساب کولد» خوانده می‌شود (نقطه A). هرگاه ماده به صورت بخار در فشار اشباع وجود داشته



شکل ۶-۱ - سیال (آب) با گرفتن و پس دادن گرما می‌تواند بجوشد یا تقطیر شود.

۸-۱- فشار

فشار عبارت است از مقدار نیروی وارد بر واحد سطح

$$P = \frac{F}{A}$$

در این رابطه اگر نیرو (F) برحسب نیوتن و سطح (A)

برحسب متر مربع باشد فشار (P) بر حسب N/m^2 یا پاسکال (pa) خواهد شد. در رابطه فوق هر چه نیرو بزرگتر شود و مساحت کوچکتر گردد فشار حاصل بیش تر و بیش تر خواهد بود. فرو کردن پوتز بر سطح یک چوب به راحتی انجام می شود زیرا مساحت نوک پوتز بسیار کم و فشار حاصل بسیار زیاد است.

۸-۱-۱- فشار نسبی: فشار نسبی یا فشار مانومتری^۱

فشاری است که فشارسنج نشان می دهد. فشارسنج ها فقط اختلاف فشار میان فشار واقعی سیال و فشار جو را اندازه می گیرند و طوری درجه بندی شده اند که در فشار جو، صفر را نشان می دهند بدین لحاظ خواندن فشار راحت تر می شود.

۸-۱-۲- فشار اتمسفر: اطراف کره ی زمین را

پوششی از هوا دربر گرفته است که از سطح زمین تا ارتفاعی حدود ۵۰ مایل (۹۳ کیلومتر) یا بیش تر ادامه دارد. چون هوا دارای جرم بوده و در معرض جاذبه است، فشاری اعمال می کند که فشار جو یا فشار اتمسفر نام دارد. ستونی از هوا را به سطح

یک متر مربع در نظر بگیرید که از سطح زمین، همتراز سطح دریا تا حد بالای جو ادامه دارد. جرم این ستون هوا به اندازه ای است که نیروی جاذبه وارد بر آن در سطح دریا (سطح قاعده ستون) برابر $101325 N$ می شود. چون کل این نیرو بر سطح $1 m^2$ وارد می شود فشار حاصل از جو در سطح دریا $101325 N/m^2$ (نیوتن بر متر مربع) یا پاسکال (pa) است. این همان مقدار فشار جو در سطح دریا است که گاهی فشار یک اتمسفر نیز گفته می شود. دقت کنید که فشار یک اتمسفر تقریباً برابر فشار یک بار (bar) است. فشار جو ثابت نبوده با ارتفاع تغییر می کند و با افزایش ارتفاع فشار جو کاهش می یابد.

۸-۱-۳- فشار مطلق^۲: فشار کل یا واقعی یک سیال

است. فشار مطلق مجموع فشار نسبی (مانومتری) و فشار جو می باشد.

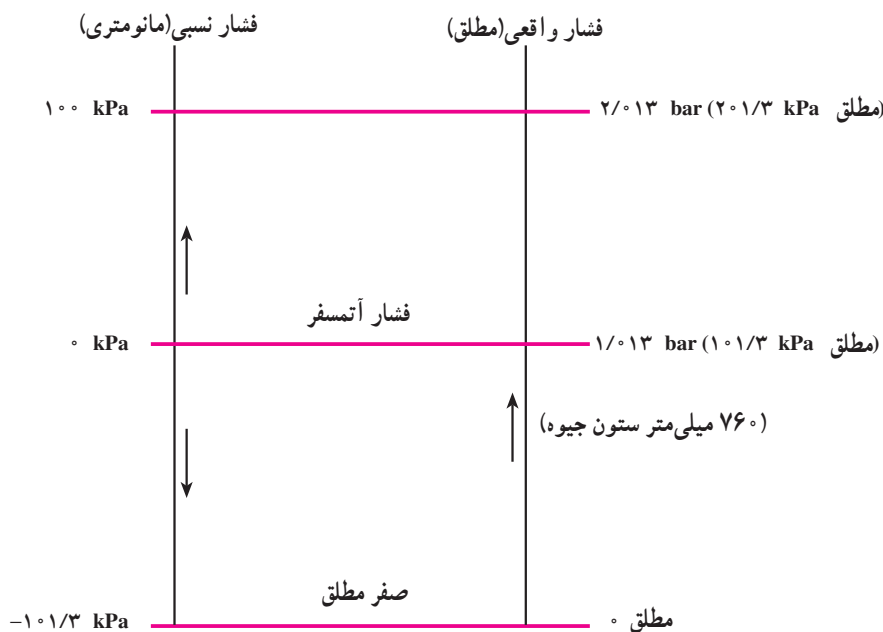
$$\text{فشار نسبی} + \text{فشار جو} = \text{فشار مطلق}$$

$$Pa = Patm + Pg$$

در صورتی که فشار نسبی کم تر از فشار جو باشد آن را با

علامت منفی نشان می دهند.

رابطه بین فشار نسبی و فشار مطلق در شکل ۱-۷ آمده



شکل ۱-۷- رابطه بین فشار نسبی و فشار مطلق

است. فشار نسبی را فشار مانومتری و فشار گیج نیز می‌گویند. از واحد psi (پوند بر اینچ مربع) استفاده می‌کنند. ۱-۸-۴ واحدهای فشار: واحد فشار در سیستم SI، پاسکال (pa) یا نیوتن بر متر مربع (N/m^2) است. واحد دیگر فشار بار (bar) است یک بار معادل 10^5 pa است. هم‌چنین فشار برحسب ستون جیوه (mmHg) و ستون آب (mH_2O) نیز سنجیده می‌شود. در سیستم انگلیسی معمولاً

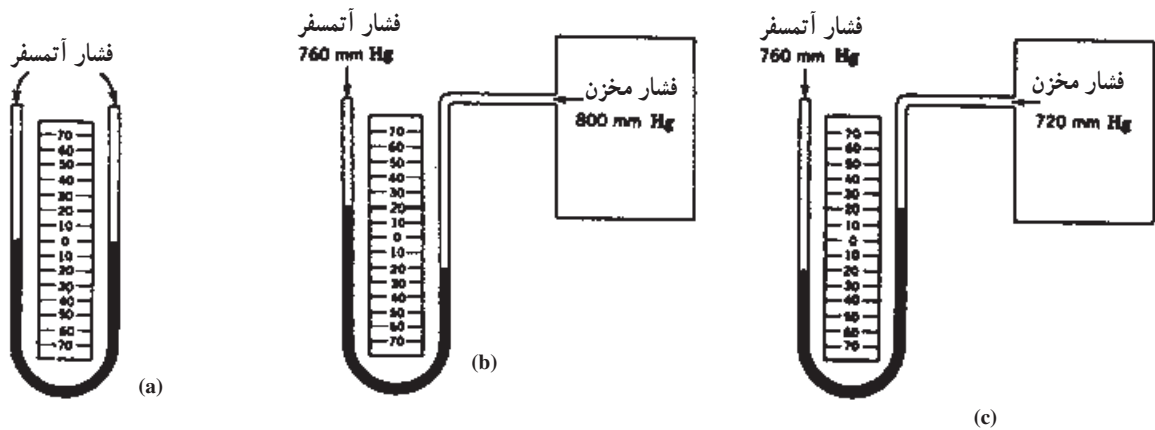
جدول ۱-۲- تبدیل بین واحدهای فشار در سیستم SI و سیستم انگلیسی

	pascal	atm	bar	kg/cm ²	psi	mmHg	inHg	dyne/cm ²
pascal	1	9.8692×10^{-6}	10^{-5}	1.0192×10^{-5}	1.45038×10^{-4}	0.00750	2.953×10^{-4}	10
atm	101.325	1	1.01325	1.03323	14.6960	760.0	29.921	1013.250
bar	10^5	0.98692	1	1.01972	14.5038	750.062	29.530	10^6
kg/cm ²	98.066	0.96784	0.98066	1	14.223	735.559	28.959	980.665
psi	6894.8	0.068046	0.068948	0.07030696	1	51.715	2.0360	33.864
mmHg	133.32	0.00131579	0.0013332	0.0013595	0.0193368	1	0.03937	1333.2
inHg	3386.4	0.033421	0.033864	0.034532	0.491154	25.400	1	33.864
dyne/cm ²	0.100	9.8692×10^{-7}	10^{-6}	1.01972×10^{-6}	1.45038×10^{-5}	0.000750	2.953×10^{-5}	1

عنوان صفر مقیاس علامت‌گذاری و ارتفاع بر حسب mm (میلی‌متر) درجه‌بندی می‌شود تا انحراف ستون‌های جیوه از نقطه‌ی صفر را در هر یک از دو جهت مشخص کند. هنگام استفاده، یک شاخه لوله U شکل را به مخزنی که فشارش باید اندازه‌گیری شود وصل می‌کنند. فشار جو به شاخه‌ی باز لوله اثر کرده و فشار مخزن به سمت دیگر لوله اثر می‌کند. بدین طریق اختلاف ارتفاع دو ستون جیوه نشان‌دهنده فشار داخل مخزن می‌باشد که این فشار می‌تواند کمتر یا بیشتر از فشار جو باشد. چنانچه ذکر شد فشارسنج فقط اختلاف فشار بین مخزن و اتمسفر را نشان می‌دهد.

۱-۸-۶ فشارسنج‌ها: وسایلی هستند که برای اندازه‌گیری فشار سیال (گاز یا مایع) به کار برده می‌شوند. فشارسنج معمول در صنعت تبرید عبارتند از مانومتر و لوله‌بوردون.

مانومتر: در مانومتر از یک ستون مایع (آب یا جیوه) برای اندازه‌گیری فشار استفاده می‌شود. در شکل ۱-۸-۸ مانومتر جیوه‌ای ساده‌ای نشان داده شده است که شامل یک لوله‌ی شیشه‌ای U شکل دو طرف باز که در قسمتی از آن جیوه قرار دارد وقتی که هر دو شاخه لوله‌ی U شکل در معرض جو باشد فشار جو در هر دو شاخه لوله اثر کرده و ارتفاع هر دو ستون جیوه یکی می‌شود. ارتفاع دو ستون جیوه در این وضعیت به



(a) فشار وارد (فشار اتمسفر) به دو سمت لوله برابر و سطح جیوه نیز در لوله برابر است.
 (b) نشان می‌دهد که فشار مخزن 40° میلی‌متر جیوه از فشار اتمسفر بیشتر است.
 (c) نشان می‌دهد که فشار مخزن 40° میلی‌متر جیوه از فشار اتمسفر (760 mm Hg) کمتر است.

شکل ۱-۸

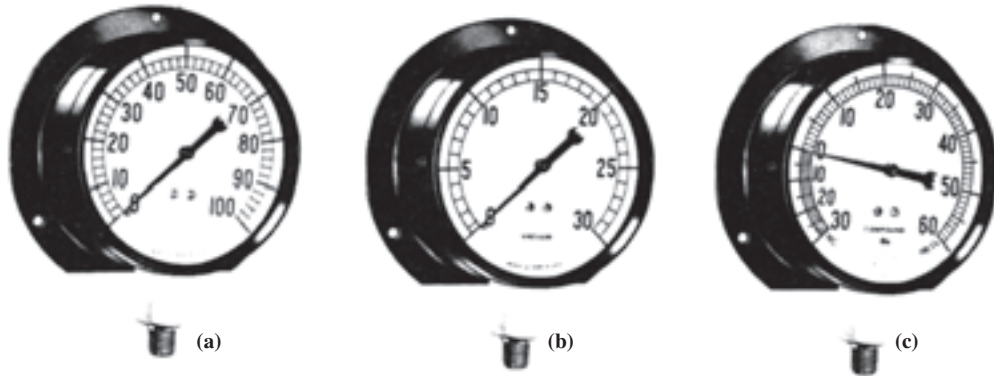
بالاتر که در صنعت تبرید با آن مواجه هستیم از فشارسنج لوله‌ی بوردونی مطابق شکل ۱-۹ استفاده می‌کنیم. لوله‌ی بوردون لوله‌ای فلزی خمیده‌ی بیضی شکل است که میزان خمیدگی آن بر اثر افزایش فشار سیال داخل لوله کمتر و بر اثر کاهش فشار بیشتر می‌شود. هر تغییری در خمیدگی لوله از طریق دنده‌ها به عقربه منتقل می‌شود. جهت و مقدار حرکت عقربه به جهت و اندازه‌ی تغییر خمیدگی لوله بستگی دارد.

مانومترهایی که در آن‌ها از آب به عنوان سیال اندازه‌گیر استفاده می‌شود برای اندازه‌گیری فشارهای بسیار کم مناسبند. به علت اختلاف چگالی جیوه و آب، فشارهای بسیار کم که نمی‌توانند آشکارا در ارتفاع ستون جیوه تأثیر بگذارند، به راحتی در ارتفاع ستون آب، تغییر قابل ملاحظه‌ای پدید می‌آورند.
فشارسنج‌های لوله‌ی بوردونی: به علت نیاز به لوله‌های بسیار بلند برای اندازه‌گیری فشارهای بیش از یک اتمسفر، معمولاً از مانومتر استفاده نمی‌شود لذا برای اندازه‌گیری فشارهای



شکل ۱-۹- مکانیزم گیج بوردون

طراحی متفاوت این فشارسنج‌ها در شکل ۱-۱۰ نشان داده شده است. (a) برای اندازه‌گیری فشارهای بالاتر از جو بوده و به نام فشارسنج معروف هستند. (b) برای اندازه‌گیری فشارهای کمتر از جو بوده و خلا‌سنج نام دارند. (c) برای اندازه‌گیری فشارهای بالاتر و پایین‌تر از جو طراحی شده‌اند و به نام فشارسنج مرکب یا گیج مرکب نام گرفته‌اند.



شکل ۱-۱۰- انواع گیج‌های بوردون

پرسش و تمرین

- ۱- مفهوم گرما را توضیح دهید.
- ۲- نظریه مولکولی گرما را شرح دهید.
- ۳- واحدهای سنجش گرما را معرفی کنید.
- ۴- مفهوم دما و تفاوت آن را با گرما توضیح دهید.
- ۵- فرمول تبدیل درجه‌ی فارنهایت به سانتی‌گراد و برعکس را بنویسید.
- ۶- با استفاده از فرمول و مقایسه آن با جدول معادل دمای 32°F ، -32°F ، 32°C ، -4°C ، -4°F ، 0°C ، 100°C ، 100°F ، 160°C ، 220°F ، 3°C ، 5°C ، 200°F را پیدا کنید.
- ۷- حالت‌های مختلف ماده را با ذکر مثال بیان کنید.
- ۸- نمودار دما - گرما را برای آب ترسیم کنید.
 - ۸-۱- نقطه‌ی ذوب و گرمای نهان ذوب را تعریف کنید.
 - ۸-۲- گرمای محسوس را تعریف کنید.
 - ۸-۳- گرمای نهان را تعریف کنید.
 - ۸-۴- نقطه جوش را تعریف کنید.
 - ۸-۵- اتالی‌پی را تعریف کنید.
- ۹- دمای اشباع و فشار اشباع را تعریف کنید.
- ۱۰- رابطه دمای اشباع و فشار اشباع را بیان کنید.

- ۱۱- مایع اشباع و بخار اشباع را تعریف کنید.
- ۱۲- مایع ساب کولد را تعریف کنید.
- ۱۳- بخار سوپرهیت شده را تعریف کنید.
- ۱۴- منطقه مایع سابکولد و بخار سوپرهیت را بر روی منحنی فشار - دما معین کنید.
- ۱۵- مفاهیم مایع سابکولد - مایع اشباع - بخار اشباع و بخار سوپرهیت از روی شکل ۷-۱ توضیح دهید.
- ۱۶- در تغییرات زیر کدام از فرآیندهای گرم کردن محسوس، گرم کردن نهان، سرد کردن محسوس و سرد کردن نهان انجام یافته است.

الف - تغییر آب 5°C به آب 55°C

ب - تغییر بخار 15°C به بخار 12°C

پ - تغییر آب 0°C به یخ 0°C

ت - تغییر آب 93°C به بخار 100°C

۱۷- فشار را توضیح دهید.

۱۸- فشار نسبی را تعریف کنید.

۱۹- فشار آتمسفر را تعریف کنید.

۲۰- فشار مطلق را تعریف کنید.

۲۱- تفاوت فشار نسبی و فشار مطلق را توضیح دهید.

۲۲- انواع فشارسنج‌های مورد استفاده در صنعت تبرید را نام ببرید.

۲۳- فرق مانومتر با لوله بوردون چیست؟

۲۴- فرق فشارسنج و خلأسنج و گیج مرکب را توضیح دهید.

۲۵- فشار نشان داده شده در یک فشارسنج برای فشار استاندارد چه اندازه است؟

۲۶- در یک خلأسنج عدد خوانده شده برای یک وکیوم خوب چقدر است؟