

## پیوند کووالانسی و ترکیب‌های مولکولی



اگرچه درک ساختار الکترونی اتم از اهمیت بسیاری برخوردار است، با این حال بیشتر شیمی دان‌ها علاقه زیادی به یک اتم تنها ندارند. آنها به مطالعه گروه‌های دوتایی یا چندتایی از اتم‌ها و نیروهایی علاقه مند هستند که آنها را کنار هم نگاه می‌دارد. نوعی از این نیروها که پیوند کووالانسی نامیده می‌شود، نیرویی است که اتم‌ها را به یکدیگر محکم متصل کرده، مولکول‌ها را به وجود می‌آورد. مطالعه ویژگی‌های این نوع پیوندها درک ساختار و رفتار بسیاری از مواد شیمیایی را آسان می‌کند و پرده از دنیای شگفت‌انگیز مولکول‌ها برمی‌دارد.



به داده‌های جدول ۱ با دقت نگاه کنید. همان طور که در این جدول مشاهده می‌شود میان خواص فیزیکی سدیم کلرید و ید تفاوت‌های چشم‌گیری وجود دارد. این تفاوت‌ها که در میان بسیاری از اجسام دیگر نیز دیده می‌شود، از وجود تفاوتی چشم‌گیر در ساختار ذره‌های سازنده آنها حکایت می‌کند. یون‌های سدیم و یون‌های کلرید ذره‌های سازنده نمک خوراکی هستند، اما مولکول‌های دو اتمی ید ( $I_2$ ) را به وجود آورده‌اند. بنابراین آشنایی با ویژگی‌ها و چگونگی تشکیل مولکول‌ها می‌تواند ما را در درک خواص این دسته از ترکیب‌ها یاری دهد.

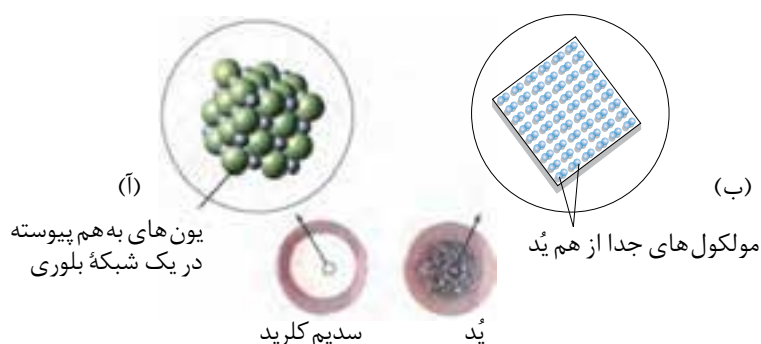
جدول ۱ مقایسه برخی از خواص فیزیکی نمک خوراکی و ید

جسم	حالت فیزیکی (در دمای اتاق)	نقطه ذوب ( $^{\circ}C$ )	نقطه جوش ( $^{\circ}C$ )	رسانایی الکتریکی
NaCl	جامد	زیاد (۸۰۱)	زیاد (۱۴۱۳)	زیاد (به صورت مذاب یا محلول در آب)
$I_2$	جامد	کم (۱۱۳/۵)	کم (۱۸۴/۳)	نارسانا

همان طور که گفته شد برای توضیح خواص ترکیب‌هایی مانند ید به الگوی تازه‌ای برای تشکیل پیوند نیاز داریم. در این الگو برخلاف تشکیل پیوند یونی، اتم‌ها برای رسیدن به آرایش گاز نجیب (آرایش هشتایی) به جای از دست دادن یا پذیرفتن الکترون، آنها را میان خود به اشتراک می‌گذارند. در این حالت میان دو اتم پیوندی به وجود می‌آید که پیوند کووالانسی گفته می‌شود.

پیوند کووالانسی هنگامی تشکیل می‌شود که اتم‌ها به تعداد برابر الکترون به اشتراک بگذارند.

نیروی که دو اتم را در یک پیوند کووالانسی به هم متصل نگه می‌دارد، ممکن است از نیروی موجود میان یک جفت کاتیون و آنیون قوی‌تر باشد. اما، در مولکولی مانند مولکول ید، تنها دو اتم ید با پیوند کووالانسی به یک دیگر متصل شده‌اند و با دیگر اتم‌های ید پیوندی ندارند. اگر به ساختار سدیم کلرید و ید به دقت نگاه کنید، شکل ۱، خواهید دید که اگر چه

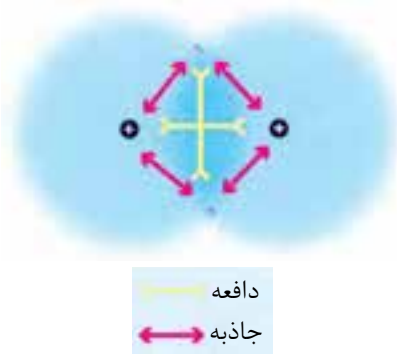


شکل ۱ (آ) در بلور سدیم کلرید (NaCl)، هر یون دست کم به شش یون با بار ناهم نام متصل است و در مجموع شبکه به هم پیوسته‌ای از یون‌ها ایجاد شده است. (ب) در ید ( $I_2$ )، ذره‌های سازنده بلور، مولکول‌های بدون بار و مستقل  $I_2$  هستند.

یُد و نمک خوراکی هر دو جامدند اما، یُد از گردهم‌آیی مولکول‌های دو اتمی و جدا از هم  $I_2$  تشکیل شده است، در حالی که  $NaCl$  از تجمع تعداد برابری از یون‌های سدیم و کلرید ساخته شده است. از آن‌جا که ترکیب‌هایی مانند یُد اغلب از مولکول‌های جدا از هم تشکیل شده‌اند، آنها را **ترکیب‌های مولکولی** می‌نامند.

## تشکیل پیوند کووالانسی

اما چرا اتم‌ها با پیوند کووالانسی به یکدیگر متصل می‌شوند و مولکول‌ها را ایجاد می‌کنند؟ برای پاسخ دادن به این پرسش، تشکیل پیوند کووالانسی ساده بین دو اتم هیدروژن را در نظر بگیرید. با نزدیک شدن اتم‌های هیدروژن به یک دیگر میان الکترون یک اتم هیدروژن و هستهٔ اتم هیدروژن دیگر، یک نیروی جاذبه‌ای قوی ایجاد می‌شود. از طرف دیگر، بین الکترون‌ها و همچنین بین هسته‌های آنها نیز یک نیروی دافعه‌ای قدرتمند به وجود می‌آید. در ابتدا ممکن است تصور کنید که این نیروهای جاذبه‌ای و دافعه‌ای یکدیگر را خنثی می‌کنند و موجب می‌شوند که این دو اتم همچنان جدا از هم باقی بمانند. اما می‌دانیم که هیدروژن از مولکول‌های دو اتمی  $H_2$  تشکیل شده است.

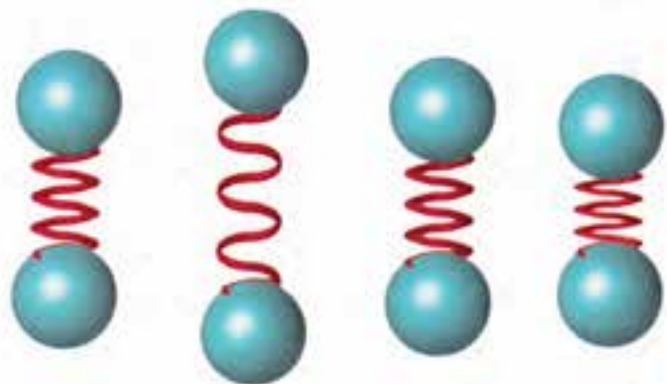


**شکل ۲** وقتی دو اتم هیدروژن در تماس با یکدیگر قرار می‌گیرند، بین ذره‌های موجود در یک اتم و ذره‌های اتم دیگر اثرهای جاذبه‌ای و دافعه‌ای به وجود می‌آید. تشکیل پیوند نتیجهٔ تأثیر این نیروها بر یکدیگر است.

در هنگام تشکیل پیوند کووالانسی، اثر نیروهای جاذبه‌ای بسیار بیشتر از مجموع نیروهای دافعه‌ای میان دو هسته و بین دو الکترون است. این نیروی جاذبهٔ اضافی دو اتم هیدروژن را به سوی یکدیگر می‌کشاند و اساس تشکیل پیوند کووالانسی بین آنها به شمار می‌آید. اگرچه پس از تشکیل پیوند کووالانسی نیروهای دافعه و جاذبه برابر می‌شوند و اتم‌ها در فاصله‌ای تعادلی نسبت به هم قرار می‌گیرند.

پیوند کووالانسی را می‌توان به صورت یک فنر در نظر گرفت، شکل ۳. هنگامی که دو اتم هیدروژن از یکدیگر دور می‌شوند، نیروهای جاذبه‌ای موجود بین الکترون‌ها و هسته‌ها، این اتم‌ها را به حالت اول باز می‌گردانند. از سوی دیگر، در اثر نزدیک شدن اتم‌ها به یکدیگر، با افزایش نیروهای دافعه میان هسته‌ها و همچنین الکترون‌ها، اتم‌های هیدروژن از یک

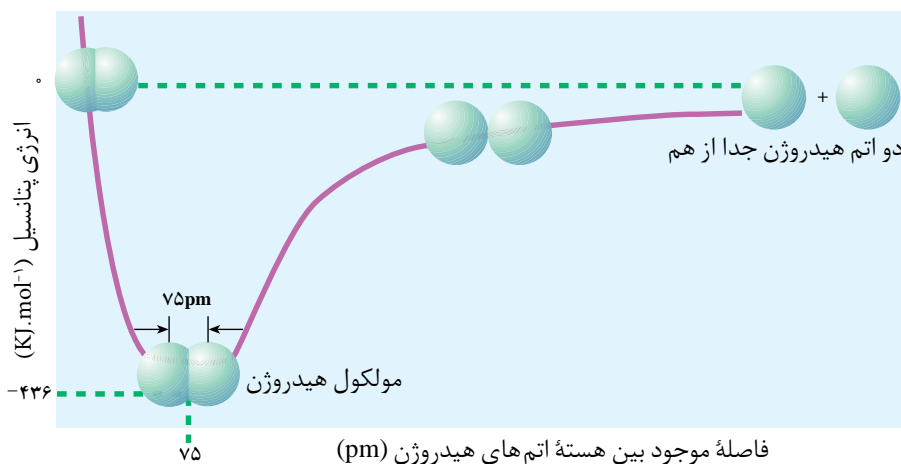
دیگر دور می‌شوند. در واقع، اتم‌های هیدروژن در امتداد محور پیوند نوسان می‌کنند، اما نوسان آنها به گونه‌ای است که همواره هسته‌های آنها در یک فاصله تعادلی از یکدیگر قرار می‌گیرند. به فاصله تعادلی میان هسته‌های دو اتم درگیر در پیوند **طول پیوند** می‌گویند.



شکل ۳ طول پیوند کووالانسی بین دو اتم حول فاصله تعادلی کم و زیاد می‌شود.

### طول پیوند با انرژی نسبت عکس دارد

راه دیگری برای مطالعه پیوند کووالانسی، بررسی سطح انرژی دو اتم هیدروژن پیش و پس از تشکیل پیوند است. با دقت به شکل ۴ نگاه کنید. در کدام نقطه روی منحنی این دو اتم در کنار هم کمترین انرژی را دارند؟ این نقطه نمایان‌گر پایین‌ترین سطح انرژی است و فاصله بین هسته دو اتم هیدروژن را، پس از تشکیل پیوند کووالانسی نشان می‌دهد. این فاصله همان **فاصله تعادلی** یا **طول پیوند** است. اتم‌های هیدروژن در فاصله‌ای دورتر از فاصله تعادلی – به علت نیروهای جاذبه – تمایل دارند به یکدیگر نزدیک شوند. اما، در



طول پیوند نشان دهنده جایگاه اتم‌ها در پایین‌ترین سطح انرژی یا پایدارترین حالت است.

شکل ۴ وقتی اتم‌ها در فاصله معینی از یکدیگر قرار می‌گیرند، بین آنها پیوند تشکیل می‌شود. در این فاصله، اتم‌ها در مولکول در پایین‌ترین سطح انرژی قرار دارند. اگر اتم‌ها از این فاصله به یکدیگر نزدیک‌تر یا دورتر شوند، در وضعیتی ناپایدار قرار خواهند گرفت.

فاصله‌ای کمتر از فاصله تعادلی - به علت قوی‌تر شدن نیروهای دافعه - تمایل دارند از هم دور شوند و به وضع تعادلی برگردند.

دو اتم متصل به یکدیگر به طور دائم نوسان می‌کنند، اما تا زمانی که انرژی آنها در پایین‌ترین سطح خود قرار دارد، با پیوند کووالانسی به یکدیگر متصل باقی خواهند ماند. از این مشاهده‌ها می‌توان نتیجه گرفت که اتم‌های هیدروژن متصل به یکدیگر پایدارتر از اتم‌های هیدروژن جدا از هم هستند. به عبارت دیگر سطح انرژی مولکول‌های هیدروژن پایین‌تر از سطح انرژی اتم‌های جدا از هم هیدروژن است. بنابراین هنگامی که بین آنها پیوندی به وجود می‌آید، انرژی آزاد می‌شود. جدول ۲ طول و انرژی برخی از پیوندهای کووالانسی را نشان می‌دهد. توجه کنید که با افزایش طول پیوند از انرژی پیوندها کاسته می‌شود. در واقع انرژی پیوند انرژی لازم برای شکستن پیوند کووالانسی و تولید اتم‌های جدا از هم است و همان طوری که ملاحظه شد با طول پیوند رابطه‌ای وارونه دارد.



جدول ۲ طول و انرژی برخی پیوندهای کووالانسی

پیوند	طول پیوند (pm)	انرژی پیوند ( $\text{kJ}\cdot\text{mol}^{-1}$ )
H - H	۷۵	۴۳۶
H - C	۱۰۹	۴۱۲
H - Cl	۱۲۷	۴۳۲
H - Br	۱۴۲	۳۶۶
C - O	۱۴۳	۳۶۰
C - C	۱۵۴	۳۴۸
H - I	۱۶۱	۲۹۸
C - Cl	۱۷۷	۳۳۸
C - Br	۱۹۴	۲۷۶
Cl - Cl	۱۹۹	۲۴۳
Br - Br	۲۲۹	۱۹۳
I - I	۲۶۶	۱۵۱

### پیوندهای کووالانسی قطبی و ناقطبی

اگر چه رسانایی الکتریکی آب خالص بسیار کم است، اما شباهت برخی از خواص آن، با ترکیب‌های یونی بیشتر از ترکیب‌های مولکولی مانند متان،  $\text{CH}_4$ ، است، جدول ۳.

### جدول ۳ مقایسه خواص آب و متان

ماده	مدل فضا پُرکن	فرمول مولکولی	نقطه ذوب (°C)	نقطه جوش (°C)	رفتار در میدان الکتریکی
آب		H <sub>2</sub> O	۰/۰	۱۰۰/۰	جهت گیری می کند
متان		CH <sub>4</sub>	-۱۸۲/۶	-۱۶۱/۴	جهت گیری نمی کند

آب مانند جسمی که دارای ذره‌های باردار است، در میدان الکتریکی عکس العمل نشان می‌دهد و برخلاف ترکیب‌های مولکولی با جرم مولی مشابه مانند متان که دارای نقطه ذوب و جوش پایینی است، در گستره دمایی بزرگی همچنان به حالت مایع باقی می‌ماند، جدول ۳. این خواص را می‌توان در ادامه همین بخش با گسترش الگوی پیوند کووالانسی توضیح داد.

مولکول H<sub>2</sub> را در نظر بگیرید. در مولکول هیدروژن هر دو اتم درگیر پیوند یکسانند، از این رو به یک اندازه تمایل دارند که جفت الکترون به اشتراک گذاشته شده را به سوی خود بکشند. بنابراین، این دو الکترون به طور یکنواخت روی دو اتم هیدروژن و در واقع روی مولکول هیدروژن پخش شده‌اند. چنین پیوندی را **پیوند کووالانسی ناقطبی** می‌گویند. زیرا با توزیع یکنواخت الکترون‌ها روی کل مولکول در هیچ جا تراکم یا کمبود الکترون مشاهده نمی‌شود و به این ترتیب دو قطب مثبت و منفی روی مولکول به وجود نمی‌آید. همواره پیوند میان دو اتم یکسان، کووالانسی ناقطبی خواهد بود.

تعداد کمی از ترکیب‌های شیمیایی هستند که پیوندهای کاملاً یونی یا کاملاً کووالانسی ناقطبی مانند آنچه اشاره شد، دارند. این دو ویژگی در واقع دو انتهای یک گستره از انواع پیوند به شمار می‌آیند. پیوندهای موجود در بسیاری از ترکیب‌ها، مانند آب، تا حدودی ویژگی‌هایی از هر دو نوع پیوند را دربر دارند. برای مثال، اگرچه در مولکول آب الکترون‌ها بین اتم‌های اکسیژن و هیدروژن به اشتراک گذاشته شده‌اند، اما مشاهده‌ها نشان می‌دهد که توزیع آنها بین این دو اتم یکسان نیست. در هر یک از این پیوندها، اتم اکسیژن خیلی بیشتر از اتم هیدروژن جفت الکترون پیوندی را به سوی خود جذب می‌کند. به این دلیل انتظار می‌رود که اتم اکسیژن دارای مقدار اندکی بار منفی و اتم هیدروژن نیز دارای مقدار اندکی بار مثبت باشد. چون در این جا یک اتم به قطب منفی و اتم دیگر به قطب مثبت تبدیل می‌شود، پیوند میان آن دو را **پیوند کووالانسی قطبی** می‌گویند.

میزان قطبی بودن یک پیوند به توانایی نسبی اتم‌ها در کشیدن جفت الکترون اشتراکی به سوی خود بستگی دارد. پیش از این آموختید که به این ویژگی **الکترون‌گاتیوی** می‌گویند. با اتصال دو اتم با الکترون‌گاتیوی متفاوت، یک پیوند کووالانسی قطبی به وجود می‌آید. به طوری که قطب منفی این پیوند را اتم الکترون‌گاتیوتر تشکیل می‌دهد.

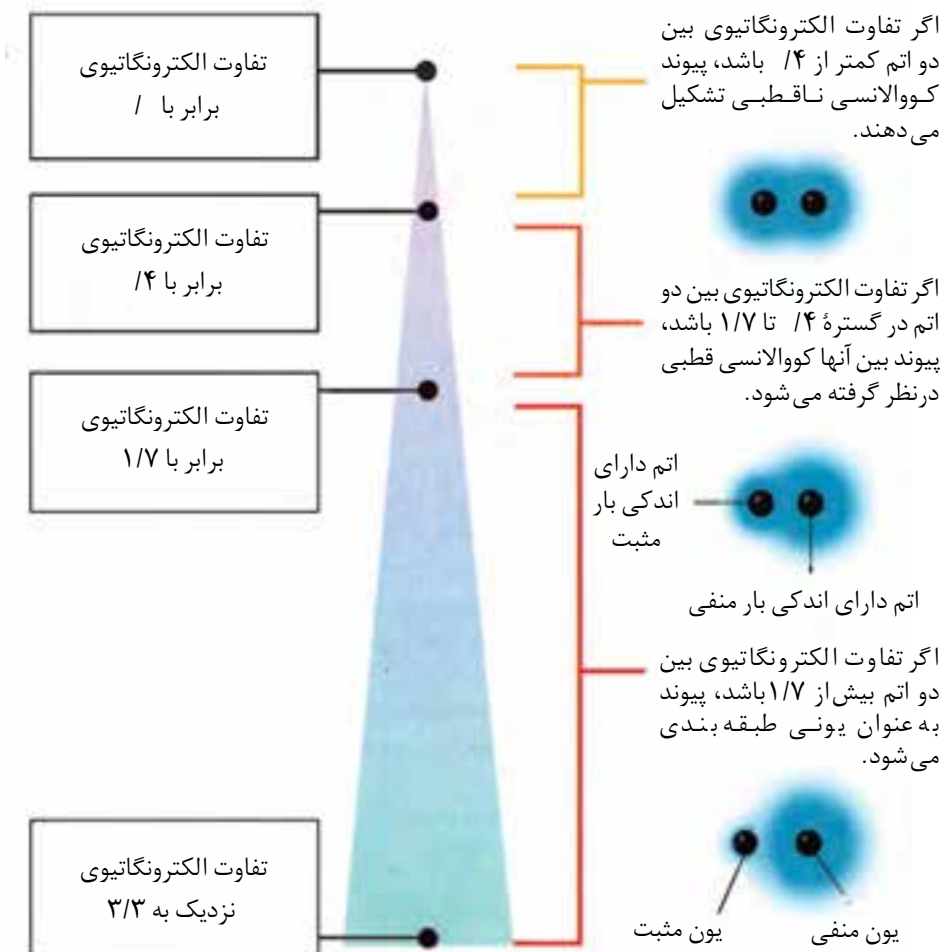
به جفت الکترون به اشتراک گذاشته شده در یک پیوند کووالانسی جفت الکترون پیوندی می‌گویند.

میزان قطبی بودن یک پیوند کووالانسی قطبی را تفاوت الکترونگاتیوی اتم‌های درگیر در آن پیوند تعیین می‌کند.

همان گونه که به یاد دارید اتم‌هایی مانند فلئوئور، نیتروژن و اکسیژن بسیار الکترونگاتیو هستند، به عبارت دیگر جفت الکترون پیوندی را بیش از اتم‌هایی مانند سدیم، منیزیم و لیتیم به سوی خود جذب می‌کنند. هر اندازه تفاوت الکترونگاتیوی بین دو اتم بیشتر باشد، میزان قطبی بودن پیوند یا به عبارت دیگر خصلت یونی پیوندی که تشکیل می‌دهند نیز بیشتر خواهد بود.

برای مثال، سزیم فلئوئورید، CsF، را در نظر بگیرید. الکترونگاتیوی سزیم، ۰/۷ و الکترونگاتیوی فلئوئور، ۴/۰ است، شکل ۹ از بخش ۲. تفاوت الکترونگاتیوی در این مورد ۳/۳ است. شکل ۵ نشان می‌دهد که شباهت خواص این پیوند به خواص پیوندهای یونی بسیار بیشتر از خواص پیوندهای کووالانسی ناقطبی است. به طور کلی وقتی تفاوت الکترونگاتیوی دو اتم در یک پیوند بزرگ‌تر از ۱/۷ باشد، اغلب آن را در گروه پیوندهای یونی دسته‌بندی می‌کنند.

پیوند کووالانسی قطبی نوعی پیوند کووالانسی است که در آن الکترون‌های پیوندی به وسیله یکی از اتم‌های درگیر در پیوند بیشتر جذب می‌شوند.



شکل ۵ برای پیش‌بینی خواص پیوند، می‌توان از تفاوت الکترونگاتیوی اتم‌ها استفاده کرد. به طور کلی، هر اندازه تفاوت الکترونگاتیوی بیشتر باشد، خصلت یونی پیوند نیز بیشتر خواهد بود.

حال پیوندی را که بین سیلیسیم و اکسیژن به وجود می آید، در نظر بگیرید. در این مورد، الکترونگاتیوی اکسیژن  $3/5$  و الکترونگاتیوی سیلیسیم  $1/8$  و تفاوت آنها  $1/7$  است. این تفاوت، پیوند سیلیسیم با اکسیژن را در آستانه پیوندهای یونی قرار می دهد. هنگامی که یک پیوند کووالانسی بین دو اتم با الکترونگاتیوی یکسان به وجود می آید، پیوند بین آنها را پیوند کووالانسی ناقطبی می گویند. گفتنی است که گاهی پیوند با اختلاف الکترونگاتیوی برابر  $1/4$  نیز پیوند ناقطبی در نظر گرفته می شود. برای نمونه اغلب از قطبی بودن پیوند  $C - H$  که پیوند مهمی در مطالعه ترکیب های آلی به شمار می آید، چشم پوشی می شود.

پیوند کووالانسی ناقطبی نوعی پیوند کووالانسی است که در آن الکترون های پیوندی به طور یکسان بین دو اتم متصل به هم توزیع شده است.

### مولکول ها را چگونه نمایش می دهند؟

می دانید که از اتصال اتم ها به یکدیگر مولکول ها به وجود می آیند. برای نشان دادن چگونگی اتصال اتم ها به یکدیگر و نمایش مولکول حاصل، می توان الکترون های ظرفیتی شرکت کننده در تشکیل پیوند را با استفاده از نقطه نشان داد. هر اتم هیدروژن با آرایش الکترونی  $1s^1$ ، تنها یک الکترون دارد. الکترون ظرفیت اتم هیدروژن را به وسیله یک نقطه نشان می دهند، شکل ۶.

H .



شکل ۶ اتم هیدروژن و تنها الکترون ظرفیت آن را می توان با حرف H و یک نقطه در کنار آن نمایش داد.



لینوس پاولینگ

(۱۹۰۱-۱۹۹۴)

معرفی مقیاسی نسبی برای اندازه گیری الکترونگاتیوی عناصرها از جمله مهم ترین کارهای او بود.

اگر برای نمایش جفت الکترون مشترک بین دو اتم از دو نقطه استفاده کنیم، مولکول هیدروژن به شکل زیر نشان داده می شود.

H : H

این دو نقطه را بین دو اتم هیدروژن قرار می دهند تا معلوم باشد که این الکترون ها بین دو اتم به اشتراک گذاشته شده اند. هیدروژن نمی تواند بیش از دو الکترون مشترک داشته باشد.

اکنون به اتم کلر با آرایش الکترونی  $1s^2 2s^2 2p^6 3s^2 3p^5$  توجه کنید. اتم کلر ۱۷ الکترون دارد. دو الکترون در لایه اول، ۸ الکترون در لایه دوم و ۷ الکترون موجود در بیرونی ترین لایه (لایه سوم) که الکترون های ظرفیت هستند. بنابراین، ساختار الکترونی اتم کلر را می توان به صورت نمایش داده شده در شکل ۷ نشان داد.





**شکل ۷** یک اتم کلر ۱۷ الکترون دارد. ۷ الکترون آن الکترون‌های ظرفیت هستند. هسته اتم کلر و ۱ الکترون درونی آن را می‌توان با نشانه Cl نمایش داد. ۷ الکترون ظرفیت را می‌توان با قراردادن هفت نقطه پیرامون نشانه Cl مشخص کرد.



اگر دو اتم کلر داشته باشید، هر اتم کلر برای تبعیت از قاعده هشتایی تنها به یک الکترون دیگر نیاز دارد. هیچ‌یک از اتم‌های کلر نمی‌تواند از دیگری الکترون بگیرد. بنابراین، برای دستیابی به آرایش هشتایی حاضرند الکترون تکی خود را به اشتراک بگذارند. این اتم‌ها، آن‌طور که نشان داده شده است، با به اشتراک گذاشتن یک جفت الکترون و تشکیل یک پیوند کووالانسی تا حدود زیادی پایدار می‌شوند.

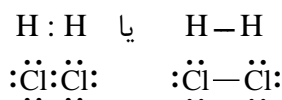


افزون بر این هر اتم کلر الکترون‌هایی دارد که در تشکیل پیوند شرکت نکرده‌اند. این جفت الکترون‌ها را **جفت الکترون‌های ناپیوندی** می‌نامند. در مولکول  $\text{Cl}_2$  هر اتم کلر چند جفت الکترون ناپیوندی دارد؟

کاربرد این جفت نقطه‌ها برای نشان دادن جفت الکترون‌های پیوندی و ناپیوندی، تشخیص آرایش هشتایی پایدار را برای هر اتم، آسان می‌کند. اگر سمت چپ، بالا، سمت راست و پایین نشانه هر اتم به وسیله یک جفت الکترون پیوندی یا ناپیوندی احاطه شده باشد، اتم مورد نظر (به استثنای هیدروژن) دارای آرایش هشتایی پایدار است.

هنگام رسم ساختارهای الکترون - نقطه ای می‌توان جفت نقطه‌ای را که نمایان‌گر جفت الکترون پیوندی یا پیوند کووالانسی است با یک خط کوتاه نشان داد. این خط کوتاه نمایان‌گر یک پیوند ساده (یگانه) است.

پیوند ساده (یگانه)  
نتیجه به اشتراک گذاشتن  
یک جفت الکترون بین دو  
اتم است.



به این شیوه نمایش **مدل الکترون - نقطه** یا **ساختار لوویس** می‌گویند. همان‌گونه که گفته شد در ساختارهای لوویس هسته و الکترون‌های لایه‌های درونی به وسیله نماد شیمیایی عنصر و پیوندهای کووالانسی به وسیله جفت نقطه‌ها یا خط‌های کوتاه نشان داده می‌شوند. جفت الکترون‌های ناپیوندی را به وسیله جفت نقطه‌هایی در کنار نشانه شیمیایی عنصر نمایش می‌دهند.

برای رسم ساختارهای لوویس باید:

۱- تعداد کل الکترون‌های ظرفیت را بشمارید. برای این کار الکترون‌های ظرفیت

اتم‌ها را با هم جمع کنید.



برای مثال، HCl را در نظر بگیرید. هیدروژن تنها یک الکترون ظرفیت دارد. کلر دارای ۷ الکترون ظرفیت است.

$$1 + 7 = 8 \quad \text{تعداد کل الکترون های ظرفیت:}$$

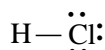
۲- نشانه شیمیایی اتم ها را به ترتیبی بنویسید که نشان دهد چگونه به یک دیگر متصل شده اند. الکترون های ظرفیت را با نقطه نشان دهید. جفت نقطه ها را به گونه ای توزیع کنید که از قاعده هشتایی تبعیت شده باشد، مگر در مورد هیدروژن که می تواند حداکثر دو الکترون داشته باشد.



۳- تعداد الکترون های به کار رفته در ساختار لوویس را با تعداد الکترون های موجود در مرحله ۱ مقایسه کنید.

$$2 + 6 = 8 \quad \text{تعداد کل الکترون های نشان داده شده:}$$

۴- هر جفت نقطه ای را که نمایان گر یک پیوند هستند با یک خط کوتاه عوض کنید.



۵- اطمینان حاصل کنید که بجز هیدروژن در رسم آرایش الکترونی تمام اتم های مولکول یاد شده از قاعده هشتایی تبعیت شده است.

### ساختارهای لوویس برای مولکول های چند اتمی

وقتی ساختار لوویس مولکولی را رسم می کنیم که بیش از دو اتم دارد، ابتدا باید درباره چگونگی آرایش اتم های آن تصمیم بگیریم. برای این کار همواره راهنمایی های زیر را در نظر داشته باشید:

- اتم های هیدروژن و هالوژن تنها با یک اتم دیگر پیوند می دهند و معمولاً در پیرامون اتم مرکزی قرار می گیرند.
- معمولاً اتمی که الکترونگاتیوی آن از همه کمتر است **اتم مرکزی** در نظر گرفته می شود.
- وقتی در مولکولی از یک عنصر بیش از یک اتم وجود داشته باشد، این اتم ها اغلب در اطراف اتم مرکزی قرار می گیرند.

### نمونه حل شده

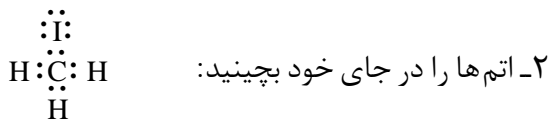
ساختار لوویس یدومتان،  $\text{CH}_3\text{I}$ ، را رسم کنید.

۱- تعداد کل الکترون های ظرفیت را حساب کنید.

$$1 \times 4 = 4 \quad \text{۱ اتم C با ۴ الکترون}$$

$$3 \times 1 = 3 \quad \text{۳ اتم H با ۱ الکترون}$$

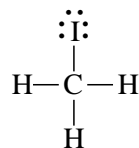
۱ اتم I با ۷ الکترون  $1 \times 7 = 7$   
در مجموع: ۱۴ الکترون ظرفیت



۳- تعداد الکترون‌های به کار رفته را با تعداد الکترون‌های ظرفیت مقایسه کنید.  
هر ۱۴ الکترون ظرفیت به کار رفته است

$$7 \times 2 = 14 \text{ الکترون}$$

۴- هر دو نقطه مشترک بین دو اتم را با خطی کوتاه نمایش دهید.



۵- مطمئن شوید که به جز برای هیدروژن برای اتم‌های دیگر قاعده هشتایی رعایت شده است.



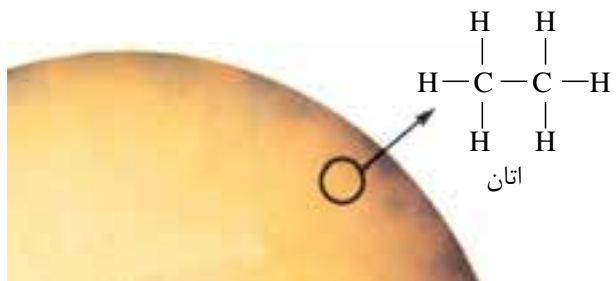
## خود را پیازمایید

ساختار لوویس هیدروژن برمید، HBr؛ دی کلرومتان، CH<sub>2</sub>Cl<sub>2</sub>؛ و متانول، CH<sub>3</sub>OH، را رسم کنید.



## دو اتم می‌توانند بیش از یک جفت الکترون به اشتراک بگذارند

از آن جا که کربن در بیرونی‌ترین لایه الکترونی خود چهار الکترون ظرفیت دارد، با رعایت قاعده هشتایی، حداکثر می‌تواند با چهار اتم پیوند تشکیل دهد. در مولکول اتان، C<sub>2</sub>H<sub>6</sub>، هر اتم کربن به یک اتم کربن دیگر و سه اتم هیدروژن متصل است، شکل ۸. بین هر اتم هیدروژن و کربن و همچنین بین دو اتم کربن یک جفت الکترون مشترک وجود دارد.

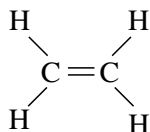


پیوند دوگانه پیوند کووالانسی تشکیل شده از به اشتراک گذاشتن دو جفت الکترون بین دو اتم است.

شکل ۸ ستاره شناسان گمان می‌کنند که سطح بزرگ‌ترین ماه سیاره کیوان (زحل) از اتان مایع، C<sub>2</sub>H<sub>6</sub>، پوشیده شده است.

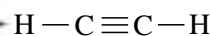


اتم‌های کربن، نیتروژن، اکسیژن و گاهی گوگرد می‌توانند با خود یا اتم‌های دیگر، با رعایت قاعده هشتایی، بیش از یک جفت الکترون به اشتراک بگذارند. برای مثال، اگر دو اتم کربن بین خود به جای یک جفت الکترون دو جفت الکترون (در کل چهار الکترون) به اشتراک بگذارند، یک پیوند کووالانسی دوگانه یا **پیوند دوگانه** تشکیل می‌شود. مولکول اتن شامل دو اتم کربن و چهار اتم هیدروژن است. در این مولکول دو اتم کربن با پیوند دوگانه به یک دیگر متصل شده‌اند، شکل ۹.



شکل ۹ ساختار لوویس مولکول اتن

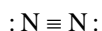
دو اتم کربن همچنین می‌توانند سه جفت الکترون به اشتراک بگذارند. مولکولی که از دو اتم کربن با پیوند سه‌گانه و دو اتم هیدروژن تشکیل شده است، **اتین** نامیده می‌شود. شکل ۱۰.



پیوند سه‌گانه پیوند کووالانسی تشکیل شده از به اشتراک گذاشتن سه جفت الکترون بین دو اتم است.

شکل ۱۰ غار شناس‌ها اغلب از چراغ‌های کاربیدی استفاده می‌کنند. در این چراغ‌ها کلسیم کاربید،  $\text{CaC}_2$ ، با آب واکنش می‌دهد و گاز اتین (استیلن) تولید می‌کند.

اگر چه نام‌های اتان، اتن و اتین چندان متفاوت به نظر نمی‌رسد، ولی ساختار لوویس، خواص و کاربردهای آنها متفاوت است. نیتروژن نیز می‌تواند پیوند سه‌گانه تشکیل دهد. در مولکول‌های دو اتمی سازنده گاز نیتروژن،  $\text{N}_2$ ، میان دو اتم نیتروژن پیوند سه‌گانه وجود دارد.



در هنگام رسم ساختارهای لوویس اگر متصل کردن اتم‌ها به یکدیگر با پیوندهای یگانه، ساختار لوویس مناسبی به دست ندهد، مولکول باید پیوندهای چندگانه داشته باشد.

ساختار لوویس فرمالدهید،  $\text{CH}_2\text{O}$ ، را رسم کنید.

۱- تعداد کل الکترون های ظرفیت را حساب کنید:

$$2 \text{ اتم H با } 1 \text{ الکترون} = 2$$

$$1 \text{ اتم C با } 4 \text{ الکترون} = 4$$

$$1 \text{ اتم O با } 6 \text{ الکترون} = 6$$

در مجموع: ۱۲ الکترون ظرفیت

۲- اتم ها را کنار هم قرار دهید. برای این کار از روشی استفاده کنید که پیش از این

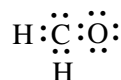
برای تعیین اتم مرکزی داده شده است.

کربن در میانه ساختار قرار می گیرد. اتم های دیگر را در اطراف اتم کربن قرار دهید.

به نظر می رسد که قراردادن الکترون های پیوندی و ناپیوندی کار ساده ای باشد. زیرا در این

ساختار لوویس، برای هریک از دو اتم O و C قاعده هشتایی رعایت شده است. اما لازم است

که درستی این ساختار را بررسی کنیم.



۳- تعداد الکترون های به کار رفته را با تعداد الکترون های ظرفیت مقایسه کنید.

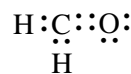
الکترون های به کار رفته: ۱۴      الکترون های ظرفیت: ۱۲

۴- حال بدون آن که قاعده هشتایی نقض شود، باید دو الکترون را حذف کنیم. برای

این کار، با حذف دو الکترون ناپیوندی از کربن و اکسیژن و با تشکیل یک پیوند کووالانسی

دوگانه بین کربن و اکسیژن، مشکل حل خواهد شد. در این ساختار ضمن رعایت قاعده

هشتایی، تعداد الکترون های به کار رفته با تعداد الکترون های ظرفیت برابر است.



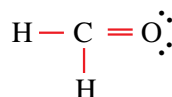
• الکترون های به کار رفته: ۱۲

• الکترون های ظرفیت: ۱۲

• کربن دو پیوند ساده و یک پیوند دوگانه و در مجموع چهار پیوند کووالانسی تشکیل

می دهد.

۵- به جای هر جفت الکترون موجود میان دو اتم یک خط کوتاه قرار دهید.



۶- مطمئن شوید که قاعده هشتایی رعایت شده باشد.

در این جا، پیوند دوگانه نمایان گر چهار الکترون مشترک بین کربن و اکسیژن است.

بنابراین، قاعده هشتایی نیز رعایت شده است.

## خود را بیازمایید

ساختارهای لوویس مولکول های زیر را رسم کنید:

(أ) کربن دی اکسید،  $CO_2$       (ب) کربن تتراکلرید،  $CCl_4$

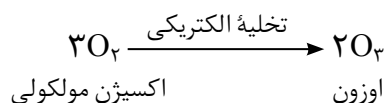
(پ) آمونیاک،  $NH_3$       (ت) هیدروژن سیانید،  $HCN$

(ث) گوگردی تری اکسید،  $SO_3$       (ج) فسفر تری کلرید،  $PCl_3$

در هنگام رسم ساختارهای لوویس گاهی ممکن است با مولکولی مانند اوزون،  $O_3$ ،

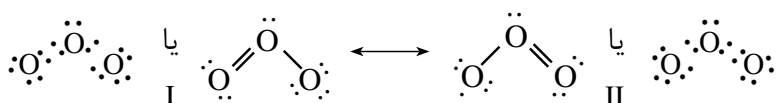
که دارای ۱۸ الکترون ظرفیت است روبه رو شویم. اوزون **آلوتروپ** یا دیگر شکل اکسیژن

است که بر اثر تخلیه الکتریکی در گاز اکسیژن به وجود می آید.



اوزون مولکولی خمیده است، یعنی سه اتم اکسیژن آن روی یک خط راست قرار

ندارند. مولکول اوزون را می توان به کمک دو ساختار لوویس نمایش داد:



هر دو ساختار از قاعده هشتایی تبعیت می کنند. توجه داشته باشید که در یک

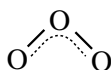
ساختار، پیوند دوگانه در سمت راست و در ساختار دیگر در سمت چپ قرار دارد. هر دو

ساختار احتمال برابری دارند. بنابراین، هیچ یک از آنها به تنهایی اعتبار ندارد. مولکول های

دیگری را نیز می توان به کمک چند ساختار لوویس با ارزش برابر نمایش داد. در این موارد

می گویند که مولکول واقعی هیچ یک از این ساختارها را ندارد بلکه ساختار آن میانگین این

دو ساختار یا به گفته شیمی دان ها **هیبرید رزونانسی** از این ساختارهاست.

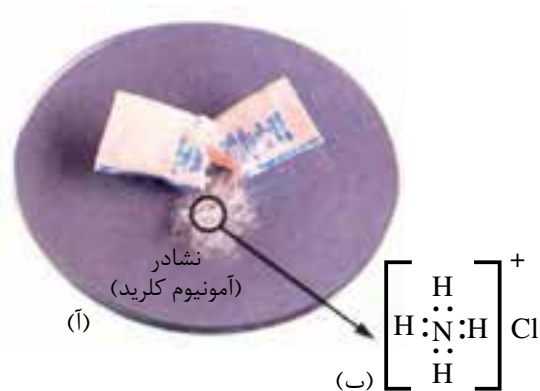


ساختار هیبرید رزونانس اوزون

در ابتدا، شیمی دان‌ها تصور می‌کردند که این نوع مولکول مانند سیم گیتار به جلو و عقب می‌رود و بین ساختارهای گوناگون نوسان می‌کند. اما اکنون به این مولکول به گونه‌ای می‌نگرند که گویی مولکول، ساختاری میانگین این دو ساختار رزونانسی دارد. اندازه‌گیری‌های انجام شده نیز نشان می‌دهد که در مولکول  $O_3$ ، طول پیوندهای اکسیژن-اکسیژن یکسان و میانگین طول پیوندهای  $O-O$  و  $O=O$  است. در ضمن سطح انرژی مولکول واقعی همواره پایین‌تر از ساختارهای لوویس جداگانه‌ای است که برای آن رسم می‌شود.

### پیوند داتیو نوع خاصی از پیوند کووالانسی است

کاتیون آمونیوم که یون چند اتمی سازنده آمونیوم کلرید (نشادر) است، شکل ۱۱، از اتصال یک مولکول آمونیاک و یک یون هیدروژن به وجود می‌آید. در این مورد، بین یون هیدروژن و جفت الکترون ناپیوندی اتم نیتروژن در مولکول آمونیاک یک پیوند کووالانسی تشکیل شده است.



**شکل ۱۱** آ. وقتی یون هیدروژن با یک مولکول آمونیاک ترکیب می‌شود، کاتیون آمونیوم به وجود می‌آید. ب. گروه‌های موجود در اطراف ساختار لوویس یک یون چند اتمی، مانند یون آمونیوم، نشان می‌دهد که بار مثبت به اتم خاصی تعلق ندارد بلکه به کل اتم‌ها متعلق است.

برخلاف پیوندهای یگانه دیگری که در آنها هر اتم یک الکترون به اشتراک می‌گذارد، در این جا اتم نیتروژن هر دو الکترون پیوندی را خود به اشتراک می‌گذارد. این نوع خاص از پیوند را **پیوند کووالانسی کوئوردینانسی** یا **پیوند داتیو** می‌نامند. با وجود آن که برای تشکیل این پیوند هر دو الکترون مشترک به نیتروژن تعلق دارد، وقتی پیوند کووالانسی کوئوردینانسی تشکیل شد، این نوع پیوند از پیوندهای کووالانسی دیگر در کاتیون آمونیوم قابل تشخیص نیست.

پیوند داتیو هنگامی به وجود می‌آید که یکی از دو اتم تشکیل دهنده پیوند دست کم یک جفت الکترون ناپیوندی و دیگری دست کم یک اوربیتال خالی داشته باشد.

## نام گذاری ترکیب های مولکولی

اگر چه برای نوشتن ساختارهای لوویس ترکیب های مولکولی چندین مرحله وجود دارد، اما نام گذاری یک ترکیب مولکولی به ویژه در مورد ترکیب هایی که تنها از دو عنصر ساخته شده اند به نسبت ساده است. این ترکیب ها را می توان به یکی از دو روش زیر نام گذاری کرد. این دو روش شبیه روش هایی هستند که در مورد نام گذاری ترکیب های یونی در بخش ۳ شرح داده شد.

جدول ۴ پیشوندهای رایج در نام گذاری ترکیب های شیمیایی

پیشوند	تعداد اتم ها
مونو	۱
دی	۲
تری	۳
تترا	۴
پنتا	۵
هگزا	۶
هپتا	۷
اوکتا	۸
نونا	۹
دکا	۱۰

### نام گذاری با استفاده از پیشوند ، ریشه نام عنصر و پسوند

شیمی دان ها اغلب ترکیب های مولکولی را به کمک پیشوندهای معرفی شده در جدول ۴ نام گذاری می کنند. پیشوند و پسوند معمولاً به ریشه نام عنصرهای موجود در ترکیب افزوده می شود. به نام ترکیب زیر دقت کنید:



### دی نیتروژن تترا اکسید

حال سعی کنید با رعایت این الگو، نام ترکیب های  $\text{SO}_2$  و  $\text{CO}_2$ ،  $\text{NO}_2$ ،  $\text{SiCl}_4$ ،  $\text{N}_2\text{O}_3$  نام ترکیب های الگو، نام ترکیب های  $\text{SO}_2$  و  $\text{CO}_2$ ،  $\text{NO}_2$ ،  $\text{SiCl}_4$ ،  $\text{N}_2\text{O}_3$  را حدس بزنید. در این روش معمولاً نخست نام عنصری گفته می شود که الکترون گاتیوی آن کمتر است. اگر فرمول مولکول مورد نظر تنها یک اتم از عنصر اول داشته باشد، از به کار بردن پیشوند مونو پیش از نام این عنصر چشم پوشی می شود. در حالی که برای اکسیژن به ریشه اُکسی پسوند «ید» افزوده و برای نشان دادن تعداد اتم های اکسیژن، از پیشوندهای معرفی شده در جدول ۴ استفاده شده است.

### نام گذاری با استفاده از عدد اکسایش

دو اتمی که با پیوند کووالانسی قطبی به یکدیگر متصل شده اند، مانند یون ها بار کامل مثبت یا منفی ندارند، ولی اغلب توزیع الکترون ها بین آن دو اتم یکسان نیست. اتمی که الکترون گاتیوتر است، الکترون های مشترک را بیشتر به سوی خود جذب می کند و حامل مقدار جزئی بار منفی می شود. در مقابل اتمی که الکترون گاتیوی آن کمتر است، مقدار جزئی بار مثبت پیدا می کند. در این موارد می توان فرض کرد که بار الکتریکی به طور کامل روی اتم ها منتقل شده است. در این صورت به این بار الکتریکی ظاهری نسبت داده شده به هر اتم عدد اکسایش آن اتم می گویند. از عدد اکسایش می توان در نام گذاری ترکیب های مولکولی استفاده کرد.

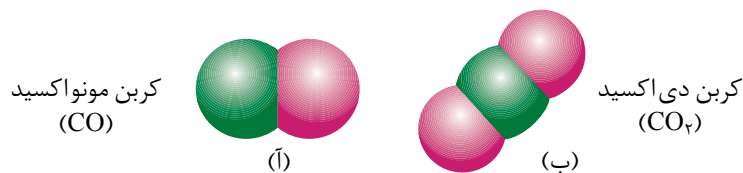


## تعیین عددهای اکسایش از روی فرمول شیمیایی

وقتی بیشتر اتم‌ها با اکسیژن پیوند برقرار می‌کنند، اتم اکسیژن نسبت به اتم‌های دیگر جفت الکترون پیوندی را با شدت بیشتری به سمت خود جذب می‌کند. به این ترتیب، این دو الکترون همراه با بار منفی خود، بیشتر وقت خود را در نزدیکی اتم اکسیژن می‌گذرانند. در نتیجه، به اکسیژن معمولاً عدد اکسایش ۲- نسبت داده می‌شود. از طرف دیگر، الکترونگاتیوی اتم هیدروژن زیاد نیست. از این رو، الکترونی که این اتم به هنگام تشکیل پیوند در اختیار می‌گذارد، معمولاً بیشتر وقت خود را در اطراف اتم الکترونگاتیوتر می‌گذراند. بنابراین، به هیدروژن معمولاً عدد اکسایش ۱+ نسبت داده می‌شود. برای هالوژن‌ها نیز که بسیار الکترونگاتیو هستند معمولاً عدد اکسایش ۱- در نظر گرفته می‌شود. اتم‌های دیگر نیز تمایل دارند عددهای اکسایشی داشته باشند که با نوع و میزان بار آنها در ترکیب‌های یونی شباهت داشته باشد. این اتم‌ها معمولاً برای رسیدن به آرایش هشتایی کامل، اغلب به گرفتن یا از دست دادن همین تعداد الکترون نیاز دارند. عنصری که الکترونگاتیوی آن بیشتر است، دارای عدد اکسایش منفی خواهد بود. برای مثال، در آمونیاک،  $\text{NH}_3$ ، عدد اکسایش N، ۳- و عدد اکسایش H، ۱+ است.

پیش از آن که عددهای رومی را در نام‌گذاری یک ترکیب مولکولی به کار گیرید، باید عدد اکسایش هر اتم را تعیین کنید. این کار ممکن است کمی دشوار باشد، زیرا برخی عناصر، بسته به دیگر اتم‌های موجود در ترکیب، می‌توانند بیش از یک عدد اکسایش داشته باشند. جمع جبری عددهای اکسایش در یک ترکیب خنثی باید برابر صفر باشد. در مورد یک یون چند اتمی، جمع عددهای اکسایش باید برابر بار یون باشد. با استفاده از این اطلاعات و قواعد تقریبی موجود در مورد عددهای اکسایش هیدروژن، اکسیژن و هالوژن‌ها، می‌توانید عددهای اکسایش بیشتر اتم‌ها را در یک ترکیب یا یک یون چند اتمی پیش‌بینی کنید.

به عنوان مثال، مولکول‌های  $\text{CO}$  و  $\text{CO}_2$ ، نشان داده شده در شکل ۱۲ را در نظر بگیرید. با استفاده از عددهای رومی برای نمایش عددهای اکسایش،  $\text{CO}$  را باید کربن (II) اکسید و  $\text{CO}_2$  را کربن (IV) اکسید نامید. اما مانند بسیاری از ترکیب‌های کووالانسی متداول،  $\text{CO}$  و  $\text{CO}_2$  را معمولاً کربن مونواکسید و کربن دی‌اکسید می‌نامند.



**شکل ۱۲** آ. در کربن مونواکسید اگر عدد اکسایش اتم اکسیژن ۲- در نظر گرفته شود، عدد اکسایش اتم کربن باید ۲+ باشد.  
ب. در کربن دی‌اکسید عدد اکسایش اکسیژن ۲- است. اما، چون در هر مولکول دو اتم اکسیژن وجود دارد، اتم کربن باید دارای عدد اکسایش ۴+ باشد.

## خود را بیازمایید

۱- با استفاده از پیشنندهای مناسب، ترکیب‌های مولکولی زیر را نام گذاری کنید.



۲- عدد اکسایش اتم مرکزی ترکیب‌های زیر را مشخص کنید:

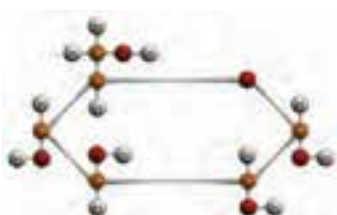


۳- فرمول شیمیایی ترکیب‌های زیر را بنویسید:

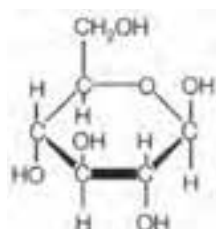
(آ) دی نیتروژن تترا اکسید    (ب) گوگرد هگزا فلئوئورید    (پ) فسفر پنتا برمید

## چگونه فرمول‌های شیمیایی را نمایش می‌دهند؟

تاکنون با ساختار لوویس و فرمول شیمیایی برای نمایش یک مولکول آشنا شدید. در واقع، شیمی دان‌ها می‌توانند فرمول یک ترکیب معین را به شیوه‌های گوناگونی نشان دهند. ساده‌ترین فرمول که شامل نماد شیمیایی عنصرها همراه با زیروندهایی است که کوچک‌ترین نسبت صحیح اتم‌ها را مشخص می‌کند **فرمول تجربی** نامیده می‌شود. در شکل ۱۳ مولکول گلوکوز به چند شیوه متفاوت نشان داده شده است. به طوری که در این شکل ملاحظه می‌کنید فرمول تجربی گلوکوز CH<sub>۲</sub>O و فرمول مولکولی آن C<sub>۶</sub>H<sub>۱۲</sub>O<sub>۶</sub> است.



مدل گلوله و میله



فرمول ساختاری گسترده

فرمول مولکولی C<sub>۶</sub>H<sub>۱۲</sub>O<sub>۶</sub>

فرمول تجربی CH<sub>۲</sub>O

فرمول مولکولی نوع و تعداد واقعی اتم‌ها را در مولکول‌های سازنده یک ترکیب مولکولی به دست می‌دهد.

شکل ۱۳ گلوکوز را می‌توان به چند شیوه متفاوت نمایش داد.

## فرمول مولکولی

فرمول تجربی افزون بر نوع و تعداد عنصرهای سازنده مولکول، ساده‌ترین نسبت اتم‌های موجود در آن را مشخص می‌کند اما اطلاعاتی درباره تعداد اتم‌های موجود از هر عنصر در اختیار ما نمی‌گذارد. برای به دست آوردن این اطلاعات به فرمول مولکولی نیاز دارید. فرمول مولکولی، با توجه به نوع اتم‌ها و تعداد آنها، تصویر بهتری از مولکول به دست می‌دهد.

برای بعضی از ترکیب‌ها، فرمول تجربی و فرمول مولکولی یکسان است. آب،  $H_2O$  از این جمله است. اما، در مورد بسیاری از ترکیب‌ها، فرمول تجربی و فرمول مولکولی تفاوت دارند. سه ترکیب مولکولی نشان داده شده در جدول ۵ را در نظر بگیرید. ترکیب اول سمی و سرطان‌زا است. ترکیب دوم عامل ترش بودن سرکه است. ترکیب سوم نوعی قند ساده است. هر سه ترکیب دارای فرمول تجربی یکسان،  $CH_2O$ ، هستند، اما به علت متفاوت بودن فرمول مولکولی آنها، هر یک خواص بسیار متفاوتی از خود نشان می‌دهند.




توجه کنید که در جدول ۵ فرمول مولکولی در هر مورد مضربی از فرمول تجربی است.

$$\text{فرمول تجربی} \times x = \text{فرمول مولکولی}$$

$x$  در این رابطه یک عدد صحیح است.  $x$  برای فرمالدهید، برابر ۱، برای استیک اسید، برابر ۲ و برای گلوکوز برابر ۶ است. اگر جرم فرمول تجربی و جرم فرمول مولکولی یک ترکیب را بدانید، تعیین عددی که باید در فرمول تجربی ضرب شود تا فرمول مولکولی آن به دست آید، آسان خواهد بود.

$$x = \frac{\text{جرم فرمول مولکولی}}{\text{جرم فرمول تجربی}}$$

جدول ۵ مقایسه فرمول تجربی و فرمول مولکولی

ترکیب	فرمول تجربی	فرمول مولکولی	جرم مولی $g \cdot mol^{-1}$	طرز نمایش
فرمالدهید	$CH_2O$	$CH_2O$ (یک برابر فرمول تجربی)	۳۰/۳	
استیک اسید	$CH_2O$	$C_2H_2O_2$ (دو برابر فرمول تجربی)	۶۰/۶	
گلوکوز	$CH_2O$	$C_6H_{12}O_6$ (شش برابر فرمول تجربی)	۱۸۰/۱۸	

## فرمول ساختاری

از روی فرمول مولکولی به این نکته پی می‌برید که در یک ترکیب چه نوع اتم‌هایی وجود دارند و تعداد هر یک از آنها چه قدر است. اما، برای آن که بدانید این اتم‌ها چگونه به یکدیگر متصل شده‌اند، به فرمول ساختاری نیاز دارید. فرمول ساختاری اطلاعات زیادی درباره موقعیت اتم‌ها در مولکول در اختیار می‌گذارد. با فرمول ساختاری در شیمی ۱ نیز آشنا شده‌اید.

فرمول ساختاری افزون بر نوع، تعداد عنصرها و تعداد اتم‌های هر عنصر، شیوه اتصال اتم‌ها به یکدیگر را در مولکول نشان می‌دهد.

فرمول‌های تجربی، مولکولی و ساختاری دو مولکول نشان داده شده در جدول ۶ را با یکدیگر مقایسه کنید. نوع و تعداد اتم‌ها در هر دو ترکیب یکسان است. تنها تفاوت در چگونگی آرایش آنهاست. همین تفاوت کوچک ساختاری موجب می‌شود که خواص شیمیایی آنها بسیار متفاوت باشد. دی‌متیل اتر گازی است به‌عنوان پیش‌رانه در افشانه‌ها و گاز یخچال به کار می‌رود، در حالی که اتانول مایعی است که به‌عنوان حلال و ماده اولیه در صنایع شیمیایی کاربرد فراوان دارد. فرمول ساختاری مانند ساختار لوویس است، با این تفاوت که جفت الکترون‌های ناپیوندی در آن نشان داده نمی‌شود. در این فرمول خط کوتاه نمایان‌گر یک پیوند ساده (یگانه) بین دو اتم است.

جدول ۶ مقایسه اتانول و دی‌متیل اتر

ترکیب	فرمول تجربی	فرمول مولکولی	فرمول ساختاری	نقطه جوش (°C)	چگالی (g.cm <sup>-3</sup> )
اتانول	C <sub>2</sub> H <sub>6</sub> O	C <sub>2</sub> H <sub>6</sub> O	$\begin{array}{c} \text{H} \quad \text{H} \\   \quad   \\ \text{H}-\text{C}-\text{C}-\text{O}-\text{H} \\   \quad   \\ \text{H} \quad \text{H} \end{array}$	۷۸/۰	۰/۸۱۶
دی‌متیل اتر	C <sub>2</sub> H <sub>6</sub> O	C <sub>2</sub> H <sub>6</sub> O	$\begin{array}{c} \text{H} \quad \quad \text{H} \\   \quad \quad   \\ \text{H}-\text{C}-\text{O}-\text{C}-\text{H} \\   \quad \quad   \\ \text{H} \quad \quad \text{H} \end{array}$	-۲۴/۵	۰/۶۶۱

به ترکیب‌هایی که فرمول مولکولی یکسانی دارند اما فرمول ساختاری آنها با یکدیگر تفاوت می‌کند ایزومر یا هم‌پار می‌گویند. اتانول و دی‌متیل اتر ایزومر یکدیگرند.

### چگونه می‌توان شکل هندسی مولکول‌ها را پیش‌بینی کرد؟

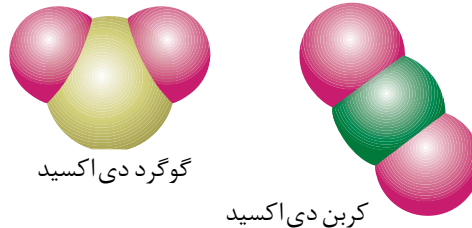
اگرچه تاکنون مطالب زیادی درباره ساختار مولکول‌ها آموخته‌اید، اما جهت‌گیری سه بعدی یا آرایش هندسی مولکول‌ها را مطالعه نکرده‌اید. شکل هندسی مولکول عامل بسیار مهمی در تعیین خواص شیمیایی آن است. مولکول‌هایی که فرمول مولکولی به نسبت ساده‌ای دارند، شکل هندسی آنها هم ساده است. در مورد مولکول‌های دو اتمی مانند مولکول هیدروژن تنها یک شکل امکان‌پذیر است، شکل ۱۴. اما، در مورد مولکول‌هایی که بیش از دو اتم دارند، شکل هندسی مولکول پیچیده‌تر است. در چنین مواردی به اطلاعاتی بیش از فرمول مولکولی نیاز است.



شکل ۱۴ مولکول‌های دو اتمی مانند H<sub>2</sub> تنها یک شکل دارند.

معمولاً بین فرمول مولکولی یک ترکیب و شکل هندسی آن رابطه‌ی روشنی وجود ندارد. برای مثال، دو مولکول کربن دی‌اکسید، CO<sub>2</sub>، و گوگرد دی‌اکسید، SO<sub>2</sub>، را در نظر بگیرید.

در هر دو ترکیب سه اتم وجود دارد که دو اتم آن اکسیژن است. اما، همان طور که در شکل ۱۵ نشان داده شده است، این دو ترکیب شکل های هندسی متفاوتی دارند. چرا با وجود تشابه از نظر تعداد اتم ها، مولکول  $CO_2$  خطی و مولکول  $SO_2$  خمیده است؟ پاسخ را باید در آرایش الکترون های ظرفیت آنها، به ویژه جفت الکترون های ناپیوندی جست و جو کرد.



گوگرد دی اکسید

کربن دی اکسید


شکل ۱۵ اگرچه تعداد اتم ها در کربن دی اکسید و گوگرد دی اکسید یکسان است، اما شکل های متفاوتی دارند.

VSEPR که کوتاه شده عبارت زیر است:  
Valence Shell Electron Pairs Repulsion  
مدلی برای پیش بینی شکل مولکول است، با این فرض که قلمروهای الکترونی پیرامون اتم مرکزی، تمایل دارند تا آن جا که ممکن است از یکدیگر دور شوند.

یکی از نظریه هایی که برای پیش بینی شکل هندسی مولکول ها ارایه شده است، نظریه نیروی دافعه جفت الکترون های لایه ظرفیت (VSEPR) است. مطابق با این نظریه، نیروهای دافعه الکتروستاتیک موجود بین جفت الکترون های پیوندی یا ناپیوندی موجود در یک مولکول، موجب می شود که این جفت الکترون ها تا آن جا که امکان داشته باشد، از یکدیگر فاصله بگیرند. این جهت گیری جفت الکترون ها به گونه ای است که پایدارترین آرایش هندسی را برای مولکول فراهم می کند. آرایش ویژه ای از اتم ها که سبب می شود میان جفت الکترون های پیوندی و ناپیوندی مولکول کمترین دافعه وجود داشته باشد. در این روش برای سادگی به جای جفت الکترون های پیوندی و ناپیوندی از واژه **قلمرو الکترونی** استفاده می شود. قلمرو الکترونی مفهومی کلی تر است و به ناحیه ای در اطراف اتم مرکزی گفته می شود که الکترون ها - صرف نظر از تعداد - در آن جا حضور دارند. در این تعریف پیوندهای یگانه، دوگانه یا سه گانه، یک قلمرو به شمار می آید.


## آزمایش کنید

برای نشان دادن شکل هندسی مولکول ها می توان از بادکنک های باد شده استفاده کرد. چند بادکنک تهیه کنید و آزمایش های زیر را انجام دهید.  
۱- ابتدا دو بادکنک کوچک را به یک اندازه باد کنید. سپس با استفاده از نخ سر بادکنک ها را به یکدیگر ببندید به طوری که تا حد امکان آزاد اما به هم نزدیک باشند. بادکنک ها را روی پارچه پشمی بکشید تا بار الکتریکی پیدا کنند. سپس آنها را روی میز رها کنید تا آرایش ثابتی به خود بگیرند. بادکنک ها کدام یک از دو آرایش صفحه بعد را به خود خواهند گرفت؟



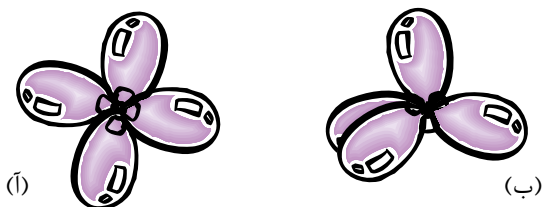
۲- اگر در آزمایش بالا از سه بادکنک استفاده کنید، کدام آرایش هندسی زیر برای آنها

مناسب‌تر است؟



۳- اگر چهار بادکنک را به یکدیگر گره بزنید، بادکنک‌ها کدام یک از آرایش‌های زیر

را اختیار می‌کنند؟



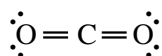
### چگونه شکل هندسی مولکول‌ها از روی ساختارهای لوویس آنها تعیین می‌شود؟

برای این کار به شیوه زیر عمل می‌شود.

- ۱- ساختار لوویس مولکول را رسم کنید.
- ۲- تعداد قلمروهای الکترونی در اطراف اتم مرکزی را معین کنید.
- ۳- آرایش هندسی مناسب را براساس تعداد قلمروهای الکترونی نتیجه بگیرید.

▲ دو قلمرو الکترونی: ساختار خطی

مولکول  $\text{CO}_2$  را که دارای ساختار لوویس زیر است، در نظر بگیرید:



دو قلمرو الکترونی در اطراف اتم مرکزی (C) وجود دارد.

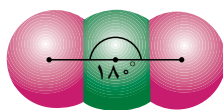
تنها جهت‌گیری ممکن که می‌تواند دو قلمرو الکترونی اطراف اتم کربن را تا حد

ممکن دور از یکدیگر قرار دهد، آرایش خطی است، شکل ۱۶.

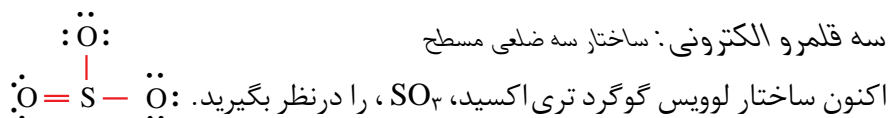
به زاویه‌ای که سه اتم متصل به هم با یکدیگر می‌سازند، زاویه پیوند می‌گویند. این زاویه حداکثر  $180^\circ$  است.



آیا خالق آفرینش نظم  
چینش ذره‌های بزرگ را  
همانند ذره‌های ریز قرار  
داده است؟

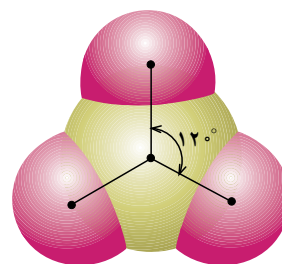


شکل ۱۶ مطابق نظریه VSEPR، مولکولی که دارای دو قلمرو الکترونی در اطراف اتم مرکزی است، آن گونه که برای کربن دی‌اکسید نشان داده شده است، آرایش خطی به خود می‌گیرد. آرایشی که در آن زاویه پیوند  $180^\circ$  است.



در  $SO_3$ ، سه قلمرو الکترونی در اطراف اتم مرکزی (S) وجود دارد. آرایش هندسی این مولکول در شکل ۱۷ نشان داده شده است. این شکل را آرایش سه ضلعی مسطح می‌نامند.

شکل ۱۷ در مولکولی مانند  $SO_3$ ، وقتی اتم مرکزی به وسیله سه اتم دیگر احاطه شده باشد و همه جفت الکترون‌ها از نوع پیوندی باشند، آرایش هندسی مولکول به صورت سه ضلعی مسطح است. زاویه پیوند در این آرایش  $120^\circ$  است.




### ▲ چهار قلمرو الکترونی: ساختار چهاروجهی

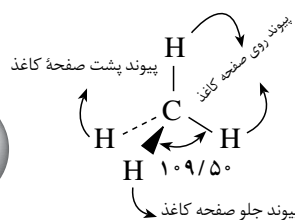
وضعیت مولکول‌هایی که مانند متان،  $CH_4$ ، چهار قلمرو الکترونی دارند، قدری پیچیده‌تر است، زیرا به جای یک شکل مسطح که بتوان آن را روی صفحه کاغذ نمایش داد، دارای یک شکل سه‌بُعدی موسوم به **چهاروجهی** است. چند شیوه نمایش متفاوت مولکول متان در شکل ۱۸ نشان داده شده است. این شکل را می‌توان به صورت سه‌پایه‌ای در نظر گرفت که پایه چهارمی به سمت بالا بر آن سوار شده است. در این نوع آرایش، جفت‌های الکترونی با یکدیگر زاویه‌ای برابر  $109/5^\circ$  دارند.



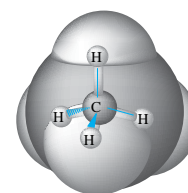
(آ)



(ب)



(پ)



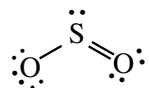
(ت)

### شکل ۱۸

(آ) مدل گلوله (نمادی برای نمایش اتم) و میله (نمادی برای نمایش پیوند کووالانسی)  
 (ب) مدل فضا پرکن  
 (پ) مدل خط چین (نمادی برای نمایش جهت گیری اتم - دور از بیننده) و گوه (نمادی برای نمایش جهت گیری اتم - نزدیک از بیننده)  
 (ت) نمایش مولکول متان با ادغام هر سه مدل



۴- در صورت وجود جفت الکترون های ناپیوندی زوایای پیوند را طوری تنظیم کنید تا برای قلمروهای الکترونی مربوط به جفت های ناپیوندی فضای بزرگ تری باز شود. اتم گوگرد در مولکول  $SO_2$ ، را در نظر بگیرید.




حول این اتم سه قلمرو الکترونی وجود دارد. از این رو ساختار آن در گروه سه ضلعی مسطح قرار می گیرد. در این ساختار قلمروهای الکترونی باهم زاویه  $120^\circ$  دارند. اما، یک جفت الکترون ناپیوندی در مقایسه با یک جفت الکترون پیوندی، فضای بیشتری را اشغال می کند، زیرا جفت الکترون ناپیوندی تنها تحت تأثیر یک هسته است، حال آن که جفت الکترون پیوندی تحت تأثیر دو هسته قرار دارد. در نتیجه، نیروی دافعه بین جفت های ناپیوندی - پیوندی اندکی بیشتر از نیروی دافعه بین جفت الکترون های پیوندی - پیوندی است. بر اثر این دافعه بیشتر، جفت الکترون های پیوندی کمی به سوی یکدیگر رانده می شوند. از این رو، زاویه پیوند در  $SO_2$  کمتر از  $120^\circ$  و شکل آن خمیده است. در مورد پیوندهای دوگانه و سه گانه نیز یک چنین اثری مشاهده می شود، زیرا قلمروهای الکترونی آنها، نسبت به قلمرو الکترونی پیوند یگانه (ساده) به فضای بیشتری نیاز دارند.

### نمونه حل شده

شکل هندسی مولکول های آمونیاک ( $NH_3$ ) و آب ( $H_2O$ ) را پیش بینی کنید.

۱- ساختارهای لوویس آنها را رسم می کنیم.



۲- در هر مورد تعداد قلمروهای الکترونی در اطراف اتم مرکزی را می شماریم.

● اتم N در  $NH_3$  سه پیوند با اتم های H و یک جفت الکترون ناپیوندی دارد. در مجموع چهار قلمرو الکترونی.

● اتم O در  $H_2O$  دو پیوند با اتم های H و دو جفت الکترون ناپیوندی دارد. در مجموع چهار قلمرو الکترونی.

۳- آرایش هندسی مناسب را براساس نظریه VSEPR تعیین می کنیم.

● قلمروهای الکترونی در هر دو اتم دارای آرایش چهار وجهی خواهند بود. در این ساختار زاویه پیوند حدود  $109.5^\circ$  است.

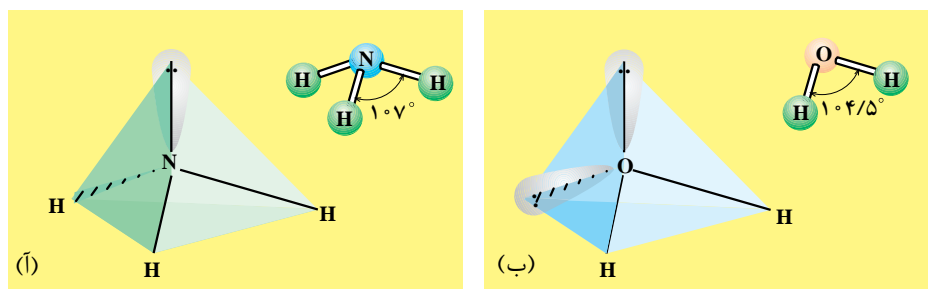
۴- وضعیت جفت الکترون های ناپیوندی را مشخص می کنیم.



● در مورد آمونیاک، چهاروجهی را مانند سه پایه ای در نظر بگیرید که پایه چهارمی به سمت بالا بر آن سوار شده است. اگر جفت الکترون ناپیوندی را پایه چهارم در نظر بگیریم، شکل هندسی به دست آمده یک هرم با قاعده سه ضلعی است، شکل آ.

● در مورد آب، شکل مولکول خمیده است، شکل ب. این شکل، بدون توجه به این که جفت الکترون های ناپیوندی کدام دو پایه چهاروجهی را اشغال کنند، با واقعیت سازگاری دارد.

● به علت دافعه میان جفت الکترون های ناپیوندی - ناپیوندی، ناپیوندی - پیوندی و پیوندی - پیوندی که به ترتیب مقدار نیروی دافعه ای میان آنها کاسته می شود، زاویه پیوند در آمونیاک و آب هر دو اندکی کوچک تر از  $90^\circ$  شده است. (زاویه پیوند در آمونیاک  $107^\circ$  و در آب  $104.5^\circ$  است.) این نیروهای دافعه ای را روی هر دو شکل زیر نشان دهید.



## خود را بیازمایید

شکل هندسی مولکول های زیر را پیش بینی کنید.



## چه نیرویی مولکول ها را کنار یکدیگر نگاه می دارد؟

پیش از این آموختید که به هنگام تشکیل پیوند کووالانسی، نیروی جاذبه ای قوی میان هسته یک اتم و الکترون های اتم دیگر عامل اصلی نزدیک شدن اتم ها به یکدیگر است. از آن جا که در مولکول ها یعنی مجموعه ای از اتم های متصل به هم نیز همواره چنین نیرویی میان هسته اتم های یک مولکول و الکترون های مولکول دیگر قابل تصور است، انتظار می رود که مولکول ها نیز یکدیگر را برابند. وجود این نیروها سبب می شود که مولکول ها بتوانند در کنار هم قرار بگیرند. از آن جا که خواص فیزیکی یک ماده به قدرت نیروهای

برهم کنش های جاذبه ای از نوع مولکول - مولکول را به افتخار یک فیزیک دان هلندی نیروهای وان دروالس نامیده اند.

جاذبه‌ای میان ذره‌های سازنده آن - در این جا مولکول‌ها - بستگی دارد، داشتن درکی از عوامل مؤثر بر افزایش نیروهای بین مولکولی امکان توجیه تفاوت مشاهده شده در خواص فیزیکی مواد گوناگون را میسر می‌سازد.

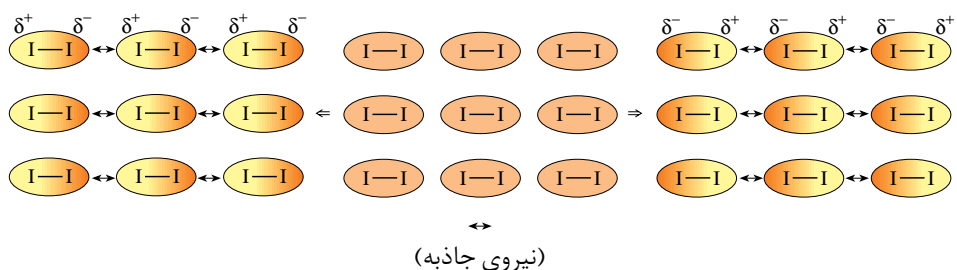
### توزیع ناهمگن الکترون‌ها روی مولکول، نیروهای بین مولکول را افزایش می‌دهد.

پیش از این با مفهوم پیوند قطبی و پیوند ناقطبی آشنا شدید. می‌دانید که در پیوندهای قطبی برخلاف پیوندهای ناقطبی الکترون‌ها به طور یکنواخت روی مولکول دو اتمی توزیع نمی‌شوند و وقت بیشتری را در اطراف اتم الکترون‌گاتر سپری می‌کنند. این توزیع ناهمگن الکترون‌ها می‌تواند یک مولکول دو اتمی را به یک دو قطبی تبدیل کند. چنین مولکولی **قطبی** می‌گویند.

وجود دو قطب مثبت و منفی دائمی در مولکول‌های قطبی بر نیروهای جاذبه‌ای موجود میان مولکول‌ها، نیروی جاذبه‌ای قوی‌تری را اضافه می‌کند. این درحالی است که مولکول‌های دو اتمی جور هسته مانند  $I_2$  که از جمله **مولکول‌های ناقطبی** به شمار می‌آیند، به همان نیروهای ضعیف وان دروالسی اکتفا می‌کنند.

### فکر کنید

۱- شکل زیر نیروهای ضعیف موجود میان مولکول‌های  $I_2$  به حالت جامد را نشان می‌دهد. ایجاد این نیروهای ضعیف جاذبه‌ای را که به نیروی جاذبه‌ای نشری لوندون معروف است، چگونه توجیه می‌کنید؟



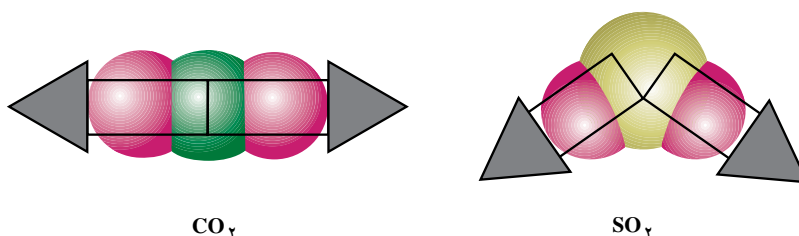
نیروهای وان دروالس با افزایش جرم مولکول‌ها افزایش می‌یابد. چرا؟

۲- از میان جفت گازهای ( $N_2$ ،  $CO$ ) و ( $Cl_2$ ،  $O_2$ ) کدام یک آسان‌تر به مایع تبدیل می‌شود؟ چرا؟

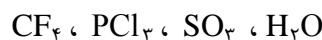
مولکول‌های چنداتمی نیز بسته به میزان قطبی بودن پیوندها و جهت‌گیری اتم‌ها در فضا (آرایش هندسی مولکول) می‌توانند قطبی یا ناقطبی باشند.

## پیش‌بینی کنید

مولکول‌های  $\text{CO}_2$  و  $\text{SO}_2$  را در نظر بگیرید. اگر جهت توزیع الکترون‌ها در هر پیوند قطبی را با یک پیکان نشان دهیم، توزیع الکترون‌ها روی مولکول‌های یادشده به صورت زیر خواهد بود.



- ۱- فرض کنید که هر پیکان جهت نیرویی را نشان می‌دهد که قصد داریم به کمک آن اتم مرکزی را از جای خود تکان دهیم، به نظر شما در کدام حالت اتم مرکزی تحت تأثیر هم‌زمان این نیروها جابه‌جا می‌شود؟ چرا؟
- ۲- اگر حرکت کردن اتم مرکزی در این مقایسه فرضی را به معنای توزیع غیر یکنواخت الکترون‌ها روی مولکول در نظر بگیریم، در این صورت کدام مولکول یک دوقطبی خواهد بود؟ قطب‌های مثبت و منفی این دو قطبی را مشخص کنید.
- ۳- با کمک روش بالا مولکول‌های زیر را در دو گروه قطبی و ناقطبی دسته‌بندی کنید.

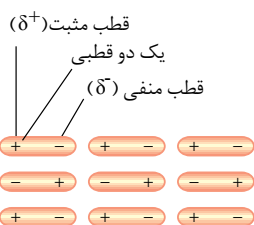


## پیوندهای هیدروژنی از جمله نیروهای بین مولکولی قوی به‌شمار می‌آیند.

آب خواص منحصر به فرد زیادی دارد که اجسام مشابه آن، مانند هیدروژن سولفید،  $\text{H}_2\text{S}$ ، از این خواص بی‌بهره‌اند، جدول ۷. نقطه‌های ذوب و جوش بسیار بالاتر آب نشان می‌دهد که نیروهای جاذبه دوقطبی - دوقطبی در مولکول‌های آب باید، خیلی قوی‌تر از نیروهای جاذبه‌ای مشابه بین مولکول‌های  $\text{H}_2\text{S}$  باشد.

جدول ۷ ویژگی‌های آب و هیدروژن سولفید

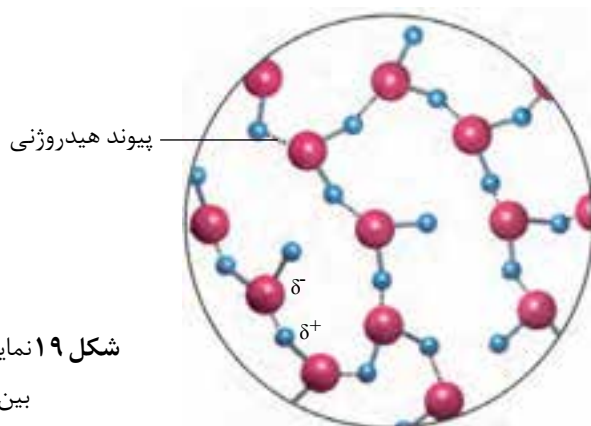
ماده	مدل فضا پرکن	فرمول مولکولی	نقطه ذوب (°C)	نقطه جوش (°C)
آب		$\text{H}_2\text{O}$	۰/۰	۱۰۰/۰
هیدروژن سولفید		$\text{H}_2\text{S}$	-۸۵/۵	-۶۰/۳



به نیروهای جاذبه‌ای میان مولکول‌های قطبی نیروهای دوقطبی - دوقطبی می‌گویند.

پیوند هیدروژنی نوعی نیروی جاذبه دوقطبی - دوقطبی است.

هنگامی که هیدروژن، یعنی کوچک‌ترین اتم شناخته شده، به فلئوئر، اکسیژن یا نیتروژن (کوچک‌ترین و الکترون‌گاتیبترین اتم‌ها) متصل شود پیوندی بسیار قطبی به وجود می‌آید که مقدار بارهای جزئی دو اتم درگیر در این پیوند به ویژه اتم کوچک هیدروژن بسیار چشمگیر خواهد بود. همان‌طور که می‌دانید هر اندازه مقدار بارهای الکتریکی ناهم‌نام بیشتر باشد، نیروی جاذبه بین آنها نیز قوی‌تر خواهد بود. از این رو یک جاذبه دوقطبی - دوقطبی بسیار قوی میان مولکول‌های دارای این گونه پیوندها به وجود می‌آید که به خاطر استحکام بیش از اندازه آن پیوند هیدروژنی نامیده می‌شود.



شکل ۱۹ نمایش پیوند هیدروژنی موجود بین مولکول‌های آب

$\delta$  (دلتا)، نمادی برای نمایش مقدار بار الکتریکی جزئی است. باری کمتر از واحد بار الکتریکی.

واژه پیوند هیدروژنی گمراه‌کننده است، زیرا این نوع نیروی جاذبه، مانند دیگر نیروهای جاذبه بین مولکولی، بسیار ضعیف‌تر از پیوندهای کووالانسی بین اتم‌هاست.

## فکر کنید

با دقت به شکل زیر نگاه کنید. روند تغییر نقطه جوش ترکیب‌های هیدروژن‌دار نشان داده شده را چگونه توجیه می‌کنید؟

