

واحد گزیر

توانایی تشخیص و ایجاد انواع حجم



واحد کار ۶

توانایی تشخیص و ایجاد انواع حجم

ساعت	
عملی	نظری
۱۰	۴

اهداف رفتاری:

از هنرجو انتظار می‌رود در پایان این واحد کار:

- با مفهوم حجم آشنا شود.
- احجام پایه را نام ببرد.
- حجم مجازی را تعریف کند
- با چگونگی ایجاد احجام به وسیله‌ی اشکال ساده‌ی هندسی آشنا شود.
- با ایجاد تاریک - روشن به وسیله‌ی نقطه، خط و سطح حجم مجازی به وجود آورد.

مقدمه:

همان گونه که از حرکت خط در فضا سطح به وجود می‌آید از حرکت سطح در فضا بعد سوم که همان حجم است ایجاد می‌شود. حجم خواه به صورت شکل مجردی در فضا یا به صورت مجسمه، معماری یا وسایل روزمره‌ی کاربردی به وسیله‌ی نور تعریف می‌گردد و این نور است که امکان دیدن آن را میسر می‌سازد. حتی می‌توان چنین عنوان کرد که اگر فضا توسط حجم تعریف می‌گردد، هویت حجم به وسیله‌ی نور تعیین می‌شود.

۱-۶ حجم

همان گونه که از حرکت خط در فضا، سطح به وجود می‌آید از حرکت سطح در فضا بعد سوم که همان حجم است ایجاد می‌شود. به اجسامی که دارای سه بعد (طول، عرض و ارتفاع) باشد حجم گفته می‌شود. معمولاً همه‌ی اشیای مادی در طبیعت دارای حجم هستند. اگر چه برخی از آن‌ها ممکن است علاوه بر طول و عرض دارای ضخامت، عمق یا ارتفاع بسیار کمی باشند که بخشی از فضا را اشغال می‌کنند.

۲-۶ حجم‌های پایه

همان طور که سه شکل دایره، مربع و مثلث به عنوان اشکال پایه برای سطح نام برده شدند کره، مکعب و هرم را نیز می‌توان به عنوان احجام هندسی پایه نام برد. این سه نوع حجم به طور کاملاً منظم به ندرت در طبیعت دیده می‌شوند. اما به‌طور کلی همه حجم‌های طبیعت از ترکیب یا تغییر شکل این سه حجم پایه و هندسی به‌وجود می‌آیند.

۳-۶ ایجاد حجم‌ها با استفاده از اشکال ساده‌ی هندسی

چنانکه گفتیم سطوح اصلی عبارتند از: مثلث، مربع و دایره. هر کدام از این شکل‌ها که حول محور عمودی بچرخند حجم‌هایی به وجود می‌آورند که احجام افلاطونی نام دارد.

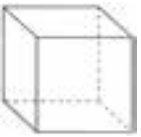
۱-۳-۶ کره

حجم کره بر اثر گردش دورانی دایره حول قطر آن به وجود می‌آید. این حجم در تمام شرایط متعادل است ولی هرگاه بر سطح شیب‌دار قرار گیرد به شدت ناپایدار خواهد بود.



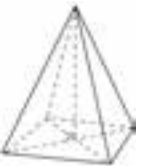
۲-۳-۶ مکعب

از حرکت مربع در امتداد سطح خود در فضا مکعب به وجود می‌آید. این حجم در صورتی که بر یکی از سطوح‌اش بر روی زمین قرار گیرد کاملاً متعادل است. این حجم نمادی از خانه و کل زندگی و القا کننده‌ی حس امنیت است.



۳-۳-۶ هرم

حجم هرم از مثلث به وجود می‌آید. این حجم دارای سطوح مستوی است و در صورتی که بر روی هر یک از سطوح خود قرار گیرد تعادل دارد. هرم با توجه به قاعده‌ی مربع شکل خود دارای پنج سطح است.



۴-۳-۶ مخروط

مثلث اولین شکل افلاطونی است که هرگاه حول محور عمودی خود بچرخد حجم مخروط را به وجود می‌آورد. این حجم فقط دارای دو سطح قاعده و سطح جانبی است.



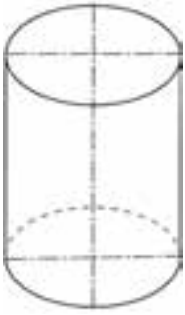
۵-۳-۶ استوانه

این حجم از دو طریق به وجود می‌آید.

۱- از حرکت دایره در امتداد محور مرکزی

۲- از حرکت دورانی مربع یا مربع مستطیل

استوانه دارای سه سطح است: سطح تختانی، فوقانی و سطح مدور جانبی



۴-۶ حجم مجازی (غیر واقعی)

حجم ممکن است از حرکت سریع و چرخشی یک سری نقطه، خط یا سطح به وجود آید. این گونه حجم‌ها را که با دست قابل لمس نیست و فقط جنبه‌ی بصری دارد و با چشم دیده می‌شود حجم مجازی می‌نامند.

حجم مجازی نمایش حجم سه بعدی بر روی سطح دو بعدی است و برای نمایش آن غالباً از پرسپکتیو و سایه روشن استفاده می‌شود.



۵-۶ ایجاد تاریک - روشن با استفاده از نقطه

تعداد زیادی نقطه‌ی هم اندازه با فاصله‌های مکانی متفاوت، تاریک - روشن ایجاد می‌کنند. بخشی که در آن تعداد نقطه‌ها کم است، روشن تر و قسمتی که تعداد نقطه‌های آن بیشتر است تیره تر به نظر می‌آید.

با نقطه‌هایی با اندازه‌های متفاوت و تراکم معین هم می‌توان تاریک - روشن ایجاد نمود. به این معنی که تعداد نقطه‌ها در قسمت تاریک و روشن با هم برابر است اما بخش‌هایی که نقاط ریزتری دارند، از قسمت‌هایی که نقاط درشتی دارند، روشن تر به نظر می‌رسند.

با تلفیق دو روش بالا نیز می‌توان تاریک - روشن ایجاد نمود.



۶-۶ ایجاد تاریک - روشن با استفاده از خط

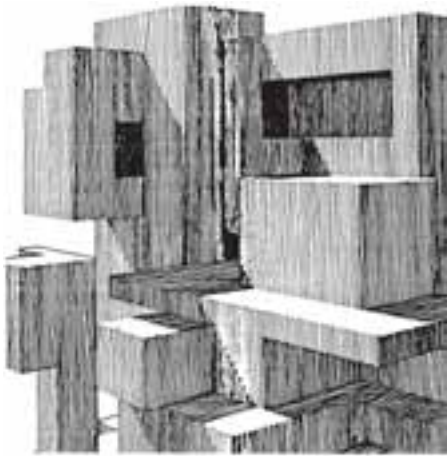
به کمک خطوط و با استفاده از تغییر فواصل آنها نیز می‌توان تاریک - روشن ساخت. هر چه خطوط را به یکدیگر نزدیک کنیم از نظر بصری تیرگی بیشتری ایجاد می‌گردد و برعکس هر چه فواصل بین خطوط بیشتر باشد، محیط روشن تر دیده می‌شود.

خطوط با اندازه‌های متفاوت و با فواصل ثابت نیز تاریک - روشن ایجاد می‌کنند.


تاریک - روشن به وسیله‌ی سطح نیز ایجاد می‌شود.

خطوط با اندازه‌های متغیر و با فواصل ثابت نیز همان تاثیر را ارائه می‌دهند.

تیرگی - روشنی به وسیله‌ی سطح نیز ایجاد می‌شود.



ایجاد تیرگی - روشنی با استفاده از خط



ایجاد تیرگی - روشنی با استفاده از خط و سطح



وزارت فرهنگ و ارشاد اسلامی

طراح امور گرافیکی با رایانه

شماره استاندارد: ۸۷-۲/۱۵-۱۵-ف - ه


وزارت کار و امور اجتماعی

طراح گرافیک رایانه‌ای

شماره استاندارد: ۱۳/۵۱/۶۶-۱

به طور خلاصه می‌توان چنین عنوان کرد که :

- حجم دارای طول، عرض و عمق است. فضا را اشغال می‌کند و از این طریق فضای سه بعدی تعریف می‌گردد.
 - زاییده‌ی ذهن و دست انسان است.
 - جنبه‌ی ملموس بودن در آن مطرح است.
 - نور نقش تعیین کننده‌ای در بیان آن دارد.
- عناصر موجود در پوستر مقابل طراحی آقای مرتضی ممیز را با توجه به آنچه در مورد تمرین عناصر بصری و مفاهیم آن‌ها خوانده‌اید معرفی کنید.



نمونه‌ی کار: برای مشاهده‌ی نمونه‌ی کارهای حجم به CD تمرینات و پوشه
mabani\hajm مراجعه کنید.

خلاصه ی مطالب

همان گونه که از حرکت خط در فضا، سطح به وجود می آید از حرکت سطح در فضا بعد سوم که همان حجم است ایجاد می شود.

به اجسامی که دارای سه بعد (طول، عرض و ارتفاع) باشد، حجم گفته می شود.

کره، مکعب و هرم حجم های هندسی پایه هستند.

حجم هایی را که با دست قابل لمس نیست و فقط جنبه ی بصری دارد و با چشم دیده می شود، حجم مجازی می نامند.

حجم مجازی نمایش حجم سه بعدی بر روی سطح دو بعدی است و برای نمایش آن غالباً از پرسپکتیو و سایه روشن استفاده می شود.

نور نقش تعیین کننده ای در بیان حجم دارد

خودآزمایی

- ۱- حجم را تعریف کنید.
- ۲- حجم‌های پایه را نام ببرید.
- ۳- حجم مخروط از کدام شکل هندسی به وجود می‌آید؟
- ۴- حجم مجازی چیست؟
- ۵- ایجاد تاریک - روشن با نقطه را توضیح دهید.

تمرین

- ۱- حجم‌های پایه را در یک صفحه‌ی A4 طراحی کنید.
- ۲- با استفاده از خطوط با ضخامت‌های متفاوت در یک کادر 10×10 حجم مجازی ایجاد کنید.
- ۳- به وسیله‌ی نقطه‌هایی با اندازه‌های یکسان در یک کادر 10×10 حجم مجازی ایجاد کنید.
- ۴- احجامی را که در اطراف خود می‌بینید در یک صفحه‌ی A4 طراحی کنید.

پرسش‌های چهارگزینه‌ای

- ۱- حجم‌های پایه کدامند؟
 الف) کره - مکعب - منشور
 ب) استوانه - هرم - مخروط
 ج) کره - مکعب - هرم
 د) مکعب - مخروط - منشور
- ۲- حجم‌هایی را که فقط جنبه‌ی بصری دارد و با چشم دیده می‌شود می‌نامند.
 الف) حجم واقعی
 ب) حجم مجازی
 ج) حجم بسته
 د) حجم باز
- ۳- هویت حجم به وسیله‌ی کدام یک از عوامل زیر تعریف می‌شود؟
 الف) سطح
 ب) تیرگی - روشنی
 ج) نور
 د) خط
- ۴- از حرکت مربع در امتداد سطح خود در فضا کدام حجم به وجود می‌آید؟
 الف) مخروط
 ب) مکعب
 ج) هرم
 د) استوانه
- ۵- برای نمایش حجم مجازی کدام عوامل مورد استفاده قرار می‌گیرد؟
 الف) پرسپکتیو - سایه روشن
 ب) یافت - سطح
 ج) سایه روشن - بافت
 د) پرسپکتیو - بافت