

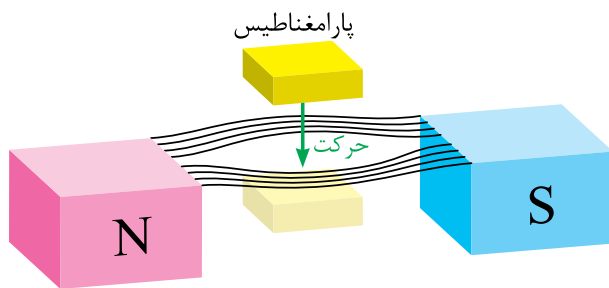
کمی از یک بیش تر است. آلومینیم، هوا و پلاتین از این مواد هستند.

مواد پارامغناطیس، مولکول‌های مغناطیسی ضعیفی دارند؛ هنگامی که مواد پارامغناطیس در میدان مغناطیسی آهن‌ربای قوی مطابق شکل (۴۱ - ۱) قرار می‌گیرند:

- مولکول‌های مغناطیسی آن‌ها می‌کوشند تا در جهت میدان مغناطیسی منظم شوند.

- به طرف ناحیه قوی میدان مغناطیسی کشیده می‌شوند. عامل این حرکت نیروی جاذبه بین مولکول‌های مغناطیسی این مواد و میدان مغناطیسی است.

- به آهن‌ربا تبدیل می‌شوند و با خروج از میدان مغناطیسی، خاصیت آهن‌ربایی خود را از دست می‌دهند.

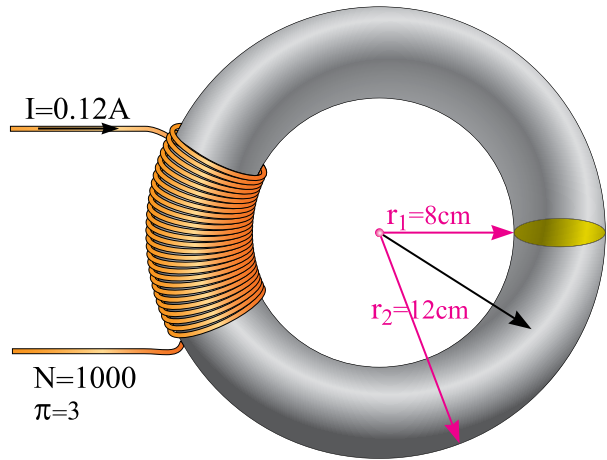


شکل ۴۱ - ۱

### ۳ - ۱۶ - ۱ - مواد فرومغناطیسی

ضریب نفوذ مغناطیسی نسبی  $\mu_r$  مواد فرومغناطیس بین ۲۰۰۰ تا ۸۰۰۰۰ است. آهن و آلیاژهای آن از این مواد هستند.

مواد فرومغناطیسی مولکول‌های مغناطیسی بسیار قوی دارند. هنگامی که مواد فرومغناطیس در میدان مغناطیسی آهن‌ربای قوی قرار می‌گیرند:



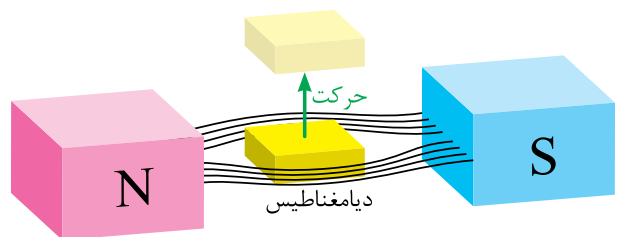
شکل ۳۹ - ۱

### ۱ - ۱۶ - ۱ - مواد دیامغناطیس

ضریب نفوذ مغناطیسی نسبی  $\mu_r$  مواد دیامغناطیس کمی کمتر از یک می‌باشد. جیوه، نقره، قلع و آب از این مواد هستند.

در مواد دیامغناطیس مولکول‌های مغناطیسی بوجود نمی‌آید. هنگامی که مواد دیامغناطیس در میدان مغناطیسی آهن‌ربای قوی مطابق شکل (۴۰ - ۱) قرار می‌گیرند:

- فوران مغناطیسی را از خود عبور نمی‌دهند.  
- میدان مغناطیسی را غیر یکنواخت می‌کنند.  
- از طرف میدان مغناطیسی دفع می‌شوند.



شکل ۴۰ - ۱

### ۲ - ۱۶ - ۱ - مواد پارامغناطیس

ضریب نفوذ مغناطیسی نسبی  $\mu_r$  مواد پارامغناطیس

- مولکول‌های مغناطیسی آن‌ها در جهت میدان مغناطیسی منظم می‌شوند و به بالاترین درجه هم‌سوئی می‌رسند.

- به طرف ناحیه قوی میدان مغناطیسی کشیده می‌شوند و جذب قطب‌ها می‌شوند.

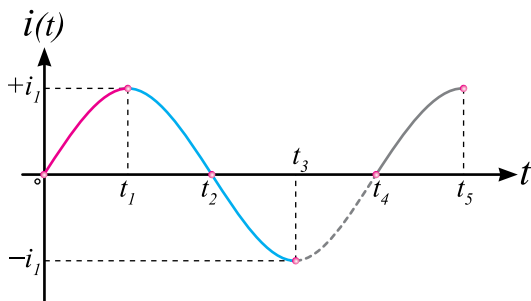
- به آهن‌ربا تبدیل می‌شوند و با خروج از میدان مغناطیسی، خاصیت آهن‌ربایی خود را از دست نمی‌دهند.

اگر دمای مواد فرومغناطیس از یک مقدار معین که دمای «کوری»<sup>۱</sup> نامیده می‌شود بالاتر برود هم‌سوئی مولکول‌های مغناطیسی از بین می‌رود و این مواد پارامغناطیس می‌شوند.<sup>۲</sup>

در جدول (۱ - ۱) ضریب نفوذ مغناطیسی نسبی  $\mu_r$  چند نمونه از مواد در ناحیه اشباع نشده با یکدیگر مقایسه شده‌اند.

مواد دیامغناطیس		مواد پارامغناطیس		مواد فرومغناطیس	
$\mu_r$	ماده	$\mu_r$	ماده	$\mu_r$	ماده
۰/۹۹۹۷۵	جیوه	۱/۰۰۰۰۰۰۴	هوا	۶۰۰۰ تا	آهن بدون آلیاژ
۰/۹۹۹۹۸۱	نقره	۱/۰۰۰۰۰۰۳	اکسیژن	۶۵۰۰ تا	فولاد الکتریکی
۰/۹۹۹۸۸	قلع	۱/۰۰۰۰۰۲۲	آلومینیم	۳۰۰۰۰۰	آهن نیکل آلیاژ
۰/۸۹۹۹۱	آب	۱/۰۰۰۰۳۶	پلاتین	۱۰۰۰۰	فریت مغناطیسی

جدول ۱-۱

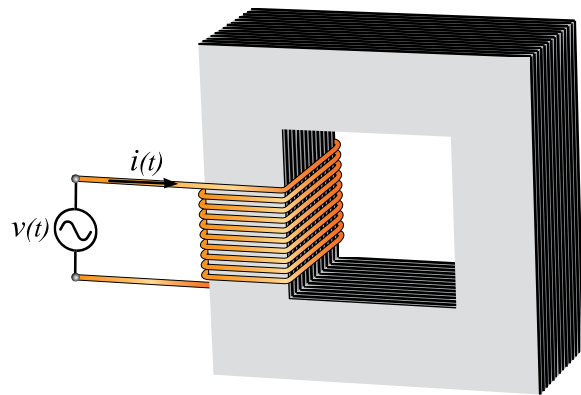


شکل ۱-۴۳

با فرض این که هسته در ابتدا مغناطیس نشده است، شدت میدان  $H$  توسط جریان الکتریکی  $i(t)$  که به آرامی افزایش می‌یابد، زیاد می‌شود؛ لذا چگالی فوران مغناطیسی  $B$  هسته مطابق منحنی مغناطیسی  $o a$  در شکل (۴۴ - ۱) تغییر خواهد کرد.  $B_1$  چگالی فوران مغناطیسی نقطه  $a$  مربوط به شدت میدان مغناطیسی  $H_1$  متناظر با  $i_1$  است.

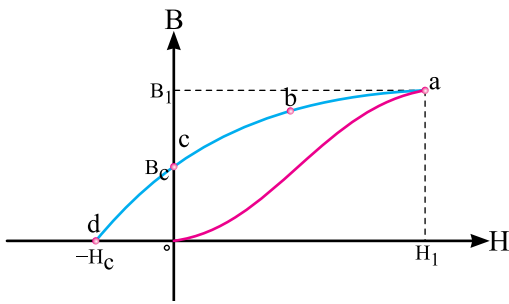
## ۱۷ - ۱ - حلقه هستی‌ترزیس

سیم‌پیچی با هسته فرومغناطیس متصل به یک منبع متناوب سینوسی در شکل (۴۲ - ۱) نشان داده شده است، که از آن جریان الکتریکی متناوب  $i(t)$  به شکل موج (۴۳ - ۱) می‌گذرد.



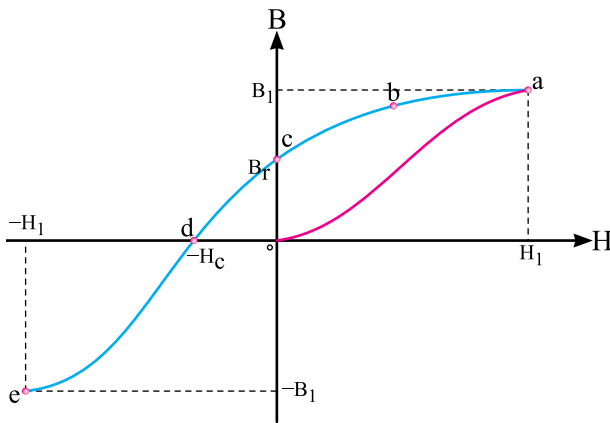
شکل ۱-۴۲

۲. برای آهن دمای کوری ۱۰۴۳ درجه کلوین است.



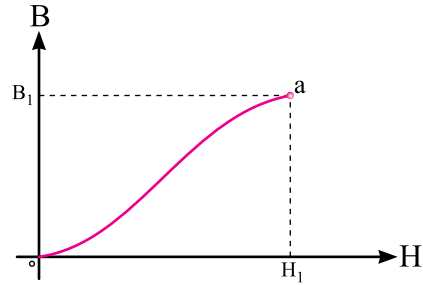
شکل ۱-۴۶

با افزایش شدت میدان مغناطیسی  $H$  در جهت وارونه، چگالی فوران مغناطیسی  $B$  هسته مطابق منحنی  $de$  در شکل (۱-۴۷) تغییر خواهد کرد.



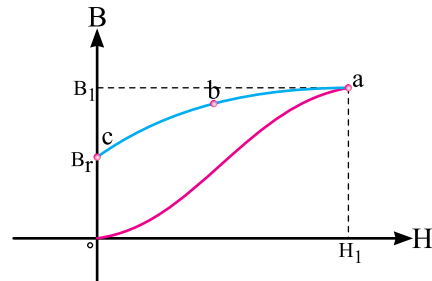
شکل ۱-۴۷

چگالی فوران مغناطیسی  $-B_1$  در نقطه  $e$  مربوط به شدت میدان مغناطیسی  $-H_1$  متناظر با  $-i_1$  است. بعد از زمان  $t_3$  با تغییر جریان الکتریکی  $i(t)$  شدت میدان مغناطیسی  $H$  تغییر خواهد کرد و منحنی  $B-H$  مسیر  $ef$  را مطابق شکل (۱-۴۸) دنبال خواهد کرد. تا با صفر شدن جریان الکتریکی در  $t_4$  شدت میدان مغناطیسی  $H$  صفر می شود و چگالی فوران مغناطیسی به  $-B_r$  می رسد.



شکل ۱-۴۴

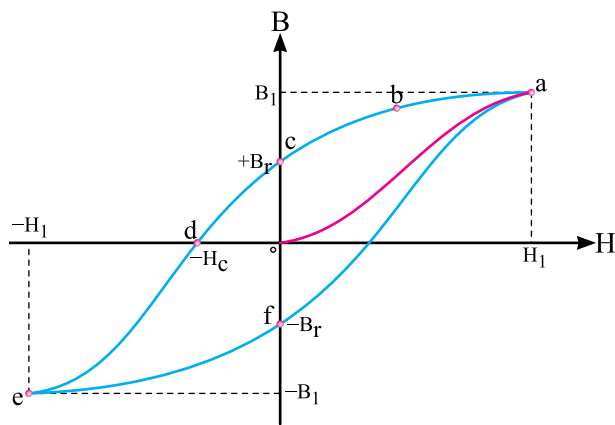
بعد از زمان  $t_1$  جریان الکتریکی  $i(t)$  رو به کاهش می گذارد و متناظر با آن شدت میدان مغناطیسی  $H$  نیز کاهش می یابد و منحنی مغناطیسی مسیر  $abc$  را مطابق شکل (۱-۴۵) دنبال خواهد کرد.



شکل ۱-۴۵

با صفر شدن جریان در  $t_4$  شدت میدان مغناطیسی  $H$  صفر می شود اما چگالی فوران مغناطیسی هسته به  $B_r$  می رسد. چگالی فوران مغناطیسی  $B_r$  «پس ماند» هسته نامیده می شود.

بعد از زمان  $t_4$  جهت جریان الکتریکی  $i(t)$  سیم پیچ معکوس می شود؛ لذا شدت میدان مغناطیسی  $H$  وارونه می گردد. چگالی فوران مغناطیسی  $B_r$  در هسته کاهش می یابد و در مقداری از  $H$  مثلاً  $-H_c$  از میان خواهد رفت و صفر می شود. شدت میدان مغناطیسی  $-H_c$  که پس ماند هسته  $B_r$  را از بین می برد، «شدت میدان مغناطیسی خنثی کننده» نامیده می شود. شکل (۱-۴۶)

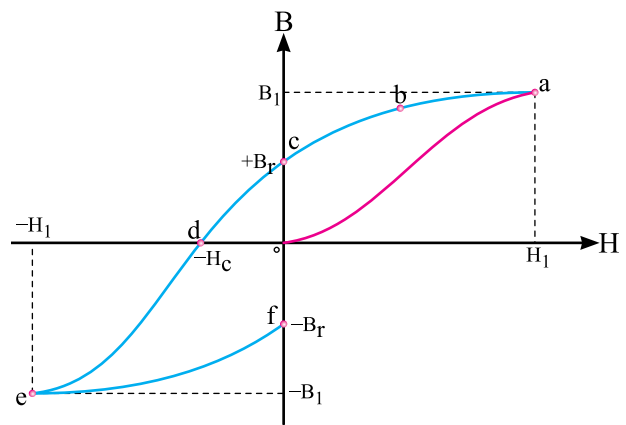


شکل ۱-۵۰

حلقه پس ماند یا هیستریزیس نشان می دهد:  
 - رابطه بین چگالی فوران مغناطیسی B و شدت مغناطیسی H غیر خطی و چند مقداری است.  
 - اگر چه جریان الکتریکی سیم پیچ در نقاط C و F صفر است، اما هسته مغناطیس می باشد و دارای پس ماند مغناطیسی است.

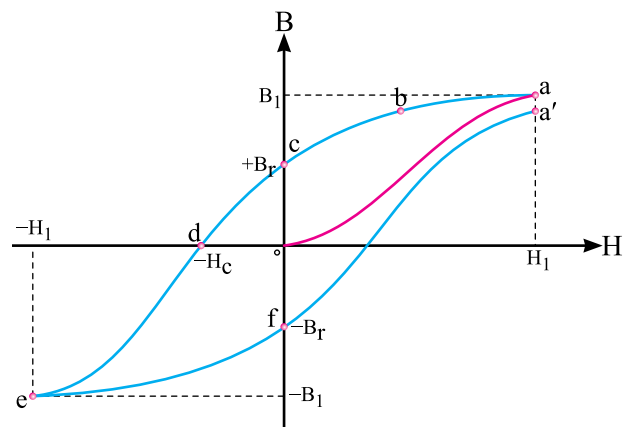
- به ازای یک حلقه هیستریزیس، جهت شدت میدان مغناطیسی هسته عوض می شود؛ لذا مولکول های مغناطیسی هسته می گردند و جهت میدان مغناطیسی در هسته تغییر می کند.

به ازای هر سیکل جریان الکتریکی سیم پیچ، یک بار حلقه هیستریزیس تکرار می شود. بنابراین در هر ثانیه تعداد حلقه های هیستریزیس با فرکانس جریان برابر خواهد شد. بدین ترتیب متناسب با فرکانس جریان سیم پیچ، جهت میدان مغناطیسی در هسته تغییر می کند. مقدار انرژی که در یک ثانیه صرف تغییر جهت میدان مغناطیسی در هسته می شود را «تلفات هیستریزیس» تعریف می کنند. تلفات هیستریزیس به صورت حرارت در هسته ظاهر می شود و تابع فرکانس جریان الکتریکی



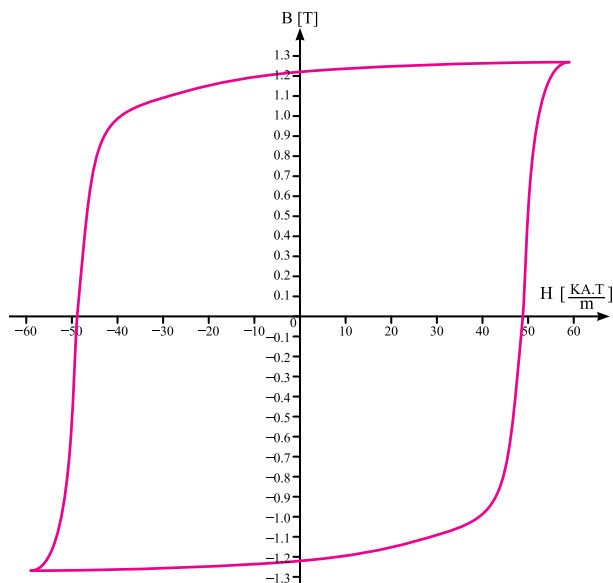
شکل ۱-۴۸

بعد از زمان  $t_f$  جهت جریان الکتریکی  $i(t)$  در سیم پیچ معکوس می شود و شدت میدان مغناطیسی H نیز وارونه می گردد و افزایش می یابد در این صورت منحنی B-H مسیر  $fga$  را طی خواهد کرد. شکل (۱-۴۹)



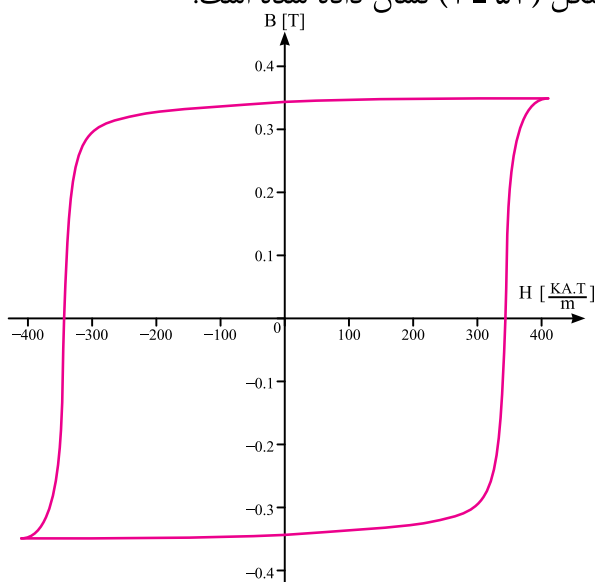
شکل ۱-۴۹

باید دانست حلقه منحنی مغناطیسی بسته نمی شود و پس از چند سیکل مغناطیس شدن هسته حلقه تقریباً بسته می شود. این شکل به «حلقه پس ماند» یا «حلقه هیستریزیس<sup>۱</sup>» معروف است. شکل (۱-۵۰)



شکل ۵۲-۱

در مدارهای مغناطیسی که در فرکانس‌های رادیویی و مخابراتی کار می‌کنند، جنس هسته از مواد فرومغناطیس سرامیکی موسوم به «فریت»<sup>۵</sup> انتخاب می‌شود. فریت از ترکیب اکسید آهن و پودرهای کربنات باریوم یا استرونیوم ساخته می‌شود. چگالی فوران مغناطیسی پس‌ماند  $B_r$  در فریت کم‌تر از النیکو است اما شدت میدان خنثی‌کننده  $H_c$  در فریت بیش‌تر از النیکو می‌باشد. حلقه هیستریزس فریت استرونیوم در شکل (۱-۵۳) نشان داده شده است.

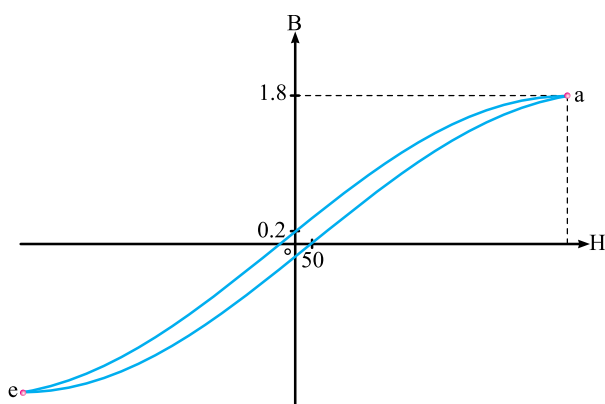


شکل ۵۳-۱

سیم‌پیچ است و متناسب با مساحت حلقه هیستریزس می‌باشد. بدیهی است در جریان الکتریکی مستقیم هسته تلفات هیستریزس ندارد. چرا؟

در ماشین‌های الکتریکی، ترانسفورمرها و آهن‌رباهای موقتی جنس هسته از مواد فرومغناطیسی موسوم به «آهن نرم»<sup>۱</sup> انتخاب می‌شود.

چگالی فوران مغناطیسی پس‌ماند  $B_r$  در آهن نرم بسیار کم است لذا تلفات هیستریزس در آن‌ها کاهش می‌یابد. حلقه هیستریزس آهن نرم وسیع نیست و شدت میدان خنثی‌کننده  $H_c$  نسبتاً کوچکی دارند. شکل (۱-۵۱).



شکل ۵۱-۱

در آهن‌رباهای دائمی<sup>۲</sup> جنس هسته غالباً آلیاژی از آهن، نیکل و کبالت موسوم به «آهن سخت»<sup>۳</sup> انتخاب می‌شود. یک دسته از این آلیاژها «النیکو»<sup>۴</sup> است که چگالی فوران مغناطیسی پس‌ماند  $B_r$  آن‌ها بسیار زیاد می‌باشد. حلقه هیستریزس آهن سخت وسیع است و شدت میدان خنثی‌کننده  $H_c$  نسبتاً بزرگی دارند. هیستریزس النیکو<sup>۵</sup> در شکل (۱-۵۲) نشان داده شده است.

## پرسش ۵-۱

### پرسش‌های کامل کردنی

- ۱ - ضریب نفوذ مغناطیسی مواد فرومغناطیسی بین ..... تا ..... است.
- ۲ - در ماشین‌های الکتریکی جنس هسته از ..... موسوم به ..... انتخاب می‌شود.
- ۳ - در آهن‌رباهای ..... جنس هسته از ..... انتخاب می‌شود.
- ۴ - در مدارهای مغناطیسی مخابراتی جنس هسته از ..... موسوم به ..... انتخاب می‌شود.
- ۵ - ضریب نفوذ مغناطیسی نسبی مواد دیامغناطیس ..... است.
- ۶ - ضریب نفوذ مغناطیسی نسبی مواد پارامغناطیس ..... است.
- ۷ - تلفات هیستریزس تابع ..... و ..... سیم‌پیچ است.

### پرسش‌های صحیح غلط

- ۱ - در مواد دیامغناطیس مولکول‌های مغناطیسی به وجود نمی‌آیند.
 

<input type="checkbox"/> غلط	<input type="checkbox"/> صحیح
------------------------------	-------------------------------
- ۲ - مواد پارامغناطیس، مولکول‌های مغناطیسی ضعیفی ندارند.
 

<input type="checkbox"/> غلط	<input type="checkbox"/> صحیح
------------------------------	-------------------------------
- ۳ - تلفات هیستریزس به صورت حرارت در هسته ظاهر می‌شود.
 

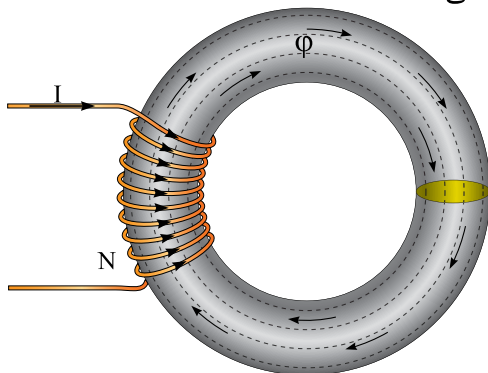
<input type="checkbox"/> غلط	<input type="checkbox"/> صحیح
------------------------------	-------------------------------

## پرسش‌های تشریحی

- ۱ - رفتار مواد پارامغناطیس در میدان مغناطیسی را شرح دهید.
- ۲ - رفتار مواد فرومغناطیس در میدان مغناطیسی را شرح دهید.
- ۳ - چند نمونه از مواد دیا، پارا و فرومغناطیس را نام ببرید.
- ۴ - دمای کوری را تعریف کنید.
- ۵ - شدت میدان خنثی‌کننده را تعریف کنید.
- ۶ - چگالی فوران مغناطیسی پس‌ماند را تعریف کنید.
- ۷ - تلفات هیستریزس را تعریف کنید.
- ۸ - ویژگی‌های مغناطیسی آهن سخت را بنویسید.
- ۹ - حلقه هیستریزس در مواد مغناطیسی را با یک‌دیگر مقایسه کنید.

## ۱۸-۱ - مدارهای مغناطیسی

- در شکل (۵۴ - ۱) شدت جریان الکتریکی  $I$  سیم‌پیچی در هسته فرومغناطیس فوران مغناطیسی  $\phi$  جاری می‌کند.



شکل ۵۴-۱ مدار مغناطیسی

- این پدیده از بعضی جهات مشابه جریان الکتریکی است که یک باتری در هادی جاری می‌کند. شکل (۵۵ - ۱)

$\phi$  مدار مغناطیسی  $\longleftrightarrow$  مشابه  $I$  مدار الکتریکی

- هادی در مدار الکتریکی مسیری برای عبور جریان الکتریکی است و از خود در مقابل عبور جریان الکتریکی «مقاوت الکتریکی»<sup>۵</sup> نشان می‌دهد و هسته در مدار مغناطیسی نیز مسیری برای عبور فوران مغناطیسی است و از خود در مقابل عبور فوران مغناطیسی «مقاومت مغناطیسی»<sup>۶</sup> نشان می‌دهد. بنابراین مقاومت مغناطیسی  $\mathcal{R}$  و مقاومت الکتریکی  $R$  شبیه به یکدیگر می‌باشد؛ یعنی:

$\mathcal{R}$  مدار مغناطیسی  $\longleftrightarrow$  مشابه  $R$  مدار الکتریکی

بین کمیت‌های ولتاژ، جریان و مقاومت در یک مدار الکتریکی قانون اهم رابطه (۱۴ - ۱) را ارایه کرده است:

$$R = \frac{E}{I} \quad (1 - 14)$$

با توجه به شباهت‌های میان کمیت‌های الکتریکی و مغناطیسی می‌توان قانون اهم را برای یک مدار مغناطیسی به صورت رابطه (۱۵ - ۱) نوشت:

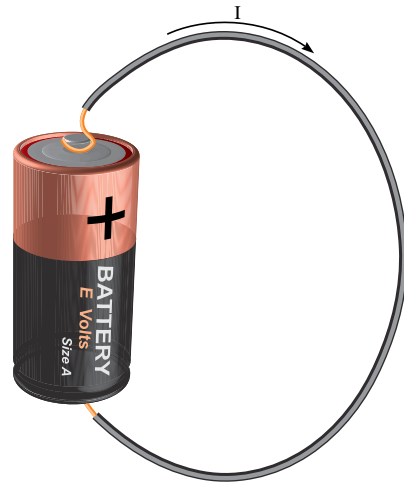
$$\mathcal{R} = \frac{\theta}{\phi} \quad (1 - 15)$$

در این رابطه:

$\theta$  نیروی محرکه مغناطیسی سیم‌پیچ بر حسب [A.T]

$\phi$  فوران مغناطیسی هسته بر حسب [wb]

$\mathcal{R}$  مقاومت مغناطیسی هسته بر حسب  $\left[ \frac{A.T}{wb} \right]$



شکل ۵۵ - ۱ مدار الکتریکی

همان‌طور که اتصال هادی به باتری، مسیر بسته‌ای برای جاری شدن جریان فراهم می‌کند را «مدار الکتریکی»<sup>۱</sup> می‌نامند، مسیر بسته‌ای که فوران مغناطیسی در آن برقرار می‌شود «مدار مغناطیسی»<sup>۲</sup> نامیده می‌شود.

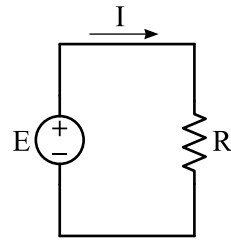
وجه تشابه مدار مغناطیسی شکل (۵۴ - ۱) با مدار الکتریکی شکل (۵۵ - ۱) عبارت است از:

- «نیروی محرکه الکتریکی»<sup>۳</sup> باتری  $E$  عامل جاری شدن جریان الکتریکی در هادی است و «نیروی محرکه مغناطیسی»<sup>۴</sup> سیم‌پیچ  $\theta$  عامل جاری شدن فوران مغناطیسی در هسته است. بنابراین عملکرد نیروی محرکه مغناطیسی و نیروی محرکه الکتریکی شبیه به یکدیگر است؛ یعنی:

$\theta$  مدار مغناطیسی  $\longleftrightarrow$  مشابه  $E$  مدار الکتریکی

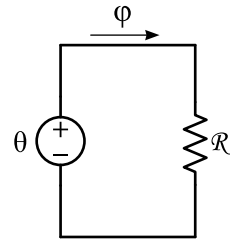
- جریان الکتریکی  $I$ ، در هادی مدار الکتریکی جاری می‌شود و فوران مغناطیسی  $\phi$  در هسته مدار مغناطیسی جاری می‌شود. بنابراین رفتار فوران مغناطیسی و جریان الکتریکی نیز شبیه به یکدیگر است؛ یعنی:

برای مدار الکتریکی شکل (۵۵ - ۱) مدار الکتریکی معادل شکل (۵۶ - ۱) ارایه شده است.



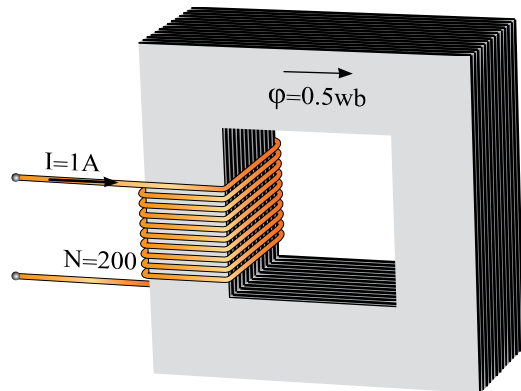
شکل ۱-۵۶

با توجه به وجه تشابه میان مدارهای مغناطیسی با مدارهای الکتریکی می توان مدار الکتریکی معادل شکل (۵۷ - ۱) را با تقریب مناسبی برای مدار مغناطیسی شکل (۵۴ - ۱) در نظر گرفت.



شکل ۱-۵۷

**مثال ۱۵-۱** - فوران مغناطیسی در هسته شکل (۵۸ - ۱) برابر  $0.5 \text{ wb}$  است. مقاومت مغناطیسی هسته چقدر می باشد؟



شکل ۱-۵۸

حل:

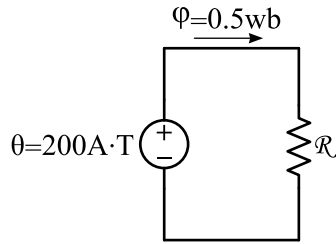
- نیروی محرکه مغناطیسی از رابطه (۶ - ۱) برابر

است با:

$$\theta = NI = 200 \times 1 = 200 \text{ [A.T]}$$

- مدار الکتریکی معادل با درج مقادیر مغناطیسی بر

روی آن به صورت شکل زیر است.



مقاومت مغناطیسی از رابطه (۱۵ - ۱) برابر است

با:

$$\mathcal{R} = \frac{\theta}{\phi} = \frac{200}{0.5} = 400 \left[ \frac{\text{A.T}}{\text{wb}} \right]$$

برای تعیین رابطه مقاومت مغناطیسی  $\mathcal{R}$  به روش

زیر عمل می شود:

- از رابطه (۳ - ۱) مقدار  $\phi$  برابر است با:

$$B = \frac{\phi}{A} \Rightarrow \phi = B.A \quad (1-16)$$

- از رابطه (۹ - ۱) مقدار B برابر است با:

$$\mu = \frac{B}{H} \Rightarrow B = \mu H \quad (1-17)$$

- با جایگزینی مقدار  $\mu$  از رابطه (۱۳ - ۱) در رابطه

(۱۷ - ۱) به دست می آید:

$$\mu = \mu_0 \mu_r$$

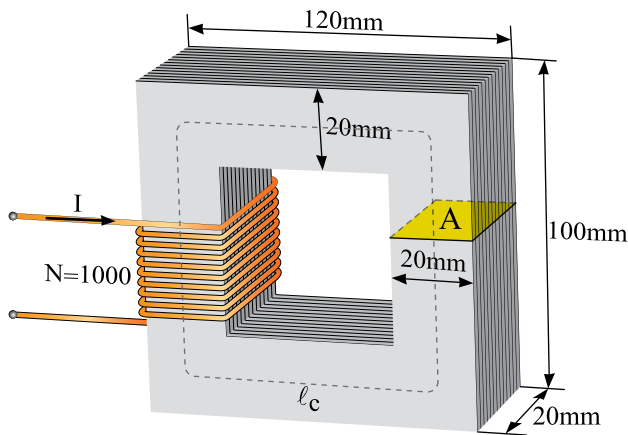
$$B = \mu_0 \mu_r . H \quad (1-18)$$



## فعالیت

وجه تشابه رابطه مقاومت مغناطیسی  $\mathcal{R} = \frac{\ell_c}{\mu_0 \mu_r A}$  با رابطه مقاومت الکتریکی  $R = \frac{\ell}{x.A}$  چیست؟

**مثال ۱۶-۱** - اگر فوران مغناطیسی در مدار مغناطیسی شکل (۱-۵۹) برابر با  $4 \text{ mwb}$  باشد جریان سیم‌پیچ چند آمپر است؟ در صورتی که  $\pi = 3$  و  $\mu_r = 6000$  باشد.



شکل ۱-۵۹

حل:

- محیط بیرونی هسته برابر است با:

$$\ell_1 = (120 + 100) \times 2 = 440 \text{ mm}$$

- محیط درونی هسته برابر با:

$$\ell_2 = (80 + 60) \times 2 = 280 \text{ mm}$$

- محیط متوسط برابر است با:

$$\ell_c = \frac{\ell_1 + \ell_2}{2} = \frac{440 + 280}{2} = 360 \text{ mm}$$

سطح مقطع بازوی هسته A که به شکل مربع است

برابر است با:

$$A_c = 20 \times 20 = 400 \text{ mm}^2$$

- با جایگزینی رابطه (۱-۱۸) در (۱-۱۶) به دست می‌آید:

$$\varphi = \mu_0 \mu_r H.A \quad (1-19)$$

- با جایگزینی رابطه (۱-۱۹) و (۱-۶) در رابطه (۱-۱۵) به دست می‌آید:

$$\mathcal{R} = \frac{\theta}{\varphi} \Rightarrow \mathcal{R} = \frac{NI}{\mu_0 \mu_r H.A} \quad (1-20)$$

- از رابطه رابطه (۱-۷) به دست می‌آید:

$$H = \frac{NI}{\ell_c} \Rightarrow \ell_c = \frac{NI}{H} \quad (1-21)$$

- با جایگزینی رابطه (۱-۲۱) در رابطه (۱-۲۰) به دست می‌آید:

$$\mathcal{R} = \frac{\ell_c}{\mu_0 \mu_r A} \quad (1-22)$$

در این رابطه:

$\ell_c$  طول متوسط هسته بر حسب [m]

$\mu_0$  ضریب نفوذ مغناطیسی خلا بر حسب  $\left[ \frac{\text{wb}}{\text{A.T.m}} \right]$

$\mu_r$  ضریب نفوذ نسبی هسته بدون واحد

A سطح مقطع هسته بر حسب  $[\text{m}^2]$

$\mathcal{R}$  مقاومت مغناطیسی هسته بر حسب  $\left[ \frac{\text{A.T}}{\text{wb}} \right]$

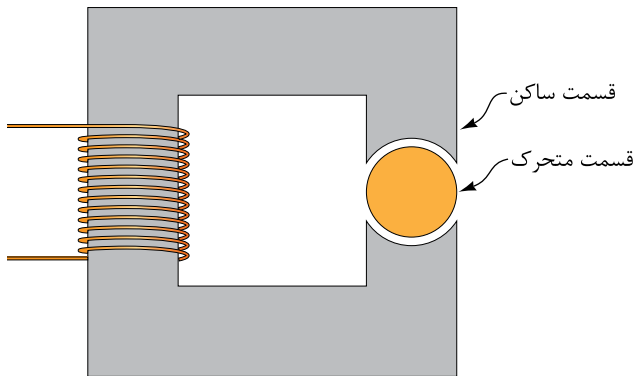
اگر حاصل  $\mu_0 \mu_r$  از رابطه (۱-۱۳) با  $\mu$  نشان داده

شود رابطه (۱-۲۲) به صورت رابطه (۱-۲۳) در

می‌آید.

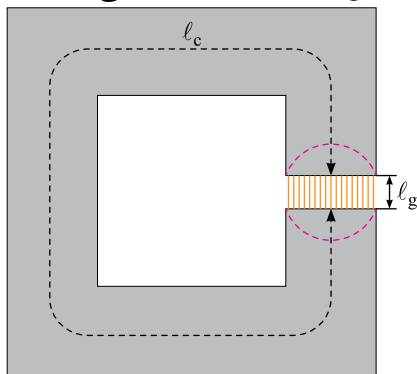
$$\mathcal{R} = \frac{\ell_c}{\mu.A}$$

متحرک می‌باشند، بین قسمت متحرک و ساکن در هسته فرومغناطیس «شکاف هوایی<sup>۱</sup>» ایجاد می‌شود.



شکل ۶۰-۱

اگر قسمت متحرک به دو نیمه متحرک تقسیم شود و هر یک از این نیمه‌ها به سمت قسمت ساکن سوق داده شود شکل (۶۱-۱) به دست می‌آید.



شکل ۶۱-۱

این شکل یک مدار مغناطیسی با شکاف هوایی را نشان می‌دهد که فوران مغناطیسی  $\phi$  مسیر هسته و شکاف هوایی را طی می‌کند.

اگر در مدار مغناطیسی طول شکاف هوایی  $l_g$  از ابعاد سطح مقطع هسته مغناطیسی بسیار کوچک‌تر باشد، می‌توان با روش مدار الکتریکی معادل آن را تحلیل کرد. در صورتی که طول شکاف هوایی  $l_g$  از ابعاد سطح مقطع هسته مغناطیسی بزرگ‌تر باشد، فوران مغناطیسی مطابق شکل (۶۲-۱) به بیرون «نشت»

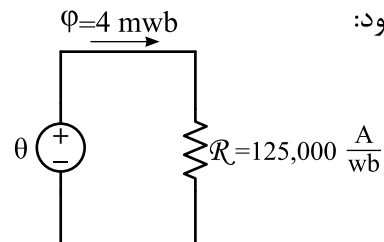
مقاومت مغناطیسی هسته از رابطه (۲۲-۱) برابر است با:

$$\mathcal{R}_C = \frac{l_c}{\mu_o \mu_r A} = \frac{360 \times 10^{-3}}{4\pi \times 10^{-7} \times 6000 \times 400 \times 10^{-6}}$$

$$= 125000 \left[ \frac{AT}{wb} \right]$$

- مدار الکتریکی معادل رسم و مقادیر بر روی آن

درج می‌شود:



- نیروی محرکه مغناطیسی از رابطه (۱۵-۱) برابر

است با:

$$\mathcal{R} = \frac{\theta}{\phi}$$

$$\theta = \mathcal{R}_C \cdot \phi = 125000 \times 4 \times 10^{-3} = 500 [A]$$

- جریان سیم‌پیچ از رابطه (۶-۱) برابر است با:

$$\theta = NI$$

$$I = \frac{\theta}{N} = \frac{500}{1000} = 0.5 [A]$$

## ۱۹-۱- مدار مغناطیسی با شکاف هوایی

مدارهای مغناطیسی مقدمه تحلیل ماشین‌های الکتریکی اعم از ترانسفورمر و وسایل تبدیل انرژی از قبیل ژنراتورها و موتورهای الکتریکی می‌باشند.

ترانسفورمرها ساختمانی شبیه هسته فرومغناطیسی شکل (۶۰-۱) دارند. وسایل تبدیل انرژی مانند ژنراتورها و موتورهای الکتریکی که دارای اجزای

۱) Air Gap

رابطه (۲۳ - ۱) به دست می‌آید:

$$\mathcal{R} = \frac{l_c}{\mu_o \mu_r A} \quad (1 - 23)$$

و مقاومت مغناطیسی شکاف هوایی  $\mathcal{R}_g$  از رابطه

(۲۴ - ۱) به دست می‌آید:

$$\mathcal{R}_g = \frac{l_g}{\mu_o \mu_r A} \quad (1 - 24)$$

در این رابطه:

$l_g$  طول شکاف هوایی بر حسب [m]

$\mu_o = 4\pi \times 10^{-7}$  ضریب نفوذ مغناطیسی خلاء

بر حسب  $\left[ \frac{wb}{A.T.m} \right]$

$\mu_r$  ضریب نفوذ نسبی هوا<sup>۱</sup>

A سطح مقطع هسته بر حسب [m<sup>۲</sup>]

$\mathcal{R}_g$  مقاومت مغناطیسی بر حسب  $\left[ \frac{A.T}{wb} \right]$

قوانین سری و موازی شدن مقاومت‌های مغناطیسی همانند مقاومت‌های الکتریکی است. به طوری که مقاومت مغناطیسی معادل<sup>۲</sup>،  $\mathcal{R}_{eq}$  مقاومت مغناطیسی سری از رابطه (۲۵ - ۱) به دست می‌آید<sup>۳</sup>:

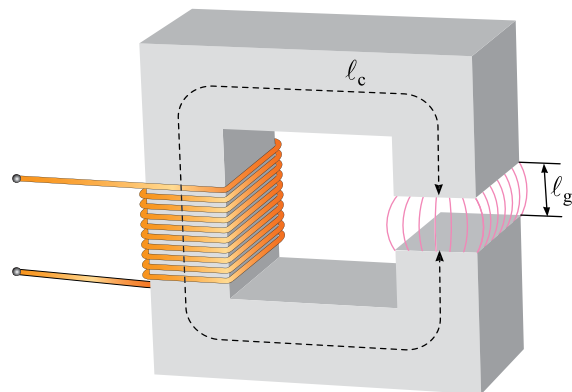
$$\mathcal{R}_{eq} = \mathcal{R}_1 + \mathcal{R}_2 + \dots + \mathcal{R}_n \quad (1 - 25)$$

مثال ۱۷-۱ - در مدار مغناطیسی شکل

(۵۹ - ۱) شکاف هوایی به طول ۰/۴۸ mm مطابق

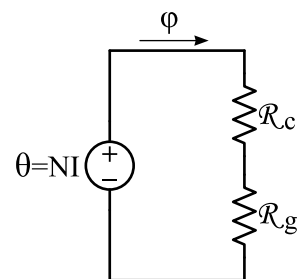
شکل (۶۴ - ۱) ایجاد شده است. با فرض این که طول

می‌کند و سطح مقطع موثر شکاف هوایی بزرگ‌تر از سطح مقطع هسته مغناطیسی دو طرف آن می‌شود، لذا نمی‌توان با روش مدار الکتریکی معادل آن را تحلیل کرد.



شکل ۶۲-۱

اکنون با فرض این که طول شکاف هوایی  $l_g$  در شکل (۶۱ - ۱) به حد کافی کوچک است و چگالی فوران مغناطیسی B هسته نیز یکنواخت می‌باشد، می‌توان مدار الکتریکی معادل شکل (۶۳ - ۱) را برای تحلیل آن در نظر گرفت. از آنجایی که فوران مغناطیسی، مسیر هسته و شکاف هوایی را طی می‌کند لذا مقاومت مغناطیسی آن‌ها در مدار الکتریکی معادل با هم سری می‌شوند.



شکل ۶۳-۱

در شکل (۶۳ - ۱) مقاومت مغناطیسی هسته  $\mathcal{R}_c$  از

۲. Equal Reluctance

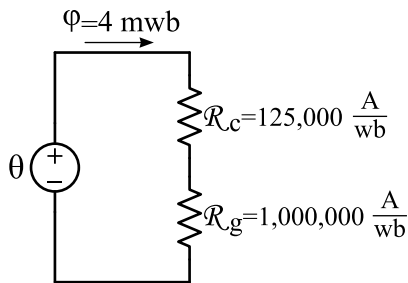
۱. برای سهولت در محاسبات معمولاً برای هوا  $\mu_r$  برابر ۱ در نظر گرفته می‌شود.

۳. مقاومت مغناطیسی معادل،  $\mathcal{R}_{eq}$  مقاومت مغناطیسی موازی از رابطه مقابل به دست می‌آید:

$$\mathcal{R}_{eq} = \frac{1}{\frac{1}{\mathcal{R}_1} + \frac{1}{\mathcal{R}_2} + \dots + \frac{1}{\mathcal{R}_n}}$$

$$= 1 \dots \dots \dots \left[ \frac{A.T}{wb} \right]$$

- مدار الکتریکی معادل رسم می‌شود و مقادیر در آن نوشته خواهد شد:



- مقاومت مغناطیسی معادل از رابطه (۲۵ - ۱) برابر است با:

$$R_{eq} = R_c + R_g = 125 \dots \dots + 1 \dots \dots$$

$$= 1125 \dots \dots \left[ \frac{A.T}{wb} \right]$$

- نیروی محرکه مغناطیسی از رابطه (۱۵ - ۱) برابر است با:

$$R = \frac{\theta}{\phi} \Rightarrow \theta = R \cdot \phi$$

$$\theta = 1125 \dots \dots \times 4 \times 10^{-3} = 4500 [A.T]$$

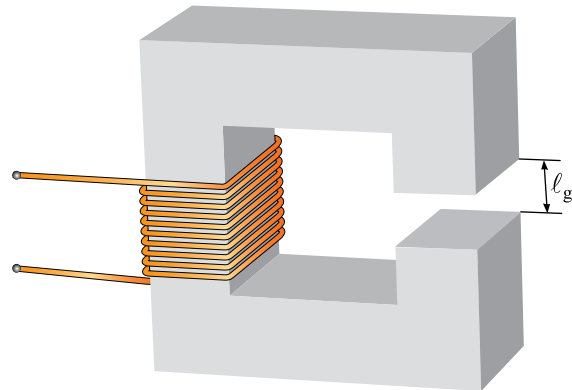
- جریان سیم‌پیچ از رابطه (۶ - ۱) برابر است با:

$$\theta = NI \Rightarrow I = \frac{F}{N} = \frac{4500}{1000} = 4.5 [A]$$

### فعالیت

چرا با ایجاد شکاف هوایی جریان سیم‌پیچ افزایش یافته است؟

متوسط هسته تغییر نکرده است برای داشتن فوران مغناطیسی ۴ mwb جریان سیم‌پیچ چند آمپر است؟



شکل ۶۴-۱

حل:

- مقاومت مغناطیسی هسته تغییر نمی‌کند و برابر است با:

$$R_c = \frac{l_c}{\mu_0 \mu_r A} = 125 \dots \dots \left[ \frac{A.T}{wb} \right]$$

- طول شکاف هوایی بر حسب متر برابر است با:

$$l_g = 0.48 \times 10^{-3} [m]$$

- طول شکاف هوایی بسیار کوچک‌تر از ابعاد سطح مقطع هسته می‌باشد؛ لذا سطح مقطع شکاف هوایی با هسته برابر است. یعنی:

$$A_g = A_c = 400 \times 10^{-6} [m^2]$$

- برای سهولت در محاسبات ضریب نفوذ نسبی هوا برابر با:  $\mu_r = 1$

- مقاومت مغناطیسی هوا از رابطه (۲۴ - ۱) برابر است با:

$$R_g = \frac{l_g}{\mu_0 \mu_r A} = \frac{0.48 \times 10^{-3}}{4\pi \times 10^{-7} \times 1 \times 400 \times 10^{-6}}$$

هرچند تحلیل مدارهای مغناطیسی با استفاده از مفهوم مدار الکتریکی معادل غالباً نتایج رضایت بخشی دارد اما این نتایج به دلایل زیر تقریبی است:

۱- در مدار مغناطیسی فرض می‌شود تمام فوران مغناطیسی در هسته محبوس است. اما جزء کوچکی از فوران مغناطیسی هسته به هوای اطراف می‌گریزد. این فوران در بیرون هسته «شار نشتی<sup>۱</sup>» نام دارد.

۲- در محاسبه مقاومت مغناطیسی، برای هسته یک طول مسیر متوسط معین و یک سطح مقطع شخص فرض می‌شود. این فرض‌ها، مخصوصاً در مورد گوشه‌ها فرض‌های خیلی خوبی نیستند.

۳- در مواد فرومغناطیسی، با تغییر شدت میدان مغناطیسی هسته، ضریب نفوذ مغناطیسی هسته تغییر می‌کند اما در مدار معادل مغناطیسی ضریب نفوذ مغناطیسی ثابت فرض شده است.

۴- اگر در مسیر فوران مغناطیسی هسته، شکاف هوایی وجود داشته باشد، سطح مقطع موثر فاصله هوایی بزرگ‌تر از سطح مقطع هسته دو طرف آن است که در مدار معادل مغناطیسی سطح مقطع شکاف هوایی برابر سطح مقطع هسته فرض می‌شود.

روش‌های دیگری در تحلیل مدارهای مغناطیسی وجود دارد که به نتایج دقیق‌تری می‌انجامد. تحلیل مدارهای مغناطیسی به کمک «قانون نیروی محرکه مغناطیسی» یکی از این روش‌ها است.

## پرسش ۶-۱

### پرسش‌های کامل کردنی

۱- مسیر بسته‌ای که فوران مغناطیسی در آن برقرار

می‌شود ..... نامیده می‌شود.

۲- نیروی محرکه مغناطیسی، مشابه ..... در مدار الکتریکی است.

۳- مقاومت مغناطیسی مشابه ..... در مدار الکتریکی است.

### پرسش‌های صحیح غلط

۱- هسته از خود در مقابل فوران مغناطیسی «مقاومت مغناطیسی» نشان می‌دهد.

صحیح  غلط

۲- جریان الکتریکی مشابه نیروی محرکه مغناطیسی است.

صحیح  غلط

### پرسش‌های تشریحی

۱- مدار الکتریکی و مدار مغناطیسی را تعریف کنید؟

۲- چرا نتایج تحلیل مدارهای مغناطیسی با استفاده از مدار الکتریکی معادل تقریبی است؟

## تمرین ۶-۱

۱- مقاومت و فوران مغناطیسی در هسته یک مدار مغناطیسی به ترتیب  $500 \frac{A.T}{wb}$  و  $10 mwb$  می‌باشد. اگر جریان سیم‌پیچ روی هسته  $20 mA$  باشد تعداد حلقه‌های سیم‌پیچ را به دست آورید.

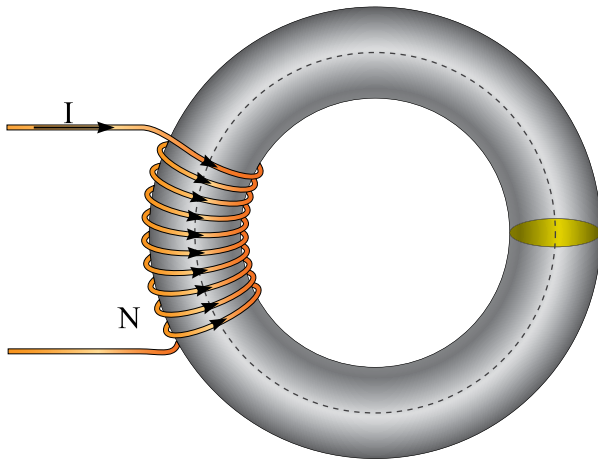
۲- بر روی یک هسته فرومغناطیسی مشابه شکل (۲۳-۱)، دور سیم پیچیده شده است. اگر جریان

۲ آمپر از سیم‌پیچ عبور کند. فوران مغناطیسی هسته را محاسبه نمایید. در صورتی که  $r_p = 40 cm$ ،  $r_1 = 30 cm$

و  $\mu_r = 1000$  باشد.

تحلیل مدارهای مغناطیسی با قانون نیروی محرکه مغناطیسی یکی از روش‌هایی است که غالباً نتایج دقیقی از آن به دست می‌آید.

قانون نیروی محرکه مغناطیسی برای مدار مغناطیسی شکل (۱-۶۵) به صورت رابطه (۱-۲۸) در می‌آید.



شکل ۱-۶۵

$$\theta = H_C \cdot \ell_C \quad (1-28)$$

در این رابطه:

$H_C$  شدت میدان مغناطیسی هسته بر حسب  $\left[ \frac{A.T}{m} \right]$   
 $\ell_C$  طول متوسط هسته بر حسب m

$\theta$  نیروی محرکه مغناطیسی سیم‌پیچ بر حسب [A.T]

اگر چنانچه هسته مدار مغناطیسی دارای شکاف هوایی به طول  $\ell_g$  و شدت میدان مغناطیسی  $H_g$  و ماده فرومغناطیس به طول  $\ell_C$  و شدت میدان مغناطیسی  $H_C$  مطابق شکل (۱-۶۶) باشد رابطه قانون نیروی محرکه مغناطیسی به صورت رابطه (۱-۲۹) نوشته می‌شود.

۳- اگر در مدار مغناطیسی تمرین ۲ شکاف هوایی به طول  $0.5 \text{ mm}$  ایجاد شود با فرض این که طول متوسط هسته تغییر نکرده باشد فوران مغناطیسی هسته را محاسبه کنید.

۴- بر روی اختلاف نتایج تمرین ۲ و ۳ بحث کنید.

### ۲۰-۱- قانون نیروی محرکه مغناطیسی

در مدارهای مغناطیسی فوران مسیر بسته هسته را طی می‌کند. طبق قانون نیروی محرکه مغناطیسی در یک مدار مغناطیسی «حاصل جمع جبری نیروهای محرکه مغناطیسی هسته، برابر نیروی محرکه مغناطیسی سیم‌پیچ است».

قانون نیروی محرکه مغناطیسی با رابطه (۱-۲۶) نشان داده می‌شود:

$$\theta = \sum_{i=1}^n H_i \cdot \ell_i \quad (1-26)$$

در این رابطه:

$\theta$  نیروی محرکه مغناطیسی سیم‌پیچ بر حسب [A.T]

$H_i$  شدت میدان مغناطیسی قسمت  $i$  ام مدار مغناطیسی بر حسب  $\left[ \frac{A.T}{m} \right]$   
 $\ell_i$  طول متوسط قسمت  $i$  ام مدار مغناطیسی بر حسب [m]

در حالت کلی اگر مدار مغناطیسی از  $n$  قسمت تشکیل شده باشد رابطه قانون نیروی محرکه مغناطیسی به صورت زیر نوشته می‌شود:

$$\theta = H_1 \ell_1 + H_2 \ell_2 + \dots + H_n \ell_n \quad (1-27)$$

$$\varphi = \varphi_C = \varphi_g = \lambda [mwb]$$

سطح مقطع هسته با  $A_C$  با سطح مقطع شکاف هوایی  $A_g$  با هم برابر فرض می‌شوند؛ زیرا طول شکاف هوایی در مقابل سطح مقطع هسته بسیار کوچک‌تر است. چگالی فوران مغناطیسی هسته از رابطه (۳ - ۱) برابر است با:

$$A = A_C = A_g = 64 [cm^2]$$

$$B = \frac{\varphi}{A}$$

$$B = \frac{8 \times 10^{-3}}{64 \times 10^{-4}} = 1/25 [T]$$

با توجه به مقدار  $B$  از منحنی مغناطیسی شکل (۲۳ - ۱) تعداد  $H_C$  را برای فولاد ورق به دست می‌آید:

$$B = 1/25 \xrightarrow[\text{شکل (۲۷-۱) منحنی مغناطیسی}]{H_C} H_C = 800 \left[ \frac{A}{m} \right]$$

با فرض این که هوا مشابه خلاء است، شدت میدان مغناطیسی شکاف هوایی از رابطه (۱۰ - ۱) برابر است با:

$$H_g = \frac{B}{\mu_0} = \frac{1/25}{4\pi \times 10^{-7}} = 10^6 \left[ \frac{A}{m} \right]$$

نیروی محرکه مغناطیسی از رابطه (۲۹ - ۱) محاسبه می‌شود:

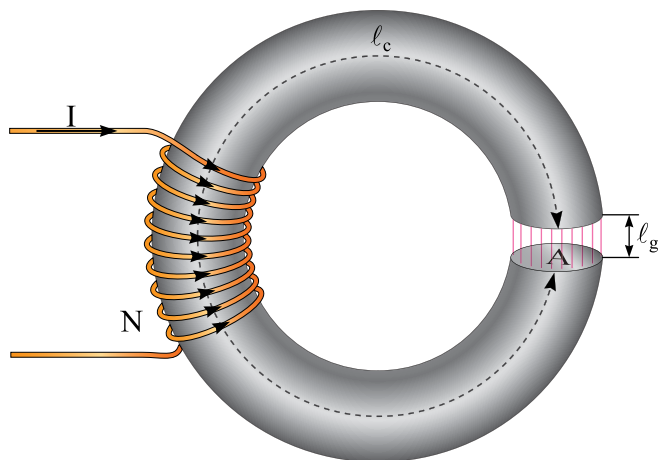
$$\theta = H_g l_g + H_C l_C$$

$$\theta = 10^6 \times 1/1 \times 10^{-3} + 800 \times 50 \times 10^{-2} = 1500 [A]$$

از رابطه (۶ - ۱) شدت جریان به دست می‌آید.

$$\theta = NI$$

$$I = \frac{\theta}{N} = \frac{1500}{1000} = 1/5 [A]$$



شکل ۶۶-۱

$$\theta_{eq} = H_g l_g + H_C l_C \quad (۲۹ - ۱)$$

شدت میدان مغناطیسی هسته فرومغناطیسی  $H_C$  از منحنی مغناطیسی شکل‌های (۲۷ - ۱) و (۲۹ - ۱) با توجه به جنس هسته و شدت میدان مغناطیسی شکاف هوایی  $H_g$  از رابطه (۱۰ - ۱) به صورت  $H_g = \frac{B}{\mu_0}$  پس از تعیین  $B$  به دست می‌آیند. مقادیر  $l_C$  و  $l_g$  با توجه به شکل هندسی مدار مغناطیسی محاسبه می‌شوند.

**مثال ۱۸-۱ - مدار مغناطیسی مطابق**

شکل (۶۶ - ۱) دارای هسته فرومغناطیسی از جنس فولاد ورق به طول متوسط  $l_C = 50 \text{ cm}$  و سطح مقطع  $A_C = 64 \text{ cm}^2$  دارای یک شکاف هوایی به طور  $l_g = 1/1 \text{ mm}$  و فوران مغناطیسی هسته  $\varphi_C = 8 \text{ mwb}$  می‌باشد. جریان سیم‌پیچ را به کمک قانون نیروی محرکه مغناطیسی تعیین کنید.

حل:

فوران مغناطیسی هسته فرومغناطیسی و شکاف هوایی برابر است زیرا این دو قسمت با یکدیگر سری هستند.

- فوران مغناطیسی از رابطه (۳ - ۱) محاسبه می‌شود:

$$B = \frac{\varphi}{A}$$

$$\varphi = B.A = 1/6 \times 64 \times 10^{-4} = 0.01 \text{ wb}$$

- واحد فوران مغناطیسی به میلی وبر تبدیل می‌شود:

$$\frac{1 \text{ wb}}{0.01} = \frac{100 \text{ mwb}}{\varphi} \Rightarrow \varphi = \frac{0.01 \times 100}{1} = 10 \text{ [mwb]}$$

- با از بین رفتن شکاف هوایی مقاومت مغناطیسی کم‌تر می‌شود و فوران مغناطیسی هسته افزایش می‌یابد.

مدارهای مغناطیسی به گونه‌ای طراحی می‌شوند که دارای حداقل فاصله شکاف هوایی یا در صورت امکان فاقد شکاف هوایی باشند تا با جریان الکتریکی کم‌تر فوران مغناطیسی بیش‌تری تولید شود.

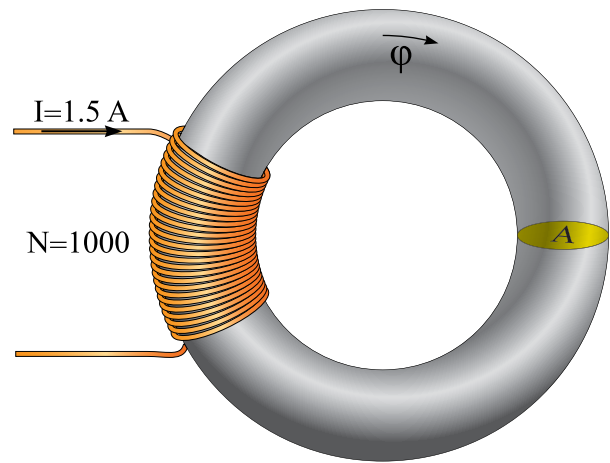
### تمرین ۷ - ۱

۱ - هسته مغناطیسی از جنس فولاد الکتریکی M-5 بدون فاصله هوایی به طول متوسط ۴۰ cm و سطح مقطع ۵۰ cm<sup>2</sup> دارای فوران مغناطیسی ۱۰ mwb می‌باشد. به روی این هسته یک سیم‌پیچ با ۴۰۰۰ حلقه قرار دارد. مطلوب است:

الف - شدت جریان سیم‌پیچ

ب - اگر یک فاصله هوایی ۱ mm در هسته ایجاد شود شدت جریان سیم‌پیچ چند آمپر خواهد شد؟ در صورتی که بخواهیم فوران هسته ثابت بماند.

**مثال ۱۹ - ۱** - اگر در مثال ۱۸ - ۱ شکاف هوایی مدار مغناطیسی با به هم رساندن هسته مغناطیسی مطابق شکل (۶۷ - ۱) از بین برود و جریان سیم‌پیچ ثابت بماند، فوران مغناطیسی هسته چند میلی وبر می‌شود؟



شکل ۶۷ - ۱

حل:

- نیروی محرکه مغناطیسی سیم‌پیچ از رابطه (۶ - ۱) به دست می‌آید:

$$\theta = NI = 1000 \times 1.5 = 1500 \text{ [A]}$$

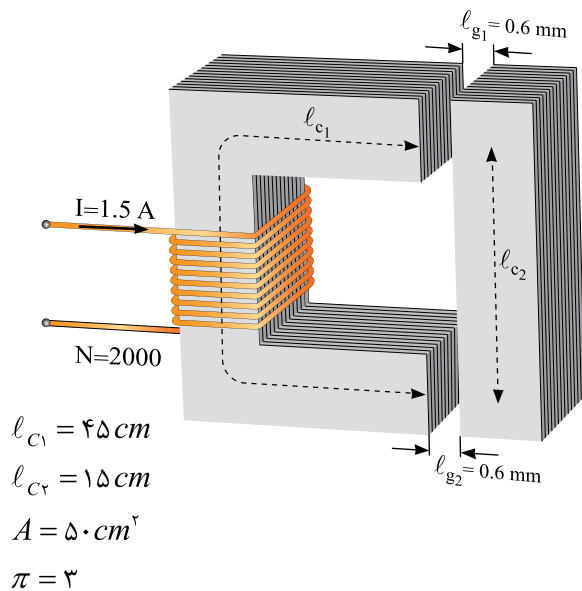
- شدت میدان مغناطیسی از رابطه (۷ - ۱) به دست می‌آید:

$$H_c = \frac{\theta}{l_c} = \frac{1500}{50 \times 10^{-2}} = 3000 \left[ \frac{A}{m} \right]$$

- با توجه به مقدار H<sub>c</sub> از منحنی مغناطیس شکل (۲۷ - ۱) مقدار B برای فولاد ورق به دست می‌آید:

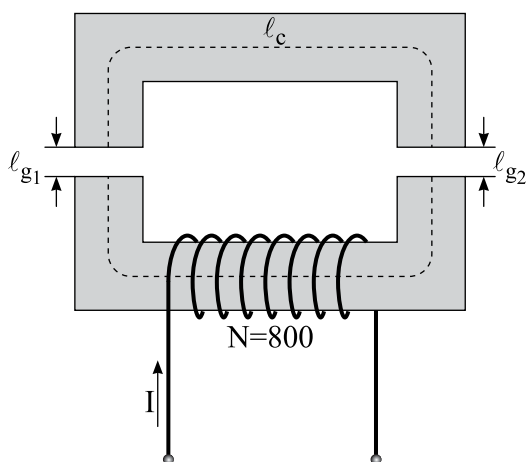
$$H_c = 3000 \xrightarrow[\text{شکل (۲۷ - ۱)}]{\text{منحنی مغناطیس}} B = 1/6 \text{ [T]}$$





شکل ۱-۶۹

۵ - یک هسته مغناطیسی از جنس فولاد الکتریکی  $M-5$  مطابق شکل (۱-۷۰) مفروض است. در صورتی که بخواهیم فوران مغناطیسی  $0.4 \text{ mwb}$  در هسته برقرار شود شدت جریان سیم پیچ باید چند آمپر باشد؟



شکل ۱-۷۰

۲ - یک مدار مغناطیسی با مقاومت مغناطیسی  $45000 \left[ \frac{AT}{wb} \right]$  دارای فوران مغناطیسی  $10 \text{ mwb}$  می باشد. اگر تعداد دور سیم پیچ  $1000$  و طول متوسط هسته  $90 \text{ cm}$  باشد مطلوب است:

الف - جریان سیم پیچ

ب - شدت میدان هسته

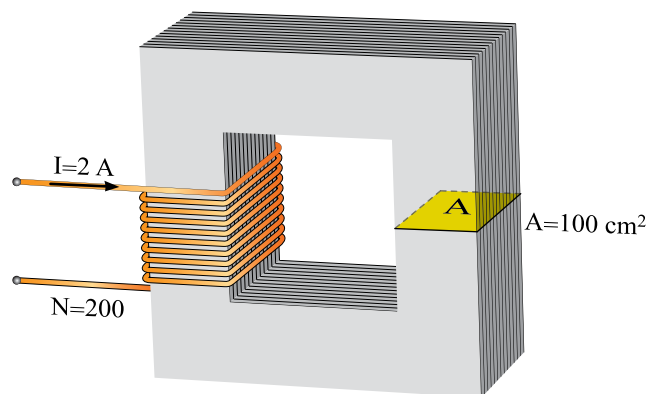
۳ - در مدار مغناطیسی شکل (۱-۶۸) فوران مغناطیسی هسته  $10 \text{ mwb}$  است مطلوب است:

الف - مقاومت مغناطیسی هسته

ب - اگر یک فاصله هوایی  $1/2 \text{ mm}$  در هسته

ایجاد شود و بخواهیم فوران هسته همان مقدار قبلی بماند، جریان سیم پیچ را چند آمپر باید افزایش دهیم.

( $\pi = 3$ )



شکل ۱-۶۸

۴ - در مدار مغناطیسی شکل (۱-۶۹) مطلوب

است محاسبه:

الف - مقاومت مغناطیسی در صورتی که فوران

مغناطیسی هسته  $12 \text{ mwb}$  باشد.

ب - ضریب نفوذ نسبی هسته