


میدان مغناطیسی و نیروهای مغناطیسی



در فضای اطراف هر رسانای حامل جریان میدان مغناطیسی به وجود می‌آید.

اگر تاکنون یک اسباب بازی مغناطیسی یا یک قطب نما را به کار برده باشید، یا آهنربایی را برای نگهداشتن یک ورق کاغذ روی بدنه یخچال مورد استفاده قرار داده باشید، احتمالاً از مشاهده پدیده های مربوط به آن، شگفت زده شده اید! آهنرباها برای بسیاری از ما جذابیت خاصی دارند.

کاربردهای مغناطیس در جنبه های مختلف زندگی بشر رشدی روزافزون دارد. برای بیش از یک قرن ضبط صدا و تصویر روی صفحه ها و نوارهایی صورت می گرفت که مغناطیس نقش اصلی را در آنها ایفا می کرد. اگرچه فناوری دیجیتال به میزان زیادی جایگزین ضبط مغناطیسی به شیوه های سنتی شده است، با وجود این، ذخیره اطلاعات به صورت صفر و یک هنوز هم به محیط های مغناطیسی وابسته است.

مغناطیس و آهنرباها همچنین در بلندگوی گوشی ها، تلویزیون ها، رایانه ها و اغلب سامانه های هشدار ایمنی کاربرد دارد. پزشکی امروز نیز در تشخیص بیماری ها و جراحی های مختلف بهره فراوانی از مغناطیس و آثار آن می برد (شکل ۱-۳).

۱-۳- مغناطیس و قطب های مغناطیسی

یونانیان باستان، بیش از ۲۵۰۰ سال پیش با پدیده آهنربایی آشنا بودند. تالس که اغلب از او به عنوان پدر علم یونان یاد می شود، ماده کانی مگنتیت (Fe_3O_4) را که ویژگی آهنربایی دارد می شناخت (شکل ۲-۳). همان گونه که می دانید، ماده هایی که این ویژگی را دارند آهنربا می نامند. چینی های باستان نیز با ویژگی های مغناطیسی برخی از سنگ های آهنربا آشنایی داشتند و تکه هایی از این سنگ ها را به صورت قطب نماهای ساده در دریانوردی به کار می بردند.

در سال های گذشته دیدید که هرگاه آهنربایی را درون ظرف محتوی براده آهن فرو ببریم، براده های آهن به مقدار زیادی جذب ناحیه های خاصی از آهنربا می شوند. این ناحیه ها را **قطب های مغناطیسی** یا **قطب های آهنربا** می نامند (شکل ۳-۳).

هرگاه یک آهنربای میله ای را با ریسمان از مرکزش طوری بیاویزیم که بتواند آزادانه بچرخد، یک سر آن به سوی شمال قرار می گیرد (شکل ۴-۳). این سر را قطب شمال یا قطب N و سر دیگر را قطب جنوب یا قطب S می نامند.



شکل ۱-۳ با بهره گیری از دستگاه های MRI^۱ می توان جزئیات بافت نرم (مانند تصویر پایی که در اینجا نشان داده شده است) را دید که در تصویربرداری پرتو X قابل مشاهده نیست.




شکل ۲-۳ پدیده های مغناطیسی حدود ۲۵۰۰ سال پیش در تکه هایی از سنگ آهن مغناطیده در نزدیکی شهر مگنسیا (که نام امروزی آن مانیسا و در غرب ترکیه واقع است) مشاهده شد. این تکه ها نمونه هایی هستند از چیزی که امروز آهنربای دائمی خوانده می شود.



شکل ۳-۳ در یک آهنربا، به هر شکلی که باشد، دو ناحیه وجود دارد که خاصیت مغناطیسی در آنها بیش از قسمت های دیگر است.



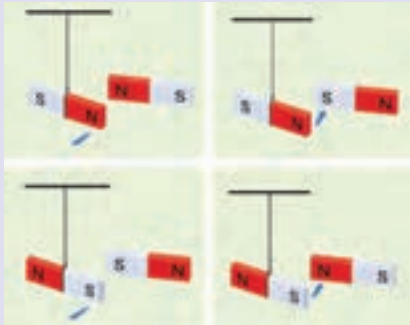
شکل ۴-۳ آهنربا در این وضعیت مانند یک قطب نما رفتار می کند.



شکل ۳-۵ شکستن یک آهنربای میله‌ای به دو بخش. هر بخش یک آهنربای کامل است که دو قطب دارد.

تمام آهنرباها هم قطب N دارند و هم قطب S. اگر یک آهنربای میله‌ای را دو قسمت کنید، هر بخش آن دوباره دارای دو قطب آهنربایی است (شکل ۳-۵). اگر باز هم آنها را به دو بخش تقسیم کنید، چهار آهنربای کامل خواهید داشت. می‌توانید تقسیم کردن را ادامه دهید، ولی هرگز یک قطب تنها یا به عبارتی دیگر **تک قطبی مغناطیسی** نخواهید داشت. حتی وقتی قطعه‌ی شما به اندازه‌ی یک اتم برسد، دو قطب دارد که نشان می‌دهد خود اتم نیز می‌تواند یک آهنربا باشد!

پرسش ۱-۳



با توجه به شکل روبه‌رو عبارت زیر را با کلمه‌های مناسب کامل کنید. وقتی قطب‌های همنام دو آهنربا را به یکدیگر نزدیک می‌کنیم، یکدیگر را اما اگر قطب‌های ناهمنام آنها را به یکدیگر نزدیک کنیم، یکدیگر را

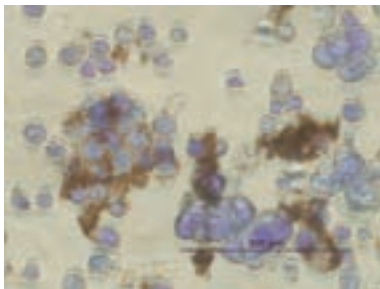
فعالیت ۱-۳



عقربه قطب‌نما آهنربای کوچکی است که می‌تواند آزادانه دور محور خود بچرخد.

الف) چند آهنربا به شکل‌های مختلف انتخاب کنید. به کمک مقداری براده آهن یا تعدادی سوزن ته‌گرد، محل قطب‌های هر یک از آهنرباها را تعیین کنید.
ب) قطب‌نماهایی که دربانوردان و کوهنوردان برای تعیین جهت به کار می‌برند، در واقع یک آهنربای میله‌ای نازک است که روی پایه‌ای سوار شده است و می‌تواند آزادانه بچرخد و جهت‌های تقریبی شمال و جنوب جغرافیایی را نشان دهد (شکل روبه‌رو). آزمایشی طراحی کنید و به کمک آن، یک قطب‌نمای ساده بسازید و جهت تقریبی شمال و جنوب مکانی را که در آن زندگی می‌کنید تعیین کنید.

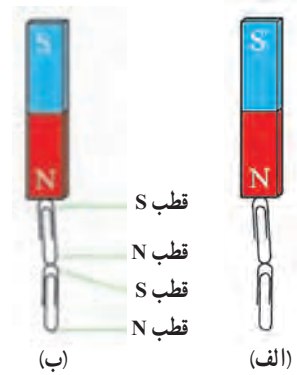
نانو ذره‌های مغناطیسی برای درمان



لکه‌های تیره در تصویر میکروسکوپی روبه‌رو، باخته (سلول)‌های سرطانی هستند که از توموری جدا شده‌اند و خطر پخش آنها در سرتاسر بدن بیمار وجود دارد. در یک روش تجربی برای مبارزه با این باخته‌ها از ذره‌های یک ماده مغناطیسی استفاده می‌شود که به بدن تزریق می‌شوند. این ذره‌ها با ماده شیمیایی خاصی پوشیده شده‌اند که به‌طور ترجیحی به سلول‌های سرطانی متصل می‌شوند. سپس با استفاده از یک آهنربا در بیرون از بدن بیمار، این ذره‌ها بیرون «رانده» می‌شوند و سلول‌های سرطانی را با خود می‌برند.

القای مغناطیسی: شکل ۳-۶-الف آهنربایی را نشان می‌دهد که دو گیره آهنی کاغذ را جذب

کرده است. این تجربه ساده نشان می‌دهد که ویژگی مغناطیسی درگیره‌های فلزی القا شده است و تا زمانی که گیره‌ها با آهنربا در تماس باشند، این ویژگی را در خود حفظ می‌کنند. این پدیده را **القای مغناطیسی** می‌نامند. ویژگی آهنربایی ناشی از القای مغناطیسی همواره به صورتی است که قطعه‌های آهنی جذب آهنربای اصلی می‌شوند (شکل ۳-۶-ب). القای مغناطیسی تنها در آهن، نیکل، کبالت و آلیاژهایی از این عناصر تولید می‌شود. در بخش پایانی همین فصل، با تفصیل بیشتری با مواد مغناطیسی و ویژگی‌های آنها آشنا خواهیم شد.



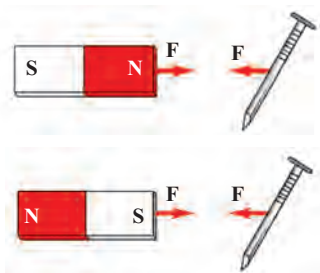
شکل ۳-۶ الف وقتی آهنربایی در نزد یک گیره آهنی قرار می‌گیرد در آنها خاصیت مغناطیسی القا می‌کند. **ب** در پدیده القای مغناطیسی همواره جذب وجود دارد (به قطب‌های القا شده درگیره‌ها توجه کنید).

پرسش ۳-۲

فرض کنید دو میله کاملاً مشابه، یکی از جنس آهن و دیگری آهنربا در اختیار دارید. با بحث در گروه خود، روشی را پیشنهاد کنید که با استفاده از آن و بدون استفاده از هیچ وسیله دیگری، بتوان میله‌ای را که از جنس آهنرباست مشخص کرد.

۳-۲- میدان مغناطیسی

با نزدیک کردن آهنربا به میخ آهنی مشاهده می‌کنید که میخ به طرف آهنربا حرکت می‌کند و پس از مدت کوتاهی جذب آن می‌شود (شکل ۳-۷). برای توجیه این پدیده، مشابه آنچه درباره اجسام باردار دیدید، می‌گوییم در فضای اطراف آهنربا **میدان مغناطیسی** وجود دارد. میدان مغناطیسی نیز مانند میدان الکتریکی که در فصل ۱ با آن آشنا شدید، کمیتی برداری است و آن را با نماد \vec{B} نمایش می‌دهیم.



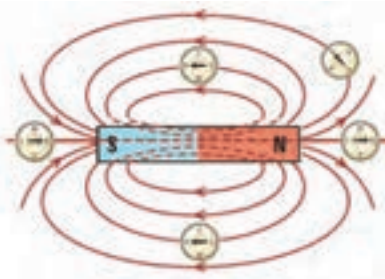
شکل ۳-۷ اطراف یک آهنربا میدان مغناطیسی وجود دارد به طوری که هر جسم آهنی مانند میخ را به سوی خود جذب می‌کند.

فعالیت ۳-۲



یکی از قطب‌های یک آهنربای میله‌ای را به یک عقربه مغناطیسی که روی پایه‌ای قرار دارد، نزدیک کنید (شکل روبه‌رو). آنچه را می‌بینید بیان کنید. با دور کردن آهنربا از عقربه مغناطیسی چه اتفاقی می‌افتد؟ چرا؟ (در صورتی که عقربه مغناطیسی در اختیار ندارید، سوزن ته‌گردی را از یک طرف، چند بار به آهنربایی مالش دهید و آن را روی سطح آب شناور سازید. به این ترتیب سوزن ته‌گرد مانند یک عقربه مغناطیسی رفتار می‌کند!)

میدان مغناطیسی مانند میدان الکتریکی، کمیتی برداری است و دارای بزرگی و جهت است. به کمک عقربه مغناطیسی می‌توان جهت میدان مغناطیسی را در هر نقطه از فضای اطراف یک آهنربا تعیین کرد (شکل ۳-۸).



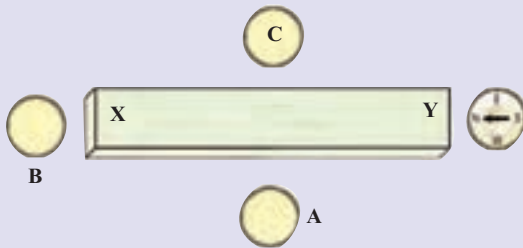
شکل ۳-۸ تعیین جهت میدان مغناطیسی به کمک عقربه مغناطیسی



شکل ۳-۹ خط‌های میدان مغناطیسی در هر نقطه در جهت عقربه مغناطیسی هستند و از قطب N خارج و به قطب S وارد می‌شوند.

بنابر تعریف، بردار میدان مغناطیسی در هر نقطه از فضای پیرامون یک آهنربا در جهتی است که وقتی قطب N عقربه مغناطیسی در آن نقطه قرار می‌گیرد، آن جهت را نشان می‌دهد. با تعیین جهت میدان مغناطیسی در هر نقطه از فضای اطراف آهنربا، می‌توان همان‌گونه که برای میدان الکتریکی انجام دادیم، خط‌های میدان مغناطیسی را رسم کنیم. شکل ۳-۹ خط‌های میدان مغناطیسی را در اطراف یک آهنربای میله‌ای نشان می‌دهد. این خط‌ها از آهنربا می‌گذرند و هر یک از آنها یک حلقه بسته را تشکیل می‌دهند. افزون بر اینها، خط‌های میدان مغناطیسی در نزدیکی قطب‌ها به یکدیگر نزدیک‌ترند.

پرسش ۳-۳



شکل روبه‌رو یک آهنربای میله‌ای و چهار عقربه مغناطیسی را نشان می‌دهد که جهت‌گیری یکی از آنها مشخص شده است. الف) کدام سر آهنربا قطب S و کدام سر قطب N است؟ ب) جهت‌گیری عقربه‌های مغناطیسی را در نقطه‌های A و B و C تعیین کنید.

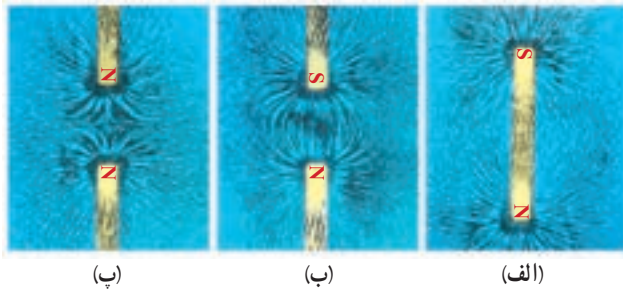
آزمایش ۱-۳

مشاهده مرحله خطوط میدان مغناطیسی

هدف آزمایش: مشاهده طرح خط‌های میدان مغناطیسی با استفاده از براده آهن
وسایله‌های آزمایش: آهنربای میله‌ای (دو عدد)، براده آهن، یک ورقه شیشه‌ای یا مقوایی، نمک پاش (یا وسیله دیگری برای پاشیدن براده آهن)

شرح آزمایش:

- ۱- یکی از آهنرباهای میله‌ای را روی میز قرار دهید و صفحه شیشه‌ای (یا مقوایی) را روی آن بگذارید.
- ۲- به کمک نمک پاش براده آهن را به‌طور یکنواخت به ضخامت خیلی کم روی شیشه پاشید.



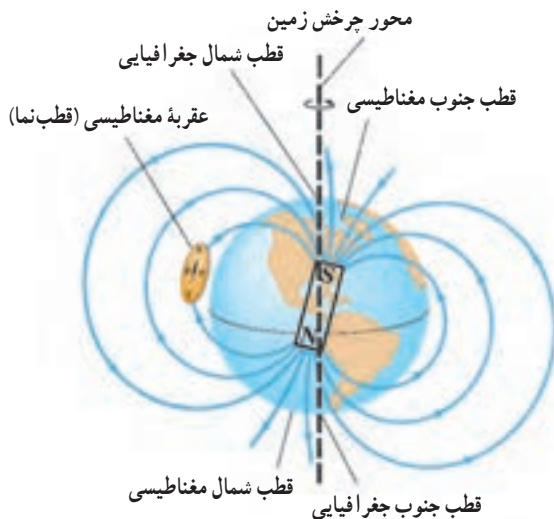
۳- چند ضربه آرام به صفحه شیشه‌ای بزنید تا براده‌های آهن در راستای خط‌های میدان مغناطیسی قرار گیرند. طرحی که روی صفحه شیشه‌ای پدیدار می‌شود، نقشه‌ای از خط‌های میدان مغناطیسی یک آهنربای میله‌ای است (شکل الف).

۴- مراحل بالا را برای دو آهنربای میله‌ای که به ترتیب: قطب‌های ناهمنام و قطب‌های همنام آنها به یکدیگر نزدیک‌اند انجام دهید (شکل‌های ب و پ).

پرسش ۳-۴

با استفاده از ویژگی القای مغناطیسی، توضیح دهید که چرا در آزمایش ۳-۱ براده‌های آهن در راستای خط‌های میدان مغناطیسی قرار می‌گیرند.

میدان مغناطیسی زمین: زمین یک آهنربای عظیم و طرح خط‌های میدان مغناطیسی آن مانند آهنربای میله‌ای بزرگی است که در نزدیکی مرکز زمین قرار دارد (شکل ۳-۱). قطب‌های مغناطیسی زمین بر قطب‌های جغرافیایی آن منطبق نیستند. در واقع، قطب‌های مغناطیسی و جغرافیایی زمین فاصله نسبتاً زیادی از یکدیگر دارند. مثلاً قطب جنوب مغناطیسی تقریباً در فاصله ۱۸۰۰ کیلومتری قطب شمال جغرافیایی قرار دارد. این بدان معناست که عقربه مغناطیسی در جهت شمال واقعی جغرافیایی قرار نمی‌گیرد و تا حدودی از شمال جغرافیایی انحراف دارد. این انحراف وابسته به مکان را **میل مغناطیسی** می‌نامند.



شکل ۳-۱: طرح ساده‌ای از میدان مغناطیسی زمین. عقربه مغناطیسی در هر نقطه در امتداد این خط‌های میدان قرار می‌گیرد. نشان دادن خط‌های میدان مغناطیسی زمین به صورت خط‌های میدان یک آهنربای میله‌ای، تنها یک توجیه ساده از ساختار پیچیده و ناشناخته عوامل ایجاد میدان مغناطیسی زمین است. شواهد زمین شناختی نشان می‌دهند که جهت این میدان در بازه‌های زمانی نامنظم از ۱۰^۴ تا ۱۰^۶ سال به طور کامل و آرون می‌شود.

مطالعه آزاد

خرچنگ خاردار کارائیب در برابر میدان‌های مغناطیسی بسیار حساس است. این جاندار یک «قطب‌نمای» مغناطیسی درونی دارد که تشخیص شمال، جنوب، شرق و غرب را برایش امکان‌پذیر می‌کند. این خرچنگ همچنین می‌تواند تفاوت اندک در میدان مغناطیسی زمین از مکانی به مکان دیگر را حس کند و از این تفاوت، در یافتن مسیر خود بهره بگیرد.



۳-۳- نیروی مغناطیسی وارد بر رسانای حامل جریان

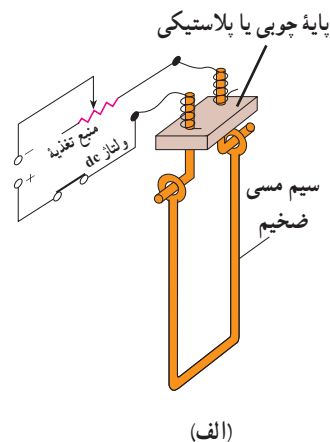
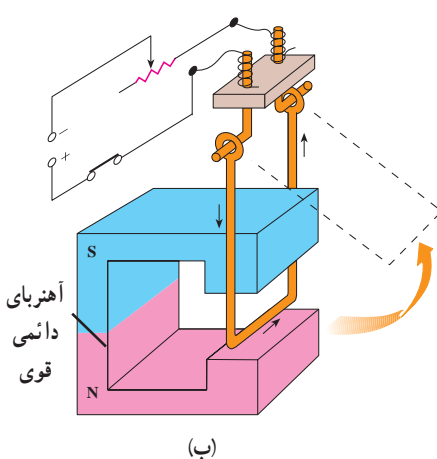
دیدیم که هرگاه یک عقربه مغناطیسی یا هر آهنربای دیگری در میدان مغناطیسی قرار می‌گیرد، بر آن نیرو وارد می‌شود. در ادامه خواهیم دید که بر سیم‌های حامل جریان الکتریکی نیز در میدان مغناطیسی نیرو وارد می‌شود، اندازه میدان مغناطیسی و یکای آن را می‌توان با استفاده از این اثر تعریف کرد. برای مشاهده این نیرو، آزمایش زیر را انجام دهید.

آزمایش ۳-۳

بررسی اثر میدان مغناطیسی بر سیم حامل جریان

وسایله‌های آزمایش: یک آهنربای نعلی شکل قوی، سیم مسی ضخیم، سیم رابط، رئوستا و منبع تغذیه
شرح آزمایش:

- ۱- مداری مطابق شکل الف ببندید.
- ۲- آهنربای نعلی شکل را مطابق شکل ب در اطراف سیم مسی قرار دهید.
- ۳- کلید را ببندید تا جریان از سیم مسی بگذرد. آنچه را که مشاهده می‌کنید، بنویسید.
- ۴- این آزمایش را چند بار تکرار کنید و هر بار آهنربا را در وضعیت جدیدی در اطراف سیم مسی قرار دهید و با بستن کلید، مشاهده‌های خود را یادداشت کنید.



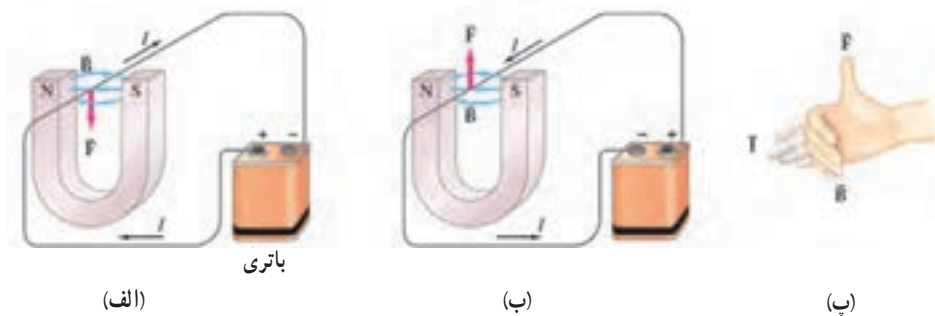
- ۵- این آزمایش را با یک آهنربای دیگر تکرار کنید.
- ۶- اندازه و جهت جریان الکتریکی را تغییر دهید و آزمایش‌های بالا را تکرار کنید.
- ۷- نتیجه آزمایش را به کلاس گزارش دهید.

اورستد (فیزیکدان دانمارکی) با انجام آزمایش‌هایی شبیه آزمایش ۲-۳ و اندازه‌گیری دقیق نیرویی که بر سیم حامل جریان در میدان مغناطیسی وارد می‌شود، نشان داد:

نیروی که در میدان مغناطیسی بر سیم حامل جریان الکتریکی وارد می‌شود، بر راستای سیم و نیز بر راستای میدان مغناطیسی عمود است.

جهت نیروی وارد بر سیم حامل جریان در میدان مغناطیسی را می‌توان با استفاده از قاعده دست راست به این صورت تعیین کرد:

اگر دست راست خود را باز نگه دارید و چهار انگشت را مطابق شکل ۳-۱۱-پ در جهت جریان بگیرید به طوری که اگر انگشتان خود را خم کنید، در جهت میدان مغناطیسی قرار گیرد در این صورت، انگشت شست شما جهت نیروی وارد بر سیم حامل جریان را نشان خواهد داد (شکل ۳-۱۱-ب).

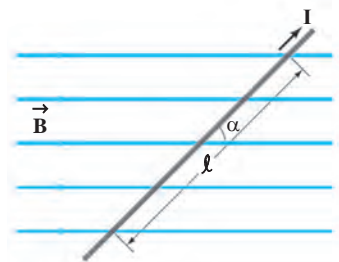


شکل ۳-۱۱ قاعده دست راست برای تعیین جهت نیروی \vec{F} وارد بر سیم حامل جریان الکتریکی I در میدان مغناطیسی \vec{B}

عامل‌های مؤثر بر نیروی مغناطیسی وارد بر رسانای حامل جریان: آزمایش‌هایی مشابه آزمایش ۲-۳ نشان می‌دهند که نیروی مغناطیسی وارد بر یک رسانای حامل جریان I در میدان مغناطیسی، به عامل‌های مختلفی بستگی دارد که این عامل‌ها در رابطه زیر بیان شده‌اند:

$$F = I\ell B \sin\alpha \quad (۱-۳)$$

در این رابطه ℓ طول بخشی از سیم رساناست که در میدان مغناطیسی \vec{B} قرار دارد. زاویه داده‌ای را که جهت جریان با جهت بردار میدان مغناطیسی \vec{B} می‌سازد را به α نشان داده‌ایم (شکل ۳-۱۲).



شکل ۳-۱۲ سیم حامل جریان در میدان مغناطیسی. نیروی مغناطیسی وارد بر سیم عمود بر صفحه کتاب و به طرف داخل است.

پرسش ۳-۵

اگر در شکل ۳-۱۲ سیم حامل جریان در امتداد میدان مغناطیسی قرار گیرد، نیروی مغناطیسی وارد بر آن چقدر خواهد بود؟ در چه حالتی بزرگی این نیرو بیشینه می‌شود؟



نیکولا تسلا (۱۸۵۶-۱۹۴۳) در کرواسی به دنیا آمد. بعداً او به آمریکا مهاجرت و مدتی با ادیسون همکاری کرد. ادیسون همواره با جریان مستقیم (dc) کار می کرد، با این وجود وی کارکردن با جریان متناوب (ac) و با ولتاژهای بسیار بالا را عملی ساخت. تسلا از اینکه جریان متناوب برای اولین بار در صندلی الکتریکی به منظور اعدام مورد استفاده قرار گرفت شدیداً ناراحت بود. وی همچنین طراح تولید برق در آبشار نیاگارا بود. به پاس خدمات وی، یکای میدان مغناطیسی در SI را با تسلا نشان می دهند.

یکای میدان مغناطیسی: رابطه ۱-۳ نشان می دهد وقتی سیم حامل جریان عمود بر راستای میدان مغناطیسی \vec{B} قرار بگیرد ($\sin\alpha=1$) بزرگی نیروی مغناطیسی وارد بر سیم به طول l و حامل جریان I ، بیشینه می شود. در این صورت داریم:

$$F_{\text{بیشینه}} = I\ell B \quad (2-3)$$

معمولاً از رابطه ۲-۳ که به صورت $B = \frac{F_{\text{بیشینه}}}{I\ell}$ بازنویسی می شود، برای تعریف یکای میدان مغناطیسی استفاده می شود. یکای میدان مغناطیسی در SI **تسلا** نام دارد و با نماد T نشان داده می شود. بنا به تعریف، یک تسلا، بزرگی میدان مغناطیسی است که در آن، بر یک متر از سیمی که حامل جریان یک آمپر است و در راستای عمود بر بردار میدان قرار دارد نیرویی به بزرگی یک نیوتون وارد شود. در نتیجه می توانیم بنویسیم:

$$1 \text{ تسلا} = \frac{1 \text{ نیوتون}}{(1 \text{ متر}) \times (1 \text{ آمپر})}$$

تسلا یکای بزرگی است و در کاربردهای عملی از یکای کوچک تری به نام **گاوس** استفاده می کنند که با نماد G نمایش داده می شود.

$$1 \text{ T} = 10^4 \text{ G} \quad \text{یا} \quad 1 \text{ G} = 10^{-4} \text{ T}$$

مثال ۱-۳

یک سیم حامل جریان در میدان مغناطیسی به بزرگی 4 mT در راستایی قرار دارد که با جهت میدان زاویه 3° می سازد. اگر جریان در سیم پنج آمپر باشد، نیروی مغناطیسی وارد بر یک متر از این سیم را محاسبه کنید.
پاسخ: با توجه به داده های مسئله داریم:

$$B = 4 \text{ mT} = 4 \times 10^{-3} \text{ T} = 4 \times 10^{-5} \text{ T}$$

$$\alpha = 3^\circ, \ell = 1 \text{ m}, I = 5 \text{ A}, F = ?$$

با قراردادن داده های بالا در رابطه ۱-۳ داریم:

$$\begin{aligned} F &= I\ell B \sin\alpha \\ &= (5 \text{ A})(1 \text{ m})(4 \times 10^{-5} \text{ T}) \sin 3^\circ \\ &= 1 \times 10^{-5} \text{ N} = 0.1 \text{ mN} \end{aligned}$$

این نیرو بسیار کوچک و مقدار آن تقریباً ده مرتبه از وزن یک سوزن ته گرد کمتر است.

پرسش ۳-۴

سیم افقی مستقیم حامل جریانی در یک میدان مغناطیسی یکنواخت افقی که جهت آن از شمال به جنوب است، قرار دارد. جهت نیروی مغناطیسی وارد بر سیم را تعیین کنید؛ الف) اگر سیم در راستای شمال - جنوب و جریان آن از شمال به جنوب باشد. ب) اگر سیم در راستای شرق - غرب و جریان آن از غرب به شرق باشد.



کارل فریدریش گاوس (۱۷۷۷-۱۸۵۵)، ریاضی‌دان، فیزیک‌دان و ستاره‌شناس آلمانی است که مدتی مدیر رصدخانه گوتینگن بوده است. گاوس یکی از ریاضی‌دان‌های بزرگ و برجسته‌ترین کارش در نظریه اعداد است. او به انجام محاسبه‌های بی‌اندازه بفرنج علاقه‌مند بود. وی همچنین روش‌های تازه‌ای برای محاسبه در مکانیک سماوی به دست آورد. گاوس روی پدیده‌های الکتریکی و مغناطیسی نیز فعالیت زیادی کرد و قانونی به نام وی در مبحث الکتریسته وجود دارد.

تمرین ۳-۱

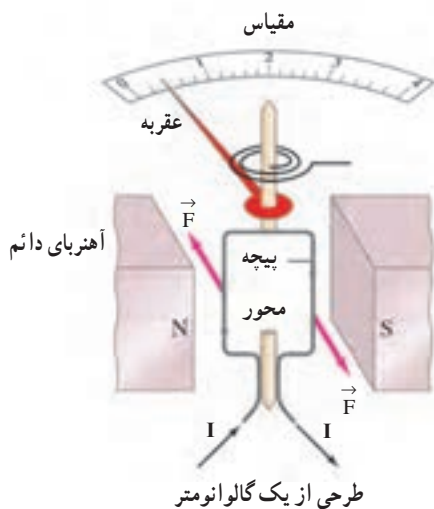
در قسمتی از دیوار خانه‌ای، یک سیم مستقیم $2/5$ متری قرار دارد که در لحظه‌های معینی، حامل جریان $1/5 A$ از شرق به غرب است. بزرگی میدان مغناطیسی زمین در محل این سیم $55/5^\circ$ گاوس و جهت آن از جنوب به شمال است. نیروی مغناطیسی وارد بر این سیم، با توجه به شرایط ذکر شده، چقدر است؟

فعالیت ۳-۳

آزمایشی را طراحی کنید که به کمک آن بتوان نیروی وارد بر سیم حامل جریان الکتریکی را اندازه‌گیری کرد.

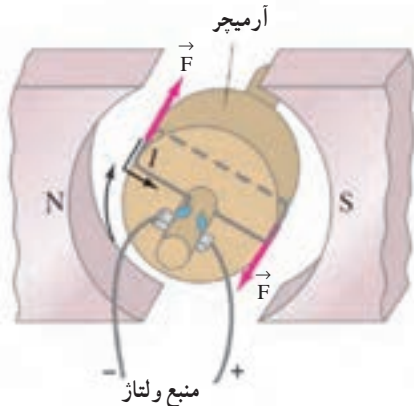
الف) طرز کار گالوانومتر: گالوانومتر وسیله‌ای است که با آن جریان‌های الکتریکی بسیار کوچک را اندازه می‌گیرند. امروزه وسیله‌های اندازه‌گیری کمیت‌های الکتریکی (یعنی شدت جریان، اختلاف پتانسیل، مقاومت و ...) معمولاً عقربه‌ای یا رقمی (دیجیتالی) هستند. با استفاده از مطالبی که تاکنون فراگرفته‌ایم، می‌توان ساز و کار گالوانومتر عقربه‌ای را مورد بررسی قرار داد.

هر گالوانومتر قابی دارد که دور آن سیم پیچیده شده است. این قاب در یک میدان مغناطیسی دائمی قوی قرار دارد. وقتی جریان از این پیچه می‌گذرد، میدان مغناطیسی با وارد کردن نیرو به قاب، آن را می‌چرخاند (شکل روبه‌رو را ببینید) و عقربه متصل به قاب منحرف می‌شود. هر قدر جریان



بزرگ‌تر شود، چرخش پیچه و انحراف عقربه بیشتر خواهد شد.

اگر جهت جریان وارون شود، جهت چرخش پیچه و انحراف عقربه نیز وارون خواهد شد. با قطع جریان، فنر ظرفی که در پشت پیچه قرار دارد، پیچه و عقربه را به حالت اولیه خود برمی‌گرداند. صفحه گالوانومتر که عقربه در مقابل آن می‌چرخد را برحسب آمپر مدرج می‌کنند، به این ترتیب که در مقابل هر زاویه، اندازه‌گیری که عقربه را به اندازه آن زاویه منحرف می‌کند، ثبت می‌کنند.



طرحی از یک موتور الکتریکی ساده. در این نوع از موتورها پیچه دور یک استوانه آهنی پیچیده می‌شود که به آن روتور می‌گویند.

(ب) موتور الکتریکی: موتورهای الکتریکی ابزارهایی هستند که انرژی الکتریکی را به انرژی مکانیکی تبدیل می‌کنند. این موتورها در انجام کارهای مختلف روزانه مورد استفاده قرار می‌گیرند، و اساس کار بسیاری از دستگاه‌ها نظیر جاروی برقی، مته برقی، آسیاب برقی، ماشین لباسشویی، پنکه و... را تشکیل می‌دهند.

ساختمان برخی از موتورهای الکتریکی مانند ساختمان گالوانومتر است، از این نظر که در این نوع موتور الکتریکی نیز عبور جریان از یک قاب (به نام روتور) واقع در میدان مغناطیسی، باعث چرخش پیچه می‌شود (شکل روبه‌رو). چرخش قطعات در دستگاه‌های نام برده در بالا از این حرکت پیچه ناشی می‌شود.

(پ) میدان‌های مغناطیسی بدن: در بدن انسان سالم با اندام متوسط حدود ۴ گرم عنصر آهن وجود دارد که ۳ گرم آن دائماً در حال واکنش‌های بیوشیمیایی است. یک گرم باقیمانده، ذخیره آهن بدن را تشکیل می‌دهد که عمدتاً در کبد ذخیره می‌شود. اندازه دقیق این ذخیره بستگی به موازنه جذب و دفع آهن در بدن دارد و کم یا زیاد شدنش گویای اختلال‌ها و مرض‌های گوناگون است. مثلاً کاهش این ذخیره باعث کم‌خونی می‌شود. در چند دهه اخیر به دنبال کاربردهای موفقیت‌آمیز روش‌های مغناطیسی در پزشکی، پژوهشگران بسیاری به بررسی تعیین میزان آهن موجود در بدن (بدون متوسل شدن به نمونه‌برداری) از طریق اندازه‌گیری‌های مغناطیسی پرداخته‌اند. تمام یاخته‌های زنده بدن، انسان به‌طور الکتریکی فعال‌اند. جریان‌های الکتریکی ضعیف در بدن،



میدان‌های مغناطیسی ضعیف ولی قابل اندازه‌گیری تولید می‌کنند. اندازه میدان‌های حاصل از عضله‌های اسکلتی کوچک‌تر از $10^{-10} T$ ، یعنی در حدود یک میلیونیم میدان مغناطیسی زمین است. میدان‌های مغناطیسی حاصل از مغز بسیار ضعیف‌تر و در حدود $10^{-12} T$ هستند و برای اندازه‌گیری آنها باید مغناطیس‌سنج‌های بسیار حساس به کار برد. در حال حاضر، چنین مغناطیس‌سنج‌هایی به نام اسکویید ساخته شده‌اند. شکل روبه‌رو یک دستگاه اسکویید را نشان می‌دهد که در حال اندازه‌گیری میدان مغناطیسی تولید شده در مغز است.

۳-۴- نیروی وارد بر ذره باردار متحرک در میدان مغناطیسی

در بخش پیش دیدیم که بر سیم حامل جریان الکتریکی در میدان مغناطیسی نیرو وارد می‌شود. اگر جریان صفر شود، نیروی وارد بر سیم نیز صفر می‌شود. در فصل ۲ دیدیم که جریان الکتریکی در واقع حرکت بارهای الکتریکی است و صفر شدن جریان در یک رسانا به طور متوسط به معنای توقف حرکت بارهای الکتریکی است. پس نتیجه می‌گیریم که نیروی وارد بر سیم حامل جریان در میدان مغناطیسی، در واقع بر بارهای متحرکی وارد می‌شود که در سیم جریان الکتریکی را به وجود می‌آورند.

آزمایش نشان می‌دهد که اگر ذره باردار q با سرعت \vec{v} در میدان مغناطیسی \vec{B} حرکت کند، (به شرط آنکه جهت حرکت آن موازی با میدان نباشد) بر آن نیروی وارد خواهد شد که مطابق شکل ۳-۱۳ بر راستای \vec{v} و میدان مغناطیسی \vec{B} عمود است. این نیرو را **نیروی مغناطیسی** می‌نامند و جهت آن مطابق شکل به کمک قاعده دست راست تعیین می‌شود. باید توجه کنیم که جهت نیروی وارد بر بار منفی همواره در خلاف جهت نیروی وارد بر بار مثبت است.

آزمایش نشان می‌دهد اندازه نیروی مغناطیسی وارد بر یک ذره باردار متحرک در میدان مغناطیسی مطابق رابطه زیر به چهار عامل بستگی دارد:

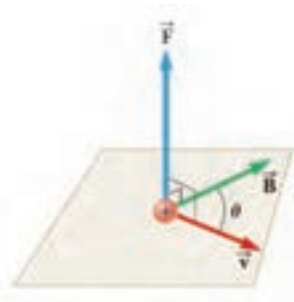
$$F = qvB \sin \theta$$

(۳-۳)

در این رابطه θ زاویه‌ای است که جهت حرکت بار الکتریکی (یعنی بردار \vec{v}) با جهت میدان مغناطیسی (یعنی بردار \vec{B}) می‌سازد (شکل ۳-۱۴).



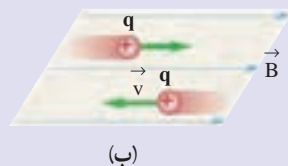
شکل ۳-۱۳ بر ذره باردار q یا $-q$ که با سرعت \vec{v} در میدان مغناطیسی \vec{B} حرکت می‌کند نیروی مغناطیسی \vec{F} وارد می‌شود که جهت آن با قاعده دست راست تعیین می‌شود.



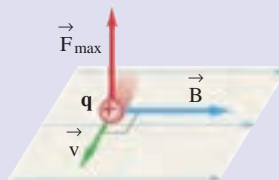
شکل ۳-۱۴ نیروی \vec{F} بر هر دو بردار \vec{v} و \vec{B} عمود است. به عبارت دیگر نیروی \vec{F} بر صفحه‌ای که توسط \vec{v} و \vec{B} تشکیل می‌شود عمود است.

پرسش ۳-۷

با توجه به رابطه ۳-۳ دریافت خود را از هر یک از شکل‌های الف و ب به طور جداگانه بیان کنید.

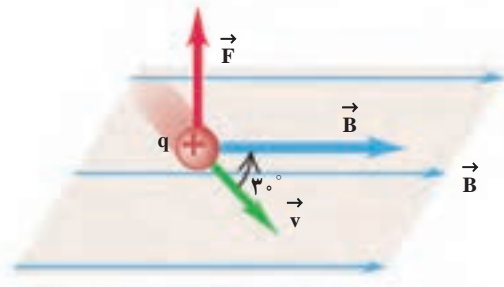


(ب)



(الف)

مثال ۲.۳



ذره‌ای با بار $4 \mu\text{C}$ + میکروکولن و با سرعت $2 \times 10^2 \text{ m/s}$ در جهتی حرکت می‌کند که با میدان مغناطیسی یکنواخت 100 G زاویه 3° می‌سازد (شکل روبه‌رو). بزرگی نیروی مغناطیسی وارد بر این ذره را محاسبه کنید.

پاسخ: با توجه به فرض‌های مسئله داریم:

$$q = +4 \mu\text{C} = +4 \times 10^{-6} \text{ C}$$

$$v = 2 \times 10^2 \text{ m/s}, B = 100 \text{ G} = 100 \times 10^{-4} \text{ T} = 10^{-2} \text{ T}$$

$$\theta = 3^\circ, F = ?$$

$$F = qvB \sin \theta$$

$$= (4 \times 10^{-6} \text{ C})(2 \times 10^2 \text{ m/s})(10^{-2} \text{ T}) \sin 3^\circ$$

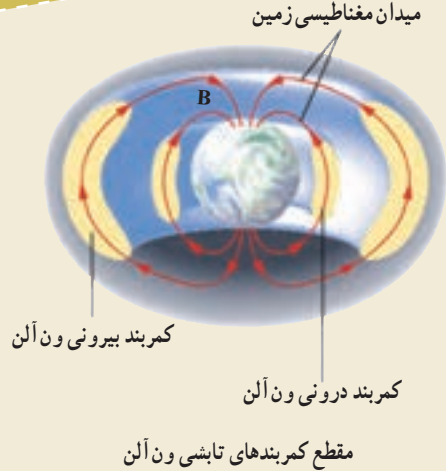
$$= 4 \times 10^{-5} \text{ N}$$

با قرار دادن داده‌های بالا در رابطه ۳-۳ داریم:

تمرین ۲.۳

بر الکترونی ($q = -1.6 \times 10^{-19} \text{ C}$) که با زاویه 6° نسبت به یک میدان مغناطیسی به بزرگی 35 G حرکت می‌کند، نیروی مغناطیسی به بزرگی $4/6 \times 10^{-15} \text{ N}$ وارد می‌شود. بزرگی سرعت این الکترون چقدر است؟

مطالعه آزاد



کمر بندهای تابشی ون آلن

در بیرون از جو زمین، ذره‌های باردار بسیاری با سرعت‌های فوق‌العاده زیادی در حرکت‌اند. این ذره‌های سریع را که معمولاً از جنس پروتون، هسته اتم هلیوم (ذره آلفا) و الکترون هستند **پرتوهای کیهانی** می‌نامند. این پرتوها علاوه بر فضا نوردان، برای سامانه‌های الکترونیکی واقع در فضا نیز خطرناک‌اند. خوشبختانه بیشتر این پرتوهای باردار توسط میدان مغناطیسی زمین منحرف می‌شوند و مانع از آسیب‌رسانی به موجودات و سامانه‌های روی زمین می‌شود. ذرات بارداری که در میدان مغناطیسی زمین به دام می‌افتند،

کمرندهای تابشی ون آلن را تشکیل می‌دهند (شکل صفحه قبل). این کمرندها که دو حلقه کلوچه مانند میان تهی را در اطراف زمین تشکیل می‌دهند، ون آلن در سال ۱۹۵۸ میلادی از داده‌های گردآوری شده توسط ماهواره اکسپلورر I کشف



تصویری خیره کننده از شفق قطبی

کرد و به افتخار او نام گذاری شده‌اند. فضانوردان در فاصله‌های ایمن بسیار پایین تر از این کمرندهای تابشی دور زمین می‌گردند. توفان‌های خورشیدی، ذره‌های باردار را به صورت فواره‌های عظیمی پرتاب می‌کنند که بسیاری از آنها از نزدیکی زمین می‌گذرند و در میدان مغناطیسی آن به دام می‌افتند. **شفق قطبی (نورهای شمالی)** پدیده زیبایی است که بر اثر برخورد ذره‌های باردار موجود در کمرند ون آلن با مولکول‌های جو زمین به وجود می‌آید (شکل روبه‌رو). در نیمکره جنوبی این پدیده **شفق جنوبی** نامیده می‌شود.

۳-۵- آثار مغناطیسی جریان الکتریکی

تا اینجا نیروهایی را بررسی کردیم که بر بارهای متحرک و رساناهای حامل جریان در میدان مغناطیسی وارد می‌شوند. هر چند بی‌بردی که در فضای اطراف آهنرباهای دائمی نیز میدان مغناطیسی وجود دارد. با وجود این، در ادامه این فصل با چشمه‌های دیگر میدان مغناطیسی آشنا خواهیم شد. اورستد دانشمند دانمارکی، در سال ۱۸۲۰ میلادی ضمن انجام برخی آزمایش‌های الکتریسیته، مشاهده کرد که عقربه مغناطیسی در کنار سیم حامل جریان الکتریکی منحرف می‌شود (شکل ۳-۱۵). او با انجام دادن آزمایش‌های بیشتر کشف کرد که عبور جریان الکتریکی از یک سیم رسانا، در اطراف آن یک میدان مغناطیسی به وجود می‌آورد. این کشف اورستد نخستین گام در راه درک رابطه بین الکتریسیته و مغناطیس بود که به گسترش مبحث الکترومغناطیس انجامید. در این بخش، به بررسی میدان مغناطیسی حاصل از جریان الکتریکی در سیم‌ها می‌پردازیم.



هانس کریستین اورستد (۱۷۷۷-۱۸۵۱)، فیزیک‌دان دانمارکی ابتدا به مطالعه فلسفه طبیعت رو آورد و سپس مطالب بسیاری درباره موضوع‌های فلسفی نوشت. اورستد در مقاله‌ای که به سال ۱۸۱۳ منتشر شد پیش‌بینی کرد که رابطه‌ای میان الکتریسیته و مغناطیس می‌توان یافت. او در سال ۱۸۲۰ قطب‌نمایی را زیر یک سیم حامل جریان گذاشت و کشف کرد که یک میدان مغناطیسی جریان الکتریکی را احاطه می‌کند. در سال‌های بعد او نظر دانشمندان دیگر مبنی بر اینکه کشف او درباره الکترومغناطیس تصادفی بوده است را به شدت انکار کرد.

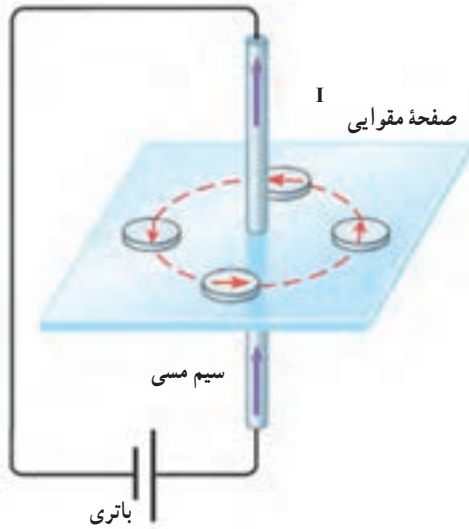


شکل ۳-۱۵ میدان مغناطیسی اطراف سیم حامل جریان را می‌توان با قرار دادن تعدادی عقربه مغناطیسی پیرامون آن نشان داد.

آزمایش ۳-۳

بررسی میدان مغناطیسی در اطراف سیم حامل جریان

آزمایش اورستد



وسایله‌های آزمایش: باتری، سیم مسی نسبتاً ضخیم، صفحه مقوایی، عقربه مغناطیسی (قطب‌نما) و سیم رابط

شرح آزمایش:

۱- سیم مسی را از صفحه مقوایی بگذرانید و با آن مداری مطابق شکل روبه‌رو تشکیل دهید.

۲- قبل از برقراری جریان الکتریکی، عقربه مغناطیسی را در مجاورت سیم، روی مقوا قرار دهید و به راستای قرارگرفتن آن توجه کنید.

۳- با وصل کردن مدار، جریان الکتریکی را از سیم مسی عبور دهید و به جهت‌گیری عقربه مغناطیسی توجه کنید.

۴- عقربه مغناطیسی را در نقطه‌های مختلف روی مقوا قرار دهید و جهت آن را بررسی کنید.

۵- با توجه به جهت‌گیری عقربه در نقاط مختلف صفحه مقوایی، چند خط میدان مغناطیسی را رسم کنید.

۶- این آزمایش را بار دیگر با جریانی در جهت مخالف تکرار کنید.

۷- به کمک چند باتری دیگر، تحقیق کنید که افزایش یا کاهش جریان چه تأثیری در نتیجه آزمایش دارد.

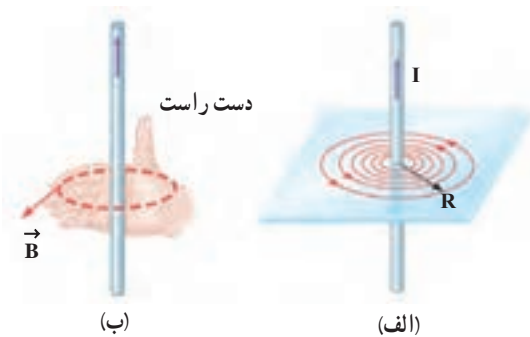
۸- نتیجه این آزمایش را در گروه خود بحث کنید و آن را به کلاس گزارش دهید.

با انجام این آزمایش می‌بینید که خط‌های میدان مغناطیسی حاصل از یک

سیم حامل جریان، مطابق شکل ۳-۱۶ الف به صورت دایره‌های هم‌مرکزی در اطراف سیم حامل جریان هستند. جهت خط‌های میدان مغناطیسی سیم حامل جریان را می‌توان به کمک عقربه مغناطیسی تعیین کرد. علاوه بر آن، با استفاده از قاعده دست راست نیز می‌توان این جهت را تعیین کرد؛ بنابراین قاعده، اگر سیم را مطابق شکل ۳-۱۶ ب در دست راست خود بگیرید به گونه‌ای که انگشت شست در جهت جریان الکتریکی باشد، جهت خم شدن چهار انگشت دست شما جهت خط‌های میدان مغناطیسی را در اطراف سیم نشان می‌دهد.

آزمایش نشان می‌دهد که اندازه میدان مغناطیسی \vec{B} در اطراف یک سیم نازک دراز مستقیم حامل جریان الکتریکی ای به شدت I در نقطه‌ای که فاصله عمودی آن از سیم برابر R است (شکل ۳-۱۶ الف) با I نسبت مستقیم و با R نسبت وارون دارد؛ یعنی:

$$B \propto \frac{I}{R}$$

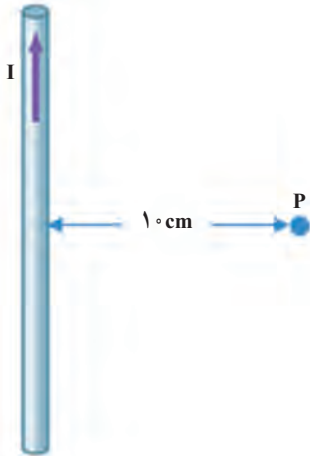


شکل ۳-۱۶ الف) خط‌های میدان مغناطیسی در اطراف سیم بلند حامل جریان I . ب) استفاده از قاعده دست راست برای تعیین جهت \vec{B} در اطراف یک سیم بلند حامل جریان I .

ضریب تناسب در SI برابر $\frac{\mu_0}{2\pi}$ است که در آن μ_0 تراوایی مغناطیسی خلأ و برابر با $\mu_0 = 4\pi \times 10^{-7} \frac{T.m}{A}$ است؛ در نتیجه داریم:

$$B = \frac{\mu_0 I}{2\pi R} \quad (4-3)$$

مثال ۳-۳



اندازهٔ میدان مغناطیسی ناشی از جریان ۲۰ آمپر را که از سیمی دراز و مستقیم می‌گذرد، در نقطه‌ای به فاصلهٔ ۱۰ cm از سیم حساب کنید (شکل روبه‌رو).
پاسخ: با توجه به داده‌های مسئله داریم:

$$I = 20 \text{ A} \quad , \quad R = 10 \text{ cm} = 0.10 \text{ m} \quad , \quad B = ?$$

با قرار دادن داده‌های بالا در رابطهٔ ۴-۳ داریم:

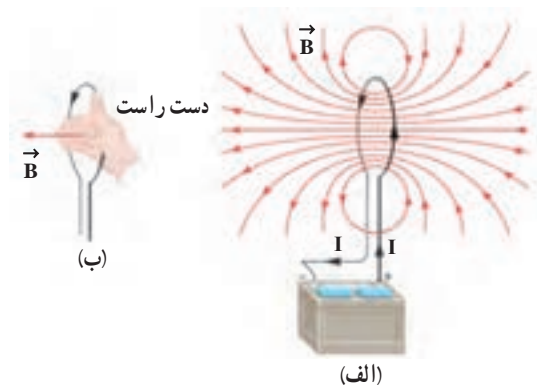
$$\begin{aligned} B &= \frac{\mu_0 I}{2\pi R} \\ &= \frac{(4\pi \times 10^{-7} \text{ T.m/A})(20 \text{ A})}{2\pi(0.10 \text{ m})} \\ &= 4.0 \times 10^{-5} \text{ T} = 0.40 \text{ G} \end{aligned}$$

تمرین ۳-۳

سیم مستقیم بلندی حامل جریان ۱ A است. بزرگی میدان مغناطیسی حاصل از این جریان در چه فاصله‌ای از سیم برابر $B = 0.5 \text{ G}$ (حدود بزرگی میدان مغناطیسی زمین) می‌شود؟

میدان مغناطیسی ناشی از یک حلقهٔ دایره‌ای حامل

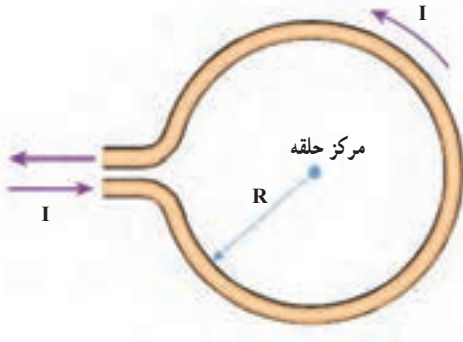
جریان: هرگاه سیم حامل جریانی را به صورت یک حلقه درآوریم، میدان مغناطیسی ناشی از آن در نقاط درون حلقه به مقدار قابل توجهی افزایش می‌یابد. در شکل ۳-۱۷ الف یک حلقهٔ رسانای دایره‌ای به شعاع R که حامل جریان I است نشان داده شده است. همان‌طور که دیده می‌شود خط‌های میدان مغناطیسی در ناحیهٔ داخل حلقه به یکدیگر نزدیک‌ترند؛ یعنی، میدان در این ناحیه قوی‌تر است. افزون بر این، در نقطه‌های روی محور حلقه، میدان موازی محور است. جهت خط‌های میدان مغناطیسی حلقه را می‌توان با قاعدهٔ دست راست تعیین کرد که در شکل ۳-۱۷ ب نشان داده شده است.



شکل ۳-۱۷ الف خط‌های میدان مغناطیسی در اطراف یک حلقهٔ حامل جریان. **ب** استفاده از قاعدهٔ دست راست برای تعیین جهت خط‌های میدان مغناطیسی یک حلقهٔ حامل جریان.

بزرگی میدان مغناطیسی حلقه‌ای به شعاع R و حامل جریان I در مرکز حلقه از رابطه زیر به دست می‌آید (شکل ۳-۱۸).

$$B = \frac{\mu_0 I}{2R} \quad (۵-۳)$$



شکل ۳-۱۸

اگر به یک موتور الکتریکی، آهنربای الکتریکی یا زنگ در بنگرید، پیچ‌هایی از سیم با تعداد زیادی دور را خواهید یافت که آن قدر به هم نزدیک‌اند که با تقریب خوبی می‌توان آن را یک حلقه دایره‌ای مسطح در نظر گرفت. از این پیچ‌ها که معمولاً به آنها **پیچ‌های مسطح** نیز گفته می‌شود، برای تولید میدان مغناطیسی در بسیاری از وسیله‌های برقی استفاده می‌شود.

بزرگی میدان مغناطیسی در مرکز پیچ مسطحی به شعاع R ، دارای N دور و حامل جریان I از رابطه زیر به دست می‌آید:

$$B = \frac{\mu_0 NI}{2R} \quad (۶-۳)$$

مثال ۳-۱۴

از پیچ مسطحی به شعاع $۶/۳\text{cm}$ که از ۲۰۰۰ دور سیم نازک درست شده است، جریان ۲۰mA آمپر می‌گذرد. میدان مغناطیسی را در مرکز پیچ به دست آورید.

پاسخ: با توجه به داده‌های مسئله داریم:

$$R = ۶/۳\text{cm} = ۶/۳ \times ۱۰^{-۲}\text{m} \text{ و } N = ۲۰۰۰ \text{ و } I = ۲۰\text{mA} \text{ و } B = ?$$

با قرار دادن داده‌های بالا در رابطه ۶-۳ داریم:

$$B = \frac{\mu_0 NI}{2R} = \frac{(4\pi \times 10^{-7} \text{ T}\cdot\text{m/A})(2000)(20 \times 10^{-3} \text{ A})}{2 \times (6/3 \times 10^{-2} \text{ m})} = 4/0 \times 10^{-4} \text{ T} = 4/0 \text{ G}$$

تمرین ۳-۱۴

بزرگی میدان مغناطیسی دور سر انسان به تقریب برابر $۳/۰ \times ۱۰^{-۸}\text{G}$ اندازه‌گیری شده است. اگرچه جریان‌هایی که این میدان به وجود می‌آورند بسیار پیچیده‌اند، ولی با در نظر گرفتن این جریان‌ها به صورت تک حلقه‌ای دایره‌ای به قطر ۱۶cm (پهنای یک سر نوعی) می‌توان اندازه آنها را تا حدودی تخمین زد. جریان لازم برای تولید این میدان در مرکز حلقه چقدر است؟

میدان مغناطیسی حاصل از سیملوله حامل جریان : سیملوله چند دور سیم است که

به شکل یک فنر پیچیده شده است (شکل ۳-۱۹ الف). اگر جریان الکتریکی از سیملوله‌ای عبور کند، در فضای اطراف سیملوله میدان مغناطیسی به وجود می‌آید.

طرح خط‌های میدان مغناطیسی یک سیملوله حامل جریان الکتریکی در داخل و خارج آن در شکل ۳-۱۹ ب نشان داده شده است. همان‌گونه که در این شکل می‌بینید، خط‌های میدان داخل سیملوله بسیار متراکم‌تر از خط‌های میدان در خارج آن است و این نشانگر بزرگ‌تر بودن میدان در داخل سیملوله است. علاوه بر این خط‌های میدان در داخل سیملوله، به ویژه در نقطه‌های نسبتاً دور از لبه‌های آن تقریباً موازی و هم‌فاصله‌اند و این نشانگر یکنواخت بودن میدان مغناطیسی درون سیملوله است. همان‌طور که دیده می‌شود، جهت میدان مغناطیسی در داخل سیملوله خلاف جهت میدان مغناطیسی در خارج آن است و مشابه حلقه حامل جریان به کمک قاعده دست راست تعیین می‌شود.

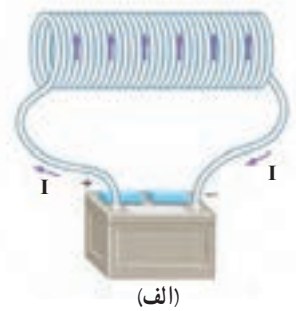
اگر شعاع سیملوله در مقایسه با طول آن، کوچک و حلقه‌های آن، خیلی به هم نزدیک باشند، میدان مغناطیسی داخل سیملوله در نقطه‌های دور از لبه‌ها یکنواخت است و اندازه آن از رابطه زیر به دست می‌آید :

$$B = \mu_0 n I \quad (۷-۳)$$

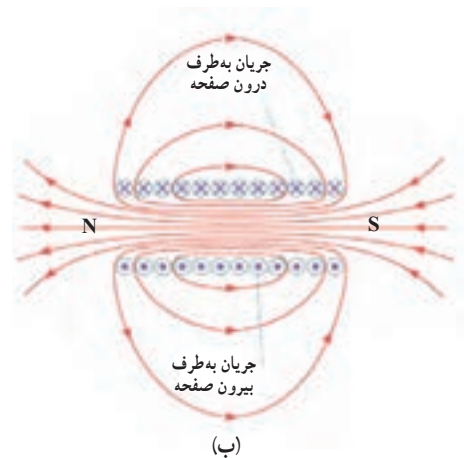
در این رابطه، I جریان و n تعداد دورهای سیملوله به ازای واحد طول است که از رابطه زیر به دست می‌آید :

$$n = \frac{N}{\ell} \quad (۸-۳)$$

که N تعداد کل دورهای سیملوله و ℓ طول سیملوله است.



(الف)



(ب)

شکل ۳-۱۹ الف سیمی که به صورت پیچیده مارپیچی بلند پیچیده شده باشد یک سیملوله است. **ب** میدان مغناطیسی داخل سیملوله (کمی دورتر از لبه‌ها) تقریباً یکنواخت است.

مثال ۳-۵

سیملوله‌ای به طول ۱۵cm و شعاع ۰/۷۵cm، دارای ۶۰۰ حلقه سیم نزدیک به هم است. اگر جریانی ۸۰۰mA از سیملوله بگذرد، بزرگی میدان مغناطیسی را در نقطه‌ای نزدیک به مرکز سیملوله پیدا کنید.

پاسخ : با توجه به داده‌های مسئله داریم :

$$I = ۸۰۰\text{mA} \text{ و } B = ? \text{ و } \ell = ۱۵\text{cm} = ۰/۱۵\text{m} \text{ و } R = ۰/۷۵\text{cm} \text{ و } N = ۶۰۰$$

چون شعاع سیملوله خیلی کوچک‌تر از طول سیملوله است (حدود)، می‌توان از رابطه ۳-۷ برای پیدا کردن میدان مغناطیسی درون سیملوله و دور از لبه‌ها، استفاده کرد. به این ترتیب داریم :

$$B = \mu_0 n I = \mu_0 \left(\frac{N}{\ell}\right) I \\ = (4\pi \times 10^{-7} \text{ T}\cdot\text{m/A}) \frac{600 \times (800 \times 10^{-3} \text{ A})}{0/15\text{m}} = 4/0 \times 10^{-3} \text{ T} = 40/0 \text{ G}$$

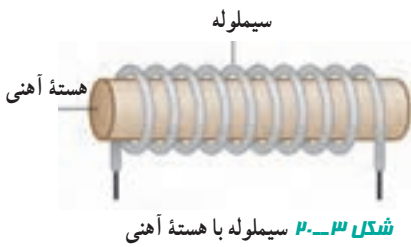
تمرین ۳-۵

سیملوله‌ای چنان طراحی شده است که میدان مغناطیسی در مرکز آن 27° گاوس باشد. شعاع این سیملوله $1/4$ cm و طول آن 40% cm است. اگر بخواهیم جریان بیشینه‌ای که از آن می‌گذرد $1/2$ A باشد کمترین تعداد دورهای آن در واحد طول چقدر باید باشد؟

فعالیت ۳-۴



آزمایشی را طراحی و اجرا کنید که به کمک آن بتوان با استفاده از براده آهن طرح خط‌های میدان مغناطیسی در اطراف یک سیم بلند، یک حلقه دایره‌ای و یک سیملوله حامل جریان به وجود آورد (شکل‌های روبه‌رو).



شکل ۳-۲۰ سیملوله با هسته آهنی

سیملوله با هسته آهنی – آهنربای الکتریکی: در بخش ۳-۱ دیدید با قرار دادن یک میله آهنی در میدان مغناطیسی می‌توان ویژگی مغناطیسی در آن القا کرد. اگر میله آهنی در یک سیملوله حامل جریان که میدان در آنجا از هر جای دیگر در اطراف سیملوله قوی‌تر است قرار گیرد، آن را **هسته سیملوله** می‌نامند (شکل ۳-۲۰). پیش از آنکه جریانی از سیملوله عبور کند، سیملوله و هسته آهنی خاصیت مغناطیسی ندارند. اما وقتی جریانی در سیملوله برقرار شود، میدان مغناطیسی سیملوله، خاصیت مغناطیسی در هسته آهنی القا می‌کند و هسته آهنی، آهنربا می‌شود. این آهنربا را **آهنربای الکتریکی** می‌نامند (شکل ۳-۲۱).

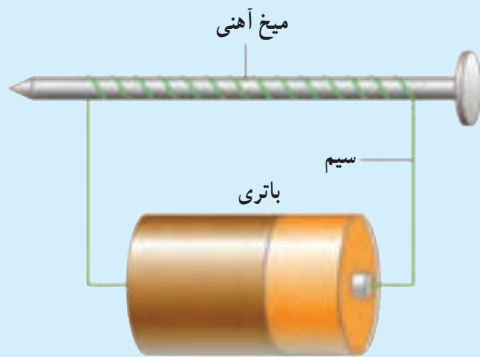
هر چه تعداد دورهای سیملوله در واحد طول و جریانی که از آن می‌گذرد بیشتر باشد، آهنربای الکتریکی قوی‌تر خواهد بود.

وجود هسته آهنی باعث تقویت میدان مغناطیسی سیملوله می‌شود. میدان مغناطیسی سیملوله بدون هسته آهنی به قدری ضعیف است که در عمل کاربردهای کمی دارد.



شکل ۳-۲۱ این آهنربای الکتریکی صنعتی شامل پیچیده‌ای حامل جریان است که تعداد زیادی دور سیم دارد. میدان مغناطیسی حاصل از آن قادر است مقدار زیادی میله‌های فولادی و دیگر قراضه‌های آهن را بلند کند.

فعالیت ۳-۵



به کمک یک میخ آهنی، یک تکه سیم بلند و یک باتری، یک آهنربای الکتریکی بسازید (شکل روبه‌رو) و اثر آهنربایی آن را روی تعدادی سوزن ته‌گرد، گیره فلزی کاغذی یا مقداری براده آهن بررسی کنید. چه تغییراتی در آهنربای الکتریکی باعث زیاد شدن خاصیت آهنربایی آن می‌شود؟

۳-۶- نیروی بین سیم‌های موازی حامل جریان

در آزمایش اورستد، دیدیم که در فضای اطراف هر سیم حامل جریان، میدان مغناطیسی وجود دارد. همچنین در بخش ۳-۲ دیدیم که آهنربا بر سیم حامل جریان نیرو وارد می‌کند. حال فرض کنید برای تولید میدان مغناطیسی به جای آهنربا از یک سیم حامل جریان استفاده کنیم. اگر سیم حامل جریان دیگری را در نزدیکی این سیم قرار دهیم، آیا نیرویی بر آن وارد می‌شود؟ برای پاسخ دادن به این پرسش، آزمایش ۳-۴ را انجام دهید.


آزمایش ۳-۴

بررسی اثر دو سیم حامل جریان بر یکدیگر

وسایله‌های آزمایش: دو تکه سیم بلند نازک (با قطر کم)، باتری، کلید قطع و وصل، سیم رابط، دو عدد پایه

شرح آزمایش:


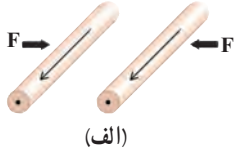
- ۱- مداری مطابق شکل زیر ببندید.
- ۲- با وصل کردن کلید، جریان را در مدار برقرار کنید. توجه کنید که جریان در دو سیم موازی، همسو است. مشاهده خود را گزارش دهید.



جریان‌های همسو در دو سیم موازی

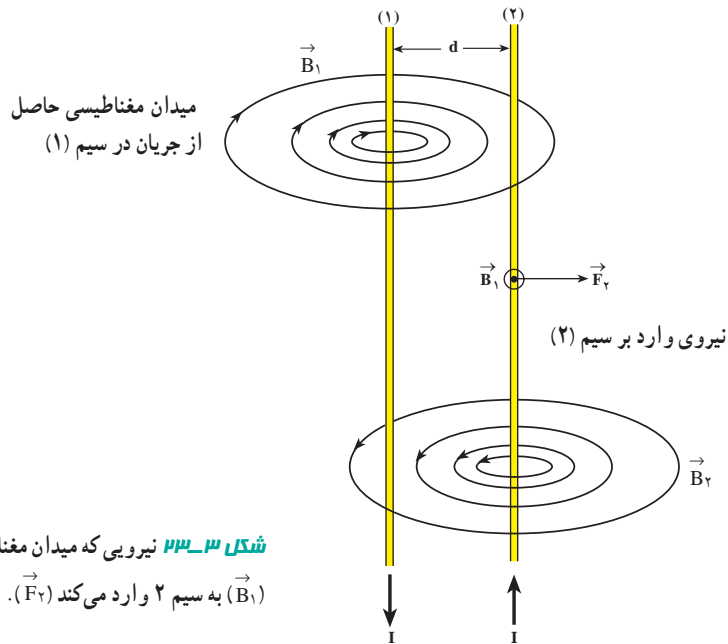
- ۳- مراحل ۱ و ۲ را برای وضعیتی که جریان در دو سیم موازی در جهت‌های مخالف (ناهمسو) باشد انجام دهید و نتیجه آزمایش را گزارش دهید.

آزمایش ۳-۴ نشان می‌دهد که سیم‌های حامل جریان الکتریکی بر یکدیگر نیرو وارد می‌کنند. هرگاه جریانی که از دو سیم می‌گذرد همسو باشد، دو سیم یکدیگر را می‌ربایند (شکل ۳-۲۲-الف) و اگر جریانی که از دو سیم می‌گذرد در جهت‌های مخالف باشد، دو سیم یکدیگر را می‌رانند (شکل ۳-۲۲-ب).



نیروی وارده بر هر سیم را می‌توان برحسب میدان مغناطیسی حاصل از جریان الکتریکی در سیم دیگر توضیح داد. برای این کار، دو سیم مستقیم و خیلی دراز موازی حامل جریان I و به فاصله d از یکدیگر را مطابق شکل ۳-۲۳ در نظر می‌گیریم. جریان الکتریکی در سیم شماره (۱) در فضای اطراف آن، میدان مغناطیسی \vec{B}_1 را به وجود می‌آورد. جهت میدان \vec{B}_1 در محل سیم شماره (۲) همان‌گونه که در شکل نشان داده شده است برونسو است. چون سیم شماره (۲) نیز حامل جریان الکتریکی I است، میدان \vec{B}_1 بر آن نیرو وارد می‌کند. این نیرو را در شکل با \vec{F}_r نشان داده‌ایم، جهت \vec{F}_r با استفاده از قاعده دست راست تعیین می‌شود.

شکل ۳-۲۲ الف) دو سیم موازی حامل جریان همسو یکدیگر را می‌ربایند. **ب)** دو سیم موازی حامل جریان ناهمسو، یکدیگر را می‌رانند.



شکل ۳-۲۳ نیرویی که میدان مغناطیسی سیم ۱ (\vec{B}_1) به سیم ۲ وارد می‌کند (\vec{F}_r).

تمرین ۳-۴

- الف) جهت نیروی وارد بر سیم شماره (۱) در شکل ۳-۲۳ را با استدلالی مشابه تعیین کنید.
- ب) جهت نیروها و میدان‌های مغناطیسی مربوط به دو سیم موازی حامل جریان‌های همسو را با رسم شکل و استفاده از قاعده دست راست مشخص کنید.
- پ) از دو سیم بلند موازی که به فاصله d از یکدیگر قرار دارند، جریان‌های همسوی I می‌گذرد. نیرویی را که به یک متر از هریک از سیم‌ها وارد می‌شود به دست آورید.

دیدیم که در دو سیم مستقیم دراز و موازی حامل جریان، با توجه به جهت جریان برهم نیروهای ربایشی یا رانشی وارد می‌کنند، این واقعیت، اساس تعریف یکای جریان الکتریکی یعنی آمپر در SI است. مطابق این تعریف:

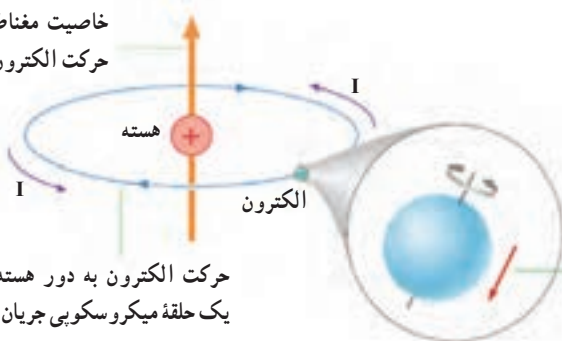
هرگاه از دو سیم نازک، موازی، مستقیم و بسیار دراز که به فاصله یک متر از یکدیگر در خلأ قرار دارند، جریان‌های مساوی به گونه‌ای عبور کند که بر یک متر از طول هریک از سیم‌ها نیرویی برابر 2×10^{-7} نیوتون وارد شود، جریانی که از هریک از سیم‌ها می‌گذرد، برابر یک آمپر است.

۳-۷- خواص مغناطیسی مواد

پیش از این دیدیم که برخی مواد خاصیت آهنربایی دارند، و در برخی مواد دیگر که در میدان مغناطیسی قرار می‌گیرند خاصیت آهنربایی القا می‌شود. برای نمونه، هسته آهنی یک آهنربای الکتریکی را به یاد بیاورید (شکل ۳-۲۰). اکنون این پرسش پیش می‌آید که منشأ این رفتار مواد چیست؟ در این بخش به بررسی این موضوع می‌پردازیم.

وقتی به بررسی ساختمان کوچک‌ترین جزء سازنده ماده، یعنی اتم می‌پردازیم متوجه می‌شویم که منشأ خاصیت مغناطیسی برخی از مواد ناشی از اتم‌های تشکیل دهنده آنهاست. برای بررسی دقیق‌تر این موضوع به شکل ۳-۲۴ توجه کنید. در این شکل، اتمی با یک الکترون نشان داده شده است که علاوه بر چرخیدن به دور هسته، به دور خودش نیز می‌چرخد. در واقع منشأ خاصیت مغناطیسی اتم ناشی از این دو نوع حرکت است. به این ترتیب می‌توان گفت هر الکترون چرخان درون اتم، یک آهنربای بسیار ریز است. به طوری که اگر اتم، یک زوج الکترون داشته باشد که در یک جهت بچرخند، آهنربای قوی‌تری را به وجود می‌آورند. اما اگر این زوج الکترون در جهت‌های مخالف یکدیگر بچرخند، برخلاف هم عمل و خاصیت مغناطیسی یکدیگر را خنثی می‌کنند. به همین سبب است که برخی مواد خاصیت مغناطیسی دارند و برخی دیگر خواص مغناطیسی ندارند.


خاصیت مغناطیسی ناشی از حرکت الکترون به دور هسته



حرکت الکترون به دور هسته مانند یک حلقه میکروسکوپی جریان است.

خاصیت مغناطیسی ناشی از حرکت الکترون به دور خودش


شکل ۳-۲۴ چرخش الکترون به دور هسته و به دور خودش، منشأ خاصیت مغناطیسی اتم است. همان‌طور که دیده می‌شود سهم خاصیت مغناطیسی ناشی از حرکت الکترون‌ها به دور هسته، بسیار بیشتر از سهم ناشی از حرکت الکترون‌ها به دور خودشان است.




هر ذره سازنده مواد مغناطیسی، یک آهنربای بسیار ریز است که آن را دوقطبی مغناطیسی می نامند.

شکل ۳-۲۵ سمت گیری کاتوره ای دوقطبی های مغناطیسی در یک ماده پارامغناطیسی در نبود میدان مغناطیسی.


$$\vec{B} = 0$$



(الف)



(ب)



(ب)

شکل ۳-۲۷ (الف) ماده فرو مغناطیسی در نبود میدان مغناطیسی خارجی ($\vec{B} = 0$). (ب) ماده فرو مغناطیسی در حضور میدان مغناطیسی خارجی ضعیف، (ب) ماده فرو مغناطیسی در حضور میدان مغناطیسی خارجی قوی.

موادی که اتم ها یا مولکول های سازنده آنها دارای خاصیت مغناطیسی باشند، مواد مغناطیسی می نامند. در واقع می توان گفت کوچک ترین ذره های تشکیل دهنده این مواد (اتم ها یا مولکول ها) هر کدام آهنرباهای بسیار ریزی هستند که به آنها دوقطبی مغناطیسی نیز گفته می شود. در این کتاب، دوقطبی های مغناطیسی را با یک پیکان کوچک نشان می دهیم که می تواند جهت گیری های متفاوتی داشته باشد و هر کدام از آنها وابسته به یک اتم یا مولکول اند. در ادامه به بررسی برخی از مواد مغناطیسی می پردازیم.

مواد پارامغناطیسی: دوقطبی های مغناطیسی در یک ماده پارامغناطیسی سمت گیری مشخص و منظمی ندارند و در جهت های کاتوره ای قرار دارند (شکل ۳-۲۵). در نتیجه این مواد خاصیت مغناطیسی ندارند. اگر آنها را درون یک میدان مغناطیسی (مثلاً نزدیک یک آهنربا) قرار دهیم، دوقطبی های کوچک مانند عقربه های مغناطیسی در نزدیکی آهنربا رفتار می کنند؛ یعنی در راستای خط های میدان مغناطیسی منظم می شوند. هر چه میدان مغناطیسی قوی تر باشد، تعداد بیشتری از این دوقطبی های مغناطیسی کوچک با میدان هم خط می شوند. در نتیجه، خاصیت مغناطیسی ماده بیشتر می شود.

اگر آهنربا را از این مواد دور کنیم، دوقطبی های مغناطیسی دوباره و به سرعت به وضعیت کاتوره ای در غیاب میدان برمی گردند.

به این ترتیب، مواد پارامغناطیسی در میدان های مغناطیسی قوی تا حدودی خاصیت مغناطیسی موقت پیدا می کنند. اورانیم، پلاتین، آلومینیم، سدیم، اکسیژن و اکسید نیتروژن از جمله مواد پارامغناطیسی اند.

مواد فرو مغناطیسی: در برخی از مواد مغناطیسی، دوقطبی های مغناطیسی کوچک خود به خود با دوقطبی های مجاور خود هم خط می شوند. این گونه مواد را فرو مغناطیسی می نامند. در عمل، همه

بخش های مغناطیسی در یک ماده فرو مغناطیسی در یک راستا قرار ندارند؛ بلکه این گونه مواد از بخش های بسیار کوچکی به نام حوزة مغناطیسی تشکیل شده اند که ابعاد آن در بیشتر مواد فرو مغناطیسی حدود 10^{-4} تا

10^{-6} متر است. هر حوزة از تعداد بسیار زیادی اتم تشکیل شده است به طوری که دوقطبی های مغناطیسی آنها به طور کامل، هم خط اند. ولی سمت گیری دوقطبی های مغناطیسی هر حوزة با حوزة های مجاور آن

تفاوت دارد (شکل ۳-۲۶ الف). این گونه مواد را می توان با قرار دادن در یک میدان مغناطیسی آهنربا کرد. اثر میدان مغناطیسی خارجی بر حوزة های مغناطیسی باعث می شود که دوقطبی های مغناطیسی هر

حوزة تحت تأثیر میدان مغناطیسی قرار گیرند و جهت آنها به جهت میدان خارجی متمایل شود. علاوه بر این حوزة هایی که نسبت به میدان در وضع مناسبی قرار دارند (با میدان همسو هستند) رشد می کنند؛ یعنی

حجمشان زیاد می شود و در نتیجه، حوزة هایی که سمت گیری آنها نسبت به میدان مناسب نیست، کوچک شوند؛ یعنی مرز بین حوزة ها جابه جا می شود، و در نتیجه ماده در مجموع خاصیت آهنربایی پیدا می کند.

در شکل ۳-۲۶ ب ماده فرو مغناطیسی را در یک میدان مغناطیسی خارجی \vec{B} قرار داده ایم:

مرزهای حوزة ها جابه جا شده اند و در نتیجه، ماده در مجموع خاصیت مغناطیسی پیدا کرده است. در شکل ۳-۲۶ پ میدان مغناطیسی خارجی آن قدر قوی است که بیشتر حجم ماده را حوزة های با

سمت گیری مناسب (همسو با میدان) اشغال کرده اند. در برخی از مواد فرو مغناطیسی مانند آهن، کبالت و نیکل در صورتی که خالص باشند، حجم حوزة ها به سهولت تغییر می کند و در نتیجه با این روش به آسانی آهنربا می شوند و خاصیت آهنربایی خود را

نیز به راحتی از دست می‌دهند. این مواد را **فرومغناطیسی نرم** می‌نامند. از این گونه مواد در هسته سیمولوله‌ها استفاده می‌شود. مواد فرومغناطیس نرم با حذف میدان مغناطیسی خارجی خاصیت آهنربایی خود را از دست می‌دهند و به دلیل همین خاصیت، آنها برای ساختن آهنرباهای الکتریکی (آهنرباهای غیر دائم) مناسب‌اند. برخی مواد دیگر مانند فولاد (آهن به اضافه دو درصد کربن)، آلیاژهای آهن، کبالت و نیکل به سختی آهنربا می‌شوند؛ یعنی حجم حوزه‌ها در آنها به سختی تغییر می‌کند. این مواد را **فرومغناطیسی سخت** می‌نامند. در این گونه مواد برای افزایش حجم حوزه‌هایی که سمت‌گیری مناسب دارند (یعنی با میدان خارجی همسو هستند) به میدان‌های مغناطیسی خارجی قوی‌تری نیازمند است. در این مواد، سمت‌گیری دوقطبی‌های مغناطیسی حوزه‌ها پس از حذف میدان خارجی به سهولت تغییر نمی‌کند. به عبارت دیگر، پس از برداشتن میدان مغناطیسی خارجی، ماده فرومغناطیسی سخت، خاصیت آهنربایی خود را تا اندازه قابل توجهی حفظ می‌کند. به همین دلیل این مواد برای ساختن آهنرباهای دائمی مناسب‌اند.

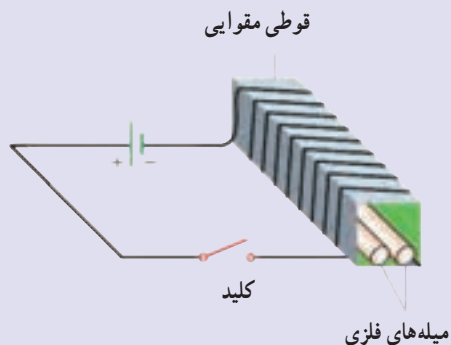
برای خاصیت آهنربایی هر ماده فرومغناطیسی، مقدار اشباع یا بیشینه‌ای وجود دارد. این وضعیت هنگامی به وجود می‌آید که ماده فرومغناطیسی در یک میدان مغناطیسی بسیار قوی قرار گیرد؛ به طوری که درصد بالایی از دوقطبی‌های مغناطیسی اتمی به موازات یکدیگر هم‌خط شوند. به عبارت دیگر حجم حوزه‌هایی که با میدان مغناطیسی خارجی همسو هستند به بیشترین مقدار خود برسد.

مطالعه آزاد

مواد مغناطیسی آلاینده

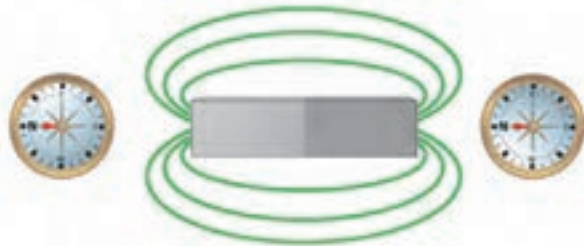
ذره‌های ریز مواد غیر آلی به طور عمده از طریق استنشاق به طور پیوسته وارد بدن ما می‌شوند. معدن چیان، جوش کاران و گروه‌های دیگر که به علت حرفه خود در معرض غبارها و دودهای صنعتی قرار دارند، ممکن است بر اثر جمع شدن ذره‌های ریز در مجاری تنفسی و کیسه‌های هوایی به اختلال‌های ریوی دچار شوند. بیشتر غبارهای صنعتی و معدنی حاوی مقادیر قابل ملاحظه‌ای از ترکیب‌های فرومغناطیسی‌اند که این مواد می‌توانند در میدان مغناطیسی خارجی ویژگی آهنربایی به دست آورند یا اصطلاحاً مغناطیده شوند. با اندازه‌گیری میدان مغناطیسی ناشی از ذره‌های مغناطیده می‌توان مقدار و توزیع آلودگی در شش‌ها را تعیین کرد. این روش که مغناطونوموگرافی (MPG) نامیده می‌شود، در سطح جمعیت‌های بزرگ، برای نظارت و کنترل سطح آلودگی دراز مدت ریوی به کار گرفته می‌شود. اخیراً با دقیق‌تر کردن این روش، فیزیولوژیست‌ها توانسته‌اند به بررسی سازوکار پاک‌سازی شش‌ها در سطح سلولی بپردازند.

پرسش ۳-۸



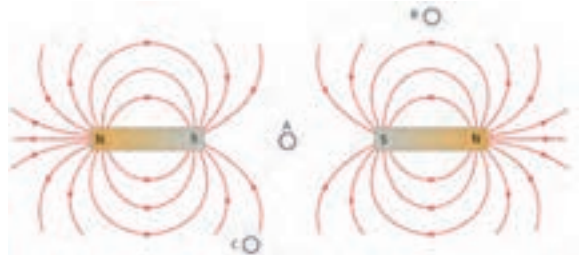
دو میله فلزی بلند مطابق شکل زیر درون پیچۀ درازی قرار دارند. با بستن کلید و عبور جریان از این پیچه، مشاهده می‌شود دو میله از یکدیگر دور می‌شوند و هنگامی که کلید باز و جریان قطع می‌شود، میله‌ها به محل اولیه بازمی‌گردند. الف) چرا با عبور جریان از پیچه، میله‌ها از یکدیگر دور می‌شوند؟ ب) با دلیل توضیح دهید میله‌های فلزی از نظر مغناطیسی چه نوعی هستند.

پرسش‌ها



۱ الف) با توجه به جهت‌گیری عقربه‌های مغناطیسی در شکل روبه‌رو، قطب‌های آهنربای میله‌ای و جهت خط‌های میدان مغناطیسی را تعیین کنید.

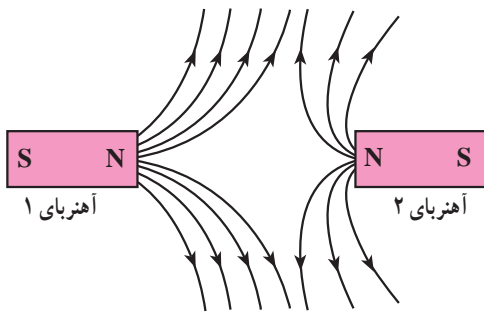

ب) آیا خط‌های میدان در داخل آهنربای میله‌ای نیز وجود دارند؟ در صورتی که پاسخ مثبت است، آنها را رسم کنید.



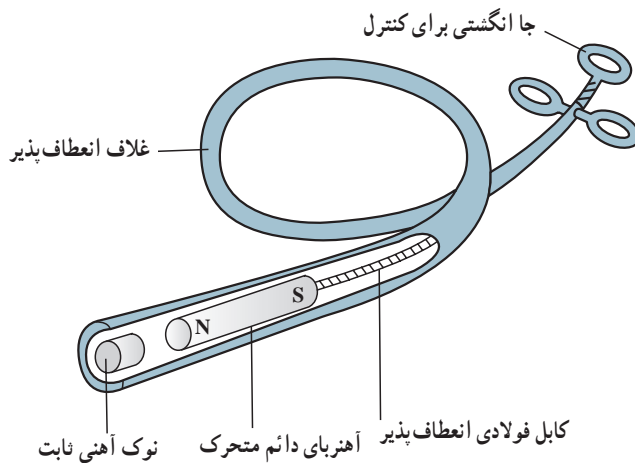
۲ شکل روبه‌رو، خط‌های میدان مغناطیسی را در نزدیکی دو آهنربای میله‌ای نشان می‌دهد.

الف) دربارهٔ میدان مغناطیسی در قسمت A چه می‌توان گفت؟
ب) با رسم شکل نشان دهید عقربهٔ قطب‌نما در قسمت‌های B و C به ترتیب در کدام جهت قرار می‌گیرد؟

پ) اگر مانند شکل روبه‌رو یکی از آهنرباها را بچرخانیم تا جای قطب‌های آن عوض شود، خط‌های میدان مغناطیسی را در ناحیهٔ نقطه‌چین رسم کنید.



۳ الف) آهنربایی میله‌ای با قطب‌های نامشخص در اختیار داریم. دست کم دو روش را برای تعیین قطب‌های این آهنربا بیان کنید.
ب) خط‌های میدان مغناطیسی بین دو آهنربا در شکل روبه‌رو نشان داده شده است؛ میدان مغناطیسی در نزدیکی قطب‌های کدام آهنربا ضعیف‌تر است؟



۴ یک قطعهٔ کوچک فلز در گلولی کودکی که آن را بلعیده است گیر کرده است. پزشک می‌خواهد آن را با دستگاه شکل روبه‌رو بیرون بیاورد.

الف) هنگامی که آهنربای دائمی به نوک ثابت آهنی نزدیک می‌شود چه اتفاقی می‌افتد؟

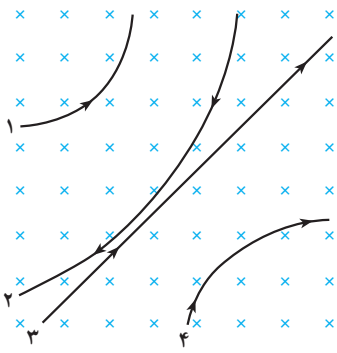
ب) ساختن نوک ثابت آهن چه مزیتی دارد؟

پ) این وسیله را باید به درون گلولی کودکی وارد و به سوی فلز بلعیده شده هدایت کرد؛ چرا غلاف باید انعطاف‌پذیر باشد؟

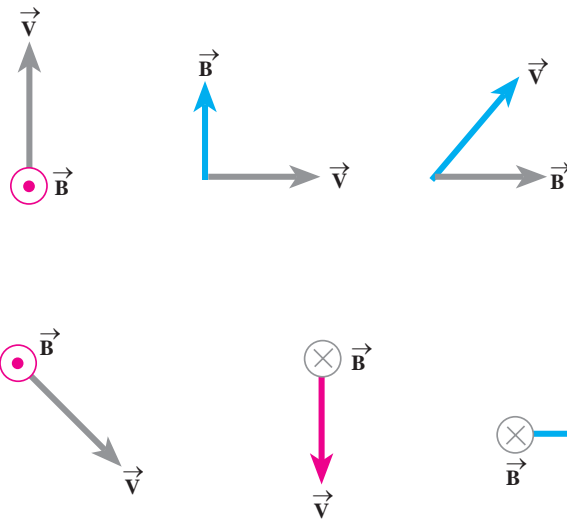
ت) پزشک می‌خواهد یک گیرهٔ آهنی کاغذ و یک واشر

آلومینیومی را از گلولی کودکی بیرون بیاورد؛ کدام یک را می‌تواند بیرون آورد؟ چرا؟

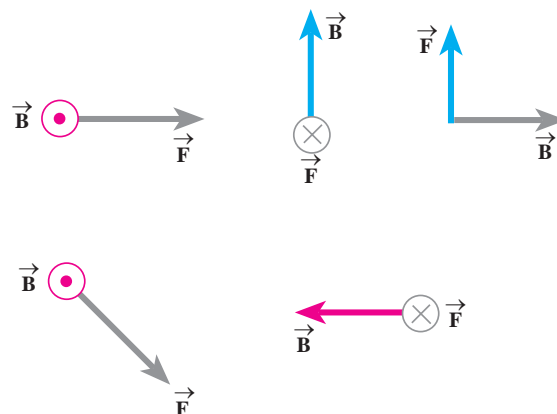
۵ چهار ذره هنگام عبور از میدان مغناطیسی درون سو مسیرهایی مطابق شکل روبه‌رو می‌پیمایند. درباره‌ی نوع بار هر ذره چه می‌توان گفت؟

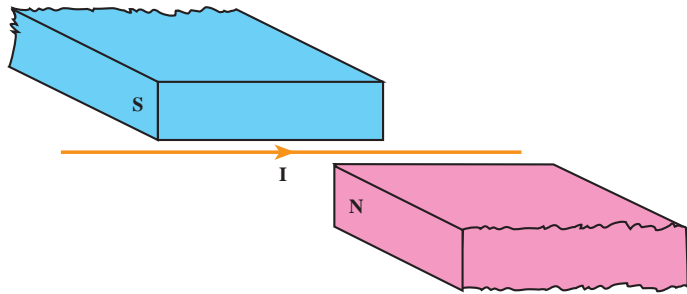
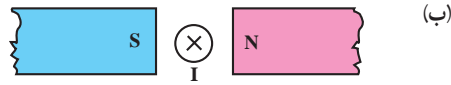
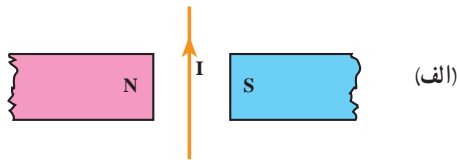


۶ جهت نیروی مغناطیسی وارد بر بار مثبت را در هر یک از حالت‌های نشان داده در شکل زیر تعیین کنید.



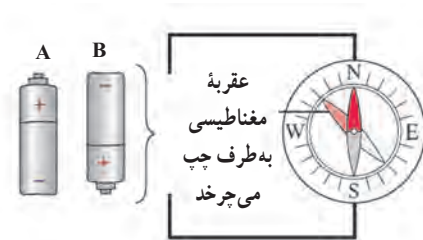
۷ نیروی مغناطیسی \vec{F} وارد بر الکترونی که در میدان مغناطیسی \vec{B} در حرکت است، در شکل زیر نشان داده شده است. فرض کنید راستای حرکت الکترون بر میدان مغناطیسی عمود است؛ در هر یک از حالت‌های نشان داده شده جهت سرعت الکترون را تعیین کنید.





(پ)

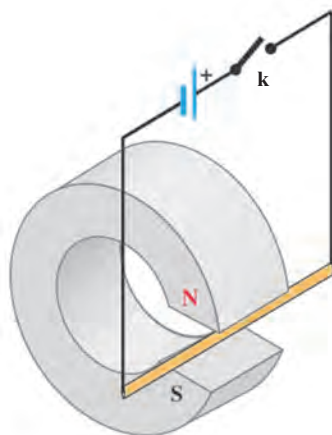
۸ جهت نیروی الکترومغناطیسی بر سیم حامل جریان را در هر یک از شکل‌های الف، ب و پ با استفاده از قاعده دست راست بیابید.



۹ کدام باتری را در مدار شکل روبه‌رو قرار دهیم تا عقربه قطب‌نما که روی سیم قرار دارد، در خلاف جهت حرکت عقربه‌های ساعت بچرخد؟ دلیل انتخاب خود را توضیح دهید.

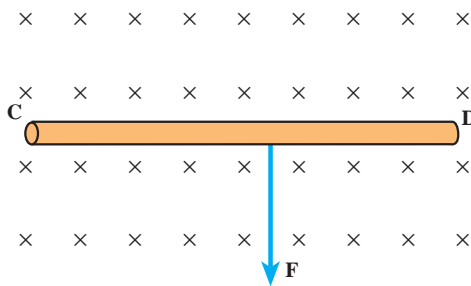


۱۰ کدام باتری را در مدار شکل روبه‌رو قرار دهیم تا آهنربای میله‌ای آویزان شده به طرف سیملوله جذب شود؟ دلیل انتخاب خود را توضیح دهید.

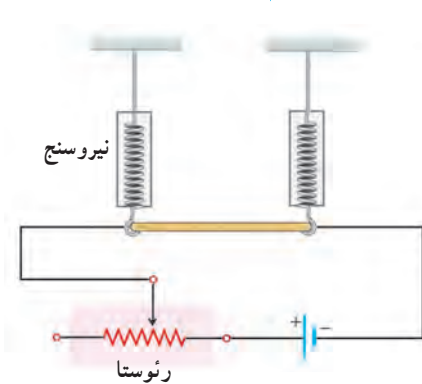


۱۱ یک میله رسانا به پایانه‌های یک باتری وصل شده و مطابق شکل در فضای بین قطب‌های یک آهنربای نعلی شکل آویزان شده است؛ با بستن کلید K، چه اتفاقی برای میله رسانا رخ می‌دهد؟ توضیح دهید.

مسئله‌ها



۱ سیم رسانای CD به طول ۲m مطابق شکل روبه‌رو عمود بر میدان مغناطیسی با اندازه 5T قرار گرفته است؛ اگر نیروی الکترومغناطیسی وارد بر سیم برابر ۱N باشد، جهت و اندازه جریان عبوری از سیم را تعیین کنید.



۲ یک سیم حامل جریان $1/6$ آمپر مطابق شکل روبه‌رو با دو نیروسنج فنری که به دو انتهای آن بسته شده‌اند، به‌طور افقی و در راستای غرب به شرق قرار دارد. میدان مغناطیسی زمین را افقی و یکنواخت و درست به‌طرف شمال با بزرگی 5mT بگیرد.

الف) نیروی مغناطیسی وارد بر هر متر این سیم را تعیین کنید.
ب) اگر بخواهیم نیروسنج‌ها عدد صفر را نشان دهند، چه جریانی و در چه جهتی باید از سیم عبور کند؟ جرم یک متر از طول این سیم ۸ گرم است ($g = 10\text{N/kg}$).

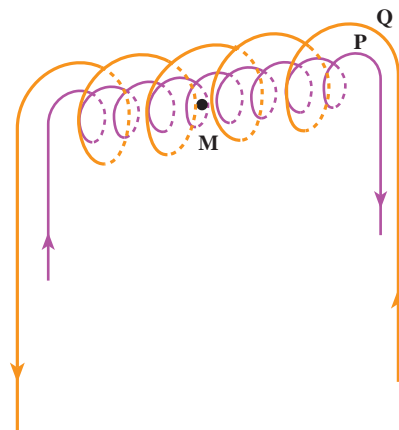
۳ پروتونی با سرعت 10^6m/s در زاویه $4/4$ در زاویه 53° با میدان مغناطیسی 18mT در حرکت است. الف) بزرگی نیروی وارد بر این پروتون را محاسبه کنید.

ب) اگر تنها این نیرو بر پروتون وارد شود، شتاب پروتون را حساب کنید. (بار الکتریکی پروتون 10^{-19}C و جرم آن 10^{-27}kg است.)

۴ از پیچه مسطحی به شعاع 5cm که از 200 دور سیم نازک درست شده است، جریان $1/2\text{A}$ می‌گذرد. میدان مغناطیسی را در مرکز پیچه حساب کنید.

۵ سیم‌لوله‌ای شامل 250 دور حلقه است که دور یک لوله پلاستیکی توخالی به طول 14 متر پیچیده شده است. اگر جریان گذرنده از سیم‌لوله 8A باشد، بزرگی میدان مغناطیسی درون سیم‌لوله را حساب کنید.

۶ در (شکل روبه‌رو) دو سیم‌لوله P و Q هم‌محور، طول برابر و تعداد دور متفاوت دارند. تعداد دور سیم‌لوله P برابر 200 و تعداد دور سیم‌لوله Q برابر 300 است. اگر جریان 1A از سیم‌لوله Q عبور کند، از سیم‌لوله P چه جریانی باید عبور کند تا برآیند میدان مغناطیسی ناشی از دو سیم‌لوله در نقطه M (روی محور دو سیم‌لوله) صفر شود؟



۷ الکترونی با سرعت 10^5m/s در یک میدان مغناطیسی در حرکت است. نیرویی که از طرف میدان مغناطیسی بر این الکترون وارد می‌شود، هنگامی بیشینه است که الکترون به سمت جنوب حرکت کند.

الف) اگر این نیروی بیشینه بالاسو و برابر $6/8 \times 10^{-14}\text{N}$ باشد، بزرگی و جهت میدان مغناطیسی را تعیین کنید.

ب) چه میدان الکتریکی همین نیرو را ایجاد می‌کند؟ (بار الکتریکی الکترون 10^{-19}C است.)