

بِسْمِ اللّٰهِ الرَّحْمٰنِ الرَّحِیْمِ

اَللّٰهُمَّ صَلِّ عَلٰی مُحَمَّدٍ وَّ اٰلِ مُحَمَّدٍ وَّ عَجِّلْ فَرَجَهُمْ



علوم تجربی

پایه هفتم


دوره اول متوسطه



وزارت آموزش و پرورش سازمان پژوهش و برنامه‌ریزی آموزشی

نام کتاب :	علوم تجربی پایه هفتم دوره اول متوسطه - ۷۰۶
پدیدآورنده :	سازمان پژوهش و برنامه‌ریزی آموزشی
مدیریت برنامه‌ریزی درسی و تألیف :	دفتر تألیف کتاب‌های درسی عمومی و متوسطه نظری
شناسه افزوده برنامه‌ریزی و تألیف :	آمه احمدی، احمد احمدی، محمود امانی تهرانی، پرویز انصاری‌راد، محمدحسن بازوبندی، عابد بدریان، ناهید بربری، سیدمرتضی جدی‌آرانی، حسن حذرخانی، محمد حسینی، محمدتقی زائری، معصومه سلطانی مطلق، دوست محمدسمیعی، مریم شباک، حسن طاهری، الهه علوی، فائزه فاضلی، بهمن فخریان، ژینوس کشتکاری، الهام سادات میرمحمدی و حمید نقی‌زاده (اعضای شورای برنامه‌ریزی)
مدیریت آماده‌سازی هنری :	احمد احمدی، پرویز انصاری‌راد، محمدحسن بازوبندی، حسن حذرخانی، روح‌الله خلیلی بروجنی، دوست محمد سمیعی، الهه علوی و بهمن فخریان (اعضای گروه تألیف) - شهین باری، الهام غنی‌زاده، ژینوس کشتکاری (معلمان همکار) - سید اکبر میرجعفری (ویراستار)
مدیریت آماده‌سازی :	اداره کل نظارت بر نشر و توزیع مواد آموزشی
شناسه افزوده آماده‌سازی :	احمدرضا امینی (مدیر امور فنی و چاپ) - مجید ذاکری یونسی (مدیر هنری) - سیدعلی موسوی (طراح گرافیک و طراح جلد) - سیده الناز هاشم منیری، زهرا پرکاه، سید جلال‌الدین موسوی، سیدعلی موسوی، علی‌مهاجران، باربد صفایی ماهرو و احمد نشان (عکاس) - حسین وهابی (صفحه‌آرا) - فاطمه باقری مهر، فاطمه صغری ذوالفقاری، نوشین معصوم‌دوست، فاطمه پزشکی، ناهید خیام‌باشی، سیده‌شیوا شیخ‌الاسلامی (امور آماده‌سازی)
نشانی سازمان :	تهران : خیابان ایران‌شهر شمالی - ساختمان شماره ۴ آموزش و پرورش (شهید موسوی) تلفن : ۸۸۸۳۱۱۶۱-۹، دورنگار : ۸۸۳۰۹۲۶۶، کد پستی : ۱۵۸۴۷۴۷۳۵۹ وبگاه : www.irtextbook.ir و www.chap.sch.ir
ناشر :	شرکت چاپ و نشر کتاب‌های درسی ایران : تهران - کیلومتر ۱۷ جاده مخصوص کرج - خیابان ۶۱ (داروپخش) تلفن : ۴۴۹۸۵۱۶۱-۵، دورنگار : ۴۴۹۸۵۱۶۰، صندوق پستی : ۳۷۵۱۵-۱۳۹
چاپخانه :	شرکت چاپ و نشر کتاب‌های درسی ایران «سهامی خاص»
سال انتشار و نوبت چاپ :	چاپ هشتم ۱۳۹۹

کلیه حقوق مادی و معنوی این کتاب متعلق به سازمان پژوهش و برنامه‌ریزی آموزشی وزارت آموزش و پرورش است و هرگونه استفاده از کتاب و اجزای آن به صورت چاپی و الکترونیکی و ارائه در پایگاه‌های مجازی، نمایش، اقتباس، تلخیص، تبدیل، ترجمه، عکس‌برداری، نقاشی، تهیه فیلم و تکثیر به هر شکل و نوع، بدون کسب مجوز از این سازمان ممنوع است و متخلفان تحت پیگرد قانونی قرار می‌گیرند.



در علم و تقوا کوشش کنید که علم به هیچ کس انحصار ندارد. علم مال همه است. تقوا مال همه است و کوشش برای رسیدن به علم و تقوا وظیفه همه ماست و همه شماست.
امام خمینی «فُدَّیس سِرَّة»

سخنی با همکاران ارجمند

علوم تجربی کوشش انسان برای درک واقعیت‌های خلقت و کشف فعل خداوند تعریف شده است. درس علوم به آسانی می‌تواند بین چهار عرصه خود، خلق، خلقت، مبتنی بر ارتباط با خالق متعال ارتباطی منسجم، منطقی و معنادار به وجود آورد. شناخت و استفاده مسئولانه از طبیعت به مثابه بخشی از آفرینش الهی با هدف تکریم، آبادانی و آموختن از آن برای ایفای نقش سازنده در ارتقای سطح زندگی فردی، خانوادگی، ملی و جهانی از ضرورت‌های علوم تجربی است. به همین دلیل باید همه‌جانبه‌نگری، رویکرد تلفیقی، تفکر، آگاهی، توانایی، ایجاد ارتباط بین آموزه‌های علمی و زندگی واقعی و به عبارتی کسب علم مفید، سودمند و هدفدار که بتواند انسان‌هایی مسئولیت‌پذیر، متفکر و خلاق پرورش دهد در سازماندهی محتوا و آموزش مورد توجه قرار گیرد. برای حرکت در جهت تحقق این اهداف و همسوسازی این حوزه با برنامه درسی ملی، توجه همکاران گرامی را به موارد زیر جلب می‌کنیم:

- کلاس علوم را به فضایی شاد و پر جنب و جوش تبدیل کنید که در آن مشاهده، تجربه، آزمایش، گفت‌وگو، تفکر، اظهار نظر و همکاری گروهی جریان دارد.

- پیش از تدریس هر فصل، همیشه به منابع یادگیری یعنی کتاب راهنمای معلم و دیگر رسانه‌های آموزشی معلمان مانند فیلم و نرم‌افزار مراجعه کنید.

- هر فصل علوم درباره یک زمینه یادگیری از زندگی واقعی دانش‌آموزان باید شکل گیرد و فرصتی را برای تلفیق علوم با زندگی روزمره فراهم کند. این فرصت را به پرسش و پاسخ‌های حافظه‌مدار تبدیل نکنید.
- محیط یادگیری علوم را متنوع کنید؛ گاهی کلاس را به بیرون ببرید و گاهی بیرون را به کلاس بیاورید.
- به جای ارائه اطلاعات دانشی بسیار، بر افزایش کیفیت یادگیری و عمق بخشی آن متمرکز شوید.

- آموزش را با پدیده‌های محسوس و ملموس آغاز کنید.
- به دانش‌آموزان فرصت دهید تا نظر خود را بیان کنند.
- دانش‌آموزان را در جمع‌آوری، طبقه‌بندی و تحلیل شواهد، راهنمایی و تشویق کنید.
- به بخش‌های تاریخی علوم بپردازید.
- از رویکرد گروهی در آموزش و تحقیق استفاده کنید.
- دانستن را از یافتن جدا نسازید (علم و عمل همراه باهم).
- به جای تمرکز صرف بر اصطلاحات بر علم و فرایند علمی متمرکز شوید.
- بازتاب دهنده ارزش‌های انسانی باشید.
- روحیه پرسش‌گری درست را تقویت کنید.
- با تقویت روحیه اعتماد به نفس، اضطراب دانش‌آموزان را کاهش دهید.
- آموزش علوم را در مدرسه محدود نکنید و آنها را به سایر محیط‌های زندگی گسترش دهید.
- در ارزشیابی علوم، زمان خاصی وجود ندارد. همه لحظه‌های کلاس علوم، زمان مناسب مشاهده رفتار و عملکرد دانش‌آموز و سوق دادن او به سمت یادگیری بهتر است (ارزشیابی در خدمت یادگیری).
- مطالبی که با عنوان «آیا می‌دانید» و «بیشتر بدانید» آمده است و محتوای دانشی جدول‌ها صرفاً جنبه آگاهی بخشی دارند و نباید در ارزشیابی‌ها مورد پرسش قرار گیرند.
- برای تقویت، حفظ و گسترش زبان فارسی به عنوان یک زبان کامل و پراهمیت برای نسل‌های آینده، در این کتاب برای واژه‌های خارجی از معادل آنها که مصوب فرهنگستان زبان و ادب فارسی است، استفاده شده است. برای آشنایی بیشتر دانش‌آموزان، اصل این واژه‌ها در پاورقی‌ها نیز آمده است.

معلنان محترم، صاحب نظران، دانش‌آموزان عزیز و اولیای آنان می‌توانند نظر اصلاحی خود را در باره مطالب این کتاب از طریق نامه به نشانی تهران - صندوق پستی ۱۵۸۷۵/۴۸۷۴ - گروه دسی مربوط و یا پیام‌نگار (Email) talif@talif.sch.ir ارسال نمایند.

دفترتالیف کتاب های دسی عمومی و متوسط نظری

فهرست مطالب

۱	علوم و ابزارهای آن	بخش اوّل
۲	تفکر و تجربه	فصل اوّل
۶	اندازه‌گیری در علوم و ابزارهای آن	فصل دوم
۱۲	مواد در زندگی ما	بخش دوم
۱۳	اتم‌ها؛ الفبای مواد	فصل سوم
۲۵	مواد پیرامون ما	فصل چهارم
۳۵	منابع خدادادی در خدمت ما	بخش سوم
۳۶	از معدن تا خانه	فصل پنجم
۴۶	سفر آب روی زمین	فصل ششم
۵۴	سفر آب درون زمین	فصل هفتم
۶۲	انرژی نیاز همیشه	بخش چهارم
۶۳	انرژی و تبدیل‌های آن	فصل هشتم
۷۳	منابع انرژی	فصل نهم
۸۲	گرما و بهینه‌سازی مصرف انرژی	فصل دهم
۹۲	دنیای درون من	بخش پنجم
۹۳	یاخته و سازمان بندی آن	فصل یازدهم
۱۰۱	سفره سلامت	فصل دوازدهم
۱۱۰	سفر غذا	فصل سیزدهم
۱۱۷	گردش مواد	فصل چهاردهم
۱۲۴	تبادل با محیط	فصل پانزدهم

بخش اوّل

... هل يستوى الذين يعلمون و الذين لا يعلمون ...

آیا کسانی که می‌دانند با کسانی که نمی‌دانند یکسان‌اند؟ ...

سوره زمر، آیه ۹

علوم و ابزارهای آن

یکی از ویژگی‌های انسان «کنجکاوی» است که از دوران کودکی تا پایان عمر، او را به دانستن و کشف دانش سوق می‌دهد. دانشمندان با مطالعه و پژوهش در جست‌وجوی مسائل و حل آنها هستند. در این بخش با علوم تجربی، مهارت‌ها و ابزارهای آن بیشتر آشنا می‌شوید.

فصل ۱- تفکر و تجربه

فصل ۲- اندازه‌گیری در علوم و ابزارهای آن

تفکر و تجربه

تصاویر زیر تنها گوشه‌ای از موفقیت‌ها و نوآوری‌های متخصصان ایرانی است.

آیا تاکنون از خود پرسیده‌اید این پیشرفت‌ها چگونه به دست آمده‌اند؟



بهباد (برنده هدایت پذیر از راه دور) ساخت ایران



سد کرخه، بزرگ‌ترین سد خاکی - رسی خاورمیانه



بشپانا اولین گوساله شبیه‌سازی شده در خاورمیانه



شمش داروی جدید زیست فناوری ایرانی

متخصصان علوم تجربی با بهره‌گیری از تفکر، تجربه و به کار بستن مهارت‌های گوناگون در برخورد با مسائل زندگی، علوم را توسعه بخشیده‌اند. شما نیز می‌توانید با یادگیری دانش و پرورش مهارت‌های خود به حل مسائلی بپردازید که در زندگی با آنها روبه‌رو

می‌شوید.

علم تجربی

دانش‌آموزان کلاسی دربارهٔ این پرسش که علم تجربی چیست، پاسخ‌های زیر را داده‌اند:

- ۱- علم تجربی به کارگیری حواس پنجگانه برای آشنایی با چیزهای اطراف ماست.
 - ۲- علم تجربی روشی برای حل بسیاری از مسائل زندگی ماست.
 - ۳- علم تجربی کارهایی است که در آزمایشگاه انجام می‌شود.
 - ۴- علم تجربی فرصتی برای یادآوری و تفکر دربارهٔ نعمت‌های خداوند است.
- دربارهٔ درستی این پاسخ‌ها در گروه خود گفت‌وگو کنید. چه پاسخ‌های دیگری را پیشنهاد می‌کنید؟ شما با برخی از مهارت‌های یادگیری علوم در دورهٔ ابتدایی آشنا شدید. در این دوره در فصل‌های مختلف، این مهارت‌ها را به کار خواهیم بست. نمونه‌های زیر به شما کمک می‌کند تا دوباره آنها را به یاد آورید.



در هر تصویر، دانش‌آموزان کدام مهارت یادگیری را در علوم به کار گرفته‌اند؟

علم و کنجکاوی

متن زیر را در گروه خود بخوانید:

معلم: دانش‌آموزان عزیز، امروز درس علوم در آزمایشگاه برگزار می‌شود؛ بنابراین به آزمایشگاه می‌رویم. هنگام ورود به آزمایشگاه، مواد زیر، توجه یکی از دانش‌آموزان را به خود جلب می‌کند.

مواد: نفت، گوگرد، جوهر نمک، براده آهن، اتانول، نمک

او در ذهن خود با این سؤال روبه‌رو می‌شود:

آیا این مواد در آب حل می‌شوند؟

او پس از مشورت با اعضای گروه تصمیم می‌گیرد پرسش خود را مطرح کند.

دانش‌آموز: آیا همهٔ این مواد در آب حل می‌شوند؟

معلم: پیش‌بینی گروه شما چیست؟

بهترین راه مطالعهٔ درستی یا نادرستی پیش‌بینی، طراحی و انجام دادن آزمایش و بررسی نتایج آن است.



سؤال کردن و تلاش برای یافتن جواب، مهم‌ترین فعالیت در یادگیری علم است.

فعالیت

۱- شش بشر ۱۰۰ میلی‌لیتری بردارید. آنها را شماره‌گذاری کنید و با استفاده از استوانهٔ مدرج ۵۰ میلی‌لیتر آب داخل آنها بریزید.

۲- از مواد جامد به اندازهٔ یک قاشق کوچک و از مواد مایع چند قاشق بردارید و به آب داخل بشرها بیفزایید.

شمارهٔ بشر	۱	۲	۳	۴	۵	۶
مادهٔ افزوده شده	نمک	براده آهن	گوگرد	جوهرنمک	اتانول	نفت

۳- با همزن، محتویات هر بشر را هم بزنید و مشاهدات خود را یادداشت کنید.

۴- اطلاعات به‌دست آمده از آزمایش را در جدول زیر ثبت کنید.

موادی که در آب حل شدند	موادی که در آب حل نشدند

۵- اطلاعات به‌دست آمده از آزمایش را با پیش‌بینی خود مقایسه کنید. چند مورد از پیش‌بینی‌های شما درست بود؟

آیا می‌دانید

جابر بن حیان دانشمند مسلمان و از شاگردان امام صادق علیه السلام بوده و در سال‌های ۱۹۴-۱۰۰ هجری شمسی می‌زیسته است. او همواره بر اجرای هدفمند و نظام‌دار فعالیت‌های تجربی تأکید داشت.

گفت‌وگو کنید

دربارهٔ حل یک مسئله به روش علمی گفت‌وگو کنید و مراحل آن را بنویسید.

علم و فناوری

فناوری تبدیل علم به عمل است. ساخت خودرو، رایانه، تلفن، نیروگاه هسته‌ای، دارو و... نمونه‌هایی از تبدیل دانش علمی به عمل هستند. دانشمندان تلاش می‌کنند با تبدیل علم به فرآورده‌ای مناسب به نیازهای زندگی پاسخ دهند؛ برای نمونه انسان‌ها با اختراع تلفن توانستند به راحتی از فواصل دور با هم ارتباط برقرار کنند. ساخت خودرو و سپس هواپیما باعث شد تا جابه‌جایی مسافران با سرعت بیشتر و در مدت زمان کوتاه‌تری انجام شود.

آیا می‌دانید

دشمنان استقلال و پیشرفت کشور اسلامی ما، برای جلوگیری از رشد فناوری هسته‌ای تعدادی از دانشمندان ما از جمله، دکتر مسعود علی محمدی، دکتر مجید شهریاری، داریوش رضایی نژاد و نیز مصطفی احمدی روشن را به شهادت رساندند.

فعالیت

- ۱- در گروه خود، چند مورد از تبدیل علم به فناوری، که در سال‌های اخیر اتفاق افتاده‌اند را بنویسید و درباره‌ی فواید و زیان‌های آنها گفت‌وگو کنید.
- ۲- در گروه خود درباره‌ی سردار شهید حسن طهرانی مقدم و یاران دانشمندش که از پایه‌گذاران صنعت ساخت موشک در ایران هستند و با به‌کاربردن علم در صنعت (فناوری) برای امنیت و استقلال کشور تلاش می‌کردند، تحقیق کنید.



هرچند تبدیل علم به فناوری باعث پیشرفت کشورها شده است، اغلب فناوری‌ها در کنار فواید، معایبی هم دارند؛ مثلاً با اختراع خودرو، جابه‌جایی مسافران راحت‌تر و سریع‌تر شده است؛ اما استفاده از سوخت فسیلی برای به حرکت درآوردن آن، آلودگی هوا به‌ویژه در شهرهای پرجمعیت را افزایش داده است.



اطلاعات جمع‌آوری کنید

در یک تحقیق گروهی درباره‌ی فواید و زیان‌های یک فناوری در محیط زندگی خود گزارش تهیه، و راه‌هایی را برای کاهش زیان‌های آن پیشنهاد کنید. گزارش خود را به صورت روزنامه‌ی دیواری به کلاس ارائه کنید.

نیاز امروز

گرچه علوم تجربی را به چهار شاخه‌ی فیزیک، شیمی، زیست‌شناسی و زمین‌شناسی تقسیم کرده‌اند، پژوهش‌ها نشان می‌دهد موفقیت و پیشرفت سریع علم، نتیجه‌ی فعالیت مشترک همه‌ی دانشمندان و متخصصان با یکدیگر است. تولید سوخت هسته‌ای و استفاده از آن نمونه‌ای از تبدیل علم به فناوری است که دانشمندان همه‌ی شاخه‌های علوم تجربی و سایر رشته‌ها در آن سهم‌اند.

اندازه‌گیری در علوم و ابزارهای آن



برای اینکه مشخص کنید در مدت یک‌سال چقدر رشد کرده‌اید، قد و وزن خود را اندازه می‌گیرید. برای به موقع رسیدن به مدرسه با اندازه‌گیری زمان سر و کار داریم. پزشک با اندازه‌گیری فشار خون، دمای بدن، ضربان قلب و استفاده از نتیجه آزمایش‌های انجام شده به سلامتی یا بیماری ما پی می‌برد. نجار با اندازه‌گیری طول، عرض، ارتفاع و زاویه‌ها به طراحی و سپس ساخت لوازم چوبی می‌پردازد. این نمونه‌ها و ده‌ها نمونه دیگر نشان می‌دهد که زندگی ما به اندازه‌گیری و ابزارهای آن وابسته است. شما در این فصل با برخی اندازه‌گیری‌ها و ابزارهای آنها آشنا می‌شوید.

اندازه‌گیری

اندازه‌گیری، یک مرحله مهم برای جمع‌آوری اطلاعات است. اندازه‌گیری به ما کمک می‌کند تا اشیاء را از لحاظ اندازه، مقدار، بزرگی و کوچکی، بلندی و کوتاهی و... با هم مقایسه کنیم. اندازه هر چیز را با یک عدد و یکای آن گزارش می‌کنیم. به یکای اندازه‌گیری، واحد نیز می‌گویند؛ مثلاً طول حیاط مدرسه ۴۰ قدم پارساست. پارسا این طول را با قدم‌های خود اندازه‌گیری کرده است. بنابراین «قدم» یکای اندازه‌گیری اوست. اگر این اندازه‌گیری توسط رضا انجام شود، ممکن است «۴۲ قدم» رضا به دست آید و... .

دانشمندان برای اینکه عددهای حاصل از اندازه‌گیری‌های مختلف یک چیز با هم مقایسه پذیر باشند در نشست‌های بین‌المللی توافق کردند که برای هر کمیت یکای معینی را تعریف کنند؛ مثلاً برای جرم یکای کیلوگرم، برای زمان یکای ثانیه، برای طول یکای متر و... را تعریف کردند.

آیا می‌دانید

استاندارد و اندازه‌گیری ممکن است تاکنون بارها کلمه استاندارد را شنیده باشید. آیا به معنا و اهمیت آن فکر کرده‌اید؟ آیا علامت آن را می‌شناسید؟ استاندارد در واقع میزان، معیار و شاخصی برای سنجش و اندازه‌گیری کیفیت فرآورده‌ها است. یکی از اولین استانداردهای پایه گذاری شده در جهان به یکسان شدن واحدهای اندازه‌گیری طول، جرم و زمان مربوط است.

هر جسم از ماده تشکیل شده است

ماده جرم و حجم دارد. جرم یک جسم را با یکای کیلوگرم یا گرم اندازه می‌گیرند. جرم هر جسم مقدار ماده تشکیل دهنده آن جسم است. جرم اجسام را به وسیله ترازو اندازه‌گیری می‌کنند (شکل ۱).



شکل ۱- با ترازو جرم جسم اندازه‌گیری می‌شود.



شکل زیر، جرم چند چیز مختلف در اطراف ما را نشان می‌دهد. چرا جرم برخی با گرم و جرم بعضی با کیلوگرم ثبت شده است؟



۵۵ کیلوگرم



۳۵۰ گرم



۴ گرم



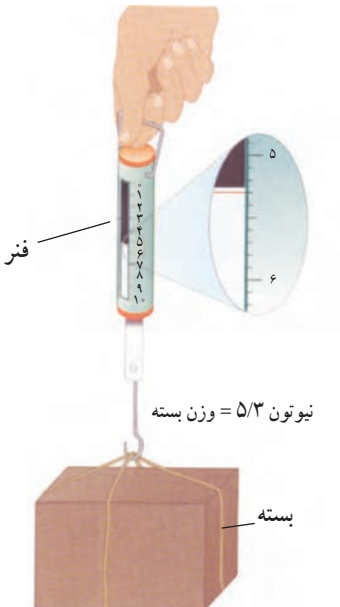
۱۵ گرم



۲۰۰ گرم



۲ کیلوگرم



نیوتون $5/3 =$ وزن بسته

بسته

در سال قبل دیدیم وزن جسم برابر با نیروی گرانشی (جاذبه‌ای) است که از طرف زمین بر جسم وارد می‌شود و جسم را به طرف زمین می‌کشد. وزن جسم را توسط نیروسنج اندازه‌گیری می‌کنند (شکل ۲). داخل نیروسنج یک فنر قرار دارد که می‌تواند کشیده شود. مقدار کشیدگی فنر داخل نیروسنج به اندازه نیرویی بستگی دارد که به نیروسنج وارد می‌شود.

وزن یک جسم را با یکای نیوتون نشان می‌دهند. یک نیوتون، نیروی کوچکی محسوب می‌شود؛ مثلاً وزن یک سیب کوچک 100 گرمی تقریباً 1 نیوتون و وزن یک طالبی 1 کیلوگرمی تقریباً 10 نیوتون است.

شکل ۲- با نیروسنج وزن یک جسم را اندازه‌گیری می‌کنیم.

با استفاده از ترازو و نیروسنج، جرم و وزن هریک از مواد زیر را اندازه گیری کنید. قبل از اندازه گیری جرم تخمینی خودتان

را بنویسید.

ردیف	نام ماده	جرم تخمینی (کیلوگرم)	جرم اندازه گیری شده (کیلوگرم)	وزن اندازه گیری شده (نیوتون)
۱	گردو			
۲	پرقال			
۳	گوشی همراه			
۴	کتاب علوم			

تکرار اندازه گیری و میانگین گرفتن از اعداد به دست آمده، دقت اندازه گیری شما را افزایش می دهد.

طول و حجم

فاصله بین دو نقطه و مسافتی را که یک جسم طی می کند با یکای طول، اندازه می گیریم. کیلومتر، متر، سانتی متر و میلی متر یکاهای متداول طول اند.

شکل زیر چند اندازه گیری طول را نشان می دهد.



طول مداد حدود ۱۵ سانتی متر



مسافت تهران تا مشهد حدود ۹۰۰ کیلومتر



طول حیاط مدرسه حدود ۵۰ متر

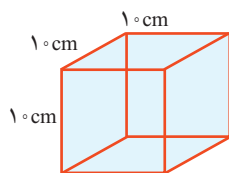


قطر نوک مداد حدود ۱ میلی متر

چرا طول مداد با سانتی متر، قطر نوک آن با میلی متر، طول حیاط با متر و فاصله تهران تا مشهد با کیلومتر بیان شده است؟

یکی از ابزارهای اندازه گیری طول اجسام کوچک، خط کش است. طول خط کش های آزمایشگاهی بر حسب سانتی متر و میلی متر درجه بندی شده است (شکل ۳). به نظر شما، هنگام

اندازه گیری طول یک جسم با خط کش باید به چه نکاتی توجه کنیم؟
حجم یک جسم برابر با مقدار فضایی است که جسم اشغال می کند. حجم جسم را معمولاً بر حسب متر مکعب، یا سانتی متر مکعب یا لیتر اندازه می گیرند. یک لیتر برابر با حجم ظرف مکعبی شکل به طول، عرض و ارتفاع ۱۰ سانتی متر است (شکل ۴). بنابراین یک لیتر معادل ۱۰۰۰ سانتی متر مکعب است.



شکل ۴- مکعبی به حجم یک لیتر یا ۱۰۰۰ سانتی متر مکعب



شکل ۳- با خط کش طول جسم های نسبتاً کوچک را اندازه می گیریم.

از ظرف‌های مدرج برای اندازه‌گیری حجم مقدارهای کم مایع استفاده می‌کنیم (شکل ۵).



برای خواندن حجم اغلب مایعات به سطح زیر منحنی توجه می‌کنیم.

شکل ۵- از استوانه مدرج برای اندازه‌گیری حجم مایع استفاده می‌شود. این ظرف بر حسب سانتی متر مکعب مدرج شده است.

آیا می‌دانید

یکای متداول اندازه‌گیری حجم مایع‌ها، لیتر (L) و میلی لیتر (mL) است. یک لیتر برابر با $\frac{1}{1000}$ متر مکعب است. به عبارت دیگر هر متر مکعب برابر با ۱۰۰۰ لیتر است. حجم ۱ سانتی متر مکعب (1cm^3)، ۱ میلی لیتر (1 mL) و ۱ سی سی (1 cc) با هم برابرند.

فعالیت

با استفاده از استوانه مدرج و آب، حجم یک سنگ کوچک را اندازه بگیرید و درباره روش اندازه‌گیری خود توضیح دهید.

چگالی

اگر یک مکعب چوبی و یک مکعب فلزی توپر را که شبیه یکدیگرند، روی آب قرار دهید، چه اتفاقی می‌افتد؟ کدام یک روی آب شناور می‌ماند و کدام یک در آب فرو می‌رود؟

فعالیت

چند مکعب هم‌اندازه چوبی، فلزی و... بردارید و با اندازه‌گیری جرم و حجم آنها جدول را کامل کنید.

مکعب	مکعب چوبی	مکعب فلزی	مکعب ...
جرم (گرم)			
حجم (سانتی متر مکعب)			
$\frac{\text{جرم}}{\text{حجم}}$ (گرم بر سانتی متر مکعب)			

الف) نسبت جرم به حجم کدام بیشتر است؟
ب) چه رابطه‌ای بین این نسبت و فرو رفتن در آب وجود دارد؟

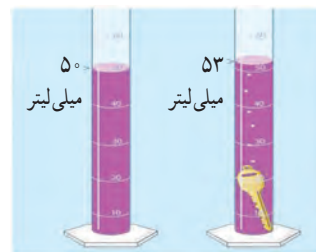
اینکه یک جسم در آب فرو برود یا روی آب شناور بماند به کمیتی به نام چگالی بستگی دارد. در واقع چگالی، مقدار جرمی است که در حجم معینی از یک جسم وجود دارد؛ از این رو به صورت نسبت جرم جسم به حجم آن تعریف می‌شود.

$$\text{چگالی جسم} = \frac{\text{جرم جسم}}{\text{حجم جسم}}$$

معمولاً یکای چگالی بر حسب گرم بر سانتی متر مکعب یا کیلوگرم بر متر مکعب بیان می‌شود.

خود را بیازمایید

دانش‌آموزی برای به دست آوردن چگالی یک کلید، نخست با ترازو، جرم آن را اندازه‌گیری کرد (۱۲g)؛ سپس حجم آن را با استفاده از یک استوانهٔ مدرج و مقداری آب، اندازه گرفت. با توجه به اعداد روی شکل، چگالی کلید را حساب کنید.



دانش‌آموزی برای به دست آوردن چگالی یک سنگ کوچک، ابتدا جرم آن را با ترازو اندازه می‌گیرد و مقدار ۴۰۰ گرم را به دست می‌آورد، سپس آن را درون استوانهٔ مدرجی که ۵۰۰ سانتی متر مکعب آب دارد، می‌اندازد. سطح آب روی ۶۰۰ سانتی متر مکعب قرار می‌گیرد. چگالی سنگ چقدر است؟

زمان

آیا می‌توانیم بدون در نظر گرفتن زمان و مدت انجام دادن یک فعالیت، کارهای روزانهٔ خود را تنظیم کنیم و به موقع انجام دهیم؟

در بسیاری از موارد ترتیب و توالی یک پدیده مهم است؛ مثلاً ساعت ۷/۵ صبح کلاس درس مدرسه شروع می‌شود؛ ساعت ۹، زنگ تفریح است، ساعت ۱۲/۵ زمان نماز و ناهار است و ... در کارهای روزانه بیشتر با این نوع اندازه‌گیری زمان سروکار داریم؛ اما در بسیاری از موارد دیگر، مدت زمان هر فعالیت مهم است؛ مثلاً چقدر طول می‌کشد تا با اتوبوس از مدرسه به خانه برسیم؛ چقدر طول می‌کشد تا غذا روی اجاق بپزد؛ چقدر طول می‌کشد تا یک دانهٔ گندم کاشته شده به یک خوشهٔ رسیده قابل برداشت تبدیل شود و ...

در مجموع می‌توان گفت زمان را اندازه می‌گیریم تا بتوانیم به سؤال «چه وقت» یا «چه مدت» پاسخ دهیم. برای اندازه‌گیری زمان معمولاً از ساعت یا زمان‌سنج استفاده می‌شود. یکای اندازه‌گیری زمان، ثانیه است؛ اما در زندگی روزمره از یکاهای دقیقه، ساعت، شبانه‌روز، سال و ... استفاده می‌شود.



شکل ۶- ساعت مچی معمولی و زمان‌سنج

با استفاده از ساعت یا زمان‌سنج، زمان میانگین ضربان قلب هر یک از اعضای گروه خود را اندازه‌گیری کنید. برای این منظور تعداد ضربان‌ها را در یک دقیقه بشمارید. این کار را برای هر نفر، سه بار تکرار کنید و میانگین آن را به دست آورید و به صورت نمودار ستونی نشان دهید.

دقت در اندازه‌گیری

اندازه‌گیری‌ها همواره با تقریب همراه‌اند و دقت اندازه‌گیری به دقت شخص و دقت وسیله اندازه‌گیری بستگی دارد. زمانی که طول یک جسم را با خط‌کش سانتی‌متری اندازه‌گیری می‌کنیم، دقت ما حدود سانتی‌متر است. در نوشتن نتیجه اندازه‌گیری باید به میزان دقت وسیله اندازه‌گیری توجه شود. در شکل ۷- الف، طول مداد حدود ۱۶ سانتی‌متر و دقت خط‌کش نیز ۱ سانتی‌متر است. اگر نوک مداد بین دو عدد باشد، باید ببینیم که نوک مداد به کدام عدد نزدیک‌تر است و آن را گزارش کنیم؛ مثلاً اگر نوک مداد بین ۱۲ سانتی‌متر و ۱۳ سانتی‌متر باشد و به عدد ۱۲ سانتی‌متر نزدیک‌تر باشد، طول مداد را ۱۲ سانتی‌متر گزارش می‌کنیم (شکل ۷- ب).



شکل ۷- الف - طول مداد ۱۶ سانتی‌متر گزارش می‌شود.



شکل ۷- ب - طول مداد ۱۲ سانتی‌متر گزارش می‌شود.



شکل ۸ - جرم این سیب ۱۵۷/۸ گرم است.

شکل ۸ یک ترازوی رقمی (دیجیتال) را نشان می‌دهد که می‌تواند تا ۱/۱۰ گرم را اندازه‌گیری کند. جرم سیب روی این ترازو ۱۵۷/۸ گرم خوانده می‌شود.

۱- در این کتاب، خطای ابزار را هنگام گزارش نتیجه اندازه‌گیری در نظر نگرفته‌ایم. با نحوه کامل گزارش اندازه‌گیری، در سال‌های آینده آشنا خواهید شد.

دل هر ذره را که بشکافی آفتابیش در میان بینی
«هاتف اصفهانی»


مواد در زندگی ما

همه چیزهایی که در اطراف خود می بینیم از ماده ساخته شده اند. مواد پیرامون ما همواره در حال تغییر فیزیکی و شیمیایی اند؛ تغییرهایی که با وجود آنها زندگی ادامه پیدا می کند. با شناخت ماده و تغییرهای آن، هستی را بهتر می شناسیم و اسرار آفرینش را بهتر درک می کنیم.

فصل ۳- اتم‌ها؛ الفبای مواد

فصل ۴- مواد پیرامون ما

اتم‌ها؛ الفبای مواد



آب در طبیعت به سه حالت جامد، مایع و بخار یافت می‌شود. این سه حالت ویژگی‌های مختلفی دارند. درحالی که آب، یخ و بخار آب، یک نوع ماده‌اند، چرا رفتار یخ با آب و بخار آب تفاوت دارد؟ هزاران سال معلوم نبود که مواد از چه ساخته شده‌اند. برای همین چگونگی تبدیل یخ به آب و برعکس یک معما بود؛ اما شناختن اتم‌ها این معما را حل کرد. در این فصل شما ویژگی اتم‌ها و نقش آنها را در تغییر مواد و زندگی کشف خواهید کرد.

مواد در تمام بخش‌های زندگی ما وجود دارند.

اگر با دقت به اطراف خود بنگرید، مواد بسیار زیادی مانند چوب، فلز، گچ، شیشه، چرم، انواع خوراکی، لباس، دارو و ... را مشاهده می‌کنید. شکل ۱ برخی از این مواد را نشان می‌دهد.



شکل ۱ - برخی از این مواد مانند کیک میوه‌ای ترکیبی از مواد مختلفی چون تخم مرغ، شکر، آرد و میوه هستند.

فهرستی از موادی را که می‌شناسید، تهیه، و درباره آن در کلاس گفت‌وگو کنید.


۱- چه تعداد ماده دیگر می‌شود به فهرست شما اضافه کرد؟

۲- تصور کنید که هیچ یک از این مواد را در اختیار نداشته باشید؛ در این صورت زندگی چگونه خواهد بود؟


هر روز با مواد گوناگونی سروکار داریم که کاربردهای مختلفی در زندگی روزانه، کشاورزی، داروسازی و صنایع دیگر دارند. در شکل ۲ کاربردهایی از سنگ مرمر، نفت خام و نمک خوراکی را مشاهده می‌کنید. شما نیز در کلاس درباره کاربرد این مواد گفت‌وگو، و جاهای خالی را پر کنید.



الف) مرمر، سنگی قیمتی و زیباست و مدت‌های طولانی بدون تغییر باقی می‌ماند.



ب) از نفت خام می‌توان مواد گوناگونی به دست آورد.



پ) نمک خوراکی کاربردهای گوناگونی دارد.
شکل ۲

اطلاعات جمع آوری کنید


در یک فعالیت گروهی درباره کاربردهای چند ماده پرمصرف در زندگی روزانه تحقیق، و نتیجه را به صورت یک روزنامه دیواری به کلاس ارائه کنید.

مواد از چه چیزی ساخته شده‌اند؟


موادی را که در فهرست نوشته‌اید و مواد دیگری را که می‌شناسید، همگی از ذره‌های ریزتری ساخته شده‌اند. این ذره‌های ریز، خواص مواد را تعیین می‌کنند.



الف) با دقت به شکل زیر نگاه کنید و درباره برداشت خود از این شکل در کلاس گفت و گو کنید.



ب) هر یک از این دو نفر درباره ماده و ذره‌های ریزتر تشکیل دهنده آن تصوّراتی دارند. شما چه فکر می‌کنید؟



۱- چند حبه قند بردارید و روی یک پارچه قرار دهید. آنها را با ضربه زدن به چند تکه ریز تبدیل کنید. ضربه زدن را آن قدر ادامه دهید تا پودر قند به دست آید.

۲- همه پودر قند را بردارید و داخل یک لیوان آب بریزید و آن را هم بزنید تا حل شود.

۳- آیا مطمئنید که تمام ذره‌های قند را برداشته‌اید؟ (درستی پاسخ خود را به کمک یک ذره بین بررسی کنید)

۴- آیا ذره‌های قند در آب قابل دیدن‌اند؟ آیا آنها داخل لیوان وجود دارند یا از بین رفته‌اند؟ (آزمایشی برای بررسی ادعای خود پیشنهاد کنید)

همه موادی که می‌پوشید، می‌خورید، می‌سوزانید و از آنها استفاده می‌کنید از ذره‌های ریزتری ساخته شده‌اند. این ذره‌های ریز را نمی‌توان با چشم مشاهده کرد؛ اما آنها وجود دارند. به ذره‌های ریز سازنده مواد، اتم می‌گویند. در واقع اتم‌ها اصلی‌ترین ذره‌های سازنده جهان‌اند؛ اما پرسش اصلی این است که اتم‌ها چه ساختاری دارند؟ خواص آنها چیست؟ چگونه می‌توان آنها را مطالعه کرد؟ تمام این پرسش‌ها و پرسش‌های دیگری که به ذهن شما می‌رسد، ذهن دانشمندان را سال‌های زیادی به خود مشغول کرده بود. آنها برای یافتن پاسخ پرسش‌های خود آزمایش‌های زیادی را انجام دادند اما چگونه ذره‌های غیرقابل مشاهده را مطالعه می‌کنیم؟

فکر کنید

همان‌طور که می‌دانید، بخار آب موجود در هوای اتاق را نمی‌بینیم؛ اما، می‌دانیم که بخار آب در هوای اتاق وجود دارد. آزمایشی پیشنهاد کنید که وجود آن را نشان دهد.




۱- برای این فعالیت، مسابقه زیر را انجام دهید.

الف) ابتدا به گروه‌های مختلف تقسیم شوید. هر گروه با ابزار داده شده، پنج گلوله خمیری طوری درست کند که یکی از گلوله‌ها بدون هسته و چهار تای دیگر دارای هسته باشند. دقت کنید که جنس هسته‌ها متفاوت باشند.



ب) گلوله‌ها را شماره‌گذاری، و مشخصات هر یک را برای خود یادداشت کنید.
پ) هر گروه، گلوله‌های خود را با گروه دیگر مبادله کند و از آن گروه بخواهد که به کمک ابزار موجود و با چند آزمایش، ساختار و درون گلوله‌ها را پیش بینی کند.
ت) در پایان از گروه همکار خود بخواهید میزان درستی پاسخ‌های شما را مشخص کند.

۲- گلوله‌ها را مانند شکل با یک چاقو دو قسمت کنید و ساختار آنها و جنس هسته‌ها را با مشاهده مستقیم، مشخص و یادداشت کنید.



- پاسخ‌های قبلی خود را که از راه مشاهده غیر مستقیم به دست آورده بودید با این مشاهدات مقایسه کنید.

در فعالیت ۱، شما با مشاهده غیر مستقیم و با استفاده از حواس پنجگانه و آزمایش‌های تجربی به بررسی ساختار گلوله‌ها پرداختید. در واقع شما بدون مشاهده کردن درون گلوله‌ها، تلاش کردید اطلاعاتی درباره ساختار آنها به دست آورید. در حالی که در فعالیت ۲ شما با مشاهده مستقیم، درون گلوله‌ها را بررسی کردید. آیا همواره می‌توان مواد را با مشاهده مستقیم مطالعه کرد؟

اتم‌ها آن قدر ریزند که حتی با میکروسکوپ‌های قوی نیز دیده نمی‌شوند؛ بنابراین تنها با مشاهده غیر مستقیم می‌توان اتم‌ها را بررسی و خواص آنها را کشف کرد. دانشمندان نیز با این روش به وجود اتم‌ها و برخی از خواص آنها پی برده‌اند.

اتم‌ها کنار هم قرار می‌گیرند و مواد را می‌سازند. هر ماده از یک یا چند نوع اتم تشکیل شده است. در واقع همه مواد در جهان هستی تقریباً از 90° نوع اتم؛ یعنی 90° عنصر ساخته شده‌اند. عنصر شکل خالصی از ماده است که یک نوع اتم دارد؛ برای نمونه عنصر آهن از اتم‌های آهن و عنصر کربن از اتم‌های کربن به وجود آمده است.

حال به نظر شما آیا رنگ، اندازه، جرم، میزان رسانایی الکتریکی، میزان رسانایی گرمایی و چگالی عنصرها با یکدیگر برابر است؟

آیا می‌دانید

همه کلمه‌های کتاب علوم و سایر کتاب‌های درسی شما فقط از ترکیب ۳۲ حرف به دست آمده است.

ا، ب، پ، ت، ث، ج، چ، ح، خ، د،
ذ، ر، ز، ژ، س، ش، ص، ض، ط،
ظ، ع، غ، ف، ق، ک، گ، ل، م، ن،
و، ه، ی

**علوم و م ت ج ر ب ی =
علوم تجربی**

به همین صورت، تمام ترکیب‌های جهان نیز از ترکیب 90° نوع اتم (عنصر) ساخته شده‌اند.

آزمایش کنید

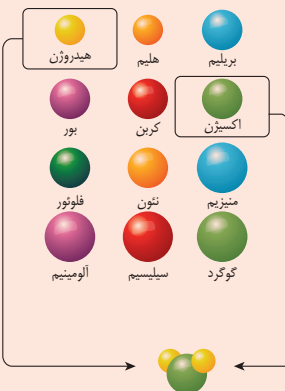
۱- مقداری کربن (زغال)، گوگرد، یک تکه سیم مسی و یک میخ آهنی بردارید. ویژگی ظاهری این عنصرها را یادداشت کنید؛ سپس با یک چکش روی آنها ضربه بزنید. مشاهدات خود را بنویسید.



۲- یک مدار الکتریکی مطابق شکل زیر درست کنید و با استفاده از آن، رسانایی الکتریکی میخ آهنی، پوش‌برگ (فویل آلومینیومی، گوگرد و زغال را بررسی کنید. مشاهدات خود را بنویسید.



بیشتر بدانید



هیدروژن - اکسیژن - هیدروژن = آب



بیشتر بدانید
عنصرهای گازی شکل
اکسیژن و نیتروژن که در هوا یافت
می‌شوند، رسانای جریان برق
نیستند.

دانش‌آموزی با استفاده از نتایج آزمایش‌های صفحه قبل، برخی از ویژگی‌های مواد را در دو گروه جداگانه در جدول زیر نوشته است. با بررسی آن به پرسش‌ها پاسخ دهید.

گروه (۱)	گروه (۲)
سطح برّاق دارند.	سطح برّاق ندارند.
اغلب در آب فرو می‌روند.	اغلب روی آب شناور می‌مانند.
.....
.....

الف) جدول را کامل کنید.

ب) برای هر یک از گروه‌ها یک عنوان انتخاب کنید.

پ) اگر بخواهید عنوان فلز و نافلز را به گروه‌های بالا نسبت دهید، کدام واژه را به گروه (۱) و کدام را به گروه (۲) نسبت می‌دهید.

ت) عنصرهای زیر را در دو گروه فلز و نافلز طبقه‌بندی کنید.

«نقره، آلومینیم، طلا، کربن، گاز نیتروژن، گاز اکسیژن، مس، آهن، گوگرد»

گلوله‌های کروی، مدلی برای نمایش ترکیب‌ها، عنصرها و اتم‌ها

برخی از موادی که در زندگی روزانه از آنها استفاده می‌کنیم، فقط از یک نوع اتم ساخته شده‌اند؛ برای نمونه: سیم‌های مسی، ظروف آلومینیمی و نقره‌ای به ترتیب از اتم‌های مس، آلومینیم و نقره تشکیل شده‌اند در حالی که اغلب مواد طبیعی و مصنوعی مورد استفاده در زندگی ما مانند پوشاک، خوراک، نوشت افزار، دارو، چوب و کاغذ از چند نوع اتم تشکیل شده‌اند؛ برای نمونه، آب از ۲ نوع اتم (اکسیژن، هیدروژن)، گاز متان از دو نوع اتم (کربن و هیدروژن) و گاز کربن دی‌اکسید از دو نوع اتم (کربن و اکسیژن) تشکیل شده است. در این مواد واحد سازنده، مولکول نام دارد. مولکول‌ها از پیوند دو یا چند اتم به وجود می‌آیند. ذره‌های سازنده عنصرهای نافلز مانند کلر، اکسیژن و گوگرد نیز مولکول است.

تا اینجا آموختید که اتم‌ها ذره‌های ریزی هستند که دیده نمی‌شوند. از این دانشمندان برای درک رفتار مواد و بررسی آنها، مدلی برای نمایش مواد ارائه کرده‌اند. در این مدل، اتم‌ها را به صورت گلوله‌های کروی نشان می‌دهند. در شکل ۳ ساختار آب و چند عنصر نافلز با استفاده از این مدل نشان داده شده است.


آیا می‌دانید
تعداد اندکی از عنصرها مانند طلا،
اکسیژن، نیتروژن، کربن و گوگرد
در طبیعت یافت می‌شوند؛ اما بیشتر
آنها در طبیعت به صورت آزاد یافت
نمی‌شوند.



الف) آب یک مولکول ۳ اتمی است. (ب) گاز کلر یک نافلز سمی است. (پ) گوگرد نافلز جامد و زرد رنگ است.

شکل ۳ - نمایش مولکول‌های آب، کلر و گوگرد

البته باید توجه کنید که ذره سازنده عنصرهای فلز فقط اتم است؛ برای نمونه هرگاه مجموعه‌ای از اتم‌های مس در کنار هم قرار گیرند، عنصر مس به وجود می‌آید؛ به همین ترتیب، عنصر طلا نیز شامل تعداد بسیار زیادی از اتم‌های طلاست که در کنار هم قرار گرفته‌اند.



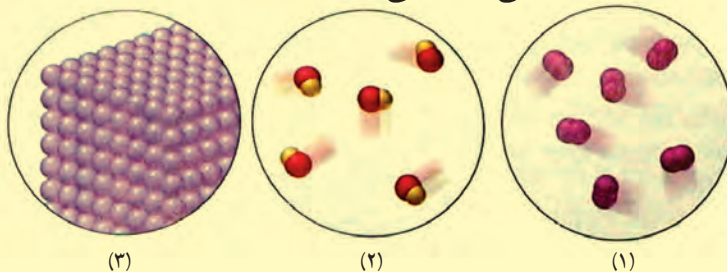
الف) جیوه فلزی مایع و سمی است. (ب) مس در ساخت لوازم مختلف به کار می‌رود. (پ) طلا فلزی ارزشمند است.

شکل ۴ - ساختار اتمی چند عنصر فلز



فعالیت

۱- با توجه به شکل‌های زیر به پرسش‌های مطرح شده، پاسخ دهید :



الف) مشخص کنید که هر یک از شکل‌ها نشان دهنده ساختار اتمی کدام یک از مواد زیر است :
«عنصر فلز، عنصر نافلز و ترکیب».

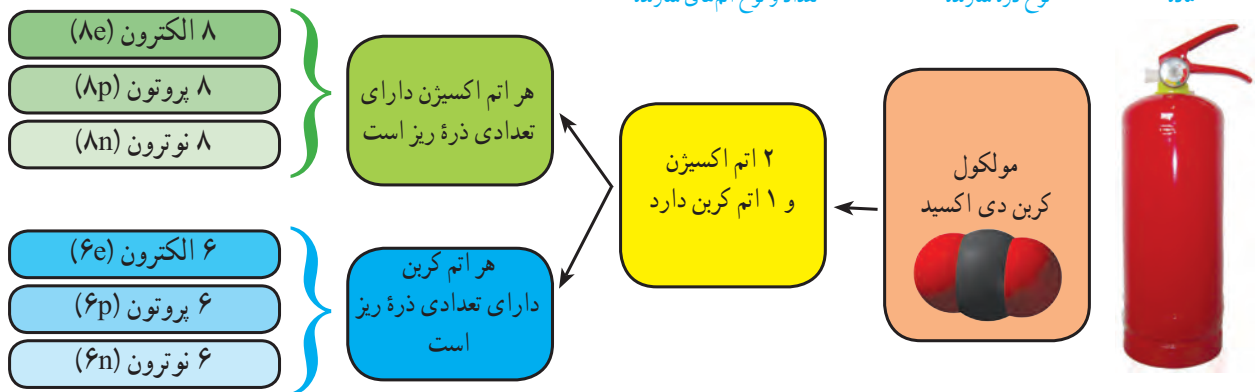
ب) یک تعریف مناسب برای ترکیب ارائه کنید.

۲- پیش بینی کنید موادی که مصرف می‌کنیم یا با آنها سروکار داریم، عنصرند یا ترکیب. برای پیش‌بینی خود دلیل بیاورید.

آیا اتم‌ها از ذره‌های ریزتری ساخته شده‌اند؟

آموختید که هر ماده از تعداد معینی اتم تشکیل شده است. اتم‌ها نیز از ذره‌های متفاوت و کوچک‌تری به نام الکترون، پروتون و نوترون ساخته شده‌اند. تعداد الکترون‌ها، پروتون‌ها و نوترون‌ها در اتم‌های مختلف یکسان نیست؛ برای نمونه در نمودار ۱ ارتباط بین مولکول کربن دی‌اکسید، اتم‌های سازنده و تعداد الکترون‌ها، پروتون‌ها و نوترون‌ها نشان داده شده است.

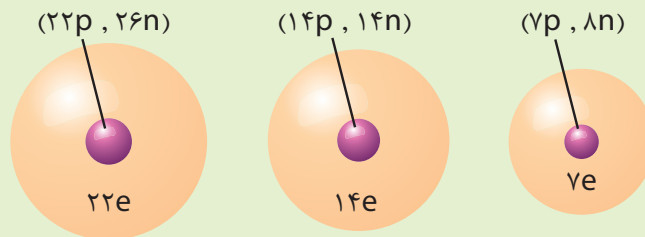
تعداد الکترون، پروتون و نوترون‌ها



نمودار ۱- ذره‌های سازنده کربن دی‌اکسید (الکترون، پروتون و نوترون را به ترتیب با نمادهای e ، p و n نشان می‌دهند).

فکر کنید

شکل‌های زیر ساختار اتمی ۳ عنصر را نشان می‌دهند. با توجه به آنها، چند ویژگی کلی برای عنصرها و اتم‌ها بنویسید.



حجم کمتر یا بیشتر؟

از دوره ابتدایی به یاد دارید که مواد به سه حالت جامد، مایع و گاز یافت می‌شوند. حال فرض کنید پنج گرم شکر، هوا و آب را در سه ظرف جداگانه در اختیار دارید. پیش بینی می‌کنید کدام یک جای بیشتری می‌گیرد؟



آزمایش کنید

۵ گرم شکر، آب و هوا را با استفاده از ترازو بردارید. با مشاهده حجم این سه ماده، درستی پاسخ‌های خود را بررسی کنید (برای وزن کردن هوا از توپ والیبال، فوتبال یا بسکتبال خالی استفاده کنید).

می‌دانید که جامد، شکل مشخص و حجم معینی دارد. مایع به شکل ظرف درمی‌آید و حجم معینی دارد در حالی که گاز به شکل ظرف درمی‌آید و حجم معینی ندارد. حال اگر در سه ظرف به مقدار مساوی از سه ماده جامد، مایع و گاز وارد کنیم، خواهیم دید که مواد جامد و مایع در ته ظرف باقی می‌مانند، ولی ماده گازی شکل در سراسر ظرف پخش می‌شود و همه حجم ظرف را اشغال می‌کند. به نظر شما فاصله بین ذره‌ها در کدام ظرف بیشتر است؟ چرا؟



آزمایش کنید

وسایل و مواد: سرنگ، چوب پنبه (پلاستیک)، وزنه، گیره، پایه، آب و شن
روش آزمایش
۱- $\frac{3}{4}$ حجم یکی از سرنگ‌ها را از آب و دیگری را از شن پر کنید.
۲- با کشیدن پیستون، داخل سرنگ سوم به همان مقدار هوا وارد کنید.

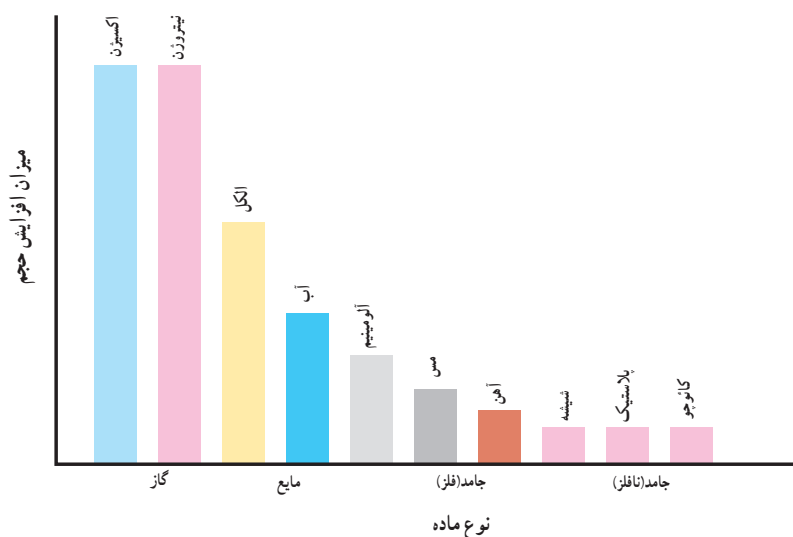


۳- نوک سرنگ‌ها را با درپوش آن محکم ببندید (یا در یک چوب پنبه با پلاستیک فرو برید و با خمیر بازی دور آن را محکم ببندید تا تمام درزها گرفته شود).
۴- سرنگ‌ها را با استفاده از گیره محکم ببندید و روی هر کدام، یک وزنه با جرم یکسان قرار دهید (یا با کف دست سرنگ را به سمت پایین فشار دهید).
۵- مشاهدات خود را بنویسید. از این مشاهدات چه نتیجه‌ای می‌گیرید؟

در مواد گازی شکل، فاصله بین ذره‌ها بیشتر از مواد جامد و مایع است به طوری که اگر یک نمونه گاز را وارد ظرف کوچک‌تری کنیم، اتم‌ها یا مولکول‌ها به یکدیگر نزدیک می‌شوند و فاصله بین آنها کاهش می‌یابد. به همین دلیل می‌توان یک گاز را به راحتی متراکم کرد و حجم آن را تا حد زیادی کاهش داد؛ اما نمی‌توان یک مایع یا جامد را به آسانی و به مقدار زیاد متراکم کرد.

گفت و گو کنید

نمودار ۲ میزان افزایش حجم مقدار یکسانی از چند ماده را در اثر گرم کردن به مقدار یکسان نشان می‌دهد. درباره داده‌های این نمودار در کلاس گفت و گو کنید.



نمودار ۲- مقایسه میزان افزایش حجم مقدار یکسانی از چند ماده در اثر گرم کردن

آزمایش کنید

یک بطری شیشه‌ای بردارید و یک بادکنک را محکم به در آن ببندید. حال یک پارچ پلاستیکی را تا نیمه از آب سرد پر کنید و بطری را درون آن قرار دهید؛ سپس پارچ پلاستیکی را تا نیمه از آب داغ پر کنید و دوباره بطری را درون آن قرار دهید. مشاهدات خود را یادداشت کنید.

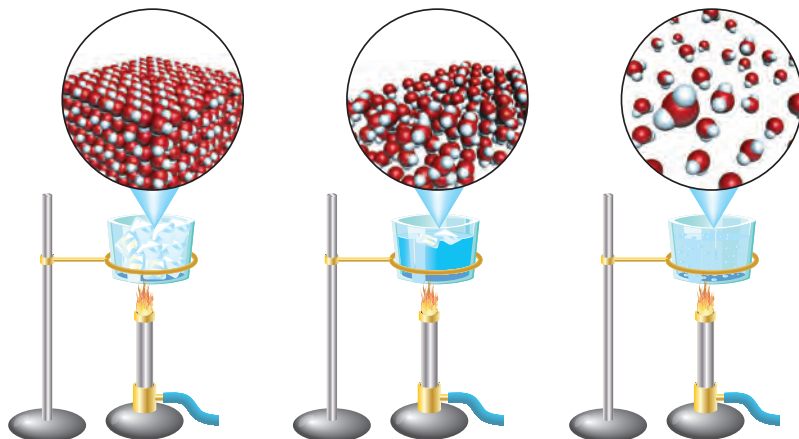
هشدار: هنگام استفاده از آب داغ نکات ایمنی را رعایت کنید.

شکل الف، وضعیت ذره‌های هوای درون بطری را هنگامی که در آب سرد قرار دارد، نشان می‌دهد. با توجه به آنچه آموختید، وضعیت ذره‌های هوای درون بطری را، هنگامی که در آب داغ قرار دارد (شکل ب) رسم کنید. پاسخ خود را توضیح دهید.



گرما و تغییر حالت ماده

آب در طبیعت به سه حالت جامد (یخ)، مایع (آب) و گاز (بخار آب) یافت می‌شود. وقتی به یخ گرما می‌دهیم، انرژی مولکول‌های آن افزایش می‌یابد و جنبش آنها بیشتر می‌شود. اگر این عمل را ادامه دهیم، یخ به آهستگی ذوب و به آب (مایع) تبدیل می‌شود (شکل ۵). حال اگر به آب گرما بدهیم، جنبش مولکول‌های آب افزایش می‌یابد؛ در نتیجه، آب تغییر حالت می‌دهد و به بخار تبدیل می‌شود. در بخار آب، فاصله بین مولکول‌های آب خیلی بیشتر از آب است.



شکل ۵- تغییر حالت آب در اثر گرما


مواد پیرامون ما



روزانه با مواد زیادی مانند وسایل آهنی، چوبی، پلاستیکی، فلزی و پارچه‌های نخی، ابریشمی و... سروکار داریم. در واقع چهره زندگی ما به نوع موادی که استفاده می‌کنیم، بستگی دارد؛ برای نمونه اختراع آلیاژ فولاد سبب گسترش صنعت خودروسازی و ساختمان‌سازی شد. در این فصل با ویژگی‌های برخی مواد و تأثیر آنها در ساخت وسایل زندگی آشنا می‌شوید.

طبیعت منبع مواد است

در علوم ششم آموختید، برخی از موادی که در زندگی از آنها استفاده می‌کنیم در طبیعت یافت می‌شوند و برخی از آنها را می‌توان مستقیماً از زمین، آب و هوا جدا کرد و به کار برد. شکل ۱ نمونه‌هایی از این مواد را نشان می‌دهد.



ب) طلا به صورت تکه‌ها یا رگه‌های فلزی درخشان در لابه‌لای برخی از خاک‌ها و سنگ‌ها یافت می‌شود.



الف) گوگرد به صورت بلورهای زرد و کدر در دهانه آتشفشان‌های خاموش و نیمه فعال وجود دارد.



ت) نمک خوراکی را می‌توان از آب دریا تهیه کرد.



پ) الماس را می‌توان به صورت بلورهای زیبا و درخشان در کنار سنگ‌های آتشفشانی جست‌وجو کرد.

شکل ۱ - نمونه‌هایی از موادی که به طور مستقیم از طبیعت به دست می‌آیند.

بیشتر مواد مورد استفاده در زندگی ما، در طبیعت یافت نمی‌شوند؛ بلکه باید آنها را با انجام دادن تغییرهای فیزیکی و شیمیایی در مواد طبیعی به دست آورد؛ برای نمونه: فلزهای آهن، آلومینیم و مس را از سنگ معدن آنها، شیشه را از ماسه، سیمان را از سنگ آهک و پلاستیک را از نفت خام می‌سازند.

وسایله‌ها و اجسام مختلف از چه موادی ساخته شده‌اند؟

با دقت به وسایله‌ها و اجسام اطراف خود نگاه کنید. آیا جنس همه آنها یکسان است؟ آیا برای ساختن آنها از مواد یکسانی استفاده شده است؟

با کمی بررسی پی می‌برید که وسایله‌های مختلف از مواد گوناگونی ساخته شده‌اند. برخی از آنها فقط از یک نوع ماده و برخی دیگر از چند نوع ماده تشکیل شده‌اند؛ برای مثال سیم مسی فقط از مس، عصای چوبی فقط از چوب و کاغذ از گچ، چوب و نشاسته و... ساخته شده است.

بیشتر بدانید
اکسیژن، نیتروژن و کربن دی‌اکسید به صورت گازهای بی‌رنگ در هوا یافت می‌شوند.

فهرستی از لوازم و وسایل اطراف خود (حداقل ده مورد) را تهیه، و به دلخواه دسته‌بندی کنید. ملاک دسته‌بندی خودتان را مشخص کنید.

دانش‌آموزی فهرستی از وسایل مختلف را تهیه کرده و آنها را بر اساس نوع مواد به کار برده شده در ساختمان آنها به صورت زیر طبقه‌بندی کرده است (نمودار ۱).

موارد مورد استفاده در ساخت وسایل و اجسام

فلزی	شیشه‌ای	چوبی	چرمی	پارچه‌ای	پلاستیکی	سنگی
						

نمودار ۱ - طبقه‌بندی مواد بر اساس جنس آنها

شما نیز فهرستی را که تهیه کرده‌اید به این صورت طبقه‌بندی کنید. آیا در فهرست شما وسایلی هست که در هیچ یک از این دسته‌ها جای نگیرند؟

مواد ویژگی‌های معینی دارند

هر ماده دارای ویژگی‌های مشخص و معینی است؛ برای نمونه، مس فلزی جامد است؛ سطح براق دارد و رسانای جریان برق و رسانای گرما، چکش خوار و سخت است. برای بیان ویژگی‌های مواد از عبارت‌ها و واژه‌هایی مانند سخت یا نرم، چکش خوار یا شکننده، انعطاف‌پذیر یا انعطاف‌ناپذیر، جاذب آب یا ضد آب، شفاف یا کدر، دارای خاصیت آهن ربایی یا بدون خاصیت آهن ربایی و ... استفاده می‌شود.

وقتی می‌گویند یک ماده از ماده‌ی دیگر سخت‌تر است، منظور این است که می‌توان به کمک ماده‌ی سخت روی ماده‌ی دیگر خراش ایجاد کرد یا آن را برید؛ برای نمونه با استفاده از الماس می‌توان شیشه را برید؛ با ناخن روی صابون و چوب پنبه خراش ایجاد کرد. در نتیجه ناخن از صابون و چوب پنبه سخت‌تر است. یکی دیگر از ویژگی‌های مواد، انعطاف‌پذیری است.



شکل ۲ - کدام یک سخت‌تر است؟ شیشه یا الماس

انعطاف پذیری یک ماده نشان می دهد که آن ماده چقدر می تواند در اثر وارد کردن نیرو، خم یا کشیده شود و پس از حذف نیرو، دوباره به حالت اول برگردد؛ برای نمونه اگر یک کش لاستیکی را بکشید، طول آن افزایش می یابد. حال اگر آن را رها کنید، (نیروی وارد شده را حذف کنید) دوباره به حالت اول خود بر می گردد. در این حالت می گوئیم، کش انعطاف پذیر است.

کاربردهای یک ماده به ویژگی های آن بستگی دارد؛ برای نمونه، چکش خوار بودن فلزها این امکان را به ما می دهد تا آنها را به شکل های دلخواه در آوریم (شکل ۳).



الف) چند وسیله فلزی



ب) چکش کاری روی فلزها از صناعی است که از دیرباز در ایران رونق داشته است.

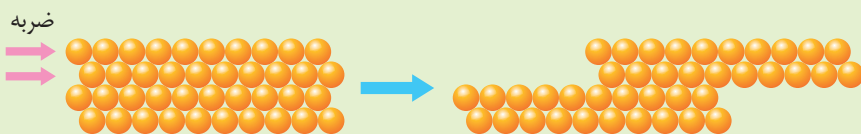
شکل ۳

فکر کنید

۱- خواص مورد انتظار برای لیوان شیشه ای، میله چوبی، بشقاب سرامیکی، خط کش پلاستیکی و قوطی آلومینیمی را پیش بینی و جدول زیر را کامل کنید.

نام جسم	خاصیت	شکننده - چکش خوار	رسانا - نارسانای الکتریکی	انعطاف پذیر - انعطاف ناپذیر	شفاف - کدر
لیوان شیشه ای					
خط کش پلاستیکی					
قوطی آلومینیمی		چکش خوار	رسانا	انعطاف ناپذیر	کدر
مداد چوبی					
بشقاب سرامیکی					
تایر اتومبیل					

۲- با بررسی شکل زیر، چکش خوار بودن فلزها را با توجه به ساختار اتمی آنها توضیح دهید.



اکنون با آزمایش‌ها و فعالیت‌های زیر با برخی از ویژگی‌های دیگر مواد آشنا می‌شوید.

آزمایش کنید ۱

وسایل و مواد: باتری، لامپ ۱/۵ ولتی، چند تکه سیم، لیوان، سکه، خط کش پلاستیکی، چوبی و فلزی، قوطی یا پوش‌برگ (فویل) آلومینیومی، پارچه نخی و بشقاب سرامیکی

روش آزمایش

- ۱- یک مدار الکتریکی ساده بسازید.
- ۲- رسانایی الکتریکی مواد ذکر شده را بررسی، و نتیجه مشاهدات خود را یادداشت کنید.

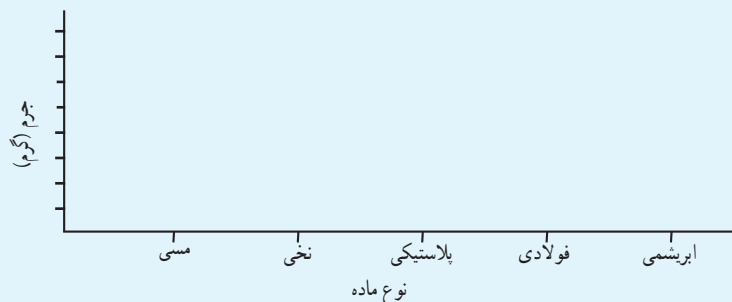
آزمایش کنید ۲

وسایل و مواد: چند رشته سیم نازک فلزی، نخی و پلاستیکی، قلاب، پایه و گیره فلزی و

چند وزنه ۱۰۰ گرمی

روش آزمایش

- ۱- یک رشته سیم مسی را مطابق شکل به گیره ببندید.
- ۲- یک وزنه ۱۰۰ گرمی را از آن آویزان، و تعداد وزنه‌ها را کم کم اضافه کنید.
- این عمل را تا آنجا ادامه دهید که رشته سیم پاره شود.
- ۳- آزمایش را برای رشته سیم‌های دیگر تکرار کنید (قطر رشته سیم‌ها باید یکسان باشد).
- ۴- نتیجه مشاهدات خود را روی نمودار زیر رسم، و نتایج را مقایسه کنید.



بیشتر بدانید

استحکام: مقدار نیرویی که لازم است تا یک ماده در اثر کشیدن، گسسته یا بریده شود. (میزان مقاومتی که یک ماده در برابر پاره شدن از خود نشان می‌دهد.)

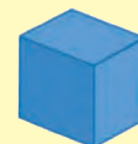
آیا می‌دانید

در ساختن چرخ خودرو از رشته‌های فولادی استفاده می‌شود.

همان‌طور که مشاهده کردید، معمولاً استحکام فلزها از مواد دیگر بیشتر است. در نتیجه برای ساختن وسایلی که باید استحکام زیادی داشته باشند از فلزها استفاده می‌کنند؛ برای نمونه بدنه خودروها، اسکلت‌های ساختمانی، پل‌ها، در و پنجره و وسایل ورزشی را با استفاده از فلز می‌سازند.

فعالیت

در فصل ۲ با چگالی آشنا شدید. چگالی مواد یکی دیگر از ویژگی های مهم مواد است. فرض کنید می خواهید وسیله ای محکم ولی سبک بسازید در این صورت از کدام ماده استفاده می کنید؟ با انجام دادن فعالیت زیر با چگالی مواد بیشتر آشنا می شوید.



۱ میلی لیتر (سانتی متر مکعب) آب تقریباً ۱ گرم است.



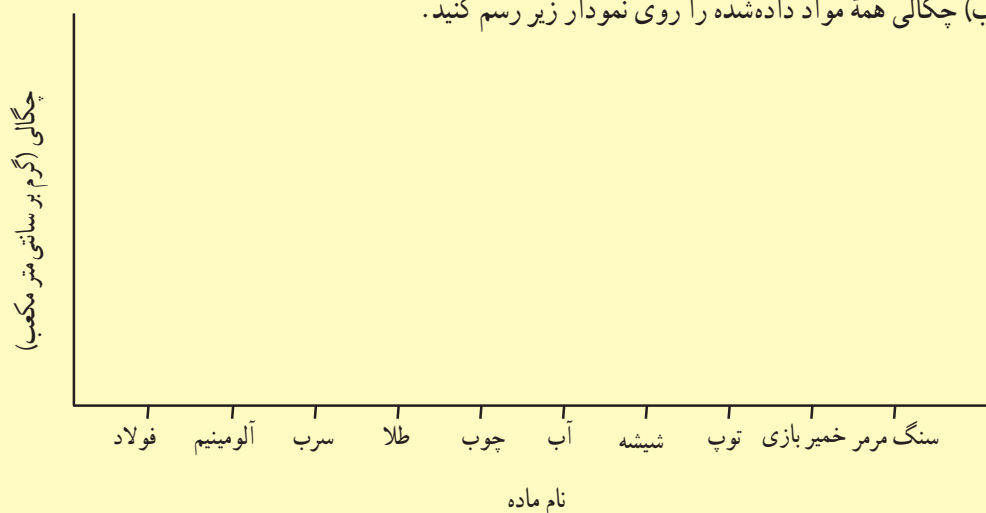
۱ سانتی متر مکعب هوا تقریباً ۰/۰۰۱ گرم است.



۱ سانتی متر مکعب از یک نوع چوب تقریباً ۰/۷ گرم است.

شکل زیر جرم یک سانتی متر مکعب از چند ماده مختلف را نشان می دهد.

الف) شما نیز با استفاده از ترازو و استوانه مدرج، جرم و حجم خمیر بازی، میخ فولادی، سنگ مرمر، توپ، انگشتر طلا، ورق آلومینیومی و وزنه سربی را اندازه گیری، و چگالی آنها را حساب کنید.
ب) چگالی همه مواد داده شده را روی نمودار زیر رسم کنید.



چوب پنبه
آب
مهره برنجی
جیوه

پ) آیا چگالی فلزها با هم برابر است؟
ت) چگالی کدام گروه از مواد نسبت به بقیه بیشتر است؟
ث) برداشت خود را از شکل رو به رو در یک سطر بنویسید.

دیدید که چگالی فلزها با هم برابر نیستند؛ برای نمونه، چگالی طلا خیلی بیشتر از فولاد و چگالی فولاد نیز از آلومینیم بیشتر است. به همین دلیل فلز آلومینیم به یک فلز سبک شهرت دارد و برای ساختن اجسام محکم ولی سبک به کار می‌رود (شکل ۴).



شکل ۴- فلز آلومینیم در صنعت هواپیماسازی نقش مهمی دارد.

آیا می‌دانید

در ساختن جلیقه‌های ضدگلوله از پلاستیک‌هایی استفاده شده است که استحکام آنها چند برابر فولاد است.



شکل ۵- قابلیت ورقه‌ای شدن طلا زیاد است.

گفت‌وگو کنید

چون استحکام فولاد زیاد است، اغلب پل‌ها و اسکله‌های فلزی را از فولاد می‌سازند. چرا استحکام این سازه‌ها با گذشت زمان کاهش می‌یابد؟

آزمایش کنید - کار در کلاس (توپ شیطونک بسازید)

وسایل و مواد: چسب چوب، بوراکس، آب، رنگ غذا، لیوان، کاسه، استوانه مدرج، ترازو
روش آزمایش

- ۱- در یک لیوان بزرگ ۳۰ میلی لیتر آب بریزید و ۳۰ میلی لیتر چسب چوب به آن اضافه کنید؛ سپس آن را هم بزنید تا یکنواخت شود.
- ۲- یک قاشق سوپ خوری از بوراکس و چند قطره رنگ غذا را در ۶۰ میلی لیتر آب در یک کاسه حل کنید.
- ۳- محتویات لیوان را به آرامی درون کاسه اضافه کنید و مرتب هم بزنید.
- ۴- مادهٔ ژله‌ای به دست آمده را با حرکت دست به شکل یک توپ در آورید.
- ۵- با تغییر شرایط انجام واکنش (تغییر دمای آب) و افزودن مواد دیگر مانند نشاسته، آزمایش را تکرار، و توپ‌های ساخته شده را با هم مقایسه کنید.

چه ماده‌ای به کار می‌برید؟

می‌دانید هر وسیله، کاربرد معینی دارد؛ بنابراین هنگام ساختن وسایل، باید به ویژگی مواد سازنده آن توجه کرد. در جدول ۱ چند وسیله، ماده سازنده و علت انتخاب آنها نشان داده شده است. با بررسی جدول، جاهای خالی را کامل کنید.

جدول ۱- چند وسیله و ماده سازنده آنها

نام ماده سازنده	وسيله	علت انتخاب
فلز	 قوطی آلومینیومی	
	 سیم مسی (سیم برق)	
	 حلقه طلا	طلا زنگ نمی‌زند طلا درخشان و زیباست
	 ظروف آشپزخانه	
شیشه	 شیشه پنجره	
	 عذسی	
پلاستیک	 کلید و پریز	
	 روکش سیم برق	

اطلاعات جمع آوری کنید


برای ساخت هر یک از وسایل زیر از چه موادی استفاده شده است؟ دلیل انتخاب هر ماده را بنویسید.

الف) دستاک (راکت) تنیس ب) قابلمه دسته دار پ) کلاه ایمنی
ت) بدنه و در یخچال ث) چرخ اتومبیل

در ساختن یک وسیله، علاوه بر ویژگی‌های فیزیکی مواد، قیمت و فراوانی آنها نیز در انتخاب آنها اهمیت دارد؛ برای نمونه فلز آهن از سایر فلزها ارزان‌تر است. به همین دلیل این فلز کاربرد بسیار گسترده‌ای در صنایع مختلف دارد.



شکل ۶- ارگ بزرگ‌ترین ارگ خشتی جهان است.



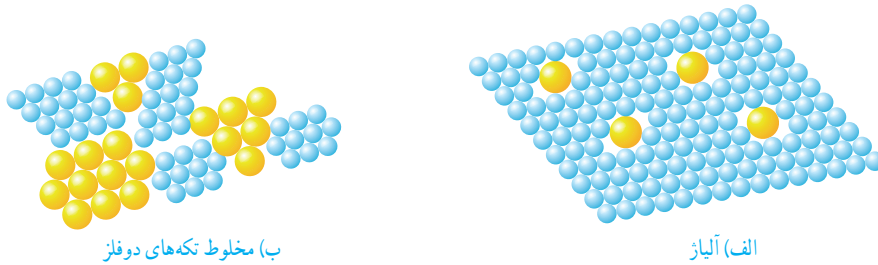
چگونه موادی با خواص بهتر تولید کنیم؟

انسان‌ها از دیرباز در جست‌وجوی روش‌هایی برای تولید موادی مفید و سودمند در زندگی بوده‌اند؛ مثلاً افزودن مقداری آهنک به گل سبب افزایش استحکام آن می‌شود. از این رو در ساخت بناهای خشتی از آن استفاده می‌کردند. کربن (زغال) نافلزی سیاه‌رنگ و نرم است که با کشیدن روی کاغذ یا سنگ به آسانی لایه نازکی از آن بر جای می‌ماند. در نتیجه از کربن برای تولید مغز مداد استفاده می‌شود؛ اما نرمی زیاد آن مشکلاتی را در ساخت مداد و نوشتن با آن ایجاد می‌کند. تجربه نشان می‌دهد که افزودن مقداری خاک رس به کربن سبب بیشتر شدن سختی آن می‌شود به طوری که هر چه مقدار خاک رس بیشتر باشد، سختی مغز مداد بیشتر خواهد شد.

خواص فلزها را نیز می‌توان با افزودن یک یا چند ماده شیمیایی به آنها تغییر داد. در اثر این عمل، خواص فلزها بهبود پیدا می‌کند، آلیاژها مواد جدیدی‌اند که اغلب از مخلوط کردن دو

بیشتر بدانید
گاهی در تهیه آلیاژها از نافلزی مانند کربن نیز استفاده می‌شود.

یا چند فلز به دست می‌آیند. برای این منظور فلزها را ذوب و با هم مخلوط می‌کنند. در اثر این عمل، اتم‌های سازنده آلیاژ، لایه‌لای یکدیگر پخش می‌شوند (شکل ۷).



(ب) مخلوط تکه‌های دو فلز


(الف) آلیاژ

شکل ۷

آلیاژها ویژگی‌های جدیدی دارند به طوری که هرگاه مقدار کمی از فلزهای مختلف یا کربن را به فلز آهن اضافه کنیم، انواع فولاد با ویژگی‌های متفاوت به دست می‌آید؛ برای نمونه، افزودن فلزهای کروم و نیکل به آهن سبب تولید ماده جدیدی به نام فولاد زنگ نزن می‌شود که بسیار مقاوم و سخت‌تر از آهن است (جدول ۲).

جدول ۲- نام اجزای سازنده، خواص و کاربرد چند آلیاژ

نام آلیاژ	اجزای سازنده	خواص	کاربرد
فولاد زنگ نزن	نیکل، کروم و آهن	سخت‌تر از آهن	
چدن	کربن و آهن	سخت‌تر از آهن	



شکل ۸- استفاده از آلیاژهای مس در ایران قدمت دیرینه دارد.



(الف) قاب عینک

مواد هوشمند
همان‌طور که آموختید، علوم تجربی به ما کمک می‌کند تا بتوانیم خواص مواد را بهبود بخشیم و از این رهگذر مواد جدیدی تولید کنیم؛ برای نمونه، عینک‌هایی ساخته شده‌اند که اگر به آنها نیرو یا فشاری وارد شود، قاب آنها مجاله می‌شود و تغییر شکل می‌دهد؛ اما جالب است بدانید که پس از حذف نیرو یا فشار دوباره و بدون هیچ کمکی از سوی شما به شکل اولیه خود بر می‌گردند (شکل ۹).

این نوع مواد به مواد هوشمند معروف‌اند. جست‌وجو برای یافتن مواد هوشمند با کاربردهای مختلف به طور گسترده‌ای در حال اجرا است. به نظر شما با ساختن چنین موادی زندگی ما دچار چه تغییرهایی خواهد شد؟



(ب) لوازم دندانپزشکی
شکل ۹- نمونه‌هایی از کاربردهای مواد هوشمند

و انزلنا من السماء ماءً بقدرٍ فاسكنناه في الارض ...
و از آسمان آبی به اندازه معین نازل کردیم و آن را در زمین ساکن نمودیم.
سوره مؤمنون، آیه ۱۸

منابع خدادادی در خدمت ما

همه ما روی کره زمین زندگی می‌کنیم و نیازهای خود را به‌طور مستقیم یا غیرمستقیم از آن به‌دست می‌آوریم. خداوند منابع زیادی را در زمین برای ما قرار داده است. معادن و آب‌ها از جمله منابع زمین‌اند. در این بخش با معادن، آب‌ها و کاربرد آنها در توسعه زندگی بیشتر آشنا می‌شوید.

فصل ۵- از معدن تا خانه

فصل ۶- سفر آب روی زمین

فصل ۷- سفر آب درون زمین

از معدن تا خانه



در زندگی روزمره از مواد مختلفی برای رفع نیازهای خود استفاده می‌کنیم؛ برای نمونه از سیمان، آهن و شیشه در ساختمان استفاده می‌کنیم. آیا تا به حال فکر کرده‌اید این مواد از کجا و چگونه به دست می‌آیند؟ ماده اولیه مورد نیاز برای تهیه بسیاری از مواد و وسایل از معادن به دست می‌آید. تهیه و تولید این مواد بر زندگی شما چه تأثیری دارد؟ در این فصل با برخی از فرایندهای تولید مواد و تأثیرات زیست محیطی آنها آشنا می‌شوید.

اندوخته‌های زمین

به شکل‌های زیر توجه کنید. در ساختن هر یک از آنها از چه موادی استفاده شده است؟ آیا همه این مواد در طبیعت یافت می‌شوند؟



ب) بل پورسک



ب) رایانک (تبلت)
شکل ۱



الف) خودرو

آموختید که تعداد اندکی از مواد به‌طور مستقیم و بیشتر آنها به‌طور غیرمستقیم از زمین به‌دست می‌آیند؛ بنابراین زمین اندوخته‌ای عظیم و خدادادی از مواد موردنیاز برای زندگی است. این اندوخته‌ها در معادن مختلف مانند معادن آهن، مس، طلا، آلومینیم، گچ، زغال‌سنگ و... یافت می‌شوند. در این معادن، مواد معمولاً به‌صورت ترکیب وجود دارند. معادن، مواد اولیه‌ی لازم را برای تولید انواع فرآورده‌های صنعتی، ساختمانی، دارویی و... تأمین می‌کنند.

فکر کنید

شکل زیر مراحل کلی تولید تقریباً ۵۰۰ کیلوگرم آهن را از سنگ معدن نشان می‌دهد. با بررسی دقیق آن به پرسش‌های مطرح شده پاسخ دهید.



الف) مقدار آهن مورد نیاز ساختن خانه مسکونی را که در آن زندگی می‌کنید به‌طور تقریبی حساب کنید.

ب) با توجه به پاسخ پرسش الف، حساب کنید برای تأمین میزان آهن به‌کار رفته در خانه شما چند تن سنگ آهن مصرف شده است.

چگونه می‌توان به آهن دست یافت؟

عنصر آهن در معادن به‌صورت ترکیب‌های آهن یافت می‌شود. اکسیدهای آهن از ترکیب‌های مهم آهن هستند که در این معادن وجود دارند. در این اکسیدها، اتم‌های آهن و اکسیژن به هم متصل‌اند. برای دستیابی به فلز آهن، باید اتم‌های اکسیژن را از اکسید آهن جدا کنیم. البته این جدا کردن، کار آسانی نیست و شامل یک تغییر شیمیایی است که با صرف انرژی زیادی همراه است.

حذف اکسیژن
فلز آهن ← اکسیدهای آهن

شکل ۲ مراحل تولید آهن را نشان می‌دهد. با توجه به آن دربارهٔ فرایند تولید آهن و مراحل مختلف آن در کلاس گفت‌وگو کنید.



الف) شناسایی معدن و بیرون آوردن سنگ معدن از دل زمین (ب) خالص سازی سنگ معدن



ب) گرما دادن مخلوط سنگ آهن، کربن و سنگ آهک (ت) تولید ورقه‌های فلز آهن در کوره

شکل ۲- مراحل استخراج فلز آهن

همان طور که در قسمت «پ» شکل مشاهده می‌کنید برای جدا کردن اتم‌های اکسیژن از آهن، سنگ معدن را به همراه کربن و سنگ آهک در کوره‌های مخصوص حرارت می‌دهند. در اثر این عمل، اتم‌های اکسیژن از سنگ معدن جدا و به صورت کربن دی‌اکسید خارج می‌شوند. در نتیجه فلز آهن به حالت مذاب در ته کوره باقی می‌ماند.

فلز آهن + کربن دی‌اکسید → گرما → کربن + اکسیدهای آهن

در پایان، فلز مایع را در قالب‌های مختلف می‌ریزند و به شکل‌های مختلف وارد بازار می‌کنند.

آیا می‌دانید

معدن سنگان خواف در استان خراسان رضوی و معدن چغارت در اطراف بافق در استان یزد از معادن مهم سنگ آهن در ایران‌اند.

آیا می‌دانید

فلز آهن به صورت خالص نسبتاً نرم است و در اثر ضربه خم می‌شود.

آیا از فلز آهن خالص می‌توان به عنوان تیرآهن در ساخت اسکلت‌های ساختمانی و ورقه‌های آهن در ساخت بدنه خودروها و لوازم آشپزخانه استفاده کرد؟ پاسخ خود را توضیح دهید.



خود را بیازمایید

جدول زیر مواد اولیه به کار برده شده در تولید کارد و چنگال‌های مختلف را نشان می‌دهد. در هر مورد علت استفاده مواد را مشخص و جدول را کامل کنید.

ماده اولیه به کار برده شده	علت کاربرد
آهن	
کروم و نیکل	
نقره	
چوب یا پلاستیک	
چسب	

بیشتر بدانید
استفاده هم‌زمان از فولاد و بتن در ساختن خانه‌های مسکونی سبب می‌شود که هنگام بروز حوادث طبیعی، آسیب کمتری به ساختمان و ما وارد شود.

به دنبال سرپناهی ایمن

هزاران سال است که انسان از مواد طبیعی گوناگونی مانند چوب، سنگ، خاک و... برای ساختن سرپناه استفاده می‌کند. برای این منظور از جنگل‌ها، معادن، جانوران، گیاهان و دیگر منابع خدادادی بهره‌برداری می‌کند. البته نوع و میزان بهره‌برداری انسان از اندوخته‌های طبیعی با گذشت زمان تغییر کرده است (شکل ۳).



شکل ۳ - نمونه‌هایی از ساختمان‌های مسکونی

درباره استحکام این ساختمان‌ها در برابر حوادث طبیعی مانند زمین‌لرزه و سیل گفت و گو کنید. در گفت‌وگوی خود به ارتباط استحکام ساختمان با مواد به کار رفته در ساخت آن بپردازید.

میزان مصرف منابع طبیعی با افزایش جمعیت به مقدار قابل توجهی افزایش یافته است. از سوی دیگر، گسترش روزافزون دانش بشری به انسان این امکان را می‌دهد که مواد جدیدی را بسازد به طوری که خانه‌های مسکونی ساخته شده با این مواد، استحکام بیشتری دارند و در برابر زمین‌لرزه از مقاومت بیشتری برخوردارند.


بتن، یکی از مهم‌ترین موادی است که امروزه برای ساختن خانه‌های مسکونی و برج‌ها از آن استفاده می‌شود. بتن مخلوطی از سیمان، شن، ماسه و آب است و استحکام زیادی دارد.

سیمان مخلوطی از آهک و خاک رس است.

بیشتر بدانید
مخلوط آب و آهک را به عنوان ضد عفونی کننده در ورودی استخرها، گاوداری‌ها و مرغداری‌ها به کار می‌برند.

آزمایش کنید

وسایل و مواد: مقوا، ماسه، سیمان، تشتک، آب، سیم یا توری فلزی
روش آزمایش



۱- چهار قوطی مقوایی مکعبی شکل به ابعاد $5 \times 5 \times 10$ سانتی متر بسازید و آنها را شماره گذاری کنید.

۲- دو تشتک جداگانه بردارید. در اولی پنج لیوان ماسه و یک لیوان سیمان و مقدار کافی آب و در دومی پنج لیوان ماسه، دو لیوان سیمان و مقدار کافی آب بریزید و خوب هم بزنید.

۳- در قوطی شماره (۱)، بتن به دست آمده در تشتک اول و در قوطی شماره (۲) از بتن تشتک دوم بریزید؛ سپس بگذارید تا یک هفته به حال خود باقی بمانند و خشک شوند.

۴- در هر یک از قوطی‌های شماره (۳) و (۴) ابتدا دو عدد سیم یا توری فلزی با قطرهای یکسان، قرار دهید و آنها را با بتن‌ها پر کنید. اجازه دهید تا یک هفته به حال خود باقی بمانند و خشک شوند.

۵- پس از یک هفته با طراحی یک آزمایش استحکام بتن‌های خشک شده را بررسی و مقایسه کنید.

توجه: قطعه‌های بتنی را هر روز با ریختن آب خیس کنید.

بتن کاربردهای گوناگونی دارد. شکل ۴ برخی از این کاربردها را نشان می‌دهد. شما چه کاربردهای دیگری می‌شناسید؟ آنها را بنویسید.



شکل ۴ - برخی از کاربردهای بتن

آزمایش کنید

در حدود ۵۰ گرم آهک را در یک ظرف بریزید و دو لیوان آب روی آن اضافه کنید. مشاهدات خود را یادداشت کنید؛ سپس با استفاده از کاغذ بی‌اج مشخص کنید آیا مخلوط آب آهک خاصیت اسیدی دارد؟



جدول زیر اطلاعاتی درباره مقدار تولید و مصرف سیمان در کشورمان را نشان می‌دهد. با بررسی آن به پرسش‌های مطرح شده پاسخ دهید.

سال	تولید سیمان (تن)	مصرف سیمان (تن)
۱۳۷۷	۲۰۰۰۰	۲۰۰۰۰
۱۳۸۳	۳۳۰۰۰	۳۱۰۰۰
۱۳۸۹	۶۱۰۰۰	۵۰۰۰۰
۱۳۹۲	۶۸۰۰۰	۵۶۰۰۰
۱۳۹۴	۵۸۰۰۰	۴۹۰۰۰
۱۳۹۶	۷۰۰۰۰	۵۸۰۰۰

الف) نمودار ستونی مقدار تولید سیمان را در سال‌های مختلف رسم کنید.
ب) در چه سال‌هایی کشور ایران صادر کننده سیمان بوده است؟ پاسخ خود را توضیح دهید.



یک شرکت بزرگ قصد دارد در حومه یکی از شهرهای ایران از یک معدن بزرگ بهره‌برداری کند. در شکل‌های زیر نظر چند نفر از افراد مختلف در این باره ارائه شده است. در یک پژوهش گروهی، مزایا و معایب بهره‌برداری از یک معدن در استان محل زندگی خود را از نظر اجتماعی، اقتصادی و زیست‌محیطی بررسی، و به کلاس گزارش کنید.



کاسب محل: من فکر می‌کنم فرصت مناسبی برای گسترش و رونق شغل من ایجاد می‌شود.



جوان جویای کار: بالاخره من هم یک شغل خوب نزدیک محل زندگی خود پیدا می‌کنم.



از اهالی محل: من بچه کوچکی دارم که به مدرسه می‌رود. مدرسه نزدیک راه معدن و کارخانه‌های وابسته به آن است. من نگران امنیت و سلامت بچه‌ام هستم.



نظر شما



مهندس معدن: با بهره‌برداری از این معدن برای چندین سال می‌توانیم مواد اولیه مورد نیاز چند کارخانه را تأمین کنیم.



کارشناس محیط‌زیست: این کار سبب تخریب آشیانه حیوانات و پرندگان مختلف در این منطقه می‌شود و به محیط‌زیست آسیب وارد می‌کند.

اندوخته طبیعی و ظروف آشپزخانه

ظروف آشپزخانه نیز مانند سایر وسایل مورد استفاده در زندگی از مواد موجود در طبیعت ساخته می‌شوند.





دیدید که ماده اولیه تولید کارد و چنگال، سنگ معدن آهن است. آیا تا به حال فکر کرده‌اید، ظروف سفالی، چینی و شیشه‌ای را از چه موادی می‌سازند؟ جالب است بدانید، بشقاب چینی که در آن غذا می‌خورید، از خاک رس و لیوان شیشه‌ای که در آن آب می‌نوشید، از ماسه ساخته می‌شود.

خاک رس یکی از مواد طبیعی است که به فراوانی یافت می‌شود. برای تهیه ظروف سفالی تغییرات زیر را روی خاک رس انجام می‌دهند:

پختن و لعاب دادن → شکل دادن به خمیر → تهیه گل کوزه‌گری



در تولید ظروف سفالی رنگی از اکسید فلزهای مختلفی مانند آهن، کروم، مس، و... استفاده می‌شود.

اطلاعات جمع‌آوری کنید

در شهرهایی مانند یزد، همدان و... ظرف‌های سفالی و چینی مختلفی ساخته می‌شود. درباره تنوع، ویژگی‌ها و چگونگی ساختن این ظرف‌ها اطلاعات جمع‌آوری کنید.

شیشه نیز یکی از مواد پرمصرف در تولید ظرف‌های آشپزخانه است. برای تهیه شیشه، ماسه را با افزودن مواد شیمیایی مختلف گرما می‌دهند تا به خمیر شیشه تبدیل شود؛ سپس خمیر شیشه را در قالب‌های دلخواه می‌ریزند و به شکل‌های مشخص درمی‌آورند.

آیا می‌دانید

افزودن اکسید کروم به لعاب، سبب تولید ظروفی با رنگ سبز می‌گردد.



گفت‌وگو کنید

می‌دانید شیشه در اثر ضربه می‌شکند. درباره اینکه چگونه خمیر شیشه‌ای را به شکل‌های مختلف درمی‌آورند در کلاس گفت‌وگو کنید.



شیشه‌سازی در ایران سابقه‌ای طولانی دارد و به بیش از ۲۰۰۰ سال می‌رسد.

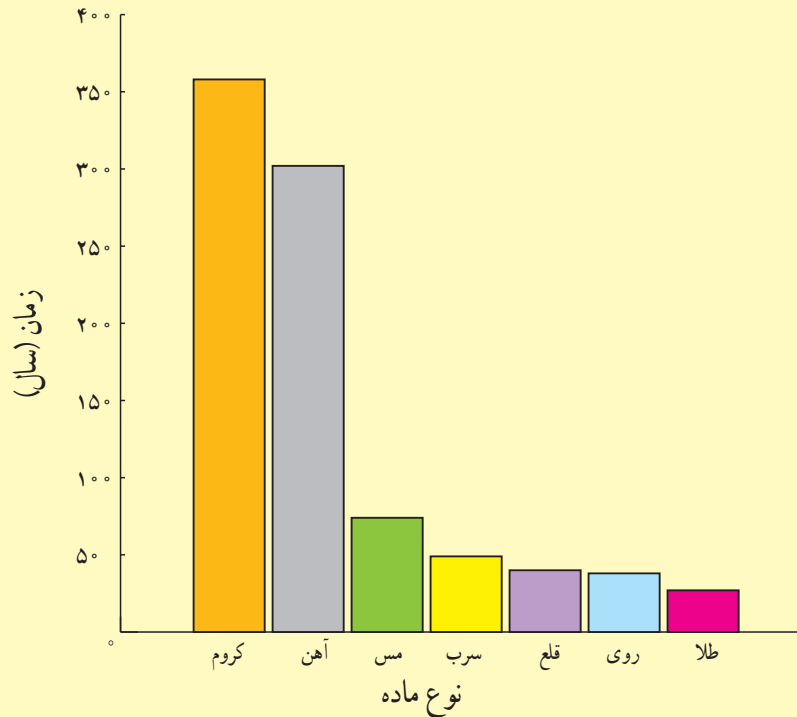


سرعت مصرف منابع

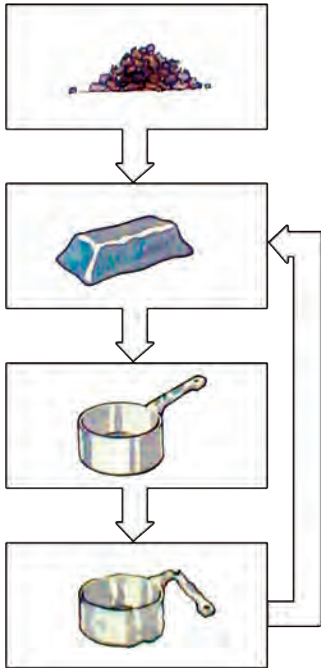
سالانه میلیاردها تن از اندوخته‌های طبیعی و خدادادی مصرف می‌شود. پیش‌بینی دانشمندان نشان می‌دهد که اگر انسان با همین روند منابع را مصرف کند تا صد سال دیگر بسیاری از منابع شناخته شده به پایان خواهند رسید.



نمودار زیر زمان تقریبی پیش‌بینی شده (بر حسب سال) برای پایان یافتن اندوخته‌های شناخته شده از چند ماده را نشان می‌دهد. درباره داده‌های این نمودار در کلاس گفت و گو کنید.



زمان تقریبی پایان یافتن برخی اندوخته‌های طبیعی (سال)



هر چند انسان برای رفع نیازهای زندگی خود مجبور است از منابع طبیعی بهره‌برداری کند، توجه به این نکته بسیار مهم است که طبیعت و همهٔ اندوخته‌های آن امانتی هستند که خداوند آنها را نزد انسان به ودیعه گذاشته است. حال پرسش اساسی این است که چگونه می‌توان ضمن بهره‌برداری از اندوخته‌های طبیعی، آنها را برای نسل‌های آینده نیز محافظت کنیم.

فکر کنید

برای محافظت از منابع طبیعی سه راه پیشنهاد شده است که عبارت‌اند از:
 - «کاهش مصرف، بازیافت، مصرف دوباره»
 نمودار مجاور، کدام یک از راه‌های بالا را برای حفظ منابع آهن نشان می‌دهد؟ پاسخ خود را توضیح دهید.

گفت و گو کنید

هر یک از عبارت‌های داده شده به یکی از روش‌های محافظت از منابع طبیعی و محیط‌زیست اشاره می‌کند. دربارهٔ اینکه هر عبارت بیانگر کدام روش است در کلاس گفت و گو کنید.
 الف) ظرف‌های شیشه‌ای سس، ترشی و ... را می‌توان شست و حبوبات را داخل آنها نگهداری کرد.
 ب) برای خرید میوه با خود زنبیل یا کیسهٔ پارچه‌ای می‌بریم.
 پ) قوطی‌ها و ظرف‌های فلزی خراب را در کارخانه پس از ذوب کردن به حالت شمش در می‌آورند.

سفر آب روی زمین



آب مهم‌ترین عامل حیات است. همه موجودات زنده برای ادامه زندگی به آب نیاز دارند. ما نیز در زندگی روزمره برای شستن دست و صورت، مسواک زدن، وضوگرفتن، تهیه غذا و... به آب نیاز داریم. همچنین برای کشاورزی، فعالیت‌های صنعتی، ساختمانی و غیره وجود آب لازم و ضروری است. در این فصل با نقش و اهمیت آب در زندگی بیشتر آشنا می‌شوید.



آب، فراوان اما کمیاب

آیا می‌دانید منشأ آبی که استفاده می‌کنید از کجاست و چگونه تأمین می‌شود؟ امروزه کم آبی در جهان به صورت یک مشکل اساسی مطرح است. در کشور ما نیز که به طور طبیعی روی نوار بیابانی دنیا واقع شده، این مسئله جدی‌تر است. از این رو استفاده درست از منابع آبی و مهار آب‌های سطحی از گذشته‌های دور مورد توجه بوده است. بنابراین مطالعه آب‌ها در کشور ما از اهمیت زیادی برخوردار است.

شکل ۱- نقشه پراکنندگی منابع آبی در ایران



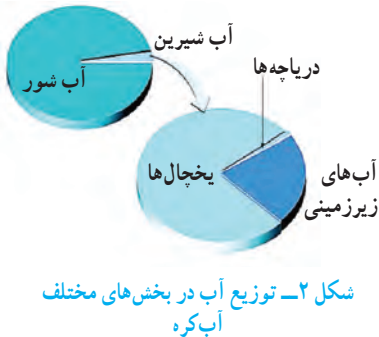
بخار آب فراوانی در هوا کره (اتمسفر) زمین وجود دارد که پس از تراکم به صورت بارش به سطح زمین می‌رسد. بارش به شکل‌های گوناگون دیده می‌شود که در مناطق مختلف مقدار آن متفاوت است (جدول ۱).

جدول ۱- میانگین بارش برخی شهرهای کشور

نام شهر	اصفهان	ایلام	کرج	تهران	مشهد	بیرجند	زنجان	شیراز	اتزلی	کرمان
میانگین بارش (میلی متر)	۱۱۲	۵۷۵	۲۴۸	۲۳۹	۲۳۸	۱۵۴	۲۸۰	۳۳۷	۱۶۷۵	۱۳۳

گفت و گو کنید

در گروه خود درباره اینکه چرا مقدار بارندگی در شهرهای کشورمان با هم فرق دارد، گفت و گو کنید.



شکل ۲- توزیع آب در بخش‌های مختلف آب کره

بیش از ۷۵ درصد سطح کره زمین را آب فرا گرفته است که مقدار کمی از آن را آب‌های شیرین تشکیل می‌دهند. به مجموعه آب‌های موجود در هوا کره (اتمسفر)، سطح و درون زمین که به صورت جامد، مایع و بخار می‌باشند، آب کره گفته می‌شود. آب کره شامل اقیانوس‌ها، دریاها، دریاچه‌ها، رودخانه‌ها، آب‌های زیرزمینی، رطوبت هوا و یخچال‌ها می‌شود.

باران چگونه تشکیل می‌شود؟

آزمایش کنید

وسایل و مواد: بشر ۲ عدد، مقداری نایلون، کش و یخ
روش آزمایش



۱- دو ظرف شیشه‌ای (بشر یا لیوان) بردارید. یک سوم حجم یکی از ظرف‌ها را با آب گرم پر کنید و ظرف دیگر را خالی بگذارید.

۲- دهانه هر دو ظرف را با پوشش نایلونی ببندید و روی پوشش نایلونی قطعات یخ بریزید؛ سپس مشاهدات خود را یادداشت کنید.

۳- در کدام ظرف باران تشکیل می‌شود؟ در کدام لیوان ایر و باران تشکیل می‌شود؟ علت آن را توضیح دهید.

همان گونه که در سال‌های گذشته آموختید با تابش پرتوهای خورشید به سطح اقیانوس‌ها، دریاها و دریاچه‌ها، آب‌ها تبخیر می‌شوند و به بالا می‌روند. بخار آب در آنجا به دلیل کاهش دما، متراکم و به ابر تبدیل می‌شود. با ادامه روند کاهش دما، اگر درصد رطوبت و میزان دمای هوا به حد مناسبی برسد، بارش رخ می‌دهد. هرگاه در فرایند متراکم شدن ابرها، دمای هوا خیلی کم باشد، رطوبت هوا به شکل برف به سطح زمین می‌ریزد. در صورتی که دمای هوا هنگام

تراکم، بالاتر از صفر درجه سلسیوس باشد، رطوبت هوا به شکل باران به سطح زمین می‌ریزد. اگر قطره‌های باران در مسیر پایین آمدن به سطح زمین از توده هوای سرد عبور کنند به تگرگ تبدیل می‌شوند.

فعالیت

در یک روز بارانی با استفاده از یک ظرف و خط کش میزان بارندگی را در محل زندگی خود اندازه‌گیری کنید. اگر این آزمایش را با چند ظرف مختلف انجام دهید، چه نتیجه‌ای می‌گیرید؟ راهنمایی: در صورت عدم بارندگی از آب پاش استفاده کنید. توجه کنید که دهانه آب پاش از دهانه ظرف بزرگ تر باشد.

هواشناسی دانشی است که درباره شناخت جو و هوای اطراف کره زمین به مطالعه و تحقیق می‌پردازد. یکی از مهم‌ترین کارهای هواشناسی اندازه‌گیری مقدار بارندگی است که در ایستگاه‌های باران سنجی برحسب میلی‌متر انجام می‌شود.



شکل ۳- ایستگاه هواشناسی

اطلاعات جمع‌آوری کنید

در یک فعالیت گروهی درباره بارور کردن ابرها و تشکیل باران مصنوعی تحقیق، و نتیجه را به کلاس گزارش کنید.

باران کجا می‌رود؟

برای رسیدن به پاسخ این پرسش نخست آزمایش زیر را انجام می‌دهیم.

آزمایش کنید

وسایل و مواد: ظرف شیشه‌ای، مقداری ماسه و رس

روش آزمایش

۱- در یک ظرف شیشه‌ای مقداری ماسه (حدود ۷۰ درصد) و خاک رس (حدود ۳۰ درصد) را با هم مخلوط کنید و سطح آن را به صورت شیب دار و مترکم درآورید.

۲- لیوان آبی را از قسمت بالای سطح شیب‌دار خالی کنید.

۳- حرکت آب را با دقت مشاهده کنید و مسیر جریان آن را رسم کنید.

نتیجه مشاهده‌ها را در گروه خود به بحث بگذارید.



پس از بارش، بخشی از آب تبخیر می‌شود و به هوا کره (اتمسفر) صعود می‌کند. قسمتی از آن در سطح زمین، جاری می‌شود و بخش باقیمانده به درون زمین نفوذ می‌کند (شکل ۴).



شکل ۴- مسیر حرکت آب حاصل از بارندگی

آب‌های جاری

بخشی از آب باران در سفر خود روی زمین به طرف مناطق پست‌تر جریان پیدا می‌کند. این آب‌ها پس از به هم پیوستن در جهت شیب زمین حرکت می‌کنند و به دریاچه‌ها، دریاها و اقیانوس‌ها می‌ریزند. منطقه‌ای که آب‌های سطحی آن توسط یک رود و انشعابات آن از نقاط مرتفع به سمت نواحی پست‌تر هدایت می‌شود، حوضه آبریز نام دارد.



در بخشی از حیاط مدرسه که شیب دار است به وسیله آب‌پاش، پارچ یا... مقداری آب در چند نقطه نزدیک به هم در سطح زمین بریزید؛ سپس مسیر حرکت آب را رسم کنید. رسم خود را با شکل روبه‌رو مقایسه کنید.

اطلاعات جمع‌آوری کنید

نام چند حوضه آبریز استان خود یا استان‌های مجاور را ذکر کنید.

انسان از گذشته، آب را به عنوان یک نعمت خدادادی می‌دانسته و برای بهره‌برداری بهتر و جلوگیری از هدر رفتن آن به فکر احداث سد روی رودخانه‌ها بوده است. امروزه با احداث سد به این هدف مهم دست یافته است. کشور ما نیز در زمینه سدسازی موفق بوده است.


سرعت آب رودخانه‌ها با هم متفاوت است و به عوامل مختلفی بستگی دارد. رودخانه در مسیر حرکت خود ممکن است به صورت مستقیم یا مارپیچ جریان داشته باشد. اگر شیب زمینی که رودخانه در آن جریان دارد، زیاد باشد، رودخانه مسیر مستقیم پیدا می‌کند (شکل ۵ - الف و ب) و در صورتی که شیب زمین کم باشد، رودخانه مسیر مارپیچی به خود می‌گیرد (شکل ۶).

اطلاعات جمع‌آوری کنید

با مراجعه به منابع معتبر علمی دربارهٔ اثر عوامل دیگر بر شکل مسیر رود (مستقیم یا مارپیچی) اطلاعاتی جمع‌آوری و به کلاس گزارش کنید.

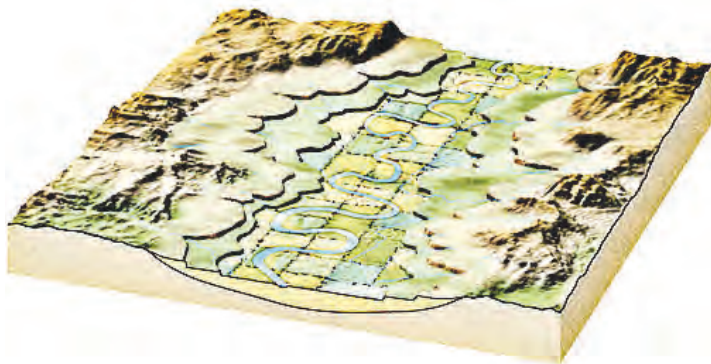


(الف)



(ب)

شکل ۵ - مسیر رودخانه مستقیم



شکل ۶ - مسیر رودخانه مارپیچ

آبشار



شکل ۷- آبشار- استان لرستان

رودخانه در ادامه مسیر خود ممکن است به محلی برسد که بستر آن به طور ناگهانی دچار اختلاف ارتفاع می‌شود. در این صورت آبشار (تندآب) ایجاد می‌گردد. علت تشکیل آبشار این است که آب در مسیر جریان خود، ابتدا از سنگ‌های سخت و مقاوم سپس از سنگ‌های نرم و کم مقاومت عبور می‌کند. بر اثر فرسایش در زمان نسبتاً طولانی، سنگ‌های مقاوم برجای می‌مانند و سنگ‌های نرم از بین می‌روند و اختلاف ارتفاع در مسیر رود ایجاد می‌شود که به آن آبشار گفته می‌شود (شکل ۷).

آلودگی رودخانه‌ها



شکل ۸- آلودگی آب رودخانه

در گذشته تصور بر این بود که به دلیل فراوانی آب در رودخانه‌ها، تخلیه فاضلاب‌ها در آلودگی آنها تأثیری ندارد؛ در حالی که امروزه ثابت شده است که کمترین آلودگی در رودخانه‌ها باعث ایجاد مشکلات زیست محیطی فراوانی می‌شود (شکل ۸). رودخانه‌ها به عنوان بخشی از محیط زیست و منبع تأمین کننده قسمت عمده‌ای از آب آشامیدنی، کشاورزی و صنعتی نیاز به حفاظت و توجه بیشتری دارند.

خود را بیازمایید

به نظر شما مهم‌ترین منابع آلوده کننده رودخانه‌ها کدام‌اند؟
آلودگی رودخانه‌ها چه مشکلاتی را ایجاد می‌کنند؟

دریاچه‌ها



شکل ۹- دریاچه خزر

بخشی از آب‌کره که در سطح خشکی‌ها واقع شده است و به طور طبیعی به آب‌های آزاد راه ندارد، دریاچه نامیده می‌شود. دریاچه یک محیط زنده و پویاست که جانداران مختلفی در آن زندگی می‌کنند. دریاچه‌ها از نظر تأمین مواد غذایی، مواد معدنی، ذخایر نفت و گاز، گردشگری، تعدیل آب و هوای منطقه، حمل و نقل و کشتیرانی اهمیت دارند. بزرگ‌ترین دریاچه جهان، دریاچه خزر است که به علت وسعت زیاد به آن دریا گفته می‌شود (شکل ۹). دریاچه‌های کشورمان از نظر چگونگی تشکیل با هم متفاوت‌اند. برخی از آنها به طور طبیعی و بعضی از آنها توسط انسان ایجاد شده‌اند.

جدول زیر را تکمیل کنید.

نام دریاچه	استان/استان‌ها	علت تشکیل
.....	گیلان/مازندران/گلستان	باقیمانده دریای قدیمی به نام تیس
ارومیه	شکستگی‌های قسمتی از سنگ کره
.....	اردبیل	دهانه آتشفشان
دریاچه درون غار علیصدر	بالاتر بودن سطح آب‌های زیرزمینی از کف غار




شکل ۱۰- دریاچه‌ها هم می‌میرند.



شکل ۱۱- دریاچه سیلان - دهانه آتشفشان سیلان



شکل ۱۲- سواحل پرتگاهی جنوب کشور



شکل ۱۳- سواحل هموار خلیج فارس

دریاچه‌هایی که به‌طور مصنوعی ایجاد می‌شوند بر اساس نوع کاربرد و بهره‌برداری از آن متفاوت‌اند. برخی از دریاچه‌ها در پشت سدها به وجود می‌آیند. از آب ذخیره شده در این دریاچه‌ها برای تولید برق، کشاورزی و آب آشامیدنی استفاده می‌شود؛ مانند سد امیرکبیر که در شمال شهر کرج واقع شده است.

گاهی دریاچه‌هایی در اطراف شهرها به منظور تعدیل دمای هوا، حفظ محیط زیست و توسعه گردشگری ایجاد می‌شوند؛ مانند دریاچه مصنوعی شهدای خلیج فارس که در منطقه چیتگر تهران احداث شده است.

دریاها و اقیانوس‌ها

حدود ۹۷ درصد حجم آب کره در دریاها و اقیانوس‌ها قرار دارد و تقریباً $\frac{۳}{۴}$ سطح زمین را آب می‌پوشاند. به همین دلیل سیاره زمین از فضا به رنگ آبی دیده می‌شود.



شکل سواحل دریاها در جاهای مختلف، متفاوت است. در قسمت‌هایی که جنس سنگ‌های ساحلی در برابر فرسایش مقاوم‌اند، شکل ساحل به صورت صخره‌ای و پرتگاهی است (شکل ۱۲). در قسمت‌هایی که سنگ‌های ساحلی مقاومت کمتری دارند، شکل سواحل به صورت هموار و ماسه‌ای است (شکل ۱۳).

شکل ۱۴- کشور ما از طریق خلیج فارس و دریای عمان با آب‌های آزاد ارتباط پیدا می‌کند.

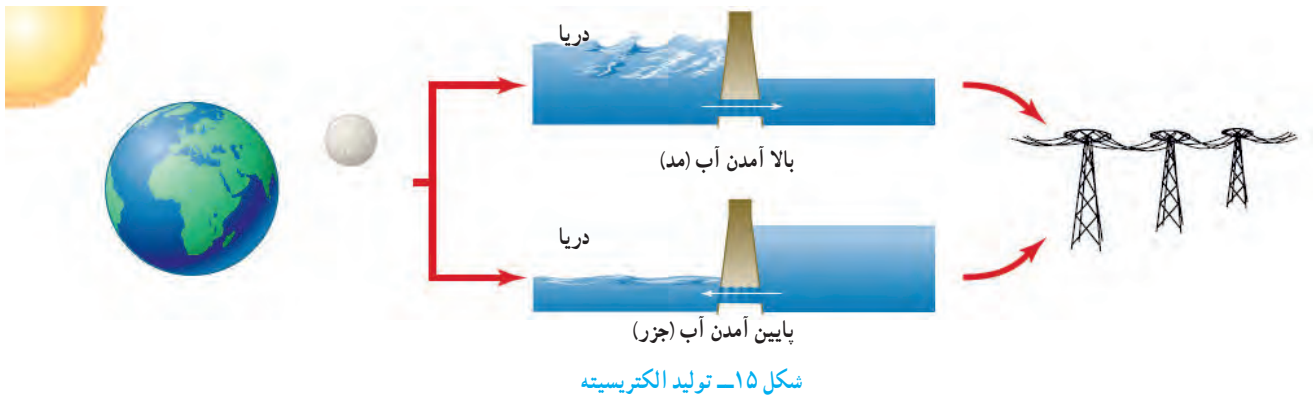
گفت‌وگو کنید

درباره منابع آلوده‌کننده دریاها و دریاچه‌ها و تأثیر آنها بر محیط‌زیست در کلاس گفت‌وگو کنید.

حرکات آب دریاها

آب دریاها به دلایل مختلف دائماً در حال حرکت اند. این حرکت به صورت امواج دریا، جریان‌های دریایی و جزر و مد است. به حرکت آب به سمت بالا و پایین، موج آب گفته می‌شود. امواج دریا باعث فرسایش و تغییر شکل سواحل می‌شوند. هنگام وقوع زمین‌لرزه و آتشفشان‌های زیردریایی، امواج بزرگی در دریا ایجاد می‌شود که به آن آبتاز (سونامی) می‌گویند.

جزر و مد در اثر نیروی گرانشی ماه و خورشید ایجاد می‌شود. به بالا آمدن آب و حرکت آن به سمت ساحل مد و به پایین رفتن آب در سواحل، جزر گفته می‌شود. برخی کشورها از جزر و مد در تولید انرژی الکتریسیته (شکل ۱۵) و ماهیگیری استفاده می‌کنند. در دوران دفاع مقدس، رزمندگان برای عبور از اروند رود از پدیده جزر و مد استفاده می‌کردند.



اطلاعات جمع‌آوری کنید

چگونه رزمندگان به منظور عبور از عرض رودخانه اروند از پدیده جزر و مد استفاده می‌کردند؟

یخچال‌ها

در مناطقی از کره زمین که میانگین دمای هوا از صفر درجه سلسیوس کمتر است، بارش عمدتاً به صورت برف است. با انباشته شدن برف طی سال‌های متمادی در این نواحی، یخچال تشکیل می‌شود. یخچال‌ها به طور کلی به دو دسته قطبی و کوهستانی تقسیم می‌شوند. یخچال‌های عظیم قطبی در نواحی قطب شمال و جنوب کره زمین قرار دارند و یخچال‌های کوهستانی در نواحی مرتفع سطح خشکی‌ها تشکیل می‌شوند (شکل ۱۶).



شکل ۱۶ - یخچال علم‌کوه - استان مازندران


سفر آب درون زمین




آب‌های زیرزمینی در همه جای کره زمین وجود دارند و بعد از یخچال‌ها بزرگ‌ترین ذخیره آب شیرین زمین محسوب می‌شوند. این ذخایر آبی در مناطق کم‌آب مانند استان‌های مرکزی ایران از اهمیت خاصی برخوردارند. بخش عمده آب مصرفی کشور ما از آب‌های زیرزمینی تأمین می‌شود. در این فصل با آب‌های زیرزمینی آشنا می‌شوید.

آب‌های زیرزمینی

آیا می‌دانید آب مصرفی خانواده شما از کجا تأمین می‌شود؟ آیا اهمیت آب‌های زیرزمینی را می‌دانید؟ در درس گذشته آموختید وقتی بارش صورت می‌گیرد، بخشی از آن تبخیر، مقداری در سطح زمین جاری و بقیه به داخل زمین نفوذ می‌کند. نفوذ آب از بستر رودها، دریاچه‌ها، آب حاصل از ذوب برف‌ها و یخ‌ها در تشکیل آب‌های زیرزمینی نقش دارند. بهره‌برداری از آب‌های زیرزمینی در کشور ما از قدیم رواج داشته است. حفر چاه و قنات از رایج‌ترین راه‌های دستیابی به منابع آب‌های زیرزمینی است (شکل ۲).



شکل ۱- آب‌های زیرزمینی



شکل ۲- چاه بهره‌برداری

خاک از ذرات با اندازه‌های مختلف تشکیل شده است. اندازه ذرات خاک در ویژگی‌های آن تأثیر دارد؛ مثلاً میزان فضا‌های خالی و چگونگی نفوذ آب در خاک به اندازه ذرات آن بستگی دارد. اگر مقدار ماسه خاک، نسبت به رس آن بیشتر باشد، آب را در خود نگه نمی‌دارد و آب با سرعت به لایه‌های زیرین می‌رود؛ اما اگر در خاک، مقدار رس بیشتر باشد، آب به راحتی به درون زمین نفوذ نمی‌کند. به نظر شما در خاک مناسب کشاورزی، مقدار رس و ماسه باید چگونه باشد؟

فعالیت

– مقدار نفوذ آب را به درون زمین در دو دامنه شکل زیر با هم مقایسه، و درباره دلیل خود بحث کنید.
– احداث سد در کدام دامنه بیشتر مورد نیاز است؟ دلیل خود را ذکر کنید.



آزمایش کنید

وسایل و مواد: گلدان کوچک و یکسان ۴ عدد، مقداری ماسه و خاک رس، برچسب کاغذی ۴ عدد و لیوان ۱ عدد
روش آزمایش

۱- ته هر گلدان سوراخی ایجاد کنید.

۲- گلدان‌ها را با برچسب ۱، ۲، ۳ و ۴ نام‌گذاری کنید.

۳- ترکیب خاک‌های زیر را به ترتیب در گلدان‌های ۱ تا ۴ بریزید.

۱ لیوان رس با ۲ لیوان ماسه، ۲ لیوان رس با ۱ لیوان ماسه، ۳ لیوان رس، ۳ لیوان ماسه

۴- در هر یک از گلدان‌ها ۱ لیوان آب بریزید.

نتیجه مشاهده‌ها را در گروه خود به بحث بگذارید.

۵- کدام نمونه خاک برای کشاورزی مناسب‌تر است؟ چرا؟



بعضی از مواد مانند شن و ماسه به راحتی آب را از خود عبور می‌دهند که به این قابلیت، نفوذپذیری می‌گویند در حالی که برخی مواد مانند رس، آب را به راحتی از خود عبور نمی‌دهند؛ یعنی این مواد نفوذپذیری خیلی کمی دارند.

فکر کنید

الف) افزون بر پوشش گیاهی و اندازه ذره‌های تشکیل دهنده زمین، شیب زمین نیز در نفوذ آب به درون زمین تأثیر دارد؛ چگونه؟
ب) زمین‌هایی که مقدار نفوذپذیری خاک آنها زیاد است برای کشاورزی مناسب نیستند. چرا؟

آب‌های سطحی پس از نفوذ در درون زمین، فضاهای خالی بین ذره‌های تشکیل دهنده رسوبات و سنگ‌ها را پر می‌کنند و ذخایر آب‌های زیرزمینی را به وجود می‌آورند. آب‌ها در زیرزمین حرکت می‌کنند. سرعت حرکت آنها از 5×10^{-5} متر تا 5×10^0 متر در سال متغیر است. جهت حرکت آب از شیب سطح زمین، پیروی می‌کند. سرعت حرکت آب‌های زیرزمینی در رسوبات دانه درشت مانند آبرفت‌ها زیاد و در رسوبات دانه ریز مانند رس‌ها بسیار ناچیز است. آب‌های زیرزمینی هنگام نفوذ در سنگ‌های آهکی، آنها را در خود حل و فضاهای خالی ایجاد می‌کنند. با ادامه این فرایند فضاهای خالی بیشتر و بزرگ‌تر می‌شود و غارهای آهکی به وجود می‌آید.



شکل ۳- نحوه تشکیل غار آهکی

آزمایش کنید

وسایل و مواد: بشر، استوانه مدرج، مقداری ماسه

روش آزمایش

- ۱- یک بشر را از ماسه پر کنید.
- ۲- با استوانه مدرج به آن آب اضافه کنید تا بشر از آب لبریز شود.
- ۳- مقدار آب مصرفی را بر حسب سانتی متر مکعب یادداشت کنید.
- ۴- حجم آب مصرف شده، نشان دهنده چیست؟


میزان فضای خالی و نفوذپذیری در سنگ‌ها و رسوبات مختلف، متفاوت است؛ به عنوان مثال در آبرفت‌ها، میزان فضاهای خالی و نفوذپذیری زیاد است. بنابراین برای تشکیل ذخیره آب‌های زیرزمینی مناسب است در حالی که رس‌ها، گرچه دارای فضای خالی‌اند؛ اما به دلیل دانه ریز بودن برای بهره‌برداری از آب‌های زیرزمینی مناسب نیستند.

فکر کنید

الف) میزان فضاهای خالی و نفوذپذیری را در دو شکل زیر با هم مقایسه کنید.
ب) کدام یک برای تشکیل ذخیره آب زیرزمینی مناسب‌تر است؟

(۲)

(۱)

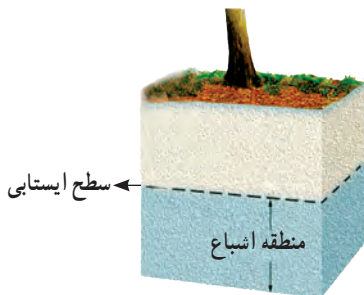


فعالیت

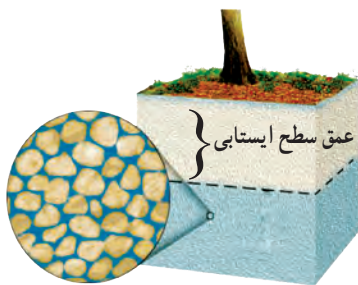
یک ظرف شیشه‌ای را تا $\frac{3}{4}$ با ماسه پر کنید؛ سپس تا نیمه درون آن آب بریزید. به دقت آن را مشاهده کنید و به پرسش‌های زیر پاسخ دهید.

۱- داخل ظرف چند منطقه مجزا وجود دارد؟

۲- کدام منطقه را می‌توان به سفره آب زیرزمینی تشبیه کرد؟



شکل ۴- منطقه اشباع و سطح ایستایی



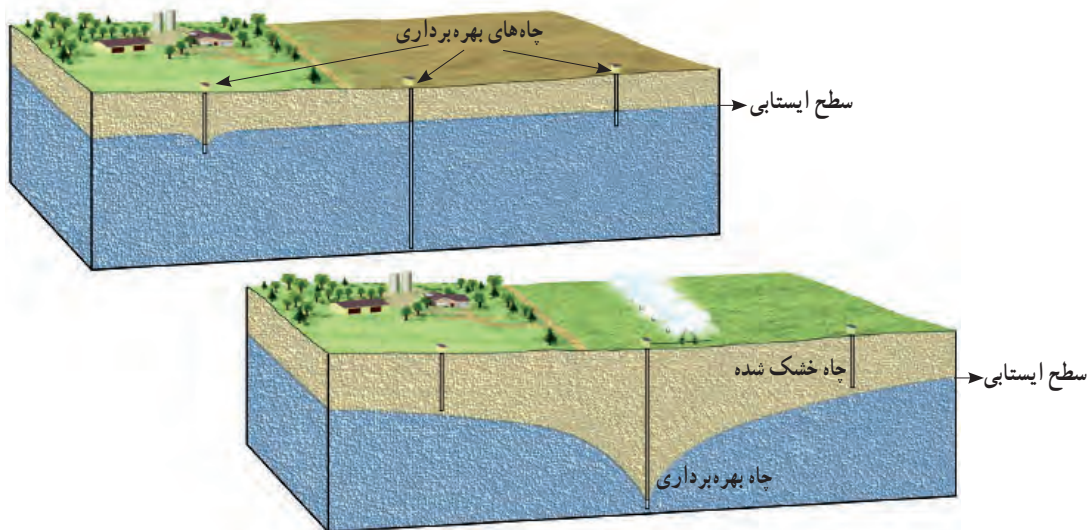
شکل ۵- عمق سطح ایستایی

بخشی از آب‌های سطحی که به درون زمین نفوذ می‌کنند به حرکت خود تا رسیدن به یک لایه نفوذناپذیر ادامه می‌دهند و فضاهای خالی رسوبات و سنگ‌ها را پر می‌کنند. همان‌طور که در فعالیت بالا دیدید، داخل ظرف شیشه‌ای دو منطقه وجود دارد. یکی منطقه‌ای که در آن فضاهای خالی بین ذره‌ها توسط رطوبت و هوا پر شده است و دیگری منطقه اشباع است که در زیر آن واقع شده و فضاهای خالی بین ذره‌ها در آن کاملاً توسط آب پر شده است. به سطح بالایی منطقه اشباع، سطح ایستایی گفته می‌شود (شکل ۴)؛ به عبارت دیگر سطح ایستایی مرز بین منطقه اشباع و منطقه بالایی آن است؛ هرچه عمق چاه، بیشتر باشد، عمق سطح ایستایی نیز زیادتر خواهد بود (شکل ۵).

اطلاعات جمع آوری کنید

در مورد عمق چاه‌های آب محل سکونت خود، تحقیق، و نتیجه را در کلاس گزارش کنید.

عمق چاه‌های آب در همه جا یکسان نیست. در مناطق نزدیک دریا این عمق کم است و ممکن است شما با چند متر حفر کردن به سطح ایستابی برسید؛ اما در نواحی خشک داخلی کشور، این عمق زیاد است و ممکن است بیش از ۱۵۰ متر باشد.



شکل ۶- بهره‌برداری از آب‌های زیرزمینی

فکر کنید

عمق سطح ایستابی به چه عواملی بستگی دارد؟ توضیح دهید.

اطلاعات جمع آوری کنید

در استان محل سکونت شما برای تأمین آب مصرفی بیشتر از آب‌های زیرزمینی استفاده می‌شود یا آب‌های سطحی؟ دلیل خود را در کلاس ارائه کنید.

سفره‌های آب زیرزمینی (آبخوان) به طور کلی به دو نوع تقسیم بندی می‌شوند:


۱- سفره‌های آب زیرزمینی آزاد

در این نوع سفره‌ها یک لایه نفوذپذیر روی یک لایه نفوذ ناپذیر قرار دارد. این نوع آبخوان‌ها بیشتر در دشت‌ها و دامنه کوه‌ها ایجاد می‌شود. آب موجود در این آبخوان‌ها از طریق حفر چاه و قنات قابل بهره‌برداری است. در صورتی که در مناطق شیب‌دار، آب‌های



شکل ۷- چشمه

زیرزمینی به طور طبیعی به سطح زمین برسند و جاری شوند، چشمه به وجود می آید (شکل ۷).
اغلب چشمه‌های آب گرم در اطراف آتشفشان‌ها ایجاد می‌شوند.



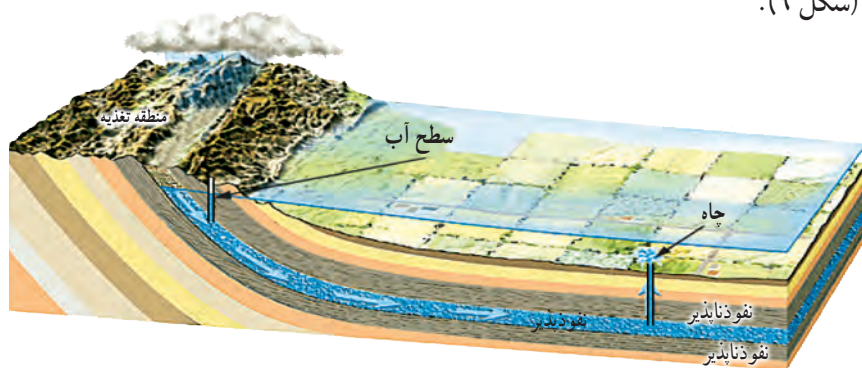
شکل ۸- سفره آب زیرزمینی آزاد

گفت و گو کنید

برداشت بی‌رویه از آب‌های زیرزمینی باعث بروز چه مشکلاتی می‌شود؟ علت آن را توضیح دهید.

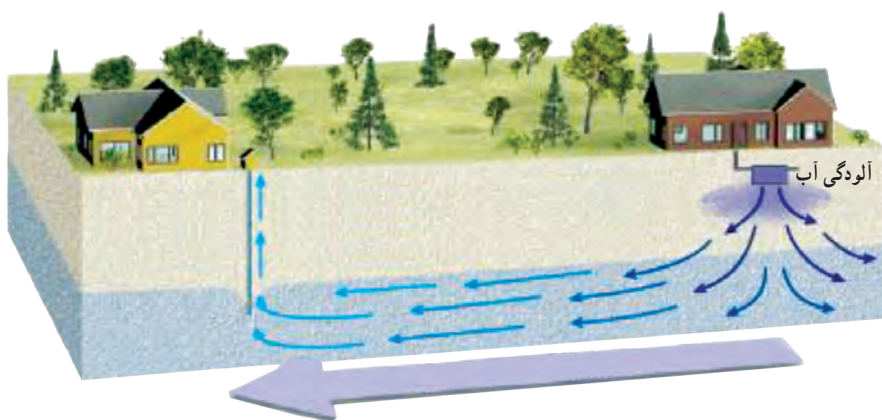
۲- سفره‌های آب زیرزمینی تحت فشار

این نوع سفره آب زیرزمینی در جایی تشکیل می‌شود که یک لایه نفوذپذیر بین دو لایه نفوذناپذیر قرار بگیرد. این سفره بیشتر در نواحی کوهستانی و شیب‌دار ایجاد می‌شود (شکل ۹).



شکل ۹- سفره آب زیرزمینی تحت فشار

آب‌های زیرزمینی غالباً بی‌رنگ، بی‌بو و فاقد مواد تیره‌کننده‌اند. از ویژگی‌های دیگر آنها ترکیب شیمیایی و دمای ثابت آنهاست. میزان آلودگی‌های میکروبی آنها نسبت به آب‌های سطحی کمتر و املاح معدنی محلول در آنها بیشتر است.



شکل ۱۰- آلودگی آب‌های زیرزمینی



در منزل خود به رسوب تشکیل شده در درون کتری یا سماور دقت کنید. آیا می‌دانید منشأ آنها از کجاست؟ چگونه می‌توانیم آنها را از بین ببریم؟

آزمایش کنید



وسایل و مواد: بشر، مقداری سرکه، یک عدد تخم مرغ با پوست سالم
روش آزمایش
۱- در بشر تا نیمه سرکه بریزید.
۲- یک تخم مرغ را در داخل آن قرار دهید.
۳- در طول روز مشاهدات خود را یادداشت و نتیجه‌گیری کنید.
آیا می‌توانید از این روش برای رسوب زدایی سماور استفاده کنید؟ چگونه؟

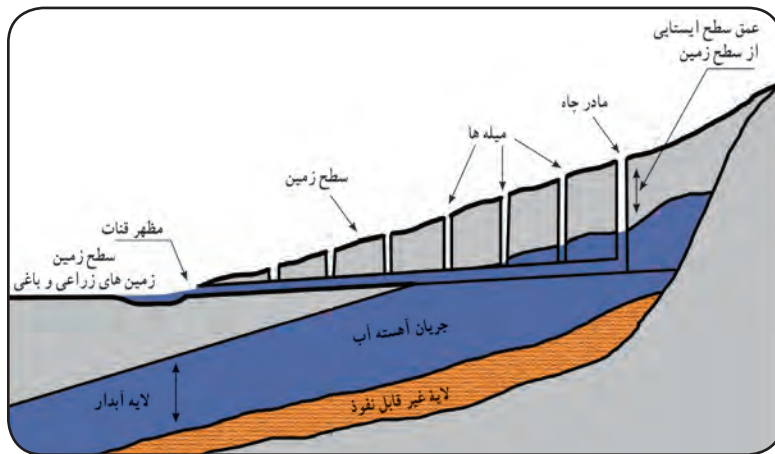
کلسیم و منیزیم از مهم‌ترین املاح موجود در آب‌های زیرزمینی‌اند. در صورتی که میزان این دو عنصر در آب زیاد باشد، به آن آب سخت گفته می‌شود. اگر املاح آب از حد معمول بیشتر باشد برای سلامتی ما نیز مضر است.

قنات (کاریز)

در قدیم برای اولین بار در جهان ایرانیان برای بهره‌برداری از آب‌های زیرزمینی اقدام به حفر قنات کردند. آنها با حفر قنات در زمین‌های شیب‌دار از آب‌های زیرزمینی استفاده می‌کردند (شکل ۱۱).



شکل ۱۱- قنات



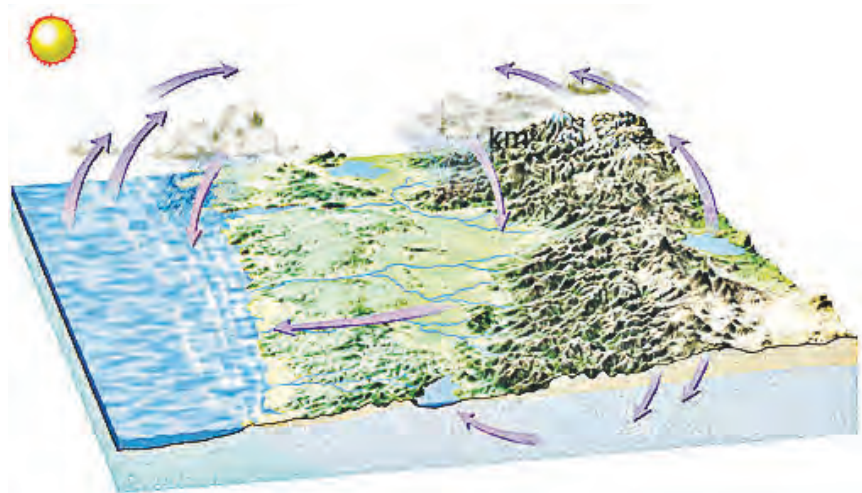
شکل ۱۲- نیمرخ قنات

اطلاعات جمع آوری کنید

در کدام استان‌های کشورمان برای بهره‌برداری از آب‌های زیرزمینی بیشتر از کاریز استفاده می‌شود؟

چرخه آب

در سفر آب روی زمین و درون زمین دریافتید که آب دائماً در حال گردش است و پیوسته بین اقیانوس‌ها، دریاها، هواکره و خشکی‌ها مبادله می‌شود. به این جریان آب در طبیعت، چرخه آب گفته می‌شود (شکل ۱۳).



شکل ۱۳- چرخه آب

گفت و گو کنید

با توجه به شکل چرخه آب، درباره چگونگی گردش آن با جزئیات بیشتری بحث کنید. انرژی مورد نیاز چرخه آب از کجا تأمین می‌شود؟

و آن لیس لِلانسانِ اِلَّا ما سعی

و اینکه برای انسان، بهره‌ای جز سعی و کوشش او نیست.

سوره نجم، آیه ۳۹

انرژی نیاز همیشه

انرژی موضوع هیجان‌انگیزی است و این امکان را فراهم می‌کند تا شما بتوانید برخیزید و راه بروید؛ فکر کنید؛ گیاهان رشد کنند و موتورها توان لازم را برای به حرکت درآوردن اتومبیل‌ها یا هواپیماها به دست آورند. انرژی به شکل‌های متفاوتی وجود دارد و مهم‌ترین ویژگی آن، تبدیل آسان از شکلی به شکل دیگر است. انرژی نیاز همیشگی بشر است و بر سر منابع آن تاکنون جنگ‌های بسیاری به راه افتاده است. با وجود این هر روزه مقدار زیادی انرژی تلف می‌کنیم!

فصل ۸- انرژی و تبدیل‌های آن

فصل ۹- منابع انرژی

فصل ۱۰- گرما و بهینه‌سازی انرژی

انرژی و تبدیل‌های آن



یکی از مهم‌ترین مفاهیم تمام شاخه‌های علوم که همواره در زندگی خود با آن سروکار داریم، انرژی است. آیا می‌دانید مطالعه و شناخت این مفهوم چه اهمیتی برای ما دارد؟ انرژی یکی از پرکاربردترین مفاهیم در علوم است. مهم‌ترین ویژگی انرژی، قابلیت تبدیل آن از یک شکل به شکل دیگر است. در این فصل خواهیم دید انرژی در «همه چیز و همه جا» وجود دارد؛ اما وقتی به وجود آن پی می‌بریم که منتقل یا تبدیل شود. انتقال انرژی با انجام کار صورت می‌گیرد. در این فصل ابتدا با کار و سپس با انرژی و ویژگی‌های آن آشنا می‌شوید.

کار و انرژی

در زبان روزمره فعالیت‌هایی همچون دویدن، ضربه زدن^۱ و گرفتن توپ در زمین فوتبال را «بازی کردن» می‌گوییم؛ اما نشستن در پشت میز، خواندن کتاب، نوشتن و اندیشیدن را «کار کردن» می‌نامیم.

فعالیت

به فهرست زیر، جمله‌هایی اضافه کنید که واژه کار در آنها معنای متفاوتی داشته باشد.

- امروز خیلی کار دارم.
- من در یک شرکت تولید بازی‌های رایانه‌ای کار می‌کنم.
-
-

در علوم، مفهوم کار را چنان تعریف می‌کنیم که اندازه‌گیری آن ممکن باشد. به نظر شما کار انجام شده در کدام یک از جمله‌های فعالیت صفحه قبل قابل اندازه‌گیری است؟ اگر پاسخ مثبت است، چگونه کار انجام شده را اندازه می‌گیرید؟

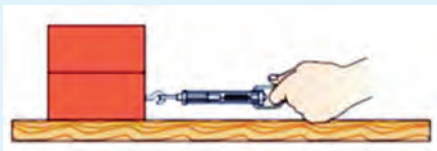
آزمایش کنید

وسایل و مواد: نیروسنج، متر یا خط‌کش و دو قطعه چوب (یا آجر)
روش آزمایش

- ۱- نیروسنج را به یکی از چوب‌ها وصل کنید که روی سطح افقی یک میز قرار دارد (شکل الف).
- ۲- چوب را به آرامی توسط نیروسنج بکشید تا به مقدار دلخواه (مثلاً 30° سانتی‌متر) جابه‌جا شود.
- ۳- هنگام حرکت جسم به نیروسنج نگاه کنید و مقدار نیروی وارد شده بر قطعه آجر را بخوانید و در جدول زیر وارد کنید.
- ۴- مراحل ۲ و ۳ را برای حالتی که قطعه چوب 50° سانتی‌متر جابه‌جا می‌شود، تکرار کنید.
- ۵- اکنون دو قطعه چوب را مطابق شکل (ب) روی یکدیگر قرار دهید و مراحل ۲ و ۳ را برای آن تکرار کنید. در این آزمایش نیز باید سعی کنید تا اجسام به آرامی و با سرعت ثابتی جابه‌جا شوند.



(الف)



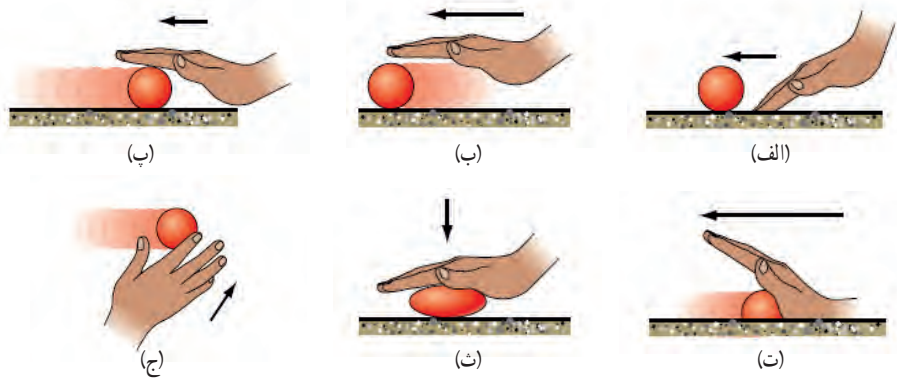
(ب)

جابه‌جایی (m)	نیرو (N)	جابه‌جایی \times نیرو	
$0/30$			آزمایش اول
$0/50$			(با یک قطعه چوب)
$0/15$			آزمایش دوم
$0/25$			(با دو قطعه چوب)

در آزمایش بالا دیدید که وقتی به جسمی نیرو وارد می‌کنیم و جسم به آرامی جابه‌جا می‌شود به سادگی می‌توانیم مقدار نیرو و جابه‌جایی را اندازه بگیریم. همان‌طور که پیش از این اشاره کردیم در علوم نیز کار را به صورتی تعریف می‌کنیم تا بتوانیم مقدار آن را از طریق اندازه‌گیری عامل‌های مؤثر در آن به دست آوریم.

یکی از عامل‌های مؤثر در انجام کار، نیرویی است که به جسم وارد می‌شود. برای یادآوری آنچه در علوم پایه ششم در خصوص مفهوم نیرو و اثرهای آن آموختید به شکل ۱ توجه کنید.

شکل ۱- وارد کردن نیرو به یک جسم ممکن است سبب
 الف) شروع حرکت آن شود.
 ب) سریع‌تر شدن حرکت آن شود.
 پ) کند شدن حرکت آن شود.
 ت) توقف حرکت آن شود.
 ث) تغییر شکل آن شود.
 ج) تغییر جهت حرکت آن شود.



علاوه بر نیروی وارد شده به جسم، جابه‌جایی یا تغییر مکان جسم نیز یکی دیگر از عوامل مهم در انجام کار است؛ به این ترتیب می‌توان گفت: «هنگامی کار انجام می‌شود که نیروی وارد شده به جسم، سبب جابه‌جایی آن شود» (شکل ۲). در شکل (الف) نیروی افقی سبب جابه‌جایی افقی و در شکل (ب) نیروی عمودی سبب جابه‌جایی عمودی جسم شده است.



شکل ۲- انجام دادن کار در دو حالت مختلف؛ توجه کنید که نیرو و جابه‌جایی در یک جهت‌اند.

در این کتاب تنها به تعریف کار برای حالتی می‌پردازیم که مشابه آزمایشی که انجام دادید، مقدار نیروی وارد شده به جسم ثابت باشد و جسم در جهت نیرو جابه‌جا شود (شکل ۲). در این صورت کار انجام شده روی جسم با رابطه زیر تعریف می‌شود:

$$\text{کار} = \text{نیرو} \times \text{جابه‌جایی}$$

در این رابطه نیرو برحسب نیوتون (N)، جابه‌جایی برحسب متر (m) و کار برحسب ژول (J) اندازه‌گیری و بیان می‌شوند.

مثال:

شکل روبه‌رو، وزنه‌برداری را نشان می‌دهد که با وارد کردن نیروی 2000 N ، وزنه‌ای را به آرامی تا ارتفاع $1/5\text{ m}$ بالای سرش جابه‌جا می‌کند. کار انجام شده توسط این وزنه‌بردار چقدر است؟


حل:

با توجه به فرض‌های مسئله داریم:

نیروی وارد شده به وزنه از طرف وزنه‌بردار: 2000 نیوتون



جیمز ژول در اوایل قرن نوزدهم در منچستر انگلستان به دنیا آمد. ژول آزمایش‌های بسیاری انجام داد تا درک بهتری از مفهوم انرژی به دست آورد و همچنین ماشین‌هایی بسازد که کارایی بیشتری داشته باشند. یکای انرژی در دستگاه بین‌المللی یکاها به پاس خدمات علمی وی، ژول انتخاب شده است.



جابه‌جایی وزنه در جهت نیروی وارد شده به آن : $1/5$ متر
با جایگذاری این مقادیر در رابطه کار داریم :

$$3000 \text{ J} = 2000 \text{ N} \times 1/5 \text{ m} = \text{جابه‌جایی} \times \text{نیرو} = \text{کار}$$

نیروهایی که کار انجام نمی‌دهند : اگر در مثال بالا وزنه‌بردار، وزنه را برای چند لحظه بالای سرش نگه دارد یا مطابق شکل ۳ شخصی دیوار خانه‌ای را هل دهد، آیا کاری انجام می‌شود یا خیر؟ با توجه به تعریف کار می‌توان گفت چون در هر دو مورد نیرویی که شخص وارد می‌کند، سبب جابه‌جایی جسم نمی‌شود، پس کار انجام شده توسط این نیروها هم صفر است. اکنون شخصی را در نظر بگیرید که جعبه‌ای در دست دارد و به آرامی راه می‌رود. در این وضعیت خاص نیز، که نیروی دست شخص بر جهت جابه‌جایی جسم عمود است، کاری انجام نمی‌دهد (شکل ۴).



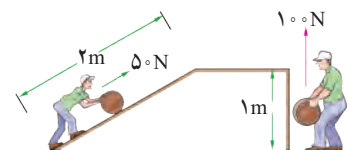
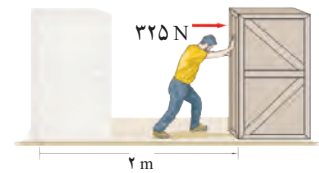
شکل ۳- شخصی در حال هل دادن دیوار خانه‌ای



شکل ۴- وقتی نیرو بر جهت جابه‌جایی عمود باشد، کاری انجام نمی‌دهد.

خود را بیازمایید

- شکل روبه‌رو شخصی را نشان می‌دهد که با نیروی افقی 325 نیوتونی جعبه‌ای را به اندازه 2 متر در امتداد نیروی وارد شده به آن جابه‌جا می‌کند. کاری که این شخص روی جعبه انجام می‌دهد، چقدر است؟
- به شکل روبه‌رو و عددهای نوشته شده روی آن توجه کنید. برداشت خود را از این شکل با توجه به مفهوم کار بیان کنید. شما کدام روش را برای جابه‌جایی جسم ترجیح می‌دهید؟ دلیل انتخاب خود را توضیح دهید.



هر چیزی که حرکت کند، انرژی دارد

در علوم پایه ششم آموختید که انرژی به شکل‌های گوناگون مانند انرژی حرکتی، گرمایی، نورانی، صوتی و شیمیایی وجود دارد و می‌تواند از شکلی به شکل دیگر تبدیل شود (شکل ۵).



(ب)



(ب)



(الف)

شکل ۵- (الف) انرژی شیمیایی سوخت به انرژی حرکتی کشتی تبدیل می‌شود.
(ب) انرژی شیمیایی ذخیره شده در چوب به انرژی گرمایی و انرژی نورانی تبدیل می‌شود.
(پ) انرژی الکتریکی وارد شده به تلویزیون به انرژی نورانی، انرژی صوتی و انرژی گرمایی تبدیل می‌شود.

عبارت‌های زیر را با استفاده از جعبه کلمه‌ها کامل کنید. هر واژه ممکن است یک بار یا بیش از یک بار استفاده شود یا هیچ استفاده‌ای از آن نشود.



گرمایی - صوتی - الکتریکی - شیمیایی - جنبشی - نورانی

الف) در یک رادیو، بخش زیادی از انرژی الکتریکی به انرژی..... تبدیل می‌شود.

ب) در یک چراغ قوه، انرژی..... ذخیره شده در باتری به انرژی..... تبدیل می‌شود. پس از آن لامپ،

انرژی..... را به انرژی..... و انرژی..... تبدیل می‌کند.



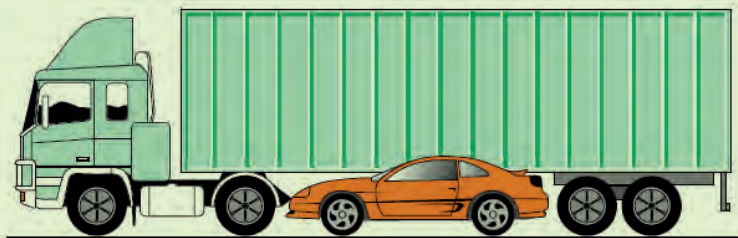
وقتی تویی را پرتاب کنیم، توپ شروع به حرکت می‌کند (شکل ۶). در این صورت تا هنگامی که توپ در حرکت است، انرژی حرکتی دارد. معمولاً انرژی حرکتی را، انرژی جنبشی می‌نامند. انرژی جنبشی هر جسم، به جرم جسم و مقدار سرعت آن بستگی دارد؛ یعنی هرچه جسمی سنگین‌تر باشد و تندتر حرکت کند، انرژی جنبشی بیشتری دارد.

فکر کنید

در هر یک از حالت‌های زیر انرژی جنبشی (حرکتی) دو جسم را با هم مقایسه کنید. الف) در شکل زیر هر دو اتومبیل مشابه‌اند، ولی اتومبیل سبز رنگ تندتر از اتومبیل قرمز رنگ حرکت می‌کند.



ب) در شکل زیر اتومبیل و کامیون با یک سرعت حرکت می‌کنند.



شکل ۶- هر جسمی که حرکت کند، انرژی جنبشی دارد.



در اینجا توپ انرژی جنبشی دارد؛ زیرا با انجام دادن کار روی توپ، انرژی شخص به توپ منتقل شده است.

در این قسمت شخص با وارد کردن نیرو به توپ و جابه‌جایی آن، روی توپ کار انجام می‌دهد.

در این قسمت توپ به اجسامی که در مسیرش قرار دارند، برخورد، و به آنها نیرو وارد می‌کند. این نیرو سبب جابه‌جایی اجسام می‌شود. در نتیجه گفته می‌شود، توپ روی این اجسام کار انجام داده است.

با توجه به شکل روبه‌رو، هر یک از عبارات‌های زیر را در گروه خود به بحث بگذارید و نتیجه را به کلاس ارائه کنید.

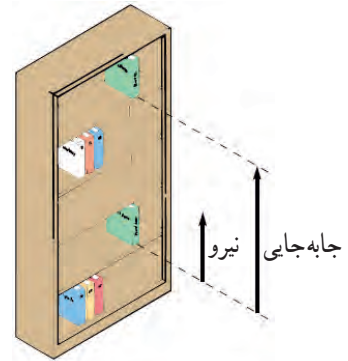
الف) اگر روی جسمی کار انجام دهیم، می‌تواند انرژی جنبشی به دست آورد. جسمی که انرژی جنبشی داشته باشد، می‌تواند کار انجام دهد.

ب) کار، انرژی را منتقل می‌کند.

انرژی می‌تواند ذخیره شود

تا اینجا دیدیم که انجام دادن کار روی یک جسم می‌تواند انرژی جنبشی آن را تغییر دهد؛ اما در ادامه خواهیم دید که همیشه این گونه نیست؛ به عبارت دیگر می‌توان روی یک جسم کار انجام داد بدون اینکه انرژی جنبشی آن تغییر کند.

برای مثال، کتابی را در نظر بگیرید که به آرامی و با سرعت ثابت از طبقه پایین کتابخانه‌ای به طبقه بالایی آن جابه‌جا می‌کنیم (شکل ۷-الف). به نظر شما در این حالت کار انجام شده روی کتاب به چه شکلی از انرژی پتانسیل تبدیل شده است؟ پاسخ این است که «کار انجام شده» روی کتاب به شکل انرژی پتانسیل گرانسی ذخیره شده است. توجه کنید که در طول مسیر انرژی جنبشی کتاب تغییری نکرده است.



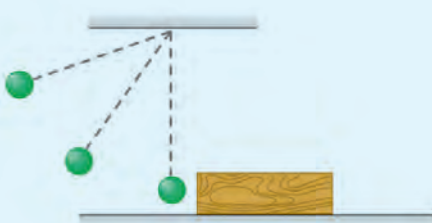

شکل ۷-الف - کار انجام شده روی یک جسم می‌تواند به شکل انرژی پتانسیل گرانسی در آن ذخیره شود.

آزمایش کنید

وسایل و مواد: چند گلوله به جرم‌های متفاوت، یک قطعه نخ و یک تکه چوب
روش آزمایش

- ۱- هرگاه یک سر قطعه نخ را به گلوله‌ای وصل کنیم و سر دیگر نخ را همانند شکل روبه‌رو از نقطه‌ای آویزان کنیم به مجموعه نخ و گلوله، آونگ گفته می‌شود.
- ۲- همانند شکل روبه‌رو یک قطعه چوب را در مسیر حرکت آونگ قرار دهید.
- ۳- آونگ را از وضعیت قائم منحرف و رها کنید. پس از برخورد گلوله آونگ به قطعه چوب، جابه‌جایی آن را اندازه بگیرید.


- ۴- آزمایش را به ازای چند ارتفاع گلوله نسبت به سطح زمین انجام دهید و جابه‌جایی قطعه چوب را پس از برخورد گلوله آونگ با آن یادداشت کنید.
- ۵- آزمایش را برای گلوله‌های دیگری با جرم متفاوت تکرار کنید و نتایج حاصل را در گروه خود به بحث بگذارید و به کلاس درس ارائه کنید.



همان طور که از آزمایش قبل نتیجه گرفتید، انرژی پتانسیل گرانشی به وزن جسم و ارتفاع جسم از سطح زمین وابسته است.

فکر کنید

دریافت خود را از شکل زیر با توجه به مفاهیم انرژی جنبشی، انرژی پتانسیل گرانشی و تبدیل انرژی بیان کنید.




آیا می دانید

زردپی (تاندون) آشیل که در پشت پا قرار دارد، همانند یک فنر طبیعی عمل می کند. این زردپی (تاندون) با کشیده شدن و سپس رها شدن، انرژی پتانسیل کشسانی را ذخیره و سپس آزاد می کند. این عمل فنر گونه، مقدار فعالیتی را که عضله های پا هنگام دویدن باید انجام دهند، کاهش می دهد.



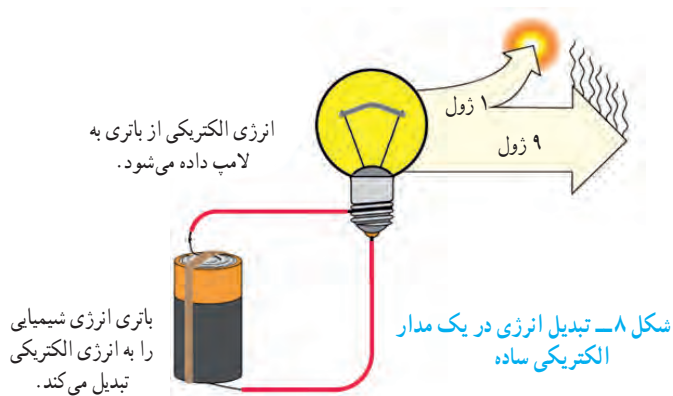
انرژی پتانسیل به جز شکل گرانشی، شکل های دیگری نیز دارد. انرژی ذخیره شده در انواع سوخت ها و مواد غذایی از نوع **انرژی پتانسیل شیمیایی** است. همچنین هرگاه یک نوار لاستیکی یا یک فنر را بکشیم، **انرژی پتانسیل کشسانی** در آن ذخیره می شود (شکل ۷-ب). وقتی نوار لاستیکی یا فنر را رها می کنیم، انرژی پتانسیل کشسانی ذخیره شده در آن می تواند به شکل انرژی جنبشی آزاد شود.



شکل ۷-ب - کمان کشیده شده دارای انرژی پتانسیل کشسانی است. بارها کردن زه (کش) کمان، انرژی پتانسیل ذخیره شده به انرژی جنبشی تیر تبدیل می شود.

مقدار کل انرژی ثابت می ماند

در این فصل آموختید که کار انجام شده روی یک جسم سبب می شود شکلی از انرژی به شکلی دیگر تبدیل شود؛ برای مثال وقتی توپی را پرتاب می کنیم، انرژی شیمیایی ذخیره شده در بدن ما به انرژی جنبشی و انرژی پتانسیل گرانشی توپ تبدیل می شود. همان طور که دیده می شود، حتی در یک فعالیت ساده چندین تبدیل انرژی وجود دارد. وقتی در هر ثانیه مقداری انرژی الکتریکی، مثلاً ۱۰ ژول، به یک لامپ روشنایی داده شود، باید در هر ثانیه همان مقدار انرژی نورانی و گرمایی از لامپ خارج شود (شکل ۸).




بررسی انواع مختلف انرژی و تبدیل آن از شکلی به شکل دیگر به یکی از بزرگ ترین قانون ها در فیزیک به نام قانون پایستگی انرژی انجامیده است که تاکنون هیچ استثنایی برای آن دیده نشده است. این قانون به شکل زیر بیان می شود:

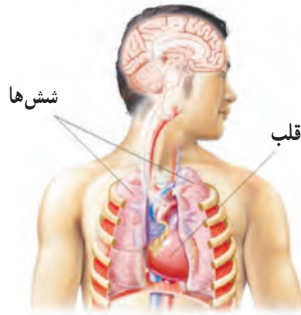
انرژی هرگز به وجود نمی آید یا از بین نمی رود. تنها شکل آن تغییر می کند و مقدار کل آن ثابت می ماند.

خود را بیازمایید

با توجه به قانون پایستگی انرژی در شکل زیر جای خالی را روی نمودار انرژی یک خودرو کامل کنید.



بدن ما به انرژی نیاز دارد



شکل ۹- شش‌های ما اکسیژن هوا را می‌گیرند. قلب با عمل تلمبه‌ای، اکسیژن خون و همچنین غذای جذب شده در خون را به جاهای مورد نیاز بدن می‌رساند.

بدن ما در همهٔ مواقع به انرژی نیاز دارد. موقع راه رفتن، دویدن، خندیدن و صحبت کردن انرژی مصرف می‌کنیم. وقتی آرام نشسته‌ایم، بدن ما در حال مصرف انرژی است؛ حتی موقع خواب هم انرژی مصرف می‌کنیم. وقتی خوابیم، بدن ما انرژی مصرف می‌کند تا قلب و شش‌های ما به کار ادامه دهند (شکل ۹)؛ اما وقتی بیدار می‌شویم، انرژی بیشتری مصرف می‌کنیم. بعضی کارها مثل دویدن، پریدن یا کارهای سخت به انرژی زیادی نیاز دارند.

بدن ما انرژی مورد نیاز این فعالیت‌ها را از مواد غذایی که می‌خوریم به دست می‌آورد (شکل ۱۰).



شکل ۱۰

جدول ۱- انرژی موجود در برخی از خوراکی‌ها برحسب کیلوژول بر گرم

انرژی	خوراکی
۳/۹	سیب زمینی
۵	غلات
۹/۳	بستنی (وانیلی)
۱۱/۳	نان لواش
۱۶/۸	شکر
۱۸	کیک (ساده)
۳۲/۲	روغن نباتی
۱/۸	شیر کم چرب
۳	شیر پر چرب
۵	حبوبات
۶/۷	مرغ
۶/۸	تخم مرغ (آب‌پز)
۰/۹	گوجه فرنگی
۲/۴	سیب
۳/۶	موز


در علوم پایه ششم دیدیم که انرژی ذخیره شده در خوراکی‌ها به شکل انرژی شیمیایی است و مقدار آن را می‌توان با واحد کیلوژول (kJ) یا کیلوکالری (kcal) بیان کرد؛ به این ترتیب می‌توان گفت در هر گرم از غذایی که می‌خوریم، مقداری انرژی شیمیایی نهفته است که معمولاً آن را با یکای کیلوژول بر گرم (kJ/g) بیان می‌کنند؛ برای مثال، وقتی می‌گوییم انرژی شیمیایی شیر معمولی ۲/۷ کیلوژول بر گرم است، منظور ما این است که در هر گرم شیر معمولی ۲/۷ کیلوژول انرژی شیمیایی ذخیره شده است. در جدول ۱ انرژی شیمیایی بعضی از غذاهای آماده مصرف داده شده است.

معمولاً انرژی خوراکی‌های بسته‌بندی شده را برحسب کیلوکالری می‌نویسند. هر

کیلوکالری معادل ۴۲۰۰ ژول است؛ به این ترتیب داریم: $۱ \text{ kcal} = ۴۲۰۰ \text{ J}$

خود را بیازمایید


مقدار انرژی‌ای که بدن ما با خوردن یک تخم مرغ آب‌پز (حدود ۶۰ گرم)، یک گوجه فرنگی (حدود ۵۰ گرم) و یک نان لواش (حدود ۱۰۰ گرم) کسب می‌کند، چقدر است؟



فهرستی از غذاهایی را که در یک روز معین مصرف می‌کنید به همراه مقدار تقریبی آنها تهیه کنید. با توجه به این فهرست تعیین کنید که در این روز معین، بدن شما چه مقدار انرژی از این مواد غذایی کسب می‌کند.

فکر کنید

دریافت خود را از شکل زیر با توجه به مفاهیمی که در این فصل فرا گرفتید، بیان کنید.



نمودار شکل ۱۱، متوسط انرژی مورد نیاز در یک شبانه روز را برای افراد مختلف نشان می‌دهد. به طور طبیعی پسران و مردان نسبت به دختران و زنان، کمی بیشتر به انرژی نیاز دارند. این موضوع در نمودار نیز دیده می‌شود.



شکل ۱۱- انرژی تقریبی مورد نیاز در افراد مختلف در یک شبانه روز

فکر کنید

انرژی مورد نیاز یک نوجوان فعال و در حال رشد برای یک شبانه روز به طور متوسط بین ۱۰۰۰۰ تا ۱۲۰۰۰ کیلوژول است. با توجه به نتیجه خود را بیازمایید صفحه قبل، آیا این وعده غذایی یک نوجوان در سن و سال شما کافی است یا خیر؟

آیا می‌دانید

بدن ما برای هر یک از فعالیت‌های روزانه، مقدار معینی انرژی مصرف می‌کند. اگر مدت یا سرعت هر فعالیت تغییر کند، مقدار انرژی مصرف‌شده نیز تغییر خواهد کرد. معمولاً برای بیان مقدار انرژی مصرف‌شده از کمیتی به نام آهنگ مصرف انرژی استفاده می‌کنند. منظور از این کمیت این است که در یک زمان معین (مثلاً یک دقیقه) چه مقدار انرژی مصرف می‌شود؛ به عنوان مثال، آهنگ مصرف انرژی برای راه رفتن معمولی ۱۶ کیلوژول در دقیقه است و این بدان معناست که برای هر دقیقه راه رفتن معمولی، بدن ما حدود ۱۶ کیلوژول انرژی مصرف می‌کند.

منابع انرژی

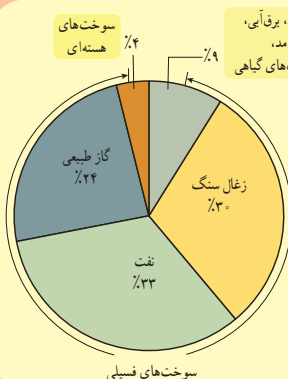


در فصل قبل با انرژی و تبدیل‌های آن از شکلی به شکل دیگر آشنا شدیم. آیا می‌دانید منابع انرژی و استفاده درست از آنها در تداوم زندگی بشر چه نقش مهمی دارد؟ آیا می‌دانید دستیابی به منابع انرژی و استفاده بهینه از آنها یکی از مهم‌ترین نشانه‌های توسعه هر کشوری است؟ در این فصل با منابع انرژی و اهمیت آن در دنیای امروز آشنا خواهیم شد.

منابع انرژی گوناگون اند

تقریباً منبع همه انرژی‌هایی که از آنها استفاده می‌کنیم، خورشید است. خورشید یکی از منابع خدادادی است. نور و گرما از سطح خورشید به زمین می‌رسد و حیات را امکان‌پذیر می‌کند.

فعالیت



درصد مصرف انرژی‌های گوناگون در همه کشورهای

نمودار روبه‌رو درصد مصرف انرژی‌های مختلف را در همه کشورهای در سال ۱۳۹۲ نشان می‌دهد. با توجه به این نمودار به پرسش‌هایی که در صفحه بعد آمده است، پاسخ دهید.

الف) چند درصد از مصرف انرژی کل جهان از سوخت‌های فسیلی تأمین شده است؟
 ب) اگر مصرف سوخت‌های فسیلی با همین روند ادامه یابد، چه مشکلاتی ممکن است رخ دهد؟
 پ) دانشمندان پیش‌بینی کرده‌اند که مصرف انرژی در جهان حدود ۳۰ سال آینده دو برابر می‌شود؛ یعنی جهان در سال ۲۰۴۰ میلادی، تقریباً دو برابر امروز به انرژی نیاز دارد. به نظر شما بشر در آینده این انرژی را از چه منابعی می‌تواند تأمین کند؟
 ت) تحقیق کنید از میان نزدیک به ۲۰۰ کشور در جهان در چه کشورهایی از سوخت‌های هسته‌ای برای تأمین انرژی استفاده می‌شود؟

منابع انرژی می‌توانند تمام شوند

همان‌طور که در فعالیت بالا دیدید، بیش از ۹۰ درصد انرژی مصرفی کل جهان از منابعی تأمین می‌شود که برای تشکیل آنها میلیون‌ها سال زمان صرف شده است. به همین دلیل جایگزینی آنها پس از مصرف، تقریباً غیرممکن است. این منابع انرژی را **منابع تجدیدناپذیر** می‌نامند. سوخت‌های فسیلی (شامل نفت، گاز و زغال‌سنگ) و سوخت‌های هسته‌ای از جمله منابع انرژی تجدیدناپذیر به‌شمار می‌روند.

سوخت‌های فسیلی

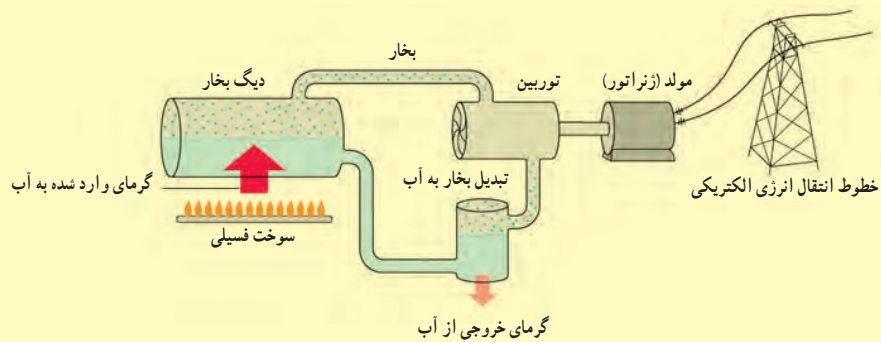
تشکیل سوخت‌های فسیلی به میلیون‌ها سال پیش باز می‌گردد. بقایای برخی گیاهان و جانداران (ذره‌بینی) که روی زمین و به ویژه دریاها زندگی می‌کردند با لایه‌هایی از گل و لای پوشیده شدند. با گذشت زمان طولانی این لایه‌ها بیشتر و بیشتر متراکم شدند و در اثر فشارهای زیاد و دمای مناسب، این بقایا به سوخت‌های فسیلی تبدیل شدند (شکل ۱).



شکل ۱- سوخت‌های فسیلی طی میلیون‌ها سال درست شدند.

فعالیت

شکل صفحه بعد مراحل تولید انرژی الکتریکی را از سوخت‌های فسیلی نشان می‌دهد. به کمک اعضای گروه خود گزارشی بنویسید که در آن چگونگی تبدیل انرژی ذخیره شده در سوخت‌های فسیلی به انرژی الکتریکی بیان شود. در این گزارش همچنین به برخی از مهم‌ترین معایب و مزایای سوخت‌های فسیلی برای تولید انرژی الکتریکی اشاره کنید.



فقالیت

انتقال کلان، پایدار و ایمن نفت خام به پالایشگاه‌ها و همچنین انتقال فراورده‌های نفتی حاصل از آن به نقاط مختلف یکی از عوامل مهم در توسعه یک کشور شناخته می‌شود.

در کشور ایران روزانه بیش از ۳۳ میلیون لیتر مواد نفتی (شامل نفت خام و فراورده‌های آن) از طریق ۱۴۰۰۰ کیلومتر خطوط لوله زیرزمینی (به قطر ۱۵ تا ۹۰ سانتی‌متر) به نقاط مختلف انتقال می‌یابد.

الف) اگر قرار بود به جای انتقال این حجم زیاد از مواد نفتی توسط خطوط لوله، از تانکرهایی با ظرفیت ۲۰۰۰۰ لیتر استفاده می‌شد، در این صورت چه تعداد تانکر نیاز بود؟

ب) پاسخ قسمت الف را از نظر شدآمد (ترافیک) جاده‌ای و مخاطرات آن و همچنین مسائل زیست‌محیطی در گروه خود به بحث بگذارید و نتیجه را به کلاس ارائه کنید.

پ) اگر بر اثر سهل‌انگاری آسیبی به خطوط لوله وارد شود، چه پیامدهایی می‌تواند داشته باشد؟



فراورده‌های نفتی به منظور تأمین سوخت مایع نیروگاه‌ها، صنایع مختلف و جایگاه‌های تحویل سوخت مایع از قبیل بنزین، نفت، گاز، نفت سفید و سوخت هواپیماها از طریق خطوط لوله انتقال می‌یابند.

سوخت های هسته ای

وقتی اتم های تشکیل دهنده سوخت هسته ای به اتم های سبک تر تبدیل شوند، مقدار قابل توجهی انرژی گرمایی آزاد می شود. از این فرایند برای تولید برق (انرژی الکتریکی) در نیروگاه های هسته ای در بسیاری از کشورهای توسعه یافته استفاده می شود.



الف) به کمک اعضای گروه خود در خصوص نقاط قوت و ضعف تولید انرژی الکتریکی از طریق نیروگاه های هسته ای تحقیق کنید و نتیجه را در کلاس درس به بحث بگذارید.

ب) بازده نیروگاه های سوخت فسیلی و هسته ای حدود ۳۵ درصد است؛ یعنی این نیروگاه ها از هر ۱۰۰ واحد انرژی ای که دریافت می کنند، تنها ۳۵ واحد آن را به انرژی الکتریکی تبدیل می کنند. با توجه به شکل روبه رو و همچنین ضرورت استفاده بهینه از منابع انرژی به ویژه انرژی الکتریکی، راهکارهایی عملی برای صرفه جویی در مصرف انرژی الکتریکی در محلی که زندگی می کنید، پیشنهاد کنید.

منابع انرژی می توانند جایگزین شوند

همان طور که دیدید، هم اینک بیش از ۸۵ درصد از انرژی مورد نیاز بشر از طریق سوخت های فسیلی تأمین می شود. افزون بر اینکه سوخت های فسیلی با گذشت زمان به سادگی جایگزین نمی شوند، باعث آلودگی زمین، اقیانوس ها و هوا نیز می شوند. برای برآوردن نیاز روبه افزایش بشر به انرژی و داشتن محیطی سالم و پاک، باید در جست و جوی انرژی های جایگزین باشیم. این انرژی ها، که به **منابع انرژی تجدیدپذیر** موسوم اند، زمین را آلوده نمی کنند و همچنین باعث گرمایش جهانی نمی شوند.

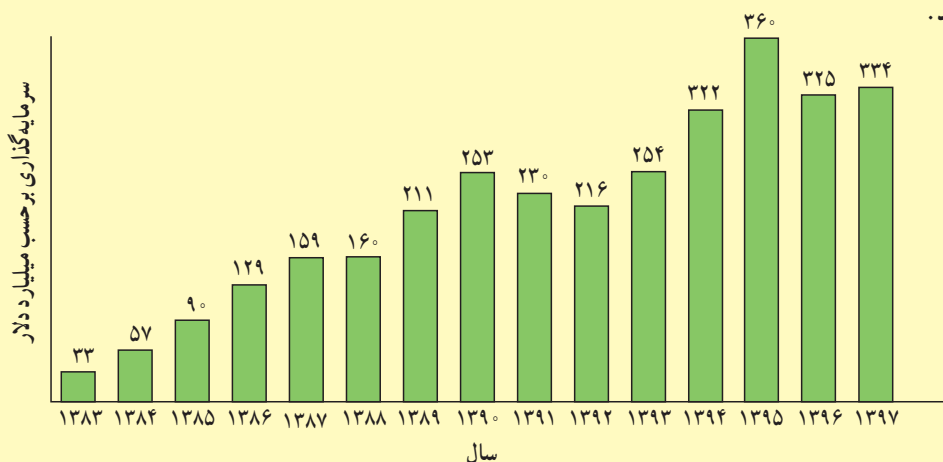
منابع انرژی تجدید پذیر، انواع بسیاری دارد و می توانند به طور مداوم جایگزین شوند و هیچ وقت تمام نمی شوند. انرژی خورشیدی، انرژی باد، انرژی برق آبی (هیدروالکتریک)، انرژی موج های دریا، انرژی جزر و مدی، انرژی زمین گرمایی و انرژی ناشی از سوخت های گیاهی از جمله منابع انرژی تجدید پذیر به شمار می روند.

آیا می دانید

انرژی خورشید در بخش مرکزی آن تولید می شود. دمای مرکز خورشید چندین میلیون و دمای سطح آن حدود ۵۵۰۰ درجه سانتی گراد است.

منشأ تولید انرژی در خورشید و دیگر ستارگان، نیز نوع دیگری فرایند هسته ای است. تولید انرژی از طریق این نوع فرایند موضوع پژوهش های جدی در بسیاری از آزمایشگاه های فیزیک در سراسر نقاط دنیا و از جمله برخی از دانشگاه ها و مراکز پژوهشی کشورمان ایران است.

نمودار زیر میزان سرمایه‌گذاری‌های انجام شده را در طی یک دهه در زمینه توسعه و به‌کارگیری انرژی‌های تجدیدپذیر در کل جهان نشان می‌دهد.



با توجه به نمودار به پرسش‌های زیر پاسخ دهید:

- الف) بین سال‌های ۱۳۸۳ تا ۱۳۹۳ سرمایه‌گذاری‌های انجام شده در زمینه انرژی چند برابر شده است؟ بیشترین رشد سرمایه‌گذاری مربوط به چه سالی بوده است؟
- ب) چرا در سال‌های اخیر سرمایه‌گذاری‌های زیادی برای پژوهش، توسعه و بهره‌برداری از انرژی‌های تجدیدپذیر شده است؟
- پ) تحقیق کنید در سال‌های اخیر، ایران چقدر در زمینه بهره‌مندی از انرژی‌های تجدیدپذیر سرمایه‌گذاری کرده است؟



شکل ۲- تبدیل انرژی نوری به انرژی الکتریکی در صفحه‌های خورشیدی

انرژی خورشیدی

در مرکز خورشید به طور مداوم واکنش‌هایی رخ می‌دهد. این واکنش‌ها مقدار بسیار عظیمی انرژی آزاد می‌کنند. این انرژی به سطح خورشید می‌آید و به شکل نور و گرما به زمین می‌رسد.

انرژی حاصل از نور خورشید در صفحه‌های خورشیدی برای تولید انرژی الکتریکی به کار می‌رود (شکل ۲).

صفحه‌های خورشیدی را می‌توان در وسیله‌های مختلفی مانند ماشین حساب‌ها، ماهواره‌ها، چراغ‌ها و تابلوهای راهنمایی و رانندگی و همچنین بام و نمای ساختمان‌ها به کار برد (شکل ۳). بیشتر صفحه‌های خورشیدی که اکنون به کار می‌روند، تنها یک پنجم یا ۲۰ درصد انرژی نورانی خورشید را به انرژی الکتریکی تبدیل می‌کنند.

شکل ۳- کاربرد صفحه‌های خورشیدی در وسیله‌ها و مکان‌های مختلف
الف) ماشین حساب، ب) چراغ راهنمایی و رانندگی، پ) خانه‌های مسکونی و ت) هواپیماهای کوچک



(ت)



(ب)



(ب)



(الف)

فکر کنید

در محلی که زندگی می‌کنید به طور میانگین در طول روز چند ساعت هوا آفتابی است؟ آیا سرمایه‌گذاری برای استفاده از انرژی خورشیدی می‌تواند یکی از گزینه‌های مناسب در محل زندگی شما باشد؟

یکی دیگر از کاربردهای انرژی خورشیدی در آب‌گرم‌کن‌های خورشیدی است که تولید و بهره‌برداری از آنها در نقاط مختلف جهان و از جمله در ایران رو به گسترش است (شکل ۴). در آب‌گرم‌کن‌های خورشیدی، سطح لوله‌های تیره‌رنگ، انرژی گرمایی حاصل از پرتوهای نور خورشیدی را جذب می‌کنند. گرما به آبی که در لوله‌ها در گردش است، داده و سبب افزایش دمای آب می‌شود. معمولاً دمای آب در این آب‌گرم‌کن‌ها به حدود ۶۰ تا ۷۰ درجهٔ سلسیوس نیز می‌رسد.



شکل ۴- نوعی آب‌گرم‌کن خورشیدی

انرژی باد

بشر از هزاران سال پیش انرژی باد را به کار گرفته است. ایرانیان دوران باستان آسیاهای بادی را اختراع کرده بودند که برای آرد کردن گندم و بالا کشیدن آب از چاه به کار می‌رفت (شکل ۵). با گذشت زمان، آسیاهای بادی به گونه‌ای تغییر کردند تا انرژی بیشتری فراهم کنند. امروزه این آسیاهای بادی را توربین‌های بادی می‌نامند که برای تولید انرژی الکتریکی از انرژی باد به کار می‌روند.



شکل ۵- نمونه‌ای از آسیای بادی در استان سیستان و بلوچستان

آیا می‌دانید

در نیروگاه خورشیدی شیراز ۴۸ جمع‌کنندهٔ خورشیدی وجود دارد که سطح آنها همچون آینه بسیار صیقلی است. لوله‌ای پر از روغن در جهت این جمع‌کننده‌ها قرار داده شده است. نور خورشید پس از بازتاب از سطح این جمع‌کننده‌ها، روی این لوله متمرکز می‌شود و انرژی گرمایی خود را به روغن می‌دهد و آن را داغ می‌کند. روغن داغ شده، انرژی گرمایی را به آب درون یک مخزن می‌دهد و آب را به جوش می‌آورد. روغن سرد شده به لوله باز می‌گردد تا بار دیگر داغ شود.



آیا می‌دانید

انرژی مورد نیاز ایستگاه بین‌المللی فضایی از طریق هشت جفت صفحهٔ خورشیدی تأمین می‌شود که مساحت هر صفحهٔ آن ۳۷۵ متر مربع است. با چرخش این ایستگاه به دور زمین، صفحه‌های خورشیدی به گونه‌ای جهت‌گیری می‌کنند تا همواره رو به خورشید باشند تا بتوانند بیشترین مقدار انرژی الکتریکی را تولید کنند.



باد همان هوای در حرکت است که در اثر گرم شدن نابرابر سطح زمین به وجود می‌آید. توربین‌های بادی انرژی جنبشی باد را به انرژی الکتریکی تبدیل می‌کنند (شکل ۶).



شکل ۶- تولید انرژی الکتریکی توسط توربین‌های بادی

فکر کنید

دانش‌آموزی، نظر خود را دربارهٔ توربین‌های بادی به شکل زیر بیان کرده است:

«در توربین‌های بادی از انرژی خورشیدی به طور غیرمستقیم بهره‌برداری می‌شود؛ زیرا باد، انرژی خود را از انرژی خورشیدی که سطح زمین جذب می‌کند به دست می‌آورد».

آیا شما با این نظر موافقید؟ دلایل خود را با دیگر اعضای گروه به بحث بگذارید و نتیجه را به کلاس ارائه کنید.

انرژی موج‌های دریا

وزش باد در سطح آب دریا، سبب می‌شود تا انرژی جنبشی باد به شکل انرژی پتانسیل گرانشی در آب دریا ذخیره شود و پس از مدت کوتاهی به شکل انرژی جنبشی (موج) آن را پس دهد (شکل ۷). هرچه انرژی جنبشی باد بیشتر باشد، موج‌های بزرگ‌تر و پرنرژی‌تری به وجود می‌آید.



شکل ۷- موج‌های دریا توسط بادی که به سطح دریا برخورد می‌کند به وجود می‌آیند.

برای مهار انرژی ذخیره شده در موج‌های دریا به توربین‌های ویژه‌ای نیاز داریم. شکل ۸ یکی از توربین‌های تولید انرژی از طریق موج‌های دریا را نشان می‌دهد که در سواحل کشور پرتغال به کار گرفته شده است.

آیا می‌دانید

توسعه و بهره‌برداری از نیروگاه‌های بادی برای تولید انرژی الکتریکی به سرعت در حال افزایش است. تا پایان سال ۱۳۹۷ کل توان الکتریکی تولید شده در نیروگاه‌های بادی در سطح جهان به حدود ۶۰۰ هزار مگاوات رسیده است. خوب است بدانید کل توان الکتریکی نصب شده در ایران حدود ۶۰ هزار مگاوات است و سهم انرژی‌های تجدیدپذیر، از جمله انرژی باد بسیار ناچیز است.

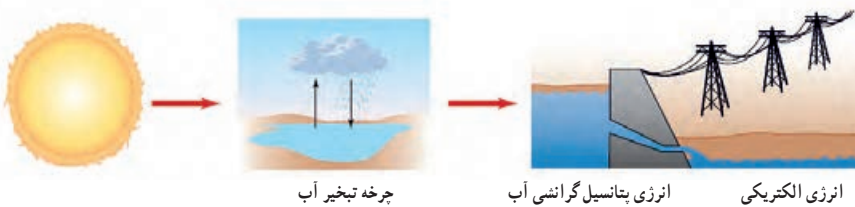
بزرگ‌ترین نیروگاه بادی ایران، پیرامون شهر منجیل با توان تولیدی ۱۰۰ مگاوات نصب شده است. این نیروگاه پس از دو دهه تلاش و با نصب ۱۲۳ توربین بادی به طور کامل مورد بهره‌برداری قرار گرفته است.



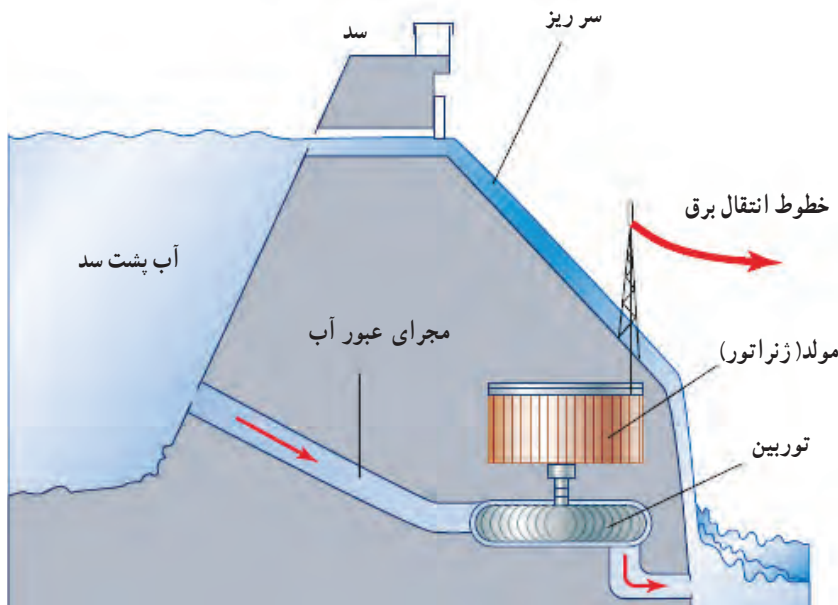
شکل ۸- این دستگاه دراز و مارمانند در واقع توربینی است که برای بهره‌برداری از انرژی موج‌های دریا ساخته شده است.

انرژی برق آبی

آب ذخیره شده در پشت یک سد بلند، انرژی پتانسیل گرانشی زیادی دارد. بهره‌برداری از این انرژی و تبدیل آن به انرژی الکتریکی، یکی از پاک‌ترین روش‌های تولید برق است که به آن انرژی برق آبی گفته می‌شود (شکل ۹).



شکل ۹- انرژی پتانسیل گرانشی آب پشت سد توسط توربین‌ها و مبدل‌ها به انرژی الکتریکی تبدیل می‌شود.



شکل ۱۰- انرژی پتانسیل گرانشی آب به انرژی جنبشی توربین تبدیل می‌شود؛ سپس انرژی جنبشی توربین در ژنراتور به انرژی الکتریکی یا همان برق تبدیل می‌شود.

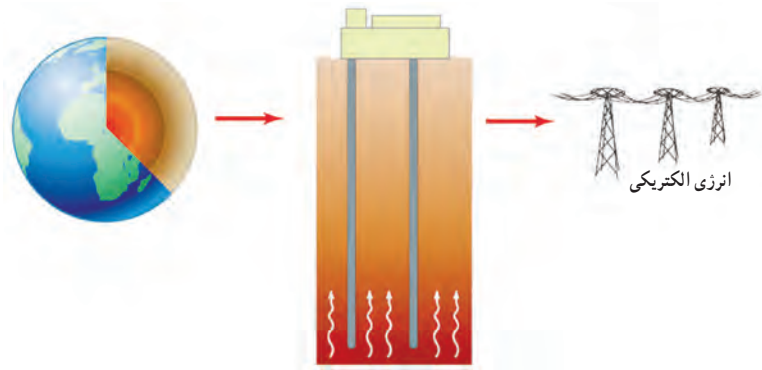
انرژی زمین‌گرمایی

انرژی گرمایی ذخیره شده در زیر سطح زمین را انرژی زمین‌گرمایی می‌نامند. این انرژی حاصل از گرمای سنگ‌های داغ اعماق زمین است که در نواحی آتشفشانی وجود دارند (شکل ۱۱). از نشانه‌های وجود انرژی زمین‌گرمایی می‌توان به چشمه‌های آب گرم و آب‌های داغ در حال فوران (آب فشان) در برخی از نقاط کره زمین اشاره کرد.

آیا می‌دانید

بزرگ‌ترین نیروگاه برق آبی به سد کارون ۳ مربوط است که شامل ۸ واحد ۲۸۵ مگاواتی (مجموعاً به ظرفیت ۲۲۸۰ مگاوات) برای تولید انرژی الکتریکی است (شکل زیر). این نیروگاه روی رودخانه کارون و در مسیر جاده زیبای اصفهان-بروجن-ایذه - اهواز به دست مهندسان و کارگران ایرانی ساخته شده است. حجم کلی مخزن این سد حدود ۳ میلیارد متر مکعب و مساحت دریاچه آن ۴۸ کیلومتر مربع است.





شکل ۱۱- انرژی زمین گرمایی

انرژی زمین گرمایی افزون بر تولید انرژی الکتریکی، کاربردهای دیگری از قبیل گرمایش ساختمان‌ها، فعالیت‌های صنعتی و ایجاد مراکز گردشگری برای بهره‌مندی از خواص درمانی آب‌های گرم درون زمین دارد.

با توجه به قرار گرفتن بخش نسبتاً بزرگی از ایران در یک کمربند آتشفشانی امکان بهره‌برداری از این انرژی در برخی از نواحی ایران وجود دارد.

مطالعه و اجرای نخستین نیروگاه زمین گرمایی ایران در استان اردبیل و در دامنه کوه سبلان به اواسط دهه هفتاد برمی‌گردد (شکل ۱۲).

سوخت‌های زیستی

اصطلاح سوخت‌های زیستی برای توصیف یک رشته محصولات به کار می‌رود که از طریق فتوسنتز به دست می‌آید.

هر سال از طریق فتوسنتز، معادل چندین برابر مصرف سالانه جهانی انرژی، انرژی خورشیدی در برگ‌ها، تنه‌ها و شاخه‌های درختان و گیاهان ذخیره می‌شود؛ بنابراین در میان انواع منابع انرژی تجدیدپذیر، سوخت‌های زیستی از جهت ذخیره انرژی خورشیدی منحصر به فردند.

سوخت‌های زیستی می‌توانند به شکل‌های جامد، مایع و گاز مورد استفاده قرار گیرند. شکل جامد آن چوب یا زغال است که قدیمی‌ترین شکل انرژی مورد استفاده بشر است. شکل مایع سوخت‌های زیستی را معمولاً از باقیمانده و تفاله‌های نیشکر به دست می‌آورند که از آن می‌توان در خودروها برای حمل و نقل استفاده کرد.

هرگاه پسماند یا باقیمانده محصولات کشاورزی در شرایط بی‌هوازی (نبود هوا) قرار بگیرند، پس از مدتی گازهایی از آنها متصاعد می‌شود (شکل ۱۳). از این گاز، که معمولاً آن را زیست‌گاز می‌نامند، می‌توان برای مصارف مختلف خانگی و صنعتی بهره گرفت.



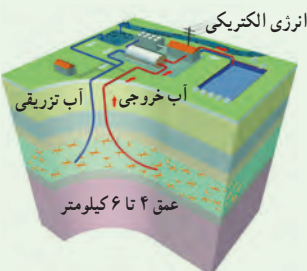
شکل ۱۳- سوخت‌های زیستی منبع انرژی مناسبی برای مناطق روستایی است.



شکل ۱۲- نیروگاه زمین گرمایی مشکین شهر که با توان تولیدی ۱۰۰ مگاوات نصب شده است.

آیا می‌دانید

برای بهره‌برداری از انرژی زمین گرمایی معمولاً چاهی به عمق ۴ تا ۶ کیلومتر حفر می‌کنند؛ سپس آب با فشار زیاد به داخل چاه پمپ می‌شود و با ترکاندن سنگ‌های اطراف، حفره‌ای با مساحت زیاد به وجود می‌آید. برای دسترسی به این حفره، چاه دیگری ایجاد می‌شود. آب تزریق شده پس از رسیدن تا دمای 200°C یا کمی بیشتر، به شکل آب یا بخار داغ پرفشار از چاه دوم بالا می‌آید و پس از به کار انداختن توربین، دوباره از طریق چاه اول وارد حفره می‌شود و چرخه بسته‌ای به وجود می‌آورد.



گرما و بهینه سازی مصرف انرژی



دمای محیط چنان اهمیتی دارد که هرگونه حیاتی کاملاً به آن وابسته است. دو سیاره نزدیک به زمین یعنی زهره (ناهید) و مریخ (بهرام) را در نظر بگیرید. دمای زهره چنان زیاد است که اگر دمای زمین به آن مقدار برسد، حتی برخی از فلزها در آن ذوب می‌شوند و مریخ نیز آن چنان سرد است که همه چیز روی آن یخ می‌زند. جست‌وجوی حیات روی سیاره دیگر بر اساس وجود آب در حالت مایع در آن سیاره انجام می‌شود. در صورتی آب به حالت مایع وجود خواهد داشت که دمای محیط مناسب باشد.

در این فصل نخست با مفهوم دما و دماسنجی سپس با گرما، روش‌های انتقال آن و عایق بندی گرمایی آشنا می‌شوید.

دما

دمای جسم‌هایی که روزانه با آنها سر و کار داریم و محیطی که در آن زندگی می‌کنیم، معمولاً تأثیر زیادی در کار و فعالیت ما دارد؛ مثلاً در زمستان برای گرم کردن خانه، مدرسه یا محل کار، همچنین در تابستان برای خنک کردن این محیط‌ها، کارهای زیادی انجام می‌شود (شکل ۱)؛ حتی پوشش‌مان نیز بسته به فصل‌های سال تغییر می‌کند.



شکل ۱- برای گرم کردن یا سرد کردن خانه و مدرسه از وسایل مختلفی استفاده می‌شود.



گیاهان و جانوران نیز تحت تأثیر محیطی اند که در آن زندگی می‌کنند؛ به همین دلیل است که شکل گیاهان و جانوران مشابه در مناطق گرمسیری با جانوران و گیاهان مناطق سردسیری تفاوت دارد (شکل ۲).

شکل ۲- رنگ خرس قطبی با خرس‌های دیگر متفاوت است.

فعالیت

در مورد پوشش، رنگ لباس و روش گرم کردن منزل مسکونی و عایق بندی ساختمان‌ها در نواحی سردسیر و نواحی گرمسیر تحقیق کنید و به کلاس گزارش دهید (تشابه‌ها و تفاوت‌ها را مشخص کنید).


آیا می‌دانید

در ساحل دریاهای آزاد مانند خلیج فارس آب در دمای صفر درجه سلسیوس یخ می‌بندد و در دمای ۱۰۰ درجه سلسیوس می‌جوشد.

هر چه جسمی گرم‌تر باشد، دمای آن بیشتر است؛ مثلاً دمای یک فنجان چای داغ بیشتر از دمای یک فنجان آب خنک است. با استفاده از حس لامسه خود تشخیص می‌دهیم چه جسمی داغ و چه جسمی سرد است؛ اما نمی‌توانیم به طور دقیق، مقدار گرمی و سردی آن را مشخص کنیم. وقتی می‌خواهیم بینیم فردی تب دارد یا نه، معمولاً دست خود را روی پیشانی او قرار می‌دهیم و با مقایسه دمای بدن او با دمای بدنمان تشخیص می‌دهیم که شخص تب دارد یا خیر؛ حتی اگر تشخیص دهیم که بیمار تب دارد، نمی‌توانیم تشخیص دهیم او چند درجه تب دارد و برای این منظور از دماسنج استفاده می‌کنیم.

آزمایش کنید

در سه ظرف مشابه به‌طور جداگانه، آب سرد، آب معمولی و آب گرم بریزید. یکی از دست‌ها را در آب گرم و دست دیگر را در آب سرد قرار دهید و حدود ۳۰ ثانیه صبر کنید. حال هر دو دست را بیرون آورید و در آب معمولی قرار دهید و احساس خود را بیان کنید.



شکل ۳ - وقتی دما کم باشد، ارتفاع الکل یا جیوه در لوله کم است و با افزایش دما، ارتفاع الکل زیاد می‌شود.

شکل ۴ - استفاده از دماسنج‌های مختلف پزشکی برای تعیین دمای بدن بیمار.

دماسنج: دماسنج وسیله‌ای است که با استفاده از آن دما را اندازه می‌گیریم؛ مثلاً با استفاده از دماسنج پزشکی می‌توانیم دمای بدن فرد بیمار را با دقت اندازه‌گیری کنیم (شکل ۳). دماسنج‌های جیوه‌ای و الکی رایج‌ترین دماسنج‌ها هستند. اگر این دماسنج‌ها را در محیط گرم قرار دهیم، جیوه یا الکل درون مخزن آنها منبسط می‌شود و از لوله نازک بالا می‌رود. در این حالت ارتفاع الکل رنگی یا جیوه درون لوله، دمای محیط را نشان می‌دهد (شکل ۴).



برای درجه‌بندی دماسنج‌های الکلی و جیوه‌ای، ابتدا مخزن آنها را در مخلوط آب و یخ قرار می‌دهند و سطح جیوه یا الکل را با صفر نشانه‌گذاری می‌کنند؛ سپس دماسنج را در مجاورت بخار آب در حال جوش قرار می‌دهند و سطح مایع درون دماسنج را با عدد ۱۰۰ علامت‌گذاری می‌کنند. بین این دو عدد (صفر تا ۱۰۰) را به صد قسمت مساوی تقسیم کرده‌اند و هر قسمت را یک درجه سلسیوس (1°C) می‌نامند؛ یعنی آب در دمای 0°C (صفر درجه سلسیوس) یخ می‌زند و در دمای 100°C می‌جوشد (البته در فشار یک اتمسفر که فشار هوای کنار دریاها آزاد است).

برای اندازه‌گیری دمای یک جسم با دماسنج الکلی یا جیوه‌ای، مخزن دماسنج را در تماس با جسم مورد نظر قرار می‌دهیم و مدتی صبر می‌کنیم تا ارتفاع مایع در لوله باریک دیگر تغییر نکند؛ آن‌گاه عددی را که مایع در آن ارتفاع قرار دارد؛ می‌خوانیم. این عدد همان دمای جسم است.

آیا می‌دانید

دماسنج‌های نواری با تغییر رنگ و دماسنج‌های جیوه‌ای و الکلی با تغییر حجم، دما را نشان می‌دهند.

بیشتر بدانید

لوله دماسنج معمولاً بلند و نازک انتخاب می‌شود تا یک تغییر کوچک در حجم جیوه یا الکل بتواند به تغییر ارتفاع قابل ملاحظه‌ای در لوله بینجامد.



به همراه گروه خود نخست به طراحی یک دماسنج بپردازید و سپس با آوردن وسایل مورد نیاز، آن دماسنج را بسازید و درجه‌بندی کنید. با استفاده از این دماسنج چند اندازه‌گیری را انجام دهید.



در هر یک از موارد زیر ابتدا دما را پیش‌بینی، و سپس با استفاده از یک دماسنج آن را اندازه‌گیری و جدول را کامل کنید و به کلاس گزارش دهید. توجه کنید برای اندازه‌گیری دما، دماسنج به اندازه کافی در تماس با جسم مورد نظر قرار گیرد.

ردیف	جسم مورد اندازه‌گیری	پیش‌بینی دما (درجه سلسیوس)	دمای اندازه‌گیری شده (درجه سلسیوس)
۱	آب لوله‌کشی		
۲	مخلوط آب و یخ		
۳	مخلوط نمک و یخ خردشده		
۴	چای داغ		
۵	هوای کلاس		
۶	هوای داخل یخچال		

گرما

برای آشنایی با مفهوم دمای تعادل و گرما آزمایش زیر را انجام دهید.

آزمایش کنید

وسایل و مواد: لیوان، دماسنج، میخ نسبتاً بزرگ و انبرک یا دم باریک
روش آزمایش

- ۱- لیوان را تا نیمه از آب سرد پر کنید و دمای آن را اندازه بگیرید.
- ۲- میخ را به کمک انبرک روی شعله اجاق قرار دهید و پس از داغ شدن، داخل لیوان بیندازید.
- ۳- دوباره دمای آب را اندازه بگیرید.
- ۴- نتیجه مشاهده خود را گزارش کنید.

در این آزمایش دمای آب چگونه تغییر کرده است؟ دمای میخ چطور؟ آب انرژی از دست داده است یا میخ؟ کدام یک انرژی گرفته اند؟

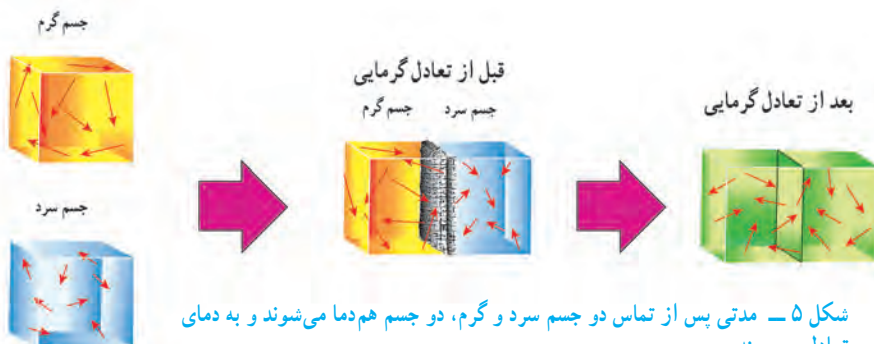
فکر کنید

برای دقت بیشتر باید لوله باریک دماسنج و خط نشان مایع دماسنجی را در خط افق در مقابل دیدگان قرار دهیم.

اگر درون آب به جای میخ داغ، میخ سردی که درون یخزن (فریزر) یا جایشی قرار داشته است، بیندازیم، چه اتفاقی می افتد؟ دمای میخ و آب چگونه تغییر می کنند؟ این بار کدام یک انرژی از دست می دهد و کدام یک انرژی می گیرد؟

از این آزمایش و آزمایش‌های مشابه نتیجه می گیریم، وقتی دو جسم با دماهای متفاوت در تماس با یکدیگر قرار می گیرند، دمای جسم گرم کم، و دمای جسم سرد زیاد می شود. این فرایند آن قدر ادامه پیدا می کند تا دمای دو جسم یکسان شود. این دما را دمای تعادل دو جسم می نامیم و در این حالت می گوئیم دو جسم با یکدیگر در تعادل گرمایی اند (شکل ۵).

آیا می دانید
گرم ترین نقطه روی زمین، ناحیه ای در کویر لوت است که دمای آن تا حدود 70°C و سردترین نقطه در قطب جنوب است که دمای آن تا -89°C گزارش شده است.



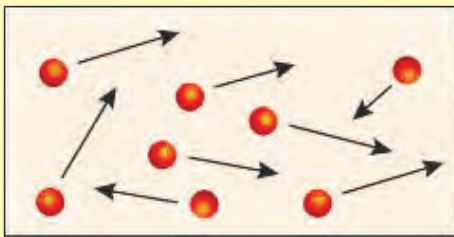
به مقدار انرژی‌ای که در اثر اختلاف دما از جسمی به جسم دیگر منتقل می‌شود، گرما می‌گویند. در آزمایش قبل در حالتی که میخ داغ را درون آب سرد می‌اندازیم، میخ انرژی از دست می‌دهد و آب انرژی می‌گیرد؛ به عبارت دیگر میخ به آب گرما می‌دهد. وقتی ظرف غذا را روی اجاق قرار می‌دهیم، چون اجاق از ظرف گرم‌تر است، انرژی به ظرف منتقل می‌شود؛ به عبارت دیگر اجاق به ظرف غذا، گرما می‌دهد؛ یعنی به‌طور طبیعی گرما همواره از جسم گرم به جسم سرد منتقل می‌شود.

همان‌طور که گفته شد، گرما نوعی انرژی است که به علت اختلاف دما بین دو جسم در تماس با هم منتقل می‌شود؛ بنابراین یکای آن ژول (J) است. از یکای ژول برای همهٔ شکل‌های انرژی استفاده می‌کنند.

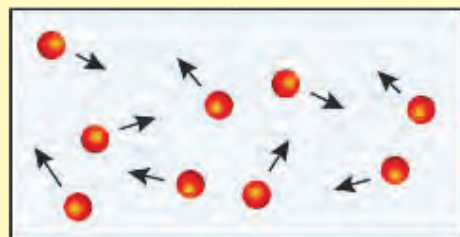
جسمی که گرم‌تر است، دمای آن بیشتر است و مولکول‌هایش جنب و جوش بیشتری دارند؛ یعنی انرژی مولکول‌ها به‌طور متوسط بیشتر از جسمی است که سردتر است. در جسم سردتر، جنب و جوش مولکول‌ها کمتر است؛ یعنی به‌طور متوسط مولکول‌ها انرژی کمتری دارند (شکل ۵). وقتی ظرف آبی را روی شعله قرار می‌دهیم، انرژی داده شده به آب، سبب افزایش انرژی مولکول‌های آب می‌شود و جنبش مولکول‌ها افزایش می‌یابد و در نتیجه دمای آب هم بیشتر می‌شود.



دو محفظهٔ A و B که در آنها مولکول‌های یکسانی قرار دارند را در نظر بگیرید، محفظهٔ A داغ و محفظهٔ B سرد است. الف) جنبش مولکولی A و B را با هم مقایسه کنید. ب) اگر دو محفظه را در تماس با یکدیگر قرار دهیم، جنبش مولکولی کدام محفظه کم و کدام محفظه زیاد می‌شود؟ پ) پس از رسیدن به حالت تعادل، جنبش مولکولی دو محفظه را با هم مقایسه کنید.



محفظة A



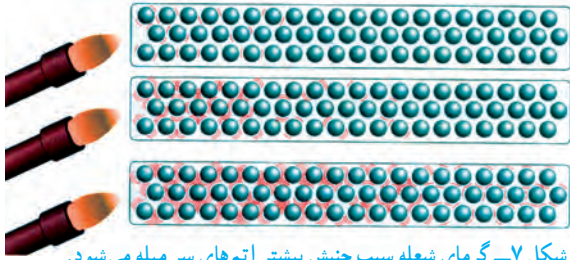
محفظة B

انتقال گرما

همان‌طور که دیدیم، گرما شکلی از انرژی است؛ بنابراین مانند هر انرژی دیگری می‌تواند منتقل شود و در انتقال آن نیز همواره قانون پایستگی انرژی برقرار است. گرما به روش‌های مختلفی از جسمی به جسم دیگر منتقل می‌شود که در اینجا به آنها می‌پردازیم.



شکل ۶- گرما از سر داغ به سر دیگر منتقل می‌شود.



شکل ۷- گرمای شعله سبب جنبش بیشتر اتم‌های سر میله می‌شود.

رسانش: هرگاه یک سر میله فلزی را روی شعله قرار دهید، طولی نمی‌کشد که سر دیگر آن، که در دست شماست، آن قدر داغ می‌شود که دیگر نمی‌توانید آن را نگه دارید. گرما از سری که روی شعله قرار دارد، وارد می‌شود و آن را داغ می‌کند. با توجه به اختلاف دمای دو سر میله، گرما از سر داغ به سمت دیگر میله منتقل می‌شود (شکل ۶). این نوع انتقال گرما را رسانش گرمایی می‌نامیم. در رسانش گرمایی، گرمای شعله سبب می‌شود که جنبش اتم‌های سر گرم شده میله، بیشتر شود و در اثر برخورد با اتم‌های مجاور، انرژی به آنها منتقل کند و در نتیجه سبب افزایش جنبش اتم‌های مجاور شود؛ بدین ترتیب اتم‌ها بدون رفتن از جایی به جای دیگر انرژی خود را منتقل می‌کنند (شکل ۷).

آزمایش کنید

وسایل و مواد: سه میله هم طول و هم ضخامت از جنس مس، فولاد یا آهن و شیشه، شمع، کبریت، سه پایه و پارافین.

روش آزمایش

۱- به کمک پارافین به سر میله‌ها، چوب کبریت بچسبانید.

۲- مطابق شکل سر دیگر میله‌ها را روی شعله قرار دهید.

۳- مدتی صبر کنید تا چوب کبریت‌ها بیفتند.

۴- نتیجه مشاهدات خود را بنویسید و درباره آن گفت‌وگو کنید.

در این آزمایش کدام میله سریع‌تر از بقیه گرما را منتقل می‌کند؟ کدام میله گرما را بسیار کند منتقل می‌کند؟

آیا می‌دانید

وجود هوا در لایه لای پشم و پر سبب کاهش میزان رسانایی گرمایی می‌شود.



به اجسامی مانند شیشه، چوب، لاستیک، هوا، پشم، چوب پنبه و... که گرما را بسیار آهسته منتقل می‌کنند، نارسانا یا عایق گرما گویند و به اجسامی مانند انواع فلزها که گرما را بسیار سریع منتقل می‌کنند، رسانای گرمایی گویند.

آزمایش نشان می‌دهد برخی از فلزها نسبت به فلزهای دیگر رسانای بهتری برای گرما هستند. پشم شیشه و فایبرگلاس به علت داشتن هوای محبوس نارسانای خوب به شمار می‌روند.

با استفاده از وسایل در دسترس، یک لیوان عایق دردار طراحی کنید و بسازید؛ سپس مقداری آب داغ در آن بریزید و دمای آب را اندازه بگیرید. پس از یک ساعت دوباره دمای آب را اندازه بگیرید. ظرف کدام گروه گرمای کمتری را منتقل کرده است؟ کدام ظرف گرمای بیشتری را منتقل کرده است؟

همرفت: آیا تاکنون آب در حال جوش را در یک ظرف مشاهده کردید؟ حباب‌ها در ته ظرف تشکیل می‌شوند و به سمت بالا حرکت می‌کنند. با حرکت آب داغ از ته ظرف به سمت بالا، آب سرد بالای ظرف به سمت پایین حرکت می‌کند. در واقع آب با جابه‌جا شدن، گرما را منتقل می‌کند (شکل ۸). به این روش انتقال گرما، همرفت می‌گویند. در انتقال گرما به روش همرفت قسمتی از مایع یا گاز که گرم شده است به طرف بالا حرکت می‌کند و قسمت‌های اطراف آن، که سردترند، جای آن را می‌گیرند.



شکل ۸- آب گرم شده به سمت بالا حرکت می‌کند و آب سرد جای آن را می‌گیرد.

آزمایش کنید

وسایل و مواد: یک ظرف شیشه‌ای نشکن، منبع گرما (شمع یا چراغ گاز یا چراغ الکلی)، قطره‌چکان، جوهر روشن آزمایش



- ۱- تا سه چهارم ظرف شیشه‌ای را با آب پر کنید و آن را مطابق شکل روی شعله قرار دهید.
 - ۲- با قطره چکان، چند قطره جوهر در یک طرف ظرف بریزید.
 - ۳- به مسیر حرکت جوهر توجه، و مشاهدات خود را به‌طور دقیق یادداشت کنید.
 - ۴- در گروه خود درباره علت رفتار مشاهده شده، بحث کنید.
- وقتی آب را از پایین گرم می‌کنیم، مولکول‌های آن تندتر حرکت می‌کنند و بیشتر از هم دور می‌شوند؛ یعنی آب منبسط می‌شود. در نتیجه چگالی آن کم می‌شود و به طرف بالا رانده می‌شود. در این هنگام آب خنک‌تر، جای آبی را می‌گیرد که گرم شده و به طرف بالا رفته است. با تکرار این فرایند، همه آب گرم می‌شود.

دو بشر هم اندازه انتخاب کنید. یکی را از آب و دیگری را از ماسه پر کنید و آن را در آفتاب قرار دهید. هر ۳۰ دقیقه یک‌بار دمای آنها را اندازه‌گیری و یادداشت کنید و سپس نمودار دما برحسب زمان آنها را رسم کنید، از این آزمایش چه نتیجه‌ای می‌گیرید؟

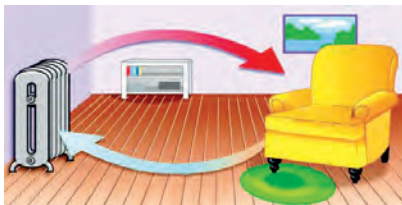


شکل ۹ - جریان‌های همرفتی سبب ایجاد باد در ساحل دریا می‌شود.

جریان‌های همرفتی می‌توانند هوا را نیز به حرکت در آورند و باد تولید کنند؛ مثلاً در طول روز، ساحل دریا (خشکی) زودتر از آب دریا گرم می‌شود و دمای آن از دمای آب بالاتر می‌رود. در نتیجه هوای خنک بالای آب به طرف ساحل می‌آید و هوای گرم روی ساحل به طرف بالا می‌رود. حاصل این فرایند نسیم دریاست (شکل ۹).

فکر کنید

اگر در ساحل، آتش روشن کنید، متوجه می‌شوید در طول روز، دود به طرف خشکی و در طول شب به طرف دریا کشیده می‌شود. علت را توضیح دهید.



خود را بیازمایید

شکل مقابل نحوه گرم شدن اتاق را به وسیله یک رادیاتور نشان می‌دهد. توضیح دهید چگونه قسمت‌هایی از اتاق که با رادیاتور فاصله دارند، گرم می‌شوند.

تابش: بیشتر انرژی گرمایی روی زمین از خورشید است. این انرژی سطح زمین را گرم می‌کند و انرژی مورد نیاز گیاهان، جانوران و... را تأمین می‌کند. آیا می‌دانید این انرژی چگونه به زمین می‌رسد؟ آیا این انرژی با فرایند رسانش به زمین می‌رسد؟ آیا ممکن است این انرژی به صورت همرفت به زمین رسیده باشد؟ همان طور که دیدیم برای انتقال گرما به روش همرفت و رسانش به محیط مادی نیاز است؛ ولی انرژی گرمایی خورشید از خلأ عبور می‌کند و به ما می‌رسد و ما را گرم می‌کند. این نوع انتقال انرژی، تابش گرمایی نامیده می‌شود.

فعالیت



با همکاری معلم یا والدین خود یک اتوی برقی را روشن، و مدتی صبر کنید تا سطح اتو کاملاً داغ شود. پشت دست خود را مطابق شکل در فاصله چند سانتی‌متری زیر اتو قرار دهید. آیا گرمای اتو را در پشت دست خود احساس می‌کنید؟ آیا ممکن است گرما از طریق رسانش یا همرفت به پشت دست شما رسیده باشد؟ توضیح دهید.

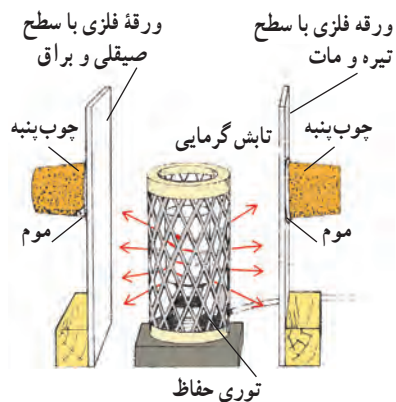
همه اجسام می‌توانند انرژی خود را به صورت تابش منتشر کنند؛ اما اجسام گرم‌تر، مقدار بیشتری انرژی تابشی منتشر می‌کنند؛ مثلاً سطح خورشید که دمای بالایی دارد، انرژی تابشی زیادی گسیل می‌کند.

وقتی در یک روز آفتابی در حال پیاده روی هستید، پرتوهای خورشید به شما برخورد می‌کنند. قسمتی از پرتوها جذب بدن شما می‌شوند و شما را گرم‌تر می‌کنند و قسمتی از پرتوها، بازتابش می‌کنند.

در یک آزمایش، بخاری برقی استوانه‌ای بین دو ورقه فلزی قرار داده شده است. سطح‌هایی از ورقه‌ها که مقابل بخاری قرار دارند، یکی صیقلی و براق و دیگری سیاه و مات است. در طرف دیگر، ورقه‌های چوب پنبه‌ای توسط موم یا پارافین چسبانده شده است.

وقتی بخاری برقی را روشن می‌کنیم، خواهیم دید که چوب پنبه پشت سطح سیاه، زودتر می‌افتد (شکل ۱۰). با انجام این آزمایش و آزمایش‌های مشابه می‌توان نتیجه گرفت که:

اجسام تیره و ناهموار، انرژی تابشی بیشتری را جذب می‌کنند و سطوح صاف و براق مقدار کمتری از انرژی تابشی را جذب، و بیشتر آن را بازتابش می‌کنند.

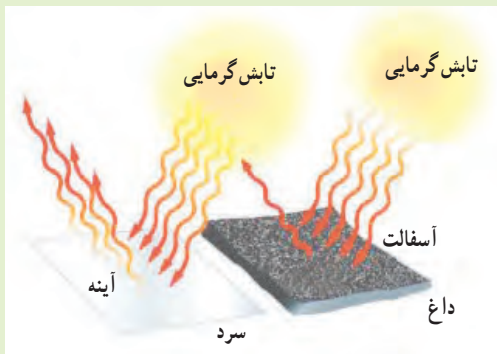


شکل ۱۰ - جذب تابش گرمایی

فکر کنید

کدام مورد بیشتر تابش گرمایی خورشید را جذب می‌کند؟ چرا؟

الف) آسفالت ب) آینه



آزمایش کنید

وسایل و مواد: دو قوری یا لیوان کاملاً یکسان که رنگ یکی تیره و دیگری سفید باشد، دو دماسنج و یک فلاسک (دمابان)^۱ آب داغ.

روش آزمایش

- در هر یک از لیوان‌ها یا قوری‌ها، مقدار مساوی آب داغ بریزید و با دماسنج دمای آنها را اندازه‌گیری کنید.
- هر ۵ دقیقه دمای آب درون ظرف‌ها را اندازه‌گیری کنید و نمودار دما را بر حسب زمان برای هر یک از ظرف‌ها رسم کنید. از این آزمایش چه نتیجه‌ای می‌گیرید؟

۱- دمابان (مصوب فرهنگستان)

فناوری و کاربرد



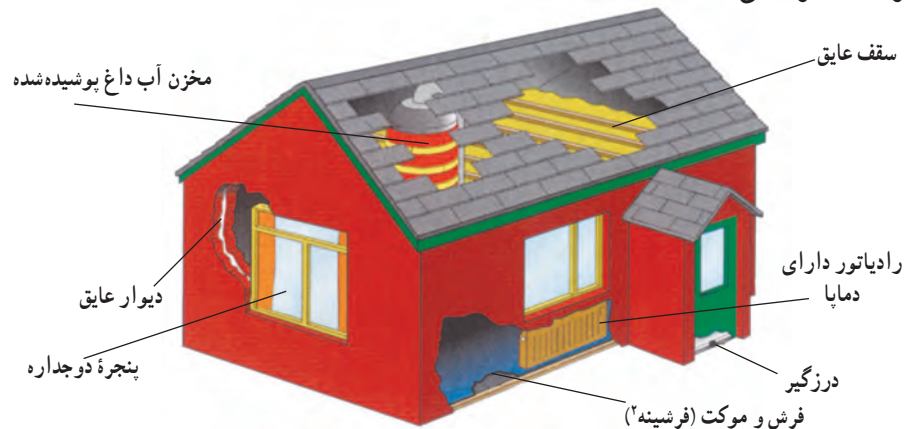
شکل ۱۱- سامانه خنک کننده خودرو از گرم شدن بیش از حد موتور جلوگیری می‌کند.

موتور خودرو: اگر دمای خیلی از چیزها را واپایش (کنترل^۱) نکنیم، ممکن است خراب شوند؛ مثلاً اگر دمای موتور خودرو خیلی بالا رود، موتور آسیب جدی می‌بیند و حتی ممکن است بسوزد. برای جلوگیری از این اتفاق، سامانه خنک کننده خودرو طراحی و ساخته شده است تا انرژی گرمایی موتور را به رادیاتور منتقل کند. رادیاتورها به صورت پهن و در نتیجه با سطح زیاد ساخته می‌شوند. این طراحی سبب از دست دادن گرما به صورت همرفت و تابش خواهد شد. علاوه بر این، خودروها پنکه (فن) خنک کننده نیز دارند. هنگامی که موتور داغ شود، پنکه‌ها روشن می‌شوند و سبب دور شدن هوای داغ اطراف رادیاتور می‌گردند.

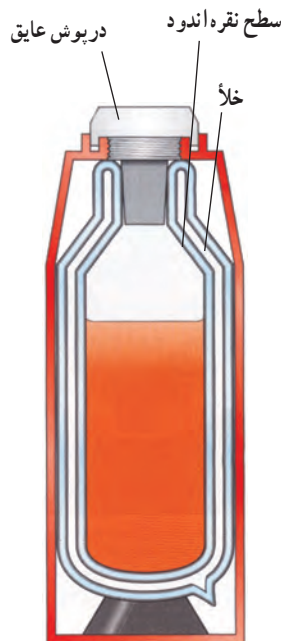
کاهش اتلاف گرما در خانه: دمای مناسب برای داخل خانه یا محل‌های کار و مدرسه، بین 18°C تا 20°C است. در روزهای سرد اختلاف دمای درون خانه و بیرون بسیار زیاد می‌شود و این اختلاف دما سبب اتلاف گرمایی زیادی می‌شود و ممکن است هزینه زیادی را به خانواده تحمیل کند؛ به طوری که مجبور به پرداخت مبلغ کلانی برای قبض‌های برق و گاز شویم. برای جلوگیری از اتلاف گرمایی و سازگاری بیشتر با محیط‌زیست راه‌های مختلفی وجود دارد. شکل ۱۲ نشان می‌دهد که چگونه می‌توان اتلاف گرما را در خانه کاهش داد و از هزینه‌های گرمایشی خانه کاست.

آیا می‌دانید

انرژی مصرفی یک خانواده برای پخت و پز در طول سال حدود ۵ تن گاز گلخانه‌ای را وارد جو می‌کند. برق مصرفی یک یخچال نیز در طول سال ۲ تن گاز گلخانه‌ای به محیط‌زیست اضافه می‌کند!



شکل ۱۲- روش‌های مختلف جلوگیری از اتلاف گرما در خانه



شکل ۱۳- دما بان (فلاسک) خلأ می‌تواند مدت نسبتاً زیادی دمای جسم را تقریباً ثابت نگه دارد.

دما بان (فلاسک^۳) خلأ: اگر بخواهید به مسافرت یا تفریح بروید، نوشیدنی داغ مانند چای را چگونه گرم نگه می‌دارید؟ نوشیدنی خنک مانند آب‌میوه را چگونه خنک نگه می‌دارید؟ اگر این نوشیدنی‌ها را در محفظه‌ای قرار دهید و هر سه راه انتقال گرما به آن یا از آن به بیرون را ببندید، نوشیدنی داغ یا خنک می‌ماند. معمولاً این کار را دما بان‌های (فلاسک‌های) خلأ انجام می‌دهند. شکل ۱۳ یک نوع از این دما بان (فلاسک) و اجزای تشکیل دهنده آن را نشان می‌دهد. اصلی‌ترین جزء دما بان (فلاسک) یک بطری شیشه‌ای دو جداره است که بین آن خلأ است و روی سطح آن، هم از درون و هم از بیرون نقره‌اندود است. در گروه خود درباره نقش هر قسمت از دما بان (فلاسک) خلأ بحث کنید.

۱- Control

۲- Moquette

۳- Flask

اَنَا خَلَقْنَا الْإِنْسَانَ مِنْ نَطْفَةٍ أَمْشَاجٍ نَبْتَلِيهِ فَجَعَلْنَاهُ سَمِيعًا بَصِيرًا
ما انسان را از اختلاط نطفه آفریدیم و برای او گوش شنوا و چشم بینا قرار دادیم.
سوره دهر (انسان)، آیه ۲

دنیای درون من

بدن ما دنیایی از یاخته‌ها و دستگاه‌هایی است که گرچه کارهای متفاوتی انجام می‌دهند؛ اما هماهنگ با هم کار می‌کنند و سبب سلامت ما می‌شوند. این در حالی است که بر بسیاری از این فعالیت‌ها آگاه نیستیم. در این بخش با برخی دستگاه‌های بدن و نقش آنها آشنا می‌شویم. همچنین می‌آموزیم که چگونه با تغذیه‌ای سالم قردان سلامت خود باشیم.

فصل ۱۱ - یاخته و سازمان‌بندی آن

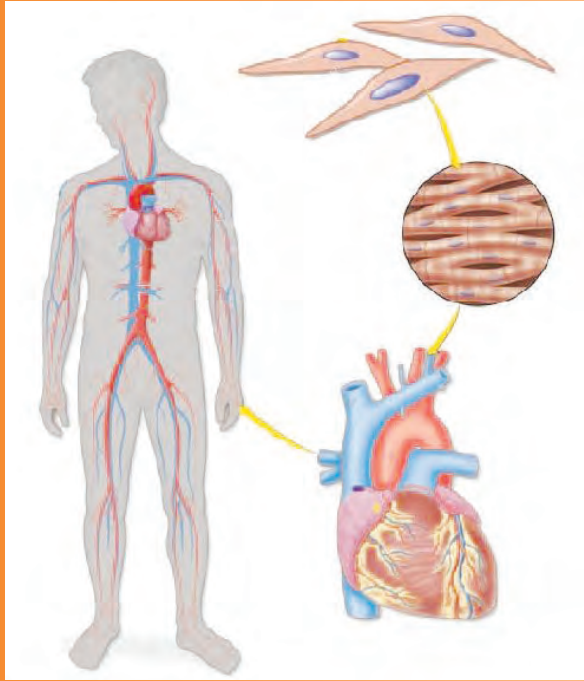
فصل ۱۲ - سفره سلامت

فصل ۱۳ - سفر غذا

فصل ۱۴ - گردش مواد

فصل ۱۵ - تبادل با محیط

یاخته و سازمان‌بندی آن



چه شباهتی بین ساختار بدن شما و پیکر جاندارانی مانند گنجشک، درخت سیب یا باکتری وجود دارد؟ با همه تفاوتی که پیکر این جانداران با هم دارند؛ در یک ویژگی مشترک‌اند. همه آنها از یاخته (سلول) ساخته شده‌اند. جاندارانی مثل باکتری فقط از یک یاخته ساخته شده‌اند. در حالی که بعضی جانداران بیش از یک یاخته دارند. در این فصل با یاخته، اجزای آن و چگونگی فعالیت یاخته‌ها در جانداران پر یاخته آشنا می‌شوید.

یاخته؛ کوچک‌ترین واحد زنده

با دقت به پوست دست خود نگاه کنید. آیا می‌توانید یاخته‌های پوست دستتان را ببینید؟ در سال گذشته انواعی از یاخته‌ها را با میکروسکوپ مشاهده کردید.

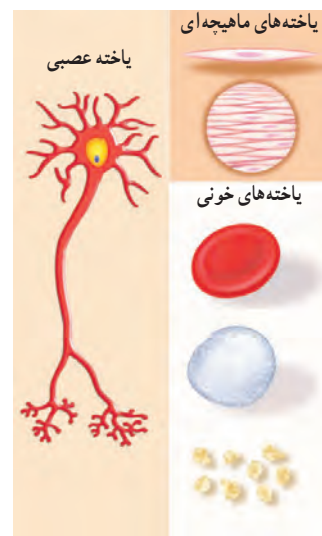
فعالیت

با میکروسکوپی که در مدرسه دارید، روی پوست برگ بعضی گیاهان، پوسته داخلی و خارجی پیاز را مشاهده، و شکل یاخته‌های آنها را رسم کنید.

دیدید که در یک قطعه کوچک از هر نمونه تعداد زیادی یاخته وجود دارد. یاخته، واحد ساختار و عمل در موجودات زنده است. بدن ما از هزاران میلیارد یاخته ساخته شده است. شکل ۱ انواعی از یاخته‌های سازنده بدن ما را نشان می‌دهد.

یاخته‌های پوستی، ماهیچه‌ای، عصبی و خونی انواعی از یاخته‌های بدن ما هستند. با همه شباهت‌هایی که این یاخته‌ها با هم دارند، هریک از آنها ساختار منحصر به فردی دارند. از دوره ابتدایی می‌دانید هر یاخته در بدن شما ویژگی‌های یک موجود زنده را دارد. آیا این ویژگی‌ها را به خاطر می‌آورید؟

هر ساختار زنده‌ای که در بدن موجودات زنده وجود دارد، از یاخته تشکیل شده است و هر عملی که توسط بخشی از بدن انجام می‌شود، یاخته‌های آن قسمت، آن را انجام می‌دهند. به همین دلیل یاخته را واحد ساختار و عمل در موجودات زنده می‌نامند.



شکل ۱ - انواعی از یاخته‌ها

فعالیت

به شکل‌های زیر نگاه کنید. درباره شباهت‌های آنها در گروه خود گفت‌وگو کنید.



شباهت یاخته‌ها

اگرچه انواع مختلفی از یاخته وجود دارد، همه آنها ویژگی‌های مشترکی دارند. همان‌طور که در فعالیت قبل دیدید، پوششی همه یاخته‌ها را احاطه می‌کند. این پوشش، غشای یاخته (غشای پلاسمایی^۱) نامیده می‌شود. به نظر شما کار این غشا چیست؟ آیا هر ماده‌ای می‌تواند از آن عبور کند؟

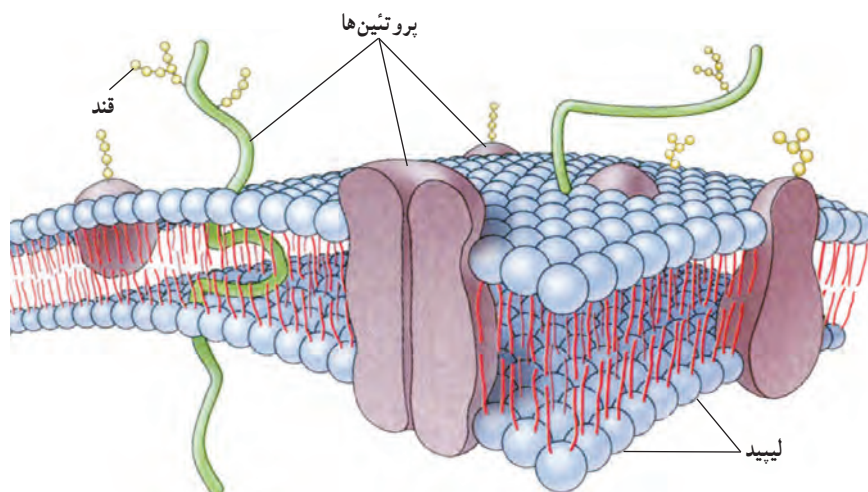
غشا ضمن محافظت از یاخته، ورود و خروج مواد را نیز تنظیم می‌کند. غشا نفوذپذیری انتخابی دارد؛ یعنی فقط به مواد مورد نیاز یاخته اجازه ورود می‌دهد و مواد زائد و ترشحات را از یاخته خارج می‌کند.

همان‌طور که در شکل ۲ می‌بینید، غشای یاخته عمدتاً از لیپید (چربی) ساخته شده است. همچنین انواعی از مولکول‌های پروتئین و کربوهیدرات (قند) نیز در این غشا وجود دارد.

آیا می‌دانید

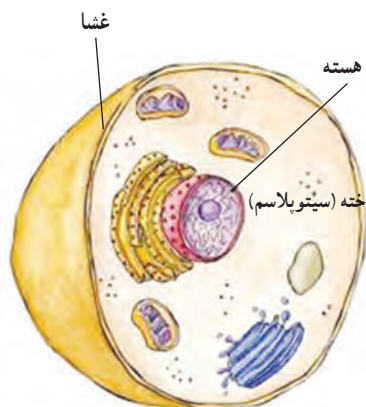
هر سانتی‌متر مربع پوست حدود ۱۰۰۰۰۰ یاخته دارد.

۱- Plasma Membrane



شکل ۲ - ساختار غشای یاخته (غشای پلاسمایی)

میان یاخته (سیتوپلاسم) بخشی از یاخته است که در آن اندامک‌ها و مواد مورد نیاز بقای یاخته، مانند نمک‌ها، آنزیم‌ها و مواد دیگر در آن قرار دارند. اندامک‌ها ساختارهایی درون یاخته‌اند که کارهای متفاوتی انجام می‌دهند. هسته بخشی از یاخته است که فعالیت‌ها و ویژگی‌هایی مثل شکل و اندازه یاخته را تنظیم می‌کند (شکل ۳- الف).



الف) یاخته جانوری

گفت‌وگو کنید

دربارۀ عبارت زیر در گروه خود گفت‌وگو کنید.
 یاخته‌های ماهیچه‌ای با یاخته‌های عصبی کاملاً متفاوت‌اند.

هسته در گیاهان، جانوران، قارچ‌ها و آغازیان، پوششی دارد که آن را دربر می‌گیرد؛ اما در باکتری‌ها، مواد هسته‌ای در پوششی قرار ندارند و هسته مشخصی را تشکیل نمی‌دهند (شکل ۳- ب).

اطلاعات جمع‌آوری کنید

در یک فعالیت گروهی و با مراجعه به اینترنت در مورد بزرگ‌ترین یاخته‌ها تحقیق، و نتیجه را به کلاس گزارش کنید.



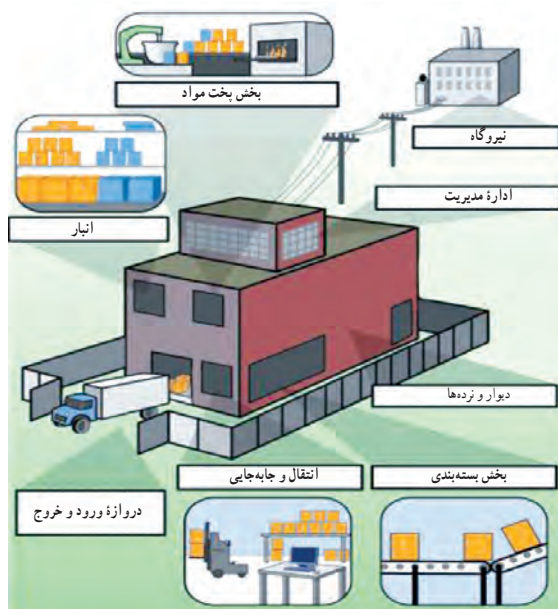
ب) یاخته باکتری

شکل ۳

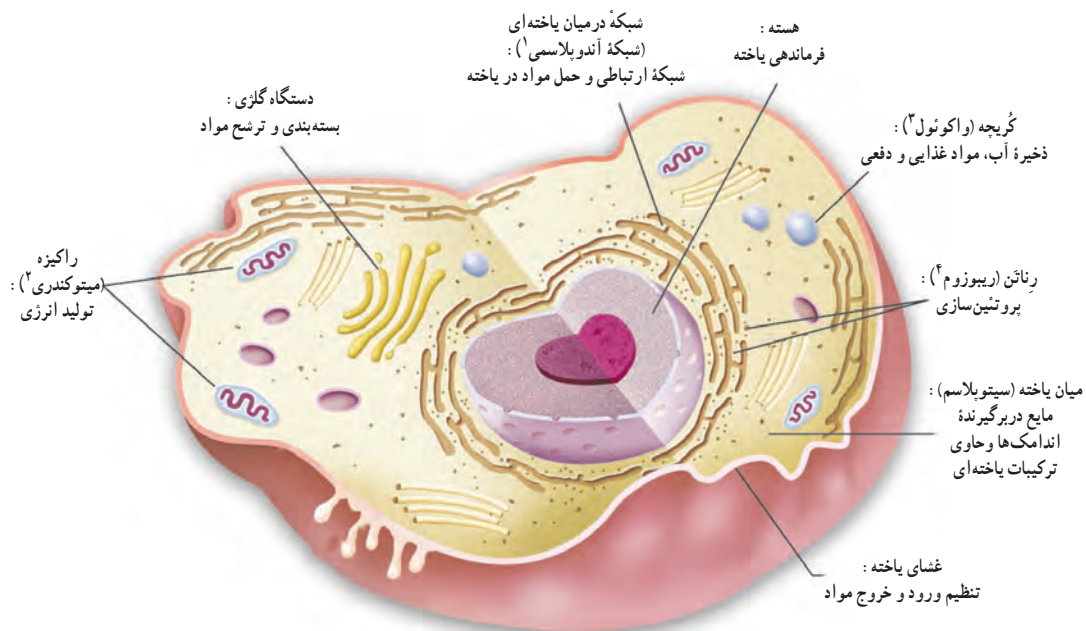
۱- Cytoplasm

نگاهی به درون یاخته

یک کارخانه تولید مواد غذایی را در نظر بگیرید که روزانه انواعی فراورده تولید می‌کند. مواد اولیه وارد کارخانه شده در آنجا مخلوط و پخته می‌شوند؛ سپس تولیدات بسته‌بندی، و به محل‌های مختلف فرستاده می‌شوند. هر یک از این کارها در بخش‌های متفاوتی از کارخانه انجام می‌شود (شکل ۴). یاخته نیز شباهت زیادی به کارخانه دارد (شکل ۵).



شکل ۴



شکل ۵

۱- Endoplasmic Reticulum

۲- Mitochondrion

۳- Vacuole

۴- Ribosome

با توجه به شکل صفحه قبل، بخش‌های یک کارخانه را با یاخته مقایسه، و جدول زیر را کامل کنید.

بخش‌های یاخته‌ای	بخش‌های کارخانه	فرایند
	درها و دروازه‌های کارخانه	ورود و خروج مواد
راکیزه (میتوکندری)	منبع انرژی (موتورخانه)	
رناتن (ریبوزوم)	بخش مخلوط و بخت	
	بخش بسته بندی و توزیع	بسته بندی و پخش
هسته		تنظیم و مدیریت
	انبار	

رنگ آمیزی یاخته‌ها و مشاهده اندامک‌ها

در سال گذشته یاخته‌های پوشش داخلی دهان و روپوست گیاهان را بدون رنگ آمیزی و به آسانی مشاهده کردید. اما مشاهده همه یاخته‌ها بدون رنگ آمیزی امکان پذیر نیست؛ از این رو برای مشاهده بهتر یاخته‌ها آنها را رنگ می‌کنیم. رنگ‌ها به ترکیبات اصلی یاخته می‌چسبند و آنها را واضح‌تر می‌کنند؛ مثلاً آبی متیل رنگی است که به پروتئین‌های غشا و هسته می‌چسبند و آنها را به خوبی مشخص می‌کند.

آزمایش کنید

وسایل و مواد: گیاه خزه، سیب زمینی، میکروسکوپ، تیغه و تیغک، چوب بستنی، آبی متیل، لوگول

روش آزمایش

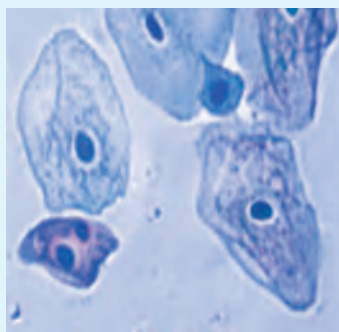
- برگ خزه را روی تیغه قرار دهید و زیر میکروسکوپ مشاهده کنید. لکه‌های سبز رنگ در یاخته‌ها همان سبزدیسه (کلروپلاست‌ها) هستند که بدون رنگ آمیزی مشاهده می‌شوند.
- همانند سال گذشته نمونه‌ای از یاخته‌های پوششی دهان را تهیه کنید و روی نمونه چند قطره آبی متیل یا لوگول بریزید. پس از چند دقیقه نمونه را زیر میکروسکوپ مشاهده کنید و سه بخش اصلی یاخته یعنی غشا، هسته و میان‌یاخته (سیتوپلاسم) را در آن تشخیص دهید.
- سیب زمینی را دو قسمت کنید و لبه کارد را روی آن بکشید. مایع روی لبه کارد را روی تیغه شیشه‌ای منتقل و مقداری لوگول به آن اضافه کنید. پس از چند دقیقه با میکروسکوپ آن را مشاهده کنید. لکه‌های تیره رنگ، دیسه‌های (پلاست‌های^۱) ذخیره‌ای هستند.

چه ماده‌ای در آنها ذخیره شده است؟ برای پاسخ خود دلیل بیاورید.

- شکل آنچه را که در هر مرحله دیدید، رسم کنید. در مورد آنها با گروه خود مشورت کنید.



خزه



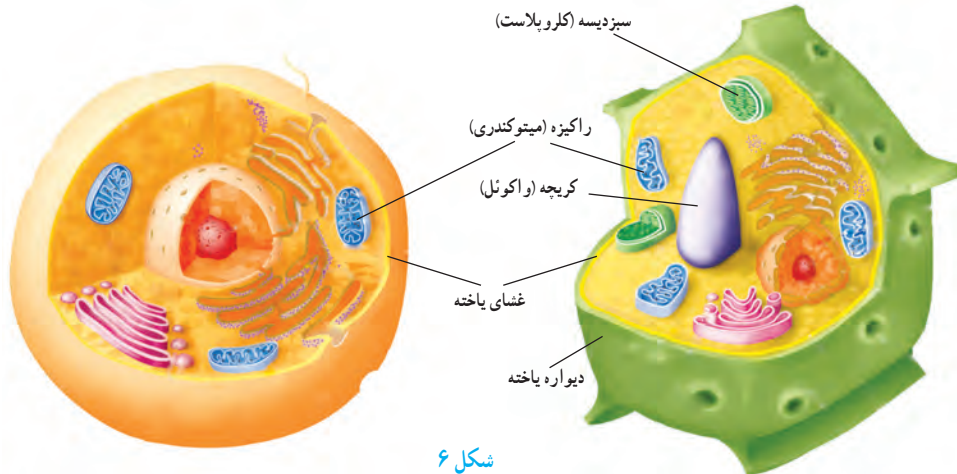
یاخته‌های پوششی دهان

۱- Chloroplast

۲- Plastid

مقایسهٔ یاخته‌های گیاهی و جانوری

یاخته‌های گیاهی و جانوری در عین شباهت با هم تفاوت‌هایی نیز دارند؛ مثلاً یاخته‌های گیاهی، دیوارهٔ یاخته‌ای و سبزدیسه (کلروپلاست) دارند در حالی که یاخته‌های جانوری این دو را ندارند. با وجود دیوارهٔ یاخته‌ای، شکل یاخته‌های گیاهی نیز منظم‌تر است (شکل ۶).



شکل ۶



با توجه به شکل بالا جدول را کامل کنید.

مشخصه	یاخته گیاهی	یاخته جانوری
سبزدیسه (کلروپلاست)	دارد	
دیوارهٔ یاخته		
راکیزه (میتوکندری)		
کریچه (واکول مرکزی)		ندارد

سازمان‌بندی یاخته‌ها

جانداران تک یاخته‌ای فقط از یک یاخته تشکیل شده‌اند و همهٔ فعالیت‌های حیاتی خود را با همان یک یاخته انجام می‌دهند. در حالی که جانداران پر یاخته‌ای تعداد زیادی یاخته دارند. در اینها فعالیت‌های حیاتی چگونه انجام می‌شود؟
سال گذشته جلبک رشته‌ای را با میکروسکوپ دیدید. در این جاندار، تعدادی یاخته در کنار هم قرار دارند. هر یاخته می‌تواند مستقل از یاخته‌های دیگر به فعالیت حیاتی خود ادامه دهد. به چنین جاندارانی، پر یاخته‌ای ساده می‌گویند (شکل ۷).



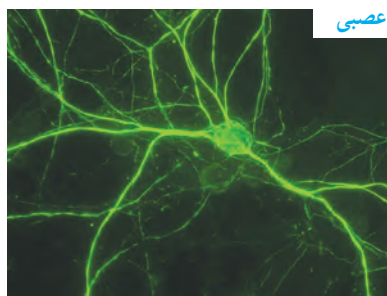
شکل ۷- دو نوع برگنه (کلنی)

آیا می‌دانید
بعضی از بافت‌ها انواعی دارند؛
مثلاً بافت پیوندی شامل بافت‌های
خونی، استخوانی، غضروفی،
چربی و... است.

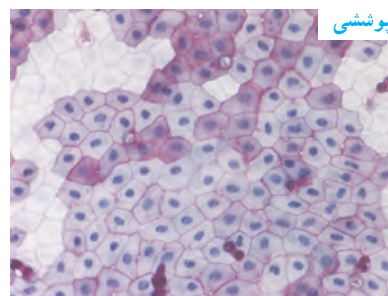
در پر یاخته‌ای‌هایی مثل گیاهان و جانوران تقسیم کار صورت گرفته است. در این موجودات یاخته‌ها به شکل‌های مختلفی وجود دارند و هر کدام کارهای ویژه‌ای را انجام می‌دهند. بین نوع کار و شکل یاخته‌ها تناسب وجود دارد؛ مثلاً در بافت پوششی، بسته به نوع کار، یاخته‌ها به شکل‌های متفاوتی دیده می‌شوند. یاخته‌های این نوع بافت در محل‌هایی که وظیفهٔ محافظت را بر عهده دارند، مثل پوست، به هم فشرده و ضخیم هستند؛ اما در محل‌هایی که تبادل مواد را انجام می‌دهند، مثلاً در مویرگ‌ها یاخته‌ها نازک‌اند و منافذی بین آنها وجود دارد. یاخته‌های خونی برای آسانی حرکت در رگ‌ها شکل گرد دارند. یاخته‌های عصبی برای انتقال پیام عصبی دراز و کشیده‌اند (شکل ۸).



خونی

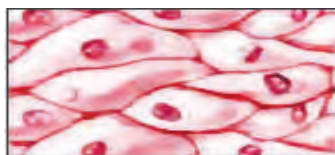


عصبی

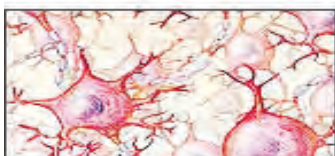


پوششی

شکل ۸- تناسب شکل و کار یاخته (سلول)



بافت پوششی



بافت عصبی



بافت پیوندی



بافت ماهیچه‌ای

شکل ۹- انواع بافت اصلی در بدن ما

در یاخته‌های گیاهی نیز چنین وضعی وجود دارد. برای نمونه در گیاهان، آوندها که دراز و لوله مانند هستند، انتقال مواد را بر عهده دارند. در جانداران پر یاخته‌ای از اجتماع تعدادی از یاخته‌های همکار و مشابه، بافت تشکیل می‌شود. در بدن ما چهار نوع بافت اصلی به نام‌های پوششی، پیوندی، عصبی و ماهیچه‌ای وجود دارد (شکل ۹).
وقتی بافت‌های مختلف در کنار هم قرار می‌گیرند، اندام یا عضو تشکیل می‌شود؛ مثل معده، کلیه و قلب.
اندام‌ها یا اعضا در کنار هم دستگاه‌ها را به وجود می‌آورند؛ مثل دستگاه گردش خون و گوارش.
با جمع شدن دستگاه‌ها در کنار هم موجود زنده به وجود می‌آید (شکل ۱۰).

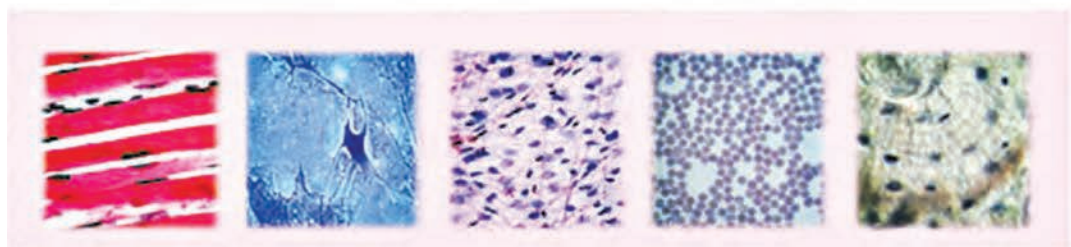


یاخته

خونی

ماهیچه‌ای

عصبی



بافت

ماهیچه‌ای

عصبی

غضروف

خونی

استخوانی



اندام

قلب

کلیه

استخوان

مغز

پوست



دستگاه

اسکلتی

تنفس

عصبی

انتقال مواد

گوارش



موجود زنده

شکل ۱۰ - سازمان بندی یاخته‌ها

سفره سلامت



به غذاهای مورد علاقه‌تان فکر کنید! چرا به این غذاها علاقه دارید؟ این غذاها از چه موادی درست شده‌اند؟ آیا می‌دانید غذاهایی که می‌خورید بر سلامت شما چه تأثیری دارند و چه نوع تغذیه‌ای سالم است؟ در این فصل با مواد مغذی و نقش آنها در سلامت آشنا می‌شوید.

موادی که غذاها دارند

از زمان تولد تاکنون، یاخته‌های فراوانی در بدنتان ساخته شده و رشد کرده‌اند. بدن شما مواد لازم برای ساخته شدن و رشد این یاخته‌ها را با غذاهایی به دست می‌آورد که می‌خورید. غذا، انرژی لازم را برای انجام دادن فعالیت‌های متفاوت نیز تأمین می‌کند. چه موادی در غذاها وجود دارند که نیاز بدن ما را به ماده و انرژی، تأمین، و سلامت ما را حفظ می‌کنند؟

فعالیت

ترکیبات: آرد گندم، آرد گندم کامل، روغن نباتی، شکر سفید، شربت اینورت، بی کربنات سدیم خوراکی، عصاره مالت، نمک خوراکی تصفیه شده، اسید سیتریک، لسیترین، آب آشامیدنی

ارزش غذایی در ۱۰۰ گرم

Nutritional Facts Value 100gr		
Energy	456.4	انرژی
Carbohydrate	57.2	کربوهیدرات
Fat	22.5	چربی
Protein	7	پروتئین
Fiber	3.5	فیبر
Humidity	2.5	رطوبت
Ferrous	26 Ppm	آهن

شکل روبه‌رو برچسب روی یک بسته خوراکی را نشان می‌دهد. چه موادی در این خوراکی وجود دارد؟

کارهایی که غذاها در بدن ما انجام می‌دهند به مواد مغذی آنها بستگی دارد. انواع متفاوتی از مواد مغذی وجود دارد. کربوهیدرات‌ها، لیپیدها (چربی‌ها)، پروتئین‌ها، ویتامین‌ها، مواد معدنی و آب، مواد مغذی‌اند که در خوراکی‌های متفاوت وجود دارند.

انرژی تولید می‌کنند

کربوهیدرات‌ها گروهی از مواد مغذی‌اند که انرژی مورد نیاز بدنمان را تأمین می‌کنند.

آزمایش کنید



وسایل و مواد: لوگول (محلول بد)، سیب زمینی، خیار، سیب، نان
روش آزمایش

- ۱- به برش‌هایی از هر یک از این خوراکی‌ها چند قطره لوگول اضافه کنید.
- ۲- نتیجه مشاهده خود را بنویسید.

با انجام دادن آزمایش بالا دریافتید که برخی خوراکی‌ها نشاسته دارند. چه خوراکی‌های دیگری می‌شناسید که نشاسته دارند؟

نشاسته از چه چیزی ساخته شده است؟ برای پاسخ به این پرسش، فعالیت زیر را انجام دهید.

فعالیت



با استفاده از وسایل و مواد زیر، مدلی از نشاسته بسازید.
خمیر بازی، سیم نازک در اندازه‌های متفاوت
روش اجرا

- ۱- از خمیر بازی، گلوله‌هایی به اندازه نخود بسازید.
- ۲- با گذراندن سیم، آنها را به شکل‌های متفاوتی به هم وصل کنید.



شکل ۱- نشاسته از مولکول‌های گلوکز ساخته می‌شود.

نشاسته نوعی کربوهیدرات است و در گیاهان ساخته می‌شود. گیاهان در فتوسنتز، ابتدا قندی به نام گلوکز می‌سازند؛ سپس با وصل کردن مولکول‌های گلوکز به هم، نشاسته می‌سازند؛ بنابراین نشاسته نوعی کربوهیدرات مرکب و گلوکز نوعی کربوهیدرات ساده است (شکل ۱). به کربوهیدرات‌ها، قند نیز می‌گویند. قندهای ساده شیرین‌اند و به فراوانی در میوه‌ها و سبزی‌های شیرین وجود دارند.

مفید اما بدون انرژی

گیاهان کربوهیدرات مرکب دیگری نیز می‌سازند. این کربوهیدرات سلولز نام دارد. سلولز در همه غذاهای گیاهی وجود دارد و مانند نشاسته از مولکول‌های گلوکز ساخته می‌شود. میوه‌ها و سبزی‌ها مقدار زیادی سلولز دارند. گرچه بدن ما از انرژی سلولز نمی‌تواند استفاده کند، خوردن غذاهایی که سلولز دارند به سلامتی ما کمک می‌کند. با اهمیت این کربوهیدرات در فصل بعد آشنا می‌شوید.

چربی‌ها، خوب یا بد؟

به جز روغن و کره، چه خوراکی‌های دیگری می‌شناسید که چربی دارند؟

آزمایش کنید

وسایل و مواد: روغن مایع، آب میوه، آب سبزی، پودر تخم‌آفتابگردان، کاغذ روش آزمایش

۱- قطعه‌ای کوچک از کاغذ را با روغن مایع چرب کنید. چه تغییری در کاغذ ایجاد می‌شود؟

۲- اکنون این کار را با مواد دیگر انجام دهید. با کدام یک، حالت کاغذ شما مانند آزمایش قبل می‌شود؟ چرا؟

آموختید که چربی‌ها برای ساخته شدن غشای یاخته‌ها به کار می‌روند. همچنین بافت چربی که نوعی بافت پیوندی است، دورتادور اندام‌های داخل بدن را می‌پوشاند و آنها را از آسیب و ضربه حفظ می‌کند (شکل ۲).

نقش دیگر چربی‌ها انرژی‌زایی آنهاست. مقدار انرژی‌ای که یک گرم چربی تولید می‌کند، تقریباً دو برابر مقدار انرژی حاصل از یک گرم کربوهیدرات است. از طرفی چربی‌ها خطر تنگ شدن رگ‌ها و سکته قلبی را افزایش می‌دهند. بنابراین در مصرف چربی‌ها به چه چیزهایی باید توجه کنیم؟



شکل ۲- قلب و چربی اطراف آن

آیا می‌دانید قند و شکر که با چای می‌خورید، از قندی ساخته می‌شود که از ریشه گیاه چغندر قند یا ساقه گیاه نیشکر به دست می‌آید.

چربی‌ها دو نوع گیاهی و جانوری دارند (شکل ۳). چربی‌های گیاهی مانند روغن زیتون و کنجد در دمای معمولی مایع‌اند در حالی که چربی‌های جانوری در این دما، معمولاً جامدند. احتمال رسوب چربی‌های جامد در رگ‌ها از چربی‌های مایع بیشتر است. به همین علت پزشکان توصیه می‌کنند که از چربی‌های جامد کمتر استفاده کنیم.



شکل ۳- این خوراکی‌ها چربی دارند. چربی هم در گیاهان و هم در جانوران وجود دارد. چربی‌هایی مانند روغن گردو و زیتون برای سلامتی مفیدند.

ماهیچه‌های قوی

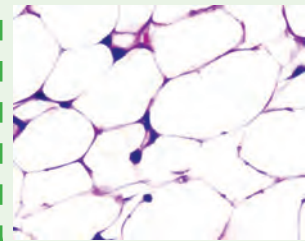
افرادی که ورزش می‌کنند، ماهیچه‌های قوی دارند. ماهیچه‌های قوی به ما کمک می‌کنند تا بتوانیم مثلاً سریع‌تر بدویم. بافت ماهیچه‌ای تقریباً در بیشتر دستگاه‌های بدن وجود دارد. بدن ما برای ساختن این بافت به پروتئین نیاز دارد. پروتئین‌ها برای ساخته شدن یاخته‌ها و بافت‌های دیگر نیز به کار می‌روند (شکل ۴). بنابراین، غذاهایی که می‌خوریم، باید مقدار کافی پروتئین داشته باشند.



شکل ۴- پروتئین در غضروف و استخوان نیز وجود دارد.

آیا می‌دانید

چربی در یاخته‌های بافت چربی ذخیره می‌شود.



آیا می‌دانید

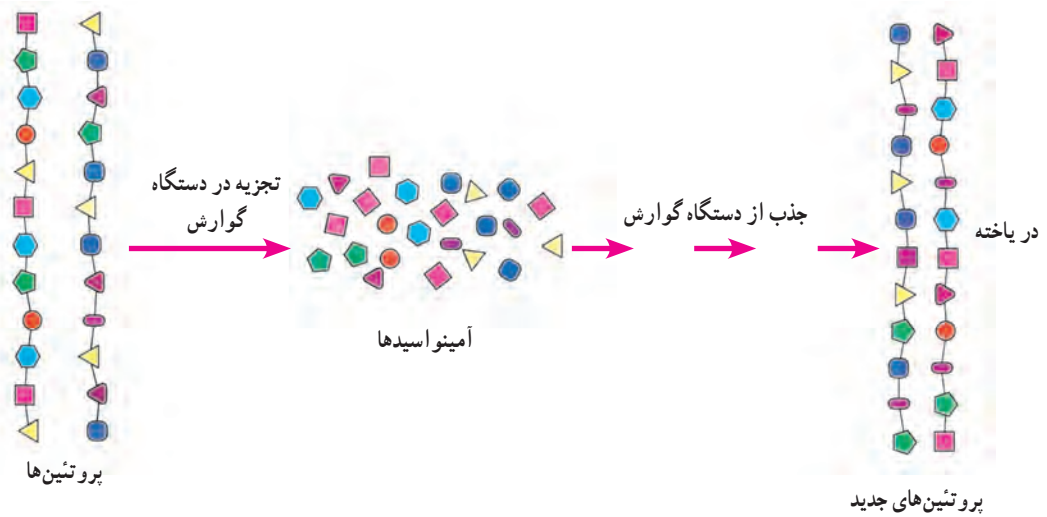
شتر با چربی‌ای که در کوهانش ذخیره شده است، می‌تواند چندین روز بدون آب و غذا در بیابان زنده بماند.





الف) با توجه به اطلاعاتی که دارید در شکل روبه‌رو، خوراکی‌هایی را که منبع پروتئین‌اند، مشخص کنید.
ب) نتیجه را بنویسید.

دانستید که غذاهای گیاهی نیز مانند غذاهای جانوری، منبع پروتئین‌اند؛ اما کدام یک منبع بهتری برای تأمین پروتئین‌های مورد نیاز بدن ما هستند؟ برای پاسخ به این پرسش ابتدا باید بدانیم که پروتئین‌ها از چه چیزهایی ساخته شده‌اند. همه پروتئین‌ها از مولکول‌هایی به نام آمینواسید ساخته شده‌اند (شکل ۵).



شکل ۵ - پروتئین‌ها در دستگاه گوارش به آمینواسیدها تجزیه می‌شوند.



آیا می‌دانید
پروتئین در پر پرندگان، تار عنکبوت
و مو نیز وجود دارد.

بدن ما پروتئین‌های مورد نیاز را فقط با چند نوع آمینواسید می‌سازد. همچنین بدن ما می‌تواند تعدادی از این آمینواسیدها را با استفاده از غذاهایی که می‌خوریم، بسازد؛ اما بعضی را نمی‌تواند بسازد. به این آمینواسیدها، آمینواسیدهای ضروری می‌گویند؛ زیرا باید آنها را به طور آماده و از طریق غذاهایی که می‌خوریم به دست آوریم. بیشتر پروتئین‌های گیاهی، بعضی آمینواسیدهای ضروری را ندارند.

فکر کنید

الف) اگر فردی هیچ نوع غذای جانوری مصرف نکند، چه مشکلی ممکن است برایش پیش آید؟
ب) چنین افرادی چه نکاتی را باید در برنامه غذایی خود رعایت کنند؟



آیا می دانید

شیر و تخم مرغ منبع غنی از آمینواسیدهای ضروری اند.

شاداب و سلامت

ویتامین ها چه نقشی در بدن دارند و آنها را در چه غذاهایی می توانیم پیدا کنیم؟ بدن ما به مقدار کمی ویتامین نیاز دارد؛ اما کمبود آنها رشد و عملکرد مناسب دستگاه های بدنمان را با مشکل روبه رو می کند. گاهی مواقع نیز به علت کمبود ویتامین، بیمار می شویم.

فعالیت

درباره ویتامین هایی که می شناسید، منبع و نقشی که در بدن دارند در گروه خود گفت و گو کنید و نتیجه آن را در جدولی بنویسید. هر گروه، جدول خود را با جدول گروه های دیگر مقایسه کند.

ویتامین ها را به دو گروه کلی محلول در آب و محلول در چربی تقسیم می کنند. ویتامین C و ویتامین های گروه B از ویتامین های محلول در آب اند. این ویتامین ها در بدن ما ذخیره نمی شوند و مقدار اضافی آنها از طریق ادرار دفع می شود. ویتامین C در سلامت پوست و لثه نقش مهمی دارد. ویتامین های گروه B در پیشگیری از کم خونی و ریزش مو نقش دارند.



(ب)



(الف)

شکل ۶ - بعضی خوراکی های منبع ویتامین C (الف) و B (ب)


آیا می دانید

اگر هنگام مسواک زدن از لثه های شما خون می آید؛ شاید به اندازه کافی ویتامین C به بدنتان نمی رسد.



آیا می دانید

بهترین زمان استفاده از نور خورشید، اول روز است که پرتوهای خورشید مایل اند. قرار گرفتن در برابر آفتاب شدید می تواند خطر سرطان پوست را افزایش دهد.



ویتامین های A و D از ویتامین های محلول در چربی اند. ویتامین A در سلامت چشم و بینایی ما به ویژه در نور کم نقش دارد. می توانید با خوردن هویج و گوجه فرنگی ویتامین A مورد نیاز بدنتان را تأمین کنید. این خوراکی ها ویتامین A ندارند؛ اما ماده ای دارند که در بدن به ویتامین A تبدیل می شود. اگر ویتامین D در بدن شما به اندازه کافی نباشد، استخوان های تان به اندازه کافی کلسیم جذب نمی کنند و نرم می مانند و حتی شاید تغییر شکل نیز بدهند. این وضع به ویژه در دوره رشد اهمیت زیادی دارد. گرچه بدن ما می تواند این ویتامین را با استفاده از آفتاب بسازد؛ اما امروزه کمبود ویتامین D از مشکلات رایج در سلامت مردم است.



(ب)



(الف)

شکل ۷- بعضی خوراکی های منبع ویتامین A (الف) و D (ب)



هیچ ویتامینی را بدون تجویز پزشک مصرف نکنید!

از خاک تا بدن ما

عناصر در بدن ما نقش مهمی دارند. کلسیم و آهن دو نمونه از این عناصرند. کلسیم از مواد اصلی استخوان های بدن ما و مهره داران دیگر است. آهن در ساختار یاخته های قرمز خون وجود دارد. کلسیم و آهن در ترکیب خاک نیز وجود دارند و مواد معدنی نامیده می شوند. این مواد چگونه از خاک به بدن ما و جانوران دیگر وارد می شوند؟



شکل ۸- غذاهای آهن دار. کمبود آهن از عوامل کم خونی است. اگر زیاد احساس خستگی می کنید و رنگ پریده اید، شاید آهن کافی به بدن شما نمی رسد.

با توجه به شکل زیر، سفر مواد معدنی را از خاک تا بدن‌تان در چند جمله بنویسید.



یُد و سدیم دو ماده معدنی دیگرند. یُد در غذاهای دریایی به فراوانی وجود دارد. این ماده معدنی در تنظیم فعالیت یاخته‌ها و رشد بدن نقش دارد. سدیم تقریباً در همه مواد غذایی، به خصوص میوه‌ها و سبزی‌ها وجود دارد. سدیم در نمک خوراکی نیز وجود دارد. مصرف زیاد سدیم (نمک) خطر ابتلا به فشارخون و یوکی استخوان را در بزرگسالی افزایش می‌دهد. بسیاری از مواد مغذی به صورت محلول در آب وارد بدن ما و یاخته‌های آن می‌شوند. بسیاری از مواد زائد نیز معمولاً به حالت محلول در آب از بدن دفع می‌شوند. همچنین آب در اطراف و درون یاخته‌ها وجود دارد؛ اما آب بدن ما چگونه تأمین می‌شود؟

آیا می‌دانید

نمک خوراکی از سدیم و کلر ساخته شده است. امروزه برای پیشگیری از کمبود ید، به نمک خوراکی ید اضافه می‌کنند. مصرف بیش از پنج گرم نمک در روز سلامت ما را به خطر می‌اندازد. اگر غذاهای پر نمک می‌خورید برای حفظ سلامت خود این عادت را ترک کنید.

الف) برای تعیین مقدار آبی که در میوه‌ها و سبزی‌ها وجود دارد، فعالیتی طراحی و اجرا کنید. آیا نتایج گروه‌ها یکسان است؟ اگر پاسخ «نه» است، دلایلی برای این تفاوت ارائه دهید.
ب) با ارائه دلیل، درستی یا نادرستی این جمله را بررسی کنید: «نیاز همه افراد به نوشیدن آب یکسان است».

تغذیه سالم

به نظر شما با چه معیارهایی می‌توان درباره سلامت تغذیه قضاوت کرد؟ اگر غذاهای گوناگونی می‌خورید که همه مواد مغذی را به مقدار کافی به بدن شما می‌رساند و انرژی



شکل ۹- معمولاً بین وعده‌های اصلی، خوراکی‌های متفاوتی می‌خوریم. این خوراکی‌ها میان وعده مناسبی‌اند.

مورد نیاز بدنتان را تأمین می‌کند، تغذیه سالمی دارید. افزون بر این تغذیه‌ای سالم است که غذاها به روش بهداشتی و سالم تهیه شده باشند. شاید غذاهای سرخ شده با روغن خوش مزه تر باشند؛ اما غذاهای آب‌پز و بخارپز سالم‌ترند. رفتارها و عادت‌های غذایی ما در سلامت تغذیه و در نتیجه سلامت بدن ما تأثیر زیادی دارند. خوردن خوراکی‌هایی مانند، پفک، شکلات و شیرینی بین وعده‌های غذا از عادت‌های نادرست است که برای سلامت ما زیان دارد در حالی که میوه‌ها، میان وعده سالمی هستند (شکل ۹). شما چه معیارهای دیگری برای تغذیه سالم می‌شناسید؟

اگر گرسنه باشید و بخواهید خوراکی بخرید، آیا به مواد مغذی و مقدار انرژی آن توجه می‌کنید؟ با توجه به نقشی که غذا در سلامت مردم دارد، شرکت‌های تولیدکننده مواد غذایی موظف‌اند نوع و مقدار مواد مغذی و مقدار انرژی خوراکی را روی بسته آن بنویسند. با خواندن این اطلاعات می‌توانیم به ارزش غذایی آن خوراکی و در نتیجه تأثیر آن بر سلامتمان پی‌ببریم. هرچه تنوع مواد مغذی خوراکی بیشتر باشد، ارزش غذایی آن خوراکی بیشتر است.

فعالیت

الف) با توجه به اطلاعاتی که نوشته شده است درباره ارزش غذایی هر یک از این نوشیدنی‌ها، گفت‌وگو کنید.

ترکیبات: مالت، عصاره رازک، قند میوه، اسکوربیک اسید، سیتریک اسید، طعم دهنده، آب گازدار	
اطلاعات تغذیه‌ای برای ۱۰۰ میلی‌لیتر	
کالری	۲۵ کیلوکالری
چربی	۰
کربوهیدرات	۶۲ گرم
پروتئین	۰۱ گرم

نوشانه گازدار با طعم پرتقالی محتویات آب، شکر، تاز، فرنیلک اسید سیتریک، صمغ آکاسیا، سوربات پتاسیم (اس. سوبیت)، ماتریم (۲۰۰ ppm)، سیترات سدیم، طعم‌دهنده ۱۸، فسفات استر سولف، سدیوم، اسید اسکوربیک.	
اطلاعات غذایی برای هر ۱۰۰ میلی‌لیتر	
انرژی	۵۱٫۹ کیلو کالری
پروتئین	۰٫۰ گرم
کربوهیدرات	۱۲٫۹ گرم
چربی	۰٫۰ گرم
ENERGY	۵۱٫۹ kcal
PROTEIN	۰٫۰ g
CARBOHYDRATE	۱۲٫۹ g
FAT	۰٫۰ g

نگار مخلوط سیب و موز	
حقایق تغذیه‌ای	
در ۱۰۰ میلی‌لیتر ۵٪	
انرژی	۴۵٫۸ kcal
ارزش روزانه %	۲۰٫۲۹
Daily value %*	۲۰٫۲۹
چربی	۰٫۰۶ g
Total fat	۰٫۰۶ g
کربوهیدرات	۱۲٫۳۴ g
Total carbohydrate	۱۲٫۳۴ g
پروتئین	۱٫۰۰ mg
Protein	۱٫۰۰ mg
ویتامین A	۰٫۱۹ µg
Vitamin A **	۰٫۱۹ µg
ویتامین C	۱۰٫۷ mg
Vitamin C **	۱۰٫۷ mg
ویتامین E	۱٫۸ µg
Vitamin E **	۱٫۸ µg

ب) کاری که غذا برای ما انجام می‌دهد، چیزی بیش از تأمین ماده و انرژی است. در بسیاری از مناسبت‌ها غذاهای خاصی پخته می‌شود. از طرفی پختن برخی خوراکی‌ها همراه با مراسم خاصی است؛ مانند پختن سمنو در پایان سال خورشیدی. گزارشی درباره چنین مناسبت‌ها یا مراسمی که در محل زندگی شما وجود دارد به صورت گروهی تهیه کنید و در کلاس ارائه دهید. گزارشی را می‌توانید به صورت تصویر، متن یا فیلم تهیه کنید.

سفر غذا



نان و پنیر و سبزی میان‌وعده سالمی است. برای اینکه مواد مغذی آن به یاخته‌های بدن ما برسند، ابتدا باید ریز و خرد شود. این کار را چه دستگاهی در بدن ما انجام می‌دهد؟ این دستگاه از چه قسمت‌هایی تشکیل شده است و چه ویژگی‌هایی دارد؟
در این فصل با اجزا و کار دستگاه گوارش آشنا می‌شوید.

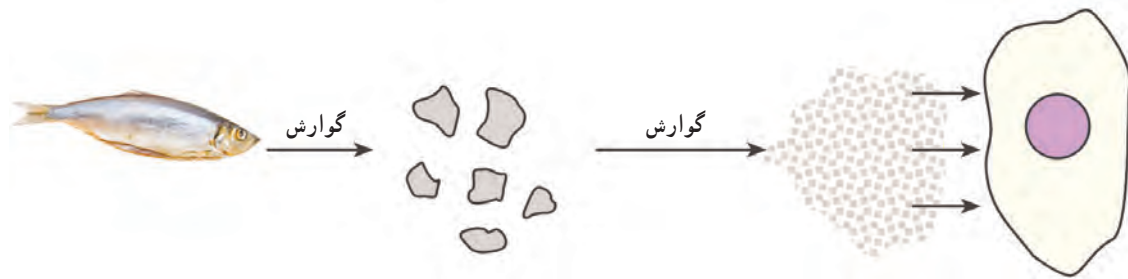
گوارش غذا

غذایی که می‌خورید، مواد مغذی را برای یاخته‌های بدن شما فراهم می‌کند؛ اما این مواد برای رسیدن به تک تک یاخته‌های شما سفری طولانی در پیش دارند. دستگاه گوارش، بخشی از مسیر این سفر است. غذا در این سفر چه تغییرهایی می‌کند و از چه جاهایی می‌گذرد؟

فکر کنید

فرض کنید از شما خواسته‌اند یک دستگاه برای گوارش غذا طراحی کنید. این دستگاه چه قسمت‌هایی باید داشته باشد؟

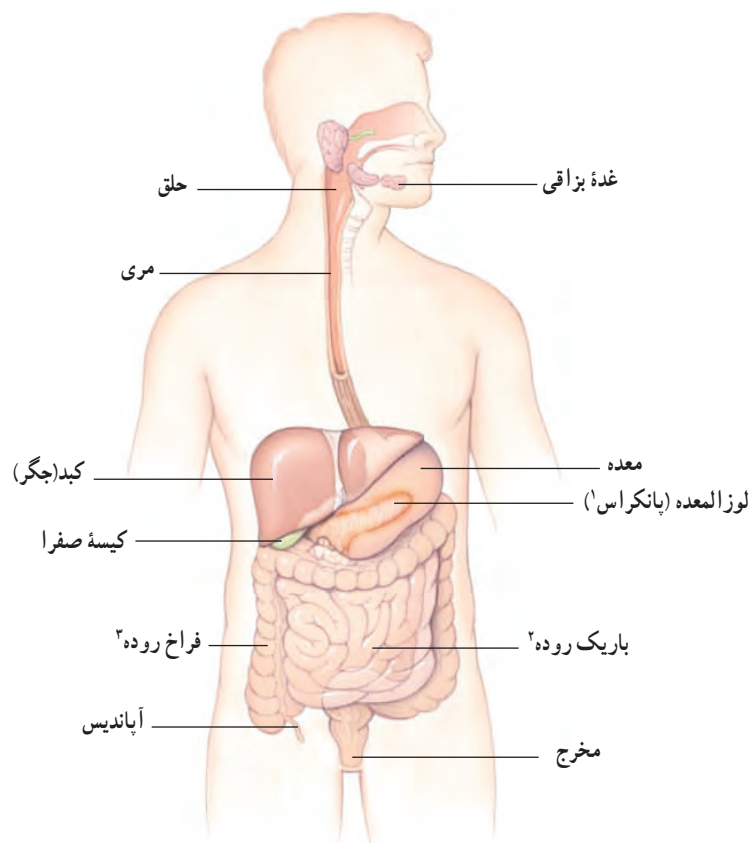
یکی از کارهای دستگاه گوارش ما این است که غذاها را به قدری ریز کند که مواد آن بتوانند وارد خون شوند؛ یعنی غذا را به مولکول‌های قابل جذب تبدیل کند. این فرایند را گوارش می‌نامند (شکل ۱). کوچک شدن مواد غذایی در بخش‌های متفاوت دستگاه گوارش انجام می‌شود.



شکل ۱- طرح ساده‌ای از فرایند گوارش

لوله‌ای پریپیچ و خم

بخشی از دستگاه گوارش ما، لوله‌ای پریپیچ و خم است که از دهان شروع، و به مخرج ختم می‌شود. این لوله را لوله گوارش می‌نامند. لوله گوارش از بخش‌های مختلف تشکیل شده است. هر یک از این بخش‌ها کار مشخصی انجام می‌دهند. بخش دیگر دستگاه گوارش، اندام‌هایی‌اند که در اطراف لوله گوارش هستند و با آن ارتباط دارند (شکل ۲).



شکل ۲- دستگاه گوارش انسان

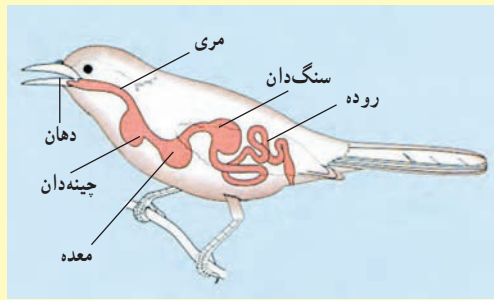


۱- Pancreas

۲- Small Intestine

۳- Large Intestine

فعالیت

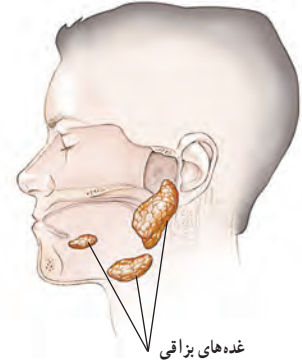


لوله گوارش در جانوران متفاوت از بخش‌های متفاوتی تشکیل شده است. شکل روبه‌رو لوله گوارش پرندۀ ای را نشان می‌دهد. با توجه به شکل، لوله گوارش این پرندۀ چه تفاوت‌هایی با لوله گوارش ما دارد؟

اکنون ببینیم در هر یک از قسمت‌های لوله گوارش چه اتفاقی برای لقمه نان و پنیر و سبزی‌ای که خورده‌اید، رخ می‌دهد؟

از دهان تا معده

وقتی غذا را می‌جوید در واقع، آن را با دندان‌هایتان ریز می‌کنید. حرکات زبان سبب می‌شود غذا با بزاق دهان ترکیب شود و به صورت توده‌های خمیری شکل درآید. بزاق دهان دارای آب و آنزیم است و از غده‌های بزاقی ترشح می‌شود (شکل ۳). آنزیم‌ها مولکول‌هایی‌اند که سرعت واکنش‌های شیمیایی را زیاد می‌کنند. بعضی آنزیم‌ها تجزیه مواد غذایی را سرعت می‌بخشند؛ مثلاً نوعی آنزیم بزاقی در تجزیه نشاسته به قند ساده نقش دارد.



شکل ۳- غده‌های بزاقی. ترشح بزاق دهان شما چه وقتی زیاد می‌شود؟

فعالیت

آزمایشی طراحی کنید که بتوان با آن، وجود آنزیم تجزیه‌کننده نشاسته را در بزاق نشان داد.

فکر کنید

شکل زیر سه نوع دندان پیش، نیش و آسیا را نشان می‌دهد.

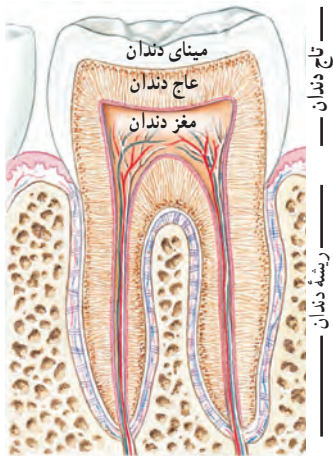
الف) چه ارتباطی بین شکل و کار هر دندان وجود دارد؟

ب) چه تعدادی از هر نوع دندان در دهانتان دارید؟



آیا می‌دانید

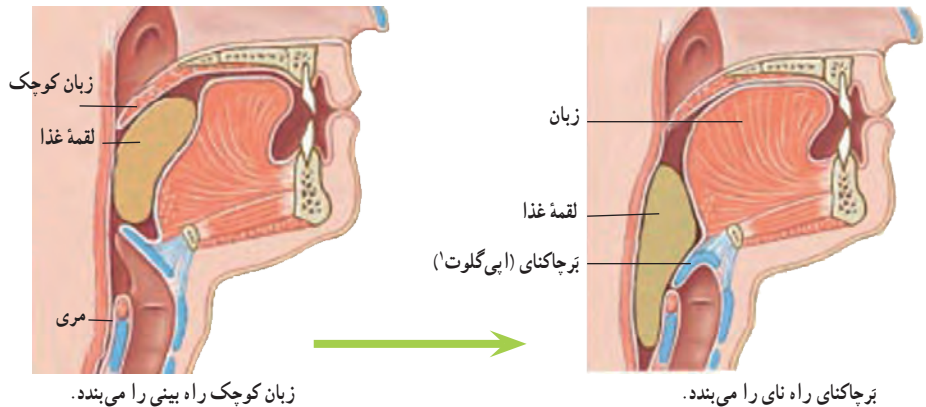
امروزه از آنزیم‌ها در صنعت استفاده می‌کنند. یک مثال، افزودن آنزیم به پودرهای لباس‌شویی است. با این کار قدرت تمیزکنندگی پودرهای لباس‌شویی افزایش می‌یابد.



چقدر به سلامت دندان‌هایتان اهمیت می‌دهید؟

وقتی شیرینی، ترشی می‌شود! شنیده‌اید که خوردن شیرینی و شکلات از عوامل پوسیدگی دندان‌هاست؛ اما چرا؟ مواد قندی غذای باکتری‌هایی است که در دهان وجود دارند. این باکتری‌ها اسید تولید می‌کنند. اسید، مینای دندان را از بین می‌برد و در نتیجه سبب پوسیدگی دندان می‌شود.

آنچه شما بعد از جویدن، می‌بلعید، هیچ شباهتی به لقمه غذایی که خورده‌اید، ندارد. مری مقصد بعدی این توده‌های خمیری شکل است، اما این توده قبل از اینکه وارد مری شود، سر چهارراهی به نام حلق قرار می‌گیرد (شکل ۴). هنگام بلع، فقط راه ورود به مری باز است و راه‌های دیگر بسته می‌شوند؛ بنابراین غذای خمیر شده وارد مری می‌شود.



زبان کوچک راه بینی را می‌بندد.

برچاکنای راه نای را می‌بندد.

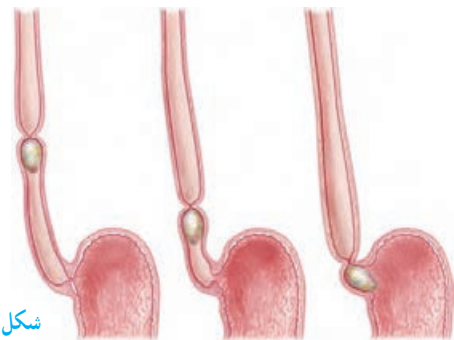
شکل ۴- حلق و دریچه‌ها



آیا برای شما پیش آمده است که غذا در گلویتان بپرد؟ در آن موقع چه حسی داشتید؟ با توجه به شکل ۴ بگویید چرا این اتفاق افتاده است؟

وقتی غذا وارد مری می‌شود، ماهیچه‌های دیواره مری منقبض و منبسط می‌شوند. در نتیجه غذا به پایین و به سمت معده رانده می‌شود (شکل ۵).

آیا می‌دانید لقمه‌های کوچک چه تأثیری بر سلامت شما دارند؟ اگر لقمه‌های کوچک از غذا برداریم، می‌توانیم آن را بیشتر بجویم. در این حالت غذا به خوبی با بزاق دهان آغشته و گوارش آن آسان‌تر می‌شود.



شکل ۵- حرکت لقمه غذا در مری

غذا برای مدتی در معده باقی می ماند تا به خوبی با شیرۀ گوارشی معده ترکیب شود. این شیرۀ را یاخته های پوششی معده ترشح می کنند. شیرۀ گوارشی معده، آنزیم و اسید دارد. این دو ماده به گوارش مواد غذایی کمک می کنند. وقتی ماهیچه های دیواره معده منقبض می شوند، غذا نرم تر و با شیرۀ گوارشی مخلوط می شود. غذای گوارش شده، معده را ترک می کند و وارد باریک روده می شود.

اطلاعات جمع آوری کنید

در شیرۀ گوارشی معده، اسید وجود دارد. این اسید معمولاً آسیبی به دیواره معده نمی رساند؛ اما گاهی باعث ایجاد زخم هایی در معده می شود. تحقیق کنید برای پیشگیری از زخم معده چه مواردی را باید رعایت کنید.



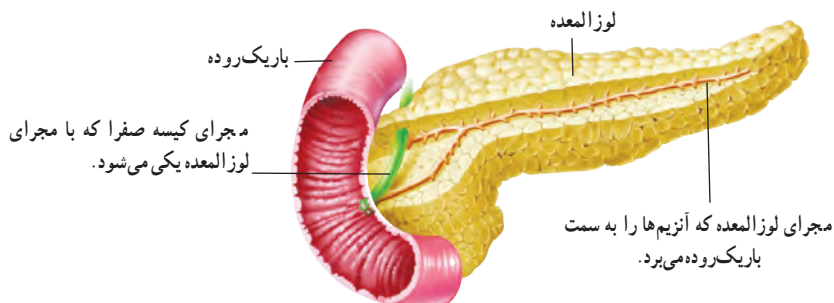
آیا می دانید

مدت توقف غذا در معده به غذایی بستگی دارد که خورده اید. غذاهای چرب، زمان بیشتری در معده می مانند.

گوارش نهایی غذا

باریک روده محل گوارش نهایی غذاست. این کار با کمک آنزیم های متفاوتی انجام می شود که در باریک روده وجود دارند. این آنزیم ها، بیشتر مواد مغذی را تجزیه و در نتیجه گوارش می کنند.

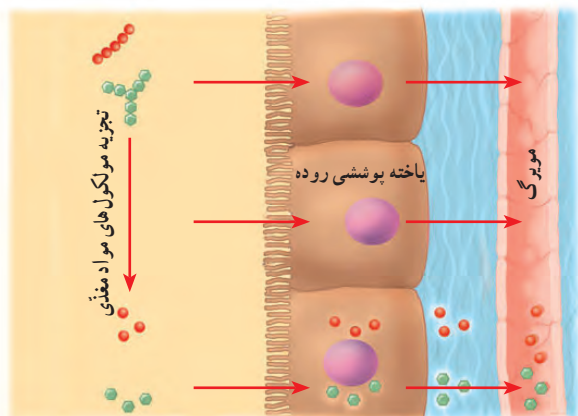
بیشتر آنزیم های باریک روده در لوزالمعده (پانکراس) ساخته می شوند. آنزیم های ساخته شده در لوزالمعده از طریق لوله ای وارد ابتدای باریک روده می شوند (شکل ۶).



شکل ۶- لوزالمعده به باریک روده وصل است.

مواد مغذی جذب می شوند

دانستیم که غذاها چگونه گوارش و به مولکول های قابل جذب تبدیل می شوند. مولکول های مواد مغذی در باریک روده آن قدر کوچک شده اند که می توانند از غشای یاخته های آن عبور کنند (شکل ۷). باریک روده تنها بخشی از لوله گوارش است که همه مواد مغذی از آن جذب و وارد خون می شوند.



شکل ۷- مواد مغذی از یاخته پوششی روده عبور می کنند و وارد مویرگ می شوند.

آیا می دانید

چرا بعضی ها با خوردن شیر، ناراحتی گوارشی پیدا می کنند؟ نوعی قند به نام لاکتوز در شیر وجود دارد. بعضی افراد نسبت به این قند حساسیت دارند. چنین افرادی می توانند شیر بدون لاکتوز مصرف کنند.

سطح داخلی باریک روده، چین خوردگی های فراوانی دارد. اگر همه این چین ها باز شوند، سطحی در حدود ۲۰ فرس 4×3 را می پوشانند. با توجه به کار باریک روده این چین خوردگی ها چه اهمیتی دارند؟

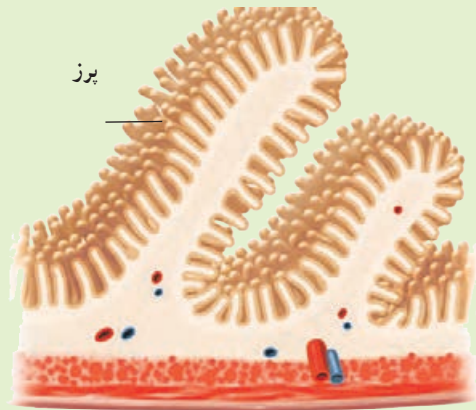


پرزهای روده انسان (۲۷۰ برابر)

ریزپرز



پرز



آنچه به جا می ماند

موادی که در باریک روده گوارش نشده اند از آن خارج و وارد فراخ روده (روده بزرگ) می شوند؛ مثلاً بخشی از سبزی که همراه نان و پنیر خورده اید در باریک روده گوارش نمی شود؛ فکر می کنید چرا؟

موادی که از باریک روده خارج می شوند، هنوز مقدار زیادی آب و مواد معدنی دارند. بخشی از آنها در فراخ روده جذب می شوند. اگر فراخ روده این کار را انجام ندهد، بدن ما با مشکل کم آبی و کمبود مواد معدنی روبه رو می شود.

در سراسر لوله گوارش ما انواعی باکتری زندگی می کنند. باکتری هایی که در فراخ روده ما وجود دارند از مواد گوارش نشده، مانند سلولز تغذیه می کنند. این باکتری ها ویتامین K و برخی ویتامین های گروه B را تولید می کنند. فراخ روده می تواند این ویتامین ها را جذب و وارد خون کند. کار دیگر فراخ روده، دفع مدفوع است. با انقباض ماهیچه های فراخ روده، مدفوع به سمت مخرج حرکت می کند و احساس دفع ایجاد می شود.

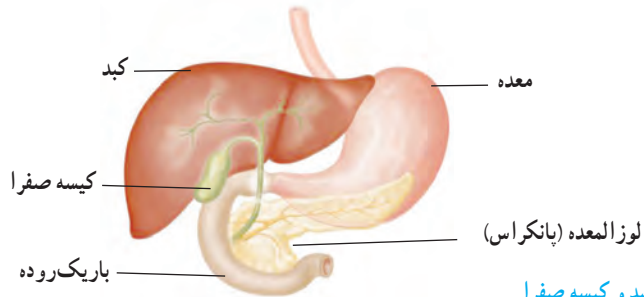


آیا می دانید

خوردن روزانه سبزی و میوه چه اهمیتی در سلامت دستگاه گوارش ما دارد؟ سلولز این خوراکی ها سبب افزایش حرکات فراخ روده و در نتیجه دفع آسان می شود.

کبد، مخزنی بزرگ

خونی که در رگ‌های اطراف باریک‌روده وجود دارد، سرشار از مواد مغذی است. این خون ابتدا وارد کبد می‌شود (شکل ۸). بسیاری از مواد مغذی در این اندام ذخیره و با توجه به نیاز یاخته‌های بدن به تدریج وارد خون می‌شوند. کبد همچنین با این مواد، مواد دیگری می‌سازد که بدن ما به آنها نیاز دارد. از کارهای دیگر کبد، ساختن صفراست. این ماده در کیسه صفرا ذخیره می‌شود. صفرا در گوارش چربی‌ها نقش دارد.



شکل ۸ - کبد و کیسه صفرا

قندهایی که چربی می‌شوند

کربوهیدرات‌ها انرژی مورد نیاز یاخته‌های بدن ما را فراهم می‌کنند؛ اما اگر مقدار زیادی کربوهیدرات بخوریم، کبد از آنها برای ساختن چربی استفاده می‌کند. بنابراین اگر در خوردن خوراکی‌های پر از کربوهیدرات زیاده‌روی کنیم با مشکل اضافه وزن روبه‌رو می‌شویم. پزشکان می‌گویند وزن مناسب در سلامت افراد مؤثر است؛ مثلاً خطر فشارخون زیاد و بیماری‌های قلبی در افرادی که اضافه وزن دارند، بیشتر است. از طرفی احتمال پوکی استخوان در افرادی که کمبود وزن دارند، بیشتر است. بنابراین اضافه وزن و کمبود وزن خصوصاً برای شما که در دوره رشد هستید، بسیار مهم است. آیا می‌دانید وزن شما حاصل چه عواملی است؟

گفت و گو کنید

الف) موارد زیر چه ارتباطی با وزن شما دارند؟
ماهیچه‌ها، استخوان‌ها، بافت چربی، قد، نوع و مقدار غذا، ورزش و فعالیت‌های بدنی
ب) توضیح دهید کدام یک از موارد گفته شده در اختیار شما قرار دارد.



آیا می‌دانید

حداقل نیم ساعت فعالیت ورزشی در روز به داشتن وزن مناسب و همچنین سلامت کار دستگاه گوارش کمک می‌کند.

آیا می‌دانید

سرب و آلاننده‌هایی که در هوای آلوده وجود دارند، باکتری‌های مفید روده را کم می‌کنند. به همین علت، توصیه می‌شود وقتی هوا آلوده است، شیر بیشتری بنوشیم.

فعالیت

دیابت بزرگسالی یا بیماری قند در افراد بالای ۴۰ سال دیده می‌شود. پزشکان این بیماری را نوعی بیماری ارثی می‌دانند؛ اما معتقدند که نوع تغذیه و فعالیت بدنی در بروز آن نقش دارد. تحقیق کنید که چه شیوه‌ای از زندگی در پیشگیری از این بیماری نقش دارد.

گردش مواد

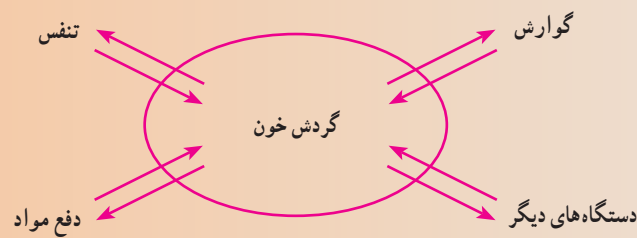


جانداران تک‌یاخته‌ای چون با محیط اطراف در تماس اند، مواد مورد نیاز خود را به‌طور مستقیم از محیط می‌گیرند و مواد زائد را نیز به همان محیط می‌فرستند. ولی جانداران پریاخته‌ای مثل بدن ما که همهٔ یاخته‌های آن با محیط ارتباط ندارند، لازم است دستگاهی به کمک آنها بیاید تا نیازهایشان تأمین شود. این دستگاه همان دستگاه گردش مواد است.

در این فصل با اجزای دستگاه گردش مواد و وظایف آن بیشتر آشنا می‌شوید.

رابطهٔ بین همهٔ دستگاه‌های بدن

در فصل قبل گفتیم که مواد مغذی پس از گوارش جذب می‌شوند؛ اما این مواد چگونه به تک تک یاخته‌های بدن می‌رسند؟ یاخته‌ها افزون بر مواد مغذی به اکسیژن نیز نیاز دارند و لازم است کربن دی‌اکسید تولید شده و مواد زائد را از خود دور کنند. این نیازها چگونه تأمین می‌شوند؟ برای رسیدن به این اهداف، دستگاه گردش مواد به کمک یاخته‌ها می‌آید (شکل ۱).



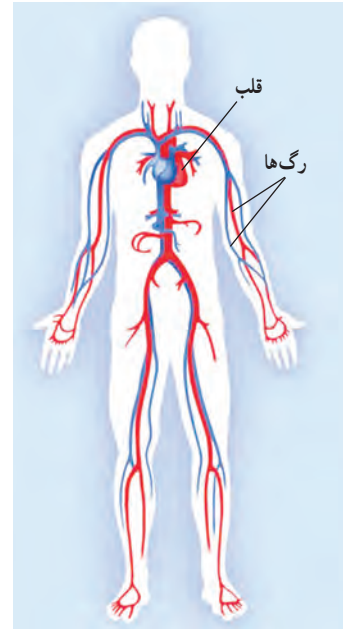
شکل ۱- ارتباط بین دستگاه‌های بدن

گفت و گو کنید

به نظر شما دستگاه گردش مواد باید چه بخش‌هایی با چه مشخصاتی داشته باشد؟

دستگاه گردش مواد برای اینکه بتواند با تمام یاخته‌های بدن ارتباط برقرار کند به مایعی نیاز دارد تا مواد را با خود جابه‌جا کند. این مایع در بیشتر جانوران، خون است. دستگاه گردش مواد در انسان شامل قلب، رگ‌ها و خون است.

خون در شبکه‌ای از لوله‌های مرتبط با هم جریان دارد. به این لوله‌ها، رگ‌های خونی می‌گویند. همچنین برای به گردش در آوردن این مایع درون رگ‌ها به نوعی پمپ نیاز است که همان قلب است (شکل ۲).



شکل ۲- دستگاه گردش خون

قلب

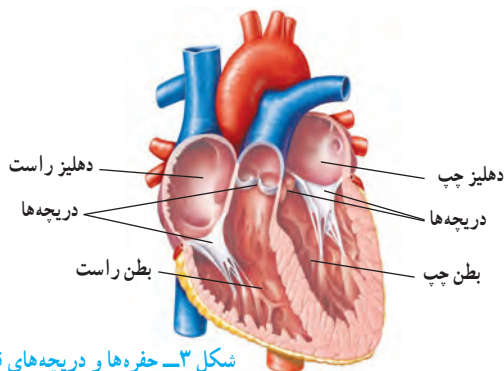
کدام تلمبه می‌تواند سالانه حدود ۲ میلیون لیتر مایع را جابه‌جا کند؛ در حالی که کمتر از ۳۰۰ گرم وزن دارد؟ قلب ما این کار را انجام می‌دهد. قلب با ضربان خود، خون را با فشار به درون رگ‌ها و اندام‌ها می‌فرستد و چون رگ‌ها به هم مرتبط‌اند، خون دوباره به قلب برمی‌گردد و این کار، بی‌وقفه تکرار می‌شود.

فعالیت



به صدای قلب گوش دهید: با استفاده از گوشی پزشکی صدای قلب خود و دوستانتان را بشنوید. در کجای سینه صدای قلب بهتر شنیده می‌شود؟ سعی کنید تعداد ضربان قلب خود را در یک دقیقه بشمارید.


قلب، تلمبه‌ای ماهیچه‌ای و توخالی است و چهار حفره دارد، دو حفره در بالا و دو حفره در پایین. حفره‌های بالایی و پایینی با کمک دریچه‌هایی با هم ارتباط دارند (شکل ۳).



شکل ۳- حفره‌ها و دریچه‌های قلب

آیا می‌دانید

برخی جانوران به جای خون در بدن خود آب را به گردش در می‌آورند؛ مثل اسفنج‌ها و کیسه‌تنان.



اطلاعات جمع آوری کنید

درون قلب، دریچه‌های دهلیزی - بطنی و سینی قرار دارند. به نظر شما وجود این دریچه‌ها چه اهمیتی دارد؟ با استفاده از منابع مختلف درباره این دریچه‌ها اطلاعاتی را جمع‌آوری و در کلاس گزارش کنید.

بافت‌های تشکیل دهنده قلب

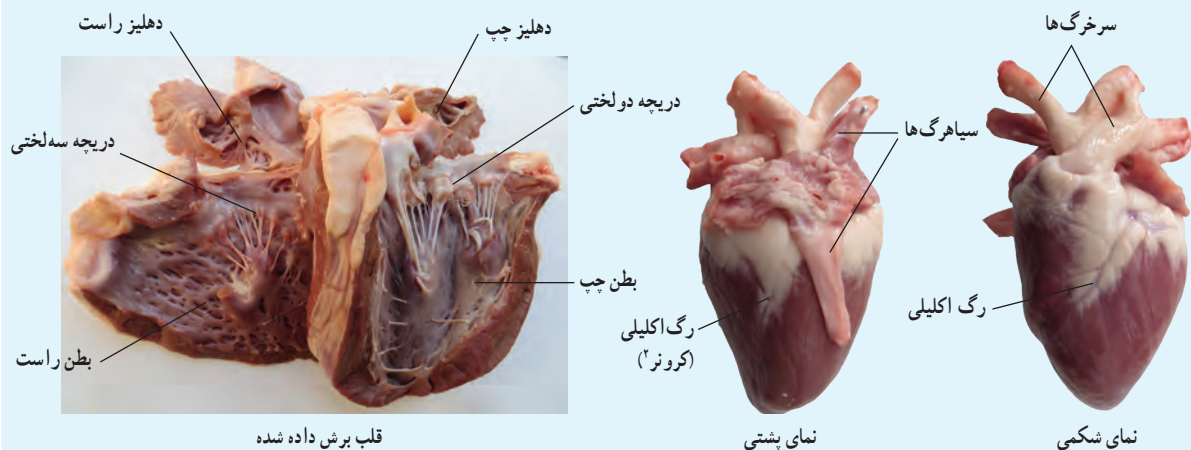
بخش عمده قلب از نوعی بافت ماهیچه‌ای تشکیل شده است که به آن ماهیچه قلبی می‌گویند. درون حفره‌های قلب را بافت پوششی می‌پوشاند که در تشکیل دریچه‌های قلبی نیز شرکت می‌کنند. وجود بافت پیوندی در اطراف قلب نیز به حفاظت از آن کمک می‌کند. وقتی بافت ماهیچه‌ای قلب منقبض می‌شود، نیرویی ایجاد می‌کند که به خون فشار می‌آورد و آن را به درون سرخرگ‌ها می‌راند.

آزمایش کنید

وسایل و مواد: قلب گوسفند، قیچی، گمانه (سوند)

روش آزمایش

- ۱- با کمک معلم خود ابتدا جلو و عقب قلب، سپس چپ و راست قلب را مشخص کنید.
- ۲- با توجه به ضخامت دیواره و میزان خاصیت ارتجاعی رگ‌ها، سرخرگ‌ها را از سیاهرگ‌ها تشخیص دهید.
- ۳- با راهنمایی معلم، برش‌هایی در قلب ایجاد کنید تا بتوانید حفره‌ها، دریچه‌ها و رگ‌های مختلف قلب را تشخیص دهید.
- ۴- سمت چپ و راست قلب را با هم مقایسه کنید. چه تفاوتی با هم دارند؟ چرا؟

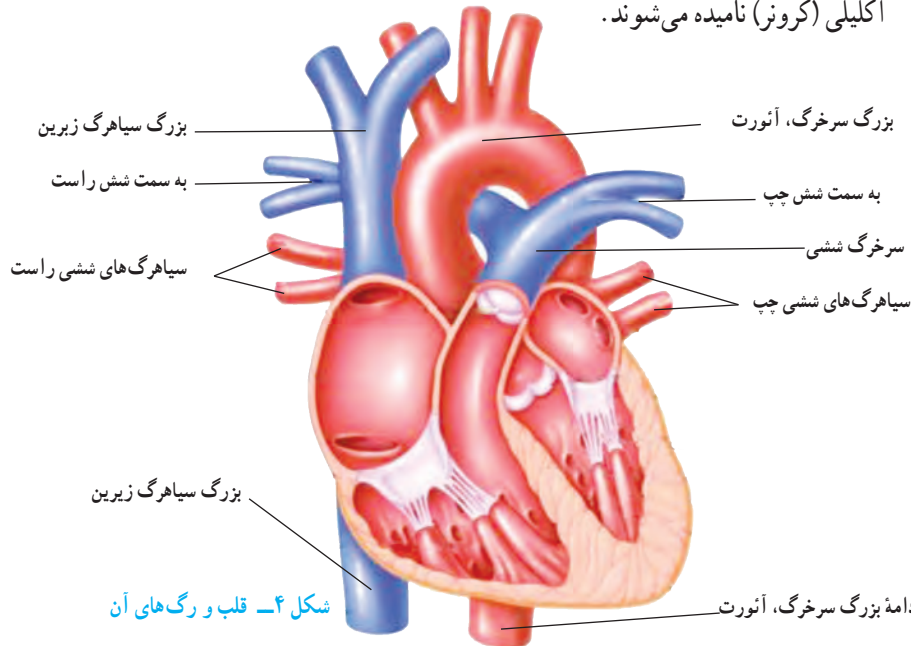


۱- Sonde

۲- Coronare

رگ‌های قلب

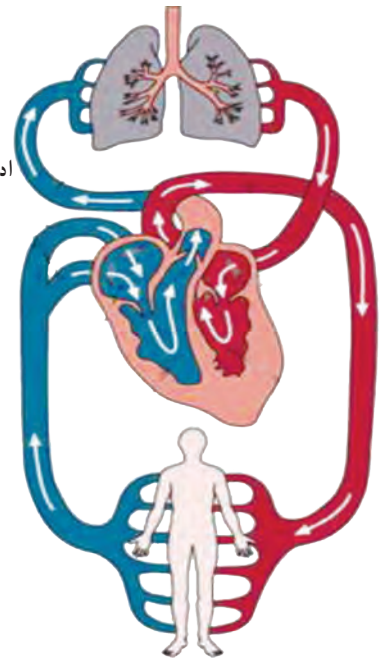
سرخرگ‌ها خون را از قلب خارج می‌کنند و سیاهرگ‌ها خون را به قلب برمی‌گردانند. مهم‌ترین رگ‌های قلب را در شکل ۴ می‌بینید. رگ‌هایی که به بافت قلب خون‌رسانی می‌کنند، اکلیلی (کرونز) نامیده می‌شوند.



شکل ۴- قلب و رگ‌های آن

تیره و روشن

هریک از بخش‌های چپ و راست قلب، فعالیت مستقلی دارند. با توجه به شکل ۵ می‌توانید تفاوت عمل این دو بخش را مشخص کنید. خونی که در سمت چپ قلب وجود دارد، اکسیژن بیشتری دارد و روشن است. این خون از طریق بزرگ سرخرگ، آنورت به تمام بدن فرستاده می‌شود تا نیاز یاخته‌های بدن را به مواد مغذی و اکسیژن تأمین کند (گردش عمومی خون). در سمت راست قلب، خون تیره (دارای کربن دی‌اکسید) جریان دارد. این خون را بزرگ سیاهرگ‌ها به دهلیز راست می‌آورند. این خون، که اکسیژن کمتری دارد، وارد بطن راست می‌شود و از طریق سرخرگ ششی به شش‌ها می‌رود تا از آنجا اکسیژن را جذب کند. خون اکسیژن‌دار و روشن از طریق سیاهرگ‌های ششی به دهلیز چپ، و سپس به بطن چپ می‌رود تا دوباره در بدن به گردش درآید (گردش ششی خون).



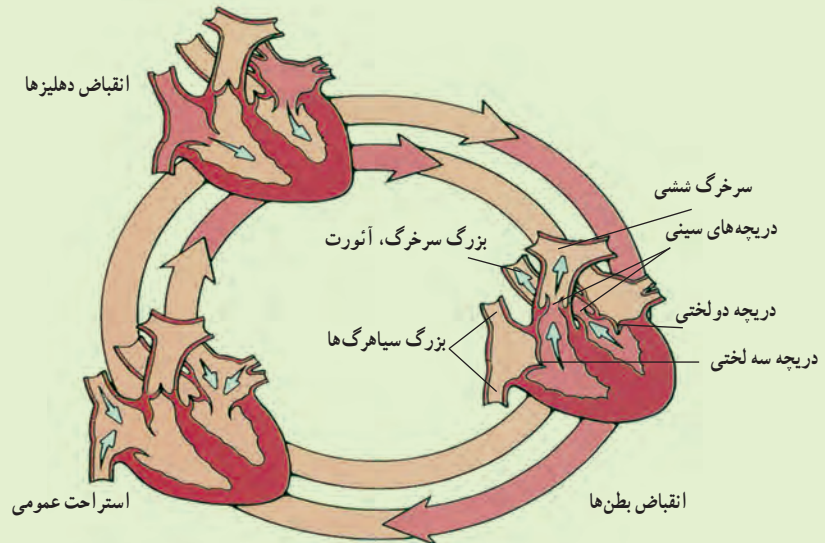
شکل ۵- گردش عمومی و ششی

فعالیت

الف) درباره‌ی درستی یا نادرستی عبارت زیر در گروه خود گفت‌وگو کنید.
همه‌ی سرخرگ‌ها خون روشن و همه‌ی سیاهرگ‌ها خون تیره دارند.

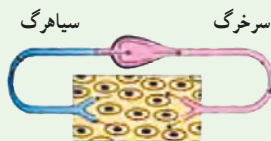
ب) مسیر حرکت خون در حفره‌ها، دریچه‌ها و رگ‌های اصلی قلب را با ذکر نام و با استفاده از پیکان، مشخص، و درباره‌ی درستی آن در گروه خود گفت‌وگو کنید. در گزارش خود خون تیره و روشن را با رنگ‌های مختلف نشان دهید.

در شکل زیر مراحل کار قلب را مشاهده می‌کنید. به مجموع این سه مرحله ضربان قلب می‌گویند. خون در هر مرحله چه مسیری را طی می‌کند؟



آیا می‌دانید

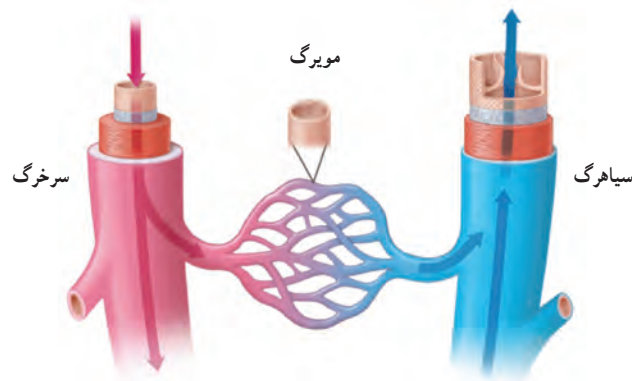
برخی جانوران مانند حشرات مویرگ ندارند. در این جانوران خون از سرخرگ خارج می‌شود و در اطراف یاخته‌ها قرار می‌گیرد. خون بعد از تبادل مواد با یاخته‌ها وارد سیاهرگ می‌شود. به این نوع گردش خون، گردش خون باز می‌گویند.



رگ‌های بدن

در دستگاه گردش مواد سه نوع رگ وجود دارد: سرخرگ، سیاهرگ و مویرگ. همان‌طور که در تشریح قلب دیدید، سرخرگ‌ها و سیاهرگ‌ها با هم متفاوت‌اند. سرخرگ‌ها دیواره ضخیم و قابل ارتجاع دارند ولی سیاهرگ‌ها دیواره نازک‌تری دارند و خاصیت ارتجاعی آنها نیز کمتر است (شکل ۶).

سرخرگ‌ها پس از ورود به هر اندام انشعاب زیادی پیدا می‌کنند و به مویرگ‌ها تبدیل می‌شوند. دیواره مویرگ‌ها فقط از یک لایه بافت پوششی ساخته شده است. این دیواره‌ها به قدری نازک و نفوذپذیرند که مواد می‌توانند از آن خارج یا به آن وارد شوند؛ سپس مویرگ‌ها با اتصال به همدیگر سیاهرگ را به وجود می‌آورند که خون را از اندام خارج می‌کنند.



شکل ۶ - مقایسه رگ‌های خونی

با توجه به شکل های قبل و تشریح قلب که انجام دادید در جدول زیر مشخص کنید کدام ویژگی به سرخرگ و کدام به سیاهرگ مربوط است.

ویژگی	سرخرگ	سیاهرگ
به بطن هام متصل اند.		
به دهلیزها متصل اند.		
خون را از قلب خارج می کنند.		
خون را به قلب برمی گردانند.		
خون را به سایر اندام می برند.		
خون را از اندامها خارج می کنند.		

نبض چگونه به وجود می آید؟

قلب در هر ضربان، یک بار خون را با فشار به درون سرخرگ ها می فرستد. خون متناسب با کار قلب بر دیواره سرخرگ ها فشار می آورد که در نتیجه آن قطر سرخرگ به طور متناوب کم و زیاد می شود. تنگ و گشاد شدن سرخرگ ها به صورت موجی در طول سرخرگ به حرکت در می آید. این وضعیت به صورت نبض در نقاطی از بدن احساس می شود که با استفاده از آن می توانیم تعداد نبض را اندازه گیری کنیم (شکل ۷).



شکل ۷- احساس نبض

- نبض خود را حداقل در سه نقطه بدن حس و شمارش کنید.
- پزشکان به جای استفاده از گوشی برای شمارش ضربان قلب از نبض استفاده می کنند؛ چرا؟
- نبض خود و دوستانتان را قبل و بعد از مدتی که دویدید، اندازه بگیرید. چرا نبض در وضعیت های مختلف متفاوت است؟

خون

در بدن ما حدود پنج لیتر خون جریان دارد. خون نوعی بافت پیوندی است که از یک بخش مایع به نام خوناب (پلازما) و یک بخش یاخته ای ساخته شده است. خوناب بخش مایع خون است و از آب، مواد محلول به ویژه قند، نمک و پروتئین تشکیل شده است. یاخته های خونی در خوناب شناورند (شکل ۸).

خون با انتقال مواد، ارتباط بین دستگاه های متفاوت بدن را برقرار می کند؛ همچنین در ایمنی و تنظیم دمای بدن نقش اساسی دارد.

آیا می دانید

فشارخون نیرویی است که از طرف خون بر دیواره رگ وارد می شود. معمولاً مقدار فشار خون را با واحد میلی متر جیوه و با دو عدد نشان می دهند؛ مثلاً فشار خون طبیعی $\frac{120}{80}$ میلی متر جیوه است.

آیا می دانید

چرا وقتی مدت طولانی ایستاده‌اید یا روی صندلی نشسته‌اید، پاهای شما ورم می‌کند؟ توجه کنید انقباض ماهیچه‌ها و حرکت دادن پا به جریان خون در سیاهرگ‌های آن کمک می‌کند و عدم تحرک، سبب تجمع خون در آنها می‌شود. برای جلوگیری از این حالت باید با حرکت دادن یا قدم زدن وضعیت خود را برای مدتی تغییر دهیم.



شکل ۸

یاخته‌های خونی

در جدول زیر انواع یاخته‌های خونی و کار آنها نشان داده شده است.

نوع یاخته	شکل	کار
یاخته‌های قرمز	سکه مانند با وسط فرو رفته	انتقال گازهای تنفسی (O_2 و CO_2) در خون
یاخته‌های سفید	تقریباً گروی شکل	دفاع از بدن در برابر عوامل بیگانه مثل میکروب‌ها
گرده (پلاکت)‌ها	بسیار ریزند و شکل بخصوصی ندارند.	دخالت در انعقاد خون هنگام خون‌ریزی جلوگیری از هدر رفتن خون

فعالیت

با استفاده از نمونه‌های آماده می‌توانید انواع یاخته‌های خونی را در زیر میکروسکوپ ببینید.

Hematology					
Test	Result	Unit	Reference Range	Differential	Morphology
W.B.C	3.53	$10^3/uL$	4 - 10.50	Neutrophil 55	
RBC	5.45	$10^6/uL$	4 - 6	Lymphocyte 38	
Hb	16.1	g/dL	13 - 18	Monocyte 5	
Plateletes	215	$10^3/uL$	130 - 400	Eosinophil 2	
				Total	100%
*ReCheck Confirm By:			Checked By:		

اطلاعات جمع‌آوری کنید

الف) در مورد تعداد انواع یاخته‌های خونی

تحقیق، و گزارش خود را به کلاس ارائه کنید.

ب) شکل روبه‌رو یک برگه آزمایش خون

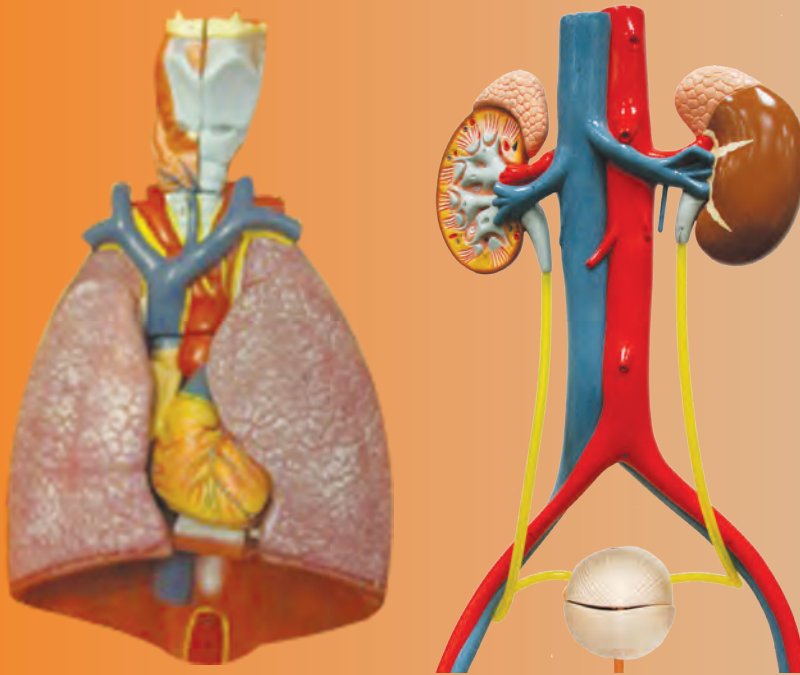
را نشان می‌دهد. در این برگه WBC یاخته‌های

سفید و RBC یاخته‌های قرمز خون را نشان

می‌دهد. موارد دیگر در این برگه چه چیزهایی

را نشان می‌دهند؟

تبادل با محیط



گرسنگی و تشنگی را می‌توان تا چند روز تحمل کرد؛ اما بدون هوا بیشتر از چند دقیقه زنده نمی‌مانیم.

یاخته‌های بدن ما برای فعالیت خود به اکسیژن نیاز دارند. یاخته‌ها مواد دفعی نیز تولید می‌کنند.

دستگاه تنفس، اکسیژن را برای یاخته‌ها تأمین، و کربن دی‌اکسید را دفع می‌کند. همچنین مواد دفعی دیگری وجود دارند که دستگاه دفع، آنها را به خارج از بدن می‌فرستد.

در این فصل با دستگاه تنفس و دفع مواد زائد بیشتر آشنا می‌شوید.

ساختار دستگاه تنفس

شکل ۱ ساختار دستگاه تنفس را نشان می‌دهد. با توجه به شکل،

هوا برای رسیدن به شش‌ها چه مسیری را طی می‌کند؟

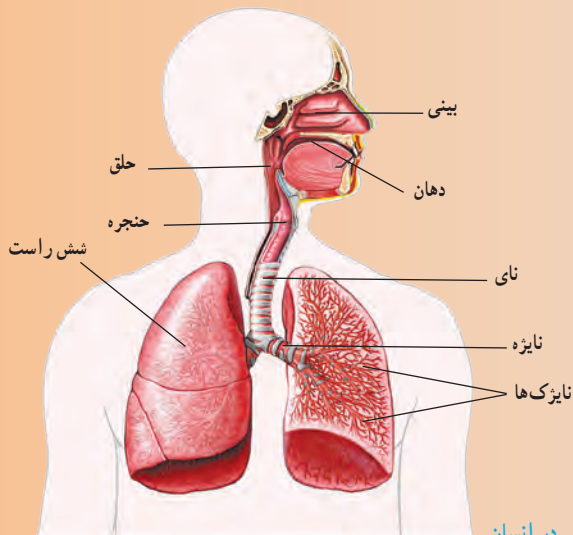
همان‌طور که می‌دانید، هوا ابتدا از طریق بینی یا دهان وارد دستگاه

تنفس می‌شود و پس از عبور از حلق وارد حنجره و سپس وارد نای

می‌شود. نای دو شاخه دارد که به آنها نایژه می‌گویند. نایژه‌ها هوا را به

نایژک‌ها که به تعداد زیاد در شش‌ها پراکنده‌اند، می‌رسانند. در انتهای

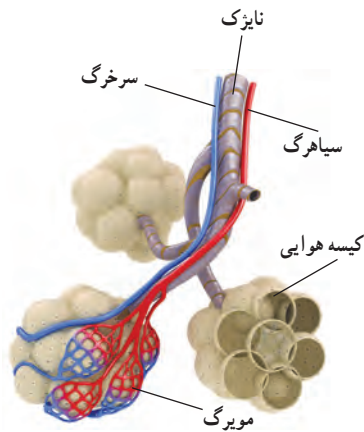
نایژک‌ها کیسه‌های هوایی قرار دارند.



شکل ۱ - دستگاه تنفس در انسان

گفت و گو کنید

الف) به نظر شما هوا هنگام عبور از مجاری تنفسی چه تغییری می‌کند؟
ب) شما می‌توانید از طریق بینی و دهان نفس بکشید. برخی عادت دارند، بیشتر از طریق دهان نفس بکشند. به نظر شما این کار چه ضرری برای بدن دارد؟



شکل ۲- کیسه‌های هوایی. اکسیژن از کیسه‌های هوایی وارد خون و کربن دی‌اکسید از خون وارد کیسه‌های هوایی می‌شود.

تبادل هوا

انتهای نایزک‌ها در شش‌ها به کیسه‌های هوایی ختم می‌شود. هر شش دارای میلیون‌ها کیسه‌های هوایی است. در اطراف کیسه‌های هوایی، مویرگ‌های خونی فراوانی وجود دارند. بین این مویرگ‌ها و کیسه‌های هوایی تبادل گازهای تنفسی انجام می‌شود (شکل ۲).

فعالیت

وسایل و مواد: شش سالم گوسفند، قیچی، دستمال کاغذی

- پس از تمیز کردن شش، نای، نایزه‌ها و بخش چپ و راست آن را تشخیص دهید.
- درون نای آن قدر بدمید تا شش‌ها پر از هوا شوند. به تغییر حجم آنها توجه کنید.
- با قیچی، برش‌هایی را در نای و نایزه‌ها ایجاد کنید تا به نایزک‌ها برسید.
- در دیواره نای، نایزه‌ها و نایزک‌ها قطعات غضروفی به شکل‌های مختلف وجود دارد. وجود آنها چه اهمیتی دارد؟
- در ساختار شش‌ها افزون بر نایزک‌ها، تعداد زیادی رگ‌های خونی نیز دیده می‌شود. وظیفه این رگ‌ها چیست؟

آیا می‌دانید

پرده جنب، پرده‌ای دو لایه است که شش‌ها را به دیواره داخلی قفسه سینه وصل می‌کند. مایع جنب بین دو لایه پرده جنب را پر کرده است.

دم و بازدم

شش‌ها درون قفسه سینه جای دارند. قفسه سینه ضمن محافظت از شش‌ها در باز و جمع شدن آنها نیز نقش دارد. در پایین قفسه سینه، پرده دیافراگم قرار دارد که با تغییر شکل خود باعث دم و بازدم می‌شود. ورود هوا از محیط بیرون به درون شش‌ها را دم و خروج آن از شش‌ها را بازدم گویند.

فعالیت

دستگاهی شبیه شکل صفحه بعد آماده کنید.

- ۱- هر یک از شماره‌ها در شکل نشان دهنده کدام قسمت در دستگاه تنفس است؟
- ۲- وقتی پرده شماره ۴ به پایین کشیده می‌شود، چه اتفاقی می‌افتد؟



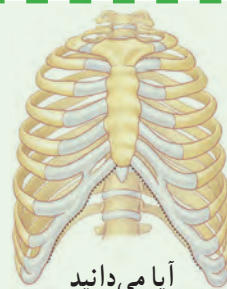
۳- وقتی پرده رها می شود، چه رخ می دهد؟
۴- هر کدام از این حرکات، مشابه کدام حرکت تنفسی است؟



در هوای سالم و بدون آلودگی حدود ۲۱٪ اکسیژن وجود دارد که هنگام دم وارد شش های ما می شود. امروزه در شهرهای بزرگ یا صنعتی با وجود آلودگی های مختلف درصد اکسیژن هوا کاهش یافته است.



درباره راه های کاهش آلودگی شهرهای بزرگ و صنعتی، چه پیشنهادهایی دارید؟
در گروه خود در مورد آنها گفت و گو، و نتیجه را به کلاس گزارش کنید.



آیا می دانید

قفسه سینه از ۲۴ دنده تشکیل شده است که از پشت به ۱۲ مهره و از جلو به استخوان جناغ سینه متصل اند. کف قفسه سینه پرده دیافراگم قرار دارد.

اطلاعات جمع آوری کنید

به صورت گروهی در مورد یکی از پرسش های زیر اطلاعاتی را جمع آوری، و گزارش آن را در کلاس ارائه کنید.

- دود سیگار بر سلامت فرد سیگاری و اطرافیانش چه اثری دارد؟
- در دود سیگار چه ترکیب های سمی ای وجود دارد؟
- در افراد سیگاری چه بیماری هایی شایع تر است؟

تولید صدا

حنجره بعد از حلق و در ابتدای نای قرار دارد. درون آن دو پرده ماهیچه ای وجود دارد که به آن تارهای صوتی می گویند. عبور هوا از میان این قسمت باعث ارتعاش و تولید صدا می شود (شکل ۳).

به نظر شما هنگام صحبت کردن، دم انجام می دهیم یا بازدم؟



شکل ۳- حنجره

انتقال گازها

پس از مبادلهٔ اکسیژن و کربن دی اکسید در کیسه‌های هوایی، کربن دی اکسید از طریق شش خارج و اکسیژن وارد خون می‌شود. خون با کمک گویچه‌های قرمز و خوناب (پلاسما) گازهای تنفسی را انتقال می‌دهد.

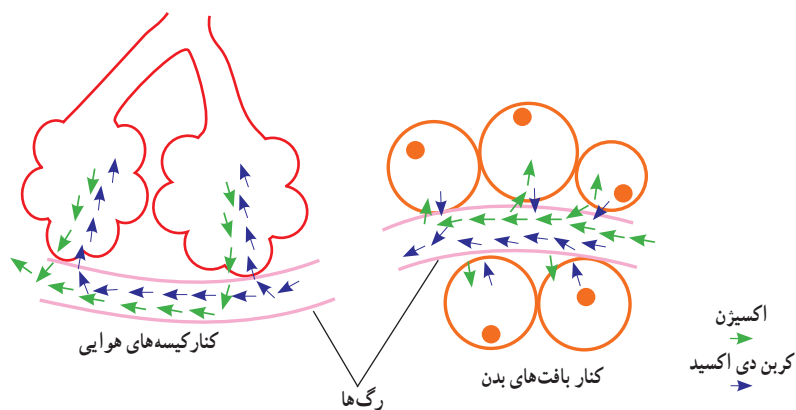
اکسیژن به اطراف یاخته‌ها می‌رسد و وارد آنها می‌شود تا در فرایند آزاد کردن انرژی موادی مثل قندها و چربی‌ها شرکت کند. در این فرایند همچنین گاز کربن دی اکسید آزاد می‌شود. کربن دی اکسید تولید شده در یاخته‌ها وارد خون می‌شود تا از طریق بازدم از بدن خارج شود.

آیا می‌دانید

در بعضی از جانوران مثل پرنده‌گان به حنجره، جعبهٔ صدا نیز می‌گویند.

گفت و گو کنید

با توجه به شکل زیر، خون، هریک از گازهای تنفسی را از کجا به کجا منتقل می‌کند؟
در مورد پاسخ خود با گروه گفت و گو کنید.



آیا می‌دانید

دود سیگار سبب تخریب و سیاه شدن شش‌ها می‌شود.



شش سالم

شش ناسالم

آزمایش کنید

نشان دادن وجود کربن دی اکسید در هوای بازدم

وسایل و مواد: آهک، کاغذ صافی، بشر، قیف، نی نوشابه خوری

روش آزمایش

۱- مقداری آهک را در آب حل، و با کاغذ صافی آن را صاف کنید.

۲- با یک نی درون این مایع شفاف بدمید.

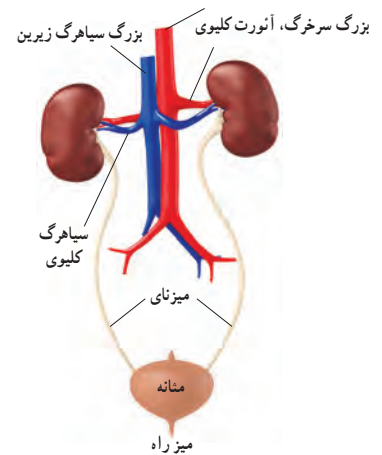
۳- چه تغییری در محلول صورت می‌گیرد؟

از منابع مختلف، اطلاعاتی را در مورد این موضوع جمع‌آوری کنید و علت این تغییر را توضیح دهید.

دستگاه دفع ادرار

دانستیم که دستگاه تنفس، کربن دی اکسید را دفع می کند. افزون بر آن مواد دیگری مثل اوره که سمی اند در بدن تولید می شوند و باید دفع شوند. این مواد با فعالیت کلیه ها از خون گرفته می شوند و به همراه نمک های اضافی و مازاد آب بدن به صورت ادرار از بدن خارج می شوند. دستگاه دفع، از کلیه ها و بخش های دیگری تشکیل شده است (شکل ۴).

کلیه ها به صورت دو اندام لوبیایی شکل در طرفین ستون مهره ها و در بالای ناحیه کمر قرار دارند. به هر کلیه یک سرخرگ وارد می شود. این سرخرگ انشعابی از بزرگ سرخرگ، آئورت است که خون را برای تصفیه شدن به این اندام می آورد. خون تصفیه شده، توسط یک سیاهرگ از کلیه خارج می شود و به بزرگ سیاهرگ زیرین می ریزد.

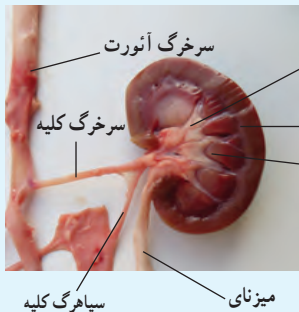


شکل ۴- دستگاه دفع ادرار

آزمایش کنید

وسایل و مواد: کلیه سالم گوسفند، تیغ جراحی (اسکالپل)، گمانه (سوند)

روش آزمایش

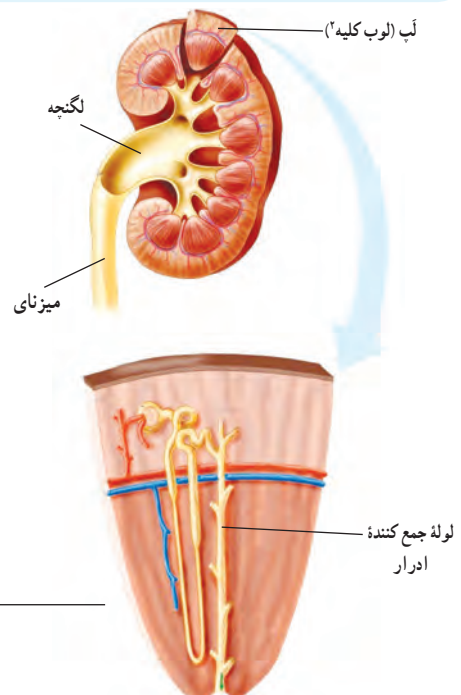


- ابتدا بخش های خارجی کلیه و پوشش آن را بررسی کنید.
- پوشش نازک کلیه را جدا کنید و از طول، آن را برش دهید.
- بخش های قشری، مرکزی، لگنچه و میزنای را مشخص کنید.
- بخش های قشری و مرکزی را با هم مقایسه کنید.
- لگنچه چه مشخصاتی دارد؟ سوراخ وسط آن به کجا وصل می شود؟

چگونگی کار کلیه

کلیه چگونه خون را تصفیه می کند؟ در ساختار میکروسکوپی کلیه میلیون ها لوله پیچ در پیچ وجود دارد که به آنها لوله ادراری یا گردیزه (نفرون^۱) گویند. کار اصلی کلیه ها را این لوله ها انجام می دهند؛ یعنی خون را تصفیه و مواد دفعی آن را جدا می کنند (شکل ۵).

گردیزه ها، مواد زائد مثل اوره و نمک های اضافی خون را به همراه مقداری آب از مویرگ ها می گیرند و ادرار را می سازند. ادرار تشکیل شده در گردیزه ها از طریق لوله های جمع کننده ادرار به لگنچه می ریزد و از آنجا از طریق میزنای به مثانه وارد و در آنجا ذخیره می شود. وقتی حجم ادرار در مثانه از حدی بیشتر می شود، احساس دفع ادرار ایجاد می شود.



شکل ۵- ساختار داخلی کلیه

۱- Nephron

۲- Kidney Lobe

اطلاعات جمع‌آوری کنید

به جز کلیه و شش از پوست نیز به عنوان اندام دفعی نام می‌برند. در این مورد اطلاعاتی را جمع‌آوری، و گزارش آن را در کلاس ارائه کنید.

تنظیم محیط داخلی

یاخته‌های بدن در میان مایعی بین یاخته‌ای قرار دارند که به مجموع آن، محیط داخلی می‌گویند. نوع و مقدار مواد این محیط باید ثابت بماند تا یاخته‌ها بتوانند کارهای خود را به درستی انجام دهند. کلیه‌ها با دفع مواد زائد، آب و نمک‌های اضافی در این تنظیم نقش اساسی دارند.

یکی از مهم‌ترین کارهای کلیه، تنظیم میزان آب بدن است. کلیه‌ها با کم و زیاد کردن دفع آب به صورت ادرار این تنظیم را انجام می‌دهند.

فکر کنید

آیا می‌دانید وجود علامت استاندارد هر کشور، روی محصولات نشان‌دهنده رعایت استانداردهای لازم است.



الف) بدن ما به چه صورت‌هایی آب را دفع می‌کند؟
ب) تأمین آب مورد نیاز بدن به چه صورت‌هایی انجام می‌شود؟
پ) آیا همیشه میزان آب مصرفی شما یکسان است؟
بروز بعضی از بیماری‌ها مثل سنگ کلیه و سنگ مثانه بسیار دردناک و خطرناک است و ممکن است باعث از کار افتادن کلیه یا حتی مرگ شود. استفاده از آب‌های آشامیدنی دارای مواد معدنی مناسب و استاندارد در جلوگیری از این بیماری‌ها مؤثر است.

گفت‌وگو کنید

گفته می‌شود نگهداشتن ادرار به مدت زیاد در مثانه ممکن است باعث سنگ مثانه شود. در این باره در گروه خود گفت‌وگو، و نتایج را به کلاس ارائه کنید.

- Shipman, An Introduction to Physical Science, 13th Edition, 2013.
- Tillery, Physical Science 9th Edition, 2012.
- Hewitt, Conceptual Physical Science 5th Edition, 2012.
- Ostdiek, Inquiry into Physics 6th Edition, 2008.
- Judith, Goodenough, Betty McGuire, Biology of Humans, 4th Edition, Concepts, Applications and Issues, Pearson Education, 2012.
- Mary Jones, Cambridge Biology, 1st Edition, Cambridge University Press, 2008.
- Scott Eddleman, CPO Science, Life science, 2007.
- Scott Eddleman, CPO Science, Earth science, 2007.
- Ann Fullick, Niva Miles, AQA Science Biology, Nelson Thornes, 2011.
- Lutgens, Essential of Geology, 11th Edition, 2012.
- Silberberg, General Chemistry, 2007.
- Thornes, Science, GCSE, Chemistry, 2010.
- Callister, An Introduction to Chemistry, 2007.
- Stacy, living by Chemistry, 2010.
- Tro, Chemistry in focus, 2009.

- بریان آرنولد، درک فیزیک با رویکرد تصویری، انتشارات مدرسه، چاپ سوم ۱۳۹۲.
- مارک الس - کریس هانیول، مجموعه ۴ جلدی فیزیک، انتشارات مدرسه، ۱۳۹۰.
- محمد مهدوی، هیدرولوژی کاربردی، انتشارات دانشگاه تهران، ۱۳۷۱.
- حسین معاریان و همکار، زمین شناسی فیزیکی، انتشارات پیام نور، ۱۳۶۹.

عکس‌های جلد از سازمان حفاظت محیط‌زیست؛ عکاس: علی مهاجران

