

بِسْمِ اللَّهِ الرَّحْمَنِ الرَّحِيمِ

اَللّٰهُمَّ صَلِّ عَلٰى مُحَمَّدٍ وَّ اٰلِ مُحَمَّدٍ وَّ عَجِّلْ فَرَجَهُمْ



کتاب همراه هنرجو

رشته مکانیک موتورهای دریایی
گروه تعمیر و نگهداری ماشین آلات
شاخه فنی و حرفه‌ای
پایه‌های دهم، یازدهم و دوازدهم
دوره دوم متوسطه



وزارت آموزش و پرورش سازمان پژوهش و برنامه‌ریزی آموزشی



کتاب همراه هنرجو (رشته مکانیک موتورهای دریایی) - ۲۱۰۵۰۳

سازمان پژوهش و برنامه‌ریزی آموزشی

دفتر تألیف کتاب‌های درسی فنی و حرفه‌ای و کاردانش

کریم اکبری وکیل آبادی، ارسلان اقدامی، عبدالرضا باباخانی، علیرضا پورالشریعه، فرشاد

حائری، مصطفی ربیعی، ابراهیم زندی‌فر، مصطفی زنگنه، جلیل محمولی، علی اصغر

هادی‌زاده اصفهانی، محمدرضا نخعی امرودی (بخش تخصصی)، احمدرضا دوراندیش،

مهدی اسماعیلی، ابراهیم آزاد، حسن آقابابایی، محمد کفاشان و افشار بهمنی (بخش

مشترک) (اعضای شورای برنامه‌ریزی و تألیف)

اداره کل نظارت بر نشر و توزیع مواد آموزشی

جواد صفری (مدیر هنری) - مهلا مرتضوی (صفحه‌آرا)

تهران-خیابان ایرانشهر شمالی-ساختمان شماره ۴ آموزش و پرورش (شهید موسوی)

تلفن: ۹-۸۸۸۳۱۱۶۱، دورنگار: ۸۸۳۰۹۲۶۶، کد پستی: ۱۵۸۴۷۴۷۳۵۹

وب‌گاه: www.irtextbook.ir و www.chap.sch.ir

شرکت چاپ و نشر کتاب‌های درسی ایران: تهران-کیلومتر ۱۷ جاده مخصوص

کرج-خیابان ۶۱ (داروپخش) تلفن: ۵-۴۴۹۸۵۱۶۱، دورنگار: ۴۴۹۸۵۱۶۰

صندوق پستی: ۱۳۹-۳۷۵۱۵

شرکت چاپ و نشر کتاب‌های درسی ایران «سهامی خاص»

چاپ سوم ۱۳۹۹

نام کتاب:

پدیدآورنده:

مدیریت برنامه‌ریزی درسی و تألیف:

شناسه افزوده برنامه‌ریزی و تألیف:

مدیریت آماده‌سازی هنری:

شناسه افزوده آماده‌سازی:

نشانی سازمان:

ناشر:

چاپخانه:

سال انتشار و نوبت چاپ:

کلیه حقوق مادی و معنوی این کتاب متعلق به سازمان پژوهش و برنامه‌ریزی آموزشی وزارت آموزش و پرورش است و هرگونه استفاده از کتاب و اجزای آن به صورت چاپی و الکترونیکی و ارائه در پایگاه‌های مجازی، نمایش، اقتباس، تلخیص، تبدیل، ترجمه، عکس برداری، نقاشی، تهیه فیلم و تکثیر به هر شکل و نوع بدون کسب مجوز از این سازمان، ممنوع است و متخلفان تحت پیگرد قانونی قرار می‌گیرند.



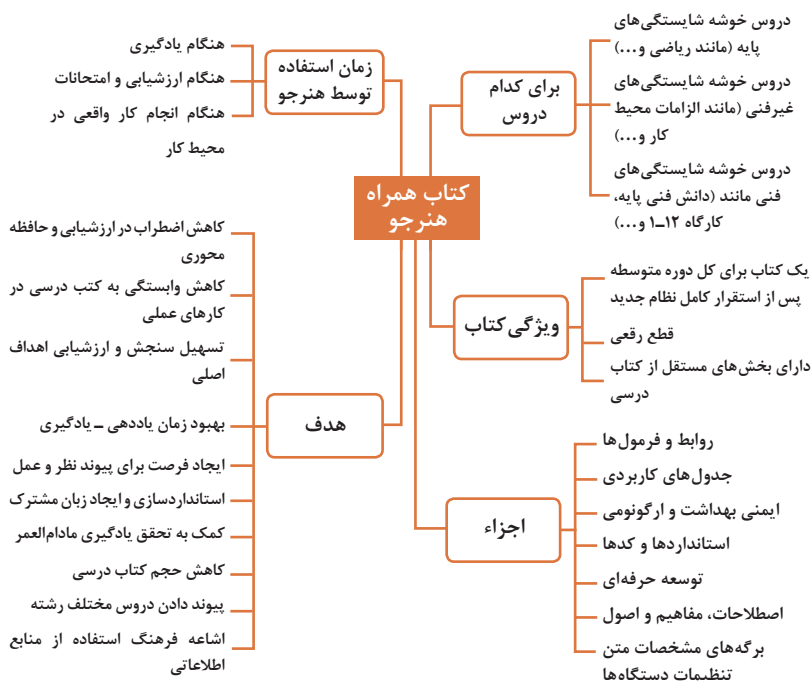
شما عزیزان کوشش کنید که از این وابستگی بیرون آید و احتیاجات
کشور خودتان را برآورده سازید، از نیروی انسانی ایمانی خودتان غافل
نباشید و از اتکای به اجانب بپرهیزید.

امام خمینی (قُدّس سِرّه)

فصل اول:	شایستگی های پایه فنی	۱.....
فصل دوم:	دانش فنی، اصول، قواعد، قوانین و مقررات	۳۱.....
فصل سوم:	یادگیری مادام العمر حرفه ای و فناوری اطلاعات	۵۷.....
فصل چهارم:	ایمنی، بهداشت و ارگونومی	۱۴۹.....
فصل پنجم:	شایستگی های غیر فنی	۱۶۷.....

سخنی با هنرجویان عزیز


هنرجوی گرامی کتاب همراه از اجزای بسته آموزشی می باشد که در نظام جدید آموزشی طراحی، تألیف و در جهت تقویت اعتماد به نفس و ایجاد انگیزه و کاهش حافظه محوری در نظر گرفته شده است. این کتاب شامل بخش های: ۱- شایستگی های پایه ۲- یادگیری مادام العمر حرفه ای و فناوری اطلاعات، ۳- دانش فنی، اصول، قواعد، قوانین و مقررات ۴- فناوری ها، استانداردها و تجهیزات ۵- ایمنی، بهداشت و ارگونومی ۶- شایستگی های غیر فنی است. تصویر زیر اطلاعات مناسبی در خصوص این کتاب به شما ارائه می دهد:



استفاده از محتوای کتاب همراه هنرجو در هنگام امتحان و ارزشیابی از تمامی دروس شایستگی ضروری است.

سازماندهی محتوای کتاب حاضر به صورت یکپارچه برای سه سال هنرستان تدوین شده است. بنابراین تا پایان دوره متوسطه و در تداوم آن استفاده در محیط کار واقعی، در حفظ و نگهداری آن کوشا باشید.

دفتر تألیف کتاب های درسی فنی و حرفه ای و کار دانش



فصل ۱

شایستگی‌های پایه فنی

اتحادها

$$(x+y)^r = x^r + {}^r x y + y^r$$

$$(x-y)^r = x^r - {}^r x y + y^r$$

$$(x+a)(x+b) = x^r + (a+b)x + ab$$

$$(x+y)^r = x^r + {}^r x y + {}^r x y^r + y^r$$

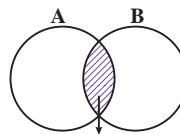
$$(x-y)^r = x^r - {}^r x y + {}^r x y^r - y^r$$

$$x^r - y^r = (x-y)(x+y)$$

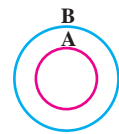
$$x^r - y^r = (x-y)(x^r + xy + y^r)$$

$$x^r + y^r = (x+y)(x^r - xy + y^r)$$

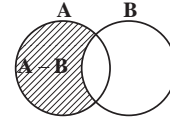
مجموعه ها



$A \cap B$
اشترک دو مجموعه



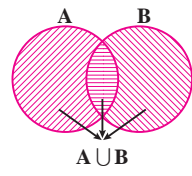
$A \subseteq B, B \not\subseteq A$
زیر مجموعه



$A - B$



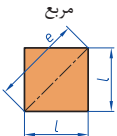
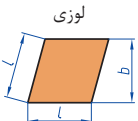
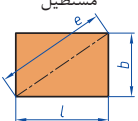

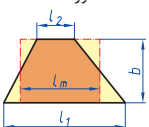

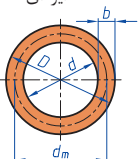
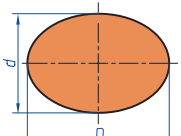
$B - A$
تفاضل دو مجموعه

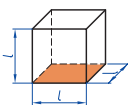
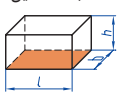
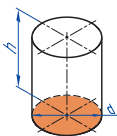
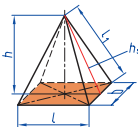
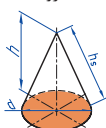



$A \cup B$
اجتماع دو مجموعه

نمایش مجموعه به صورت بازه

نمایش مجموعه	نمایش روی محور	نمایش بازه
$\{x \in \mathbb{R} \mid a \leq x \leq b\}$		$[a, b]$
$\{x \in \mathbb{R} \mid a < x \leq b\}$		$(a, b]$
$\{x \in \mathbb{R} \mid a \leq x < b\}$		$[a, b)$
$\{x \in \mathbb{R} \mid a < x < b\}$		(a, b)
$\{x \in \mathbb{R} \mid a < x\}$		$(a, +\infty)$
$\{x \in \mathbb{R} \mid x \leq b\}$		$(-\infty, b]$

 <p>مربع</p>	<p>L طول ضلع e قطر A مساحت</p>	$A=L^2$ $e=\sqrt{2} \cdot L$
 <p>لوزی</p>	<p>b ارتفاع L طول ضلع A مساحت</p>	$A=L.b$
 <p>مستطیل</p>	<p>e قطر b عرض L طول A مساحت</p>	$e=\sqrt{L^2+b^2}$ $A=L.b$
 <p>متوازی الاضلاع</p>	<p>l طول b عرض A مساحت</p>	$A=L.b$
 <p>دورنقه</p>	<p>A مساحت L₁ طول قاعده بزرگ L₂ طول قاعده کوچک L_m طول متوسط b عرض</p>	$L_m = \frac{L_1 + L_2}{2}$ $A = l_m.b$ $A = \frac{L_1 + L_2}{2} . b$
 <p>مثلث</p>	<p>A مساحت L طول قاعده b ارتفاع</p>	$A = \frac{L \cdot b}{2}$
 <p>حلقه دایره‌ای</p>	<p>A مساحت D قطر خارجی d قطر داخلی d_m قطر متوسط b عرض</p>	$d_m = \frac{D+d}{2}$ $A=\pi.d_m.b$ $A = \frac{\pi}{4} (D^2 - d^2)$
 <p>بیضی</p>	<p>A مساحت D قطر بزرگ d قطر کوچک U محیط</p>	$U = \frac{\pi}{2} . (D+d)$ $A = \frac{\pi.D.d}{4}$

<p>مكعب</p> 	<p>A_0 مساحت</p> <p>L طول ضلع</p> <p>V حجم</p>	<p>$A_0 = 6L^2$</p> <p>$V = L^3$</p>
<p>مكعب مستطیل</p> 	<p>b عرض</p> <p>h ارتفاع</p> <p>A_0 مساحت</p> <p>L طول قاعده</p> <p>V حجم</p>	<p>$V = L \cdot b \cdot h$</p> <p>$A_0 = 2 \cdot (L \cdot b + L \cdot h + b \cdot h)$</p>
<p>استوانه</p> 	<p>A_m مساحت جانبی</p> <p>h ارتفاع</p> <p>V حجم</p> <p>A_0 مساحت</p>	<p>$A_m = \pi \cdot d \cdot h$</p> <p>$V = \frac{\pi d^2}{4} \cdot h$</p> <p>$A_0 = \pi \cdot d \cdot h + \frac{\pi d^2}{4}$</p>
<p>هرم منتظم</p> 	<p>h ارتفاع</p> <p>h_s ارتفاع وجه</p> <p>b عرض قاعده</p> <p>L_1 طول یال</p> <p>L طول قاعده</p> <p>V حجم</p>	<p>$V = \frac{L \cdot b \cdot h}{3}$</p> <p>$L_1 = \sqrt{h_s^2 + \frac{b^2}{4}}$</p> <p>$h_s = \sqrt{h^2 + \frac{L^2}{4}}$</p>
<p>مخروط</p> 	<p>V حجم</p> <p>d قطر</p> <p>h ارتفاع</p> <p>h_s طول یال</p> <p>A_M مساحت جانبی</p>	<p>$h_s = \sqrt{\frac{d^2}{4} + h^2}$</p> <p>$A_M = \frac{\pi \cdot d \cdot h_s}{2}$</p> <p>$V = \frac{\pi d^2}{4} \cdot \frac{h}{3}$</p>
<p>كره</p> 	<p>A_0 مساحت</p> <p>V حجم</p> <p>d قطر كره</p>	<p>$A_0 = \pi \cdot d^2$</p> <p>$V = \frac{\pi d^3}{6}$</p>

نسبت و تناسب

۱ در حالت کلی، دو نسبت a به b و c به d مساوی‌اند، هرگاه برای یک عدد مانند k داشته باشیم:

$$\frac{a}{b} = \frac{c}{d} = k \quad \text{یا} \quad a=kb \quad \text{و} \quad c=kd$$

۲ اگر a و b مقادیر متناظر دو کمیت باشند که با هم رابطه معکوس دارند، مقدار $k = a \times b$ ثابت است و اگر c و d دو مقدار متناظر دیگر از همین کمیت باشند، داریم:

$$a = \frac{k}{b} \quad \text{و} \quad c = \frac{k}{d} \quad \text{یا} \quad k = a \times b = c \times d$$

۳ خواص عملیات

در عبارت‌های زیر، فرض بر آن است که مخرج‌ها مخالف صفر هستند.

$\frac{a}{b} = \frac{ca}{cb} \quad (c \neq 0)$	$c \times \frac{a}{b} = \frac{ca}{b}$	$\frac{a}{b} = a \times \frac{1}{b}$
$\frac{a+b}{c} = \frac{a}{c} + \frac{b}{c}$	$-\frac{a}{b} = \frac{-a}{b} = \frac{a}{-b}$	
$\frac{\frac{a}{b}}{\frac{c}{d}} = \frac{ad}{bc}$	$\frac{a}{b} \times \frac{c}{d} = \frac{ac}{bd}$	

تساوی $\frac{a}{b} = \frac{c}{d}$ معادل است با $a \times d = b \times c$

درصد و کاربردهای آن

۱ معادله درصد: رابطه بین مقدار اولیه، درصدی از مقدار اولیه و مقدار نهایی را نشان می‌دهد.

$$b = x \times a$$

\nwarrow مقدار نهایی \nearrow مقدار اولیه
 \downarrow
 درصد به صورت عدد اعشاری / کسری

۲ درصد تغییر: برای هر کمیتی مقدار

$$100 \times \text{نسبت تغییر} = 100 \times \frac{\text{میزان تفاوت در مقدار}}{\text{مقدار اولیه}} \times 100 = \frac{\text{مقدار اولیه} - \text{مقدار نهایی}}{\text{مقدار اولیه}} \times 100$$

را درصد تغییر آن کمیت می‌نامند.

درصد تغییر می‌تواند منفی هم باشد که به معنای کاهش است.

معادله درجه دوم

$$ax^2 + bx + c = 0$$

$$\Delta = b^2 - 4ac \begin{cases} \Delta > 0 \Rightarrow x_1, x_2 = \frac{-b \pm \sqrt{\Delta}}{2a} \\ \Delta = 0 \Rightarrow x_1, x_2 = \frac{-b}{2a} \\ \Delta < 0 \Rightarrow \text{معادله ریشه ندارد} \end{cases}$$

نامعادله درجه دوم

نامساوی‌هایی به صورت $ax^2 + bx + c \leq 0$ یا $ax^2 + bx + c \geq 0$ که در آن a, b, c اعداد داده حقیقی هستند ($a \neq 0$) را نامعادله درجه دوم می‌نامند. مقدارهایی از x که نامعادله را به یک نامساوی درست تبدیل می‌کنند، جواب‌های نامعادله می‌نامند.

توان و ریشه یابی

$$a^m \times a^n = a^{m+n}$$

$$\frac{a^m}{a^n} = a^{m-n} \quad \frac{a^m}{a^n} = \frac{1}{a^{n-m}} \quad (a \neq 0)$$

$$(a^m)^n = a^{mn}$$

$$(ab)^n = a^n b^n, \quad \left(\frac{a}{b}\right)^n = \frac{a^n}{b^n} \quad (b \neq 0)$$

$$a^0 = 1 \quad (a \neq 0)$$

$$a^{-n} = \frac{1}{a^n} \quad (a \neq 0)$$

$$a^{1/n} = \sqrt[n]{a}$$

$$a^{m/n} = \sqrt[n]{a^m} = (\sqrt[n]{a})^m$$

$$\sqrt[n]{a^n} = (\sqrt[n]{a})^n = a$$

$$\sqrt[n]{a} \sqrt[n]{b} = \sqrt[n]{ab}$$

$$\sqrt[m]{\sqrt[n]{a}} = \sqrt[mn]{a}$$

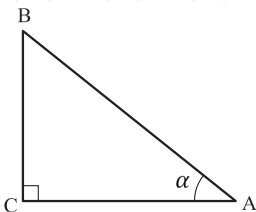
$$\frac{\sqrt[n]{a}}{\sqrt[n]{b}} = \sqrt[n]{\frac{a}{b}} \quad (b \neq 0)$$

مثلثات

۱ یکی از حالات تشابه دو مثلث، تساوی زاویه‌های آن دو مثلث می‌باشد.

۲ رابطه فیثاغورس: در مثلث قائم‌الزاویه ABC داریم:

$$(AB)^2 = (AC)^2 + (BC)^2$$



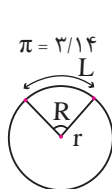
۳ نسبت‌های مثلثاتی یک زاویه تند:

در مثلث قائم‌الزاویه ABC زاویه تند α را در نظر بگیرید. بنا به تعریف داریم:

$$\tan \alpha = \frac{\text{طول ضلع روبه‌روی زاویه } \alpha}{\text{طول ضلع مجاور زاویه } \alpha} = \frac{BC}{AC}$$

$$\sin \alpha = \frac{\text{طول ضلع روبه‌روی زاویه } \alpha}{\text{وتر}} = \frac{BC}{AB}$$

$$\cos \alpha = \frac{\text{طول ضلع مجاور زاویه } \alpha}{\text{وتر}} = \frac{AC}{AB}$$



$$R = \frac{L}{r} \quad (\text{رادیان})$$

$$\frac{L}{r} = \frac{\pi}{180^\circ} D \quad (\text{درجه})$$

$$D = \frac{180^\circ}{\pi} R \quad (\text{درجه})$$

۴ روابط بین نسبت‌های مثلثاتی:

$$\tan \alpha = \frac{\sin \alpha}{\cos \alpha} \quad (\text{ب})$$

$$\sin^2 \alpha + \cos^2 \alpha = 1 \quad (\text{الف})$$

$\sin(\pi - \theta) = \sin \theta$	$\cos(\pi - \theta) = -\cos \theta$	$\tan(\pi - \theta) = -\tan \theta$
$\sin(\pi + \theta) = -\sin \theta$	$\cos(\pi + \theta) = -\cos \theta$	$\tan(\pi + \theta) = \tan \theta$
$\sin(-\theta) = -\sin \theta$	$\cos(-\theta) = \cos \theta$	$\tan(-\theta) = -\tan \theta$
$\sin(2\pi + \theta) = \sin \theta$	$\cos(2\pi + \theta) = \cos \theta$	$\tan(2\pi + \theta) = \tan \theta$
$\sin(2\pi - \theta) = -\sin \theta$	$\cos(2\pi - \theta) = \cos \theta$	$\tan(2\pi - \theta) = -\tan \theta$

Angle A in degrees	Angle A in radians	$\sin A$	$\cos A$	$\tan A$	$\cot A$
0°	0	0	1	0	∞
15°	$\frac{\pi}{12}$	$\frac{1}{4}(\sqrt{6} - \sqrt{2})$	$\frac{1}{4}(\sqrt{6} + \sqrt{2})$	$2 - \sqrt{3}$	$2 + \sqrt{3}$
30°	$\frac{\pi}{6}$	$\frac{1}{2}$	$\frac{1}{2}\sqrt{3}$	$\frac{1}{3}\sqrt{3}$	$\sqrt{3}$
45°	$\frac{\pi}{4}$	$\frac{1}{2}\sqrt{2}$	$\frac{1}{2}\sqrt{2}$	1	1
60°	$\frac{\pi}{3}$	$\frac{1}{2}\sqrt{3}$	$\frac{1}{2}$	$\sqrt{3}$	$\frac{1}{3}\sqrt{3}$
75°	$\frac{5\pi}{12}$	$\frac{1}{4}(\sqrt{6} + \sqrt{2})$	$\frac{1}{4}(\sqrt{6} - \sqrt{2})$	$2 + \sqrt{3}$	$2 - \sqrt{3}$
90°	$\frac{\pi}{2}$	1	0	$\mp \infty$	0

Angle A in degrees	Angle A in radians	sin A	cos A	tan A	cot A
۱۰۵°	$\frac{7\pi}{12}$	$\frac{1}{4}(\sqrt{6} + \sqrt{2})$	$-\frac{1}{4}(\sqrt{6} - \sqrt{2})$	$-(2 + \sqrt{3})$	$-(2 - \sqrt{3})$
۱۲۰°	$\frac{2\pi}{3}$	$\frac{1}{2}\sqrt{3}$	$-\frac{1}{2}$	$-\sqrt{3}$	$-\frac{1}{3}\sqrt{3}$
۱۳۵°	$\frac{3\pi}{4}$	$\frac{1}{2}\sqrt{2}$	$-\frac{1}{2}\sqrt{2}$	-1	-1
۱۵۰°	$\frac{5\pi}{6}$	$\frac{1}{2}$	$-\frac{1}{2}\sqrt{3}$	$-\frac{1}{3}\sqrt{3}$	$-\sqrt{3}$
۱۶۵°	$\frac{11\pi}{12}$	$\frac{1}{4}(\sqrt{6} - \sqrt{2})$	$-\frac{1}{4}(\sqrt{6} + \sqrt{2})$	$-(2 - \sqrt{3})$	$-(2 + \sqrt{3})$
۱۸۰°	π	0	-1	0	$\mp \infty$

✓ لگاریتم و خواص آن:

اگر a یک عدد حقیقی مثبت مخالف ۱ باشد و اعداد حقیقی b و c به گونه‌ای باشند که: $b = a^c$ آنگاه c را لگاریتم b در مبنای a می‌نامند و با $\log_a b$ نشان می‌دهند. به عبارت دیگر داریم:

$$\log_a b = c$$

■ فقط اعداد مثبت لگاریتم دارند، یعنی عبارت $\log_a b$ فقط برای $b > 0$ تعریف می‌شود.

■ برای $b, c > 0$ داریم:

$$\log(bc) = \log b + \log c$$

■ در حالت کلی: برای هر $a, b > 0$ داریم:

$$\log(a+b) \neq \log a + \log b$$

■ برای $b, c > 0$ داریم:

$$\log \frac{b}{c} = \log b - \log c$$

■ در حالت کلی: برای هر $a, b > 0$ داریم:

$$\log(a-b) \neq \log a - \log b$$

■ برای $b > 0$ و هر عدد حقیقی x داریم:

$$\log b^x = x \log b$$

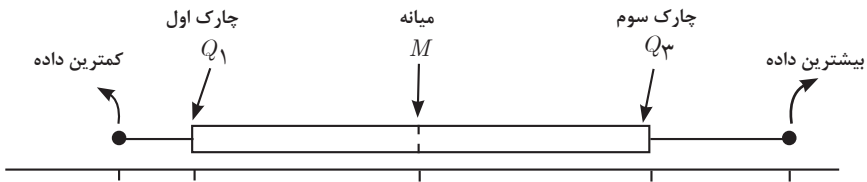
■ برای $a, b > 0$ و $a \neq 1$ داریم:

$$\log_a b = \frac{\log b}{\log a}$$

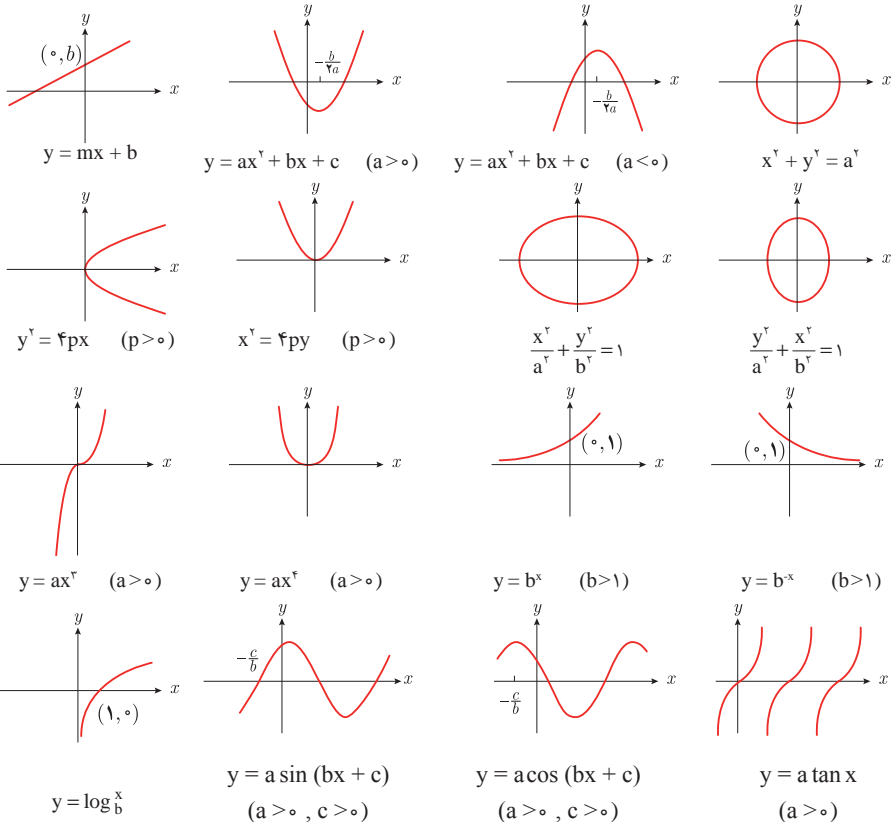
✓ آمار توصیفی:

- نمودار پراکنش دو کمیت، مجموعه‌ای از نقاط در صفحه مختصات است که طول و عرض هر نقطه، داده‌های مربوط به اندازه‌گیری‌های متناظر دو کمیت است.
- x و y دو کمیت مرتبط هستند. اگر مقادیر این دو کمیت برای برخی از x ها در یک بازه، مشخص باشد، پیش‌بینی مقادیر y به ازای x های مشخص در این بازه به کمک خط برازش را درون‌یابی و پیش‌بینی مقادیر y به ازای x های مشخص در خارج از این بازه را برون‌یابی می‌نامند.
- پس از مرتب کردن مقادیر داده‌ها، عددی را که تعداد داده‌های قبل از آن با تعداد داده‌های بعد از آن برابر است را میانه می‌نامند.

■ نمودار جعبه‌ای



■ سایر نمودارها



■ نمودارها و منحنی‌ها

■ حد تابع

$$\lim_{x \rightarrow a} f(x) = A \quad \lim_{x \rightarrow a} g(x) = B \iff \text{اگر}$$

$$\lim_{x \rightarrow a} k = k \quad \text{و} \quad \lim_{x \rightarrow a} [k \cdot f(x)] = k \cdot \lim_{x \rightarrow a} f(x) = k \cdot A$$

$$\lim_{x \rightarrow a} [f(x) \pm g(x)] = \lim_{x \rightarrow a} f(x) \pm \lim_{x \rightarrow a} g(x) = A \pm B$$

$$\lim_{x \rightarrow a} [f(x) \cdot g(x)] = [\lim_{x \rightarrow a} f(x)] \cdot [\lim_{x \rightarrow a} g(x)] = A \cdot B$$

$$\lim_{x \rightarrow a} \frac{f(x)}{g(x)} = \frac{\lim_{x \rightarrow a} f(x)}{\lim_{x \rightarrow a} g(x)} = \frac{A}{B} \quad B \neq 0$$

$$p(x) \text{ چند جمله‌ای باشد} \implies \lim_{x \rightarrow a} p(x) = p(a)$$

$$\lim_{x \rightarrow a} [f(x)]^k = [\lim_{x \rightarrow a} f(x)]^k = A^k$$

■ پیوستگی و ناپیوستگی تابع‌ها

تابع f و یک نقطه a از دامنه آن را در نظر بگیرید. گوییم تابع f در نقطه a پیوسته است، هرگاه حد f در a موجود باشد و

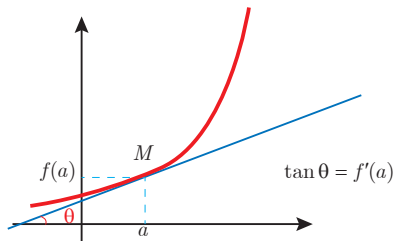
$$\lim_{x \rightarrow a} f(x) = f(a)$$

در غیر این صورت گوییم تابع f در نقطه a ناپیوسته است. اگر تابعی در همه نقاط دامنه خود پیوسته باشد، آن را تابعی پیوسته می‌نامند.

✓ مشتق و شیب خط مماس بر نمودار تابع

فرض کنید تابع f در نقطه a از دامنه خود مشتق پذیر باشد. در این صورت، $f'(a)$ نشان دهنده

شیب خط مماس بر نمودار این تابع در نقطه $M = \begin{bmatrix} a \\ f(a) \end{bmatrix}$ است.



مشتق تابع

$$m_{\tan} = \lim_{h \rightarrow 0} \frac{f(x_1 + h) - f(x_1)}{h}$$

$$f'(x) = \lim_{h \rightarrow 0} \frac{f(x + h) - f(x)}{h}$$

$$f(x) = k \quad f'(x) = 0.$$

$$f(x) = x^n \quad f'(x) = nx^{n-1}$$

$$f(x) = k \cdot g(x) \quad f'(x) = k \cdot g'(x)$$

$$f(x) = u(x) \pm v(x) \quad f'(x) = u'(x) \pm v'(x).$$

$$f(x) = u(x) \cdot v(x) \quad f'(x) = u(x) \cdot v'(x) + v(x) \cdot u'(x).$$

$$f(x) = u(x)/v(x) \quad f'(x) = \frac{v(x) \cdot u'(x) - u(x) \cdot v'(x)}{[v(x)]^2}.$$

$$y = f[g(x)] \quad \frac{dy}{dx} = f'[g(x)] \cdot g'(x).$$

اندازه‌گیری و دستگاه بین‌المللی یکاها

کمیت‌های اصلی و یکای آنها

کمیت	نام یکا	نماد یکا
طول	متر	m
جرم	کیلوگرم	kg
زمان	ثانیه	s
دما	کلوین	K
مقدار ماده	مول	mol
جریان الکتریکی	آمپر	A
شدت روشنایی	کندلا (شمع)	cd

یکای فرعی

کمیت	یکای SI	یکای فرعی
تندی و سرعت	m/s	m/s
شتاب	m/s ²	m/s ²
نیرو	نیوتون (N)	kg.m/s ²
فشار	پاسکال (Pa)	kg/ms ²
انرژی	ژول (J)	kgm ² /s ²

مقادیر تقریبی برخی طول‌های اندازه‌گیری شده

جسم	طول m	جسم	طول m
فاصله منظومه شمسی تا نزدیک‌ترین کهکشان	$2/8 \times 10^{21}$	طول زمین فوتبال	9×10^1
فاصله منظومه شمسی تا نزدیک‌ترین ستاره	4×10^{16}	طول بدن نوعی مگس	5×10^{-2}
یک سال نوری	9×10^{15}	اندازه ذرات کوچک گردو خاک	1×10^{-4}
شعاع مدار میانگین زمین به دور خورشید	$1/5 \times 10^{11}$	اندازه یاخته‌های بیشتر موجودات زنده	1×10^{-5}
فاصله میانگین ماه از زمین	$3/84 \times 10^8$	اندازه بیشتر میکروب‌ها	$5/2 - 2 \times 10^{-6}$
فاصله میانگین زمین	$6/4 \times 10^6$	قطر اتم هیدروژن	$1/56 \times 10^{-10}$
فاصله ماهواره‌های مخابراتی از زمین	$3/6 \times 10^7$	قطر هسته اتم هیدروژن (قطر پروتون)	$1/75 \times 10^{-15}$

مقادیر تقریبی برخی جرم‌های اندازه‌گیری شده

جرم (kg)	جسم	جرم (kg)	جسم
7×10^1	انسان	1×10^{52}	عالم قابل مشاهده
1×10^{-1}	قورباغه	7×10^{41}	کهکشان راه شیری
1×10^{-3}	پشه	2×10^{30}	خورشید
1×10^{-15}	باکتری	6×10^{24}	زمین
$1/6 \times 10^{-27}$	اتم هیدروژن	$7/34 \times 10^{22}$	ماه
$9/11 \times 10^{-31}$	الکترون	1×10^{32}	کوسه

مقادیر تقریبی برخی از بازه‌های اندازه‌گیری شده

ثانیه	بازه زمانی
5×10^{17}	سن عالم
$1/43 \times 10^{17}$	سن زمین
2×10^9	میانگین عمر یک انسان
$3/15 \times 10^7$	یک سال
$8/6 \times 10^4$	یک روز
8×10^{-1}	زمان بین دو ضربان عادی قلب

واحدهای اندازه‌گیری انگلیسی

۱ واحدهای اندازه‌گیری طول

(mm) میلی‌متر $25/4$ (cm) سانتی‌متر $2/54$ (in) اینچ ۱

(in) اینچ ۱۲ = (ft) فوت ۱

(cm) سانتی‌متر $90 \cong$ (in) اینچ ۳۶ = (ft) فوت ۳ = (yd) یارد ۱

(m) متر $1609/344 \cong$ (in) اینچ ۶۳۳۶۰ = (ft) فوت ۵۲۸۰ = (mil) مایل خشکی ۱

(m) متر $1853 \cong$ فوت ۶۰۸۰ \cong مایل دریایی ۱

مایل خشکی $1/15 \cong$ مایل دریایی ۱

برای تبدیل از	به	ضریب تبدیل (با تقریب کمتر از ۰/۰۱)
مایل	کیلومتر	۱/۶۱
اینچ	سانتی‌متر	۲/۵۴
فوت	متر	۰/۳۱
یارد	متر	۰/۹۱
کیلومتر	مایل	۰/۶۲
سانتی‌متر	اینچ	۰/۳۹
متر	فوت	۳/۲۸
متر	یارد	۱/۰۹

۲ واحدهای اندازه‌گیری جرم

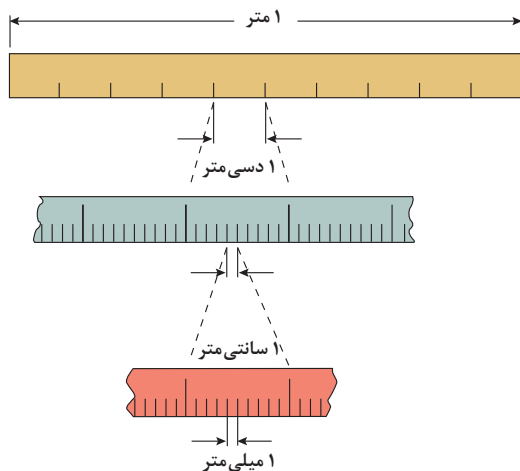
- $1 \text{ گرم (g)} = ۰/۰۳۵ \text{ اونس (oz)}$
 $1 \text{ اونس (oz)} \cong ۲۸ \text{ گرم (g)}$
 $1 \text{ کیلوگرم (kg)} \cong ۲/۲۷ \text{ اونس (oz)}$
 $1 \text{ اونس (oz)} = ۱۶ \text{ پوند (lb)} \cong ۴۵۰ \text{ (g)}$
 $1 \text{ پوند (lb)} \cong ۰/۴۵ \text{ کیلوگرم (kg)}$
 $1 \text{ پوند (lb)} \cong ۲۲۰۰ \text{ (T)}$

۳ واحدهای اندازه‌گیری حجم

- $1 \text{ میلی‌لیتر (ml)} = ۵ \text{ فاشق چایخوری (tsp)}$
 $1 \text{ میلی‌لیتر (ml)} = ۱۵ \text{ فاشق سوپ‌خوری (tbsp)}$
 $1 \text{ فنجان (c)} = ۲۴۰ \text{ میلی‌لیتر (ml)}$

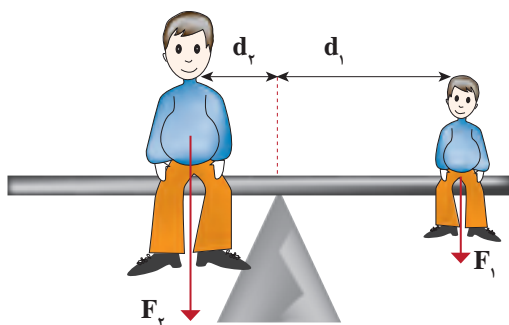
پیشوندهای مورد استفاده در دستگاه SI

نماد	پیشوند	ضریب	نماد	پیشوند	ضریب
y	یوکتو	$۱۰^{-۲۴}$	Y	یوتا	$۱۰^{۲۴}$
z	زِپتو	$۱۰^{-۲۱}$	Z	زِتا	$۱۰^{۲۱}$
a	آتو	$۱۰^{-۱۸}$	E	اِگزا	$۱۰^{۱۸}$
f	فِمتو	$۱۰^{-۱۵}$	P	پِتا	$۱۰^{۱۵}$
p	پیکو	$۱۰^{-۱۲}$	T	ترا	$۱۰^{۱۲}$
n	نانو	$۱۰^{-۹}$	G	گیگا (جیگا)	$۱۰^۹$
μ	میکرو	$۱۰^{-۶}$	M	مگا	$۱۰^۶$
m	میلی	$۱۰^{-۳}$	k	کیلو	$۱۰^۳$
c	سانتی	$۱۰^{-۲}$	h	هکتو	$۱۰^۲$
d	دِسی	$۱۰^{-۱}$	da	دِکا	$۱۰^۱$

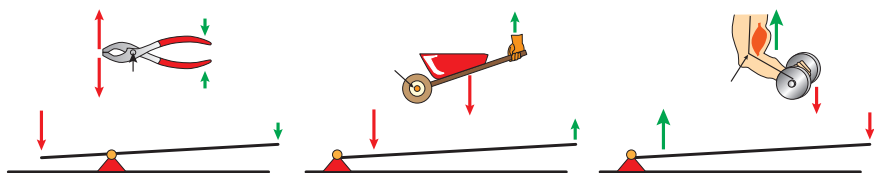


پیشوندهای کوچک کننده یکای متر

اهرم ها



گشتاور نیروی ساعتگرد = گشتاور نیروی پاد ساعتگرد

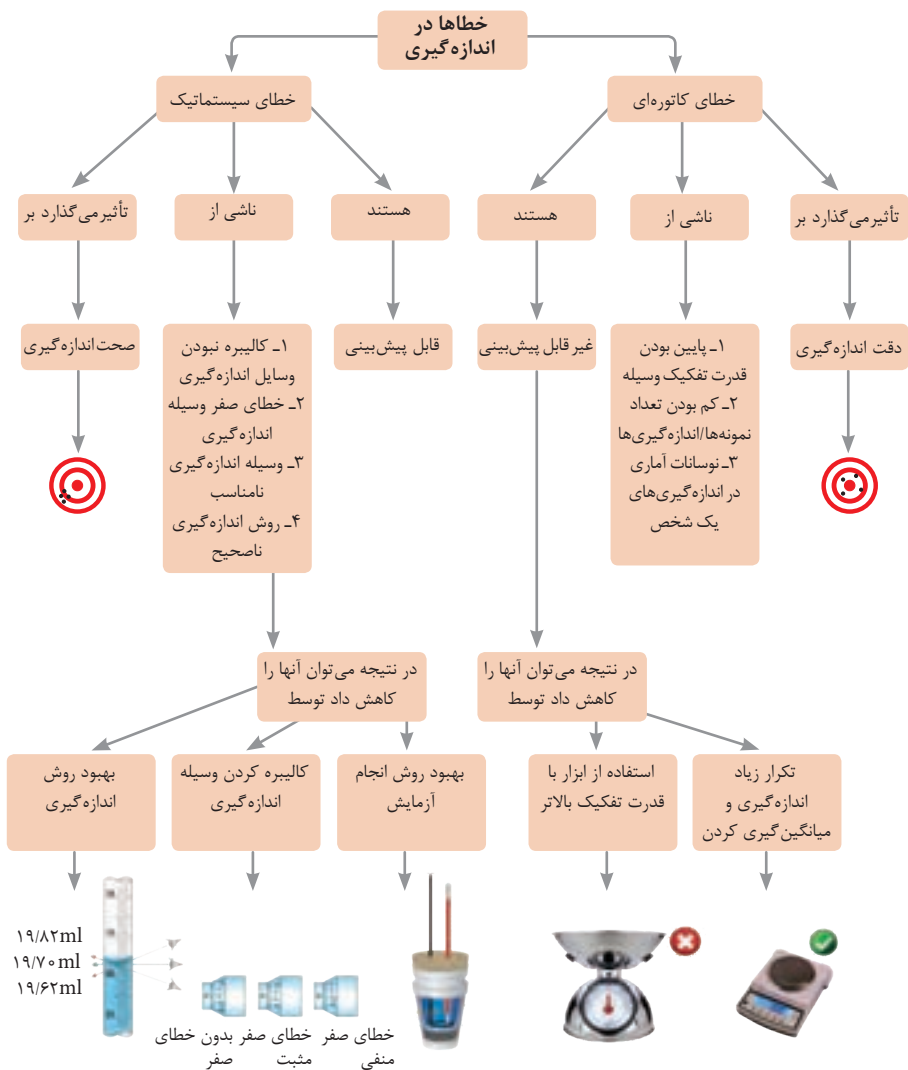
$$d_r \times f_r = d_l \times f_l$$


مزیت مکانیکی

$$\text{مزیت مکانیکی} = \frac{\text{بازوی محرک}}{\text{بازوی مقاوم}} = \frac{\text{اندازه نیروی مقاوم}}{\text{اندازه نیروی محرک}}$$

کاربرد	فرمول (معادله، رابطه)
جریان مقاومت‌های موازی	$I_1 + I_2 + I_3 = I_{eq}$
ولتاژ مقاومت‌های موازی	$V_1 = V_2 = V_3 = V_{eq}$
مقاومت معادل مقاومت‌های موازی	$\frac{1}{R_1} + \frac{1}{R_2} + \frac{1}{R_3} = \frac{1}{R_{eq}}$
فشار و ارتباط آن با نیروی عمودی و سطح تماس	$P = \frac{F}{A}$
اختلاف فشار دو نقطه شاره ساکن	$P_2 - P_1 = +\rho g \Delta h$
فشار یک نقطه شاره ساکن	$p = \rho g \Delta h + p_{atm}$
اصل پاسکال	$P_2 = P_1 \Rightarrow \frac{F_1}{A_1} = \frac{F_2}{A_2}$
چگالی	$\rho = \frac{m}{v}$
چگالی نسبی	$d = \frac{\rho_2}{\rho_1}$
رابطه دما در مقیاس سلسیوس و مقیاس فارنهایت	$F = \frac{9}{5}\theta + 32$
رابطه دما در مقیاس سلسیوس و مقیاس کلونین	$T = \theta + 273$
رابطه دما در مقیاس فارنهایت و مقیاس کلونین	$T = (F + 459) \div 1.8$
مقدار گرمای داده شده به یک جسم	$Q = mC(\theta_2 - \theta_1) = mC\Delta\theta$
تعادل گرمایی	$Q_1 + Q_2 + Q_3 + \dots = 0$
گرمای منتقل شده از طریق رسانش	$Q = \frac{KA t(T_2 - T_1)}{L} = \frac{KA t \Delta T}{L}$
انبساط خطی	$L_2 - L_1 = \alpha L_1 \Delta\theta$ $L_2 = L_1(1 + \alpha \Delta\theta)$
انبساط سطحی	$A_2 - A_1 = 2\alpha A_1 \Delta\theta$ $A_2 = A_1(1 + 2\alpha \Delta\theta)$
انبساط حجمی	$V_2 - V_1 = 3\alpha V_1 \Delta\theta$ $V_2 = V_1(1 + 3\alpha \Delta\theta)$

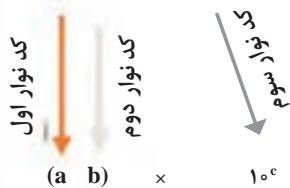
کاربرد	فرمول (معادله، رابطه)	کاربرد	فرمول (معادله، رابطه)
نیروی وزن	$g = \frac{w}{m} \rightarrow w = mg$	بازه زمانی	$\Delta t = t_f - t_i$
بیشینه نیروی اصطکاک ایستایی	$f_{s(max)} = \mu_s N$	جابجایی	$\Delta x = x_f - x_i$
نیروی اصطکاک جنبشی	$f_k = \mu_k N$	سرعت متوسط	$\bar{v} = \frac{x_f - x_i}{t_f - t_i} = \frac{\Delta x}{\Delta t}$
شدت جریان الکتریکی متوسط	$I = \frac{\Delta q}{\Delta t}$	رابطه مکان زمان حرکت یکنواخت	$x = vt + x_i$
قانون اهم	$R = \frac{V}{I}$	شتاب متوسط	$\bar{a} = \frac{\Delta v}{\Delta t}$
مقاومت رساناهای فلزی در دمای ثابت	$R = \frac{\rho L}{A}$	شتاب لحظه‌ای حرکت با شتاب ثابت	$a = \bar{a} = \frac{\Delta v}{\Delta t}$
انرژی الکتریکی مصرفی	$U = I^{\tau} R t$	رابطه سرعت زمان حرکت با شتاب ثابت	$v = v_i + at$
توان مصرفی	$P = I^{\tau} R$ و $P = \frac{U}{t}$ $P = VI$ و $P = \frac{V^{\tau}}{R}$	سرعت متوسط در حرکت با شتاب ثابت	$\bar{v} = \frac{v_f + v_i}{2}$
جریان مقاومت‌های متوالی (سری)	$I_1 = I_2 = I_3 = I_{eq}$	رابطه مستقل از زمان در حرکت با شتاب ثابت	$v_f^{\tau} - v_i^{\tau} = \tau a (x - x_i)$
ولتاژ مقاومت‌های متوالی (سری)	$V_1 + V_2 + V_3 = V_{eq}$	رابطه جابه‌جایی در حرکت با شتاب ثابت	$\Delta x = x_f - x_i = \frac{1}{2} at^{\tau} + v_i t$
مقاومت معادل مقاومت‌های متوالی (سری)	$R_1 + R_2 + R_3 = R_{eq}$	قانون دوم نیوتن	$\vec{a} = \frac{\vec{F}}{m}$



کدهای رنگی مقاومت



انواع مقاومت ثابت



نحوه خواندن مقاومت رنگی

رنگ	کد رنگ	درصد خطا
سیاه	۰	-
قهوه‌ای	۱	۱ درصد
قرمز	۲	۲ درصد
نارنجی	۳	۳ درصد
زرد	۴	۴ درصد
سبز	۵	-
آبی	۶	-
بنفش	۷	-
خاکستری	۸	-
سفید	۹	-
طلایی	-	۵ درصد
نقره‌ای	-	۱۰ درصد

ضریب انبساط طولی برخی اجسام

ماده	ضریب انبساط طولی $\frac{1}{k}$	ماده	ضریب انبساط طولی $\frac{1}{k}$
الماس	$1/2 \times 10^{-6}$	مس	17×10^{-6}
شیشه پیرکس	$3/2 \times 10^{-6}$	برنج	19×10^{-6}
شیشه معمولی	$9-12 \times 10^{-6}$	آلومینیوم	23×10^{-6}
فولاد	$11-13 \times 10^{-6}$	سرب	29×10^{-6}
بتون	$10-14 \times 10^{-6}$	یخ ($^{\circ}C$)	51×10^{-6}

ضریب انبساط حجمی چند مایع در
دمای حدود 20°C

ماده	ضریب انبساط طولی $\frac{1}{k}$
جیوه	$0/18 \times 10^{-3}$
آب	$0/27 \times 10^{-3}$
گلیسرین	$0/49 \times 10^{-3}$
روغن زیتون	$0/70 \times 10^{-3}$
پارافین	$0/76 \times 10^{-3}$
بنزین	$1/00 \times 10^{-3}$
اتانول	$1/09 \times 10^{-3}$
استیک اسید	$11/0 \times 10^{-3}$
بنزن	$12/5 \times 10^{-3}$
کلروفرم	$12/7 \times 10^{-3}$
استون	$14/3 \times 10^{-3}$
اتر	$16/0 \times 10^{-3}$
آمونیاک	$24/5 \times 10^{-3}$

گرمای ویژه برخی از مواد *

ماده	گرمای ویژه $J/kg \cdot K$
سرب	۱۲۸
تنگستن	۱۳۴
نقره	۲۳۶
مس	۳۸۶
آلومینیوم	۹۰۰
برنج	۳۸۰
نوعی فولاد (آلیاژ آهن با ۲٪ کربن)	۴۵۰
فولاد زنگ‌زن	۴۹۰
گرانیت	۷۹۰
بتون	۸۰۰
شیشه	۸۴۰
یخ	۲۲۲۰
جیوه	۱۴۰
اتانول	۲۴۳۰
آب دریا	۳۹۰۰
آب	۴۱۸۷

* تمام نقاط غیر از یخ در دمای 20°C

چگالی مواد متداول

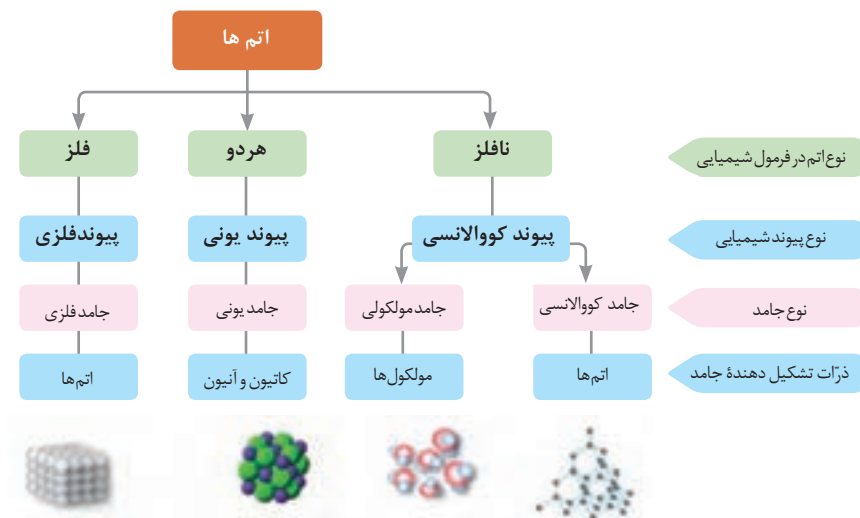
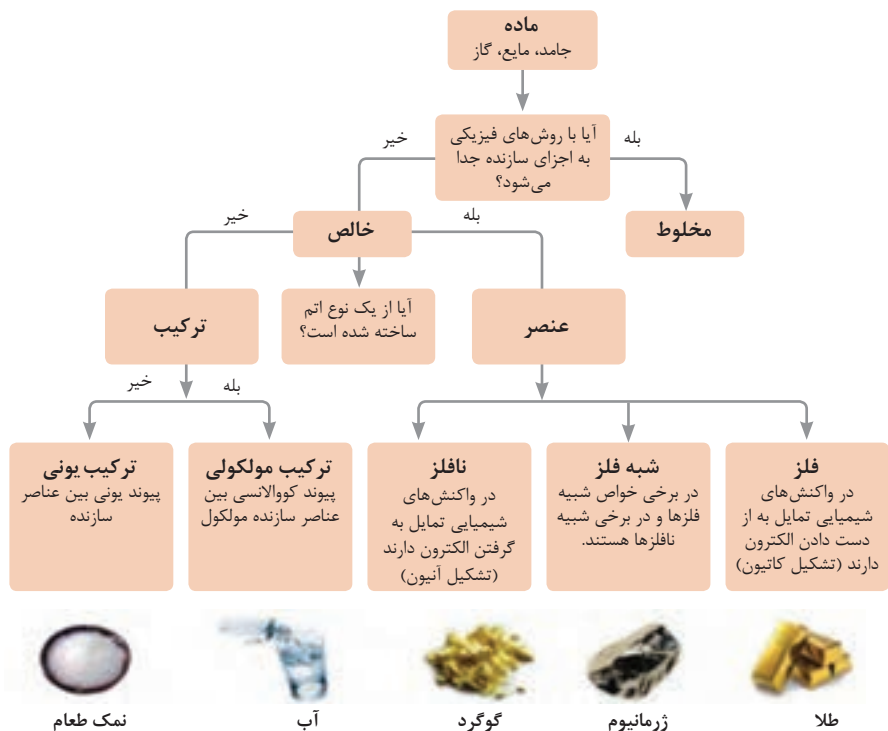
ماده	$\rho(kg/m^3)$	ماده	$\rho(kg/m^3)$
یخ	$0/917 \times 10^3$	آب	$1/000 \times 10^3$
آلومینیوم	$2/70 \times 10^3$	گلیسرین	$1/26 \times 10^3$
آهن	$7/86 \times 10^3$	اتیل الکل	$0/806 \times 10^3$
مس	$8/92 \times 10^3$	بنزن	$0/879 \times 10^3$
نقره	$10/5 \times 10^3$	جیوه	$13/6 \times 10^3$
سرب	$11/3 \times 10^3$	هوا	۱/۲۹
اورانیوم	$19/1 \times 10^3$	هلیوم	$1/79 \times 10^{-1}$
طلا	$19/3 \times 10^3$	اکسیژن	۱/۴۳
پلاتین	$21/4 \times 10^3$	هیدروژن	$8/99 \times 10^{-2}$

داده‌های این جدول در دمای صفر درجه (0°C) سلسیوس و فشار یک اتمسفر اندازه‌گیری و گزارش شده‌اند.

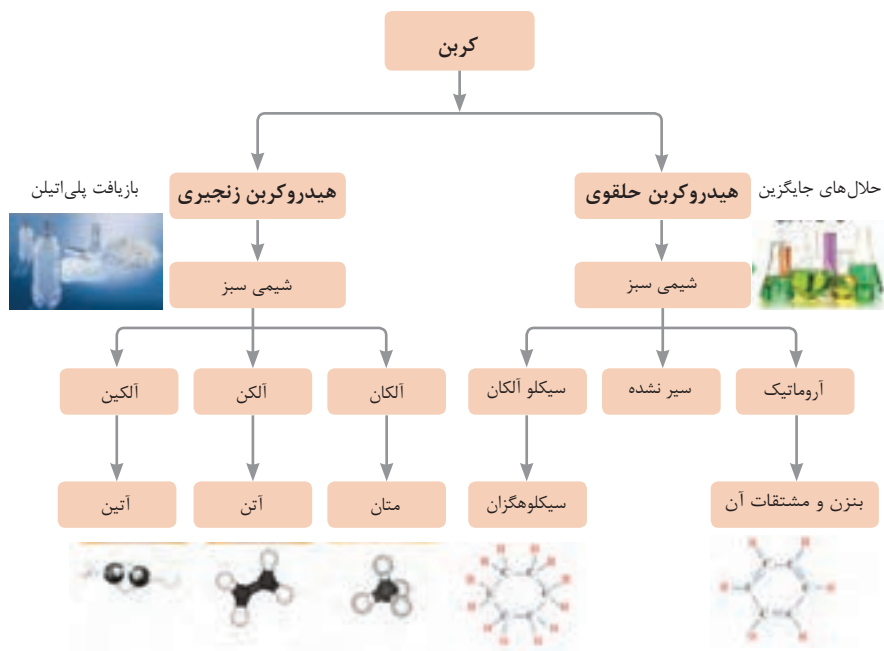
ثابت تفکیک اسیدها (K_a) و بازها (K_b)

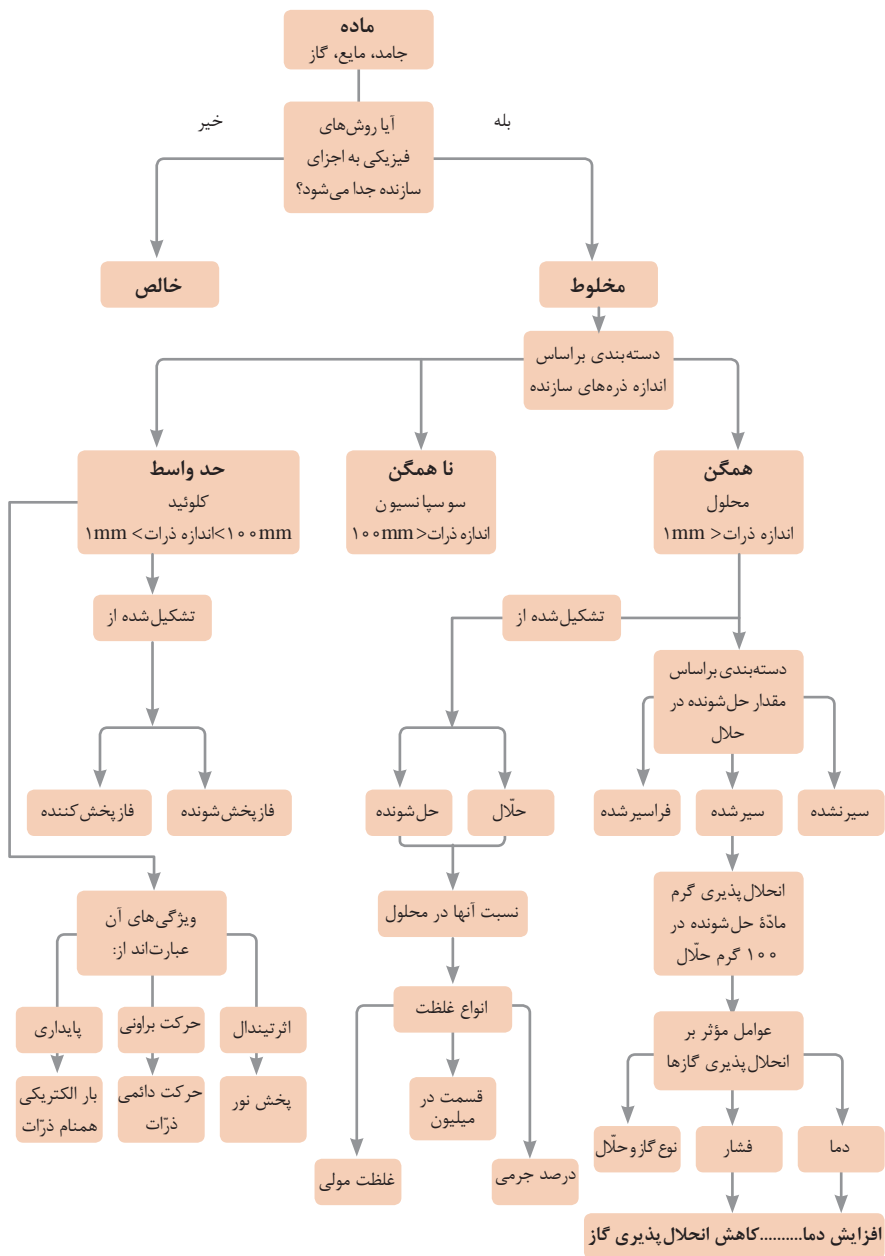
توجه: در شرایط یکسان (دما و غلظت) هر چه ثابت تفکیک اسید یا بازی بزرگ تر باشد، آن اسید یا باز قوی تر است.

ثابت تفکیک (K_a)	فرمول شیمیایی	نام اسید	ثابت تفکیک (K_a)	فرمول شیمیایی	نام اسید
6.9×10^{-2}	H_2PO_4	فسفریک اسید		$HClO_4$	پرکلریک اسید
1.3×10^{-3}	CH_2ClCO_2H	کلرو استیک اسید		H_2SO_4	سولفوریک اسید
7.4×10^{-4}	$C_6H_5O_2$	سیتریک اسید		HI	هیدرویدیک اسید
6.3×10^{-4}	HF	هیدروفلوئوریک اسید		HCl	هیدروکلریک اسید
5.6×10^{-4}	HNO_2	نیترو اسید		HNO_3	نیتریک اسید
6.2×10^{-5}	$C_6H_5CO_2H$	بنزوئیک اسید	2.2×10^{-1}	CCl_3CO_2H	تری کلرواستیک اسید
1.7×10^{-5}	CH_3CO_2H	استیک اسید	1.8×10^{-1}	H_2CrO_4	کرومیک اسید
4.5×10^{-7}	H_2CO_3	کربنیک اسید	1.7×10^{-1}	HIO_3	یدیک اسید
8.9×10^{-8}	H_2S	هیدروسولفوریک اسید	5.6×10^{-1}	$C_2H_2O_4$	اکزالیک اسید
4×10^{-8}	$HClO$	هیپوکلرو اسید	5×10^{-2}	H_2PO_3	فسفرو اسید
5.4×10^{-10}	H_2BO_3	بوریک اسید	4.5×10^{-1}	$CHCl_3CO_2H$	دی کلرواستیک اسید
			1.4×10^{-2}	H_2SO_3	سولفورو اسید
ثابت تفکیک (K_a)	فرمول شیمیایی	نام باز	ثابت تفکیک (K_b)	فرمول شیمیایی	نام باز
4×10^{-4}	$C_6H_5NH_2$	بوتیل آمین		KOH	پتاسیم هیدروکسید
6.3×10^{-5}	$(CH_3)_3N$	تری متیل آمین		$NaOH$	سدیم هیدروکسید
1.8×10^{-5}	NH_3	آمونیاک		$Ba(OH)_2$	باریم هیدروکسید
1.7×10^{-9}	C_6H_5N	پیریدین		$Ca(OH)_2$	کلسیم هیدروکسید
7.4×10^{-10}	$C_6H_5NH_2$	آنیلین	5.4×10^{-4}	$(CH_3)_3NH$	دی متیل آمین
			4.5×10^{-4}	$C_6H_5NH_2$	اتیل آمین

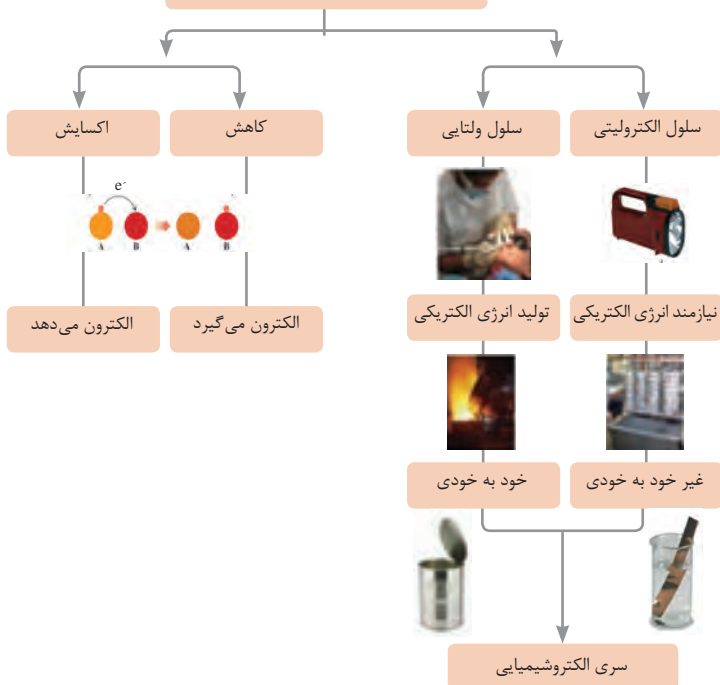


فاز پخش شونده	فاز پخش کننده	نوع کلویید	حالت فیزیکی	نام کلویید	نمونه‌ها
گاز	گاز	-	-	-	-
	مایع	گاز در مایع	مایع	کف	کف صابون
	جامد	گاز در جامد	جامد	کف جامد	سنگ پا، یونالیت
مایع	گاز	مایع در گاز	گاز	آیروسول مایع	مه، افشانه‌ها (اسپری‌ها)
	مایع	مایع در مایع	مایع	امولسیون	شیر، کره، مایونز
	جامد	مایع در جامد	جامد	ژل	ژله، ژل موی سر
جامد	گاز	جامد در گاز	گاز	آیروسول جامد	دود، غبار
	مایع	جامد در مایع	مایع	سول	رنگ‌های روغنی، چسب مایع
	جامد	جامد در جامد	جامد	سول جامد	سرامیک، شیشه رنگی، یاقوت، لعل، فیروزه

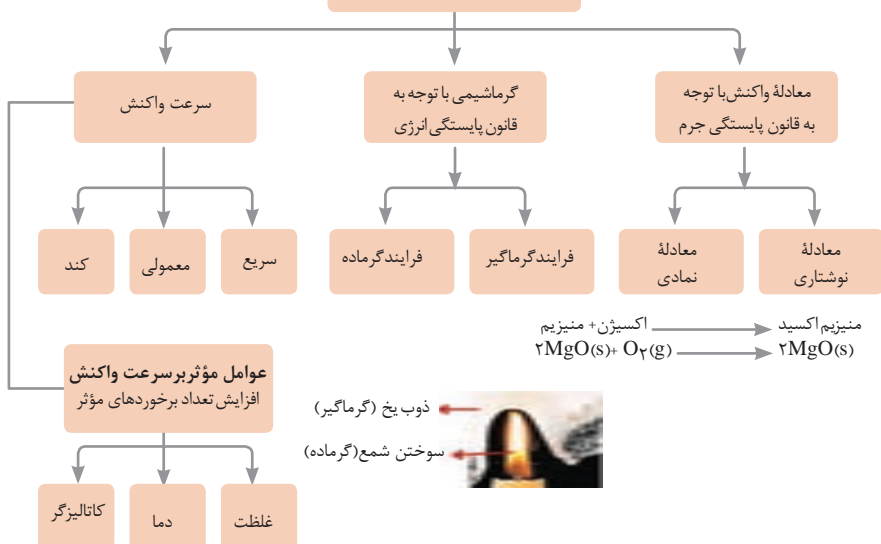




واکنش‌های اکسایش - کاهش



مطالعه فرایندهای شیمیایی

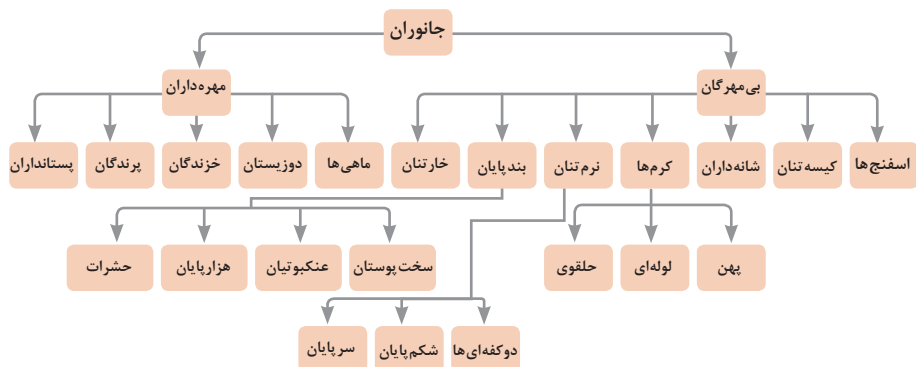


واحد سازنده	درشت مولکول	ساختار سلولی
هیدرات کربن	نشاسته	نشاسته در کلروپلاست
اسید نوکلئیک	دی‌ان‌ای	کروموزوم
پروتئین	پلی‌پپتید	پروتئین انقباضی
لیپید	چربی	سلول‌های چربی

تصویر انواع درشت مولکول‌های شرکت کننده در ساختار باخته‌ها

سازمان‌بندی یاخته‌ها

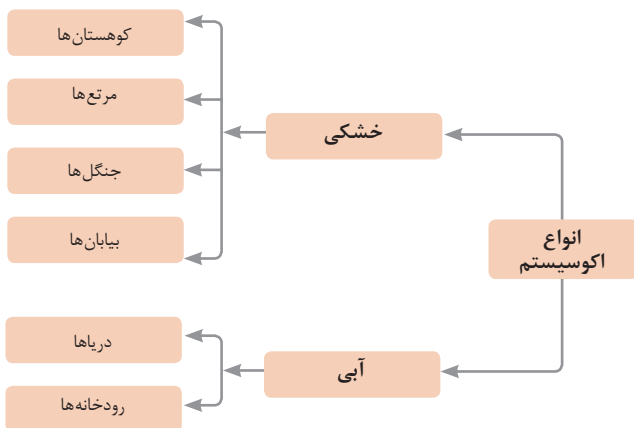
باخته	عصبی	ماهیچه‌ای	خونی
بافت	استخوانی	خونی	غضروف
اندام	پوست	مغز	استخوان
دستگاه	گوارش	انتقال مواد	عصبی
موجود زنده	درخت	حشر	انسان

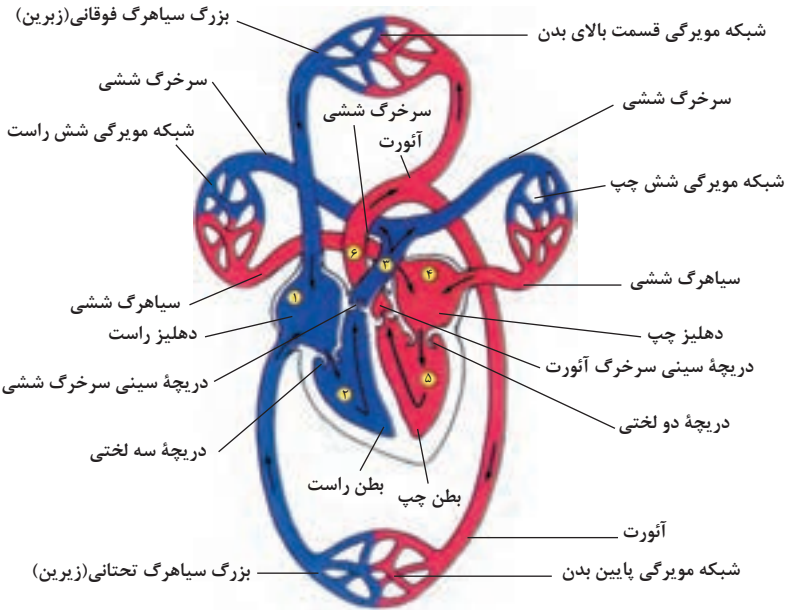


تصویر گروه‌های اصلی جانوران

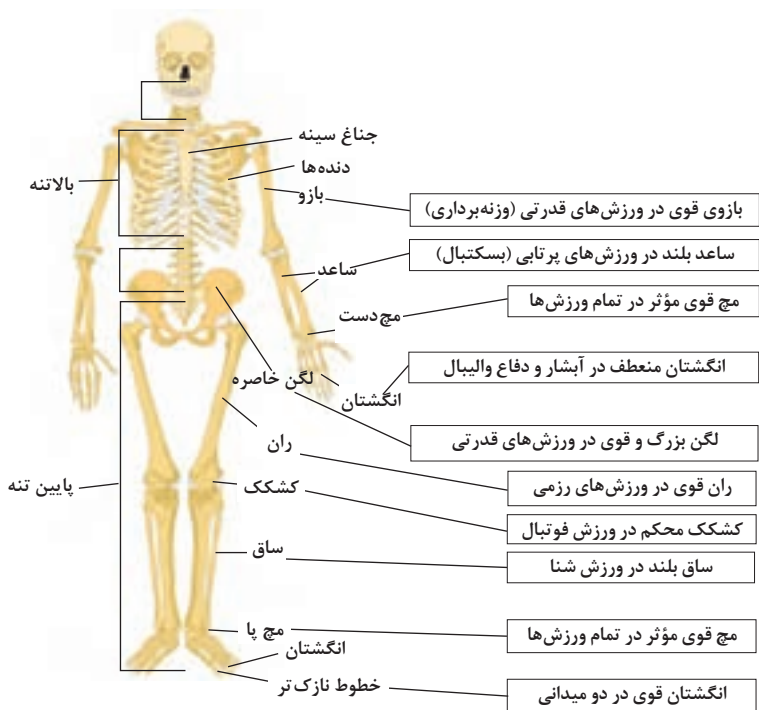
جدول فهرست منابع طبیعی

نوع منبع	موضوعات
منابع گیاهی	جنگل‌ها و مراتع و کشاورزی
منابع جانوری	حیات وحش و دامپروری
منابع میکروبی	مجموعه قارچ‌ها و باکتری‌ها
منابع جوی	مدت زمان دریافت نور، شدت نور خورشید، دما، شدت باد، رطوبت، ابرناکی و انواع بارش
منابع آبی	انواع آب: سفره‌های آب زیرزمینی، چشمه‌ها، روان آب‌ها، آبیگرها، دریاچه‌ها، دریاها و اقیانوس‌ها
منابع خاکی	انواع خاک و بستر سنگی - کوه، تپه، دره و دشت
منابع کانی	فلزات و سنگ‌های قیمتی
منابع فسیلی	نفت، گاز و زغال سنگ
منابع انسانی	تمام افراد جامعه

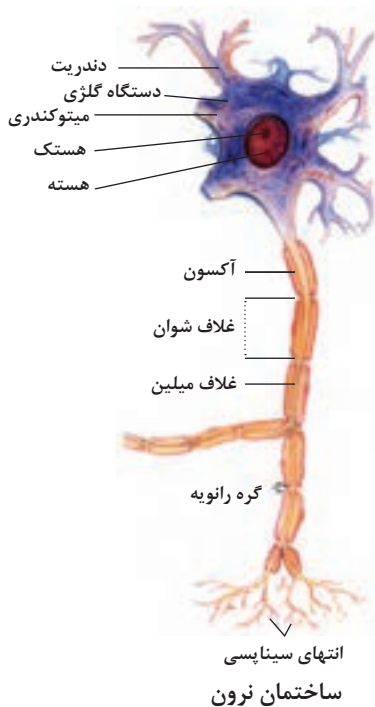




شکل بالا گردش خون را در بدن نشان می‌دهد. شماره ۲، ۳ و ۴ آغاز و پایان گردش ششی و ۱، ۵ و ۶ آغاز و پایان گردش عمومی خون را نشان می‌دهد.



تنوع استخوان‌ها و کاربرد آنها در ورزش



فصل ۲

دانش فنی، اصول، قواعد، قوانین و مقررات

انگلیسی	فارسی
Atlantic Ocean	اقیانوس اطلس
Accommodation	محل زیست
Africa	افریقا
Aft Part	پاشنه کشتی
AFT/ Fore Peak Tank	مخازن آب سینه و پاشنه
Air Conditioning	تهویه مطبوع
Alternator	آلتر ناتور
Amidship	محدوده میانی کشتی
Anchor ARM	بازوی (لنگر)
Anchors Certificate	گواهینامه لنگر
Anchors Chain	زنجیر لنگر
Anchor	لنگر
Antarctica	جنوبگان
Anvil	سندان
Arctic Ocean	اقیانوس منجمد شمالی
Asia	آسیا
Aspiration	تنفس
Auxility Machinery	ماشین آلات فرعی
Barometer	جوّسنج (فشارسنج)
Bearing	باتاقان
Bend Radius	شعاع خم
Bending Angle	زاویه کاری
Bending	خم کاری
Bite	پسته
Blakeor Riding Slip	خفت بلیک یا سواره
Boiler	دیگ بخار
Bolt	پیچ
Bottom Dead Center	نقطه مرگ پایین
Bow Thruster	رانش دهنده عرضی سینه
Bridge	پل فرماندهی

Bulk Carrier	کشتی قله‌بر
Bulk Head	دیواره عمودی
Butt Joint	اتصال لب به لب
Butt-Lap Joint	اتصال لب روی هم سر به سر
Cable Lifter	آسانسور کابلی
Cam Shaft	میل بادامک، میل سوپاپ
Capillary Action	خاصیت مویینگی
Capstan	دوار کپستان
Caspian Sea	دریای خزر
Cavitation	کاویتاسیون
Center Line	خط مرکزی
Chain Block	جرثقیل دستی
Chief Engineer	سر مهندس
Chisel Test	آزمون قلم و چکش
Clearance	لقی
Combustion Chamber	محفظه احتراق
Common Link	حلقه معمولی
Compression Ring	رینگ تراکم
Compression Ring (Fire Ring)	رینگ تراکم، رینگ هوا
Compression	تراکم
Condenser	چگالنده
Connecting Rod	دسته شاتون
Continental Shelf	فلات قاره (ژرفا شیب)
Continent	قاره
Copper	مس
Corrosion	خوردگی
Crankshaft	میل لنگ
Crane	جرثقیل
Crane	جرثقیل
Crown	تاج (لنگر)
Cylinder	سیلندر
Danforth Anchors	لنگرهای سبک وزن (دانفورث)
Davit	جرثقیل قایق

Dead Weaight	وزن کامل بارگیری (وزن مرده)
Deck	عرشه
Depth	ارتفاع
Destructive Test (DT)	تست مخرب
Devil's Claw Slib	خفت پنجه شیطانی
Diameter	قطر
Diesel Engine	موتور دیزل
Diffuser	دیفیوزر
Displacement	جابه جایی
Distribution	توزیع
(Draught (Draft	آب خور
Drier	خشک کن، نم گیر
Dry Dock	حوضچه خشک
Duct	کانال
Efficiency	راندمان
End Rolling Hatch Cover	درب انبار از انتها چرخ دار
Engine Room	موتورخانه
Enlarged Link	حلقه بزرگ شده
Estimation	برآورد، تخمین
Eurasia	اوراسیا
Europe	اروپا
Exhaust Blowdown	خارج سازی، بازدم
Exhaust Manifold	منیفولد دود
Expansion	انبساط
Feed Pump	پمپ تغذیه
Fire Fighting	اطفای حریق
Flash Weld	جوش جرقه ای
Fluke (Palm)	بیل یا ناخن لنگر
Flywheel	چرخ طیار
Folding Hatch Cover	درب انبار تاشو
Folding	خم کردن (تا کردن)
Fore Part	سینه کشتی
Free Board	سطح آب خور آزاد (برد آزاد)

Freeboard Deck	بالا‌ترین عرشه سراسری که کلیه دریچه‌ها و درها روی آن قرار دارد.
Fuel Consumption	مصرف سوخت
Fuel Injection	تزریق سوخت
Funnel	دودکش
Gantry Crane	جرثقیل دروازه‌ای
Gas Turbinr	توربین گاز
Gasket	واشر
Gearbox	جعبه دنده
Gear	دنده، چرخ دنده
General Cargo Ship	کشتی کالابر عمومی
Generator	ژنراتور
Governor	گاورنر
Grapnel Anchors	لنگرهای چنگکی
Gross Tonnage	ظرفیت ناخالص
Gudgeon Pin	گژن پین
Hallen Derricks	دریک هالن
Hammer	چکش
Hand lever Shearing Machine	قیچی اهرمی
Hand Snip	قیچی دستی
Hatch And Covers	درب انبار و درپوش‌ها
Hatch	دریچه
Haws Pipes	آشیانه لنگر
Head Gasket	واشر سرسیلندر
Heat Exchanger	مبدل حرارتی
Heater	بخاری
Shaw Pump - Hele	پمپ پیستونی ماشین آلات سکان
Horsepower	اسب بخار
Indian Ocean	اقیانوس هند
Indicator	نشانگر
Induction Motor	موتور القایی
Injector	انژکتور
Intake Manifold	منیفولد هوا

International Standard Organisation (iso)	سازمان جهانی استاندارد
Jib Crane	جرثقیل بازویی
Keel	تیر حمال
Kenter Joining Shackle	شگل اتصال
Lack Seam Joint	اتصال فرنگی پیچ
Lap Joint	اتصال لب روی هم
Lead	سرب
Lentgth Overall	طول کامل
Life Boat	قایق‌های نجات
Lifting Hatch Cover	درب انبار بالارونده
Light Weight	(وزن بدون بارگیری (وزن سبک)
Load Line	خط بارگیری (خط شاهین)
Loaddisplacement	وزن جابه‌جایی پس از بارگیری
Low Speed	دور پایین
Lubrication	روانکاری
Maintenance	نگهداری
Marine Nuclear Plant	سیستم رانش هسته‌ای دریایی
Mashroom Anchors	لنگرهای قارچی
Mast	دکل
Medium Speed	دور متوسط
Midship Section	قطع وسط کشتی
Moorning Winch	وینچ مهار
Mountings	پایه‌های نگهدارنده
Nail	میخ
Net Tonnage	ظرفیت خالص
(Non-Destructive Test (NDT	تست غیر مخرب
North America	امریکای شمالی
Nozzle	شیپور
Oceania	اقیانوسیه
Oil Control Ring	رینگ روغن
Oil Pump	پمپ روغن
Old Fashion Or Stock Anchors	لنگرهای قدیمی یا دسته‌دار

Oman Sea	دریای عمان
Open End Link	حلقه توخالی
Overlap	همپوشانی
Pacific Ocean	اقیانوس آرام
Peel Test	آزمون خم کاری
Period	دوره تناوب
Persian Gulf	خلیج فارس
Piggy Back And Telescopic Hatch Cover	درب انبار تلسکوپی
Pilot boat	قایق راهنما
Pin	پین
Piston Ring Compressor	رینگ جمع کن پیستون
Piston Ring	رینگ پیستون
Piston	پیستون
Plier	انبردست
Plough Share Anchors	لنگرهای شخمی (گاواهنی)
Port Side	سمت چپ کشتی
Power Transmission	انتقال قدرت
Power	قدرت - توان
Pressure Indicator	فشارسنج
Projection Weld	جوش زائده‌ای
Propeller	پروانه
Push Rod	میل تابپیت
Reciprocating	رفت و برگشتی
Refrigerated Ship	کشتی یخچالی
Refrigeration	تبرید
Resistance Welding	جوشکاری مقاومتی
Roll On / Roll Off (Ro / Ro)	کشتی حمل خودرو
Roll Stowing Hatch Cover	درب انبار چرخ‌دار جمع شونده
Rolling Hatch Cover	درب انبار چرخ‌دار
Rotary	دورانی
Rotor	روتور
Rudder	تیغه سکان

Safety	ایمنی
Scarf Joint	اتصال لب به لب مورب
Scissor	قیچی کاغذبر
Screw Driver	پیچ گوشتی
Screw Slip	خفت پیچی
Screw	پیچ خودکار
Sea Chest	محل ورودی آب دریا به کشتی
Seal	آببند
Seam Weld	درز جوش (جوش نواری)
Self Secured Joint (Lucked Seam)	فرنگی پیچ
Separator	جداساز
Shackle	شکل
Shaft	محور
Shank	ساق لنگر
Sheet Metal Bending	خم کاری ورق
Sheet Metal Working	ورق کاری
Side Rolling Hatch Cover	درب انبار از بغل چرخدار
Single Botton	تک جداره
Sliding Hatch Cover	درب انبار کشویی
Slip	خفت زنجیر
Snip	قیچی ورقبر
Solder Ability	لحیم پذیری
Soldering	لحیم کاری نرم
South America	امریکای جنوبی
Southern Ocean	اقیانوس منجمد جنوبی
Spot Weld	نقطه جوش
Stacking Hatch Cover	درب انبار انباشته‌ای
Starboard Side	سمت راست کشتی
Steam Turbine	توربین بخار
Stem	انحنای ابتدای سینه
Stern Tube	لوله انتهایی عبور شفت از کشتی
Stern	انتهای پاشنه
Stockless Anchors	لنگرهای بدون دسته

Stock	دسته لنگر
Store (Hold)	انبار
Stroke	کورس
Stuelckend Derrick	جرثقیل دکل فوق سنگین
Swell	تورم، انبساط
Swivel Piece	قطعه هرزگرد
Tachometer	سرعت‌سنج زاویه‌ای
Tee Joint	اتصال سه پری
Temperature	دما
Temporary	موقت
Thermometer	دماسنج
Timing	میزان‌سازی
Tin	قلع
Tonnage Deck	عرشه‌ای که ظرفیت کشتی نسبت به آن اندازه‌گیری می‌شود.
Tonnage	ظرفیت
Top Dead Center	نقطه مرگ بالا
Transverse Plant	سطح مقطع عرضی
Tug boat	یدک‌کش
Turbo Charger	توربو شارژر
Upset Weld	جوش برجسته
Water Pump	پمپ آب
Watertight Door	درب غیر قابل نفوذ آب
Watertight Door	درب غیر قابل نفوذ
Watertight	آب‌بند
Welding Cycle	مراحل جوشکاری
Wetting	تر شوندگی
Whistle	بوق
Windlass	دوار لنگر
Wrench	آچار فرانسه

تمام کشتی‌های اقیانوس پیما ملزم به رعایت نکات کتاب راهنمای پزشکی بین‌المللی^۱ می‌باشند که در سال ۲۰۰۷ توسط سازمان بهداشت جهانی با همکاری سازمان بین‌المللی کار و سازمان بین‌المللی دریانوردی منتشر شده است. این کتاب مشاوره‌ای برای کمک به ترویج و حفاظت از سلامت دریانوردان می‌باشد. بخش مهمی در کتاب به قفسه دارویی^۲ شناخته می‌شود و در این بخش یک لیست کامل از داروهای مورد نیاز و نشانه و دوز آنها که کشتی‌ها در دریا باید حمل کنند را توصیه می‌کند.

داروهای پیشنهادی برای کشتی‌ها

Acetylsalicylic acid ۳۰۰ mg tablets

Indication(s)^۱: Pain, fever and inflammation; prevention of blood clots in angina and myocardial infarction.

Acyclovir ۴۰۰ mg tablets

Indication(s): primary or recurrent herpes simplex infection; severe varicella (chickenpox) and herpes zoster (shingles) infection.

Adrenaline injection ۱mg/ml

Indication(s): Anaphylaxis and severe asthma.

Tetra Caine (amethocaine) eye drops ۰.۵% ۱ml individual vials

Indication(s): local anaesthesia for eye examinations and procedures

Amoxicillin/clavulanic acid (۸۷۵mg/۱۲۵mg) tablets

Indication(s): Bacterial infections, including – wound, skin, respiratory, and urinary tract infections; prostatitis; pelvic inflammatory disease.

Artemether injection ۸۰ mg/ml

Indication(s): Management of severe (complicated) malaria.

Artemether + lumefantrine ۲۰ mg/۱۲۰ mg tablets

Indication(s): Treatment of malaria.

Atropine ۱mg/ml (sulphate) injection

Indication(s): Management of slow heart rate (bradycardia) of myocardial infarction; treatment of organophosphate poisoning.

۱. International Medical Guide for Ships, Third Edition

۲. Ship's Medicine Chest

Azithromycin 500mg tablets

Indication(s): Alternative to penicillin in patients with penicillin allergy; wounds; in combination with ceftriaxone for moderate/severe pneumonia and pelvic inflammatory disease (PID); ; in combination with ceftriaxone or ciprofloxacin in urethritis due to sexually transmitted infections (STIs); genital ulcer; impetigo; cholera; diphtheria; group A streptococcal (GAS) sore throat; typhoid; pertussis.

Ceftriaxone injection 1g (as sodium salt)

Indication(s): Third-generation cephalosporin antibacterial; shock as a result of severe infection; penetrating abdominal injuries; moderate to severe pneumonia; appendicitis; ulcerative colitis; jaundice; cholecystitis; septic abortion; puerperal sepsis; urethritis; pelvic inflammatory disease; cellulitis; septic arthritis; meningitis.

Cetirizine 10mg tablets

Indication(s): Pruritus; hay fever; scombroid fish poisoning; urticarial; anaphylaxis.

Charcoal. activated

Indication(s): Treatment of poisoning and drug overdose; reduces gastrointestinal absorption.

Ciprofloxacin 750mg tablets

Indication(s): Cat bite; gastroenteritis; heavy gastrointestinal haemorrhage; urinary tract infection; prostatitis; sexually transmitted infections (STIs); epididymitis; cellulitis from wounds received in seawater; anthrax; typhoid

Cloves. oil of

Indication(s): Toothache

Dexamethasone injection 4mg/ml

Indication(s): Life-threatening and severe asthma; anaphylaxis; severe allergic reactions.

Diazepam 5mg tablets

Indication(s): Alcohol withdrawal; psychosis (if patient remains agitated after haloperidol).

Docusate with Senna tablets

Indication(s): Constipation; to avoid straining in patients with anal fissure and hemorrhoids.

Doxycycline 100 mg tablets

Indication(s): Infections such as sexually transmitted infections (STIs); cellulitis; anthrax; plague.

Ethanol, hand cleanser gel 70%

Indication: Alternative to hand-washing when hands are not obviously soiled

Ethanol 70%, liquid

Indication: Disinfection of instruments and surfaces.

Fluorescein 1% eye strips

Indication(s): To detect damage to the cornea.

Furosemide injection: 40 mg/4ml

Indication(s): Severe fluid retention in the lungs (pulmonary oedema) due to cardiac failure.

Glucagon injection 1mg

Indication(s): Hypoglycemia

Haloperidol injection 5mg/ml

Indication(s): Severe psychotic hallucinations and delusions; severe agitation and aggressiveness.

Hydrocortisone 1% cream or ointment

Indication(s): Allergy and other inflammatory skin conditions.

Ibuprofen 400 mg tablets

Indication(s): Inflammation; mild to moderate pain.

Isosorbidedinitrate 5mg (sublingual tablets)

Indication(s): Angina; myocardial infarction .

Lidocaine injection 1% (50 mg/5ml)

Indication(s): Local anaesthesia .

Loperamide 2mg tablets

Indication(s): Diarrhea

Mebendazole 100 mg tablets

Indication(s): Intestinal worm infections (not tapeworms).

Metoprolol 100 mg tablets

Indication(s): Hypertension; atrial fibrillation; angina pectoris; migraine prophylaxis.

Metronidazole 500 mg tablets

Indication(s): Ulcerative colitis; antibiotic associated colitis; jaundice; cholecystitis; trichomoniasis.

Miconazole cream 2%

Indication(s): Topical antifungal.

Midazolam injection 5 mg/ml

Indication(s): Seizures (epileptic fits); alternative to haloperidol for sedation of violent patients.

Misoprostol 200 microgram tablets

Indication(s): Prevention of post-partum haemorrhage.

Morphine ampoules 10 mg/ml

Indication(s): severe pain and pain not responsive to other analgesics.

Morphine liquid 10 mg/ml

Indication(s): severe pain in patients able to eat or drink.

Naloxone ampoules 0.5 mg/ml

Indication(s): reverse the effects of opiates, particularly in overdose.

Omeprazole tablets 20 mg

Indication(s): Gastro-oesophageal reflux and peptic ulcer disease.

Ondansetron tablets 4 mg

Indication(s): prevent vomiting and sea-sickness.

Oral Rehydration Salts (ORS) sachets

Indication(s): Prevention and treatment of dehydration, especially due to diarrhea.

Oxymetazoline 0.05% nasal drops

Indication(s): Nasal obstruction due to allergies or viral infection, or to improve sinus drainage in sinusitis.

Paracetamol 500 mg tablets

Indication(s): Pain and fever.

Permethrin 1% lotion

Indication(s): Hair, pubic and body lice.

Permethrin 5% lotion

Indication(s): Scabies.

Povidone iodine 10% solution

Indication(s): Disinfection of skin and wounds.

Povidone iodine 10% ointment

Indication(s): Minor wounds.

Prednisone 5 mg tablets

Indication(s): Acute asthma attack; severe inflammatory reactions.

Salbutamol inhaler 100 µg/dose (200 doses per inhaler)

Indication(s): Acute asthma and anaphylaxis.

Sodium chloride 0.9% infusion, 1 Liter

Indication(s): Fluid replacement.

Tetracycline eye ointment

Indication(s): Eye and ear infections.

سازمان ملل (United Nation)

سازمان ملل، سازمانی بین‌المللی است که در سال ۱۹۴۵ میلادی تشکیل شد. این سازمان توسط ۵۱ کشور تأسیس و در سال ۲۰۱۱ میلادی ۱۹۳ کشور عضو داشته است و اعضای آن تقریباً شامل همه کشورهای مستقل می‌شود که از نظر بین‌المللی به رسمیت شناخته شده‌اند. مقر سازمان ملل متحد در نیویورک است و کشورهای عضو و مؤسسات وابسته در طول هر سال با تشکیل جلسات منظم در مورد امور بین‌المللی و امور اجرایی مربوط به آنها تصمیم‌گیری می‌کنند. کشورهای عضو سازمان ملل و آژانس‌های تخصصی آن به ارائه راهنمایی‌ها و اتخاذ تصمیماتی در جلسات سالانه و دوره‌ای خود می‌پردازند. اداره‌کنندگان جلسات از مجمع عمومی و شورای اقتصادی و اجتماعی و شورای امنیت و حتی هم‌تایان این مجامع در سایر نهادهای وابسته به سازمان ملل هستند، مثلاً مجمع بهداشت جهانی و هیئت اجرایی بر سازمان بهداشت جهانی نظارت می‌کنند.

سازمان بین‌المللی دریانوردی (IMO)^۱

طرح تأسیس سازمان بین‌المللی دریانوردی در ۶ مارس ۱۹۴۸ در کنفرانسی که در ژنو برگزار شده بود به تصویب رسید. این سازمان ۱۰ سال بعد اجرایی گردید و در سال ۱۹۵۸ شروع به کار در جامعه بین‌المللی نمود.

هدف سازمان بین‌المللی دریانوردی تسهیل همکاری و مبادله اطلاعات میان کشورهای عضو در زمینه موضوعات فنی مربوط به کشتیرانی و به وجود آمدن عالی‌ترین معیارهای ایمنی دریایی است. سازمان مذکور نقطه عطفی در جامعه بین‌المللی به‌شمار می‌آید. چرا که این نخستین بار است که یک رکن بین‌المللی صرفاً اختصاص به مسائل دریایی دارد. این سازمان هم اکنون با ۱۷۴ عضو و ۳ عضو وابسته یکی از مؤسسات تخصصی وابسته به سازمان ملل متحد است و مقر آن در لندن می‌باشد.

IMO به‌طور کلی صلاحیت دارد در خصوص کلیه مسائل اداری و حقوقی مربوط به دریانوردی اقدامات و تصمیمات لازم را انجام دهد و تاکنون با بیش از ۵۳ سال فعالیت مستمر توانسته است ۵۰ کنوانسیون و پروتکل و بیش از هزار کد و توصیه نامه در رابطه با ایمنی و امنیت دریانوردی، جلوگیری از آلودگی آب‌ها و موضوعات مرتبط دیگر را به تصویب برساند. مهم‌ترین هدف این سازمان «ایمنی، امنیت، کشتیرانی کارآمد در اقیانوس‌های عاری از آلودگی» است. سازمان بین‌المللی دریانوردی اهداف عمده دیگری نیز دارد از جمله:

- ۱ ایجاد یک سیستم همکاری میان دولت‌ها برای تدوین قواعد و ایجاد یک رویه در مورد کلیه مسائل فنی مرتبط با کشتیرانی تجاری.
- ۲ تشویق و ایجاد تسهیلات برای تصویب قواعد عمومی در قلمرو امنیت دریایی و کشتیرانی مؤثر، جلوگیری از آلودگی دریاها توسط کشتی‌ها و مبارزه بر ضد آلودگی‌ها.
- ۳ تهیه پیش‌نویس کنوانسیون‌ها، موافقت‌نامه‌ها و سایر اسناد در خصوص ایمنی دریانوردی و موضوعات مرتبط با آن و در صورت لزوم تشکیل کنفرانس بین‌المللی جهت تصویب آنها.
- ۴ بررسی و تحقیق در خصوص کلیه مسائلی که از طرف یکی از ارگان‌های تخصصی سازمان ملل متحد به این سازمان ارجاع داده می‌شود.

سازمان بین‌المللی کار (ILO)^۱

یکی از مؤسسات تخصصی سازمان ملل متحد است که به امور مربوط به کار و کارگران می‌پردازد. این سازمان در سال ۱۹۱۹ و در نتیجه بحث‌های کنفرانس صلح پاریس تأسیس شد. سازمان بین‌المللی کار در آغاز وابسته به جامعه ملل بود و پس از تأسیس سازمان ملل متحد از سازمان‌های وابسته به آن شد.

هدف اصلی این مجمع بررسی مشکلات اجتماعی و پذیرش استانداردهای کارگری با به کارگیری کنوانسیون و مقررات و توصیه نامه می‌باشد.

اتحادیه بین‌المللی ارتباطات (ITU)^۲

یک سازمان بین‌المللی و تخصصی وابسته به سازمان ملل متحد است. این اتحادیه وظیفه قانون‌گذاری و مدیریت فضای فرکانس و تدوین استانداردهای تبادل داده و اطلاعات و همچنین کمک به رشد و توسعه ارتباطات در سراسر جهان را بر عهده دارد. علاوه بر موارد ذکر شده این سازمان وظیفه ثبت فرکانس‌های رادیویی مشخص برای جلوگیری از تداخل زیان‌آور بین ایستگاه‌های رادیویی در کشورهای مختلف را انجام می‌دهد.

انتشار کتاب‌های مرتبط در زمینه فرکانس‌ها و ایستگاه‌های دریایی که توسط اپراتور رادیویی کشتی استفاده می‌شود از دیگر فعالیت‌های این سازمان می‌باشد.

کمیسیون بین‌المللی اقیانوس‌شناسی (I.O.C)^۳

این کمیسیون در واقع یکی از زیر مجموعه‌های سازمان علمی، آموزشی و فرهنگی ملل متحد، موسوم به یونسکو است که مرکز آن در پاریس قرار دارد. این کمیسیون نقش کانونی برای گردآوری اطلاعات علمی و پژوهشی پیرامون دریاها و اقیانوس‌ها را ایفا می‌کند و در گردهمایی عمومی این کمیسیون که به طور سالانه تشکیل می‌شود، اقیانوس‌شناسان و صاحب‌نظران علم اقیانوس‌شناسی و آبنگاری جامعه جهانی، با یکدیگر ملاقات و به تبادل و هماهنگی یافته‌های خود می‌پردازند.

کمیته ماهی‌گیری (COFI)^۴

این کمیته یکی از زیر مجموعه‌های سازمان کشاورزی و خواربار F.A.O^۵ محسوب می‌شود. همان‌گونه که از اسمش پیداست وظیفه کمیته نظارت، کنترل و هماهنگ‌سازی امور ماهی‌گیری در تمام دنیا است. از مسئولیت‌های عمده این سازمان حصول اطمینان از حفاظت نسل آبزیان در جهت تأمین مواد غذایی دریایی جامعه جهانی و به‌ویژه کشورهای در حال توسعه است.

۱. International Labor Organization

۲. International Communication Union

۳. Intergovernmental Oceanographic Commission

۴. Committee on Fisheries

۵. Food and Agriculture Organization

سازمان جهانی هواشناسی، یک سازمان دولتی است که در سال ۱۸۷۳ میلادی تأسیس شد و یکی از آژانس‌های تخصصی سازمان ملل متحد است. مسئولیت عمده آن مطالعه بر روی عوامل مؤثر بر وضعیت جوی در سطح جهان را بر عهده دارد و مطالعه بر چگونگی تأثیر متقابل وضعیت جوی بر اقیانوس‌ها را در بر دارد. این سازمان همچنین مطالعه بر چرخه آب که یکی از اصلی‌ترین ملزومات حیات است را انجام می‌دهد.

مؤسسات رده‌بندی

مؤسسات رده‌بندی سازمان‌هایی هستند که در ارتباط با طراحی و ساخت و بازرسی تأسیسات دریایی شامل کشتی‌ها و سازه‌های دریایی و ساحلی استانداردهای فنی ارائه می‌کنند. این استانداردها به عنوان قوانین منتشر شده صادر می‌شوند.

شناوری که تحت قوانین یک مؤسسه رده‌بندی طراحی و ساخته می‌شود از آن مؤسسه گواهی‌نامه رده‌بندی یا کلاس دریافت می‌کند. شرکت، رده‌بندی این گواهی‌نامه را بعد از انجام بازرسی‌های مربوطه صادر می‌کند، چنین گواهی‌نامه به عنوان ضمانتی برای ایمنی و قابلیت انجام سفر دریایی کشتی نمی‌باشد و نباید چنین تعبیر شود.

بلکه این گواهی‌نامه تنها استشهادی است که مشخص می‌کند شناور مطابق با استانداردهای مؤسسه رده‌بندی مربوط ساخته شده است.

به عنوان یک گروه مستقل شرکت‌های رده‌بندی هیچ منافع بازرگانی مربوط به طراحی، ساخت و مالکیت عملیات مدیریت و تعمیرات و نگهداری بیمه و اجاره کشتی ندارند.

قوانین رده‌بندی ایجاد و گسترش یافته‌اند تا به استحکام ساختاری، انسجام قسمت‌های مختلف بدنه کشتی و اجزای آن، قابل اطمینان بودن و کارکرد سیستم رانش و تولید نیرو سیستم‌های جانبی و... کمک کنند.

دو مؤسسه رده‌بندی نیز در کشور فعالیت می‌کنند که با روند رو به رشد قابل قبولی به سمت جهانی شدن گام بر می‌دارند:

۱ مؤسسه رده‌بندی ایرانیان (ICS) Iranian Classification society

۲ مؤسسه رده‌بندی آسیا (ACS) Asia Classification society

۱. World Meteorological Organization

مؤسسات رده‌بندی معتبر (IACS)^۱

بیش از ۵۰ سازمان در دنیا فعالیت خود را تهیه رده‌بندی دریایی تعریف می‌کنند. از این ۵۰ سازمان، ۱۰ سازمان انجمن بین‌المللی مؤسسات رده‌بندی را تشکیل می‌دهند. این ده شرکت از معتبرترین مؤسسات رده‌بندی می‌باشند که به همراه ۲ شرکت دیگر بیش از ۹۴٪ محموله‌های دریایی تجارت بین‌المللی را تحت کلاس خود دارند. از مؤسسات رده‌بندی مهم دنیا می‌توان اسامی زیر را نام برد:

ردیف	مؤسسه رده‌بندی	نام اختصاری	کشور
۱	Lloyds Register	LR	انگلستان
۲	Bureau Veritas	BV	فرانسه
۳ ۴	Germanischer Lloyd and Det Norsk Veritas	GL-DNV	آلمان - نروژ
۵	Registro Italiano Navale	RINA	ایتالیا
۶	American Bureau Of Shipping	ABS	آمریکا
۷	Nipon Kaiji Kyoki	NK	ژاپن
۸	Russian Maritime Register Of Shipping	RS	روسیه
۹	China Classification Society	CCS	چین
۱۰	Korean Register	KR	کره جنوبی

۱. International Association of Classification societies

کنوانسیون‌های بین‌المللی

حقوق دریایی (UNCLOS):^۱ یک معاهده بین‌المللی است که در دسامبر سال ۱۹۸۲ در سومین کنفرانس سازمان ملل متحد در مورد حقوق دریاها در جامائیکا به امضا رسید. این قرارداد بین‌المللی منبع اصلی حقوق دریاهاست و به قانون اساسی دریاها معروف است و قواعد آن به‌طور گسترده‌ای حقوق بین‌المللی عرضی در مورد حقوق دریاها را بیان می‌کند. این معاهده شامل ۳۲۰ بند و ۹ ضمیمه می‌باشد که تمامی موارد مربوط به اقیانوس‌ها از قبیل کنترل محیط‌زیست، حدود دریاها، پژوهش علمی دریایی، فعالیت‌های اقتصادی و تجاری، انتقال تکنولوژی و برطرف نمودن اختلافات مربوط به مسائل اقیانوس‌ها را شامل می‌شود.

نجات در دریا (SOLAS):^۲ کنوانسیون یا پیمان نامه نجات در دریا را به جرأت می‌توان مهم‌ترین معاهده در ارتباط با ایمنی کشتی‌های تجاری در نظر گرفت. پس از فاجعه کشتی تایتانیک^۳ نسخه اولیه این کنوانسیون مورد پذیرش قرار گرفت و نسخه‌های متوالی این کنوانسیون در سال‌های بعد شکل گرفت: مهم‌ترین هدف این کنوانسیون تبیین کردن حداقل استانداردهای ایمنی لازم در ارتباط با ساختمان ملزومات و بهره‌برداری استفاده از کشتی‌ها می‌باشد. کشورهای عضو در سازمان بین‌المللی دریایی ملزم می‌باشند که از انجام مقررات این کنوانسیون از قبیل تعداد مدارک و ملزومات قانونی آن بروی کشتی‌های تحت پرچم آنها اطمینان حاصل نمایند.

کنوانسیون نجات در دریا در حال حاضر شامل چهارده بخش می‌باشد:

- بخش اول: موارد کلی
- بخش دوم قسمت اول: ساختمان، زیربخش‌ها و تعادل، موتورخانه، و تأسیسات الکتریکی
- بخش دوم قسمت دوم: حفاظت در برابر آتش، کشف و مهار آتش
- بخش سوم: اسباب و آلات نجات‌دهنده جان انسان‌ها
- بخش چهارم: ارتباط رادیویی
- بخش پنجم: ایمنی ناوبری
- بخش ششم: حمل بارها
- بخش هفتم: حمل بارهای خطرناک
- بخش هشتم: کشتی‌های هسته‌ای
- بخش نهم: مدیریت برای بهره‌برداری ایمن از کشتی
- بخش دهم: موارد ایمنی برای شناورهای تندرو
- بخش یازدهم قسمت اول: اقدامات خاص برای افزایش ایمنی دریایی
- بخش یازدهم قسمت دوم: اقدامات خاص برای افزایش امنیت دریایی

۱. United Nation Conference on the Law of the sea

۲. Safety of Life at Sea

۳. تایتانیک: نام کشتی مسافبری است که بین انگلیس و آمریکا غرق شد و...

بخش دوازده: اقدامات ایمنی بیشتر برای کشتی‌های فله‌بر
بخش سیزدهم: تأیید انطباق
بخش چهاردهم: اقدامات ایمنی کشتی‌های فعال در آب‌های مناطق قطبی.

جلوگیری از آلودگی محیط زیست توسط کشتی‌ها (MARPOL): همان‌طور که در بخش حفاظت از محیط زیست به این کنوانسیون پرداخته شده است به متن انگلیسی از وب‌گاه^۱ IMO توجه نمایید:

The International Convention for the Prevention of Pollution from Ships (MARPOL) is the main international convention covering prevention of pollution of the marine environment by ships from operational or accidental causes. The MARPOL Convention was adopted on ۲ November ۱۹۷۳ at IMO. The Protocol of ۱۹۷۸ was adopted in response to a spate of tanker accidents in ۱۹۷۶-۱۹۷۷. As the ۱۹۷۳ MARPOL Convention had not yet entered into force, the ۱۹۷۸ MARPOL Protocol absorbed the parent Convention. The combined instrument entered into force on ۲ October ۱۹۸۳. In ۱۹۹۷, a Protocol was adopted to amend the Convention and a new Annex VI was added which entered into force on ۱۹ May ۲۰۰۵. MARPOL has been updated by amendments through the years. The Convention includes regulations aimed at preventing and minimizing pollution from ships - both accidental pollution and that from routine operations - and currently includes six technical Annexes. Special Areas with strict controls on operational discharges are included in most Annexes.

Annex I - Regulations for the Prevention of Pollution by Oil (entered into force ۲ October ۱۹۸۳).

Covers prevention of pollution by oil from operational measures as well as from accidental discharges; the ۱۹۹۲ amendments to Annex I made it mandatory for new oil tankers to have double hulls and brought in a phase-in schedule for existing tankers to fit double hulls, which was subsequently revised in ۲۰۰۱ and ۲۰۰۳. **Annex II Regulations for the Control of Pollution by Noxious Liquid Substances in Bulk** (entered into force ۲ October ۱۹۸۳).

Details the discharge criteria and measures for the control of pollution by noxious liquid substances carried in bulk; some ۲۵۰ substances were evaluated and included in the list appended to the Convention; the discharge of their residues is allowed only to reception facilities until certain concentrations and conditions (which vary with the category of substances) are complied with

In any case, no discharge of residues containing noxious substances is permitted within ۱۲ miles of the nearest land.

Annex III Prevention of Pollution by Harmful Substances Carried by Sea in Packaged Form (entered into force ۱ July ۱۹۹۲).

Contains general requirements for the issuing of detailed standards on packing.

۱. <http://www.imo.org>

marking, labelling, documentation, stowage, quantity limitations, exceptions and notifications.

For the purpose of this Annex, "harmful substances" are those substances which are identified as marine pollutants in the International Maritime Dangerous Goods Code (IMDG Code) or which meet the criteria in the Appendix of Annex III.

Annex IV Prevention of Pollution by Sewage from Ships (entered into force ۲۷ September ۲۰۰۳).

Contains requirements to control pollution of the sea by sewage; the discharge of sewage into the sea is prohibited, except when the ship has in operation an approved sewage treatment plant or when the ship is discharging comminuted and disinfected sewage using an approved system at a distance of more than three nautical miles from the nearest land; sewage which is not comminuted or disinfected has to be discharged at a distance of more than ۱۲ nautical miles from the nearest land.

Annex V Prevention of Pollution by Garbage from Ships (entered into force ۳۱ December ۱۹۸۸).

Deals with different types of garbage and specifies the distances from land and the manner in which they may be disposed of; the most important feature of the Annex is the complete ban imposed on the disposal into the sea of all forms of plastics.

Annex VI Prevention of Air Pollution from Ships (entered into force ۱۹ May ۲۰۰۵)
Sets limits on Sulphur oxide and nitrogen oxide emissions from ship exhausts and prohibits deliberate emissions of ozone depleting substances; designated emission control areas set more stringent standards for Sox, NOx and particulate matter. A chapter adopted in ۲۰۱۱ covers mandatory technical and operational energy efficiency measures aimed at reducing greenhouse gas emissions from ships.

استانداردهای آموزشی اعطای مدارک و نگهداری توسط دریانوردان^۱ (stcw): این کنوانسیون پایه‌گذار و معرفی‌کننده استانداردهای صلاحیت و ارتقا برای افسران و خدمه نگهداری در کشتی‌های تجاری می‌باشد.

قبل از تبیین این کنوانسیون، استانداردهای اولیه برای آموزش، مدارک و انجام کشیک برای افسران و خدمه کشتی‌ها در کشورهای مختلف به صورت جداگانه و مستقل از یکدیگر به کار گرفته می‌شد و به همین دلیل استانداردهای گوناگون دیده می‌شد.

در نتیجه این کنوانسیون حداقل استانداردهای لازم در ارتباط با آموزش، مدارک و امور کشیک را برای دریانوردان تعیین نمود که کشورها ملزم به رعایت حدود ذکر شده بودند. یکی از مهم‌ترین نمودهای این کنوانسیون رعایت حداقل استانداردها حتی برای کشورهای غیر عضو و تصویب نکرده می‌باشد در صورتی که در حال کشتیرانی در آب‌های کشورهای تصویب‌کننده این کنوانسیون باشند. آخرین اصلاحیه وارد به این کنوانسیون اصلاحیه سال ۲۰۱۰ مانپلا می‌باشد که از ژانویه سال ۲۰۱۲ اجباری شده است.

۱. Standards of Trainings, Certification and Watch keeping for Seafarers (STCW)

از اهداف اصلی این اصلاحیه یکسان کردن استانداردهای آموزش با تکنولوژی روز دنیا و شرایط عملیاتی جدید می‌باشد که نیاز به شایستگی‌ها و صلاحیت‌های به روز با علم دریانوردی و کشتیرانی را دارد.

خط شاهین بارگیری^۱: این کنوانسیون مربوط به اندازه‌گیری ظرفیت کشتی‌ها می‌باشد. بر اساس این کنوانسیون دولت‌ها به منظور رعایت مقررات مربوط به خط شاهین را تعهد می‌کنند که مفاد این کنوانسیون را به موقع به اجرا گذاشته و آیین‌نامه‌های آن و هر نوع اقدام دیگری را که به لحاظ اجرای کامل این کنوانسیون لازم است به موقع اجرا نمایند. عملاً این کنوانسیون مشخص می‌کند که هر کشتی تا چه میزان می‌تواند بارگیری نماید. مشخصاً محدودیت‌های قرار داده شده در آب‌خور کشتی ارتباط مستقیم با ایمنی و غوطه‌وری کشتی دارد.

این محدودیت‌ها در فرم قسمت‌های تحتانی عرشه کشتی که غیر قابل نفوذ آب می‌باشند و در کنار این‌ها قابلیت نفوذ ناپذیری در برابر آب و هوا و امواج دریا هدف اصلی این کنوانسیون می‌باشد.

قوانین جلوگیری از تصادفات در دریا (COLREGS)^۲: تاریخچه وجود قانون برای جلوگیری از تصادف در دریا به صدها سال پیش بر می‌گردد و نشانه‌هایی دال بر این مطلب در متون تاریخی موجود می‌باشد اما این قوانین مدون نبود و الزامی جهت اجرای آن وجود نداشت. اولین قانون مدون در سال ۱۸۴۰ در شهر لندن (کشور انگلستان) نوشته شد و به تصویب پارلمان انگلستان رسید.

این قانون شامل دو ماده جهت تردد کشتی‌های بخار در کانال‌ها و آب‌راه‌های منتهی به بنادر بود. ناخدایان کشتی‌ها ملزم به رعایت و اجرای آن بودند. به تدریج با پیشرفت صنعت دریانوردی و ساخت کشتی‌های جدید و بالا رفتن میزان تردد کشتی‌ها در دریاها قوانین کامل و کامل‌تر شد.

تا اینکه در سال ۱۹۷۲ یک بازنگری اساسی در آن صورت گرفت و به صورت کنوانسیون درآمد. چگونگی هدایت شناورها در دید یکدیگر و چگونگی هدایت آنها در دید محدود، چگونگی کاربرد چراغ‌ها و علائم روز توسط شناورهای مختلف، علائم صوتی و نورانی شامل وسایل و علائم صوتی علائم مانور و اخطار. علائم صوتی در دید محدود و علائم جلب توجه و علائم اضطراری از دیگر موادی است که در این مقررات تشریح شده است.

تسهیل در ترافیک دریایی (FAL)^۳: هدف اصلی از تصویب این کنوانسیون جلوگیری از اتلاف وقت غیر ضروری در امور رفت و آمد دریایی می‌باشد. علاوه بر این کمک به همکاری بین دولت‌ها و همچنین نیاز به حفظ و ایجاد درجه عملیات بالا در یکسان‌سازی تشریفات و روش‌ها در رفت و آمد دریایی می‌باشد.

کار دریایی (MLC)^۴: به منظور کمک به تحقق شرایط کار مناسب برای خدمه ایجاد شده است. این کنوانسیون حقوق اساسی و اصولی را که دریانورد در ارتباط با شرایط کار و زندگی روی کشتی با آن روبه‌رو است بر می‌شمارد.

ایده ایجاد یک کنوانسیون واحد بین‌المللی با موضوع استانداردهای استخدامی دریانوردان در اواخر دهه ۹۰ میلادی توسط فدراسیون بین‌المللی کشتیرانی، که وظیفه هماهنگی اتحادیه‌های

۱. Load Line Convention

۲. Convention on the International Regulations for Preventing Collisions at Sea

۳. Facilitation of International Maritime Traffic

۴. Maritime Labour Convention

مالکان کشتی جهان را به عهده دارد و فدراسیون جهانی کارگران حمل و نقل (ITF)، مطرح شد و طی یک فرایند کاری گسترده تبدیل به محصول کار جمعی صدها، اگر نگوئیم هزاران نماینده کارفرمایان و دریانوردان از سراسر جهان شد.

این کنوانسیون که در فوریه سال ۲۰۰۶ به تصویب رسید به عنوان ستون چهارم قوانین بین‌المللی دریایی در نظر گرفته شده است.

این کنوانسیون حداقل استانداردهای زندگی و کاری را برای حدود ۱/۵ میلیون دریانورد در سطح جهان وضع کرده است و این رؤیایی است که از شروع به کار سازمان جهانی کار در ۱۹۲۰ در ذهن‌ها بود و تحقق آن مدیون همکاری جامعه بین‌المللی دریانوردی است.

کدهای بین‌المللی

کد بین‌المللی برای ایمنی سیستم‌های آتش^۱: این کتاب راهنما توسط سازمان دریانوردی به منظور ارتقای مستندات فنی و تطابق با استانداردهای بین‌المللی از جمله سولاس بخش ۲-۱ تدوین شده است. تمامی کشتی‌ها ملزم به رعایت این کد با فصول زیر می‌باشند :

فصل ۱- عمومی

فصل ۲- اتصال بین‌المللی لوله آتش‌نشانی

فصل ۳- محافظت شخصی

فصل ۴- کپسول آتش‌نشانی

فصل ۵- سیستم‌های آتش خاموش گاز ثابت

فصل ۶- سیستم‌های خاموش‌کننده ثابت فومی

فصل ۷- سیستم‌های خاموش‌کننده آتش با فشار ثابت آب

فصل ۸- آب پاش اتوماتیک، تشخیص آتش‌سوزی و سیستم‌های اعلام حریق

فصل ۹- سیستم ثابت تشخیص آتش و سیستم‌های هشدار

فصل ۱۰- سیستم‌های تشخیص دود و هشدار

فصل ۱۱- سیستم‌های روشنایی سطح پایین

فصل ۱۲- پمپ اضطراری ثابت آتش

فصل ۱۳- ترتیبات فرار اضطراری

فصل ۱۴- سیستم ثابت فوم عرشه

فصل ۱۵- سیستم گاز بی‌اثر

کد بین‌المللی وسایل نجات در دریا: این کتاب راهنما توسط سازمان دریانوردی به منظور ارتقای مستندات فنی و تطابق با استانداردهای بین‌المللی از جمله بخش سه سلاس تدوین شده است.

تمامی کشتی‌ها ملزم به رعایت این کد با فصول زیر می‌باشند :

فصل ۱- عمومی.

فصل ۲- تجهیزات انفرادی نجات در دریا.

فصل ۳- هشدار دهنده‌های دیداری.

فصل ۴- شناور بقا در دریا.

فصل ۵- قایق نجات اضطراری.

فصل ۶- تجهیزات به آب اندازی و سوار شدن.

فصل ۷- باقی وسایل نجات.

چک لیست‌ها

مبارزه با حریق

- ۱ به صدا درآوردن هشدار وضعیت اضطراری توسط افسر نگهبان پل فرماندهی و اعلان حریق از طریق سیستم اعلانات کشتی.
- ۲ قرار دادن موتورهای به حالت Stand By
- ۳ اطلاع به فرمانده
- ۴ بستن کلیه Fire Doors به‌طور خودکار از پل فرماندهی و یا دستی
- ۵ بستن کلیه فن‌ها و هواکش‌ها
- ۶ توجه به سمت باد یا قرار دادن کشتی در جهت مخالف باد
- ۷ پلات کردن موقعیت کشتی
- ۸ ارسال پیام Urgency یا Distress به وسیله افسر مخابرات (بنا به تشخیص) برابر قالب مربوط
- ۹ توجه به حرکات سایر کشتی‌ها و برقرار بودن نگهبانی پل فرماندهی
- ۱۰ روشن کردن چراغ‌های عرشه
- ۱۱ نمایش چراغ مربوطه NUC یا سیگنال مربوط در روز
- ۱۲ قرار گرفتن نفرات غیرمسئول در پناهگاه
- ۱۳ ثبت کلیه وقایع در دفتر مربوطه

مبارزه با آب‌گرفتگی: آب‌گرفتگی ممکن است در اثر ایراد خسارات و صدمه به کشتی مانند تصادم، سوراخ شدن بدنه زیرآبی کشتی در اثر برخورد به صخره یا شیء زیرآبی، به گل زدن، حریق، حمله نظامی، انفجار و یا آسیب دیدن درهای نفوذناپذیر در دریای خراب و یا در اثر باز بودن دریچه، درب انبارها و یا در اثر کوتاهی و غفلت کارکنان کشتی به وجود آید. فضاهای غرق شده در آب باعث تغییر تعادل کشتی، ایجاد کجی، باعث افزایش بیش از حد مجاز آبخور و تغییر در وضعیت تعادل کشتی می‌شود. در زمان آب‌گرفتگی موارد زیر انجام شود:

- ۱ بستن کلیه درب‌های آب نفوذناپذیر
- ۲ اطلاع به فرمانده کشتی و گزارش وضعیت به وی
- ۳ اطلاع به موتورخانه و فعال کردن پمپ‌های مربوطه
- ۴ پلات کردن موقعیت کشتی بر روی نقشه
- ۵ ارسال پیام Urgency یا Distress توسط افسر مخابرات
- ۶ نمایش چراغ‌های NUC و یا علائم مربوطه به روز
- ۷ ثبت کلیه وقایع

تصادم: تصمیم‌گیری غلط در مانور کشتی و یا غفلت کردن در هنگام مانور با کشتی می‌تواند از دلایل بروز تصادم با سایر کشتی‌ها و یا اجسام شناور بر روی آب و یا هر چیز ثابت دیگر در بندر گردد. میزان و حجم خسارات وارده در اثر تصادم بستگی به سرعت و زاویه برخورد دو شیء یا دو کشتی به یکدیگر دارد.

برخورد دو کشتی با یکدیگر حتی ممکن است در حالت لنگر هم اتفاق بیفتد، وقتی که دو کشتی در حال چرخیدن حول نقطه لنگر خود هستند، بدنه بالایی و پایینی خط آب‌خور در هنگام تصادم قابل توجه خواهند بود. اگر قسمت سینه یک کشتی به کشتی شما برخورد کرده باشد. حریق، انفجار، شل شدن بار، صدمه دیدن بار، آلودگی، ایجاد، List و Trim بیش از اندازه پیامدهای آن می‌باشند. به‌علاوه ضربه خوردن به محدوده موتورخانه ممکن است باعث عدم تحریک توقف کشتی شود. در صورت وارد شدن خسارت جدی به کشتی در اثر تصادم، مراجعت کشتی به بندر با محلی امن ممکن است اجتناب‌ناپذیر باشد که در این صورت کشتی می‌بایست در محل امنی لنگر بیندازد و یا به اسکله پهلوگیری شود.

به گل زدن: به گل زدن کشتی باعث تغییر آب‌خور کشتی، تریم و در برخی موارد باعث آسیب رساندن به بدنه زیر آبی و سوراخ شدن آن و ایجاد آب‌گرفتگی می‌شود و حتی ممکن است باعث کاهش تعادل و ایجاد کجی و یا حتی واژگون شدن کشتی گردد. به گل زدن ممکن است در کنار اسکله و یا زمانی که کشتی در لنگر است هم اتفاق بیفتد. در چنین مواقعی چنانچه مخازن سوخت کشتی آسیب ببینند باعث آلودگی آب دریا و حتی ممکن است باعث ایجاد آتش‌سوزی در اطراف کشتی گردد. در این شرایط، اقدامات زیر می‌بایست انجام شود:

- ۱ ایست دادن موتور کشتی؛
- ۲ اعلام وضعیت اضطراری در کشتی؛
- ۳ بستن کلیه درب‌های ضد آتش و آب نفوذناپذیر؛
- ۴ تشکیل تیم کنترل صدمات و اعزام آنها به محل مربوطه؛
- ۵ ارزیابی عمق آب در اطراف کشتی؛
- ۶ بررسی سطح آب موجود در مخازن کشتی و خن‌ها و بازدید بصری آنها؛
- ۷ آماده کردن لوله‌ها و پمپ‌های تخلیه آب؛
- ۸ پلات کردن موقعیت کشتی؛
- ۹ اطلاع به فرمانده کشتی؛
- ۱۰ استفاده از یدکش در صورت امکان؛
- ۱۱ اطلاع به مالک کشتی و گارد ساحلی منطقه؛
- ۱۲ ثبت تمامی وقایع در دفتر مربوطه.

کار با بالگرد

نکات ایمنی

- ۱ برقراری ارتباط رادیویی با بالگرد و دادن اطلاعات لازم به آن
- ۲ پاکسازی محل فرود و یا محوطه مخصوص کار با بالگرد از هرگونه مانع، افراد و یا وسایل اضافی و همچنین وسایل سبک که احتمال پرتاب شدن آنها به هوا و برخورد با ملخ یا موتور بالگرد وجود داشته باشد.
- ۳ آماده بودن تیم حریق و کنترل صدمات یا تجهیزات لازم و کامل در محل مربوط به همراه جلیقه نجات
- ۴ خواباندن میله پرچم، آنتن‌ها، دکل‌ها و نرده حفاظ اطراف محل فرود بالگرد
- ۵ مشخص نمودن محل پرواز کردن یا فرود بالگرد با حرف H

- ۶ آماده کردن قایق یا قایق‌های نجات
- ۷ آماده‌سازی وسایل مهار بالگرد در سطح عرشه
- ۸ گماردن فرد آگاه جهت علامت دادن به خلبان در زمان نزدیک شدن و لحظه نشست یا برخاست
- ۹ اطلاع به فرمانده کشتی
- ۱۰ تأمین روشنایی محل کار بالگرد و یا حصول اطمینان از سالم بودن چراغ‌های عرشه پرواز
- ۱۱ برافراشتن پرچم H

قوانین و مقررات بین‌المللی

در تمام عملیات مشترک کشتی با بالگرد به نفرات درگیر کار توصیه شده است که عملیات مذکور را بر مبنای قوانین استاندارد و ایمنی صادره از طرف سازمان بین‌المللی هواپیمایی کشوری انجام دهند. این قوانین عبارت‌اند از:

- ۱ مسئولیت ایمنی کشتی در تمام موارد به‌عهده فرمانده کشتی می‌باشد.
- ۲ مسئولیت ایمنی بالگرد در تمام موارد به‌عهده خلبان می‌باشد.
- ۳ مدیر تأسیسات ساحلی، تعیین فرد مسئول کار با بالگرد را به‌عهده دارد.
- ۴ مالک تأسیسات ملی، مسئولیت فراهم کردن محل ایمن و تیم اطفای حریق با تجهیزات کامل جهت فرود ایمن بالگرد را برعهده دارد.
- ۵ افسر یا نفر مخابراتی، مسئول برقراری ارتباط ساحل یا کشتی با بالگرد در زمان نشست و برخاست و همچنین در طول پرواز آن می‌باشد.
- ۶ افسر نشاندن بالگرد در کشتی مسئول کنترل نشست و برخاست ایمن بالگرد می‌باشد.
- ۷ خدمه بالگرد مسئول سوار و پیاده کردن افراد می‌باشند.
- ۸ یک نفر مسئول در بالگرد، مسئولیت کنترل بار و مدارک مربوطه را برعهده دارد.

فصل ۳

یادگیری مادام‌العمر حرفه‌ای و فناوری اطلاعات

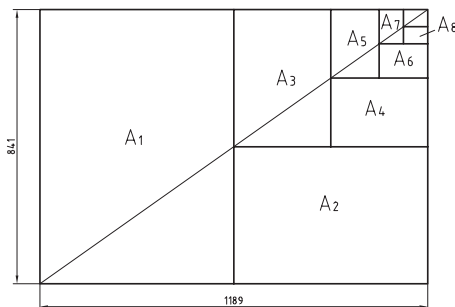
مقیاس و کاغذهای نقشه کشی

استاندارد سایر کشورها

DIN	آلمان	AS	استرالیا	ISIRI	ایران
ASA	آمریکا	BS	انگلستان	UNI	ایتالیا
FN	فرانسه	Gost	روسیه	CAS	چین
				CSA	کانادا

ضمناً استانداردهای ISO در مورد نقشه کشی (و نیز در موارد دیگر) با یک شماره منتشر می شوند. برای نمونه به چند مورد توجه کنید (که پس از انتشار تا زمانی که منسوخ اعلام نشوند اعتبار خواهند داشت). برای نمونه:

ISO - ۱۲۸	اصول نقشه کشی
ISO - ۱۲۹	اندازه گذاری
ISO - ۲۰۶	تولانس های ابعادی
ISO - ۱۱۰۱	تولانس های هندسی
ISO - ۲۷۶۸	تولانس های هندسی




$$A_0 = 1\text{m}^2 = 1000000\text{ mm}^2$$

$$\frac{a}{b} = \sqrt{2}$$

اندازه کاغذهای نقشه کشی بر حسب میلی متر

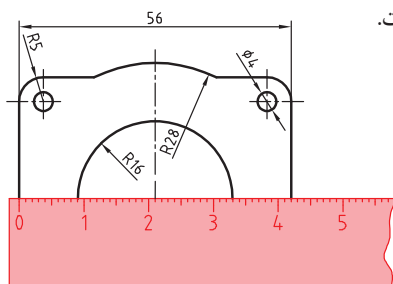
A _۰	۱۱۸۹×۸۴۱	A _۴	۴۲۰×۲۹۷
A _۱	۸۴۱×۵۹۴	A _۵	۲۹۷×۲۱۰
A _۲	۵۹۴×۴۲۰		۲۱۰×۱۴۸

این جدول، گروه‌های خط و کاربرد آنها در کاغذهای گوناگون را نشان می‌دهد.

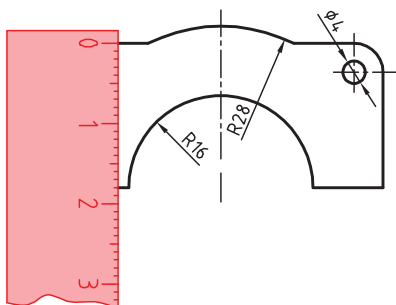
گروه	خط اصلی d	خط متوسط d'	خط نازک d''	پهنای خط اصلی	مناسب برای کاغذ
۱	۲	۱/۴	۱		خیلی بزرگ
۲	۱/۴	۱	۰/۷		A _۰
۳	۱	۰/۷	۰/۵		A _۰
۴	۰/۷	۰/۵	۰/۳۵		A _۰ , A _۱
۵	۰/۵	۰/۳۵	۰/۲۵		A _۰ , A _۱ , A _۳ , A _۴
۶	۰/۳۵	۰/۲۵	۰/۱۸		A _۲ , A _۳ , A _۴
۷	۰/۲۵	۰/۱۸	۰/۱۳		A _۴ , A _۵

تعیین مقیاس نقشه: گاهی با تصویربرداری، چاپ یا کپی نقشه، مقیاس آن تغییر می‌کند. برای تعیین مقیاس نقشه‌ای که دارای اندازه‌گذاری است باید یکی از اندازه‌های طولی (ترجیحاً یکی از اندازه‌های بزرگ‌تر) را با خط‌کش اندازه‌گیری کرد و آن را بر عدد اندازه‌ای که روی نقشه نوشته شده است تقسیم نمود تا مقیاس نقشه به دست آید. با داشتن مقیاس می‌توان بقیه طول‌هایی که اندازه‌گذاری نشده‌اند را نیز تعیین کرد.

در نقشه داده شده، طول قطعه ۴۲ میلی‌متر اندازه‌گیری شده است. بنابراین مقیاس نقشه ۰/۷۵ یا $\frac{42}{56}$ است. ارتفاع قطعه نیز که اندازه‌گذاری نشده است.



با خط‌کش ۱۸ میلی‌متر اندازه‌گیری شد که در واقع $\frac{18}{0.75} = 24$ میلی‌متر است.



خط مماس بر دایره از نقطه‌ای خارج از دایره

روش اول: به کمک دو گونیا

۱ ابتدا یک ضلع قائمه گونیا را طوری قرار دهید که از نقطه A گذشته و بر دایره به صورت ظاهری مماس باشد.

۲ گونیای دوم را زیر گونیای اول قرار دهید.

۳ درحالی که گونیای دوم ثابت است گونیای اول را طوری حرکت دهید که لبه قائمه آن از مرکز دایره بگذرد. در این حالت روی دایره یک خط نازک رسم کنید.

۴ حال با مشخص شدن نقطه مماس، خط مماس را رسم کنید.

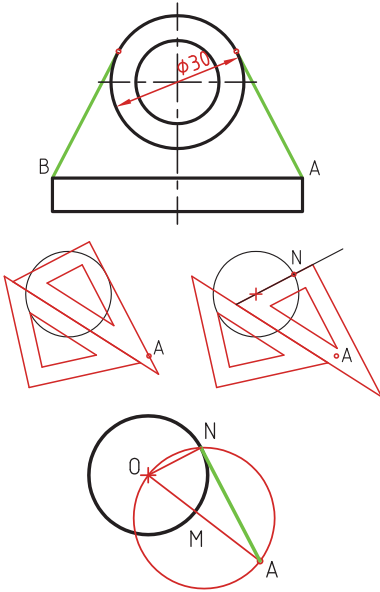
روش دوم: ترسیمی

۱ خطی از نقطه A به مرکز دایره رسم کنید.

۲ نقطه M وسط OA را پیدا کنید.

۳ به مرکز M دایره MA را رسم کنید.

۴ نقطه N محل تقاطع دو دایره نقطه مماس است.



خط مماس دو دایره

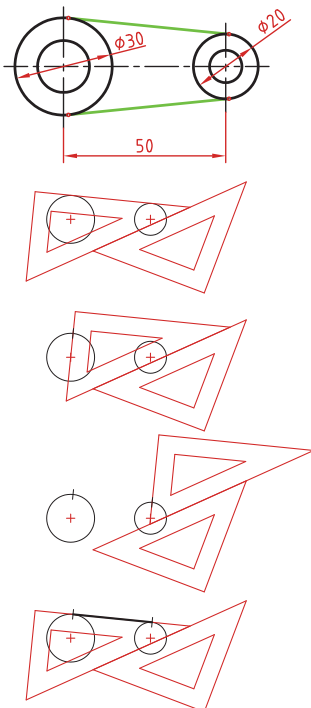
۱ ابتدا یک ضلع قائمه گونیا را طوری قرار دهید که بر دایره به صورت ظاهری مماس باشد.

۲ گونیای دوم را زیر گونیای اول قرار دهید.

۳ درحالی که گونیای دوم ثابت است گونیای اول را طوری حرکت دهید که لبه قائمه آن از مرکز دایره بگذرد. در این حالت روی دایره یک خط نازک رسم کنید.

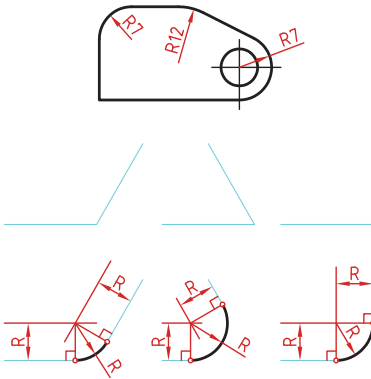
۴ برای دایره دوم نیز همین مرحله را تکرار کنید.

۵ حال با مشخص شدن نقاط مماس، خط مماس را رسم کنید.



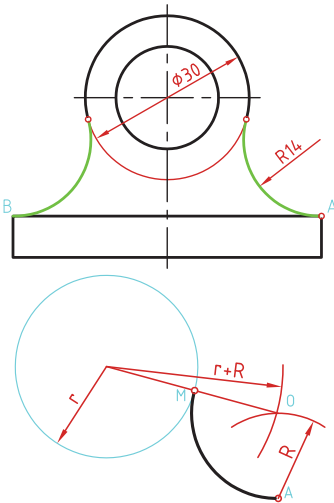
مماس بین دو خط متقاطع

- ۱ خطی موازی ضلع اول به فاصله R رسم کنید.
- ۲ خطی موازی ضلع دوم به فاصله R رسم کنید.
- ۳ محل تقاطع این دو خط مرکز قوس مماس است. از مرکز مماس بر اضلاع عمود کنید تا نقاط مماس به دست آید.



مماس از یک نقطه بر دایره

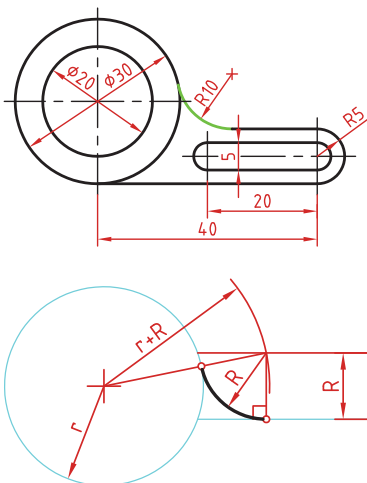
- ۱ به مرکز A کمانی به شعاع R (شعاع معلوم مماس) رسم کنید.
- ۲ به مرکز دایره کمانی به شعاع $r+R$ (شعاع دایره به علاوه شعاع معلوم مماس) رسم کنید. محل تقاطع این دو کمان (O) مرکز قوس مماس است.
- ۳ از مرکز مماس، خطی به مرکز دایره رسم کنید تا نقطه مماس M به دست آید.



مماس بین خط و دایره

برای تعیین مرکز قوس مماس باید ابتدا توجه نمود که مماس در داخل دایره و یا خارج دایره و همین طور در کدام سمت خط قرار دارد. در صورتی که مماس داخل دایره باشد از $r-R$ و اگر خارج دایره بود از $r+R$ برای شعاع کمان استفاده کنید.

- ۱ خطی موازی خط به فاصله R رسم کنید (بالای خط).
- ۲ کمانی به شعاع $r+R$ (شعاع دایره به علاوه شعاع معلوم مماس) رسم کنید. محل تقاطع این خط و کمان، مرکز قوس مماس است.
- ۳ از مرکز مماس بر خط عمود کنید تا نقطه مماس روی خط به دست آید.
- ۴ از مرکز مماس خطی به مرکز دایره رسم کنید تا نقطه مماس روی دایره نیز به دست آید.



مماس بین دو دایره (مماس خارج)

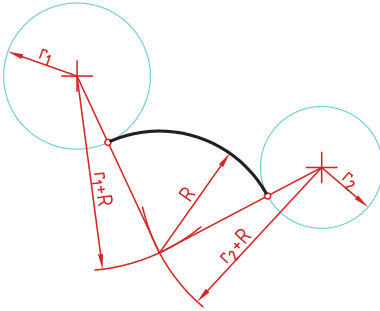
در این مماس فاصله مرکز قوس مماس با مرکز دایره مجموع دو شعاع است.

دایره‌های معلوم را در موقعیت مورد نظر ترسیم کنید. کمائی به شعاع $r_1 + R$ (شعاع دایره اول به علاوه شعاع معلوم مماس) رسم کنید.

کمائی به شعاع $r_2 + R$ (شعاع دایره دوم به علاوه شعاع معلوم مماس) رسم کنید.

از مرکز مماس، خطی به مرکز دایره اول رسم کنید تا نقطه مماس روی این دایره به دست آید.

از مرکز مماس خطی به مرکز دایره دوم رسم کنید تا نقطه مماس روی این دایره نیز به دست آید.



مماس بین دو دایره (مماس داخل)

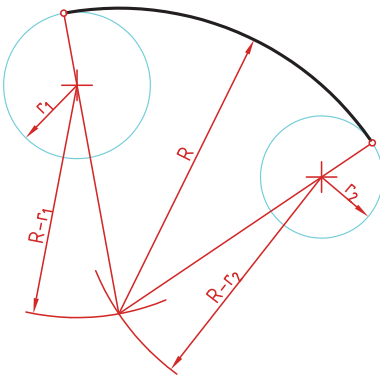
در این مماس فاصله مرکز قوس مماس با مرکز دایره تفاضل شعاع مماس با شعاع دایره است.

دایره‌های معلوم را در موقعیت مورد نظر ترسیم کنید. از مرکز دایره اول کمائی به شعاع $R - r_1$ (شعاع مماس منهای دایره اول) رسم کنید.

از مرکز دایره دوم کمائی به شعاع $R - r_2$ (شعاع مماس منهای دایره دوم) رسم کنید.

از مرکز مماس خطی به مرکز دایره اول رسم کرده و امتداد دهید تا نقطه مماس روی این دایره به دست آید.

از مرکز مماس خطی به مرکز دایره دوم رسم کرده و امتداد دهید تا نقطه مماس روی این دایره نیز به دست آید.



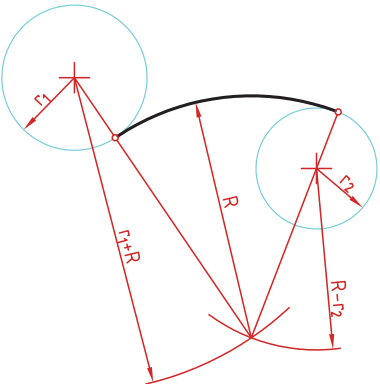
مماس محدب - مقعر (مماس ترکیبی)

در این مماس فاصله مرکز قوس مماس با مرکز یکی از دایره‌ها مجموع دو شعاع است و با دایره دیگر تفاضل شعاع مماس با شعاع دایره است.


دایره‌های معلوم را در موقعیت مورد نظر ترسیم کنید. کمائی به شعاع $r_1 + R$ (شعاع دایره‌ای که خارج از قوس مماس قرار دارد به علاوه شعاع معلوم قوس مماس) رسم کنید.


کمائی به شعاع $R - r_2$ (شعاع مماس منهای دایره‌ای که داخل قوس مماس قرار دارد) رسم کنید.

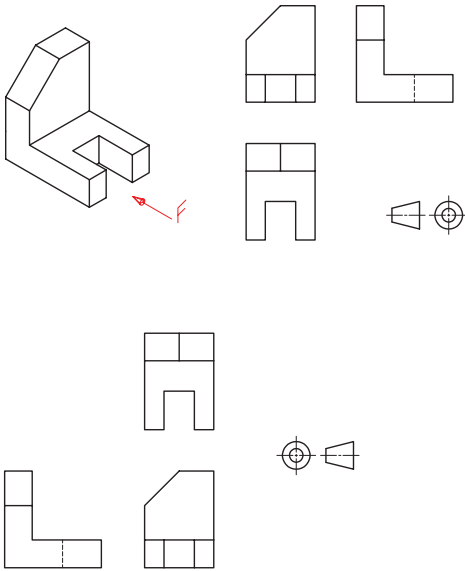
از مرکز مماس خطی به مرکز دایره اول رسم کنید تا نقطه مماس روی این دایره به دست آید.



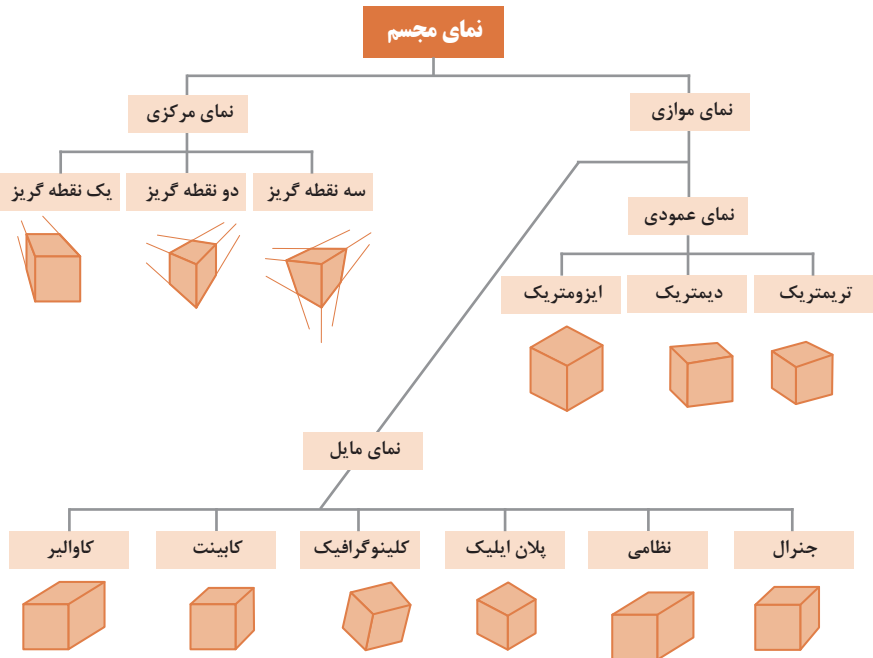
رسم نما (در روش‌های مختلف)

رسم نما از قطعات در دو روش فرجه اول و فرجه سوم انجام می‌شود. فرجه اول را با علامت‌های E یا  مشخص می‌کنند. در ایران این روش متداول است. در این روش نمای افقی در زیر نمای روبه‌رو و دید از چپ در سمت راست نمای روبه‌رو ترسیم می‌شود.

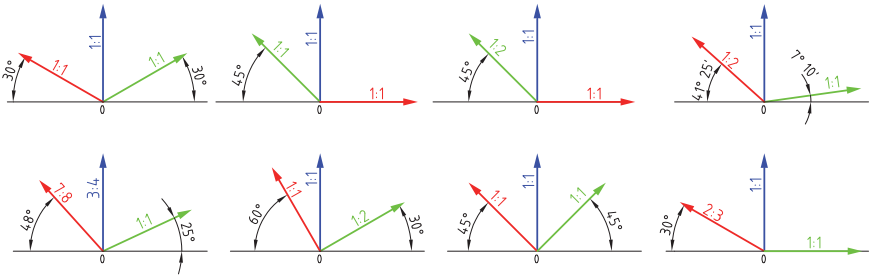
در فرجه سوم که با A یا  مشخص می‌شود، نمای از بالا در بالای نمای روبه‌رو و دید از راست در سمت راست نمای روبه‌رو ترسیم می‌شود.



انواع تصویر مجسم

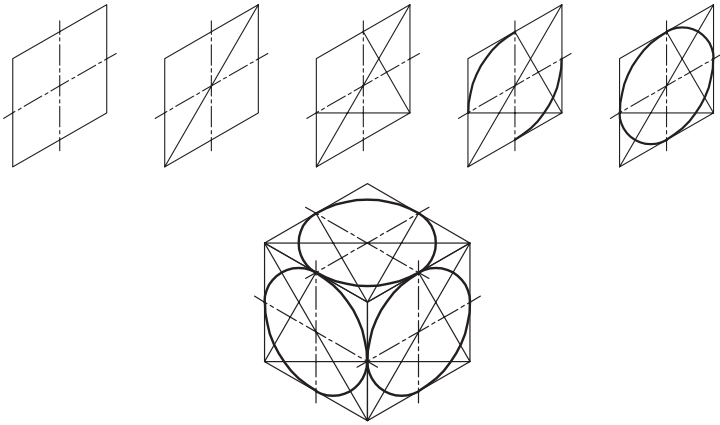


زاویه و مقیاس انواع تصویر مجسم موازی

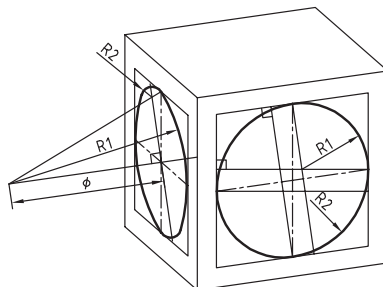


روش ترسیم دایره در تصویر مجسم ایزومتریک

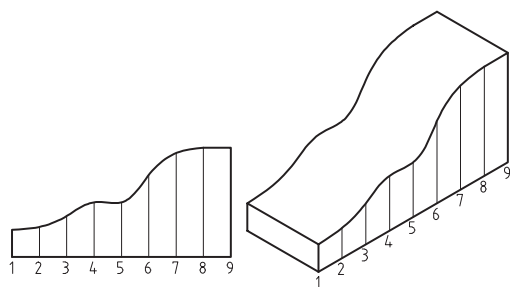
- مرحله ۱- ترسیم خطوط محور
- مرحله ۲- ترسیم خطوط موازی با محورها به فاصله شعاع دایره از مرکز به طوری که یک متوازی الاضلاع تشکیل شود.
- مرحله ۳- ترسیم خطوط از گوشه موازی الاضلاع به محل تقاطع محورها با اضلاع
- مرحله ۴- ترسیم قوس‌های بزرگ به مرکزیت گوشه موازی الاضلاع
- مرحله ۵- ترسیم قوس‌های کوچک به مرکزیت محل تقاطع خطوط ترسیمی از گوشه‌ها



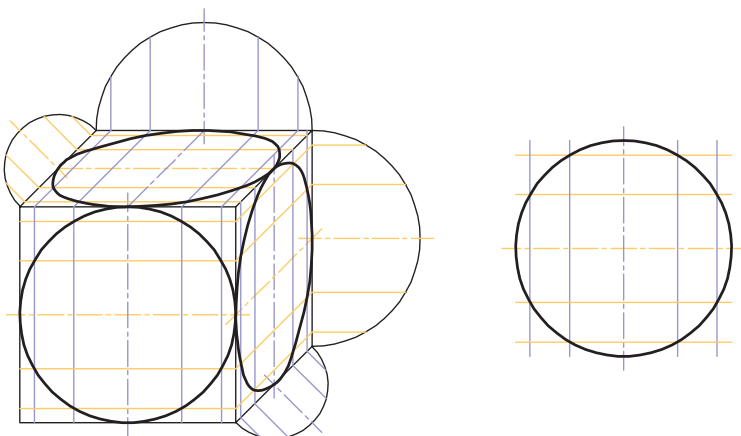
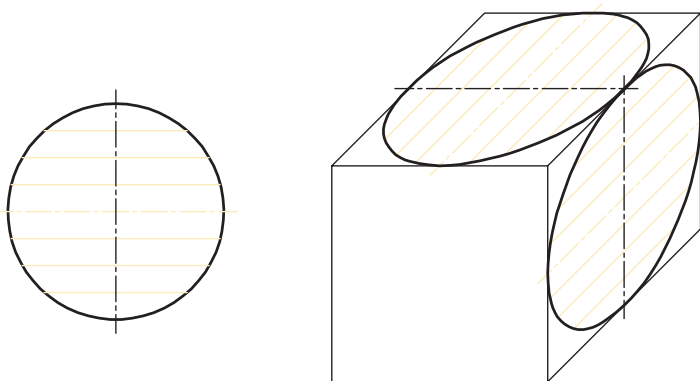
ترسیم دایره در تصویر مجسم دیمتریک

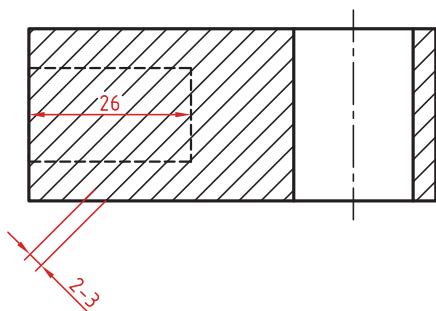


ترسیم منحنی‌های نامنظم در تصویر مجسم



روش ترسیم دایره به روش نقطه بابی در تصویر مجسم





اصول زیر در مورد هاشور در برش باید رعایت شود:


هاشور با خط نازک رسم می‌شود. فاصله هاشورها بین ۲ تا ۳ میلی‌متر در کاغذهای A۴ و A۳ مناسب است.

زاویه هاشورها معمولاً ۴۵ درجه است. هاشور به خط‌چین تکیه نمی‌کند. هاشور می‌تواند گاهی به خط محور یا خط نازک متکی شود. هاشور از روی خط اصلی نمی‌گذرد. در داخل

هاشور می‌توان اندازه‌گذاری کرد (در محل نوشتن عدد اندازه، باید خطوط هاشور پاک شود). هاشور در سطوح بزرگ می‌تواند ناقص باشد. در قطعات با ضخامت کم می‌توان به جای هاشور سطح را سیاه کرد.

قطعات کنار یکدیگر در برش را می‌توان کمی نسبت به هم فاصله داد. هاشورهای معرفی شده عمومی است، اما برای برخی مواد هاشور مخصوص وجود دارد.

انواع هاشور براساس جنس مواد



شیشه و سایر اجسام شفاف



آجر نسوز - آجر ضد اسید




بتن



چوب در جهت الیاف




خاک



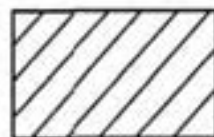
بتن مسلح



چوب در مقطع



فولاد - فلزات سخت - چدن




آجر



شن و ماسه



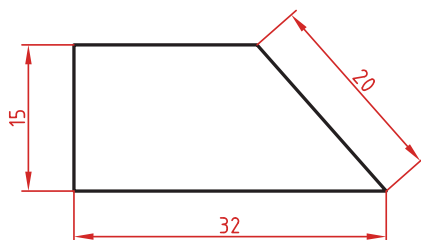
غیر فلزات به استثنای آنها که در جدول هست و همچنین برخی فلزات نرم مثل روی و سرب



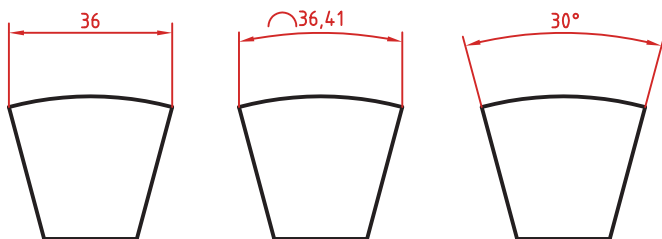
مایعات

در نقشه هیچ اندازه‌ای نباید تکرار شود.
نقشه باید کاملاً اندازه‌گذاری شود و نیاز به اندازه دیگری نداشته باشد.
واحد اندازه‌گیری در نقشه‌های صنعتی میلی‌متر است و باید اندازه واقعی قطعه نوشته شود.
اندازه‌های کوچک‌تر قبل از اندازه‌های بزرگ‌تر درج شود تا خطوط اندازه و رابط یکدیگر را قطع نکنند.
پیکان (فلش) اندازه می‌تواند به خط اصلی و در صورت نیاز به خط چین تکیه کند.
اندازه‌ها را می‌توان در صورت نیاز داخل نقشه و روی نماهای مختلف درج کرد.
اندازه هر جزء باید در جایی درج شود که آن جزء را بهتر نمایش دهد.
اجزای یک اندازه باید تماماً در یک نما باشد.

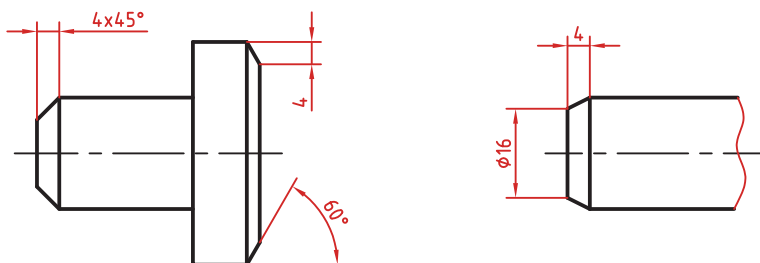
اندازه‌گذاری طولی: این اندازه‌ها شامل اندازه‌های افقی، عمودی و مورب است.
در اندازه‌های افقی عدد اندازه وسط خط اندازه و بالای آن نوشته می‌شود.
در اندازه‌های عمودی عدد اندازه وسط خط اندازه و سمت چپ آن (از پایین به بالا) نوشته می‌شود.



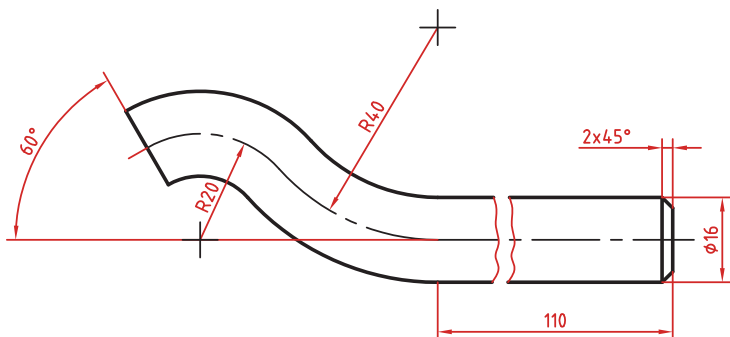
اندازه‌گذاری طول کمان، قوس کمان و زاویه رأس کمان: در اندازه‌گذاری طول کمان، قبل از عدد اندازه و یا بالای آن یک کمان گذاشته می‌شود.
اگر زاویه رأس کمان بیشتر از ۹۰ درجه باشد، خطوط رابط اندازه به صورت شعاعی خواهد بود.



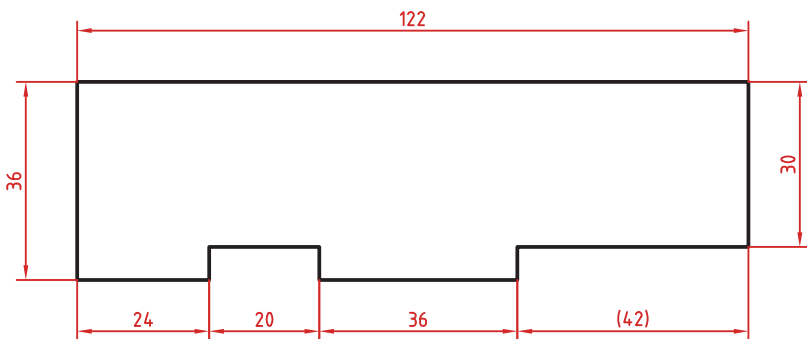
اندازه‌گذاری پخ‌ها: پخ‌های ۴۵ درجه با یک اندازه طولی مشخص می‌شود.
 پخ‌های غیر ۴۵ درجه با یک اندازه طولی و یک زاویه و یا دو اندازه طولی نشان داده می‌شوند.



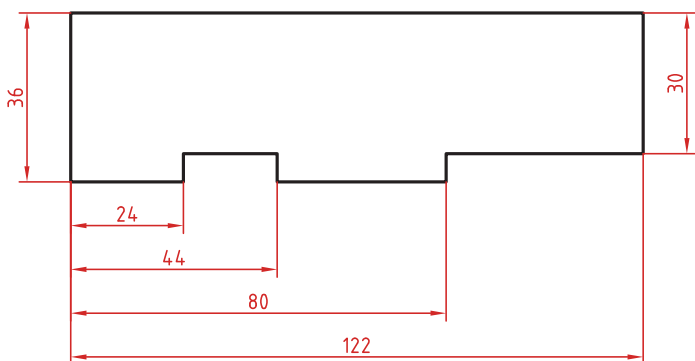
اندازه کوتاه شده: اگر طول قطعه‌ای که دارای شکلی یکنواخت است زیاد باشد می‌توان آن را با خط شکسته کوتاه کرد اما اندازه آن باید کامل نوشته شود.



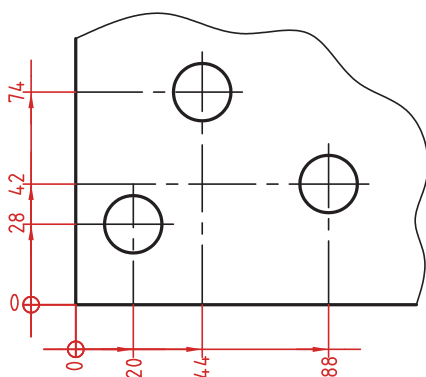
اندازه‌گذاری زنجیره‌ای: در این روش تمام اندازه‌ها به صورت ردیفی روی یک خط اندازه مشترک داده می‌شود. انتهای یک اندازه، ابتدای اندازه بعدی است.



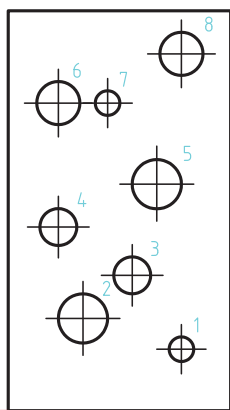
اندازه‌گذاری پله‌ای: در این روش اندازه‌ها نسبت به یک سطح مبنا گذاشته می‌شوند. فاصله بین خطوط اندازه ۷ میلی‌متر است.



اندازه‌گذاری مختصاتی: در این روش اندازه‌ها نسبت به یک نقطه مشترک (نقطه صفر یا نقطه مبنا) گذاشته می‌شوند.



اندازه‌گذاری جدولی: برای اندازه‌گذاری موقعیت سوراخ‌ها زمانی که تعداد آنها زیاد باشد از این روش استفاده می‌شود. در جدول علاوه بر موقعیت مرکز سوراخ می‌توان قطر، عمق و دیگر مشخصات سوراخ را نیز قید کرد.



	X	Y	φ
1	56	20	8
2	24	30	16
3	40	44	12
4	16	60	12
5	48	74	16
6	16	100	14
7	24	100	8
8	56	116	14

علائم و نشانه‌ها: علائم و نشانه‌هایی که در اندازه‌گذاری مورد استفاده قرار می‌گیرند عبارت‌اند از:

Ø (فی): قبل از عدد اندازه قطر دایره نوشته می‌شود.

R: همیشه قبل از عدد اندازه شعاع دایره و کمان حرف R گذاشته می‌شود.

S: قبل از درج شعاع یا قطر کره باید حرف S که مخفف (Sphere) است آورده شود.

° (علامت درجه): در اندازه‌گذاری زاویه باید حتماً علامت درجه و در صورت نیز علامت دقیقه و ثانیه درج شود.

□ (مربع): اگر اندازه مربوط به یک مقطع مربعی باشد قبل از عدد اندازه علامت مربع درج می‌شود.

⌒ (کمان): در اندازه‌گذاری طول کمان قبل یا بالای عدد اندازه کمان گذاشته می‌شود.

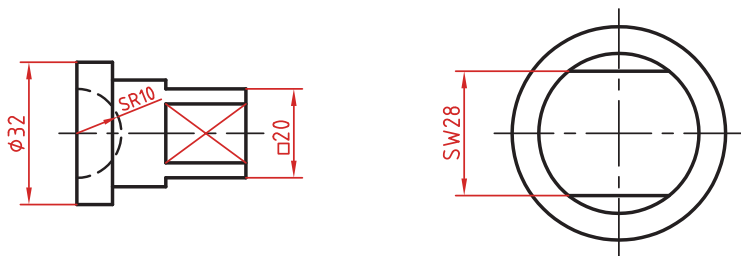
SW: آچارخور را با حروف SW نمایش می‌دهند.

t: ضخامت قطعه کار را با حرف t نشان می‌دهند.

(): اندازه‌های کمکی داخل پرانتز نوشته می‌شود.

—: زیر اعداد اندازه‌هایی که با مقیاس نمی‌خواند خط کشیده می‌شود.

[]: اندازه خام و پیش‌ساخته قطعه را داخل کروشه نشان می‌دهند.



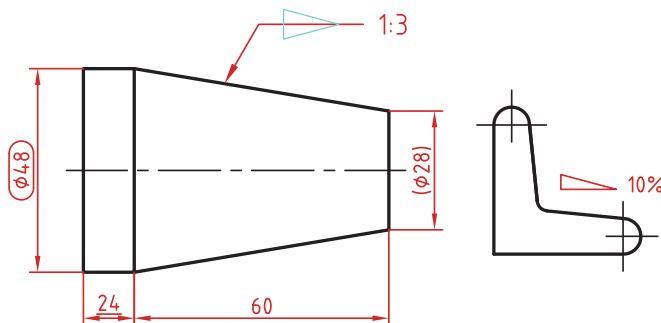
کادر گرد: اندازه‌های بازرسی و کنترل و اندازه‌هایی که با دقت خاصی توسط سفارش‌دهنده خواسته شده است در کادر گرد قرار می‌گیرد.

کادر چهارگوش: اندازه‌های دقیق تئوری در کادر چهارگوش قرار می‌گیرد.

▤: شیب سطوح را به درصد یا به صورت یک نسبت عددی بعد از این علامت که جهت آن باید مطابق با شیب سطح باشد نشان می‌دهند.

▥: میزان باریک شدگی مخروط و هرم به صورت یک نسبت عددی بعد از این علامت نوشته می‌شود. جهت این علامت نیز باید مطابق با باریک شدن قطعه باشد.

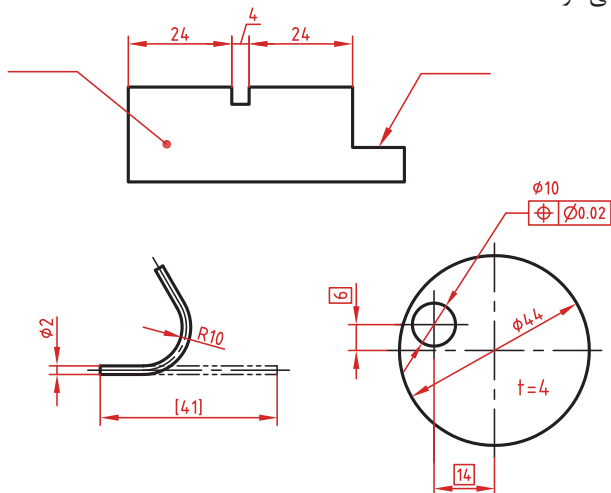
به نقشه‌های زیر که علائم فوق در آنها نشان داده شده است دقت کنید.



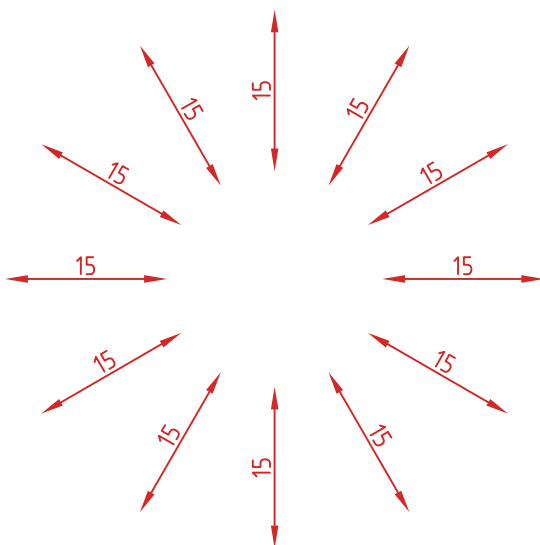
خط راهنما: خط راهنما خطی است که به یک جزء اشاره می‌کند و اطلاعاتی را به آن نسبت می‌دهد.

اگر انتهای خط راهنما داخل جزء باشد با یک نقطه توپر نشان داده می‌شود.

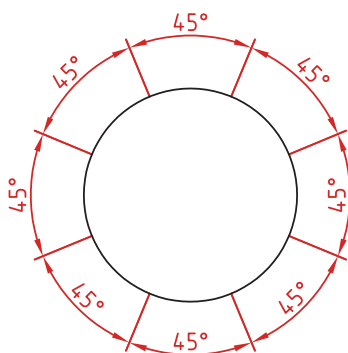
اگر خط راهنما به لبه یک جزء اشاره کند با پیکان (فلش) معمولی نشان داده می‌شود
 انتهای خطوط راهنمایی که به یک خط اندازه یا خط راهنمای دیگر اشاره می‌کنند فلش یا نقطه توپر گذاشته نمی‌شود.



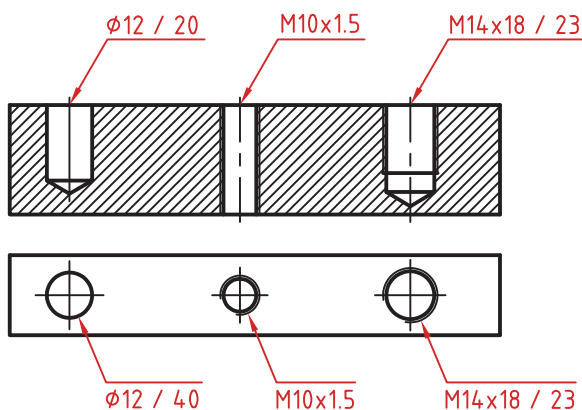
در اندازه‌های مورب عدد اندازه طبق الگوی زیر نوشته می‌شود.



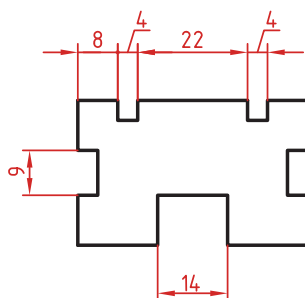
اندازه‌گذاری زاویه‌ای: خط رابط اندازه در امتداد اضلاع زاویه ترسیم می‌شود. خط اندازه کمانی است که مرکز آن همان رأس زاویه است. بعد از عدد اندازه علامت درجه گذاشته می‌شود. جهت و موقعیت عدد اندازه زاویه مطابق با الگوی زیر است.



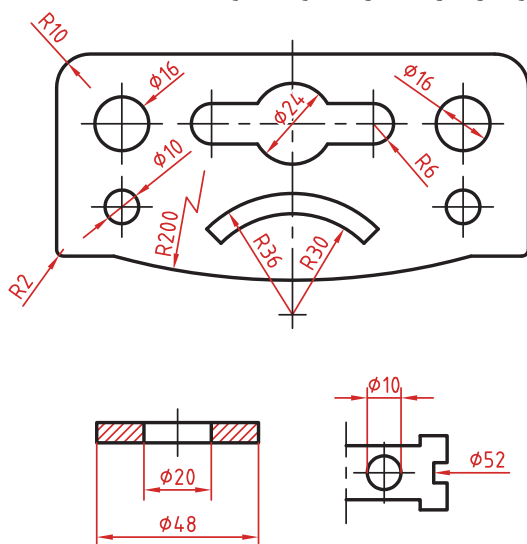
اندازه سوراخ: اطلاعات مربوط به سوراخ را در صورت لزوم می‌توان با یک اندازه نشان داد. عمق سوراخ با یک اسلش از قطر سوراخ جدا می‌شود ($\varnothing 12 / 20$). گام سوراخ با یک ضربدر از اندازه اسمی سوراخ جدا می‌شود ($M10 \times 1.5$). طول رزوه و عمق سوراخ با یک اسلش از هم جدا می‌شوند ($M14 \times 18 / 23$).



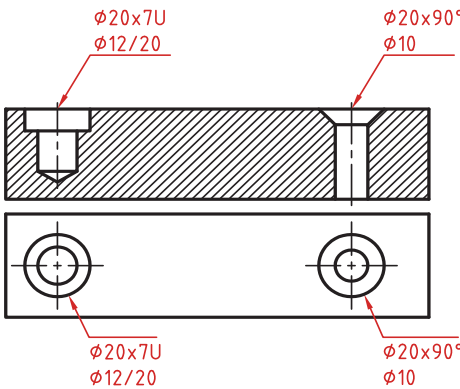
وقتی طول خط اندازه کمتر از ۱۰ میلی‌متر باشد پیکان (فلش) بیرون ترسیم می‌شود. عدد اندازه نیز اگر فضای کافی نداشته باشد می‌تواند در امتداد خط اندازه نوشته شود. در اندازه‌های پی‌درپی اگر فضای کافی برای درج پیکان (فلش) توپر نباشد به جای آن از نقطه توپر استفاده می‌شود. در این اندازه‌ها اگر فضای کافی برای درج عدد اندازه نیز نباشد می‌توان با خط راهنما عدد اندازه را نمایش داد.



اندازه‌گذاری قطری و شعاعی: این اندازه‌ها شامل اندازه‌های قطر و شعاع دایره و کمان است. اندازه‌گذاری شعاع با حرف R و اندازه‌گذاری قطر با حرف \varnothing (فی) نشان داده می‌شود. خط اندازه یا امتداد آن باید از مرکز دایره بگذرد. در صورتی که داخل دایره یا کمان جای کافی برای درج عدد اندازه و پیکان (فلش) نباشد می‌توان آنها را در بیرون درج کرد. اندازه قطری را به صورت طولی نیز می‌توان ارائه کرد اما علامت فی را نباید فراموش نمود. اندازه قطری با یک فلش و بیرون دایره نیز قابل ارائه است. در صورتی که مرکز دایره خارج از کادر و نقشه بوده و یا با نماهای دیگر تداخل داشته باشد می‌توان با شکستگی خط اندازه آن را کوتاه کرد. قبل از عدد اندازه شعاع و قطر «کره» با حرف S نوشته شود.

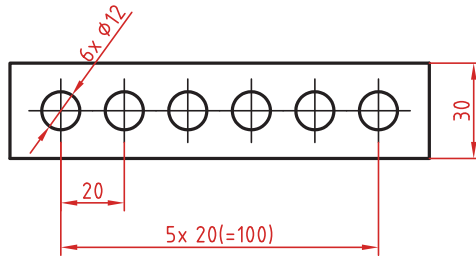


سوراخ‌های پله‌دار زیر هم نوشته می‌شوند.
اندازه بزرگ‌تر اول نوشته شده و عمق پله با
حرف U مشخص می‌شود: $\left(\begin{matrix} \varnothing 20 \times 7U \\ \varnothing 12/20 \end{matrix} \right)$

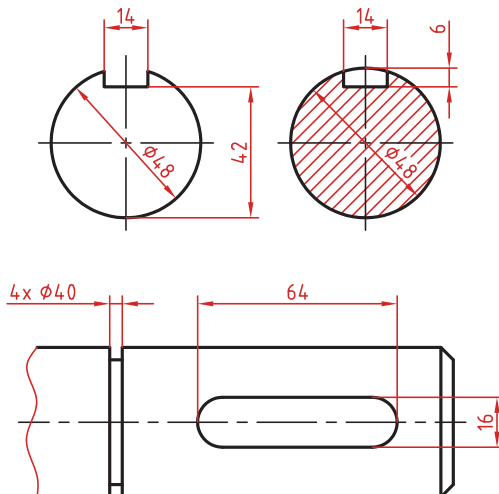


در سوراخ‌های خزینه‌دار قطر بزرگ و زاویه
خزینه ابتدا نوشته می‌شود
 $\left(\begin{matrix} \varnothing 20 \times 90^\circ \\ \varnothing 10 \end{matrix} \right)$

اندازه‌گذاری عناصر تکراری: در اندازه‌گذاری عناصر و سوراخ‌های یکسان کافی است تعداد آنها را در ابتدای اندازه یکی از آنها ذکر کرد.
در عناصر تکراری یکی از عناصر به صورت مجزا اندازه‌گذاری می‌شود (مثلاً فاصله 20 در شکل زیر).
تعداد عناصر و اندازه بین آنها نوشته می‌شود. می‌توان فاصله کلی را نیز به صورت اندازه کمکی قید کرد.



اندازه جای خار: در اندازه جای خار روی شفت وهاب به شکل روبه‌رو توجه کنید.



ملوانی (Seamanship)

از جمله مشاغل و فعالیت‌های مربوط به صنعت کشتیرانی، ملوانی است و هدف از آن حفظ ایمنی و بهداشت و نگهداری واحد شناور به طریق صحیح و اقتصادی می‌باشد.

ملوان از نظر سازمانی به کسی اطلاق می‌شود که ضمن طی دوره ملوانی از مراکز آموزش دریایی و ارائه گواهی‌نامه، دارای تجربه و خدمات دریایی تأییدشده برابر مقررات سازمان بنادر و دریانوردی بوده و آزمایش‌های مربوطه را با موفقیت گذرانده باشد.

به‌طور کلی وظایف ملوان واحد شناور را می‌توان در موارد زیر خلاصه کرد:

۱	نگهداری و بهسازی شناور (اعم از شست‌وشو و نظافت، تعمیر یا رنگ‌آمیزی شناور)
۲	امور مربوط به تخلیه و بارگیری کالا، صفای و مهار آن
۳	باز کردن و بستن طناب‌های مهار کشتی (به اسکله یا به سایر واحدها)
۴	شرکت در انجام امور مربوط به دریانوردی، نظیر سکان‌گیری و دیده‌بانی
۵	استفاده و نگهداری صحیح از وسایل و تجهیزات مربوطه در شناور
۶	همکاری در عملیات مختلف مربوط به شناور (نظیر صید، تخلیه و بارگیری کالا و غیره)
۷	مشارکت در کارهای گروهی (مثل اطفای حریق) و انجام وظایف فردی
۸	انجام سایر امور محوله از سوی فرمانده شناور

ملوان عرشه

ملوان عرشه به‌عنوان عضوی از خدمه کشتی، دارای وظایف متعددی در روی عرشه کشتی می‌باشد. قسمتی از وظایف مهم وی نگهداری و نظارت بر کشتی است. به‌طور کلی از آنجایی که خدمه کشتی‌های دریایی با ظرفیت ناخالص ۵۰۰ تن یا بیشتر، امور نگهداری و ناوبری را انجام می‌دهند، ملوان عرشه نیز برای انجام دادن وظایف خود، همانند سایر خدمه باید دارای گواهی‌نامه مناسب باشد.

دانش و مهارت مورد نیاز برای ملوان عرشه نیز عبارت است از:

۱	ناوبری در سطح پشتیبانی (توانایی سکان‌داری برای هدایت کشتی و اجرای دستورات سکان‌دار به زبان‌های فارسی و انگلیسی).
۲	آگاهی از اصول دیدبانی مطلوب
۳	آگاهی از روش‌های حفظ و نگهداری ایمن
۴	آگاهی از کاربری وسایل و تجهیزات شرایط اضطراری و روش‌های عملکرد در مواقع اضطراری
۵	آشنایی با ایمنی کار و عملیات در کشتی

ملوان عمومی عضوی از خدمه کشتی بوده که در عملیات‌های مختلف کشتی مورد استفاده قرار می‌گیرد.

سمت ملوان عمومی، با توجه به ظرفیت کشتی‌های تجاری به عناوین زیر تقسیم می‌شود:

■ ملوان عمومی در کشتی‌های با ظرفیت ناخالص ۵۰۰ تن یا بیشتر

■ ملوان عمومی در کشتی‌های با ظرفیت ناخالص کمتر از ۵۰۰ تن


ملوانان عمومی باید دانش لازم و کافی را در زمینه‌های ذیل داشته باشند:

۱	آشنایی با ایمنی کار و عملیات در کشتی
۲	آگاهی با روش‌ها و عملکرد در مواقع اضطراری
۳	آشنایی با زبان انگلیسی (برای ملوانان عمومی شناورهای با ظرفیت ۵۰۰ تن به بالا)

مقایسه انواع طناب‌های نشان داده شده است:

نوع طناب خصوصیات فنی	طناب سیمی Wire Rope	طناب مانیلا Manila Rope	طناب مصنوعی Synthetic Rope
استحکام و وزن Strength And Weight	۴ تا ۷ برابر استحکام طناب مانیلا هم‌اندازه و از ۱/۵ تا ۲ برابر استحکام طناب مانیلا هم‌وزن	حدوداً از نظر استحکام مشابه طناب سیسال هم‌اندازه و حدوداً از نظر استحکام ۵ برابر و از نظر وزن ۲ برابر طناب نارگیلی هم‌اندازه.	حدوداً ۳ برابر طناب مانیلا هم‌اندازه، محکم‌تر و از نظر وزن کمی سبک‌تر است. حدوداً یک دوازدهم وزن طناب سیمی هم‌اندازه‌اش می‌باشد.
قابلیت ارتجاع Elasticity	برای کارهای جاری قابلیت ارتجاعي ندارد.	حدوداً ۱۵٪ طولش در صورتی که مابین حد کار ایمن از آن استفاده شود. (SWL)	حدود ۲۵٪ طولش در صورتی که از (SWL) مابین حد کار ایمن از آن استفاده شود و قبل از پاره شدن حدود ۵۰٪ کش می‌آید.
کاهش استحکام پس از خیس شدن Loss Of Strength When Wet	پس از خیس شدن کاهش استحکام ندارد، ولی اگر به مدت طولانی در آب بماند سریع شروع به زنگ زدن می‌کند و به نسبت استحکام آن تقلیل می‌یابد.	پس از اینکه کاملاً خیس شد حدود ۴۵٪ استحکام اول خود را از دست می‌دهد.	۵ تا ۱۰٪ استحکام اول پس از اینکه کاملاً خیس شوند (طناب پلی‌استری این کاهش را ندارد).
جذب تکان شدید Shock Absorption	خاصیت جذب تکان‌های شدید را (به علت عدم وجود خاصیت کش آمدن در آنها) ندارند.	متوسط -	خاصیت انبساطی و به حالت اولیه برگشتن از نظر طول، موجب می‌شود که ظرفیت فوق‌العاده از نظر جذب تکان شدید و جلوگیری از تشکیل ایجاد بار زیاد بر طناب دارا باشد.
انعطاف‌پذیری Flexibility	به مراتب از طناب‌های الیاف طبیعی و مصنوعی کمتر است.	موقعی که خشک باشد خوب، ولی اگر در آب کاملاً خیس شود خیلی کم است.	در تمام مواقع کم است.
مقاومت در مقابل پوسیدگی و کپک Resistance To Rotand Mildew	اگر به طور صحیح نگهداری و روغن‌کاری شود خیلی خوب است.	ضعیف	کاملاً مقاوم است.
عمر پیش‌بینی شده Anticipated Life	کمی از طناب‌های طبیعی کمتر است، ولی اگر به‌طور صحیح استفاده و نگهداری شود طولانی است.	طناب‌های مانیلا سه دهم و طناب سیسال یک‌چهارم عمر طناب مصنوعی را دارند.	نسبت به طناب‌های سیمی و طبیعی عمر طولانی‌تری دارد (اگر به‌طور صحیح نگهداری شود).

خفت بویه: نوعی خفت که ترکیبی است از یک دور کامل سر طناب و دو نیم خفت که برای بستن یک بار سنگین به تیرک و حلقه باریک شاکل، مانند شاکل شناور بویه مهار، به کار می‌روند. این خفت، هرگز تنگ و فشرده نمی‌شود و به سادگی از هم باز می‌شود. لازم است انتهای طناب، همواره با بستن موقت به قسمت ثابت طناب بسته شود.



خفت بویه

خفت دو چشمی بادبان: گره‌ای دو خفتی که در قسمت ثابت طناب زده می‌شود و برای بستن انتهای طناب به یک چشمی کوچک یا چشمی طناب دیگر به کار می‌رود. این خفت، در مقایسه با گره اتصال چشمی به سختی از هم باز می‌شود.



خفت دو چشمی بادبان

خفت دو قلابی: نوعی خفت که هنگام نابرابری طناب و قلاب به کار می‌رود.



خفت دو قلابی



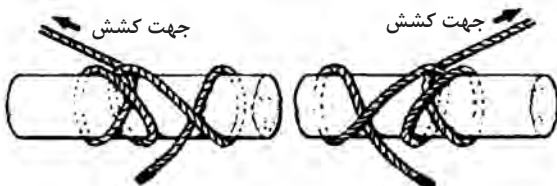
نحوه زدن خفت قلاب ساده

خفت پنجه گربه‌ای: نوعی خفت که برای کوتاهی طول حلقه سر طناب به کار می‌رود.



خفت پنجه گربه‌ای

خفت غلتان: نوعی خفت که برای بستن طناب به تیرک یا میله، در زمانی که نیروی کشش از سمتی معین است یا برای بستن طناب به طناب دیگری که تحت فشار بار است به کار برده می‌شود. برای ایجاد چنین خفتی، ابتدا و انتهای طناب دو بار به دور تیرک یا میله چرخانده می‌شود؛ به طوری که هر دور از قسمت ثابت عبور کند. سپس، با بستن یک گره یک خفت در جهت مخالف خفت غلتان کامل می‌شود. همواره، در سمتی از تیرک یا طناب که نیروی کشش از آن طرف وارد می‌شود دو دور طناب قرار می‌گیرد.



خفت غلتان

خفت قلاب ساده: نوعی خفت که برای بستن سریع طناب به قلاب استفاده می‌شود. این خفت، در زمانی که کار می‌رود که قلاب و طناب هم‌اندازه‌اند و در صورتی که فشار بیش از حد بر آن وارد شود لغزنده می‌شود و ممکن است طناب از قلاب باز شود.

گره اتصال چشمی: یا گره بادبان، نوعی گره است که برای بستن انتهای طناب به یک چشمی کوچک، مانند بستن طناب قایق زیر بوم به پله بوم یا پله طنابی، یا بستن طنابی باریک به طنابی کلفت به کار برده می‌شود. این گره، در اصل برای بستن طناب کنترل بادبان به دم بادبان به کار برده می‌شود.



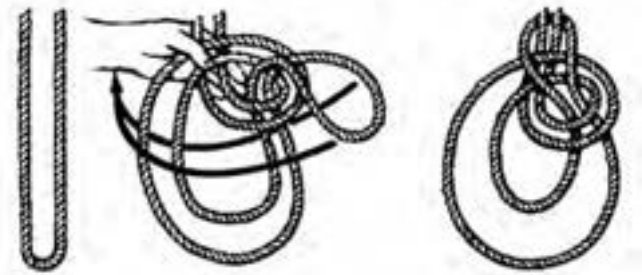
گره اتصال چشمی

گره اتصال چشمی دوتایی: گره‌ای همانند گره اتصال چشمی که از استحکام بیشتری نسبت به آن برخوردار است. این گره، برای بستن طناب قایق به چشمی طناب بوم استفاده می‌شود.



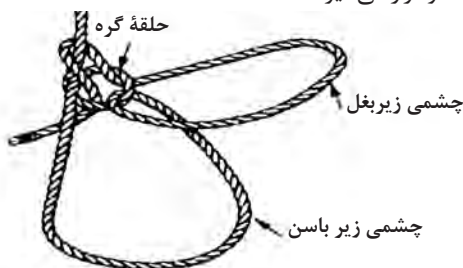
گره اتصال چشمی دوتایی

گره دولایی کمر: نوعی گره که بر پایه یک چشمی ساخته می‌شود و نخستین کار در تشکیل این گره، ایجاد یک گره ساده کمر است. از این گره، برای جابه‌جایی افراد از بالا به پایین استفاده می‌شود. چشمی کوچک‌تر، در زیر بازوان و چشمی بزرگ‌تر در زیر باسن فرد قرار می‌گیرد.



نحوه زدن گره دولایی کمر

گره کمر فرانسوی: نوعی گره دو چشمی کمر که مانند یک گره ساده کمر زده می شود؛ با این تفاوت که بعد از تشکیل چشمی و عبور انتهای طناب از میان آن، انتهای طناب بعد از دور زدن از میان چشمی عبور داده می شود و بدین ترتیب، یک چشمی بزرگ تر، در زیر بغل فرد تشکیل می شود. سپس، یک گره ساده کمر تکمیل می شود. وزن فردی که روی چشمی اصلی گره نشسته است چشمی زیر بغل را تنگ تر می کند و گره روی سینه او قرار می گیرد.



گره کمر فرانسوی

گره های پُران: گره اتصال چشمی، گره کمر و گره ۲ خفت که به جای بست انتهای طناب در مرحله آخر، از یک چشمی برای رها شدن و باز شدن سریع آنها استفاده می شود. چنین گره هایی، فشار یکنواخت را به خوبی تحمل می کنند؛ ولی در مقابل کشش های تند ناگهانی مقاوم نیستند.




گره پُران اتصال چشمی

گره پُران کمر

گره پُران ۲ خفت


انواع گره های پُران

گره ساده اتصال: نوعی گره که روش عمومی برای اتصال دو رشته طناب مهار است. انتهای هر یک از طناب ها در این نوع گره، به قسمت ثابت آنها بست زده می شود.



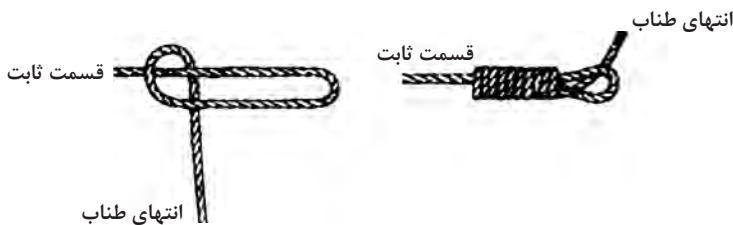
گره ساده اتصال

گره پنجه میمونی: نوعی گره که برای سنگین کردن انتهای طناب مبادله به کار می‌رود؛ به نحوی که می‌توان به کمک آن، طناب را به راحتی در مقابل باد به سوی نقطه مورد نظر پرتاب کرد.



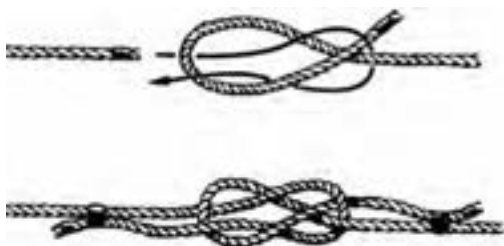
نحوه زدن گره پنجه میمونی

گره موقت طناب مبادله، نوعی گره پنجه میمونی است که به سادگی و به سرعت ساخته می‌شود. برای ساخت این گره، ابتدا یک چشمی به طول $1/5$ متر در انتهای طناب تشکیل می‌شود. سپس، انتهای طناب محکم به دور چشمی تشکیل شده پیچانده می‌شود و این عمل، از ۲۰ سانتی متر از محل واقعی بستن چشمی شروع می‌شود و تا باقی ماندن چشمی کوچک ادامه می‌یابد. سپس، انتهای طناب از میان چشمی مذکور عبور داده و قسمت ثابت آن کشیده می‌شود تا گره محکم و تنگ شود. این گره، به صورت موقت به کار می‌رود. اغلب، برای گره طناب مبادله از گره پنجه میمونی استفاده می‌شود.



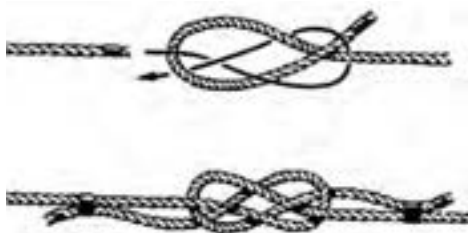
گره موقت طناب مبادله

گره عبوری اتصال: نوعی گره که برای اتصال دو رشته طناب عبوری از دور دوار به کار می‌رود. انتهای هر یک از طناب‌ها، با بست موقت به قسمت ثابت آنها بسته می‌شود. برای تشکیل این گره، ابتدای طناب از روی قسمت ثابت عبور داده می‌شود و سپس، سر طناب دیگر از میان چشمی تشکیل شده در طناب نخست رد می‌شود؛ به طوری که ابتدا از زیر چشمی و سپس از رو و از زیر محل تقاطع و در خاتمه از زیر و روی چشمی بگذرد.



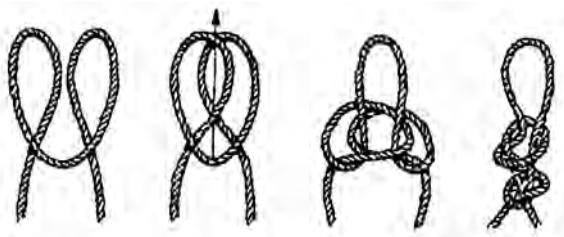
نحوه زدن گره عبوری اتصال

گره زوج عبوری اتصال: نوعی گره که محکم‌تر از گره عبوری اتصال است و زمانی به کار برده می‌شود که به بستن محکم‌تر از گره عبوری اتصال نیاز باشد.




نحوه زدن گره زوج عبوری اتصال

گره کوهنوردی و گره سه پایه: انواعی از گره‌ها که بیشتر مورد استفاده کوهنوردان هستند؛ اما ملوانانی که در عملیات زمینی شرکت می‌کنند نیز از آنها استفاده می‌کنند. این گره‌ها، زمانی به کار می‌روند که تعدادی کوهنورد برای بالاروی از یک صخره خود را با طناب به یکدیگر می‌بندند. برای بستن افراد به چشمی طناب نیز، از این گره‌ها استفاده می‌شود. گره ساده، برای این منظور مناسب نیست و به کار برده نمی‌شود؛ زیرا این گره باعث ایجاد فشردگی در طناب خواهد شد.



نحوه زدن گره کوهنوردی



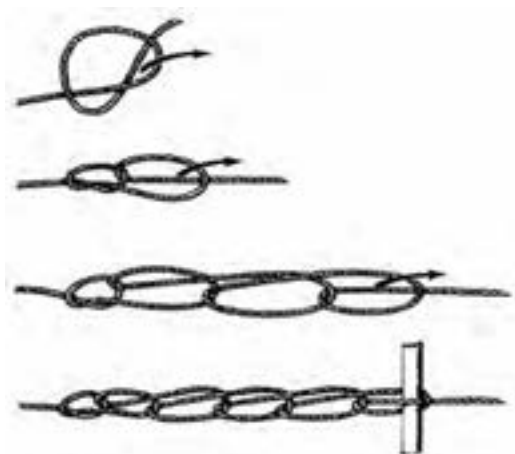
نحوه زدن گره سه پایه

گره کوتاه کننده طناب: نوعی گره که برای کوتاه کردن موقتی طناب به کار می‌رود. مزیت گره مذکور این است که دیگر نیازی به بریدن طناب برای کوتاه‌سازی آن نخواهد بود. فشاری که روی طناب وارد می‌شود اغلب از سر خوردن گره جلوگیری می‌کند؛ اما اگر لازم شود می‌توان حلقه‌های گره را به قسمت‌های ثابت بست یا از ۲ عدد بازوی کوچک برای انجام این کار استفاده کرد.



نحوه زدن گره کوتاه کننده طناب

گره زنجیری کوتاه کننده طناب: نوعی گره که از خفت‌های متعدد تشکیل شده است و برای کوتاه کردن انتهای طناب به کار می‌رود. این گره، ظاهری منظم دارد و فقط برای زمانی مناسب است که در هر مرحله از کار طول کوتاهی از طناب در اختیار باشد.




نحوه زدن گره زنجیری کوتاه کننده طناب

گره قلاب ماهیگیری: نوعی گره که با نخ نایلونی پلی آمید یا زه روی قلاب ماهیگیری زده می شود. برای این کار، انتهای نخ یا زه از میان چشمی قلاب عبور داده می شود و سپس، حلقه ای در امتداد ساق قلاب چشمی تشکیل می شود. آنگاه، نخ یا زه چندین دور به دور حلقه و ساق قلاب پیچانده می شود. این عمل از چشمی قلاب شروع می شود. گره قلاب ماهیگیری به گره طناب مبادله شباهت بسیار دارد.



گره قلاب ماهیگیری

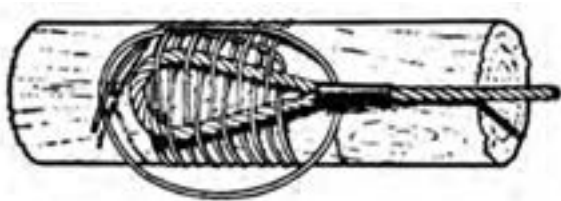
برای اتصال دو طناب پلی آمید یا زه به یکدیگر، ابتدا یک گره طناب مبادله در ابتدای یکی از طناب ها زده می شود و سپس، انتهای طناب دیگر از میان آن عبور داده و دوباره گره ای مشابه زده می شود. بعد از انجام مراحل بالا، سر طناب ها محکم کشیده می شوند تا گره جا بیفتد و تنگ شود. قبل از بستن این گره، برای سهولت کار طناب خیس یا مرطوب می شود.



نحوه اتصال دو طناب پلی آمید به یکدیگر

بست اتصال چشمی به طناب یا تیرک

نوعی بست که برای بستن چشمی طناب روی طناب دیگر یا یک تیرک به کار می رود.



بست اتصال چشمی به تیرک

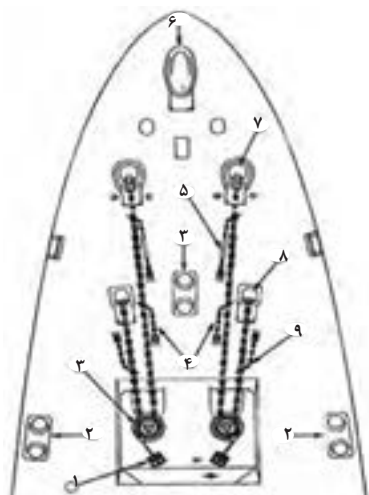
Midship	سکان وسط
Steady	راه ثابت
Steady as she goes	تثبیت راه فعلی
Port 5	سکان ۵ درجه به چپ
Port 10	سکان ۱۰ درجه به چپ
Port 15	سکان ۱۵ درجه به چپ
Port 20	سکان ۲۰ درجه به چپ
Hard Port	سکان تا آخر به چپ
Starboard 5	سکان ۵ درجه به راست
Starboard 10	سکان ۱۰ درجه به راست
Starboard 15	سکان ۱۵ درجه به راست
Starboard 20	سکان ۲۰ درجه به راست
Hard Starboard	سکان تا آخر به راست
Ease to 5	کاهش سکان به ۵ درجه در سمت فعلی
Ease to 10	کاهش سکان به ۱۰ درجه در سمت فعلی
What is your heading?	چه درجه‌ای می‌پیمایی؟

یکی از حساس‌ترین وظایف هر ملوان عرشه کار با ماشین‌آلات روی عرشه کشتی (Deck Machinery)، می‌باشد. با توجه به نقش و اهمیت این وسایل در تأمین ایمنی دریانوردان، شما هنرجویان می‌بایست دانش کلی مربوط به برخی از مهم‌ترین تجهیزات و ماشین‌آلات روی عرشه را بیاموزید. مهم‌ترین این تجهیزات به شرح زیر هستند:

- وسایل مهار کشتی مشتمل بر دوارهای لنگر، قرقره‌های عمودی برای جمع‌آوری و کشیدن طناب‌ها و بافه‌های مهار کشتی، دوار با امکانات خودکار جهت تنظیم و حفظ نیروی کشش طناب‌ها و بافه‌ها؛
- وسایل جابه‌جایی بار مشتمل بر دوارهای مخصوص جابه‌جایی، دوارهای مخصوص وسایل بالابری بارهای سبک و سنگین، جرثقیل‌هایی با قابلیت چرخش در ۳۶۰ درجه، جرثقیل‌های بازویی ریلی با قابلیت حرکت روی ریل‌های منصوب بر عرشه به جلو و عقب و به سمت چپ و راست کشتی، دوارهای مخصوص بالا و پایین بردن دکل، جرثقیل‌های دکل و دوارهای مخصوص جابه‌جایی دکل.
- تجهیزات روی عرشه با کاربردهای خاص مشتمل بر دوارهای به آب‌اندازی قایق‌های نجات کشتی، دوارهای مخصوص باز و بسته کردن دریچه‌های افقی، جرثقیل‌های مخصوص جابه‌جایی لوله‌های انعطاف‌پذیر نفت‌کش‌ها، دوارهای به آب‌اندازی تجهیزات ماهی‌گیری دوارهای مخصوص به آب‌اندازی وسایل آب‌نگاری.

در این بخش برخی از این تجهیزات که نقشی مهم و کاربری بیشتری دارند، تشریح خواهد شد.

نمونه‌ای از ترتیب استقرار زنجیر لنگر و متعلقات آن در سینه کشتی :



- ۱ چرخ دستی ترمز تسمه‌ای چپ
- ۲ موت زوجی
- ۳ چرخ زنجیر دوار چپ
- ۴ خفت زنجیر با قلاب پُران
- ۵ خفت و قلاب پُران با مهره استوانکی
- ۶ حفرة لنگر در خط مرکزی
- ۷ حفرة لنگر
- ۸ لوله چاه زنجیر
- ۹ خفت کمکی زنجیر لنگر

متعلقات لنگر

۱ **قطعه هرزگرد (خودگرد):** قطعه‌ای در ۲ انتهای زنجیرها که شامل یک هرزگرد با چند حلقه زنجیر در انتهای هر سمت است. هرزگردها، با نوع شاکل اتصال کاربردی تفاوت دارند. قطعه هرزگرد، در انتهای خارجی زنجیر قرار دارد و برای استفاده با شاکل بدون شاخک و با شاخک لنگر به کار برده می‌شود. قطعه هرزگرد، که در انتهای داخلی زنجیر در کشتی قرار دارد، همواره با یک شاکل با شاخک به قسمت اتصالی داخل چاه زنجیر متصل می‌شود.



۲ **هرزگرد زنجیر مهار:** نوعی هرزگرد پرقدرت که به زنجیر لنگرهای کشتی وصل می‌شود. این هرزگرد، زمانی استفاده می‌شود که کشتی دو لنگر می‌اندازد و هرزگرد به هر دو زنجیر بسته می‌شود تا از تابیدگی زنجیرها ممانعت به عمل آورد. این نوع هرزگرد، از دو صفحه چشمی دار تشکیل شده است که هر یک سه چشمی دارند. صفحه‌های مذکور، در یک طرف هرزگرد قرار دارند. یک چشمی از هر صفحه، به هرزگرد وصل می‌شود و دو چشمی دیگر به زنجیرهای لنگر متصل‌اند.



هرزگردهای زنجیر مهار و لنگر

۳ **خفت زنجیر (SLIP):** ابزاری که برای نگهداری موقت زنجیر به کار می‌رود. این ابزار، انواع مختلفی به شرح ذیل دارد:

■ خفت زنجیر با قلاب پُران؛ نوعی خفت زنجیری همه‌کاره که برای نگهداری زنجیر در هنگام کار روی عرشه به کار می‌رود؛

■ خفت زنجیر با پیچ و قلاب پُران؛ نوعی خفت با قلاب پُران که دارای مهره‌ای استوانکی است. این مهره، بین بست روی عرشه و قلاب پُران قرار می‌گیرد و برای بستن لنگر در حفرة زنجیر هنگام عزیمت کشتی به دریا استفاده می‌شود.
در کشتی‌های تجاری، بیشتر از خفت زنجیر پنجه‌ای استفاده می‌شود.



خفت بلیک یا سواره



خفت پیچی



خفت پنجه شیطانی

۴ **اهرم بلندکننده زنجیر:** هنگامی که نیاز به بلند کردن زنجیر است از اهرم بلندکننده زنجیر استفاده می‌شود. برای گرفتن حلقه‌های زنجیر و حرکت دادن آنها نیز، از قلاب زنجیر استفاده می‌شود. این وسیله، هنگامی که زنجیر در حال حرکت است کاربردی ندارد. به علت احتمال گیر کردن قلاب زنجیر در زنجیر برای گرفتن حلقه‌ها از یک قطعه سیم استفاده می‌شود.



اهرم بلندکننده زنجیر



- ۵ **قلاب زنجیر:** برای مهار کردن زنجیر لنگر که ممکن است لنگر در حال حرکت کشتی به صورت احتمالی آزاد شود به کار می‌رود.
- ۶ **طناب و قلاب:** طناب کنفی یا سیمی که در انتهای آن قلابی وصل شده است و برای کار زنجیر به طور دستی و بدون کمک دوار به کار می‌رود.



شناسایی نقاط عمومی در کشتی

شناسایی نقاط در یک کشتی مشابه هر فرد دیگر در یک کارخانه، مزرعه، اداره یا حتی یک خانه کوچک ضروری است. اشیای ثابت یا متحرک در کشتی وقتی در روی کشتی قرار دارند به طور عمومی یا نسبت به نقطه آنها به سینه و پاشنه و یا پهلوی کشتی دارای موقعیت‌های مختلفی می‌باشند که به نام‌های خاصی نیز خوانده می‌شوند.

Ship's Side	پهلوی کشتی	۱
Onboard	روی کشتی	۲
Outboard	دیواره یا پهلوی بیرونی	۳
A Long Side	وقتی کشتی به اسکله پهلوی گرفته باشد	۴
On Deck	روی کشتی	۵
Living Quarter	اقامتگاه در کشتی	۶
Deck	عرشه کشتی	۷
Aft	پاشنه	۸
Forward	سینه	۹

اصطلاحات مربوط به حرکت در کشتی نیز حالت‌های خاص خود را داشته که ضرورت دارد از آنها در امور مختلف هدایت و نگهداری کشتی استفاده شود. عمده‌ترین آنها بدین شرح است:

Under Way	وقتی یک کشتی نه در لنگر باشد، نه به بویه بسته شده و نه به اسکله پهلوی گرفته شده و نه به گل نشسته باشد می‌گویند در حرکت است.	۱
Under Way Going A Head (Making Head Way)	وقتی یک کشتی در حالت حرکت به جلو باشد.	۲
Under Way Going A stern (Making stern Way)	وقتی یک کشتی در حالت حرکت به عقب باشد.	۳
Storage Way	وقتی سرعت یک کشتی به حدی باشد که بتوان از سکان استفاده نمود.	۴
Broad Side	وقتی کشتی دارای حرکت به پهلوی باشد.	۵
Lee Way	وقتی یک کشتی دارای حرکت به پهلوی بوده و هم‌زمان نیز تحت تأثیر باد هم قرار گرفته باشد.	۶
Weather Side	سمتی از کشتی که در طرف وزش باد قرار دارد.	۷
Lee Side	سمتی از کشتی که پناه بوده است و تحت تأثیر باد نیست.	۸
Under Way (Adrift)	وقتی یک کشتی از بویه یا اسکله جدا شده و در حال حرکت بوده ولی تحت تأثیر نیروی محرک‌اش نیست.	۹
(Coourse) Compass Course	وقتی کشتی با استفاده از قطب‌نما در حال حرکت باشد.	۱۰

اصطلاحات کار با لنگر (Anchor Terminology)

دریانوردی و کار در روی کشتی دارای اصطلاحات خاص و ویژه‌ای است که به حرفه و مشاغل موجود در آنها اهمیت خاصی داده و سابقه طولانی این هنر و فعالیت اقتصادی بشری را بااهمیت‌تر نمایان می‌سازد. مهم‌ترین اصطلاحات کار با لنگر که آگاهی و کاربرد آنها ضروری می‌باشد به شرح زیر است:

اصطلاحی است که در موقع بیرون آمدن لنگر از زمین کف دریا گفته می‌شود (به عبارت دیگر کنده شدن لنگر از کف دریا).	Anchor Aweigh	۱
وقتی که لنگر به‌طور عمودی از «لوله عبور زنجیر» آویزان شده باشد.	Anchor A Cockbill	۲
هنگامی که لنگر به کف دریا فرو نرفته و در اثر سنگینی کشتی در جهت باد و یا جریان آب همراه کشتی حرکت نماید.	Anchor Dragging	۳
این اصطلاح هنگامی به کار می‌رود که کشتی به وسیله لنگر خود مهار شده و هیچ حرکتی به جز حرکت گردشی حول لنگر نداشته باشد.	Brooght - Up, Come To Got Her Cable	۴

۵	Foul Hawse	وقتی کشتی به وسیله دو لنگر مهار شده ولی زنجیرهای هر دو لنگر به دور هم پیچیده شده باشند.
۶	Foul Anchor	وقتی که لنگر کشتی در کف دریا به یک مانع زیر آبی برخورد کرده به خصوص وقتی که ناخن‌های لنگر به سیم و زنجیرهای مغروق در دریا گیر کرده باشد.
۷	Long Stay	وقتی که زنجیر لنگر در آب دارای جهتی تقریباً برابر با سطح دریا باشد.
۸	Short Stay	وقتی که زنجیر لنگر در نزدیکی پهلوی کشتی قرار دارد، ولی درست در زیر سینه کشتی (Up and Down) نیست.
۹	Snub	جلوگیری از بیرون رفتن (یا خارج شدن) زنجیر به وسیله ترمز لنگر.
۱۰	Surge	خارج شدن زنجیر لنگر به طرف دریا در اثر سنگینی و وزن خودش.
۱۱	Tide Rode	وقتی که یک کشتی در حالت سینه رو به جریان آب و در هنگام توقف در روی لنگر قرار داشته باشد.
۱۲	Up And Down	در کشتی لنگر شده وقتی زاویه بین سطح آب و زنجیر لنگر کشتی ۹۰ درجه باشد.
۱۳	Walk Back The Anchor	پایین بردن لنگر به وسیله نیروی دوار
۱۴	Wind Rode	وقتی که یک کشتی لنگر شده، رو به باد باشد یا بایستد.

استانداردهای ورق‌های فلزی و جدول مربوط به آنها

جدول مشخصات فیزیکی ورق‌های نورد سرد (ورق روغنی)

ردیف	طول (میلی‌متر)	عرض (میلی‌متر)	ضخامت (میلی‌متر)	وزن (کیلوگرم)
۱	۲۰۰۰	۱۰۰۰	۳۰ صدم	۵
۲	۲۰۰۰	۱۰۰۰	۴۰ صدم	۶
۳	۲۰۰۰	۱۰۰۰	۵۰ صدم	۸
۴	۲۰۰۰	۱۰۰۰	۱	۱۶
۵	۲۰۰۰	۱۰۰۰	۲	۳۲
۶	۲۰۰۰	۱۰۰۰	۳	۴۸

جدول وزنی ورق سیاه

ردیف	طول (میلی‌متر)	عرض (میلی‌متر)	ضخامت (میلی‌متر)	وزن (کیلوگرم)
۱	۲۰۰۰	۱۰۰۰	۲	۳۲
۲	۲۰۰۰	۱۰۰۰	۳	۴۸
۳	۲۰۰۰	۱۰۰۰	۴	۶۴
۴	۲۰۰۰	۱۰۰۰	۵	۸۰
۵	۲۰۰۰	۱۰۰۰	۶	۹۶
۶	۶۰۰۰	۱۵۰۰	۸	۵۷۶
۷	۶۰۰۰	۱۵۰۰	۱۰	۷۲۰
۸	۶۰۰۰	۱۵۰۰	۱۲	۸۶۴
۹	۶۰۰۰	۱۵۰۰	۱۵	۱۰۸۰
۱۰	۶۰۰۰	۱۵۰۰	۲۰	۱۴۴۰

جدول مشخصات فیزیکی وزن ورق گالوانیزه

ردیف	طول ورق گالوانیزه (میل)	عرض ورق گالوانیزه (میل)	ضخامت ورق گالوانیزه (صدم/میل)	وزن (گرم)
۱	۲۰۰۰	۱۰۰۰	۳۰	۴۸۰۰
۲	۲۰۰۰	۱۰۰۰	۴۰	۶۴۰۰
۳	۲۰۰۰	۱۰۰۰	۵۰	۸۰۰۰
۴	۲۰۰۰	۱۰۰۰	۶۰	۹۶۰۰
۵	۲۰۰۰	۱۰۰۰	۷۰	۱۱۲۰۰
۶	۲۰۰۰	۱۰۰۰	۸۰	۱۲۸۰۰
۷	۲۰۰۰	۱۰۰۰	۹۰	۱۴۴۰۰
۸	۲۰۰۰	۱۰۰۰	۱۰۰	۱۶۰۰۰
۹	۲۰۰۰	۱۰۰۰	۱۲۵	۲۰۰۰۰
۱۰	۲۰۰۰	۱۰۰۰	۱۵۰	۲۴۰۰۰
۱۱	۲۰۰۰	۱۰۰۰	۲۰۰	۳۲۰۰۰
۱۲	۲۵۰۰	۱۲۵۰	۳۰	۷۵۰۰
۱۳	۲۵۰۰	۱۲۵۰	۴۰	۱۰۰۰۰
۱۴	۲۵۰۰	۱۲۵۰	۵۰	۱۲۵۰۰
۱۵	۲۵۰۰	۱۲۵۰	۶۰	۱۵۰۰۰
۱۶	۲۵۰۰	۱۲۵۰	۷۰	۱۷۵۰۰
۱۷	۲۵۰۰	۱۲۵۰	۸۰	۲۰۰۰۰۰
۱۸	۲۵۰۰	۱۲۵۰	۹۰	۲۲۵۰۰
۱۹	۲۵۰۰	۱۲۵۰	۱۰۰	۲۵۰۰۰
۲۰	۲۵۰۰	۱۲۵۰	۱۲۵	۳۱۲۵۰
۲۱	۲۵۰۰	۱۲۵۰	۱۵۰	۳۷۵۰۰
۲۲	۲۵۰۰	۱۲۵۰	۲۰۰	۵۰۰۰۰
۲۳	۶۰۰۰	۱۰۰۰	۵۰	۲۴۰۰۰
۲۴	۶۰۰۰	۱۲۵۰	۵۰	۳۰۰۰۰

جدول وزنی ورق‌های اسیدشویی

ردیف	طول (میلی‌متر)	عرض (میلی‌متر)	ضخامت (میلی‌متر)	وزن (کیلوگرم)
۱	۲۰۰۰	۱۰۰۰	۱/۵	۲۴
۲	۲۰۰۰	۱۰۰۰	۲	۳۲
۳	۲۰۰۰	۱۰۰۰	۳	۴۸
۴	۲۰۰۰	۱۰۰۰	۴	۶۴
۵	۲۰۰۰	۱۰۰۰	۵	۸۰
۶	۲۰۰۰	۱۰۰۰	۶	۹۶

جدول مشخصات ASTM برای ورق‌های فولاد کربنی با کیفیت مخازن تحت فشار

شماره استاندارد ASTM	عنوان
۲۸۵ A	ورق‌های فولاد کربنی با استحکام کششی کم یا متوسط
۲۹۹ A	ورق‌های فولاد کربنی منگنز - سیلیسیم
۴۴۲ A	بهبود خواص انتقال ورق‌های فولاد کربنی
۴۴۵ A	ورق‌های فولادی کربنی منگن‌دار با استحکام بالا
۵۱۵ A	ورق‌های فولاد کربنی با دمای کاری متوسط و بالا
۵۱۶ A	ورق‌های فولاد کربنی با دمای کاری متوسط و پایین
۵۳۷ A	ورق‌های فولادی کربن - منگنز - سیلیسیم عملیات حرارتی شده
۵۶۲ A	ورق‌های فولاد کربنی منگنز- تیتانیوم برای پوشش‌های شیشه‌ای یا فلزی نفوذی
۶۱۲ A	ورق‌های فولادی کربنی با استحکام بالا برای کار در دمای متوسط و پایین
۶۶۲ A	ورق‌های فولادی کربن - منگنز برای دمای کاری متوسط و پایین
۷۲۴ A	فولاد کربنی کوبینج و تمپر شده برای مخازن تحت فشار چندلایه و جوشکاری شده
۷۳۵ A	ورق‌های فولادی کربن - منگنز - سیلیسیم عملیات حرارتی شده
۸۴۱ A	ورق‌های فولاد کربنی تولید شده با فرایند ترمومکانیکال

جدول مشخصات ASTM برای ورق‌های فولاد آلیاژی با کیفیت مخازن تحت فشار

شماره استاندارد ASTM	عنوان
۲۰۲ A	ورق‌های فولاد آلیاژی کروم - منگنز- سیلیسیم
۲۰۳ A	ورق‌های فولاد آلیاژی نیکل دار
۲۰۴ A	ورق‌های فولاد آلیاژی مولیبدن دار
۲۲۵ A	ورق‌های فولاد آلیاژی منگنز- وانادیم - نیکل
۲۴۰ A	ورق‌های فولاد زنگ زن مقاوم در برابر حرارت کروم و کروم - نیکل
۲۶۳ A	ورق فولادی روکش با آلیاژ کروم مقاوم به خوردگی
۲۶۴ A	ورق فولادی روکش با آلیاژ زنگ زن (Cr-Ni) مقاوم به خوردگی
۲۶۵ A	ورق فولادی روکش با آلیاژ پایه نیکل مقاوم به خوردگی
۳۰۲ A	ورق‌های فولاد آلیاژی منگنز- مولیبدن و منگنز- مولیبدن - نیکل
۳۵۳ A	ورق‌های فولاد آلیاژی ۹ درصد نیکل دوبار نرماله و تمپر شده
۳۸۷ A	ورق‌های فولاد آلیاژی کروم مولیبدن برای کار در دمای بالا
۵۱۷ A	ورق‌های فولاد آلیاژی کوبینج و تمپر شده با استحکام کششی بالا
۵۳۳ A	ورق‌های آلیاژی کوبینج و تمپر شده منگنز- مولیبدن و منگنز- مولیبدن - نیکل
۵۴۲ A	ورق‌های فولاد آلیاژی کروم - مولیبدن کوبینج و تمپر شده
۵۴۳ A	ورق‌های فولاد آلیاژی نیکل - کروم - مولیبدن کوبینج و تمپر شده
۵۵۳ A	ورق‌های فولاد آلیاژی ۸ درصد و ۹ درصد نیکل کوبینج و تمپر شده
۶۰۵ A	ورق‌های فولاد آلیاژی نیکل - کبالت - مولیبدن - کروم کوبینج و تمپر شده
۶۴۵ A	ورق‌های آلیاژی ۵ درصد نیکل با عملیات حرارتی خاص
۶۵۸ A	ورق ۳۶ درصد نیکل برای انبساط حرارتی کم
۷۳۴ A	ورق فولاد آلیاژی استحکام بالا و کم آلیاژ، کوبینج و تمپر شده برای کاربردهای برودتی
۷۳۵ A	فولاد آلیاژی کم کربن منگنز - مولیبدن - نیوبیم برای کاربرد در دمای متوسط و پایین
۷۳۶ A	ورق‌های آلیاژی کم کربن پیرسختی شده نیکل - مس - کروم - مولیبدن - نیوبیم
۷۳۷ A	ورق‌های فولادی HSLA
۷۸۲ A	ورق‌های فولاد آلیاژی منگنز - کرم - مولیبدن - سیلیسیم - زیرکونیم کوبینج و تمپر شده
۸۳۲ A	ورق‌های فولاد آلیاژی کروم - مولیبدن - وانادیم - تیتانیوم - بور
۸۴۴ A	ورق فولاد آلیاژی ۹ درصد نیکل تولید شده با فرایند کوبینج مستقیم

مشخصات این فولادهای روکش در جدول زیر آورده شده است.

جدول مشخصات ASTM برای ورق های فولاد روکش دار

شماره ASTM	توصیف
۲۶۳ A	ورق و نوار روکش فولاد کروم
۲۶۴ A	ورق و نوار روکش فولاد زنگ نزن نیکل - کروم
۲۶۵ A	ورق فولاد آلیاژی روکش نیکل و پایه نیکل

داده ها و اطلاعات لازم جهت خم کاری

جدول فاکتور k جهت خم کاری (مقادیر دقیق)

ردیف	نوع خم کاری	شعاع خم کاری بر حسب ضخامت ورق	آلومینیم	فولاد نرم	فولاد سخت
۱	خم کاری هوایی	$t - 3t$	۰/۳۳	۰/۳۸	۰/۴
		$t - 3t$	۰/۴	۰/۴۳	۰/۴۵
		$> 3t$	۰/۵	۰/۵	۰/۵
۲	خم کاری V	$t - 3t$	۰/۴۲	۰/۴۴	۰/۴۶
		$t - 3t$	۰/۴۶	۰/۴۷	۰/۴۸
		$> 3t$	۰/۵	۰/۵	۰/۵
۳	خم کاری U	$t - 3t$	۰/۳۸	۰/۴۱	۰/۴۴
		$t - 3t$	۰/۴۴	۰/۴۶	۰/۴۷
		$> 3t$	۰/۵	۰/۵	۰/۵

مثال: اگر قرار باشد یک ورق آلومینیمی با ضخامت ۰/۰۷۵ اینچ را با شعاع خمیدگی داخلی ۰/۱۰۵ اینچ و به میزان ۱۰۰ درجه تهیه نماییم، مقدار حد مجاز خمشی آن چقدر است؟ فاکتور k را ۰/۳۳ در نظر بگیرید.

از جدول صفحه بعد، این مقدار به راحتی حاصل می گردد که برابر است با ۰/۲۲۶۳
 مثال: برای یک ورق فولادی به ضخامت ۰/۵ سانتی متر و شعاع خمیدگی ۲ سانتی متر، اگر قرار باشد به میزان ۳۰ درجه خم شود، حد مجاز خم کاری چند است؟
 پاسخ: چون شعاع خم کاری چهار برابر ضخامت ورق است، با استفاده از جدول بالا، $k = ۰/۵$ حاصل می گردد. در نتیجه داریم:

$$\text{حد مجاز} = \frac{\pi}{180} \cdot B \cdot (IR + K \cdot MT) = \frac{\pi}{180} \cdot ۳۰ \cdot (۲ + ۰/۵ \times ۰/۵) = ۱/۱۷۷۵ \text{ سانتی متر}$$

جدول مقادیر مستقیم حد مجاز خم کاری با دست ورق های نازک با توجه به فرمول (مقدار تقریبی)

	K factor	°/۳۳	K factor	°/۳۳	K factor	°/۳۳	K factor	°/۳۳	K factor	°/۳۳	K factor	°/۳۳	K factor	°/۳۳	K factor	°/۳۳	K factor	°/۳۳
	MT	IR	MT	IR	MT	IR	MT	IR	MT	IR	MT	IR	MT	IR	MT	IR	MT	IR
	°/۱۶۳	°/۲۱۰	°/۱۳۵	°/۱۶۴	°/۱۰۵	°/۱۱۸	°/۵۷۵	°/۱۰۵	°/۵۶۰	°/۵۹۲	°/۵۴۸	°/۵۶۶	°/۵۳۶	°/۵۲۰	°/۵۳۰	°/۵۲۰	°/۵۲۴	°/۵۲۰
زاویه (درجه)	حد مجاز		حد مجاز		حد مجاز		حد مجاز		حد مجاز		حد مجاز		حد مجاز		حد مجاز		حد مجاز	
۱۰	°/۵۴۶۱	°/۵۳۶۴	°/۵۲۶۶	°/۵۲۲۶	°/۵۱۹۵	°/۵۱۴۳	°/۵۰۵۵۶	°/۵۰۵۵۲	°/۵۰۵۴۹									
۲۰	°/۵۰۹۲۱	°/۵۰۷۲۷	°/۵۰۵۳۲	°/۵۰۴۵۳	°/۵۰۳۹۰	°/۵۰۲۸۵	°/۵۰۱۱۱	°/۵۰۱۰۴	°/۵۰۰۹۷									
۳۰	°/۱۳۸۲	°/۱۰۹۱	°/۵۰۷۹۹	°/۵۰۶۷۹	°/۵۰۵۸۵	°/۵۰۴۲۸	°/۵۰۱۶۷	°/۵۰۱۵۶	°/۵۰۱۴۶									
۴۰	°/۱۸۴۲	°/۱۴۵۵	°/۱۰۶۵	°/۵۰۹۰۵	°/۵۰۷۸۰	°/۵۰۵۷۱	°/۵۰۲۲۲	°/۵۰۲۰۹	°/۵۰۱۹۵									
۴۵	°/۲۰۷۳	°/۱۶۳۷	°/۱۱۹۸	°/۱۰۱۸	°/۵۰۸۷۸	°/۵۰۶۴۲	°/۵۰۲۵۰	°/۵۰۲۳۵	°/۵۰۲۱۹									
۵۰	°/۲۳۰۳	°/۱۸۱۸	°/۱۳۳۱	°/۱۱۳۱	°/۵۰۹۷۵	°/۵۰۷۱۴	°/۵۰۲۷۸	°/۵۰۲۶۱	°/۵۰۲۴۳									
۶۰	°/۲۷۶۴	°/۲۱۸۲	°/۱۵۹۷	°/۱۳۵۸	°/۱۱۱۷۰	°/۵۰۸۵۶	°/۵۰۳۳۳	°/۵۰۳۱۳	°/۵۰۲۹۲									
۷۰	°/۳۲۲۴	°/۲۵۴۶	°/۱۸۶۳	°/۱۵۸۴	°/۱۳۶۵	°/۵۰۹۹۹	°/۵۰۳۸۹	°/۵۰۳۶۵	°/۵۰۳۴۱									
۷۵	°/۳۴۵۵	°/۲۷۲۸	°/۱۹۹۶	°/۱۶۹۷	°/۱۴۶۳	°/۱۰۷۰	°/۵۰۴۱۷	°/۵۰۳۹۱	°/۵۰۳۶۵									
۸۰	°/۳۶۸۵	°/۲۹۱۰	°/۲۱۲۹	°/۱۸۱۰	°/۱۵۶۰	°/۱۱۴۲	°/۵۰۴۴۵	°/۵۰۴۱۷	°/۵۰۳۸۹									
۹۰	°/۴۱۴۶	°/۳۲۷۳	°/۲۳۹۶	°/۲۰۳۶	°/۱۷۵۵	°/۱۲۸۴	°/۵۰۵۰۰	°/۵۰۴۶۹	°/۵۰۴۳۸									
۱۰۰	°/۴۶۰۶	°/۳۶۳۷	°/۲۶۶۲	°/۲۲۶۳	°/۱۹۵۰	°/۱۴۲۷	°/۵۰۵۵۶	°/۵۰۵۲۱	°/۵۰۴۸۷									
۱۱۰	°/۵۰۶۷	°/۴۰۰۱	°/۲۹۲۸	°/۲۴۸۹	°/۲۱۴۵	°/۱۵۷۰	°/۵۰۶۱۱	°/۵۰۵۷۳	°/۵۰۵۳۵									
۱۲۰	°/۵۵۲۷	°/۴۳۶۴	°/۳۱۹۴	°/۲۷۱۵	°/۲۳۴۰	°/۱۷۱۳	°/۵۰۶۶۷	°/۵۰۶۲۶	°/۵۰۵۸۴									
۱۳۰	°/۵۹۸۸	°/۴۷۲۸	°/۳۴۶۰	°/۲۹۴۲	°/۲۵۳۵	°/۱۸۵۵	°/۵۰۷۲۳	°/۵۰۶۷۸	°/۵۰۶۳۳									
۱۳۵	°/۶۲۱۸	°/۴۹۱۰	°/۳۵۹۴	°/۳۰۵۵	°/۲۶۳۳	°/۱۹۲۷	°/۵۰۷۵۰	°/۵۰۷۰۴	°/۵۰۶۵۷									
۱۴۰	°/۶۴۴۹	°/۵۰۹۲	°/۳۷۲۷	°/۳۱۶۸	°/۲۷۳۰	°/۱۹۹۸	°/۵۰۷۷۸	°/۵۰۷۳۰	°/۵۰۶۸۱									
۱۴۵	°/۶۶۷۹	°/۵۲۷۴	°/۳۸۶۰	°/۳۲۸۱	°/۲۸۲۸	°/۲۰۵۹	°/۵۰۸۰۶	°/۵۰۷۵۶	°/۵۰۷۰۶									
۱۵۰	°/۶۹۰۹	°/۵۴۵۵	°/۳۹۹۳	°/۳۳۹۴	°/۲۹۲۵	°/۲۱۴۱	°/۵۰۸۳۴	°/۵۰۷۸۲	°/۵۰۷۳۰									
۱۵۵	°/۷۱۴۰	°/۵۶۳۷	°/۴۱۲۶	°/۳۵۰۷	°/۳۰۲۳	°/۲۲۱۲	°/۵۰۸۶۲	°/۵۰۸۰۸	°/۵۰۷۵۴									
۱۶۰	°/۷۳۷۰	°/۵۸۱۹	°/۴۲۵۹	°/۳۶۲۰	°/۳۱۲۰	°/۲۲۸۳	°/۵۰۸۸۹	°/۵۰۸۳۴	°/۵۰۷۷۹									
۱۶۵	°/۷۶۰۰	°/۶۰۰۱	°/۴۳۹۲	°/۳۷۳۴	°/۳۲۱۸	°/۲۳۵۵	°/۵۰۹۱۷	°/۵۰۸۶۰	°/۵۰۸۰۳									
۱۷۰	°/۷۸۳۰	°/۶۱۸۳	°/۴۵۲۵	°/۳۸۴۷	°/۳۳۱۵	°/۲۴۲۶	°/۵۰۹۴۵	°/۵۰۸۸۶	°/۵۰۸۲۷									

توضیح جدول

IR: شعاع داخلی خمیدگی

MT: ضخامت فلز، فاکتور K ثابت و برابر با ۳۳/۰ در نظر گرفته می شود. ابعاد بر حسب اینچ می باشند.







جدول حداقل قطر خم کاری برخی از مهم ترین پروفیل های استاندارد (ابعاد بر حسب میلی متر)

	اندازه	۵۰×۸	۹۰×۲۰	۱۰۰×۲۵	۱۲۰×۴۰	۱۸۰×۳۰	۱۹۰×۵۰	۲۰۰×۶۰
	حداقل قطر خم کاری	۵۰۰	۸۰۰	۱۰۰۰	۱۳۰۰	۲۰۰۰	۲۴۰۰	۲۵۰۰
	اندازه	۱۰۰×۱۸	۱۸۰×۲۵	۲۰۰×۳۰	۲۵۰×۴۰	۳۰۰×۵۰	۳۶۰×۶۰	۴۰۰×۷۵
	حداقل قطر خم کاری	۶۰۰	۸۰۰	۹۰۰	۱۲۰۰	۱۵۰۰	۲۰۰۰	۲۴۰۰
	اندازه	۳۸	۶۲	۸۵	۱۰۰	۱۲۰	۱۳۵	۱۵۰
	حداقل قطر خم کاری	۴۵۰	۶۰۰	۱۰۰۰	۱۲۰۰	۱۳۵۰	۱۸۰۰	۲۰۰۰
	اندازه	۴۲×۴	۸۹×۵	۱۱۴×۵	۱۶۸×۶	۲۱۹×۸	۲۴۵×۸	۳۲۳×۱۰
	حداقل قطر خم کاری	۵۰۰	۹۰۰	۱۲۰۰	۲۰۰۰	۳۵۰۰	۳۰۰۰	۴۲۰۰
	اندازه	۱۲	۲۰	۲۵	۳۰	۳۲	۴۰	۴۵
	حداقل قطر خم کاری	۸۰۰	۱۰۰۰	۱۱۰۰	۱۲۰۰	۱۵۰۰	۲۰۰۰	۲۰۰۰
	اندازه	۱۲	۲۰	۲۵	۳۰	۳۲	۴۰	۴۵
	حداقل قطر خم کاری	۹۰۰	۱۱۵۰	۱۶۰۰	۱۷۰۰	۱۸۰۰	۲۰۰۰	۲۰۰۰
	اندازه	۴۵×۳	۶۰×۴	۸۰×۶	۱۰۰×۱۰	۱۲۵×۱۰	۱۵۰×۱۰	۱۶۵×۱۰
	حداقل قطر خم کاری	۷۵۰	۹۰۰	۱۲۰۰	۲۰۰۰	۲۵۰۰	۳۰۰۰	۳۵۰۰
	اندازه	۴۰×۵	۷۰×۸	۹۰×۱۰	۱۰۰×۱۰	۱۲۰×۲	۱۵۰×۱۶	۱۶۰×۱۶
	حداقل قطر خم کاری	۸۰۰	۱۰۰۰	۱۵۰۰	۲۰۰۰	۲۵۰۰	۲۶۰۰	۲۶۰۰
	اندازه	۱۰	۱۲/۶	۱۴	۱۶	۱۸	۲۰b	۲۲b
	حداقل قطر خم کاری	۲۰۰۰	۲۵۰۰	۳۰۰۰	۳۵۰۰	۴۰۰۰	۵۰۰۰	۸۰۰۰

توضیح پروفیل های موجود در جدول:



جدول استاندارد رنگ کپسول‌ها

Name of gas	Chemical formula or symbol	Old colour before 2010	New colour of the cylinder after 2010
Oxygen	O ₂	Black 	Pure white RAL 9010 
Carbon dioxide	CO ₂	Black 	Dusty grey RAL 7037 
Compressed air	None = mixed gases	French grey 	Grey on cylinder and green on shoulder 
Nitrogen	N ₂	French grey 	Jet black RAL 9005 
Acetylene	C ₂ H ₂	Maroon colour BS 541 (Black red RAL 3007) 	Maroon colour BS 541 (Black red RAL 3007) 
Propane	C ₃ H ₈	Signal red RAL 3001 	Signal red RAL 3001 
Butane	C ₄ H ₁₀	Not specified	Not specified
Helium	He	Brown 	Olive brown RAL 8008 

مشخصات مفتول مسوار

ردیف	گرید فولاد STEEL GRADE	آنالیز شیمیایی مفتول‌های فولادی با روکش مسوار					مشخصات مکانیکی مفتول‌های فولادی با روکش مسوار		
		%C	%Si	%Mn	%P	%S	شرایط مفتول	تولانس مجاز	پوشش سطح (روکش مسوار)
۱	SAE ۱۰۰۶	max ۰/۰۸	max ۰/۱	۰/۲۵-۰/۴	max ۰/۰۲	max ۰/۰۲	کشش سرد	+۰-۰/۰۳	MAX میکرون ۱
۲	SAE ۱۰۰۸	max ۰/۱	max ۰/۱	۰/۳-۰/۵	max ۰/۰۲	max ۰/۰۲	کشش سرد	+۰-۰/۰۳	MAX میکرون ۱
۳	SAE ۱۰۱۰	۰/۰۸- ۰/۱۳	max ۰/۱	۰/۳-۰/۶	max ۰/۰۲	max ۰/۰۲	کشش سرد	+۰-۰/۰۳	MAX میکرون ۱
۴	ST\KP	۰/۰۶- ۰/۱۲	max ۰/۰۵	۰/۲۵-۰/۵	max ۰/۰۴	max ۰/۰۵	کشش سرد	+۰-۰/۰۳	MAX میکرون ۱
۵	RST ۳۴-۲	max ۰/۱۵	max ۰/۳۵	max ۰/۵	max ۰/۰۲۵	max ۰/۰۲۵	کشش سرد	+۰-۰/۰۳	MAX میکرون ۱

جدول انواع مفتول‌های برنجی و مشخصات آنها

درجه ذوب °f	درجه ذوب °c	استحکام کششی		درصد عناصر آلیاژی					مشخصات مفتول استاندارد AWS
		ksi	MPa	Ni	Fe	Sn	Zn	Cu	
۱۶۵۰	۶۰۰	۴۰	۲۷۵	-	-	۱	۳۹	۶۰	RBcuzn-A
۱۶۳۰	۸۹۰	۵۰	۳۴۴	۰/۵	۱	۱	۳۷/۵	۶۰	RBcuzn-B
۱۶۳۰	۸۹۰	۵۰	۳۴۴	-	۱	۱	۳۸	۶۰	RBcuzn-C
۱۷۱۵	۹۳۵	۶۰	۴۱۳	۱۰	-	-	۴۰	۵۰	RBcuzn-D

انواع درز جوش

نام درز جوش	نماد	شکل درز جوش (قبل از جوشکاری)		شکل درز جوش (بعد از جوشکاری)	
		تصویر سه بعدی	تصویر دو بعدی	تصویر سه بعدی	تصویر دو بعدی
گرده ماهی					
لب به لب					
جناغی تیز (V شکل)					
نیم جناغی تیز (نیم V)					
جناغی کند (اتصال Y)					
نیم جناغی کند					
لاله‌ای					
نیم لاله‌ای					
گوشه					

طریقه نمایش نماد جوش ماهیچه‌ای

		<p>چون مقطع درز جوش به چشم ناظر نزدیک است (در قسمت جلوی قطعه قرار می‌گیرد) نماد درز جوش روی خط کامل مرجع قرار می‌گیرد.</p>
		<p>در صورتی که مقطع درز جوش در قسمت پشت قطعه قرار گیرد، علامت نماد درز جوش روی خط چین مرجع قرار می‌گیرد.</p>

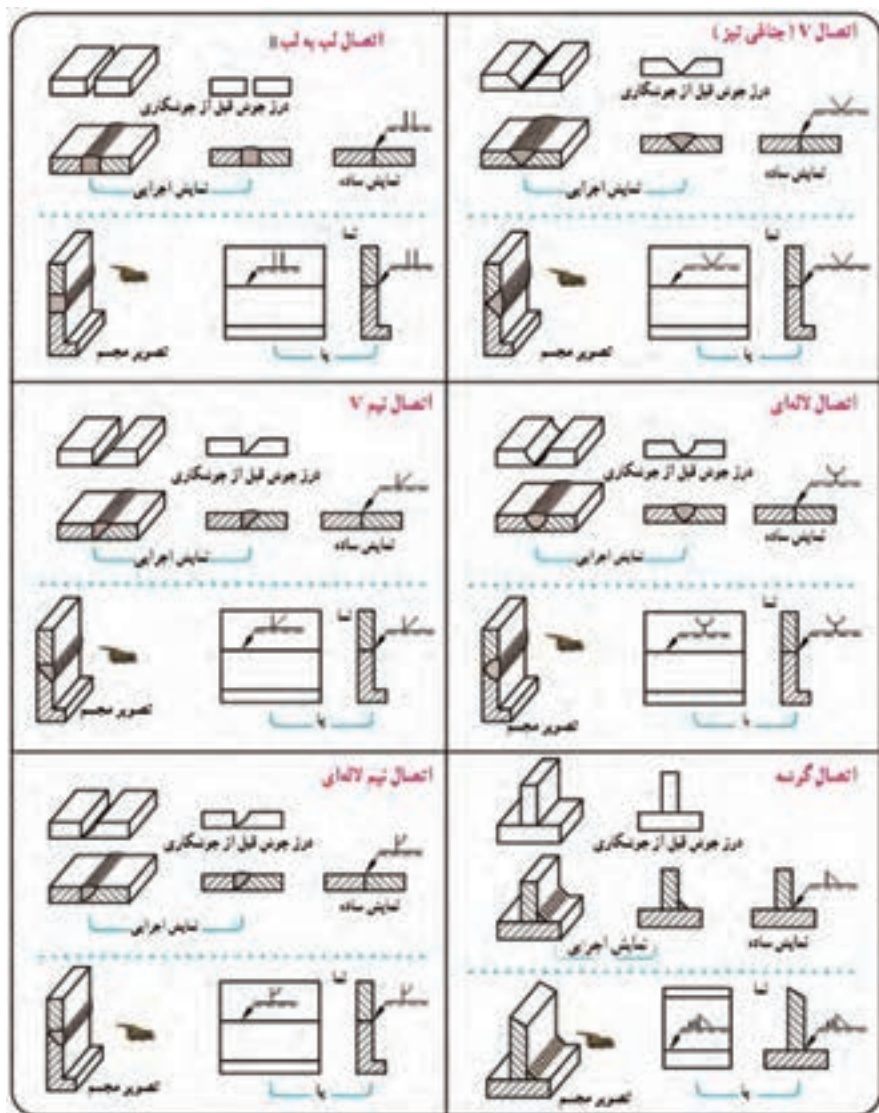
شیوه نمایش ضخامت جوش در نماد جوش ماهیچه‌ای

- ۱ نماد جوش فقط روی یک نما گذاشته می‌شود.
- ۲ نماد درز جوش همواره عمود بر خط مرجع قرار دارد.
- ۳ از جمله اطلاعاتی که روی خط مرجع و در کنار علامت درز جوش قرار می‌گیرد، ضخامت جوش است. (مانند a° یا $a^{\circ}Z$)
- ۴ در برخی از جوش‌ها مثل جوش گوشه‌ای لازم است که ضخامت جوش نوشته شود. a ضخامت درز جوش (ارتفاع مثلث قائم‌الزاویه متساوی‌الساقین)
 Z ضخامت پایه درز جوش (طول ضلع مثلث متساوی‌الساقین)



	$a = 7\text{mm}$
	$z = 7\text{mm}$


انواع اتصالات جوش و نماد آنها



نحوه قرارگیری پیکان نماد جوش بر درز جوش

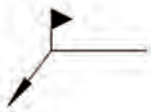
نماد جوش	تصویر مجسم و جهت دید درز جوش	نمایش ساده
✓		
✓		
K		

نماد جوشکاری دور تا دور



تصویر سه بعدی	نوع اتصال	نمایش اجرایی	نمایش ساده
	(اتصال محیطی حلقوی) دور تا دور قطعاً به شکل حلقه روی قطعه دیگر جوش داده می‌شود.		

نماد جوشکاری در هنگام مونتاژ



جوشکاری در هنگام مونتاژ (در محل نصب): برای اینکه نشان دهند اتصال قطعات هنگام مونتاژ در محل نصب صورت می‌گیرد از علامتی به شکل پرچم (مثلثی مطابق شکل روبه‌رو) استفاده می‌کنند. این علامت عمود بر فصل مشترک خط اشاره و خط مرجع قرار می‌گیرد.

نمایش ساده	نمایش اجرایی	نوع اتصال	تصویر سه بعدی
		اتصال هنگام مونتاژ	

نمادهای فرم سطح درز جوش‌ها

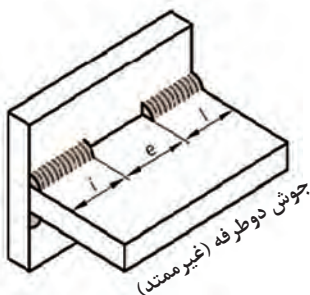
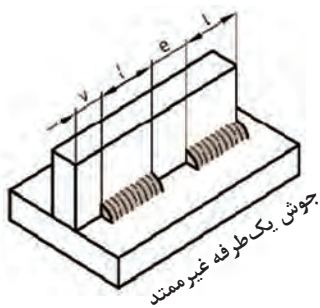
مقعر (گود)	محدب (قوسی)	مسطح (تخت)	شکل سطح درز جوش
			علائم تکمیلی
			مثال

طریقه نمایش نمادهای فرم سطح درز جوش‌ها

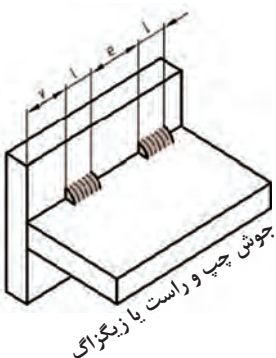
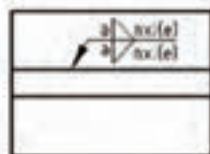
توضیح	نمایش ساده	تصویر مجسم	نماد جوش
اتصال نیم V نیز با سطح محدب			
اتصال نیم V نیز دو طرفه با سطوح تخت و محدب			
اتصال گوشه دو طرفه با سطح مقعر			

طریقه نمایش جوش های غیرممتد

V : فاصله از لبه e : فاصله اتصالات از یکدیگر l : طول جوش n : تعداد تکه جوش



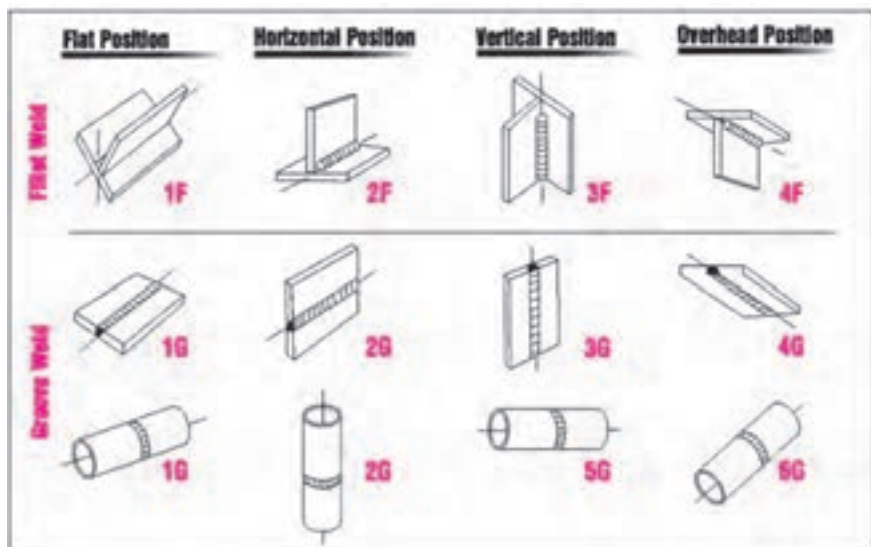
نمایش اجرایی



نمایش اجرایی



موقعیت‌های مختلف جوشکاری



حروف اختصاری موقعیت‌های مختلف جوشکاری

PA	۱G / ۱F	Flat / Downhand
PB	۲F	Horizontal - Vertical
PC	۲G	Horizontal
PD	۴F	Horizontal - Vertical (Overhead)
PE	۴G	Overhead
PF	۳G / ۵G	Vertical - Up
PG	۳G / ۵G	Vertical - Down
H-L ۰ ۴۵	۶G	Inclined Pipe (Upwards)
J-L ۰ ۴۵	۶G	Inclined Pipe (Downwards)

جدول انتخاب کابل مسی

f	m	۱۰۰	۱۵۰	۲۰۰	۲۵۰	۳۰۰	۳۵۰	۴۰۰	۴۵۰	۵۰۰
۵۰	۱۵	۲	۲	۲	۲	۱	۱/۰	۱/۰	۲/۰	۲/۰
۷۵	۲۳	۲	۲	۱	۱/۰	۲/۰	۲/۰	۳/۰	۳/۰	۴/۰
۱۰۰	۳۰	۲	۱	۱/۰	۲/۰	۳/۰	۴/۰	۴/۰		
۱۲۵	۳۸	۲	۱/۰	۲/۰	۳/۰	۴/۰				
۱۵۰	۴۶	۱	۲/۰	۳/۰	۴/۰					
۱۷۵	۵۳	۱/۰	۳/۰	۴/۰						
۲۰۰	۶۱	۱/۰	۳/۰	۴/۰						
۲۵۰	۷۶	۲/۰	۴/۰							
۳۰۰	۹۱	۳/۰								
۳۵۰	۱۰۷	۳/۰								
۴۰۰	۱۲۲	۴/۰								

جدول انتخاب کابل آلومینیومی

f	m	۱۰۰	۱۵۰	۲۰۰	۲۵۰	۳۰۰	۳۵۰	۴۰۰	۴۵۰	۵۰۰
۵۰	۱۵	۲	۲	۱/۰	۲/۰	۲/۰	۳/۰	۴/۰		
۷۵	۲۳	۲	۱/۰	۲/۰	۳/۰	۴/۰				
۱۰۰	۳۰	۱/۰	۲/۰	۴/۰						
۱۲۵	۳۸	۲/۰	۳/۰							
۱۵۰	۴۶	۲/۰	۳/۰							
۱۷۵	۵۳	۳/۰								
۲۰۰	۶۱	۴/۰								
۲۲۵	۶۹	۴/۰								

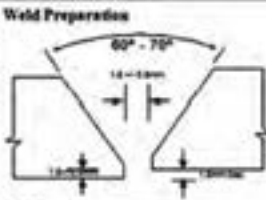
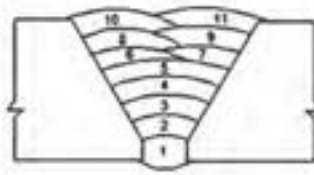
جدول شماره شیشه‌های ماسک در شرایط مختلف جوشکاری

شماره شیشه	موارد استفاده		درصد اشعه‌های عبوری از شیشه		
			نور غیرمضر	مادون قرمز	ماورای بنفش
شماره ۲	انعکاس نور شدید و گرم کاری قطعات		۲۸٪	۰/۸۷٪	۱/۰۷۵٪
شماره ۳	لحیم نرم با شعله		۱۶٪	۰/۴۳٪	۱/۰۳۵٪
شماره ۴	لحیم سخت با شعله استیلین		۶/۵٪	هیچ	۱/۰۹۷٪
شماره ۵	جوشکاری و برشکاری سبک استیلین		۲٪	هیچ	۰/۰۴۶٪
شماره ۶	استاندارد جوشکاری اکسی استیلین		۰/۸٪	هیچ	هیچ
شماره ۸	جوشکاری سنگین گاز، برشکاری و جوشکاری برق تا ۷۵ آمپر		۰/۲۵٪	هیچ	هیچ
شماره ۱۰	جوشکاری و برشکاری برق بین ۷۵ تا ۲۵۰ آمپر		۰/۰۱۴٪	هیچ	هیچ
شماره ۱۲	جوشکاری و برشکاری برق بالاتر از ۲۵۰ آمپر		۰/۰۰۲٪	هیچ	هیچ
شماره ۱۴	جوشکاری و برشکاری با الکتروود کربنی		۰/۰۰۰۳٪	هیچ	هیچ

روش جوشکاری تدوین شده (WELDING PROCEDURE SPECIFICATION)(WPS) شامل مشخصات مواد و عوامل مؤثر بر فرایند جوشکاری می باشد. در واقع می توان با آن، کیفیت یک قطعه را تضمین و روش مناسبی را برای کنترل قطعه تدوین کرد. روش جوشکاری، طراحی آن و آزمایش های کنترل کیفی که بر اساس این روش تأیید می شوند همگی می بایست براساس استاندارد تهیه شده و تعریف شده باشد. تهیه و طراحی WPS برای مشخص نمودن پارامترهای قطعه، الکتروود یا سیم جوش مصرفی، فرایند جوشکاری، تنظیمات دستگاهی و... می باشد که با استفاده از استاندارد AWS D₁₁ و ASME- IX تهیه می گردد.

در زیر یک نمونه نمایش داده شده است:

Welding Procedure Specification

Client: Mobil		Project: 221010Gontee		REF No. WPS 6 R1	
Procedure Description: 12" Heavy Wall Offshore Tie-In				41903/WPS6	
Material: ASME 79.1 Grade 350 API 5L X65		Diameter: 168.3		Thickness: 18.3	
Position: 6G		Clamp Type: Internal			
Preheat °C (Min): 100		Interpass °C (Max): 300			
ROOT SMAW		HOT PASS SMAW		FILL & CAP SMAW	
Welding Process		Vertical Down		Vertical Down	
Welding Direction		Vertical Down		Vertical Down	
Filler		Lincoln SA/T0+		Lincoln SA/T0+	
Polarity		DC +ve		DC +ve	
Shielding Gas		N/A		N/A	
Purge Gas		N/A		N/A	
Pen %	Filler Size (mm)	Amper	Voltage	Speed (mm/min)	Heat Input (kJ/mm)
1	3.2mm	70-130	18-33	3.3-6.6	0.4-0.8
2	4.0mm	110-210	18-36	3.3-6.6	0.6-1.2
FILL	4.0mm	140-260	18-37	3.3-6.6	0.8-1.2
CAP	4.0mm	130-230	18-36	3.3-6.6	0.6-1.2
<p>Weld Preparation</p> 					
<p>Pass Location</p> 					
<p>NOTES</p> <ol style="list-style-type: none"> API Std 1104B/F1094-SP-PL-3010R1 Clamp removal stage: 100% completion of root (external clamp may be used in the event of a breakdown - removed after 50% minimum completion of the root) Time lapse between root and second pass: 16 Minutes Time lapse between second pass and 1st fill: 12 Minutes Minimum number of passes before pipe movement: 3 passes Maximum number of passes before break in welding: 3 passes Maximum Number of welders- Root & second pass: 2, Fill & Cap: 1 Method of cleaning: Grinder / Wire brush Method of Preheat: Gas Torch Qualification reference number: 48284-PP/WP6 R1 					
Company Welding Engineer Approved			Approved for Client		

گزارش کیفیت روش جوشکاری (PQR)

ساخت و نصب سازه‌های جوشکاری مستلزم این است که نشان دهیم کیفیت مواد اولیه، روش جوشکاری و فلز حاصل از جوش، مطابق با خواسته‌های استاندارد می‌باشد.

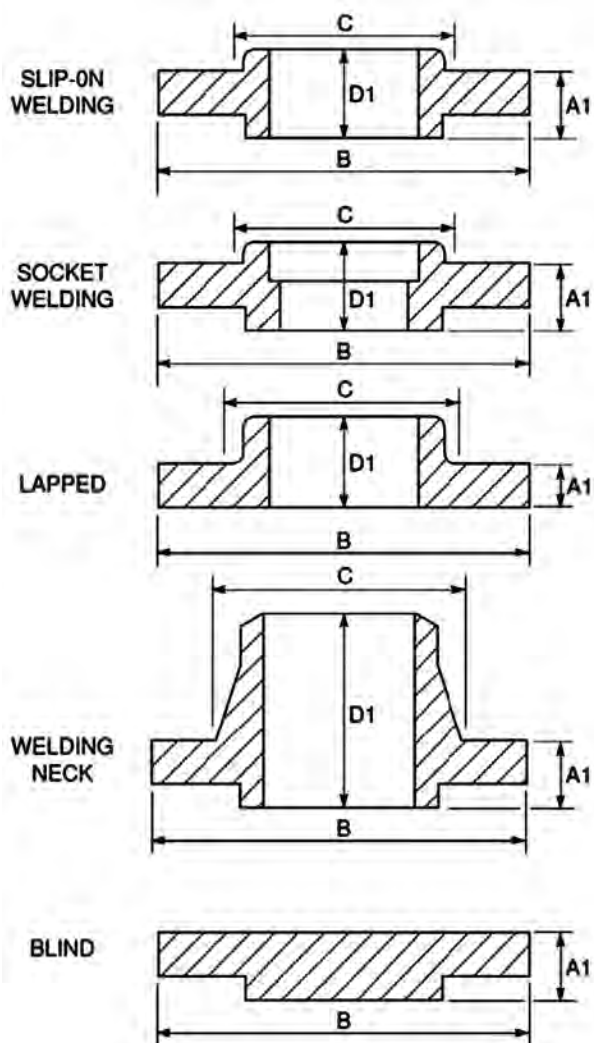
این کار به کمک یک سری آزمایشات مخرب و غیرمخرب تحت عنوان گزارش کیفیت روش جوشکاری PQR (Procedure Qualification Report) انجام می‌شود.

هدف از انجام آزمایشات تعیین کیفیت روش جوشکاری آن است که نشان دهیم، روش جوشکاری تدوین شده (WPS)، اتصالی سالم و با خواص مکانیکی مطلوب و قابل پذیرش در محدوده استاندارد مربوطه، به وجود می‌آورد. نتیجه آزمایشات در فرم خاصی ثبت شده که به آن گزارش کیفیت روش جوشکاری (PQR) می‌گویند.

در زیر، یک نمونه WPS و PQR نمایش داده شده است:

APPENDIX I					
WELDING PROCEDURE QUALIFICATION RECORD (PQR)					
PROCEDURE SPECIFICATION			GROOVE WELD TEST RESULTS		
Material specification _____ [1]			Tensile Strength, psi _____		
Welding process _____ [2]			1. _____ [24]		
Manual, semiautomatic, automatic _____ [3]			2. _____ [25]		
Position of welding _____ [4]			Guided-Bend Tests (2 root, 2 face, or 4 side-bends)		
Filler metal specification _____ [5]			Root 1. _____ [26] Face 1. _____ [28] Side 1. _____ [30]		
Filler metal classification _____ [6]			2. _____ [27] 2. _____ [29] 2. _____ [31]		
Weld metal analysis _____ [7]			3. _____ [32]		
Shielding gas _____ [8]			4. _____ [33]		
Flow rate _____ [9]			Radiographic-Ultrasonic Examination		
Single or multiple pass _____ [10]			RT Report No: _____ [34]		
Single or multiple arc _____ [11]			UT Report No: _____ [35]		
Welding current _____ [12]			FILLET WELD TEST RESULTS		
Welding progression _____ [13]			Minimum size multiple pass Macroetch 1. _____ [36] Maximum size single pass Macroetch 1. _____ [39]		
Preheat temperature _____ [14]			2. _____ [37] 2. _____ [40]		
Welder's ID _____ [15]			3. _____ [38] 3. _____ [41]		
Welder's name _____ [16]					
VISUAL INSPECTION RESULTS					
Appearance _____ [17]					
Undercut _____ [18]					
Piping porosity _____ [19]					
ALL-WELD-METAL TENSION TEST RESULTS					
Tensile strength, psi _____ [20]			Test Date _____ [42]		
Yield point/strength, psi _____ [21]			Witnessed by _____ [43]		
Elongation in 2 in, % _____ [22]					
Laboratory Test No: _____ [23]					
WELDING PROCEDURE					
Pass No.	Electrode Size	Welding Current		Speed of Travel	Joint Detail
		Amps	Volts		
[44]	[45]	[46]	[47]	[48]	[49]
We, the undersigned, certify that the statements in this record are correct					
Procedure No. _____ [50]			Manufacturer or Contractor _____ [51]		
Revision No. _____ [52]			Authorized by _____ [53]		
			Date _____ [54]		

اندازه فلنج براساس ANSI B1/5 برای کلاس های ۱۵۰ و ۳۰۰



جدول اندازه فلنج های ANSI B16.5 کلاس ۱۵۰

PIPE		FLANGE															
Nominal Pipe Size	1/2	3/4	1	1 1/2	2	3	4	6	8	10	12	14	16	18	20	24	
Outside Diameter	27/32	1 1/16	1 5/8	1 25/32	2 1/8	3 1/2	4 1/2	6 5/8	8 5/8	10 9/16	12 3/4	14	16	18	20	24	
Thickness A1	7/16	1/2	5/8	7/8	3/4	15/16	1 1/8	1 1/4	1 3/8	1 1/2	1 5/8	1 3/4	1 7/8	1 7/8	1 7/8	1 7/8	
Outside Diameter B	3 1/2	3 3/4	4 3/4	5	6	7 1/2	9	11	13 1/2	16	19	21	23 1/2	25	27 1/2	32	
Hub Diameter C	1 1/8	1 1/2	1 5/8	2 1/8	3 1/8	4 1/4	5 1/8	7 1/8	9 1/8	12	14 1/8	15 3/4	18	19 7/8	22	26 1/8	
LENGTH THRO' HUB D1	Slip-On																
	Slip-On																
	Slip-On																
	Slip-On																
Weld Neck	5/8	5/8	1 1/8	7/8	1	1 1/8	1 1/8	1 1/8	1 3/4	1 5/8	2 1/8	2 1/4	2 1/2	2 1/2	2 3/4	3 1/4	
	5/8	5/8	1 1/8	7/8	1	1 1/8	1 1/8	1 1/8	1 3/4	1 5/8	2 1/8	2 1/4	2 1/2	2 1/2	2 3/4	3 1/4	
	5/8	5/8	1 1/8	7/8	1	1 1/8	1 1/8	1 1/8	1 3/4	1 5/8	2 1/8	2 1/4	2 1/2	2 1/2	2 3/4	3 1/4	
	5/8	5/8	1 1/8	7/8	1	1 1/8	1 1/8	1 1/8	1 3/4	1 5/8	2 1/8	2 1/4	2 1/2	2 1/2	2 3/4	3 1/4	

- NOTES: (1) Socket weld flanges only specified for 1/2 to 3 inch N.B. Dimension D1 as for slip-on flanges.
 (2) All dimensions in inches.
 (3) Raised face thickness for RF flanges = 0.06 inch. See 5.3 for RTJ flanges.

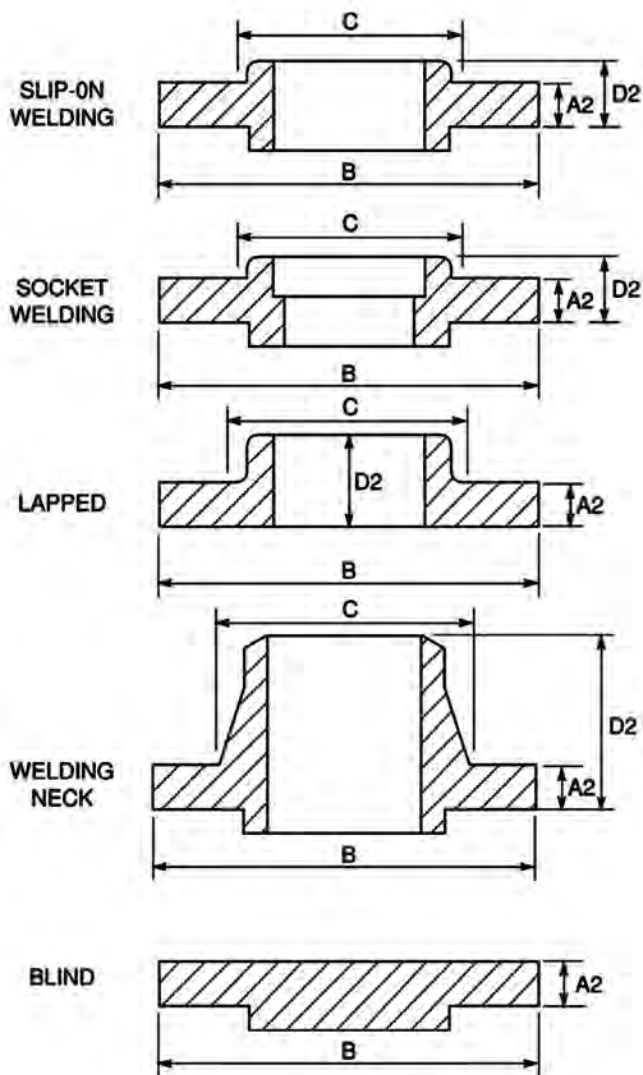
PIPE		FLANGE																	
Nominal Pipe Size	1/2	3/4	1	1 1/2	2	3	4	6	8	10	12	14	16	18	20	24			
Outside Diameter	27.0	33.4	42.4	54.0	63.5	76.2	89.1	108.0	127.0	152.4	177.8	203.2	228.6	254.0	279.4	304.8			
Thickness A1	5/16	5/8	11/16	1/2	7/8	1 1/8	1 1/4	1 7/8	1 5/8	1 7/8	2	2 1/8	2 1/4	2 5/8	2 1/2	2 5/8			
Outside Diameter B	31 1/4	43 1/2	47 1/2	61 1/2	67 1/2	81 1/4	87 1/2	107 1/2	115 1/2	127 1/2	152 1/2	165 1/4	185 1/4	19 1/2	21 1/2	23 3/4			
Hub Diameter C	1 1/2	1 7/8	2 1/8	2 5/8	3 1/8	4 1/8	5 1/4	6 1/8	7 1/4	8 1/4	10 1/4	11 1/4	12 1/4	13 1/4	15 1/4	17 1/4			
LENGTH THRO' HUB D1		Slip-On		Lapped		Weld Neck		Slip-On		Lapped		Weld Neck		Slip-On		Lapped		Weld Neck	
		7/8	1	1 1/8	1 1/4	1 1/2	1 3/4	1 7/8	2 1/8	2 1/4	2 1/2	2 3/4	3 1/4	3 1/2	3 3/4	4 1/4	4 1/2	4 3/4	5 1/4
		7/8	1	1 1/8	1 1/4	1 1/2	1 3/4	1 7/8	2 1/8	2 1/4	2 1/2	2 3/4	3 1/4	3 1/2	3 3/4	4 1/4	4 1/2	4 3/4	5 1/4
		2 1/4	2 1/4	2 7/8	2 1 1/4	2 3/4	3 1/8	3 3/8	4 1/8	4 1/8	4 3/4	5 1/8	5 1/8	5 1/4	5 1/4	5 3/4	5 3/4	5 3/4	6 1/4

NOTES: (1) Socket weld flanges only specified for 1/2 to 3 inch N.B. Dimension D1 as for slip-on flanges.

(2) All dimensions in inches.

(3) Raised face thickness for RF flanges = 0.06 inch. See 5.3 for RTJ flanges.

اندازه فلنج براساس ANSI B1.5 برای کلاس ۶۰۰ و بالاتر



PIPE		FLANGE															
Nominal Pipe Size	1/2	3/4	1	1 1/2	2	3	4	6	8	10	12	14	16	18	20	24	
Outside Diameter	27/32	1 1/16	1 5/16	1 7/8	2 1/8	3 1/2	4 1/2	6 5/8	8 5/8	10 5/8	12 5/8	14	16	18	20	24	
Thickness A2	5/16	5/8	7/16	1	1 1/4	1 1/2	1 7/8	2 1/8	2 1/2	2 5/8	2 3/4	2 7/8	3	3 1/4	3 1/2	4	
Outside Diameter B	3 1/4	4 3/8	4 7/8	6 1/8	6 1/2	8 1/4	10 3/4	14	16 1/2	20	22	23 1/2	27	29 1/4	32	37	
Hub Diameter C	1 1/2	1 7/8	2 1/4	2 5/8	3 5/8	4 3/8	6	8 1/4	10 3/4	13 1/2	15 1/4	17	19 1/2	21 1/2	24	28 1/4	
LENGTH THRU HUB D2	Slip-On		1	1 1/4	1 1/2	1 3/4	2 1/8	2 1/2	3	3 1/4	3 1/2	3 3/4	4 1/8	4 1/2	5	5 1/2	
	Lapped		1	1 1/4	1 1/2	1 3/4	2 1/8	2 1/2	3	3 1/4	3 1/2	3 3/4	4 1/8	4 1/2	5	5 1/2	
	Weld Neck		2 1/4	2 1/2	2 3/4	3	3 1/4	3 1/2	3 3/4	4	4 1/4	4 1/2	4 3/4	5	5 1/4	5 1/2	5 3/4
			2 1/4	2 1/2	2 3/4	3	3 1/4	3 1/2	3 3/4	4	4 1/4	4 1/2	4 3/4	5	5 1/4	5 1/2	5 3/4

NOTES: (1) Socket weld flanges only specified for 1/2 to 3 inch N.B. Dimension D2 as for slip-on flanges.

(2) All dimensions in inches.

(3) Raised face thickness for RF flanges = 0.25 inch. See 5.3 for RTJ flanges.

PIPE		FLANGE				
Nominal Pipe Size	1/2	3/4	1	1 1/2	2	
Outside Diameter	27mm	13mm	15mm	15mm	20mm	
Thickness A2	USE CLASS 1500 DIMENSIONS IN THESE SIZES					
Outside Diameter B						
Hub Diameter C						
Length Thru D2						
Slip-On						
Lapped						
Weld Neck						
	3	4	6	8	10	12
	4	6	8	10	12	14
	6	8	10	12	14	16
	8	10	12	14	16	18
	10	12	14	16	18	20
	12	14	16	18	20	24
	14	16	18	20	24	28
	16	18	20	24	28	32
	18	20	24	28	32	36
	20	24	28	32	36	40
	24	28	32	36	40	48
	28	32	36	40	48	56
	32	36	40	48	56	64
	36	40	48	56	64	72
	40	48	56	64	72	80
	48	56	64	72	80	96
	56	64	72	80	96	112

NOTES: (1) Socket weld flanges only specified for 1/2 to 3 inch N.B. Dimension D2 as for Class 1500 slip-on flanges.

(2) All dimensions in inches.

(3) Raised face thickness for RF flanges = 0.25 inch. See 5.3 for RTJ flanges.

PIPE		FLANGE														
Nominal Pipe Size	1/2	3/4	1	1 1/2	2	3	4	6	8	10	12	14	16	18	20	24
Outside Diameter	2 1/2	1 3/4	1 3/4	1 3/4	2 1/4	3 1/2	4 1/2	6 1/2	8 1/2	10 3/4	12 3/4	14	16	18	20	24
Thickness A2	3/8	1	1 1/8	1 1/4	1 1/2	1 7/8	2 1/8	3 1/4	3 5/8	4 1/4	4 7/8	5 1/4	5 3/4	6 1/8	7	8
Outside Diameter	4 1/4	5 1/8	5 7/8	7	8 1/2	10 1/4	12 1/4	15 1/4	19	23	26 1/2	29 1/2	32 1/2	36	38 1/4	45
Hub Diameter	1 1/2	1 5/8	2 1/8	2 3/4	4 1/8	5 1/4	6 1/8	9	11 1/2	14 1/2	17 1/4	19 1/2	21 3/4	23 1/2	25 1/4	30
Slip-On	1 1/4	1 3/8	1 3/4	1 3/4	2 1/4	NOT SPECIFIED FOR CLASS 1500										
Lapped	1 1/4	1 3/8	1 3/4	1 3/4	2 1/4											
Weld Neck	2 1/8	2 3/4	2 7/8	3 1/4	4	4 5/8	4 7/8	6 1/4	6 3/8	10	11 1/8	11 3/4	12 1/4	12 7/8	14	15

NOTES: (1) Socket weld flanges only specified for 1/2 to 3 inch N.B. Dimension D2 as for slip-on flanges.

(2) All dimensions in inches.

(3) Raised face thickness for RF flanges = 0.25 inch. See 5.3 for RTJ flanges.

جدول اندازه فلنج های ANSI B16.5 کلاس ۲۵۰۰

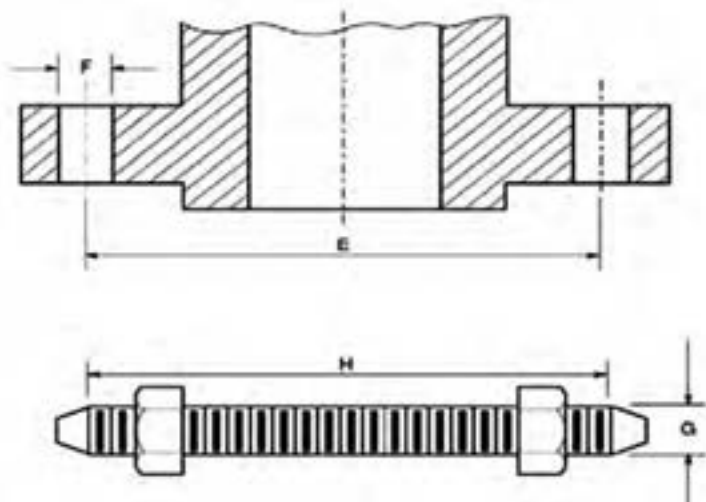
PIPE													FLANGE												
Nominal Pipe Size	1/2	3/4	1	1 1/2	2	3	4	6	8	10	12	14	16	18	20	24									
Outside Diameter	7/8"	1 1/8"	1 3/8"	1 7/8"	2 1/8"	2 7/8"	3 1/2"	4 1/2"	5 1/2"	6 7/8"	8 1/4"	9 7/8"	11 3/4"	13 1/4"	15 1/4"	17 1/2"									
Thickness A2	13/16"	1 1/4"	1 3/8"	1 7/8"	2	2 5/8"	3	4 1/4"	5	6 1/2"	7 1/4"	CLASS 2500 FLANGES NOT SPECIFIED IN THESE SIZES													
Outside Diameter	B 5 1/4"	5 1/2"	6 1/4"	8	9 1/4"	12	14	19	21 3/4"	26 1/2"	30														
Hub Diameter	C 1 11/16"	2	2 1/4"	2 3/8"	3 1/4"	5 1/4"	6 1/2"	9 1/4"	12	14 1/4"	17 1/8"														
Length Thru Hub D2	NOT SPECIFIED FOR CLASS 2500																								
Slip-On																									
Lapped	1 5/8"	1 7/8"	1 7/8"	2 3/8"	2 3/4"	3 5/8"	4 1/4"	6	7	9	10														
Weld Neck	2 3/8"	3 1/8"	3 1/2"	4 3/8"	5	6 5/8"	7 1/2"	10 3/4"	12 3/8"	15 3/8"	18 1/4"														

NOTES: (1) Socket weld flanges not specified in Class 2500.

(2) All dimensions in inches.

(3) Raised face thickness for RF flanges = 0.25 inch. See 5.3 for RTJ flanges.

اندازه مهره و میله رزوه شده براساس ANSI B1.5



جدول اندازه مهره و میله رزوه شده براساس ANSI B1.5 کلاس ۱۵۰

Nominal Pipe Size	1/2	3/4	1	1 1/2	2	3	4	6	8	10	12	14	16	18	20	24
Diameter of Bolt Circle (PCD)	E 2 3/4	2 3/4	3 3/4	3 3/4	4 3/4	6	7 1/2	9 1/2	11 3/4	14 3/4	17	19 1/2	21 1/4	22 3/4	25	29 1/2
Diameter of Bolt Holes	F 5/8	5/8	5/8	5/8	3/4	3/4	3/4	7/8	7/8	1	1	1 1/8	1 1/8	1 1/4	1 1/4	1 3/8
Diameter of Bolts	G 1 1/2	1 1/2	1 1/2	1 1/2	5/8	5/8	5/8	3/4	3/4	7/8	7/8	1	1	1 1/8	1 1/8	1 1/4
H 0.06 inch Raised Face Flange	2 1/4	2 1/4	2 3/4	2 3/4	3 1/4	3 1/2	3 3/4	4	4 1/4	4 1/2	4 3/4	5 1/4	5 1/4	5 3/4	6 3/4	6 3/4
Ring Joint Flange	-	-	3	3 1/4	3 3/4	4	4	4 1/2	4 3/4	5	5 1/4	5 3/4	5 3/4	6 1/4	6 3/4	7 1/4
Number of Bolts	4	4	4	4	4	4	8	8	8	12	12	12	12	16	16	20

NOTE: (1) All dimensions in inches.

جدول اندازه مهره و میله رزوه شده براساس ANSI B1.5 کلاس ۳۰۰

Nominal Pipe Size	1/2	3/4	1	1 1/2	2	3	4	6	8	10	12	14	16	20	24	24
Diameter of Bolt Circle (PCD)	E 2 1/2	3 1/4	3 7/8	4 1/2	5	6 5/8	7 7/8	10 1/2	13	15 1/4	17 1/2	20 1/2	22 1/4	24 1/4	27	32
Diameter of Bolt Inches	F 3/8	3/4	3/4	7/8	3/4	7/8	7/8	7/8	1	1 1/8	1 1/4	1 1/4	1 3/8	1 3/4	1 3/4	1 3/4
Diameter of Bolts	G 1/2	3/4	3/4	3/4	3/8	3/4	3/4	3/4	7/8	1	1 1/8	1 1/8	1 1/8	1 1/4	1 1/4	1 1/2
H LENGTH OF STUD BOLTS	0.06 inch Raised Face Range		2 1/2		3	3	3 1/2	3 1/2	4 1/4	4 1/2	4 3/4	5 1/2	5 1/2	6 1/4	6 1/4	9
	Flang Joint Range		3		3 1/2	3 1/2	4	4	4 1/4	5	5 1/2	6	6 1/4	7 1/4	8 1/4	10
	Number of Bolts		4	4	4	4	4	8	8	8	8	12	12	16	16	24

NOTE: (1) All dimensions in inches.

جدول اندازه مهره و میله رزوه شده براساس ANSI B1.5 کلاس ۶۰۰

Nominal Pipe Size	1/2	3/4	1	1 1/8	2	3	4	6	8	10	12	14	16	18	20	24
Diameter of Bolt Circle (PCD) E	2 1/8	3 1/4	3 7/8	4 7/8	5	6 1/8	8 1/8	11 1/8	13 1/4	17	19 1/4	22 1/8	25 1/4	29 1/4	28 7/8	33
Diameter of Bolt Holes F	3/8	3/4	3/4	7/8	3/4	7/8	1	1 1/8	1 1/4	1 3/8	1 3/4	1 7/8	1 7/8	1 3/4	1 3/4	2
Diameter of Bolts G	1/2	5/8	5/8	3/4	5/8	3/4	7/8	1	1 1/8	1 1/4	1 1/4	1 3/8	1 3/8	1 3/4	1 3/4	1 7/8
H 0.25 inch Raised Face Flange	3	3 1/2	3 1/2	4 1/4	4 1/4	5	5 1/4	6 1/4	7 1/2	8 1/2	8 3/4	9 1/4	10	10 3/4	11 1/4	13
LENGTH OF STUDBOLTS Flange Joint Flange	3	3 1/2	3 1/2	4 1/4	4 1/4	5	5 1/4	6 1/4	7 1/2	8 1/2	8 3/4	9 1/4	10	10 3/4	11 1/2	13 1/4
Number of Bolts	4	4	4	4	4	6	6	8	12	12	16	20	20	20	20	24

NOTE: (1) All dimensions in inches.

جدول اندازه مهره و میله رزوه شده براساس ANSI B1.5 کلاس ۹۰۰

Nominal Pipe Size	1/2	3/4	1	1 1/2	2	3	4	6	8	10	12	14	16	18	20	24
Diameter of Bolt Circle (PCD)	3 1/2	3 3/4	4 1/4	5 1/4	6 1/4	9	11 3/4	14 1/2	17 1/4	21 1/4	24 1/4	<p>CLASS 2500 FLANGES NOT SPECIFIED IN THESE SIZES</p>				
Diameter of Bolt Holes	F 7/8	7/8	1	1 1/4	1 1/2	1 3/4	1 7/8	2 1/8	2 1/8	2 3/4	2 3/4					
Diameter of Bolts	G 3/4	3/4	7/8	1 1/8	1	1 1/4	1 1/2	2	2	2 1/2	2 3/4					
H 1/25 inch Raised Face Flange	4 1/4	5	5 1/2	6 1/4	7	8 1/4	10	13 1/2	15	19 1/4	21 1/4					
Ring Joint Flange	4 1/4	5	5 1/2	6 1/4	7	9	10 1/4	14	15 1/2	20	22					
Number of Bolts	4	4	4	4	8	8	8	8	8	12	12	12	12	12	12	12

NOTE: (1) All dimensions in inches.

جدول ضخامت لوله‌ها بر اساس اندازه و کلاس

Nominal Pipe Size	Outside Diameter	SCH 5	SCH 10	SCH 20	SCH 30	SCH 40	SCH 60	SCH 80	SCH XS	SCH 100	SCH 120	SCH 140	SCH 160	SCH XXS
3.17mm 1/8"	10.3mm .405"					1.73 .068	1.73 .068	2.41 .095	2.41 .095					
6.35mm 1/4"	13.7mm .540"	1.20 .049	1.72 .065			2.24 .088	2.24 .088	3.02 .119	3.02 .119					
9.50mm 3/8"	21.3mm .840"	1.20 .049	1.72 .065			2.31 .091	2.31 .091	3.20 .126	3.20 .126					
12.7mm 1/2"	10.3mm .405"	1.72 .065	2.11 .083			2.77 .109	2.77 .109	3.73 .147	3.73 .147				4.78 .187	7.47 .294
19.1mm 3/4"	26.7mm 1.050"	1.72 .065	2.11 .083			2.87 .113	2.87 .113	3.91 .154	3.91 .154				5.54 .218	7.82 .308
25.4mm 1"	33.4mm 1.315"	1.72 .065	2.77 .109			3.38 .133	3.38 .133	4.55 .179	4.55 .179				6.35 .250	9.09 .358
31.8mm 1 1/4"	42.2mm 1.660"	1.72 .065	2.77 .109			3.56 .140	3.56 .140	4.85 .191	4.85 .191				6.35 .250	9.70 .382
38.1mm 1 1/2"	48.3mm 1.900"	1.72 .065	2.77 .109			3.68 .145	3.68 .145	5.08 .200	5.08 .200				7.1 .281	10.16 .400
50.8mm 2"	60.3mm 2.375"	1.72 .065	2.77 .109			3.91 .154	3.91 .154	5.54 .218	5.54 .218				8.74 .343	11.07 .436
63.5mm 2 1/2"	73.0mm 2.875"	2.11 .083	3.04 .120			5.16 .203	5.16 .203	7.01 .276	7.01 .276				9.52 .375	14.02 .552
76.1mm 3"	88.9mm 3.500"	2.11 .083	3.04 .120			5.49 .216	5.49 .216	7.62 .300	7.62 .300				11.13 .438	15.24 .600
88.9mm 3 1/2"	101.6mm 4.000"	2.11 .083	3.04 .120			5.70 .226	5.70 .226	8.10 .318	8.10 .318					15.91 .636
101.6mm 4"	114.3mm 4.500"	2.11 .083	3.04 .120			6.02 .237	6.02 .237	7.1 .281	8.56 .337				13.49 .531	17.12 .674

جدول اندازه مهره و میله رزوه شده براساس ANSI B1.5 کلاس ۱۵۰۰

Nominal Pipe Size	1/2	3/4	1	1 1/4	2	3	4	6	8	10	12	14	16	18	20	24
Diameter of Bolt E Circle (PCD)	USE CLASS 1500 DIMENSIONS IN THESE SIZES					7 1/2	9 1/4	12 1/2	15 1/2	18 1/2	21	22	24 1/4	27	29 1/2	30 1/2
Diameter of Bolt Holes F						1	1 1/4	1 1/4	1 1/2	1 1/2	1 1/2	1 3/4	1 3/4	2	2 1/8	2 3/8
Diameter of Bolt G						7/8	1 1/8	1 1/8	1 1/4	1 1/4	1 1/2	1 1/2	1 3/4	1 3/4	2	2 1/4
H LENGTH OF STUD BOLTS 0.25 inch Raised Face Flange Ring Joint Flange						5 1/4	6 1/4	7 1/2	8 1/4	9 1/4	10	10 3/4	11 1/4	12 1/4	12 3/4	17 1/4
Number of Bolts						8	8	12	12	16	20	20	20	20	20	20

NOTE: (*) All dimensions in inches.

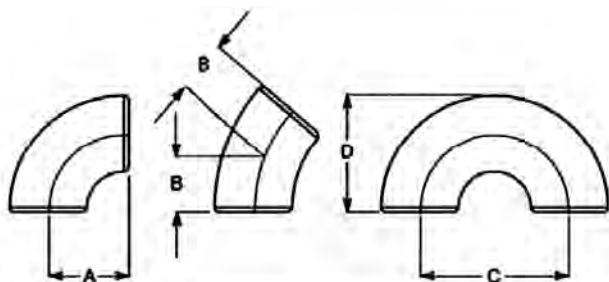
جدول اندازة مهره و میله رزوه شده براساس ANSI B1.5 کلاس ۲۵۰۰

Nominal Pipe Size	1/2	3/4	1	1 1/2	2	3	4	6	8	10	12	14	16	18	20	24
Diameter of Bolt Circle (PCD)	3 3/4	3 1/2	4	4 7/8	6 1/2	8	9 1/2	12 1/8	15 1/8	19	22 1/8	25	27 3/4	30 1/2	32 3/4	39
Diameter of Bolt Holes	F 7/8	7/8	1	1 1/8	1	1 1/4	1 3/8	1 1/2	1 5/8	2	2 1/8	2 3/8	2 5/8	2 7/8	3 1/8	3 5/8
Diameter of Bolts	G 3/4	3/4	7/8	1	7/8	1 1/8	1 1/4	1 3/8	1 5/8	1 7/8	2	2 1/4	2 3/4	2 5/4	3	3 1/2
H 0.25 inch Raised Face Range		4 1/4	4 1/2	5	5 1/2	5 3/4	7	7 3/4	10 1/4	11 1/8	13 1/4	14 1/4	16	17 1/2	19 1/2	24 1/4
Flang Joint Range	4 1/4	4 1/2	5	5 1/2	5 3/4	7	7 3/4	10 1/8	12 3/4	13 1/4	15 1/4	16 1/4	18 1/4	19 1/2	20 3/4	25 1/2
Number of Bolts	4	4	4	4	8	8	8	12	12	12	16	16	16	18	18	18

NOTE: (N) All dimensions in inches.

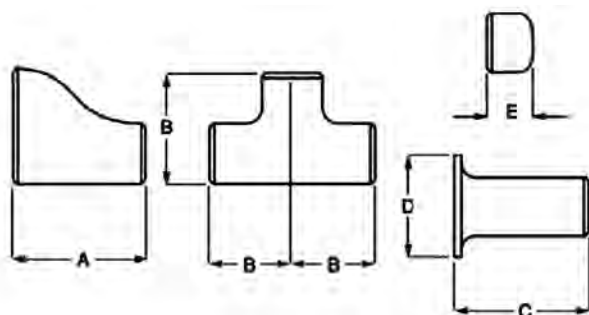
جدول ضخامت لوله براساس اندازه و کلاس

Nominal Pipe Size	Outside Diameter	SCH 5	SCH 10	SCH 20	SCH 30	SCH 40	SCH 60	SCH 80	SCH XS	SCH 100	SCH 120	SCH 140	SCH 160	SCH XXS
127.0mm 5"	141.3mm 5.563"	2.77 .109	3.38 .134			6.55 .258	6.55 .258	9.52 .375	9.52 .375		12.7 .500		15.88 .625	19.1 .750
152.4mm 6"	168.3mm 6.625"	2.77 .109	3.38 .134			7.11 .280	7.11 .280	10.97 .432	10.97 .432		14.28 .562		18.26 .718	21.95 .864
203.2mm 8"	219.1mm 8.625"	2.77 .109	3.73 .148	6.35 .250	7.34 .287	8.18 .322	8.18 .322	10.31 .406	12.7 .500	15.08 .593	18.26 .718	20.63 .812	23.0 .906	22.22 .875
254.0mm 10"	273.0mm 10.750"	3.38 .134	4.08 .165	6.35 .250	7.30 .307	9.27 .365	9.27 .365	12.7 .500	15.08 .593	18.26 .718	21.43 .843	25.4 1.000	28.58 1.125	25.4 1.000
304.8mm 12"	323.9mm 12.750"	3.96 .156	4.55 .180	6.35 .250	8.38 .330	10.31 .406	9.52 .375	14.28 .562	17.48 .687	21.43 .843	25.4 1.000	25.58 1.125	32.0 1.312	25.4 1.000
355.6mm 14"	355.6mm 14"			6.35 .250	8.0 .312	9.52 .375	11.07 .437	9.52 .375	15.08 .593	19.1 .750	23.8 .937	27.0 1.063	31.75 1.250	35.71 1.406
406.4mm 16"	406.4mm 16"			6.35 .250	8.0 .312	9.52 .375	12.7 .500	9.52 .375	16.66 .656	21.4 .843	26.19 1.031	30.95 1.218	36.51 1.437	40.48 1.593
457.2mm 18"	457.2mm 18"			6.35 .250	8.0 .312	11.37 .437	14.28 .562	9.52 .375	19.1 .750	23.8 .937	29.3 1.156	34.92 1.375	39.6 1.562	45.24 1.781
508.0mm 20"	508.0mm 20"			6.35 .250	9.52 .375	12.7 .500	15.08 .593	9.52 .375	20.62 .812	26.19 1.031	32.51 1.280	38.1 1.500	44.5 1.750	50.0 1.968
609.6mm 24"	609.6mm 24"			6.35 .250	9.52 .375	14.28 .562	17.48 .687	9.52 .375	24.6 .968	30.95 1.218	38.89 1.531	46.03 1.812	52.38 2.062	59.53 2.343
762.0mm 30"	762.0mm 30"	6.35 .250	8.0 .312	12.7 .500	15.38 .625		9.52 .375		12.7 .500					
914.4mm 36"	914.4mm 36"		8.0 .312	12.7 .500	15.38 .625	19.1 .750	9.52 .375		12.7 .500					



Nom. Bore	90° Elbow		45° Elbow	Return Bend			
	Centre to End A		Centre to End B	Centre to Centre C		Back to Face D	
	Short Radius	Long Radius	Long Radius	Short Radius	Long Radius	Short Radius	Long Radius
1/2	-	1 1/2	5/8	-	3	-	17/8
3/4	-	1 1/8	7/16	-	2 1/4	-	11 1/16
1	1	1 1/2	7/8	2	3	15/8	13/16
1 1/2	1 1/2	2 1/4	1 1/8	3	4 1/2	27/16	3 1/4
2	2	3	13/8	4	6	33/16	43/16
3	3	4 1/2	2	6	9	43/4	6 1/4
4	4	6	2 1/2	8	12	6 1/4	8 1/4
6	6	9	3 3/4	12	18	9 5/16	12 5/16
8	8	12	5	16	24	12 5/16	16 5/16
10	10	15	6 1/4	20	30	15 3/8	20 3/8
12	12	18	7 1/2	24	36	18 3/8	24 3/8
14	14	21	8 3/4	28	42	21	28
16	16	24	10	32	48	24	32
18	18	27	11 1/4	36	54	27	36
20	20	30	12 1/2	40	60	30	40
24	24	36	15	48	72	36	48

Notes: (1) Long radius elbows and return bends to ANSI B16.9.
 (2) Short radius elbows and return bends to ANSI B16.28.
 (3) All dimensions in inches.



Nom. Bore	Reducers	Tees	Lap Joint Stub Ends		Caps		
	A	B	C	D	E	W.T. Limit for E	E1
1/2	-	1	3	13/8	1	0.18	1
3/4	1 1/2	1 1/8	3	1 11/16	1	0.15	1
1	2	1 1/2	4	2	1 1/2	0.18	1 1/2
1 1/2	2 1/2	2 1/4	4	2 7/8	1 1/2	0.22	1 1/2
2	3	2 1/2	6	3 5/8	1 1/2	0.22	1 3/4
3	3 1/2	3 3/8	6	5	2	0.3	2 1/2
4	4	4 1/8	6	6 3/16	2 1/2	0.34	3
6	5 1/2	5 5/8	8	8 1/2	3 1/2	0.43	4
8	6	7	8	10 5/8	4	0.5	5
10	7	8 1/2	10	12 3/4	5	0.5	6
12	8	10	10	15	6	0.5	7
14	13	11	12	16 1/4	6 1/2	0.5	7 1/2
16	14	12	12	18 1/2	7	0.5	8
18	15	13 1/2	12	21	8	0.5	9
20	20	15	12	23	9	0.5	10
24	20	17	12	27 1/4	10 1/2	0.5	12

Notes: (1) All dimensions to ANSI B16.9.

(2) All dimensions in inches.

(3) Use E for wall thicknesses less than the "W.T. Limit for E" and E1 for wall thicknesses greater than "W.T. Limit for E".

در این قسمت، مباحث مربوط به عیب یابی و رفع عیب سامانه های هیدرولیک می آید. در حالت کلی، جهت عیب یابی و رفع عیب هر سامانه ای، روش های خاص خود را می طلبد و نیاز به دانش و تجربه کافی از آن سامانه می باشد.

با این وجود، سامانه های هیدرولیک، معمولاً پنج عیب شاخص و عمده دارند که عبارت اند از:

۱ سرو صدای مضاعف

۲ گرمای مضاعف (اجزای سامانه بیش از حد گرم می شوند)

۳ جریان نامناسب روغن در سامانه

۴ فشار نامناسب در سامانه

۵ عیب در حرکت عملگرها (موتور و جک هیدرولیک)

در ادامه، هر کدام از این عیوب به صورت جدول آمده، علت و یا علل این عیوب و روش رفع عیب را بیان می نماید.

راهنمایی: روش های رفع عیب مربوط به هر آن، در ستون چهارم جدول به صورت آدرسی داده شده است که آدرس آن، در پایین جدول به شکل الف، ب، ج و... و با توضیح آمده است.

۱ سرو صدای مضاعف

جدول ۱- عیب و رفع عیب مربوط به سروصدای مضاعف

ردیف	نوع عیب	علت	روش رفع عیب
۱	سر و صدای پمپ	کاویتاسیون	روش الف
		وجود هوا در روغن	روش ب
		کوپلینگ ها (محور و یاتاقان و...) صحیح جا نیافتاده اند.	روش ج
		پمپ فرسوده و یا خراب است.	روش هـ
۲	سر و صدای موتور (عملگر)	کوپلینگ ها (محور و یاتاقان و...) صحیح جا نیافتاده اند.	روش ج
		موتور و یا کوپلینگ ها فرسوده و یا خراب است.	روش هـ
۳	سر و صدای شیر فشارشکن	شیر فشارشکن در فشار بسیار پایین تنظیم شده و یا هم تراز با شیر فشارشکن دیگر در سامانه تنظیم شده است.	روش د
		فرسوده بودن برخی از قسمت های شیر (سوپاپ و...) .	روش هـ

روش های رفع عیب:

الف) یکی از روش های زیر یا هر دوی آنان را انجام دهید:

۱ صافی های کثیف را تعویض نموده و یا تمیز نمایید. مجرای ورودی و نیز هواکش مخزن را نیز تمیز نمایید.

۲ روغن را عوض نموده، دکمه تغییر دور پمپ را مجدداً فشار دهید تا پمپ به سرعت موردنظر برسد. کار هواگیری را در پمپ انجام دهید.

ب) هرکدام از روش‌های زیر یا هر دوی آنان:

۱) مخزن را تا حد لازم پر نمایید. هوا را از سامانه خارج نموده و نشتی مجرای ورودی را برطرف نمایید.

۲) آب بند و یا محور پمپ را عوض نمایید.

ج) وضعیت یاتاقان‌ها، بستاب‌ها و کوپلینگ‌ها چک شده و واحد مربوطه میزان‌سازی شود.

د) فشارها در شیر باید تصحیح شوند.

هـ) تعمیر اساسی و یا تعویض

۲ گرمای مضاعف

جدول ۲- عیب و رفع عیب مربوط به گرمای مضاعف

ردیف	نوع عیب	علت	روش رفع عیب
۱	پمپ داغ می‌شود	روغن داغ می‌کند	مراجعه به روش‌های مربوط به ردیف ۴
		وقوع کاویتاسیون	روش الف
		وجود هوا در روغن	روش ب
		شیر فشار شکن یا اختناق فشار، در فشار بالا تنظیم شده است.	روش د
		بار مضاعف روی سامانه	روش ج
		پمپ مستهلک یا خراب شده است.	روش هـ
۲	موتور داغ می‌کند	روغن بیش از حد داغ است.	مراجعه به روش‌های مربوط به ردیف ۴
		شیر فشار شکن یا اختناق فشار در فشار بالا تنظیم شده است.	روش د
		بار مضاعف	روش ج
		موتور مستهلک و یا خراب شده است.	روش هـ
۳	شیر فشار شکن داغ می‌کند	روغن بیش از حد داغ است.	مراجعه به روش‌های مربوط به ردیف ۴
		شیر درست تنظیم نشده است.	روش د
		شیر مستهلک و یا خراب شده است.	روش ج
۴	روغن بیش از حد داغ می‌شود	فشار سامانه بسیار بالا است.	روش د
		شیر اختناق فشار در فشار بالا تنظیم گشته است.	روش د
		روغن کثیف شده و یا تغذیه روغن کم است.	روش و
		روغن نامناسب جهت سامانه انتخاب شده است (لزجت نامناسب).	روش و
		زیر سامانه خنک‌کننده روغن معیوب است.	روش ز
		یکی یا برخی از اجزای سامانه (پمپ، موتور، شیر...) مستهلک شده‌اند.	روش هـ

روش‌های رفع عیب:

الف) یکی از روش‌های زیر یا هردوی آنان را انجام دهید:

- ۱ صافی‌های کثیف را تعویض نمایید. مجرای ورودی و نیز هواکش مخزن را نیز تمیز نمایید.
- ۲ روغن را عوض نموده، دکمه تغییر دور پمپ را مجدداً فشار دهید تا پمپ به سرعت موردنظر برسد. در صورت وجود سوپرشارژر در سامانه، پمپ آن را تعمیر و یا تعویض نمایید.

ب) هرکدام از روش‌های زیر یا هردوی آنان:

- ۱ مخزن روغن را تا حد لازم پر نمایید. هوا را از سامانه خارج نموده و نشتی مجرای ورودی را برطرف نمایید.

- ۲ قسمت آب بند و یا محور پمپ را عوض نمایید.

ج) وضعیت یاتاقان‌ها، آب‌بندها و کوپلینگ‌ها چک شده و واحد مربوطه میزان‌سازی شود.

د) فشار در سامانه باید تصحیح شوند.

ه) تعمیر اساسی و یا تعویض

و) فیلترها باید تعویض شده و در صورتی که لزجت روغن نیز مناسب نباشد، باید اقدام به تعویض روغن نمود؛

ز) خنک‌کننده و صافی آن تمیز گردد، در صورت لزوم شیر کنترل خنک‌کننده یا خود خنک‌کننده عوض شود.

جدول ۳- عیب و رفع عیب مربوط به جریان نامناسب روغن

ردیف	نوع عیب	علت	راهکار (رفع عیب)
۱	جریان روغن برقرار نیست	پمپ ، روغن نمی مکد.	روش الف
		موتور پمپ عمل نمی کند.	روش هـ
		کوپلینگ پمپ شکسته است.	روش ج
		جهت چرخش پره پمپ خراب است.	روش ز
		شیر کنترل وضعیت، در وضعیت درست نصب نشده است.	روش و
		کل جریان، از قسمت شیر فشار شکن خارج می شود.	روش د
		پمپ خراب است.	روش ج
		پمپ صحیح در سامانه نصب نشده است.	روش هـ
۲	جریان روغن پایین است	شیرهای کنترل جریان تنظیم نشده اند.	روش د
		شیرهای اختناق فشار یا فشار شکن در فشار بسیار پایین تنظیم شده اند.	روش د
		جریان در شیرهای نیمه باز دارای بازگشت، بازگشت زیاد دارد.	روش هـ یا و
		نشت در سامانه	روش ب
		عملگرهای تنظیم جریان در پمپ های جریان متغیر درست عمل نمی کنند.	روش هـ
		دور موتور پایین است.	روش ف
۳	جریان روغن بیش از حد (زیاد) است	فرسودگی اجزای سامانه (پمپ، موتور،...).	روش هـ
		شیر کنترل جریان، زیاد باز شده است.	روش د
		سامانه تنظیم دور در پمپ جریان متغیر خراب عمل می کند.	روش هـ
		دور موتور پمپ خراب تنظیم شده است.	روش ف
		پمپ با ظرفیت بالا تعیین و نصب شده است.	روش ف

روش های رفع عیب:

الف) یکی از روش های زیر یا هردوی آنان را انجام دهید:

۱) صافی های کثیف را تعویض نموده و یا تمیز نمایید. مجرای ورودی و نیز هواکش مخزن را نیز تمیز نمایید.

۲) روغن را عوض نموده، دکمه تغییر دور پمپ را مجدداً فشار دهید تا پمپ به سرعت موردنظر برسد. پمپ سوپرشارژر را در صورت وجود تعمیر و یا تعویض نمایید.

ب) اتصالات نشت دار را درست کرده و جریان دهی را در سامانه به کار اندازید.

ج) خرابی پمپ را چک نمایید. کوپلینگ را تعویض و یا جا اندازید.

د) عمل تنظیم صورت پذیرد.

هـ) تعمیر اساسی و یا تعویض

و) وضعیت شیرهای دستی را چک نمایید. وضعیت مدار برقی شیرهای سولنویید را چک نمایید. پمپ ایجاد فشار کنترلی را تعمیر و یا تعویض نمایید (جهت ایجاد فشار برای کنترل سامانه به کار می‌رود).

ز) جهت چرخش را عوض نمایید.

ف) با یک واحد سالم عوض شود.

۴ فشار نامناسب در سامانه

جدول ۴- عیب و رفع عیب مربوط به فشار نامناسب

ردیف	نوع عیب	علت	روش رفع عیب
۱	نبود فشار	نبود جریان روغن.	مراجعه به جدول ۳، ردیف ۱
۲	فشار پایین سامانه	وجود یک بخش فشار شکن اضافه در سامانه یا یک مسیر تخلیه روغن	مراجعه به جدول ۳، ردیف ۱ و ۲
		شیر فشار شکن در فشار بسیار پایین تنظیم شده است.	روش د
		شیر فشار شکن خراب شده است.	روش د
		پمپ، موتور یا جک هیدرولیک خراب شده است.	روش هـ
۳	فشار نامنظم در سامانه	وجود هوا در روغن	روش ب
		شیر فشار شکن معیوب شده است.	روش هـ
		روغن کثیف شده است.	روش الف
		آکومولاتور تنظیم و یا شارژ نشده است.	روش ج
		پمپ، موتور یا جک هیدرولیک مستهلک شده است.	روش هـ
۴	فشار مضاعف در سامانه	شیر فشار شکن یا اختناق فشار خراب تنظیم و نصب شده است.	روش د
		قسمت تنظیم کننده دور پمپ در پمپ‌های جریان متغیر عمل نمی‌کند.	روش هـ
		شیر تنظیم فشار و یا فشار شکن، فرسوده و یا خراب شده است.	روش هـ

روش‌های رفع عیب:

الف) صافی‌های کثیف را عوض نموده و روغن را تعویض نمایید.

ب) اتصالات نشت دار را برطرف نموده و مخزن را تا حد لازم پر نمایید به گونه‌ای که بتواند روغن به سامانه بدمد.

ج) آکومولاتور باید جهت نشتی چک گردد و نیز تا فشار لازم شارژ گردد، در صورتی که ایراد داشته باشد.

د) تنظیم و یا تعویض

هـ) تعمیر اساسی و یا تعویض

جدول ۵- عیب و رفع عیب مربوط به حرکت عملگرها و اجزای متحرک

ردیف	نوع عیب	علت	روش رفع عیب
۱	عدم حرکت اجزای متحرک	نیود جریان یا فشار	مراجعه به جدول ۳
		عدم کارکرد و یا عدم تنظیم اجزای مکانیکی، هیدرولیکی و یا الکتریکی	روش هـ
		وجود موانع و قیود مکانیکی	روش ب
		نیود سیگنال دستوری به تقویت کننده‌های سروو (شیرهای سولنویید)	روش و
		تنظیم نبودن تقویت کننده‌ها و یا عدم کارکرد آنها	روش ج
		شیر سروو عمل نمی‌کند.	روش هـ
		خرابی یا فرسودگی عملگر (موتور یا سیلندر)	روش هـ
۲	حرکت ضعیف و یا آهسته	جریان روغن کم است.	مراجعه به جدول ۳
		لزجت روغن زیاد است.	روش الف
		تحریک شیرها درست عمل نمی‌کنند.	مراجعه به جدول ۴
		سامانه در قسمت‌های متحرک و اتصالات، خوب روانکاری نشده است.	روش ز
		عدم تنظیم و یا عدم کارکرد تقویت کننده سروو	روش ج
		شیر سروو در قسمتی که بالا می‌رود چسبیده است.	روش د
		عملگر (موتور یا سیلندر) مستهلک و یا خراب شده است.	روش هـ
۳	حرکت نامناسب اجزا	فشار نامناسب	مراجعه به جدول ۴
		وجود هوا در روغن	مراجعه به جدول ۱
		سامانه در قسمت‌های متحرک و اتصالات، خوب روانکاری نشده است.	روش ز
		سیگنال دستوری نامناسب در سامانه	روش و
		عدم تنظیم و یا کارکرد نامناسب تقویت کننده‌های سروو	روش ج
		عدم عملکرد ترانسفورماتور پسخوراند (برای سامانه‌های کنترل شونده خودکار)	روش هـ
		شیر سروو در قسمتی که بالا می‌رود چسبیده است.	روش د
۴	سرعت و یا دور مضاعف اجزا	عملگر (موتور یا سیلندر) مستهلک و یا خراب شده است.	روش هـ
		وجود جریان مضاعف	مراجعه به جدول ۳
		عدم عملکرد ترانسفورماتور پسخوراند (برای سامانه‌های کنترل شونده خودکار)	روش هـ
		عدم تنظیم و یا کارکرد نامناسب تقویت کننده‌های سروو	روش ج
		وجود ظرفیت کاری بیش از حد در سامانه	روش ی

روش های رفع عیب:

- (الف) روغن به اندازه کافی گرم نشده. همچنین ویسکوزیته روغن باید در دمای کاری چک گردد و اگر مشخص گردید که ویسکوزیته لازم را ندارد، باید با روغن با ویسکوزیته مناسب تعویض گردد.
- (ب) موانع و قیود مکانیکی کشف و برطرف گردد.
- (ج) تنظیم، تعمیر و یا تعویض شود.
- (د) تمیز شده، تنظیم و یا تعویض گردد. شرایط روغن و نیز فیلترها چک گردد.
- (هـ) تعمیر اساسی و یا تعویض
- (و) کنسول دستوردهی و اتصالات سیم ها چک و تعمیر شود.
- (ز) عمل روانکاری صورت پذیرد.
- (ی) شیرهایی که بالانس ندارند، تنظیم، تعمیر و یا تعویض گردد.

موتورهای بنزینی

اندازه گیری قطعات متحرک موتور یاماها (۱۵۰-۱۷۵-۲۰۰)

محل اندازه گیری	mm	in	تذکر
قطر داخلی سیلندر	۹۰-۹۰/۰۲	۳/۵۴۳۳-۳/۵۴۴۱	
شیب سیلندر	۰/۰۸	۰/۰۰۳۱	
خارج شدن سیلندر از گردی	۰/۰۵	۰/۰۰۲	
قطر خارجی پیستون	۸۹/۸۹۵-۸۹/۹۱۵	۳/۵۳۹۲-۳/۵۴	در فاصله ۱۰ میلی متر از لبه پایینی
پیستون اورسایز ۱	۹۰/۱۴۵-۹۰/۱۶۵	۳/۴۵۹۰-۳/۵۴۹۸	
پیستون اورسایز ۲	۹۰/۳۹۵-۹۰/۴۱۵	۳/۵۵۸۹-۳/۵۵۹۶	
میزان لقی مجاز پیستون در سیلندر	۰/۱۰۰-۰/۱۰۶	۰/۰۰۳۹-۰/۰۰۴۲	
اختلاف قطر داخلی و خارجی رینگ	۲/۷-۲/۹	۰/۱۰۶۳-۰/۱۱۴۲	
اندازه لبه بیرونی رینگ	۱/۹۷-۱/۹۹	۰/۰۷۷۶-۰/۰۷۸۳	
فیلر جانبی رینگ روی پیستون	۰/۰۲-۰/۰۶	۰/۰۰۰۸-۰/۰۰۲۴	
فاصله مجاز لبه های رینگ	۰/۳-۰/۵	۰/۰۱۱۸-۰/۰۱۹۷	هنگام جازدن رینگ خالی در ارتفاع ۲۰ میلی متری سیلندر از بالا
قطر داخلی محل گزن پین	۲۳/۰۷۴-۲۳/۰۸۵	۰/۹۰۸۴-۰/۹۰۸۹	
قطر خارجی گژن پین	۲۳/۰۶۵-۲۳/۰۷۰	۰/۹۰۸۱-۰/۹۰۸۳	
قطر ژورنال میل لنگ	۵۳/۹۷۵-۵۳/۹۹۱	۲/۱۲۵-۲/۱۲۵۶	محل یاتاقان ثابت
قطر محور لنگ	۳۵/۹۸۵-۳۶	۱/۴۱۶۷-۱/۴۱۷۳	
حد مجاز خوردگی ژورنال میل لنگ	۰/۰۳	۰/۰۰۱۲	
لقی مجاز شاتون	۲	۰/۰۰۸	هنگام نصب بر روی میل لنگ
فیلر جانبی شاتون	۰/۱۲-۰/۲۶	۰/۰۰۴۷-۰/۰۱۰۲	هنگام نصب بر روی میل لنگ

تبصره: دمای محیط هنگام اندازه گیری باید ۲۰ درجه سانتی گراد باشد.

گشتاور پیچ های کفه شاتون

ft.lb	Kgf.m	N.m	مراحل سفت کردن
۱۴	۱/۹	۱۹	مرحله اول
۲۷	۳/۶	۳۶	مرحله دوم
کاملاً باز			مرحله سوم
۱۴	۱/۹	۱۹	مرحله چهارم
۲۷	۳/۶	۳۶	مرحله پنجم

گشتاور پیچ های سرسیلندر

۱۱	۱/۵	۱۵	مرحله اول
۲۱	۲/۹	۲۹	مرحله دوم

گشتاور پیچ های کاور سرسیلندر و کاور ترموستات

۳	۰/۴	۴	مرحله اول
۶	۰/۸	۸	مرحله دوم

گشتاور پیچ های محفظه میل لنگ (پیچ های بزرگ)

۱۵	۲	۲۰	مرحله اول
۲۹	۳/۹	۳۹	مرحله دوم

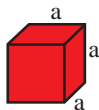
گشتاور پیچ های محفظه میل لنگ (پیچ های کوچک)

۷	۱	۱۰	مرحله اول
۱۳	۱/۸	۱۸	مرحله دوم

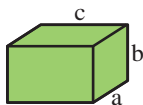
گشتاور پیچ های پوسته بیرونی اگزوز

۳	۰/۴	۴	مرحله اول
۶	۰/۸	۸	مرحله دوم

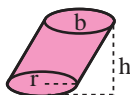
$$\text{مکعب} = a^3$$



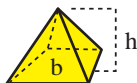
$$\text{مکعب مستطیل} = a b c$$



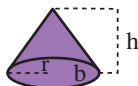
$$\text{استوانه} = b h = \pi r^2 h$$



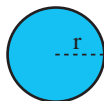
$$\text{هرم} = \frac{1}{3} b h$$



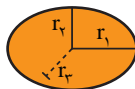
$$\text{مخروط} = \frac{1}{3} b h = \frac{1}{3} \pi r^2 h$$



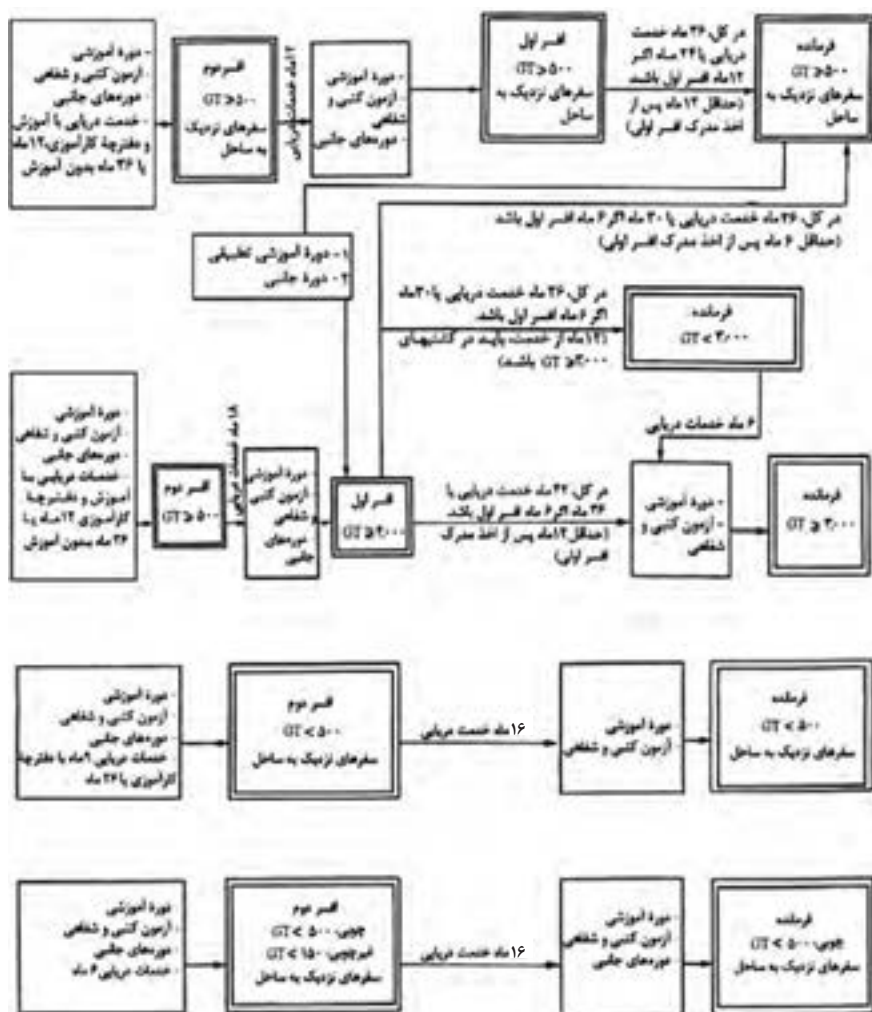
$$\text{کره} = \frac{4}{3} \pi r^3$$



$$\text{کره بیضوی} = \frac{4}{3} \pi r_1 r_2 r_3$$



شایستگی‌های دریانوردی



نمودار ۱-۷- شرایط لازم جهت صدور گواهی‌نامه‌های دریانوردی، تجاری و صیادی (عرشه و موتور)

گواهی‌نامه‌های درجه یک و دو

شرایط صدور گواهی‌نامه ملوان صیاد درجه یک و دو

- ۱ گواهی‌نامه یا کارت فعلی: فاقد هرگونه گواهی‌نامه (متقاضی ملوان درجه ۲) / یا ملوان درجه ۲ (متقاضی ملوان درجه یک)
- ۲ شرایط ورود به دوره:
 - حداقل مدرک مقدماتی نهضت سوادآموزی؛
 - کارت سلامت پزشکی معتبر؛
 - حداقل سن ۱۶ سال؛
- ۳ مدارک لازم جهت تشکیل پرونده یا شرکت در آزمون اداره امتحانات:
 - کپی شناسنامه (صفحه اول)؛
 - کپی کارت ملی؛
 - دو قطعه عکس ۳×۴؛
 - کپی کارت سلامت پزشکی معتبر؛
 - سوابق خدمات دریانوردی به مدت ۱۲ ماه بر روی شناور صیادی با طول ۱۲ متر؛
- ۴ شرایط احراز جهت صدور گواهی‌نامه:
 - گذراندن موفقیت‌آمیز دوره ملوان صیاد درجه دو یا یک؛
 - جهت دریافت گواهی‌نامه ملوان صیاد درجه دو تمامی شرایط فوق مورد نیاز می‌باشد به جز خدمات دریانوردی ۱۲ ماهه؛

شرایط صدور گواهی‌نامه کاربر موتورهای دریایی درجه یک و دو در شناورهای صیادی

- ۱ گواهی‌نامه یا کارت فعلی: فاقد هرگونه گواهی‌نامه (متقاضی کاربر درجه ۲) / کاربر درجه دو (متقاضی کاربر درجه یک)
 - ۲ شرایط ورود به دوره:
 - حداقل مدرک مقدماتی نهضت سوادآموزی؛
 - کارت سلامت پزشکی معتبر؛
 - حداقل سن ۱۶ سال؛
 - ۳ مدارک لازم جهت تشکیل پرونده یا شرکت در آزمون اداره امتحانات:
 - کپی شناسنامه (صفحه اول)؛
 - کپی کارت ملی؛
 - دو قطعه عکس ۳×۴؛
 - کپی کارت سلامت پزشکی معتبر؛
 - ۴ شرایط احراز جهت صدور گواهی‌نامه:
 - گذراندن موفقیت‌آمیز دوره کاربر موتورهای دریایی درجه دو یا یک؛
 - موفقیت در آزمون‌های شفاهی اداره امتحانات؛
- * جهت دریافت گواهی‌نامه کاربر موتورهای دریایی درجه دو تمامی شرایط فوق مورد نیاز است به جز آزمون اداره امتحانات.

شرایط صدور ملوان صیاد درجه دو

۱ گواهی نامه فعلی: ملوان عمومی GT > ۵۰۰

۲ شرایط ورود به دوره: ندارد

۳ مدارک لازم جهت تشکیل پرونده یا شرکت در آزمون اداره امتحانات

کپی شناسنامه (صفحه اول)؛

کپی کارت ملی؛

کپی کارت سلامت پزشکی؛

کپی کارت ملوان عمومی GT > ۵۰۰؛

سوابق خدمات دریانوردی به مدت ۱ سال به تأیید اداره شیلات؛

دو قطعه عکس ۳×۴ جدید؛

۴ شرایط احراز جهت صدور گواهی نامه.

* جهت دارندگان کارت شایستگی ملوان عمومی GT > ۵۰۰، دوره آموزشی ملوان صیاد درجه دو مورد نیاز نمی باشد.

شرایط صدور گواهی نامه ناخدای شناورهای صیادی

کمتر از ۱۲ متر – آب های ساحلی

۱ گواهی نامه یا کارت فعلی: فاقد هر گونه گواهی نامه دریانوردی

۲ شرایط ورود به دوره

حداقل سن ۱۸ سال؛

مدرک مقدماتی نهضت سوادآموزی؛

داشتن کارت سلامت پزشکی معتبر؛

۳ مدارک لازم جهت تشکیل پرونده یا شرکت در آزمون اداره امتحانات:

کپی شناسنامه (صفحه اول)؛

کپی کارت ملی؛

دو قطعه عکس ۳×۴؛

کپی کارت سلامت پزشکی از مراکز معتبر؛

سوابق خدمات دریانوردی به مدت ۶ ماه؛

۴ شرایط احراز جهت صدور گواهی نامه:

گذراندن موفقیت آمیز دوره آموزشی ناخدای شناور صیادی با طول کمتر از ۱۲ متر؛

موفقیت در آزمون شفاهی اداره امتحانات.

شرایط صدور گواهی نامه های کمتر از ۲۴ متر – آب های

محدود

شرایط صدور گواهی نامه کمک ناخدای شناور صیادی کمتر از ۲۴ متر – آب های محدود

۱ گواهی نامه یا کارت فعلی: فاقد هر گونه گواهی نامه دریانوردی.

۲ شرایط ورود به دوره:

حداقل سن ۱۸ سال؛

- داشتن کارت سلامت پزشکی معتبر.
- ۲ ■ مدارک لازم جهت تشکیل پرونده یا شرکت در آزمون اداره امتحانات:
 - کپی شناسنامه (صفحه اول)؛
 - کپی کارت ملی؛
 - دو قطعه عکس ۳×۴؛
 - کپی کارت سلامت پزشکی از مراکز معتبر؛
- ۴ ■ شرایط احراز جهت صدور گواهی نامه:
 - گذراندن موفقیت آمیز دوره کمک ناخدای شناور صیادی کمتر از ۴۲ متر؛
 - موفقیت در آزمون شفاهی اداره امتحانات.

شرایط صدور گواهی نامه ناخدای شناور صیادی کمتر از ۲۴ متر- آب های محدود

- ۱ ■ گواهی نامه یا کارت فعلی: دارا بودن فرمانده چوبی کمتر از ۵۰۰ تن؛
- ۲ ■ شرایط ورود به دوره: ندارد؛
- ۳ ■ مدارک لازم جهت تشکیل پرونده یا شرکت در آزمون اداره امتحانات.
 - کپی شناسنامه (صفحه اول)؛
 - کپی کارت ملی؛
 - کپی کارت سلامت پزشکی از مراکز معتبر؛
 - کپی مدارک دریانوردی فرمانده چوبی کمتر از ۵۰۰ تن تجاری؛
 - دو قطعه عکس ۳×۴؛
- ۴ ■ شرایط احراز جهت صدور گواهی نامه.

ارائه گواهی نامه دوره های جانبی کمک های اولیه مقدماتی، پیشگیری از حریق و اطفای آن، فنون بقاء در دریا.

* سابقه صیادی به مدت یکسال به تأیید اداره شیلات

راهنمای صدور گواهی نامه ملوان عمومی در شناورهای — با ظرفیت ناخالص کمتر از ۵۰۰ تن

- ۱ ■ گواهی نامه یا کارت فعلی: فاقد هرگونه گواهی نامه دریانوردی
- ۲ ■ شرایط ورود به دوره :
 - حداقل سن ۱۸ سال؛
 - حداقل مدرک تحصیلی پنجم ابتدایی/ پایانی نهضت سوادآموزی؛
 - داشتن کارت سلامت پزشکی معتبر
- ۳ ■ مدارک لازم جهت تشکیل پرونده یا شرکت در آزمون در اداره امتحانات.
 - کپی شناسنامه (صفحه اول)؛
 - کپی کارت ملی؛
 - دو قطعه عکس ۳×۴؛
 - کپی مدرک تحصیلی؛
 - کپی کارت سلامت پزشکی معتبر

۴ شرایط احراز جهت صدور گواهی نامه:

■ گذراندن موفقیت آمیز دوره ملوان عمومی کمتر از ۵۰۰ تن.

شرایط صدور گواهی نامه افسر دوم در شناورهای با ظرفیت ناخالص کمتر از ۵۰۰ تن

۱ گواهی نامه یا کارت فعلی: دارا بودن مدرک تحصیلی فوق دیپلم دریانوردی (عرشه).

۲ شرایط شرکت در دوره: ندارد.

۳ مدارک لازم جهت تشکیل پرونده یا شرکت در آزمون اداره امتحانات:

■ کپی شناسنامه (صفحه اول)؛

■ کپی کارت ملی؛

■ دو قطعه عکس ۳×۴؛

■ کپی مدرک تحصیلی (فوق دیپلم دریانوردی رشته عرشه)؛

■ کپی کارت سلامت پزشکی معتبر؛

۴ شرایط احراز جهت صدور گواهی نامه:

■ سابقه خدمات دریانوردی به مدت ۳۶ ماه بر روی کشتی با ظرفیت متناسب با گواهی نامه مورد تقاضا؛

با تکمیل دفترچه کارآموزی در دریا به مدت ۹ ماه (به غیر از داوطلبان افسردوم کشتی های چوبی)

■ قبولی در آزمون های کتبی و شفاهی اداره امتحانات؛

■ گواهی طی دوره های جانبی: دوره پیشرفته اطفای حریق - اپراتوری محدود (ROC) -

ایمنی چهارگانه - کمک های اولیه پزشکی.

شرایط صدور گواهی نامه ملوان عمومی در شناورهای با ظرفیت ناخالص ۵۰۰ تن و بیشتر

۱ گواهی نامه یا کارت فعلی: فاقد هرگونه گواهی نامه یا دارا بودن مدرک تحصیلی دیپلم دریانوردی (عرشه).

۲ شرایط ورود به دوره:

■ داشتن حداقل ۱۸ سال؛

■ داشتن کارت سلامت پزشکی معتبر؛

■ حداقل مدرک تحصیلی سیکل (پایان سوم راهنمایی)؛

۳ مدارک لازم جهت تشکیل پرونده یا شرکت در آزمون اداره امتحانات:

■ کپی شناسنامه (صفحه اول)؛

■ کپی کارت ملی؛

■ دو قطعه عکس ۳×۴؛

■ کپی مدرک تحصیلی سیکل (پایان سوم راهنمایی) یا کپی مدرک تحصیلی دیپلم دریانوردی (عرشه)؛

■ کپی کارت سلامت پزشکی معتبر و متناسب با ظرفیت درخواستی.

۴ شرایط احراز جهت صدور گواهی نامه:

■ ارائه گواهی طی دوره های ایمنی چهارگانه بالای ۵۰۰ تن؛

■ دارندگان دیپلم دریانوردی (عرشه) نیاز به گذراندن دوره نمی باشند؛

■ گذراندن موفقیت آمیز دوره ملوان عمومی.

شرایط صدور گواهی نامه کاربر موتورهای دریایی در شناورهای با قدرت موتور کمتر از ۷۵۰ کیلووات

- ۱ گواهی نامه یا کارت فعلی : دارا بودن مدرک تحصیلی دیپلم مکانیک دریایی.
- ۲ شرایط شرکت در دوره: ندارد.
- ۳ مدارک لازم جهت تشکیل پرونده یا شرکت در آزمون اداره امتحانات:
 - کپی شناسنامه (صفحه اول)؛
 - کپی کارت ملی؛
 - ۲ قطعه عکس ۳×۴؛
 - کپی مدرک تحصیلی (دیپلم مکانیک دریایی)؛
 - کپی کارت سلامت پزشکی معتبر
- ۴ شرایط احراز جهت صدور گواهی نامه:
 - موفقیت در آزمون شفاهی و کتبی اداره امتحانات.

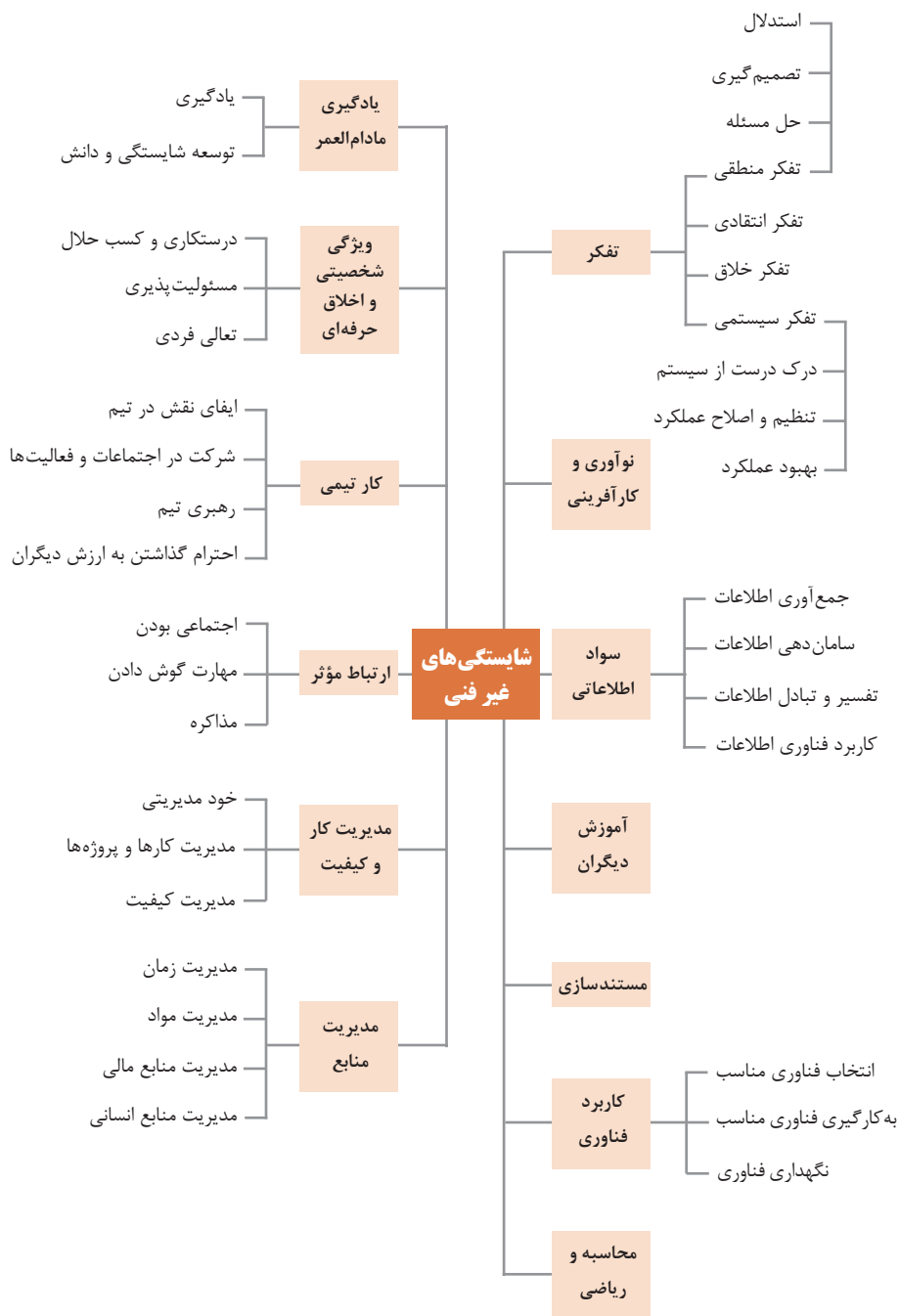
شرایط صدور گواهی نامه مهندس سوم در شناورهای با قدرت موتور کمتر از ۳۰۰۰ کیلووات

- ۱ گواهی نامه یا کارت فعلی: دارا بودن مدرک تحصیلی فوق دیپلم رشته مکانیک دریایی،
- ۲ شرایط ورود به دوره : ندارد.
- ۳ مدارک لازم جهت تشکیل پرونده یا شرکت در آزمون اداره امتحانات:
 - کپی شناسنامه (صفحه اول)؛
 - کپی کارت ملی؛
 - ۲ قطعه عکس ۳×۴ ؛
 - کپی مدرک تحصیلی فوق دیپلم مکانیک دریایی؛
 - کپی کارت سلامت پزشکی معتبر.
- ۴ شرایط احراز جهت صدور گواهی نامه
 - تکمیل دفترچه کارآموزی به مدت ۶ ماه در دریا (جهت گواهی نامه مهندس سومی کمتر از ۳۰۰۰ کیلووات)؛
 - قبولی در آزمون های کتبی و شفاهی اداره امتحانات؛
 - گواهی طی دوره جانبی پیشرفته اطفای حریق (جهت گواهی نامه مهندس سومی کمتر از ۳۰۰۰ کیلووات) کمک های اولیه پزشکی ایمنی چهارگانه.

نکته



در تمامی موارد تأیید کردن موارد بالا با سازمان بنادر الزامی می باشد.



جدول دروس رشته ناوبری

رشته تحصیلی: ناوبری		کد رشته تحصیلی: ۱۰۴۱۲۰		جدول مواد درسی و ساعات تدریس هفتگی دوره دوم متوسطه - شاخه فنی و حرفه ای		گروه تحصیلی: خدمات**		کد گروه ۹		رشته خدمات	
ردیف	دامنه محتوایی	فایه ۱۰		فایه ۱۱		فایه ۱۲		نام درس	ساعت	نام درس	ساعت
		نام درس	ساعت	نام درس	ساعت	نام درس	ساعت				
۱	تربیت دینی و اخلاقی	تعلیمات دینی (دینی، قرآن و اخلاق) ۱	۲	تعلیمات دینی (دینی، قرآن و اخلاق) ۲	۲	تعلیمات دینی (دینی، قرآن و اخلاق) ۳	۲	تعلیمات دینی (دینی، قرآن و اخلاق) ۳	۲	ساعت	۲
۲	زبان و ادبیات فارسی	زبان و قرآن ۱	۱	عربی، زبان قرآن ۲	۱	عربی، زبان قرآن ۳	۱	عربی، زبان قرآن ۳	۲	۱	۲
۳	زبان های خارجی	زبان خارجی ۱	۲	زبان خارجی ۲	۲	زبان خارجی ۳	۲	فارسی ۳	۲	۲	۲
۴	خوشه دروس: مهارت های اجتماعی	خبر آفریای عمومی و استان شناسی	۲	علوم اجتماعی	۲	تاریخ معاصر	۲	تربیت بدنی ۳	۲	۲	۲
۵	خوشه دروس: انسان و سلامت	تربیت بدنی ۱	۲	تربیت بدنی ۲	۲	سلامت و بهداشت	۲	اندام های دفاعی	۲	۲	۲
۶	خوشه دروس: انسان و مهارت های زندگی	درس انتخابی (۱- هنر ۲- تفکر و مهارت رسانه ای)	۲	درس انتخابی (۱- کار آفرینی	۲	مدیریت خانواده و شبکه زندگی	۲	اخلاق حرفه ای	۲	۲	۲
۷	خوشه دروس: شایستگی های غیر فنی	از ادبیات محیط کار	۲	درس انتخابی (۱- کاربرد فناوری های نوین	۲	اخلاق حرفه ای	۲	اخلاق حرفه ای	۲	۲	۲
۸	خوشه دروس: شایستگی های پایه فنی	ریاضی ۱	۲	ریاضی ۲	۲	مدیریت تولید	۲	مدیریت تولید	۲	۲	۲
۹	خوشه دروس: شایستگی های فنی	فیزیک	۲	شیمی	۲	فیزیک	۲	فیزیک	۲	۲	۲
۱۰	برنامه ویژه مدرسه	جمع	۴۰	جمع	۴۰	جمع	۴۰	کار آموزی	۲۸	جمع	۳۸

۱- دروس ۸ ساعته خوشه شایستگی های فنی پایه های دهم واز دهم صرفاً تا پایان سال تحصیلی ۹۷-۹۸ با رعایت ترتیب به صورت متوالی در طول سال اجرا می شود.
۲- جهت زمان آموزش سهم دوم به ازای سهم اول جهت کسب شایستگی اختصاصی می باشد.
۳- کارآموزی متناسب با رشته ۲۴- ۱۲۰ ساعت اجرا شود ۵۵در رشته ناوبری به دلیل ارتباط ضعیفی با گروه مکانیک می تواند در زمینه های آن گروه تحصیلی نیز اجرا می شود.

رشته تحصیلی: هنرکتاب و نوآوری های درسی	گذر رشته تحصیلی: ۱۰/۱۶/۳۰	گروه تحصیلی: تغییر و نگهداری مابین آیات**	گذر گروه ۳	زمنیه صنعت	
ردیف	دانشه محتوایی	پایه ۱۰	پایه ۱۱		پایه ۱۲
		نام درس	ساعت	نام درس	ساعت
۱	تربیت دینی و اخلاقی	تعلیمات دینی (دینی، قرآن و اخلاقی) ۱	۲	تعلیمات دینی (دینی، قرآن و اخلاقی) ۲	۲
۲	زبان و ادبیات فارسی	عربی، زبان قرآن ۱	۱	عربی، زبان قرآن ۲	۱
۳	زبان های خارجی	فارسی ۱	۲	فارسی ۲	۲
۴	خوشه دروس: مطالعات اجتماعی	زبان خارجی ۱	۲	زبان خارجی ۲	۲
۵	خوشه دروس: سلامت و بهداشت	چهار لغوی عمومی و مسائل اجتماعی	۲	علوم اجتماعی	۲
۶	خوشه دروس: انسان و سلامت	تربیت دینی ۱	۲	تربیت دینی ۲	۲
۷	خوشه دروس: سلامت و بهداشت	---	---	انسان و محیط زیست	۲
۸	خوشه دروس: سلامت و بهداشت	---	---	---	اخلاقی حوله ای
۹	خوشه دروس: سلامت و بهداشت	---	---	درس انتخابی (۱- کاربرد فناوری های نوین در مدیریت تولید)	۲
۱۰	خوشه دروس: سلامت و بهداشت	---	---	کارگاه نوآوری و کار آفرینی	۳
۱۱	خوشه دروس: سلامت و بهداشت	---	---	کارگاه نوآوری و کار آفرینی	۲
۱۲	خوشه دروس: سلامت و بهداشت	---	---	کارگاه نوآوری و کار آفرینی	۲
۱۳	خوشه دروس: سلامت و بهداشت	---	---	کارگاه نوآوری و کار آفرینی	۲
۱۴	خوشه دروس: سلامت و بهداشت	---	---	کارگاه نوآوری و کار آفرینی	۲
۱۵	خوشه دروس: سلامت و بهداشت	---	---	کارگاه نوآوری و کار آفرینی	۲
۱۶	خوشه دروس: سلامت و بهداشت	---	---	کارگاه نوآوری و کار آفرینی	۲
۱۷	خوشه دروس: سلامت و بهداشت	---	---	کارگاه نوآوری و کار آفرینی	۲
۱۸	خوشه دروس: سلامت و بهداشت	---	---	کارگاه نوآوری و کار آفرینی	۲
۱۹	خوشه دروس: سلامت و بهداشت	---	---	کارگاه نوآوری و کار آفرینی	۲
۲۰	خوشه دروس: سلامت و بهداشت	---	---	کارگاه نوآوری و کار آفرینی	۲
۲۱	خوشه دروس: سلامت و بهداشت	---	---	کارگاه نوآوری و کار آفرینی	۲
۲۲	خوشه دروس: سلامت و بهداشت	---	---	کارگاه نوآوری و کار آفرینی	۲
۲۳	خوشه دروس: سلامت و بهداشت	---	---	کارگاه نوآوری و کار آفرینی	۲
۲۴	خوشه دروس: سلامت و بهداشت	---	---	کارگاه نوآوری و کار آفرینی	۲
۲۵	خوشه دروس: سلامت و بهداشت	---	---	کارگاه نوآوری و کار آفرینی	۲
۲۶	خوشه دروس: سلامت و بهداشت	---	---	کارگاه نوآوری و کار آفرینی	۲
۲۷	خوشه دروس: سلامت و بهداشت	---	---	کارگاه نوآوری و کار آفرینی	۲
۲۸	خوشه دروس: سلامت و بهداشت	---	---	کارگاه نوآوری و کار آفرینی	۲
۲۹	خوشه دروس: سلامت و بهداشت	---	---	کارگاه نوآوری و کار آفرینی	۲
۳۰	خوشه دروس: سلامت و بهداشت	---	---	کارگاه نوآوری و کار آفرینی	۲
۳۱	خوشه دروس: سلامت و بهداشت	---	---	کارگاه نوآوری و کار آفرینی	۲
۳۲	خوشه دروس: سلامت و بهداشت	---	---	کارگاه نوآوری و کار آفرینی	۲
۳۳	خوشه دروس: سلامت و بهداشت	---	---	کارگاه نوآوری و کار آفرینی	۲
۳۴	خوشه دروس: سلامت و بهداشت	---	---	کارگاه نوآوری و کار آفرینی	۲
۳۵	خوشه دروس: سلامت و بهداشت	---	---	کارگاه نوآوری و کار آفرینی	۲
۳۶	خوشه دروس: سلامت و بهداشت	---	---	کارگاه نوآوری و کار آفرینی	۲
۳۷	خوشه دروس: سلامت و بهداشت	---	---	کارگاه نوآوری و کار آفرینی	۲
۳۸	خوشه دروس: سلامت و بهداشت	---	---	کارگاه نوآوری و کار آفرینی	۲
۳۹	خوشه دروس: سلامت و بهداشت	---	---	کارگاه نوآوری و کار آفرینی	۲
۴۰	خوشه دروس: سلامت و بهداشت	---	---	کارگاه نوآوری و کار آفرینی	۲
۴۱	خوشه دروس: سلامت و بهداشت	---	---	کارگاه نوآوری و کار آفرینی	۲
۴۲	خوشه دروس: سلامت و بهداشت	---	---	کارگاه نوآوری و کار آفرینی	۲
۴۳	خوشه دروس: سلامت و بهداشت	---	---	کارگاه نوآوری و کار آفرینی	۲
۴۴	خوشه دروس: سلامت و بهداشت	---	---	کارگاه نوآوری و کار آفرینی	۲
۴۵	خوشه دروس: سلامت و بهداشت	---	---	کارگاه نوآوری و کار آفرینی	۲
۴۶	خوشه دروس: سلامت و بهداشت	---	---	کارگاه نوآوری و کار آفرینی	۲
۴۷	خوشه دروس: سلامت و بهداشت	---	---	کارگاه نوآوری و کار آفرینی	۲
۴۸	خوشه دروس: سلامت و بهداشت	---	---	کارگاه نوآوری و کار آفرینی	۲
۴۹	خوشه دروس: سلامت و بهداشت	---	---	کارگاه نوآوری و کار آفرینی	۲
۵۰	خوشه دروس: سلامت و بهداشت	---	---	کارگاه نوآوری و کار آفرینی	۲
۵۱	خوشه دروس: سلامت و بهداشت	---	---	کارگاه نوآوری و کار آفرینی	۲
۵۲	خوشه دروس: سلامت و بهداشت	---	---	کارگاه نوآوری و کار آفرینی	۲
۵۳	خوشه دروس: سلامت و بهداشت	---	---	کارگاه نوآوری و کار آفرینی	۲
۵۴	خوشه دروس: سلامت و بهداشت	---	---	کارگاه نوآوری و کار آفرینی	۲
۵۵	خوشه دروس: سلامت و بهداشت	---	---	کارگاه نوآوری و کار آفرینی	۲
۵۶	خوشه دروس: سلامت و بهداشت	---	---	کارگاه نوآوری و کار آفرینی	۲
۵۷	خوشه دروس: سلامت و بهداشت	---	---	کارگاه نوآوری و کار آفرینی	۲
۵۸	خوشه دروس: سلامت و بهداشت	---	---	کارگاه نوآوری و کار آفرینی	۲
۵۹	خوشه دروس: سلامت و بهداشت	---	---	کارگاه نوآوری و کار آفرینی	۲
۶۰	خوشه دروس: سلامت و بهداشت	---	---	کارگاه نوآوری و کار آفرینی	۲
۶۱	خوشه دروس: سلامت و بهداشت	---	---	کارگاه نوآوری و کار آفرینی	۲
۶۲	خوشه دروس: سلامت و بهداشت	---	---	کارگاه نوآوری و کار آفرینی	۲
۶۳	خوشه دروس: سلامت و بهداشت	---	---	کارگاه نوآوری و کار آفرینی	۲
۶۴	خوشه دروس: سلامت و بهداشت	---	---	کارگاه نوآوری و کار آفرینی	۲
۶۵	خوشه دروس: سلامت و بهداشت	---	---	کارگاه نوآوری و کار آفرینی	۲
۶۶	خوشه دروس: سلامت و بهداشت	---	---	کارگاه نوآوری و کار آفرینی	۲
۶۷	خوشه دروس: سلامت و بهداشت	---	---	کارگاه نوآوری و کار آفرینی	۲
۶۸	خوشه دروس: سلامت و بهداشت	---	---	کارگاه نوآوری و کار آفرینی	۲
۶۹	خوشه دروس: سلامت و بهداشت	---	---	کارگاه نوآوری و کار آفرینی	۲
۷۰	خوشه دروس: سلامت و بهداشت	---	---	کارگاه نوآوری و کار آفرینی	۲
۷۱	خوشه دروس: سلامت و بهداشت	---	---	کارگاه نوآوری و کار آفرینی	۲
۷۲	خوشه دروس: سلامت و بهداشت	---	---	کارگاه نوآوری و کار آفرینی	۲
۷۳	خوشه دروس: سلامت و بهداشت	---	---	کارگاه نوآوری و کار آفرینی	۲
۷۴	خوشه دروس: سلامت و بهداشت	---	---	کارگاه نوآوری و کار آفرینی	۲
۷۵	خوشه دروس: سلامت و بهداشت	---	---	کارگاه نوآوری و کار آفرینی	۲
۷۶	خوشه دروس: سلامت و بهداشت	---	---	کارگاه نوآوری و کار آفرینی	۲
۷۷	خوشه دروس: سلامت و بهداشت	---	---	کارگاه نوآوری و کار آفرینی	۲
۷۸	خوشه دروس: سلامت و بهداشت	---	---	کارگاه نوآوری و کار آفرینی	۲
۷۹	خوشه دروس: سلامت و بهداشت	---	---	کارگاه نوآوری و کار آفرینی	۲
۸۰	خوشه دروس: سلامت و بهداشت	---	---	کارگاه نوآوری و کار آفرینی	۲
۸۱	خوشه دروس: سلامت و بهداشت	---	---	کارگاه نوآوری و کار آفرینی	۲
۸۲	خوشه دروس: سلامت و بهداشت	---	---	کارگاه نوآوری و کار آفرینی	۲
۸۳	خوشه دروس: سلامت و بهداشت	---	---	کارگاه نوآوری و کار آفرینی	۲
۸۴	خوشه دروس: سلامت و بهداشت	---	---	کارگاه نوآوری و کار آفرینی	۲
۸۵	خوشه دروس: سلامت و بهداشت	---	---	کارگاه نوآوری و کار آفرینی	۲
۸۶	خوشه دروس: سلامت و بهداشت	---	---	کارگاه نوآوری و کار آفرینی	۲
۸۷	خوشه دروس: سلامت و بهداشت	---	---	کارگاه نوآوری و کار آفرینی	۲
۸۸	خوشه دروس: سلامت و بهداشت	---	---	کارگاه نوآوری و کار آفرینی	۲
۸۹	خوشه دروس: سلامت و بهداشت	---	---	کارگاه نوآوری و کار آفرینی	۲
۹۰	خوشه دروس: سلامت و بهداشت	---	---	کارگاه نوآوری و کار آفرینی	۲
۹۱	خوشه دروس: سلامت و بهداشت	---	---	کارگاه نوآوری و کار آفرینی	۲
۹۲	خوشه دروس: سلامت و بهداشت	---	---	کارگاه نوآوری و کار آفرینی	۲
۹۳	خوشه دروس: سلامت و بهداشت	---	---	کارگاه نوآوری و کار آفرینی	۲
۹۴	خوشه دروس: سلامت و بهداشت	---	---	کارگاه نوآوری و کار آفرینی	۲
۹۵	خوشه دروس: سلامت و بهداشت	---	---	کارگاه نوآوری و کار آفرینی	۲
۹۶	خوشه دروس: سلامت و بهداشت	---	---	کارگاه نوآوری و کار آفرینی	۲
۹۷	خوشه دروس: سلامت و بهداشت	---	---	کارگاه نوآوری و کار آفرینی	۲
۹۸	خوشه دروس: سلامت و بهداشت	---	---	کارگاه نوآوری و کار آفرینی	۲
۹۹	خوشه دروس: سلامت و بهداشت	---	---	کارگاه نوآوری و کار آفرینی	۲
۱۰۰	خوشه دروس: سلامت و بهداشت	---	---	کارگاه نوآوری و کار آفرینی	۲

کارآموزی متناسب با رشته ۴۰ - ۱۳۰ ساعت اجرا می‌شود.

۱- دروس ۸ ساعته خوشه های فناوری پایه های دهم و یازدهم صرفاً تا پایان سال تحصیلی ۹۷-۹۶ بر رعایت ترتیب به صورت متوالی در طول سال اجرا می شود.

۲- مدت زمان آموزش نیم سال دوم به ازای نیم سال اول جهت کسب شایستگی اختصاصی می یابد.

* کارآموزی متناسب با رشته ۲۴۰ - ۱۲۰ ساعت اجرا می‌شود.

جدول دروس رشته الکترونیک و مخابرات دریایی


جدول مواد درسی و ساعات تدریس هفتگی دوره دوم متوسطه - شاخه فنی و حرفه ای

رشته تحصیلی: الکترونیک و مخابرات دریایی	کد رشته تحصیلی: ۰۷۱۴۲۰	گروه تحصیلی: برق و رایانه	کد گروه: ۱۰	زمنیه: صنعت						
ردیف	دامنه محتوایی	پایه ۱۰			پایه ۱۱			پایه ۱۲		
		نام دروس	ساعات	نام دروس	ساعات	نام دروس	ساعات	نام دروس	ساعات	
۱	تربیت دینی و اخلاقی	تعلیمات دینی (دینی، قرآن و اخلاق) ۱	۲	تعلیمات دینی (دینی، قرآن و اخلاق) ۲	۲	تعلیمات دینی (دینی، قرآن و اخلاق) ۳	۲	تعلیمات دینی (دینی، قرآن و اخلاق) ۳	۲	
۲	زبان و ادبیات فارسی	عربی، زبان قرآن ۱	۱	عربی، زبان قرآن ۲	۲	عربی، زبان قرآن ۳	۱	عربی، زبان قرآن ۳	۱	
۳	زبان های خارجی	فارسی ۱	۲	زبان خارجی ۲	۲	فارسی ۲	۲	فارسی ۳	۲	
۴	خوشه دروس: مطالعات اجتماعی	زبان خارجی ۱	۲	علوم اجتماعی	۲	تاریخ معاصر	۲	تاریخ معاصر	۲	
۵	خوشه دروس: انسان و سلامت	تربیت بدنی ۱	۲	تربیت بدنی ۲	۲	سلامت و بهداشت	۲	سلامت و بهداشت	۲	
۶	خوشه دروس: انسان و مهارت های زندگی	---	---	انسان و محیط زیست	---	انسانی دفاعی	---	انسانی دفاعی	۲	
۷	خوشه دروس: شایستگی های غیر فنی	---	---	کارگاه نوآوری و کار آفرینی	۲	اخلاق حرفه ای	۲	اخلاق حرفه ای	۲	
۸	خوشه دروس: شایستگی های پایه فنی (ریاضی، فیزیک، شیمی، زیست شناسی)	---	---	دانش فنی تخصصی	۲	مدیریت تولید	۲	مدیریت تولید	۲	
۹	خوشه دروس: شایستگی های فنی	دانش فنی پایه	۳	دانش فنی تخصصی	۳	دانش فنی تخصصی	۳	دانش فنی تخصصی	۳	
۱۰	برنامه ویژه مدرسه	جمع	۴۰	جمع	۴۰	جمع	۴۰	جمع	۴۰	

۱- دروس ۸، ساعاته خوشه شایستگی های فنی پایه های دهم و یازدهم صرفاً تا پایان سال تحصیلی ۹۷-۹۶ با رعایت ترتیب به صورت هوشاوی در طول سال اجرا می شود.

۲- ساعت زبان آموزش نیم سال دوم به ازای نیم سال اول جهت کسب شایستگی اختماسی می باشد.

۵- کار آوازی، متناسب با رشته ۲۶- -۱۲- ساعات اجرا می شود.



فصل ۴

ایمنی، بهداشت و ارگونومی

رنگ‌های ایمنی

رنگ	قرمز	زرد	سبز	آبی
معنی	ایست، ممنوع	احتیاط احتمال خطر	بدون خطر، کمک‌های اولیه	علائم پیشنهادی راهنمایی
رنگ زمینه	سفید	سیاه	سفید	سفید
رنگ علائم	سفید	سیاه	سفید	سفید
مثال‌های کاربردی	علائم ایست، اضطراری، خاموش، علائم ممنوع، مواد آتش‌نشانی	اشاره و تذکر خطر (مثلاً آتش، انفجار، تابش)، اشاره و تذکر موانع (مثلاً گودال و برآمدگی)	مشخصه راه نجات و خروجی اضطراری، کمک‌های اولیه و ایستگاه‌های نجات	موظف به استفاده از تجهیزات ایمنی شخصی، محل کیوسک

علائم پیشنهادی

باید قفل شود	باید از کلاه ایمنی استفاده شود	باید از ماسک جوشکاری استفاده شود	باید از لباس ایمنی استفاده شود	باید از ماسک ایمنی استفاده شود	عابرپایاده باید از این مسیر استفاده کند	باید از کمربند ایمنی استفاده شود
باید همه دست‌ها شسته شود	باید از ماسک محافظ استفاده شود	باید کفش ایمنی بپوشید	باید از عینک حفاظتی استفاده شود	قبل از شروع به کار قطع کنید	باید از پل استفاده شود	باید از گوشی محافظ استفاده شود

علائم نجات در مسیرهای فرار و خروجی‌های اضطراری

اطلاعات مسیر کمک‌های اولیه، مسیرهای فرار و خروجی‌های اضطراری	کمک‌های اولیه	برانکارد	دوش اضطراری	تجهیزات شستشوی چشم
تلفن اضطراری	پنجره اضطراری خروج نردبان فرار	خروجی اضطراری / مسیر فرار		

علائم ایمنی حریق و علائم اضافی

					
تلفن اضطراری حریق	کلید هشدار حریق	کلاه آتش نشانی	نردبان اضطراری حریق	قرقره شیلنگ آتش نشانی	کپسول آتش نشانی

علائم ممنوع

					
ممنوع	سیگار کشیدن ممنوع	کبریت، شعله و سیگار کشیدن ممنوع	عبور عابر پیاده ممنوع	خاموش کردن با آب ممنوع	این آب خوردنی نیست
					
ورود افراد متفرقه ممنوع	برای وسایل نقلیه بالابر ممنوع	دست زدن و تماس ممنوع	کاربرد این دستگاه‌ها در وان حمام، دوش یا ظرف‌شویی ممنوع	وصل کردن ممنوع	گذاشتن یا انبار کردن ممنوع
					
ممنوعیت دست‌رسی برای افراد که در بدن ایمپلنت‌های فلزی دارند	عکس‌برداری ممنوع	پوشیدن دستکش ممنوع	ورود به محوطه ممنوع	استفاده از تلفن همراه ممنوع	حمل نفر ممنوع

علائم هشدار

					
هشدار قبل از نقطه خطر	هشدار نسبت به مواد آتش‌زا	هشدار نسبت به مواد منفجره	هشدار، مواد سمی	هشدار، مواد خورنده	هشدار، مواد رادیواکتیو یا پرتو یونیزه کننده
					
هشدار، بارهای آویزان و معلق	هشدار، رفت و آمد بالاير	هشدار، ولتاژ الکتریکی خطرناک	هشدار، لبه‌های برنده	هشدار، تابش لیزری	هشدار، مواد آتش‌زا
					
هشدار، پرتوهای غیر یونی‌کننده و الکترومغناطیسی	هشدار، میدان مغناطیسی	هشدار، نسبت به زمین خوردن و گیر کردن	هشدار، خطوط سقوط	هشدار، خطر مرگ	هشدار، سرما
					
هشدار، سطوح داغ	هشدار، کپسول‌های گاز	هشدار، خطر باتری	هشدار، آسیب‌دیدگی دست	هشدار، خطر سر خوردن	هشدار، خطر پرس شدن

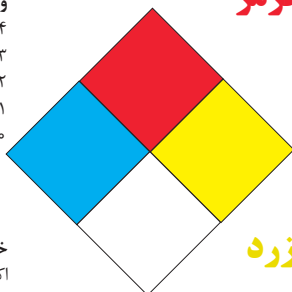
لوزی خطر

آبی

- واکنش پذیری
۴- مرگبار
۳- خیلی خطرناک
۲- خطرناک
۱- باخطر کم
۰- نرمال

قرمز

- خطرات آتش سوزی نقطه اشتعال
۴- زیر ۷۳ درجه فارنهایت
۳- زیر ۱۰۰ درجه فارنهایت
۲- زیر ۲۰۰ درجه فارنهایت
۱- بالای ۲۰۰ درجه فارنهایت
۰- نمی سوزد



شیمیایی

- خطرات خاص
اکسید کننده OX
اسیدی ACID
قلیایی ALK
خورنده COR

زرد

- واکنش پذیری
۴- ممکن است منفجر شود
۳- ممکن است در اثر حرارت و شوک منفجر شود
۲- تغییرات شیمیایی شدید
۱- در اثر استفاده از حرارت ناپایدار می گردد
۰- پایدار است

تشریح راهنمای لوزی خطر

واکنش پذیری	قابلیت اشتعال	بهداشت
قابلیت آزاد کردن انرژی	قابلیت سوختن	نحوه حفاظت
۴- ممکن است تحت شرایط عادی منفجر شود	۴- قابلیت اشتعال بالا	۴- حفاظت کامل و استفاده از دستگاه های تنفسی
۳- ممکن است در اثر حرارت و شوک منفجر شود	۳- تحت شرایط معمولی مشتعل می گردد	۳- حفاظت کامل و استفاده از دستگاه های تنفسی
۲- تغییرات شیمیایی شدید می دهد ولی منفجر نمی شود	۲- با حرارت ملایم مشتعل می گردد	۲- از دستگاه تنفسی همراه ماسک کامل صورت استفاده گردد
۱- در اثر استفاده از حرارت ناپایدار می گردد	۱- وقتی حرارت ببیند و گرم شود مشتعل می گردد	۱- بایستی از دستگاه تنفسی استفاده گردد
۰- در حالت عادی پایدار است	۰- مشتعل نمی شود	۰- وسیله خاصی مورد نیاز نمی باشد

مقایسه انواع کلاس های آتش

جدول مقایسه انواع کلاس های آتش

اروپایی	نوع حریق
Class A	جامدات قابل اشتعال (مواد خشک)
Class B	مایعات قابل اشتعال
Class C	گازهای قابل اشتعال
Class F/D	وسایل الکتریکی (برقی)
Class D	فلزات قابل اشتعال
Class F	روغن آشپزی

روش های متفاوت اطفای حریق

طبقه بندی آتش سوزی ها	مواد	خاموش کننده توصیه شده
دسته A جامدات احتراق پذیر به جز فلزات	موادی که از سطح می سوزند مانند: چوب، کاغذ، پارچه موادی که از عمق می سوزند مانند: چوب، زغال سنگ، پارچه موادی که در اثر حریق شکل خود را از دست می دهند مانند: لاستیک نرم، پلاستیک نرم	خاموش کننده های نوع آبی پودری چند منظوره CO_2 هالون خاموش کننده های پودری چند منظوره خاموش کننده های نوع آبی خاموش کننده های CO_2 خاموش کننده های هالون خاموش کننده های پودری خاموش کننده های چند منظوره
دسته B مایعات قابل اشتعال	نفت، بنزین، رنگ، لاک، روغن و غیره (غیر قابل حل در آب) مایعات سنگین مانند قیر و آسفالت و گریس الکل، کتون ها و غیره (قابل حل در آب)	خاموش کننده های پودری خاموش کننده های کف شیمیایی و کف مکانیکی خاموش کننده های پودری و CO_2 خاموش کننده هالون خاموش کننده های AFFF
دسته C گازهای قابل اشتعال	گازها یا موادی که اگر با آب ترکیب شوند تولید گاز قابل اشتعال می نماید مانند: کاربید	خاموش کننده های پودری خاموش کننده های CO_2 خاموش کننده های هالون
دسته D تجهیزات برقی	کلید و پریز برق، تلفن، رایانه، ترانسفورماتورها	خاموش کننده های CO_2 خاموش کننده های هالون
دسته E فلزات قابل اشتعال	منیزیم، سدیم، پتاسیم، آلومینیم	خاموش کننده های پودر خشک

میزان شدت نور در محیط های کار (لوکس)

ردیف	فعالیت کاری	لوکس
۱	فضاهای عمومی با محیط تاریک	۵۰-۲۰
۲	گذرگاه ها و راهروهای کارهای موقت	۱۰۰-۵۰
۳	فضاهای کاری برای کارهایی که گاه انجام می شود.	۲۰۰-۱۰۰
۴	کارهایی که معمولاً با کنتراست بالا یا بر روی قطعه بزرگ انجام می شود.	۵۰۰-۲۰۰
۵	کارهایی که معمولاً با کنتراست متوسط یا بر روی قطعه کوچک انجام می شود.	۱۰۰۰-۵۰۰
۶	کارهایی که معمولاً با کنتراست پایین یا بر روی قطعه کوچک انجام می شود.	۲۰۰۰-۱۰۰۰
۷	کارهایی که معمولاً با کنتراست پایین یا بر روی قطعات ریز و یا تکرار زیاد انجام می شود.	۵۰۰۰-۲۰۰۰
۸	انجام کارهای ممتد و طولانی با دقت بالا	۱۰۰۰۰-۵۰۰۰
۹	انجام کارهای خیلی خاص با کنتراست بسیار پایین	۲۰۰۰۰-۱۰۰۰۰

میزان خطر و احتمال وقوع آن بر حسب مسیر جریان برق

مسیر جریان	میزان خطر مرگ	احتمال وقوع
از سر به اندام‌های دیگر	خیلی زیاد (مرگبار)	خیلی کم
از یک دست به دست دیگر	زیاد	متوسط
از دست به پا	خیلی زیاد	زیاد
از یک پا به یک دست	کم	کم

زمان تست هیدرو استاتیک خاموش کننده‌ها

ردیف	نوع خاموش کننده آتش نشانی	دوره زمان تست (سال)
۱	خاموش کننده آب و گاز تحت فشار و یا حاوی ترکیبات ضد یخ	۵
۲	خاموش کننده حاوی AFFF یا FFFP	۵
۳	خاموش کننده پودری یا سیلندر فولادی	۵
۴	خاموش کننده کربن دی اکسید	۵
۵	خاموش کننده حاوی پودر تر شیمیایی	۵
۶	خاموش کننده‌های حاوی پودر خشک شیمیایی یا سیلندرهای آلومینیم و یا برنجی	۱۲
۷	خاموش کننده‌های حاوی پودر خشک شیمیایی یا سیلندرهای فولادی ریخته‌گری و مواد هالوژنه	۱۲
۸	خاموش کننده‌های حاوی پودر و دارای بالن (کارتریج) یا سیلندرهای فولادی ریخته‌گری شده	۱۲

امروزه بازیافت به عنوان یکی از پارامترهای مؤثر بر طراحی محصولات محسوب می‌گردد و به خصوص در مباحثی همچون طراحی و توسعه پایدار توجه به بازیافت از اهمیت ویژه‌ای برخوردار است. یکی از عواملی که می‌تواند پس از استفاده از محصول، به سهولت تفکیک زباله در مبدأ کمک نماید علائم بازیافت مندرج بر روی بدنه کالا است که نوع جنس محصول را بیان می‌دارد که در ذیل، به بیان برخی از متداول‌ترین آنها اشاره شده است.

توضیحات	کد	توضیحات	کد
پلی اتیلن با چگالی بالا	 02 PE-HD	پلی اتیلن تری فتالات	 01 PET
پلی اتیلن با چگالی پایین	 04 PE-LD	پلی وینیل کلراید	 03 PVC
پلی استایرن	 06 PS	پلی پروپیلن	 05 PP
کدهای ۸ تا ۱۴ به ترتیب مربوط به باتری‌های سرب - اسیدی، قلیاتی، نیکل کادمیوم، نیکل متال هیدرید، لیتیوم، اکسید نقره، و زینک کربن (باتری‌های قلمی معمولی) است.		سایر پلاستیک‌ها که عمدتاً شامل آکریلیک‌ها، فایبرگلاس، پلی‌آمید و ملامین (اوره فرمالدئید) هستند	
کاغذهای ممزوج با سایر مواد، کاغذ روزنامه، پاکت نامه و غیره	 21 PAP	مقوا	 20 PAP
آهن	 40 FE	کاغذ	 22 PAP

توضیحات	کد
پارچه	
کنف	
شیشه ممزوج	
شیشه بدون رنگ شفاف	
کدهای ۶۰ تا ۶۹ به طور کلی مربوط به انواع پارچه‌ها است	

توضیحات	کد
شیشه رنگی (معمولاً سبز) کدهای ۷۰ تا ۷۹ مربوط به انواع شیشه‌ها است	
کاغذ یا مقوای ممزوج با پلاستیک یا آلومینیوم	
آلومینیوم	
چوب	
چوب پنبه	

۱ PETE پلاستیک کد ۱: پلی اتیلن ترفتالات، قابل بازیافت‌ترین و معمول‌ترین پلاستیک است که به عنوان بطری‌های آب، نوشابه و ظرف‌های یک‌بار مصرف و غیره استفاده می‌شود. محکم و در برابر گرما مقاوم است و با بازیافت به بطری‌های آب، ساک، لباس، کفش، روکش مبل، فیبرهای پلی استر و غیره تبدیل می‌شود.

۲ HDPE پلاستیک کد ۲: پلی اتیلن با غلظت بالا که به راحتی و به سرعت بازیافت می‌شود. پلاستیک نوع خشک است، اما زود شکل می‌گیرد و معمولاً در قوطی شوینده‌ها، بطری‌های شیر، قوطی آب‌میوه، کیسه‌های زباله و غیره به کار می‌رود، با بازیافت به لوله‌های پلاستیکی، قوطی شوینده‌ها، خودکار، نیمکت و غیره تبدیل می‌شود.

۳ PVC پلاستیک کد ۳: پلی وینیل کلراید سخت بازیافت می‌شود. با آنکه محیط زیست و سلامت افراد را به خطر می‌اندازد، هنوز در همه جا در لوله‌ها، میزها، اسباب‌بازی و بسته‌بندی و غیره به چشم می‌خورد، PVC بازیافت شده به عنوان کف‌پوش، سرعت‌گیر، پنل و گل‌پخش‌کن ماشین استفاده می‌شود.


۴ LDPE پلاستیک کد ۴: پلی اتیلن با غلظت پایین است. ویژگی آن قابل انعطاف بودنش است. معمولاً در نخ‌های شیرینی، بسته‌بندی، قوطی‌های فشاری، کاورهای خشکشویی به کار می‌رود. بعد از بازیافت به عنوان بسته‌های حمل نامه، سطل‌های زباله، سیم‌بند و غیره استفاده می‌شود.

۵ PP پلاستیک کد ۵: پلی پروپیلن با غلظت پایین و در برابر حرارت فوق‌العاده مقاوم است. به عنوان نی، درهای بطری و قوطی استفاده می‌شود. PP بازیافت شده در چراغ راهنمایی و رانندگی، پارو، جای پارک دوچرخه و قفسه‌های کشویی کاربرد دارد.

۶ PS پلاستیک کد ۶: پلی استایرن که فوم معروف است، در ظروف یک‌بار مصرف دردار و غیره به کار می‌رود. فوق‌العاده سبک ولی حجیم است. PS به دلیل آنکه گرما را زیاد منتقل نمی‌کند، کاربرد زیادی دارد. با آنکه این ماده جزو برنامه‌های بازیافت شهرداری‌ها نیست، اما می‌تواند به عایق‌های حرارتی، شانه‌های تخم‌مرغ، خط‌کش و ظروف پلاستیکی تبدیل شود.

۷ سایر موارد پلاستیک کد ۷: سایر پلاستیک‌ها مانند پلی اورتان می‌توانند ترکیبی از پلاستیک‌های فوق باشند. جزو بازیافت نیستند، محصولات با کد ۷ می‌توانند هرچیز از زین دوچرخه گرفته تا ظرف‌های ۵ گالنی را شامل شوند. بسیاری از بازیافت‌کنندگان، پلاستیک با این کد را قبول نمی‌کنند، اما رزین این پلاستیک‌ها قابل تبدیل به الوارهای پلاستیکی و مواد سفارشی هستند.

نکات ایمنی حمل با جرثقیل

	اطمینان از تحمل بار توسط زنجیر یا تسمه
	اطمینان از محکم بودن تسمه یا زنجیر
	دقت و توجه در نحوه صحیح انتقال بار

جدول مقادیر مجاز حد تماس شغلی صدا

تراز فشار صوت به dBA	مدت مواجهه در روز	
۸۰	ساعت	۲۴
۸۲	ساعت	۱۶
۸۵	ساعت	۸
۸۸	ساعت	۴
۹۱	ساعت	۲
۹۴	ساعت	۱
۹۷	دقیقه	۳۰
۱۰۰	دقیقه	۱۵

جدول حدود مجاز مواجهه مواد شیمیایی

نام علمی ماده شیمیایی	وزن مولکولی	حد مجاز مواجهه شغلی		نمادها	مبنای تعیین حد مجاز مواجهه
		STEL/C	TWA		
سرب و ترکیبات معدنی آن Lead and inorganic compounds as Pb	۲۰۷/۲۰ متفاوت	-	۰/۵۰ mg/m ^۳	BEL: A ^۳	اختلالات سیستم اعصاب محیطی و مرکزی؛ اثرات خونی
کرومات سرب؛ Lead chromate as Pb	۳۲۳/۲۲	-	۰/۵۰ mg/m ^۳ ۰/۰۱۲ mg/m ^۳	BEL: A ^۲ A ^۲	آسیب سیستم تولیدمثل در مردان و اثرات ناقص زایی؛ انقباض عروق
لیندان Lindane	۲۹۰/۸۵	-	۰/۵ mg/m ^۳	پوست؛ A ^۳	آسیب کبدی؛ اختلال سیستم اعصاب مرکزی
هیدرید لیتیم Lithium hydride	۷/۹۵	-	۰/۰۲۵ mg/m ^۳	-	تحریک قسمت فوقانی تنفسی؛ پوست و چشم
هیدروکسید لیتیم Lithium hydroxide	۲۳/۹۵	-	-	-	-

جدول تجهیزات حفاظت از گوش

نوع گوشی	مشخصات و ویژگی
حفاظ روگوشی (Ear muff)	این نوع گوشی‌ها کاملاً لاله گوش را می‌پوشانند.
حفاظ توگوشی (Ear plugs)	این نوع گوشی‌های حفاظتی در داخل کانال گوش قرار می‌گیرند، آنها به صورت یکبار مصرف و چندبار مصرف در بازار عرضه می‌شوند.
حفاظ‌های توآم یا ترکیبی (Semi-insert)	ترکیبی از حفاظ روگوشی و توگوشی است. این نوع گوشی‌ها مانند حفاظ توگوشی در داخل کانال گوش قرار می‌گیرند، با این تفاوت که انتهای هر یک از توگوشی‌های چپ و راست، با استفاده از یک پیشانی بند سفت و سخت، به یکدیگر اتصال دارند.
کلاه محافظ (Helmet ear muffs)	برای برخی مشاغل که ممکن است به سر نیز صدمات مکانیکی وارد کند و همچنین برای کنترل انتقال صوت از طریق جمجمه به گوش داخلی و حفاظت بافت مغز در برابر صدمات موج صوتی، گروهی از حفاظ‌های شنوایی را به صورت کلاه محافظ عرضه نموده‌اند.

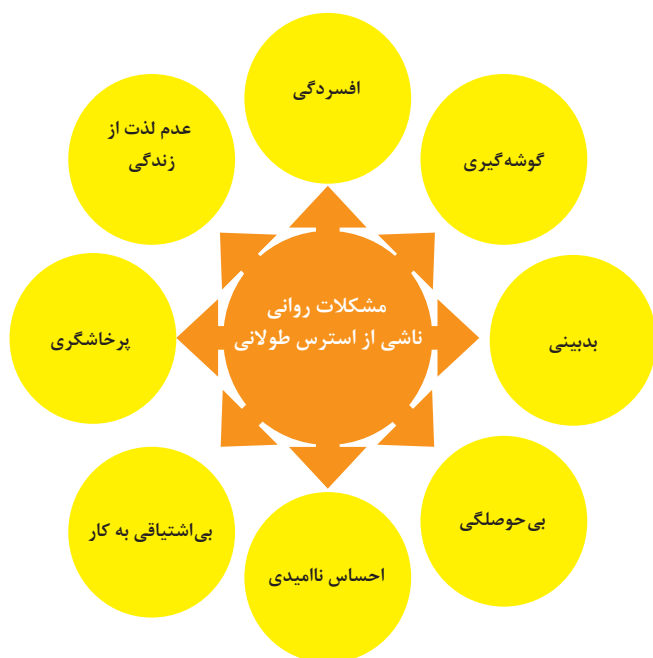
جدول شاخص هوای پاک

شاخص کیفیت هوا	سطح اهمیت بهداشتی	رنگ ها
وقتی که شاخص کیفیت هوا در گستره زیر است:	کیفیت هوا را این گونه توصیف می کنیم:	و با رنگ زیر نمایش می دهیم:
۵۰-۰	خوب	سبز
۱۰۰-۵۱	متوسط	زرد
۱۵۰-۱۰۱	ناسالم برای گروه های حساس	نارنجی
۲۰۰-۱۵۱	ناسالم	قرمز
۳۰۰-۲۰۱	خیلی ناسالم	بنفش
بالتر از ۳۰۰	خطرناک	خرمایی

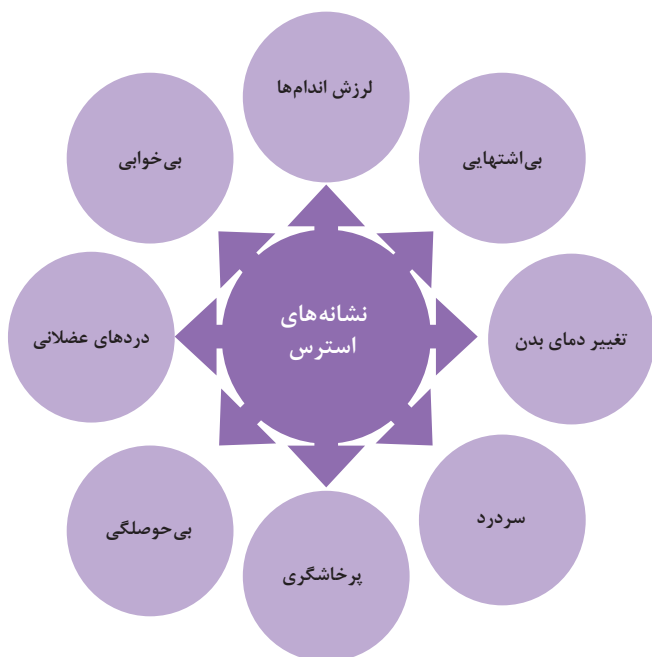
آلاینده ها	دوره ارزیابی	استاندارد کیفیت هوا (ثانویه)		استاندارد کیفیت هوا (اولیه)	
Co	Max غلظت میانگین ۸ ساعته	۹	ppm	۹	ppm
So _r	میانگین ۲۴ ساعته	۰/۱۴	ppm	۱/۰	ppm
HC (NMHC)	میانگین ۳ ساعته (صبح ۹-۶)	۰/۲۴	ppm	۰/۲۴	ppm
No _r	میانگین سالانه	۰/۰۵	ppm	۰/۰۵	ppm
PM	میانگین ۲۴ ساعته	۲۶۰	μgr/m ^۳	۱۵۰	μgr/m ^۳



اثرات فیزیکی استرس بر بدن



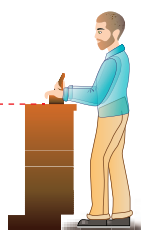
اثرات روانی استرس بر بدن



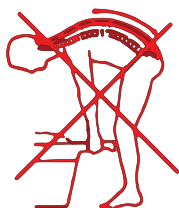
ارگونومی: به کارگیری علم درباره انسان در طراحی محیط کار است و سبب بالا رفتن سطح ایمنی، بهداشت، تطبیق کار با انسان بر اساس ابعاد بدنی فرد و در نهایت رضایت شغلی و بهبود بهره‌وری می‌شود.



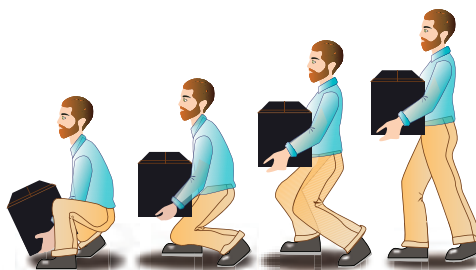
در کارهای نشسته، ارتفاع سطح کار باید در حدود آرنج باشد.



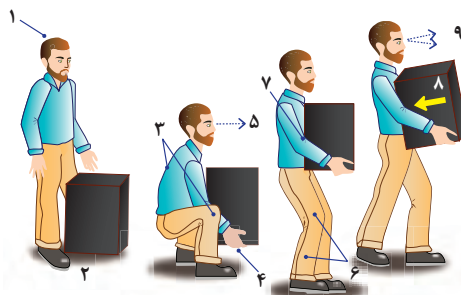
الف - کار سبک
ب - کار سنگین
انجام بیشتر کارها در سطح آرنج راحت‌تر است



اثر وضعیّت بدن (پشت خم‌شده) روی ستون فقرات



جابه‌جایی و گذاشتن اجسام (به وضعیت سر، کمر، دست، زانو و پا توجه کنید)



بلندکردن و جابه‌جایی اجسام (به وضعیت سر، کمر، دست، زانو و پا توجه کنید)



وضعیت صحیح بدن هنگام کار با رایانه



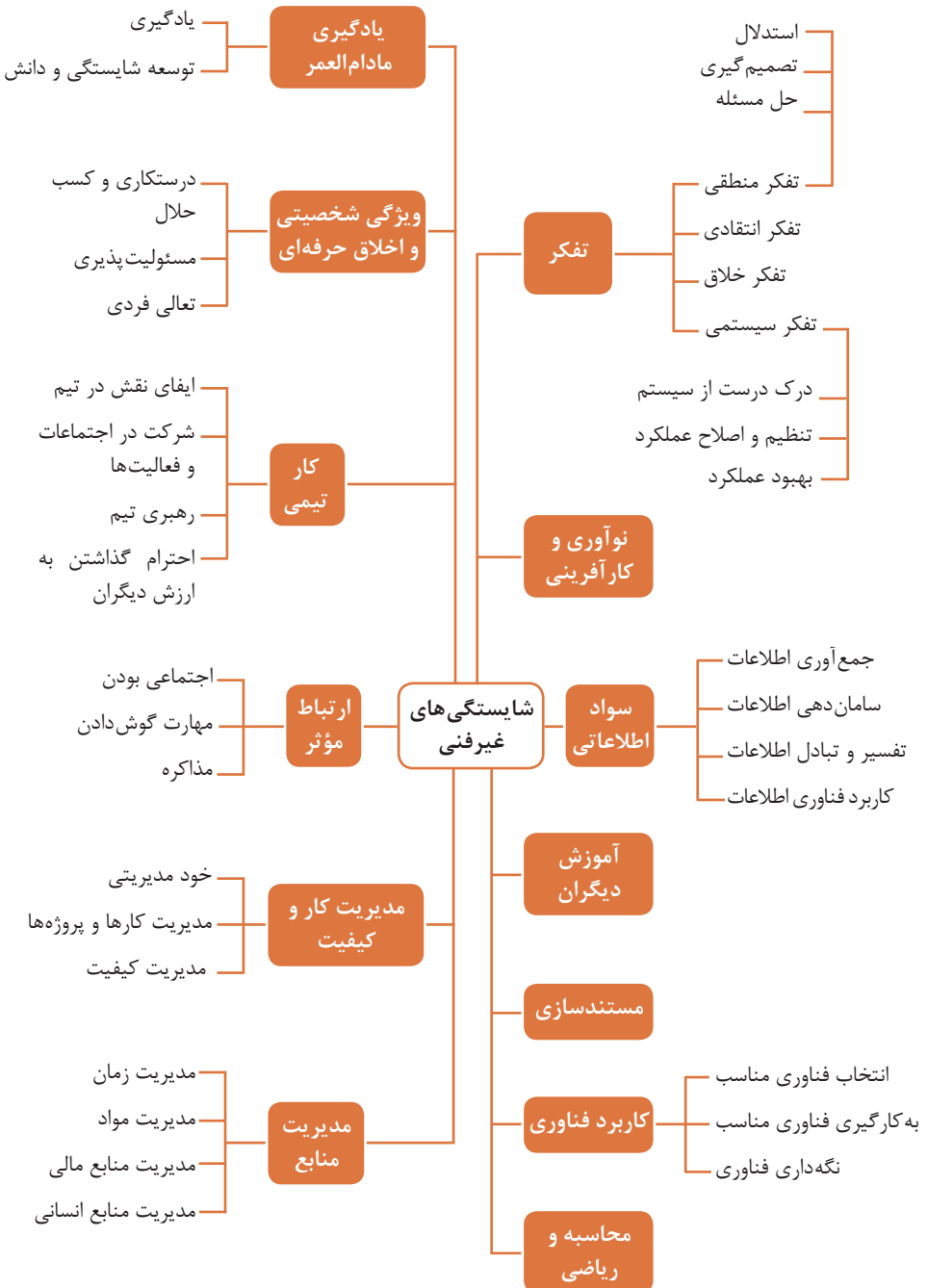
وضعیت های ناصحیح کاری

حدود مجاز توصیه شده در خصوص نیروی کشیدن و هل دادن بار در راستای افقی		
شرایط	نیروهایی که نباید از آن تجاوز کرد (بر حسب کیلوگرم)	مثال هایی از نوع کار
الف) وضعیت ایستاده ۱- تمام بدن در کار دخالت دارد	۲۳ کیلوگرم نیرو	حمل بار با فرغون
۲- عضلات اصلی دست و شانه دست ها کاملاً کشیده شده اند	۱۱ کیلوگرم نیرو	خم شدن بر روی یک مانع برای حرکت یک شیء یا هل دادن یک شیء در ارتفاع بالاتر از شانه
ب) زانو زدن	۱۹ کیلوگرم نیرو	برداشتن یا جابه جا کردن یک قطعه از دستگاه هنگام تعمیر و نگهداری جابه جا کردن اشیا در محیط های کاری سر بسته نظیر تونل ها یا کانال های بزرگ
ج) در حالت نشسته	۱۳ کیلوگرم نیرو	کار کردن با یک فرم عمودی نظیر دستگیره های کنترل در ماشین آلات سنگین، برداشتن و گذاشتن سینی های با محصول بر روی نوار نقاله

حدود مجاز توصیه شده در خصوص نیروی کشیدن و هل دادن بار در راستای عمودی		
شرایط	نیروهایی که نباید از آن تجاوز کرد (بر حسب کیلوگرم)	مثال هایی از نوع کار
کشیدن اجسام به سمت پایین در ارتفاع بالای سر	۵۵ کیلوگرم نیرو ۶۰ کیلوگرم نیرو	کار کردن یا سیستم کنترل گرفتن قلاب نظیر دستگیره ایمنی یا کنترل دستی به کار انداختن یک جرثقیل زنجیری گیره های برقی، سطح گیره قطری کمتر از ۵ سانتی متر باشد.
کشیدن به سمت پایین تا ارتفاع شانه	۲۲ کیلوگرم نیرو	به کار انداختن کنترل، گرفتن قلاب
کشیدن به سمت بالا ۲۵ cm (۱۰ in) بالای سطح زمین ارتفاع آرنج ارتفاع شانه	۲۷ کیلوگرم نیرو ۱۵ کیلوگرم نیرو ۷/۵ کیلوگرم نیرو	بلند کردن یک شیء با یک دست بلند کردن در یا درپوش
فشار دادن به سمت پایین تا ارتفاع آرنج	۲۹ کیلوگرم نیرو	بسته بندی کردن باربندی، مهر و موم کردن بسته ها
فشار دادن به سمت بالا تا ارتفاع شانه	۳۰ کیلوگرم نیرو	بلند کردن یک گوشه یا انتهای شیء نظیر یک لوله یا تیر آهن، بلند کردن یک شیء تا قسمت بالای تخته

فصل ۵

شایستگی‌های غیر فنی



کارنامک

نام و نام خانوادگی کارجو

تلفن تماس: [۰۹۱۲۳۳۳۳...]

رایانامه: [youremail@adomain.ext]

متولد: [سال]

ساکن: [شهر] - [محدوده]

سوابق تحصیلی

کارדانی نام رشته تحصیلی - دانشگاه نام دانشگاه تاریخ شروع دوره الی تاریخ دانش آموختگی

■ [اختیاری: ذکر مختصر دروس اصلی گذرانده شده یا تحقیقات انجام شده ...]

■ [اختیاری: معدل]

دیپلم نام رشته تحصیلی - هنرستان نام هنرستان

■ [اختیاری: ذکر مختصر دروس اصلی گذرانده شده یا تحقیقات انجام شده ...]

■ [اختیاری: معدل]

سوابق حرفه‌ای

[اسمت] - [نام شرکت، مؤسسه یا سازمان] - [شهر]

■ [توضیح مختصر مسئولیت‌های کاری ...]

■ [توضیح مختصر کارها و اقدامات انجام شده در یک الی دو خط ...] [ماه و سال شروع کار] الی

[ماه و سال اتمام کار]

[اسمت] - [نام شرکت، مؤسسه یا سازمان] - [شهر]

■ [توضیح مختصر مسئولیت‌های کاری ...]

■ [توضیح مختصر کارها و اقدامات انجام شده در یک الی دو خط ...] [ماه و سال شروع کار] الی

[ماه و سال اتمام کار]

مهارت‌ها

مهارت‌های نرم‌افزاری

■ [ذکر نام نرم‌افزار در هر خط و تشریح میزان آشنایی ...]

آشنایی با زبان‌های خارجی

■ [ذکر نام زبان مربوطه ضمن مشخص نمودن میزان آشنایی در زمینه محاوره و مکاتبه ...]

سایر مهارت‌ها

■ [ذکر سایر مهارت‌ها مانند تخصص‌های فنی، مهارت‌های فردی و غیره و ...]

نمونه نامه درخواست شغل

مدیر محترم

شرکت الف

موضوع: درخواست استخدام

با سلام و احترام،

بدین وسیله پیرو درج آگهی استخدام آن شرکت در نشریه مورخ جهت همکاری در بخش آن شرکت، به پیوست مشخصات و سوابق شغلی خود (کارنامک) خود را برای اعلام آمادگی جهت همکاری تقدیم می‌دارم.

امیدوارم ویژگی‌های اینجانب از جمله، تحصیل در رشته و گذراندن دوره‌های داشتن مهارت‌های ارتباطی قوی، اعتماد به نفس بالا و اشتیاق به یادگیری مداوم و به روز نمودن اطلاعات شغلی مورد توجه آن مدیریت محترم قرار گیرد و فرصتی را فراهم سازد تا بتوانم انتظارات و خدمات مورد نظر آن شرکت را برآورده سازم.

ضمن آرزوی توفیق و بهروزی برای جنابعالی، از وقتی که به بررسی کارنامک اینجانب اختصاص می‌دهید سپاسگزارم و آمادگی خود را جهت حضور در آن شرکت برای ارائه سایر اطلاعاتی که لازم باشد و آشنایی بیشتر اعلام می‌دارم.

با تشکر و احترام

نام و نام خانوادگی

امضا

نمونه قرارداد کار

این قرارداد به موجب ماده (۱۰) قانون کار جمهوری اسلامی ایران و تبصره (۳) الحاقی به ماده (۷) قانون کار موضوع بند (الف) ماده (۸) قانون رفع برخی از موانع تولید و سرمایه‌گذاری صنعتی - مصوب ۱۳۸۷/۸/۲۵ مجمع تشخیص مصلحت نظام بین کارفرما / نماینده قانونی کارفرما و کارگر منعقد می‌شود.

۱ مشخصات طرفین:

کارفرما / نماینده قانونی کارفرما

آقای / خانم / شرکت فرزند شماره شناسنامه / شماره ثبت
به نشانی:

کارگر

آقای / خانم فرزند متولد شماره شناسنامه
شماره ملی میزان تحصیلات نوع و میزان مهارت
به نشانی:

۲ نوع قرارداد: دائم موقت کارمین

۳ نوع کار یا حرفه یا حجم کار یا وظیفه‌ای که کارگر به آن اشتغال می‌یابد:

.....

۴ محل انجام کار:

۵ تاریخ انعقاد قرارداد:

۶ مدت قرارداد:

۷ ساعات کار:

میزان ساعات کار و ساعت شروع و پایان آن با توافق طرفین تعیین می‌گردد. ساعات کار نمی‌تواند بیش از میزان مندرج در قانون کار تعیین شود لیکن کمتر از آن مجاز است.

۸ حق السعی:

الف) مزد ثابت / مینا / روزانه / ساعتی ریال (حقوق ماهانه: ریال)
ب) پاداش افزایش تولید و یا بهره‌وری ریال که طبق توافق طرفین قابل پرداخت است.
ج) سایر مزایا

۹ حقوق و مزایای کارگر: به‌صورت هفتگی / ماهانه به حساب شماره نزد بانک شعبه توسط کارفرما یا نماینده قانونی وی پرداخت می‌گردد.

۱۰ بیمه: به موجب ماده (۱۴۸) قانون کار، کارفرما مکلف است کارگر را نزد سازمان تأمین اجتماعی و یا سایر دستگاه‌های بیمه‌گر بیمه نماید.

۱۱ عیدی و پاداش سالانه: به موجب ماده واحده قانون مربوط به تعیین عیدی و پاداش سالانه کارگران شاغل در کارگاه‌های مشمول قانون کار - مصوب ۱۳۷۰/۱۲/۶ مجلس شورای اسلامی، به ازای یک سال کار معادل شصت روز مزد ثابت / مینا (تا سقف نود روز حداقل مزد روزانه قانونی

کارگران) به عنوان عیدی و پاداش سالانه به کارگر پرداخت می‌شود. برای کار کمتر از یک سال، میزان عیدی و پاداش و سقف مربوط به نسبت محاسبه خواهد شد.

۱۲ حق سنوات و یا مزایای پایان کار: به هنگام فسخ یا خاتمه قرارداد کار حق سنوات، مطابق قانون و مصوبه مورخ ۸۷/۸/۲۵ مجمع تشخیص مصلحت نظام به نسبت کارکرد کارگر پرداخت می‌شود.

۱۳ شرایط فسخ قرارداد: این قرارداد در موارد ذیل، هر یک از طرفین قابل فسخ است.
فسخ قرارداد روز قبل به طرف مقابل کتباً اعلام می‌شود.

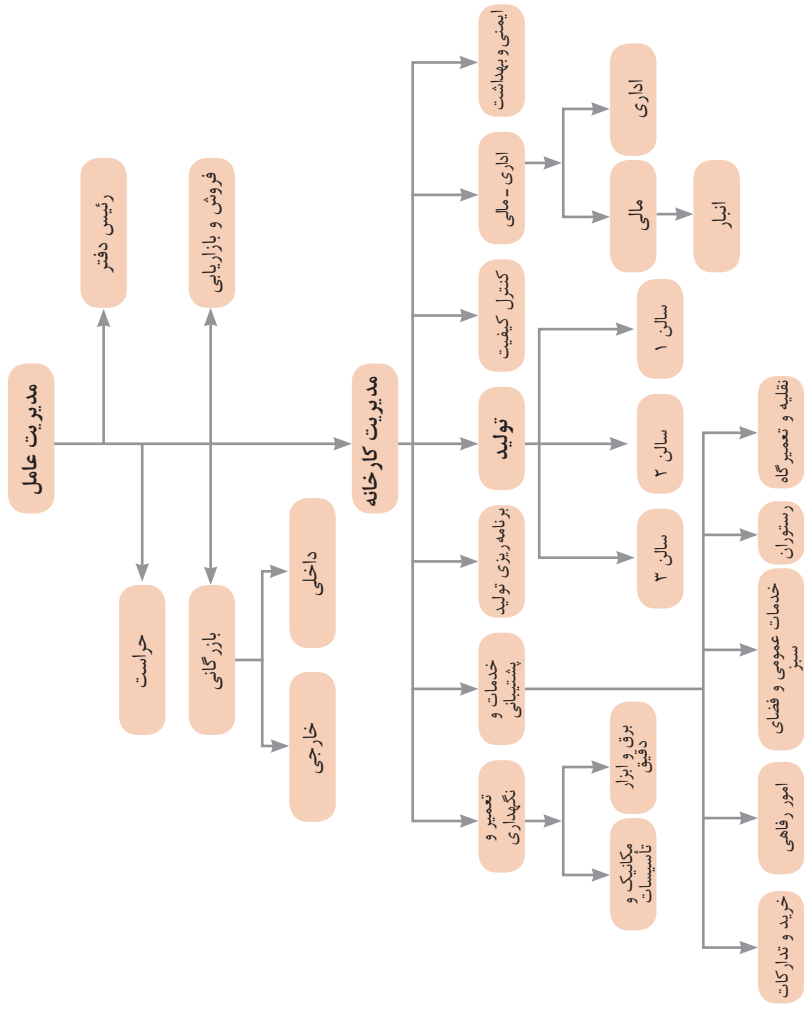
.....
.....
.....

۱۴ سایر موضوعات مندرج در قانون کار و مقررات تبعی از جمله مرخصی استحقاقی، کمک هزینه مسکن و کمک هزینه عائله‌مندی نسبت به این قرارداد اعمال خواهد شد.

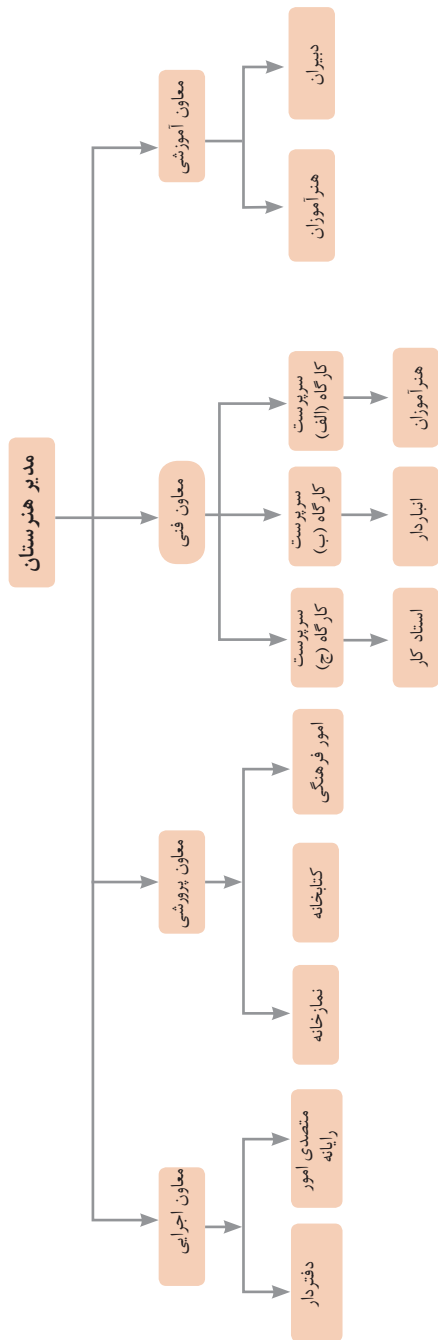
۱۵ این قرارداد در چهار نسخه تنظیم می‌شود که یک نسخه نزد کارفرما، یک نسخه نزد کارگر، یک نسخه به تشکل کارگری (در صورت وجود) و یک نسخه نیز توسط کارفرما از طریق نامه الکترونیکی یا اینترنت و یا سایر طرق به اداره کار و امور اجتماعی محل تحویل می‌شود.

محل امضای کارگر

محل امضای کارفرما



نمونه‌ای از ارتباطات واحدهای یک کارخانه

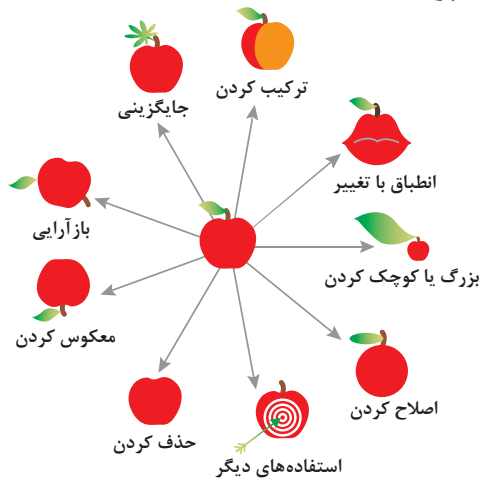


۱ - جداسازی	۲ - استخراج	۳ - کیفیت موضعی	۴ - نامتقارن سازی	۵ - ترکیب و ادغام
				
۶ - چند کاربردی	۷ - تودرتو بودن	۸ - جبران وزن	۹ - مقابله پیشاپیش	۱۰ - اقدام پیشاپیش
				
۱۱ - حفاظت پیشاپیش	۱۲ - هم سطح سازی	۱۳ - تغییر جهت	۱۴ - انحنای دادن	۱۵ - پویایی
				
۱۶ - کمی کمتر، کمی بیشتر	۱۷ - حرکت به بعدی جدید	۱۸ - لرزش و نوسان	۱۹ - عمل دوره‌ای	۲۰ - تداوم کار مفید
				
۲۱ - حمله سریع	۲۲ - تبدیل ضرر به سود	۲۳ - باز خورد	۲۴ - واسطه تراشی	۲۵ - خدمت‌دهی به خود
				
۲۶ - کپی کردن	۲۷ - یکبار مصرفی	۲۸ - تعویض سیستم	۲۹ - ساختار بادی یا مایع	۳۰ - پوسته و پرده نازک
				
۳۱ - مواد متخلخل	۳۲ - تعویض رنگ	۳۳ - همجنس و همگن سازی	۳۴ - رد کردن و باز سازی	۳۵ - تغییر ویژگی
				
۳۶ - تغییر حالت	۳۷ - انبساط حرارتی	۳۸ - اکسید کننده قوی	۳۹ - محیط بی اثر	۴۰ - مواد مرکب
				

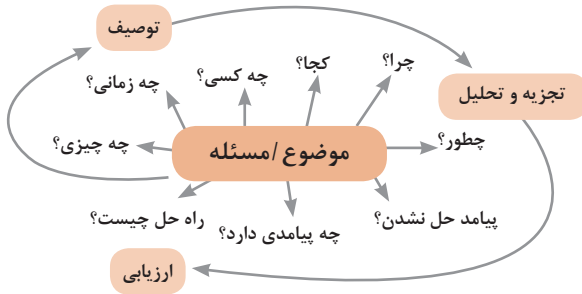
متغیرها در حل مسئله ابداعی

۱	وزن جسم متحرک	۲۱	قدرت یا توان
۲	وزن جسم ساکن	۲۲	تلفات انرژی
۳	طول جسم متحرک	۲۳	ضایعات مواد
۴	طول جسم ساکن	۲۴	اتلاف اطلاعات
۵	مساحت جسم متحرک	۲۵	تلفات زمان
۶	مساحت جسم ساکن	۲۶	مقدار مواد
۷	اندازه و حجم جسم متحرک	۲۷	قابلیت اطمینان
۸	اندازه و حجم جسم ساکن	۲۸	دقت اندازه‌گیری
۹	سرعت	۲۹	دقت ساخت
۱۰	نیرو	۳۰	عوامل زیان بار خارجی مؤثر بر جسم
۱۱	تنش / فشار	۳۱	اثرات داخلی زیان بار
۱۲	شکل	۳۲	سهولت ساخت یا تولید
۱۳	ثبات و پایداری جسم	۳۳	سهولت استفاده
۱۴	استحکام	۳۴	سهولت تعمیر
۱۵	دوام جسم متحرک	۳۵	قابلیت سازگاری
۱۶	دوام جسم غیرمتحرک	۳۶	پیچیدگی وسیله یا ابزار
۱۷	دما	۳۷	پیچیدگی کنترل یا دشواری عیب‌یابی
۱۸	روشنایی	۳۸	سطح خودکار بودن (اتوماسیون)
۱۹	انرژی مصرفی جسم متحرک	۳۹	بهره‌وری
۲۰	انرژی مصرفی جسم ساکن		

تکنیک خلاقیت اسکمپر



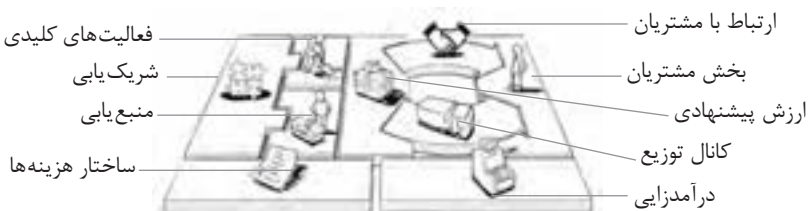
مدل ایجاد تفکر انتقادی



فعالیت‌های پیشبرد، ترویج و توسعه فروش



الف) مدل کسب‌وکار

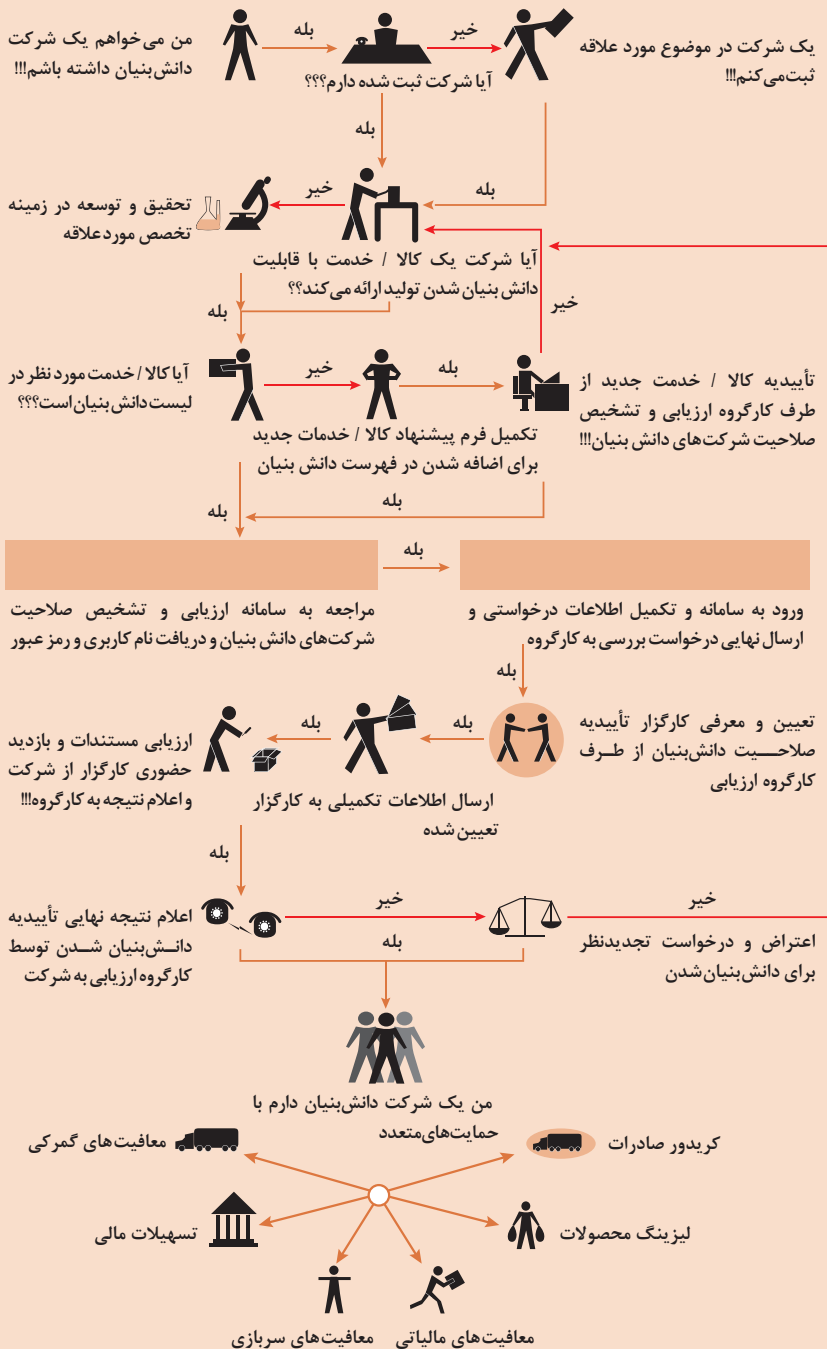


 <p>کانال توزیع</p> <p>از طریق چه کانال‌هایی می‌توانیم به بخش مشتریان دسترسی پیدا کنیم؟ در حال حاضر چگونه به آنها دسترسی داریم؟</p> <p>کانال‌های ما چطور یکپارچه شده‌اند؟</p> <p>عملکرد کدام یک بهتر است؟</p> <p>پرهزینه‌ترین کانال‌ها کدام‌اند؟</p> <p>چطور آنها را با نیازهای مشتریان هماهنگ می‌کنیم؟</p>  <p>شریک بایی</p> <p>شرکای کلیدی و تأمین‌کنندگان کلیدی ما چه کسانی هستند؟</p> <p>منابع اصلی به‌دست آمده از شرکایمان کدام‌اند؟</p> <p>فعالیت‌های اصلی انجام‌شده توسط شرکایمان کدام‌اند؟</p>	 <p>ارزش پیشنهادی</p> <p>چه ارزشی به مشتریانمان ارائه می‌دهیم؟ کدام یک از مسائل مشتریانمان را حل می‌کنیم؟</p> <p>بسته پیشنهادی ما (محصولات و خدمات) به مشتریان مختلف چیست؟ کدام یک از نیازهای مشتریان را برطرف می‌کنیم؟</p>	 <p>درآمدزایی</p> <p>مشتریان ما به چه بهایی واقعاً پول می‌دهند؟ آنها در حال حاضر چه بهایی می‌پردازند؟ آنها در حال حاضر چگونه بها را می‌پردازند؟ آنها ترجیح می‌دهند که چگونه بپردازند؟ هر جریان درآمد چگونه به درآمد کل کمک می‌کند؟</p>  <p>منبع بایی</p> <p>منابع اصلی برای ارزش پیشنهادی، کانال توزیع، ارتباط با مشتری و درآمدزایی چه هستند؟</p>	 <p>بخش مشتریان</p> <p>برای چه افرادی ارزش آفرینی می‌کنیم؟</p> <p>مهم‌ترین مشتریان ما چه افرادی هستند؟</p>  <p>ارتباط با مشتریان</p> <p>مشتریان مختلف انتظار برقراری و حفظ چه نوع رابطه‌ای را از ما دارند؟</p> <p>کدام یک از آنها برقرار شده است؟</p> <p>این روابط چگونه با کل اجزای مدل کسب‌وکار ما تلفیق می‌شوند؟</p> <p>هزینه آنها چقدر است؟</p>
<p>ساختار هزینه‌ها</p> <p>مهم‌ترین هزینه‌های اصلی ما در مدل کسب‌وکار کدام‌اند؟</p> <p>گران‌ترین منابع اصلی ما کدام‌اند؟ گران‌ترین فعالیت‌های اصلی ما کدام‌اند؟</p> 	<p>فعالیت‌های کلیدی</p> <p>فعالیت‌های اصلی برای ارزش پیشنهادی، کانال توزیع، ارتباط با مشتری و درآمدزایی چه هستند؟</p> 		

ویژگی‌های کار آفرین



مراحل ثبت کردن و ایجاد یک شرکت دانش بنیان



انواع معاملات رقابتی

روش مناقصه

روشی است که در آن سازمان‌های عمومی، خرید کالا یا خدمت موردنیاز خود را به رقابت و مسابقه می‌گذارند و با اشخاص حقوقی یا حقیقی که کمترین قیمت یا مناسب‌ترین شرایط را پیشنهاد می‌کنند، معامله می‌نمایند.

روش مزایده

یکی دیگر از روش‌های پیش‌بینی شده در قانون محاسبات عمومی، روش مزایده است که برای انعقاد پیمان‌های عمومی می‌باشد.

مزایده ترتیبی است که در آن اداره و سازمان، فروش کالاها و خدمات یا هر دو را از طریق درج آگهی در روزنامه کثیرالانتشار و یا روزنامه رسمی کشور به رقابت عمومی می‌گذارد و قرارداد را با شخصی که بیشترین بها را پیشنهاد می‌کند، منعقد می‌سازد.

مراحل دریافت پروانه کسب



اسناد تجاری

تعریف سفته

سفته یا سند طلب از نظر لغوی چیزی است که کسی برحسب آن از دیگری به رسم عاریت یا قرض بگیرد و در شهری دیگر یا مدتی بعد، آن را مسترد دارد. قانون تجارت ایران، سفته را به طریق زیر تعریف نموده است: «سفته سندی است که به موجب آن امضاکننده تعهد می‌کند مبلغی در موعد معین یا عندالمطالبه در وجه حامل یا شخص معینی و یا به حواله کرد آن شخص کارسازی نماید». (مفاد ماده ۳۰۷)

شماره خزانه داری کل	شماره	جای پرداخت	سر رسید
۰۱۲۶۰۶۷ (سرریز)			

شماره خزانه داری کل	شماره	جای پرداخت	سر رسید
۱۲-۹۰۶۲/۹۳۶۳۷۹			

چک

چک نوشته‌ای است که به موجب آن صادرکننده وجوهی را که نزد محال‌علیه دارد کلاً یا بعضاً مسترد یا به دیگری واگذار نماید. در چک باید محل و تاریخ صدور قید شده و به امضای صادرکننده برسد چک نباید وعده داشته باشد. چک ممکن است در وجه حامل یا شخص معین یا به حواله کرد باشد - ممکن است به دیگری منتقل شود. وجه چک باید به محض ارائه کارسازی شود. اگر چک در وجه حامل باشد کسی که وجه چک را دریافت می‌کند باید ظهر (پشت) آن را امضا یا مهر نماید.

■ بیمه در مواجهه با خطرات، باعث اطمینان و آرامش در زندگی فردی و اجتماعی و اقتصادی می‌شود.

■ بیمه، انتقال بار زیان‌های مالی بر شانه‌های شخص دیگر برای ایجاد اطمینان خاطر است.

■ بیمه امکانی است که سازمان‌های تأمین اجتماعی برای کارگران و کلیه افراد شاغل فراهم آورده است تا از آنان در حین کار، بیکاری، از کار افتادگی، بازنشستگی و فوت (خانواده متوفی) حمایت مالی کند.

■ کارفرما بنا بر قانون، موظف است قسمتی از دستمزد کارگر را تحت عنوان بیمه و مالیات از حقوق وی کسر و به حساب بیمه و اداره مالیات واریز نماید.

■ حق بیمه اجباری توسط کارگر (سهم ۷ درصد) و کارفرما (سهم ۲۳ درصد) پرداخت می‌شود.

■ در بیمه خویش فرما، کارگر خود می‌تواند با پرداخت مستقیم حق بیمه، از مزایای آن بهره‌مند شود.

■ مالیات به دستمزدهایی که از مقدار مشخصی کمتر باشند، تعلق نمی‌گیرد. حداکثر دستمزدی که به آن مالیات تعلق نمی‌گیرد، ابتدای هر سال توسط دولت تعیین می‌شود.

انواع بیمه در محیط کار

الف: بیمه اجباری: شامل بیمه درمانی، بیمه بازنشستگی، بیمه بیکاری و از کار افتادگی، بیمه فوت ب: بیمه‌های اختیاری: شامل بیمه حوادث، بیمه تکمیلی و ...

■ در حالت کلی بیمه به دو نوع اجتماعی و بازرگانی تقسیم می‌گردد. معمولاً بیمه اجتماعی، اجباری است و بیمه بازرگانی، اختیاری می‌باشد. بیمه بازرگانی با توجه به نوع خطر به دو بخش بیمه زندگی و بیمه‌های غیر زندگی تقسیم می‌شوند.

عقود اسلامی

اسلام برای همه وجوه زندگی قوانینی دارد. وجود اقتصاد اسلامی مؤید این مطلب است که در حوزه اقتصاد معیشت و تأمین رفاه هم روش‌های خاصی موجود است که باید به آنها پرداخت، بانکداری اسلامی و عقود اسلامی از آن دسته هستند.

در بینش اسلامی، دریافت و پرداخت بهره، تحریم شده است، بنابراین عملیات بانکداری باید بدون بهره انجام شود و اسلام روش‌هایی را برای جایگزین کردن بهره پیشنهاد می‌کند که از آن جمله می‌توان از عقود اسلامی نام برد.

به‌طور کلی عقود اسلامی در نظام بانکی به چهار گروه تقسیم می‌شوند که عبارت‌اند از:





علائم مورد استفاده در نمودار جریان فرایند



سیستم‌های تولید

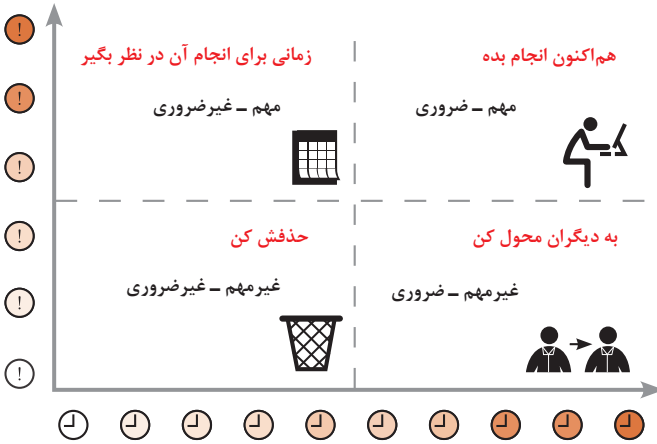




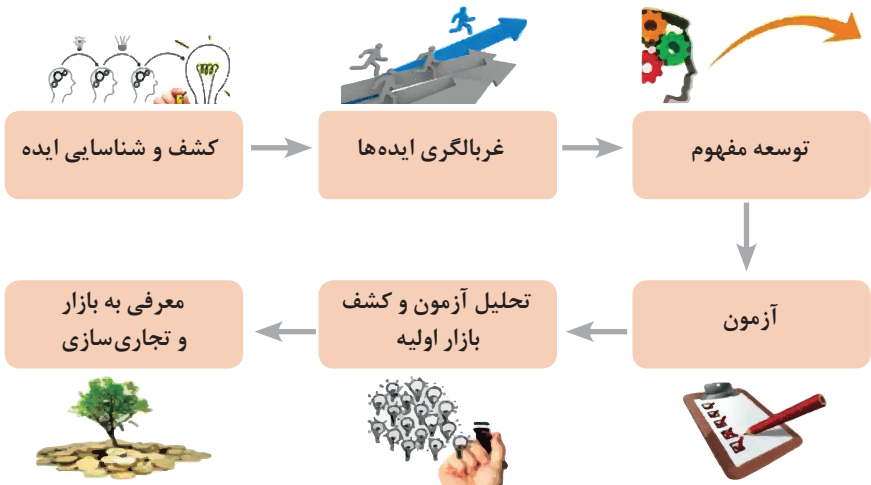
انواع مدیریت در تولید

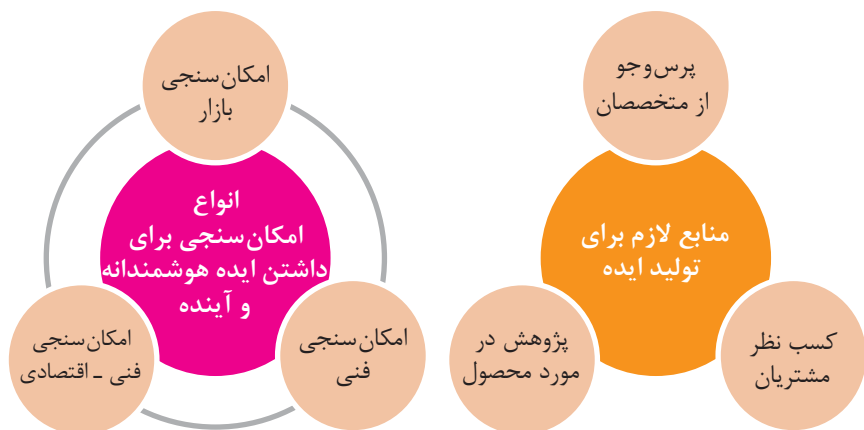


مدیریت زمان با ماتریس «فوری – مهم»



مراحل توسعه محصول جدید





محصول

ترویج

عوامل مؤثر بر تقاضای بازار

قیمت

مکان عرضه

مفهوم کیفیت از دو دیدگاه

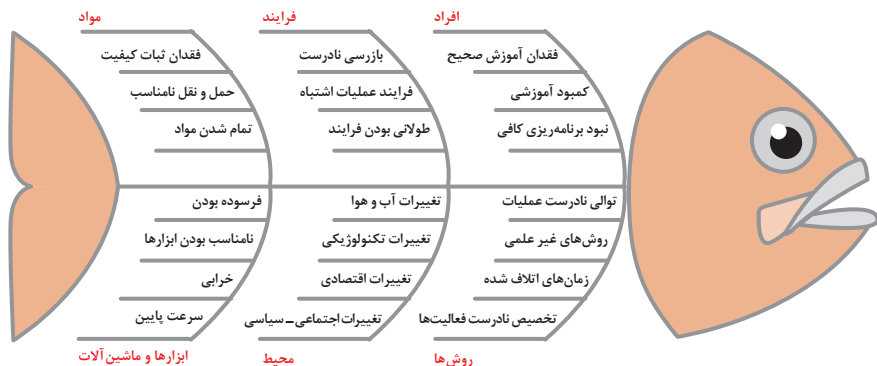
دیدگاه مشتری

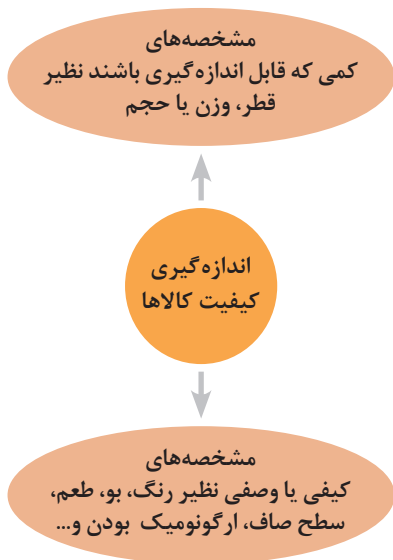
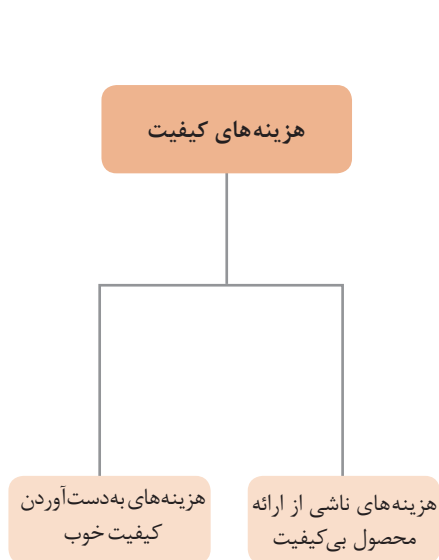
مشخصه‌های کیفیت کالا
مشخصه‌های کیفیت خدمات

دیدگاه تولیدکننده

کیفیت نوع طراحی فرایند تولید، سطح عملکرد
تجهیزات و فناوری ماشین‌آلات، آموزش و نظارت
کارکنان و روش‌های کنترل کیفی

ساختار کلی نمودار علت و معلول یا استخوان ماهی

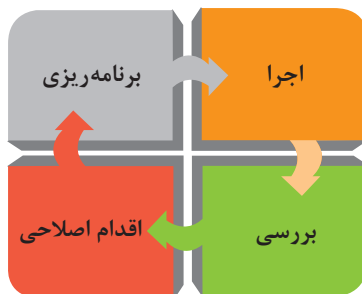


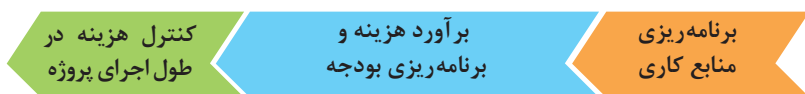
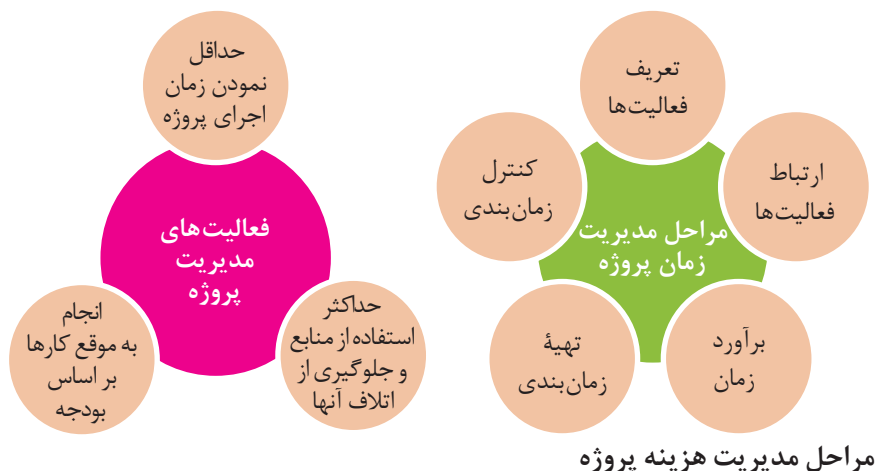


مراحل انجام فرایند مدیریت پروژه



چرخه انجام کار



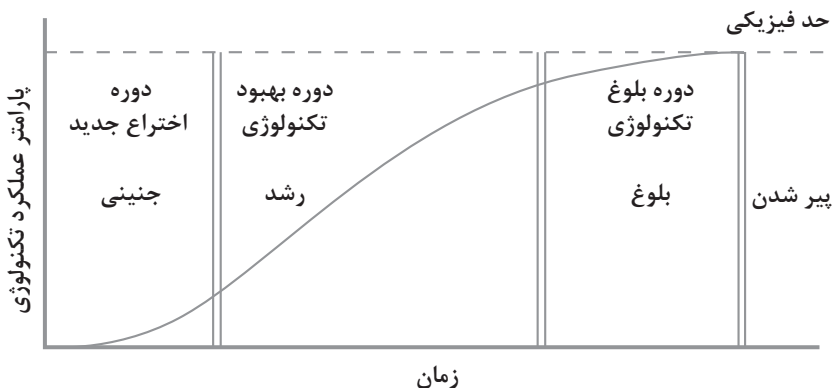


کاربرد فناوری های نوین

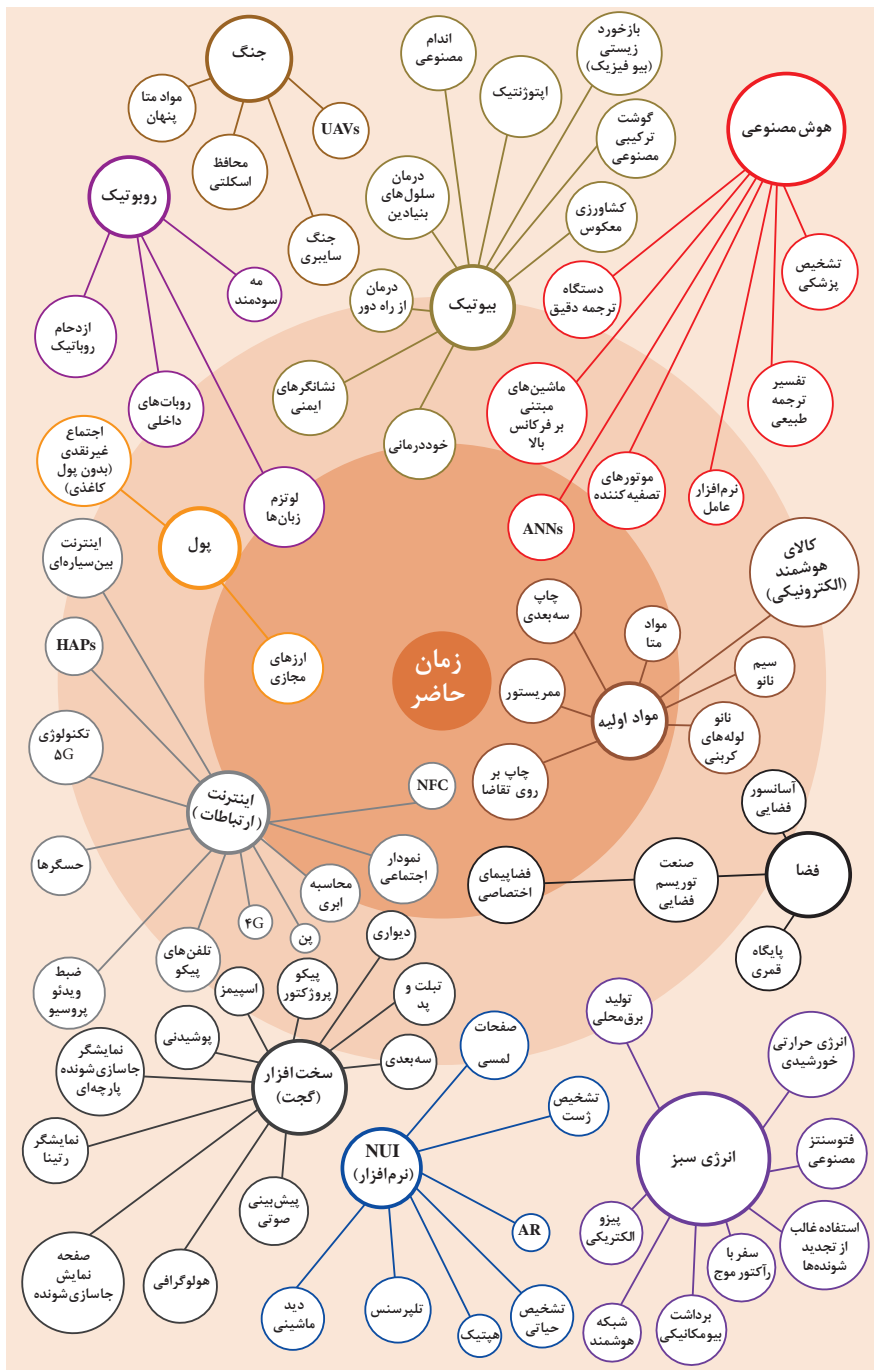
اولویت های علم و فناوری براساس سند جامع علمی کشور

- **اولویت های الف در فناوری:** فناوری هوافضا، فناوری ارتباطات و اطلاعات، فناوری هسته ای، فناوری نانو و میکرو، فناوری های نفت و گاز، فناوری زیستی، فناوری زیست محیطی، فناوری فرهنگی و نرم
- **اولویت های ب در فناوری:** لیزر، فوتونیک، زیست حسگرها، حسگرهای شیمیایی، مکترونیک، خودکارسازی و رباتیک، نیم رساناها، کشتی سازی، مواد نوترکیب، بسپارها (پلیمرها)، حفظ و ذخایر ژنی، اکتشاف و استخراج مواد معدنی، پیش بینی و مقابله با زلزله و سیل و پدافند غیرعامل
- **اولویت های ج در فناوری:** اپتوالکترونیک، کاتالیست ها، مهندسی پزشکی، آلیاژهای فلزی، مواد مغناطیسی، سازه های دریایی، حمل و نقل ریلی، ترافیک و شهرسازی، مصالح ساختمانی سبک و مقاوم، احیای مراتع و جنگل ها و بهره برداری از آنها، فناوری بومی

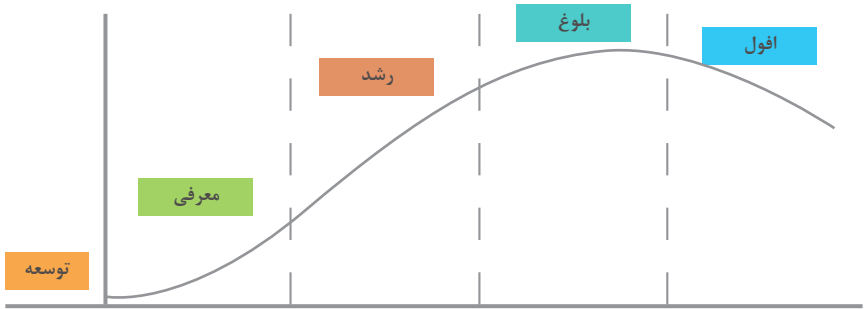
منحنی پیشرفت فناوری از شروع تا پایان



تجسمی از فناوری‌ها در آینده نزدیک



چرخه عمر محصول



توسعه	معرفی	رشد	بلوغ	افول
تحلیل اطلاعات مربوط به نیازهای مشتریان آتی محصول، ویژگی‌های موجود و...	تحلیل اطلاعات مورد نیاز برای تبلیغات و معرفی محصول، تفاوت با رقبا، ویژگی‌های جدید	تحلیل اطلاعات بازخورد‌های مشتریان، اثربخشی تبلیغات، پیشنهادهای تشویقی	تحلیل اطلاعات مشتریان برای نگه داشتن بیشتر محصول در رقابت، تبلیغات، بازاریابی، کشف بازارهای جدید	تحلیل اطلاعات در رابطه با رقبا، ویژگی‌های مورد انتظار برای اضافه شدن به محصول برای کاهش سرعت افول و...

سطوح مختلف کسب و کار در دنیای دیجیتال

سطح ۱	سطح ۲	سطح ۳	سطح ۴	سطح ۵
ارائه اطلاعات از طریق وبسایت و ارسال ایمیل	دریافت سفارش از طریق وبسایت	انجام خرید و فروش (سفارش و دریافت و پرداخت وجه) در وبسایت	پردازش خودکار سفارشات و انجام فعالیت‌های دیگر به صورت الکترونیکی	انجام فعالیت‌های کسب و کار به صورت الکترونیکی

ویژگی‌های کلان داده‌ها

اندازه

- وجود حجم انبوهی از داده‌های تولید شده و ذخیره شده

تنوع

- گوناگونی و تنوع زیاد داده‌های موجود

سرعت تولید

- سرعت تولید کلان داده‌ها بسیار بالاست

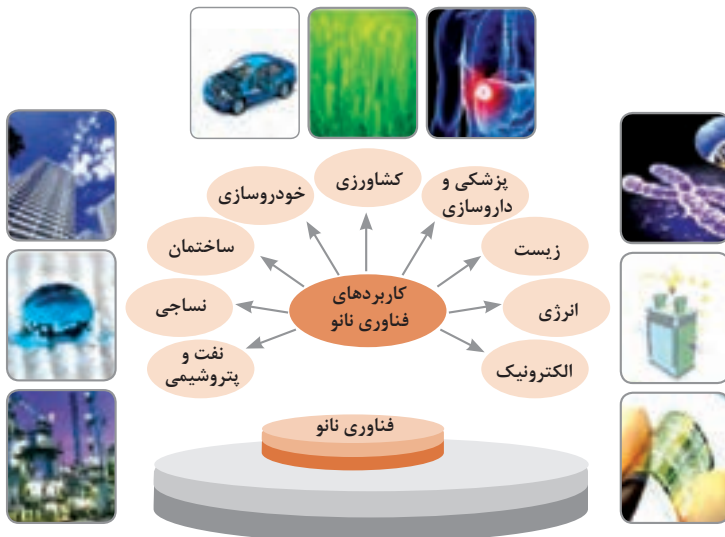
ناپایداری

- بسیاری از داده‌های کلان در لحظه ایجاد شده و از بین می‌روند که مشکلات ذخیره‌سازی را به همراه دارد

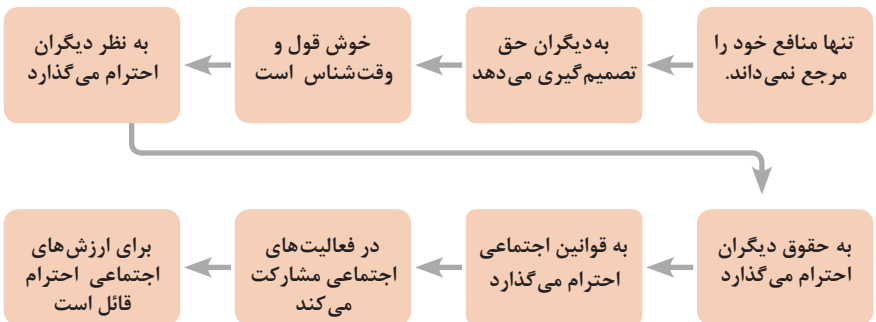
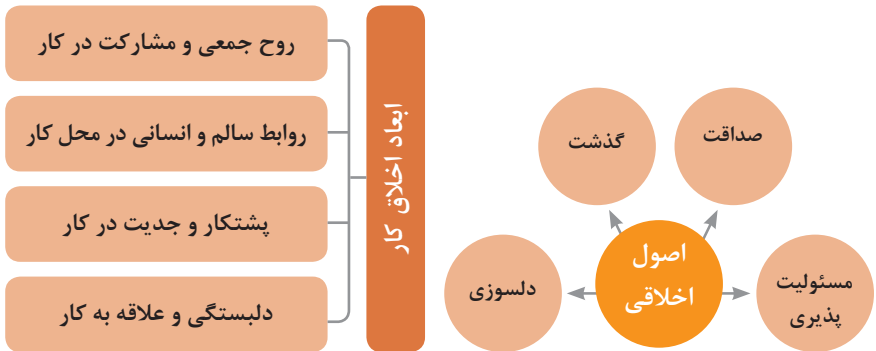
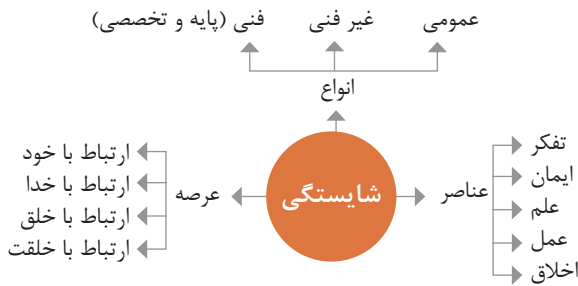
درستی

- کیفیت و کامل بودن کلان داده می‌تواند بر نوع تحلیل‌ها تأثیرگذار باشد

کاربرد فناوری نانو



در انجام کارها به صورت شایسته بایستی به خدا، خود، خلق و خلقت همزمان توجه داشت و در انجام آنها باید علم، عمل، ایمان، تفکر و اخلاق را همراه کرد.



ویژگی رفتار احترام آمیز

دلسوز و رحیم هستند

رویکرد حمایتی دارند

به احساسات دیگران توجه می کنند

مشکلات دیگران را مشکل خود می دانند

در مصائب و مشکلات دیگران شریک می شوند

ویژگی افرادی که در حرفه شان خیرخواه هستند

برخی از کلیدهای زندگی شغلی و حرفه ای

- ۱ عبادت ده جزء دارد که نه جزء آن در کسب حلال است.
- ۲ کسی که در راه کسب روزی حلال برای خانواده اش بکوشد، مجاهد در راه خداست.
- ۳ بهترین درآمدها سود حاصل از معامله نیکو و پاک است.
- ۴ پاکیزه ترین مالی که انسان صرف می کند، آن است که از دسترنج خودش باشد.
- ۵ امانت داری، بی نیازی می آورد و خیانت، فقر می آورد.
- ۶ بهره آور ساختن مال از ایمان است.
- ۷ هر کس میانه روی و قناعت پیشه کند نعمتش پایدار شود.
- ۸ در ترازوی عمل چیزی سنگین تر از خُلق نیکو نیست.
- ۹ اشتغال به حرفه ای همراه با عفت نفس، از ثروت همراه با ناپاکی بهتر است.
- ۱۰ کسی که می خواهد کسبش پاک باشد، در داد و ستد فریب ندهد.
- ۱۱ هر صنعتگری برای درآمد زایی نیازمند سه خصلت است: مهارت و تخصص در کار، ادای امانت در کار و علاقمندی به صاحب کار.
- ۱۲ هر کس ریخت و پاش و اسراف کند، خداوند او را فقیر کند.
- ۱۳ زمانی که قومی کم فروشی کنند، خداوند آنان را با قحطی و کمبود محصولات عذاب می کند.
- ۱۴ به راستی خدای متعال دوست دارد هر یک از شما هر گاه کاری می کند آن را محکم و استوار کند.
- ۱۵ تجارت در وطن مایه سعادت مندی مرد است.

در شغل و حرفه

به عنوان عضوی از نیروی کار ماهر کشور در پیشگاه خداوند متعال که دانای آشکار و نهان است؛
متعهد می شوم :

■ مسئولیت پذیری، درست کاری، امانت داری، گذشت، انصاف و بهره‌وری در تمام امور شغلی و حرفه‌ای را سرلوحه کارهای خود قرار دهم.

■ کار خود را با تفکر، ایمان، علم، عمل و اخلاق در عرصه‌های ارتباط با خود، خدا، خلق و خلقت به صورت شایسته انجام دهم.

■ در تعالی حرفه‌ای، یادگیری مداوم، مهارت افزایی و کسب شایستگی و ارتقای صلاحیت‌های حرفه‌ای خویش کوشا باشم.

■ مصالح افراد، مشتریان و جامعه را در انجام وظایف شغلی و حرفه‌ای بر منافع خود مقدم بدارم.

■ با همت بلند و پشتکار برای کسب روزی حلال و تولید ثروت از طریق آن تلاش نمایم.

■ از بطالت، بیکاری، اسراف، ربا، کم فروشی، گران فروشی و زیاده‌خواهی پرهیز کنم.

■ در انجام وظایف شغلی و حرفه‌ای، آنچه برای خود می‌پسندم، برای دیگران هم بپسندم و آنچه برای خود نمی‌پسندم برای دیگران نیز نپسندم.

■ از کار، تولید، کالا، سرمایه و خدمات کشور خود در انجام وظایف شغلی و حرفه‌ای حمایت کنم.

■ برای مخلوقات هستی، محیط زیست و منابع طبیعی کشورم ارزش قائل شوم و در حفظ آن بکوشم.

■ از حیا و عفت، آراستگی ظاهری و پوشیدن لباس مناسب برخوردار باشم.

■ همواره در حفظ و ارتقاء سلامت و بهداشت خود و دیگران در محیط کار تلاش نمایم.

■ در انجام وظایف شغلی و حرفه‌ای در تمامی سطوح، حقوق مالکیت معنوی و مادی اشخاص، شرکت‌ها و بنگاه‌های تولیدی و خدماتی را رعایت کرده و بر اساس قانون عمل نمایم.

و از خداوند متعال می‌خواهم در پیمودن این راه بزرگ، بینش مرا افزون، اراده‌ام را راسخ و گام‌هایم را استوار گرداند.

جدول عناوین دروس شایستگی‌های مشترک و پودمان‌های آنها		
پایه	درس	پودمان‌ها
۱۰	آب، خاک، گیاه- گروه کشاورزی و غذا	خاک
		خواص شیمیایی و بهسازی خاک
		خواص آب
		منابع آب
		کشت و نگهداری گیاهان
۱۰	ارتباط مؤثر-گروه بهداشت و سلامت	اهمیت، اهداف و عناصر ارتباط
		ارتباط مؤثر با خود و مهارت‌های ارتباطی
		ارتباط مؤثر با خدا، خلقت و جامعه
		ارتباط مؤثر در کسب و کار
		اهمیت و کار کردن زبان بدن و فنون مذاکره
۱۰	ارتباط مؤثر-گروه خدمات	اهمیت، اهداف و عناصر ارتباط
		ارتباط مؤثر با خود و مهارت‌های ارتباطی
		ارتباط مؤثر با خدا، خلقت و جامعه
		ارتباط مؤثر در کسب و کار
		اهمیت و کار کردن زبان بدن و فنون مذاکره
۱۰	نقشه‌کشی فنی رایانه‌ای- گروه برق و رایانه	ترسیم با دست آزاد
		تجزیه و تحلیل نما و حجم
		ترسیم سه‌نما و حجم
		ترسیم با رایانه
		نقشه‌کشی رایانه‌ای
۱۰	نقشه‌کشی فنی رایانه‌ای- گروه مکانیک	نقشه‌خوانی
		ترسیم نقشه
		نقشه‌برداری از روی قطعه
		کنترل کیفیت نقشه
		ترسیم پروژه با رایانه
۱۰	نقشه‌کشی فنی رایانه‌ای- گروه مواد و فراوری	نقشه‌خوانی
		ترسیم نقشه
		نقشه‌برداری از روی قطعه
		کنترل کیفیت نقشه
		ترسیم پروژه با رایانه

جدول عناوین دروس شایستگی‌های مشترک و پودمان‌های آنها		
پایه	درس	پودمان‌ها
۱۰	نقشه‌کشی فنی رایانه‌ای- معماری و ساختمان	ترسیم فنی و هندسی
		نقشه‌های ساختمانی
		ترسیم‌های سه بعدی
		خروجی دوبعدی از فضای سه بعدی
		کنترل کیفیت نقشه و ارائه پروژه
۱۰	طراحی و زبان بصری- گروه هنر	خلق‌هنری، زبان بصری و هنر طراحی
		طراحی ابزار دیدن و خلق اثر هنری
		نقطه، خط و طراحی خطی
		سطح، شکل و حجم، به کارگیری اصول ترکیب‌بندی در خلق آثار هنری
		نور و سایه در هنرهای بصری، رنگ و کاربرد آن در هنر

جدول عناوین دروس شایستگی‌های پایه و پودمان‌های آنها		
پایه	درس	پودمان‌ها
۱۰	ریاضی ۱	حل مسائل به کمک رابطه بین کمیت‌های متناسب
		کاربرد درصد در حل مسائل زندگی روزمره
		مدل‌سازی برخی وضعیت‌ها به کمک معادله درجه دوم
		تفسیر توان رسانی به توان عددهای گویا به کمک ریشه‌گیری
		مدل‌سازی و حل مسائل به کمک نسبت‌های مثلثاتی یک زاویه

جدول عناوین دروس شایستگی‌های پایه و پودمان‌های آنها		
پایه	درس	پودمان‌ها
۱۱	ریاضی ۲	به کارگیری تابع در مدل‌سازی و حل مسائل
		مدل‌سازی و حل مسائل مرتبط با معادله‌ها و نامعادله‌ها
		مدل‌سازی و حل مسائل به کمک نسبت‌های مثلثاتی زاویه دلخواه
		حل مسائل مرتبط با لگاریتم‌ها
		تحلیل وضعیت‌ها به کمک مفاهیم آماری

۱۲	ریاضی ۳	به کارگیری برخی تابع‌ها در زندگی روزمره
		تحلیل وضعیت‌ها به کمک مفهوم حد
		مقایسه حدهای یک طرفه و دو طرفه و پیوستگی تابع‌ها
		تحلیل وضعیت‌ها به کمک مفهوم مشتق
		به کارگیری مشتق در تعیین رفتار تابع‌ها
۱۰	فیزیک	به کارگیری مفاهیم، کمیت‌ها و ابزار اندازه‌گیری
		تحلیل انواع حرکت و کاربرد قوانین نیرو در زندگی روزمره
		مقایسه حالت‌های ماده و محاسبه فشار در شاره‌ها
		تحلیل تغییرات دما و محاسبه گرمای مبادله شده
		تحلیل جریان الکتریکی و محاسبه مقاومت الکتریکی در مدارهای الکتریکی
۱۱	شیمی	به کارگیری مفاهیم پایه شیمی در زندگی
		تحلیل فرایندهای شیمیایی
		مقایسه محلول‌ها و کلوییدها
		به کارگیری مفاهیم الکتروشیمی در زندگی
		به کارگیری ترکیب‌های کربن دار در زندگی
جدول عناوین دروس شایستگی‌های پایه و پودمان‌های آنها		
پایه	درس	پودمان‌ها
۱۰	زیست‌شناسی	تجزیه و تحلیل انواع ترکیبات شیمیایی موجودات زنده
		بررسی ساختار ویروس‌ها، باکتری‌ها، آغازیان و قارچ‌ها
		معرفی و چگونگی رده‌بندی جانوران
		معرفی و چگونگی رده‌بندی گیاهان
		تعیین عوامل مؤثر بر بهبود کیفیت محیط زیست

جدول عناوین دروس شایستگی‌های غیر فنی و پودمان‌های آنها		
پایه	درس	پودمان‌ها
۱۰	الزامات محیط کار	تحلیل محیط کار و برقراری ارتباطات انسانی
		تحلیل عملکرد فناوری در محیط کار
		به کارگیری قوانین در محیط کار
		به کارگیری ایمنی و بهداشت در محیط کار
		مهارت کارایی
۱۱	کاربرد فناوری های نوین	به کارگیری سواد فناورانه
		تحلیل فناوری اطلاعات و ارتباطات
		تجزیه و تحلیل فناوری های همگرا و به کارگیری مواد نو ترکیب
		به کارگیری انرژی های تجدید پذیر
		تجزیه و تحلیل فرایند ایده تا محصول
۱۱	مدیریت تولید	تولید و مدیریت تولید
		مدیریت منابع تولید
		توسعه محصول جدید
		مدیریت کیفیت
		مدیریت پروژه
۱۱	کارگاه نوآوری و کارآفرینی	حل خلاقانه مسائل
		نوآوری و تجاری سازی محصول
		طراحی کسب و کار
		بازاریابی و فروش
		ایجاد کسب و کار نوآورانه
۱۲	اخلاقی حرفه‌ای	امانت داری
		مسئولیت پذیری
		درستکاری
		رعایت انصاف
		بهره‌وری

