

بِسْمِ اللَّهِ الرَّحْمَنِ الرَّحِيمِ

اللَّهُمَّ صَلِّ عَلَى مُحَمَّدٍ وَآلِ مُحَمَّدٍ وَعَجِّلْ فَرَجَهُمْ



# دانش فنی پایه

رشته الکتروتکنیک


گروه برق و رایانه

شاخه فنی و حرفه‌ای

پایه دهم دوره دوم متوسطه







ما باید زحمت بکشیم تا در همهٔ جناح‌ها خودکفا باشیم. امکان ندارد که استقلال به دست بیاید، قبل از اینکه استقلال اقتصادی داشته باشیم. اگر ما بنا باشد که در اقتصاد احتیاج داشته باشیم، در چیزهای دیگر هم وابسته خواهیم شد و همین‌طور اگر در فرهنگ، ما وابستگی داشته باشیم، در اساس مسائل وابستگی پیدا می‌کنیم.

امام خمینی (قَدَّسَ سِرُّهُ)

۱	پودمان اول: تولید انرژی الکتریکی
۲	کلیات .....
۷	■ واحد یادگیری ۱: تولید انرژی الکتریکی .....
۲۱	■ واحد یادگیری ۲: الکتریسیته .....
۳۶	■ واحد یادگیری ۳: آثار جریان الکتریکی .....
۴۲	■ ارزشیابی شایستگی پودمان اول .....

۴۳	پودمان دوم: کار و توان الکتریکی
۴۴	■ واحد یادگیری ۴: مقاومت الکتریکی .....
۵۶	■ واحد یادگیری ۵: کار و توان الکتریکی .....
۶۲	■ ارزشیابی شایستگی پودمان دوم .....

۶۳	پودمان سوم: اتصالات سری و موازی الکتریکی
۶۴	■ واحد یادگیری ۶: اتصال مقاومت های اهمی .....
۹۳	■ واحد یادگیری ۷: باتری .....
۱۰۴	■ ارزشیابی شایستگی پودمان سوم .....

**پودمان چهارم: مدارهای جریان متناوب** ۱۰۵

- واحد یادگیری ۸: جریان متناوب ..... ۱۰۶
- واحد یادگیری ۹: الکترومغناطیس ..... ۱۲۳
- واحد یادگیری ۱۰: خازن ..... ۱۶۱
- ارزشیابی شایستگی پودمان چهارم ..... ۱۷۸

**پودمان پنجم: اندازه‌گیری کمیت‌های الکتریکی** ۱۷۹

- واحد یادگیری ۱۱: توان در جریان متناوب ..... ۱۸۰
- واحد یادگیری ۱۲: اندازه‌گیری جریان، ولتاژ و مقاومت اهمی ..... ۱۸۷
- ارزشیابی شایستگی پودمان پنجم ..... ۱۹۸

**منابع و مآخذ** ۱۹۹

با توجه به آموزه‌های اسلامی، کار و اشتغال از ارزش تربیتی برخوردار است و انسان از طریق کار، نفس سرکش را رام کرده و شخصیت وجودی خویش را صیقل داده، هویت خویش را تثبیت کرده و زمینه ارتقای وجودی خویش را مهیا و امکان کسب روزی حلال و پاسخگویی به نیازهای جامعه را فراهم می‌آورد. آموزش فناوری، کار و مهارت‌آموزی، باعث پیشرفت فردی، افزایش بهره‌وری، مشارکت در زندگی اجتماعی و اقتصادی، کاهش فقر، افزایش درآمد و توسعه‌یافتگی خواهد شد. برای رسیدن به این مهم، برنامه‌ریزی درسی حوزه دنیای کار و دنیای آموزش بر مبنای نیازسنجی شغلی صورت گرفته است. درس‌های رشته‌های تحصیلی شاخه فنی و حرفه‌ای شامل دروس آموزش عمومی، دروس شایستگی‌های غیرفنی و شایستگی‌های فنی مورد نیاز بازار کار است. دروس دانش فنی از دروس شایستگی‌های فنی است که برای هر رشته در دو مرحله طراحی شده است. درس دانش فنی پایه با هدف شناخت مفاهیم و کسب دانش فنی پایه در گروه و رشته تحصیلی است که هنرجویان در پایه دهم و در آغاز ورود به رشته تحصیلی خود می‌بایست آن را آموزش ببینند و شایستگی‌های لازم را در ارتباط با دروس عملی و ادامه تحصیل در رشته خود کسب نمایند. درس دانش فنی تخصصی که در پایه دوازدهم طراحی شده است، شایستگی‌هایی را شامل می‌شود که موجب ارتقای دانش تخصصی حرفه‌ای شده و زمینه را برای ادامه تحصیل و توسعه حرفه‌ای هنرجویان در مقطع کاردانی پیوسته نیز فراهم می‌کند.

کتاب دانش فنی پایه تئوری تفکیک شده دروس عملی کارگاه‌های ۸ ساعته نیست بلکه در راستای شایستگی‌ها و مشاغل تعریف شده برای هر رشته تدوین شده است. در ضمن، آموزش این کتاب نیاز به پیش‌نیاز خاصی ندارد و براساس آموزش‌های قبلی تا پایه نهم به تحریر درآمده است. لازم به یادآوری است که محتوای آموزشی کتاب دانش فنی پایه، آموزش‌های کارگاهی را عمق می‌بخشد و نیازهای هنرجویان را در راستای محتوای دانش نظری تأمین می‌کند.

تدریس کتاب در کلاس درس به صورت تعاملی و با محوریت هنرآموز و هنرجوی فعال صورت می‌گیرد.

دفتر تألیف کتاب‌های درسی فنی و حرفه‌ای و کاردانش

## سخنی با هنرجویان عزیز

درس دانش فنی پایه با هدف شناخت مفاهیم، کسب دانش فنی پایه در گروه صنعت و رشته تحصیلی الکتروتکنیک برای شما هنرجویان عزیز طراحی و کتاب آن تألیف شده است.

در تدوین درس دانش فنی پایه، موضوعاتی مانند تاریخچه رشته، محتوا جهت ایجاد انگیزش، مشاغل و هدف رشته تحصیلی، نقش رشته شما در توسعه کشور، مثال‌هایی از نوآوری، خلاقیت و الهام از طبیعت، اصول، مفاهیم، قوانین، نظریه، فناوری، علائم، تعاریف کمیت‌ها، واحدها و یکاها، فرمول‌های فنی، تعریف دستگاه‌ها و وسایل کار، مصادیقی از ارتباط مؤثر فنی و مستندسازی، زبان فنی، ایمنی و بهداشت فردی و جمعی، پیشگیری از حوادث احتمالی شغلی و نمونه‌هایی از مهارت حل مسئله در بستر گروه تحصیلی و برای رشته تحصیلی در نظر گرفته شده است.

می‌توانید در هنگام ارزشیابی این درس، از کتاب همراه هنرجوی خود استفاده نمایید.

توصیه می‌شود در یادگیری این درس به دلیل کاربرد زیاد آن در درس‌های دیگر رشته، کوشش لازم را داشته باشید.

دفتر تألیف کتاب‌های درسی فنی و حرفه‌ای و کاردانش







# تولید انرژی الکتریکی


در این فصل مطالب زیر را فراخواهید گرفت:

- ۱- نحوه تولید انرژی الکتریکی
- ۲- نیروگاه‌های جریان‌های متناوب و مستقیم
- ۳- انتقال، توزیع و مصرف‌کننده‌های انرژی الکتریکی
- ۴- برچسب انرژی
- ۵- الکتریسیته ساکن
- ۶- ساختمان اتم
- ۷- هادی، عایق و نیمه‌هادی
- ۸- قانون کولن
- ۹- میدان الکتریکی
- ۱۰- پتانسیل الکتریکی

**مقدمه:** هنرجویان عزیز، شغل مناسب براساس دانش، مهارت، تجربه، علاقه و خصوصیات و توان فردی در انجام یک وظیفه معین تعیین می‌شود. شما می‌توانید با یادگیری مفاهیم و عمق بخشی بیشتر به آنها به کمک این درس در زمینه شغلی خود به‌عنوان یک برق کار، مفید و مؤثر واقع شوید.



امروزه زمینه شغلی برق کاران نسبت به گذشته دارای دامنه وسیع تری است؛ به طوری که به دلیل تغییر نیاز بازار کار هوشمند سازی برق ساختمان (BMS)<sup>۱</sup> نصب و سیم کشی دستگاه های حفاظتی شامل دوربین های مدار بسته، ضد سرقت، اعلام حریق، برق اضطراری و سیستم آنتن مرکزی، سیستم تلفن، دستگاه های صوتی-آیفون صوتی و تصویری و در باز کن جزء وظایف برقکاران شده است.



اتوماسیون صنعتی (هوشمندسازی فعالیت کارخانجات و صنعت)

در سال های بعد به شایستگی های بیشتری در زمینه های حرفه ای و شغلی برق خواهید رسید. ارتقای این شایستگی ها، توانایی برق کاران را در فعالیتهای مرتبط با تجهیزات هوشمندسازی برق ساختمان افزایش خواهد داد و راه را برای ایجاد زمینه های شغلی و خوداشتغالی و کسب درآمد به منظور زندگی بهتر آنها هموارتر می کند.

در ادامه با تعدادی از حرفه ها و مشاغل مرتبط با رشته الکترونیک آشنا می شوید.

مشاغلی که در کشور در سطوح شغل و حرفه برق برای شما قابلیت دستیابی دارد.

گروه شغلی: برق کار عمومی، ساختمان و صنعتی

۳	۲	۱	ردیف
تعمیر کار و نصاب خطوط برق	برق کار امور صنعتی	برق کار امور ساختمانی	عنوان شغل
			تصویر مرتبط با شغل
انجام امور مربوط به تعمیر، نصب و نگهداری خطوط توزیع برق	نصب قطعات تابلوهای برق سه فاز (صنعتی، کشاورزی و تجاری)	انجام سیم کشی برق ساختمان مسکونی و نصب قطعات الکتریکی	شرح شغل
۶	۵	۴	ردیف
اپراتور نیروگاه برق	مریی آموزش حرفه ای متوسطه	تعمیر کار لوازم الکتریکی و الکترونیکی	عنوان شغل
			تصویر مرتبط با شغل
نگهداری، تست و گزارش عملکرد تأسیسات نیروگاهی یا اتاق کنترل	آموزش مهارت های برق کاری به هنرجویان و علاقه مندان	تعمیر لوازم گردنده و حرارتی برقی خانگی	شرح شغل
۹	۸	۷	ردیف
طراح برق و الکترونیک	تابلوساز و نصاب تابلوی برق	مسئول کنترل کیفیت	عنوان شغل
			تصویر مرتبط با شغل
طراح تأسیسات الکتریکی	نصاب قطعات و چیدمان داخل تابلوی برق	کنترل کیفی محصولات و خدمات الکتریکی	شرح شغل

۱۲	۱۱	۱۰	ردیف
مؤلف و نویسنده مرتبط	تحلیل‌گر سیستم	مدیر صنعت	عنوان شغل
			تصویر مرتبط با شغل
نویسندگان و مؤلفین کتب مرتبط با آموزش برق	مهندس تحلیل سیستم	مدیر پروژه‌های برقی	شرح شغل
۱۵	۱۴	۱۳	ردیف
نصب و تعمیرکار بالابر و نفربر	تعمیرکار لوازم خانگی	نصاب و سرویس‌کار سیستم‌های جریان ضعیف	عنوان شغل
			تصویر مرتبط با شغل
نصب و تعمیر بالابرهای تجاری	تعمیر و تعویض قطعات لوازم خانگی	نصاب سیستم‌های حفاظتی	شرح شغل

## تاریخچه برق در ایران


نخستین نیروگاه دولتی برق در سال ۱۲۶۴ شمسی یعنی ۶ سال پس از اینکه توماس الوا ادیسون نخستین لامپ برق را اختراع کرد، به دستور ناصرالدین شاه قاجار توسط محمد حسین امین‌الضرب به ایران وارد شد. این نیروگاه، برق کاخ گلستان را تأمین می‌کرد. در سال ۱۲۸۴ نخستین نیروگاه خصوصی برق شهری توسط مرحوم حاج حسین مهدوی (امین‌الضرب) به قدرت ۴۰۰ کیلووات از نوع حرارتی در شهر تهران نصب و راه‌اندازی شد. امین‌الضرب نخستین کسی بود که با دریافت یک امتیازنامه معتبر اقدام به احداث نیروگاه برق شهری در ایران کرد. این نیروگاه در ۲۴ ساعت فقط ۶ ساعت برق ۲۲۰ ولت تک فاز، و ۳۸۰ ولت سه فاز متناوب مشترکین آن زمان را تأمین می‌کرد. چنانچه از امتیازنامه حاج حسین امین‌الضرب بر می‌آید در این امتیازنامه برپایی کارخانه‌های برق، آجرسازی و نجاری یک جا به وی واگذار شده بود.



اولین نیروگاه بخاری (محل نگهداری موزه برق تهران)

همچنین از حدود سال ۱۳۰۳ بخش‌های خصوصی دیگری از جمله کارخانه‌های آرد، ریسندگی، نساجی و برخی شهرداری‌ها، در شهرهای مختلف ایران نسبت به راه‌اندازی نیروگاه‌های کوچک از نوع دیزل و حرارتی برای تأمین بخشی از برق روشنایی مناطق شهری اقدام کردند. در سال ۱۳۱۶ نخستین نیروگاه برق دولتی به قدرت ۶۴۰۰ کیلووات از نوع حرارتی، توسط بلدیة تهران (شهرداری) در شمال شرقی بیرون دروازه دوشان تپه (میدان شهدا) راه‌اندازی شد و بعدها نیروگاه‌های دیزلی و حرارتی به این نیروگاه اضافه شد. بعضی از این نیروگاه‌ها تا سال ۱۳۴۷ جهت تولید و عرضه نیروی برق مورد بهره‌برداری قرار می‌گرفت. با راه‌اندازی نیروگاه‌های آبی مربوط به سد امیرکبیر، سد دز، سد سفید رود، حرارتی آلستوم (نیروگاه طرشت) و فرح آباد (بعثت) در سال ۱۳۴۸ و در نتیجه تولید نیروی برق کافی، نیروگاه برق دوشان تپه از مدار خارج شد.

## الهام از طبیعت



فیبرهای نوری با سرعت بسیار زیاد می‌توانند داده‌ها را منتقل کرده و انسان را در زمینه ارتباطات جلو ببرند و اسفنج‌های دریایی یک الهام خوب برای ساخت فیبرهای نوری هستند. جنس یکی از اسفنج‌های دریایی از نوعی شیشه ساخته شده که فیبرهای آن بسیار باریک (در حد تار موی انسان) هستند اما اگر در کنار هم جمع شوند، ساختاری بسیار مستحکم می‌سازند.



واحد یادگیری ۱

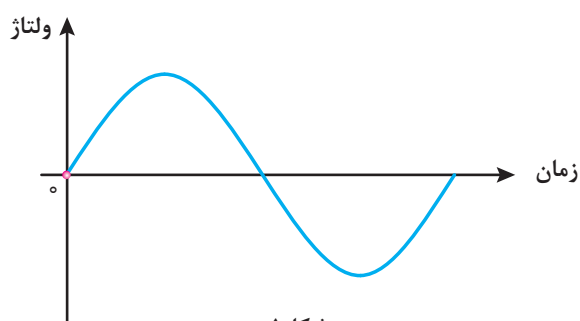
تولید انرژی الکتریکی



انرژی الکتریکی از تبدیل انرژی حاصل از سوخت‌های فسیلی (حرارت)، انرژی جنبشی باد، انرژی خورشیدی، انرژی پتانسیل گرانشی آب، انرژی حاصل از هوای فشرده (گاز) حاصل از جزر و مد آب دریا و سایر موارد به دست می‌آید. و برای این تبدیل انرژی از ژنراتور<sup>۱</sup> استفاده می‌شود. محل نصب ژنراتور و تجهیزات مربوط به آن را نیروگاه<sup>۲</sup> می‌نامند. نیروگاه‌های برق در دو نوع «جریان متناوب»<sup>۳</sup> و «جریان مستقیم»<sup>۴</sup> می‌باشند. جریان متناوب را به اختصار با حروف AC و جریان مستقیم را به اختصار با حروف DC نشان می‌دهند.

## نیروگاه‌های جریان متناوب

نیروگاه‌های جریان متناوب شامل نیروگاه‌های حرارتی، آبی، گازی، دیزلی و سایر موارد می‌باشند. شکل موج ولتاژ و جریان خروجی ژنراتور این نیروگاه‌ها به صورت سینوسی می‌باشد که به آن متناوب گویند (شکل ۱).



شکل ۱

### الف) نیروگاه حرارتی

نیروگاه حرارتی با انرژی حرارتی حاصل از سوخت‌های فسیلی یا سوخت‌های هسته‌ای، آب را به بخار تبدیل می‌کند توربین<sup>۵</sup> انرژی جنبشی بخار را به انرژی مکانیکی تبدیل می‌نماید. ژنراتور انرژی مکانیکی توربین را به انرژی الکتریکی تبدیل می‌کند. بازده نیروگاه‌های حرارتی به دلیل اتلاف انرژی حرارتی کمتر از ۳۰ درصد می‌باشد.



شکل ۲

۱- Generator

۲- Power plant

۳- Alternating Current (Ac)

۴- Direct Current (Dc)

۵-Turbine





شکل ۳- سد و نیروگاه آبی کارون ۳ استان خوزستان

زمان احداث نیروگاه آبی چندین سال طول می کشد و در سرزمین‌هایی قابل استفاده می‌باشد که امکان احداث سد فراهم باشد و احداث آن باعث تخریب و تغییر در شرایط محیط زیست نشود.

### ب) نیروگاه آبی

نیروگاه آبی، انرژی پتانسیل گرانشی حاصل از ذخیره سازی آب در پشت سد را توسط توربین به انرژی مکانیکی تبدیل می‌کند و ژنراتور انرژی مکانیکی توربین را به انرژی الکتریکی تبدیل می‌نماید (شکل ۳).

### پ) نیروگاه گازی

نیروگاه گازی انرژی جنبشی حاصل از هوای فشرده و گرم‌شده را توسط توربین به انرژی مکانیکی تبدیل می‌کند و ژنراتور انرژی مکانیکی توربین را به انرژی الکتریکی تبدیل می‌نماید.

زمان احداث نیروگاه‌های گازی در مقایسه با نیروگاه‌های آبی و حرارتی کمتر می‌باشد اما بازه آنها به دلیل اتلاف انرژی حرارتی کمتر از ۳۰ درصد می‌باشد (شکل ۴).



شکل ۴- نیروگاه گازی



شکل ۵- نیروگاه سیکل ترکیبی دماوند

### ت) نیروگاه سیکل ترکیبی

نیروگاه سیکل ترکیبی از دو نیروگاه حرارتی و گازی که در مجاورت یکدیگر احداث شده‌اند، تشکیل شده است به این ترتیب که از انرژی حرارتی تلف شده در نیروگاه گازی برای گرم کردن آب نیروگاه حرارتی استفاده می‌شود. بنابراین بازده و خروجی نیروگاه سیکل ترکیبی در مقایسه با نیروگاه حرارتی و گازی بیشتر خواهد بود (شکل ۵).



شکل ۶- نیروگاه بادی


### ث) نیروگاه بادی

نیروگاه بادی انرژی جنبشی حاصل از باد را توسط توربین به انرژی مکانیکی تبدیل می‌کند و ژنراتور انرژی مکانیکی را به انرژی الکتریکی تبدیل می‌نماید. نیروگاه بادی با توجه به شرایط اقلیمی، وزش باد در مدت زمان کمتر از یک سال قابل احداث و بهره برداری می‌باشد. رایگان بودن انرژی باد و عدم نیاز به انرژی فسیلی از مزایای مهم نیروگاه بادی می‌باشد (شکل ۶).

### ج) نیروگاه دیزلی

نیروگاه دیزلی انرژی حاصل از سوخت‌های فسیلی نظیر گازوئیل را توسط ماشین‌های درون‌سوز به انرژی مکانیکی تبدیل می‌کند و ژنراتور انرژی مکانیکی ماشین درون‌سوز را به انرژی الکتریکی تبدیل می‌نماید.

نیروگاه دیزلی به صورت نصب ثابت و سیار قابل استفاده می‌باشند (شکل ۷).



شکل ۷- دیزل ژنراتور

## نیروگاه‌های جریان مستقیم

یکی از نیروگاه‌های جریان مستقیم نیروگاه‌های خورشیدی است که شکل موج ولتاژ و جریان



شکل ۸- ولتاژ خروجی نیروگاه خورشیدی

خروجی ژنراتور این نیروگاه‌ها به صورت خط صاف است. یعنی با گذشت زمان مقدار ولتاژ یا جریان تغییر نمی‌کند و ثابت است (شکل ۸). روش‌های تولید انرژی الکتریکی با جریان مستقیم به شرح زیر است:

### الف) روش فوتوولتاییک

نور نوعی انرژی است که از ذرات حامل انرژی به نام فوتون به وجود می‌آید. هنگامی که فوتون‌های یک شعاع نوری با جسمی برخورد می‌کنند، انرژی خود را از دست می‌دهند. در بعضی اجسام، انرژی فوتون‌ها باعث آزادی الکترون‌ها می‌شود. انرژی نورانی تابیده شده به یکی از دو صفحه متصل به هم، باعث تخلیه الکترون از یکی به دیگری می‌شود. در نتیجه، مانند باتری در دو صفحه بارهای مخالف ایجاد می‌شود (شکل ۹). به این اثر فوتوولتاییک می‌گویند.

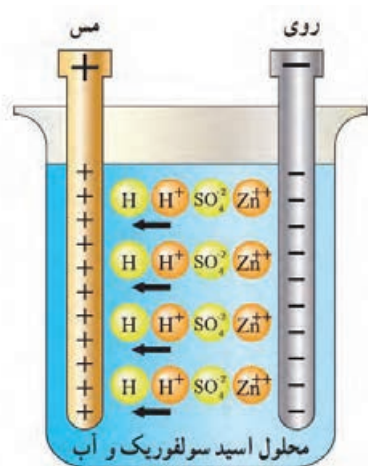


شکل ۹- فوتوولتاییک



شکل ۱۰- کاربرد متفاوت انرژی الکتریکی تولید شده توسط نور خورشید

## ب) روش شیمیایی



شکل ۱۱- الکتروشیمیایی

مواد شیمیایی با فلزات مخصوصی ترکیب می‌شوند و واکنش‌های شیمیایی را ایجاد می‌کنند که باعث انتقال الکترون‌ها و تولید بارهای الکتریکی می‌گردد. باتری معمولی از این راه الکتریسیته تولید می‌کند. این پدیده بر قوانین الکتروشیمی مبتنی است. برای مثال، می‌توان باتری تر را نام برد. اسید سولفوریک هنگامی که در یک ظرف شیشه‌ای با آب (به عنوان الکتrolیت) مخلوط می‌شود، به دو ماده شیمیایی هیدروژن (H) و سولفات (SO<sub>4</sub>) تجزیه می‌گردد. به علت طبیعت ترکیبات شیمیایی اتم‌های هیدروژن یون‌های مثبت (H<sup>+</sup>) و اتم‌های سولفات یون‌های منفی (SO<sub>4</sub><sup>-2</sup>) دارند. تعداد بارهای مثبت و منفی مساوی‌اند و در

نتیجه، کل محلول از نظر بار الکتریکی خنثی است. پس از آن، هنگامی که میله‌های مسی یا

روی را به داخل محلول وارد می‌کنیم، با محلول ترکیب می‌شوند (شکل ۱۱).

فلز روی با یون‌های سولفات ترکیب می‌شود. چون این اتم‌ها منفی‌اند، یون‌های مثبت (Zn<sup>++</sup>) از میله فلزی روی خارج می‌شوند. در اثر خارج شدن یون‌های مثبت از میله روی، میله دارای الکترون‌های اضافی می‌شود. پس به طور منفی باردار می‌گردد. یون‌های روی با یون‌های سولفات ترکیب می‌شوند، آنها را خنثی می‌کنند. در این حالت، محلول از نظر بارهای مثبت غنی‌تر است. یون‌های مثبت هیدروژن الکترون‌های آزاد میله مسی را جذب و محلول را دوباره خنثی می‌کنند ولی در این حالت، میله مسی کمبود الکترون خواهد داشت. در نتیجه، به طور مثبت باردار خواهد شد.

## پ) روش پیزوالکتریک

هنگامی که به بعضی اجسام فشار وارد می‌کنیم، الکترون‌های آنها در جهت نیرو از مدار خارج می‌شوند. در نتیجه، الکترون‌ها یک طرف جسم را ترک می‌کنند و در طرف دیگر آن جمع می‌شوند. بنابراین، در دو جهت مخالف جسم بارهای مثبت و منفی به وجود می‌آیند (شکل ۱۲).

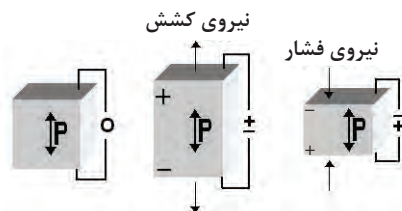
به اثر فشار برای تولید الکتریسیته، اثر پیزوالکتریک، می‌گویند. پیزو یک کلمه یونانی به معنای فشار است. این اثر بیشتر در مورد کریستال‌ها و بعضی سرامیک‌های مخصوص خود را نشان می‌دهد. کریستال‌های پیزوالکتریک در بعضی میکروفون‌ها مورد استفاده قرار می‌گیرند.



شکل ۱۲ (ج) - کاربرد پیزوالکتریک در فندک



شکل ۱۲ (ب) - کاربرد کریستال در میکروفون



شکل ۱۲ (الف) - فشار و کشش روی کریستال

### ت) روش ترموالکتریک

بعضی از اجسام الکترون از دست می‌دهند و بعضی دیگر الکترون جذب می‌کنند. در نتیجه بین دو جسم غیرمشابه هنگام اتصال، انتقال الکترون صورت می‌گیرد. فلزات فعال در درجه حرارت معمولی اتاق نیز می‌توانند الکترون آزاد کنند.

بارهایی که در درجه حرارت اتاق تولید می‌شوند، کم هستند؛ ولی اگر محل اتصال دو فلز (مثلاً روی و مس) را حرارت دهیم، انرژی بیشتری آزاد می‌گردد. به روش تولید الکتریسیته به وسیله حرارت ترموالکتریک گفته می‌شود. هرچه حرارت داده شده بیشتر باشد، بار بیشتری تولید می‌شود. هنگامی که حرارت قطع شود، فلزها سرد می‌شوند و بارها از بین می‌روند. به اتصال این دو فلز ترموکوپل می‌گویند (شکل ۱۳). هنگامی که چندین ترموکوپل به یکدیگر متصل شوند، یک ترموپیل (باتری حرارتی) به وجود می‌آید. از ترموکوپل برای اندازه‌گیری درجه حرارت در کوره‌ها استفاده می‌شود (شکل ۱۴).



شکل ۱۳



شکل ۱۴ - دو نمونه ترموکوپل

## معرفی پایگاه اینترنتی:

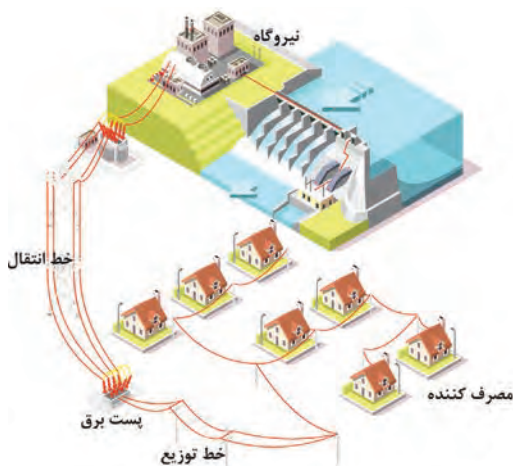
در پایگاه اینترنتی سازمان انرژی‌های نو ایران، «سانا» <http://www.suna.org.ir> می‌توانید مطالعات بیشتری در مورد انرژی‌های تجدیدپذیر در تولید برق و منابع این انرژی‌ها در کشورمان ایران، داشته باشید (شکل ۱۵).



شکل ۱۵- پایگاه اینترنتی سانا

## انتقال انرژی الکتریکی

انتقال انرژی الکتریکی از محل تولید در نیروگاه‌های برق توسط «شبکه‌های انتقال نیرو» به سمت مصرف‌کننده انجام می‌شود.



شکل ۱۶- تولید، انتقال و توزیع انرژی الکتریکی



شکل ۱۷- پست انتقال برق

بخشی از انرژی الکتریکی به هنگام انتقال به حرارت تبدیل می‌شود که آن را «تلفات انرژی در شبکه انتقال نیرو» می‌گویند. به منظور کاهش تلفات انرژی ولتاژ شبکه‌های انتقال نیرو توسط «پست افزایشدهنده» زیاد می‌شود و در انتهای شبکه انتقال نیرو توسط «پست کاهشدهنده» کاهش می‌یابد. برای کاهش یا افزایش ولتاژ از ترانسفورمر استفاده می‌شود. در واقع ترانسفورمر یک مبدل ولتاژ است.

## توزیع انرژی الکتریکی



شکل ۱۸- پست توزیع

توزیع انرژی الکتریکی توسط «شبکه‌های توزیع» بین مصرف‌کننده‌ها انجام می‌شود. شبکه توزیع، انرژی الکتریکی را از شبکه انتقال نیرو دریافت می‌کند و پس از آن با ولتاژ مناسب بین مصرف‌کننده‌ها توزیع می‌نماید. تغییر ولتاژ توسط «پست توزیع» در شبکه‌های توزیع انجام می‌شود (شکل ۱۸).

## مصرف‌کننده‌های انرژی الکتریکی

مصرف‌کننده‌های انرژی الکتریکی در انتهای مسیر تولید، انتقال و توزیع انرژی الکتریکی قرار دارند. مصرف‌کننده‌های انرژی الکتریکی عبارت‌اند از:

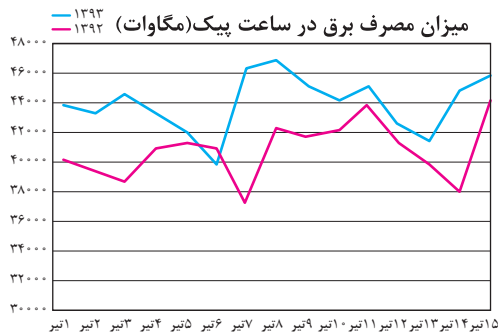
- بخش مصارف خانگی
  - بخش مصارف صنعتی و تجاری
  - بخش مصارف کشاورزی
  - بخش مصارف عمومی شامل مراکز فرهنگی، هنری و تفریحی
- انرژی الکتریکی در این بخش‌ها در تجهیزات زیر مصرف می‌شود:
- موتورهای الکتریکی مثل یخچال‌ها، کولرها، پمپ‌های صنعتی و آب
  - روشنایی مثل لامپ LED، لامپ CFL و فلورسنت
  - گرمازا مثل سماور برقی، پلوپز برقی و المنت‌ها و نظایر آن

### زمان اوج مصرف انرژی الکتریکی



به ساعاتی که مصرف انرژی الکتریکی در کل کشور زیاد باشد، ساعت اوج<sup>۱</sup> مصرف انرژی الکتریکی گفته می‌شود. اوج مصرف روزانه شبکه سراسری انرژی الکتریکی به زمان غروب آفتاب، تاریک شدن هوا و وسایل مصرف‌کننده‌های روشنایی بستگی دارد. در این زمان در بخش تجاری و خانگی مصرف‌کننده دیگری نظیر یخچال و فریزر و تلویزیون هم‌زمان با مصرف‌کننده‌های روشنایی مورد استفاده قرار می‌گیرند. ساعات اوج مصرف روزانه انرژی الکتریکی در کشور ما در تابستان بین ساعات ۱۹ تا ۲۳ و در زمستان بین ساعات ۱۸ تا ۲۲ است. همچنین در بعضی

۱- Peak



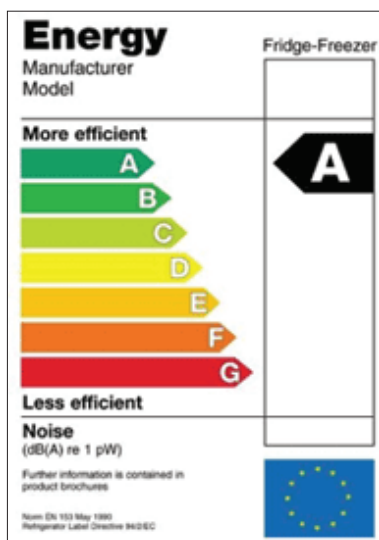
شکل ۱۹- اوج مصرف برق در تیرماه

از فصل‌های سال (تابستان) مصرف انرژی الکتریکی نسبت به سایر فصول سال به دلیل اضافه شدن وسایل سرمایشی نظیر کولر و .. بیشتر است که به آن اوج مصرف فصلی می‌گویند. در شکل ۱۹ پیک مصرف برق کشور (برحسب مگاوات) در تیرماه سال‌های ۱۳۹۲ و ۱۳۹۳ نشان داده شده است.



### آشنایی با برچسب انرژی

مختلفی تشکیل شده است که هر قسمت نمایانگر اطلاعاتی است (شکل ۲۰).



شکل ۲۰- برچسب انرژی بازده انرژی A

مردم به دنبال تهیه وسایل برقی با کمترین مصرف انرژی الکتریکی جهت استفاده در زندگی روزمره خود هستند. در عصر تکنولوژی، تنوع بسیاری در نوع و کیفیت محصولات برقی در بازار وجود دارد. انتخاب وسایل برقی و میزان مصرف انرژی برای مصرف‌کنندگان دارای اهمیت و ضرورت بسیاری است. ایجاد اطمینان از کیفیت محصول از طریق آزمایش لوازم برقی و تعیین رتبه کارایی آنها در آزمایشگاه ملی صرفه‌جویی انرژی انجام می‌شود و برچسب انرژی برای آنها تهیه خواهد شد.


برچسب انرژی امروزه در اغلب کشورهای جهان وجود دارد و مصرف‌کنندگان را با میزان مصرف انرژی هریک از وسایل خانگی آشنا می‌کند. همچنین اطلاعات مشترک در همه وسایل، اطلاعات اختصاصی مرتبط به هر وسیله انرژی‌بر را در اختیار مصرف‌کنندگان قرار می‌دهد. مصرف‌کننده می‌تواند با توجه به این اطلاعات در هنگام خرید، دستگاهی را انتخاب کند که در مقایسه با سایر مدل‌های مشابه دارای مصرف انرژی کمتر و بازدهی بیشتری باشد. برچسب انرژی از قسمت‌های

### بخش‌های مختلف برچسب انرژی

سه بخش اولیه برچسب که در تمامی وسایل انرژی‌بر خانگی مشترک است به ترتیب نمایانگر علامت تجاری، نام کارخانه سازنده و مدل دستگاه می‌باشد. بخش چهارم برچسب انرژی به وسیله هفت حرف لاتین از A تا G




در هفت طیف رنگی درجه‌بندی شده است که هر یک از حروف و یا رنگ‌ها معرف درجه‌ای از مصرف انرژی و کارایی دستگاه می‌باشد. حرف A نشانگر کمترین مصرف انرژی و بیشترین بازدهی دستگاه و حرف G نشانگر بیشترین مصرف انرژی و کمترین بازدهی دستگاه است. بنابراین هرچه رتبه برچسب دستگاه بیشتر باشد کارایی آن نسبت به میزان انرژی که مصرف می‌کند بیشتر است. بخش پنجم، نمایانگر مصرف انرژی دستگاه و سایر بخش‌ها بیانگر اطلاعات اختصاصی در مورد هریک از وسایل است. به طور مثال این بخش در ماشین لباسشویی نشانگر میزان قدرت پاک‌کنندگی، قدرت خشک‌کن، ظرفیت و میزان مصرف آب و در یخچال نیز نشانگر حجم قسمت یخچال و فریزر دستگاه می‌باشد و آخرین بخش برچسب انرژی در تمامی وسایل علامت مؤسسه استاندارد را نشان می‌دهد. استفاده از برچسب انرژی مزایای گوناگونی برای مصرف‌کنندگان این گونه وسایل دارد.

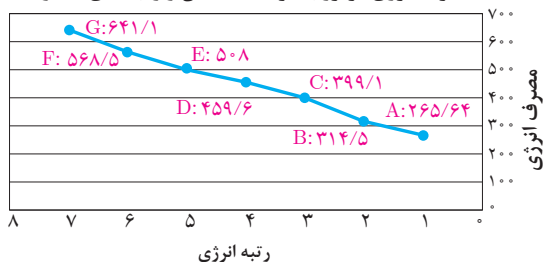


- ۱- انتخاب درست و آگاهانه مردم در هنگام خرید وسایل برقی خانگی
  - ۲- آشنا ساختن مصرف‌کنندگان یا میزان کارایی و بازدهی وسایل برقی خانگی
  - ۳- بهینه‌سازی و کاهش مصرف انرژی
  - ۴- کاهش هزینه انرژی مصرفی در خانواده‌ها
  - ۵- کاهش آلودگی محیط‌زیست
  - ۶- ارائه اطلاعات اختصاصی ویژه هر وسیله برقی
- با توجه به اهمیت و ارزش انرژی، از سال ۲۰۱۰ میلادی درجه‌بندی برچسب انرژی از A به A+++ ارتقا داده شده است (شکل ۲۱).


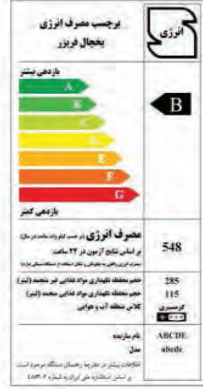
مصرف انرژی یخچال فریزر با ظرفیت یکسان و رتبه‌های متفاوت



مصرف انرژی فریزر با ظرفیت یکسان و رتبه‌های متفاوت



شکل ۲۱- مقایسه برچسب انرژی

برچسب انرژی جدید بر اساس دستورالعمل اروپا و استاندارد ملی		برچسب انرژی قدیمی اروپا و استاندارد ملی		متغیرها																												
$EEI = \frac{AEC}{SAEC} \times 100$ <p>AEC مصرف انرژی سالیانه وسیله برودتی SAEC مصرف انرژی سالیانه استاندارد وسیله برودتی</p>		<p>شاخص بازده انرژی I (درصد) = <math>\frac{\text{مصرف سالانه دستگاه}}{\text{مصرف انرژی استاندارد سالانه}}</math></p>		شاخص بازده																												
<table border="1"> <tr><td>A<sup>+++</sup></td><td>EEI &lt; 22</td><td>A</td><td>I &lt; 55</td></tr> <tr><td>A<sup>++</sup></td><td>22 ≤ EEI &lt; 33</td><td>B</td><td>55 ≤ I &lt; 75</td></tr> <tr><td>A<sup>+</sup></td><td>33 ≤ EEI &lt; 44</td><td>C</td><td>75 ≤ I &lt; 90</td></tr> <tr><td>A</td><td>44 ≤ EEI &lt; 55</td><td>D</td><td>90 ≤ I &lt; 100</td></tr> <tr><td>B</td><td>55 ≤ EEI &lt; 75</td><td>E</td><td>100 ≤ I &lt; 110</td></tr> <tr><td>C</td><td>75 ≤ EEI &lt; 90</td><td>F</td><td>110 ≤ I &lt; 125</td></tr> <tr><td>D</td><td>90 ≤ EEI &lt; 100</td><td>G</td><td>125 ≤ I &lt; 140</td></tr> </table>		A <sup>+++</sup>	EEI < 22	A	I < 55	A <sup>++</sup>	22 ≤ EEI < 33	B	55 ≤ I < 75	A <sup>+</sup>	33 ≤ EEI < 44	C	75 ≤ I < 90	A	44 ≤ EEI < 55	D	90 ≤ I < 100	B	55 ≤ EEI < 75	E	100 ≤ I < 110	C	75 ≤ EEI < 90	F	110 ≤ I < 125	D	90 ≤ EEI < 100	G	125 ≤ I < 140	<p>بازه‌های رتبه مصرف انرژی</p>		بازه‌های رتبه مصرف
A <sup>+++</sup>	EEI < 22	A	I < 55																													
A <sup>++</sup>	22 ≤ EEI < 33	B	55 ≤ I < 75																													
A <sup>+</sup>	33 ≤ EEI < 44	C	75 ≤ I < 90																													
A	44 ≤ EEI < 55	D	90 ≤ I < 100																													
B	55 ≤ EEI < 75	E	100 ≤ I < 110																													
C	75 ≤ EEI < 90	F	110 ≤ I < 125																													
D	90 ≤ EEI < 100	G	125 ≤ I < 140																													
																																

**معرفی پایگاه اینترنتی:**

در پایگاه اینترنتی سازمان بهره‌وری انرژی ایران، «سابا» <http://www.saba.org.ir> می‌توانید مطالعات بیشتری در مورد مصرف‌کننده‌های الکتریکی و لوازم خانگی برقی و برچسب انرژی داشته باشید.

تحقیق کنید

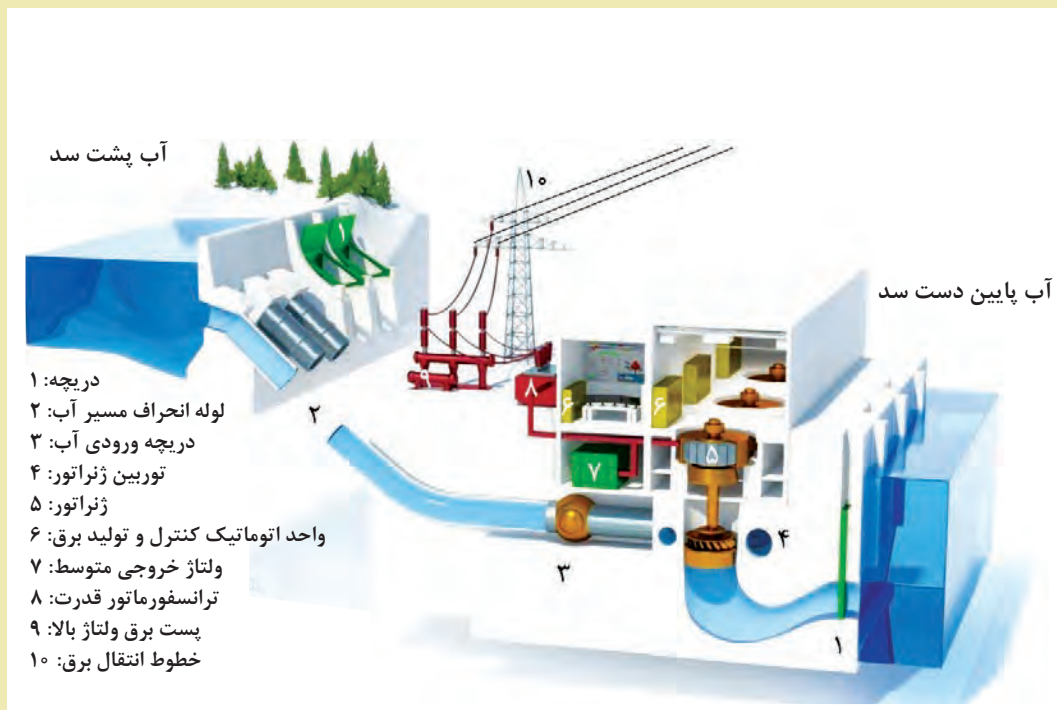




پایگاه اینترنتی سابا



- ۱- انواع نیروگاه‌های جریان متناوب را نام ببرید.
- ۲- نیروگاه حرارتی را تعریف کنید.
- ۳- وظیفه توربین و ژنراتور را تعریف کنید.
- ۴- انواع نیروگاه‌های جریان مستقیم را نام ببرید.
- ۵- چگونه از اتلاف انرژی الکتریکی هنگام انتقال آن جلوگیری می‌کنند؟
- ۶- برچسب انرژی چه اطلاعاتی در اختیار مصرف‌کنندگان می‌گذارد؟
- ۷- استفاده از برچسب انرژی روی وسایل برقی چه مزایایی برای مصرف‌کنندگان این وسایل دارد؟
- ۸- در شکل زیر عملکرد نیروگاه آبی را تشریح کنید.



سد و نیروگاه آبی



## واحد یادگیری ۲

### الکتریسیته



امروزه انرژی الکتریکی بیش از انواع دیگر انرژی مورد استفاده قرار می‌گیرد. بدون انرژی الکتریکی کاربرد وسایل روشنایی، تلویزیون، تلفن و اغلب وسایل خانگی غیرممکن است. به علاوه، در بیشتر وسایل نقلیه انرژی الکتریکی نقش مهمی بازی می‌کند. به این ترتیب، می‌توان گفت انرژی الکتریکی تقریباً در همه جا به کار می‌رود.

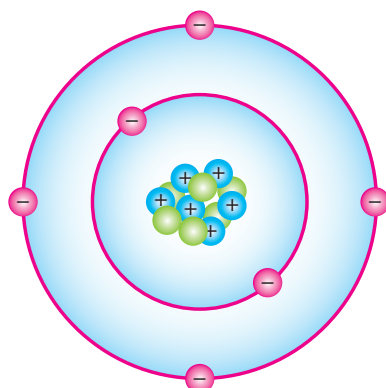
اگرچه الکتریسیته در قرون اخیر مورد استفاده قرار گرفته است ولی یونانی‌ها در حدود ۲۰۰۰ سال پیش آن را کشف کردند. آنها پی بردند که وقتی ماده‌ای به نام کهربا را به ماده دیگری مالش دهند، باردار می‌شود و می‌تواند اجسامی مانند برگ خشک و براده‌های چوب را جذب کند. یونانی‌ها این کهربا را الکترون نام نهادند که کلمه الکتریسیته نیز از آن گرفته شده است. در سال ۱۷۳۳ یک دانشجوی فرانسوی به نام شارل دوفه<sup>۱</sup> به این نکته پی برد که یک تکه شیشه باردار بعضی از اجسام باردار را جذب و اجسام باردار دیگر را دفع می‌کند (شکل ۲۲). بنابراین، او چنین نتیجه گرفت که دو نوع بار الکتریکی وجود دارد.



شکل ۲۲

در اواسط دهه ۱۷۰۰، بنجامین فرانکلین این دو نوع را بارهای الکتریکی مثبت و منفی نام گذاری کرد.

## ساختمان اتم



شکل ۲۳

- ⊖ الکترون
- ⊕ پروتون
- نوترون

اتم از دو بخش هسته و اطراف هسته تشکیل شده است. درون هسته ذرات پروتون و نوترون قرار دارند و الکترون‌ها بر روی مسیرهایی در اطراف هسته می‌گردند. پروتون‌ها دارای بار الکتریکی مثبت و الکترون‌ها دارای بار الکتریکی منفی می‌باشند و نوترون‌ها از نظر بار الکتریکی خنثی هستند. تعداد پروتون‌های داخل هسته را عدد اتمی می‌گویند. در حالت‌های عادی تعداد پروتون‌ها و الکترون‌های اتم مساوی هستند لذا اتم از نظر بار الکتریکی خنثی است (شکل ۲۳).

۱-Charles Dufay

بار الکتریکی هر پروتون برابر بار الکتریکی الکترون است و مقدار بار الکتریکی الکترون برابر با  $1.6 \times 10^{-19}$  کولن می باشد و به صورت زیر نوشته می شود:

$$e = 1.6 \times 10^{-19}$$

مقدار بار الکتریکی الکترون را «بار پایه» در نظر می گیرند. مضرب صحیحی از بار پایه را «بار الکتریکی» می نامند و آن را با  $q$  نشان می دهند و از رابطه زیر به دست می آید:

$$q = n.e$$

که در این رابطه:

$q$  بار الکتریکی بر حسب کولن (C)

$n$  تعداد الکترون

$e$  بار الکتریکی الکترون است.

**مثال:** عدد اتمی مس برابر ۲۹ می باشد. بار الکتریکی هسته آن چند کولن است؟ ( $e = 1.6 \times 10^{-19} \text{ C}$ )  
**حل:** از رابطه  $q = n.e$  می توان نوشت:

$$q = 29 \times 1.6 \times 10^{-19}$$

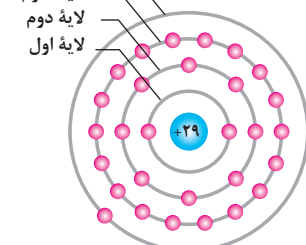
$$q = 46.4 \times 10^{-19}$$

$$q = 4.64 \times 10^{-18} \text{ (C)}$$

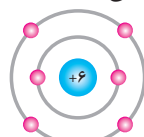
## لایه ها

لایه مسیری است که الکترون ها تحت تأثیر نیروی جاذبه پروتون ها به دور هسته می گردند. تعداد لایه های هر اتم متناسب با تعداد الکترون های آن می باشد. اتم های تمام عناصر می توانند تا هفت لایه داشته باشند.

در شکل ۲۴ لایه های عناصر مس، کربن و هیدروژن نشان داده شده است.



مس ۴ لایه دارد



کربن ۲ لایه دارد



هیدروژن ۱ لایه دارد

شکل ۲۴

## ظرفیت لایه

ظرفیت لایه نشان دهنده حداکثر الکترون های موجود در هر لایه می باشد. ظرفیت هر لایه از رابطه زیر به دست می آید:

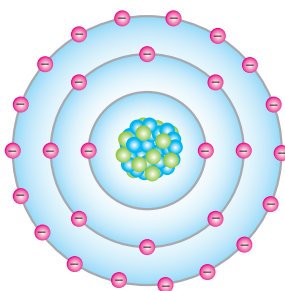
$$2n^2 = \text{ظرفیت هر لایه}$$

در این رابطه  $n$  شماره هر لایه می باشد. برای لایه های اول و دوم و سوم داریم:

$$2(1)^2 = 2 = \text{ظرفیت لایه اول}$$

$$2(2)^2 = 8 = \text{ظرفیت لایه دوم}$$

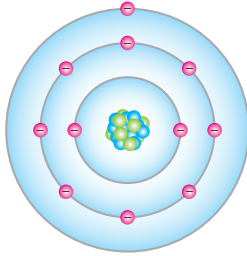
$$2(3)^2 = 18 = \text{ظرفیت لایه سوم}$$



شکل ۲۵

ظرفیت دیگر لایه ها نیز قابل محاسبه می باشد.

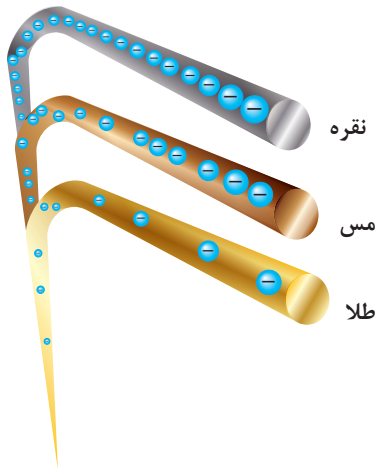
## لایه خارجی (طبقه والانس)



شکل ۲۶

لایه خارجی آخرین لایه هر اتم است و آن را لایه والانس گویند. الکترون‌های لایه والانس را «الکترون والانس» می‌نامند (شکل ۲۶).

## هدایت الکتریکی



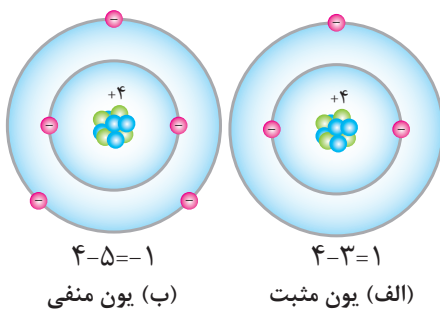
شکل ۲۷

هدایت الکتریکی عناصر به تعداد الکترون‌های لایه والانس بستگی دارد. هرچه تعداد الکترون‌های لایه والانس کمتر باشد هدایت الکتریکی بیشتر خواهد شد. هدایت الکتریکی در فلزات بیشتر از سایر عناصر می‌باشد. عناصری که اتم‌هایشان یک الکترون والانس دارند هدایت الکتریکی بهتری خواهند داشت؛ به طور مثال اتم‌های مس، نقره و طلا دارای یک الکترون در لایه والانس هستند. بهترین هادی الکتریکی نقره و پس از آن مس و طلا می‌باشد (شکل ۲۷). نقره در حجم معینی نسبت به مس دارای اتم‌های بیشتر است و به همین دلیل هدایت الکتریکی نقره بهتر از مس می‌باشد. اما به دلیل گرانی نقره نسبت به مس، سیم‌های برق را از مس می‌سازند البته به دلیل مشابه امروزه آلومینیوم در برخی موارد جایگزین مس شده است.

## نیمه هادی

عناصری که در لایه والانس چهار الکترون دارند «نیمه‌هادی» نامیده می‌شوند. عناصری نظیر ژرمانیوم و سیلیسیم در لایه والانس خود چهار الکترون دارند و جزو نیمه‌هادی‌های معروف هستند.

## یون



شکل ۲۸

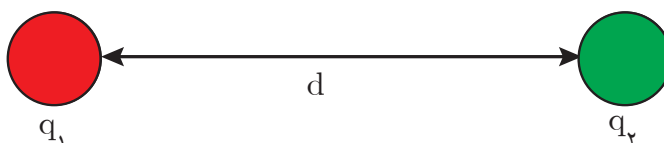
اتم دارای بار الکتریکی را «یون» گویند. اگر تعداد الکترون‌های اتم بیش از پروتون‌های آن باشد اتم را «یون منفی» گویند. شکل (۲۸-ب) و اگر تعداد الکترون‌های اتم کمتر از پروتون‌های آن باشد، اتم را «یون مثبت» گویند (شکل ۲۸-الف).



## قانون کولن

قانون کولن نیروی میان بارهای الکتریکی را بیان می‌کند. بنا به تعریف نیروی کولنی بین دو بار الکتریکی با حاصل ضرب مقدار دو بار الکتریکی رابطه مستقیم و با مجذور فاصله میان دو بار نسبت عکس دارد و از رابطه زیر به دست می‌آید.

$$F = K \frac{q_1 q_2}{d^2}$$



در این رابطه:

$F$  نیروی کولنی میان دو بار الکتریکی بر حسب نیوتن (N)

$q_1$  بار الکتریکی اول بر حسب کولن (C)

$q_2$  بار الکتریکی دوم بر حسب کولن (C)

$d$  فاصله میان دو بار بر حسب متر (m) است.

$$K = 9 \times 10^9 \text{ (ضریب ثابت } \frac{\text{Nm}^2}{\text{C}^2}\text{)}$$

نیروی کولنی میان بارهای همنام دافعه و میان بارهای ناهمنام جاذبه می‌باشد.

**مثال:** دو بار الکتریکی  $3\mu\text{C}$  و  $4\mu\text{C}$  در فاصله  $30\text{cm}$  از یکدیگر قرار دارند. نیروی کولنی بین آنها چه نوع و چه مقدار است؟

**حل:** طبق رابطه  $F = K \frac{q_1 q_2}{d^2}$  می‌توان نوشت:

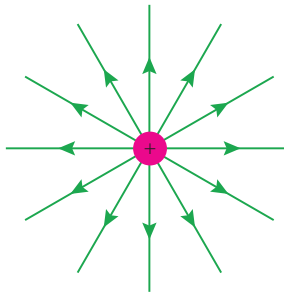
$$F = 9 \times 10^9 \times \frac{3 \times 10^{-6} \times 4 \times 10^{-6}}{(30 \times 10^{-2})^2}$$

$$F = 9 \times 10^9 \times \frac{12 \times 10^{-12}}{900 \times 10^{-4}} = 12 \times 10^{-1} = 1/2 \text{ (N)}$$

بارها همنام هستند پس نیروی کولنی بین آنها دافعه است.

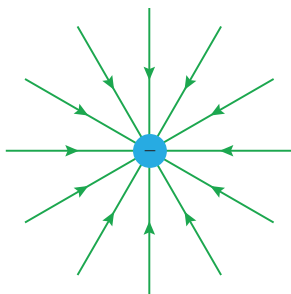
## میدان الکتریکی

در فضای اطراف هر بار الکتریکی خاصیتی وجود دارد که به بارهای الکتریکی دیگر نیرو وارد می‌کند، به این خاصیت «میدان الکتریکی» گویند.



شکل ۲۹

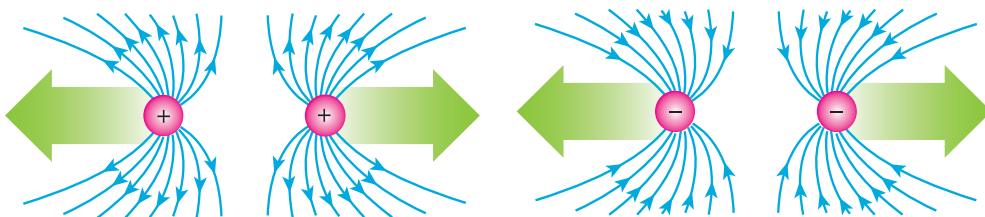
برای نمایش میدان الکتریکی هر بار الکتریکی از خطوط شعاعی استفاده می‌شود و آن را خطوط میدان الکتریکی می‌نامند. طبق قرارداد خطوط میدان الکتریکی از بارهای مثبت خارج و به بارهای منفی وارد می‌شود. خطوط میدان الکتریکی بار مثبت در شکل ۲۹ نشان داده شده است.



شکل ۳۰

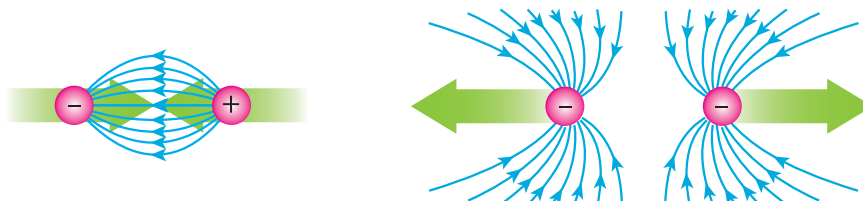
و خطوط میدان الکتریکی بار منفی در شکل ۳۰ نشان داده شده است.

خطوط میدان الکتریکی دوبار همنام و هم‌اندازه با نیروی دافعه کولنی در شکل ۳۱ نشان داده شده است.



شکل ۳۱

و خطوط میدان الکتریکی دوبار ناهمنام و هم‌اندازه با نیروی جاذبه کولنی در شکل ۳۲ نشان داده شده است.



شکل ۳۲

## شدت میدان الکتریکی

شدت میدان الکتریکی مقدار نیروی کولنی وارد بر واحد بار الکتریکی در هر نقطه می‌باشد و آن را با  $E$  نمایش می‌دهند و از رابطه زیر به دست می‌آید.

$$E = \frac{F}{q}$$

که در این رابطه:

$E$  شدت میدان الکتریکی بر حسب نیوتن بر کولن ( $\frac{N}{C}$ )

$F$  نیروی کولنی بر حسب نیوتن ( $N$ )

$q$  بار الکتریکی بر حسب کولن ( $C$ ) است.

**مثال:** بر بار الکتریکی  $4\mu C$  در نقطه‌ای نیروی کولنی  $2N$  وارد می‌شود. شدت میدان الکتریکی در آن نقطه

چند  $\frac{N}{C}$  است؟

**حل:** از رابطه  $E = \frac{F}{q}$  می‌توان نوشت:


$$E = \frac{2}{4 \times 10^{-6}}$$

$$E = \frac{1}{2} \times 10^6$$

$$E = 5 \times 10^5 \left[ \frac{N}{C} \right]$$

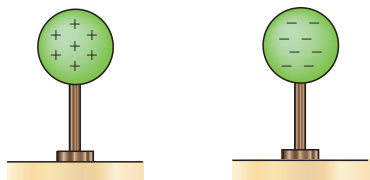
## پتانسیل الکتریکی

یک کره فلزی بر روی پایه عایق مطابق شکل ۳۳ در نظر گرفته شده است.



شکل ۳۳

مقدار کاری که انجام می‌شود تا بار الکتریکی  $q$  بر روی کره فلزی انباشته شود به صورت انرژی پتانسیل الکتریکی  $U$  بر روی کره ذخیره شده است (شکل ۳۴).



ب

الف

بار ذخیره شده منفی      بار ذخیره شده مثبت

شکل ۳۴

نسبت انرژی پتانسیل الکتریکی ذخیره شده به مقدار بار الکتریکی را «پتانسیل الکتریکی» می‌گویند و از رابطه زیر به دست می‌آید.

$$V = \frac{U}{q}$$

که در این رابطه:

$U$  انرژی پتانسیل الکتریکی بر حسب ژول ( $J$ )

$V$  پتانسیل الکتریکی بر حسب ولت ( $V$ )

$q$  بار الکتریکی بر حسب کولن ( $C$ )

اگر بار الکتریکی انباشته شده در کره مثبت باشد «پتانسیل الکتریکی مثبت» و اگر منفی باشد «پتانسیل الکتریکی منفی» است.

مثال: بار الکتریکی  $5\mu\text{C}$  روی یک کره رسانا با پایه عایق انباشته شده است. اگر انرژی پتانسیل الکتریکی ذخیره شده  $2\text{ mJ}$  باشد، پتانسیل الکتریکی آن را بیابید:

حل: از رابطه  $V = \frac{U}{q}$  می توان نوشت:

$$V = \frac{20 \times 10^{-3}}{5 \times 10^{-6}}$$

$$V = 4 \times 10^3$$

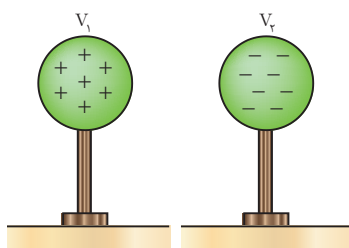
$$V = 4000 [\text{V}] \text{ یا } 4 [\text{KV}]$$

## پتانسیل الکتریکی زمین

پتانسیل الکتریکی زمین صفر است زیرا مقدار بارهای الکتریکی مثبت و منفی آن برابر است. زمین به عنوان منبعی سرشار از بار الکتریکی مثبت و منفی می باشد که می توان به آن بار الکتریکی داد یا از آن دریافت کرد.

## ولتاژ

اختلاف پتانسیل الکتریکی میان دو نقطه را «ولتاژ» می نامند و از رابطه زیر به دست می آید (شکل ۳۵).



شکل ۳۵

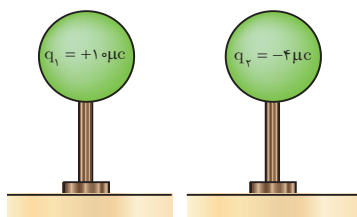
که در این رابطه:  $V = V_1 - V_2$

$V_1$  پتانسیل الکتریکی نقطه اول بر حسب ولت ( $V$ )

$V_2$  پتانسیل الکتریکی نقطه دوم بر حسب ولت ( $V$ )

$V$  ولتاژ بین نقاط اول و دوم بر حسب ولت ( $V$ ) است.

مثال: دو کره مشابه رسانا مطابق شکل، روی پایه عایق قرار دارند مطلوب است:



شکل ۳۶

الف) پتانسیل الکتریکی کره ها

ب) اختلاف پتانسیل الکتریکی بین دو کره ( $V_1 - V_2$ )

حل:

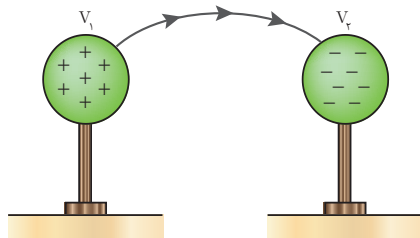
$$\text{الف) } V_1 = \frac{U_1}{q_1} = \frac{5 \times 10^{-3}}{10 \times 10^{-6}} = 0.5 \times 10^3 = 500 [\text{V}]$$

$$V_2 = \frac{U_2}{q_2} = \frac{5 \times 10^{-3}}{-4 \times 10^{-6}} = -\frac{1}{25} \times 10^3 = -1250 [\text{V}]$$

$$\text{ب) } V_1 - V_2 = 500 - (-1250) = 1750 [\text{V}]$$

## جریان الکتریکی

شارش بارهای الکتریکی بین دو نقطه را «جریان الکتریکی» گویند. عامل جاری شدن جریان الکتریکی اختلاف پتانسیل الکتریکی میان دو نقطه است (شکل ۳۷).



شکل ۳۷

جریان الکتریکی ناشی از حرکت الکترون‌های آزاد می‌باشد. الکترون آزاد الکترونی است که از لایه والانس جدا شده است و به هیچ اتمی وابسته نیست.

صاعقه یک نمونه از شارش بارهای الکتریکی در اثر اختلاف پتانسیل الکتریکی میان ابر باردار و زمین است، همچنین صاعقه میان دو ابر باردار که دارای اختلاف پتانسیل الکتریکی هستند نیز نمونه‌ای از شارش بارهای الکتریکی است (شکل ۳۸). صاعقه را تخلیه الکتریکی نیز می‌گویند. تخلیه الکتریکی (صاعقه) ممکن است به ساختمان‌های بلند برخورد نماید و خسارت به بار آورد.



شکل ۳۸

در بیمارستان‌ها برای بیهوش کردن بیماران از ماده‌ای به نام اتر استفاده می‌شود. اتر ماده‌ای فرّار است و بخار آن در فضای اتاق پخش می‌شود. اگر چرخ‌های تخت حامل بیمار لاستیکی باشد، بر اثر مالش این چرخ‌ها با پتو و روکش بیمار ممکن است در آنها الکتریسیته ساکن تولید شود و جرقه بزند. همین جرقه باعث انفجار خواهد شد. امروزه برای جلوگیری از این خطر احتمالی زنجیر فلزی کوتاهی به بدنه فلزی تخت حامل بیمار آویزان می‌کنند که با سطح زمین تماس دارد. بارهای الکتریکی تولید شده از راه این زنجیر به زمین منتقل می‌شود و در نتیجه، از تولید جرقه و بروز پیشامد ناگوار جلوگیری می‌شود.

## شدت جریان الکتریکی

مقدار بار الکتریکی شارش یافته در واحد زمان را «شدت جریان الکتریکی» می‌گویند و از رابطه زیر به دست می‌آید.

$$I = \frac{q}{t}$$

که در این رابطه:

$q$  بار الکتریکی شارش یافته بر حسب کولن [C]

t زمان شارش بار الکتریکی بر حسب ثانیه [S]  
 I شدت جریان الکتریکی بر حسب آمپر [A] است.  
 واحد اندازه‌گیری شدت جریان الکتریکی آمپر است و با [A] نشان می‌دهند. شارش یک کولن بار الکتریکی در مدت یک ثانیه را «یک آمپر» گویند.



شکل ۳۹

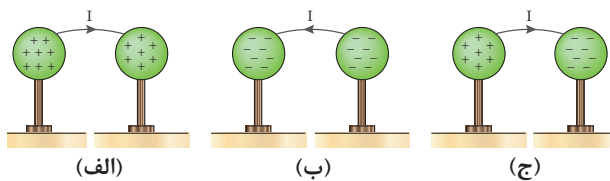
آندره آمپر در سال ۱۷۷۵ میلادی در لیون فرانسه به دنیا آمد (شکل ۳۹).  
 به پاس تلاش‌های وی در فیزیک یکای اندازه‌گیری شدت جریان آمپر [A]  
 نام‌گذاری شده است

مثال: بار الکتریکی  $4\mu\text{C}$  در مدت  $0.02\text{ s}$  میان دو نقطه شارش می‌کند. شدت جریان الکتریکی چند آمپر است؟

حل: از رابطه  $I = \frac{q}{t}$  داریم:

$$I = \frac{4 \times 10^{-6}}{0.02} = 2 \times 10^{-4} [\text{A}] = 0.2 \text{ mA}$$

## جهت جریان الکتریکی



(الف)

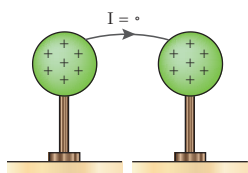
(ب)

(ج)

جهت جریان الکتریکی از پتانسیل بیشتر به پتانسیل کمتر می‌باشد و مادامی که اختلاف پتانسیل وجود داشته باشد جریان الکتریکی برقرار است (شکل ۴۰).

در شکل (الف) بارهای + در کره سمت چپ بیشتر می‌باشد.  
 در شکل (ب) بارهای - در کره سمت چپ بیشتر می‌باشد.

شکل ۴۰



شکل ۴۱

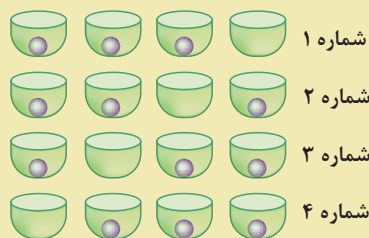
در شکل (الف) جریان از کره پتانسیل بیشتر به کره با پتانسیل کمتر جاری می‌شود تا پتانسیل الکتریکی دو کره برابر شود (شکل ۴۱).

شکل‌های ب و ج را پس از اینکه پتانسیل دو کره برابر شد رسم نمایید.

فعالیت



فکر کنید



شکل ۴۲

به شکل ۴۲ به ترتیب از شماره‌های ۱ الی ۴ نگاه کنید. به نظر شما گلوله به سمت راست حرکت کرده است یا ظرف خالی به سمت چپ حرکت کرده است؟

جهت جریان الکتریکی را می‌توان جهت حرکت بارهای مثبت از پتانسیل الکتریکی بیشتر به پتانسیل الکتریکی کمتر و یا جهت حرکت بارهای منفی از پتانسیل الکتریکی کمتر به پتانسیل الکتریکی بیشتر در نظر گرفت. توجه داشته باشید مقدار جریان الکتریکی اهمیت دارد نه جهت جریان الکتریکی.



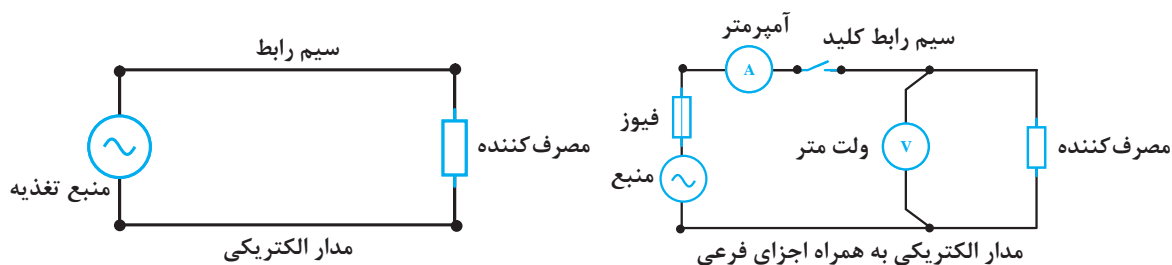
شکل ۴۳

## مدار الکتریکی

مسیری که در آن جریان الکتریکی برقرار می‌شود را «مدار الکتریکی» گویند. اجزای اصلی هر مدار الکتریکی<sup>۱</sup> عبارت است از:

- ۱- منبع تغذیه
- ۲- مصرف کننده
- ۳- سیم رابط

همچنین هر مدار الکتریکی می‌تواند شامل وسایل کنترلی نظیر کلید و یا تجهیزات حفاظتی نظیر فیوز و یا وسایل اندازه‌گیری الکتریکی نظیر آمپر متر نیز باشد که آنها را به عنوان اجزای فرعی مدار الکتریکی می‌شناسند (شکل ۴۴).



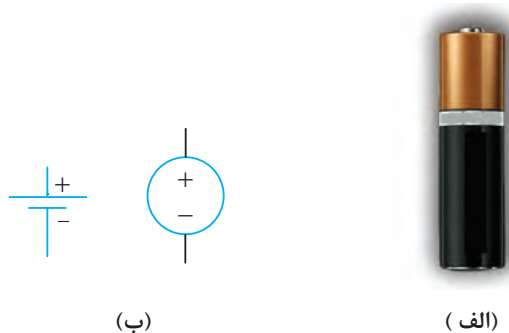
شکل ۴۴

## منبع تغذیه

منبع تغذیه<sup>۱</sup> وظیفه تولید انرژی الکتریکی را برعهده دارد. نیروگاه‌های تولید برق و باتری‌ها منابع تغذیه‌ای هستند که در آنها سایر انرژی‌ها به انرژی الکتریکی تبدیل می‌شود. منابع تغذیه به دو دسته تقسیم می‌شوند:

### الف - منبع تغذیه جریان مستقیم


منبع تغذیه جریان مستقیم، منبعی است که جهت جریان آن تغییر نمی‌کند و آن را با حرف اختصاری DC نشان می‌دهند. ژنراتورهای جریان مستقیم، باتری‌ها و نیروگاه‌های خورشیدی از منابع تغذیه جریان مستقیم هستند. علامت اختصاری منبع تغذیه جریان مستقیم مطابق شکل ۴۵ است.



شکل ۴۵

### ب - منبع تغذیه جریان متناوب

منبع تغذیه جریان متناوب منبعی است که جهت جریان آن تغییر می‌کند و دارای فرکانس است و آن را با حرف اختصاری AC نشان می‌دهند. انرژی الکتریکی غالباً توسط ژنراتورها در نیروگاه‌های برق به صورت جریان متناوب تولید می‌شود. علامت اختصاری منبع تغذیه جریان متناوب مطابق شکل ۴۶ است.



شکل ۴۶

۱ - Power Source



## مصرف کننده الکتریکی

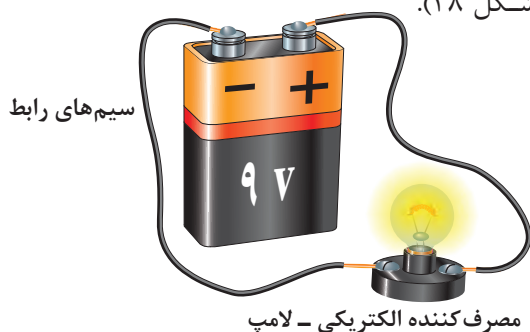


شکل ۴۷

مصرف کننده الکتریکی<sup>۱</sup>، انرژی الکتریکی را تبدیل یا ذخیره می‌سازد. موتورهای الکتریکی، لامپ‌ها، بخاری برقی و... جزء بارهایی هستند که انرژی الکتریکی را به انرژی مکانیکی، نور یا حرارتی تبدیل می‌کنند اما بارهای خازنی و یا سلفی که در فصل‌های بعد با آنها آشنا خواهید شد انرژی الکتریکی را در خود ذخیره می‌سازند (شکل ۴۷).

## سیم رابط

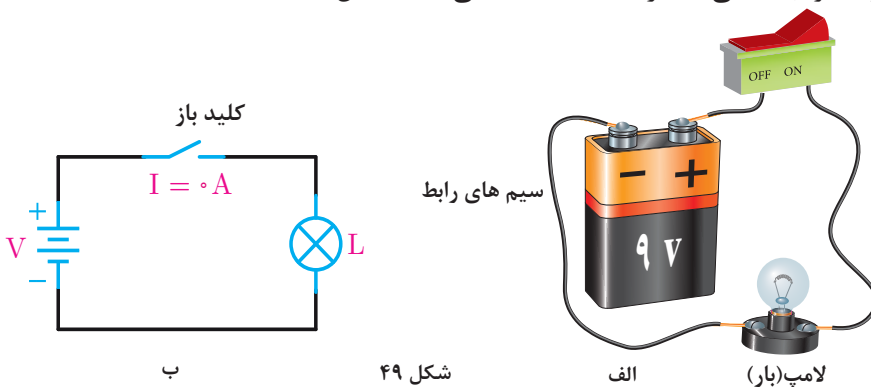
سیم رابط، ارتباط بین منبع تغذیه و مصرف کننده الکتریکی را به منظور انتقال انرژی الکتریکی از منبع تغذیه به مصرف کننده فراهم می‌سازد (شکل ۴۸).



شکل ۴۸

## کلید

در صورتی که قصد قطع و وصل مدار (کنترل مصرف کننده) الکتریکی را داشته باشیم، لازم است تا مسیر عبور جریان الکتریکی را قطع یا وصل کنیم که معمولاً این کار توسط کلید انجام می‌گیرد. کلید از اجزای اصلی مدار به حساب نمی‌آید (شکل ۴۹).



شکل ۴۹

<sup>۱</sup>-Electrical Load



۱- کمیت‌های زیر را تعریف کنید:

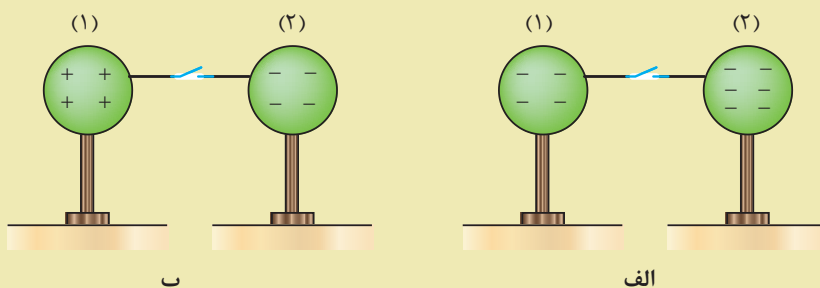
الف) عدد اتمی (ب) بار الکتریکی (ج) لایه والانس (د) نیمه هادی

۲- مس و نقره هر کدام یک الکترون در لایه والانس خود دارند. چرا نقره هادی بهتری است؟

۳- قانون کولن را تعریف کنید و رابطه آن را بنویسید.

۴- میدان الکتریکی را تعریف کنید و رابطه آن را بنویسید.

۵- در هر شکل زیر پس از وصل کلید، جهت حرکت بارهای مثبت را مشخص کنید.

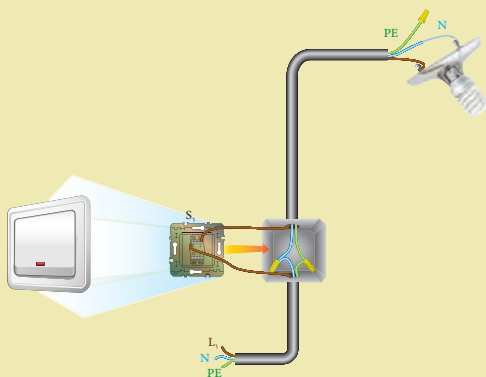


۶- پتانسیل الکتریکی را تعریف کنید.

۷- شدت جریان الکتریکی را تعریف کنید و رابطه آن را بنویسید.

۸- مدار الکتریکی را تعریف کنید و اجزای اصلی آن را نام ببرید.

۹- در مدار شکل روبه‌رو کدام اجزای مدار آورده شده است؟ نوع تغذیه این مدار از نظر جریان متناوب یا مستقیم، کدام است؟



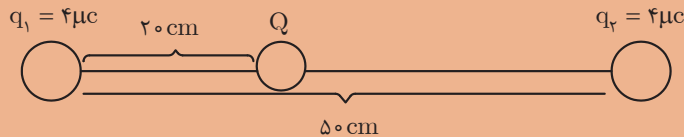
۱- عدد اتمی مس برابر ۲۹ می‌باشد. بار الکتریکی اطراف هسته چند کولن و چه نوعی می‌باشد؟

۲- اگر بار الکتریکی اتم مس  $3/2 \times 10^{-19} \text{ C}$  باشد تعداد الکترون‌های اطراف هسته را مشخص کنید.

۳- بیشترین الکترون که می‌تواند در لایه چهارم یک اتم در اطراف هسته وجود داشته باشد چه تعدادی است؟

۴- دو بار الکتریکی مشابه  $q=5\mu\text{C}$  در فاصله  $10 \text{ cm}$  از هم قرار دارند. نیروی کولنی بین آنها چه نوع و چه مقدار است؟

۵- در شکل زیر از طرف بار  $q_1 = 4\mu\text{C}$  و  $q_2 = 9\mu\text{C}$  چه نیرویی بر بار  $Q = 2\mu\text{C}$  وارد می‌شود؟ آیا می‌توان نیروی کولنی کل را به دست آورد؟



۶- دو بار نقطه‌ای مثبت و مساوی، هر یک برابر  $10^{-4}$  کولن به فاصله دو متر از یکدیگر قرار دارند. نیروی بین آنها چند نیوتن است؟

۷- اندازه و نوع نیروی بین یک بار منفی ۵ میکروکولنی و یک بار مثبت ۲ میکروکولنی را که به فاصله ۹ سانتی‌متر از یکدیگر قرار دارند، تعیین کنید.

۸- دو بار همنام وقتی به فاصله  $d$  از یکدیگر واقع شوند، نیروی معین  $F$  را به هم وارد می‌کنند.

(الف) اگر فاصله دو بار را نصف، دو برابر یا سه برابر کنیم،  $F$  به چه نسبتی تغییر خواهد کرد؟

(ب) اگر در فاصله ثابت  $d$  اندازه یکی از بارهای الکتریکی را نصف یا دو برابر یا سه برابر کنیم،  $F$  به چه نسبتی تغییر می‌کند؟

۹- بار مثبت  $5 \times 10^{-7}$  کولنی وقتی در نقطه‌ای از یک میدان الکتریکی قرار گیرد، نیرویی برابر  $0.4 \text{ N}$  بر آن وارد می‌شود. شدت میدان الکتریکی را در این نقطه حساب کنید.

۱۰- شدت میدان الکتریکی در یک میدان یکنواخت (یعنی میدانی که شدت آن ثابت و خطوط نیروی آن موازی و هم جهت است) برابر  $1000 \frac{\text{N}}{\text{C}}$  است. اندازه نیروی وارد بر یک الکترون را وقتی که در این میدان قرار می‌گیرد، حساب کنید. بار الکتریکی الکترون را  $(e) = 1.6 \times 10^{-19}$  بگیرید.

۱۱- بار الکتریکی  $q$  در میدان الکتریکی یکنواخت به شدت  $20 \frac{\text{N}}{\text{C}}$  قرار گرفته و نیرویی برابر  $3 \times 10^{-4}$  بر آن وارد شده است، مقدار بار  $q$  چند کولن است؟

۱۲- در نقطه‌ای بر بار  $q = 4\mu\text{C}$  نیروی کولنی  $5 \text{ N}$  وارد می‌شود. شدت میدان الکتریکی در آن نقطه را به دست آورید.

۱۳- انرژی پتانسیل الکتریکی ذخیره شده در یک کره رسانا  $50 \text{ mJ}$  و پتانسیل الکتریکی آن  $250 \text{ V}$  می‌باشد. بار انباشته شده روی آن چند کولن است؟

۱۴- بار الکتریکی عبوری از مداری با جریان الکتریکی ۳ آمپر در مدت ۱۰ میلی ثانیه چند کولن است؟

۱۵- در اثر رعد و برق در مدت  $2 \text{ ms}$  تعداد  $5 \times 10^{21}$  الکترون از تنه یک درخت عبور می‌کند. حساب کنید شدت جریان عبوری از آن چند آمپر است؟ جریان حاصل از این رعد و برق چند برابر جریان مصرفی یک خانه مسکونی است در صورتی که جریان مصرفی یک خانه مسکونی ۳۲ آمپر فرض شود؟

واحد یادگیری ۳

آثار جریان الکتریکی



## تولید گرما به وسیله جریان الکتریکی




شکل ۵۰

جریان الکتریکی هنگام عبور از سیم، در آن مقداری گرما تولید می کند. این بدان علت است که مقداری انرژی مصرف می شود تا جریان از سیم عبور کند و این انرژی به صورت گرما ظاهر می شود. چون عبور جریان از یک هادی خوب آسان تر است، نتیجه می گیریم که در آن حرارت کمتری تولید می شود. شکل ۵۰ موارد استفاده اثر حرارتی الکتریسیته را نمایش می دهد.

## تولید نور به وسیله جریان الکتریکی

وقتی که از هادی های ضعیف جریانی عبور می کند، داغ می شوند و این گرما را به صورت نور قرمز یا سفید ظاهر می کند. در نتیجه، به علت گرما و التهاب، درخشش و روشنایی تولید می شود که اساس کار لامپ رشته ای است (شکل ۵۱).




شکل ۵۱

نور را می‌توان بدون حرارت زیاد نیز توسط جریان الکتریکی تولید کرد. بسیاری از گازها به هنگام هدایت جریان یونیزه می‌شوند و تابش‌های نوری تولید می‌کنند. نئون، آرگون و بخار جیوه را می‌توان به عنوان مثال نام برد. موارد استفاده آن را نیز در چراغ‌های معابر و لامپ‌های نئون تبلیغاتی فروشگاه‌ها دیده‌اید. گازی مانند بخار جیوه هنگام حمل جریان الکتریکی یونیزه می‌شود و اشعهٔ ماورای بنفش از خود متصاعد می‌کند. این اشعه با لایه فسفرسانس (پودر سفیدرنگ چسبیده به جداره داخلی لامپ فلورسنت یا مهتابی) برخورد می‌کنند و نور سفید می‌دهند (شکل ۵۲).



شکل ۵۲

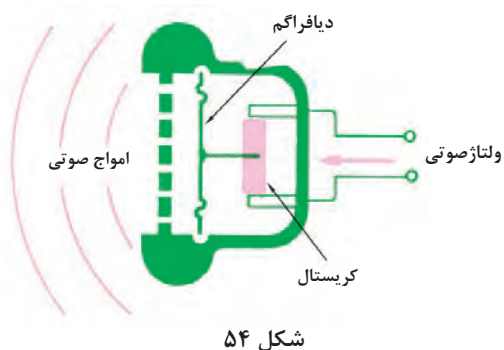
### تولید مغناطیس به وسیلهٔ جریان الکتریکی



شکل ۵۳

هر هادی که جریان الکتریکی از آن بگذرد، مانند یک مغناطیس عمل می‌کند. به این خاصیت، خاصیت مغناطیسی می‌گویند. در شکل ۵۳ هنگامی که جریان الکتریکی از سیم عبور کند، سیم مانند مغناطیس عمل می‌کند و براده‌های آهن را جذب می‌نماید، در صورت قطع شدن سیم، خاصیت مغناطیسی سیم از بین می‌رود و براده‌ها می‌افتند.

## تولید فشار به وسیله جریان الکتریکی



همان‌طور که نیرو یا فشار در بعضی از کریستال‌ها خمش یا چرخش ایجاد می‌کند، اختلاف پتانسیل الکتریکی نیز باعث خمش یا چرخش در کریستال می‌شود و نیرو تولید می‌گردد. در شکل ۵۴ وقتی ولتاژ صوتی به کریستال‌های گوشه‌ای داده می‌شود، کریستال‌ها ارتعاش می‌کنند و دیافراگم را می‌لرزانند. در نتیجه این امر، صدا از طریق گوشه شنیده می‌شود.

## تولید واکنش‌های شیمیایی از طریق جریان الکتریکی

بار الکتریکی نیروی اصلی است که باعث پیوند شیمیایی ترکیبات می‌شود؛ به همین دلیل، برای ایجاد اثرات شیمیایی می‌توان از جریان الکتریکی یا اختلاف پتانسیل الکتریکی استفاده کرد. در الکتروشیمی به این پدیده الکترولیز می‌گویند. یک نمونه از کاربرد الکترولیز، آبکاری برقی است. اگر آب با سولفات مس ( $SO_4Cu$ ) همراه باشد، سولفات مس به یون‌های مثبت مس ( $Cu^{++}$ ) و یون‌های منفی سولفات ( $SO_4^{2-}$ ) تجزیه می‌شود.



شکل ۵۵

یون‌های مس به سمت الکتروود منفی می‌روند و الکترون جذب می‌کنند ولی چون مس فلز است، به الکتروود خواهد چسبید (شکل ۵۵). پس از مدتی، الکتروود به طور کامل در لایه‌ای از مس پوشیده خواهد شد. از این طریق می‌توان با نقره و طلا نیز آبکاری کرد.

پرسش



- ۱- پنج اثر جریان الکتریکی را نام ببرید.
- ۲- آبکاری برقی چیست؟
- ۳- لامپ معمولی چگونه نور تولید می‌کند؟
- ۴- در لامپ‌های نئون از یک ..... به عنوان هادی استفاده شده است.
- ۵- گوشی کریستالی بر اساس چه قانونی کار می‌کند؟ کدام وسایل دیگر نیز بر مبنای این قانون کار می‌کنند؟
- ۶- خاصیت مغناطیس تولید شده توسط الکتریسیته چیست؟



## پروفسور لطفی زاده (لطفعلی عسگرزاده)، مبدع منطق نوین فازی



پروفسور لطفی زاده در سال ۱۲۹۹ شمسی متولد شد. دوران متوسطه را در مدرسه البرز تهران از دانش آموزان ممتاز بود، پس از آن در دانشگاه تهران پذیرفته شد و در امتحانات سراسری ورود به دانشگاه، مقام دوم را کسب نمود. او جزء اولین گروه دانشجویانی بود که در رشته فنی دانشگاه تهران فارغ التحصیل شد و برای ادامه تحصیل به آمریکا و به دانشگاه MIT رفت. او درجه فوق لیسانس را در مهندسی برق دریافت کرد و در سال ۱۳۳۵ درجه دکتری خود را در رشته مهندسی برق از دانشگاه برکلی کلمبیا دریافت نمود و به استادان دانشگاه کلمبیا ملحق شد. در سال ۱۳۴۲ ریاست دپارتمان مهندسی برق دانشگاه برکلی را که بالاترین عنوان در رشته مهندسی است به عهده گرفت. به اعتقاد بسیاری لطفی زاده یکی از باهوش ترین و برجسته ترین مردانی است که رشته مهندسی برق به خود دیده است. پروفسور «لطفی زاده» در جهان علم به «زاده» مشهور است، او مخترع منطق علمی نوین «فازی» است، که جهان صنعت را دگرگون کرد.

### منطق فازی در یک نگاه :

برخلاف آموزش سنتی در ریاضی، او منطق انسانی و زبان طبیعت را وارد ریاضی کرد. اگر در ریاضی، دو رنگ سفید و سیاه را صفر و یک تصور کنیم، منطق ریاضی، طیفی به جز این دو رنگ سیاه و سفید نمی شناسد. ولی در مجموعه های نامعین منطق فازی، بین سیاه و سفید مجموعه ای از طیف های خاکستری هم لحاظ می شود و به این طریق فصل مشترک ساده ای بین انسان و رایانه به وجود می آید.

این منطق حدود چهل سال پیش در امریکا توسط لطفی زاده پایه ریزی شد و برای اولین بار در سال ۱۳۵۳ در اروپا برای تنظیم دستگاه تولید بخار، در یک نیروگاه کاربرد علمی پیدا کرد. تحول واقعی در کاربرد منطق فازی در سال ۱۳۵۹ در ژاپن اتفاق افتاد و در سال ۱۳۶۹ در ژاپن کلمه فازی، به عنوان کلمه سال انتخاب شد.

### کاربرد منطق فازی در طبیعت:

دستگاه ها و لوازم خانگی کنترل فازی که کنترل پذیری بهتری دارند عبارتند از ماشین لباسشویی و دوربین های دیجیتال و ویدئو، یخچال، سیستم های تهویه مطبوع، جارو برقی، کنترل خودکار ترافیک، سیستم ترمز اتومبیل ها، ماشین های صنعتی هوشمند، سیستم های تشخیص هویت از روی اثر انگشت یا تصویر مردمک چشم و حتی غلط یاب تایپی در نرم افزارهای نگارشی مانند word و... امروزه هیچ دستگاه الکترونیکی ای، مخصوصاً لوازم خانگی بدون این منطق در ساختار خود تولید نمی شوند.

استاندارد ارزشیابی پیشرفت تحصیلی مبتنی بر شایستگی درس دانش فنی پایه

رشته تحصیلی: الکتروتکنیک

پایه: دهم

سال تحصیلی:

کد رشته: ۰۷۱۳۱۰

کد درس:

کد کتاب: ۲۱۰۲۶۳

نمره	شاخص تحقق	نتایج مورد انتظار	استاندارد عملکرد (کیفیت)	تکالیف عملکردی (واحدهای یادگیری)	عنوان پودمان
۳	۱- تحلیل تولید و انتقال انرژی از نیروگاه تا مصرف در حالت‌های مختلف ۲- محاسبه نیروی بین دو بار الکتریکی در موقعیت‌های مختلف حقیقی ۳- تحلیل شدت میدان الکتریکی بین چندبار مختلف	بالاتر از حد انتظار	تحلیل انتقال انرژی الکتریکی از تولید تا مصرف از دیدگاه افت توان با استفاده از نقشه، نوع مصرف و توزیع بار موقعیتی	۱- بررسی روش‌های تولید، انتقال و توزیع انرژی الکتریکی ۲- کاربرد قانون کولن در موقعیت‌های مختلف عملکردی	پودمان ۱: تولید انرژی الکتریکی
۲	۱- تحلیل تولید و انتقال انرژی از نیروگاه تا مصرف در حالت‌های مختلف ۲- محاسبه نیروی بین دو بار الکتریکی در موقعیت‌های مختلف حقیقی	در حد انتظار	با استفاده از قانون کولن مقدار و نوع نیروی بین بارهای الکتریکی را تشخیص دهد.		
۱	تعیین وضعیت انتقال انرژی	پایین تر از حد انتظار			
نمره مستمر از ۵					
نمره شایستگی پودمان					
نمره پودمان از ۲۰					



# کار و توان الکتریکی

در این فصل مطالب زیر را فراخواهید گرفت:

۱- مقاومت الکتریکی

۲- قانون اهم

۳- کار الکتریکی

۴- توان الکتریکی

۵- بازده

# واحد یادگیری ۴

## مقاومت الکتریکی



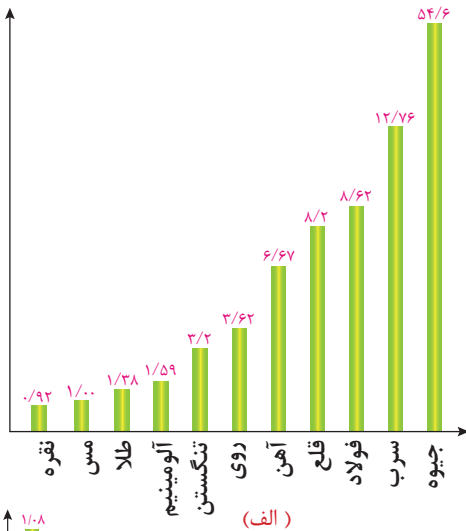
## مقاومت الکتریکی



شکل ۱- سیمون اهم

مقاومت الکتریکی عبارت است از مخالفتی که اجسام در مقابل عبور جریان الکتریکی از خود نشان می‌دهند. هادی‌ها نسبت به عایق‌ها جریان الکتریکی را به راحتی از خود عبور می‌دهند و مقاومت زیادی از خود نشان نمی‌دهند. در حدود سال‌های ۱۸۰۰ یک دانشمند آلمانی به نام گئورگ سیمون اهم آزمایش‌هایی در مورد مدارها و هادی‌ها انجام داد و نکات مهمی را در مورد ماهیت مقاومت الکتریکی کشف کرد. برای قدردانی از این شخص، واحد مقاومت به نام اهم نامیده شده است. (شکل ۱).

## مقاومت الکتریکی مخصوص



مقاومت الکتریکی مخصوص، مقاومت الکتریکی جسمی به طول یک متر با سطح مقطع یک میلی‌متر مربع است. آن را با حرف  $\rho$  نشان می‌دهند. مقاومت الکتریکی مخصوص چند فلز در مقایسه با مس در (شکل ۲- الف) نشان داده شده است.

عکس مقاومت الکتریکی مخصوص را هدایت الکتریکی مخصوص گویند و با  $\kappa$  نشان می‌دهند، هدایت الکتریکی مخصوص چند فلز در مقایسه با مس در (شکل ۲- ب) نشان داده شده است.

بین مقاومت الکتریکی مخصوص با هدایت الکتریکی مخصوص رابطه زیر برقرار است.

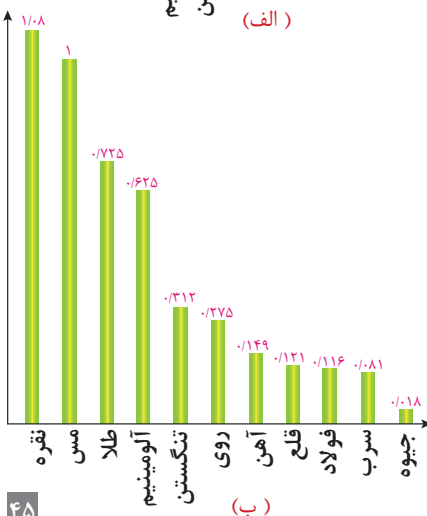
$$\rho = \frac{1}{\kappa}$$

که در این رابطه :

$$\left[ \frac{\Omega \text{mm}^2}{\text{m}} \right] \quad \rho \text{ مقاومت الکتریکی مخصوص}$$

$$\left[ \frac{\text{m}}{\Omega \text{mm}^2} \right] \quad \kappa \text{ هدایت الکتریکی مخصوص}$$

شکل ۲



## عوامل مؤثر بر مقاومت الکتریکی

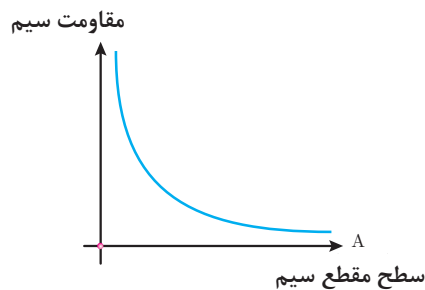
عوامل مؤثر بر مقاومت الکتریکی هادی‌ها عبارت‌اند از :

- سطح مقطع هادی
- طول هادی
- جنس هادی

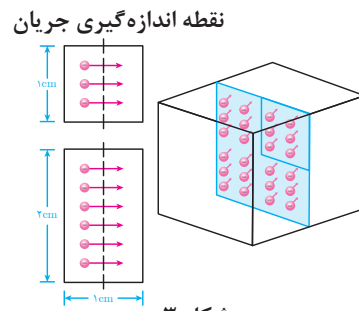
### تأثیر سطح مقطع هادی بر مقاومت الکتریکی :

مقدار جریان الکتریکی به تعداد الکترون‌های آزاد موجود در سیم بستگی دارد؛ بنابراین با افزایش سطح مقطع هادی تعداد الکترون‌های آزاد بیشتر می‌شود. تا مقدار بیشتری جریان الکتریکی بتواند از آن عبور کند.

یک قطعه مس به ارتفاع ۲ و عرض ۱ سانتی‌متر در محل اندازه‌گیری جریان الکتریکی دو برابر قطعه مسی به ارتفاع ۱ و عرض ۱ سانتی‌متر الکترون آزاد قابل دسترسی دارد. پس مس به ارتفاع دو برابر، دو بار بیشتر جریان را هدایت می‌کند. چنانچه پهنای قطعه مسی که به کار می‌برید دو برابر باشد، قابلیت هدایت آن دو برابر و مقاومت آن نصف می‌شود (شکل ۳). (شکل ۴) تغییرات مقاومت نسبت به سطح مقطع هادی را نمایش می‌دهد. طبق این نمودار هر قدر سطح مقطع افزایش پیدا می‌کند، مقاومت الکتریکی کمتر می‌شود.



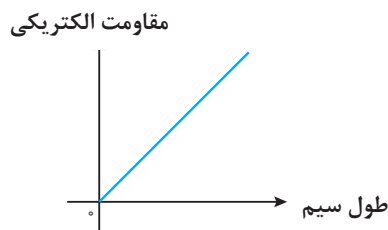
شکل ۴



شکل ۳

### تأثیر طول هادی بر مقاومت الکتریکی :

در یک قطعه هادی بلند، تعداد بیشتری الکترون آزاد وجود دارد ولی الکترون‌های آزاد اضافی در طول سیم، در اندازه‌گیری جریان الکتریکی داخل نمی‌شوند. در واقع هر طول معین از هادی، مقدار معینی مقاومت الکتریکی دارد و هرچه سیم طولی‌تر باشد، مقاومت الکتریکی آن نیز بیشتر است.

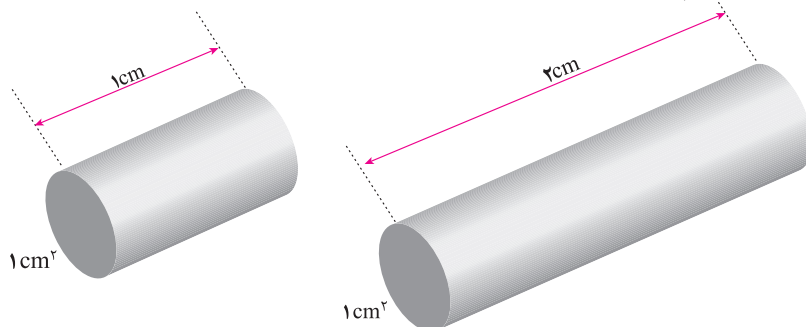


شکل ۵

(شکل ۵) تغییرات مقاومت برحسب طول هادی را نشان می‌دهد. طبق این نمودار هر قدر طول هادی زیاد شود، مقاومت الکتریکی افزایش می‌یابد.

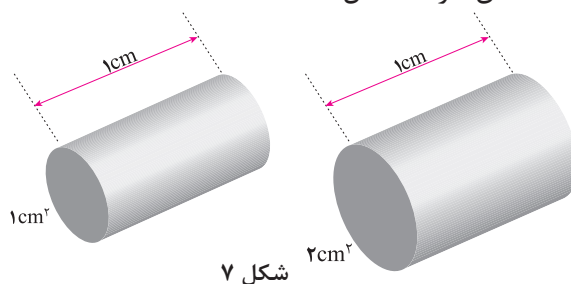
### رابطه مقاومت الکتریکی هادی :

اگر طول یک سیم ( $L$ ) را زیاد کنیم، مقاومت آن زیاد می‌شود و برعکس، اگر طول سیم را کم کنیم، مقاومت آن کم می‌شود.  
اگر طول سیم را مثلاً دو برابر کنیم، مقاومت آن را دو برابر کرده‌ایم، پس مقاومت یک سیم با طول آن نسبت مستقیم دارد (شکل ۶).



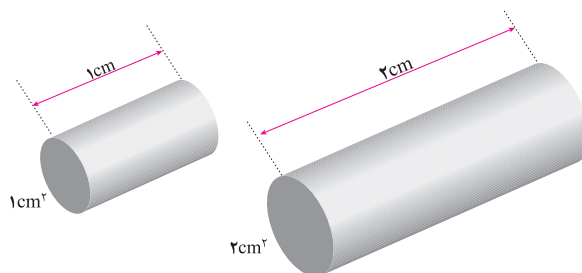
شکل ۶

همچنین می‌توان با اضافه کردن سطح مقطع ( $A$ ) مقاومت را کم کرد و با کم کردن سطح مقطع بر مقاومت افزود.  
اگر سطح مقطع سیم را دو برابر کنیم، مقاومت آن نصف می‌شود. در نتیجه می‌گوییم مقاومت با سطح مقطع عکس دارد (شکل ۷).



شکل ۷

اگر طول سیم دو برابر و سطح مقطع آن دو برابر شود، مقاومت الکتریکی نسبت به وضعیت قبلی تغییر نخواهد کرد (شکل ۸).



شکل ۸

مقاومت الکتریکی مخصوص و هدایت الکتریکی مخصوص به جنس هادی بستگی دارد؛ از رابطه زیر مقاومت الکتریکی رسانا به دست می آید.

$$R = \frac{L}{\kappa \cdot A} \quad \text{یا} \quad R = \rho \frac{L}{A}$$

در این رابطه:  $R$  مقاومت الکتریکی سیم بر حسب اهم  $[\Omega]$

$L$  طول سیم بر حسب متر  $[m]$

$A$  سطح مقطع سیم بر حسب میلی متر مربع  $[mm^2]$

$\rho$  مقاومت الکتریکی مخصوص بر حسب  $\frac{\Omega \cdot mm^2}{m}$

$\kappa$  هدایت الکتریکی مخصوص بر حسب  $\frac{m}{\Omega \cdot mm^2}$  است.

**مثال:** سیم مسی به طول ۱۱۲ متر با سطح مقطع  $4 \text{ mm}^2$  و هدایت مخصوص  $\kappa = 56 \left( \frac{m}{\Omega \cdot mm^2} \right)$  مفروض است. مقاومت الکتریکی سیم چند اهم است؟

$$R = \frac{L}{\kappa \cdot A} = \frac{112}{56 \times 4} = 0.5 \Omega \rightarrow R = 0.5 \Omega$$

**مثال:** برای ساختن یک مقاومت الکتریکی  $10$  اهمی، چند متر سیم آلومینیومی با سطح مقطع  $1/5 \text{ mm}^2$  مورد نیاز است؟  $\kappa_{AL} = 35 \left( \frac{m}{\Omega \cdot mm^2} \right)$

$$R = \frac{L}{\kappa \cdot A} \Rightarrow 10 = \frac{L}{35 \times 1/5} \rightarrow L = 10 \times 35 \times 1/5 = 525 \text{ m}$$

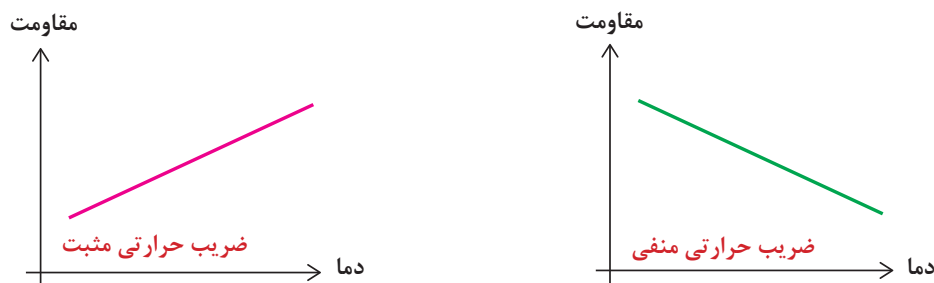
### - اثر حرارت بر مقاومت الکتریکی :

آنچه در مورد مقاومت گفته شد، همه در دمای اتاق صادق است. در دماهای کمتر یا بیشتر، مقدار مقاومت کلیه فلزات تغییر می کند. تغییر مقاومت بر اثر حرارت در فلزات مختلف متفاوت است، تغییرات واحد مقاومت الکتریکی به ازای یک درجه سانتی گراد را ضریب حرارتی می گویند و آن را با  $(\alpha)$  نمایش می دهند؛ برای مثال اگر  $\alpha = 0.004$  باشد یعنی اینکه واحد مقاومت آن جسم به ازای یک درجه سانتی گراد  $0.004$  اهم افزایش یا کاهش می یابد. اگر مقاومت الکتریکی جسمی بر اثر حرارت افزایش یابد، ضریب حرارتی  $(\alpha)$  مثبت و در صورت کاهش مقاومت، ضریب حرارتی  $(\alpha)$  منفی خواهد بود. در مورد اول، فلز را PTC<sup>۱</sup> و در مورد دوم NTC<sup>۲</sup> می نامند.

۱-Positive Temperature Coefficient

۲-Negative Temperature Coefficient





شکل ۹

مقاومت الکتریکی رسانا در اثر تغییر دما از رابطه زیر به دست می‌آید:

$$R = R_0(1 + a\Delta\theta)$$

که در این رابطه:

$R_0$  مقاومت اولیه رسانا بر حسب اهم  $[\Omega]$

$R$  مقاومت الکتریکی رسانا پس از تغییر دما بر حسب اهم  $[\Omega]$

$\alpha$  ضریب حرارتی بر حسب  $\left[\frac{1}{^\circ C}\right]$

$\Delta\theta = \theta_2 - \theta_1$  تغییرات دمایی رسانا بر حسب درجه سانتی‌گراد  $[^\circ C]$  است.

**مثال:** مقاومت الکتریکی سیمی در صفر درجه سانتی‌گراد  $2\Omega$  اهم است. اگر دمایی سیم

به  $100^\circ$  درجه سانتی‌گراد برسد، مقاومت الکتریکی آن چند اهم می‌شود؟  $\left(a = 0.004 \frac{1}{^\circ C}\right)$

**حل:**

$$R_0 = 2\Omega$$

$$\Delta\theta = \theta_2 - \theta_1 = 100 - 0 = 100^\circ C$$

$$R = R_0(1 + \alpha \Delta\theta)$$

$$R = 2(1 + 0.004 \times 100)$$

$$R = 2.8[\Omega]$$

## قانون اهم

قانون اهم بیان می‌کند نسبت اختلاف پتانسیل دو سرهادی به شدت جریان آن در دمایی معین مقداری ثابت است که این مقدار ثابت را «مقاومت الکتریکی» هادی گویند و با  $R$  نشان می‌دهند و از رابطه  $R = \frac{V}{I}$  به دست می‌آید.

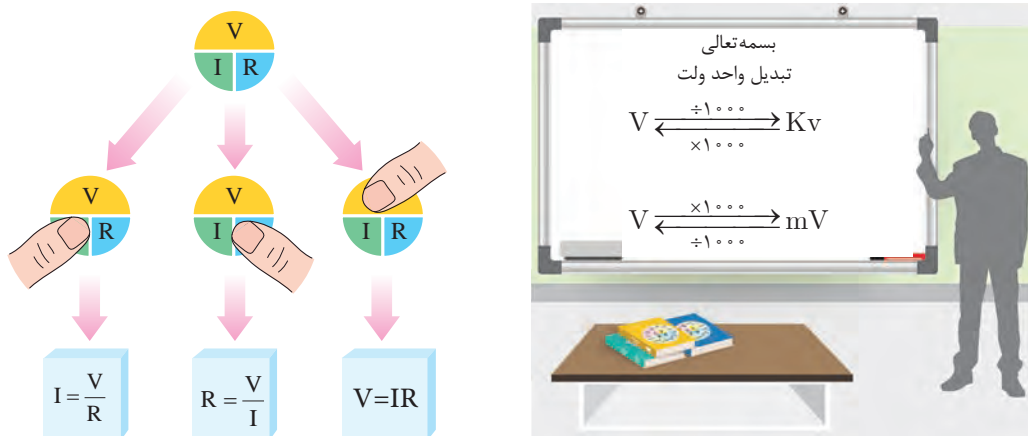
که در این رابطه :

V اختلاف پتانسیل دو سر هادی [v]

I شدت جریان هادی [A]

R مقاومت الکتریکی [ $\Omega$ ]

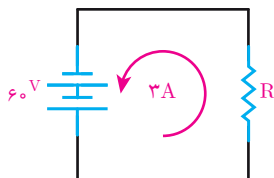
است. نحوه استفاده از قانون اهم در شکل ۱۰ نشان داده شده است.



شکل ۱۰

(شکل ۱۰) برای یادآوری سه شکل قانون اهم قابل استفاده است. در این شکل هر کدام از علامت‌ها را با انگشت بیوشانید، علائم دیگر رابطه کمیت اشاره شده را نشان می‌دهد و مقدار مجهول به راحتی به دست می‌آید.

**مثال:** اگر در مدار (شکل ۱۱) شدت جریان ۳ آمپر از مقاومت عبور کند، مقاومت مدار چقدر است؟



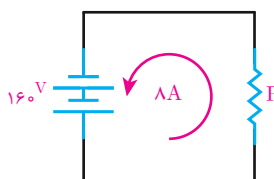
شکل ۱۱



$$R = \frac{V}{I} = \frac{60}{3}$$

$$R = 20 \Omega$$

**مثال:** اگر در مدار (شکل ۱۲) بخواهیم شدت جریان مدار ۸ آمپر شود، چه مقاومتی باید در مدار قرار گیرد؟

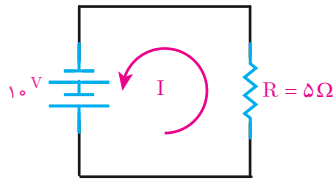


شکل ۱۲



$$R = \frac{V}{I} = \frac{160}{8} \quad R = 20 \Omega$$

**مثال:** اگر در مدار (شکل ۱۳) ولتاژی برابر با ۱۰ ولت به دو سر مقاومتی برابر ۵ اهم اعمال شود، شدت جریان مدار چقدر است؟



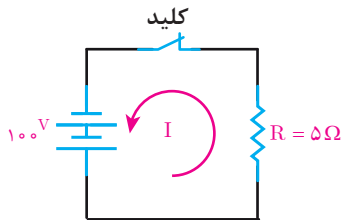
شکل ۱۳



$$I = \frac{V}{R} = \frac{10}{5}$$

$$I = 2A$$

**مثال:** شدت جریان الکتریکی در مدار (شکل ۱۴) چند آمپر است؟

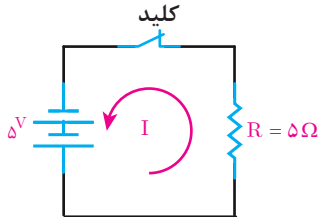


شکل ۱۴

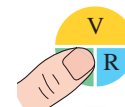


$$I = \frac{V}{R} = \frac{100}{5} = 20A$$

**مثال:** شدت جریان الکتریکی مدار (شکل ۱۵) را به دست آورید.



شکل ۱۵



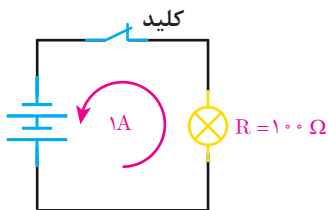
$$I = \frac{V}{R} = \frac{5}{5} = 1A$$

با مقایسه نتایج دو مثال قبل چه نتیجه‌ای می‌گیرید؟

فعالیت کلاسی



**مثال:** اگر از لامپی به مقاومت ۱۰۰ اهم جریانی به شدت ۱ آمپر عبور کند، با توجه به (شکل ۱۶) ولتاژ منبع چند ولت است؟



شکل ۱۶



$$V = I.R = 1 \times 100$$

$$V = 100V$$

**مثال:** چنانچه باتری مثال بالا در اثر فرسودگی، جریان ۰/۵ آمپر را در مدار جاری کند، ولتاژ منبع به چه میزان کاهش یافته است؟



$$V = I.R = 0.5 \times 100$$

$$V = 50V$$

$$100 - 50 = 50V$$

## ابرسانا

اگر دمای فلزات مختلف را تا دمای معینی (دمای بحرانی) پایین آوریم، پدیده شگرفی در آنها اتفاق می‌افتد که طی آن مقدار مقاومت فلزات در برابر عبور جریان برق به طور ناگهانی تا حد صفر کاهش می‌یابد. در این شرایط است که فلزها تبدیل به ابر رسانا خواهند شد. تبدیل به حالت ابرسانایی، فقط مربوط به فلزات نمی‌شود بلکه این حالت در جیوه ناخالص نیز اتفاق می‌افتد. تاکنون مشخص شده است که تقریباً نیمی از عناصر فلزی و همچنین برخی آلیاژها و سرامیک‌ها در درجه حرارت‌های پایین ابر رسانا می‌شوند.

## کاربرد ابرسانا


هر ماده اگر قبل از ابر رسانا شدن در میدان مغناطیسی قرار گیرد از آن خطوط میدان مغناطیسی عبور می‌کند؛ چنانچه در حضور میدان مغناطیسی به دمای بحرانی برسد و ابرسانا شود دیگر هیچ‌گونه خطوط میدان مغناطیسی از آن عبور نمی‌کند.

در (شکل ۱۷-الف) یک قطعه آهنربا روی یک قطعه ابرسانا شناور است طبق خاصیتی که در بالا گفتیم ابر رساناها می‌توانند خطوط میدان مغناطیس را به خارج پرتاب کنند و همان‌طور که می‌بینیم قرص مغناطیسی را شناور نگه داشته است.

کاربرد جالب این مطلب در ساخت قطارهای سریع السیر یا قطارهای شناور است. نمونه‌هایی از این‌گونه قطارها که در سال ۲۰۰۰ میلادی در ژاپن ساخته شد، با سرعت  $581 \text{ km/h}$  حرکت می‌کند. در این قطارها به جای استفاده از چرخ از میدان مغناطیسی استفاده شده است. در این حالت قطارهای سریع السیر در حال حرکت معمولاً چند سانتی متر با ریل فاصله دارد و تماسی با ریل پیدا نمی‌کنند. به این نوع قطارها ماگلو (Maglev) گفته می‌شود (شکل ۱۷-ب).



ب



الف

شکل ۱۷



- ۱- مقاومت الکتریکی مخصوص و هدایت الکتریکی مخصوص را تعریف کنید.
- ۲- مقاومت الکتریکی مخصوص فلز روی چند برابر مقاومت الکتریکی مخصوص نقره است؟
- ۳- عوامل مؤثر بر مقاومت الکتریکی هادی‌ها را نام ببرید.
- ۴- از مقایسه نمودار تغییرات مقاومت الکتریکی رسانا برحسب سطح مقطع سیم و طول سیم چه نتیجه‌ای می‌گیریم؟
- ۵- قانون اهم را تعریف کنید.
- ۶- ضریب حرارتی را تعریف کنید و واحد آن را بنویسید.
- ۷- ابرسانا را تعریف کنید و کاربرد آن را بنویسید.
- ۸- اگر دانش‌آموزی هنگام خاموش بودن لامپ رشته‌ای مقاومت آن را اندازه‌گیری کند و بار دیگر وقتی لامپ روشن است مقاومت الکتریکی آن را محاسبه کند آیا مقادیر به دست آمده یکسان است؟ چرا؟



- ۱- مقاومت الکتریکی مخصوص آلومینیوم نسبت به مس برابر  $1/59$  می‌باشد، هدایت الکتریکی آن نسبت به مس را حساب کنید.
  - ۲- برای ساختن یک مقاومت  $5\Omega$  چند متر سیم مسی با سطح مقطع  $1/5\text{mm}^2$  مورد نیاز است؟ ( $K_{cu}=56$ )
  - ۳- روی یک هسته  $500$  دور سیم مسی با سطح مقطع  $5\text{mm}^2$  پیچیده‌ایم اگر شعاع هسته  $2/5\text{cm}$  باشد مقاومت الکتریکی سیم پیچ را حساب کنید.
  - ۴- درون یک وسیله برقی  $80\text{m}$  سیم آلومینیومی با قطر  $1/5\text{mm}$  استفاده شده است: الف) مقاومت الکتریکی آن را بیابید.  
ب) در صورتی که بخواهیم سیم مسی با قطر  $1/5\text{mm}$  جایگزین آن کنیم در صورتی که مقاومت الکتریکی تغییر نکند طول سیم مسی را بیابید.
  - ۵- دمای سیم پیچ یک وسیله برقی بر اثر کار کردن از  $25^\circ\text{C}$  به  $75^\circ\text{C}$  افزایش می‌یابد. اگر مقاومت الکتریکی آن در  $25^\circ\text{C}$  برابر  $1/8\Omega$  باشد مقاومت آن چند اهم افزایش می‌یابد؟
- $$\alpha = 0/0004 \left[ \frac{1}{^\circ\text{C}} \right]$$
- ۶- جریان الکتریکی عبوری از لامپی که مقاومت الکتریکی آن  $50\Omega$  و ولتاژ تغذیه آن  $200\text{V}$  است را حساب کنید. در صورتی که در اثر روشن بودن دمای لامپ  $40^\circ\text{C}$  افزایش یابد جریان الکتریکی چقدر تغییر می‌کند؟

۷- به یک مقاومت  $60\ \Omega$  اهمی ولتاژی برابر  $36\ \text{V}$  ولت داده شده است. چه جریانی از این مقاومت عبور می‌کند؟

۸- ولتاژ لازم برای عبور جریانی برابر  $1/2$  آمپر از یک مقاومت  $5\ \Omega$  اهمی چقدر است؟

۹- مقاومت الکتریکی یک لامپ  $150\ \Omega$  است. ولتاژی برابر  $120\ \text{V}$  ولت به آن داده می‌شود. مقدار جریان عبوری را حساب کنید.

۱۰- با یک لامپ و یک منبع ولتاژ و یک آمپر متر مداری تشکیل داده ایم. اگر منبع ولتاژ را  $24\ \text{V}$  ولت اختیار کنیم، آمپر متر مقدار  $1/5$  آمپر را نشان خواهد داد. مقاومت الکتریکی مدار را تعیین کنید. اگر به جای منبع  $24\ \text{V}$  ولتی، منبع ولتاژ  $36\ \text{V}$  ولتی قرار دهیم، آمپر متر چه مقداری را نشان خواهد داد؟

۱۱- چه ولتاژی در مقاومت  $40\ \Omega$  اهمی، جریانی برابر با  $100\ \text{mA}$  میلی آمپر ایجاد می‌کند؟

۱۲- حداکثر ولتاژی که یک مقاومت  $22/5\ \Omega$  اهمی می‌تواند تحمل کند  $120\ \text{V}$  ولت است. اگر جریانی به شدت  $10\ \text{A}$  آمپر از آن بگذرد آیا این مقاومت تحمل این جریان را خواهد داشت؟ چرا؟

## پروفسور کارو لوکاس (لوکس) پدر علم رباتیک

در شهریور ماه ۱۳۲۸ در شهر اصفهان متولد شد. تحصیلات متوسطه خود را در دبیرستان ارامنه تهران (کوشش) گذراند و در سال ۱۳۵۲ با شایستگی، موفق به اخذ کارشناسی ارشد در رشته مهندسی کنترل از دانشگاه تهران شد.

نبوغ ذاتی او چنان عیان شده بود که در توصیه نامه علمی ایشان، استاد وی خطاب به دانشگاه‌های پراوازه آمریکا نوشت: اگر کارو را در دانشگاه خود نپذیرید، دیوانه‌اید.

دکترای خود را در رشته کنترل سیستم‌ها با گرایش اقتصاد مالی

در سال ۱۳۵۵ از دانشگاه برکلی آمریکا به دست آورد. پس از آن، وی برای خدمت میهن، فعالیت در دانشگاه تهران را برگزید.

در تدریسش تنها انتقال معلومات مدّ نظر نبود بلکه انجام پژوهش علمی و فنی اشتراکی را هدف خود قرار داده بود. وی جهت حرکت علم را به خوبی تشخیص و خود را در پیشاپیش این حرکت قرار می‌داد تا دانشگاه تهران را در زمره دانشگاه‌های پیشرفته جهان معرفی نماید. تدریس حسابداری زیستی را می‌توان به عنوان مصداق ذکر کرد.

ادامه پژوهش‌های وی به سیستم‌های هوشمند و رباتیک متمایل گردید و به حق و شایستگی پدر علم رباتیک ایران لقب گرفت. اگرچه عشق و علاقه پروفسور کارلوکس به ایران و دانشگاه تهران مثال زدنی بود اما نگاه نافذش از لزوم همکاری‌های علمی و پژوهشی بین‌المللی هرگز غافل نماند. ایشان به عنوان استاد مدعو ایرانی در دانشگاه‌های آمریکا، کانادا، ایتالیا، چین، ارمنستان و آلمان تدریس نمود و در پژوهش‌های مشترک تأثیرگذار بود، پروفسور کارلوکس استاد نمونه، چهره ماندگار مهندسی برق، برنده جشنواره‌های خوارزمی، ابن سینا و استاد برگزیده ایرانی توسط Elsevier-Scopus معرفی گردید. اما هیچ‌یک از این القاب و عناوین در برابر صفات و فضایل انسانی استاد ارزش چندانی ندارد. چهره مردانه او همیشه بشاش، متبسم، نگاهش جذاب اما مصمم و مهربان به خصوص با دانشجویانش بود.



واحد یادگیری ۵

کار و توان الکتریکی





## کار الکتریکی

کار الکتریکی عبارت است از مقدار انرژی که در مصرف کننده الکتریکی به سایر انرژی‌ها تبدیل می‌شود. کار الکتریکی را با  $W$  نشان می‌دهند و واحد آن ژول (J) است. یک ژول مقدار کاری است که اختلاف پتانسیل یک ولت برای جابه جایی یک کولن الکتریسیته انجام می‌دهد. انرژی در مقاومت الکتریکی به حرارت تبدیل می‌شود و از رابطه زیر به دست می‌آید.

$$W = RI^2t$$

که در این رابطه :

$W$  کار الکتریکی [J]

$R$  مقاومت الکتریکی [ $\Omega$ ]

$I$  شدت جریان الکتریکی [A]

$t$  زمان [s] است.

**مثال:** از یک اتوی برقی که مقاومت الکتریکی قسمت گرماده آن ۵۵ اهم است جریان ۴ آمپر می‌گذرد. در مدت ۲ دقیقه چه مقدار انرژی الکتریکی به حرارت تبدیل می‌شود؟ با استفاده از رابطه مقابل داریم:

$$W = RI^2t$$

$$W = 55(4)^2 \times (2 \times 60) = 105600 \text{ [J]}$$

انرژی الکتریکی مصرفی علاوه بر یکای اندازه گیری ژول برحسب کیلووات ساعت و مگاوات ساعت نیز بیان می‌شود.

هر کیلو وات ساعت (kwh) برابر چند ژول (J) می باشد؟

فعالیت



## محاسبه هزینه انرژی الکتریکی مصرفی

هزینه انرژی الکتریکی مصرفی به ازای هر کیلو وات ساعت محاسبه می‌شود. برای محاسبه هزینه الکتریکی مصرفی از رابطه زیر استفاده می‌شود:

بهای هر kwh انرژی الکتریکی  $\times$  مقدار انرژی الکتریکی مصرفی (kwh) = بهای برق مصرفی

**مثال:** یک مصرف کننده برقی ۸۰۰ وات روزی ۵ ساعت روشن است. در صورتی که بهای هر کیلو وات ساعت ۸۰۰ ریال باشد هزینه انرژی الکتریکی مصرفی آن چقدر است؟  
**حل:**

بهای هر kwh  $\times$  انرژی الکتریکی مصرفی [kwh] = قیمت انرژی الکتریکی مصرفی

ریال  $800 \times 4 = 3200$  = قیمت انرژی الکتریکی مصرفی

## توان الکتریکی

توان الکتریکی، مقدار کار الکتریکی انجام شده در واحد زمان می‌باشد. توان الکتریکی را با  $P$  نشان می‌دهند و واحد آن وات ( $W$ ) است. یک وات تبدیل یک ژول انرژی در مدت یک ثانیه می‌باشد. توان در مقاومت الکتریکی از رابطه زیر به دست می‌آید.

$$P = \frac{W}{t}$$

که در این رابطه :

$P$  توان الکتریکی [ $W$ ]

$W$  کار الکتریکی [ $J$ ]

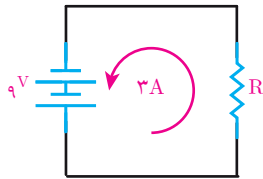
$t$  زمان [ $s$ ] است.

رابطه توان به شکل‌های زیر نیز اثبات می‌شود.

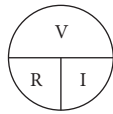
$$P = \frac{W}{t} = \frac{RI^2 t}{t} = RI^2$$

$$P = RI^2 = RI \cdot I = VI$$

مثال: در مدار (شکل ۱۸) مقدار مقاومت الکتریکی و توان مصرفی آن را محاسبه کنید.



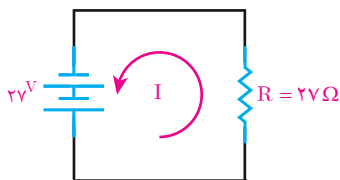
شکل ۱۸



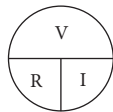
$$R = \frac{V}{I} = \frac{9}{3} = 3\Omega$$

$$P = VI = 9 \times 3 = 27W$$

مثال: در مدار (شکل ۱۹) مقدار شدت جریان و توان مصرفی مقاومت را محاسبه کنید.




شکل ۱۹



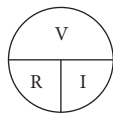
$$I = \frac{V}{R} = \frac{27}{27} = 1A$$

$$P = RI^2 = 27 \times 1^2 = 27W$$

مثال: شدت جریان و توان مصرفی اتوی برقی (شکل ۲۰) را محاسبه کنید.



شکل ۲۰

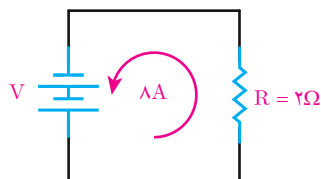


$$I = \frac{V}{R} = \frac{100}{10} = 10A$$

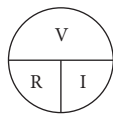
$$P = RI^2$$

$$P = 10 \times 10^2 = 1000W$$

مثال: ولتاژ منبع و توان مصرفی مقاومت ۲ اهمی مدار (شکل ۲۱) را محاسبه کنید.



شکل ۲۱



$$V = R \cdot I = 2 \times 8 = 16V$$

$$P = RI^2$$

$$P = 2 \times 8^2 = 128W$$

**مثال:** سماور برقی  $V$  و  $W$  و  $۲۲۰$  و  $۲۰۰۰$  مفروض است. شدت جریان و مقاومت الکتریکی قسمت گرماده آن را محاسبه کنید.

$$P = V.I \Rightarrow ۲۰۰۰ = ۲۲۰ \times I \Rightarrow I = \frac{۲۰۰۰}{۲۲۰} = ۹A$$

$$R = \frac{V}{I} = \frac{۲۲۰}{۹} = ۲۴/۴\Omega$$

در صورت کاهش ولتاژ به میزان  $۱۸۰$  ولت، شدت جریان و توان سماور چقدر می شود؟

$$I = \frac{V}{R} = \frac{۱۸۰}{۲۴/۴} = ۷/۳A$$

$$P = R.I^2 = ۲۴/۴ \times ۷/۳^2 = ۱۳۰۰w$$

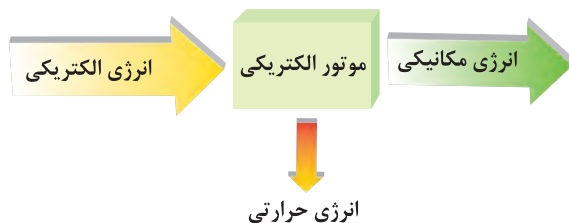


## بازده

بازده یا راندمان، نسبت توان خروجی به توان ورودی وسایل الکتریکی می باشد. بازده یا راندمان را با حرف یونانی اتا  $\eta$  نشان می دهند. و چون از نسبت دو توان ورودی و خروجی به دست می آید بدون واحد می باشد. و معمولاً آن را برحسب درصد نشان می دهند و از رابطه زیر به دست می آید.

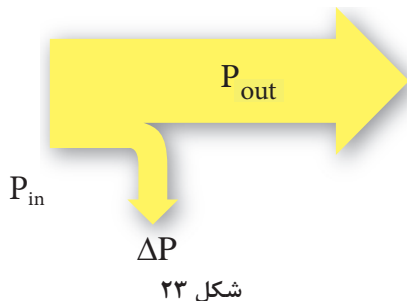
$$\eta \% = \frac{\text{توان خروجی}}{\text{توان ورودی}} \times ۱۰۰$$

موتورهای الکتریکی از وسایل الکتریکی هستند که انرژی الکتریکی را به انرژی مکانیکی تبدیل می‌کنند اما در این فرایند بخشی از انرژی الکتریکی به انرژی حرارتی تبدیل می‌شود. (شکل ۲۲)



شکل ۲۲

در موتور مقداری از انرژی الکتریکی که در واحد زمان به انرژی مکانیکی تبدیل می‌شود، توان خروجی گویند و با  $P_{out}$  نشان می‌دهند و واحد آن وات [W] است و مقداری از انرژی الکتریکی که در واحد زمان به انرژی حرارتی تبدیل می‌شود، تلفات توان گویند و با  $\Delta P$  نشان می‌دهند و واحد آن نیز وات [W] است. همچنین مقدار انرژی الکتریکی که در واحد زمان از شبکه الکتریکی دریافت می‌شود توان ورودی است و با  $P_{in}$  نشان داده می‌شود و واحد آن وات [W] است. ارتباط بین توان ورودی، خروجی و تلفات توان در دیاگرام توازن توان (شکل ۲۳) نشان داده شده است. با توجه به دیاگرام توازن توان رابطه به صورت مقابل است:



$$P_{in} = P_{out} + \Delta P$$

**مثال:** یک موتور الکتریکی  $750$  واتی از شبکه الکتریکی  $1000$  وات توان الکتریکی دریافت می‌کند راندمان آن چند درصد است؟ تلفات توان موتور چند وات است؟

**حل:**

$$\eta \% = \frac{P_{out}}{P_{in}} \times 100$$

$$\eta \% = \frac{750}{1000} \times 100 = 75\%$$

با توجه به دیاگرام توازن توان می‌توان نوشت:

$$\Delta P = P_{in} - P_{out}$$

$$\Delta P = 1000 - 750 = 250 [W]$$

معمولاً توان موتورهای الکتریکی بر روی پلاک مشخصات برحسب اسب بخار [HP] نیز یادداشت می‌شود. یک اسب بخار برابر  $746$  وات است یعنی:  $1 [Hp] = 746 [W]$

روی پلاک یک موتور الکتریکی HP ۵/۵ نوشته شده است، مقدار آن برحسب وات [W] چقدر است؟

فعالیت



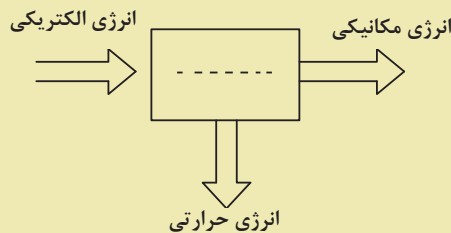


۱- کمیت‌های زیر را تعریف کنید:

الف) کار الکتریکی      ب) توان الکتریکی      ج) راندمان یا بازده

۲- توان خروجی و تلفات توان را در موتور الکتریکی تعریف کنید.

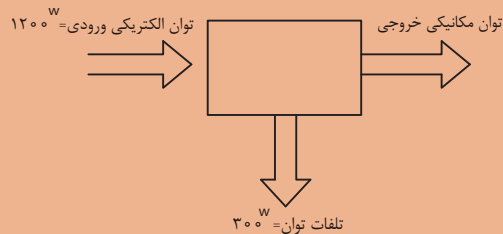
۳- بلوک دیاگرام زیر مربوط به چه وسیله برقی است؟



۴- روی پلاک موتوری  $\frac{3}{4}$  HP نوشته شده است. توان الکتریکی آن چند وات می‌باشد؟



۱- راندمان وسیله الکتریکی را که بلوک دیاگرام توان آن به صورت زیر می‌باشد را حساب کنید



۲- راندمان یک موتور الکتریکی ۸۵٪ می‌باشد اگر تلفات توان ۱۵۰ W باشد، توان ورودی و خروجی چند وات است؟

۳- راندمان یک موتور الکتریکی  $\frac{1}{2}$  HP برابر ۷۰٪ می‌باشد توان ورودی و تلفات آن چند وات است؟

۴- در ویتترین مغازه‌ای ۴ لامپ رشته‌ای ۵۰۰ وات و ۲ لامپ رشته‌ای ۱۰۰۰ وات روزی ۸ ساعت روشن است. حساب کنید انرژی الکتریکی مصرفی در ۳۰ روز چقدر است؟

۵- مقاومت الکتریکی قسمت گرماده یک وسیله حرارتی  $80 \Omega$  می‌باشد، حساب کنید اگر جریان الکتریکی عبوری از آن ۴ A باشد، در مدت زمان ۵ دقیقه انرژی الکتریکی مصرفی آن چند ژول و چند کیلو ژول می‌باشد؟

۶- یک وسیله برقی ۲۲۰ V و ۵۰۰ W در نظر بگیرید:

الف) شدت جریان این وسیله در اتصال به شبکه ۲۲۰ V چند آمپر است؟

ب) در صورت کاهش ولتاژ به ۲۰۰ ولت جریان چقدر تغییر می‌کند؟

۷- اگر لامپ‌های تمرین ۴ را با لامپ‌های کم مصرف LED با توان ۱۸ و ۲۵ وات را به ترتیب جایگزین لامپ‌های ۵۰۰ وات و ۱۰۰۰ وات کنیم، در هزینه برق چقدر صرفه جویی می‌شود؟ در صورتی که بدانیم میزان نوردهی لامپ‌های جایگزین به همان مقدار لامپ‌های رشته‌ای باشد.

## استاندارد ارزشیابی پیشرفت تحصیلی مبتنی بر شایستگی درس دانش فنی پایه

سال تحصیلی:  
کد کتاب: ۲۱۰۲۶۳

پایه: دهم  
کد درس:

رشته تحصیلی: الکتروتکنیک  
کد رشته: ۰۷۱۳۱۰

نمره	شاخص تحقق	نتایج مورد انتظار	استاندارد عملکرد (کیفیت)	تکالیف عملکردی (واحدهای یادگیری)	عنوان پودمان
۳	۱- حل مدارهای مقاومتی و محاسبه مقدار توان الکتریکی ۲- تحلیل توان الکتریکی و مقدار مصرف	بالتر از حد انتظار	با استفاده از قانون اهم مدارهای مقاومتی و توان الکتریکی را تحلیل کند.	۱- کاربرد قانون اهم ۲- محاسبه کار و توان الکتریکی	پودمان ۲: کار و توان الکتریکی
۲	حل مدارهای مقاومتی و محاسبه مقدار توان الکتریکی	در حد انتظار			
۱	به کارگیری قوانین اهم در مدارهای ساده	پایین تر از حد انتظار			
نمره مستمر از ۵					
نمره شایستگی پودمان					
نمره پودمان از ۲۰					



# اتصالات سری و موازی الکتریکی

در این فصل مطالب زیر را فراخواهید گرفت:

- ۱- اتصال سری مقاومت‌های الکتریکی
- ۲- اتصال موازی مقاومت‌های الکتریکی
- ۳- اتصال سری - موازی مقاومت‌های الکتریکی
- ۴- اتصال پیل‌ها



واحد یادگیری ۶

اتصال مقاومتهای اهمی





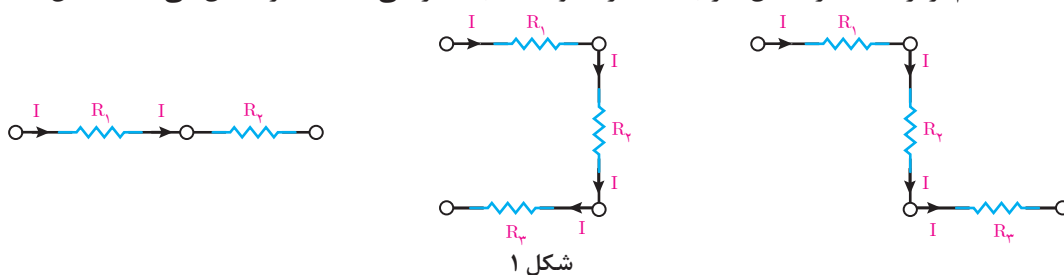
## اتصال مقاومت‌های الکتریکی

اتصال مقاومت‌های الکتریکی بین مقاومت‌هایی که در مدار الکتریکی قرار می‌گیرند، برقرار می‌شود. اتصال بین مقاومت‌های الکتریکی مدار به سه شکل امکان‌پذیر است:

- اتصال سری مقاومت‌های الکتریکی
  - اتصال موازی مقاومت‌های الکتریکی
  - اتصال سری و موازی مقاومت‌های الکتریکی
- که در ادامه به هریک از آنها پرداخته می‌شود.

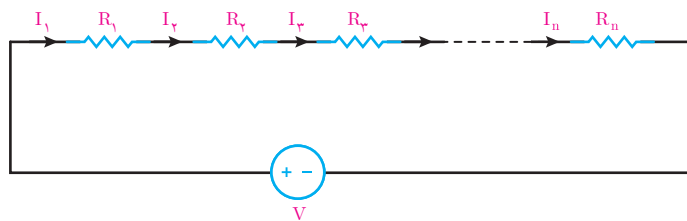
## اتصال سری مقاومت‌های الکتریکی

اتصال سری مقاومت‌های الکتریکی بین دو یا چند مقاومت به شرطی ایجاد می‌شود که جریان عبوری هریک از مقاومت‌ها با هم برابر باشد. در اتصال سری یک سر مقاومت‌های الکتریکی به یکدیگر اتصال می‌یابد. (شکل ۱)



هنگامی که دو یا چند مقاومت با یکدیگر اتصال سری پیدا می‌کنند تشکیل یک مدار الکتریکی می‌دهند که اصطلاحاً آن را «مدار سری» گویند.

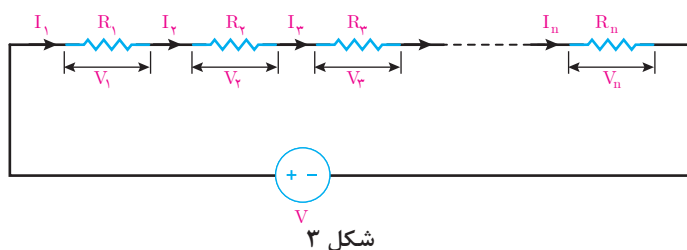
جریان عبوری از مقاومت‌هایی که با یکدیگر اتصال سری دارند برابر است و این یک شرط اساسی در مدارهای سری می‌باشد. در شکل ۲ تا  $n$  مقاومت که با یکدیگر اتصال سری دارند و تشکیل یک مدار سری داده‌اند نشان داده شده است.



$$I_1 = I_2 = I_3 = \dots = I_n$$

همانطور که از شکل برمی‌آید می‌توان نوشت:

با عبور جریان از مقاومت‌های (شکل ۳)، در دو سر هر یک از مقاومت‌ها ولتاژ ایجاد می‌شود.



به ولتاژی که در دو سر هر مقاومت قرار می‌گیرد اصطلاحاً «افت ولتاژ» گویند و با استفاده از قانون اهم به دست می‌آیند.

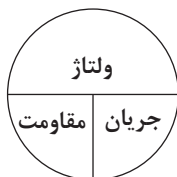
جریان  $\times$  مقاومت = ولتاژ

$$V_1 = R_1 I_1$$

$$V_2 = R_2 I_2$$

⋮

$$V_n = R_n I_n$$



با توجه به شرط اساسی مدارهای سری جریان مقاومت‌های با اتصال سری با هم برابرند لذا می‌توان نوشت:

$$I = I_1 = I_2 = I_3 = \dots = I_n$$

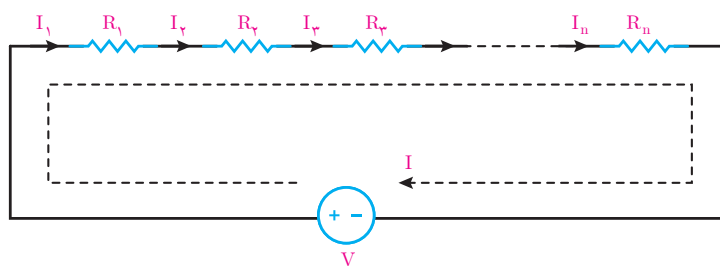
و روابط افت ولتاژ دو سر هر مقاومت را با جایگزینی  $I$  به صورت زیر می‌توان نوشت:

$$V_1 = R_1 I$$

$$V_2 = R_2 I$$

⋮

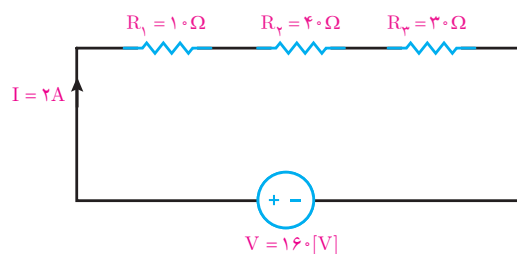
$$V_n = R_n I$$



شکل ۴

مسیر عبور جریان از مقاومت‌های سری و منبع (شکل ۴) با حلقه جریان  $I$  نشان داده شده است. در مدارهای الکتریکی با حرکت در حلقه به جای اول خواهیم رسید لذا این حلقه را «مسیر بسته» گویند.

مثال: افت ولتاژ دو سر هر یک از مقاومت‌های مدار شکل زیر را به دست آورید:



شکل ۵

حل: مقاومت‌های  $R_1$ ،  $R_2$  و  $R_3$  با یکدیگر اتصال سری دارند لذا جریان آنها با هم برابر است یعنی:

$$I = I_1 = I_2 = I_3 = 2[A]$$

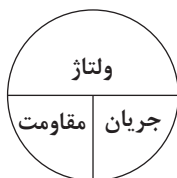
با استفاده از قانون اهم افت ولتاژها محاسبه می‌شود.

جریان  $\times$  مقاومت = ولتاژ

$$V_1 = R_1 I = 10 \times 2 = 20 [V]$$

$$V_2 = R_2 I = 40 \times 2 = 80 [V]$$

$$V_3 = R_3 I = 30 \times 2 = 60 [V]$$



## قانون ولتاژ کیرشهف KVL

قانون ولتاژ کیرشهف KVL بیان می‌کند «حاصل جمع جبری ولتاژها در هر مسیر بسته صفر است» و با رابطه ریاضی زیر بیان می‌شود:

$$\sum V + \sum RI = 0$$

برای نوشتن رابطه ریاضی قانون ولتاژ کیرشهف یا KVL به صورت زیر عمل می‌شود:

۱- برای مسیر بسته یک حلقه جریان I در جهت حرکت عقربه ساعت اختیار می‌شود.

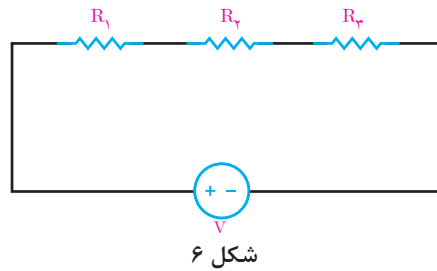
۲- افت ولتاژهای دو سر هر مقاومت با علامت (+) لحاظ می‌شود و مجموع آنها را با  $\sum RI$  نشان می‌دهند.

۳- اگر جریان حلقه I به پلاریته (+) منبع وارد شود ولتاژ منبع V با علامت مثبت نوشته می‌شود و اگر جریان حلقه I به پلاریته (-) منبع وارد شود ولتاژ منبع V را با علامت منفی می‌نویسند و حاصل را با  $\sum V$  نشان می‌دهند.

۴-  $\sum V$  و  $\sum RI$  در رابطه ریاضی قانون ولتاژ کیرشهف قرار داده می‌شود.

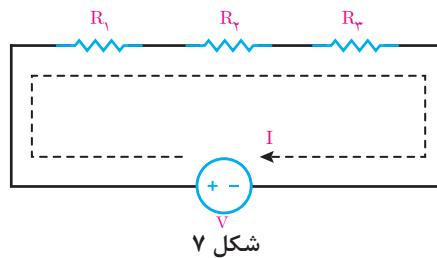
$$\sum V + \sum RI = 0$$

اکنون در مدار (شکل ۶) قانون ولتاژ کیرشهف اعمال می‌شود.



شکل ۶

۱- جریان حلقه I در جهت حرکت عقربه ساعت برای آن ترسیم می‌شود (شکل ۷).



شکل ۷

۲-  $\sum RI$  به صورت زیر نوشته می‌شود.

$$\sum RI = + R_1 I_1 + R_2 I_2 + R_3 I_3$$

۳-  $\sum V$  به صورت زیر نوشته می‌شود:

$$\sum V = -V$$

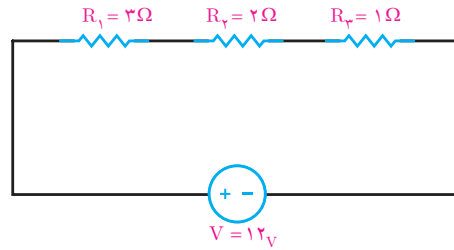
جریان حلقه I به پلاریته منفی منبع ولتاژ وارد می‌شود لذا علامت (-) برای V لحاظ شده است.

۴- رابطه ریاضی قانون ولتاژ کیرشهف نوشته می‌شود.

$$\text{KVL) } \sum V + \sum RI = 0$$

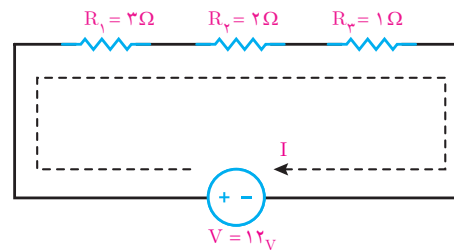
$$\text{KVL) } -V + R_1 I + R_2 I + R_3 I = 0$$

مثال: قانون ولتاژ کیرشهف را برای مدار شکل زیر بنویسید و به کمک آن جریان مدار را به دست آورید.



شکل ۸

حل: جریان حلقه I در جهت حرکت عقربه ساعت ترسیم می شود.



شکل ۹

اکنون رابطه ریاضی قانون ولتاژ کیرشهف نوشته می شود.

$$\text{KVL) } \Sigma V + \Sigma RI = 0$$

$$\text{KVL) } -V + R_1 I + R_2 I + R_3 I = 0$$

$$-12 + 3I + 2I + 1I = 0$$

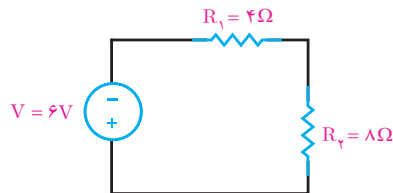
$$-12 + 6I = 0$$

$$6I = 12$$

$$I = \frac{12}{6} = +2A$$

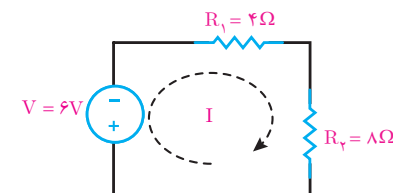
جریان حلقه I برابر ۲ آمپر می باشد. علامت (+) بیانگر این است که جهت جریان حلقه I موافق جهت جریان مسیر بسته می باشد.

مثال: قانون ولتاژ کیرشهف را برای مدار شکل زیر بنویسید و به کمک آن جریان مدار را به دست آورید.



شکل ۱۰

حل: جریان حلقه I در جهت حرکت عقربه ساعت ترسیم می شود.



شکل ۱۱

اکنون رابطه ریاضی قانون کیرشهف نوشته می‌شود.

$$\text{KVL}) \sum V + \sum RI = 0$$

$$\text{KVL}) +V + R_1 I + R_2 I = 0$$

$$+6 + 4I + 8I = 0$$

$$+6 + 12I = 0$$

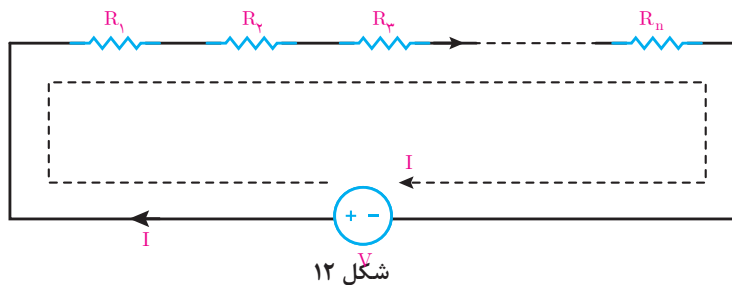
$$12I = -6$$

$$I = \frac{-6}{12} = -0.5 \text{ A}$$

جریان حلقه I برابر 0.5 آمپر می‌باشد. علامت (-) بیانگر این است که جهت جریان حلقه I خلاف جهت جریان مسیر بسته می‌باشد.

## مقاومت معادل

مقاومت معادل عبارت است از مقاومتی که جای چند مقاومت در مدار قرار می‌گیرد به طوری که در جریان و ولتاژ مدار تغییر ایجاد نمی‌شود، مقاومت معادل را با  $R_{eq}$  نشان می‌دهند. برای به دست آوردن مقاومت معادل در مدارهای سری از KVL استفاده می‌شود. برای این منظور n تا مقاومت سری مدار شکل زیر در نظر گرفته می‌شود (شکل ۱۲).



برای مدار KVL نوشته می‌شود

$$\text{KVL}) -V + R_1 I + R_2 I + R_3 I + \dots + R_n I = 0$$

$$V = R_1 I + R_2 I + R_3 I + \dots + R_n I$$

از I فاکتور گرفته می‌شود:

$$V = I (R_1 + R_2 + R_3 + \dots + R_n)$$

طرفین رابطه بر I تقسیم می‌شود.

$$\frac{V}{I} = R_1 + R_2 + R_3 + \dots + R_n$$

نسبت  $\frac{V}{I}$  همان  $R_{eq}$  است:

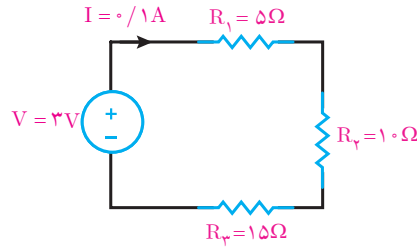
$$R_{eq} = R_1 + R_2 + R_3 + \dots + R_n$$

از این رابطه برای محاسبه مقاومت معادل بین n تا مقاومت با اتصال سری استفاده می‌شود.

مثال: مقاومت معادل مدار (شکل ۱۳) را به دست آورید.

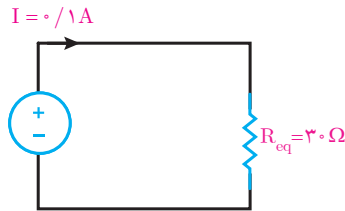
$$R_{eq} = R_1 + R_2 + R_3$$

$$R_{eq} = 5 + 10 + 15 = 30 \Omega$$



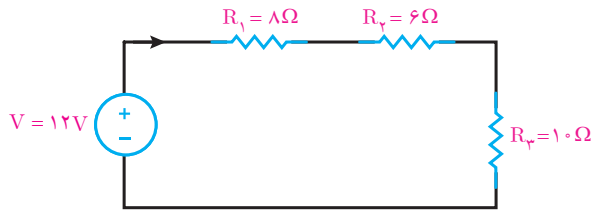
شکل ۱۳

مقاومت معادل Req جایگزین مقاومت‌های  $R_1$ ،  $R_2$  و  $R_3$  خواهد شد به طوری که در شدت جریان مدار تغییری ایجاد نمی‌شود (شکل ۱۴).



شکل ۱۴

مثال: در مدار (شکل ۱۵) مطلوب است:



شکل ۱۵

الف) مقاومت معادل

$$R_{eq} = R_1 + R_2 + R_3$$

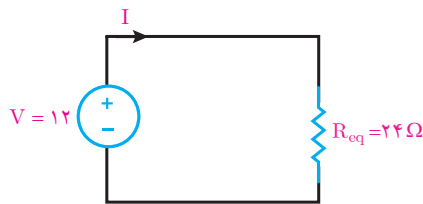
$$R_{eq} = 8 + 6 + 10 = 24 \Omega$$

ب) شدت جریان مدار.

مقاومت معادل Req در (شکل ۱۶) جایگزین مقاومت‌های  $R_1$ ،  $R_2$  و  $R_3$  شده است اکنون به کمک قانون اهم جریان مدار محاسبه می‌شود.

$$\text{ولتاژ} = \text{جریان} \times \text{مقاومت}$$

$$I = \frac{V}{R_{eq}} = \frac{12}{24} = 0.5 \text{ [A]}$$



شکل ۱۶

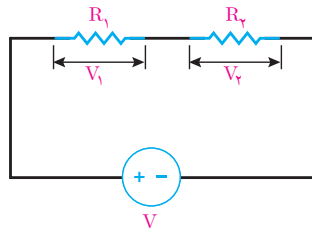


## تقسیم ولتاژ بین دو مقاومت سری

افت ولتاژ دو سر مقاومت‌ها بخشی از ولتاژ منبع مدار است. افت ولتاژ دو سر مقاومت را می‌شود بدون استفاده از جریان با رابطه تقسیم ولتاژ محاسبه کرد. رابطه تقسیم ولتاژ بین دو مقاومت سری به صورت زیر است (شکل ۱۷).

$$V_1 = V \frac{R_1}{R_1 + R_2}$$

$$V_2 = V \frac{R_2}{R_1 + R_2}$$



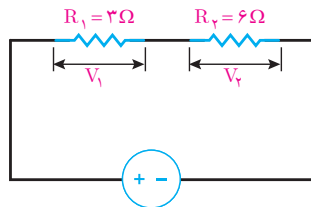
شکل ۱۷

رابطه تقسیم ولتاژ بین دو مقاومت سری را اثبات کنید.

فعالیت کلاسی



مثال: در مدار شکل زیر با استفاده از رابطه تقسیم ولتاژ مقدار  $V_1$  و  $V_2$  را به دست آورید (شکل ۱۸)



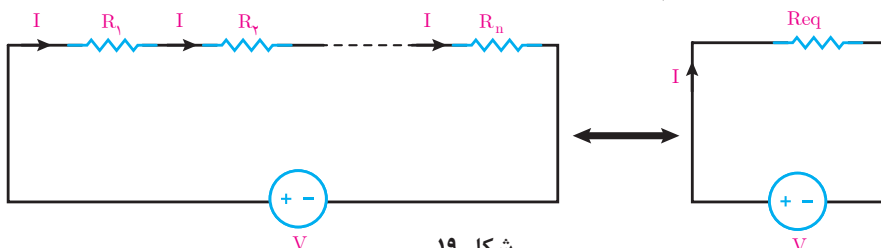
شکل ۱۸  
 $V = 12[V]$

$$V_1 = V \frac{R_1}{R_1 + R_2} = 12 \times \frac{3}{3 + 6} = \frac{36}{9} = 4[V]$$

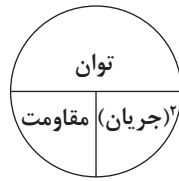
$$V_2 = V \frac{R_2}{R_1 + R_2} = 12 \times \frac{6}{3 + 6} = \frac{72}{9} = 8[V]$$

## توان مدار سری

توان مدار سری از حاصل جمع توان همه مقاومت‌های مدار به دست می‌آید. در مدار الکتریکی (شکل ۱۹) که شامل  $n$  مقاومت سری است داریم:



شکل ۱۹



توان = مقاومت × (جریان)<sup>۲</sup>  
 $P = RI^2$

توان مدار الکتریکی (شکل ۱۹) از مجموع توان هر مقاومت به دست می آید و آن را با  $P_{eq}$  نشان می دهند.  
 $P_{eq} = R_1 I^2 + R_2 I^2 + \dots + R_n I^2$

از فاکتور گرفته می شود.

$$P_{eq} = (R_1 + R_2 + \dots + R_n) I^2$$

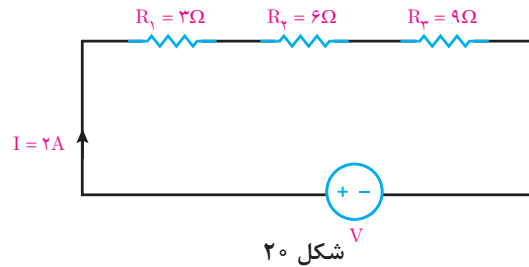
حاصل پرانتز همان مقاومت معادل مدار سری است لذا:

$$P_{eq} = R_{eq} I^2$$

این رابطه نشان می دهد توان مدار سری با توان مقاومت معادل سری نیز برابر است یعنی:

$$P_{eq} = (R_1 + R_2 + \dots + R_n) I^2 = R_{eq} I^2$$

مثال: توان مدار الکتریکی (شکل ۲۰) را به دست آورید.



شکل ۲۰

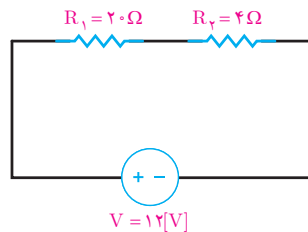
حل: توان مدار از مجموع توان مقاومت های  $R_1$ ،  $R_2$  و  $R_3$  به دست می آید.

$$P_{eq} = R_1 I^2 + R_2 I^2 + R_3 I^2$$

$$P_{eq} = 3(2)^2 + 6(2)^2 + 9(2)^2$$

$$P_{eq} = 12 + 24 + 36 = 72 [W]$$

مثال: توان مدار الکتریکی (شکل ۲۱) را به دست آورید.



شکل ۲۱

حل: مقاومت معادل مدار به دست می آید.

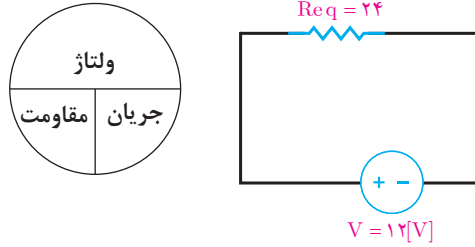
$$R_{eq} = R_1 + R_2 = 20 + 4 = 24 \Omega$$



از قانون اهم جریان مدار به دست می آید (شکل ۲۲).

$$\text{ولتاژ} = \frac{\text{ولتاژ}}{\text{مقاومت}} \times \text{جریان}$$

$$I = \frac{V}{R_{eq}} = \frac{12}{24} = 0.5 [A]$$



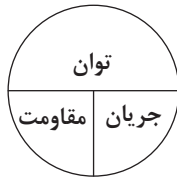
شکل ۲۲

توان مقاومت معادل  $R_{eq}$  برابر مجموع توان  $R_1$  و  $R_2$  است لذا:

$$\text{توان} = (\text{جریان})^2 \times \text{مقاومت}$$

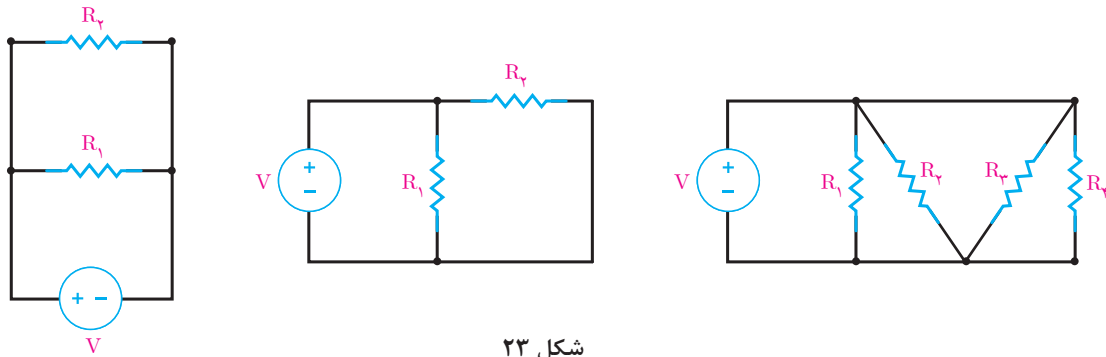
$$P_{eq} = R_{eq} I^2$$

$$P_{eq} = 24 \times 0.5^2 = 6 [W]$$



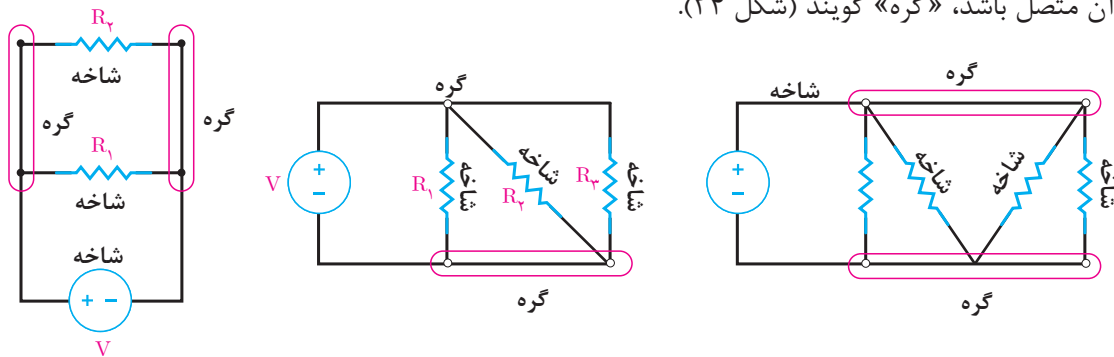
## اتصال موازی مقاومت های الکتریکی

اتصال موازی مقاومت های الکتریکی بین دو یا چند مقاومت به شرطی ایجاد می شود که ولتاژ دو سر هر یک از مقاومت ها با هم برابر باشند. در اتصال موازی دو سر مقاومت های الکتریکی به یکدیگر اتصال می یابد (شکل ۲۳).



شکل ۲۳

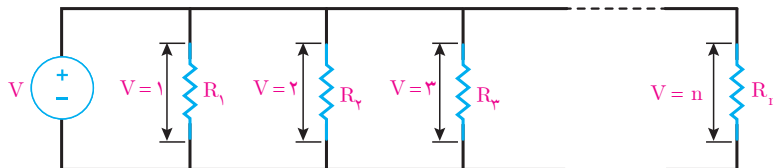
مسیر عبور جریان از هر مقاومت موازی و منبع را (شاخه) گویند و نقطه ای از مدار را که بیش از دو شاخه به آن متصل باشد، «گره» گویند (شکل ۲۴).



شکل ۲۴

هنگامی که دو یا چند مقاومت با یکدیگر اتصال موازی پیدا می‌کنند تشکیل یک مدار الکتریکی می‌دهند که اصطلاحاً آن را «مدار موازی» گویند.

ولتاژ دو سر مقاومت‌هایی که با یکدیگر اتصال موازی دارند برابر است و این یک شرط اساسی در مدارهای موازی می‌باشد. در (شکل ۲۵)،  $n$  تا مقاومت که با یکدیگر اتصال موازی دارند و تشکیل یک مدار موازی داده‌اند نشان داده شده است.

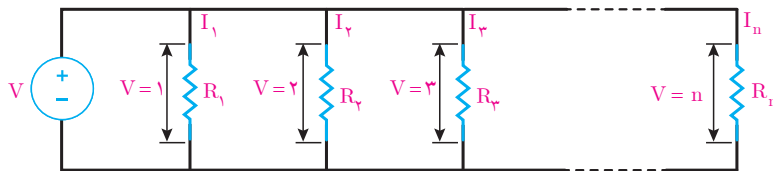


شکل ۲۵

همانطور که از شکل برمی‌آید می‌توان نوشت:

$$V_1 = V_2 = V_3 = \dots = V_n$$

ولتاژ دو سر هر یک از مقاومت‌های (شکل ۲۶) در هر یک از مقاومت‌ها جریان جاری می‌کند (شکل ۲۶).



شکل ۲۶

جریان هر یک از مقاومت‌ها با استفاده از قانون اهم به دست می‌آیند.

$$\text{ولتاژ} \\ \text{جریان} = \frac{\text{مقاومت}}$$

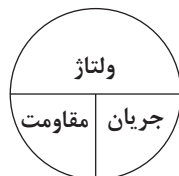
$$I_1 = \frac{V_1}{R_1}$$

$$I_2 = \frac{V_2}{R_2}$$

$$I_3 = \frac{V_3}{R_3}$$

⋮

$$I_n = \frac{V_n}{R_n}$$



با توجه به شرط اساسی مدارهای موازی ولتاژ مقاومت‌های با اتصال موازی با هم برابرند لذا می‌توان نوشت:

$$V = V_1 = V_2 = V_3 = \dots = V_n$$

و روابط جریان هر مقاومت را با جایگزینی  $V$  به صورت زیر می توان نوشت:

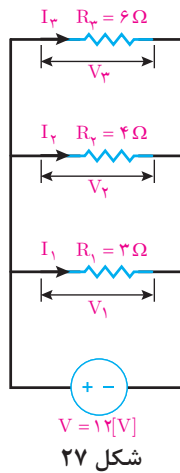
$$I_1 = \frac{V}{R_1}$$

$$I_2 = \frac{V}{R_2}$$

⋮

$$I_n = \frac{V}{R_n}$$

مثال: جریان شاخه های هر یک از مقاومت های مدار (شکل ۲۷) را به دست آورید.



حل: مقاومت های  $R_1$ ،  $R_2$  و  $R_3$  با یکدیگر اتصال موازی دارند لذا ولتاژ آنها با هم برابر است، یعنی:

$$V = V_1 = V_2 = V_3 = 12[V]$$

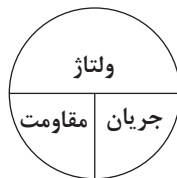
با استفاده از قانون اهم جریان هر یک از شاخه های مقاومت ها محاسبه می شود.

$$\text{ولتاژ} \\ \text{جریان} = \frac{\text{مقاومت}}$$

$$I_1 = \frac{V}{R_1} = \frac{12}{3} = 4[A]$$

$$I_2 = \frac{V}{R_2} = \frac{12}{4} = 3[A]$$

$$I_3 = \frac{V}{R_3} = \frac{12}{6} = 2[A]$$



## قانون جریان کیرشهف KCL

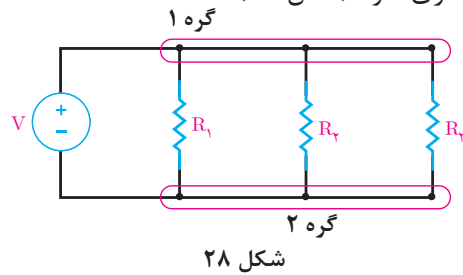
قانون جریان کیرشهف KCL بیان می کند «حاصل جمع جبری جریان هایی که به یک گره می رسد صفر است» و با رابطه ریاضی زیر بیان می شود:

$$\text{KCL) } I_1 + I_2 + I_3 + \dots + I_n = 0$$

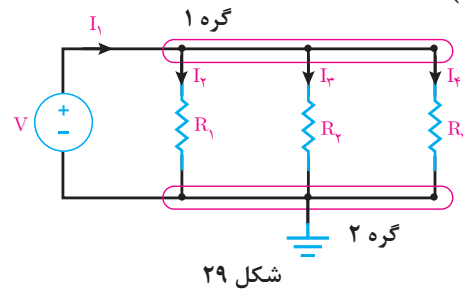
که می توان آن را به صورت زیر نیز نوشت:

$$\text{KCL) } \sum_{i=1}^n I_i = 0$$

برای نوشتن رابطه ریاضی قانون جریان کیرشهف یا KCL به صورت زیر عمل می‌شود.  
 ۱- گره‌های مدار مشخص و نام‌گذاری شود (شکل ۲۸).



۲- یکی از گره‌ها زمین شود و برای شاخه‌های متصل به گره‌های دیگر جهت جریان مشخص می‌شود. در اینجا گره ۲ زمین شده است (شکل ۲۹).

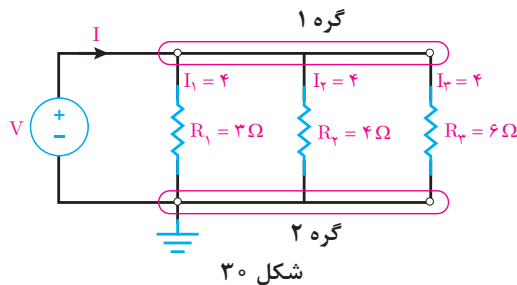


۳- برای نوشتن KCL برای گره ۱ جریان‌هایی که به گره وارد می‌شوند با علامت (+) و جریان‌هایی که از گره خارج می‌شوند با علامت (-) اختیار می‌شود و سپس رابطه ریاضی قانون جریان کیرشهف نوشته می‌شود.

$$KCL) \sum_{i=1}^n I_i = 0$$

$$KCL) + I_1 - I_2 - I_3 - I_4 = 0$$

مثال: قانون جریان کیرشهف را برای مدار شکل زیر بنویسید و به کمک آن جریان منبع را به دست آورید (شکل ۳۰).



حل: جهت جریان شاخه‌ها در شکل مشخص شده است لذا رابطه ریاضی قانون جریان کیرشهف نوشته می‌شود.

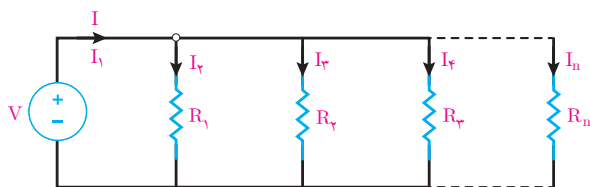
$$KCL) + I - I_1 - I_2 - I_3 = 0$$

$$KCL) + I - 4 - 3 - 2 = 0$$

$$I = 9 [A]$$

## مقاومت معادل

مقاومت معادل عبارت است از مقاومتی که جای چند مقاومت در مدار قرار می‌گیرد به طوری که در جریان و ولتاژ مدار تغییر ایجاد نمی‌شود. مقاومت معادل را با  $R_{eq}$  نشان می‌دهند. برای به دست آوردن مقاومت معادل در مدارهای موازی از KCL استفاده می‌شود. برای این منظور  $n$  تا مقاومت موازی مدار (شکل ۳۱) در نظر گرفته می‌شود.



شکل ۳۱

- برای مدار (شکل ۳۱) KCL نوشته می‌شود.

$$KCL) + I - I_1 - I_2 - I_3 - \dots - I_n = 0$$

$$I = I_1 + I_2 + I_3 + \dots + I_n$$

$$I_1 = \frac{V}{R_1}, I_2 = \frac{V}{R_2}, I_3 = \frac{V}{R_3}, \dots, I_n = \frac{V}{R_n}$$

- از قانون اهم مقادیر  $I_1$  تا  $I_n$  محاسبه می‌شود.

$$I = \frac{V}{R_1} + \frac{V}{R_2} + \frac{V}{R_3} + \dots + \frac{V}{R_n}$$

- مقادیر  $I_1$  تا  $I_n$  را در رابطه KCL قرار می‌دهند.

$$I = V \left( \frac{1}{R_1} + \frac{1}{R_2} + \frac{1}{R_3} + \dots + \frac{1}{R_n} \right)$$

- از  $V$  فاکتور گرفته می‌شود.

$$\frac{I}{V} = \frac{1}{R_1} + \frac{1}{R_2} + \frac{1}{R_3} + \dots + \frac{1}{R_n}$$

طرفین به  $V$  تقسیم می‌شود.

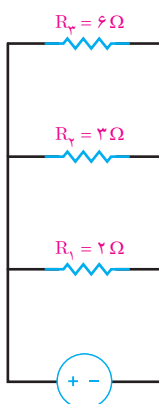
$$\frac{1}{R_{eq}} = \frac{1}{R_1} + \frac{1}{R_2} + \frac{1}{R_3} + \dots + \frac{1}{R_n}$$

- نسبت  $\frac{I}{V}$  همان  $\frac{1}{R_{eq}}$  است.

$$R_{eq} = \frac{1}{\frac{1}{R_1} + \frac{1}{R_2} + \frac{1}{R_3} + \dots + \frac{1}{R_n}}$$

تعیین رابطه برای محاسبه مقاومت معادل بین  $n$  تا مقاومت با اتصال موازی استفاده می‌شود.

مثال: مقاومت معادل مدار شکل زیر را به دست آورید (شکل ۳۲)

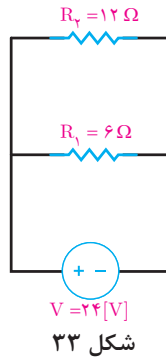


شکل ۳۲

$$R_{eq} = \frac{1}{\frac{1}{R_1} + \frac{1}{R_2} + \frac{1}{R_3}}$$

$$R_{eq} = \frac{1}{\frac{1}{2} + \frac{1}{3} + \frac{1}{6}} = 1 \Omega$$

مثال: در مدار (شکل ۳۳) مطلوب است:



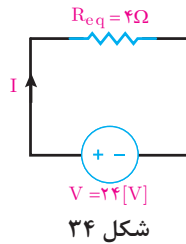
شکل ۳۳

$$R_{eq} = \frac{1}{\frac{1}{R_1} + \frac{1}{R_2}} = \frac{1}{\frac{1}{6} + \frac{1}{12}} = 4\Omega$$

الف) مقاومت معادل

ب) شدت جریان مدار

مقاومت معادل Req جایگزین R1 و R2 می شود (شکل ۳۴) و با استفاده از قانون اهم جریان مدار محاسبه خواهد شد.



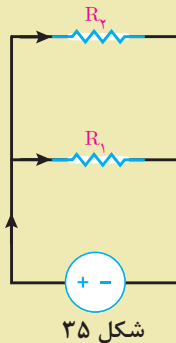
شکل ۳۴

$$\text{جریان} = \frac{\text{ولتاژ}}{\text{مقاومت}}$$

$$I = \frac{V}{R_{eq}} = \frac{24}{4} = 6[A]$$

نشان دهید برای دو مقاومت موازی R1 و R2 (شکل ۳۵) می توان از رابطه زیر مقاومت معادل را به دست آورد.

$$R_{eq} = \frac{R_1 R_2}{R_1 + R_2}$$



شکل ۳۵

فعالیت کلاسی

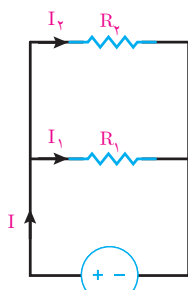


## تقسیم جریان بین دو مقاومت موازی

جریان مقاومت‌های هر شاخه بخشی از جریان منبع مدار است. جریان مقاومت هر شاخه را می‌شود بدون استفاده از ولتاژ با رابطه تقسیم جریان محاسبه کرد. رابطه تقسیم جریان بین دو مقاومت موازی (شکل ۳۶) به صورت زیر است.

$$I_1 = I \frac{R_2}{R_1 + R_2}$$

$$I_2 = I \frac{R_1}{R_1 + R_2}$$



شکل ۳۶

رابطه تقسیم جریان بین دو مقاومت موازی را اثبات کنید.

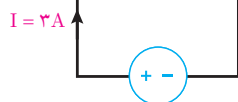
فعالیت کلاسی



مثال: در مدار (شکل ۳۷) با استفاده از رابطه تقسیم جریان، جریان‌های  $I_1$  و  $I_2$  را به دست آورید.

$$I_1 = I \frac{R_2}{R_1 + R_2} = 3 \times \frac{6}{3 + 6} = \frac{18}{9} = 2 \text{ [A]}$$

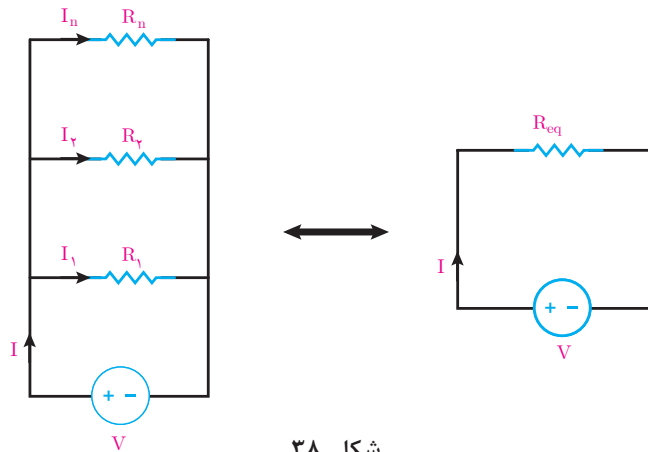
$$I_2 = I \frac{R_1}{R_1 + R_2} = 3 \times \frac{3}{3 + 6} = \frac{9}{9} = 1 \text{ [A]}$$



شکل ۳۷

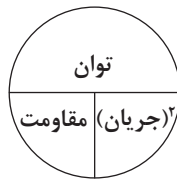
## توان مدار موازی

توان مدار موازی از حاصل جمع توان همه مقاومت‌های مدار به دست می‌آید. در مدار الکتریکی (شکل ۳۸) که شامل  $n$  مقاومت موازی است داریم:



شکل ۳۸

توان هر مقاومت برابر خواهد بود:



توان = (جریان)² × مقاومت

$$P = RI^2$$

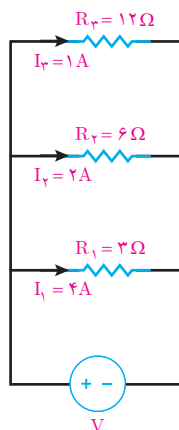
توان مدار الکتریکی (شکل ۳۸) از مجموع توان هر مقاومت به دست می‌آید و آن را با  $P_{eq}$  نشان می‌دهند.

$$P_{eq} = R_1 I_1^2 + R_2 I_2^2 + \dots + R_n I_n^2$$

توان مدار موازی نیز با توان مقاومت معادل مدار موازی برابر است یعنی:

$$P_{eq} = R_1 I_1^2 + R_2 I_2^2 + \dots + R_n I_n^2 = R_{eq} I^2$$

**مثال:** توان مدار الکتریکی (شکل ۳۹) را به دست آورید.



شکل ۳۹

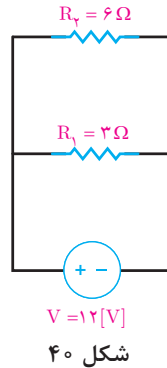


حل: توان مدار از مجموع توان مقاومت‌های  $R_1$  و  $R_2$  و  $R_3$  به دست می‌آید.

$$P_{eq} = R_1 I_1^2 + R_2 I_2^2 + R_3 I_3^2$$

$$P_{eq} = 3(4)^2 + 6(2)^2 + 12(1)^2 = 84 [W]$$

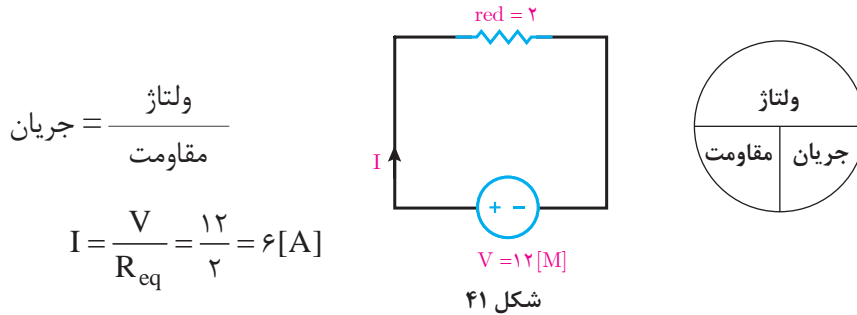
مثال: توان مدار الکتریکی (شکل ۴۰) را به دست آورید.



حل: مقاومت معادل مدار به دست می‌آید.

$$R_{eq} = \frac{1}{\frac{1}{R_1} + \frac{1}{R_2}} = \frac{1}{\frac{1}{3} + \frac{1}{6}} = 2 \Omega$$

مقاومت  $R_{eq}$  جایگزین  $R_1$  و  $R_2$  خواهد شد و جریان مدار از قانون اهم به دست می‌آید (شکل ۴۱)



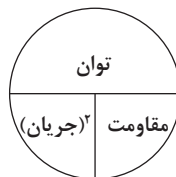
$$\text{جریان} = \frac{\text{ولتاژ}}{\text{مقاومت}}$$

$$I = \frac{V}{R_{eq}} = \frac{12}{2} = 6 [A]$$

- توان مقاومت معادل  $R_{eq}$  با مجموع توان مقاومت‌های  $R_1$  و  $R_2$  برابر است.

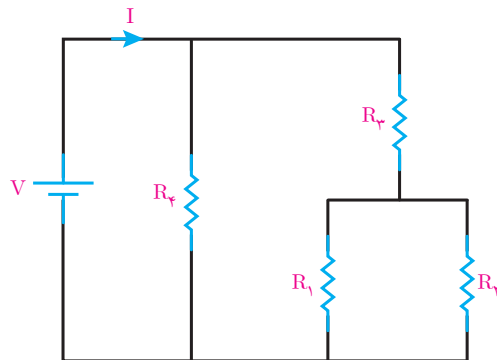
$$\text{توان} = (\text{جریان})^2 \times \text{مقاومت}$$

$$P_{eq} = R_{eq} I^2 = 2 \times 6^2 = 72 [W]$$



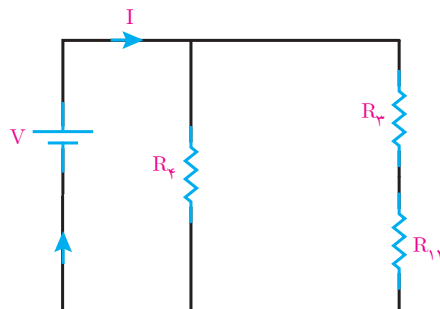
## مدارهای سری - موازی

مدارهای سری - موازی مدارهایی هستند که در آنها ترکیبی از مقاومت‌های سری و موازی شده وجود دارد (شکل ۴۲).



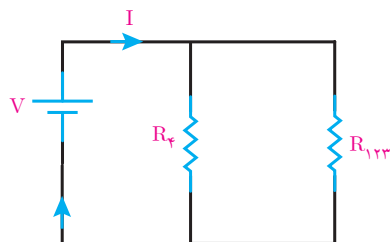
شکل ۴۲

در مدار (شکل ۴۳) مقاومت  $R_3$  و  $R_f$  با هم موازی هستند و معادل آنها با  $R_{12}$  نشان داده شده است (شکل ۴۳).



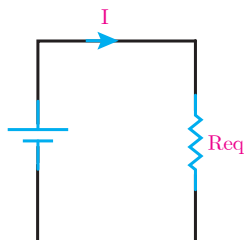
شکل ۴۳

مقاومت  $R_{12}$  با  $R_3$  سری شده است و مقاومت معادل آنها فقط با  $R_{123}$  نشان داده شده است (شکل ۴۴).



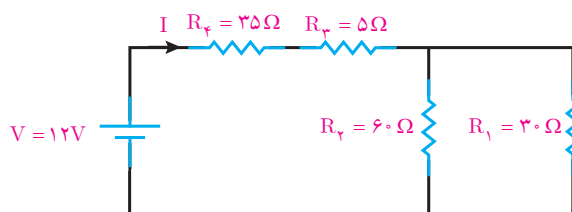
شکل ۴۴

مقاومت  $R_{1,2,3}$  با  $R_f$  موازی شده است و مقاومت معادل آنها با  $R_{eq}$  نشان داده شده است (شکل ۴۵).



شکل ۴۵

مثال: مقاومت معادل مدار (شکل ۴۶) زیر را به دست آورید و سپس جریان مدار را محاسبه کنید.

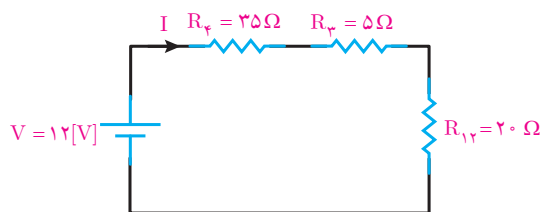


شکل ۴۶

حل: مقاومت‌های  $R_1$  و  $R_2$  با هم موازی هستند و معادل آنها  $R_{1,2}$  به دست می‌آید.

$$R_{1,2} = \frac{R_1 \times R_2}{R_1 + R_2} = \frac{30 \times 60}{30 + 60} = 20 \Omega$$

با جایگزینی  $R_{1,2}$  به جای  $R_1$  و  $R_2$  شکل ۴۷ به دست می‌آید.



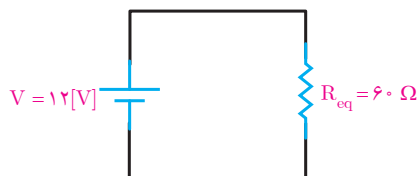
شکل ۴۷

مقاومت  $R_{1,2}$ ،  $R_f$  و  $R_p$  با هم سری هستند و معادل آنها  $R_{eq}$  به دست می‌آید.

$$R_{eq} = R_f + R_p + R_{1,2}$$

$$R_{eq} = 35 + 5 + 20 = 60 \Omega$$

با جایگزینی  $R_{eq}$  به جای  $R_f$ ،  $R_p$  و  $R_{1,2}$  (شکل ۴۸) به دست می‌آید.

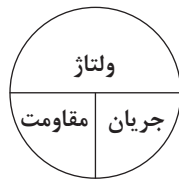


شکل ۴۸

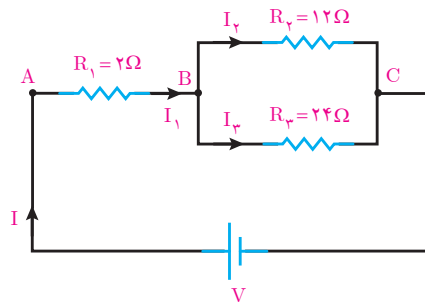
با قانون اهم جریان مدار به دست می آید.

$$\text{ولتاژ} = \frac{\text{مقاومت}}{\text{جریان}}$$

$$I = \frac{V}{R_{eq}} = \frac{12}{60} = 0.2 [A]$$



مثال: در مدار (شکل ۴۹) اگر  $V_{BC} = 48V$  باشد جریان منبع را به دست آورید.



شکل ۴۹

حل:  $V_{BC}$  ولتاژ دو سر مقاومت های  $R_2$  و  $R_3$  می باشد.  $R_2$  و  $R_3$  با هم موازی هستند و با قانون اهم جریان شاخه های آنها به دست می آید.

$$\text{ولتاژ} = \frac{\text{مقاومت}}{\text{جریان}}$$

$$I_2 = \frac{V_{BC}}{R_2} = \frac{48}{12} = 4 [A]$$

$$I_3 = \frac{V_{BC}}{R_3} = \frac{48}{24} = 2 [A]$$



با نوشتن KCL برای گره B جریان  $I_1$  به دست می آید.

$$KCL) + I_1 - I_2 - I_3 = 0$$

$$+ I_1 - 4 - 2 = 0$$

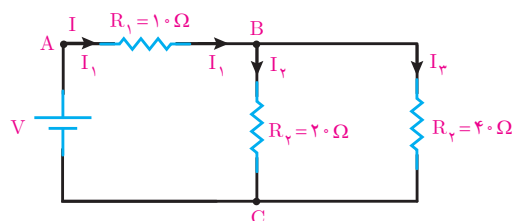
$$I_1 = 6 [A]$$

با توجه به (شکل ۴۹) جریان منبع I با جریان عبوری از مقاومت سری  $R_1$  برابر است لذا:

$$I = I_1$$

$$I = 6 [A]$$

مثال: در مدار (شکل ۵۰)،  $V_{AB} = 30V$  می باشد. ولتاژ منبع چند ولت است؟

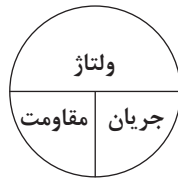


شکل ۵۰

حل: از قانون اهم جریان مقاومت  $R_1$  به دست می آید.

$$\text{ولتاژ} = \frac{\text{ولتاژ}}{\text{مقاومت}} = \text{جریان}$$

$$I_1 = \frac{V_{AB}}{R_1} = \frac{30}{10} = 3 [A]$$



از رابطه تقسیم جریان بین دو مقاومت موازی  $I_2$  و  $I_3$  به دست می آید.

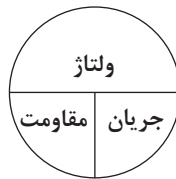
$$I_2 = I_1 \frac{R_3}{R_2 + R_3} = 3 \times \frac{40}{20 + 40} = \frac{120}{60} = 2 [A]$$

$$I_3 = I_1 \frac{R_2}{R_2 + R_3} = 3 \times \frac{20}{20 + 40} = \frac{60}{60} = 1 [A]$$

از قانون اهم ولتاژ دو سر مقاومت  $R_2$  که  $V_{BC}$  نشان داده می شود به دست می آید.

جریان  $\times$  مقاومت = ولتاژ

$$V_{BC} = R_2 I_2 = 20 \times 2 = 40 [V]$$



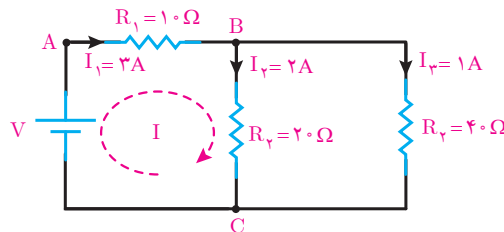
از قانون ولتاژهای کیرشهف KVL ولتاژ منبع به دست می آید (شکل ۵۱).

$$\text{KVL) } - V + R_1 I_1 + R_2 I_2 = 0$$

$$\text{KVL) } - V + 10(3) + 20(2) = 0$$

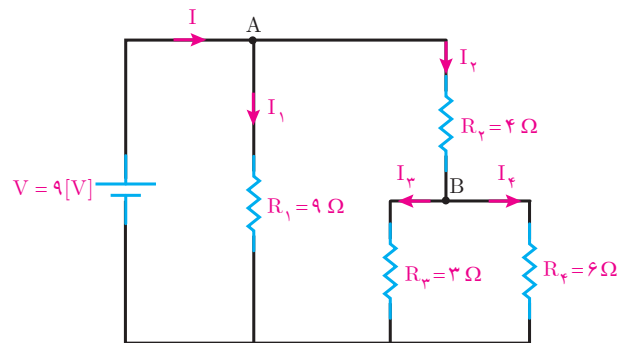
$$\text{KVL) } - V + 30 + 40 = 0$$

$$V = 70 [V]$$



شکل ۵۱

مثال: جریان هر یک از شاخه های مدار (شکل ۵۲) را به دست آورید.

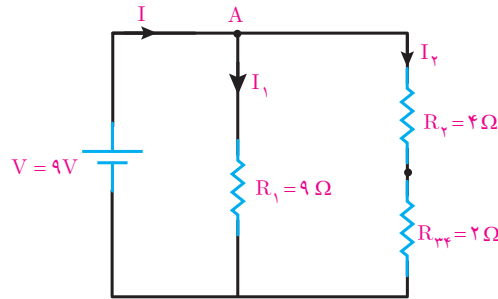


شکل ۵۲

حل: مقاومت‌های  $R_3$  و  $R_4$  با هم موازی هستند. مقاومت معادل آنها  $R_{34}$  به دست می‌آید.

$$R_{34} = \frac{R_3 R_4}{R_3 + R_4} = \frac{3 \times 6}{3 + 6} = \frac{18}{9} = 2[\Omega]$$

با جایگزینی  $R_{34}$  به جای  $R_3$  و  $R_4$  (شکل ۵۳) به دست می‌آید.

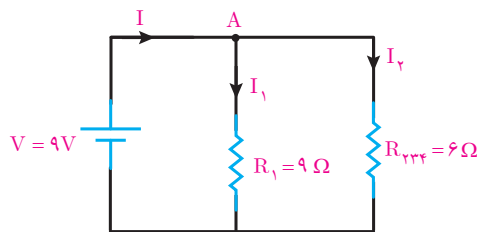


شکل ۵۳

مقاومت‌های  $R_2$  و  $R_{34}$  با هم سری هستند مقاومت معادل آنها  $R_{234}$  به دست می‌آید.

$$R_{234} = R_2 + R_{34} = 4 + 2 = 6[\Omega]$$

با جایگزینی  $R_{234}$  به جای  $R_2$  و  $R_{34}$  (شکل ۵۴) به دست می‌آید.



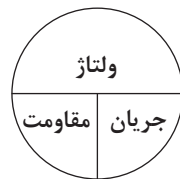
شکل ۵۴

از قانون اهم جریان‌های  $I_1$  و  $I_2$  به دست می‌آید.

$$\text{ولتاژ} \\ \text{مقاومت} = \text{جریان}$$

$$I_1 = \frac{V}{R_1} = \frac{9}{9} = 1[A]$$

$$I_2 = \frac{V}{R_{234}} = \frac{9}{6} = 1.5[A]$$



بانوشتن KCL برای گره A جریان منبع I به دست می‌آید.

$$KCLA) + I - I_1 - I_2 = 0$$

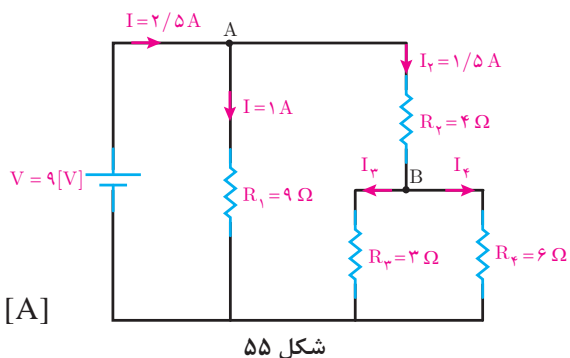
$$+ I - 1 - 1.5 = 0$$

$$I = 2.5[A]$$

اکنون با به دست آمدن  $I$  و  $I_1$  و  $I_2$  و با توجه به (شکل ۵۵) و استفاده از روابط تقسیم جریان بین دو مقاومت موازی  $R_3$  و  $R_4$  جریان  $I_3$  و  $I_4$  به دست می آید.

$$I_3 = I_2 \frac{R_4}{R_3 + R_4} = 1/5 \times \frac{6}{3+6} = \frac{9}{9} = 1 \text{ [A]}$$

$$I_4 = I_2 \frac{R_3}{R_3 + R_4} = 1/5 \times \frac{3}{3+6} = \frac{4}{9} = 0/5 \text{ [A]}$$



شکل ۵۵


## مقاومت الکتریکی متغیر

مقاومت الکتریکی متغیر مقاومتی است که مقدار آن قابل تنظیم می باشد (شکل ۵۶).



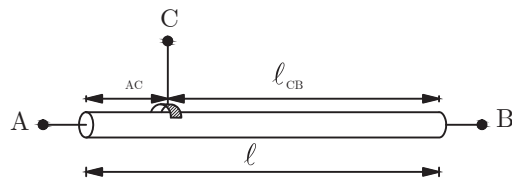
شکل ۵۶

مقاومت الکتریکی متغیر تشکیل شده از سیم با جنس کروم نیکل که یک لغزنده به روی آن حرکت می کند. مقاومت سیم با طول سیم متناسب است لذا می توان با تغییر طول سیم به یک مقاومت متغیر رسید. سیمی به طول  $l$  مطابق (شکل ۵۷) در نظر است.



شکل ۵۷

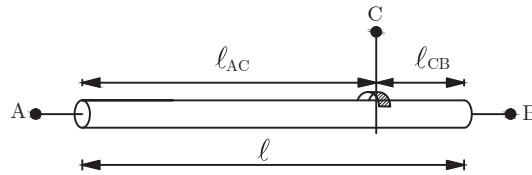
مقاومت الکتریکی بین سری های  $A$  و  $B$  متناسب با طول، سطح مقطع و جنس سیم مقدار مشخصی دارد. یک لغزنده مطابق (شکل ۵۸) با سیم تماس داده شده است.



شکل ۵۸

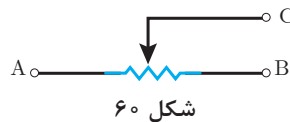
مقاومت الکتریکی بین سری های  $A$  و  $C$  متناسب با طول  $l_{AC}$  و مقاومت بین سری های  $C$  و  $B$  متناسب با طول  $l_{CB}$  می باشد.

با جابه‌جایی لغزنده طول‌های  $l_{AC}$  و  $l_{CB}$  تغییر کرده و متناسب با آن مقاومت الکتریکی سری‌های A و C و مقاومت الکتریکی سری‌های B و C تغییر می‌نماید (شکل ۵۹).



شکل ۵۹

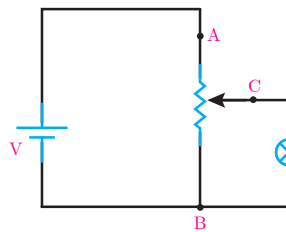
بنابراین مقاومت الکتریکی  $R_{AB}$  ثابت و مقاومت‌های الکتریکی  $R_{AC}$  و  $R_{CB}$  متغیر می‌باشد که با جابه‌جایی لغزنده مقدار آنها تغییر می‌کند. مقاومت الکتریکی متغیر در مدارهای الکتریکی مطابق (شکل ۶۰) نشان داده می‌شود.



شکل ۶۰

## پتانسیومتر

پتانسیومتر، مقاومت الکتریکی متغیری است که سری‌های A، B و C آن در مدار الکتریکی قرار می‌گیرند (شکل ۶۱).

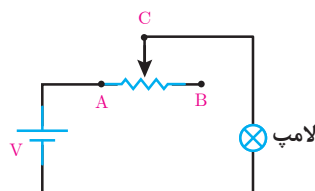


شکل ۶۱

از پتانسیومتر برای تغییر ولتاژ بین سری‌های C و B بر اساس تقسیم ولتاژ بین سری‌های AC و CB استفاده می‌کنند. در (شکل ۶۱) با جابه‌جایی لغزنده ولتاژ لامپ تغییر و متناسب آن نور تغییر می‌کند.

## رئوستا

رئوستا، مقاومت الکتریکی متغیری است که سری‌های A و C آن در مدار الکتریکی قرار می‌گیرند (شکل ۶۲).



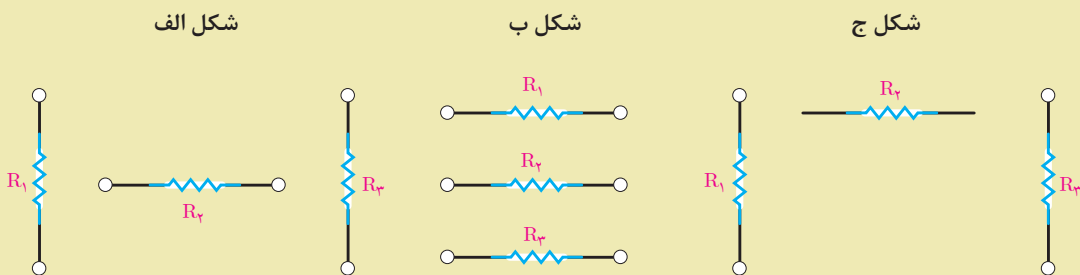
شکل ۶۲

از رئوستا برای تغییر جریان استفاده می‌شود. در (شکل ۶۲) با جابه‌جایی لغزنده جریان لامپ تغییر می‌نماید و متناسب آن افت ولتاژ دو سر لامپ و نور لامپ تغییر می‌کند.





- ۱- مدار سری را تعریف کنید و ویژگی‌های آن را با رسم شکل شامل سه مقاومت بنویسید.
- ۲- مدار موازی را تعریف کنید و ویژگی‌های آن را با رسم شکل شامل سه مقاومت بنویسید.
- ۳- قانون ولتاژهای کیرشهف (KVL) را تعریف کنید و رابطه ریاضی آن را بنویسید.
- ۴- قانون جریان‌های کیرشهف (KCL) را تعریف کنید و رابطه ریاضی آن را بنویسید.
- ۵- مفاهیم زیر را تعریف کنید.  
الف) گره      ب) شاخه      ج) مسیر بسته      د) مدار سری - موازی
- ۶- مقاومت متغیر را تعریف کنید و ساختمان آن را تشریح کنید.
- ۷- پتانسیومتر را تعریف کنید و نحوه اتصال آن را در یک مدار الکتریکی نشان دهید.
- ۸- رئوستا را تعریف کنید و نحوه اتصال آن را در یک مدار الکتریکی نشان دهید.
- ۹- مقاومت‌های الکتریکی شکل‌های زیر را به صورت سری به یکدیگر اتصال دهید.



- ۱۰- مقاومت‌های الکتریکی پرسش ۹ را مجدداً رسم کنید و آنها را به صورت موازی به یکدیگر متصل کنید.
- ۱۱- مدار الکتریکی رسم کنید که در آن مقاومت‌های  $R_1$  و  $R_2$  به صورت موازی اتصال دارند و با مقاومت  $R_3$  سری شده‌اند.
- ۱۲- مدار الکتریکی رسم کنید که در آن مقاومت‌های  $R_1$  و  $R_2$  به صورت سری اتصال دارند و با مقاومت  $R_3$  موازی شده‌اند.
- ۱۳- لوازم الکتریکی منزل مسکونی با کدام اتصال الکتریکی به شبکه وصل شده‌اند؟

## مسائل

۱- جریان مدار روبه‌رو را به‌دست آورید.  $R_1 = 5\Omega$ ,  $R_2 = 10\Omega$ ,  $R_3 = 15\Omega$ ,  $V = 12[V]$

۲- آمپر مدار شکل مقابل  $5/0$  آمپر را نشان می‌دهد. ولتاژ منبع را به‌دست آورید.

۳- ولت‌متر شکل روبه‌رو عدد ۱۵ ولت را نشان می‌دهد. مطلوب است محاسبه:

(الف) ولتاژ منبع

(ب) افت ولتاژ مقاومت  $R_3$

۴- توان مصرفی مقاومت  $R_3$  در شکل زیر برابر ۲۴ وات می‌باشد. مطلوب است محاسبه:

(الف) ولتاژ منبع

(ب) توان تولیدی منبع

۵- ولتاژ اندازه‌گیری شده توسط ولت‌متر در شکل زیر  $21V$  می‌باشد. مطلوب است محاسبه:

(الف) مقاومت  $R_1$

(ب) توان مصرفی مقاومت  $R_3$

۶- در شکل روبه‌رو مطلوب است محاسبه:

(الف) مقاومت  $R_{eq}$

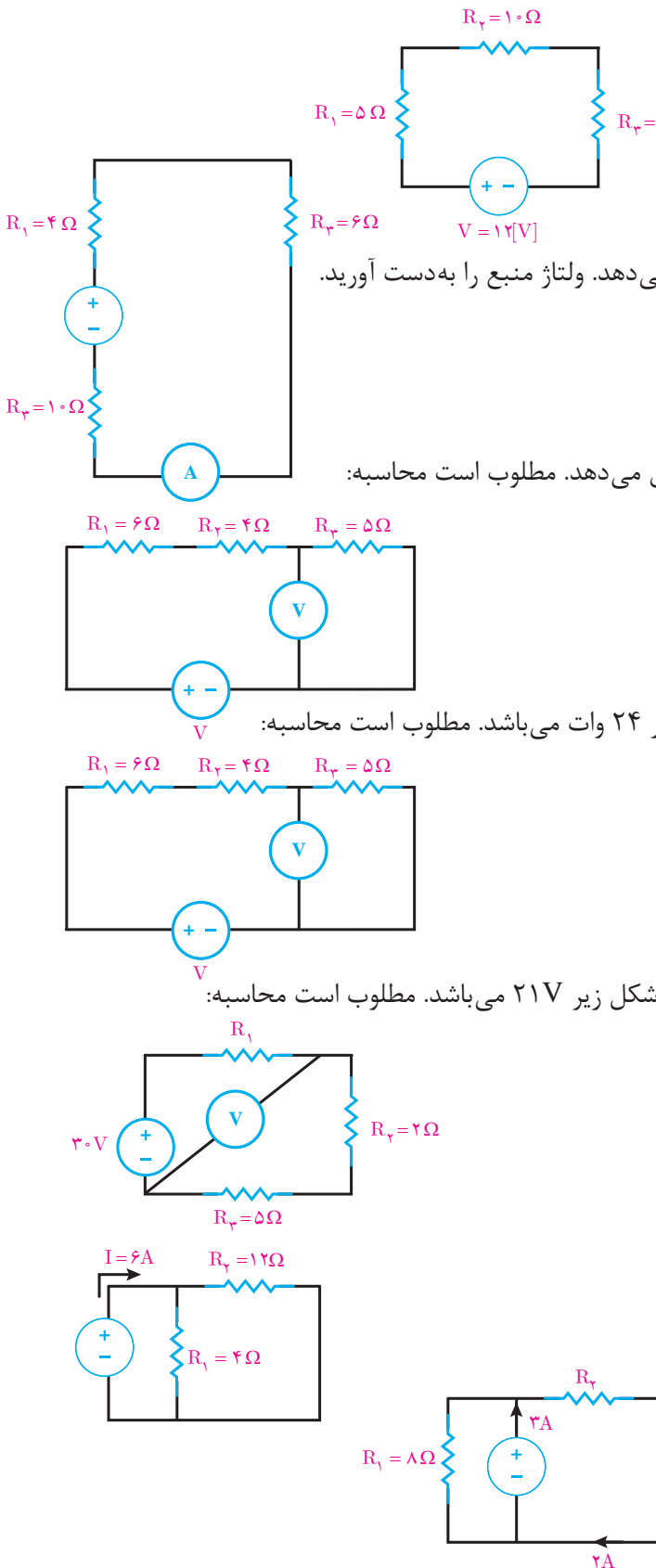
(ب) ولتاژ منبع

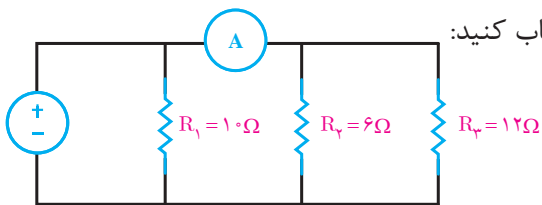
(پ) جریان هر شاخه

۷- در شکل روبه‌رو مطلوب است محاسبه:

(الف) ولتاژ منبع

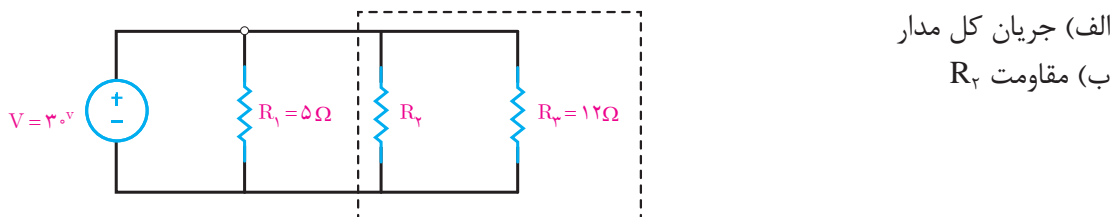
(ب) مقاومت  $R_3$





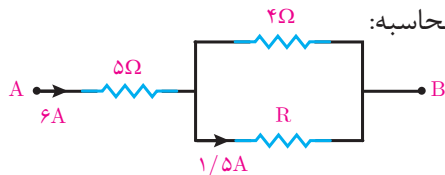
۸- آمپر متر در شکل روبه‌رو ۲ آمپر را نشان می‌دهد. حساب کنید:  
 الف) ولتاژ منبع چقدر است؟  
 ب) جریان کل مدار را بیابید.

۹- در شکل زیر توان مصرفی قسمت مشخص شده  $100 \text{ W}$  می‌باشد. حساب کنید:



الف) جریان کل مدار  
 ب) مقاومت  $R_2$

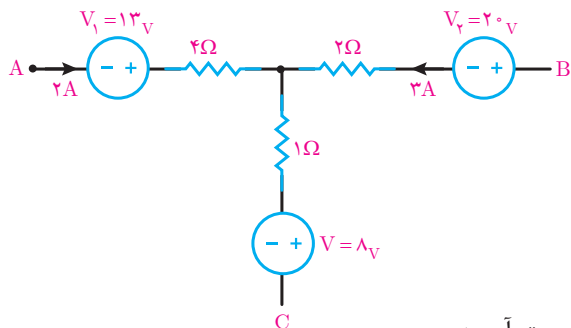
۱۰- شکل روبه‌رو بخشی از مدار الکتریکی است، مطلوب است محاسبه:



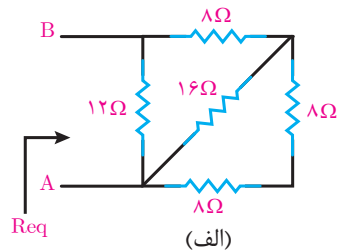
الف)  $V_{AB}$

ب) مقدار R

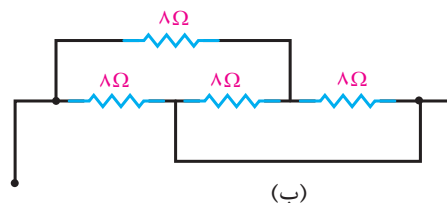
۱۱- شکل زیر بخشی از یک مدار الکتریکی است. توان هر یک از مقاومت‌های مدار را به دست آورید.



۱۲- مقاومت معادل را در هر یک از شکل‌های زیر به دست آورید:

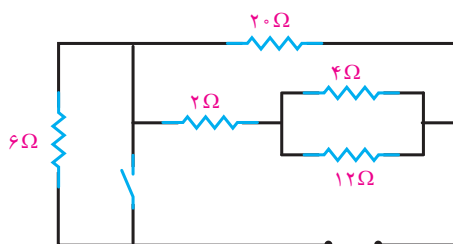


(الف)

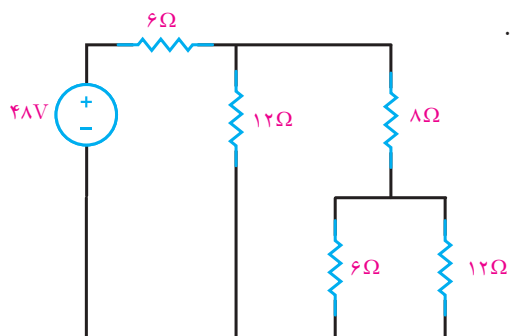


(ب)

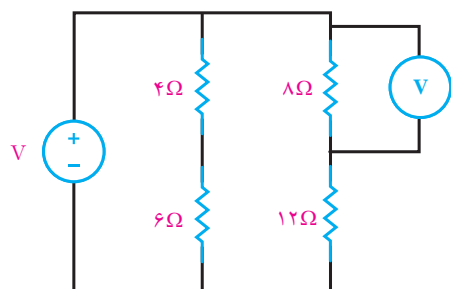
۱۳- در شکل زیر مقاومت معادل را در دو حالت کلید باز و بسته محاسبه کنید.



۱۴- در شکل زیر جریان، ولتاژ و توان هر مقاومت را بیابید.



۱۵- در شکل زیر ولت متر ۳۲ ولت را نشان می دهد مطلوب است:




- الف) جریان هر مقاومت
- ب) ولتاژ دو سر هر مقاومت
- ج) توان کل مدار

۱۶- در یک مدار با فیوز ۱۶ آمپری چند لامپ رشته ای ۱۰۰ وات، ۲۳۰ ولت می تواند روشن باشد؟ اگر در این مدار از یک اتوی ۱۲۰۰ وات استفاده شود چند لامپ می توان روشن کرد؟

واحد یادگیری ۷

باتری



## باتری

باتری یکی از منابع تأمین انرژی الکتریکی جریان مستقیم می‌باشد. در باتری انرژی شیمیایی به انرژی الکتریکی تبدیل می‌شود. (شکل ۶۳)



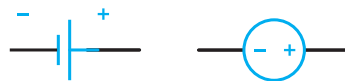
باتری موبایل

باتری کتابی

باتری قلمی

شکل ۶۳

علامت اختصاری باتری در (شکل ۶۴) نشان داده شده است.



شکل ۶۴- شمای فنی باتری

باتری‌ها در دو نوع قابل شارژ<sup>۱</sup> و غیرقابل شارژ ساخته می‌شوند. (شکل ۶۵)



شارژ نشدنی

شارژ شدنی

شکل ۶۵- باتری قابل شارژ و غیرقابل شارژ

باتری‌های قابل شارژ امکان چندین بار شارژ مجدد را دارند و پس از هر بار شارژ قابل استفاده خواهند شد. در صورتی که باتری‌های غیرقابل شارژ امکان شارژ مجدد را ندارند و پس از دشارژ قابل استفاده نخواهند بود.

۱- Rechargeable


## افت ولتاژ درونی باتری

اختلاف پتانسیل دو سر باتری هنگامی که به هیچ مصرف کننده متصل نمی باشد را «ولتاژ بی باری» باتری گویند، ولتاژ بی باری بیشترین مقدار اختلاف پتانسیل باتری را دارد. بیشترین اختلاف پتانسیل باتری را «نیروی محرکه الکتریکی» باتری گویند و آن را با  $E$  نشان می دهند.

اختلاف پتانسیل دو سر باتری در اتصال به مصرف کننده کاهش می یابد. اختلاف پتانسیل دو سر باتری هنگامی که به مصرف کننده متصل باشد را «ولتاژ بارداری» باتری گویند و آن را با  $V$  نشان می دهند. اختلاف نیروی محرکه الکتریکی باتری  $E$  با ولتاژ بارداری  $V$  را «افت ولتاژ درونی باتری» می گویند. افت ولتاژ درونی باتری را با  $\Delta V$  نشان می دهند و از رابطه زیر به دست می آید.

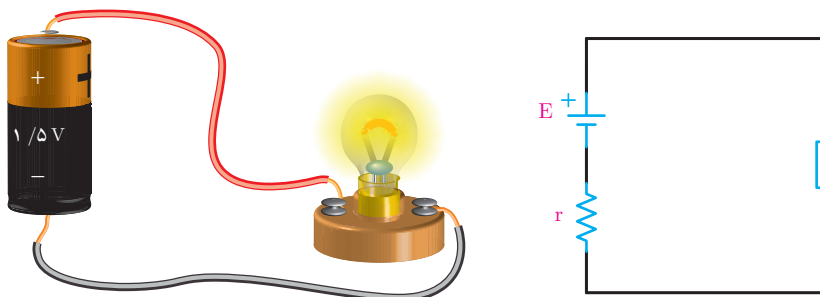
$$\Delta V = E - V$$

افت ولتاژ درونی باتری تابع جریان باتری است. با افزایش جریان باتری افت ولتاژ درونی باتری افزایش می یابد. برای معادل سازی افت ولتاژ درونی باتری آن را با افت ولتاژ دو سر یک مقاومت معادل می کنند. مقاومتی که برای معادل سازی افت ولتاژ درونی باتری در نظر گرفته می شود را «مقاومت درونی» باتری گویند. مقاومت درونی باتری را با  $r$  نشان می دهند و با مدار الکتریکی باتری به صورت سری قرار می گیرد. (شکل ۶۶)



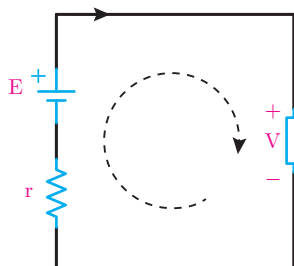
شکل ۶۶- مدار الکتریکی باتری

اتصال یک مصرف کننده به باتری و مدار الکتریکی آن در شکل ۶۷ نشان داده شده است.



شکل ۶۷

با اتصال مصرف کننده به باتری در مدار الکتریکی باتری مسیر بسته ایجاد می شود و جریان  $I$  در مدار جاری خواهد شد. با جاری شدن جریان در دو سر مصرف کننده اختلاف پتانسیل  $V$  که با اختلاف پتانسیل دو سر باتری برابر است ایجاد می شود (شکل ۶۸).



شکل ۶۸

با نوشتن KVL مسیر بسته مدار الکتریکی باتری خواهیم داشت:

$$\text{KVL)} +V +rI -E = 0$$

با مرتب کردن رابطه KVL، رابطه زیر به دست می آید

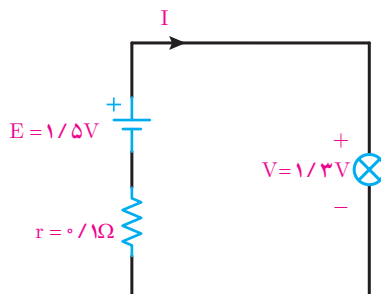
$$E - V = rI$$

از آنجایی که  $\Delta V = E - V$  است افت ولتاژ درونی باتری به صورت زیر محاسبه خواهد شد

$$\Delta V = rI$$

**مثال:** اختلاف پتانسیل یک باتری قلمی  $1/5$  ولتی با مقاومت درونی  $1$  اهم در اتصال به یک لامپ  $1/3$  ولت کاهش می یابد مطلوب است:

الف) مدار الکتریکی



ب) جریان باتری

$$\text{KVL)} +V +rI -E = 0$$

$$1/3 + 1I - 1/5 = 0$$

$$1I = 0/2$$

$$I = \frac{0/2}{1} = 0/2 \text{ [A]}$$

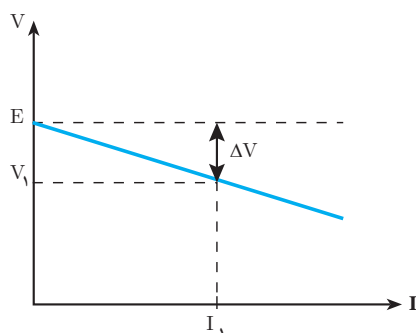
ج) افت ولتاژ درونی باتری

$$\Delta V = rI$$

$$\Delta V = 1 \times 0/2 = 0/2 \text{ [V]}$$

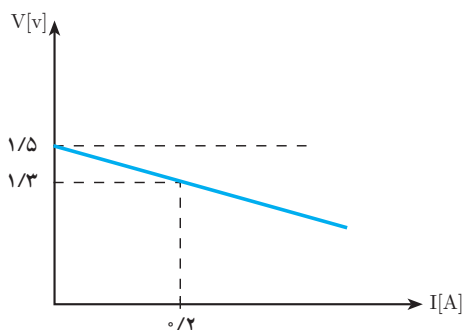


نیروی محرکه باتری تابع واکنش‌های شیمیایی درون باتری است و جریان باتری تأثیری بر مقدار نیروی محرکه باتری  $E$  ندارد. تغییر جریان باتری بر افت ولتاژ درونی باتری تأثیر می‌گذارد و با افزایش جریان، افت ولتاژ درونی باتری افزایش می‌یابد و باعث کاهش اختلاف پتانسیل دو سر باتری خواهد شد. تأثیر جریان باتری بر اختلاف پتانسیل دو سر باتری در نمودار (شکل ۶۹) نشان داده شده است.



شکل ۶۹

**مثال:** نمودار تأثیر جریان بر اختلاف پتانسیل یک باتری در شکل زیر نشان داده شده است.



مطلوب است:

الف) مقاومت درونی باتری

$$E - V = rI$$

$$1/5 - 1/3 = r(0/2)$$

$$r = \frac{0/2}{0/2} = 1 \text{ } [\Omega]$$

ب) افت ولتاژ درونی باتری به ازای جریان ۰/۲ آمپر

$$\Delta V = E - V$$

$$\Delta V = 1/5 - 1/3 = 0/2 \text{ } [V]$$

ج) اگر جریان باتری به ۰/۵ آمپر افزایش یابد اختلاف پتانسیل باتری چقدر خواهد شد.

$$E - V = rI$$

$$1/5 - V = 1 \times 0/5$$

$$V = 1 \text{ } [V]$$

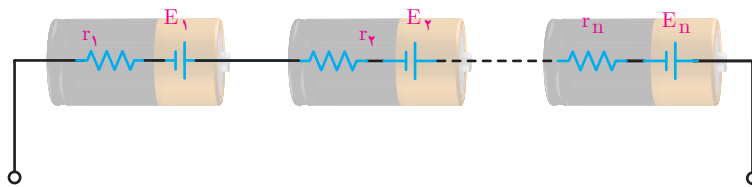
## اتصال باتری‌ها

اتصال باتری‌ها به یکدیگر به منظور افزایش ولتاژ یا جریان انجام می‌شود. برای افزایش ولتاژ، باتری‌ها را با یکدیگر به صورت سری متصل می‌کنند. همچنین برای افزایش جریان، باتری‌ها را با یکدیگر به صورت موازی متصل می‌کنند.

در صورتی که ضمن افزایش ولتاژ نیاز به افزایش جریان نیز باشد باتری‌ها را به صورت ترکیبی از اتصال سری و موازی به کار می‌گیرند.

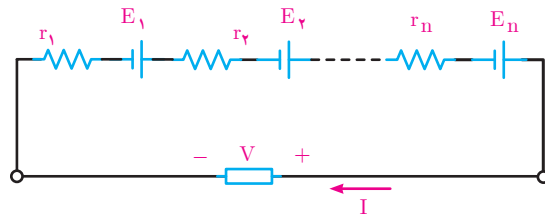
### اتصال سری باتری‌ها

اتصال سری باتری‌ها به منظور افزایش ولتاژ به کار می‌رود. برای ایجاد اتصال سری، مثبت هر باتری به منفی باتری بعد متصل می‌شود. مدار الکتریکی اتصال سری باتری‌ها در (شکل ۷۰) نشان داده شده است.



شکل ۷۰

با اتصال چند باتری سری به مصرف‌کننده جریان در مدار جاری خواهد شد. (شکل ۷۱)



شکل ۷۱

در اتصال سری باتری‌ها جریان همه باتری‌ها با یکدیگر برابر است و مساوی جریان مصرف‌کننده می‌باشد. با نوشتن KVL خواهیم داشت:

$$\text{KVL) } r_1 I - E_1 + r_2 I - E_2 + \dots + r_n I - E_n + V = 0$$

$$(r_1 + r_2 + \dots + r_n) I - (E_1 + E_2 + \dots + E_n) + V = 0$$

با سری شدن باتری‌ها نیروی محرکه الکتریکی آنها با یکدیگر جمع می‌شود و نیروی محرکه الکتریکی  $E$  ایجاد می‌شود.

$$E = E_1 + E_2 + \dots + E_n$$

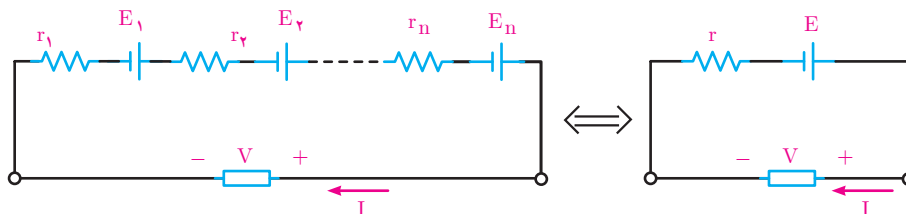
همچنین مقاومت درونی باتری‌ها نیز با یکدیگر جمع می‌شود و معادل آنها مقاومت درونی  $\Gamma$  ایجاد می‌شود.

$$\Gamma = \Gamma_1 + \Gamma_2 + \dots + \Gamma_n$$

و می توان نوشت:

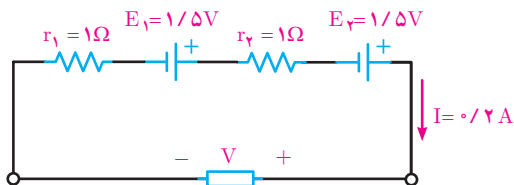
$$rI - E + V = 0$$

مدار الکتریکی معادل  $n$  باتری سری در (شکل ۷۲) نشان داده شده است.



شکل ۷۲- مدار معادل

**مثال:** دو باتری مشابه  $1/5$  ولتی با مقاومت درونی  $1$  اهم به صورت سری به یک مصرف کننده متصل شده اند. اگر جریان مصرف کننده  $0/2$  آمپر باشد مطلوب است محاسبه: الف) مدار الکتریکی



ب) اختلاف پتانسیل دو سر مصرف کننده

$$r = r_1 + r_2$$

$$r = 1 + 1 = 2 \Omega$$

$$E = E_1 + E_2$$

$$E = 1/5 + 1/5 = 2/5 \text{ [V]}$$

$$rI - E + V = 0$$

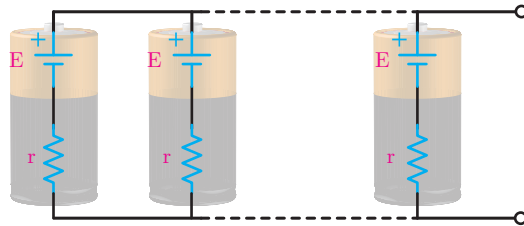
$$2 \times 0/2 - 2/5 + V = 0$$

$$V = 2/5 \text{ [V]}$$

در اتصال سری باتری ها با متصل کردن مثبت هر باتری به منفی باتری بعد اختلاف پتانسیل مصرف کننده افزایش می یابد. اگر در اتصال سری باتری ها مثبت هر باتری به مثبت باتری بعد متصل شود اختلاف پتانسیل مصرف کننده کاهش پیدا می کند و خرابی باتری ها را در پی خواهد داشت.

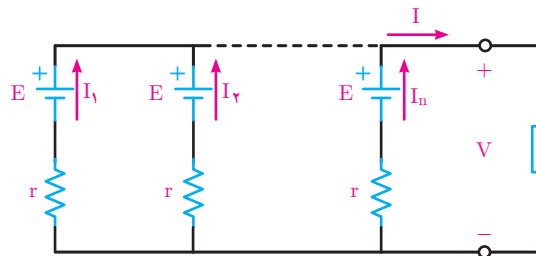
## اتصال موازی باتری‌ها

اتصال موازی باتری‌ها به منظور افزایش جریان به کار می‌رود. برای ایجاد اتصال موازی حتماً از باتری‌های مشابه استفاده می‌شود و مثبت باتری‌ها به یکدیگر و منفی آنها نیز به یکدیگر متصل خواهد شد. مدار الکتریکی اتصال موازی باتری‌ها در (شکل ۷۳) نشان داده شده است.



شکل ۷۳

با اتصال چند باتری موازی به مصرف‌کننده جریان در آن جاری خواهد شد. (شکل ۷۴)



شکل ۷۴

با استفاده از رابطه  $rI = E - V$  مقدار جریان هر باتری به دست می‌آید

$$I = \frac{E - V}{r}$$

در اتصال موازی باتری‌ها جریان مصرف‌کننده برابر مجموع جریان هر باتری می‌باشد. با نوشتن KCL خواهیم داشت:

$$\text{KCL) } I_1 + I_2 + \dots + I_n = I$$

با جایگزینی مقدار جریان هر باتری در رابطه KCL به دست می‌آید:

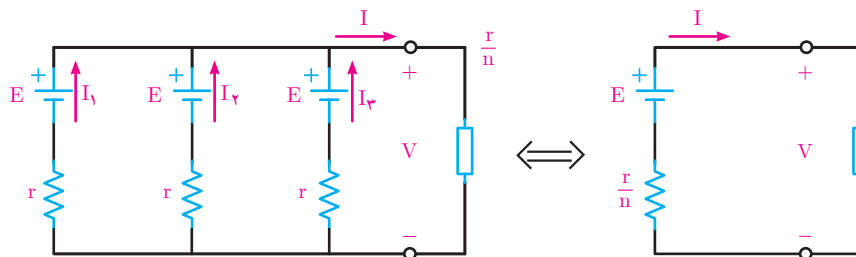
$$\text{KCL) } \frac{E - V}{r} + \frac{E - V}{r} + \dots + \frac{E - V}{r} = I$$

در KCL رابطه  $\frac{E - V}{r}$  به تعداد  $n$  باتری تکرار شده است لذا:

$$n \left( \frac{E - V}{r} \right) = I$$

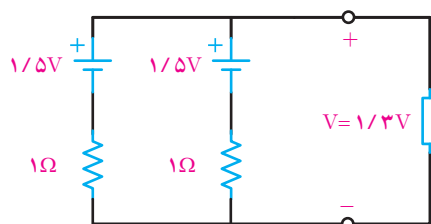
$$E - V = \frac{r}{n} I$$

مدار الکتریکی معادل  $n$  باتری موازی در (شکل ۷۵) نشان داده شده است



شکل ۷۵

**مثال:** دو باتری مشابه  $1/5$  ولتی با مقاومت درونی  $1$  اهم به صورت موازی به یک مصرف کننده متصل شده‌اند. اگر اختلاف پتانسیل مصرف کننده  $1/3$  ولت باشد مطلوب است:  
الف) مدار الکتریکی



ب) جریان مصرف کننده

$$E - V = \frac{r}{n} I$$

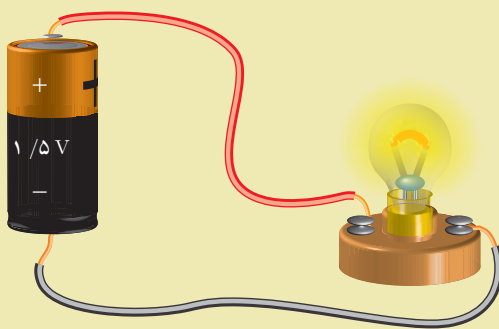
$$1/5 - 1/3 = \frac{1}{2} I$$

$$I = 0.4 \text{ [A]}$$

در اتصال موازی باتری‌های مشابه جریان مصرف کننده برابر حاصل جمع جریان باتری‌های موازی خواهد شد. اگر باتری‌های موازی مشابه نباشند جریان مصرف کننده کمتر از حاصل جمع جریان باتری‌های موازی خواهد شد.



- ۱- باتری را تعریف کنید.
- ۲- انواع باتری را نام ببرید.
- ۳- مفاهیم زیر را تعریف کنید.
  - الف) ولتاژ بی‌باری باتری
  - ب) ولتاژ باردار باتری
  - پ) نیروی محرکه الکتریکی باتری
  - ت) افت ولتاژ درونی باتری
- ۴- مدار معادل الکتریکی شکل زیر را رسم کنید.

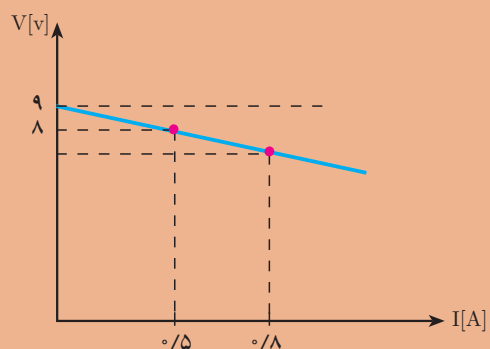


- ۵- با افزایش جریان، افت ولتاژ درونی باتری ..... می‌یابد و اختلاف پتانسیل در سر باتری ..... می‌یابد.
- ۶- تأثیر جریان باتری بر اختلاف پتانسیل دو سر باتری را با نمودار توضیح دهید.
- ۷- علت موازی بستن باتری‌ها با یکدیگر را توضیح دهید.
- ۸- برای ایجاد اتصال سری ..... هر باتری به ..... باتری بعد متصل می‌شود.
- ۹- در صورتی که باتری‌های موازی مشابه نباشند چه تأثیری بر جریان مصرف‌کننده دارد.



- ۱- اختلاف پتانسیل یک باتری ۹ ولتی در اتصال به مصرف‌کننده ۸ ولت می‌باشد اگر جریان مصرف‌کننده ۰/۵ آمپر باشد مطلوب است:
  - الف) افت ولتاژ درونی باتری
  - ب) مقاومت درونی باتری
- ۲- نمودار تأثیر جریان باتری بر اختلاف پتانسیل دو سر باتری در شکل صفحه بعد نشان داده شده است. مطلوب است محاسبه:
  - الف) افت ولتاژ در جریان ۰/۵ آمپر
  - ب) اختلاف پتانسیل دو سر باتری در جریان ۰/۸ آمپر

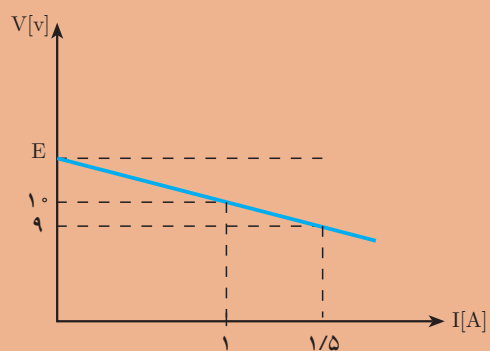
$E=9$



۳- نمودار تأثیر جریان باتری بر اختلاف پتانسیل دو سر باتری در شکل زیر نشان داده شده است. مطلوب است محاسبه:

الف) نیروی محرکه باتری

ب) مقاومت درونی باتری



۴- دو باتری مشابه ۱۲ ولتی با اتصال سری به یک مصرف کننده متصل شده اند. اگر ولتاژ و جریان مصرف کننده به ترتیب ۲۲ ولت و ۲ آمپر باشد مقاومت درونی هر باتری را بیابید.

۵- دو باتری مشابه ۱۲ ولتی با اتصال موازی به یکدیگر متصل شده اند اگر جریان و ولتاژ مصرف کننده به ترتیب ۲ آمپر و ۱۱/۵ ولت باشد مقاومت درونی هر باتری را بیابید.

۶- چند باتری ۹ ولتی با مقاومت درونی ۱ اهم به طور موازی متصل شوند تا جریان و ولتاژ مصرف کننده به ترتیب ۴ آمپر و ۸ ولت شود؟

## استاندارد ارزشیابی پیشرفت تحصیلی مبتنی بر شایستگی درس دانش فنی پایه

رشته تحصیلی: الکتروتکنیک

پایه: دهم

سال تحصیلی:

کد رشته: ۰۷۱۳۱۰

کد درس:

کد کتاب: ۲۱۰۲۶۳

نمره	شاخص تحقیق	نتایج مورد انتظار	استاندارد عملکرد (کیفیت)	تکالیف عملکردی (واحدهای یادگیری)	عنوان پودمان
۳	حل مدار الکتریکی مقاومتی مختلط و محاسبه ولتاژ و جریان نقطه‌ای مدار	بالاتر از حد انتظار	با استفاده از قانون کیرشهف (K.C.L و K.V.L) مدارهای سری و موازی باتری‌ها را تحلیل کند	۱- تحلیل مدارهای سری و موازی باتری‌های الکتریکی ۲- تحلیل مدارهای سری و موازی مقاومتی	پودمان ۳: اتصالات سری و موازی الکتریکی
۲	حل مدارهای مقاومتی سری و موازی و چند حلقه‌ای	در حد انتظار			
۱	حل مدارهای مقاومتی ساده	پایین تر از حد انتظار			
				نمره مستمر از ۵	
				نمره شایستگی پودمان	
				نمره پودمان از ۲۰	





# مدارهای جریان متناوب

در این پودمان مطالب زیر را فراخواهید گرفت:

- ۱- جریان متناوب
- ۲- الکترومغناطیس
- ۳- قانون القای الکترومغناطیسی فاراده
- ۴- قانون لنز
- ۵- خودالقایی
- ۶- سلف
- ۷- خازن

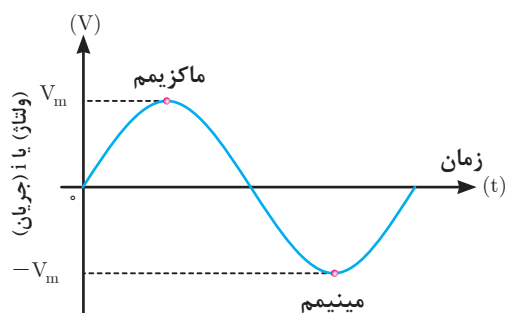


# واحد یادگیری ۸

## جریان متناوب



## جریان متناوب



شکل ۱

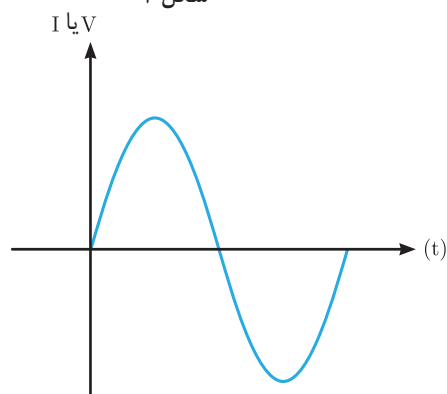
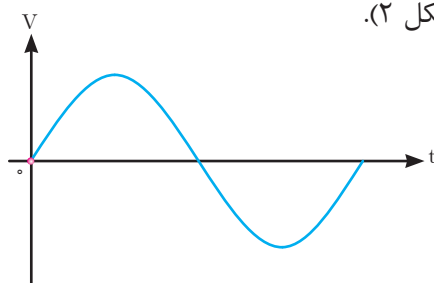
جریان متناوب جریانی است که جهت و مقدار آن در هر لحظه از زمان تغییر می‌کند و دامنه آن نیز نسبت به زمان از صفر تا حداکثر مثبت و از حداکثر مثبت تا صفر و از صفر تا حداکثر منفی و از حداکثر منفی تا صفر تغییر می‌کند. شکل موج متداول جریان متناوب، سینوسی است. در موج سینوسی حداکثر مثبت را ماکزیمم و حداکثر منفی را مینیمم گویند (شکل ۱).

## تولید جریان متناوب

تولید جریان متناوب توسط ژنراتورهای جریان متناوب انجام می‌شود (شکل ۲).



شکل ۲



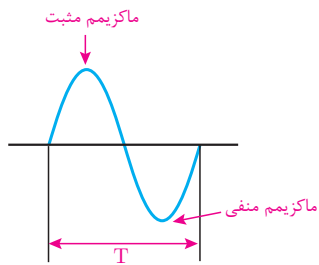
شکل ۳

ژنراتور جریان متناوب از دو قسمت ساکن و متحرک تشکیل شده است. قسمت ساکن را استاتور<sup>۱</sup> و قسمت متحرک را رتور<sup>۲</sup> می‌گویند. انرژی مکانیکی توربین، رتور ژنراتور را می‌گرداند تا ژنراتور انرژی الکتریکی تولید کند. انرژی الکتریکی دارای سه مشخصه ولتاژ، جریان و زمان است (شکل ۳).

مقدار و جهت ولتاژ یا جریان متناوب سینوسی با زمان تغییر می‌کند؛ یعنی از صفر شروع می‌شود و به مقدار پیک یا ماکزیمم مثبت می‌رسد. آنگاه دوباره صفر می‌شود و سپس به

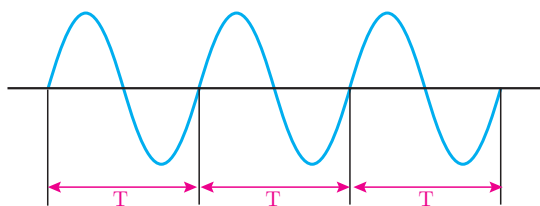
۱ - Stator

۲ - Rotor



شکل ۴

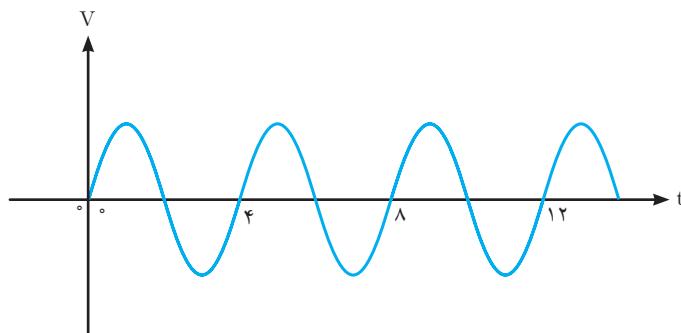
پیک یا ماکزیمم منفی می‌رسد و باز صفر می‌شود. همان‌طور که مشاهده می‌کنید، هنگامی که موج سینوسی از صفر می‌گذرد، پلاریته خود را عوض می‌کند. به عبارت ساده‌تر، موج سینوسی بین مقادیر مثبت و منفی تناوب می‌کند. مجموعه‌ای یک تناوب مثبت و منفی را یک سیکل کامل گویند. (شکل ۴).



شکل ۵

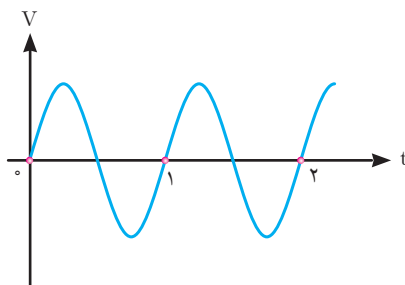
زمان تناوب مدت زمان انجام یک سیکل کامل می‌باشد و آن را با حرف T نشان می‌دهند. واحد زمان تناوب ثانیه است (شکل ۵).

**مثال:** زمان تناوب موج سینوسی (شکل ۶) را به دست آورید.  
**حل:** یک سیکل کامل را مشخص می‌کنیم زمان انجام آن را از روی محور زمان  $T=4s$  به دست می‌آوریم.



شکل ۶-الف

**مثال:** در (شکل ۶) سه روش برای اندازه‌گیری زمان تناوب پیدا کنید.



شکل ۶-ب

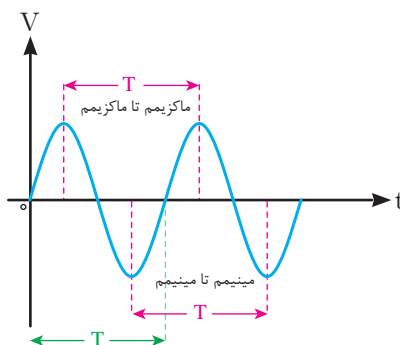
حل :

روش اول : زمان تناوب را می توان از یکی از صفرها در سیکل اول تا صفر مشابه در سیکل دوم اندازه گرفت.

روش دوم: زمان تناوب را می توان بین دو پیک (ماکزیمم) مثبت متوالی اندازه گرفت.

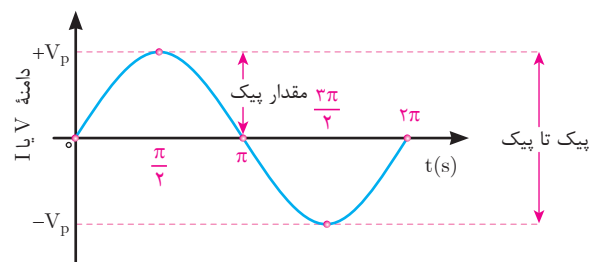
روش سوم : زمان تناوب را می توان بین دو پیک (ماکزیمم) منفی متوالی اندازه گرفت.

(شکل ۷) سه روش اندازه گیری را نشان می دهد.



شکل ۷

زاویه طی شده بین ابتدا تا انتهای یک سیکل کامل برابر  $360^\circ$  درجه است. (شکل ۸)



شکل ۸

واحد اندازه گیری زاویه علاوه بر درجه، رادیان نیز می باشد به طوری که هر  $360^\circ$  درجه معادل  $2\pi$  رادیان است یعنی :

$$360^\circ = 2\pi$$

زاویه طی شده بین ابتدا تا انتهای یک سیکل کامل برابر  $2\pi$  رادیان است (شکل ۸).

برای تبدیل رادیان و درجه به یکدیگر از رابطه زیر استفاده می شود.

$$\frac{D}{360^\circ} = \frac{R}{2\pi}$$

مثال: زاویه  $18^\circ$  معادل چند رادیان است؟

حل:

$$\frac{D}{36^\circ} = \frac{R}{2\pi}$$

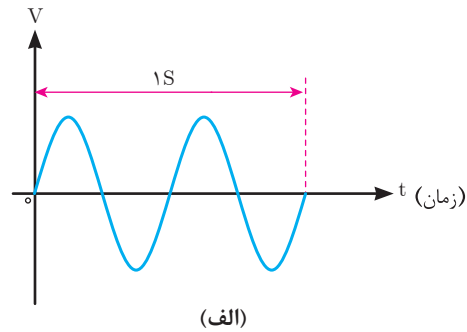
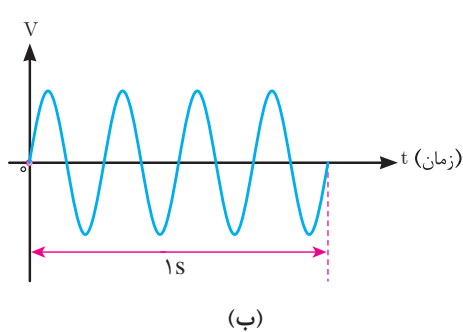
$$\frac{18^\circ}{36^\circ} = \frac{R}{2\pi}$$

$$R = \frac{2\pi \times 18^\circ}{36^\circ} = \pi [\text{Rad}]$$

## فرکانس

فرکانس به تعداد سیکل‌هایی که در یک ثانیه انجام می‌گیرد گفته می‌شود و آن را با حرف  $f$  نشان می‌دهند.

واحد فرکانس سیکل بر ثانیه است و با [CPS] نشان می‌دهند و به احترام آقای هرتز آن را با هرتز [HZ] نشان می‌دهند. هرچه تعداد سیکل‌ها در ثانیه بیشتر باشد، فرکانس بیشتر است. (شکل ۹) دو موج سینوسی را نشان می‌دهد که موج (الف) دو سیکل و موج (ب) چهار سیکل را در ثانیه طی می‌کنند؛ یعنی، فرکانس موج (الف) ۲ هرتز و فرکانس موج (ب) چهار هرتز است.




شکل ۹

فرکانس برق در ایران  $50$  هرتز یا  $50$  CPS است. یعنی  $50$  سیکل کامل در یک ثانیه انجام می‌شود. فرکانس برق بعضی از کشورها  $60$  هرتز ( $60$  CPS) است. فرکانس جریان یا ولتاژ را می‌توان، با فرکانس متر (دستگاه اندازه‌گیری فرکانس) اندازه گرفت و با اسیلوسکوپ (شکل ۱۰) (دستگاه نمایش شکل موج) پس از نمایش محاسبه کرد. با توجه به مطالب گفته شده، رابطه بین فرکانس و زمان تناوب را می‌توان به صورت زیر نوشت:

$$f = \frac{1}{T}$$

$$T = \frac{1}{f}$$



شکل ۱۰

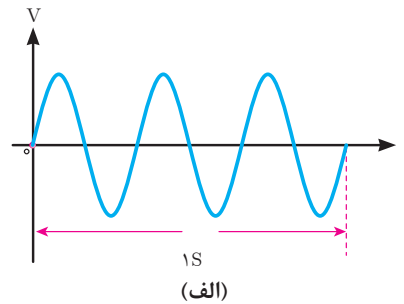
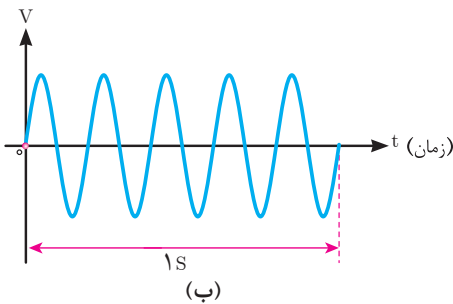
با توجه به این روابط، هر قدر فرکانس زیادتر شود، به همان اندازه زمان تناوب کاهش پیدا می‌کند؛ مثلاً اگر زمان تناوب یک موج، یک ثانیه باشد فرکانس آن یک هرتز و اگر زمان تناوب، ۲ ثانیه شود، فرکانس آن نصف خواهد شد.

مثال: با توجه به (شکل ۱۱) به سؤالات زیر پاسخ دهید.

الف) فرکانس کدام موج بیشتر است؟

ب) مقادیر زمان تناوب و فرکانس را حساب کنید.

ج) مقدار زاویه طی شده در مدت ۱ ثانیه در هر موج چند رادیان است.



شکل ۱۱

**حل:** موج (الف) ۳ سیکل و موج (ب) ۵ سیکل را در ثانیه طی کرده‌اند. پس فرکانس موج (ب) بیشتر است.

موج ب:  $f = 5\text{Hz}$

$$T = \frac{1}{5} = 0.2$$

$$\text{زاویه} = 10\pi [\text{Rad}]$$

موج الف:  $f = 3\text{Hz}$

$$T = \frac{1}{3} = 0.33$$

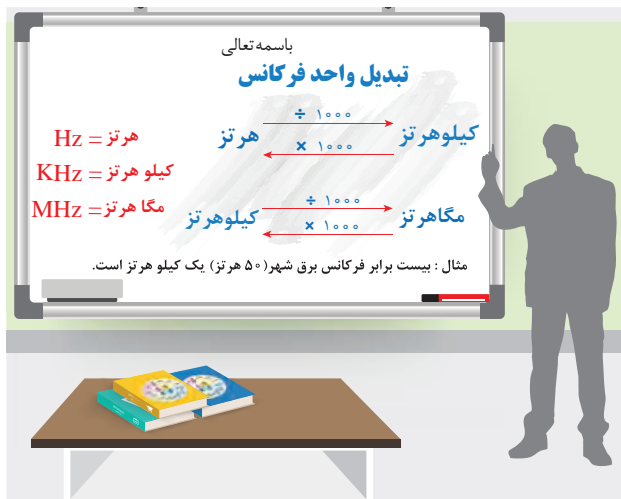
$$\text{زاویه} = 6\pi [\text{Rad}]$$

در صنایع مخابراتی برای زمان تناوب از واحدهای کوچک‌تر و برای فرکانس از واحدهای بزرگ‌تر استفاده می‌کنند. این واحدها به صورت زیر نوشته می‌شوند.

$$1\text{KHz} = 10^3\text{Hz}$$

$$1\text{MHz} = 10^6\text{Hz}$$

$$1\text{GHz} = 10^9\text{Hz}$$





با دستگاه اسیلوسکوپ می‌توانید شکل موج فرکانس برق شهر را مشاهده کنید (شکل ۱۲).

شکل ۱۲

مثال: اگر زمان تناوب یک موج سینوسی  $10$  میلی ثانیه باشد، فرکانس آن چقدر است؟

حل:

$$f = \frac{1}{T} = \frac{1}{10 \times 10^{-3} \text{ (s)}} = 100 \text{ Hz}$$

مثال: فرکانس یک موج سینوسی  $60$  هرتز است. زمان تناوب آن چقدر است؟

حل:

$$T = \frac{1}{f} = \frac{1}{60 \text{ Hz}} = 16.67 \text{ (ms)}$$

## سرعت زاویه‌ای

موج متناوب در هر سیکل  $2\pi$  رادیان را طی می‌کند، لذا مقدار زاویه طی شده در مدت یک ثانیه برابر  $2\pi f$  می‌باشد که آن را سرعت زاویه‌ای گویند و با رابطه زیر نشان می‌دهند:

$$\omega = 2\pi f$$

که در این رابطه:

$\omega$ : سرعت زاویه بر حسب [Rad/s]

$f$ : فرکانس بر حسب [HZ] است.

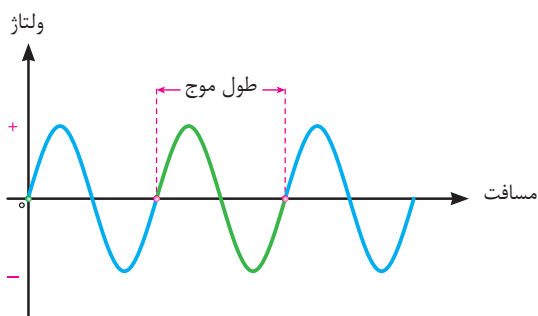
مثال: فرکانس یک موج متناوب سینوسی  $50$  HZ می‌باشد سرعت زاویه‌ای آن را به دست آورید:

حل: با توجه به رابطه  $\omega = 2\pi f$  داریم:

$$\omega = 2\pi \times 50 = 100\pi = 100 \times 3.14 = 314 \text{ [Rad/s]}$$

## طول موج

طول موج عبارت است از مسافتی که در یک سیکل کامل طی می‌شود (شکل ۱۳).



شکل ۱۳



طول موج با سرعت انتشار موج، نسبت مستقیم و با تغییرات فرکانس، نسبت عکس دارد. طول موج را که با حرف  $\lambda$  (لاندا) نمایش می‌دهند و از رابطه زیر به دست می‌آید.

$$\lambda = \frac{V}{f}$$

در این رابطه :

$\lambda$  : طول موج [m]

V : سرعت موج  $\left[ \frac{m}{s} \right]$

f : فرکانس موج [HZ] است.

**مثال :** طول موج یک صدا با فرکانس  $100 \text{ Hz}$  که به وسیله بلندگویی پخش می‌شود، چقدر است؟ (سرعت صوت  $340 \frac{m}{s}$  فرض شود)

$$V = 340 \frac{m}{s}$$

$$f = 100 \text{ HZ}$$

$$\lambda = \frac{V}{f} = \frac{340}{100} = 3.4 \text{ m}$$

**مثال:** طول موج یک موج رادیویی با فرکانس ۳ گیگا هرتز چقدر است ؟

$$V = 3 \times 10^8 \frac{m}{s}$$

$$\lambda = \frac{V}{f} = \frac{3 \times 10^8}{3 \times 10^9} = 0.1 \text{ m}$$

## مقدار متوسط موج متناوب سینوسی

مقدار متوسط یک ولتاژ یا جریان متناوب سینوسی، میانگین مقادیر لحظه‌ای آن موج در یک دوره تناوب است.

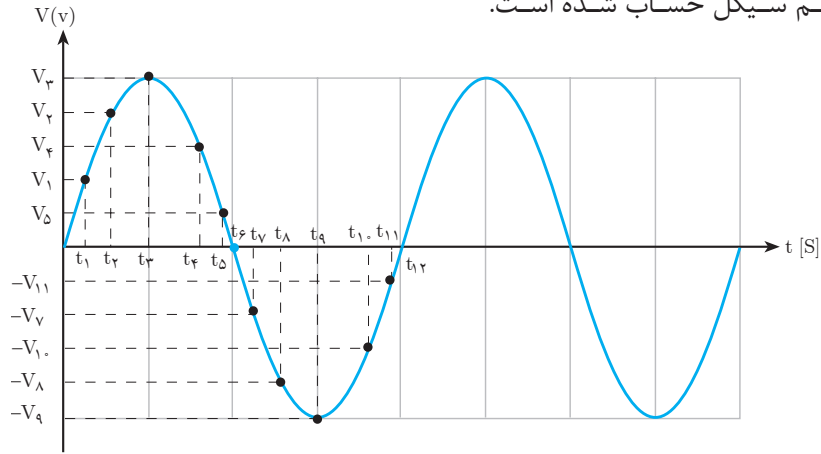
برای محاسبه میانگین هر کمیتی باید حاصل جمع مقادیر نقاط مختلف را بر تعداد نقاط آن تقسیم کرد.

به‌طورمثال برای محاسبه میانگین حداقل و حداکثر دمای یک اتاق باید حاصل جمع حداقل دما با حداکثر دمای محیط را جمع و بر ۲ تقسیم کرد و یا برای محاسبه میانگین بین سه عدد ۱۰، ۱۸ و ۱۷ به صورت زیر عمل کرد.

$$\text{میانگین سه عدد} = \frac{10+18+17}{3}$$

بر همین اساس برای محاسبه دقیق مقدار متوسط یک موج باید مقادیر موج در هر لحظه را با هم جمع و بر تعداد نمونه‌های برداشته شده تقسیم کرد. (شکل ۱۴) یک موج سینوسی ولتاژ

متناوب را نشان می‌دهد که در هر نیم سیکل به ۶ قسمت تقسیم شده است و مقدار متوسط آن در هر نیم سیکل حساب شده است.



شکل ۱۴

هر قدر تعداد قسمت‌ها بیشتر باشد، مقدار میانگین محاسبه شده دقیق‌تر است.

نکته



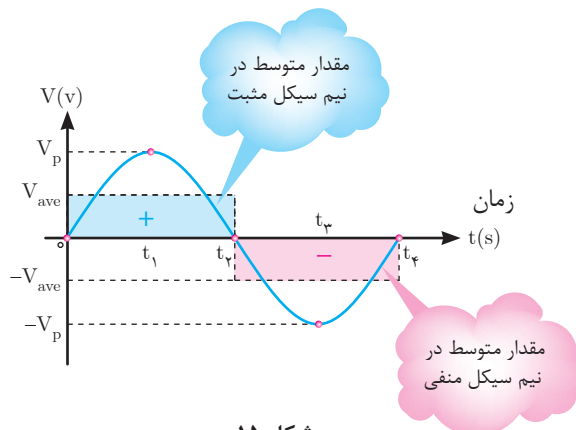
میانگین مقادیر لحظه‌ای نیم سیکل مثبت

$$V_{ave}^+ = \frac{V_1 + V_2 + V_3 + V_4 + V_5}{5}$$

میانگین مقادیر لحظه‌ای نیم سیکل منفی

$$V_{ave}^- = \frac{-V_6 - V_5 - V_4 - V_3 - V_2}{5}$$

مقدار متوسط هر یک از نیم سیکل‌های یک موج سینوسی در (شکل ۱۵) نشان داده شده است. مساحت زیر هر نیم سیکل با مساحت مقدار متوسط در همان نیم سیکل برابر است.

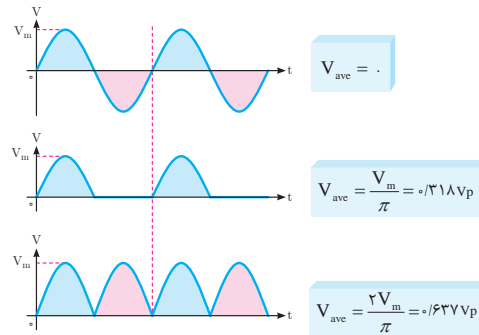


شکل ۱۵

همان طوری که از (شکل ۱۶) مشخص است مقدار متوسط در یک سیکل کامل سینوسی از جمع دو نیم سیکل مثبت و منفی به دست می‌آید مقدار آن مساوی صفر می‌شود.

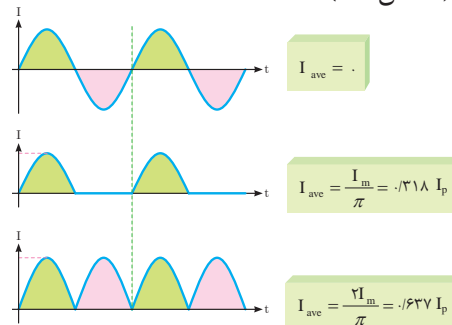
$$V_{av} = V_{av}^+ + V_{av}^- = 0$$

هرگاه موج‌هایی به صورت (شکل ۱۶) داشته باشیم و بخواهیم مقدار متوسط هر یک از آنها را حساب کنیم می‌توان از روابط نوشته شده در مقابل آنها استفاده کرد.



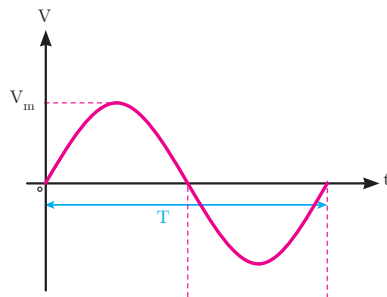
شکل ۱۶

لازم به ذکر است برای محاسبه مقدار متوسط شکل موج جریان نیز به همین ترتیب و بر پایه این روابط می‌توان عمل کرد (شکل ۱۷).



شکل ۱۷

## مقدار مؤثر موج متناوب سینوسی

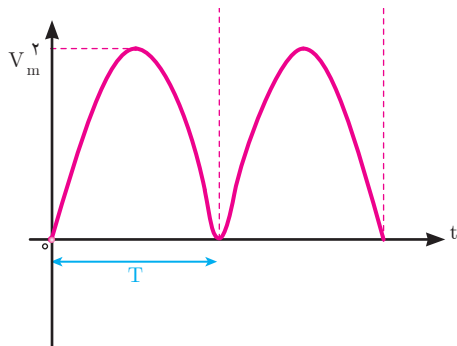


شکل ۱۸

مقدار مؤثر موج متناوب عبارت از «جذر میانگین مربعات» می‌باشد و آن را با  $rms^1$  یا  $eff^2$  نشان می‌دهد. برای تعیین مقدار مؤثر موج متناوب سینوسی (شکل ۱۸) ابتدا مقادیر لحظه‌ای موج را به توان دو می‌رسانند تا مقادیر نیم سیکل منفی به مثبت تبدیل شود. (شکل ۱۹) سپس میانگین موج محاسبه می‌شود.

۱- root mean square

۲- effective



شکل ۱۹

چون در ابتدا مقادیر لحظه‌ای موج به توان دو رسیده است از میانگین آن جذر گرفته می‌شود. مقدار مؤثر ولتاژ با شکل موج متناوب سینوسی از رابطه روبه‌رو به دست می‌آید.

$$V_{\text{rms}} = \frac{V_m}{\sqrt{2}}$$

که در این رابطه :

$V_m$  مقدار ماکزیمم ولتاژ متناوب و

$V_{\text{rms}}$  مقدار مؤثر ولتاژ متناوب است.

برای محاسبه مقدار مؤثر جریان با شکل موج متناوب سینوسی نیز از رابطه زیر استفاده می‌شود.

$$I_{\text{rms}} = \frac{I_m}{\sqrt{2}}$$

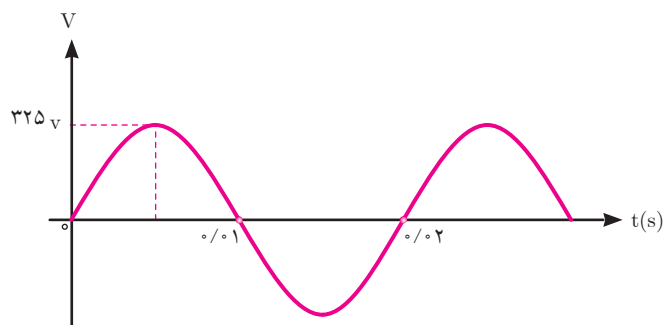
که در این رابطه :

$I_m$  مقدار ماکزیمم جریان متناوب

$I_{\text{rms}}$  مقدار مؤثر جریان متناوب می‌باشد.

مقدار مؤثر ولتاژ یا جریان متناوب برابر مقدار ولتاژ یا جریان مستقیمی است که در یک مقاومت مشخص در مدت زمان معینی به یک اندازه گرما تولید کند.

**مثال:** مقدار مؤثر (شکل ۲۰) موج متناوب سینوسی زیر را به دست آورید؟



شکل ۲۰

**حل:** مقدار ماکزیمم با توجه به شکل موج سینوسی برابر است با:

$$V_m = 325 \text{ V}$$

با استفاده از رابطه مقدار مؤثر ولتاژ محاسبه می‌شود:

$$V_{\text{rms}} = \frac{V_m}{\sqrt{2}} = \frac{325}{\sqrt{2}} = 230 \text{ V}$$

**مثال:** یک جریان متناوب با شکل موج سینوسی دارای مقدار مؤثر ۵ آمپر می‌باشد مقدار ماکزیمم جریان چند آمپر است؟

**حل:** از رابطه مقدار ماکزیمم جریان محاسبه می‌شود:

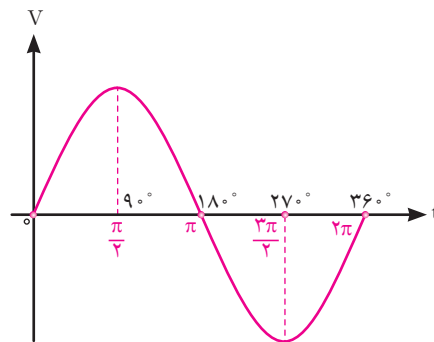
$$I_{\text{rms}} = \frac{I_m}{\sqrt{2}}$$

$$5 = \frac{I_m}{\sqrt{2}}$$

$$I_m = 5 \times \sqrt{2} = 7.07 \text{ A}$$

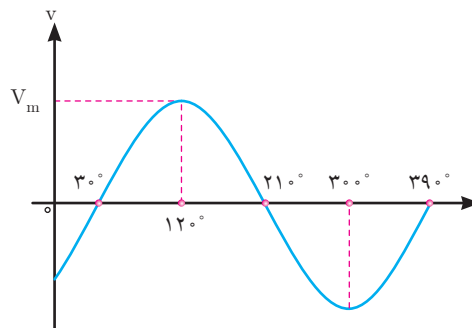
## فاز

فاز<sup>۱</sup> در لغت به معنی موقعیت می‌باشد. برای یک موج متناوب سینوسی شروع موج، موقعیت یا فاز موج را نسبت به مبدأ دستگاه مختصات نشان می‌دهد. فاز موج سینوسی را با  $\theta$  نشان می‌دهند. در (شکل ۲۱) فاز موج سینوسی صفر است و آن را به صورت  $\theta_v = 0^\circ$  نشان می‌دهند.



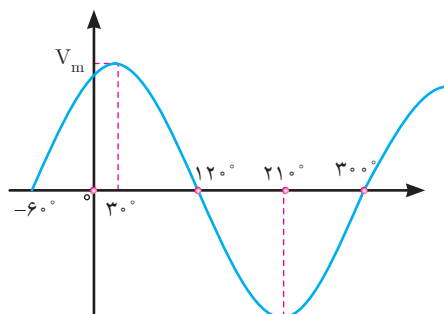
شکل ۲۱

در (شکل ۲۲) فاز موج سینوسی  $-3^\circ$  درجه است. یعنی  $\theta_v = -3^\circ$  می‌باشد.



شکل ۲۲

و در (شکل ۲۳) فاز موج سینوسی  $+60^\circ$  درجه است یعنی  $\theta_V = +60^\circ$  می‌باشد.



شکل ۲۳

در مدارهای الکتریکی اختلاف بین فاز موج سینوسی ولتاژ با فاز موج سینوسی جریان که هم فرکانس هستند را (اختلاف فاز) گویند و با  $(\varphi)$  نشان می‌دهند و به صورت زیر محاسبه می‌شود.

فاز جریان - فاز ولتاژ = اختلاف فاز

$$\varphi = \theta_V - \theta_i$$

که در این رابطه :

$\varphi$  زاویه اختلاف فاز بین فاز موج سینوسی ولتاژ با فاز موج سینوسی جریان

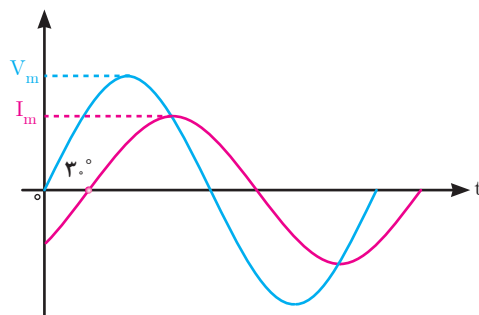
$\theta_V$  فاز موج سینوسی ولتاژ

$\theta_i$  فاز موج سینوسی جریان است.

در (شکل ۲۴) فاز موج سینوسی ولتاژ  $\theta_V = 0^\circ$  می‌باشد و فاز موج سینوسی جریان  $\theta_i = -30^\circ$  است. اختلاف فاز آنها  $\varphi = +30^\circ$  است، زیرا :

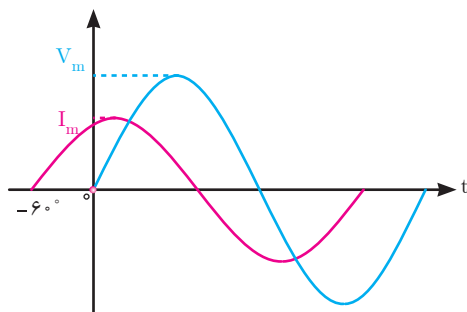
$$\varphi = \theta_V - \theta_i$$

$$\varphi = -(-30) = +30^\circ$$



شکل ۲۴

این مدار الکتریکی را پس فاز گویند زیرا جریان مدار  $30^\circ$  از ولتاژ مدار عقب تر است. در مدارهای پس فاز  $\phi$  مثبت خواهد شد.



شکل ۲۵

**مثال:** اختلاف فاز موج‌های سینوسی (شکل ۲۵) را محاسبه کنید.

**حل:** فاز موج سینوسی ولتاژ صفر است یعنی  $\theta_V = 0^\circ$  می‌باشد. فاز موج سینوسی جریان  $60^\circ +$  است یعنی  $\theta_i = +60^\circ$  می‌باشد. از رابطه اختلاف فاز به دست می‌آید:

$$\phi = \theta_V - \theta_i$$

$$\theta_V = 0^\circ$$

$$\theta_i = +60^\circ$$

$$\phi = 0^\circ - (+60^\circ) = -60^\circ$$

این مدار الکتریکی را «پیش‌فاز» گویند زیرا جریان مدار  $60^\circ$  از ولتاژ مدار جلوتر است. در مدارهای پیش فاز  $\phi$  منفی خواهد شد.

## معادله زمانی موج

معادله زمانی موج سینوسی رابطه بین کمیت‌های «مقدار ماکزیمم»، «سرعت زاویه‌ای»، «فاز» موج سینوسی را نشان می‌دهد. معادله زمانی موج سینوسی ولتاژ متناوب به صورت زیر است.

$$v(t) = V_m \sin(\omega t + \theta_V)$$

که در این رابطه:

$v(t)$  مقدار لحظه‌ای ولتاژ در لحظه  $t$  بر حسب ولت

$V_m$  مقدار ماکزیمم ولتاژ بر حسب ولت

$\omega$  سرعت زاویه‌ای بر حسب رادیان بر ثانیه  $\left[\frac{\text{Rad}}{\text{s}}\right]$

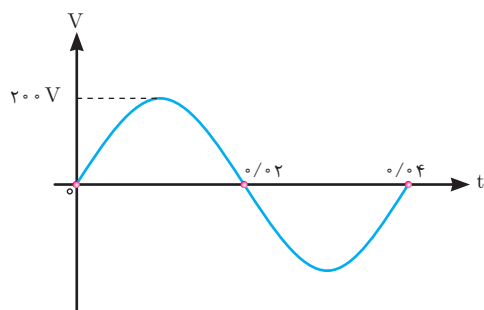
$\theta_V$  فاز موج سینوسی ولتاژ بر حسب درجه یا رادیان است.

کمیت‌های معادله زمانی  $v(t) = 100 \sin(100\pi t + 0^\circ)$  برابر است با:

$$V_m = 100 \text{ [V]}$$

$$\omega = 100\pi \left[\frac{\text{Rad}}{\text{s}}\right]$$

$$\theta_V = 0^\circ$$



شکل ۲۶

مثال: معادله زمانی موج سینوسی (شکل ۲۶) را بنویسید.

حل:

با توجه به شکل می توان نوشت:

$$\theta_V = 0^\circ$$

$$T = 0.04 \text{ [s]}$$

$$V_m = 200 \text{ [V]}$$

از رابطه سرعت زاویه‌ای  $\omega$  حساب می شود:

$$\omega = \frac{2\pi}{T} = \frac{2\pi}{0.04} = 50\pi \left[ \frac{\text{rad}}{\text{s}} \right]$$

معادله زمانی موج سینوسی به صورت زیر است :

$$v(t) = V_m \sin(\omega t + \theta_V)$$

با جایگذاری کمیت‌های آن معادله زمانی موج سینوسی به دست می آید:

$$v(t) = 200 \sin(50\pi t + 0)$$

معادله زمانی موج سینوسی جریان نیز مشابه معادله زمانی موج سینوسی ولتاژ به صورت زیر نوشته می شود.

$$i(t) = I_m \sin(\omega t + \theta_i)$$

که در این رابطه:

$i(t)$  مقدار لحظه‌ای جریان در لحظه  $t$  بر حسب آمپر

$I_m$  مقدار ماکزیمم جریان بر حسب آمپر

$\omega$  سرعت زاویه‌ای بر حسب رادیان بر ثانیه

$\theta_i$  فاز موج سینوسی جریان بر حسب درجه یا رادیان است.

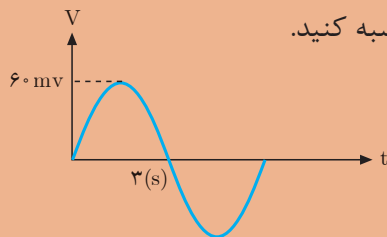




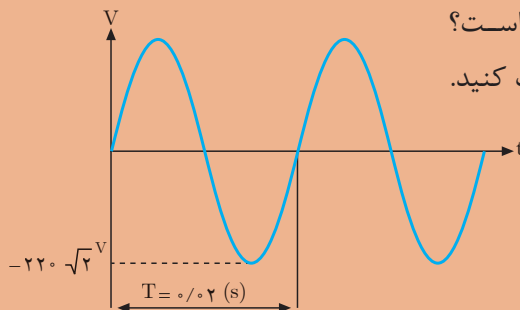
- ۱- هر یک از مفاهیم زیر را تعریف کنید.  
ولتاژ متناوب، فرکانس، زمان تناوب، مقدار مؤثر و متوسط یک موج سینوسی.
- ۲- مقدار ولتاژ ماکزیمم یک موج سینوسی برابر با یک ولت است مقدار مؤثر ولتاژ را به دست آورید.
- ۳- بار رسم سه موج سینوسی، اختلاف زاویه آنها را که اولی نسبت به دومی  $30^\circ$  درجه جلوتر و دومی نسبت به سومی  $45^\circ$  درجه جلوتر است، نشان دهید.
- ۴- زاویه فاز  $90^\circ$  درجه برابر با چند رادیان است؟



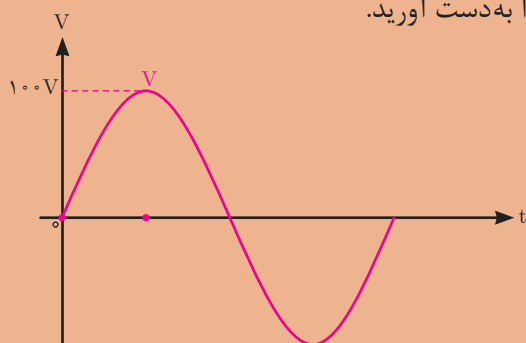
- ۱- منبع ولتاژ  $220$  ولت AC را به یک مقاومت  $20$  اهمی اتصال داده ایم:  
الف) مقدار جریان rms در مقاومت را محاسبه کنید.  
ب) اگر  $\omega = 100$  رادیان بر ثانیه باشد، فرکانس جریان برق چقدر است؟  
پ) چه مقدار ولتاژ (dc) مورد نیاز است تا معادل ولتاژ مؤثر در این مقاومت حرارت تولید شود؟
- ۲- فرکانس امواج متناوب سینوسی زیر چقدر است؟  
الف) ده سیکل در ثانیه  
ب) یک سیکل در ثانیه  
پ)  $50$  سیکل در یک ثانیه  
ت)  $50$  سیکل در  $5$  ثانیه
- ۳- زمان تناوب را برای فرکانس‌های زیر محاسبه کنید.  
الف)  $500$  هرتز (HZ)    ب)  $5$  مگا هرتز (MHZ)    پ)  $5$  گیگاهرتز (GHZ)
- ۴- در شکل زیر مقادیر  $V_{rms}$ ، زمان تناوب و فرکانس را محاسبه کنید.



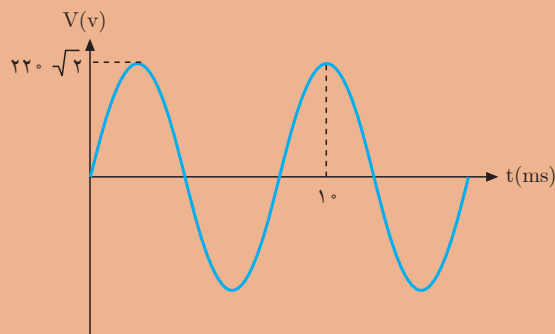
- ۵- جریانی به معادله  $i(t) = 10 \sin(100\pi t + 0^\circ)$  از یک مقاومت  $10$  اهمی عبور می‌کند. ولتاژ دو سر مقاومت چند ولت است؟
- ۶- مقدار ولتاژ منحنی شکل زیر را در  $\frac{T}{4}$  حساب کنید.  
فرکانس و مقدار مؤثر آن چقدر است؟



۷- مقدار مؤثر ولتاژ موج متناوب شکل مقابل را به دست آورید.



۸- ولتاژ متناوب سینوسی شکل زیر یک مقاومت الکتریکی  $5\Omega$  را تغذیه می کند. مطلوب است محاسبه:



الف) سرعت زاویه ای، فرکانس، زمان تناوب.

ب) ولتاژ rms.

ج) جریان عبوری از مقاومت الکتریکی.

۹- در یک مصرف کننده الکتریکی فاز موج سینوسی ولتاژ  $\theta_v = 0^\circ$  و فاز موج سینوسی جریان  $\theta_i = -60^\circ$  می باشد. مطلوب است محاسبه:

الف) اختلاف فاز ولتاژ و جریان

ب) مدار پس فاز است یا پیش فاز؟ چرا؟

ج) شکل موج سینوسی جریان و ولتاژ را رسم کنید.

۱۰- معادله زمانی موج سینوسی ولتاژ و جریان مصرف کننده ای به صورت

$v(t) = 220\sqrt{2} \sin(100\pi t + 0)$  و  $i(t) = 5\sqrt{2} \sin(100\pi t + 0)$  می باشد. مطلوب است

محاسبه:

الف) اختلاف فاز ولتاژ و جریان.

ب) سرعت زاویه ای، فرکانس و زمان تناوب موج ولتاژ.

واحد یادگیری ۹

الکترومغناطیس



در جهان امروز، بشر به طرز عجیبی به الکتریسیته وابسته می‌باشد و بدون آن، زندگی بشر متمدن تقریباً غیرممکن است. اما باید خاطر نشان ساخت که پدیده مغناطیس نیز نقش بسیار عمده‌ای در زندگی بشر ایفا می‌کند. بدون پدیده مغناطیس لوازم الکتریکی و الکترومکانیکی از قبیل موتورهای الکتریکی، ترانسفورمرها و ژنراتورها و دستگاه‌های اندازه‌گیری آنالوگ قادر به کار نخواهند بود. به‌طور کلی می‌توان گفت با آنکه بشر به الکتریسیته وابستگی شدید پیدا کرده است ولی در بیشتر موارد بدون پدیده مغناطیس قادر به استفاده از الکتریسیته نخواهد بود و بدون پدیده مغناطیس زندگی بشر متمدن غیرممکن خواهد بود.

در سال ۱۸۲۰ میلادی فیزیک‌دان دانمارکی به نام اورستد<sup>۱</sup> برای اولین بار متوجه شد که جریان الکتریکی می‌تواند آثار مغناطیسی به وجود آورد. این کشف مهم دو علم الکتریسیته و مغناطیس را به یکدیگر مربوط ساخت. برای تشریح رابطه بین جریان الکتریکی و مغناطیس نظریه‌ای به وجود آمده است که به آن نظریه الکترومغناطیس<sup>۲</sup> می‌گویند. تأثیر میدان مغناطیسی اطراف یک هادی حامل جریان بر عقربه قطب‌نما در (شکل ۲۷) نشان داده شده است.



شکل ۲۷

مشاهده می‌شود عقربه قطب‌نما، عمود بر هادی جریان قرار می‌گیرد. وقتی جهت جریان الکتریکی در هادی تغییر داده شود عقربه و جهت آن نیز تغییر می‌کند. یکی از حوزه‌هایی که انتظار می‌رود فناوری نانو اثر فراوانی بر پیشرفت آن داشته باشد، مغناطیس‌ها و مواد مغناطیسی است. با ورود فناوری نانو به علم و صنعت مغناطیس، بهبود زیادی در کیفیت مغناطیس‌ها ایجاد شده است و مغناطیس‌هایی با ابعاد کوچک و نیروی مغناطیسی بزرگ ساخته شده‌اند.

۱- Oersted

۲-Electro Magnets



فناوری نانو در برق در چه زمینه هایی نوآوری داشته است؟




### هانس کریستن اوستد

داروساز، فیزیک‌دان و اندیشمند نابغه دانمارکی در سال ۱۷۷۷ دیده به جهان گشود. پدرش داروخانه داشت، بنابراین او در کودکی با بسیاری از مواد آشنایی پیدا کرد که این آشنایی سبب تحصیل در همین رشته شد. وی در سال ۱۷۹۹ در سن ۲۲ سالگی به اخذ درجه دکترا در داروشناسی نایل گردید. و در سال ۱۸۰۶ با سمت استاد عالی استخدام شد و در سال ۱۸۲۹ به ریاست مؤسسه پلی‌تکنیک کپنهاگن منصوب گردید.

## میدان مغناطیسی

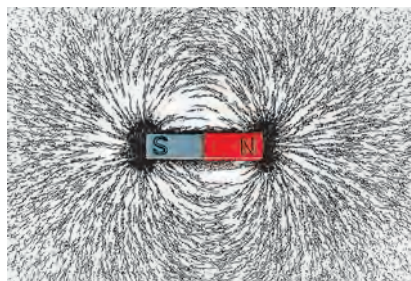
در فضای اطراف یک آهنربا یا مغناطیس طبیعی خاصیتی وجود دارد که ذرات آهن را به خود جذب می‌کند به این فضا «میدان مغناطیسی»<sup>۱</sup> می‌گویند.



شکل ۲۸

میدان مغناطیسی بر قطب‌نما تأثیر می‌گذارد و باعث انحراف آن می‌شود پس با حرکت دادن یک قطب‌نما در اطراف یک آهنربا می‌توان به وجود میدان مغناطیسی پی برد (شکل ۲۸).

با قرار دادن یک مقوا بر روی یک آهنربا و پاشیدن براده‌های آهن به روی مقوا می‌توان خطوط نیروی میدان مغناطیسی را مشاهده کرد (شکل ۲۹).



شکل ۲۹

هر خط نیروی میدان مغناطیسی را یک ماکسول<sup>۲</sup> (max) می‌گویند.

۱-Magnetic field


۲-Max Well

## ماکسول



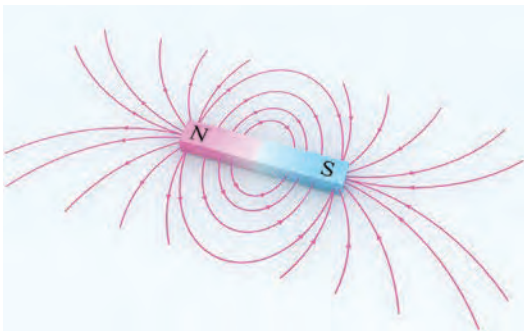
جیمز کلارک ماکسول در ۱۳ نوامبر سال ۱۸۳۱ در ادینبرای اسکاتلند متولد شد از کودکی به ریاضیات و فیزیک علاقه فراوان داشت در سال ۱۸۴۷ وارد دانشگاه ادینبرا شد و در ۱۸۵۰ به دانشگاه کمبریج رفت و در سال ۱۸۵۴ از تحصیل فراغت یافت.

ماکسول از سال ۱۸۵۶ تا ۱۸۶۵ استاد کالج مارشال در آبردین و کالج کینگ لندن بود، وی در سال ۱۸۷۳ کتابی به نام دوره الکتریسیته و مغناطیس منتشر کرد و بلافاصله به سمت استاد کرسی فیزیک دانشگاه انتخاب شد.



شکل ۳۰

خطوط نیروی میدان مغناطیسی در دو نقطه معین از میدان مغناطیسی دارای فشردگی بیشتری نسبت به سایر نقاط است این نقاط را قطب‌های مغناطیسی<sup>۱</sup> می‌نامند و با حروف  $N$  و  $S$  آنها را نشان می‌دهند. اثر جذب در قطب‌های میدان مغناطیسی بسیار قوی‌تر از سایر نقاط میدان مغناطیسی است (شکل ۳۰).



شکل ۳۱- خطوط نیروی میدان مغناطیسی

خطوط نیروی میدان مغناطیسی هیچگاه یکدیگر را قطع نمی‌کنند. بنا به قرارداد از قطب  $N$  بیرون می‌آیند و پس از امتداد در فضای اطراف آهنربا به قطب  $S$  وارد می‌شوند (شکل ۳۱).

در شکل خطوط نیروی میدان مغناطیسی اطراف یک آهنربا نمایش داده شده است.

<sup>۱</sup>-Magnetic poles

## فوران مغناطیسی

به مجموع خطوط نیروی میدان مغناطیسی اطراف یک مغناطیسی یا آهنربا «فوران» یا «شار مغناطیسی»<sup>۱</sup> می‌گویند و آن را با  $\Phi$  نشان می‌دهند.<sup>۲</sup>  
واحد فوران مغناطیسی ولت.ثانیه ( $v.sec$ ) است که اصطلاحاً به آن وبر  $wb$  می‌گویند. یک وبر<sup>۳</sup> برابر با  $10^8$  خط نیروی میدان مغناطیسی یا ماکسول است. پس:

$$1[v.sec] = 1[wb] = 10^8 [max]$$

واحد رایج فوران مغناطیسی وبر  $wb$  است و واحد کوچک‌تر آن میلی وبر  $mwb$  می‌باشد. یک وبر برابر با  $10^3$  میلی‌وبر است. یعنی:

$$1[wb] = 10^3 [mwb]$$



### ویلهلم وبر

ویلهلم وبر در سال ۱۷۹۵ میلادی در آلمان به دنیا آمد. وی فیزیکدان بود که شهرت‌اش به مطالعات در زمینه مغناطیس مربوط می‌شود. وبر در سال ۱۸۷۸ میلادی دیده از جهان فرو بست.

دیدگاه‌های دانشمندان در قرن هجدهم در مورد ولتاژ مستقیم و متناوب چه تفاوت‌هایی با یکدیگر دارد؟

تحقیق کنید



**مثال:** فوران مغناطیسی یک آهنربا  $2/5$  میلی وبر است. فوران این آهنربا چند ماکسول  $max$  است؟

**حل:**

$$\frac{1wb}{\Phi} = \frac{10^3 mwb}{2/5 mwb}$$

- با استفاده از تناسب، واحد فوران به وبر تبدیل می‌شود.

۱-Magnetic Flux

۲- در برخی کتب آن را Flow می‌نامند.

۳-Weber

- یک وبر برابر با  $10^8$  خط نیروی میدان مغناطیسی یا ماکسول  $max$  است.

$$\varphi = \frac{2/5 \times 1}{10^3}$$

$$\varphi = 2/5 \times 1 \times 10^{-3}$$


$$\varphi = 2/5 \times 10^{-3} \text{ [wb]}$$

$$\varphi = 2/5 \times 10^{+5} = 250000 \text{ [max]}$$

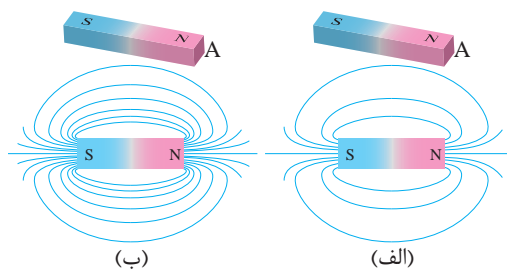
یا به عبارتی در اطراف این آهنربا  $250000$  خط نیروی میدان مغناطیسی وجود دارد.

### نیکولا تسلا

نیکولا تسلا در سال ۱۸۵۶ در امپراتوری اتریش - مجارستان متولد شد و پیشگام تولید، انتقال و استفاده از جریان الکتریکی متناوب شد. در سال ۱۸۸۸ شرکت وستینگهاوس امتیاز تسلا شامل موتور و ژنراتور الکتریکی را خرید و این شرکت از سیستم جریان متناوب تسلا برای روشنایی استفاده کرد. تسلا در طی زندگی اش یک میراث حقیقی از اختراعات به جای گذاشت از جمله انتقال انرژی الکتریکی از طریق امواج الکترومغناطیسی که امروزه هنوز جذاب هستند. به افتخار او نام واحد چگالی شار مغناطیسی تسلا می باشد.



### چگالی فوران مغناطیسی



شکل ۳۲

دو آهنربا با ابعاد مشابه و فوران های  $1000$  و  $2000$  ماکسول که سطح مقطع قطب آنها با  $A$  مشخص می باشد در شکل نشان داده شده است. میدان مغناطیسی آهنربای (شکل ۳۲-الف) در سطح مقطع قطب خود  $1000$  و میدان مغناطیسی آهنربای (شکل ۳۲-ب) در سطح مقطع خود  $2000$  خط نیروی در جای داده است. سطح مقطع قطب  $A$  هر دو آهنربا برابر است، اما آهنربای شکل خطوط نیروی مغناطیسی یا فوران مغناطیسی بیشتری در سطح مقطع قطب  $A$  خود جای داده است. به عبارتی فوران مغناطیسی در سطح



مقطع قطب A آهنربای (شکل ۳۲-ب) نسبت به (شکل ۳۲-الف) فشرده و متراکم‌تر می‌باشد، لذا میدان مغناطیسی آن قوی‌تر است. در واقع میدان مغناطیسی این دو آهنربا با یکدیگر تفاوت دارند. برای نشان دادن این تفاوت کمیتی به نام «چگالی فوران مغناطیسی»<sup>۱</sup> تعریف می‌شود و آن را با B نشان می‌دهند. چگالی فوران مغناطیسی B کمیتی است که تراکم یا فشردگی خطوط میدان مغناطیسی در سطح مقطع A را نشان می‌دهد. اگر سطح مورد نظر واحد انتخاب شود، «فوران عبوری از واحد سطح را چگالی فوران مغناطیسی» تعریف می‌کنند.

چگالی فوران مغناطیسی از رابطه زیر به دست می‌آید.

$$B = \frac{\phi}{A}$$

در این رابطه:

$\phi$  فوران مغناطیسی بر حسب وبر  $wb$

A مساحت مقطعی که فوران مغناطیسی  $\phi$  از آن می‌گذرد بر حسب مترمربع  $m^2$   
 B چگالی فوران مغناطیسی بر حسب وبر بر مترمربع  $\left[\frac{wb}{m^2}\right]$  است.

واحد چگالی فوران مغناطیسی B وبر بر مترمربع  $\left[\frac{wb}{m^2}\right]$  است که اصطلاحاً به آن تسلا<sup>۲</sup> [T] می‌گویند و واحد کوچک‌تر آن ماکسول بر سانتی‌مترمربع  $\left[\frac{max}{cm^2}\right]$  است که اصطلاحاً به آن گاوس<sup>۳</sup> [G] گفته می‌شود. پس:

$$1 \left[\frac{wb}{m^2}\right] = 1T = 10^4 [G]$$

مثال: آهنربایی با فوران مغناطیسی  $2 \text{ mwb} / 0.2$  مطابق (شکل ۳۳) در نظر است. چگالی فوران مغناطیسی در سطح مقطع A هسته چند گاوس می‌باشد؟ در صورتی که  $a=10 \text{ mm}$  و  $b=20 \text{ mm}$  باشد.

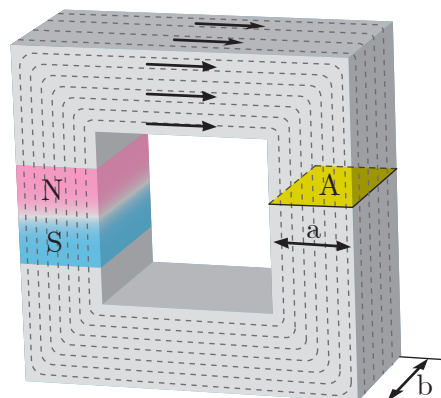
حل:

- سطح مقطع A برابر است با:

$$A = a \cdot b = 10 \times 20 = 200 \left[mm^2\right]$$

- واحد سطح مقطع به متر مربع تبدیل می‌شود:

$$\frac{1m^2}{A} = \frac{10^6 mm^2}{200 \cdot mm^2} \quad A = \frac{200 \times 1}{10^6} = 200 \times 10^{-6}$$



شکل ۳۳

- واحد فوران مغناطیسی به وبر تبدیل می‌شود:

$$\frac{1 \text{ wb}}{\varphi} = \frac{10^3 \text{ mwb}}{0.02 \text{ mwb}}$$

$$\varphi = \frac{0.02 \times 1}{10^3} = 0.02 \times 10^{-3} = 2 \times 10^{-5} \text{ [wb]}$$

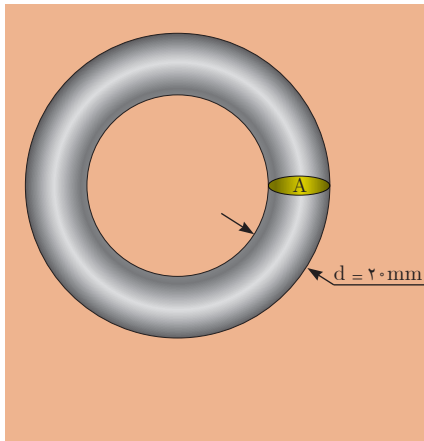
- از رابطه زیر چگالی فوران مغناطیسی به دست می‌آید:

$$B = \frac{\varphi}{A} = \frac{2 \times 10^{-5}}{2 \times 10^{-4}} = 0.1 \left[ \frac{\text{wb}}{\text{m}^2} \right] = 0.1 \text{ [T]}$$

- واحد چگالی فوران مغناطیسی به گاوس تبدیل می‌شود:

$$\frac{1 \text{ T}}{0.1 \text{ T}} = \frac{10^4 \text{ G}}{B}$$

$$B = \frac{0.1 \times 10^4}{1} = 0.1 \times 10^4 = 1000 \text{ [G]}$$



۱- یک آهنربا ۴۰۰۰۰۰ خط نیروی میدان مغناطیسی دارد. فوران این آهنربا چند میلی وبر است؟


۲- آهنربایی با چگالی فوران مغناطیسی ۱۰۰۰۰ G مطابق (شکل روبه‌رو) در نظر است. فوران مغناطیسی در سطح مقطع A هسته چند میلی وبر است.

تمرین



## میدان مغناطیسی اطراف هادی حامل جریان الکتریکی

جریان الکتریکی، میدان مغناطیسی تولید می‌کند. اورستد اولین کسی بود که به بررسی ارتباط بنیادی میان جریان الکتریکی و مغناطیس پرداخت و نظریه الکترومغناطیس را ارائه کرد. وی برای تشریح این نظریه با قرار دادن یک عقربه مغناطیسی در تمام نقاط مختلف اطراف یک هادی حامل جریان مطابق (شکل ۳۴) مشاهده کرد عبور جریان الکتریکی باعث انحراف عقربه مغناطیسی می‌شود. و با تغییر جهت جریان الکتریکی در هادی جهت عقربه‌های مغناطیسی تغییر می‌کند.

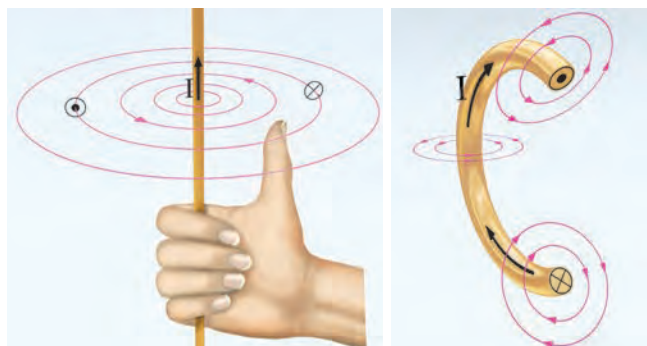


شکل ۳۴

جهت میدان الکترومغناطیسی به جهت جریان الکتریکی بستگی دارد.

### جهت میدان الکترومغناطیسی اطراف هادی حامل جریان الکتریکی

برای تعیین جهت میدان الکترومغناطیسی اطراف هادی حامل جریان الکتریکی علاوه بر استفاده از عقربه مغناطیسی مطابق (شکل ۳۵) می‌توان از قانون شست<sup>۱</sup> نیز استفاده کرد. برای این

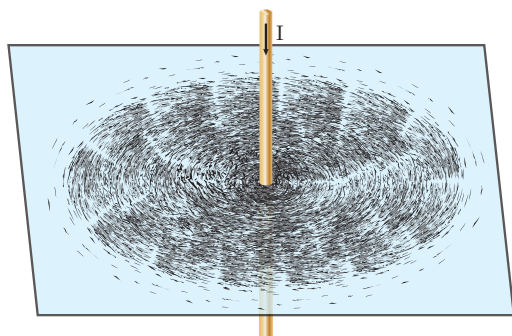


شکل ۳۵

منظور مطابق (شکل ۳۵) باید شست دست راست را در جهت جریان الکتریکی هادی قرار داد تا بقیه انگشتان به صورت بسته جهت میدان الکترومغناطیسی را نشان دهند.

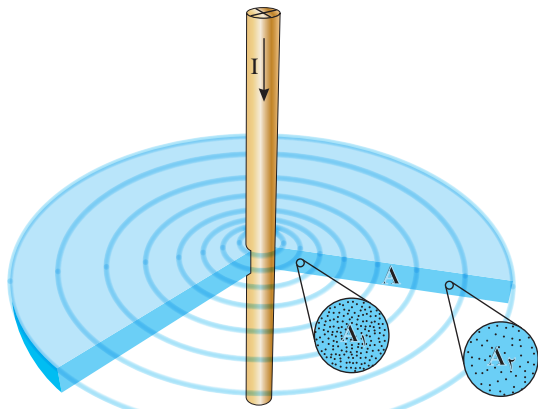
مشاهده می‌کنید مانند جهت جریان می‌توان جهت میدان مغناطیسی را نیز به کمک نقطه (•) و ضربدر (X) مشخص کرد.

### چگالی فوران مغناطیسی اطراف یک هادی حامل جریان الکتریکی



شکل ۳۶

اورستد در ادامه آزمایش‌های خود، هادی حامل جریان الکتریکی را از میان یک صفحه مقوایی عبور داد و بر روی صفحه مقوایی براده‌های آهن پاشید. (شکل ۳۶)



شکل ۳۷

وی مشاهده کرد براده‌های آهن در مسیره‌های دایره‌ای منظم شدند و هرچه از هادی فاصله می‌گیرند از فشردگی آنها کاسته می‌شود و این پدیده در سرتاسر طول هادی صادق است. برای درک این پدیده برشی از فضای اطراف هادی در سطح مقطع A در (شکل ۳۷) نشان داده شده است.

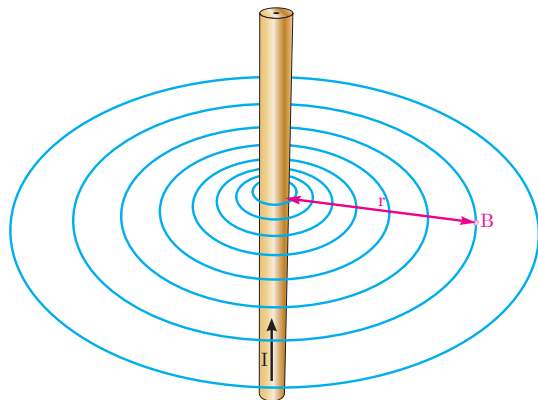
دو ناحیه  $A_1$  و  $A_2$  با مقاطع مساوی به فاصله  $r_1$  و  $r_2$  از هادی در سطح مقطع A بزرگ‌نمایی شده‌اند. چگالی فوران مغناطیسی ناحیه  $A_2$  که

در فاصله دورتری نسبت به ناحیه  $A_1$  از هادی واقع است کمتر می‌باشد. پس با افزایش فاصله از هادی حامل جریان، میدان مغناطیسی ضعیف‌تر می‌شود و چگالی فوران مغناطیسی B کاهش می‌یابد.

### محاسبه چگالی فوران مغناطیسی اطراف یک هادی حامل جریان الکتریکی

آمبرو ماکسول دانشمندانی بودند که ثابت کردند چگالی فوران مغناطیسی B اطراف هادی حامل جریان با شدت جریان الکتریکی هادی نسبت مستقیم و با فاصله از هادی نسبت عکس

دارد و رابطه زیر را برای تعیین مقدار چگالی فوران مغناطیسی B در نقطه‌ای به فاصله r از یک هادی حامل جریان به شدت I را براساس (شکل ۳۸) ارائه کردند.



شکل ۳۸

$$B = k \frac{I}{r}$$

در این رابطه:

B چگالی فوران میدان مغناطیسی

برحسب  $\left[ \frac{wb}{m^2} \right]$

K ضریبی است که به محیط اطراف هادی بستگی دارد و برای هوا مقدار آن  $2 \times 10^{-7}$  برحسب

است.  $\left[ \frac{wb}{A.m} \right]$

I شدت جریان الکتریکی هادی بر حسب [A]

r فاصله از هادی بر حسب [m] است.

**مثال:** چگالی فوران میدان مغناطیسی در نقطه‌ای به فاصله ۱ cm از هادی حامل جریان ۱۰ A چند گاوس است؟

**حل:**

- واحد فاصله بر حسب متر تبدیل می‌شود.

$$\frac{1\text{m}}{r} = \frac{10\text{cm}}{1\text{cm}}$$

$$r = \frac{1 \times 1}{100} = 0.01\text{m}$$

- چگالی میدان مغناطیسی از رابطه زیر به دست می‌آید:

$$B = k \frac{I}{r}$$

$$B = 2 \times 10^{-7} \times \frac{10}{0.01} = 2 \times 10^{-4} \left[ \frac{\text{wb}}{\text{m}^2} \right]$$

یا

$$B = 2 \times 10^{-4} [\text{T}]$$

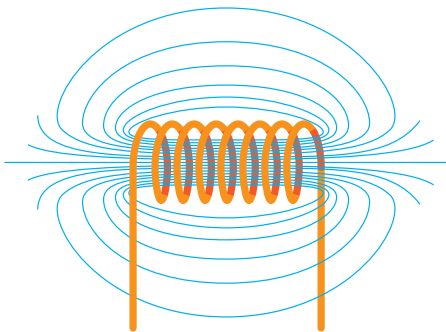
- واحد چگالی فوران مغناطیسی به گاوس تبدیل می‌شود:

$$\frac{1\text{T}}{2 \times 10^{-4}\text{T}} = \frac{10^4\text{G}}{B}$$


$$B = \frac{2 \times 10^{-4} \times 10^4}{1} = 2 [\text{G}]$$

## میدان مغناطیسی سیم‌پیچ حامل جریان الکتریکی

میدان الکترومغناطیسی هادی حامل جریان الکتریکی در سرتاسر دو طرف هادی توزیع می‌شود و متمرکز نیست و مقدار چگالی فوران مغناطیسی B در هر نقطه از اطراف هادی متغیر و کم است. اگر هادی حامل جریان الکتریکی به صورت سیم‌پیچ در آورده شود ضمن اینکه میدان الکترومغناطیسی در درون سیم‌پیچ متمرکز می‌شود، چگالی فوران مغناطیسی B نیز افزایش می‌یابد (شکل ۳۹).




شکل ۳۹



سیم پیچ از پیچیدن چند دور هادی به وجود می‌آید. (شکل ۴۰).

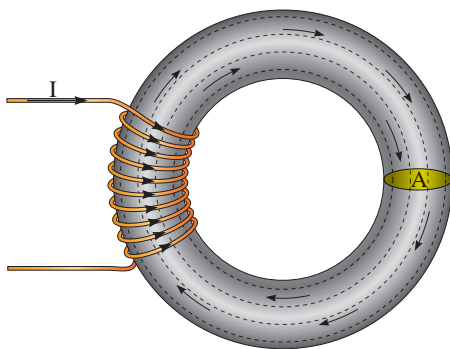
شکل ۴۰

سیم پیچ را بوبین نیز می‌گویند. انواع سیم‌پیچ در (شکل ۴۱) نشان داده شده است.



شکل ۴۱

با قرار دادن سیم‌پیچ بر روی یک هسته از جنس مواد فرومغناطیس<sup>۱</sup> مطابق (شکل ۴۲) و عبور جریان الکتریکی از آن، میدان الکترومغناطیسی با چگالی  $B$  بیشتری نسبت به سیم‌پیچ با هسته هوا ایجاد می‌شود. هسته فرومغناطیس باعث می‌شود، میدان الکترومغناطیسی درون سیم‌پیچ متمرکزتر شود، لذا چگالی فوران مغناطیسی افزایش می‌یابد. مواد فرومغناطیسی خواص آهنربایی از خود نشان می‌دهند. آهن و آلیاژهای آهن، مواد فرومغناطیس هستند.

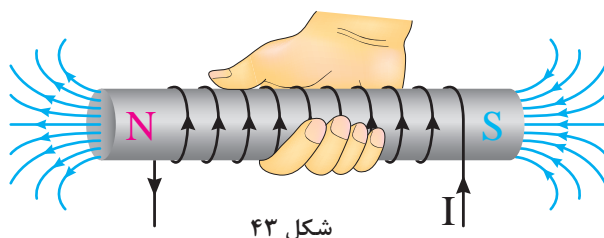


شکل ۴۲

۱- Ferro magnetic


## جهت میدان الکترومغناطیسی سیم‌پیچ حامل جریان الکتریکی

جهت میدان الکترومغناطیسی سیم‌پیچ حامل جریان الکتریکی از قاعده دست راست تعیین می‌شود بدین منظور مطابق (شکل ۴۳) اگر انگشتان دست راست در جهت جریان الکتریکی سیم‌پیچ قرار گیرد شست جهت میدان الکترومغناطیسی را نشان می‌دهد. با تعیین جهت میدان الکترومغناطیسی محل قطب‌های N و S مشخص می‌شود. طبق قرارداد محل خروج فوران مغناطیسی را با حرف N و محل ورود آن را با حرف S نشان می‌دهند.



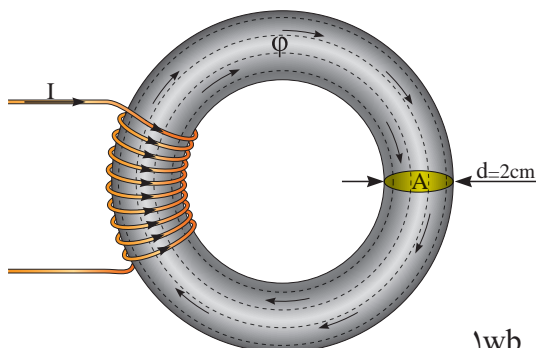
شکل ۴۳

جهت میدان مغناطیسی سیم‌پیچ نیز تابع جهت جریان سیم‌پیچ است و با تغییر جهت جریان جهت میدان مغناطیسی تغییر می‌کند (شکل ۴۴).



شکل ۴۴

مثال: سیم‌پیچ حامل جریان الکتریکی (شکل ۴۵) میدان الکترومغناطیسی با فوران  $3/14 \text{ mwb}$  در هسته تولید می‌کند. چگالی فوران مغناطیسی در هسته چند تسلا است؟  
حل:



شکل ۴۵

- چگالی فوران از رابطه  $\phi = \frac{B}{A}$  به دست می‌آید. ابتدا واحد فوران را به وبر تبدیل می‌کنیم و سپس مساحت سطح مقطع A را محاسبه کنیم:

$$\frac{1 \text{ wb}}{\phi} = \frac{10^3 \text{ mwb}}{3/14} \Rightarrow \phi = \frac{3/14}{10^3} = 3/14 \times 10^{-3} [\text{wb}]$$

$$A = \frac{\pi d^2}{4}$$

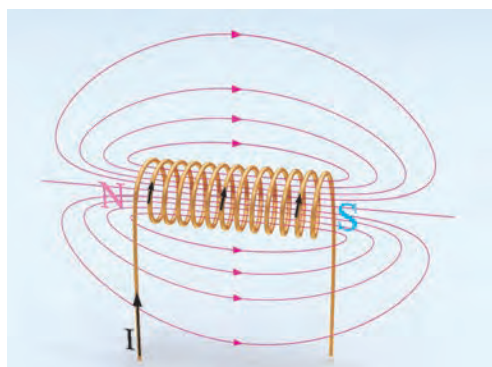
$$A = \frac{\pi (3)^2}{4} = 3/14 \text{ [cm}^2\text{]}$$

$$\frac{1 \text{ m}^2}{A} = \frac{10^4 \text{ cm}^2}{3/14} \Rightarrow A = \frac{1 \times 3/14}{10^4} = 3/14 \times 10^{-4} \text{ [m}^2\text{]}$$

$$B = \frac{\phi}{A}$$

$$B = \frac{3/14 \times 10^{-3}}{3/14 \times 10^{-4}} = 10 \left[ \frac{\text{wb}}{\text{m}^2} \right] = 10 \text{ [T]}$$


## ضریب نفوذ مغناطیسی



شکل ۴۶

ضریب نفوذ مغناطیسی  $\mu$  معیاری است که میزان گذردهی هسته را در مقابل خطوط نیروی مغناطیسی نشان می‌دهد.

میدان مغناطیسی سیم‌پیچ حامل جریان I با هسته هوا در (شکل ۴۶) نشان داده شده است.



شکل ۴۷

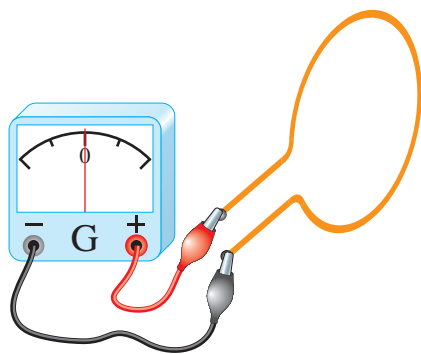
اگر درون این سیم‌پیچ هسته فرومغناطیس قرار داده شود چگالی فوران مغناطیسی B در هسته به شدت افزایش می‌یابد (شکل ۴۷).

از مقایسه (شکل‌های ۴۶ و ۴۷) می‌توان نتیجه گرفت. هسته فرومغناطیس نسبت به هسته هوا ضریب نفوذ مغناطیسی  $\mu$  بزرگ‌تری دارد و چگالی فوران مغناطیسی بزرگ‌تری به دست می‌آید.



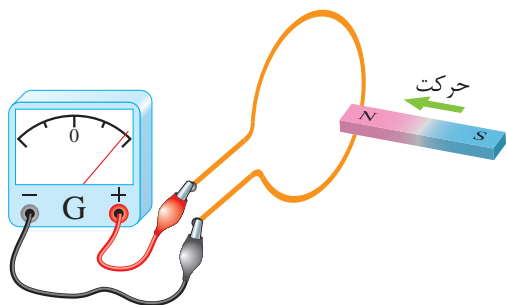
## قانون القای الکترومغناطیسی فاراده

«قانون القای الکترومغناطیسی فاراده» یکی از اساسی‌ترین قوانین مغناطیسی در فیزیک است. طرز کار وسایل الکتریکی که الکترومغناطیس در آنها نقش دارد به کمک قانون القای الکترومغناطیسی فاراده قابل فهم است؛ قانون القای الکترومغناطیسی فاراده در تحلیل طرز کار وسایل تبدیل انرژی الکترومکانیکی اعم از موتور یا ژنراتور کاربرد فراوان دارد. قانون القای الکترومغناطیسی فاراده و روابط حاکم بر آن را می‌توان با انجام چند آزمایش به دست آورد.



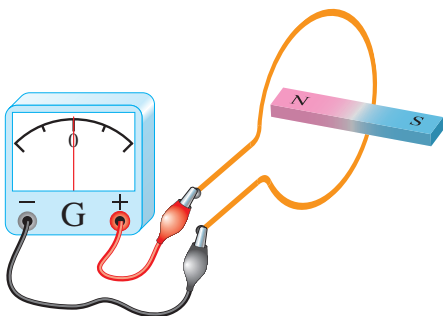
شکل ۴۸

آزمایش ۱ - مداری متشکل از یک حلقه هادی که دو سر آن به یک گالوانومتر متصل است در (شکل ۴۸) نشان داده شده است.



شکل ۴۹

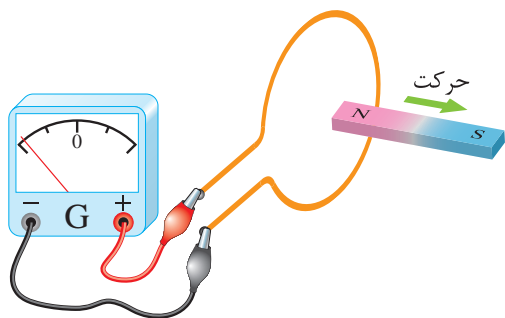
اگر یک آهنربای دائم از طرف قطب N آن مطابق (شکل ۴۹) داخل حلقه شود، عقربه گالوانومتر منحرف می‌شود. انحراف عقربه گالوانومتر به معنای عبور جریان از گالوانومتر است.



شکل ۵۰

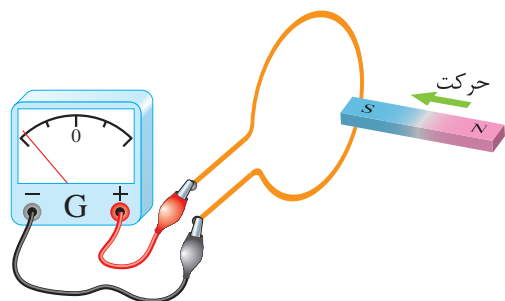
در صورتی که آهنربای دائم نسبت به حلقه، مطابق (شکل ۵۰) حرکتی نداشته باشد، عقربه گالوانومتر منحرف نخواهد شد.

۱- گالوانومتر یک آمپرتر بسیار دقیق است که می‌تواند جریان‌های خیلی کم را اندازه بگیرد.



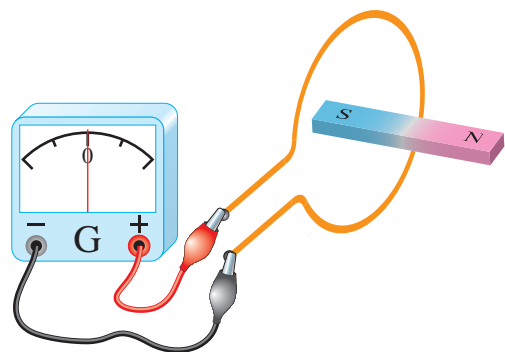
شکل ۵۱

وقتی که آهنربای دائم از حلقه، مطابق (شکل ۵۱) دور شود، عقربه گالوانومتر در جهت عکس حالت قبل منحرف می‌شود. یعنی جهت جریان در حلقه تغییر کرده است.



شکل ۵۲

در ادامه آزمایش اگر قطب S آهنربای دائم مطابق (شکل ۵۲) داخل حلقه شود، عقربه گالوانومتر بر خلاف حالتی که قطب N وارد حلقه شد منحرف می‌گردد.



شکل ۵۳

در این حالت نیز در صورتی که آهنربای دائم نسبت به حلقه: مطابق (شکل ۵۳) حرکتی نداشته باشد، عقربه گالوانومتر منحرف نخواهد شد.

بدین ترتیب در این آزمایش پدیده‌ای مشاهده می‌شود که در اثر حرکت آهنربای دائم نسبت به حلقه به‌وجود آمده است.

در آزمایش ۱ جریانی که در حلقه برقرار می‌شود را «جریان القایی<sup>۱</sup>» می‌نامند. می‌دانید عامل جاری شدن جریان در هر مدار الکتریکی نیروی محرکه (E) است. جریان القایی نیز ناشی از یک نیروی محرکه است که آن را «نیروی محرکه القایی<sup>۲</sup>» می‌نامند. نیروی محرکه القایی را به اختصار با EMF نشان می‌دهند.

۱-Induced Current

۲-Electro Motive Force

فاراده با آزمایش‌هایی نظیر این آزمایش، توانست قانونی به‌دست آورد که به «قانون القای الکترومغناطیسی فاراده» مشهور شد. وی بر اساس این آزمایش‌ها متوجه شد که تغییر فوران مغناطیسی عامل ایجاد نیروی محرکه القایی است؛ لذا قانون القای الکترومغناطیسی فاراده را چنین تعریف کرد:

«مقدار نیروی محرکه القایی در هر مدار با آهنگ تغییر فوران متناسب است.»

فاراده به کمک این قانون برای محاسبه مقدار نیروی محرکه القایی رابطه ریاضی زیر را ارائه کرد. این رابطه بیان ریاضی قانون القای الکترومغناطیسی فاراده است.

$$e \propto \frac{\Delta\phi}{\Delta t}$$

در این رابطه:

$\Delta\phi$  تغییرات فوران مغناطیسی بر حسب وبر [wb]

$\Delta t$  مدت زمان وقوع تغییرات فوران مغناطیسی بر حسب ثانیه (s)

$e$  نیروی محرکه القایی بر حسب ولت [V] است.

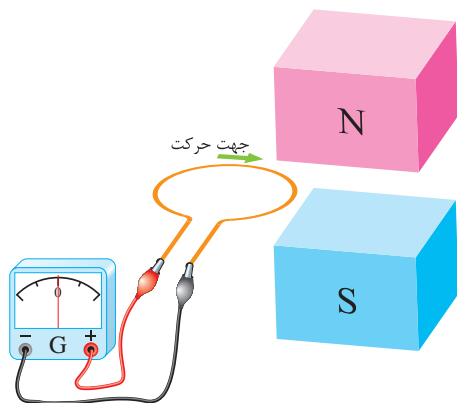
نیروی محرکه القایی  $e$  در عمل بسیار حائز اهمیت است. چراغ‌های اتاکی که در آن، این کتاب را می‌خوانید با استفاده از نیروی محرکه القایی حاصل از یک ژنراتور روشن می‌شوند. اگر به‌جای استفاده از یک حلقه سیم، از سیم‌پیچی با  $N$  حلقه، آزمایش فاراده تکرار شود، در هر حلقه سیم‌پیچ نیروی محرکه القایی ایجاد می‌شود و این نیروهای محرکه با یکدیگر جمع می‌شوند تا نیروی محرکه القایی سیم‌پیچ به‌دست آید؛ لذا مقدار نیروی محرکه القایی در سیم‌پیچ از رابطه زیر تعیین می‌شود.

$$e = N \frac{\Delta\phi}{\Delta t}$$

نیروی محرکه القایی  $e$  جریان القایی در سیم‌پیچ جاری می‌کند که از رابطه زیر به‌دست می‌آید:

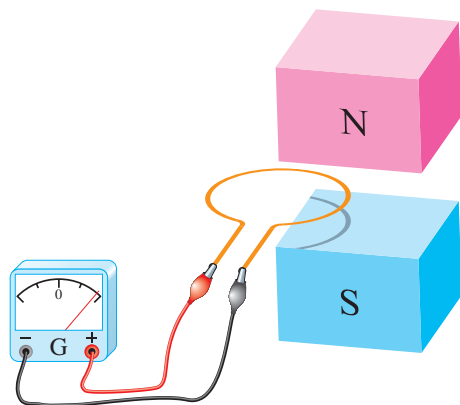
$$i = \frac{(V) \text{ نیروی محرکه القایی}}{(\Omega) \text{ مقاومت الکتریکی حلقه}}$$

آزمایش ۲- حلقه هادی متصل به یک گالوانومتر در بیرون میدان مغناطیسی B ناشی از دو قطب N و S یک آهنربای قوی در (شکل ۵۴) نشان داده شده است. حلقه در جهت نشان داده شده از درون میدان مغناطیسی عبور داده می‌شود.



شکل ۵۴

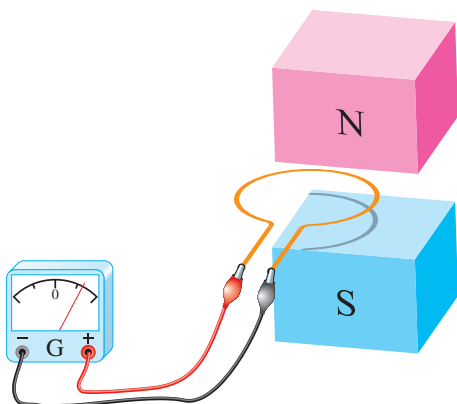
با حرکت حلقه در هنگام ورود به میدان مغناطیسی، فورانی که از سطح حلقه می‌گذرد افزایش می‌یابد و هنگام خروج از میدان مغناطیسی، فورانی که از سطح حلقه می‌گذرد کاهش می‌یابد و به صفر می‌رسد. این تغییر فوران طبق قانون القای الکترومغناطیسی فاراده در حلقه نیروی محرکه القا می‌کند و گالوانومتر منحرف می‌شود.



شکل ۵۵

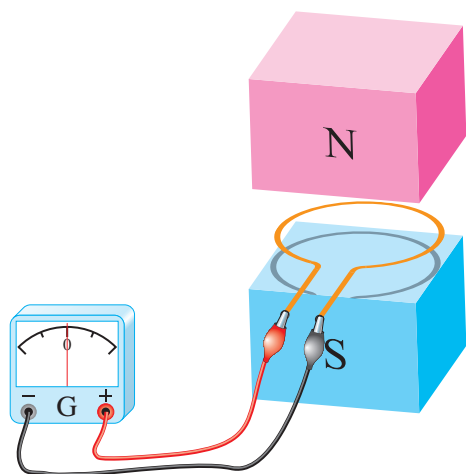
لحظه ورود حلقه به درون میدان مغناطیسی را (شکل ۵۵) نشان می‌دهد.

در این لحظه فوران مغناطیسی بخشی از سطح حلقه را می‌پوشاند. تصویر حلقه روی قطب S این موضوع را نشان می‌دهد.



شکل ۵۶

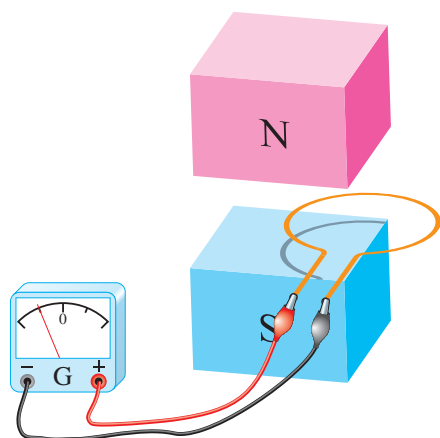
هرچه حلقه بیشتر وارد میدان مغناطیسی می‌شود فوران بیشتری سطح حلقه را می‌پوشاند. (شکل ۵۶)



شکل ۵۷

این تغییر فوران طبق قانون فاراده نیروی محرکه القایی در حلقه ایجاد می‌کند. لذا گالوانومتر منحرف می‌شود.

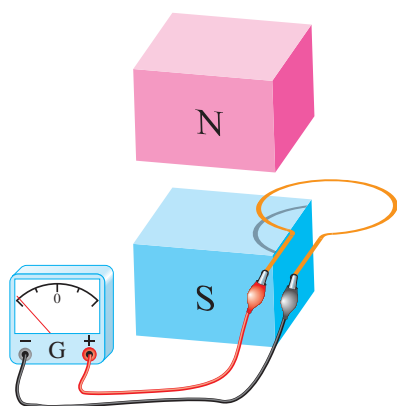
(شکل ۵۷) لحظه‌ای را نشان می‌دهد که حلقه به صورت کامل وارد میدان مغناطیسی شده است. تصویر حلقه روی قطب S این موضوع را نشان می‌دهد. با اینکه تمام فوران مغناطیسی سطح حلقه را پوشانده است اما حرکت حلقه در این لحظه موجب تغییر فوران در سطح حلقه نخواهد شد. لذا در آن نیروی محرکه القا نمی‌شود و گالوانومتر صفر را نشان می‌دهد.



شکل ۵۸

لحظه خروج حلقه در (شکل ۵۸) نشان داده شده است. در این لحظه فوران مغناطیسی بخشی از سطح حلقه را می‌پوشاند و دوباره تغییرات فوران در سطح حلقه ایجاد می‌شود. بنابراین در حلقه نیروی محرکه القا می‌شود و گالوانومتر را در جهت مخالف منحرف می‌کند.

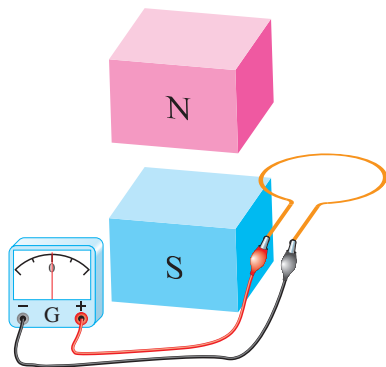
در لحظه خروج حلقه از میدان مغناطیسی فورانی که سطح حلقه را می‌پوشاند رو به کاهش است در صورتی که در زمان ورود حلقه به میدان مغناطیسی فورانی که سطح حلقه را می‌پوشاند رو به افزایش بوده است. لذا گالوانومتر به هنگام خروج حلقه از میدان مغناطیسی، برخلاف جهت ورود حلقه به میدان مغناطیسی، منحرف می‌شود.



شکل ۵۹

لحظه خروج حلقه از میدان مغناطیسی در (شکل ۵۹) نشان داده شده است.

مشاهده می‌شود سطحی از حلقه که توسط فوران پوشانده شده است رو به کاهش است. لذا تغییرات فوران در سطح حلقه، در آن نیروی محرکه القا می‌کند و عقربه گالوانومتر را منحرف خواهد کرد.



شکل ۶۰

خروج کامل حلقه از میدان مغناطیسی در (شکل ۶۰) نشان داده شده است. در این لحظه فورانی از سطح حلقه نمی‌گذرد و تغییرات فوران آن به صفر رسیده است لذا در آن نیروی محرکه القا نمی‌شود و گالوانومتر صفر را نشان می‌دهد.

## قانون لنز

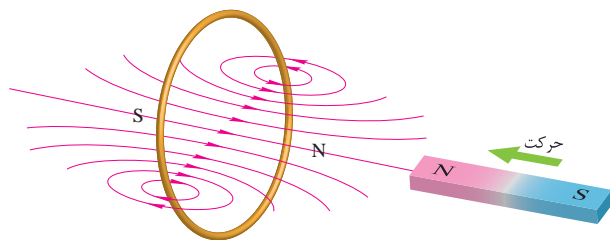
در پدیده القای الکترومغناطیسی پلاریته نیروی محرکه القایی و جهت جریان القایی مشخص نشد. پلاریته نیروی محرکه القایی و جهت جریان القایی با استفاده از «اصل بقای انرژی» تعیین خواهد شد. در این مبحث اصل بقای انرژی به صورت «قانون لنز» بیان می‌شود که توسط آقای لنز در سال ۱۸۳۴ میلادی ارائه گردید. طبق این قانون:

«جریان القایی در جهتی برقرار می‌شود که با عامل به وجود آورنده خود مخالفت کند».

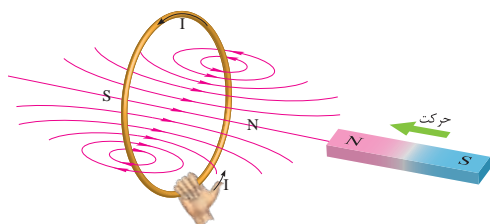
قانون لنز در مورد جریان‌های القایی به کار می‌رود. از آنجایی که جریان در مدار بسته جاری می‌شود، لذا قانون لنز در مدارهای بسته کاربرد پیدا می‌کند.

در (شکل ۶۱) مقطع یک حلقه هادی و یک آهنربا نشان داده شده است. هنگامی که قطب N آهنربا به طرف حلقه «حرکت» داده می‌شود، مطابق آزمایش ۱ فازده، جریان القایی در حلقه جاری می‌شود. این جریان، میدان مغناطیسی در اطراف حلقه تولید خواهد نمود. طبق قانون لنز جهت جریان القایی به گونه‌ای است که با عامل به وجود آورنده‌اش مخالفت می‌کند؛ بدین

معنی که میدان مغناطیسی ناشی از جریان القایی با حرکت آهنربا به سمت حلقه مخالفت خواهد کرد. یعنی قطب N میدان حلقه مقابل قطب N آهنربا قرار می‌گیرد تا با ایجاد نیروی دافعه مانع حرکت آهنربا به سمت حلقه شود.



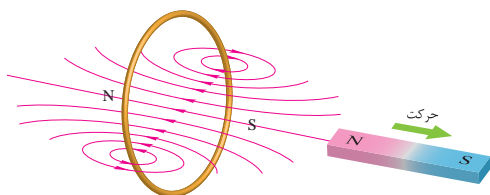
شکل ۶۱



شکل ۶۲

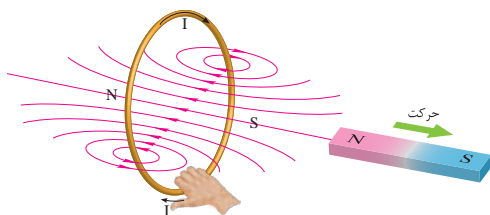
با مشخص شدن محل قطب‌های N و S اطراف حلقه جهت میدان مغناطیسی آن تعیین می‌شود. اکنون بنا به قانون شست مطابق (شکل ۶۲) جهت جریان القایی تعیین می‌شود.

وقتی آهنربا به طرف حلقه «حرکت» می‌کند، جریان القایی ظاهر می‌شود. به بیان قانون القای الکترومغناطیسی فاراده، این «حرکت دادن» همان «تغییر فوران» است که جریان القایی را تولید می‌کند و طبق قانون لنز میدان مغناطیسی ناشی از جریان القایی با این «حرکت دادن» مخالفت خواهد کرد.



شکل ۶۳

اگر آهنربا مطابق (شکل ۶۳) به عقب حرکت داده شود، مطابق آزمایش ۱ فاراده نیز در این حالت جریان القایی در حلقه جاری می‌شود و طبق قانون لنز، میدان مغناطیسی ناشی از این جریان القایی نیز با عامل به وجود آورنده‌اش که همان «حرکت رو به عقب» آهنربا است مخالفت خواهد کرد؛ یعنی میدان حلقه، قطب S خود را در مقابل قطب N آهنربا قرار می‌دهد تا با ایجاد نیروی جاذبه مانع حرکت آهنربا شود.



شکل ۶۴

با مشخص شدن محل قطب‌های N و S اطراف حلقه، جهت میدان مغناطیسی آن تعیین می‌شود. اکنون بنا به قانون شست مطابق (شکل ۶۴) جهت جریان القایی حلقه تعیین می‌شود.

با توجه به (شکل‌های ۶۲ و ۶۴) مشاهده می‌شود جهت میدان مغناطیسی حلقه ناشی از جریان القایی همواره به گونه‌ای است که با «حرکت» آهنربا مخالفت می‌کند.

«حرکت» آهنربا به سمت حلقه یا دور شدن از حلقه همیشه تحت تأثیر نیروی مقاوم میدان مغناطیسی حلقه قرار می‌گیرد. از این رو لازم است نیرویی که صرف حرکت آهنربا می‌گردد کار انجام دهد.

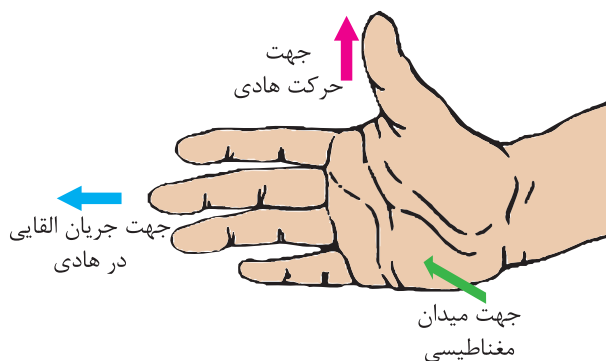
به نظر شما کار انجام شده برای حرکت آهنربا به چه انرژی‌ای تبدیل می‌شود؟ جهت میدان مغناطیسی جریان القایی به گونه‌ای است که همواره با عامل به وجود آورنده‌اش، «حرکت آهنربا» مخالفت می‌کند. این مخالفت در رابطه قانون القای الکترومغناطیسی فاراده با یک علامت منفی به صورت رابطه زیر نشان داده می‌شود.

$$e = -N \frac{\Delta \phi}{\Delta t}$$

علامت منفی بیانگر همان قانون لنز است که در محاسبات دخالت داده نمی‌شود. لذا  $e$  به عنوان «نیروی ضدحرکه القایی» معرفی می‌شود تا مخالفت آن بر اساس قانون لنز در نام آن گنجانیده شده باشد. نیروی ضدحرکه القایی را به اختصار با  $Cemf$  نشان می‌دهند.

## قانون دست راست

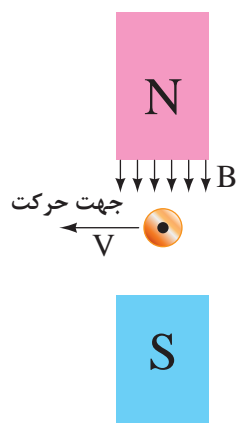
تعیین جهت جریان القایی با قانون بقای انرژی که به صورت قانون لنز مطرح شد در برخی مواقع دشوار است. روش ساده‌تر برای تعیین جهت جریان القایی «قانون دست راست» است که آن را نیز می‌توان به کار برد. طبق این قانون اگر دست راست را مطابق (شکل ۶۵) طوری نگه‌داشت که فوران مغناطیسی از قطب  $N$  به کف دست وارد شود و شست جهت حرکت هادی را نشان دهد، انگشتان جهت جریان القایی هادی را نشان خواهند داد.



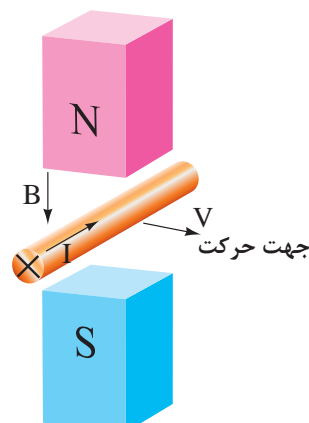
شکل ۶۵- قانون دست راست



جهت جریان القایی یک هادی متحرک در میدان مغناطیسی توسط قانون دست راست در (شکل‌های ۶۶ و ۶۷) تعیین شده است.

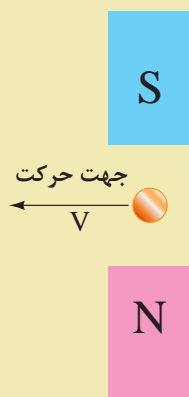


شکل ۶۷

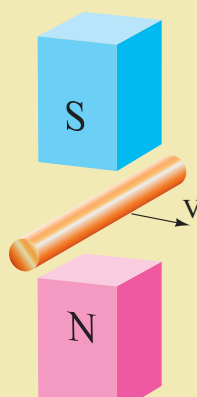


شکل ۶۶

۱- جهت جریان القایی هادی (شکل‌های ۶۸ و ۶۹) را با استفاده از قانون دست راست تعیین کنید.



شکل ۶۹



شکل ۶۸

۲- از جواب‌های به‌دست آمده در (شکل‌های ۶۶ الی ۶۹) چه نتیجه‌ای به‌دست می‌آید؟

فعالیت



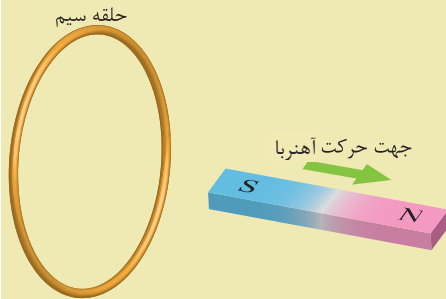


## پرسش‌های کامل کردنی

- ۱ - طرز کار وسایل الکتریکی که ..... در آنها نقش دارد به کمک قانون القای الکترومغناطیس فاراده قابل فهم است.
- ۲ - طبق قانون لنز ..... به گونه‌ای است که با عامل به وجود آورنده‌اش ..... می‌کند.
- ۳ - برای تعیین جهت جریان القایی از روش ..... استفاده می‌شود.

## پرسش‌های تشریحی

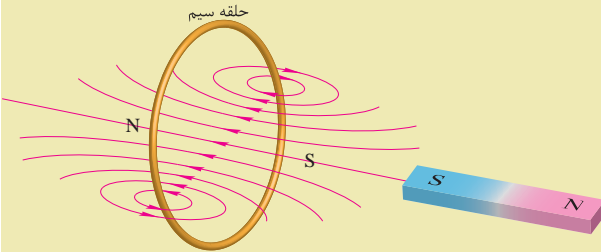
- ۱ - با توجه به شکل روبه‌رو جهت جریان القایی در حلقه را مشخص کنید.



- ۲ - برگشت پذیری فرایند تبدیل انرژی در ماشین‌های الکتریکی یعنی چه؟

- ۳ - قانون لنز را تعریف کنید.

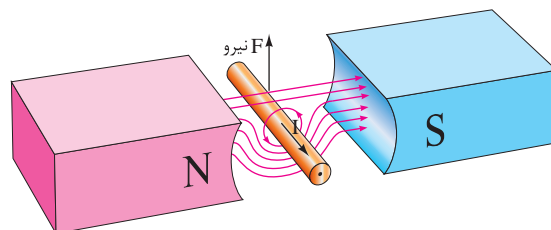
- ۴ - با توجه به شکل روبه‌رو جهت حرکت آهنربا را مشخص کنید.



- ۵ - قانون دست راست را توضیح دهید و کاربرد آن را بنویسید.

## نیروی مغناطیسی وارد بر هادی حامل جریان الکتریکی

یک هادی حامل جریان الکتریکی در میدان مغناطیسی قطب‌های N و S آهنربایی قوی در نظر گرفته شده است. (شکل ۷۰)



شکل ۷۰

جهت میدان مغناطیسی قطب‌ها از سوی قطب N به سمت قطب S می‌باشد. میدان مغناطیسی اطراف هادی حامل جریان الکتریکی با قانون شست تعیین شده است. مشاهده می‌شود در پایین هادی، جهت میدان مغناطیسی قطب‌ها و جهت میدان مغناطیسی اطراف هادی هم‌جهت می‌باشد و یکدیگر را تقویت می‌کنند؛ اما در بالای هادی جهت میدان مغناطیسی آنها مخالف یکدیگر می‌باشد و همدیگر را تضعیف می‌کنند. لذا «نیروی مغناطیسی» به هادی از سوی میدان قوی‌تر به سمت میدان ضعیف‌تر وارد می‌شود و هادی را به سمت بالا حرکت می‌دهد.

اگر جهت جریان الکتریکی هادی (شکل ۷۰) عوض شود با رسم خطوط میدان مغناطیسی قطب‌ها و اطراف هادی، جهت نیروی مغناطیسی وارد به هادی را تعیین کنید.

فعالیت



همان‌طور که توضیح داده شد می‌توان نتیجه گرفت:

«به هر هادی حامل جریان در میدان مغناطیسی، نیروی مغناطیسی وارد می‌شود»، به طوری که «نیروی مغناطیسی سعی به بیرون راندن هادی از درون میدان مغناطیسی دارد».

به نیروی مغناطیسی وارد به هادی حامل جریان الکتریکی به احترام «لورنس» که مفاهیم میدان‌های الکتریکی و مغناطیسی را شرح و تفصیل داده است، «نیروی لورنس» می‌گویند.

مقدار نیروی مغناطیسی از رابطه زیر به دست می‌آید:

$$F = BIL$$

در این رابطه:

F نیروی مغناطیسی بر حسب نیوتن [N]

B چگالی فوران مغناطیسی بر حسب  $\left[\frac{wb}{m^2}\right]$

I شدت جریان الکتریکی هادی بر حسب [A]

L طول مؤثر هادی که تحت تأثیر میدان مغناطیسی قرار می‌گیرد بر حسب [m]

**مثال:** هادی به طول مؤثر  $20\text{ cm}$  در میدان مغناطیسی با چگالی فوران  $0.8\left[\frac{wb}{m^2}\right]$  به طور عمود بر خطوط میدان مغناطیسی قرار دارد. اگر از این هادی جریان  $10\text{ A}$  عبور کند، نیروی مغناطیسی وارد بر این هادی چند نیوتن است؟

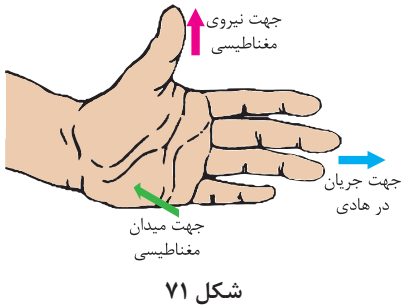
**حل:**

از رابطه زیر به دست می‌آید:

$$F = BIL$$

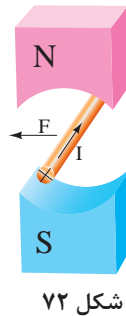
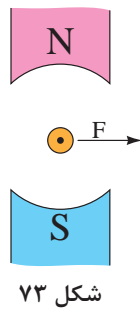
$$F = 0.8 \times 10 \times 0.2 = 1.6$$

## قانون دست چپ



برای تعیین جهت نیروی مغناطیسی، «قانون دست چپ» ارائه شده است. طبق این قانون اگر دست چپ خود را مطابق (شکل ۷۱) به گونه‌ای نگه دارید که فوران مغناطیسی از قطب N به کف دست وارد شود و انگشتان، جهت جریان الکتریکی هادی را نشان دهند، انگشت شست جهت نیروی مغناطیسی وارد به هادی را نشان می‌دهد.

جهت نیروی مغناطیسی هادی حامل جریان، درون میدان مغناطیسی، توسط قانون دست چپ در شکل‌های ۷۲ و ۷۳ تعیین شده است.



۱- جهت نیروی مغناطیسی شکل‌های ۷۴ و ۷۵ را با استفاده از قانون دست چپ تعیین کنید.



۲- با مقایسه جهت نیروی مغناطیسی شکل‌های زیر، چه نتیجه‌ای به دست می‌آید:  
الف) شکل ۷۲ با شکل ۷۳:

.....

.....

ب) شکل ۷۲ با شکل ۷۴:

.....

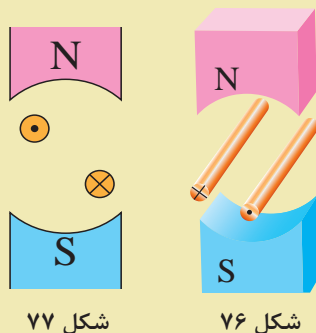
.....

فعالیت



پ) شکل ۷۲ با شکل ۷۵:

۳- جهت نیروی مغناطیسی وارد به هادی‌های حامل جریان (شکل‌های ۷۶ و ۷۷) را با کمک قانون دست چپ تعیین کنید.

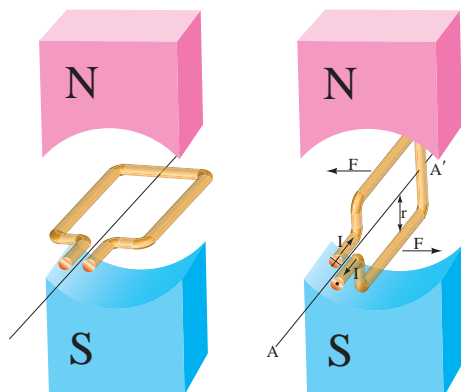


شکل ۷۷

شکل ۷۶

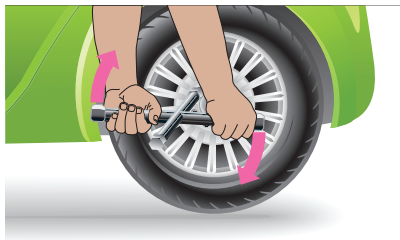
### گشتاور نیروی مغناطیسی وارد بر حلقه جریان کامل

حلقه حامل جریان الکتریکی، معلق در میان میدان مغناطیسی دو قطب آهنربایی قوی که می‌تواند آزادانه حول محور  $AA'$  بگردد، فرض شده است (شکل ۷۸). به بازوهای حامل جریان این حلقه، نیروی مغناطیسی در دو جهت مخالف، با مقدار مساوی وارد می‌شود. این نیروها در حلقه حامل جریان الکتریکی، «گشتاور<sup>۱</sup>» ایجاد می‌کنند و آن را حول محور می‌گردانند، لذا حلقه جابه‌جا می‌شود. (شکل ۷۹)



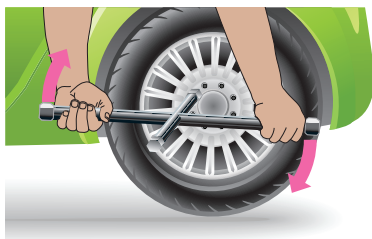
شکل ۷۹

شکل ۷۸



شکل ۸۰

گشتاور عامل گردش است. به‌طور مثال هنگامی که مکانیک برای باز کردن پیچ‌های چرخ اتومبیل از «آچار چرخ» استفاده می‌کند، وی با دستان خود، دو نیرو در جهت مخالف به آچار چرخ اعمال می‌کند. این نیروها حول محور آچار چرخ گشتاور ایجاد می‌کنند تا آن بگردد. (شکل ۸۰)



شکل ۸۱


در صورتی که مکانیک نتواند این آچار چرخ را بگرداند، آچاری که طول بازوهای آن بلندتر است را به کار می‌برد تا گشتاور آچار افزایش یابد و بگردد. (شکل ۸۱)



شکل ۸۲

۱- چگونگی گشتاور در (شکل ۸۲) را بررسی کنید.

۲- دو فرمان اتومبیل در (شکل ۸۳) نشان داده شده است. گرداندن کدام یک راحت است؟ برای پاسخ خود دلیل بیاورید.



شکل ۸۳

فعالیت



## خودالقایی

برای تبدیل تناسب به تساوی در رابطه زیر از ضریبی به نام «ضریب خودالقایی» که با حرف  $L$  نشان داده می شود استفاده می شود.

$$e = L \frac{\Delta i}{\Delta t}$$

واحد ضریب خودالقایی  $\frac{\text{ولت ثانیه}}{\text{آمپر}}$  می باشد و آن را «هانری» گویند و با  $H$  نشان می دهند. یک هانری ضریب خودالقایی هادی یا سیم پیچی است که هرگاه در مدت یک ثانیه جریان آن یک آمپر تغییر کند نیروی محرکه خودالقایی یک ولت ایجاد شود.

**مثال:** جریان یک سیم پیچ با ضریب خودالقایی  $0/5$  هانری در مدت  $0/2$  ثانیه از صفر به  $2$  آمپر می رسد. نیروی محرکه خودالقایی چند ولت است؟

**حل:**

تغییرات جریان برابر است با :

$$\Delta i = 2 - 0 = 2 [A]$$

تغییرات زمان برابر است با :

$$\Delta t = 0/2 (s)$$

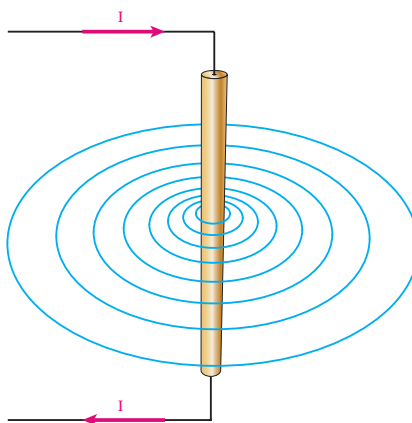
از رابطه زیر نیروی محرکه خودالقایی به دست می آید.

$$e = L \frac{\Delta i}{\Delta t}$$

$$e = 0/1 \times \frac{2}{0/2} = 1 [v]$$

**مثال:** در مدار (شکل ۸۵) در صورت باز شدن کلید مقدار نیروی محرکه خودالقایی سیم پیچ در مدت  $0/5$  ثانیه چند ولت است؟

خودالقایی القای الکترومغناطیسی ناشی از تغییرات فوران خود هادی می باشد. پدیده خودالقایی ناشی از تغییرات جریان نسبت به زمان ایجاد می شود. با عبور جریان از یک هادی در اطراف آن میدان مغناطیسی ایجاد می شود. (شکل ۸۴)



شکل ۸۴

تغییر جریان هادی باعث تغییر میدان مغناطیسی اطراف آن خواهد شد. تغییر میدان مغناطیسی طبق قانون القای الکترومغناطیسی فاراده درون هادی نیروی محرکه القا می نماید. که آن را نیروی محرکه خودالقایی گویند. طبق قانون لنز «نیروی محرکه خودالقایی» با عامل به وجود آورنده اش، تغییرات جریان مخالفت می نماید. پدیده خودالقایی در سیم پیچ ها نیز همانند پدیده خودالقایی توضیح داده می شود. نیروی محرکه خودالقایی متناسب با تغییرات جریان نسبت به زمان است و با رابطه زیر بیان می شود.

$$e \propto \frac{\Delta i}{\Delta t}$$

$L$  ضریب خودالقایی سیم پیچ [H]

$\mu$  ضریب نفوذ مغناطیسی  $\left[ \frac{\text{Wb}}{\text{A.m}} \right]$

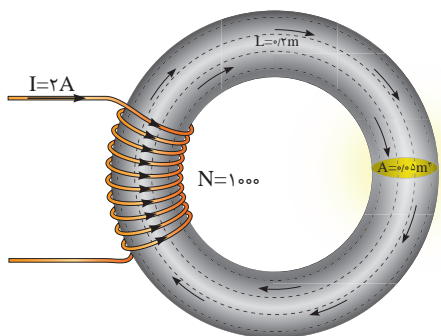
$N$  تعداد حلقه‌های سیم پیچ

$A$  سطح مقطع هسته سیم پیچ  $[\text{m}^2]$

$\ell$  طول متوسط هسته [m] است.

مثال: ضریب خودالقایی سیم پیچ (شکل ۸۶) را به دست آورید.

$$\left( \mu = 2 \times 10^{-5} \frac{\text{Wb}}{\text{A.m}} \right)$$



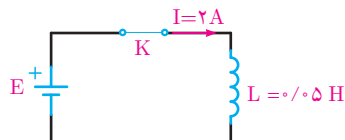
شکل ۸۶

حل:

از رابطه فوق داریم.

$$L = \frac{\mu N^2 A}{\ell}$$

$$L = \frac{2 \times 10^{-5} \times 1000^2 \times 0.005}{0.2} = 1 \text{ H}$$



شکل ۸۵

حل: تغییرات جریان برابر است با:

$$\Delta i = 0 - 2 = -2 [\text{A}]$$

تغییرات زمان برابر است با:

$$\Delta t = 0.05 [\text{s}]$$

از رابطه فوق نیروی محرکه خودالقایی به دست می‌آید:

$$e = L \frac{\Delta i}{\Delta t}$$

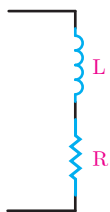
$$e = 0.05 \times \frac{-2}{0.05} = -2 [\text{V}]$$

برای محاسبه ضریب خودالقایی سیم پیچ از رابطه زیر استفاده می‌شود.

$$L = \frac{\mu N^2 A}{\ell}$$

که در این رابطه:

## مدار الکتریکی معادل سیم پیچ

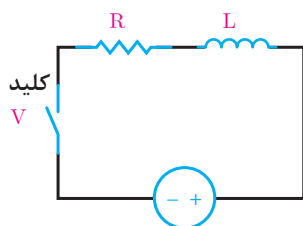


شکل ۸۷

سیم پیچ علاوه بر ضریب خودالقایی  $L$ ، مقاومت الکتریکی اهمی  $R$  نیز دارد. مقاومت الکتریکی اهمی ناشی از طول و سطح مقطع هادی سیم پیچ است و ضریب خودالقایی ناشی از نیروی محرکه خودالقایی می‌باشد که در اثر تغییرات جریان به وجود می‌آید. برای سیم پیچ مدار الکتریکی شامل اتصال سری مقاومت الکتریکی اهمی  $R$  و ضریب خودالقایی  $L$  معادل می‌نمایند. (شکل ۸۷)



## سیم‌پیچ در جریان مستقیم



شکل ۸۸

سیم‌پیچ در جریان مستقیم از خود فقط مقاومت الکتریکی اهمی  $R$  نشان می‌دهد اما با قطع و وصل جریان و یا تغییرات جریان علاوه بر مقاومت الکتریکی نیروی محرکه خودالقایی نیز در آن ایجاد می‌شود لذا ضریب خودالقایی  $L$  نیز ظاهر می‌شود. مدار الکتریکی معادل یک سیم‌پیچ که توسط منبع جریان مستقیم تغذیه می‌شود در (شکل ۸۸) نشان داده شده است.

با بستن کلید، جریان سعی دارد به‌طور آنی افزایش یابد اما نیروی محرکه خودالقایی ایجادشده با افزایش آنی جریان مخالفت می‌کند. در نتیجه، مدت زمانی طول می‌کشد تا جریان به بیشترین مقدار یا مقدار نهایی خود برسد. با قطع کلید نیز جریان به‌طور آنی به صفر نمی‌رسد؛ زیرا نیروی محرکه خودالقایی تولیدشده، با این تغییر سریع مخالفت می‌کند. لذا جریان به تدریج به صفر می‌رسد.

مدت زمانی که طول می‌کشد تا جریان در یک سیم‌پیچ به  $63/2$  درصد مقدار نهایی خود برسد را ثابت زمانی می‌گویند. مقدار ثابت زمانی در یک سیم‌پیچ به مقدار مقاومت الکتریکی ( $R$ ) و ضریب خودالقایی ( $L$ ) بستگی دارد و از رابطه زیر به‌دست می‌آید:

$$\tau = \frac{L}{R}$$

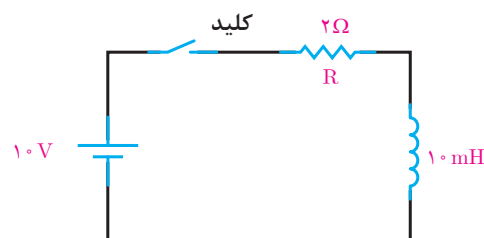
که در این رابطه :

$\tau$  ثابت زمانی [s]

$L$  ضریب خودالقایی [H]

$R$  مقاومت الکتریکی [ $\Omega$ ] است.

تقریباً ۵ ثابت زمانی طول می‌کشد تا جریان در یک سیم‌پیچ به مقدار نهایی خود برسد.



شکل ۸۹

**مثال:** در مدار شکل ۸۹ پس از بستن کلید، مدت زمانی که شدت جریان به مقدار نهایی خود می‌رسد را حساب کنید.

حل:

$$\tau = \frac{L}{R} = \frac{10}{2} = 5 \text{ [ms]}$$

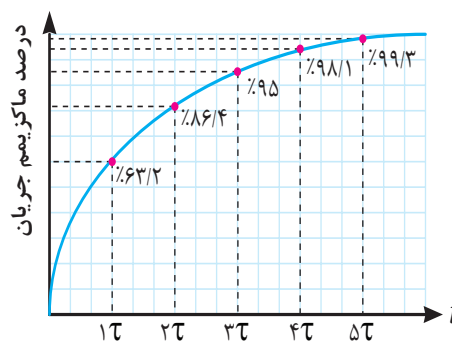
$$t = 5\tau = 5 \times 5 = 25 \text{ [ms]}$$

مثال: در مثال بالا اگر بوبینی با اندوکتانس  $20 \text{ mH}$  به جای بوبین  $10 \text{ mH}$  قرار گیرد، ثابت زمانی چگونه تغییر می‌کند؟

حل:

$$\tau = \frac{L}{R} = \frac{20}{2} = 10 \text{ [ms]}$$

مشاهده می‌شود ثابت زمانی دو برابر می‌شود. با بسته شدن کلید در ثابت زمانی اول جریانی به اندازه  $63/2$  درصد کل جریان نهایی از سیم‌پیچ می‌گذرد. در ثابت زمانی دوم، جریان به  $86/4$  درصد می‌رسد. در ثابت‌های زمانی سوم، چهارم و پنجم نیز به همین ترتیب، به طوری که در ثابت زمانی پنجم تقریباً به مقدار نهایی خود می‌رسد. منحنی (شکل ۹۰) روند تغییرات جریان تا رسیدن به مقدار نهایی خود به هنگام بستن کلید مدار (شکل ۸۸) را در هر ثابت زمانی نشان می‌دهد.

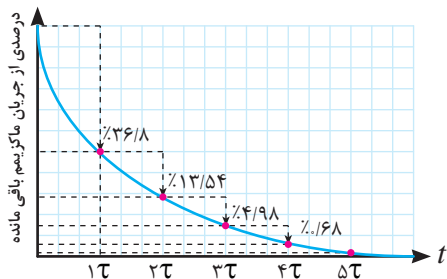


شکل ۹۰

رفتار سیم‌پیچ در این  $5$  ثابت زمانی را «حالت گذرا» و هنگامی که جریان پس از پنج ثابت زمانی به مقدار نهایی خود می‌رسد را «حالت پایدار» سیم‌پیچ گویند.

با باز شدن کلید مدار (شکل ۸۸) تغییرات جریان تا رسیدن به مقدار نهایی خود در هر ثابت زمانی در (شکل ۹۱) نشان داده شده است.

در ثابت زمانی اول جریان به اندازه  $63/2$  درصد از مقدار ماکزیمم کاهش پیدا می‌کند و به  $36/8$  درصد می‌رسد. در ثابت زمانی دوم به  $13/6$  درصد می‌رسد. در ثابت‌های زمانی سوم، چهارم و پنجم کاهش جریان به همین منوال ادامه پیدا می‌کند و در ثابت زمانی پنجم تقریباً به صفر می‌رسد.



شکل ۹۱

رفتار سیم‌پیچ در این  $5$  ثابت زمانی را «حالت گذرا» گویند. بعد از  $5$  ثابت زمانی جریان سیم‌پیچ به مقدار نهایی خود می‌رسد و ثابت می‌شود ضریب خودالقایی نیز صفر می‌شود لذا در مقدار جریان بی‌تأثیر می‌شود و سیم‌پیچ به «حالت پایدار» می‌رسد.

## سیم پیچ در حالت متناوب

سیم پیچ در جریان متناوب علاوه بر مقاومت الکتریکی اهمی  $R$ ، به دلیل تغییرات جریان ناشی از فرکانس نیروی محرکه خودالقایی نیز در آن به وجود می آید. جریان متناوب باعث ایجاد فوران در سیم پیچ می شود و نیروی محرکه خودالقایی ایجاد می کند. این نیروی محرکه خودالقایی با جاری شدن جریان در سیم پیچ مخالفت می نماید. مخالفت سیم پیچ در مقابل عبور جریان متناوب الکتریکی ناشی از اثر خودالقایی را «مقاومت القایی» گویند و با  $X_L$  نشان می دهند و واحد آن اهم است. مقاومت القایی با ضریب خودالقایی ارتباط دارد و از رابطه زیر به دست می آید. در این رابطه:

$$X_L = 2\pi fL$$

$X_L$  مقاومت القایی  $[\Omega]$

$f$  فرکانس  $[HZ]$

$L$  ضریب خودالقایی  $[H]$  است.

مثال: مقاومت القایی یک سلف  $10 \text{ mH}$  در فرکانس  $50^\circ$  و  $60^\circ$  هرتز چند اهم است؟  
حل:

از رابطه زیر داریم:

$$X_L = 2\pi fL$$

$$X_L = 2 \times 3.14 \times 50 \times 10 \times 10^{-3} = 3.14 [\Omega]$$

$$X_L = 2 \times 3.14 \times 60 \times 10 \times 10^{-3} = 3.768 [\Omega]$$

## سلف

سلف، سیم پیچی است که از مقاومت الکتریکی  $R$  در مقایسه با مقاومت القایی  $X_L$  آن صرف نظر شده است. در مدارات الکتریکی سلفها به صورت سری یا موازی با یکدیگر اتصال پیدا می کنند.  
**الف) اتصال سری سلفها:**

در اتصال سری سلفها، ضریب خودالقایی کل برابر مجموع همه ضریب خودالقایی های موجود در مدار است که از رابطه زیر به دست می آید.

$$L_{eq} = L_1 + L_2 + \dots + L_n$$

مثال: سه سلف با ضریب خودالقایی ۲، ۴ و ۶ میلی هانری به صورت سری به یکدیگر متصل شده اند. ضریب خودالقایی کل را به دست آورید.

حل: از رابطه زیر داریم:

$$L_{eq} = L_1 + L_2 + L_3$$

$$L_{eq} = 2 + 4 + 6 = 12 [ms]$$

### ب) اتصال موازی سلف‌ها :

در اتصال موازی سلف‌ها ضریب خودالقایی کل از رابطه زیر به دست می‌آید.

$$\frac{1}{L_{eq}} = \frac{1}{L_1} + \frac{1}{L_2} + \dots + \frac{1}{L_n}$$

**مثال:** سه سلف با ضریب خودالقایی ۴، ۶ و ۱۲ میلی‌هانری به صورت موازی به یکدیگر متصل شده‌اند. ضریب خودالقایی کل را به دست آورید.

**حل:**

از رابطه زیر داریم:

$$\frac{1}{L_{eq}} = \frac{1}{L_1} + \frac{1}{L_2} + \frac{1}{L_3}$$

$$\frac{1}{L_{eq}} = \frac{1}{4} + \frac{1}{6} + \frac{1}{12}$$

$$\frac{1}{L_{eq}} = \frac{3+2+1}{12}$$

$$\frac{1}{L_{eq}} = \frac{6}{12}$$

$$L_{eq} = \frac{1 \times 12}{6} = 2 \text{mH}$$

**مثال:** دو سلف به اتصال سری در یک مدار الکتریکی دارای مقاومت القایی ۳ و ۶ اهم می‌باشد. مقاومت القایی کل چند اهم است؟

**حل :**

از رابطه زیر داریم :

$$X_{L_{eq}} = X_{L_1} + X_{L_2}$$

$$X_{L_{eq}} = 3 + 6 = 9 [\Omega]$$

**مثال:** دو سلف با اتصال موازی در یک مدار الکتریکی دارای مقاومت القایی ۳ و ۶ اهم می‌باشند. مقاومت القایی کل چند اهم است؟

**حل:**

از رابطه زیر داریم:

$$\frac{1}{X_{L_{eq}}} = \frac{1}{X_{L_1}} + \frac{1}{X_{L_2}}$$

$$\frac{1}{X_{L_{eq}}} = \frac{1}{3} + \frac{1}{6}$$

$$X_{L_{eq}} = 2 [\Omega]$$

همچنین، برای محاسبه مقاومت القایی معادل در مدارهای سری و موازی نیز می‌توان مشابه محاسبه ضریب خودالقایی معادل سلف عمل کرد. روابط محاسبه مقاومت القایی معادل، در مدار سری و موازی به صورت زیر است.

مدار سری

$$X_{L_{eq}} = X_{L_1} + X_{L_2} + \dots + X_{L_n}$$

مدار موازی

$$\frac{1}{X_{L_{eq}}} = \frac{1}{X_{L_1}} + \frac{1}{X_{L_2}} + \dots + \frac{1}{X_{L_n}}$$

**منحنی جریان و ولتاژ سلف در جریان متناوب**  
جریان سلف از ولتاژ دو سر آن  $90^\circ$  عقب‌تر است لذا سلف را یک عنصر «پس‌فاز» می‌شناسند. منحنی ولتاژ و جریان یک سلف در اتصال به منبع متناوب سینوسی در (شکل ۹۲) نشان داده شده است که در آن  $\theta_i = -90^\circ$  و  $\theta_v = 0$  می‌باشد.

حل :

الف) از رابطه  $X_L$  داریم.

$$X_L = 2\pi fL = \omega L$$

$$X_L = 1000 \times 10 \times 10^{-3} = 10 [\Omega]$$

ب) از قانون اهم داریم :

$$\text{ولتاژ} \\ \text{مقاومت} = \text{جریان}$$

$$I_m = \frac{V_m}{X_L} = \frac{50}{10} = 5 [A]$$

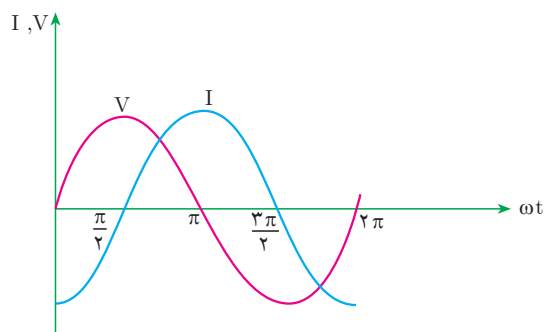
از رابطه جریان مؤثر به دست می آید.

$$I_{rms} = \frac{I_m}{\sqrt{2}} = \frac{5}{\sqrt{2}} = 3.54 [A]$$

ج) جریان سلف از ولتاژ دو سر آن عقب تر است و داریم :

$$i(t) = I_m \sin(\omega t + \theta_i)$$

$$i(t) = 5 \sin(1000t + 90^\circ)$$



شکل ۹۲

با توجه به (شکل ۹۲) معادلات زمانی ولتاژ و جریان به صورت زیر خواهد شد.

$$v(t) = V_m \sin(\omega t + 0)$$

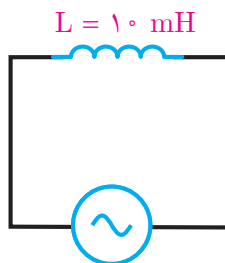
$$i(t) = I_m \sin(\omega t - 90^\circ)$$

و زاویه اختلاف فاز برابر خواهد شد :

$$\varphi = \theta_V - \theta_i$$

$$\varphi = 0 - (-90^\circ) = +90^\circ$$

مثال: در مدار (شکل ۹۳) مطلوب است :



شکل ۹۳

$$v(t) = 50 \sin(1000t)$$

الف) مقاومت القایی سلف

ب) جریان سلف

ج) معادله زمانی جریان سلف

## انرژی سلف

سلف انرژی الکتریکی را به صورت میدان مغناطیسی در خود ذخیره می‌سازد و ماکزیمم انرژی ذخیره شده در سلف از رابطه زیر به دست می‌آید.

$$W_L = \frac{1}{2} L I_m^2$$

که در این رابطه :

$W_L$  ماکزیمم انرژی ذخیره شده در سلف [J]  
 $L$  ضریب خودالقایی [H]  
 $I_m$  ماکزیمم جریان سلف [A] است.

**مثال:** از یک سلف با ضریب خودالقایی ۰/۲ هانری جریان متناوب سینوسی به معادله زمانی

$$i(t) = 4 \sin(50 \cdot \pi t - 90^\circ)$$

می‌گذرد. ماکزیمم انرژی ذخیره شده در سلف چند ژول است؟

**حل :** از رابطه داریم:

$$W_L = \frac{1}{2} L I_m^2$$

$$W_L = \frac{1}{2} (0/2) (4)^2 = 1/6 [J]$$

## توان الکتریکی سلف

توان الکتریکی سلف صرف ذخیره‌سازی انرژی الکتریکی می‌شود، مقدار انرژی ذخیره شده در واحد زمان در سلف را «توان الکتریکی سلف» می‌گویند.

توان الکتریکی سلف قادر به تبدیل کردن انرژی الکتریکی نیست لذا آن را «توان غیرمؤثر» یا «توان راکتیو» نیز می‌گویند و با حرف  $Q_L$  نشان می‌دهند و واحد آن «ولت آمپر راکتیو» «VAR» است. توان الکتریکی سلف از رابطه زیر به دست می‌آید و آن را با علامت مثبت نشانه‌گذاری می‌کنند.

$$Q_L = +X_L I_L^2$$

که در این رابطه :

$Q_L$  توان الکتریکی سلف [VAR]  
 $X_L$  مقاومت القایی سلف [ $\Omega$ ]  
 $I_L$  جریان سلف [A] است.

**مثال:** یک سلف با مقاومت القایی ۴ اهم با جریان مؤثر ۳ آمپر مفروض است. توان الکتریکی سلف چقدر است ؟

**حل:**

از رابطه توان الکتریکی سلف داریم:

$$Q_L = +X_L I_L^2$$

$$Q_L = +4 \times 3^2 = +36 [VAR]$$



- ۱- مقدار نیروی مغناطیسی از رابطه ..... به دست می آید.
- ۲- برای تعیین ..... قانون دست چپ ارائه شده است.
- ۳- خودالقایی و ضریب خودالقایی را تعریف کنید.
- ۴- تغییرات جریان چه اثراتی بر سیم پیچ می گذارد؟
- ۵- عوامل مؤثر بر مقدار ضریب خودالقایی کدام است؟
- ۶- انرژی ذخیره شده در سلف یعنی چه؟
- ۷- رابطه فازی بین ولتاژ و جریان یک سلف چیست؟
- ۸- موقعیت جریان و ولتاژ سلف چگونه است؟
- ۹- توان الکتریکی سلف را تعریف کنید.
- ۱۰- چرا سلف را یک عنصر پس فاز می نامند؟
- ۱۱- مقاومت القایی سلف را تعریف کنید. رابطه آن را بنویسید. عوامل مؤثر بر آن را نام ببرید.
- ۱۲- ثابت زمانی سلف را تعریف کنید. چه مدت طول می کشد تا جریان سلف به مقدار نهایی خود برسد؟
- ۱۳- نشان دهید واحد ثابت زمانی برحسب ثانیه می باشد.



- ۱- نیروی وارد به یک هادی حامل جریان الکتریکی ۲ آمپر در میدان مغناطیسی ۵/۰ تسلا برابر ۱/۰ نیوتن است. طول مؤثر هادی چند متر است؟
- ۲- سیم پیچی به طول ۵۰ سانتی متر و سطح مقطع ۰/۰۲ متر مربع با هسته هوا دارای ۱۰۰۰ دور است اولاً ضریب خودالقایی آن تقریباً چند میلی هانری است؟ ثانیاً اگر بخواهیم ضریب خودالقایی دو برابر شود، تعداد دور سیم پیچ باید چند دور شود؟
- ۳- دو بوبین با ضریب خودالقایی ۱۰۰ میلی هانری را یک بار به طور سری و بار دیگر به طور موازی به هم وصل می کنیم. ضریب خودالقایی کل در هر دو حالت چقدر می شود؟
- ۴- ضریب خودالقایی سیم پیچی ۲۰ mH و جریان عبوری از آن ۱۰ آمپر است. چه مقدار انرژی در سیم پیچ ذخیره می شود؟
- ۵- چهار سلف با ضریب های خودالقایی ۵۰، ۲۵، ۱۰۰ و ۲۵ میلی هانری را یک بار به طور سری و بار دیگر به طور موازی ببندید. ضریب خودالقایی کل را در هر حالت به دست آورید.
- ۶- از یک سلف با ضریب خودالقایی ۱۰ mH جریان متناوبی با فرکانس ۵۰ هرتز عبور می کند. مقاومت القایی سلف چند اهم است؟ اگر فرکانس به یک کیلو هرتز تغییر یابد، مقاومت القایی سلف چند اهم می شود؟
- ۷- در یک سلف با ضریب خودالقایی ۳ میلی هانری، جریان در مدت دو ثانیه از یک آمپر به ۷ آمپر افزایش می یابد ولتاژ خودالقایی در سلف چند میلی ولت است؟ اگر ضریب خودالقایی ۳ هانری باشد، ولتاژ القایی چند میلی ولت می شود؟
- ۸- یک سلف با ضریب خودالقایی ۲ هانری و مقاومت اهمی ۵/۰ اهمی در دست است. اگر این سلف را به ولتاژ ۱/۵ ولت مستقیم وصل کنید، ماکزیمم جریان مدار چند آمپر می شود؟ چه مدت زمانی طول می کشد تا

جریان ماکزیمم شود؟

۹- توان الکتریکی یک سلف VAR ۱۰ می باشد در صورتی که جریان سلف ۲A باشد مقاومت القایی سلف را به دست آورید.

۱۰- بیشترین انرژی ذخیره شده در یک سلف با ضریب خود القایی ۵۰ میلی هانری که جریان مؤثر عبوری از آن  $2\sqrt{2}$  آمپر است را محاسبه کنید.



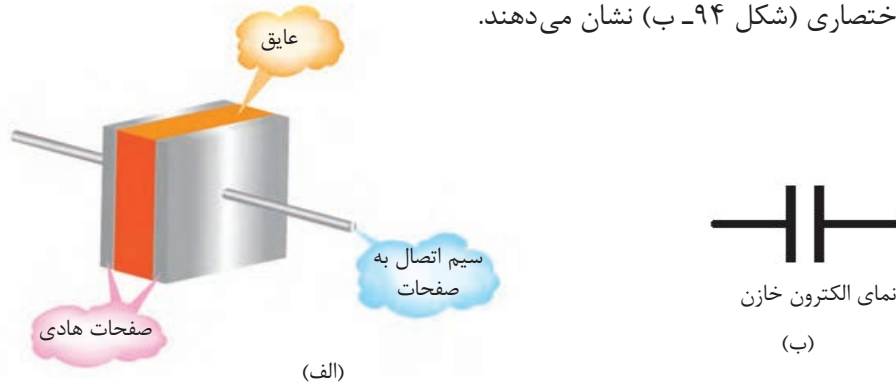
# واحد یادگیری ۱۰

## خازن



## خازن

خازن تشکیل شده است از دو صفحه هادی که بین آنها عایق قرار دارد. عایق خازن‌ها را «دی‌الکتریک» نیز می‌گویند. جنس دی‌الکتریک می‌تواند هوا، خلأ، کاغذ، میکا و ... باشد. خازن را با علامت اختصاری (شکل ۹۴-ب) نشان می‌دهند.



شکل ۹۴

خازن در لغت به معنای ذخیره‌ساز است زیرا انرژی الکتریکی را به صورت میدان الکترواستاتیکی در خود ذخیره می‌کند.

## ظرفیت خازن

ظرفیت خازن نسبت بار الکتریکی ذخیره شده به اختلاف پتانسیل صفحات می‌باشد و آن را با  $C$  نشان می‌دهند و واحد آن کولن می‌باشد که به احترام مایکل فاراد به آن «فاراد» گویند و با حرف  $F$  نشان می‌دهند. ولت یک فاراد ظرفیت خازنی است که هرگاه اختلاف پتانسیل یک ولت بین صفحات آن ایجاد شود بار الکتریکی یک کولن در آن ذخیره شده است. ظرفیت خازن از رابطه زیر به دست می‌آید:

$$C = \frac{q}{V}$$

در این رابطه:

$C$  ظرفیت خازن برحسب فاراد  $[F]$

$q$  بار ذخیره شده برحسب کولن  $[C]$

$V$  اختلاف پتانسیل برحسب ولت  $[V]$  است.

**مثال:** یک خازن در اثر اعمال  $2^\circ$  ولت به دو سر آن بار الکتریکی معادل  $8^\circ$  کولن را ذخیره می‌کند. ظرفیت خازن چقدر است؟

حل:

$$C = \frac{q}{V} \quad C = \frac{8^\circ}{2^\circ} = 4[F]$$

**مثال:** خازنی با ظرفیت  $4 \mu\text{F}$  را به ولتاژ  $5^\circ$  ولت اتصال می دهیم. مقدار بار الکتریکی ذخیره شده چقدر است؟

**حل:**

$$q = CV$$

$$q = 4^\circ \times 1^\circ \text{ }^{-6} \times 5^\circ = 2000 [\mu\text{C}]$$

**مثال:** یک خازن  $1 \mu\text{F}$  با بار  $1^\circ \mu\text{C}$  چقدر اختلاف پتانسیل دارد؟

**حل:**

$$V = \frac{q}{C} \quad V = \frac{1^\circ \times 1^\circ \text{ }^{-6}}{1^\circ \times 1^\circ \text{ }^{-6}} = 1 [\text{V}]$$

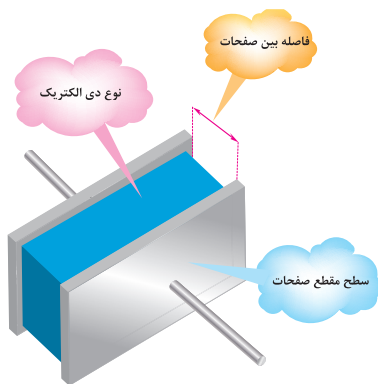


## عوامل مؤثر بر ظرفیت خازن

مهم ترین عوامل مؤثر در تعیین ظرفیت خازن عبارتند از:

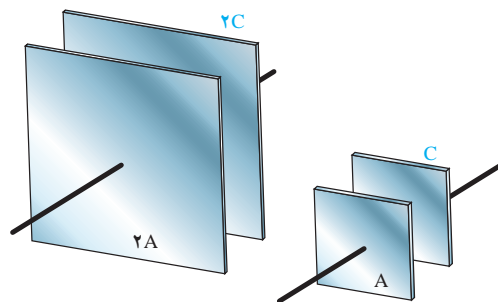
- ۱- مساحت صفحات هادی
- ۲- فاصله بین صفحات هادی
- ۳- جنس عایق یا دی الکتریک

ظرفیت خازن متناسب با مساحت صفحات و فاصله صفحات از یکدیگر می باشد به طوری که ظرفیت خازن با مساحت صفحات نسبت مستقیم و با فاصله صفحات از یکدیگر نسبت عکس دارد (شکل ۹۵).



شکل ۹۵- عوامل مؤثر بر ظرفیت خازن

هر چه مساحت صفحات هادی بزرگ‌تر باشد بار الکتریکی بیشتری را در خود ذخیره می‌کند. بنابراین خازن با صفحات بزرگ‌تر ظرفیت بیشتری خواهد داشت. (شکل ۹۶)



شکل ۹۶- تأثیر مساحت صفحات بر ظرفیت خازن

هر چه فاصله صفحات از یکدیگر بیشتر باشد ظرفیت خازن کمتر خواهد شد لذا خازن با فاصله صفحات کمتری دارای ظرفیت بیشتری خواهد شد. (شکل ۹۷)

ظرفیت زیاد	ظرفیت متوسط	ظرفیت کم
فاصله صفحات کم	فاصله صفحات متوسط	فاصله صفحات زیاد

شکل ۹۷- تأثیر فاصله بین صفحات بر ظرفیت خازن

جنس و کیفیت عایق یا دی‌الکتریک بین صفحات باردار خازن اثر مستقیم بر ظرفیت خازن دارد. دی‌الکتریک خوب و با کیفیت دی‌الکتریک است که بتواند نیروی کولنی بین بارهای الکتریکی ذخیره‌شده بر روی صفحات باردار خازن را تحمل کند و خاصیت عایقی خود را از دست ندهد. (شکل ۹۸).

و فاصله آنها از یکدیگر و جنس عایق از رابطه زیر به دست می‌آید:

$$C = \varepsilon \frac{A}{d}$$

که در آن:

C ظرفیت خازن بر حسب [F]

$\varepsilon = \varepsilon_0 \varepsilon_r$  ضریب نفوذ الکتریکی عایق بر حسب  $\left[\frac{F}{m}\right]$

A مساحت صفحات بر حسب  $[m^2]$

d فاصله بین صفحات بر حسب [m] است.

**مثال:** ظرفیت خازنی که مساحت صفحات آن ۰/۰۵ مترمربع و فاصله بین صفحات آن ۰/۱ سانتی‌متر و نوع دی‌الکتریک به کار رفته در آن میکا باشد را به دست آورید.

**حل:**

با استفاده از جدول ضریب نفوذ نسبی ( $\varepsilon_r$ ) برای میکا برابر ۵ است. همچنین می‌دانیم

که ضریب نفوذ نسبی هوا برابر است با

$$\varepsilon_0 = 8/85 \times 10^{-12}$$

بنابراین با توجه به مقادیر داده شده، مقدار C ظرفیت خازن را به دست می‌آوریم.

$$\varepsilon = \varepsilon_0 \varepsilon_r$$

$$\varepsilon = 8/85 \times 10^{-12} \left[\frac{F}{m}\right]$$

$$A = 0/05 m^2$$

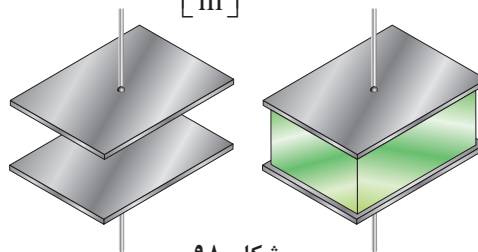
$$d = 0/1 \times 10^{-2} m^2$$

$$C = \frac{\varepsilon A}{d}$$

$$C = \frac{8/85 \times 10^{-12} \times 5 \times 0/05}{0/1 \times 10^{-2}} = 0/00221 \mu f$$

کیفیت عایق یا دی‌الکتریک در واقع استقامت الکتریکی عایق در مقابل میدان الکتریکی بین صفحات باردار خازن است. استقامت الکتریکی عایق‌ها در مقابل میدان الکتریکی بین صفحات باردار خازن را «ضریب نفوذ الکتریکی» می‌نامند و با  $\varepsilon$  نشان می‌دهند. ضریب نفوذ الکتریکی هوا را با  $\varepsilon_0$  نشان می‌دهند و برابر است با:

$$\varepsilon_0 = 8/85 \times 10^{-12} \left[\frac{F}{m}\right]$$



نسبت ضریب نفوذ عایق‌های الکتریکی به ضریب نفوذ الکتریکی هوا را «ضریب نفوذ نسبی» گویند و با  $\varepsilon_r$  نشان می‌دهند و از رابطه زیر به دست می‌آید:

$$\varepsilon_r = \frac{\varepsilon}{\varepsilon_0}$$

ضریب نفوذ نسبی تعدادی از عایق‌های الکتریکی در جدول نشان داده شده است.

#### جدول ضریب نفوذ نسبی عایق‌ها

نوع عایق	ضریب نفوذ نسبی عایق‌ها ( $\varepsilon_r$ )
هوا	۱
تفلون	۲
کاغذ آغشته به پارافین	۲/۵
روغن	۴
میکا	۵
اکسید آلومینیم	۷
شیشه	۷/۵
اکسید تانتالیم	۲۶
سرامیک	۱۲۰۰

ظرفیت خازن با توجه به ابعاد صفحات هادی

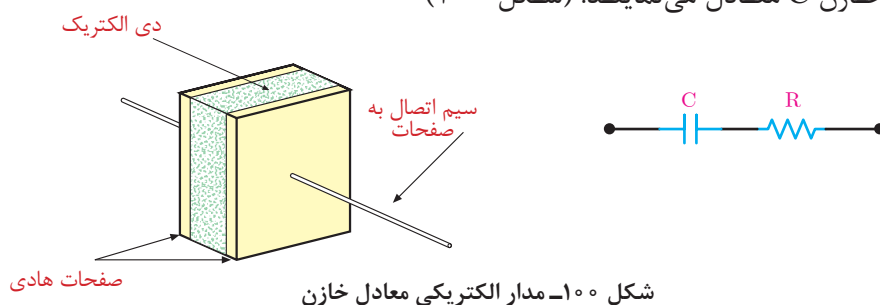
از جمله مشخصه‌های دیگر خازن ولتاژ کار آن است که همراه با ظرفیت روی بدنه خازن نوشته می‌شود. در (شکل ۹۹) خازن با تحمل ولتاژ ۴۰۰ ولت DC و ظرفیت ۱۰۰ میکرو فاراد نشان داده شده است.



شکل ۹۹

## مدار الکتریکی معادل خازن

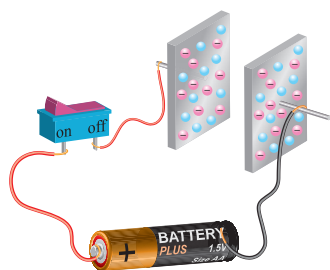
خازن علاوه بر ظرفیت  $C$ ، مقاومت الکتریکی  $R$  نیز دارد. مقاومت الکتریکی ناشی از سطح مقطع و ضخامت صفحات خازن است. برای خازن مدار الکتریکی شامل اتصال سری مقاومت الکتریکی  $R$  و ظرفیت خازن  $C$  معادل می‌نمایند. (شکل ۱۰۰)




شکل ۱۰۰- مدار الکتریکی معادل خازن

## خازن در جریان مستقیم

یک خازن که توسط منبع جریان مستقیم تغذیه می‌شود در (شکل ۱۰۱) و مدار الکتریکی معادل آن در (شکل ۱۰۲) نشان داده شده است.


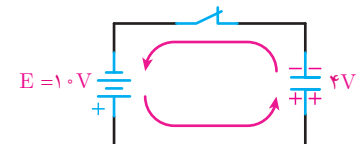


شکل ۱۰۱



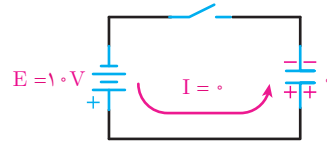
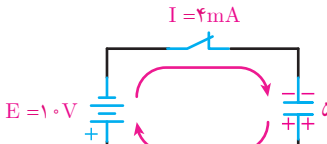
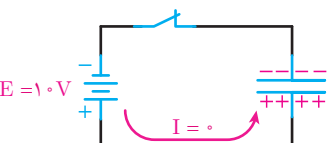
شکل ۱۰۲

با بستن کلید، الکترون‌ها از قطب منفی باتری به طرف صفحه‌ای که به این قطب متصل است جاری می‌شوند و در آن تراکم الکترون یا بار منفی ایجاد می‌کنند. در همین لحظه، قطب مثبت باتری همان تعداد الکترون را از صفحه‌ای که به این قطب متصل است جذب می‌کند و این صفحه، کمبود الکترون پیدا می‌کند و دارای بار مثبت می‌شود. (شکل ۱۰۳)

<p>وقتی کلید باز است هیچ جریانی از مدار نمی‌گذرد و خازن شارژ نمی‌شود.</p>	
<p>وقتی کلید بسته می‌شود جریان در مدار برقرار می‌شود و صفحات خازن باردار خواهد شد و خازن شارژ می‌شود.</p>	

شکل ۱۰۳

مادامی که خازن شارژ می‌شود ولتاژ خازن افزایش می‌یابد و جریان شارژ خازن کاهش می‌یابد تا ولتاژ خازن به ولتاژ باتری می‌رسد در این شرایط خازن شارژ کامل شده است و جریان شارژ آن صفر می‌شود. (شکل ۱۰۴) این مطلب را به روشنی نشان می‌دهد.

<p>مدار باز بوده، جریان نمی‌گذرد</p>	
<p>خازن در حال شارژ</p>	
<p>خازن کاملاً شارژ شده و جریان نمی‌گذرد</p>	

شکل ۱۰۴

در شکل ۱۰۷ با وصل کلید، شارژ خازن شروع می‌شود. مدت زمانی را که طول می‌کشد تا ولتاژ خازن به  $\frac{63}{2}\%$  ولتاژ نهایی برسد، ثابت زمانی خازن می‌گویند و آن را با حرف  $\tau$  نشان می‌دهند. مقدار  $\tau$  از رابطه زیر به دست می‌آید:

$$\tau = RC$$

که در آن  $\tau$  ثابت زمانی خازن بر حسب [S]

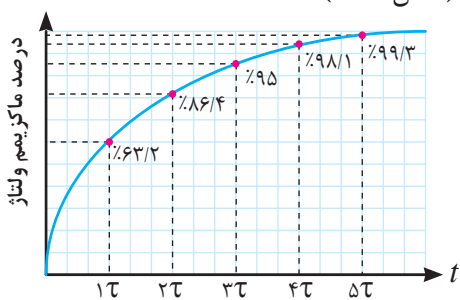
R مقاومت الکتریکی بر حسب [ $\Omega$ ]

C ظرفیت خازن بر حسب [F] است.

در هر ثابت زمانی بعدی، خازن به اندازه  $\frac{63}{2}$  درصد از ولتاژ باقی مانده شارژ می‌شود. مدت زمانی که طول می‌کشد تا خازن شارژ کامل شود، از رابطه  $t = 5\tau$  قابل محاسبه است در این رابطه:

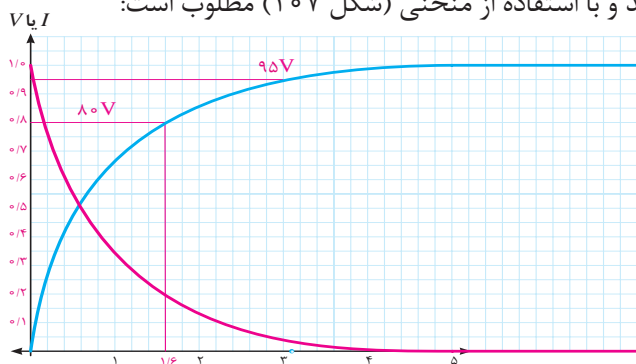
$\tau$  ثابت زمانی خازن [s]

و  $t$  مدت زمان شارژ کامل است (شکل ۱۰۵).

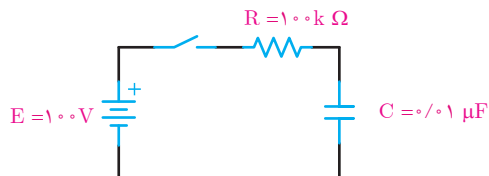


شکل ۱۰۵- منحنی شارژ خازن

مثال ۵: در مدار (شکل ۱۰۶) پس از بستن کلید و با استفاده از منحنی (شکل ۱۰۷) مطلوب است:



شکل ۱۰۷



شکل ۱۰۶

الف) چه مدت طول می‌کشد تا ولتاژ دو سر خازن به ۸۰ ولت برسد؟

ب) بعد از ۳ میلی‌ثانیه، ولتاژ دو سر خازن چه مقدار می‌شود؟

حل:

ثابت زمانی مدار

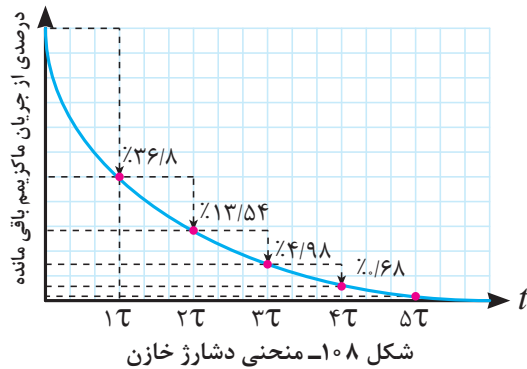
$$\tau = RC = 100 \times 10^3 \times 0.1 \times 10^{-6} = 10 \text{ms}$$



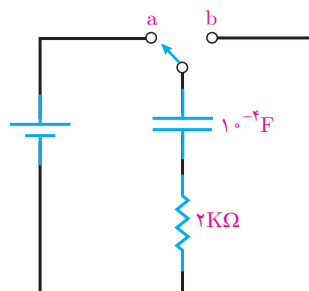
در یک ثابت زمانی یا یک میلی ثانیه، خازن به اندازه  $63/2\%$  درصد ولتاژ کل - یعنی  $63/2\%$  ولت، شارژ می شود. اگر بخواهیم خازن  $80\%$  ولت شارژ شود، چنین عمل می کنیم:

از روی محور عمودی که ولتاژ را نشان می دهد، مقدار  $80\%$  ولت را پیدا می کنیم و خطی موازی محور زمان (افقی) می کشیم تا منحنی شارژ را قطع کند. از آنجا نیز خطی موازی محور عمودی (ولتاژ) رسم می کنیم تا محور زمان را قطع کند. محل تقاطع محور زمان عدد  $1/6\tau$  را نشان می دهد؛ یعنی،  $1/6$  میلی ثانیه طول می کشد تا خازن به مقدار  $80\%$  ولت شارژ شود. در  $3$  میلی ثانیه یا  $3$  ثابت زمانی، ولتاژ دو سر خازن به  $95\%$  ولت می رسد. چرا؟ با رسم خطوطی موازی محورهای مختصات، همان طور که قبلاً گفته شد - مقدار  $95\%$  ولت به دست می آید.

با اتصال خازن شارژ شده به یک مقاومت، خازن انرژی ذخیره شده خود را در مقاومت به حرارت تبدیل می کند تا دشارژ شود پس از دشارژ کامل خازن ولتاژ صفر می شود. مدت زمانی که طول می کشد تا خازن دشارژ کامل شود نیز برابر  $5\tau$  است. در ثابت زمانی اول  $63/2\%$  درصد از شارژ کامل خازن از بین می رود و در ثابت زمانی های بعدی به ترتیب  $63/2\%$  درصد از شارژ باقی مانده تخلیه می شود. در انتهای  $5$  ثابت زمانی، خازن کاملاً تخلیه شده است (شکل ۱۰۸).



مثال: مدار (شکل ۱۰۹) کلید مدت زیادی در وضعیت a قرار داشته است پس از تغییر حالت کلید به وضعیت b چه مدت طول می کشد تا خازن دشارژ کامل شود؟



شکل ۱۰۹

حل:

مدت زمانی که طول می کشد تا خازن به طور کامل دشارژ شود از رابطه  $t=5\tau$  به دست می آید.

$$\tau = RC = 2 \times 10^3 \times 10^{-4} = 0.2\text{S}$$

$$t = 5\tau = 5 \times 0.2 = 1\text{S}$$

## خازن در جریان متناوب

خازن در جریان متناوب علاوه بر مقاومت الکتریکی R مربوط به صفحات هادی به دلیل تغییرات ولتاژ ناشی از فرکانس «مقاومت خازنی» دارد. مقاومت خازنی<sup>۱</sup> با جاری شدن جریان در خازن مخالفت می‌کند. «مقاومت خازنی» را با  $X_C$  نشان می‌دهند و واحد آن اهم است و از رابطه زیر به دست می‌آید:

$$X_C = \frac{1}{2\pi fC}$$

در این رابطه :

$X_C$  مقاومت خازنی [ $\Omega$ ]

f فرکانس [Hz]

C ظرفیت خازن [F] است.

**مثال ۶:** یک خازن با ظرفیت  $100 \mu\text{F}$  در فرکانس  $50^\circ$  هرتز مفروض است مقاومت خازنی آن چند اهم است؟

$$X_C = \frac{1}{2\pi fC}$$

حل : از رابطه (۴-۱۳) داریم:

$$X_C = \frac{1}{2 \times 3.14 \times 50 \times 100 \times 10^{-6}} = 31.85 [\Omega]$$

## اتصال خازن‌ها

برای سادگی محاسبات از مقاومت الکتریکی R مربوط به صفحات هادی در مقایسه با مقاومت خازنی صرف نظر می‌شود و مدار الکتریکی معادل خازن مطابق (شکل ۱۱۰) در نظر گرفته می‌شود.

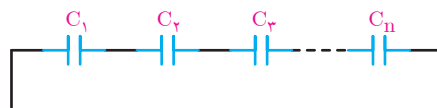


شکل ۱۱۰

### الف) اتصال سری خازن‌ها

ظرفیت خازن معادل  $C_T$  چند خازن با اتصال سری (شکل ۱۱۱) از رابطه زیر به دست می‌آید:

$$\frac{1}{C_{eq}} = \frac{1}{C_1} + \frac{1}{C_2} + \dots + \frac{1}{C_n}$$



شکل ۱۱۱

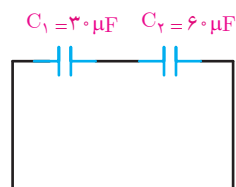
مثال: ظرفیت خازن معادل خازن‌های (شکل ۱۱۲) را به دست آورید.

$$\frac{1}{C_{eq}} = \frac{1}{C_1} + \frac{1}{C_2}$$

$$\frac{1}{C_{eq}} = \frac{1}{30} + \frac{1}{60}$$

$$\frac{1}{C_{eq}} = \frac{2+1}{60} = \frac{3}{60}$$

$$C_{eq} = \frac{60}{3} = 20 \mu F$$

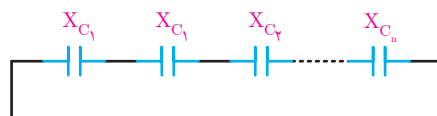


شکل ۱۱۲

حل:

مقاومت خازنی معادل  $X_C$  خازن‌های اتصال سری (شکل ۱۱۳) از رابطه زیر به دست می‌آید:

$$X_{C_{eq}} = X_{C_1} + X_{C_2} + \dots + X_{C_n}$$

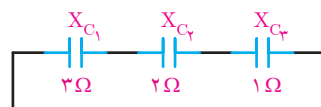


شکل ۱۱۳

مثال: مقاومت خازنی معادل (شکل ۱۱۴) را به دست آورید.

$$X_{C_{eq}} = X_{C_1} + X_{C_2} + X_{C_3}$$

$$X_{C_{eq}} = 3 + 2 + 1 = 6 \Omega$$



شکل ۱۱۴

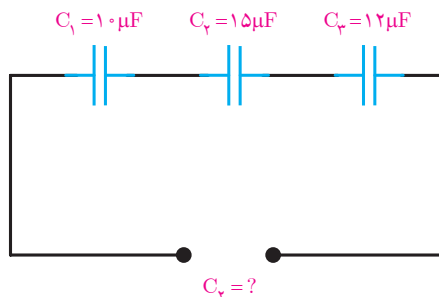
حل:

مثال: ظرفیت معادل مدار (شکل ۱۱۵) را به دست آورید.

$$\frac{1}{C_{eq}} = \frac{1}{C_1} + \frac{1}{C_2} + \frac{1}{C_3}$$

$$\frac{1}{C_{eq}} = \frac{1}{10} + \frac{1}{15} + \frac{1}{12} = \frac{6+4+5}{60} = \frac{15}{60}$$

$$C_t = \frac{60}{15} = 4 [\mu F]$$



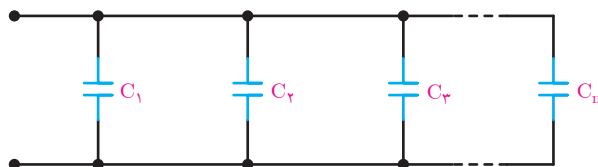
شکل ۱۱۵

حل:

### ب) اتصال موازی خازن‌ها

ظرفیت خازن معادل  $C_{eq}$  چند خازن با اتصال موازی (شکل ۱۱۶) از رابطه زیر به دست می‌آید:

$$C_{eq} = C_1 + C_2 + \dots + C_n$$



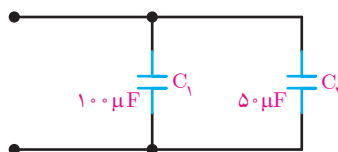
شکل ۱۱۶



مثال: ظرفیت خازن معادل خازن‌های (شکل ۱۱۷) را به دست آورید.

$$C_{eq} = C_1 + C_2$$

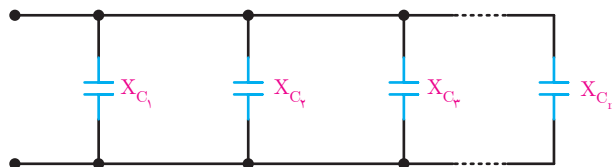
$$C_1 = 100 + 50 = 150 \mu\text{f}$$



شکل ۱۱۷

مقاومت خازنی معادل  $X_{C_i}$  خازن‌ها با اتصال موازی (شکل ۱۱۸) از رابطه زیر به دست می‌آید:

$$\frac{1}{X_{C_{eq}}} = \frac{1}{X_{C_1}} + \frac{1}{X_{C_2}} + \frac{1}{X_{C_3}} + \dots + \frac{1}{X_{C_n}}$$



شکل ۱۱۸

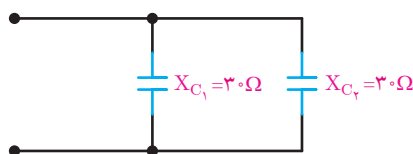
مثال: مقاومت خازنی معادل خازن‌های (شکل ۱۱۹) را به دست آورید.

$$\frac{1}{X_{C_{eq}}} = \frac{1}{X_{C_1}} + \frac{1}{X_{C_2}}$$

$$\frac{1}{X_{C_{eq}}} = \frac{1}{30} + \frac{1}{30}$$

$$\frac{1}{X_{C_{eq}}} = \frac{2}{30}$$

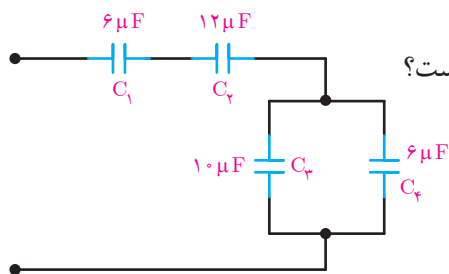
$$X_{C_{eq}} = \frac{30}{2} = 15 \Omega$$



شکل ۱۱۹

## اتصال مختلط خازن‌ها

در اتصال مختلط خازن‌ها از روابط اتصال سری و موازی متناسب استفاده می‌کنیم.



شکل ۱۲۰

مثال: ظرفیت خازن معادل مدار (شکل ۱۲۰) چند میکروفاراد است؟

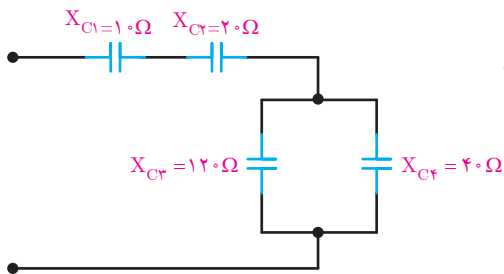
حل:

در این مدار  $C_1$  و  $C_2$  سری است که روابط سری را درباره این دو عمل می‌کنیم.  $C_3$  و  $C_4$  نیز با هم موازی‌اند و روابط موازی را درباره آنها عمل می‌کنیم. در نهایت، مجموعه  $C_1$  و  $C_2$  با مجموعه  $C_3$  و  $C_4$  سری هستند و از قوانین سری پیروی می‌کنند. بنابراین، می‌توان نوشت:

$$C_{1,2} = \frac{C_1 C_2}{C_1 + C_2} = \frac{6 \times 12}{6 + 12} = 4 \mu F$$

$$C_{3,4} = C_3 + C_4 = 10 + 6 = 16 \mu F$$

$$C_5 = \frac{4 \times 16}{4 + 16} = \frac{16}{5} = 3 \frac{1}{5} \mu F$$



شکل ۱۲۱

مثال: مقاومت خازنی معادل (شکل ۱۲۱) را به دست آورید.

حل:

$$\frac{1}{X_{C_{3,4}}} = \frac{1}{X_{C_3}} + \frac{1}{X_{C_4}}$$

$$\frac{1}{X_{C_{3,4}}} = \frac{4}{120}$$

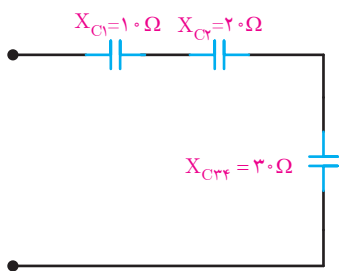
$$X_{C_{3,4}} = \frac{120}{4} = 30 \Omega$$

مدار به (شکل ۱۲۲) در می‌آید.

اکنون معادل سری  $X_{C_1}$ ،  $X_{C_2}$  و  $X_{C_{3,4}}$  را به دست می‌آوریم.

$$X_{C_{eq}} = X_{C_1} + X_{C_2} + X_{C_{3,4}}$$

$$X_{C_{eq}} = 10 + 20 + 30 = 60 \Omega$$



شکل ۱۲۲

## انرژی خازن

خازن انرژی الکتریکی را به صورت میدان الکتریکی در خود ذخیره می‌سازد و ماکزیمم انرژی ذخیره‌شده در خازن از رابطه زیر به دست می‌آید:

که در این رابطه:

$$W_C = \frac{1}{2} CV_m^2$$

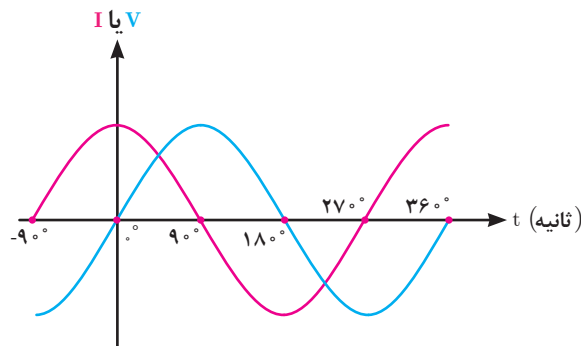
$W_C$  ماکزیمم انرژی ذخیره شده در خازن (j)  
 $C$  ظرفیت خازن (F)  
 $V_m$  ماکزیمم ولتاژ خازن (V) است.

**مثال:** به یک خازن با ظرفیت ۵۰ میکروفاراد ولتاژ متناوب سینوسی به معادله زمانی  $v(t) = 100 \sin(1000t)$  وصل شده است. ماکزیمم انرژی ذخیره شده در خازن چند ژول است؟  
**حل:**

$$W_C = \frac{1}{2} CV_m^2$$

$$W_C = \frac{1}{2} \times 50 \times 10^{-6} \times (100)^2 = 0.25 \text{ [j]}$$

## منحنی جریان و ولتاژ خازن در جریان متناوب



شکل ۱۲۳

جریان خازن از ولتاژ دو سر آن ۹۰ جلوتر است لذا خازن را یک عنصر «پیش‌فاز» می‌شناسند. منحنی ولتاژ و جریان خازن در اتصال به منبع متناوب سینوسی در (شکل ۱۲۳) نشان داده شده است که در آن  $\theta_V = 0$  و  $\theta_i = 90$  می‌باشد.

با توجه به (شکل ۱۲۳) معادلات زمانی ولتاژ و جریان به صورت زیر خواهد شد:

$$v(t) = V_m \sin(\omega t + 0)$$

$$i(t) = I_m \sin(\omega t + 90^\circ)$$

و زاویه اختلاف فاز  $\phi$  برابر خواهد شد.

$$\phi = \theta_V - \theta_i$$

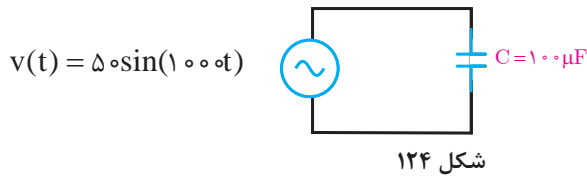
$$\phi = 0 - (90) = -90^\circ$$

مثال : در مدار (شکل ۱۲۴) مطلوب است :

الف) مقاومت خازنی

ب) جریان خازن

ج) معادله زمانی جریان خازن



حل:

الف) از رابطه زیر داریم :

$$X_C = \frac{1}{C\omega}$$

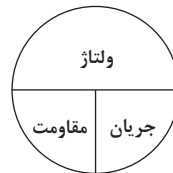
$$X_C = \frac{1}{1000 \times 10^{-6} \times 10000} = 10 [\Omega]$$

$$I_m = \frac{V_m}{X_C} = \frac{50}{10} = 5 [A]$$

$$I_{rms} = \frac{I_m}{\sqrt{2}} = \frac{5}{\sqrt{2}} = 3.54 [A]$$

ب) از قانون اهم داریم :

$$\text{ولتاژ} = \text{جریان} \times \text{مقاومت}$$



$$i(t) = 5 \sin(1000t + 90)$$

جریان خازن از ولتاژ دو سر آن ۹۰ درجه جلوتر است لذا داریم:

## توان الکتریکی خازن

توان الکتریکی خازن صرف ذخیره‌سازی انرژی الکتریکی می‌شود. مقدار انرژی ذخیره‌شده در واحد زمان در خازن را «توان الکتریکی خازن» گویند. توان الکتریکی خازن قادر به تبدیل کردن انرژی الکتریکی نیست لذا آن را توان «غیرمؤثر» یا «توان راکتیو» نیز می‌گویند و با حرف C نشان می‌دهند و واحد آن «ولت آمپر راکتیو VAR» است. توان الکتریکی خازن از رابطه زیر به دست می‌آید و آن را با علامت منفی نشانه‌گذاری می‌کنند.

$$Q_C = -X_C I_C^2$$

که در این رابطه :

$Q_C$  توان الکتریکی خازن [VAR]

$X_C$  مقاومت خازنی [Ω]

$I_C$  جریان خازنی [A] است.

مثال: یک مقاومت خازنی ۲ اهم با جریان مؤثر ۴ آمپر مفروض است. توان الکتریکی خازن

$$Q_C = -X_C I_C^2$$

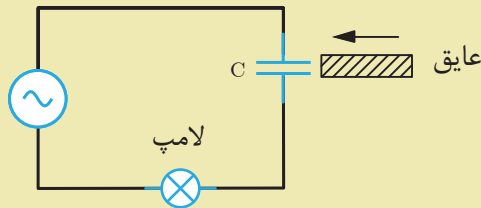
چقدر است؟

$$Q_C = -2 \times 4^2 = -32 (\text{VAR})$$

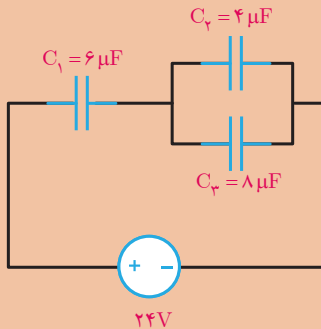
حل :



- ۱- خازن را تعریف کنید و عوامل مؤثر بر ظرفیت خازن را نام ببرید.
- ۲- ثابت زمانی خازن را تعریف کنید؟ چه مدت طول می کشد تا خازن در مدار پایدار شود؟
- ۳- مقاومت خازنی را تعریف کنید؟ به چه عواملی بستگی دارد؟
- ۴- توان الکتریکی خازن را تعریف کنید؟ چرا آن را توان راکتیو می نامند؟
- ۵- چرا خازن را یک عنصر پیش فاز تعریف می کنند؟ منحنی سینوسی جریان و ولتاژ خازن را رسم کنید.
- ۶- در شکل زیر با قرار دادن عایق بین صفحات خازن نور لامپ چه تغییری می کند؟ چرا؟



- ۱- مساحت صفحات یک خازن  $10 \text{ cm}^2$  و فاصله صفحات آن  $4 \text{ mm}$  می باشد. در هر حالت زیر ظرفیت خازن را حساب کنید.  
الف) عایق بین صفحات هوا باشد.  
ب) عایق بین صفحات از نوع میکا باشد.
- ۲- خازنی به ظرفیت  $50 \mu\text{F}$  را به یک باتری  $12\text{V}$  متصل می کنیم بار الکتریکی ذخیره شده در آن چند کولن است؟
- ۳- در شکل زیر مطلوب است:



- الف) ظرفیت معادل ( $C_{eq}$ ) چند میکروفاراد است؟
- ب) بار الکتریکی و ولتاژ هر خازن

۴- در شکل صفحه بعد مطلوب است:

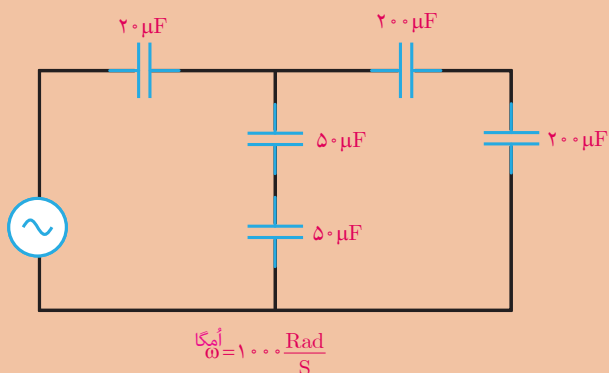
الف) محاسبه  $C_{eq}$

ب) محاسبه  $X_{ceq}$

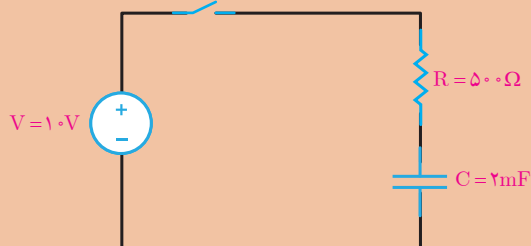
ج) اگر  $\omega = 500 \frac{\text{Rad}}{\text{s}}$  باشد در این حالت  $C_{eq}$  و  $X_{ceq}$  را حساب کنید.



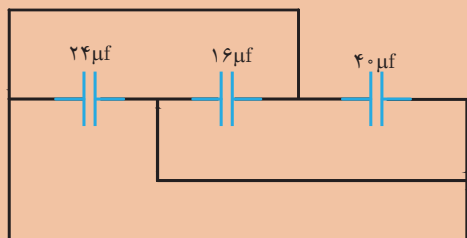




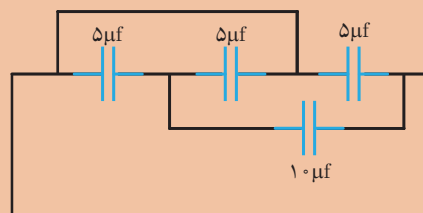
۵- در شکل زیر پس از بستن کلید چه مدت طول می کشد تا خازن به حالت پایدار برسد؟ در این حالت ولتاژ خازن چقدر است؟



۶- ظرفیت معادل در شکل های زیر را به دست آورید.



(الف)



(ب)

۷- ظرفیت خازنی با حداکثر ولتاژ ۱۰۰ ولت و ماکزیمم انرژی ذخیره شده ۰/۲ ژول چند میکروفاراد است؟

۸- معادلات زمانی ولتاژ و جریان یک خازن به ترتیب  $v(t) = 100 \sin(1000t + 90^\circ)$  و  $i(t) = 5 \sin(1000t + 90^\circ)$  است مطلوب است:

(الف) مقاومت خازنی

(ب) ظرفیت خازن

۹- خازنی با توان الکتریکی ۱۰۰- ولت آمپر راکتیو و ظرفیت ۵۰ میکروفاراد مفروض است:

(الف) مقاومت خازنی در سرعت زاویه ای ۵۰۰ رادیان بر ثانیه چند اهم است؟

(ب) جریان موثر خازن چند آمپر است؟

## استاندارد ارزشیابی پیشرفت تحصیلی مبتنی بر شایستگی درس دانش فنی پایه

رشته تحصیلی: الکتروتکنیک

پایه: دهم

سال تحصیلی:

کد رشته: ۰۷۱۳۱۰

کد درس:

کد کتاب: ۲۱۰۲۶۳

نمره	شاخص تحقیق	نتایج مورد انتظار	استاندارد عملکرد (کیفیت)	تکالیف عملکردی (واحدهای یادگیری)	عنوان پودمان
۳	۱- تحلیل و محاسبه مقادیر مؤثر و ماکزیمم جریان و ولتاژ ۲- محاسبه فرکانس و طول موج و اختلاف فاز و ترسیم نمودارهای اختلاف فاز بین جریان و ولتاژ	بالتر از حد انتظار	با استفاده از روابط حاکم بر مدارهای جریان متناوب، کمیت‌های مرتبط با جریان متناوب را محاسبه و ترسیم کند.	۱- تحلیل مدارهای الکتریکی متناوب مقاومتی به روش عددی ۲- تحلیل مدارهای الکتریکی متناوب مقاومتی به روش رسم دیاگرام	پودمان ۴: مدارهای جریان متناوب
۲	۱- تحلیل و محاسبه مقادیر مؤثر و ماکزیمم جریان و ولتاژ ۲- محاسبه فرکانس و طول موج و اختلاف فاز از روی نمودار	در حد انتظار			
۱	محاسبه فرکانس و زمان تناوب	پایین تر از حد انتظار			
				نمره مستمر از ۵	
				نمره شایستگی پودمان	
				نمره پودمان از ۲۰	



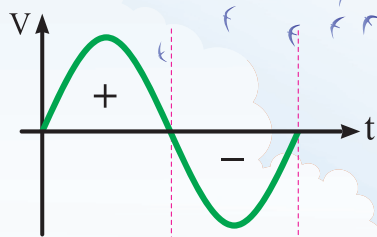
# اندازه‌گیری کمیت‌های الکتریکی

در این فصل مطالب زیر را فرا خواهید گرفت:


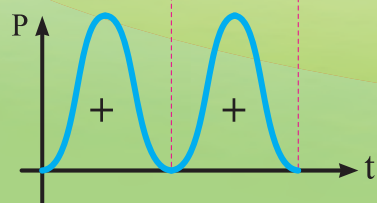
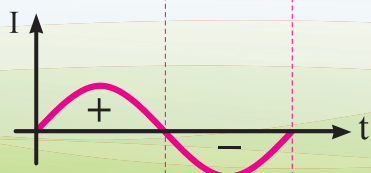
- ۱- توان در جریان متناوب
- ۲- اندازه‌گیری جریان
- ۳- اندازه‌گیری ولتاژ
- ۴- اندازه‌گیری مقاومت
- ۵- اندازه‌گیری انرژی الکتریکی

# واحد یادگیری ۱۱

## توان در جریان متناوب



$$P = V \times I$$



## توان مؤثر و غیر مؤثر در جریان متناوب

توان مؤثر توانی است که انرژی الکتریکی را تبدیل می‌کند و واحد آن وات است و در مدارهای جریان متناوب از رابطه روبه‌رو به‌دست می‌آید.

$$P = V_e I_e \cos \varphi$$

توان غیر مؤثر توانی است که انرژی الکتریکی را ذخیره می‌کند و واحد آن ولت آمپر راکتیو است و در مدارهای جریان متناوب از رابطه روبه‌رو به‌دست می‌آید.

$$Q = V_e I_e \sin \varphi$$

در مدارهای پس فاز، زاویه اختلاف فاز  $\varphi$  مقداری مثبت است لذا علامت  $Q$  مثبت خواهد شد اما در مدارهای پیش فاز، زاویه اختلاف فاز  $\varphi$  مقداری منفی است لذا علامت  $Q$  منفی خواهد شد.

در این روابط:

$P$  توان مؤثر [w]

$Q$  توان غیر مؤثر [VAR]

$V_e$  ولتاژ مؤثر [V]

$I_e$  جریان مؤثر [A]

$\varphi$  زاویه اختلاف فاز جریان با ولتاژ (درجه) یا (رادیان) است.

**مثال:** معادلات زمانی ولتاژ و جریان یک مدار الکتریکی به‌صورت زیر است:

$$v(t) = 220\sqrt{2} \sin(50^\circ \cdot t + 0^\circ)$$

$$i(t) = 10\sqrt{2} \sin(50^\circ \cdot t + 60^\circ)$$

مطلوب است:

الف) مقدار ولتاژ و جریان مؤثر

ب) زاویه اختلاف فاز و نوع مدار

ج) توان مؤثر

د) توان غیر مؤثر

$$V_e = \frac{V_m}{\sqrt{2}} = \frac{220\sqrt{2}}{\sqrt{2}} = 220 \text{ [V]}$$

$$I_e = \frac{I_m}{\sqrt{2}} = \frac{10\sqrt{2}}{\sqrt{2}} = 10 \text{ [A]}$$

**حل:**

الف)

$$\varphi = \theta_v - \theta_i$$

$$\varphi = 0^\circ - 60^\circ = -60^\circ$$

ب)

$$P = V_e I_e \cos \varphi \quad \text{ج}$$

$$P = 220 \times 10 \times \cos 60^\circ = 1100 \text{ [W]}$$

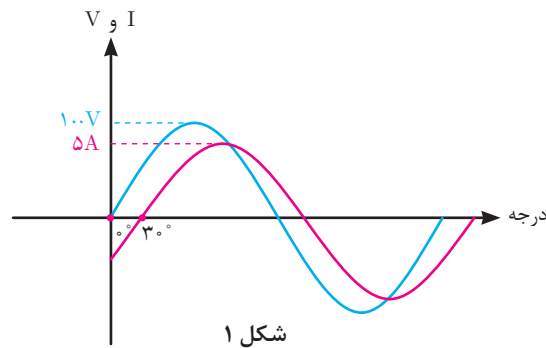
د) زاویه  $\varphi$  مقداری منفی دارد یعنی مدار پیش‌فاز است. پیش‌فاز یعنی جریان مدار از ولتاژ مدار به اندازه  $60^\circ$  درجه جلوتر است.

$$Q = V_e I_e \sin \varphi$$

از رابطه Q داریم:

$$Q = 220 \times 10 \sin(-60^\circ) = -1100\sqrt{3} \text{ [VAR]}$$

مثال: منحنی ولتاژ جریان یک مدار الکتریکی در (شکل ۱) داده شده است:



مطلوب است :

الف) مقدار ولتاژ و جریان مؤثر

ب) زاویه اختلاف فاز و نوع مدار

ج) توان مؤثر

د) توان غیرمؤثر

حل :

الف) با توجه به (شکل ۱)

$$V_m = 100 \text{ [V]}$$

$$I_m = 5 \text{ [A]}$$

$$\theta_v = 0^\circ$$

$$\theta_i = -30^\circ$$

$$V_e = \frac{V_m}{\sqrt{2}} = \frac{100}{\sqrt{2}} = 50\sqrt{2}$$

$$I_e = \frac{I_m}{\sqrt{2}} = \frac{5}{\sqrt{2}} = 2.5\sqrt{2} \text{ [A]}$$

$$\varphi = \theta_v - \theta_i$$

$$\varphi = 0^\circ - (-30^\circ) = +30^\circ$$

ب)

زاویه  $\varphi$  مقداری مثبت دارد یعنی مدار پس فاز است. پس فاز یعنی جریان مدار از ولتاژ مدار به اندازه  $30^\circ$  درجه عقب تر است.

(ج)

$$P = V_e I_e \cos \varphi$$

$$P = 50\sqrt{2} \times 2 / 5\sqrt{2} \times \cos(+30^\circ) = 125\sqrt{3} [w]$$

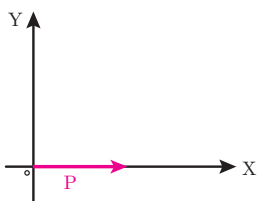
(د)

$$Q = V_e I_e \sin \varphi$$

$$Q = 50\sqrt{2} \times 2 / 5\sqrt{2} \times \sin(+30^\circ) = 125 [VAR]$$

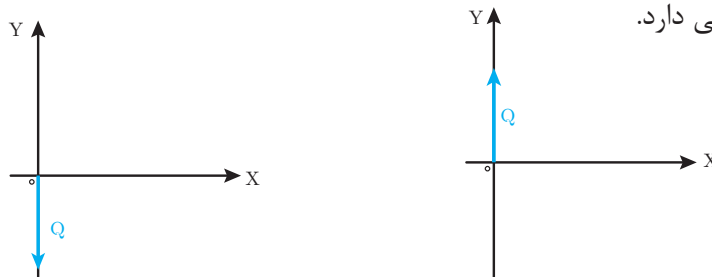
### بردار توان های مؤثر و غیر مؤثر

بردار توان مؤثر، یک بردار افقی و مثبت است. طول آن برابر مقدار توان مؤثر می باشد. (شکل ۲)



شکل ۲- بردار توان مؤثر

بردار توان غیرمؤثر یک بردار عمودی است که علامت آن به مثبت یا منفی بودن توان غیرمؤثر بستگی دارد.



ب) بردار توان غیرمؤثر پیش فاز

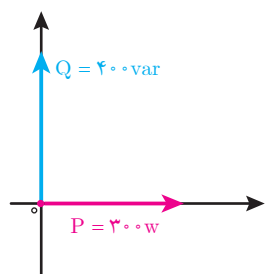
الف) بردار توان غیرمؤثر پس فاز

شکل ۳

**مثال:** یک مدار الکتریکی دارای توان مؤثر  $300\text{ W}$  و توان غیرمؤثر پس فاز  $400\text{ VAR}$  می باشد بردارهای P و Q آن را رسم کنید.

**حل:**

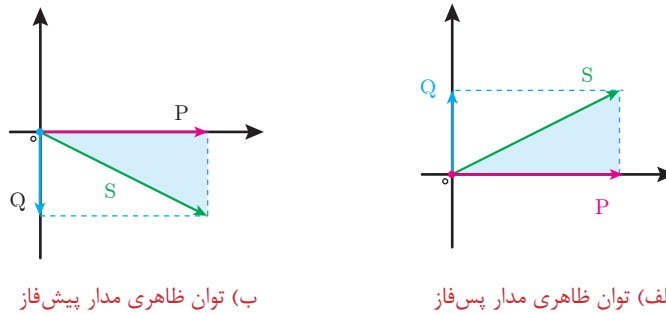
بردار توان مؤثر P به صورت افقی و بردار توان غیرمؤثر به صورت عمودی رسم می شود. (شکل ۴)



شکل ۴

## توان ظاهری

توان ظاهری از برابری توان مؤثر و توان غیرمؤثر به دست می‌آید. توان ظاهری را با  $S$  نشان می‌دهند و واحد آن ولت آمپر  $[VA]$  است (شکل ۵).



شکل ۵

و مقدار آن از رابطه زیر به دست می‌آید:

$$S = \sqrt{P^2 + Q^2}$$

که در این رابطه :

$S$  توان ظاهری  $[VA]$

$P$  توان مؤثر  $[W]$

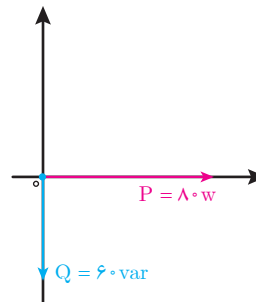
$Q$  توان غیرمؤثر  $[VAR]$  است.

**مثال:** یک مدار الکتریکی دارای زاویه اختلاف فاز  $\phi = -37^\circ$  و توان مؤثر  $W = 80$  و توان غیرمؤثر  $VAR = 60$  می‌باشد. بردارهای توان را رسم کنید و مقدار توان ظاهری را محاسبه نمایید.

**حل:** زاویه اختلاف فاز منفی است پس توان غیرمؤثر منفی می‌باشد. (شکل ۶)

$$S = \sqrt{P^2 + Q^2}$$

$$S = \sqrt{80^2 + 60^2} = 100 [VA]$$

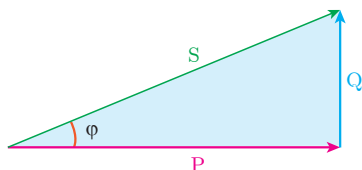


شکل ۶

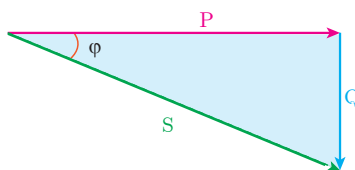


## مثلث توان

مثلث توان، مثلث قائم‌الزاویه‌ای است که توان مؤثر و غیرمؤثر اضلاع قائم و توان ظاهری وتر آن می‌باشد. بردارهای  $P$ ،  $Q$  و  $S$  می‌توانند تشکیل یک مثلث دهند. زاویه بین  $P$  و  $S$  همان زاویه  $\varphi$  است. (شکل ۷)



(ب) مثلث توان مدار پس فاز



(الف) مثلث توان مدار پیش فاز

شکل ۷

مثلث توان دارای نسبت‌های مثلثاتی زیر است:

$$\cos \varphi = \frac{P}{S}$$

$$\sin \varphi = \frac{Q}{S}$$

$$\operatorname{tg} \varphi = \frac{Q}{P}$$

که در این رابطه:

$\cos \varphi$  ضریب توان مؤثر

$\sin \varphi$  ضریب توان غیرمؤثر

$\operatorname{tg} \varphi$  ضریب کیفیت می‌باشد.

**مثال:** یک مدار الکتریکی دارای توان مؤثر  $120 \text{ W}$  و توان غیرمؤثر  $160 \text{ VAR}$  می‌باشد مطلوب است:

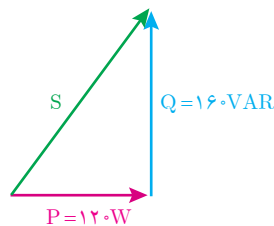
(ج) ضریب توان مؤثر

(ب) توان ظاهری

(الف) رسم مثلث توان

**حل:**

(الف) توان غیرمؤثر مثبت است یعنی مدار پس‌فاز می‌باشد.



شکل ۸

(ب) توان ظاهری از رابطه زیر به دست می‌آید:

$$S = \sqrt{P^2 + Q^2}$$

$$S = \sqrt{120^2 + 160^2} = 200 [\text{VA}]$$

ج) ضریب توان مؤثر از رابطه زیر به دست می آید:

$$\cos \varphi = \frac{P}{S} = \frac{120}{200} = 0.6$$

توان ظاهری را می توان از حاصل ضرب ولتاژ مؤثر در جریان مؤثر نیز محاسبه کرد.

$$S = V_e I_e$$

که در این رابطه:

$S$  توان ظاهری [VA]

$V_e$  ولتاژ مؤثر [V]

$I_e$  جریان مؤثر [A] می باشد.

مثال: ولتاژ و جریان یک مدار الکتریکی به ترتیب  $200\text{V}$  و  $10\text{A}$  است توان ظاهری آن چند

ولت آمپر می باشد؟

$$S = V_e I_e$$

$$S = 200 \times 10 = 2000 \text{ [VA]}$$

حل:

پرسش



۱- انواع توان در جریان متناوب را نام ببرید.

۲- توان مؤثر را تعریف کنید.

۳- توان غیرمؤثر را تعریف کنید و انواع آن را نام ببرید.

۴- توان ظاهری را تعریف کنید و رابطه آن را بنویسید.

۵- مثلث توان را تعریف کنید و انواع آن را رسم نمایید.

تمرین



۱- معادلات زمانی ولتاژ و جریان یک مدار الکتریکی به ترتیب:

$$V(t) = 20\sqrt{2} \sin(314t + 0)$$

$$i(t) = 10\sqrt{2} \sin(314t + 37^\circ)$$

می باشد. مطلوب است:

الف) توان مؤثر

ب) توان غیرمؤثر

ج) توان ظاهری

۲- یک مصرف کننده الکتریکی با توان  $80\text{ W}$  و  $100\text{ VA}$  پس فاز مفروض است. مطلوب است:

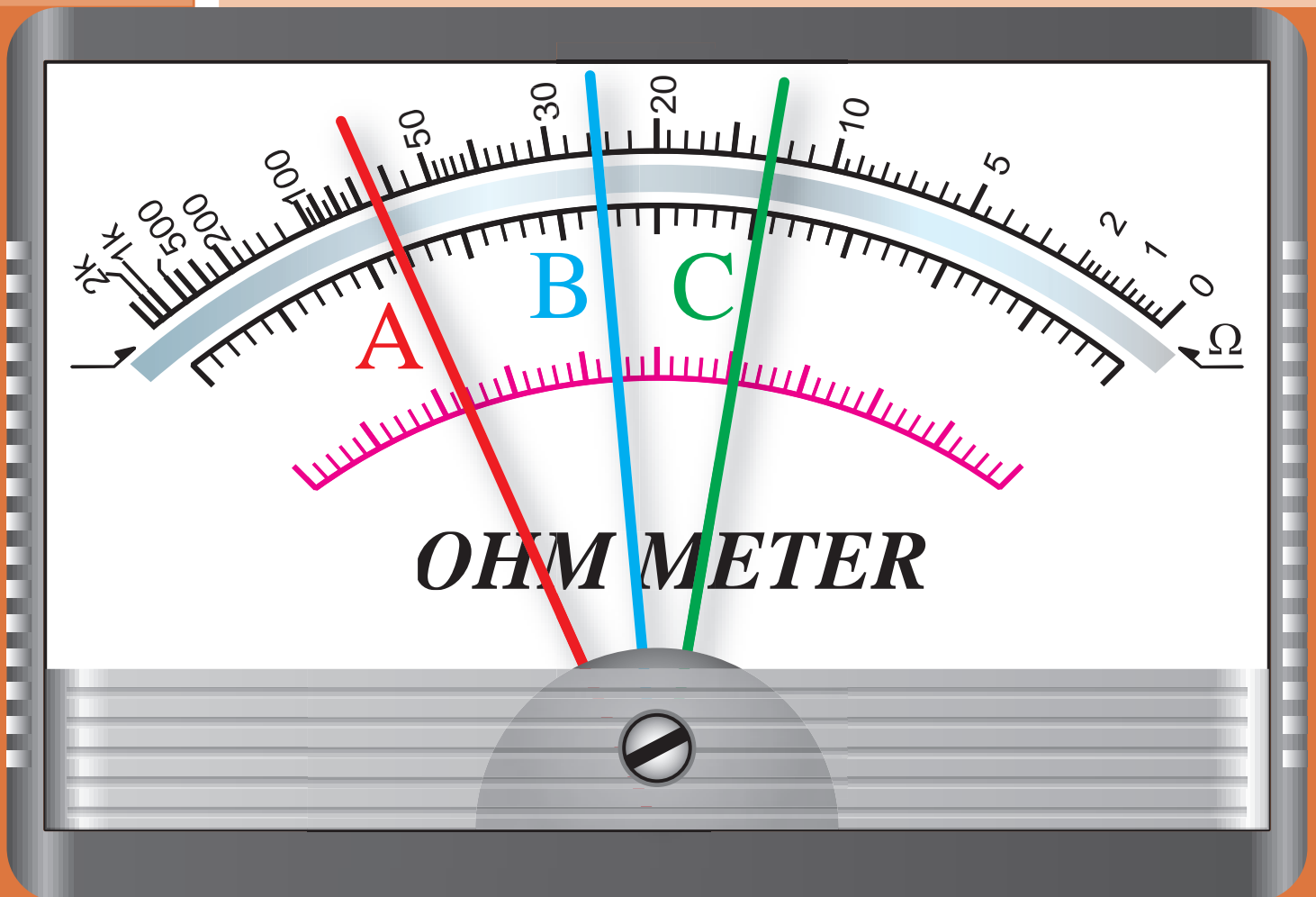
الف) رسم مثلث توان

ب) ضریب توان

ج) توان غیرمؤثر

## واحد یادگیری ۱۲

اندازه‌گیری جریان، ولتاژ و مقاومت اهمی



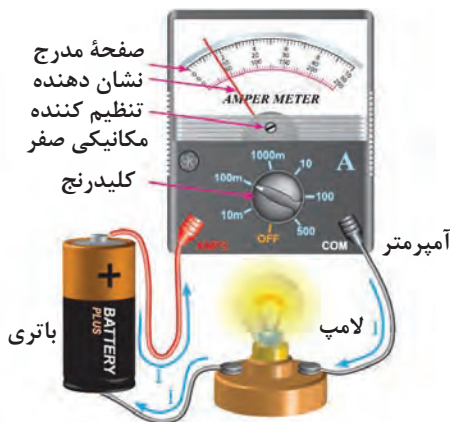
## آمپر متر

آمپر متر دستگاهی است که جریان الکتریکی را اندازه می‌گیرد. برای اندازه‌گیری جریان الکتریکی مستقیم از آمپر متر DC و برای اندازه‌گیری جریان الکتریکی متناوب از آمپر متر AC استفاده می‌شود.



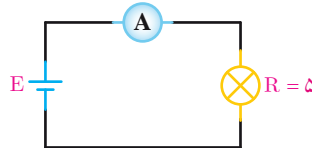
شکل ۹

آمپر متر در مدارهای الکتریکی با علامت اختصاری (شکل ۹) نشان داده می‌شود.



شکل ۱۰

آمپر متر در مدار الکتریکی به صورت سری قرار می‌گیرد تا جریان مصرف‌کننده با جریان عبوری از آمپر متر برابر باشد. نحوه قرار گرفتن آمپر متر در یک مدار الکتریکی ساده در (شکل ۱۰) و مدار الکتریکی معادل آن در (شکل ۱۱) نشان داده شده است.



شکل ۱۱

## اندازه‌گیری جریان DC

برای خواندن مقدار جریانی که آمپر متر نشان می‌دهد باید به طریق زیر عمل کرد:  
الف) حدود اندازه‌گیری یا ضریب کلید رنج (مثلاً در (شکل ۱۰)، ۱۰۰ mA می‌باشد) را به ماکزیمم عدد روی صفحه مدرج (مثلاً در (شکل ۱۰) یکی از تقسیمات ۱۰ می‌باشد) تقسیم می‌کنیم. عدد به دست آمده را ضریب ثابت صفحه نامیده و آن را با حرف C نشان می‌دهیم؛ با توجه به (شکل ۱۰) داریم:

$$C = \frac{\text{ضریب کلید رنج}}{\text{آخرین عدد روی صفحه}} = \frac{100}{10} = 10 \text{ mA}$$

ب) مقدار انحراف عقربه را در ضریب ثابت صفحه ضرب می‌کنیم. در شکل ۱۰ عقربه به اندازه ۱/۶ قسمت از تقسیمات منحرف شده است، لذا مقدار جریانی که عقربه نشان می‌دهد برابر است با:

عدد عقربه  $\times C =$  مقدار جریانی که آمپر متر نشان می‌دهد.

$$C = 10 \times 1/6 = 1.6 \text{ mA}$$

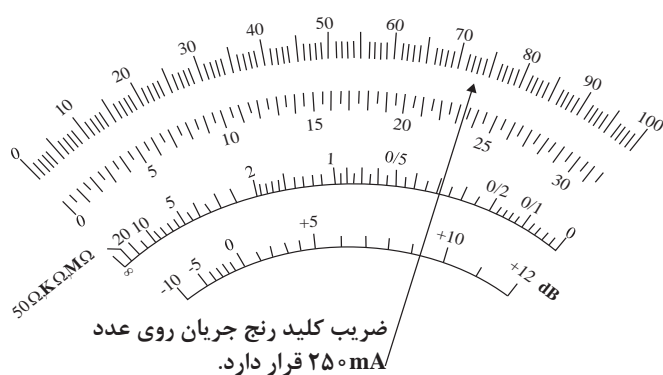
**مثال:** بیشترین عدد درج شده روی یک میلی آمپر متر ۶۰ می باشد (صفحه مدرج به ۶۰ قسمت تقسیم شده است) اگر حدود اندازه گیری (ضریب کلید رنج) روی عدد ۳۰۰mA بوده و عقربه آمپر متر به اندازه ۴۲/۵ قسمت منحرف شده باشد، آمپر متر مقدار جریان را ۲۱۲/۵mA نشان می دهد زیرا:

$$C = \frac{300 \text{ mA}}{60} = 5 \text{ mA}$$

مقدار جریانی که میلی آمپر متر اندازه می گیرد برابر است با:

$$I = 42/5 \times C = 42/5 \times 5 \text{ mA} = 212/5 \text{ mA}$$

**مثال:** در (شکل ۱۲) میلی آمپر متر ۱۸۲/۵ میلی آمپر را نشان می دهد.




شکل ۱۲

مقدار جریانی که آمپر متر نشان می دهد.

$$C = \frac{250}{100} = 2/5 \text{ mA}$$

$$2/5 \times 73 = 182/5 \text{ mA}$$



(ب)

(الف)

شکل ۱۳

برای دقیق تر خواندن جریانی که آمپر متر نشان می دهد باید حدود اندازه گیری (ضریب کلید رنج) را طوری انتخاب کنیم که انحراف عقربه بیشترین مقدار را داشته باشد. (شکل ۱۳) جریان ۰/۹۲ میلی آمپر را در محدوده اندازه گیری ۱ mA و ۱۰۰ mA نشان می دهد. همان طور که از شکل نیز پیداست اندازه گیری جریان ۰/۹۲ mA در رنج ۱ mA دقیق تر است.

آمپر مترها و میلی آمپر مترهای DC به صورت های آزمایشگاهی، تابلویی و یا به صورت قسمتی از مولتی متر (اهم متر - ولت متر - آمپر متر) ساخته می شوند. (شکل ۱۴) چند نمونه از آمپر مترها و میلی آمپر مترهای آزمایشگاهی را نشان می دهد.



شکل ۱۴

مولتی متر یک دستگاه پر کاربرد در برق و الکترونیک است.

نوعی از مولتی متر وجود دارد که به آوومتر دیجیتالی موسوم است. این نوع مولتی متر نیز دارای رنج جریان DC است و مقدار اندازه گیری شده را به صورت رقمی روی صفحه نمایش نشان می دهد. در (شکل ۱۵) یک نمونه از این مولتی مترها را مشاهده می کنید.



شکل ۱۵

**اندازه گیری جریان AC:** برای اندازه گیری جریان AC حتماً باید از آمپر مترهای AC استفاده کرد. پس با آمپر مترهایی که فقط دارای رنج DC می باشند نمی توان جریان AC را اندازه گرفت. بعضی دیگر از آمپر مترها توانایی اندازه گیری جریان های AC و DC را توأمأ دارا هستند که با کلید انتخاب (AC و DC) می توان در هر لحظه جریان مورد نظر را اندازه گرفت. آمپر مترهای AC بیشتر به صورت تابلویی ساخته می شوند. (شکل ۱۶) دو نمونه از آمپر مترهای AC تابلویی را نشان می دهد.



شکل ۱۶

(شکل ۱۷) یک مولتی متر دیجیتالی آزمایشگاهی را نشان می دهد که دارای رنج جریان متناوب (AC) و مستقیم (DC) می باشد.



شکل ۱۷

مولتی مترهای عقربه ای معمولاً فاقد رنج اندازه گیری جریان AC هستند. اما کلیه مولتی مترهای دیجیتالی رنج اندازه گیری جریان AC را دارا می باشند. برای اندازه گیری جریان AC توسط آوومتر دیجیتالی، کافی است که ترمینال های مخصوص جریان

را با مدار سری نموده و کلید AC آن را فعال کنیم تا روی صفحه نمایش مولتی متر علامت AC ظاهر گردد. در این صورت مقدار جریان AC به صورت رقمی روی صفحه نمایش نوشته می شود.

علاوه بر آمپرمترهای آزمایشگاهی و تابلویی و مولتی مترها، انواع دیگری از آمپرمترهای AC وجود دارند که به آمپرمتر «انبری» معروف اند. برای اندازه گیری جریان کافی است سیم حامل جریان AC را وسط هسته این مولتی متر که با اهرمی باز می شود قرار دهیم تا مقدار جریان را نشان دهد. توجه داشته باشید که در این حالت فقط یک رشته سیم باید از هسته عبور داده شود. امروزه آمپرمترهای انبری را به صورت مولتی متر (ترکیبی) می سازند. (شکل ۱۸) دو نمونه آمپرمتر انبری عقربه ای و دیجیتالی را نشان می دهد.



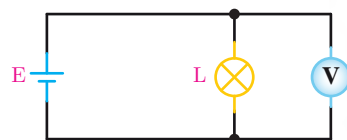
شکل ۱۸- آمپرمتر انبری

## ولت متر

ولت متر دستگاهی است که اختلاف پتانسیل یا ولتاژ الکتریکی را اندازه می گیرد. برای اندازه گیری ولتاژ الکتریکی مستقیم از ولت متر DC و برای اندازه گیری ولتاژ الکتریکی متناوب از ولت متر AC استفاده می شود.



شکل ۱۹



شکل ۲۱



شکل ۲۰

ولت متر در مدار الکتریکی با علامت اختصاری (شکل ۱۹) نشان داده می شود. ولت متر در مدار الکتریکی به صورت موازی قرار می گیرد تا ولتاژ مصرف کننده با ولتاژ ولت متر یکی باشد. نحوه قرار گرفتن ولت متر در یک مدار الکتریکی ساده در (شکل ۲۰) و مدار الکتریکی معادل آن در (شکل ۲۱) نشان داده شده است.

## اندازه‌گیری ولتاژ DC

برای خواندن مقدار ولتاژی که ولت‌متر نشان می‌دهد، همانند خواندن آمپر متر، ابتدا ضریب ثابت سنجش را به دست آورده و آنگاه این عدد را در مقدار انحراف عقربه برحسب تقسیمات ضرب می‌کنیم.



شکل ۲۲

**مثال:** اگر ضریب کلید رنج (شکل ۲۲) روی عدد  $500$  ولت باشد مقدار ولتاژ اندازه‌گیری شده چقدر است؟

$$C = \frac{500}{250} = 2$$

مقداری که ولت‌متر نشان می‌دهد برابر است با: عدد خوانده شده  $\times C$  تعداد تقسیماتی که عقربه منحرف شده است.

$$220 \times 2 = 440 [V]$$

بنابراین داریم :

**مثال:** در (شکل ۲۳) ولت‌متر ولتاژی به اندازه  $380$  ولت را نشان می‌دهد، زیرا :

$$C = \frac{500}{50} = 10$$



شکل ۲۳

مقدار ولتاژ برابر است با :

تعداد خانه‌های منحرف شده  $\times C$


$$10 \times 38 = 380$$



برای دقیق تر خواندن مقدار ولتاژی که ولت‌متر نشان می‌دهد باید حدود اندازه‌گیری (ضریب کلید رنج) را طوری انتخاب نماییم که انحراف عقربه بیشترین مقدار را داشته باشد. ولت‌مترهای DC به صورت‌های آزمایشگاهی، تابلویی و یا به صورت قسمتی از مولتی‌متر ساخته می‌شوند. (شکل ۲۴) یک نمونه از میلی ولت‌متر آزمایشگاهی را نشان می‌دهد.



شکل ۲۶- یک نمونه ولت‌متر تابلویی AC را نشان می‌دهد.



شکل ۲۵



شکل ۲۴

(شکل ۲۵) یک نمونه ولت‌متر DC تابلویی را نشان می‌دهد.

مولتی‌مترهای دیجیتالی نیز قادر به اندازه‌گیری ولتاژ DC هستند. یک نمونه دیگر از این مولتی‌مترها در (شکل ۲۶) نشان داده شده است.

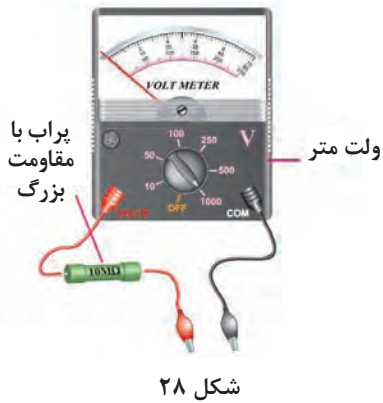
## اندازه‌گیری ولتاژ AC

برای اندازه‌گیری ولتاژ AC از ولت‌متر AC استفاده می‌شود. اکثر ولت‌مترهای آزمایشگاهی هر دو ولتاژ AC و DC را اندازه می‌گیرند (شکل ۲۷). به همین منظور بر روی ولت‌مترها کلید انتخاب AC و DC وجود داشته و یا سلکتور حدود اندازه‌گیری AC با DC تفاوت دارد.

همه مولتی‌مترها، اعم از عقربه‌ای و دیجیتالی، قادر به اندازه‌گیری ولتاژ AC می‌باشند. نحوه قرائت ولتاژ AC روی ولت‌مترهای AC همانند ولت‌مترهای DC است، و در مورد ولت‌مترهای دیجیتالی، مقدار ولتاژ به صورت رقم روی صفحه نمایش (Display) نوشته می‌شود. لازم به یادآوری است که ولت‌مترهای عقربه‌ای و یا مولتی‌مترهای معمولی به هیچ عنوان قادر به اندازه‌گیری ولتاژهای AC کم (کمتر از یک ولت) به صورت دقیق نیستند ولی مولتی‌مترها و یا ولت‌مترهای



شکل ۲۷



شکل ۲۸

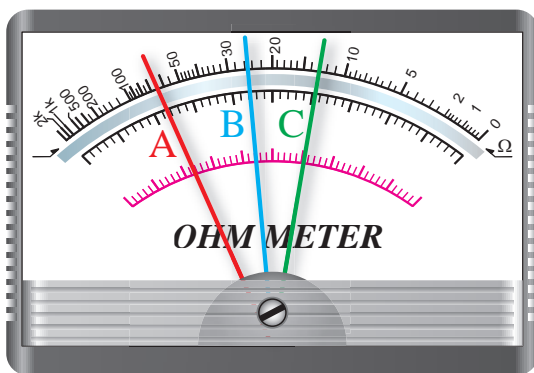
دیجیتالی، ولتاژهای AC خیلی کم (حدود یک میلی‌ولت) را با دقت کافی اندازه‌گیری می‌کنند. برای اندازه‌گیری ولتاژهای زیاد AC و یا DC (۱۰۰۰ ولت به بالا) از پراب‌های مخصوص ولتاژ زیاد استفاده می‌شود. این پراب‌ها دارای مقاومت بسیار بزرگ بوده و با ولت‌متر سری می‌شوند تا قسمت اعظم ولتاژ مورد اندازه‌گیری در آنها افت کند. (شکل ۲۸) نمونه‌ای از این نوع پراب را که در آن مقاومت ۱۰ مگا اهم جهت اندازه‌گیری ولتاژ زیاد، با ولت‌متر سری شده است نشان می‌دهد.

## اهم متر



شکل ۲۹

اهم‌متر دستگاهی است که مقاومت الکتریکی را اندازه می‌گیرد. اهم‌متر در مدار الکتریکی به صورت موازی قرار می‌گیرد. نحوه اندازه‌گیری یک مقاومت الکتریکی توسط اهم‌متر آزمایشگاهی در (شکل ۲۹) نشان داده شده است. تمامی آوومترهای دیجیتالی و عقربه‌ای مجهز به اهم‌متر هستند. امروزه اهم‌مترها دیگر به صورت یک دستگاه مستقل ساخته نمی‌شوند. درجه‌بندی اهم‌متر عکس درجه‌بندی ولت‌متر و آمپر‌متر است؛ یعنی صفر آن در سمت راست صفحه مدرج قرار دارد، ضمناً درجه‌بندی آن خطی نیست.



شکل ۳۰

برای خواندن مقدار مقاومت اهمی از روی اهم‌متر کافی است که مقدار خوانده شده روی صفحه مدرج را در ضریب کلید رنج اهم‌متر ضرب کنیم. به عنوان مثال در (شکل ۳۰) عقربه‌های A، B و C مقادیر زیر را نشان می‌دهند.

$$(A) 67.5 \times 10 = 675 \Omega$$

$$(B) 24.75 \times 10 = 247.5 \Omega$$

$$(C) 13 \times 10 = 130 \Omega$$

همان طور که در (شکل ۳۱) نیز می بینید درجه بندی اهم متر از سمت راست به تدریج فشرده می شود. به عنوان مثال مقاومت های  $2\ \Omega$ ،  $3\ \Omega$ ،  $10\ \Omega$  و  $15\ \Omega$  تا حدود  $50\ \Omega$  تقریباً به راحتی قابل خواندن هستند، اما از حدود  $50\ \Omega$  تا آخرین حد تقسیمات، درجه بندی بسیار فشرده می شود که در این حالت مقاومت های زیاد (مثلاً  $10$  اهم به بالا) به طور دقیق قابل خواندن نیست. بنابراین برای دقیق خواندن مقدار مقاومت ها باید کلید رنج را طوری تنظیم کنیم که عقربه روی اعدادی که مقدار مقاومت را بسیار دقیق و واضح نشان می دهند قرار گیرد اگر انحراف عقربه از سمت چپ بیشتر از  $40\%$  باشد مقدار مقاومت واضح خوانده می شود.



شکل ۳۱

## وات متر

وات متر دستگاهی است که برای اندازه گیری توان مؤثر مصرف کننده های الکتریکی استفاده می شود. برای اندازه گیری توان مؤثر مصرف کننده های تکفاز از وات متر تکفاز و برای اندازه گیری توان مؤثر مصرف کننده های سه فاز از وات متر سه فاز استفاده می شود. (شکل ۳۲)



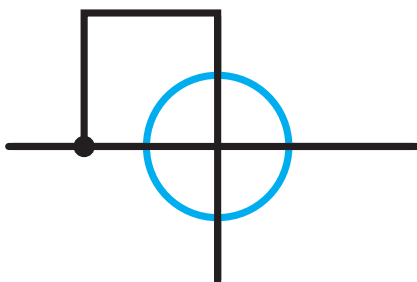
(ب) وات متر سه فاز



(الف) وات متر تکفاز

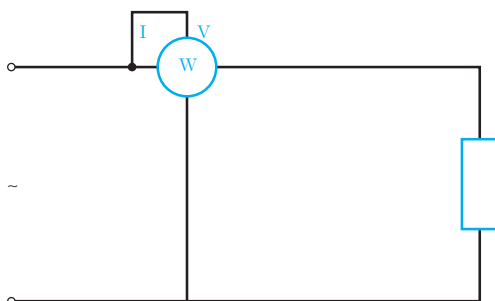
شکل ۳۲

وات متر در مدارهای الکتریکی با علامت اختصاری مطابق (شکل ۳۳) نشان داده می‌شود.



شکل ۳۳

وات متر تکفاز دارای یک سیم‌پیچ ولتاژ و یک سیم‌پیچ جریان می‌باشد. سیم‌پیچ ولتاژ با مدار الکتریکی مصرف‌کننده موازی قرار می‌گیرد تا ولتاژ آن را سنجش نماید و سیم‌پیچ جریان با مدار الکتریکی مصرف‌کننده سری قرار می‌گیرد تا جریان آن را سنجش کند. روش نصب وات متر تکفاز در (شکل ۳۴) نشان داده شده است.



شکل ۳۴

## کنتور

کنتور دستگاهی است که انرژی الکتریکی را اندازه‌گیری می‌کند. برای اندازه‌گیری انرژی الکتریکی در مصرف‌کننده تکفاز از کنتور تکفاز و در مصرف‌کننده سه‌فاز از کنتور سه‌فاز استفاده می‌شود.

واحد اندازه‌گیری انرژی الکتریکی ژول می‌باشد که برابر وات ثانیه است ولی در عمل از واحدهای بزرگ‌تر مانند کیلووات‌ساعت، مگاوات‌ساعت استفاده می‌شود. واحد اندازه‌گیری انرژی ناشی از توان مؤثر در کنتورها کیلووات‌ساعت و ناشی از توان غیرمؤثر کیلووات‌ساعت است.

در (شکل ۳۵) دو نمونه کنتور دیجیتالی و آنالوگ نشان داده شده است. در کنتورهای آنالوگ فقط امکان اندازه‌گیری انرژی الکتریکی امکان داشت ولی در کنتورهای دیجیتال علاوه بر اندازه‌گیری انرژی الکتریکی امکان اندازه‌گیری کمیت‌های الکتریکی نظیر ولتاژ، جریان و فرکانس و... وجود دارد.



ب) کنتور دیجیتالی



الف) کنتور آنالوگ

شکل ۳۵

پرسش



- ۱- آمپر متر چگونه در مدار قرار می‌گیرد و چرا؟
- ۲- نحوه خواندن مقادیر از روی صفحه مدرج مولتی متر چگونه است؟
- ۳- فرق آمپر متر تابلویی با آمپر متر انبری را شرح دهید.
- ۴- ولت متر چگونه در مدار قرار می‌گیرد و چرا؟
- ۵- ولتاژهای خیلی زیاد را چگونه با ولت مترهای معمولی اندازه می‌گیرند؟
- ۶- مقاومت‌های اهمی را چگونه اندازه می‌گیرند؟
- ۷- روش نصب وات متر تکفاز را با رسم شکل نشان دهید.
- ۸- مزیت کنتورهای دیجیتال بر کنتورهای آنالوگ چیست؟

استاندارد ارزشیابی پیشرفت تحصیلی مبتنی بر شایستگی درس دانش فنی پایه

رشته تحصیلی: الکتروتکنیک

پایه: دهم

سال تحصیلی:

کد رشته: ۰۷۱۳۱۰

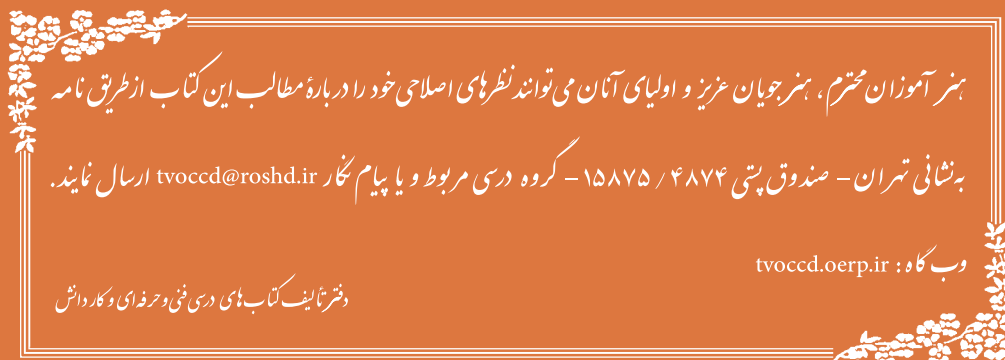
کد درس:

کد کتاب: ۲۱۰۲۶۳

نمره	شاخص تحقیق	نتایج مورد انتظار	استاندارد عملکرد (کیفیت)	تکالیف عملکردی (واحدهای یادگیری)	عنوان پودمان
۳	ترسیم مثلث توان و تحلیل ارتباط توان‌ها در مدار با چند المان پسیو، تفاوت انواع وسایل اندازه‌گیری آنالوگ و دیجیتال	بالتر از حد انتظار	۱- با استفاده از روابط حاکم بر مدارهای جریان متناوب مقادیر مختلف توان را محاسبه و دیاگرام آن را ترسیم کند.	۱- تحلیل مقادیر مختلف توان در مدارهای جریان متناوب	پودمان ۵: اندازه‌گیری کمیت‌های الکتریکی
۲	۱- تحلیل بردار مثلث توان در مدارهای جریان متناوب ۲- تحلیل نحوه قرار گرفتن آمپر متر و ولت متر در مدار الکتریکی	در حد انتظار	۲- با استفاده از دستورالعمل به کارگیری دستگاه‌های اندازه‌گیری الکتریکی نحوه اندازه‌گیری کمیت‌های الکتریکی را تحلیل کند	۲- بررسی روش‌های اندازه‌گیری کمیت‌های الکتریکی	
۱	تفکیک توان مؤثر از توان غیر مؤثر، تعیین روش اندازه‌گیری جریان و ولتاژ DC و AC	پایین‌تر از حد انتظار			
نمره مستمر از ۵					
نمره شایستگی پودمان					
نمره پودمان از ۲۰					

- ۱- برنامه درسی درس دانش فنی پایه، رشته الکتروتکنیک - دفتر تألیف کتاب‌های درسی فنی و حرفه‌ای و کاردانش - سال ۱۳۹۴.
- ۲- قیطرانی، فریدون. احمدی، عین‌ا... . مظفری، حسین. همتایی، محمود. تجلی‌پور، مسعود. ۱۳۹۳. مبانی برق. کد ۳۵۵/۱۸ چاپ چهاردهم. شرکت چاپ و نشر کتاب‌های درسی ایران.
- ۳- ترکمانی، امیرحسین. ۱۳۹۴. ماشین‌های الکتریکی DC کد ۴۹۰/۱ چاپ سوم. شرکت چاپ و نشر کتاب‌های درسی ایران.
- ۴- نظریان. فتح‌ا... . ۱۳۹۴. اصول اندازه‌گیری الکتریکی کد ۳۵۹/۹۳، چاپ چهاردهم. شرکت چاپ و نشر کتاب‌های درسی ایران.
- ۵- سایت موزه برق شهدا.
- ۶- سایت انرژی‌های تجدیدپذیر و بهره‌وری انرژی ایران (ساتبا).





هنرآموزان محترم، هنرجویان عزیز و اولیای آنان می‌توانند نظرهای اصلاحی خود را درباره مطالب این کتاب از طریق نامه  
برنشانی تهران - صندوق پستی ۴۸۷۴ / ۱۵۸۷۵ - گروه درسی مربوط و یا پیام نگار [tvoccd@roshd.ir](mailto:tvoccd@roshd.ir) ارسال نمایند.

وب‌گاه: [tvoccd.oerp.ir](http://tvoccd.oerp.ir)

دسترزاینف کتاب های درسی فنی و حرفه‌ای و کار دانش