




- ● ● «اللَّهُ الَّذِي يُرْسِلُ الرِّيحَ فَتُثِيرُ سَحَاباً فَيَبْسُطُهُ فِي السَّمَاءِ كَيْفَ يَشَاءُ وَ...» آیه ۴۸، سوره روم ● ● ●
خداوند همان کسی است که بادها را می‌فرستد تا ابرها را به حرکت درآورد سپس آنها را در پهنه آسمان آن گونه که بخواهد می‌گستراند و ...

● زمین در فضا همانند گویی فیروزه‌ای درون هاله‌ای از گازها با شکوه فراوان در چرخش است؛ هاله‌ای که سرشار از هوای پاک است؛ گرمای خورشید را در خود نگه می‌دارد؛ ساکنان زمین را از پرتوهای خطرناک کیهانی محافظت و آب را در سرتاسر سیاره ما توزیع می‌کند. بدین ترتیب زمین با چرخش خود، زندگی را دوام می‌بخشد. تداوم زندگی سالم و پایدار در این سیاره در گرو رفتار منطقی ما با ساکنان آن است؛ رفتاری که هماهنگ و سازگار با طبیعت باشد و نظم آن را برهم نزنند.

علم شیمی کمک می‌کند تا با بررسی خواص، رفتار و برهم کنش گازهای این پوشش آبی رنگ، راه‌های تداوم زندگی سالم را بیابیم؛ باشد که رد پای سنگین روی این سیاره زیبا برجای نگذاریم.

آیا می دانید

جرم کل هوا کره در حدود $10^{15} \times 5/3$ تن و نزدیک به $1/1000000$ جرم زمین است.



● اگر زمین را به سیب تشبیه کنیم، ضخامت هوا کره نسبت به زمین به نازکی پوست سیب می ماند.

در میان سیاره های سامانه خورشیدی، تنها زمین، اتمسفری دارد که امکان زندگی را روی آن فراهم می کند. این اتمسفر، مخلوطی از گازهای گوناگون است که تا فاصله 500 کیلومتری از سطح زمین امتداد یافته است به طوری که می توان گفت ما در کف اقیانوسی از مولکول های گازی زندگی می کنیم. جاذبه زمین این گازها را پیرامون خود نگه می دارد و مانع از خروج آنها از اتمسفر می شود (شکل ۱). از سوی دیگر، انرژی گرمایی مولکول ها سبب می شود تا پیوسته آنها در حال جنبش باشند و در سرتاسر هوا کره توزیع شوند.




شکل ۱- لایه فیروزه ای پیرامون زمین، اتمسفر زمین یا همان هوا کره است که اغلب هوا نامیده می شود.

اغلب گازها نامرئی هستند به طوری که ما هوا را نمی توانیم ببینیم و به طور معمول وجود آن را در پیرامون خود حس نمی کنیم، مگر روزهایی که باد می وزد یا در مکان هایی که هوا به خوبی در جریان است. میان گازهای هوا، واکنش های شیمیایی گوناگونی رخ می دهد که اغلب آنها برای ساکنان این سیاره سودمند هستند، اما برخی از این واکنش ها مفید نبوده و فرآورده هایی تولید می کنند که دلخواه و مطلوب ساکنان سیاره خاکی نیست.

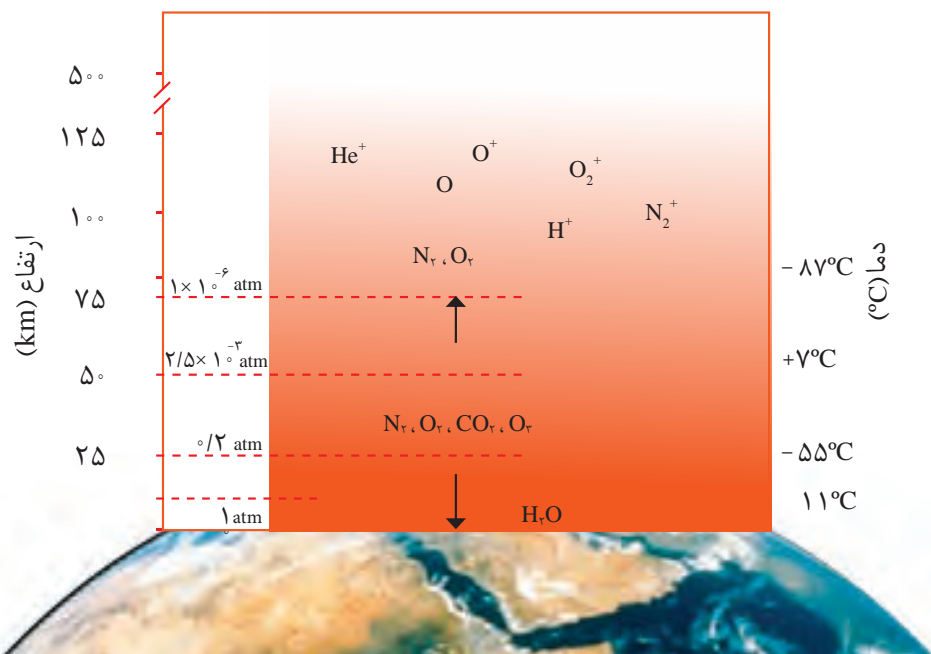
اینک این پرسش ها مطرح می شود که مواد اصلی پیرامون زمین چیست؟ تا کجاها یافت می شود؟ گازها به عنوان بخش عمده این مواد چه رفتارهایی دارند؟ چه واکنش هایی میان گازهای هوا رخ می دهد؟ و این واکنش ها بر زندگی ساکنان این سیاره خاکی چه اثری می گذارد؟ رفتار انسان ها تا چه اندازه بر هوا کره و ویژگی های آن تأثیر دارد؟ و پرسش های دیگری که ممکن است ذهن شما را به خود مشغول کرده باشد. برای یافتن پاسخ این پرسش ها با ما در این فصل همراه باشید.

با هم بیندیشیم



● آب و هوا نتیجهٔ برهم کنش میان زمین، هواکره، آب و خورشید است. تغییرات آب و هوایی در فاصلهٔ ۱۰-۱۲ کیلومتری از سطح زمین (لایهٔ تروپوسفر) اتفاق می‌افتد.

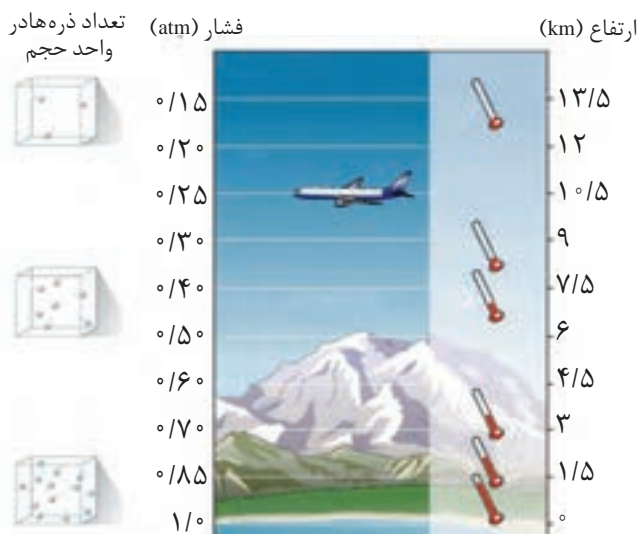
۱- در شکل زیر، تغییر دما و برخی اجزای سازندهٔ هواکره برحسب ارتفاع از سطح زمین نشان داده شده است. با توجه به آن:



● فشار هر گاز، ناشی از برخورد مولکول‌های آن با دیوارهٔ ظرف است. هواکره نیز به دلیل داشتن گازهای گوناگون فشار دارد. این فشار در همهٔ جهت‌ها بر بدن ما و به میزان یکسان وارد می‌شود.

آ) آیا روند تغییر دما در هواکره را می‌توان دلیلی بر لایه‌ای بودن آن دانست؟ توضیح دهید.
ب) آیا به جز اتم و مولکول، ذره‌های دیگری هم در این لایه‌ها هست؟ علت ایجاد آنها را توضیح دهید.

۲- دما و فشار هواکره، از جمله عوامل مهم در تعیین ویژگی‌های آن است. با توجه به شکل زیر، مشخص کنید با افزایش ارتفاع از سطح زمین، فشار چه تغییری می‌کند؟ توضیح دهید.



تغییرات آب و هوای زمین در لایه تروپوسفر رخ می‌دهد. در این لایه با افزایش ارتفاع به ازای هر کیلومتر، دما در حدود 6°C افت می‌کند و در انتهای لایه به حدود 55°C - (218 کلوین) می‌رسد. اگر میانگین دما در سطح زمین در حدود 11°C (284 کلوین) در نظر گرفته شود: (آ) ارتفاع تقریبی لایه تروپوسفر را حساب کنید. (ب) رابطه‌ای برای تبدیل دما، بر حسب درجه سلسیوس به دما بر حسب کلوین پیدا کنید.

هوا معجونی ارزشمند

شاید تجربه کرده باشید که گاهی مغز گردو، بادام، آفتابگردان و ... بو و مزه کهنگی می‌دهد که دلیل این ویژگی، ماندن آنها در هوای آزاد به مدت طولانی است. امروزه در صنعت با بسته‌بندی مناسب، می‌توان زمان ماندگاری مواد غذایی را افزایش داد. جالب است بدانید در بسته‌بندی برخی مواد خوراکی از گاز نیتروژن استفاده می‌شود. افزون بر این، گاز نیتروژن کاربردهای دیگری نیز دارد (شکل ۲).



(آ)



(ب)

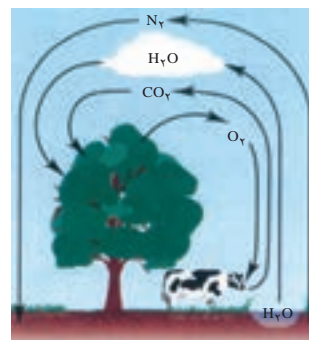


(پ)

شکل ۲- از گاز نیتروژن، (آ) برای پر کردن تایر خودروها، (ب) در صنعت سرماسازی برای انجماد مواد غذایی و (پ) برای نگهداری نمونه‌های بیولوژیک در پزشکی استفاده می‌شود.

نیتروژن، اکسیژن و کربن دی‌اکسید از جمله گازهای هواکره هستند که در زندگی روزانه نقش حیاتی دارند (شکل ۳).

اکنون این پرسش مطرح است که آیا هواکره می‌تواند منبع ارزشمندی برای تهیه برخی گازها باشد؟ حدود ۷۵ درصد از جرم هواکره، در نزدیک‌ترین لایه به زمین (تروپوسفر) قرار دارد. این بخش از هواکره، همان بخشی است که ما در آن زندگی می‌کنیم. پس از تروپوسفر،



شکل ۳- برهم کنش هواکره با زیست‌کره. زندگی جانداران گوناگون در زیست‌کره با گازهای هوا، گره خورده است. گیاهان با بهره‌گیری از نور خورشید و مصرف کربن دی‌اکسید هواکره، اکسیژن مورد نیاز جانداران را تولید می‌کنند. جانداران ذره‌بینی، گاز نیتروژن هواکره را برای مصرف گیاهان در خاک تثبیت می‌کنند.

هواکره رقیق و رقیق تر می شود. در جدول ۱، درصد حجمی گازهای تشکیل دهنده هوای خشک و پاک در لایه تروپوسفر نشان داده شده است. توجه کنید که رطوبت هوا متغیر بوده و میانگین بخار آب در هوا، حدود یک درصد است. هر چند این مقدار از جایی به جای دیگر، از روزی به روز دیگر و حتی از ساعتی به ساعت دیگر تغییر می کند.



● بررسی‌های دانشمندان در مورد هوای به دام افتاده در بلورهای یخ در یخچال‌های قطبی و نیز سنگ‌های آتشفشانی نشان می‌دهد که از ۲۰۰ میلیون سال پیش تاکنون، نسبت گازهای سازنده هواکره تقریباً ثابت مانده است.



● انبیب، وسیله ساده‌ای که جابربن حیان به منظور تقطیر مواد طراحی کرد. این ظرف برای گرم کردن مخلوط‌ها و جمع‌آوری و هدایت بخارهای حاصل به کار می‌رفت.

جدول ۱- نام و درصد حجمی گازهای سازنده هوای پاک و خشک

نام گاز	درصد گاز در هوا
نیتروژن	۷۸/۰۷۹
اکسیژن	۲۰/۹۵۲
آرگون	۰/۹۲۸
کربن دی اکسید	۰/۰۳۸۵
نئون	۰/۰۰۱۸
هلیوم	۰/۰۰۰۵
کریپتون	۰/۰۰۰۱
زنون و دیگر گازها	ناچیز

جدول ۱ نشان می‌دهد بخش عمده هواکره را دو گاز نیتروژن و اکسیژن تشکیل می‌دهد. گاز آرگون در میان اجزای هواکره در رتبه سوم قرار دارد؛ بنابراین می‌توان هوا را منبعی غنی برای تهیه این گازها دانست. در صنعت، این گازها را از تقطیر جزء به جزء هوای مایع تهیه می‌کنند (شکل ۴).



شکل ۴- نمایی از یک برج تقطیر برای جداسازی اجزای هوا در پتروشیمی اهواز

در این فرایند، نخست هوا را از صافی‌هایی عبور می‌دهند تا گرد و غبار آن گرفته شود؛ سپس

با استفاده از فشار، دمای هوا را پیوسته کاهش می‌دهند. با کاهش دمای هوا تا 0°C (صفر درجهٔ سلسیوس)، رطوبت هوا به صورت یخ از آن جدا می‌شود (چرا؟). در دمای $78^{\circ}\text{C}-$ ، گاز کربن دی‌اکسید هوا نیز به حالت جامد در می‌آید. با سرد کردن بیشتر تا دمای $200^{\circ}\text{C}-$ ، مخلوط بسیار سردی از چند مایع پدید می‌آید که به آن **هوای مایع** می‌گویند. در پایان، با عبور هوای مایع از یک ستون تقطیر، گازهای سازنده جداسازی و در ظرف‌های جدا ذخیره می‌شوند.



● **آرگون** گازی بی‌رنگ، بی‌بو و غیرسمی است. واژهٔ آرگون به معنای تنبل است؛ زیرا واکنش‌پذیری ناچیزی دارد. این گاز در پتروشیمی شیراز از تقطیر جزء به جزء هوای مایع با خلوص بسیار زیاد تهیه می‌شود. آرگون به عنوان محیط بی‌اثر در جوشکاری، برش فلزها و همچنین در ساخت لامپ‌های رشته‌ای به کار می‌رود.

با هم بیندیشیم

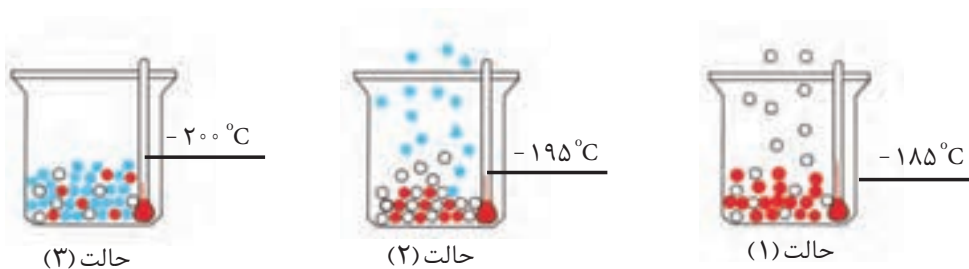
با توجه به جدول زیر به پرسش‌های مطرح شده پاسخ دهید.
 (آ) نمونه‌ای از هوای مایع با دمای $200^{\circ}\text{C}-$ تهیه کرده‌ایم. اگر این نمونه را وارد برج تقطیر کنیم، ترتیب جدا شدن گازها را مشخص کنید.

نقطهٔ جوش ($^{\circ}\text{C}$)	گاز
-196	نیتروژن
-183	اکسیژن
-186	آرگون
-269	هلیوم

(ب) دانش‌آموزی جدا شدن برخی گازها را از هوای مایع مطابق شکل زیر طراحی کرده است. مشخص کنید هر گوی رنگی، نشان‌دهندهٔ کدام گاز است؟ چرا؟



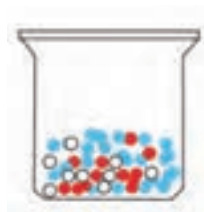
● هنگام ریختن هوای مایع درون یک بالن، مخلوط شروع به جوشیدن می‌کند و بخار می‌شود.



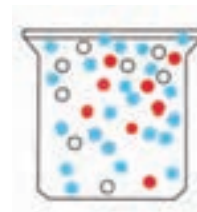
(پ) در دمای $8^{\circ}\text{C}-$ ، اجزای سازندهٔ هوای مایع به کدام شکل وجود دارند؟ چرا؟

آیا می دانید

مجموع ذخایر هلیوم در جهان ۴۰ میلیارد مترمکعب برآورد می شود. بیشتر این ذخایر در امریکا، الجزایر، روسیه، ایران و قطر یافت می شود. سالانه ۱۷۵ میلیون مترمکعب هلیوم در جهان تولید می شود. ایران، پس از روسیه، دومین ذخایر گاز طبیعی جهان را دارد. از این رو کشور ما جزء کشورهای است که از ذخیره هلیوم زیادی برخوردار است.



حالت (۲)



حالت (۱)

(ت) توضیح دهید چرا تهیه اکسیژن صددرصد خالص در این فرایند دشوار است؟

مقدار گازهای نجیب مانند هلیوم، آرگون، کریپتون و زنون در هواکره بسیار کم است. از این رو، به گازهای کمیاب نیز معروف هستند.

پیوند با صنعت


هلیوم به عنوان سبک ترین گاز نجیب، بی رنگ، بی بو و بی مزه است که کاربردهای فراوانی در زندگی دارد (شکل ۵).



شکل ۵- از هلیوم، افزون بر پر کردن بالن های هواشناسی، تفریحی و تبلیغاتی در جوشکاری، کپسول غواصی و مهم تر از همه، برای خنک کردن قطعات الکترونیکی در دستگاه های تصویربرداری مانند MRI استفاده می شود.

هلیوم در کره زمین به مقدار خیلی کم یافت می شود؛ به طوری که مقدار ناچیزی از آن در هوا و مقدار بیشتری در لایه های زیرین پوسته زمین وجود دارد؛ از این رو، منابع زمینی آن از هواکره سرشارتر و برای تولید هلیوم در مقیاس صنعتی مناسب ترند.

هلیوم از واکنش های هسته ای در ژرفای زمین تولید می شود. این گاز پس از نفوذ به لایه های زمین، وارد میدان های گازی می شود. یافته های تجربی نشان می دهد که حدود ۷ درصد حجمی از مخلوط گاز طبیعی را هلیوم تشکیل می دهد. البته مقدار هلیوم در میدان های گازی گوناگون، متفاوت است (شکل ۶).



● چرا هواپیماها با خود اتاقکی از گاز اکسیژن حمل می کنند؟

شکل ۶ - هلیوم موجود در گاز طبیعی به همراه سایر فراورده‌های سوختن بدون مصرف وارد هوا کره می‌شود. هلیوم را می‌توان افزون بر هوای مایع، از تقطیر جزء به جزء گاز طبیعی نیز به دست آورد. تهیه این گاز از کدام روش مقرون به صرفه‌تر است؟ چرا؟

جداسازی هلیوم از گاز طبیعی به دانش و فناوری پیشرفته‌ای نیاز دارد. متخصصان کشورمان تاکنون به جداسازی و تهیه آن موفق نشده‌اند و همچنان، هلیوم از دیگر کشورها وارد می‌شود. امید است گسترش دانش علوم پایه و فنی و مهندسی سبب تربیت دانش‌آموختگان و متخصصانی شود تا بتوانیم از منابع خدادادی و ثروت‌های ملی، بهره مناسب ببریم.



● کوهنوردان به هنگام صعود به ارتفاعات کپسول اکسیژن حمل می کنند.

اکسیژن، گازی واکنش پذیر در هوا کره


اکسیژن یکی از مهم‌ترین گازهای تشکیل دهنده هوا کره است که زندگی روی زمین، به وجود آن گره خورده است. این عنصر در آب کره، در ساختار مولکول‌های آب و در سنگ کره به صورت ترکیب با دیگر عناصر وجود دارد. همچنین اکسیژن در ساختار همه مولکول‌های زیستی مانند کربوهیدرات‌ها، چربی‌ها و پروتئین‌ها نیز یافت می‌شود. این گاز در هوا کره به طور عمده به شکل مولکول‌های دو اتمی وجود دارد؛ هرچند مقدار این گاز در لایه‌های گوناگون هوا کره با هم تفاوت دارد.

خود را بیازمایید

در جدول زیر، فشار گاز اکسیژن هوا در ارتفاع‌های مختلف از سطح زمین داده شده است:

۰	۰/۳	۰/۶	۱/۱	۲/۴	۳/۰	۳/۶	۴/۲	۴/۸	۶	۶/۷	۷/۳	۷/۹	ارتفاع از سطح زمین (km)
۲۰/۹	۲۰/۱	۱۹/۴	۱۶/۶	۱۵/۴	۱۴/۳	۱۳/۲	۱۲/۳	۱۱/۴	۹/۷	۹	۸/۴	۷/۶	فشار گاز اکسیژن (× ۱۰ ^{-۲} atm)

(آ نمودار فشار گاز اکسیژن را بر حسب ارتفاع، روی کاغذ میلی متری داده شده رسم کنید.



ب) با توجه به نمودار، با افزایش ارتفاع در هواکره فشار گاز اکسیژن چه تغییری می‌کند؟
 پ) با استفاده از نمودار، فشار این گاز را در ارتفاع $2/5$ کیلومتری پیش‌بینی کنید.
 ت) توضیح دهید چرا کوهنوردان هنگام صعود به قله‌های بلند، از کپسول اکسیژن استفاده می‌کنند؟

ث) با استفاده از یک نرم‌افزار رسم نمودار، این نمودار را رسم و نتیجه را به کلاس گزارش کنید.

اکسیژن، گازی واکنش‌پذیر است و با اغلب عناصرها و مواد واکنش می‌دهد؛ از این رو، بخش قابل توجهی از واکنش‌های شیمیایی که روزانه پیرامون ما رخ می‌دهد به دلیل وجود گاز اکسیژن در هوا است؛ برای مثال فساد مواد غذایی، پوسیدن چوب، فرسایش سنگ و خاک، زنگ زدن وسایل آهنی، سوختن سوخت‌ها و ... از جمله این واکنش‌ها است. آزادسازی انرژی شیمیایی ذخیره شده در مواد غذایی مانند چربی‌ها و قندها در سوخت‌وساز یاخته‌ای نیز به کمک اکسیژن انجام می‌شود تا بدین ترتیب، انرژی لازم برای فعالیت‌های بدن فراهم شود.



● چراغ پیه‌سوز. در واکنش سوختن چربی، انرژی شیمیایی به انرژی نورانی و گرمایی تبدیل می‌شود.

انرژی + آب + کربن دی‌اکسید → اکسیژن + چربی‌ها یا قندها

از سوی دیگر، بنزین، گازوئیل و ... در موتور خودرو می‌سوزد تا انرژی لازم برای حرکت خودرو فراهم شود. از سوختن گاز شهری در اجاق گاز، بخاری یا موتورخانه کاشانه‌ها* (آپارتمان‌ها)، گرمای لازم برای پخت و پز، همچنین گرم کردن خانه‌ها تأمین می‌شود.

سوختن، واکنشی شیمیایی است که در آن، یک ماده با اکسیژن به سرعت واکنش می‌دهد

و بخشی از انرژی شیمیایی آن به صورت گرما و نور آزاد می‌شود؛ برای مثال، زغال سنگ در حضور اکسیژن می‌سوزد و افزون بر تولید گازهای SO_2 ، CO_2 و بخار آب، مقدار زیادی انرژی آزاد می‌کند (شکل ۷).

نور و گرما + کربن دی‌اکسید + گوگرد دی‌اکسید + بخار آب → اکسیژن + زغال سنگ



شکل ۷- سوختن زغال سنگ در هوا

نوع فرآورده‌ها در واکنش سوختن سوخت‌های فسیلی، به مقدار اکسیژن در دسترس بستگی دارد؛ به طوری که اگر اکسیژن کافی باشد، سوختن کامل انجام می‌شود و گاز کربن دی‌اکسید و بخار آب تولید می‌گردد. اما اگر مقدار اکسیژن کم باشد، گاز کربن مونوکسید به همراه دیگر فرآورده‌ها تولید خواهد شد؛ در این حالت گفته می‌شود سوختن ناقص است (شکل ۸).



(آ)

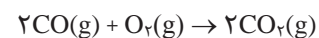


(ب)

شکل ۸- (آ) رنگ زرد شعله، نشان دهنده سوختن ناقص است (ب) رنگ آبی شعله، نشان می‌دهد که وسیله گازسوز به درستی کار می‌کند و اکسیژن کافی در محیط واکنش وجود دارد.

کربن مونوکسید، گازی بی‌رنگ، بی‌بو و بسیار سمی است. چگالی این گاز کمتر از هوا و

● کربن مونوکسید از کربن دی‌اکسید ناپایدارتر است، به طوری که CO تولید شده در سوختن ناقص در حضور اکسیژن و در شرایط مناسب دوباره می‌سوزد و به CO_2 تبدیل می‌شود.



آیا می‌دانید

براساس گزارش‌های رسمی کشور، سالانه در حدود ۱۰۰۰ نفر بر اثر گاز گرفتگی، جان خود را از دست می‌دهند. از این رو، ضروری است همه شهروندان درباره راه‌های جلوگیری از گاز گرفتگی در مکان‌های گوناگون، اطلاعات کافی مناسب و کارآمد داشته باشند.



شکل ۹- دستگاه حسگر کربن مونوکسید

قابلیت انتشار آن در محیط بسیار زیاد است؛ به طوری که به سرعت در همه فضای اتاق پخش می‌شود. از آنجا که میل ترکیبی هموگلوبین خون با این گاز بسیار زیاد و بیش از 200° برابر اکسیژن است، مولکول‌های آن پس از اتصال به هموگلوبین از رسیدن اکسیژن به بافت‌های بدن جلوگیری می‌کنند. این ویژگی باعث مسمومیت می‌شود و سامانه عصبی را فلج می‌کند و قدرت هرگونه اقدامی را از فرد مسموم می‌گیرد و بدین ترتیب باعث مرگ او می‌شود.

در میان تارنماها

۱- بیشتر مرگ و میرهای ناشی از گاز گرفتگی به دلیل رعایت نکردن اصول ایمنی هنگام استفاده از وسایل گرمایشی است. درباره روش‌های استاندارد انتقال گازهای حاصل از سوختن سوخت‌ها به بیرون از خانه و روش‌های جلوگیری از گازگرفتگی، اطلاعات جمع‌آوری و به کلاس گزارش کنید.

۲- امروزه در برخی خانه‌ها از دستگاهی برای اعلام نشت گاز کربن مونوکسید استفاده می‌کنند (شکل ۹). با مراجعه به منابع معتبر در اینترنت درباره شیوه کار این دستگاه گزارشی به کلاس ارائه کنید.

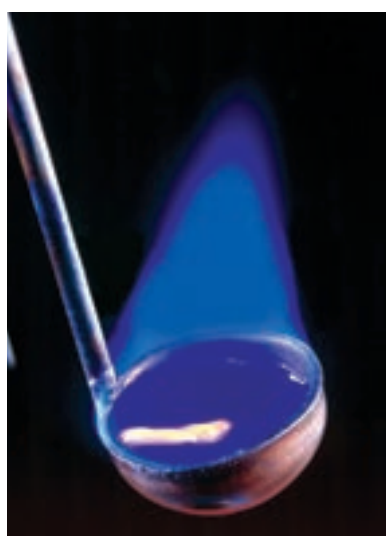


شکل ۱۰- سوختن گرد آهن. اغلب فلزها مانند آهن در شرایط مناسب با گاز اکسیژن می‌سوزند.

واکنش‌پذیری زیاد اکسیژن سبب می‌شود تا عنصرهای فلزی و نافلزی در شرایط مناسب بسوزند (شکل‌های ۱۰ و ۱۱).



(آ)



(ب)



(پ)


شکل ۱۱- سوختن (آ) منیزیم، (ب) گوگرد، (پ) سدیم

خود را بیازمایید

یکی از کاربردهای آرگون ایجاد محیط بی اثر هنگام جوشکاری است. به نظر شما این روش بر استحکام و طول عمر فلز جوشکاری شده چه تأثیری خواهد داشت؟ توضیح دهید.

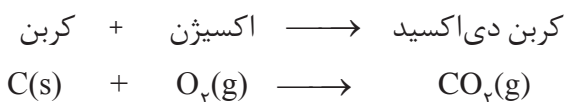


تغییر شیمیایی می‌تواند با تغییر رنگ، مزه، بو یا آزاد سازی گاز، تشکیل رسوب و گاهی ایجاد نور و صدا همراه باشد.

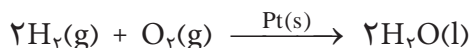


واکنش‌های شیمیایی و قانون پایستگی جرم

در هر تغییر شیمیایی مانند سوختن مواد، فساد مواد غذایی و... از یک یا چند ماده شیمیایی، ماده (مواد) تازه‌ای تولید می‌شود. هر تغییر شیمیایی می‌تواند شامل یک یا چند واکنش شیمیایی باشد که هر یک از آنها را با یک معادله نشان می‌دهند. در این معادله، واکنش دهنده‌ها در سمت چپ و فرآورده‌ها در سمت راست نوشته می‌شوند؛ برای مثال، سوختن کربن را به صورت زیر نمایش می‌دهند:



معادله نخست، نوشتاری و معادله دوم، نمادی نامیده می‌شود. معادله نمادی، افزون بر نمایش فرمول شیمیایی واکنش دهنده‌ها و فرآورده‌ها می‌تواند حالت فیزیکی آنها و اطلاعاتی درباره شرایط واکنش نیز ارائه کند؛ برای نمونه، معادله شیمیایی زیر بیان می‌کند که این واکنش در حضور کاتالیزگر پلاتین انجام می‌شود:



یکی از ویژگی‌های مهم واکنش‌های شیمیایی این است که همه آنها از قانون پایستگی جرم پیروی می‌کنند.

هنگامی که به شکر گرما داده می‌شود، دچار تغییر شیمیایی می‌شود و رنگ آن تغییر می‌کند.

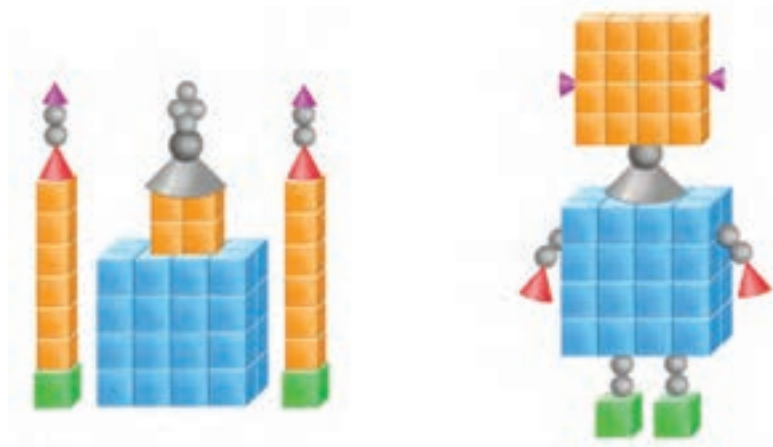
نمادهای به کاررفته برای نمایش حالت فیزیکی مواد در معادله‌های شیمیایی

معنا	نماد
جامد	(s)
مایع	(l)
گاز	(g)
محللول آبی	(aq)

در معادله واکنش، رسوب حالت جامد، مذاب حالت مایع و بخار، حالت گاز دارد.

با هم ببیندیشیم

۱- دو دانش آموز با استفاده از قطعه‌های پلاستیکی، دو دست سازه به شکل‌های زیر درست کرده‌اند. درباره جرم این دو دست سازه گفت و گو کنید و شرط برابری جرم آنها را بنویسید.




● معنای برخی عبارتها یا نمادهای مورد استفاده در معادله‌های شیمیایی


معنا	نماد
تولید می کند یا می دهد.	→
واکنش دهنده‌ها بر اثر گرم شدن واکنش می دهند.	$\xrightarrow{\Delta}$
واکنش در فشار ۲۰ اتمسفر انجام می شود.	$\xrightarrow{20 \text{ atm}}$
واکنش در دمای ۱۲۰۰ درجه سلسیوس انجام می شود.	$\xrightarrow{1200^\circ \text{C}}$
برای انجام شدن واکنش، از فلز پالادیم (Pd) به عنوان کاتالیزگر استفاده می شود.	$\xrightarrow{\text{Pd(s)}}$

۲- جای خالی را پر کنید.

فلز نقره + گوگرد → نقره سولفید



۳- میخ آهنی در هوای مرطوب زنگ می زند. با توجه به جرمی که ترازوها نشان می دهند، قانون پایستگی جرم را در این واکنش توضیح دهید.

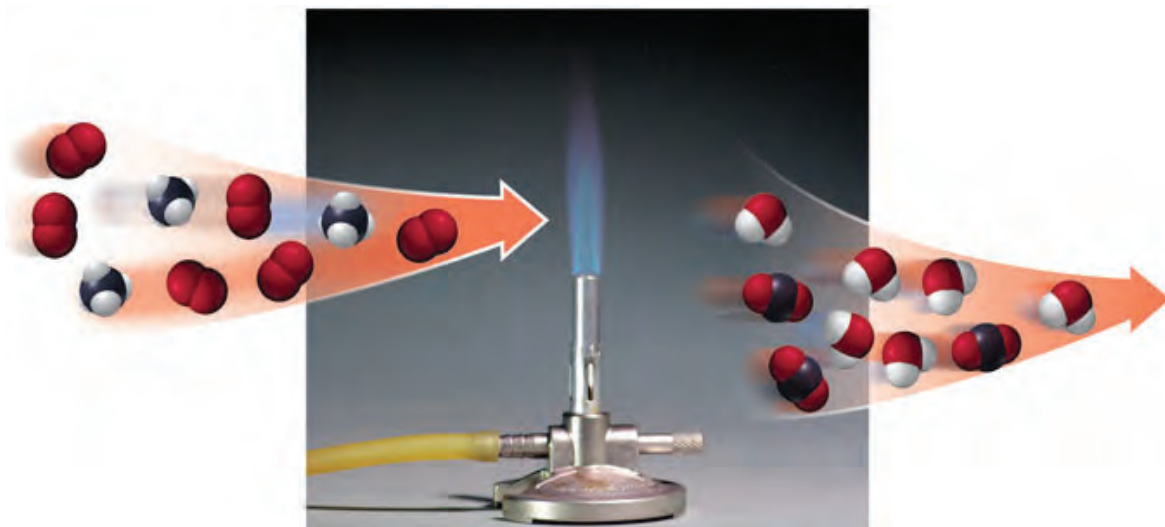


۴- درباره عبارت زیر در کلاس گفت و گو کنید.

«جرم کل مواد موجود در مخلوط واکنش ثابت است.»

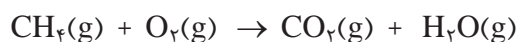
موازنه کردن معادله واکنش های شیمیایی

در واکنش های شیمیایی، اتمی از بین نمی رود و به وجود هم نمی آید، بلکه پس از انجام واکنش، اتم های واکنش دهنده ها به شیوه های دیگری به هم متصل می شوند و فراورده ها را به وجود می آورند. این ویژگی نشان می دهد که جرم مواد، پیش از واکنش برابر با جرم مواد، پس از واکنش است؛ به دیگر سخن، جرم مواد شرکت کننده در یک واکنش شیمیایی، ثابت است. مطابق قانون پایستگی جرم، شمار اتم های هر عنصر در یک واکنش شیمیایی ثابت است، (شکل ۱۲).



شکل ۱۲- سوختن متان. برابری شمار هر یک از اتم های کربن، هیدروژن و اکسیژن در واکنش دهنده ها با فراورده ها

برای این واکنش می توان معادله شیمیایی به صورت زیر نوشت:



در این معادله، تعداد اتم های کربن در واکنش دهنده ها (متان) برابر با ۱ و در فراورده ها (کربن دی اکسید) نیز با ۱ برابر است؛ اما تعداد اتم های هیدروژن و اکسیژن در دو سوی معادله، برابر نیست. حال برای اینکه تعداد اتم های این دو عنصر نیز در دو سوی معادله، برابر شود، باید به O_2 و H_2O ضریب ۲ داده شود؛ در این صورت، معادله موازنه شده به دست می آید.



● در معادله های شیمیایی موازنه شده، نیازی به نوشتن ضریب ۱ نیست.

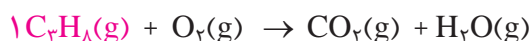
با توجه به معادله موازنه شده می‌توان نتیجه گرفت که برای موازنه کردن هر معادله شیمیایی، باید به هر یک از واکنش دهنده‌ها و فراورده‌ها ضریبی نسبت داد تا تعداد اتم‌های هر عنصر در دو سوی معادله برابر شود.

براساس یکی از ساده‌ترین روش‌های موازنه (روش وارسی) اغلب به ترکیبی ضریب ۱ می‌دهند که دارای بیشترین تعداد اتم است؛ سپس با توجه به تعداد اتم‌های این ترکیب، ضرایبی را به دیگر مواد می‌دهند تا تعداد اتم‌های هر عنصر در دو سوی معادله برابر شود.

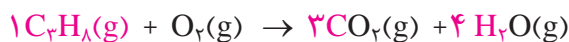
برای نمونه، معادله نمادی سوختن کامل پروپان به صورت زیر است:



برای موازنه، به C_3H_8 ضریب ۱ بدهید.



اینک تعداد اتم‌های کربن و هیدروژن در سمت چپ مشخص شده است. حال اگر به H_2O ضریب ۴ و به CO_2 ضریب ۳ بدهید، تعداد اتم‌های C و H در دو طرف برابر می‌شود.



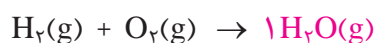
در پایان، چون تعداد اتم‌های اکسیژن در سمت راست، تعیین شده و برابر با ۱۰ اتم است، اگر به اکسیژن در سمت چپ، ضریب ۵ بدهید، تعداد اتم‌های همهٔ عناصر در دو سوی معادله برابر می‌شوند.



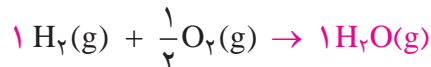
همان‌طور که مشاهده کردید، هنگام موازنه کردن معادله شیمیایی، نباید زیروندها را در فرمول شیمیایی واکنش دهنده‌ها و فراورده‌ها تغییر داد. همچنین توجه به این نکته ضروری است که هر یک از ضریب‌ها در معادله موازنه شده، باید کوچک‌ترین عدد طبیعی ممکن باشد. برای نمونه به روش موازنه معادله سوختن گاز هیدروژن دقت کنید.



در اینجا برای موازنه به H_2O ، ضریب ۱ می‌دهیم.



حال تعداد اتم‌های H و O در سمت راست معادله مشخص شده است. اگر به H_2 ضریب ۱ و به O_2 ضریب $\frac{1}{2}$ بدهیم، تعداد اتم‌های هر دو عنصر در دو سوی معادله برابر می‌شود.



در پایان برای از بین بردن ضریب کسری اکسیژن، همهٔ ضریب‌ها را در عدد ۲ ضرب می‌کنیم؛ در نتیجه:

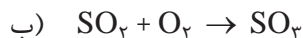


● معادله شیمیایی موازنه شده، به دو صورت خوانده می‌شود؛ برای نمونه:

- ۱- دو مول گاز هیدروژن با یک مول گاز اکسیژن واکنش می‌دهد و دو مول بخار آب تولید می‌کند.
- ۲- دو مولکول هیدروژن با یک مولکول اکسیژن واکنش می‌دهد و دو مولکول آب تولید می‌کند.

خود را بیازمایید

معادله واکنش‌های زیر را موازنه کنید:



ترکیب اکسیژن با فلزها و نافلزها

اغلب فلزها در طبیعت، به شکل ترکیب یافت می‌شوند که بخش قابل توجهی از آنها به شکل **اکسید** است؛ برای مثال، فلز آلومینیم به صورت ترکیب بوکسیت (Al_2O_3 به همراه ناخالصی) و فلز آهن به صورت هماتیت (Fe_2O_3 به همراه ناخالصی) در طبیعت وجود دارد (شکل ۱۳).



(آ)



(ب)

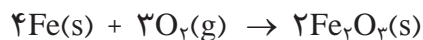
شکل ۱۳- آ) سنگ معدن آلومینیم، ب) سنگ معدن آهن

فلزها کاربردهای بسیار گسترده‌ای در زندگی روزانه دارند که با برخی از آنها در درس علوم هفتم آشنا شدید. برای استفاده از فلزها، نخست آنها را با صرف انرژی زیاد و طی فرایند طولانی از سنگ معدن استخراج می‌کنند؛ سپس آنها را برای تولید مواد، ابزار، وسایل و دستگاه‌های گوناگون به کار می‌برند. نکته مهم این است که وقتی این وسایل و دستگاه‌های فلزی در معرض هوا قرار می‌گیرند، دچار تغییر شیمیایی شده و دوباره با اکسیژن هوا ترکیب می‌شوند. برای مثال زنگ‌زدن آهن، واکنش شیمیایی معروفی است که بارها آن را در بخش‌های گوناگون زندگی مشاهده کرده‌اید. زنگ‌زدن آهن، یک واکنش اکسایش است که در آن، آهن با اکسیژن در هوای مرطوب واکنش داده و **زنگ آهن** قهوه‌ای‌رنگ تشکیل می‌دهد (شکل ۱۴). این زنگار، متخلخل است و سبب می‌شود تا بخار آب و اکسیژن به لایه‌های زیرین نفوذ کند و باقیمانده فلز را مورد حمله



● زنگ‌زدن وسایل آهنی و فولادی، سالانه هزینه‌های هنگفتی را به اقتصاد کشورها تحمیل می‌کند.

قرار دهد. بدین ترتیب، اکسایش آهن تا آنجا پیش می‌رود که همه فلز به زنگار تبدیل می‌شود؛ ماده‌ای که استحکام لازم را ندارد و در اثر ضربه، خرد می‌شود و فرو می‌ریزد.




● به واکنش آرام مواد با اکسیژن که با تولید انرژی همراه است، واکنش اکسایش می‌گویند.



شکل ۱۴- به ترد شدن، خرد شدن و فروریختن فلزها بر اثر اکسایش، خوردگی گفته می‌شود.


رفتار همه فلزها در برابر اکسیژن یکسان نیست؛ برای مثال، با اینکه فلز آلومینیم نیز با اکسیژن هوا واکنش می‌دهد و به آلومینیم اکسید تبدیل می‌شود، اما در برابر خوردگی مقاوم است، به گونه‌ای که برخلاف آهن، لایه‌های درونی فلز اکسایش نمی‌یابد؛ به همین دلیل، گاهی در ساختمان‌سازی از در و پنجره‌های آلومینیمی به جای آهنی استفاده می‌شود.



● وجود یون‌های Fe^{2+} در آب و تبدیل آن به یون‌های Fe^{3+} ، سبب می‌شود هنگام چکه کردن شیرهای منزل پس از مدتی رسوب قهوه‌ای که همان زنگ آهن است به وجود آید. برای خلاصی از این پدیده که چهره زشتی ایجاد می‌کند، می‌توان پنبه آغشته به آلبیمویا سرکه را چند بار روی آن کشید.

خود را بیازمایید

۱- شکل زیر، از راست به چپ واکنش سه فلز آلومینیم، روی و آهن را در شرایط یکسان با محلولی از یک اسید نشان می‌دهد.



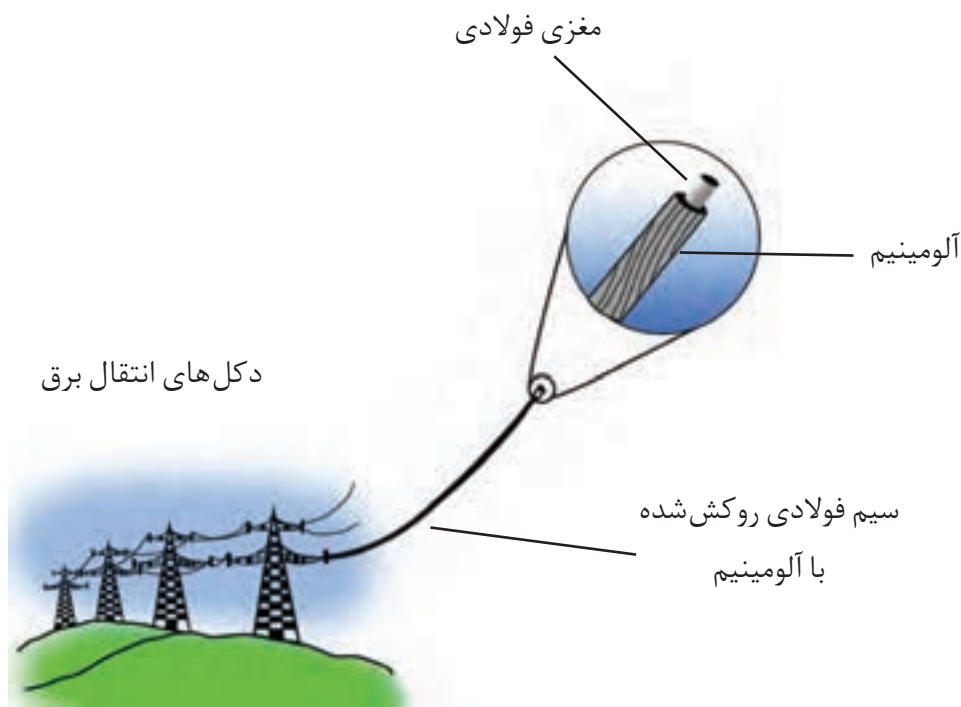
آ) کدام فلز واکنش‌پذیرتر است؟ چرا؟

ب) پیش‌بینی کنید در شرایط یکسان، تیغه آلومینیومی زودتر اکسایش می‌یابد یا تیغه آهنی؟ چرا؟

۲- آلومینیوم اکسید، جامدی با ساختاری متراکم و پایدار است که محکم به سطح فلز می‌چسبد. بر این اساس توضیح دهید چرا وسایل آلومینیومی در برابر خوردگی مقاوم‌اند؟

۳- سیم‌های انتقال برق با ولتاژ بالا (فشار قوی) افزون بر داشتن رسانایی الکتریکی زیاد، باید ضخیم و مقاوم باشند. در برخی از کشورها این سیم‌ها را از فولاد و آلومینیوم درست می‌کنند، به طوری که رشته درونی آنها از فولاد و روکش آنها از آلومینیوم است.

● در درس علوم آموختید که هر چه ضخامت سیم کمتر باشد، مقاومت آن در برابر جریان الکتریکی بیشتر است.



آ) چرا روکش این سیم‌ها را از آلومینیوم می‌سازند؟

ب) با توجه به فاصله زیاد میان دکل‌های برق، چرا همه سیم‌ها را از فولاد نمی‌سازند؟ (راهنمایی: چگالی آهن و آلومینیوم به ترتیب برابر با $7/8$ و $2/7$ گرم بر سانتی‌متر مکعب است.)

برخی از فلزها مانند آهن، در واکنش با اکسیژن، دو نوع اکسید تولید می‌کنند. در واقع آهن با اکسیژن ترکیب و نخست به FeO تبدیل می‌شود؛ سپس این ترکیب با اکسیژن محیط به Fe_2O_3 اکسایش می‌یابد. این ترکیب‌ها را چگونه باید نام‌گذاری کرد؟

در جدول زیر، نام و فرمول شیمیایی برخی اکسیدهای فلزی داده شده است.



آهن (III) کلرید

فرمول	نام	فرمول	نام
Na ₂ O	سدیم اکسید	Fe ₂ O ₃	آهن (III) اکسید
MgO	منیزیم اکسید	Cu ₂ O	مس (I) اکسید
FeO	آهن (II) اکسید	CuO	مس (II) اکسید

۱- با بررسی داده‌های جدول:

(آ) کدام فلزها، بیش از یک نوع اکسید تشکیل داده‌اند؟

(ب) نماد کاتیون را در اکسیدهای آهن و مس مشخص کنید.

(پ) چه رابطه‌ای بین نام ترکیب، با بار الکتریکی این کاتیون‌ها وجود دارد؟

(ت) شیوه نام‌گذاری ترکیب‌های یونی را، که در آنها کاتیون، بارهای الکتریکی متفاوتی دارد

توضیح دهید.

۲- جدول زیر را کامل کنید.



CuCl₂

نام ترکیب	آلومینیم فلوئورید	پتاسیم سولفید	آهن (III) یدید	فرمول شیمیایی
				Cu ₂ S
				MgBr ₂
				CaO



CuCl

۳- هرگاه بدانیم که اتم عنصر کروم در ترکیب‌های خود اغلب به صورت کاتیون Cr²⁺ یا Cr³⁺

یافت می‌شود، فرمول و نام شیمیایی اکسیدها و کلریدهای آن را بنویسید.

واکنش عنصرها با اکسیژن، تنها به فلزها محدود نمی‌شود بلکه، نافلزها نیز با آن واکنش

می‌دهد و به اکسید نافلزها تبدیل می‌شود. در واقع اکسیدهای نافلزی، دسته دیگری از

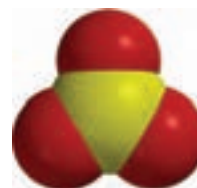
ترکیب‌های شیمیایی هستند که از واکنش نافلزها با اکسیژن تولید می‌شوند. ترکیب‌هایی

تعداد	پیشوند
۱	مونو
۲	دی
۳	تری
۴	تترا
۵	پنتا
۶	هگزا

مانند CO_2 ، SO_2 ، SO_3 و NO_2 ، نمونه‌هایی از اکسیدهای نافلزی هستند. با توجه به اینکه هر زیروند در فرمول شیمیایی، نمایانگر شمار اتم‌های آن عنصر در ترکیب است، شیمی‌دان‌ها برای بیان تعداد هر یک از اتم‌ها، پیشوندهای معرفی شده در جدول را به کار می‌برند. برای نمونه، به فرمول و نام شیمیایی ترکیب زیر توجه کنید:



نام این ترکیب، الگویی برای نام‌گذاری این نوع ترکیب‌ها است. بدین ترتیب که نخست، تعداد و نام عنصری گفته می‌شود که در سمت چپ فرمول شیمیایی نوشته شده است. سپس تعداد و نام عنصر دوم با پسوند «ید» بیان می‌شود.



SO_3



CO_2



CO

خود را بیازمایید

۱- نام ترکیب‌های داده شده را بنویسید.

NO_2 (آ)	N_2O_3 (ب)
CO (پ)	CS_2 (ت)
SO_2 (ث)	SO_3 (ج)
PCl_3 (چ)	CCl_4 (ح)
$SiBr_4$ (خ)	NF_3 (د)

با هم بیندیشیم

در آرایش الکترون - نقطه‌ای (ساختار لوویس)، الکترون‌های لایه ظرفیت اتم‌ها طوری کنار آنها چیده می‌شوند که همه اتم‌های ترکیب از قاعده هشت‌تایی پیروی کنند. اینک با توجه به آرایش الکترون - نقطه‌ای کربن دی‌اکسید و بررسی موارد زیر، روشی برای رسم ساختار لوویس مولکول‌ها بیابید.



۱- شمار کل الکترون‌های لایه ظرفیت اتم‌های سازنده را حساب کنید. برای این کار، تعداد الکترون‌های لایه ظرفیت اتم‌های سازنده را با هم جمع کنید.

● مدل فضا پرکن چند مولکول

● اگر در فرمول مولکولی یک ترکیب، تنها یک اتم از عنصر سمت چپ وجود داشته باشد، از به کار بردن پیشوند مونو پیش از نام این عنصر چشم‌پوشی می‌شود.

۲- ساختارهای ممکن که در آنها، اتم‌های کربن و اکسیژن با یک، دو یا سه پیوند به هم متصل شده‌اند به صورت زیر است:



۳- الکترون‌های ناپیوندی روی اتم‌ها را با جفت نقطه نشان دهید، به طوری که پیرامون هر اتم در مجموع، هشت الکترون (پیوندی + ناپیوندی) وجود داشته باشد.

۴- از میان آرایش‌هایی که رسم کرده‌اید، آنکه ویژگی‌های زیر را دارد، آرایش لوویس درست‌تر کیب را نشان می‌دهد:

● مجموع الکترون‌های پیوندی و ناپیوندی در مولکول، برابر با مجموع الکترون‌های لایه ظرفیت اتم‌های سازنده آن باشد.

● همه اتم‌ها به آرایش هشت‌تایی رسیده باشند (اتم‌های هیدروژن همواره یک پیوند تشکیل می‌دهند، از این رو تنها با دو الکترون پایدار می‌شوند).

راهنمایی: در رسم ساختار لوویس، نمایش پیوند دوگانه بر پیوند سه‌گانه مقدم است. اکنون با روشی که آموخته‌اید، ساختار لوویس هر یک از مولکول‌های زیر را رسم کنید.



خواص اکسیدهای فلزی و نافلزی

اکسیدهای فلزی و نافلزی، کاربردهای فراوانی در زندگی دارند. برای نمونه، برخی کشاورزان کلسیم‌اکسید (آهک) را به عنوان اکسیدفلزی برای افزایش بهره‌وری در کشاورزی به خاک می‌افزایند؛ زیرا افزودن این نوع مواد به خاک سبب می‌شود تا مقدار و نوع مواد معدنی در دسترس گیاه تغییر کند. از کلسیم‌اکسید همچنین برای کنترل میزان اسیدی بودن آب دریاچه‌ها استفاده می‌شود (شکل ۱۵).

● در فرمول مولکولی، اتمی که سمت چپ نوشته می‌شود (به جز اتم هیدروژن)، اتم مرکزی است و اتم‌های دیگر با یک، دو یا سه پیوند اشتراکی به آن متصل می‌شود.


● هرگاه اتم هالوژن، اتم کناری باشد، تنها یک پیوند اشتراکی تشکیل می‌دهد.

● بررسی ساختار لوویس گونه‌هایی که از قاعده هشت‌تایی پیروی نمی‌کنند و گونه‌هایی که بیش از یک اتم مرکزی دارند، جزء هدف‌های این کتاب نبوده است. بنابراین طرح پرسش از این موارد، در ارزشیابی پایانی مجاز نیست.



شکل ۱۵- افزودن آهک به زمین‌های کشاورزی و دریاچه‌های اسیدی

در درس علوم نهم آموختید که مرجان‌ها، گروهی از کیسه‌تنان با اسکلت آهکی هستند. پژوهش‌ها نشان می‌دهند که این جانداران با افزایش مقدار کربن دی‌اکسید در آب از بین می‌روند (شکل ۱۶).




شکل ۱۶- با افزایش مقدار کربن دی‌اکسید در هواکره، بخش زیادی از آن در آب دریاها و اقیانوس‌ها حل می‌شود. به این ترتیب خاصیت اسیدی آب افزایش می‌یابد و زندگی آبزیان به خطر می‌افتد.

● اثر هیدروکلریک اسید بر روی برگ گیاه

کاوش کنید

- ۱- درون یک بشر تا نیمه آب بریزید؛ سپس مقداری آهک به آن بیفزایید و مخلوط را خوب هم بزنید.
- ۲- یک تکه کاغذ pH بردارید و آن را به محلول آب آهک آغشته کنید. چه مشاهده می‌کنید؟
- ۳- یک بطری آب گازدار بردارید و یک تکه کاغذ pH را به آن آغشته کنید. چه مشاهده می‌کنید؟
- ۴- از این آزمایش‌ها چه نتیجه‌ای می‌گیرید؟ توضیح دهید.
- ۵- پیش بینی کنید با حل شدن هر یک از مواد زیر در آب، محلول به دست آمده چه خاصیتی

دارد؟ هر ماده را درون دایره و در جای مناسب بنویسید.



- آ) MgO
- ب) SO₂
- پ) CO₂
- ت) Na₂O

۶- از گچ و سیمان به مقدار زیادی در ساختمان سازی استفاده می‌شود. شاید شما هم دقت کرده باشید هنگام ساختمان سازی در محل تهیه بتن یا در جایی که مقداری سیمان یا گچ برجای می‌ماند تا مدت‌ها گیاهی رشد نمی‌کند. آیا می‌توان این موضوع را به خاصیت اسیدی یا بازی گچ و سیمان مرتبط دانست؟ درستی پاسخ خود را با استفاده از کاغذ pH بررسی کنید.

به طور کلی، اکسیدهای فلزی را **اکسیدهای بازی** و اکسیدهای نافلزی را **اکسیدهای اسیدی** می‌نامند؛ زیرا از واکنش آنها با آب به ترتیب باز و اسید تولید می‌شود.

پیوند با زندگی

حیات و ادامه آن روی زمین، به بارش‌های آسمانی وابسته است. باران از جمله این نعمت‌ها است؛ نعمتی که هنگام بارش، افزون بر ایجاد پاکی و نشاط به طبیعت جان دوباره می‌بخشد. به دلیل آلودگی‌های ناشی از صنایع و فناوری‌های ساخته بشر، گاهی همین باران مشکل‌ساز می‌شود. باران به دلیل وجود کربن دی‌اکسید (CO₂) محلول در آن، اندکی اسیدی و دارای pH کمتر از ۷ است.

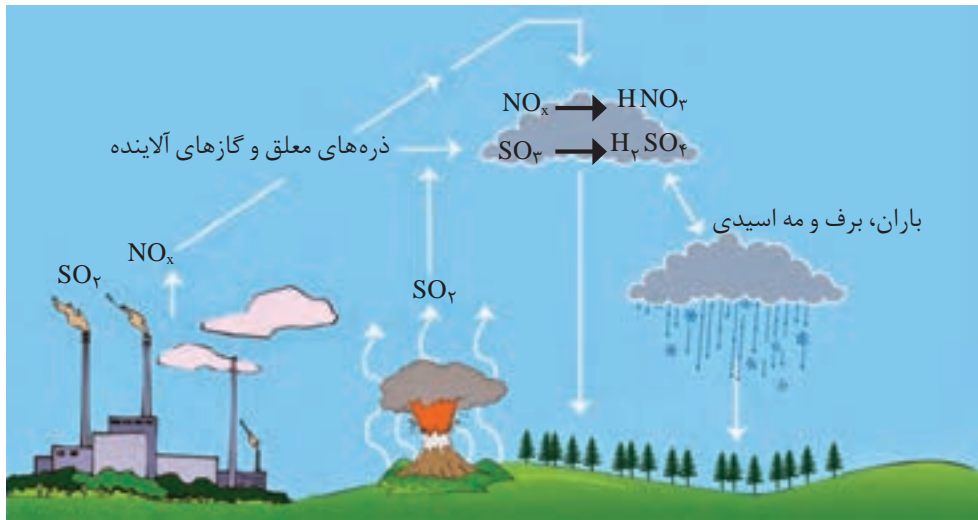
در شیمی هواکره، اصطلاح رایجی با عنوان «آنچه بالا می‌رود، باید پایین بیاید» وجود دارد. این اصطلاح بیان می‌کند آلاینده‌هایی که از سوختن سوخت‌های فسیلی وارد هواکره می‌شوند و بالا می‌روند، سرانجام باید به زمین برگردند. این آلاینده‌ها به‌طور عمده شامل اکسیدهای اسیدی NO₂ و SO₂ هستند که هنگام بارش در آب حل می‌شوند. بارشی که خاصیت اسیدی چشمگیری دارد و به زمین فرو می‌ریزد؛ در این حالت می‌گوییم باران اسیدی باریده است (شکل ۱۷).



● گستره pH محلول‌های آبی در دامای اتاق

آیا می دانید

بویه‌ها تجهیزات شناوری هستند که به منظور تشخیص مسیرهای ایمن دریایی، تعیین دمای آب، سرعت و جهت وزش باد و ... در مسیرهای آبی قرار داده می‌شوند. آنها داده‌های ثبت شده را از طریق ارتباطات ماهواره‌ای به مراکز هواشناسی ارسال می‌کنند.



شکل ۱۷- روند تولید باران اسیدی

باران اسیدی آثار جبران ناپذیری بر جنگل‌ها، باغ‌های میوه و زندگی آبزیان دارد؛ زیرا تغییر میزان خاصیت اسیدی آب به بافت‌های جانداران آسیب می‌زند. آثار زیانبار باران اسیدی بر روی پوست، دستگاه تنفس و چشم‌ها به سرعت قابل تشخیص است. گاهی خاصیت اسیدی باران باعث خشکی و ترک خوردگی پوست بدن می‌شود (شکل ۱۸).



شکل ۱۸- برخی از آثار باران اسیدی. تغییر pH آب در زندگی جانداران آثار جبران ناپذیری بر جای می‌گذارد.

چه بر سر هوا کره می‌آوریم؟

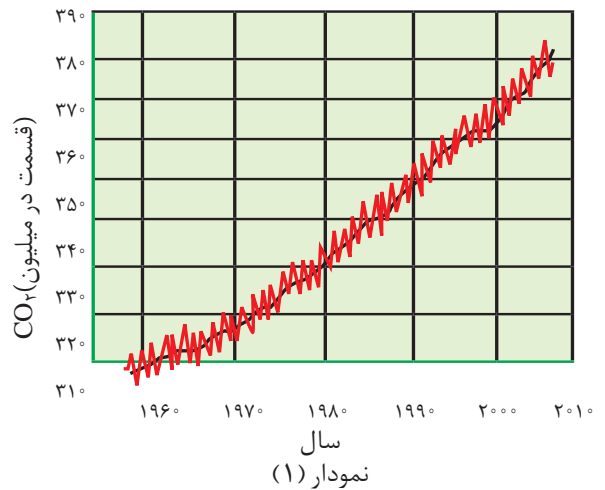
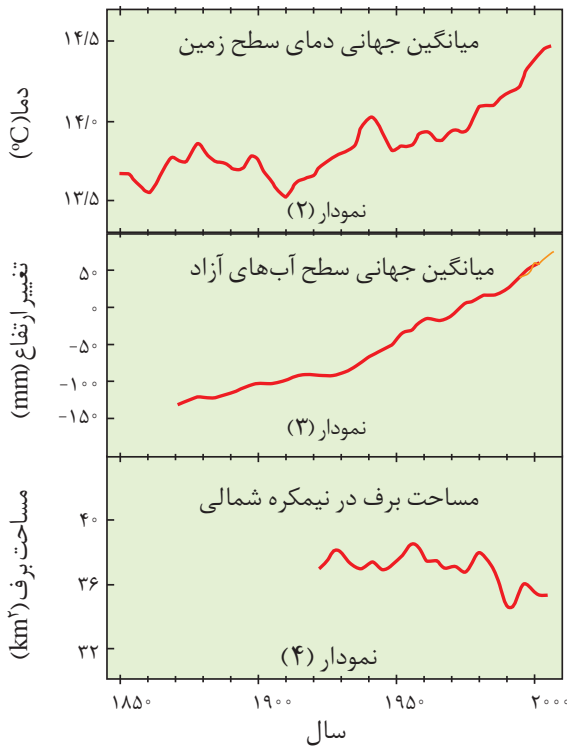
دانشمندان با استفاده از بالون‌های هواشناسی، ماهواره‌ها، کشتی‌های اقیانوس‌پیما و گویچه‌های شناور در دریاها که به حسگرهای دما مجهز هستند، پیوسته دمای کره زمین را در سرتاسر نقاط آن رصد می‌کنند. شواهد نشان می‌دهند که در طول سده گذشته میانگین دمای کره زمین افزایش یافته است. این افزایش سبب شده تا شرایط آب و هوایی در نقاط گوناگون زمین تغییر کند. اکنون این پرسش پیش می‌آید که چه عواملی سبب ایجاد این تغییر می‌شود؟

آیا گازهای موجود در هواکره می‌توانند در آن نقش داشته باشند؟ آیا رفتار و سبک زندگی انسان‌ها سبب این تغییرها شده است یا پدیده‌های طبیعی عامل آن هستند؟

با هم بیندیشیم

● دانشمندان پیش‌بینی می‌کنند دمای کره زمین تا سال ۲۱۰۰ بین ۱/۸ تا ۴ درجه سلسیوس افزایش خواهد یافت.

آمارها نشان می‌دهند که سالانه میلیاردها تن کربن دی‌اکسید به هواکره وارد می‌شود به طوری که مقدار این گاز در سده اخیر در هواکره به میزان قابل توجهی افزایش یافته است. نمودارهای زیر تغییر مقدار میانگین کربن دی‌اکسید در هواکره، میزان بالا آمدن سطح آب دریاها، تغییر میانگین دمای کره زمین و میانگین مساحت برف در نیمکره شمالی را نشان می‌دهند.



آ) با بررسی نمودارها توضیح دهید بین نمودار (۱) با نمودارهای (۲)، (۳) و (۴) چه ارتباطی وجود دارد؟

ب) شواهد نشان می‌دهند که فصل بهار در نیمکره شمالی زمین، نسبت به ۵۰ سال گذشته در حدود یک هفته زودتر آغاز می‌شود. علت را توضیح دهید.

● شما نیز درباره آثار گرم شدن کره زمین در شهر یا منطقه محل سکونت خود با بزرگ‌ترها گفت‌وگو و اطلاعاتی در این باره جمع‌آوری و به کلاس گزارش کنید.

CO

CO₂

SO₂


CO

NO

CO₂

NO₂

C_xH_y



● در اثر سوزاندن سوخت‌های فسیلی انواع آلاینده‌ها وارد هواکره می‌شود.

● کربن دی‌اکسیدی که وارد هواکره شده، در آن جابه‌جا می‌شود و می‌تواند هوای شهرهای دیگر را آلوده کند. بنابراین هر رفتار ما بر زندگی همه مردمان جهان اثر خواهد گذاشت.

در درس علوم نهم آموختید که کربن دی‌اکسید مهم‌ترین گاز گلخانه‌ای است که نقش بسیار تعیین‌کننده‌ای در آب و هوای کره زمین دارد. اینک دانستن اینکه ما چه سهمی در میزان تولید این گاز در هواکره داریم، ضروری به نظر می‌رسد.

در سده گذشته با تحول صنعتی، ماشین‌آلات سنگین طراحی و ساخته شد. صنایع بزرگ پدید آمدند و فراورده‌های کشاورزی، دارویی، غذایی، نساجی، پتروشیمیایی و ... به صورت انبوه و در مقیاس صنعتی تولید شدند. با این تحولات، نیاز به انرژی الکتریکی برای چرخاندن چرخ‌های اقتصادی، انرژی مورد نیاز حرکت وسایل حمل و نقل و ... به میزان چشمگیری افزایش یافت. همه این فعالیت‌ها سبب شد تا میزان مصرف بی‌حساب سوخت‌های فسیلی افزایش یابد و حجم انبوهی از کربن دی‌اکسید وارد هواکره شود (شکل ۱۹).



(آ)



(ب)

شکل ۱۹- (آ) آتش‌سوزی در سکوهای نفتی و (ب) سوزاندن سوخت فسیلی در هواپیماها، حجم انبوهی کربن دی‌اکسید تولید می‌کنند.

سبک زندگی انسان، نوع وسایلی که در زندگی استفاده می‌کند و رفتارهایی که در شرایط مختلف محیطی انجام می‌دهد، روی هواکره تأثیر می‌گذارد؛ برای مثال، نوع وسیله نقلیه‌ای که برای رفتن به مدرسه، محل کار، سفر و ... استفاده می‌کنیم، غذایی که می‌خوریم، وسایل گرمایشی و حتی مدت زمانی که موهای خود را با ششوار خشک می‌کنیم به دلیل مصرف انرژی الکتریکی، مقداری کربن دی‌اکسید وارد هواکره می‌کند و درصد گازهای هواکره را تغییر می‌دهد. در واقع سبک زندگی می‌تواند بیانگر میزان اثرگذاری هر یک از انسان‌ها روی کره زمین و هواکره باشد. **ردپا اصطلاحی** است که به این اثر نسبت داده‌اند. یکی از این ردپاها، ردپای کربن دی‌اکسید است. برای اینکه مقدار کربن دی‌اکسید در هواکره از مقدار طبیعی آن فراتر نرود، باید مقدار اضافی کربن دی‌اکسید به وسیله گیاهان یا دیگر پدیده‌های طبیعی مصرف شود. حال هر چه مقدار کربن دی‌اکسید وارد شده به طبیعت زیادت‌تر باشد، ردپای ایجاد شده سنگین‌تر و اثر آن ماندگارتر خواهد بود؛ زیرا زمان لازم برای تعدیل این اثر به وسیله پدیده‌های طبیعی طولانی‌تر است.



● هوای آلوده بوی بدی دارد و چهره شهر را زشت می‌کند. این هوا باعث سوزش چشم، سردرد، تهوع و به وجود آمدن انواع بیماری‌های تنفسی مانند سرطان ریه می‌شود. وظیفه ما در برابر کاهش و از بین بردن این آلودگی‌ها چیست؟



● ردپای کربن دی اکسید نشان می دهد در تولید یک محصول یا بر اثر انجام یک فعالیت چه مقدار از این گاز تولید و وارد هوا کره می شود.

● شکستن شاخه درختان مانند شکستن بال فرشتگان است. پیامبر گرامی اسلام (ص)



● یک درخت تنومند سالانه در حدود ۵۰ کیلوگرم کربن دی اکسید مصرف می کند.

● حفظ و توسعه مزارع، باغها و پوشش های گیاهی به کاهش ردپای کربن دی اکسید کمک می کند و بدیهی است که تخریب باغ و خشکاندن درختان آثار جبران ناپذیری به دنبال دارد.

در جدول زیر روش به دست آوردن مقدار کربن دی اکسید وارد شده به هوا کره بر حسب برق مصرفی نشان داده شده است. در این جدول فرض شده است که برق خانگی شما را می توان به روش های گوناگون تهیه کرد. (y میزان برق مصرفی خانه شما را نشان می دهد که از روی قبض برق می توانید آن را مشخص کنید).

ستون ۱	ستون ۲	ستون ۳	ستون ۴	ستون ۵	ستون ۶
برق مصرفی در یک ماه (کیلو وات ساعت)	منبع تولید برق	مقدار کربن دی اکسید تولید شده در یک ماه (کیلوگرم)	مقدار کربن دی اکسید تولید شده در یکسال (کیلوگرم)	مقدار کربن دی اکسید مصرفی یک درخت تنومند با میانگین قطر ۲۹ تا ۳۴ سانتی متر	تعداد درخت لازم برای پاک سازی هوا کره
y	زغال سنگ	$0.9 \times y = \dots\dots\dots$	$\dots\dots\dots$		
	نفت خام	$0.7 \times y = \dots\dots\dots$	$\dots\dots\dots$		
	گاز طبیعی	$0.36 \times y = \dots\dots\dots$	$\dots\dots\dots$		
	باد	$0.1 \times y = \dots\dots\dots$	$\dots\dots\dots$		
	گرمای زمین	$0.3 \times y = \dots\dots\dots$	$\dots\dots\dots$		
	انرژی خورشید	$0.5 \times y = \dots\dots\dots$	$\dots\dots\dots$		

آ) ستون های یک، سه و چهار جدول را کامل کنید.

ب) استفاده از کدام منبع برای تولید برق، کربن دی اکسید بیشتری تولید خواهد کرد؟
پ) چرا میزان کربن دی اکسید ایجاد شده از منابع گوناگون انرژی با هم تفاوت دارد؟ توضیح دهید.

ت) طبیعت به کمک گیاهان، کربن دی اکسید را مصرف می کند؛ بنابراین یکی از راهکارهای کاهش ردپای کربن دی اکسید، کاشت و مراقبت از درختان و ایجاد کمربندهای سبز در شهرها، شهرک های صنعتی و روستاها است. اکنون با توجه به داده های جدول زیر حساب کنید که چند درخت تنومند نیاز است تا کربن دی اکسید وارد شده به هوا کره در اثر برق مصرفی خانه شما، مصرف و هوا پاک سازی شود.

میانگین قطر درخت (سانتی متر)	≤ 3	۴-۷	۸-۱۳	۱۴-۲۱	۲۲-۲۸	۲۹-۳۴	≥ 35
مقدار کربن دی اکسید مصرفی (کیلوگرم در سال)	۱/۰	۴/۴	۹/۴	۱۹/۱	۳۴/۶	۵۵/۳	۹۲/۷

● پیش‌بینی کنید برای از بین بردن ردپای کربن‌دی‌اکسید ناشی از سوخت خودروی خانواده شما چند درخت با قطر ۲۸-۲۲ سانتی‌متر لازم است؟ مقدار کربن‌دی‌اکسید تولید شده به ازای هریک کیلومتر مسافت طی شده با خودرورا برابر با 25° گرم در نظر بگیرید. (البته یادتان باشد اگر امروز یک نهال بکارید، حداقل 20° سال طول می‌کشد تا به یک درخت تنومند تبدیل شود.)

● کاوش کنید «آیا تعداد درختان محله، روستا یا شهر شما برای پاکسازی هواکره از وجود کربن‌دی‌اکسید وارد شده به آن از طریق برق مصرفی سالانه اداره‌ها، خانه‌های مسکونی و... کافی هستند؟»

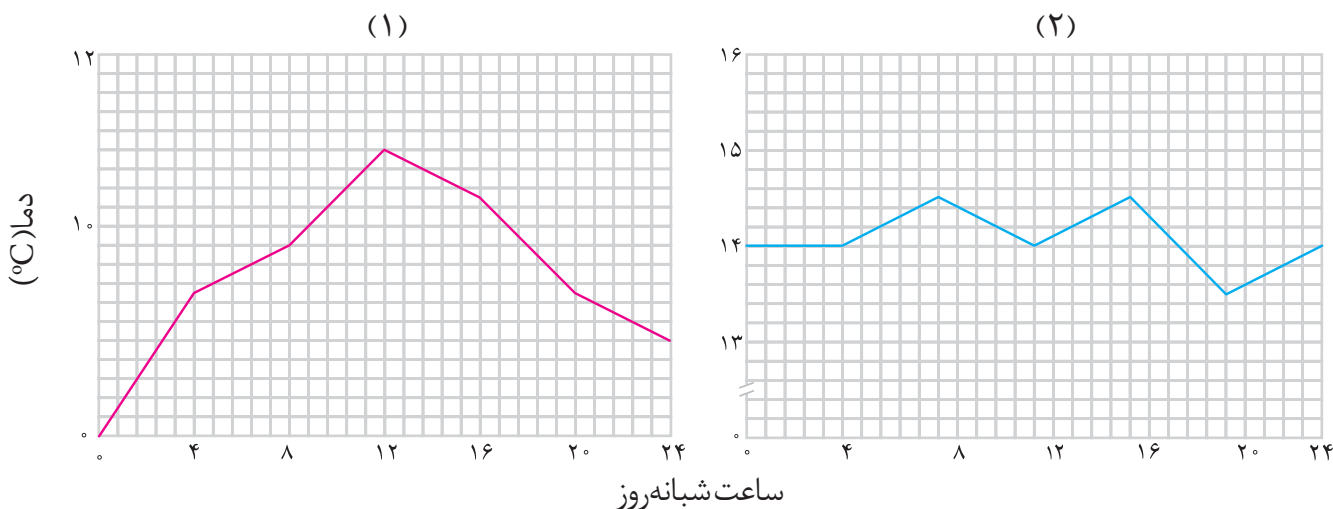
● با مراجعه به اینترنت و منابع علمی معتبر درباره مزایا و معایب تولید برق با استفاده از منابع گوناگون، اطلاعات جمع‌آوری کنید و نتیجه را به کلاس گزارش دهید. در گزارش خود راهکاری (هایی) برای کاهش تولید کربن‌دی‌اکسید ارائه کنید.



اثر گلخانه‌ای

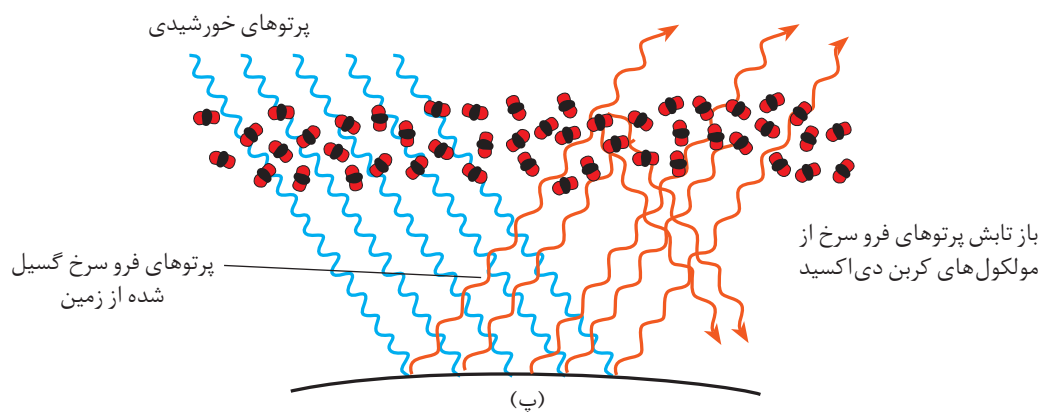
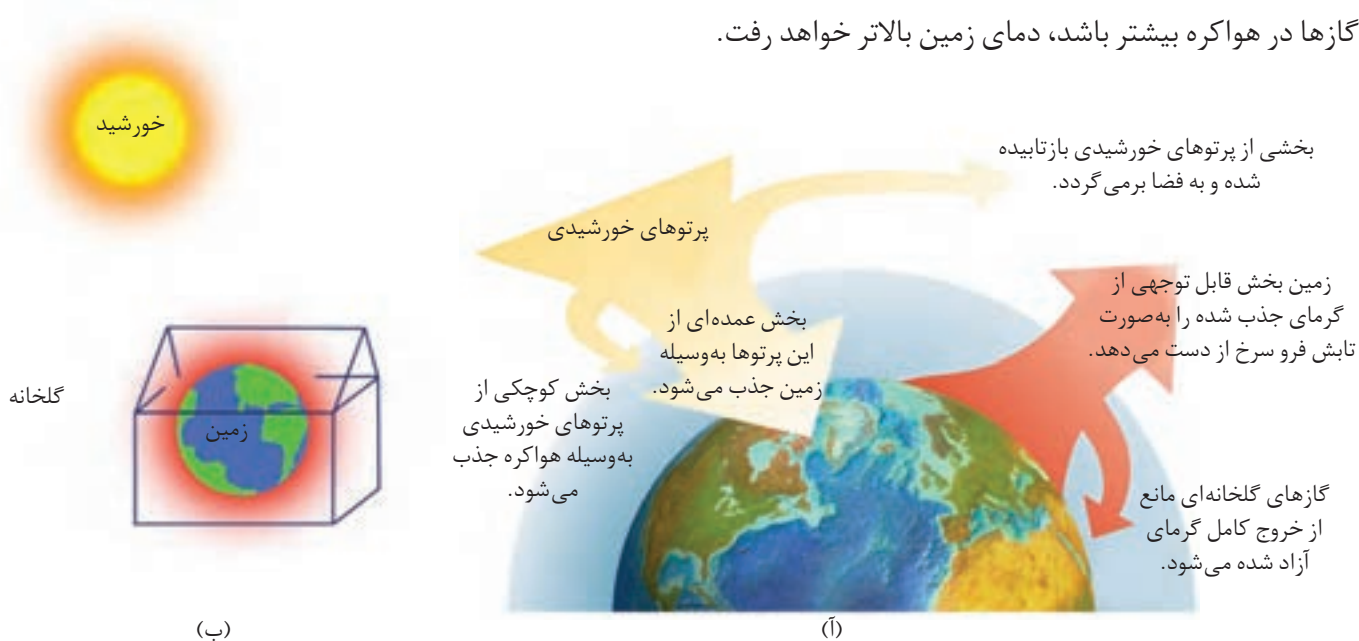
آیا می‌دانید گلخانه و کشت گلخانه‌ای چیست؟ گلخانه برای چه منظوری و چگونه ساخته می‌شود؟ گلخانه‌ها، زمین‌های کشاورزی ویژه‌ای هستند که دور تا دور آنها را تا ارتفاع معینی با لایه‌ای از پلاستیک‌های شفاف می‌پوشانند و در آنها گیاهان و میوه‌های گوناگونی پرورش می‌دهند. در گلخانه‌ها در تمام فصول سال به‌ویژه در زمستان، فراورده‌های کشاورزی مانند قارچ، خیار، گوجه فرنگی، توت‌فرنگی و... کشت می‌شود (نمودار ۱).

● گلخانه، گیاه یا میوه را از آسیب‌های ناشی از تغییر دما و آفت‌ها حفظ می‌کند. آیا می‌دانید نقش لایه پلاستیکی در گرم نگه داشتن گلخانه چیست؟



نمودار ۱- تغییر دمای یک گلخانه را در یک روز زمستانی نشان می‌دهد. کدام منحنی مربوط به درون و کدام یک به بیرون گلخانه مربوط است؟ چرا؟

نور خورشید هنگام گذر از هواکره با مولکول‌ها و دیگر ذره‌های آن برخورد می‌کند و تنها بخشی از آن به سطح زمین می‌رسد. از این رو، زمین گرم می‌شود و مانند یک جسم داغ از خود پرتوهای الکترومغناطیس گسیل می‌دارد؛ با این تفاوت که انرژی پرتوهای گسیل شده، کمتر و طول موج آنها بلندتر است (شکل ۲۱). اکنون می‌توانید توضیح دهید چگونه لایه پلاستیکی سبب گرم شدن گلخانه می‌شود. همان طور که دریافتید کره زمین با لایه‌ای از گازها به نام هواکره احاطه شده است. این لایه برای زمین همانند لایه پلاستیکی برای گلخانه است و سبب گرم شدن کره زمین می‌شود، به طوری که اگر این لایه وجود نداشت میانگین دمای کره زمین به 18°C - کاهش می‌یافت. با این توصیف پرتوهای خورشیدی پس از برخورد به زمین دوباره با طول موج‌های بلندتر به هواکره برمی‌گردند، اما برخی گازهای موجود در هواکره مانند CO_2 ، H_2O و... مانع از خروج آنها می‌شوند و بدین ترتیب زمین را گرم‌تر می‌کنند. هرچه مقدار این گازها در هواکره بیشتر باشد، دمای زمین بالاتر خواهد رفت.



شکل ۲۱- رفتار زمین در برابر پرتوهای خورشیدی، (آ) نمایی از گرمای جذب و بازتاب شده به وسیله زمین، (ب) مقایسه هواکره زمین و لایه محافظ گلخانه، (پ) عملکرد مولکول‌های CO_2 در برابر تابش خورشیدی

شیمی سبز، راهی برای محافظت از هوا کره

شیمی سبز شاخه‌ای از شیمی است که در آن شیمیدان‌ها در جستجوی فرایندها و فرآورده‌هایی هستند که به کمک آنها بتوان کیفیت زندگی را با بهره‌گیری از منابع طبیعی افزایش داد و هم‌زمان از طبیعت محافظت کرد. در این راستا بایستی تولید و مصرف مواد شیمیایی را که ردپاهای سنگینی روی کره زمین برجای می‌گذارند، کاهش داد یا متوقف کرد.

تولید سوخت سبز

سوخت سبز، سوختی است که در ساختار خود افزون بر کربن و هیدروژن، اکسیژن نیز دارد و از پسماندهای گیاهی مانند شاخ و برگ گیاه سویا، نیشکر و دانه‌های روغنی به دست می‌آید. این مواد زیست تخریب پذیرند، از این رو به وسیله جانداران ذره‌بینی به مواد ساده‌تر تجزیه می‌شوند.

اتانول و روغن‌های گیاهی نمونه‌هایی از این نوع سوخت‌ها هستند.

مزارع سویا در کشور استرالیا که برای تولید سوخت سبز زیر کشت می‌روند.




شیمی

آیا می‌دانید

شرکت‌های بزرگ خودروسازی در دنیا با بهره‌گیری از دانش علوم پایه و مهندسی، کربن دی‌اکسید تولید شده از خودروها را به ازای طی یک کیلومتر از ۱۶۵ گرم به ۱۳ گرم کاهش داده‌اند. آنها در تلاش‌اند تا این مقدار را به ۱۰۵ گرم کاهش دهند. امید است متخصصان کشور ما نیز با تکیه بر دانش و فناوری بتوانند به موفقیت‌های خوبی در این زمینه دست یابند.

تبدیل CO₂ به مواد معدنی

برای این منظور کربن دی‌اکسید تولید شده در نیروگاه‌ها و مراکز صنعتی را با منیزیم اکسید یا کلسیم اکسید واکنش می‌دهند.



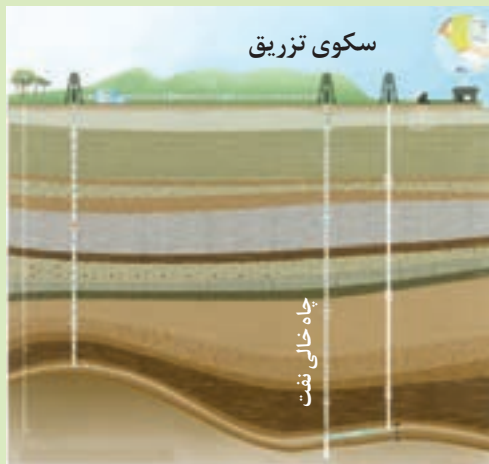
تولید پلاستیک‌های سبز

پلاستیک‌های سبز (زیست تخریب پذیر)، پلیمرهایی هستند که بر پایهٔ مواد گیاهی مانند نشاسته ساخته می‌شوند و به همین دلیل در ساختار آنها اکسیژن نیز وجود دارد. این پلاستیک در مدت زمان نسبتاً کوتاهی تجزیه می‌شوند و به طبیعت باز می‌گردند.



دفن کردن کربن دی‌اکسید

کربن دی‌اکسید را می‌توان به جای رها کردن در هواکره در مکان‌های عمیق و امن در زیر زمین ذخیره و نگهداری کرد. سنگ‌های متخلخل در زیر زمین، میدان‌های قدیمی گاز و چاه‌های قدیمی نفت که خالی از این مواد هستند، جاهای مناسبی برای دفن این گاز هستند.



راه‌های پیشنهادی گوناگون محافظت از هواکره. هر یک از راه‌های پیشنهادی چه مزایا، معایب و مشکلاتی دارند؟

سبز

تولید خودرو
و سوخت با
کیفیت بسیار خوب

در میان تار نماها

با مراجعه به منابع علمی معتبر مانند تار نمای انجمن شیمی ایران و دیگر کشورها درباره ۱۲ اصل شیمی سبز، اطلاعاتی جمع آوری و نتیجه را به کلاس گزارش کنید.

با هم بیندیشیم

هیدروژن فراوان ترین عنصر در جهان است که به صورت ترکیب های گوناگون یافت می شود. این گاز مانند سوخت های فسیلی می تواند با اکسیژن بسوزد و نور و گرما تولید کند. با توجه به جدول زیر:

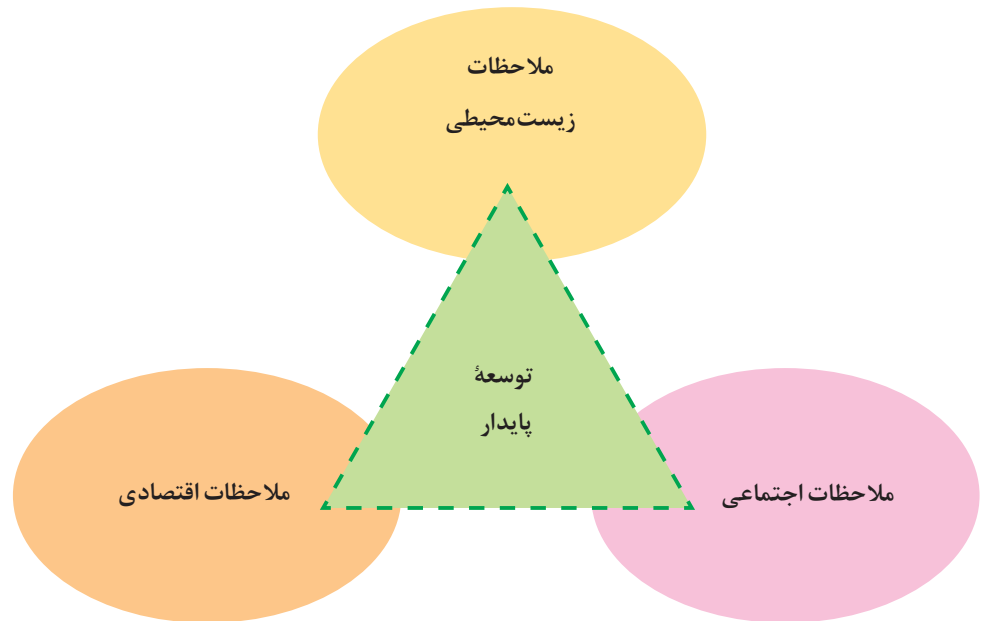
نام سوخت	بنزین	زغال سنگ	هیدروژن	گاز طبیعی
گرمای آزاد شده به ازای یک گرم کیلوژول	۴۸	۳۰	۱۴۳	۵۴
فراورده های سوختن	CO, CO ₂ , H ₂ O	CO, CO ₂ , H ₂ O, SO ₂	H ₂ O	CO, CO ₂ , H ₂ O
قیمت (ریال به ازای یک گرم)	۱۴	۴	۲۸۰۰	۵

(آ) استفاده از کدام سوخت آلاینده های کمتری ایجاد می کند؟

(ب) تولید، حمل و نقل و نگهداری هیدروژن بسیار پرهزینه است. آیا تولید این گاز صرفه اقتصادی دارد؟

(پ) کارخانه قیمت تمام شده یک کالا را با حساب کردن کل هزینه های تولید و با در نظر گرفتن سود آن شرکت مشخص می کند. در این حالت برای حساب کردن قیمت تمام شده، فقط ملاحظات اقتصادی در نظر گرفته شده است؛ اما هر کالایی به اقتصاد کشور هزینه هایی را تحمیل می کند که به قیمت تمام شده، اضافه نشده است. برای مثال فرض کنید، شرکتی یک ماده خوراکی تولید کرده است. اگر این شرکت در تولید این ماده، استانداردهای لازم را رعایت نکند (بسته بندی مناسب به کار نگیرد، موارد بهداشتی را رعایت نکند و ...) مصرف این ماده خوراکی به سلامت شهروندان و محیط زیست آسیب خواهد زد. در این حالت قیمت تمام شده این کالا برای کشور بسیار بیشتر از قیمتی است که روی آن ثبت شده است؛ بنابراین، توسعه پایدار بیان می کند هرگاه در مجموع، شرکت ها و کارخانه ها، کالاهایی را تولید کنند که قیمت تمام شده تولید کالا برای کشور کاهش یابد، این توسعه سبب رشد واقعی کشور می شود و در دراز مدت سبب حفظ یا کاهش مصرف منابع طبیعی می گردد.

● توسعه پایدار یعنی اینکه در تولید هر فرآورده، همه هزینه‌های اقتصادی، اجتماعی و زیست‌محیطی آن در نظر گرفته شود.

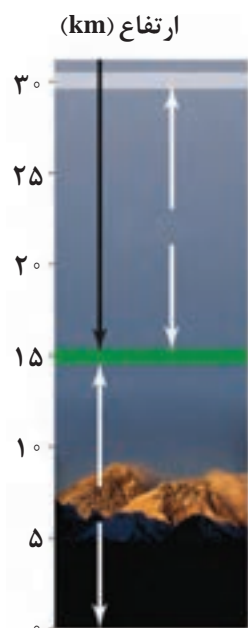


با این توصیف:

- توضیح دهید چرا برخی از کشورها برای تولید گاز هیدروژن سرمایه‌گذاری‌های هنگفتی می‌کنند؟
- چرا برخی از کشورها در پی تولید پلاستیک‌های زیست‌تخریب‌پذیرند در حالی که قیمت تمام‌شده تولید پلاستیک‌ها با پایه نفتی در کارخانه بسیار کم است؟
- توضیح دهید چرا طراحان و متخصصان در شرکت‌های بزرگ تولید خودرو و هواپیما، هزینه‌های هنگفتی صرف می‌کنند تا موتورهایی با انتشار کمترین مقدار CO₂ بسازند؟

اوزون، دگر شکلی از اکسیژن در هواکره

بررسی‌ها نشان می‌دهد که عنصر اکسیژن به شکل دیگری نیز در هواکره یافت می‌شود که به اوزون شهرت دارد. اوزون، گازی با مولکول‌های سه اتمی در لایه‌های بالایی هواکره (استراتوسفر) مانند پوششی کره زمین را احاطه کرده، هر چند که مقدار آن در هواکره ناچیز است (شکل ۲۲).



● دگر شکل* (آلوتروپ) به شکل های گوناگون مولکولی یا بلوری یک عنصر گفته می شود.

شکل ۲۲- مولکول های اوزون مانع ورود بخش عمده ای از تابش فرابنفش خورشید به سطح زمین می شود تا موجودات زنده از آثار زیانبار این تابش در امان بمانند.

خود را بیازمایید

با توجه به دگر شکل های اکسیژن به پرسش های زیر پاسخ دهید.
 آ) آرایش الکترون - نقطه ای هر یک را رسم کنید.
 ب) با توجه به شکل و جدول زیر خواص فیزیکی آنها را مقایسه کنید.

● اصطلاح لایه اوزون به منطقه مشخصی از استراتوسفر می گویند که بیشترین مقدار اوزون در آن محدوده قرار دارد.



نقطه جوش (°C)	جرم مولی	فرمول شیمیایی	نام دگر شکل
-۱۸۳	۳۲	O _۲	اکسیژن
-۱۱۲	۴۸	O _۳	اوزون

* مصوب فرهنگستان



● در باتری‌های قابل شارژ، واکنش‌های شیمیایی برگشت‌پذیر رخ می‌دهد.

پ) در صنعت از گاز اوزون برای گندزدایی میوه‌ها، سبزیجات و از بین بردن جانداران ذره‌بینی درون آب استفاده می‌شود. آیا از این موضوع می‌توان نتیجه گرفت که اوزون از اکسیژن واکنش‌پذیرتر است؟ چرا؟

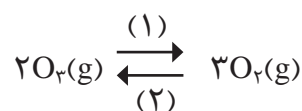
ت) توضیح دهید آیا اختلاف رفتار این دو ماده را می‌توان به این موضوع نسبت داد که:

«**ساختار هر ماده، تعیین‌کنندهٔ خواص و رفتار آن است.**»

همان‌طور که دیدید در مولکول اوزون سه پیوند اشتراکی وجود دارد. هنگامی که تابش پراثرژی فرابنفش به این مولکول می‌رسد، پیوند اشتراکی بین دوتا از اتم‌های اکسیژن می‌شکند و مولکول اوزون به یک اتم اکسیژن و یک مولکول اکسیژن تبدیل می‌شود. ذره‌های تولید شده می‌توانند دوباره در واکنش با یکدیگر، مولکول اوزون را تولید کنند، اما در این واکنش، مقداری انرژی به صورت تابش فروسرخ آزاد می‌شود. با تکرار پیوستهٔ این دو واکنش، لایهٔ اوزون بخش قابل توجهی از تابش فرابنفش را جذب می‌کند و تابش‌های کم انرژی تر فروسرخ را به زمین گسیل می‌دارد.

با هم بیندیشیم

مجموعه واکنش‌های لایهٔ اوزون را می‌توان با معادلهٔ زیر نمایش داد:



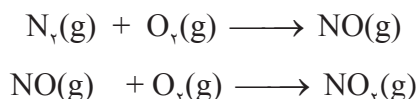
آ) شیمی‌دان‌ها به واکنش در جهت (۱)، واکنش رفت و به واکنش در جهت (۲)، واکنش برگشت می‌گویند. اگر در لایهٔ اوزون تنها واکنش (۱) یا (۲) انجام شود، چه فاجعه‌ای رخ می‌دهد؟ توضیح دهید. ب) واکنش تبدیل اوزون به اکسیژن برگشت‌پذیر است. با این توصیف، واکنش برگشت‌پذیر و برگشت‌ناپذیر را تعریف و چند مثال از آنها را در زندگی بیان کنید. پ) با توجه به برگشت‌پذیری واکنش تبدیل اوزون به اکسیژن، نقش محافظتی و ثابت ماندن مقدار اوزون را در لایهٔ استراتوسفر توضیح دهید.

جالب است بدانید که اوزون در لایهٔ تروپوسفر نیز یافت می‌شود. از آنجا که اوزون از اکسیژن واکنش‌پذیرتر است، این ماده، آلاینده‌ای سمی و خطرناک به شمار می‌آید به طوری که وجود

● **شیمی دان هواکره، متخصصی** است که ترکیب شیمیایی هواکره را می‌شناسند؛ همچنین از برهم‌کنش گازها، مایع‌ها و جامدهای موجود در هواکره با سطح زمین و موجودات زنده‌ای که روی آن زندگی می‌کنند، آگاه است.

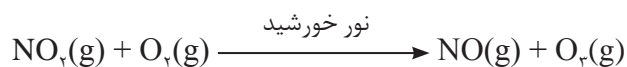
آن در هوایی که تنفس می‌کنیم، سبب سوزش چشمان و آسیب دیدن ریه‌ها می‌شود. به دیگر سخن در تروپوسفر با نقش زیانبار و مضر اوزون مواجه هستیم در حالی که در استراتوسفر، نقش مفید و محافظتی اوزون آشکار است. اکنون این پرسش مطرح است که اوزون تروپوسفری از کجا می‌آید؟

گاز نیتروژن به عنوان اصلی‌ترین جزء سازنده هواکره، واکنش‌پذیری بسیار کمی دارد و به‌طور معمول با اکسیژن واکنش نمی‌دهد. اما تنها هنگام رعد و برق این دو گاز در هوا ترکیب شده و به اکسیدهای نیتروژن تبدیل می‌شوند (شکل ۲۳).



شکل ۲۳- در ناحیه‌ای که رعد و برق ایجاد شده است، دما به اندازه‌ای بالاست که باعث تشکیل اکسیدهای نیتروژن می‌شود.

از سوی دیگر در هوای آلوده شهرهای صنعتی و بزرگ، به مقدار قابل توجهی اکسیدهای نیتروژن وجود دارد. در واقع این گازها از واکنش گازهای نیتروژن و اکسیژن درون موتور خودرو در دمای بالا به وجود می‌آیند. از آنجا که گاز نیتروژن دی‌اکسید به رنگ قهوه‌ای است، هوای آلوده کلانشهرها اغلب به رنگ قهوه‌ای روشن دیده می‌شود (شکل ۲۴). در این هوای آلوده و در حضور نور خورشید، واکنش زیر رخ می‌دهد و مقداری گاز اوزون تولید می‌گردد. این اوزون، همان اوزون تروپوسفری است.





● بوی گل رز و محمدی ناشی از انتشار مولکول‌های گازی از آن است.



شکل ۲۴- نمایی از هوای آلوده شهر تهران

برای شناخت بهتر هواکره و یافتن راه حل‌های مناسب برای محافظت از آن باید رفتار و ویژگی‌های ذره‌های سازنده هوا کره و واکنش میان آنها را به خوبی مطالعه کرد.

خواص و رفتار گازها

پخش شدن بوی نان تازه، گلاب و دود اسفند در فضای خانه، نشان می‌دهد که مولکول‌های یک ماده گازی در هوا منتشر شده و به یاخته‌های بویایی ما رسیده است. گاز برخلاف جامد و مایع، شکل و حجم معینی ندارد، بلکه به شکل ظرف محتوی آن درمی‌آید و همه فضای ظرف را اشغال می‌کند. از این رو، حجم یک نمونه گاز با حجم ظرف محتوی آن برابر است (شکل ۲۵).

آیا می‌دانید

ابن سینا افزون بر فعالیت‌های پزشکی، بر روی استخراج عطر گل محمدی و گل رز که بوی دلپذیری دارد کار می‌کرد. فعالیت‌های این دانشمند سبب شد تا فرایند استخراج عطرها گیاهی از گل‌های دیگر نیز مورد بررسی قرار گیرد.



(آ)



(ب)



(پ)

شکل ۲۵- (آ) شکل و حجم یک ماده جامد به شکل ظرف بستگی ندارد. (ب) مایع‌ها به شکل ظرف محتوی آنها درمی‌آیند. (پ) به محض باز کردن شیر در لوله رابط بین دو ظرف، گاز در هر دو محفظه پخش می‌شود.

در درس علوم هفتم دیدید که گاز برخلاف جامد و مایع تراکم‌پذیر است. به طوری که اگر به

یک نمونه گاز موجود در سرنگی یا سیلندری با پیستون روان، فشار وارد کنیم، گاز فشرده‌تر و حجم آن کمتر می‌شود (شکل ۲۶).

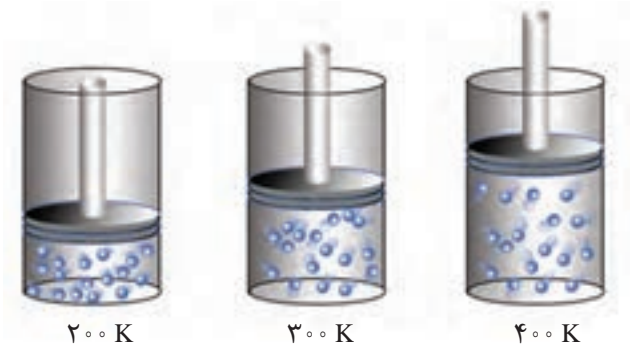


● برای توصیف یک نمونه گاز افزون بر مقدار، باید دما و فشار آن نیز مشخص باشد؛ برای مثال $0/2$ مول گاز اکسیژن در دما و فشار اتاق مثالی از یک نمونه گاز است.

شکل ۲۶- گاز بر اثر فشار متراکم می‌شود، اما اگر فشار کاهش یابد، فاصله بین مولکول‌های آن افزایش می‌یابد.

با هم بیندیشیم


۱- شکل زیر یک نمونه گاز را درون سیلندری با پیستونی متحرک در دماهای گوناگون نشان می‌دهد.



آ) با افزایش دما، حجم گاز چه تغییری می‌کند؟ چرا؟

ب) بین حجم یک نمونه گاز و دمای آن در فشار ثابت چه رابطه‌ای هست؟ توضیح دهید.






۲- شکل زیر دو نمونه از یک گاز را در دما و فشار ثابت نشان می‌دهد. تفاوت حجم این دو را توضیح دهید.



● قرار دادن بادکنک‌های پر شده از هوا درون نیتروژن مایع سبب می‌شود که حجم آنها به شدت کاهش یابد؛ چرا؟

دریافتید که حجم یک نمونه گاز به مقدار، دما و فشار آن وابسته است. بنابراین، با تغییر هریک از این کمیت‌ها، حجم گاز تغییر می‌کند. برای یافتن رابطه بین حجم و مقدار یک نمونه گاز باید دما و فشار ثابت باشد. براساس قرارداد، شیمی‌دان‌ها دمای صفر درجهٔ سلسیوس و فشار یک اتمسفر را به عنوان **شرایط استاندارد (STP)** در نظر گرفته‌اند. در جدول ۲، حجم چند نمونه گاز در این شرایط نشان داده شده است.

جدول ۲- برخی ویژگی‌های چند نمونه گاز در STP

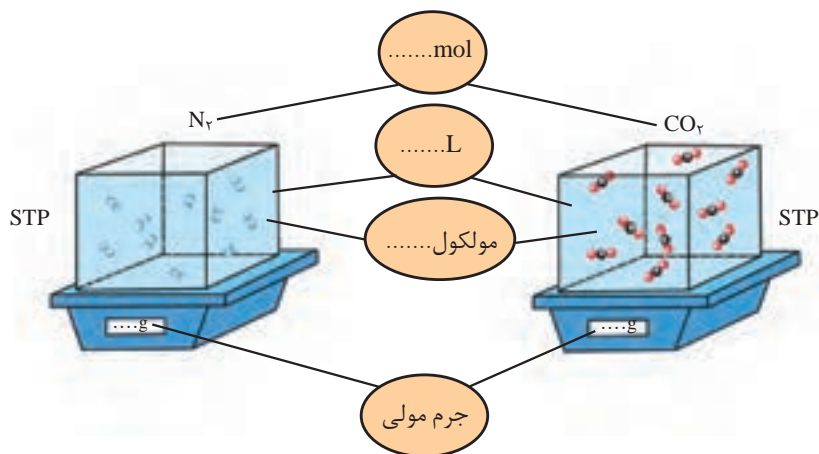
مثال	۱	۲	۳	۴	۵
گاز	H _۲	Ne	CO _۲	O _۲	He
ظرف محتوی گاز					
مول (mol)	۰/۲۵	۰/۲۵	۰/۵۰	۰/۵۰	۱/۰
حجم (L)	۵/۶	۵/۶	۱۱/۲	۱۱/۲	۲۲/۴
جرم (g)	۰/۵۰	۵/۰	۲۲/۰	۱۶/۰	۴/۰

● در دما و فشار یکسان، حجم یک مول از گازهای گوناگون با هم برابر است. این بیان نخستین بار در سال ۱۸۱۱ توسط آوگادرو ارائه و بعدها به قانون آوگادرو مشهور شد.

مطابق داده‌های جدول در این شرایط با افزایش شمار مول‌های هر گاز، حجم آن افزایش می‌یابد. از این‌رو، حجم یک نمونه گاز با شمار مول‌های آن رابطه‌ای مستقیم دارد. طبق این رابطه حجم یک مول گاز در STP برابر با ۲۲/۴ لیتر است؛ به دیگر سخن، حجم مولی گازها در STP برابر با ۲۲/۴ لیتر است.

خود را بیازمایید

۱- در شکل زیر جاهای خالی را پر کنید (هر ذره را هم‌ارز با ۱/۰ مول در نظر بگیرید).
 $(N = ۱۴/۰۱, C = ۱۲/۰۱, O = ۱۶/۰۰ \text{ g mol}^{-1})$.



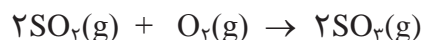
۲- هر فرد بالغ به طور میانگین ۱۲ بار در دقیقه نفس می‌کشد و هر بار ۵/۰ لیتر هوا به ریه‌هایش وارد می‌شود.

آ) در یک شبانه روز چند لیتر هوا و چند لیتر اکسیژن وارد شش‌ها می‌شود؟

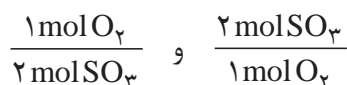
ب) چند مول اکسیژن در یک شبانه‌روز وارد شش‌ها می‌شود؟ (شرایط را STP فرض کنید).

از هر گاز چقدر؟

واکنش گازها در صنعت، اهمیت و کاربردهای بسیاری دارد به طوری که هر یک از فرایندهای تهیه سولفوریک اسید و نیتریک اسید شامل چندین واکنش گازی متوالی است. یکی از این واکنش‌ها، تبدیل گاز گوگرد دی اکسید به گوگرد تری اکسید است.



در معادله موازنه شده این واکنش، دو مول گاز گوگرد دی اکسید با یک مول گاز اکسیژن واکنش می‌دهد و دو مول گاز گوگرد تری اکسید تولید می‌شود؛ با این توصیف می‌توان گفت نسبت مولی اکسیژن مصرف شده به گوگرد تری اکسید تولید شده، ۱ به ۲ است؛ به دیگر سخن نسبت‌های کمی زیر برقرار است:



به هریک از این نسبت‌ها یک عامل (کسر) تبدیل می‌گویند که می‌توان با استفاده از آنها

شمار مول‌های یک شرکت کننده در واکنش را از شمار مول‌های دیگری به دست آورد.

آیا می‌دانید

جابر بن حیان بنیان‌گذار علم شیمی است. او در سال ۱۰۰ هجری شمسی (۷۲۱ میلادی) در شهر طوس از توابع خراسان دیده به جهان گشود.

پدر جابر داروسازی مشهور بود، از این رو، وی به داروسازی و کیمیاگری علاقه‌مند شد. جابر برای فراگیری قرآن و بهره‌بردن از محضر پرفیض امام جعفر صادق (ع) به کوفه مهاجرت کرد. سفری که بی‌تردید موجب شکوفایی استعدادهای وی شد.

جابر همواره بر اجرای نظام‌مند فعالیت‌های تجربی و آزمایشگاهی تأکید داشت. او انواع ابزار آزمایشگاهی راطراحی و فرایندهای اساسی مانند تقطیر و تبلور را پایه‌گذاری کرد. از او رساله و کتاب‌های گوناگونی مانند «رنگ‌ها»، «کتاب جامع خواص شیمیایی»، «جرم‌ها و اندازه‌گیری‌ها» و «ترکیب شیمیایی» به جای مانده است. این کتاب‌ها سال‌ها پس از جابر به عنوان منابع معتبر علمی در اروپا بررسی و ترجمه شد. بسیاری از دانشمندان بر این باورند که محتوای کتاب‌های جابر اثر ژرفی بر دیدگاه کیمیاگران اروپایی داشت و بعدها سبب تحولات شگرفی در دانش شیمی شد.

نمونه حل شده

برای تولید ۸ مول گاز گوگرد تری اکسید به چند مول گاز اکسیژن نیاز است؟

پاسخ:

$$? \text{ mol O}_2 = 8 \text{ mol SO}_2 \times \frac{1 \text{ mol O}_2}{2 \text{ mol SO}_2} = 4 \text{ mol O}_2$$

به بخشی از دانش شیمی که به ارتباط کمی میان مواد شرکت کننده (واکنش دهنده‌ها و فراورده‌ها) در هر واکنش می‌پردازد، **استوکیومتری واکنش** می‌گویند. دانشی که کمک می‌کند تا شیمی‌دان‌ها و مهندسان در آزمایشگاه و صنعت با بهره‌گیری از آن، مشخص کنند که برای تولید مقدار معینی از یک فراورده به چه مقدار از هر واکنش دهنده نیاز است.

با هم بیندیشیم

معادله واکنش اکسایش گلوکز برای تولید انرژی در بدن به صورت زیر است:



(آ) بدن انسان در هر شبانه روز به طور میانگین ۲/۵ مول گلوکز مصرف می‌کند. برای مصرف این مقدار گلوکز به چند مول اکسیژن نیاز است؟

(ب) این مقدار اکسیژن هم ارز با چند لیتر اکسیژن در STP است؟

راهنمایی: برای حل می‌توان یکی از عامل‌های تبدیل زیر را به کار برد:

$$\frac{1 \text{ mol O}_2}{22.4 \text{ LO}_2} \quad \text{و} \quad \frac{22.4 \text{ LO}_2}{1 \text{ mol O}_2}$$

(پ) این مقدار اکسیژن هم ارز با چند گرم اکسیژن است؟

راهنمایی: برای حل می‌توان یکی از عامل‌های تبدیل زیر را به کار برد:

$$\frac{1 \text{ mol O}_2}{32 \text{ g O}_2} \quad \text{و} \quad \frac{32 \text{ g O}_2}{1 \text{ mol O}_2}$$

(ت) دانش‌آموزی برای یافتن جرم آب تولید شده از اکسایش ۲/۵ مول گلوکز از عامل‌های تبدیل در روند زیر استفاده کرده است. هر یک از جاهای خالی را با کمیت مناسب پر کنید.

$$? \text{ g H}_2\text{O} = 2/5 \text{ mol C}_6\text{H}_{12}\text{O}_6 \times \frac{\dots\dots\dots \text{H}_2\text{O}}{1 \text{ mol C}_6\text{H}_{12}\text{O}_6} \times \frac{\dots\dots\dots \text{H}_2\text{O}}{1 \text{ mol H}_2\text{O}} = 27 \text{ g H}_2\text{O}$$

(ث) گاز حاصل از اکسایش کامل این مقدار گلوکز در STP چند لیتر حجم دارد؟


آیا می‌دانید

سالانه مردم سراسر جهان حدود ۵۰ میلیارد قرص آسپرین برای کاهش تب، التهاب و تپش‌های قلبی مصرف می‌کنند. این قرص‌ها با بهره‌گیری از استوکیومتری واکنش در شرکت‌های دارویی تولید می‌شود.

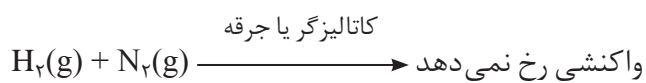
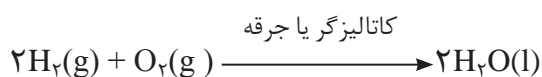
● به هر یک از ضرایب مواد شرکت کننده در یک معادله موازنه شده، ضریب استوکیومتری می‌گویند.

تولید آمونیاک، کاربردی از واکنش گازها در صنعت

گاز نیتروژن فراوان‌ترین جزء سازنده هوا کره بوده که در مقایسه با اکسیژن از نظر شیمیایی غیرفعال و واکنش ناپذیر است؛ برای نمونه مخلوطی از گازهای اکسیژن و هیدروژن در حضور کاتالیزگر یا جرقه در یک واکنش سریع و شدید، منفجر می‌شود و آب تولید می‌کند (شکل ۲۷) اما در مخلوطی از گازهای نیتروژن و هیدروژن در حضور کاتالیزگر یا جرقه، هیچ واکنشی رخ نمی‌دهد.



شکل ۲۷- سوختن گاز هیدروژن



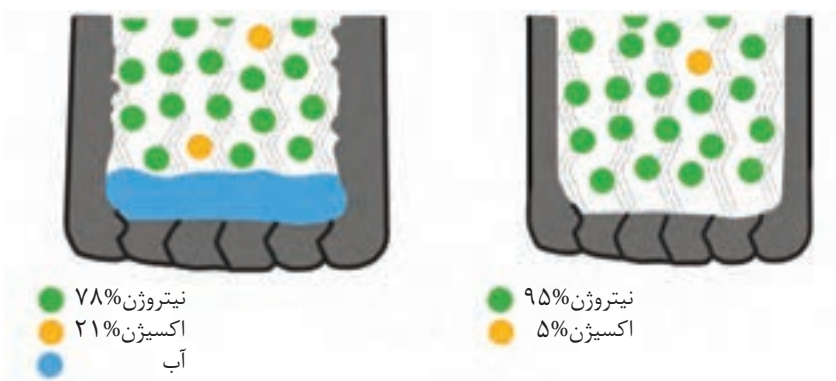
از این رو گاز نیتروژن به جو بی‌اثر شهرت یافته و در محیط‌هایی که گاز اکسیژن، عامل ایجاد تغییر شیمیایی است به جای آن از گاز نیتروژن استفاده می‌کنند.



● در علوم نهم دیدید که کشاورزان کودهای شیمیایی نیتروژن دار را به خاک می‌افزایند. یکی از این کودها آمونیاک است که به‌طور مستقیم به خاک تزریق می‌شود.


خود را بیازمایید

۱- شاید دیده باشید که برای پر کردن و تنظیم باد تایر خودرو به جای هوا از گاز نیتروژن استفاده می‌کنند. توضیح دهید استفاده از این گاز به جای هوا چه فایده‌ای دارد؟



۲- گاز نیتروژن دارای مولکول‌های دو اتمی است. ساختار لوویس مولکول آن را رسم کنید.

هر چند گاز نیتروژن واکنش پذیری ناچیزی دارد، اما امروزه در صنعت، مواد گوناگونی از آن تهیه می‌کنند که آمونیاک یکی از مهم‌ترین آنهاست. اکنون این پرسش مطرح است که از نیتروژن با واکنش پذیری ناچیز، چگونه آمونیاک و ترکیب‌های دیگر را تهیه می‌کنند. یافتن پاسخ این پرسش به اندازه‌ای اهمیت داشت که دانشمندی به نام **فریتس هابر** در سال ۱۹۱۸ میلادی به دلیل تهیه آمونیاک از گازهای H_2 و N_2 برنده جایزه نوبل شیمی شد. هابر واکنش زیر را مبنای پژوهش‌های خود قرار داد:



بزرگ‌ترین چالش هابر، یافتن شرایط بهینه برای انجام این واکنش بود. او در این راستا با دو چالش عمده روبه‌رو شد:

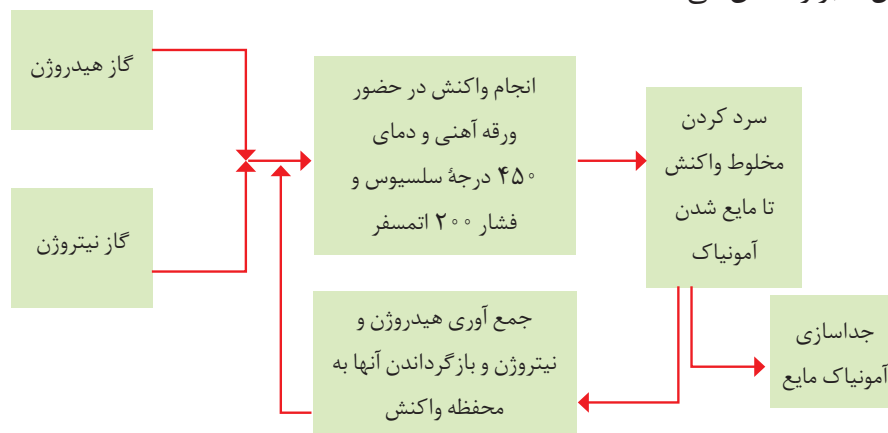
● واکنش در دما و فشار اتاق انجام نمی‌شد.

هابر واکنش میان گازهای هیدروژن و نیتروژن را بارها در دماها و فشارهای گوناگون انجام داد تا بتواند شرایط بهینه آن را پیدا کند. سرانجام دریافت که این واکنش در دمای $450^\circ C$ و فشار 200 atm با حضور یک کاتالیزگر انجام می‌شود؛ به طوری که اگر مخلوط این گازها از روی یک ورقه آهنی در این دما و فشار عبور داده شود، واکنش انجام و آمونیاک به مقدار قابل توجهی تولید می‌شود؛ اما همه واکنش دهنده‌ها به فرآورده تبدیل نمی‌شود؛ زیرا این واکنش، برگشت‌پذیر است؛ با این توصیف در ظرف واکنش مخلوطی از سه گاز هیدروژن، نیتروژن و آمونیاک وجود دارد. اکنون هابر با مشکل دیگری روبه‌رو بود:

● چگونه می‌توان فرآورده واکنش (آمونیاک) را از مخلوط واکنش جدا کرد.

او با بررسی نقطه جوش این مواد، راه حلی را برای جداسازی آمونیاک پیدا کرد. طرح زیر، راه حل هابر را نشان می‌دهد.

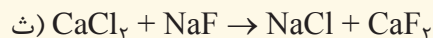
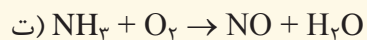
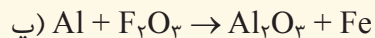
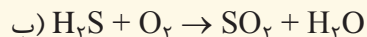
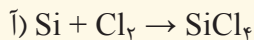
نام ماده	نقطه جوش ($^\circ C$)
هیدروژن	-۲۵۳
نیتروژن	-۱۹۶
آمونیاک	-۳۴



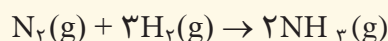
نمودار ۲- نمای تولید آمونیاک در صنعت به روش هابر

تمرین‌های دوره‌ای

۱- در هریک از واکنش‌های زیر نام مواد شرکت‌کننده را بنویسید و آن را موازنه کنید.




۲- معادله موازنه شده واکنش تولید آمونیاک به صورت زیر است:

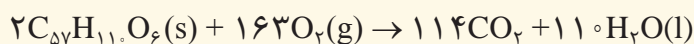


آ) برای تهیه ۴۲/۵ کیلوگرم آمونیاک به چند مول گاز هیدروژن نیاز است؟

ب) برای تولید ۳۳۶۰ لیتر آمونیاک در STP به چند گرم گاز هیدروژن و چند گرم گاز نیتروژن نیاز است؟



۳- شتر جانوری است که می‌تواند چندین روز را بدون نوشیدن آب در هوای گرم بیابان سپری کند. در این شرایط، چربی ذخیره شده در کوهان این جانور مطابق واکنش زیر اکسایش یافته و افزون بر تولید انرژی، آب مورد نیاز جانور را نیز تأمین می‌کند:



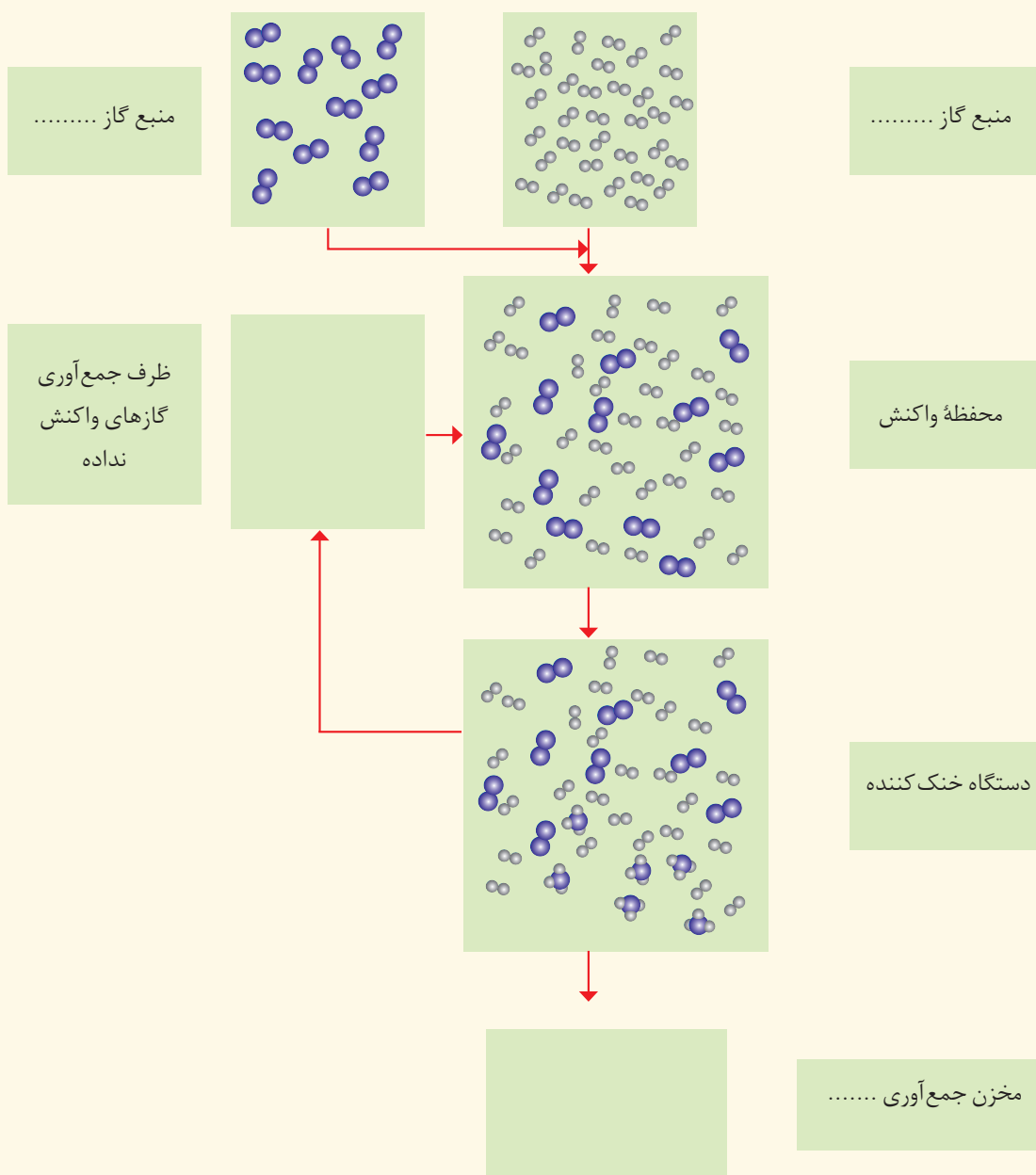
جرم آب تولید شده از اکسایش یک کیلوگرم چربی را حساب کنید.

۴- آ) جدول زیر را کامل کنید.

نام گاز	نماد یا فرمول شیمیایی	میزان واکنش‌پذیری در دما و فشار اتاق	آرایش الکترون نقطه‌ای	قیمت هر لیتر (ریال)	آلاینده یا غیرآلاینده
آرگون				۱۹۲	
اکسیژن				۳۵	
متان				۳	
کربن دی‌اکسید				۱۳	
نیتروژن				۷۱	

ب) در بسته‌بندی خوراکی استفاده از کدام گاز مناسب‌تر است؟ چرا؟

۵- آ) در نمودار زیر که مربوط به تهیه گاز آمونیاک است، مشخص کنید هر یک از گلوله‌ها نشان دهنده چه اتمی است؟
 ب) جاهای خالی را پر و مولکول‌های موردنظر را در محفظه‌های خالی رسم کنید.



۶- گاز شهری به طور عمده از متان تشکیل شده و در محیطی که اکسیژن کم است به صورت ناقص می‌سوزد و بخار آب، کربن مونوکسید، نور و گرما تولید می‌کند.

آ) معادله واکنش سوختن ناقص متان را بنویسید و موازنه کنید.

ب) حجم گاز CO حاصل از سوختن ناقص ۴۸ گرم متان در STP چند لیتر است؟

۷- در برخی کشورها از اتانول (C_2H_5OH) به عنوان سوخت سبز به جای سوخت‌های فسیلی (گازوئیل، بنزین و...) استفاده می‌شود.

آ) معادله واکنش سوختن کامل اتانول را بنویسید و موازنه کنید.

ب) استفاده از اتانول به جای سوخت‌های فسیلی چه اثری بر میزان آلاینده‌هایی دارد که به هوا کره وارد می‌شود؟ توضیح دهید.

۸- جدول زیر داده‌هایی را درباره خودروهای یک کشور توسعه یافته نشان می‌دهد.

مقدار کربن دی‌اکسید مصرفی (کیلوگرم در سال)	میانگین قطر درخت (سانتی‌متر)	گستره انتشار گاز کربن دی‌اکسید (گرم) به ازای طی یک کیلومتر	برچسب آلاینده‌گی خودرو
۱	≤ 3	کمتر از 12°	A
۴/۴	۴-۷	$12^\circ-14^\circ$	B
۹/۴	۸-۱۳	$14^\circ-155^\circ$	C
۱۹/۱	۱۴-۲۱	$155^\circ-17^\circ$	D
۳۴/۶	۲۲-۲۸	$17^\circ-19^\circ$	E
۵۵/۳	۲۹-۳۴	$19^\circ-225^\circ$	F
۹۲/۷	≥ 35	بیشتر از 225°	G

آ) نوعی خودرو در این کشور به ازای طی یک کیلومتر، 105 گرم گاز کربن دی‌اکسید منتشر می‌کند. برچسب این خودرو را تعیین کنید.

ب) هر خودرو به طور میانگین سالانه مسافتی حدود 18000 کیلومتر طی می‌کند. حساب کنید سالانه چند کیلوگرم گاز کربن دی‌اکسید بر اثر استفاده از هر خودرو وارد هوا کره می‌شود؟

پ) فرض کنید این کشور در راستای توسعه پایدار سالانه دو نوع مالیات از مالکان خودرو دریافت می‌کند. مالیات سالانه برابر با 100 یورو و مالیات متغیر که به میزان گاز کربن دی‌اکسید تولید شده از خودرو بستگی دارد. اگر خودروهای دارای برچسب A از پرداخت مالیات متغیر معاف باشند، خودرو با برچسب E سالانه چند یورو مالیات می‌پردازد؟ (راهنمایی: هر خودرو به ازای تولید هر صد کیلوگرم CO_2 اضافی دو یورو مالیات متغیر می‌پردازد.)