

فصل ۳

جغرافیای انسانی ایران

جغرافیای انسانی به پراکندگی جوامع انسانی، ویژگی‌ها، فعالیت‌ها و رابطه آنها با محیط طبیعی می‌پردازد.

در این فصل، شما با ویژگی‌های جمعیت، تقسیمات کشوری، سکونت‌گاه‌ها و توان‌های اقتصادی ایران آشنا می‌شوید.

* پیرانشهر - آذربایجان غربی

ویژگی‌های جمعیت ایران

پراکندگی جمعیت در ایران

به نقشه پراکندگی جمعیت ایران، به دقت نگاه کنید و به سؤالات پاسخ دهید.

۱ آیا جمعیت در همه‌جای کشور ما یکسان پراکنده شده است؟

۲ کدام نقاط، پرجمعیت و کدام یک کم جمعیت هستند؟

۳ آیا جایی دیده می‌شود که از جمعیت خالی باشد؟



شکل ۱ - نقشه پراکندگی جمعیت در ایران

پراکندگی جمعیت در مکان‌ها از عوامل متعددی، تأثیر می‌گیرد. نقشه‌های زیر بیانگر بعضی عوامل اثرگذار در پراکندگی جمعیت کشور ماست. پس از مرور این نقشه‌ها، دربارهٔ عوامل مؤثر بر پراکندگی جمعیت در کشور، با یکدیگر گفت‌وگو کنید.



شکل ۳- نقشهٔ رودهای دائمی و موقت



شکل ۲- نقشهٔ ناهمواری‌ها



شکل ۵- نقشهٔ پراکندگی معادن نفت و گاز



شکل ۴- نقشهٔ پراکندگی معادن

جغرافی دانان در مطالعهٔ پراکندگی جمعیت، عوامل طبیعی و انسانی را مورد توجه قرار می‌دهند. آنان معتقدند که نقشهٔ پراکندگی جمعیت، پیوسته در حال تغییر است. در دهه‌های اخیر، نقش انسان به‌عنوان عامل تأثیرگذار در پراکندگی جمعیت، نسبت به گذشته، افزایش چشمگیری داشته است.

اطلاعات داده شده به شما کمک می‌کند که عوامل انسانی اثرگذار را بر پراکندگی جمعیت شناسایی کنید.



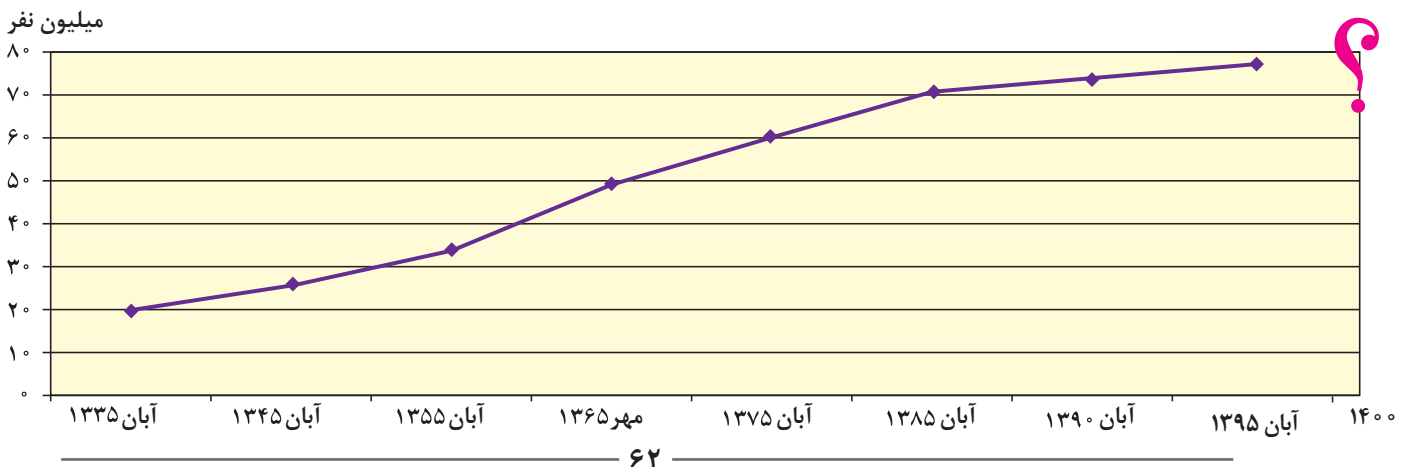
فعالیت: ۱

باتوجه به اطلاعات داده شده جدول زیر را تکمیل کنید.

عوامل انسانی اثرگذار بر پراکندگی جمعیت	عوامل طبیعی اثرگذار بر پراکندگی جمعیت
- حمل و نقل	- خاک
-	-
-	-
-	-

رشد جمعیت

طبق آخرین آمار سرشماری نفوس و مسکن در سال ۱۳۹۵، جمعیت ایران ۷۹۹۲۶۲۷۰ نفر است. به نمودار جمعیت ایران توجه کنید. با توجه به روند افزایش جمعیت ایران طی دهه‌های اخیر، چه تغییر و تحولاتی را در آینده پیش‌بینی می‌کنید؟





در سال ۱۳۹۵ بیش از یک میلیون نفر نوزاد در ایران متولد شده اند

یکی از مباحث مهم جمعیت، بررسی میزان افزایش و کاهش جمعیت هر کشور است. متخصصان برای دستیابی به میزان افزایش و کاهش جمعیت، رشد طبیعی جمعیت را اندازه‌گیری می‌کنند. برای اندازه‌گیری رشد طبیعی جمعیت، میزان موالید و مرگ و میر را در یک سال مشخص از هم کم، و بر تعداد کل جمعیت تقسیم، و سپس آن را به درصد بیان می‌کنند.

$$\text{رشد طبیعی جمعیت} = \frac{\text{میزان مرگ و میر} - \text{میزان موالید}}{\text{کل جمعیت}} \times 100$$

اگر میزان موالید ایران در سال ۱۳۹۵ حدود ۱,۲۵۰,۰۰۰ نفر و مرگ و میر آن ۳۷۰,۰۰۰ نفر باشد، میزان رشد طبیعی ایران، چند درصد است؟
میزان رشد طبیعی چند کشور در جدول زیر آورده شده است. میزان رشد ایران را که به دست آوردید در جدول زیر قرار دهید. میزان رشد کشور ما به کدام کشور نزدیک‌تر است؟ کمترین و بیشترین میزان رشد، متعلق به کدام کشور است؟ آیا اطلاع از میزان رشد برای برنامه‌ریزان کشورها مهم است؟ چرا؟

کشور	فنلاند	سوئد	آرژانتین	مصر	آنگولا	کویت	لبنان
میزان رشد طبیعی (به درصد)	۰/۴	۱/۱	۱	۲/۱	۳/۲	۳/۶	۴/۲

منبع: بانک جهانی ۲۰۱۵

با توجه به اطلاعات به دست آمده، دریافتید که میزان رشد طبیعی جمعیت در جهان، یکسان نیست. برخی از کشورهای جهان رشد بیش از ۳/۵ درصد و برخی رشد منفی دارند. البته نکته مهم در رشد جمعیت، این است که نه تنها عامل طبیعی زاد و ولد در آن نقش دارد، بلکه مهاجرت از عوامل تأثیرگذار بر رشد جمعیت کشورها به شمار می‌رود. موالید و مرگ و میر، رشد طبیعی جمعیت را نشان می‌دهد که اگر مهاجرت را به آن اضافه یا از آن کم کنیم، رشد مطلق جمعیت را به دست خواهیم آورد. با کمک معلم خود و با استفاده از فرمول درصد رشد طبیعی جمعیت، فرمول رشد مطلق جمعیت را در پیرا بند (کادر) زیر بنویسید:

$$\text{رشد مطلق جمعیت} = \frac{(\dots\dots\dots) \pm \dots\dots\dots}{\text{کل جمعیت}} \times 100$$

معمولاً برنامه‌ریزان برای برنامه‌ریزی‌های مختلف اجتماعی، اقتصادی، آموزشی و فرهنگی، به آینده‌نگری جمعیتی نیاز دارند. قانون ۷۰*، زمان دو برابر شدن جمعیت هر کشور را نشان می‌دهد. اطلاع از میزان رشد جمعیت، پایه محاسبه فرمول دو برابر شدن جمعیت است. زمان به دست آمده سبب می‌شود تا برای آینده، پیش‌بینی‌های لازم را انجام دهند. به نظر شما چند سال طول می‌کشد تا جمعیت کشور ما دو برابر شود؟

$$\frac{70}{\text{نرخ رشد جمعیت}} = \text{مدت زمان دو برابر شدن جمعیت}$$

شناخت محل زندگی خود

فعالیت: ۲

میزان رشد استان محل زندگی خود را از کتاب استان‌شناسی یا سایت مرکز آمار (درگاه آمار ملی ایران) بگیرید و آن را با کشور مقایسه کنید. وضعیت استان خود را از این نظر مورد بحث و گفت‌وگو قرار دهید.

برای مطالعه

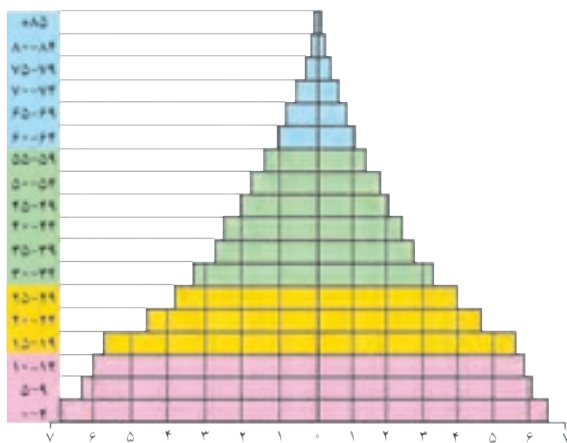
برنامه‌ریزی عالمانه برای هر کشور نیاز به اطلاعات صحیح و آمار دقیق دارد. مرکز آمار ایران به عنوان یک سازمان مسئول برای استخراج آمار صحیح در سال ۱۳۹۵ از تمام وزارت‌خانه‌ها، سازمان‌ها، دستگاه‌ها، نهادهای عمومی و مؤسسات دولتی و استانداردهای کشور کمک گرفت و سرشماری اینترنتی را برای اولین بار اجرا نمود. برای برخی از خانوارهایی که به دلایل مختلف نتوانسته‌اند از طریق اینترنت اطلاعات خود را ثبت کنند مأموران سرشماری با مراجعه به درب منازل به شیوه ترکیبی یک آمارگیری موفق را به پایان رسانند.



* عدد ۷۰ لگاریتم عدد ۲ می‌باشد.

ساختمان جمعیت

در گذشته، آمار جمعیت نقش مهمی در تصمیم‌گیری‌های برنامه‌ریزان داشت. اما امروزه آنان برای برنامه‌ریزی دقیق مجبورند علاوه بر تعداد جمعیت، عوامل دیگر جمعیتی را نیز در نظر بگیرند. کدام ویژگی‌های جمعیتی را می‌شناسید که در سرشماری‌ها به آنها توجه می‌شود و سرشماران، اطلاعات مربوط به آنها را جمع‌آوری می‌کنند؟ اکنون در مطالعات جمعیتی، بررسی ساختمان یا ترکیب جمعیت از اهمیت خاصی برخوردار است. ساختمان جمعیت، ویژگی‌های قابل اندازه‌گیری جمعیت را مورد بررسی قرار می‌دهد. اطلاع از وضعیت سنی و جنسی جمعیت هر کشور از موارد قابل توجه برنامه‌ریزان است.



جمعیت کره زمین از لحاظ نسبت جنسی جز در زمان‌های خاص، تفاوت چندانی ندارد؛ اما در طول زمان، نسبت سنی در کشورها دچار تغییراتی می‌شود. متخصصان به دلیل اهمیت نسبت سنی در برنامه‌ریزی هر کشور از لحاظ سنی، جمعیت را به گروه‌های مختلفی دسته‌بندی کرده‌اند. **اهمیت و کاربرد هرم سنی:** در هر کشوری هرم سنی به برنامه‌ریزان کمک می‌کند که با ساختمان سنی جمعیت آن کشور آشنا شوند و از آن برای برنامه‌ریزی استفاده کنند؛ به عنوان نمونه برای تحقق برنامه‌های تأمین اجتماعی، بهبود وضعیت سالمندان، ارتقای سطح سلامت جامعه، تأمین شغل


برای حال و آینده، ایجاد فرصت‌های تحصیلی، تفریحی و رفاهی برای جوانان، امنیت ملی، جلوگیری از پیری جمعیتی، از اطلاعات و آمارهای سنی و جنسی جمعیت کمک می‌گیرند. در هرم سنی بالا، زیرگروه‌های سنی را چند ساله تقسیم‌بندی کرده‌اند؟

مرکز آمار ایران چهار گروه عمده سنی را در سال ۱۳۹۵ مشخص کرده است. با توجه به رنگ‌های داده شده در هرم بالا، تقسیم‌بندی چهار گروه سنی کودکان و نوجوانان، جوانان، بزرگسالان و سالمندان را در پیرامند زیر بنویسید:

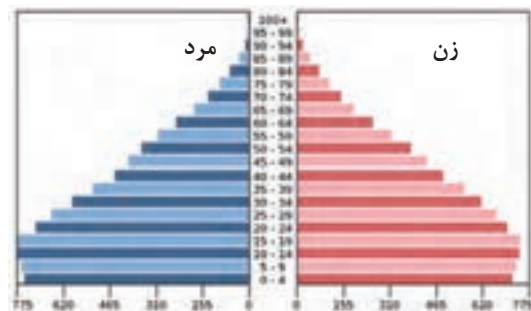
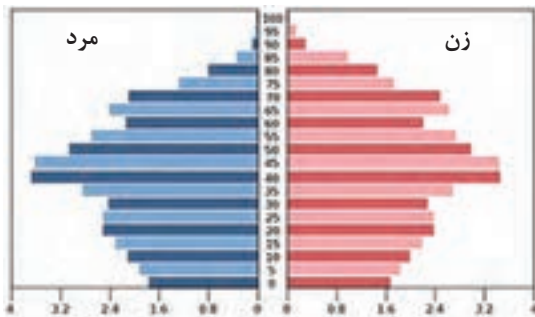
سهم هر یک از گروه‌های عمده سنی کشور ۱۳۹۵	گروه‌های عمده سنی
۲۴/۰	تولد تا کودکان و نوجوانان
۲۵/۱ - جوانان
۴۴/۸ - بزرگسالان
۶/۱ + سالمندان

منبع: مرکز آمار ایران

- ۱- با توجه به نقش و اهمیت اطلاعات و آمار در برنامه‌ریزی‌های اقتصادی و اجتماعی کشورها به عنوان عضو خانواده، جایگاه سرشماری و جمع‌آوری اطلاعات را مورد بررسی و تجزیه و تحلیل قرار دهید.
- ۲- به هرم سنی ایران در سال ۱۳۹۰ و ۱۳۹۵ توجه کنید. مقایسه‌ای بین هرم سنی ایران در سال‌های ۱۳۹۰ و ۱۳۹۵ انجام دهید و تغییرات آن را بررسی کنید.



- گروه‌های سنی ایران را در سال ۱۳۹۵ مورد بررسی قرار دهید.
- بیشترین جمعیت در کدام گروه سنی مشاهده می‌شود؟ این گروه سنی چه ویژگی‌هایی دارد؟ چه مزایا و محدودیت‌هایی را برای کشور ما ایجاد می‌کنند؟
 - ۳- با کمک هرم‌های سنی زیر، به سؤالات پاسخ دهید.
 - میزان رشد مولید در کدام کشور بیشتر است؟
 - کدام کشور، افراد سالمند بیشتری دارد؟ پیامدهای آن چیست؟
 - کدام کشور درصد جمعیت فعال اقتصادی بیشتر، و چه مزایا و محدودیت‌هایی پیش‌رو دارد؟
 - قاعده هرم دو کشور را مقایسه کنید.



هرم سنی آلمان

هرم سنی اکوادور

- ۴- به نظر شما یک هرم سنی مطلوب (جمعیت مناسب برای حال و آینده) چه شکلی دارد؟ به صورت شماتیک، هرم مناسب جمعیتی رسم کنید. دلایل خود را از چگونگی رسم هرم سنی ارائه کنید.

سیاست‌های جمعیتی

در دهه‌های اخیر بر اثر گسترش بهداشت و واکسیناسیون، لوله‌کشی و بهبود آب آشامیدنی، رونق صادرات نفت و واردات مواد غذایی؛ میزان مرگ‌ومیر کاهش یافته و سبب افزایش سریع جمعیت شده است. جدول زیر، متوسط رشد سالانه جمعیت ایران را در سال‌های ۵۵ تا ۸۵ نشان می‌دهد.

دوره	۱۳۴۵-۱۳۵۵	۱۳۵۵-۱۳۶۵	۱۳۶۵-۱۳۷۵	۱۳۷۵-۱۳۸۵
میزان رشد	۲/۷	۳/۹	۱/۵	۱/۶

جدول متوسط میزان رشد جمعیت ایران

بیشترین و کمترین رشد جمعیت به کدام سال‌ها مربوط است؟ چرا؟
سیاست‌های کاهش جمعیت، سبب کاهش رشد در سال ۱۳۹۵ (۱/۲۴ درصد) شد. این کاهش در آینده می‌تواند مشکلاتی برای کشور ما ایجاد کند که از جمله می‌توان به برهم خوردن تعادل جمعیتی، (سن و جنس) کاهش نیروی فعال و تضعیف نیروی دفاعی کشور، اشاره کرد.
اگر سیاست کنترل جمعیت در ابعاد شدید ادامه پیدا کند، جمعیت کشور به تدریج دچار پیری و در نهایت مشکلات دیگری در بر خواهد داشت. اساساً نباید سیاست کنترل جمعیت به گونه‌ای باشد که هرم سنی کشور به سمت سالمندی و کهنسالی حرکت کند، زیرا این پدیده مانع اصلی بر سر راه توسعه اقتصادی جامعه خواهد بود.

مهاجرت

مهاجرت عبارت است از جابه‌جایی بین دو واحد جغرافیایی یا به عبارتی ترک یک سرزمین و اسکان در سرزمین دیگر. مهاجرت از عوامل مهم در تغییرات جمعیت به‌شمار می‌رود. با پیشرفت فناوری و وسایل حمل و نقل، حرکت و جابه‌جایی نسبت به گذشته افزایش یافته است. افراد در مهاجرت بین دو واحد جغرافیایی جابه‌جا می‌شوند. بعضی از متخصصان، مهاجرت از ابتدای قرن بیستم تا به حال را در سه شکل بیان کرده‌اند.

۱ مهاجرت روستاییان به شهر که باعث جذب نیروی انسانی جوان از روستا به شهر می‌شود که یکی از انواع مهاجرت داخلی است. این مهاجرت در اقتصاد کشور با از دست دادن نیروی کار روستا و افزایش جمعیت فعال اقتصادی شهر، خود را نشان می‌دهد. در کشور ما، مهاجرت روستاییان به شهرها از مهم‌ترین مهاجرت‌ها در دهه‌های اخیر به‌شمار می‌رود.

۲ مهاجرت‌های گروهی که براساس تصمیمات سیاسی انجام می‌شود.

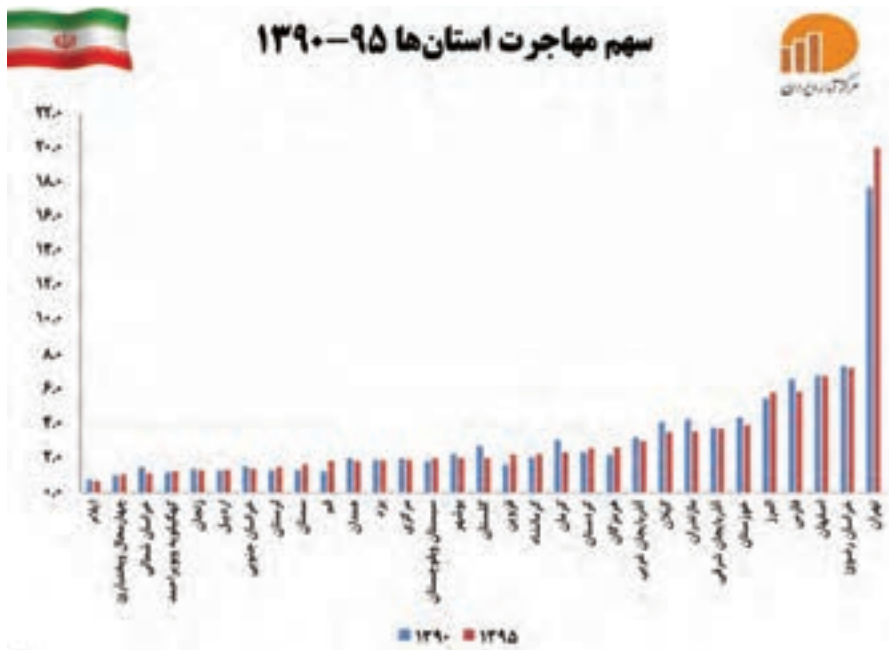
۳ مهاجرت‌هایی که افراد از یک کشور به کشور دیگر جابه‌جا می‌شوند، مهاجرت خارجی می‌گویند که به دو صورت اختیاری و اجباری انجام می‌شود.

اثرات مهاجرت: مهاجرت به هر شکلی که انجام شود، برای کشوری که افراد از آن خارج می‌شوند (مهاجر فرست) و همچنین برای کشوری که افراد به آن وارد می‌شوند (مهاجر پذیر) تغییرات اجتماعی، اقتصادی، فرهنگی و محیط زیستی را به همراه دارد.

مهاجرت بر مکان مبدأ و مقصد اثر می‌گذارد. تغییرات به‌وجود آمده بر ترکیب سنی و جنسی، قیمت زمین و مسکن، اشتغال، امکانات و تجهیزات، فرهنگ و زبان قابل مشاهده است. به‌طور مثال مهاجرت بی‌رویه به برخی از شهرهای ایران سبب افزایش جمعیت و گسترش مناطق حاشیه در آنها شده‌اند. آیا می‌توانید اثرات مهاجرت در ترکیب سنی و جنسی مکان مبدأ و مقصد را بیان کنید؟

نکته قابل توجه در مهاجرت این است که اعضای یک خانواده با هم به دنیا نمی‌آیند و با هم از دنیا نمی‌روند (مگر در سوانح)، ولی اغلب، اعضای خانوارها با هم مهاجرت می‌کنند و حتی در مواردی، چندین خانواده یا کلیه ساکنان یک محل یا منطقه به خاطر عامل یا عوامل مشترک، جابه‌جا می‌شوند. به همین خاطر، مطالعه مهاجرت در بحث تغییرات جمعیت مهم است.

نمودار زیر سهم مهاجرت استان‌های کشور را طی سال‌های ۱۳۹۵-۱۳۹۰ نشان می‌دهد، کدام استان‌های ایران، در طی این دوره بیش‌ترین روند مهاجر پذیری را داشته‌اند. علت آن را چه می‌دانید؟ مهاجرپذیرترین استان کدام است؟



اطلاعات زیر به برخی از عوامل انسانی و طبیعی که در ایران سبب مهاجرت شده است، اشاره دارد.

شاه عباس برای حفظ مرزهای شمالی ایران، تعدادی از قبایل کُرد را، که به رزم‌آوری و سلحشوری، مشهور بودند به نواحی شمال‌شرقی کشور فرستاد.

آرایی‌ها از شمال دریای خزر به علت سرما و از دست دادن چراگاه‌ها، به سمت جنوب دریای خزر (ایران) مهاجرت کردند.

خشک شدن منابع آب منطقه سیستان، که ناشی از بی‌توجهی به بند تاریخی هیرمند بود، باعث مهاجرت سیستانی‌ها به سرزمین گرگان شد.

پس از اصلاحات ارضی در دهه ۴۰، تعداد زیادی از روستاییان به علت نداشتن زمین و مشکلات اقتصادی به شهرهای بزرگ مهاجرت کردند.

شناخت محل زندگی خود

فعالیت ۴

درباره ویژگی‌های جمعیت استان خود، بحث و گفت‌وگو کنید. استان شما در مورد مهاجرت، ترکیب سنی و جنسی چه وضعیتی دارد؟

آغاز جنگ تحمیلی،

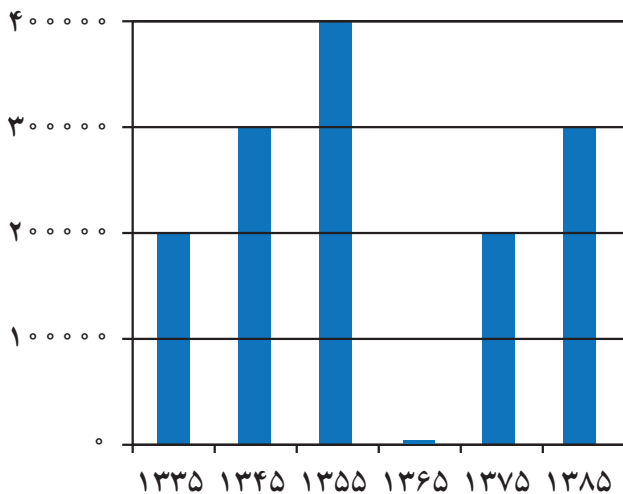
۱۳۵۹



پالایشگاه آبادان

بزرگ‌ترین پالایشگاه جهان،

۱۳۱۷



نمودار تغییرات جمعیتی شهر آبادان ۱۳۳۵-۱۳۸۵

ایجاد منطقه آزاد اقتصادی اروند

در آبادان و خرمشهر، ۱۳۹۲



آبادان صادرکننده

فراورده‌های نفتی،

۱۳۴۲



فعالیت: ۵


به اطلاعات داده شده از شهر آبادان، توجه کنید. این اطلاعات، تغییرات جمعیتی این شهر را طی چند دهه نشان می‌دهد. با توجه به سؤالات داده شده، با یکدیگر بحث و گفت‌وگو کنید؛ سپس پاسخ خود را ارائه کنید.

- مهاجرت اجباری و اختیاری مربوط به چه سال‌هایی می‌باشد؟

- عوامل انسانی و طبیعی اثرگذار بر این نوع مهاجرت‌ها، کدام است؟

تقسیمات کشوری ایران

به تصاویر شناسنامه‌های زیر توجه کنید. به نظر شما موارد مشخص شده با رنگ سفید به چه مفهوم جغرافیایی در ایران اشاره دارد؟



فعالیت: ۱

صفحه خالی شناسنامه را با مشخصات خود پر کنید و نام هر کدام از تقسیمات ذکر شده را با توجه به صفحه اول شناسنامه خودتان تکمیل نمایید.

– تاریخچه تقسیمات کشوری در ایران

● پیش از اسلام

پس از ورود آریاییان به فلات ایران و در نخستین مرحله زندگی اجتماعی، یک آبادی کوچک را «ویس» و آبادی بزرگ تر را «گئو» می‌نامیدند.

● بعدها در عصر هخامنشیان، داریوش کشور را به سی شهریه که همان شهر می‌باشد، تقسیم کرد و برای هر یک از آنان مأمورینی گماشت که آنها را شهربان و به یونانی «ساتراپ» می‌گفتند. در دوران سلوکیان کشور به ۷۲ بخش تقسیم شد. قسمت‌های حکومت هخامنشی در حکومت اشکانیان یا پارت‌ها ادامه داشت. در دوره ساسانیان، کشور به سرزمین (ایالت)، خوره (استان)، تسوگ یا تسوج (شهرستان) و رستاک (دهستان) تقسیم شده بود.

● بعد از اسلام

در دوره عباسیان، قلمرو جغرافیایی آنها به واحدهایی تحت عنوان «ایالت» تقسیم‌بندی می‌شد که در مجموع به ۳۱ ایالت می‌رسید.

در دوره صفویه، افشاریه، زندیه و قاجاریه عناصر اصلی تقسیمات کشوری به ترتیب عبارت بودند از: ایالت، ولایت، بلوک و قصبه. در دوره قاجاریه ایران به چهار ایالت و دوازده ولایت تقسیم شد. این ایالت‌ها عبارت بودند از: آذربایجان، کرمان و بلوچستان، فارس و بنادر، خراسان و سیستان.

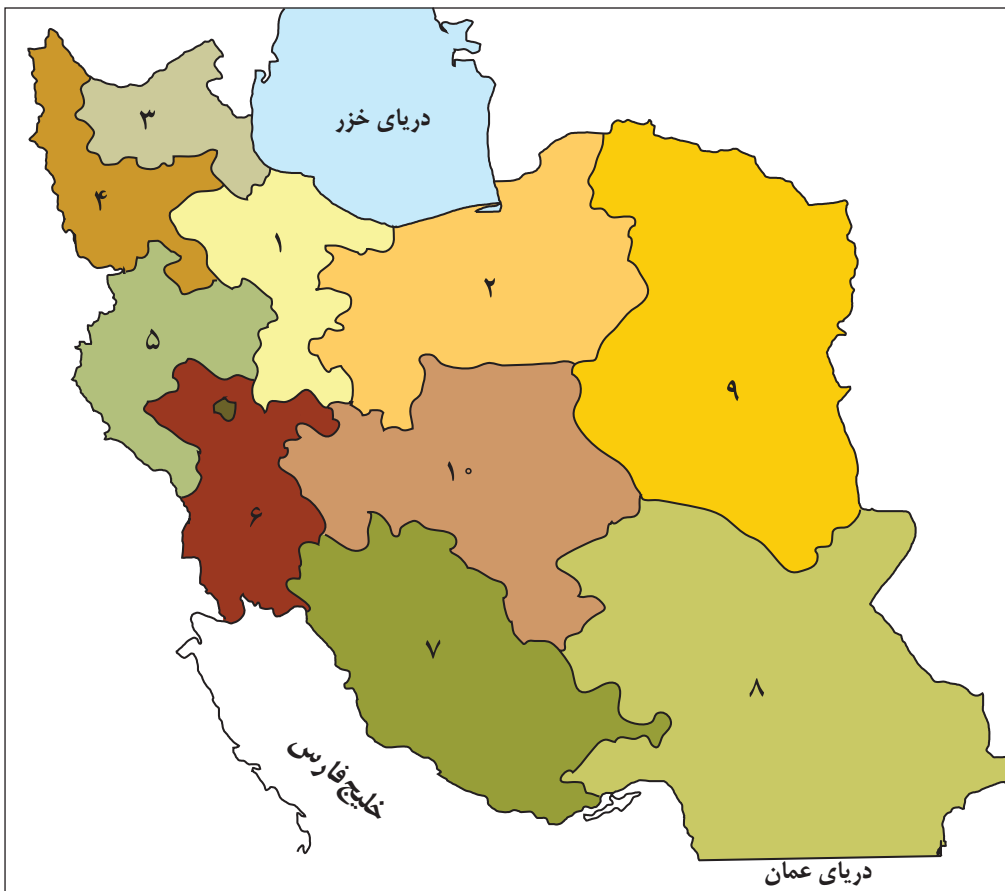


شکل ۱ - نقشه تقسیمات کشوری ایران در زمان هخامنشیان



شکل ۲ - نقشه تقسیمات کشوری ایران در زمان صفویه

در سال ۱۳۱۶ با تصویب قانون تقسیمات کشوری، ایران به ده استان که نام هر استان یک عدد بود و ۴۹ شهرستان تقسیم شد. در این قانون، هر استان به چند شهرستان و هر شهرستان به چند بخش و هر بخش به چند دهستان و هر دهستان به چند قصبه تقسیم می شد.



شکل ۳ - نقشه تقسیمات کشوری ایران در آبان ماه ۱۳۱۶

و در سال ۱۳۵۷ ه.ش، در آستانه پیروزی انقلاب اسلامی، ایران به ۲۴ استان تقسیم شد. و در سال ۱۳۷۲ ه.ش طرح اولین استان جدید با نام اردبیل به تصویب مجلس شورای اسلامی رسید و پس از آن استان های قم، قزوین، گلستان، خراسان های شمالی، رضوی، جنوبی و البرز اضافه شدند.

تقسیمات کشوری در ایران

برای اداره بهتر کشور، عرضه خدمات مناسب تر و تأمین نیازهای مردم آن را به واحدهای کوچکتری تقسیم می کنند. این تقسیمات، متناسب با موقعیت و زمان، تغییر می یابد. واحد تقسیمات کشوری ایران در حال حاضر عبارت است از:

استان: واحدی از تقسیمات کشوری است که با محدوده جغرافیایی معین، از به هم پیوستن چند شهرستان هم جوار با توجه به موقعیت های سیاسی، اجتماعی، فرهنگی، اقتصادی و طبیعی تشکیل می شود. استان، توسط استاندار اداره می شود.

شهرستان: واحدی از تقسیمات کشوری با محدوده جغرافیایی معین است که از به هم پیوستن چند بخش همجوار تشکیل شده که از نظر عوامل طبیعی و اوضاع اجتماعی، اقتصادی، سیاسی و فرهنگی، واحد متناسب و همگنی را به وجود آورده است. شهرستان توسط فرماندار اداره می‌شود.

بخش: واحدی از تقسیمات کشوری با محدوده جغرافیایی معین است که از به هم پیوستن چند دهستان هم‌جوار، شامل چندین مزرعه، مکان، روستا و احياناً شهر تشکیل شده که از نظر عوامل طبیعی و اوضاع اجتماعی، فرهنگی، اقتصادی و سیاسی، واحد همگنی را به وجود آورده است. بخش، توسط بخشدار اداره می‌شود.

دهستان: کوچک‌ترین واحد تقسیمات کشوری با محدوده جغرافیایی معین است که از به هم پیوستن چند روستا، مکان و مزرعه هم‌جوار تشکیل می‌شود و از لحاظ محیط طبیعی، فرهنگی، اقتصادی و اجتماعی همگن است و امکان خدمات‌رسانی و برنامه‌ریزی در سامانه و شبکه‌ای واحد را فراهم می‌سازد. دهستان توسط ده‌دار اداره می‌شود.



بیشتر بدانیم

براساس آخرین تقسیمات کشوری تا پایان سال ۱۳۹۳، کشور ایران از ۳۱ استان، ۴۲۹ شهرستان، ۱۰۵۷ بخش، ۲۵۸۹ دهستان و ۱۲۴۳ شهر، تشکیل یافته است.

روستا	شهر	دهستان	بخش	شهرستان	استان	کشور	واحد تقسیمات کشوری
دهیار	شهردار	دهدار	بخشدار	فرماندار	استاندار	وزیر کشور	مسئول
دهیاری	شهرداری	دهداری	بخشداری	فرمانداری	استانداری	وزارت کشور	واحد اداری



۱۷- فارس	۱- آذربایجان غربی
۱۸- قزوین	۲- آذربایجان شرقی
۱۹- قم	۳- اردبیل
۲۰- کردستان	۴- اصفهان
۲۱- کرمان	۵- البرز
۲۲- کرمانشاه	۶- ایلام
۲۳- کهگیلویه و بویراحمد	۷- بوشهر
۲۴- گلستان	۸- تهران
۲۵- گیلان	۹- چهارمحال و بختیاری
۲۶- لرستان	۱۰- خراسان جنوبی
۲۷- مازندران	۱۱- خراسان رضوی
۲۸- مرکزی	۱۲- خراسان شمالی
۲۹- هرمزگان	۱۳- خوزستان
۳۰- همدان	۱۴- زنجان
۳۱- یزد	۱۵- سمنان
	۱۶- سیستان و بلوچستان

شکل ۴ - نقشه تقسیمات کشوری ایران در سال ۱۳۹۵

تقسیمات کشوری از دیدگاه نقشه



شناخت محل زندگی خود

فعالیت: ۲

- ۱- به طور گروهی، نقشه استان خود را ترسیم، و شهرستان‌های آن را مشخص کنید.
- ۲- با مراجعه به بخش تقسیمات کشوری، وضعیت محل زندگی خود را از نظر قرارگیری در شهرستان، بخش، روستا و شهر، مشخص، و مانند تصاویر بالا برای هر کدام، نقشه‌ای تهیه کنید.
- ۳- با مراجعه به سایت اینترنتی استانداری یا اداره سیاسی محل زندگی خود، جدیدترین تغییرات تقسیمات کشوری استان خود را تهیه، و به کلاس گزارش کنید.


سکونتگاه‌های ایران

شکل‌گیری سکونتگاه‌ها

به‌عنوان درس توجه کنید. به نظر شما سکونتگاه چه مفهومی دارد؟ کدام یک از تصاویر زیر معنای سکونتگاه را به نمایش می‌گذارد؟



شکل ۲- خانه عباسیان - کاشان

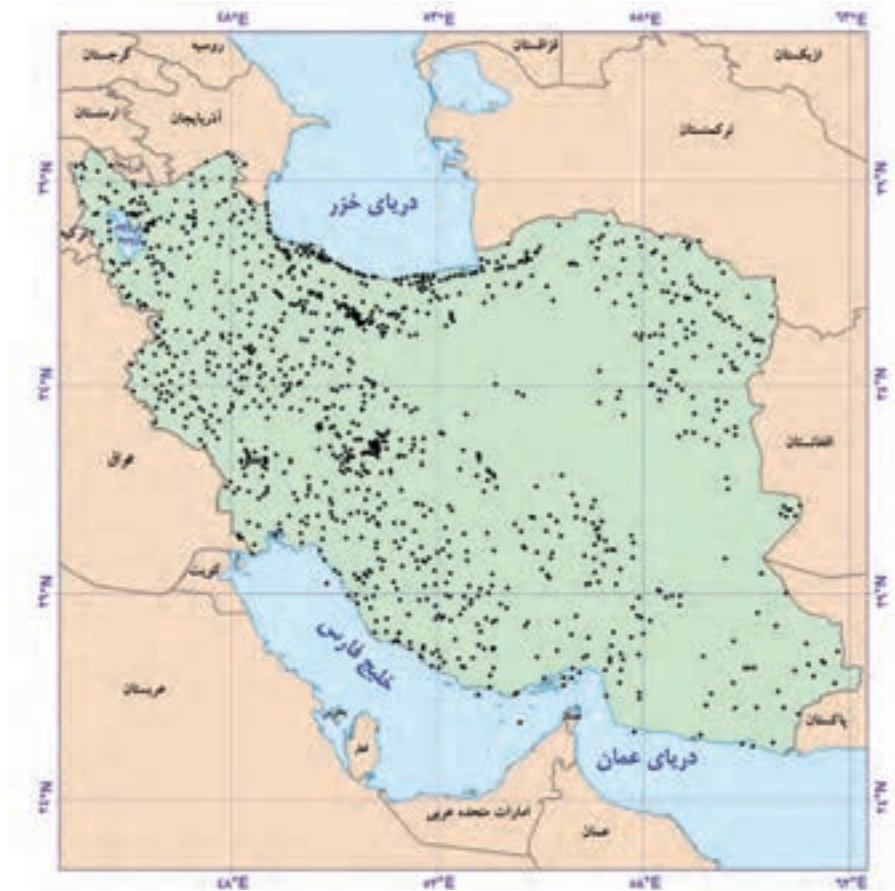


شکل ۱- روستای جاغرق - استان خراسان رضوی

شاید از نظر شما هر دو تصویر، سکونتگاه را به نمایش گذاشته است؛ اما از دیدگاه دانش جغرافیا، سکونتگاه محلی است از مجموعه مساکن که عوامل طبیعی و انسانی در شکل‌گیری آن نقش دارند. هر شهر و روستا یک سکونتگاه است. عواملی در شکل‌گیری سکونتگاه‌های شهری و روستایی ایران نقش دارند. بین این عوامل، آب بیشترین اهمیت را داشته است. بسیاری از سکونتگاه‌های اولیه، در کنار رودها به‌وجود آمده‌اند. همواره آب در هر مکان، در تمایل انسان به کار کشاورزی و ساکن شدن به‌صورت دائم نقش مهمی داشته است. با ساکن شدن انسان در یک مکان، اولین سکونتگاه‌ها به نام روستا پدید آمد. افزایش جمعیت در سکونتگاه‌های روستایی، زمینه‌ساز ایجاد شهرهای اولیه شد. به نظر شما به‌جز آب، چه عامل یا عواملی در شکل‌گیری سکونتگاه‌ها اثرگذار است؟ اگر در زمان شکل‌گیری یک سکونتگاه روستایی آب به اندازه کافی باشد اما خاک، حاصلخیزی لازم را نداشته باشد، چه وضعی پیش می‌آید؟ اطلاعات داده شده به شما کمک می‌کند که علاوه بر آب، سایر عوامل اثرگذار را در شکل‌گیری سکونتگاه‌ها شناسایی کنید.

جدول ۱- پراکندگی شهرهای ایران بر اساس ارتفاع

درصد شهرها	ارتفاع
۲۷٪	پایین‌تر از سطح دریا تا ۵۰۰ متر
۱۳٪	۵۰۰-۱۰۰۰
۵۳٪	۱۰۰۰-۲۰۰۰
۷٪	۲۰۰۰ به بالا



شکل ۳- نقشه پراکندگی نقاط شهری ایران بر حسب عرض جغرافیایی



شکل ۵- ری شهری در مسیر جاده ابریشم

آیا می‌دانید بزرگ‌ترین شهرهای ایران در گذشته، در مسیر راه‌های کاروان‌رو و بازرگانی داخلی یا خارجی شکل گرفته است؟



شکل ۴- قلعه رودخان - گیلان

فعالیت ۱

۱- پاسخ‌های خود را درباره عوامل اثرگذار در شکل‌گیری سکونتگاه‌ها را در جدول زیر وارد کنید.

عوامل انسانی	عوامل طبیعی
عامل دفاعی و امنیت
.....
.....	شیب زمین


۲- آیا نقش عوامل اثرگذار بر شکل‌گیری سکونتگاه‌ها در گذشته و اکنون یکسان است؟ چه عواملی در سال‌های اخیر در شکل‌گیری سکونتگاه‌ها اثر بیشتری دارد؟

۳- با استفاده از مطالب کتاب استان‌شناسی و کمک معلم و هم‌کلاسی‌هایتان، علت شکل‌گیری شهر یا روستای محل زندگی خود را بررسی، و به‌صورت گزارش به کلاس ارائه کنید.

عوامل اثرگذار در گسترش سکونتگاه‌ها




عوامل اثرگذار مانند آب، خاک، شیب‌زمین و... نه‌تنها در پیدایش سکونتگاه‌ها، بلکه در تغییرات به‌وجود آمده در آنها نقش دارد. شرایط جغرافیایی (طبیعی، انسانی) مناسب، در گسترش سکونتگاه‌ها اثرگذار است. بسیاری از سکونتگاه‌های شهری و روستایی ایران گسترش چشمگیری داشته است. چه شهرها و روستاهایی را می‌شناسید که در دهه‌های اخیر گسترش یافته است؟ چه عوامل طبیعی و انسانی بر این گسترش اثر گذاشته است؟

گاهی عوامل طبیعی یا انسانی، موقعیتی به‌وجود می‌آورد  شکل ۶- بقایای شهر بیشاپور

که یک سکونتگاه اعتبار خود را از دست می‌دهد یا از بین می‌رود؛ به‌طور مثال شهر باستانی بیشاپور، که در شمال غربی کازرون قرار دارد در زمان ساسانیان از اهمیت ارتباطی مهمی در ایران برخوردار بود. این شهر تا قرن هفتم هجری، آباد و مسکونی بود. جنگ و بیماری سبب از بین رفتن این شهر شد.

به‌تصاویر مربوط به دو سکونتگاه توجه کنید. چه عاملی بر گسترش این سکونتگاه‌ها اثر دارد؟ این عامل بر نحوه گسترش این سکونتگاه‌ها، چه تأثیری داشته است؟



شکل ۸ - ماکو - آذربایجان غربی 



شکل ۷ - روستای هیر قزوین 

انواع سکونتگاه

تصاویر زیر، انواع سکونتگاه‌ها از نظر شیوه زندگی در ایران را معرفی می‌کند.

● قدیمی‌ترین نوع سکونتگاه که در ایران شناخته شده است، سکونتگاه عشایری است. در این شیوه زندگی، سکونت و یک‌جانشینی دائمی دیده نمی‌شود. عشایر به‌طور مستقیم از منابع طبیعی استفاده می‌کنند. در ایران، وجود کوه‌های البرز و زاگرس و نیز دشت‌های پست و هموار مجاور آنها از قرن‌ها پیش اوضاع مساعدی را برای دامپروری فراهم کرده است. عشایر، زندگی اجتماعی قبیله‌ای دارند و از ایل و طایفه تشکیل شده‌اند و پیوندهای خویشاوندی با هم دارند. **ایل سون، بختیاری، قشقایی و ترکمن** از ایلات عمده کشور ایران هستند.



شکل ۹- زندگی عشایری - ایل سون - استان اردبیل

● روستا، محلی است که فعالیت اغلب ساکنان آن به زمین وابسته است و بیشتر روستاییان به کشاورزی اشتغال دارند. فضای باز اطراف روستاها، چشم‌اندازهای طبیعی زیبایی را برای روستاییان فراهم کرده است. روستاییان نسبت به آداب و رسوم محل زندگی خود، پایبند هستند. بسیاری از روستاییان در کاشت، داشت و برداشت محصول، با یکدیگر همکاری می‌کنند. هوای پاک، طبیعت زیبا و زندگی ساده آرامش بیشتری را برای روستاییان فراهم آورده است. معمولاً در روستاها، عرضه خدماتی نظیر بیمارستان، فروشگاه و حمل و نقل عمومی، کمتر و محدودتر است.



شکل ۱۰- زندگی روستایی - روستای سرآقاسید - چهارمحال بختیاری

● در سال ۱۳۹۵ طبق گزارش مرکز آمار ایران منظور از شهر هر یک از نقاط جغرافیایی است که دارای مصوبه هیئت دولت بوده و دارای شهرداری باشد. همچنین شهر از نظر بافت ساختمانی، اشتغال و سایر عوامل، دارای سیمایی با ویژگی‌های خاص خود است.



شکل ۱۱- زندگی شهری - شهر کرمان

جمعیت زیاد شهرها به خدمات و تسهیلات بیشتری نیاز دارد. جمعیت زیاد سبب شده است خانه‌ها فشرده و محله‌ها پرتراکم شود. بیشتر مردم سکونتگاه‌های شهری، در بخش خدمات و صنعت شاغل هستند. در شهرها معمولاً تفاوت بسیاری در ارزش‌ها، آداب و رسوم و شیوه زندگی مردم مشاهده می‌شود.

تفاوت این سه نوع سکونتگاه را با توجه به اطلاعات داده شده، در جدول زیر بنویسید:

خدمات و تسهیلات	روابط اجتماعی	معیشت	جمعیت	نوع زندگی
				عشایری
				روستایی
				شهری

شکل سکونتگاه‌ها

هر سکونتگاه از اجزای مختلفی تشکیل شده است. اجزای سکونتگاه‌های روستایی شامل خانه‌ها، مزارع، چراگاه‌ها، باغ‌ها، مکان‌های عمومی، مساجد، میدان‌ها و شبکه‌ی معابر یا راه‌ها است. اجزای سکونتگاه شهری اغلب شامل کاشانه‌ها، خیابان‌ها، میدان‌ها، مکان‌های آموزشی و تفریحی، دانشگاه‌ها، بازار و مراکز درمانی است. چگونگی قرارگیری پدیده‌های طبیعی و انسانی در سکونتگاه‌ها، شکل‌های مختلفی از سکونتگاه را به وجود آورده است. به شکل‌های زیر نگاه کنید. آیا می‌توانید تفاوت‌های آنها را پیدا کنید؟ اکنون می‌توانید دو طبقه‌بندی کلی از شکل سکونتگاه‌های روستایی را نام ببرید؟



شکل ۱۳- روستای آق اولر - تالش - گیلان



شکل ۱۲- روستای ليقوان - آذربایجان شرقی

در روستای پراکنده، خانه‌ها با فاصله از هم قرار دارد. به نظر شما زمین‌های کشاورزی در این روستاها کجا قرار دارد؟ چه محدودیت‌هایی برای کشت در این روستاها وجود دارد؟ روستاهای متمرکز تحت تأثیر پدیده‌های اطراف خود است؛ به‌طور مثال روستاهایی که در منطقه‌ی ساحلی و یا کناره‌ی یک رود قرار دارد و یا در امتداد یک جاده شکل می‌گیرد، چگونه دیده می‌شود؟ روستاهایی که در اطراف چشمه‌ها، چاه‌ها و مظهر قنات‌ها گسترش می‌یابد، چه شکلی است؟ روستاهایی که در دامنه‌ی یک کوه استقرار یافته، چه شکلی است؟



شکل ۱۵- روستای پلکانی دیز باد بالا- نیشابور



شکل ۱۴- روستای خطی- روستای لرنی- سیروان- استان ایلام

فعالیت: ۴

- به نظر شما، در کدام مناطق جغرافیایی ایران روستاهای متمرکز و در کدام مناطق روستاهای پراکنده وجود دارد؟ چرا؟



شکل ۱۶- شطرنجی- اصفهان

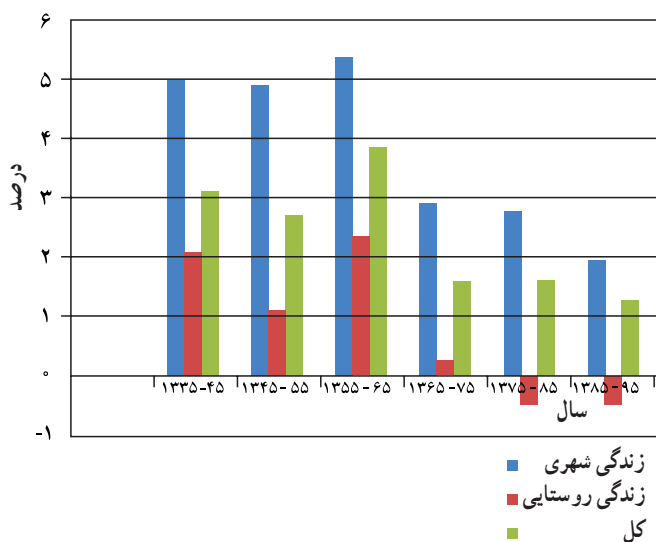
سکونتگاه‌های شهری هم شکل‌های گوناگون دارد. شهرها با توجه به چگونگی پیدایش و کارکردهای مختلف خود، شکل‌های متفاوت دارد. برخی از شهرها شکل ترکیبی دارند. این شهرها در دوره‌های مختلف گسترش پیدا کرده است. به همین دلیل شکل این شهرها از نوع ترکیبی است. به تصاویری از شهرهای ایران توجه کنید. آیا شکل‌گیری و گسترش این شهرها یکسان است؟ با کمک تصاویر با یکدیگر گفت‌وگو کنید.



شکل ۱۸- خطی- بندرعباس



شکل ۱۷- شعاعی- همدان



نمودار ۱- تحولات درصد رشد سالانه جمعیت بر حسب زندگی شهری و روستایی

تغییرات جمعیتی سکونتگاه‌های ایران

افزایش جمعیت سبب شده است که شکل سکونتگاه‌ها به تدریج تغییر یابد. رشد سریع جمعیت از یک سو، بر تعداد جمعیت شهرها افزوده و از سوی دیگر با تبدیل نقاط روستایی به شهر (تأسیس شهرداری)، تعداد نقاط شهری را افزایش داده است. در سه دهه اخیر، ایران شاهد تغییرات زیادی در جمعیت و ظاهر سکونتگاه‌های خود بوده است. این تغییرات در شیوه زندگی اجتماعی - اقتصادی آنان هم اثر داشته است. نمودار ۱ و ۲ به شما کمک می‌کند که روند تغییرات جمعیت ایران را در دهه‌های اخیر بهتر متوجه شوید.



نمودار ۲- تعداد شهرها ۱۳۳۵-۹۵

پیدایش شهرهای پر جمعیت؛ خوب یا بد؟

در دهه‌های اخیر، شهرنشینی در جهان گسترش یافته و رشد شتابان شهرنشینی سبب ایجاد شهرهایی با جمعیت میلیونی شده است. کشور ما هم در دهه‌های اخیر، رشد سریع شهرنشینی داشته است. از حدود سال ۱۳۶۰ ه. ش بیش از ۵۰٪ از جمعیت کشور در شهرها زندگی می‌کنند. پدیده گرایش به شهرنشینی در همه جای کشور به چشم می‌خورد؛ اما در سال‌های اخیر ۸ شهر ایران، جمعیت بیشتری را در خود جای داده است. جدول صفحه بعد، ۸ شهر کشور را نشان می‌دهد که در سال ۱۳۹۰ بیش از یک میلیون نفر جمعیت داشته است. در ایران به شهرهایی که جمعیت بیش از یک میلیون نفر داشته باشد، کلان شهر می‌گویند. در کدام قسمت از کشور تعداد بیشتری کلان شهر دیده می‌شود؟

جمعیت کلان شهرهای ایران در سال‌های ۱۳۸۵ الی ۱۳۹۵

رتبه کشور	نام شهر	۱۳۸۵	۱۳۹۰	۱۳۹۵
۱	تهران	۷/۷۰۵/۰۳۶	۸/۱۵۴/۰۵۱	۸/۷۳۷/۵۱۰
۲	مشهد	۲/۴۱۰/۸۰۰	۲/۷۴۹/۳۷۴	۳/۲۴۳/۲۴۹
۳	اصفهان	۱/۵۸۳/۶۰۹	۱/۷۵۶/۱۲۶	۲/۲۴۳/۲۴۹
۴	کرج	۱/۳۷۷/۴۵۰	۱/۶۱۴/۶۲۶	۱/۹۷۳/۴۷۰
۵	تبریز	۱/۳۷۸/۹۳۵	۱/۴۹۴/۹۸۸	۱/۷۷۳/۰۳۳
۶	شیراز	۱/۲۱۴/۸۰۸	۱/۴۶۰/۶۶۵	۱/۸۶۹/۰۰۱
۷	اهواز	۹۶۹/۸۴۳	۱/۱۱۳/۰۳۱	۱/۳۰۲/۵۹۱
۸	قم	۹۵۱/۹۱۸	۱/۰۷۴/۰۳۶	۱/۲۹۲/۲۸۳

* مأخذ: مرکز آمار ایران

در درس جمعیت، با جاذبه‌های شهری آشنا شده‌اید. مهاجرت در تغییر جمعیت شهری تأثیر زیادی داشته است. با اینکه شهرها به دلایل امکانات و تسهیلات، مورد توجه مهاجران بوده‌اند اما در شهرها، مخصوصاً شهرهای بزرگ، مشکلات و نارسایی‌هایی به چشم می‌خورد. این نارسایی‌ها در زمینه‌های مختلف اجتماعی، اقتصادی و زیست محیطی، زندگی در این شهرها را دشوار کرده است. به اطلاعات داده شده توجه کنید. عواملی که سبب ایجاد وضعیت نامناسب زندگی شهری می‌شود را نام ببرید.

در روزهای اخیر بر اثر آلودگی هوا، شمار بیماران تنفسی تا ۶۰ درصد افزایش یافته است. آلودگی هوا در تهران به طور متوسط، موجب کاهش ۵ سال از عمر تهرانی‌ها شده است.

طی یک دهه گذشته، رشد قیمت مسکن، شتاب فزاینده‌ای داشته است. شهرهای بزرگ کشور وضعیت دشوارتری در این زمینه داشته است.



در کلاس خود دو گروه مخالف و موافق زندگی در شهرهای بزرگ را تشکیل دهید. روی تخته کلاس دو ستون رسم کنید. دلایل موافقت هر گروه را از نوع زندگی موردنظر بنویسید. در پایان، نظرات خود را جمع‌بندی کنید.

نقش سکونتگاه‌ها

نقش هر سکونتگاه براساس وضع جغرافیایی آن، اعم از طبیعی یا انسانی تعیین می‌شود؛ به‌طور مثال، شهرهای مقدس مشهد و قم به‌دلیل وجود زیارتگاه‌ها مورد توجه زائران است. این شهرها را «زیارتگاهی» می‌نامند. شهرهای بوشهر و انزلی به‌دلیل قرارگیری در کنار دریا قابلیت پهلوگیری و تخلیه بارگیری و نگهداری کالاهای ورودی و خروجی را دارند که به شهرهای بندری مشهورند. شهر تهران به‌دلیل پایتخت بودن، استقرار وزارت خانه‌ها، سفارتخانه‌ها و مراکز بزرگ اداری دارای نقش سیاسی - اداری می‌باشد. همچنین به‌دلیل اقامت دانشجویان از سراسر کشور، نقش دانشگاهی هم دارد. شهرهای اصفهان و اراک به‌دلیل وجود کارخانه‌های مهم و متعدد، نقش صنعتی دارند. اکنون با توجه به مکانی که در تصاویر به نمایش گذاشته شده است، آیا می‌توانید نقش سکونتگاه مربوط به هر تصویر را تعیین کنید؟



درباره نقش سکونتگاه‌ها به نکته‌های زیر توجه کنید.

- امروزه اغلب سکونتگاه‌ها چند نقش دارد و این نقش‌ها را با هم ایفا می‌کنند.
- نقش سکونتگاه‌ها در چهره و سیمای آنها منعکس می‌شود. سیمای سکونتگاه دانشگاهی با سکونتگاه صنعتی تفاوت دارد.
- ممکن است نقش سکونتگاه در طول زمان تغییر کند یا تکامل و توسعه یابد؛ مثلاً سکونتگاه صنعتی به تدریج نقش‌های اداری و سیاسی را نیز به عهده بگیرد.

فعالیت: ۶

با توجه به وضع جغرافیایی و یا نقش سکونتگاه، جدول زیر را کامل کنید.

نمونه	نقش سکونتگاه	وضع جغرافیایی	نمونه	نقش سکونتگاه	وضع جغرافیایی
	اداری و سیاسی		بندری	قرار گرفتن در کنار دریا
پیرانشهر	نظامی		سرعین	چشمه آب معدنی
	تاریخی		زیارتگاهی
	تاریخی		معدنی
	دانشگاه‌های بزرگ

شناخت محل زندگی خود

فعالیت: ۷

شغل بیشتر مردم شهر و یا روستایی که شما در آنجا زندگی می‌کنید، چیست؟ چه امکان یا وضعی در محل زندگی شما به چشم می‌خورد که سبب روی آوری مردم به این مشاغل شده است؟ توضیح دهید.

شهرگزیزی

با توجه به مشکلات شهرهای بزرگ در سال‌های اخیر از جمله آلودگی هوا، گرانی مسکن و آسیب‌های اجتماعی، حرکت جمعیت از شهرهای بزرگ به مکان‌های کوچک‌تر یا روستاها آغاز شده است. این پدیده را «شهرگزیزی یا مهاجرت معکوس» می‌گویند.

بسیاری از شهرنشینان آرزوی رفتن به مکانی شبیه به تصویر پایین را دارند. برخی از مردم با رفتن به این مکان‌ها در روزهای تعطیل، به رفع خستگی در طول هفته می‌پردازند؛ اما برخی از مردم اقامت کوتاه مدت در این مکان‌ها آنها را راضی نمی‌کند. این افراد ترجیح می‌دهند با تملک خانه‌ای در نواحی دارای مواهب طبیعی، از امکانات آنجا بهره‌مند شوند.



شکل ۱۹- روستای زرجه بستان - قزوین

فعالیت: ۸

در گروه‌های کلاسی خود، پیامدهای مثبت و منفی ناشی از مهاجرت معکوس را مورد بررسی قرار دهید.

توان‌های اقتصادی ایران

اقتصاد علمی است که انسان برای تأمین نیازهای خود به آن توجه می‌کند. فعالیت‌های اقتصادی موجب افزایش ثروت در کشورها می‌شود و در نتیجه رفاه و آسایش را برای مردم آن کشور فراهم می‌آورد. فعالیت‌های اقتصادی در سه بخش انجام می‌شود؛ کشاورزی، صنعت و خدمات. توجه همه جانبه به سه بخش مذکور نقش مهمی در توسعه اقتصادی و پیشرفت کشورها دارد. به‌طور مثال کشاورزی رونق نمی‌گیرد مگر اینکه امکانات مناسبی توسط بخش خدمات و صنعت فراهم شود. پاسخ به سؤالات زیر کمک می‌کند تا وابستگی بین بخش‌های مختلف اقتصادی بهتر درک شود.

- میزان استفاده از ابزار آلات کشاورزی چه تأثیری در میزان و کیفیت محصولات کشاورزی دارد؟

- وضعیت حمل و نقل در توزیع محصولات کشاورزی چه تأثیری می‌گذارد؟

- بازرگانی و تجارت چه تأثیری بر صادرات محصولات کشاورزی و صنعتی می‌گذارد؟

آیا می‌توانید سؤالات دیگری طرح کنید که پاسخ‌های آن وابستگی این سه بخش اقتصادی را نشان دهد؟

برای پیشرفت و توسعه اقتصادی باید از تمام توان مالی موجود بهره گرفت. محیط طبیعی مساعد از یک سو و انسان توانمند از سوی دیگر بستر مناسبی برای فعالیت‌های اقتصادی فراهم می‌آورد.

شناخت توان‌های محیطی به انسان کمک می‌کند تا از مکان‌ها به‌طور صحیح و بهینه استفاده کند و در بخش‌های مختلف اقتصادی به‌خوبی عمل نماید.

بخش کشاورزی

یکی از اساسی‌ترین نیازهای انسان، نیاز به غذا است. به‌منظور برطرف کردن این نیاز، شکلی از رابطه بین انسان و محیط طبیعی ایجاد شده است که آن را «کشاورزی» می‌نامیم.


این بخش به دلیل ایفای نقش حیاتی در تأمین مواد غذایی سالم، خودکفایی، ایجاد اشتغال و بهره‌مندی صحیح از مواهب الهی مانند آب و خاک، در اقتصاد کشور نقش بسیار مهمی دارد.

کشاورزی از فعالیت‌های اساسی و زیربنایی در اقتصاد ایران است که در سایه تلاش روستاییان زحمتکش محصولات با کیفیت به بازار عرضه می‌شود.

این بخش شامل فعالیت‌های گوناگونی است. مهم‌ترین فعالیت‌ها در این بخش عبارت است از: زراعت، باغداری و دامداری.



شکل ۲- پرورش دام - کوهدشت - لرستان



شکل ۲- کشت گندم - ملایر - همدان



شکل ۱- انگور - ارومیه - آذربایجان غربی

به تصاویر زیر نگاه کنید. به نظر شما این فعالیت‌ها کدام یک از بخش‌های دیگر کشاورزی را پوشش می‌دهد؟ کدام شرایط اقلیمی و جغرافیایی در ایجاد این نوع فعالیت‌ها تأثیرگذار است؟



۲



۱

..... ۱

..... ۲

..... ۳



۳

تنوع آب و هوایی در ایران، موقعیت مساعدی را برای تولید انواع محصولات زراعی فراهم آورده است. انواع غلات، حبوبات، سبزیجات و محصولات جالیزی، نباتات علوفه‌ای و محصولات صنعتی، از جمله محصولاتی است که در نقاط مختلف کشور کشت می‌شود.



شکل ۵- برداشت سیب‌زمینی - البرز



شکل ۴- برداشت گندم - فارس

با اینکه فعالیت‌های زراعی در کشورمان بسیار گوناگون است، محدودیت در منابع آب و خاک، بهره‌وری کم، وجود آفات و خسارات طبیعی، نوسانات آب و هوایی، بی‌ثباتی در قیمت محصولات و... از جمله مشکلات تولیدات زراعی در کشور است که باعث شده است کشورمان در تأمین برخی محصولات زراعی به واردات وابسته باشد.

باغداری

اختلاف شدید درجه حرارت روزانه و سالانه در نواحی مختلف ایران، سبب ایجاد تنوع فراوان در تولیدات باغی شده است. کشور ما برای تولیدات باغی از مزیت‌های زیادی برخوردار است؛ زیرا امکان کشت انواع گوناگون میوه‌های سردسیری، نیمه‌گرمسیری و گرمسیری را دارد. این بخش از کشاورزی، از مهم‌ترین اقلام صادراتی کشور است که هر ساله ارزش فراوانی را وارد کشور می‌کند. گونه‌های بی‌نظیری مانند پسته، انار و خرما می‌ایرانی در جهان بی‌همتاست.



شکل ۸- پسته - رفسنجان - کرمان



شکل ۷- انار ساوه - مرکزی



شکل ۶- خرما - آپبخش - بوشهر

با توجه به استعدادهای متفاوت نواحی مختلف کشور در زمینه تولیدات باغی، هر استانی میوه‌های ویژه خود را تولید می‌کند. جدول زیر، پراکندگی تولید سالانه میوه را در کشور ما نشان می‌دهد.

جدول ۱- جدول پراکندگی تولید سالانه میوه در کشور

نام محصول	استان‌های اصلی تولیدکننده
سیب درختی	آذربایجان غربی، آذربایجان شرقی، تهران، فارس، اصفهان،
انگور	آذربایجان غربی، فارس، همدان، خراسان رضوی، قزوین
پرتقال	مازندران، فارس، کرمان
خرما	کرمان، سیستان و بلوچستان، خوزستان، بوشهر، فارس
انار	فارس، مرکزی، خراسان رضوی، یزد
پسته	کرمان، خراسان رضوی، یزد، فارس، سمنان

امروزه با توجه به مشکل کاهش منابع آبی کشور، توصیه می‌شود محور توسعه کشاورزی از زراعت به توسعه باغداری با روش‌های نوین آبیاری و متناسب با محیط تغییر یابد. این موضوع را در کلاس طرح نموده و در مورد آن بحث کنید.

استفاده از کشت گلخانه‌ای، یکی از روش‌هایی است که بین باغداران ایرانی رایج شده است؛ زیرا مزایای فراوانی دارد؛ از جمله:

- ۱ کاهش مصرف آب
- ۲ تولید در طول سال و همه جا
- ۳ کنترل بهتر وضعیت کشت



شکل ۹- کشت گلخانه‌ای توت فرنگی - هشتگرد - البرز

فعالیت: ۱

- ۱- علت و تنوع پراکندگی محصولات باغی و زراعی را در استان خود بررسی کنید.
- ۲- آیا در استان محل زندگی شما کشت گلخانه‌ای رواج دارد؟ چه نوع محصولی در آنجا کشت می‌شود؟

دامداری

بسیاری از مواد غذایی که ما مصرف می‌کنیم، مستقیم یا غیرمستقیم از راه دامداری به دست می‌آید. گستردگی کشور در عرض جغرافیایی، تنوع اقلیمی و گونه‌های گیاهی، وضعیت مناسبی را برای پرورش انواع دام فراهم کرده است. علاوه بر آن روند رو به رشد صنایع تبدیلی، وجود نیروی انسانی متخصص و ماهر و استفاده از روش‌های علمی در مجموع، باعث رشد این بخش از اقتصاد کشور ما شده است.



شکل ۱۲- پرورش بلدرچین - گالیکش - گلستان



شکل ۱۱- پرورش شترمرغ - ورامین



شکل ۱۰- پرورش شتر - سیستان و بلوچستان

تولید محصولات دامی باعث رونق صنایع غذایی در کشور شده است. این صنایع در اقتصاد غذایی، اشتغال، تولید ناخالص داخلی، امنیت غذایی و صادرات کشور نقش مهمی دارد. یکی از تولیدکنندگان محصولات دامی، عشایر غیور و زحمت کش هستند، هر چند جمعیت عشایری کمتر از ۲٪ از جمعیت کشور است، آنان ۲۵٪ واحد دامی و ۲۰٪ از تولید پروتئین مربوط به دام کشور را به خود اختصاص داده‌اند.

شناخت محل زندگی خود

فعالیت: ۲

- ۱- در استان محل زندگی شما کدام گروه از تولیدات دامی و صنایع غذایی وجود دارد؟
- ۲- آیا ارتباطی بین توان محیطی محل زندگی شما با این فعالیت‌ها وجود دارد؟

بخش صنعت و معدن

صنعت شامل مجموعه فعالیت‌هایی است که به تغییر شکل فیزیکی یا شیمیایی مواد مختلف اولیه و تبدیل آنها به محصولات جدید منجر می‌شود؛ اعم از اینکه این تغییرات با دست یا ماشین در کارگاه و یا منزل انجام شود. بخش صنعت، محرک اصلی رشد، موفقیت و نوآوری کشورها به‌شمار می‌رود. فعالیت در این بخش به ایجاد اشتغال منجر خواهد شد. بسیاری از مشاغل به‌طور مستقیم یا غیرمستقیم به صنعت وابسته است. بخش صنعت در تجارت، تحقیق، توسعه و بهره‌وری سهم قابل توجهی دارد.



شکل ۱۳- گلیم بافی - عشایر قشقایی - استان فارس

تقسیم‌بندی صنایع در ایران: صنایع اصلی کشور را می‌توانیم به دو گروه «صنایع دستی» و «صنایع ماشینی» تقسیم‌بندی کنیم.



شکل ۱۴- کارگاه بافت فرش دستی - استان کرمان

صنایع دستی: به آن دسته از فعالیت‌هایی گفته می‌شود که عمدتاً با استفاده از مواد اولیه بومی و به‌کارگیری ابزار و وسایل ساده دستی، در قسمتی از مراحل اساسی تولید و به‌ساخت محصولی منجر می‌شود که در هر واحد آن ذوق هنری و خلاقیت فکری صنعتگر به‌گونه‌ای تجلی می‌یابد.

به تصاویر زیر نگاه کنید. آیا تصاویر زیر می تواند فرهنگ و دیدگاه مناطق تولیدکننده آن را نشان دهد؟



شکل ۱۶- کارگاه سفال - لالچین - همدان



شکل ۱۵- کارگاه شیشه‌گری - اسلام‌شهر - تهران

یکی از صنایع دستی مهم ایران فرش دستبافت است. کشور ما یکی از صادرکنندگان عمده این فرش در جهان است که به دلیل بافت و نقش و نگار خاص، از اهمیت و شهرت بین‌المللی برخوردار است.

شناخت محل زندگی خود

فعالیت: ۳

کدام صنایع دستی در محل زندگی شما پر رونق است؟ چرا؟

صنایع ماشینی: شامل صنایع نفت و گاز، پتروشیمی، فلزات اساسی، خودروسازی، ماشین‌سازی، صنایع شیمیایی و صنایع غذایی می‌شود.



شکل ۱۸- تولید فولاد - اهواز



شکل ۱۷- پتروشیمی - شازند - استان مرکزی

صنایع مربوط به فلزات اساسی، از جمله صنایع ماشینی است که شامل صنعت فولاد، آلومینیوم، مس، سرب و روی می‌شود. بخش زیادی از صادرات غیرنفتی کشور را، این بخش صنعتی پوشش می‌دهد.

صنایع خودروسازی: صنعت خودروسازی یکی از شاخصه‌های توسعه یافتگی کشور است که می‌تواند فرصت‌های شغلی بسیاری برای کشور فراهم آورد و از جمله صنایعی است که در سند چشم‌انداز به آن توجه خاصی شده است. دو شرکت بزرگ ایران خودرو و پارس خودرو (سایپا)، بخش عمده‌ای از خودروهای کشور را تولید می‌کنند.



شکل ۲۰- کارخانه ایران خودرو - تهران

صنایع پتروشیمی: از جمله صنایع مهم کشورمان صنعت پتروشیمی است که بعد از نفت و گاز، بزرگ‌ترین بخش صنعتی کشور به‌شمار می‌رود. مواد پتروشیمی در تولید انواع لاستیک، پلاستیک، شوینده، چسب، کود، رنگ، الیاف مصنوعی و... کاربرد دارد.

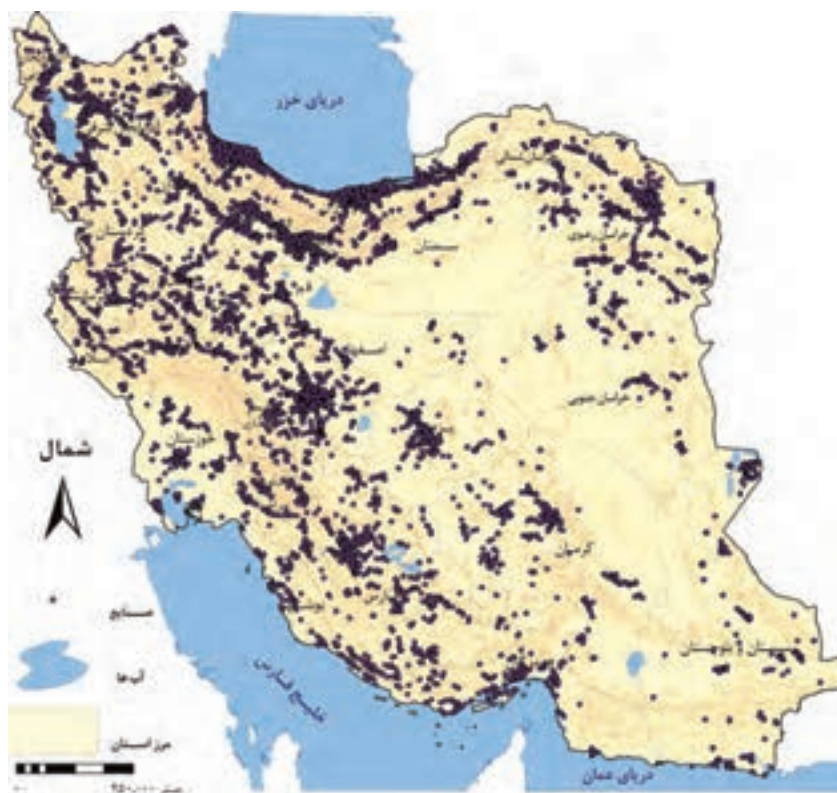


شکل ۱۹- ذوب آهن - اصفهان

شناخت محل زندگی خود

فعالیت: ۴

در استان شما کدام صنایع ماشینی وجود دارد؟ دلایل تولید این محصولات را بیان کنید.



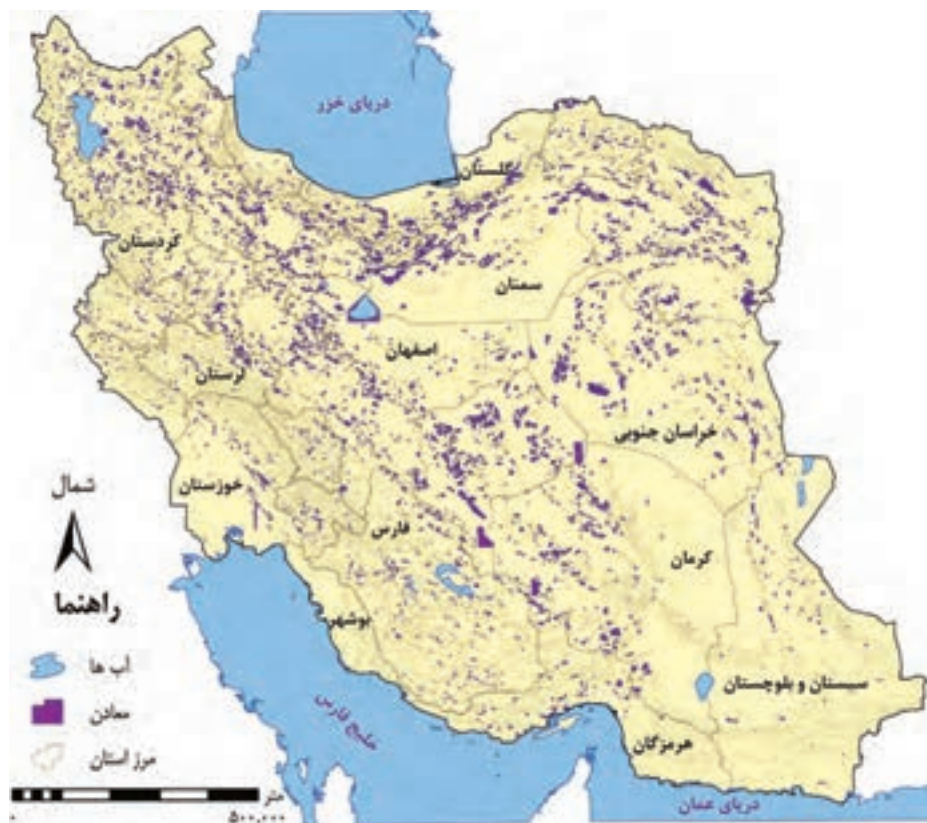
شکل ۲۱- نقشه پراکندگی صنایع ایران

معادن

ایران یکی از کهن‌ترین تمدن‌های جهانی در کشف معادن است و امروزه با وجود بیش از ۷۰ نوع ماده معدنی، یکی از قدرتمندترین کشورهای معدنی جهان است. در کشور ما موادی مانند نفت، گاز، بوکسیت، مس، روی، سرب، سنگ آهن و... وجود دارد.

همچنین بخش معدن یکی از بخش‌های مهم اشتغال در کشورمان است. استان‌های یزد، کرمان و اصفهان بیشترین شاغلان بخش معدن کشور را دارند.

با مقایسه دو نقشه پراکندگی معادن و صنایع ایران، به چه نتیجه‌ای دست می‌یابید؟



شکل ۲۲ - نقشه پراکندگی معادن ایران

عدم تعادل در پراکندگی قطب‌های صنعتی در سطح کشور نشان می‌دهد که به توان و ظرفیت‌های محیطی ایران به‌طور کامل توجه نشده است. به‌طور مثال می‌توان به نواحی شرقی و مرکزی کشور اشاره کرد که از نظر ذخایر و مواد اولیه غنی هستند ولی به دلیل اینکه به صورت محدود مورد بهره‌برداری قرار گرفته‌اند با رشد صنعتی روبه‌رو نبوده‌اند. اگر در استفاده از منابع طبیعی، ویژگی‌ها و توان محیطی آن منطقه مورد بررسی قرار گیرد، همه مناطق کشور می‌توانند متناسب با امکان‌های طبیعی و انسانی خود توسعه یابند.

خدمات

به زنجیره فعالیت‌های مالی، مدیریتی، بهداشتی، آموزشی، انتظامی، اطلاعاتی، گردشگری، تجارت و بازرگانی که به‌طور غیرمستقیم در بهبود کیفیت و کمیت تولیدات کشور مؤثرند، «خدمات» گویند. امروزه، بخش خدمات کمک زیادی به ترسیم سایر بخش‌های اقتصادی می‌کند. به‌طور مثال رشد و توسعه بخش‌های کشاورزی و صنعت وابسته به تحقیقات و پژوهش‌های متعددی است که توسط بخش خدمات انجام می‌شود. خدمات در کشورها به وسیله بخش خصوصی و دولتی به مردم عرضه می‌شود. بسیاری از امکانات خدماتی در ایران از طریق سرمایه‌گذاری بخش دولتی انجام می‌شود. امکانات آموزشی و بهداشتی و درمانی از جمله خدماتی است که دولت به آن توجه می‌کند. خدمات دارای انواع مختلفی است. حمل و نقل، ارتباطات و مخابرات، بانکداری، تجارت و بازرگانی، بهداشت و درمان، امکانات آموزشی، مطالعات و تحقیقات و گردشگری از انواع خدمات هستند.

حمل و نقل

امروزه زیربنای توسعه اقتصادی براساس سیستم حمل و نقل و ارتباطات مناسب آن شکل می‌گیرد. اگر راه‌ها و وسایل حمل و نقل کافی در اختیار نباشد، امکان اتصال بین نواحی مختلف و تبادل کالا وجود نخواهد داشت. می‌گویند: راه‌ها رگ‌حیاتی جامعه هستند و تمام فعالیت‌های اقتصادی، فرهنگی و اجتماعی جامعه را تداوم می‌بخشد. سیستم حمل و نقل مناسب، نتایج مثبتی برای یک کشور دارد. با توجه به راه‌های نواحی دورافتاده، که دارای توان محیطی مناسب برای تولید هستند، زمینه‌های خوبی برای بهره‌برداری ایجاد می‌کند. توجه به همه مناطق کشور با در نظر گرفتن توان محیطی آنها عامل رشد و توسعه کشور را فراهم می‌آورد. راه‌ها دارای انواع مختلفی هستند. به تصاویر زیر دقت کنید تا انواع راه‌ها را بشناسید.



شکل ۲۴ - ایستگاه راه آهن ساری



شکل ۲۳ - فرودگاه سمنان



شکل ۲۶ - بندر کنگان - بوشهر



شکل ۲۵ - آزادراه قزوین زنجان



آموزش و پرورش

نهاد آموزش و پرورش از مهم ترین نظام های اجتماعی هر جامعه محسوب می شود. رسالت این نهاد افزایش سطح آگاهی و نگرش افراد در جامعه است. برای تربیت انسان های سالم و رشد یافته دولت ها هزینه بسیاری صرف می کنند، اما اطمینان دارند اثربخشی و بازدهی آن در درازمدت به دست خواهد آمد. این بخش از خدمات نیروی انسانی کارآمد و متخصص در بخش های صنعت، خدمات و کشاورزی را تربیت می کند.

تجارت و بازرگانی



انسان از ابتدای خلقت تاکنون روش های تجاری متفاوتی را تجربه کرده است. ساده ترین شکل تجارت انسان همان شیوه مبادله کالا به کالا (پایاپای) است. با گذشت زمان تجارت از شکل ساده خود خارج شد و تجارت، شکل جهانی گرفته است. امروزه تجارت یکی از راه های مهم تولید ثروت برای کشورهاست. ایران یکی از کشورهای قدیمی در امر تجارت است. این سرزمین به دلیل موقعیت استراتژیکی ویژه، عبور جاده ابریشم و راه ادویه از نظر تجارت قدمت دارد. با توجه به موقعیت و جایگاه تجارت در تولید ثروت، حضور قوی ایران در عرصه های تجارت جهان ضروری است.

در گذشته انجام امور تجاری در مکان های مشخص مانند بازار و مؤسسات خرده فروشی و عمده فروشی انجام می گرفت. امروزه تجارت الکترونیک بخش وسیعی از انتقال کالا و خدمات را برعهده گرفته است. استفاده گسترده از اینترنت امکان خرید و فروش سریع را به مقدار زیاد تسهیل کرده است.

فعالیت ۵

با جستجو در سایت های اینترنتی معایب و محاسن تجارت الکترونیکی را پیدا نموده و جدول زیر را کامل کنید.

معایب تجارت الکترونیک	محاسن تجارت الکترونیک
– عدم اطمینان طرفین از اصالت یکدیگر	– کاهش هزینه ها
–	–
–	–
–	–

گردشگری

یکی از خدمات مهم، که امروزه مورد توجه بسیاری از کشورها قرار دارد، گردشگری است. گردشگری در ردیف شغل‌های پردرآمد، پاک و کم‌هزینه است که برای کشور میزبان می‌تواند اشتغال‌زایی، توسعه، رونق اقتصادی و ارتباطات جهانی سازنده ایجاد کند.

کشور ما برای جذب گردشگران داخلی یا خارجی توانمندی‌های فراوانی دارد؛ به شکلی که سازمان جهانی گردشگری (WTO)* ایران را از نظر جاذبه‌های طبیعی، در رتبه پنجم و از نظر جاذبه‌های تاریخی و فرهنگی در رتبه دهم جهانی قرار داده است. موارد زیر توانمندی‌های متعدد ایران را برای گسترش این بخش از خدمات نشان می‌دهد.



* World Tourism organization



فعالیت: ۶

- ۱- با توجه به جاذبه‌های گردشگری ایران، هر یک از تصاویر بالا را شماره‌گذاری نمایید.
- ۲- در استان محل زندگی شما چه جاذبه‌های طبیعی و تاریخی و فرهنگی وجود دارد؟ آنها را در کلاس ارائه نمایید.
- ۳- به منظور حفظ و نگهداری این جاذبه‌ها چه اقداماتی می‌توان انجام داد؟



روستای ولاشان - استان اصفهان



فروش صنایع دستی - روستای کندوان - استان آذربایجان شرقی

گردشگری روستایی

یکی از انواع گردشگری که باید مورد توجه قرار گیرد گردشگری روستایی است. در ایران روستاهای متعددی وجود دارد که دارای جاذبه‌های طبیعی و تاریخی بوده و با عنوان نقاط هدف گردشگری از آنها یاد می‌شود.

در گردشگری روستایی بازدیدکنندگان با ویژگی‌های زندگی روستایی، هنر، فرهنگ و میراث فرهنگی روستاها آشنا و تبادلات فرهنگی و اجتماعی بین گردشگران و افراد محلی و ساکن در روستاها ایجاد می‌شود.

روستاها همچنین به دلیل داشتن چشم اندازهای طبیعی و آب و هوای سالم‌تر مکان‌های مناسبی برای گذران اوقات فراغت و استراحت ساکن شهرها می‌باشند.

رونق گردشگری روستایی می‌تواند به ایجاد مشاغل و کسب درآمد روستاها منجر شود.

توسعه پایدار

بهره‌گیری از توان‌های محیطی، با هدف تأمین معاش و توجه به ابعاد مکانی در برنامه‌ریزی‌ها، به عدالت اجتماعی و اقتصادی و تعادل منطقه‌ای انواع فعالیت‌ها منجر می‌شود.

ساماندهی فعالیت‌های انسان در مکان، براساس توان محیطی می‌تواند از صدمات ناشی از بهره‌گیری انسان از محیط بکاهد و زمینه‌های رسیدن به توسعه پایدار را فراهم سازد.

توسعه پایدار به معنای تأمین نیازهای امروز، بدون کاستن از توانمندی‌های نسل‌های آینده است.

بنابراین، شناخت توان‌های جغرافیایی و درک صحیح ظرفیت‌های محیطی ایران، راه‌حل مناسبی برای رسیدن به اهداف توسعه پایدار است.

