

توان‌های گویا و عبارت‌های جبری



پژوهشگاه رویان هشتم خرداد ماه سال ۱۳۷۰ به عنوان مرکز جراحی محدود با هدف ارائه خدمات درمانی به زوج‌های نابارور و پژوهش و آموزش در زمینه علوم باروری و ناباروری توسط زنده یاد دکتر سعید کاظمی آشتیانی و گروهی از پژوهشگران و همکارانش در جهاد دانشگاهی علوم پزشکی ایران تأسیس شد. در حال حاضر این پژوهشگاه فعالیت‌های پژوهشی خود را در سه پژوهشکده پزشکی تولیدمثل، سلول‌های بنیادی و زیست فناوری دنبال می‌کند و در دو مرکز درمان ناباروری و سلول‌درمانی نیز به بیماران خدمات ارائه می‌کند.



بانک سلول‌های بنیادی رویان



درس اول ریشه و توان

درس دوم ریشه ام

درس سوم توان‌های گویا

درس چهارم عبارت‌های جبری

درس اول: ریشه و توان

در سال گذشته با ریشه‌های دوم و سوم عددها آشنا شده‌اید. ریشه و توان رابطه‌ای دو سویه با هم دارند. به عنوان مثال $\sqrt[3]{8} = 2 \Rightarrow 2^3 = 8$ ؛ همچنین $2^3 = 8 \Rightarrow \sqrt[3]{8} = 2$. علامت \Rightarrow به این معنی است که طرف چپ، طرف راست را نتیجه می‌دهد. اگر طرف راست هم طرف چپ را نتیجه دهد، می‌توان هر دو نتیجه را به طور خلاصه با علامت \Leftrightarrow نوشت. بنابراین می‌توانیم بنویسیم $2^3 = 8 \Leftrightarrow \sqrt[3]{8} = 2$.

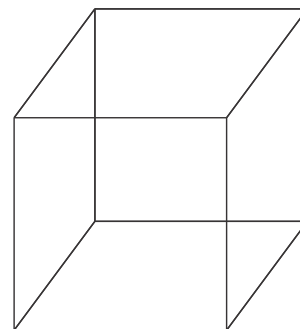
فعالیت

اکنون با هر تساوی توانی یک تساوی رادیکالی بنویسید. همچنین نظیر هر تساوی رادیکالی یک تساوی توانی بنویسید؛ مانند نمونه‌ها

$$\begin{array}{ll} (-3)^3 = -27 \Leftrightarrow \sqrt[3]{-27} = -3 & \sqrt{81} = 9 \Leftrightarrow 9^2 = 81 \\ (-5)^3 = -125 \Leftrightarrow & \sqrt{50} = 5\sqrt{2} \Leftrightarrow \\ (0/25)^2 = 0/625 \Leftrightarrow & \sqrt[3]{-8} = -2 \Leftrightarrow \\ (0/5)^2 = 0/25 \Leftrightarrow & \sqrt{45} = 3\sqrt{5} \Leftrightarrow \end{array}$$

کار در کلاس

۱ حجم مخزن آبی که به شکل مکعب است، برابر ۲۵ متر مکعب است. طول ضلع این مکعب را حدس بزنید و حدس خود را آزمایش کنید. می‌دانیم هرگاه طول ضلع مکعب a متر باشد، حجم آن برابر a^3 متر مکعب است. ابتدا جدول را کامل کنید.



طول ضلع	۱	۲		۴	۶
حجم مکعب	۱	۸	۲۷		۱۲۵

دو دانش آموز طول ضلع مکعب را به روش های روبه رو به دست آورده اند :
روش های این دو دانش آموز را توضیح دهید.

احمد: چون $3^3 = 27$ و $2 < \sqrt[3]{25} < 3$ پس $8 < 25 < 27$
بهرتر است $2/8$ را امتحان کنم
آیا $25 = (2/8)^3$ ؟
 $(2/8)^3 = (2/8)^2 \times 2/8$
 $= 21/952$
 $= 22$




محسن: 25 به 27 نزدیک تر است
تا 8 ، پس بهتر است عدد $2/9$ را
امتحان کنم.

$$(2/9)^3 = (2/9)^2 \times 2/9$$

$$= 24/389$$

$$= 24/4$$



دبیر: طول ضلع مکعبی عددی بین 2 و 3 است. تعداد ارقام اعشاری این عدد بی شمار و دارای دوره تناوب نیست. تقریب این عدد تا یک رقم اعشار برابر با $2/9$ و تا دو رقم اعشار برابر $2/92$ می باشد. چنانچه بخواهیم این عدد را به طور دقیق نمایش دهیم از $\sqrt[3]{25}$ استفاده می کنیم که همان ریشه سوم 25 است.

$$\sqrt[3]{25} \approx 2/9$$

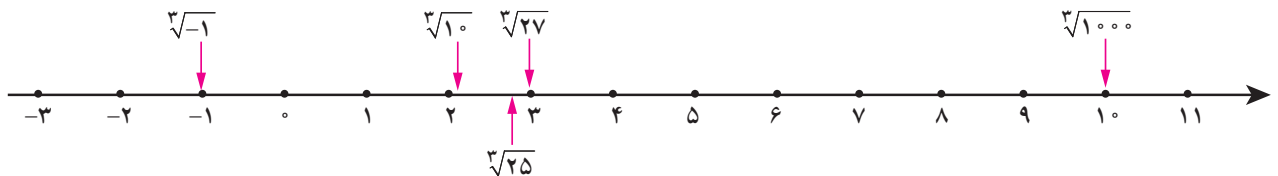
احمد: مقدار دقیق $\sqrt[3]{25}$ چقدر است؟

دبیر: $\sqrt[3]{25}$ یک عدد حقیقی گنگ است. با ماشین حساب، می توانید تقریب دقیق تری از آن به دست آورید، اما هیچ گاه مقدار دقیق آن به صورت اعشاری قابل نمایش نیست و برای نمایش آن از نماد $\sqrt[3]{25}$ استفاده می کنیم.

اگر قدرت ماشین حساب شما بیشتر باشد، تعداد ارقام اعشاری بیشتری به دست می دهد و عدد دقیق تری برای ریشه سوم 25 حاصل می شود.

$\sqrt[3]{25}$ برای نمایش ریشه سوم 25 به کار می رود، اما در کاربردهای دنیای واقعی با مقادیر تقریبی آن مانند $2/9$ ، $2/92$ و $2/924$ کار می کنیم.

ریشه عددها را می توانیم به طور تقریبی روی محور اعداد نشان دهیم.



مانند نمونه با استدلال مشخص کنید که هر ریشه بین کدام دو عدد صحیح متوالی است :
الف) چون $25 < 30 < 36$ پس $5 < \sqrt{30} < 6$. همچنین چون $1 < 5 < 8$ پس $1 < \sqrt{5} < 2$.

ت) $\square < \sqrt[3]{20} < \square$

پ) $\square < \sqrt[3]{-17} < \square$

ب) $\square < \sqrt{10} < \square$

۳ مقدار تقریبی یا دقیق ریشه‌ها را محاسبه کنید و مانند نمونه روی محور اعداد، نشان دهید (می‌توانید از ماشین حساب استفاده کنید).

$$\sqrt[3]{6}$$

$$\sqrt[3]{3} \approx 1/4$$

$$\sqrt[3]{4} =$$

$$\sqrt[3]{125} =$$


$$\sqrt[3]{-8} =$$



۴ زیر رادیکال (جای خالی) عدد یا عددهایی بگذارید که نامساوی‌ها برقرار باشند.

(ب) $9 < \sqrt[3]{\quad} < 10$

(الف) $4 < \sqrt{\quad} < 5$



۵ سه مکعب تو در تو مانند شکل مقابل واقع شده‌اند. حجم مکعب بیرونی (بزرگ) برابر ۶۴

و حجم مکعب داخلی (کوچک) ۲۷ است. طول ضلع مکعب میانی چه عددهایی می‌تواند باشد؟

(حداقل سه پاسخ متفاوت ارائه کنید.)

فعالیت

۱ مانند ریشه‌های دوم و سوم می‌توان ریشه‌های چهارم را تعریف کرد. با هر تساوی توانی یک تساوی رادیکالی داریم:

$$\begin{array}{l} 2^4 = 16 \\ (-2)^4 = 16 \end{array} \Rightarrow \text{ریشه‌های چهارم} \begin{array}{l} \nearrow 2 \\ \searrow -2 \end{array}$$

$$\begin{array}{l} 5^4 = 625 \\ (-5)^4 = 625 \end{array} \Rightarrow \text{ریشه‌های چهارم} \begin{array}{l} \nearrow 5 \\ \searrow -5 \end{array}$$

آیا ۱۶- ریشه‌های چهارم دارد؟ آیا عددی منفی یا مثبت وجود دارد که وقتی به توان ۴ برسد، برابر ۱۶- شود؟ اکنون عبارت را کامل کنید.

هر عدد مثبت دارای ریشه‌های چهارم است که یکدیگرند.
عددهای منفی ریشه‌های چهارم ندارند.

۱ جاهای خالی را در جدول تکمیل کنید. آخرین ستون را به دلخواه کامل کنید.

عدد	۱۶		۶۲۵		۱۰,۰۰۰		۳۱۲۵		
ریشه‌های چهارم	۲	-۲	۵	-۵			$5\sqrt[4]{5}$		

۲ جاهای خالی را در جدول تکمیل کنید.

عدد	-۳۲		-۲۴۳			
ریشه پنجم	-۲	۵		-۱	-۱۰	

۳ ریشه پنجم چه عددهایی با خودشان برابر است؟

۴ محاسبه کنید.

$$\sqrt[5]{\frac{1}{1000000}} =$$

$$\sqrt[5]{-0.00032} =$$

$$\sqrt[5]{\frac{1}{32}} =$$

۵ عبارت را کامل کنید.

هر عدد مثبت یا منفی دارای ریشه پنجم است. اگر عدد مثبت باشد، ریشه پنجم آن مثبت و اگر عدد منفی باشد ریشه پنجم آن است.

تمرین

۱ برای هر عدد رادیکالی زیر، اگر حاصل آن یک عدد صحیح است، جواب را بنویسید و در غیر این صورت دو عدد صحیح متوالی بنویسید که عدد رادیکالی مورد نظر بین آنها باشد.

$$\sqrt{16}$$

$$\sqrt{20}$$

$$\sqrt[4]{400}$$

$$\sqrt{75}$$

$$\sqrt[3]{-8}$$

$$\sqrt[5]{400}$$

$$\sqrt[3]{-90}$$

$$\sqrt[3]{250}$$

$$\sqrt[5]{6}$$

$$-\sqrt[4]{20}$$

۲ مقدار تقریبی هر کدام از اعداد رادیکالی زیر را با یک رقم اعشار مشخص کنید (می‌توانید از ماشین حساب استفاده کنید).

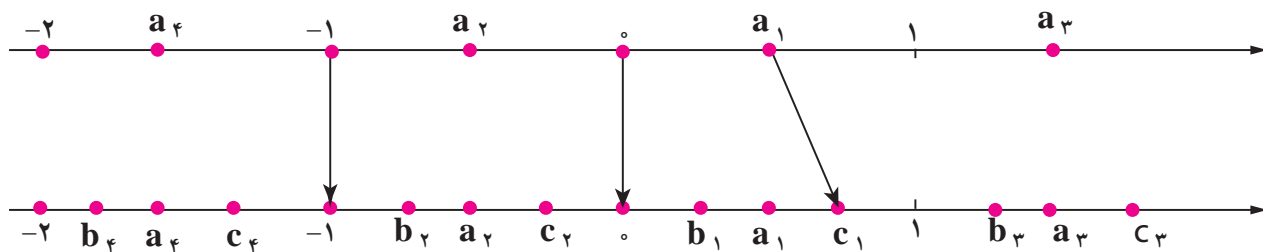
$$\sqrt{10}$$

$$\sqrt[3]{7/25}$$

$$\sqrt[5]{16}$$

$$\sqrt[5]{64}$$

۳ مانند نمونه در شکل زیر، هر یک از نقاط مشخص شده روی محور بالا را به یکی از نقاط مشخص شده روی محور پایین که متناظر با ریشه سوم آن عدد است، وصل کنید (یک مثال عددی از هر مورد ارائه کنید).



۴ با توجه به آنچه درباره ریشه سوم اعداد درک کرده‌اید، به سؤال‌های زیر پاسخ دهید.

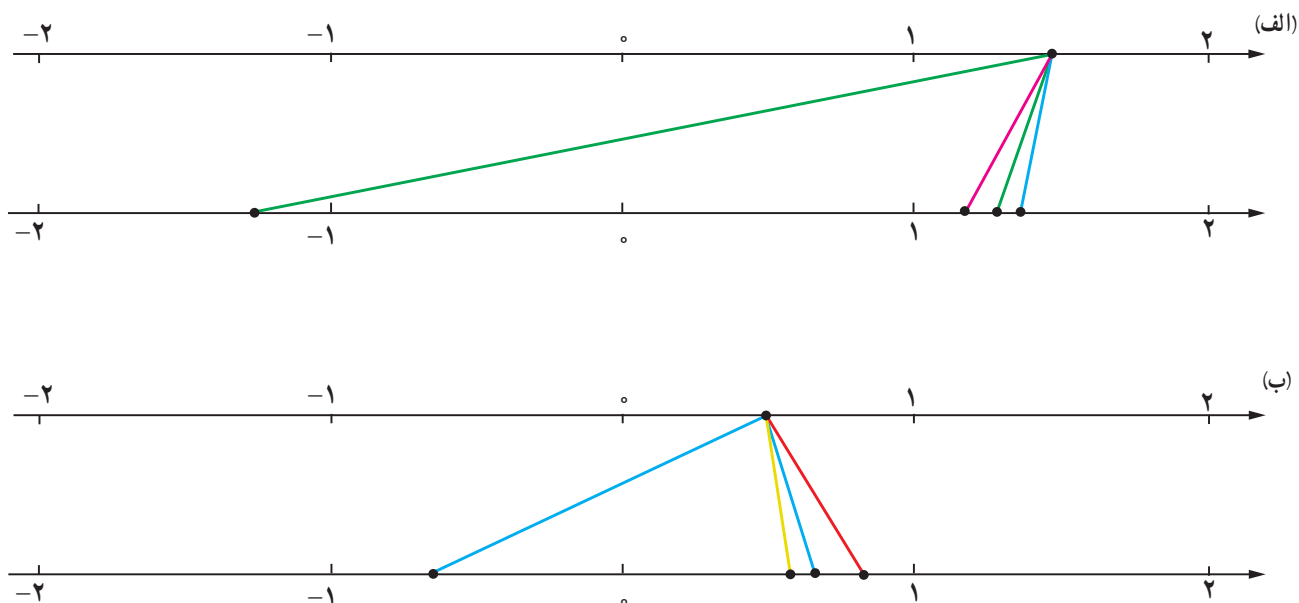
الف) a عددی مثبت است و $\sqrt[3]{a} > a$. چه عددی می‌تواند باشد؟

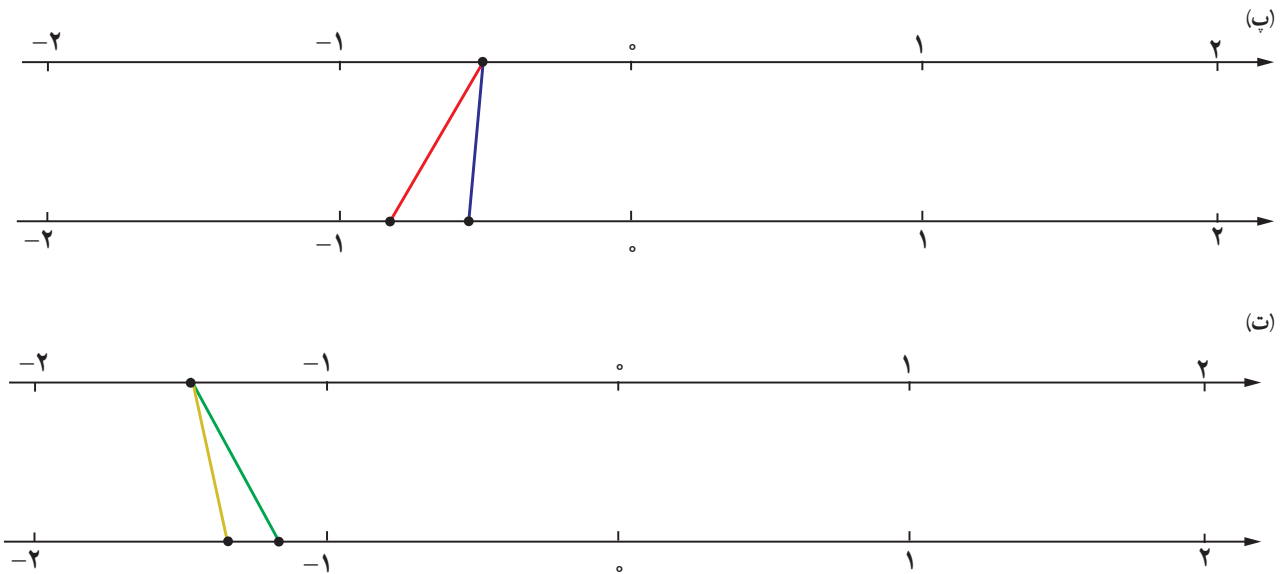
ب) a عددی است که ریشه سوم آن با خودش برابر است؛ یعنی $\sqrt[3]{a} = a$. چه اعدادی می‌تواند باشد؟

پ) a عددی مثبت است و $\sqrt[3]{a} < a$. چه اعدادی می‌تواند باشد؟

ت) به موارد (الف) و (پ) برای حالتی که a عددی منفی باشد، نیز پاسخ دهید.

۵ در هر یک از شکل‌های زیر، نقطه‌ای از محور بالا به ریشه‌های سوم، چهارم و پنجم خود وصل شده است. مشخص کنید هر رنگ مربوط به کدام ریشه است.





۶ جاهای خالی را پر کنید.

الف) اعداد ۳ و ریشه‌های چهارم عدد می‌باشند.

ب) اگر $\sqrt[4]{16} = a$ باشد، در این صورت حاصل عبارت $a^3 + 5$ برابر است با

۷ در جاهای خالی یکی از علامت‌های «>»، «<»، «=» را قرار دهید.

$(-0/1)^5 \bigcirc (-0/1)^3$

$(0/1)^5 \bigcirc (0/1)^3$

$(-2)^5 \bigcirc (-2)^4$

$\sqrt[5]{0/000001} \bigcirc 0/1$

خواندنی



حنا - نخستین بزغاله
نسبیه‌سازی شده خاورمیانه



پایان - نخستین گوساله
نسبیه‌سازی شده خاورمیانه

سلول، واحد تشکیل دهنده بافت‌های بدن است. هر بافت سلول‌های ویژه خود را دارد که در صورت تکثیر، فقط می‌تواند به سلول‌های همان بافت تبدیل شود، ولی سلول بنیادی مادر تمام سلول‌ها است و توانایی تبدیل شدن به تمام سلول‌های بدن را دارد. دانشمندان می‌گویند این سلول‌ها می‌توانند امکان معالجه بیماری‌هایی را فراهم آورند که در حال حاضر فقط درمان‌های محدودی برای آنها وجود دارد. به دلیل توانایی منحصر به فرد سلول‌های بنیادی، پژوهش در مورد آنها امروزه از مباحث جذاب در زیست‌شناسی و پزشکی است. این سلول‌ها همچنین قدرت تکثیر فراوانی دارند و سلامت آنها سبب سلامت بدن می‌شود. پیشرفت در زمینه سلول‌های بنیادی تنها متکی بر علم پزشکی نخواهد بود، بلکه کمک علوم دیگری مانند پلیمر، شیمی، فیزیک و ریاضی هم لازم خواهد بود. دانشمندان ایرانی در زمینه سلول‌های بنیادی پیشرفت‌های چشمگیری داشته‌اند. ایران در زمینه فناوری و تحقیقات سلول‌های بنیادی یکی از ۱۰ کشور برتر جهان محسوب می‌شود.

درس دوم: ریشه نام

فعالیت

۱ مشابه آنچه که برای ریشه‌های دوم، سوم، چهارم و پنجم گفته شد، می‌توان برای ریشه‌های دیگر مثلاً ریشه ششم نیز عمل کرد. جدول زیر را که مربوط به ریشه‌های مختلف عدد ۶۴ است، کامل کنید.

ریشه‌های دوم	ریشه سوم	ریشه‌های چهارم	ریشه پنجم	ریشه‌های ششم	ریشه هفتم	ریشه‌های هشتم
$\sqrt{64} = 8$ و $-\sqrt{64} = -8$		$\sqrt[4]{64}$ و $-\sqrt[4]{64}$	$\sqrt[5]{64}$			

ریشه‌های ششم عدد ۶۴ اعداد $\sqrt[6]{64}$ و $-\sqrt[6]{64}$ یا همان و هستند؛ زیرا $2^6 = 64$ و $(-2)^6 = 64$.
 درباره ریشه‌های هفتم و هشتم عدد ۶۴ چه می‌توانید بگویید؟
 به طور کلی اگر $n \in \mathbb{N}$ ، درباره ریشه نام عدد ۶۴ چه می‌توان گفت؟
 در حالت کلی تر اگر a یک عدد مثبت باشد و $n \in \mathbb{N}$ ، درباره تعداد ریشه‌های نام a چه می‌توان گفت؟

۲ جدول زیر را که درباره ریشه‌های مختلف عدد ۶۴- است، تکمیل کنید.

ریشه دوم	ریشه سوم	ریشه چهارم	ریشه پنجم	ریشه ششم	ریشه هفتم	ریشه هشتم
وجود ندارد	$\sqrt[3]{-64} = -4$	وجود ندارد	$\sqrt[5]{-64}$			

ریشه‌های زوج ۶۴- وجود ندارند؛ زیرا عددی وجود ندارد که به توان برسد و مساوی ۶۴- شود.
 درباره ریشه‌های نام ۶۴- ($n \in \mathbb{N}$) بحث کنید.

اگر a یک عدد منفی و $n \in \mathbb{N}$ باشد، درباره ریشه نام a چه می‌توان گفت؟

اگر $n \geq 2$ یک عدد طبیعی باشد، b را یک ریشه نام n عدد a می‌نامیم. هرگاه $b^n = a$

۳ جدول زیر را کامل کنید.

$a > 0$	n زوج	a دارای دو ریشه نام $\sqrt[n]{a}$ و $-\sqrt[n]{a}$ است	$a = 81$ $n = 4$	81 دارای دو ریشه چهارم $\sqrt[4]{81} = 3$ و $-\sqrt[4]{81} = -3$ است
	n فرد		$a =$ $n =$	
$a < 0$	n زوج	ریشه نام وجود ندارد	$a =$ $n =$	
	n فرد		$a =$ $n =$	

۴ در سال نهم دیدید که :

برای هر دو عدد a و b : $\sqrt[3]{a} \times \sqrt[3]{b} = \sqrt[3]{ab}$

برای هر دو عدد مثبت a و b : $\sqrt{a} \times \sqrt{b} = \sqrt{ab}$

آیا رابطه بالا درباره $\sqrt[4]{a} \times \sqrt[4]{b}$ نیز برقرار می باشد؟ مثال بزنید.

با توجه به اینکه 4 یک عدد زوج است، باید a و b باشند.

$$\sqrt[4]{16} \times \sqrt[4]{81} = 2 \times 3 = \dots\dots\dots$$

$$\sqrt[4]{16} \times \sqrt[4]{81} = \sqrt[4]{\dots\dots\dots} = 6$$

درباره $\sqrt[5]{a} \times \sqrt[5]{b} = \sqrt[5]{ab}$ چه می توان گفت؟

آیا a و b حتماً باید نامنفی باشند؟ مثالی از a و b نامنفی و مثالی از a و b منفی ارائه کنید و نشان دهید تساوی همواره برقرار است.

کار در کلاس

۱ حاصل هر عبارت را به دست آورید :

$$\begin{array}{l} \sqrt{128} = \qquad \qquad \qquad \sqrt[3]{256} = \qquad \qquad \qquad \sqrt[9]{-1} = \\ \sqrt[4]{625} = \qquad \qquad \qquad -\sqrt[4]{10016} = \qquad \qquad \qquad \sqrt[5]{\frac{-1}{32}} = \\ \sqrt{-128} = \qquad \qquad \qquad \sqrt[6]{} = \end{array}$$

۲ با توجه به اینکه

$$\begin{aligned} \sqrt[n]{a} \times \sqrt[n]{b} &= \sqrt[n]{ab} \\ \left(\sqrt[5]{2}\right)^3 &= \sqrt[5]{2} \times \sqrt[5]{2} \times \sqrt[5]{2} \\ &= \sqrt[5]{2^3} \end{aligned}$$

به طور کلی داریم :

$$\sqrt[n]{a} \times \sqrt[n]{b} = \begin{cases} \sqrt[n]{ab} & a, b \geq 0 \text{ و } n \text{ زوج} \\ \sqrt[n]{ab} & a, b \text{ دلخواه و } n \text{ یک عدد طبیعی فرد} \end{cases}$$

قرارداد : به طور کلی این قرارداد را اعمال می‌کنیم :

وقتی می‌نویسیم $\sqrt[n]{a}$ و n را زوج فرض می‌کنیم، a را مثبت یا برابر صفر در نظر می‌گیریم.

بنابراین باید به یاد داشته باشیم که ریشه‌های زوج برای عددهای منفی بی‌معنا هستند. پس هرگاه \sqrt{x} نوشتیم، از آن می‌فهمیم که $x \geq 0$ است. تساوی‌های فوق را می‌توان به صورت مقابل نمایش داد :

$$\sqrt[n]{a} \times \sqrt[n]{b} = \sqrt[n]{ab}$$

تمرین

درستی رابطه $\sqrt[k]{a^m} = (\sqrt[k]{a})^m$ را با مقاردهی‌های مختلف به m, k و a بررسی کنید (اگر k زوج باشد، a باید مثبت باشد).

فعالیت

۱ جدول زیر را کامل کنید.

$\sqrt[n]{a^n}$	$a \geq 0$	زوج n	$n=4$ $a=2$	$\sqrt[4]{2^4} = 2$ $(2 = 2)$
		زوج n	$n=3$ $a=2$	$\sqrt[3]{2^3} =$
	$a < 0$	فرد n	$n=4$ $a=-2$	$\sqrt[4]{(-2)^4} = 2$ $(2 = -2)$
		فرد n	$n=3$ $a=-2$	$\sqrt[3]{(-2)^3} =$

$$\sqrt[n]{a^n} = \dots\dots$$

$$\sqrt[n]{a^n} = \dots\dots \begin{cases} \dots \text{ زوج } n \\ \dots \text{ فرد } n \end{cases}$$

اگر $a \geq 0$ از جدول بالا نتیجه می‌گیریم که :

و اگر $a < 0$ آنگاه

$(\sqrt[n]{a})^n$	$a \geq 0$	زوج n	$n = 4$ $a = 16$	$(\sqrt[4]{16})^4 = 2^4 = 16$
		زوج n	$n = 3$ $a = 8$	$(\sqrt[3]{8})^3 = 2^3 =$
	$a < 0$	فرد n	$n = 4$ $a = -16$	تعریف نشده $\rightarrow (\sqrt[4]{-16})^4$
		فرد n	$n = 3$ $a = -8$	$(\sqrt[3]{-8})^3 =$

$$(\sqrt[n]{a})^n = \dots\dots$$

$$(\sqrt[n]{a})^n = \dots\dots \begin{cases} \dots\dots \text{زوج } n \\ \dots\dots \text{فرد } n \end{cases}$$

اگر $a \geq 0$ آن‌گاه از جدول بالا نتیجه می‌گیریم که:
و اگر $a < 0$ آن‌گاه

کار در کلاس

تساوی زیر به‌ازای چه مقادیری از a و n برقرار نیست؟

$$\sqrt[n]{a^n} = (\sqrt[n]{a})^n$$

تمرین

۱ الف) یکی از علامت‌های $>$ یا $<$ یا $=$ را در \square قرار دهید.

$$(0/5)^2 \square (0/5)^3$$

$$\sqrt{0/5} \square \sqrt[3]{0/5}$$

$$4^2 \square 4^3$$

$$\sqrt{4} \square \sqrt[3]{4}$$

ب) وقتی $0 < a < 1$ است، یکی از علامت‌های مقایسه را در \square قرار دهید.

$$a^2 \square a^3$$

$$\sqrt{a} \square \sqrt[3]{a}$$

پ) وقتی $a > 1$ است، یکی از علامت‌های مقایسه را در \square قرار دهید.

$$a^2 \square a^3$$

$$\sqrt{a} \square \sqrt[3]{a}$$

۲ الف) یکی از علامت‌های $>$ یا $=$ یا $<$ را در مربع قرار دهید.

$$(-0/5)^2 \square (-0/5)^3$$

$$(-2)^2 \square (-2)^3$$

$$(-0/5)^3 \square (-0/5)^5$$

$$(-2)^3 \square (-2)^5$$

$$(0/5)^4 \square (-0/5)^2$$

$$(-2)^4 \square (-2)^2$$

۳ با توجه به تعریف ریشه (اگر $\sqrt[n]{a} = b$ آنگاه $b^n = a$)، نشان دهید برای هر عدد a و هر عدد طبیعی n (به شرط با معنا بودن رادیکال) رابطه زیر برقرار است:

$$\left(\sqrt[n]{a}\right)^n = a$$

۴ آیا تساوی $\sqrt[n]{a+b} = \sqrt[n]{a} + \sqrt[n]{b}$ برقرار است؟ n را برابر ۳، ۴ یا ۵ بگیرید و به جای a و b مقدارهای عددی بدهید.

۵ عددهای زیر را مانند نمونه محاسبه کنید.

$$5^{-3} = \frac{1}{5^3} = \left(\frac{1}{5}\right)^3 \rightarrow \sqrt[3]{5^{-3}} = \frac{1}{5}$$

$$\sqrt[5]{3^{-5}} = \sqrt[5]{\frac{1}{3^5}} = \frac{1}{3}$$

$$\sqrt[4]{3^{-4}} = \frac{1}{3}$$

۶ به جای a و b و عدد طبیعی n عددهایی قرار دهید؛ به طوری که:

الف) تساوی $\sqrt[n]{\frac{a}{b}} = \frac{\sqrt[n]{a}}{\sqrt[n]{b}}$ برقرار باشد.

ب) تساوی $\sqrt[n]{\frac{a}{b}} = \frac{\sqrt[n]{a}}{\sqrt[n]{b}}$ برقرار نباشد.

درس سوم: توان‌های گویا

فعالیت



پدر محمد یک زیست‌شناس است و در یک آزمایشگاه پزشکی کار می‌کند. در آزمایشی یک نوع باکتری کشت داده شده که در شرایط مساعد، جرم این باکتری‌ها در هر ساعت ۲ برابر می‌شود. جرم باکتری‌ها در لحظه شروع ۱ گرم است؛ بنابراین جرم باکتری‌ها پس از یک ساعت ۲ گرم، پس از ۲ ساعت برابر ۴ گرم، و پس از ساعت n برابر 2^n گرم می‌شود:

$$1, 2^1, 2^2, 2^3, \dots, 2^n$$

محمد از پدرش پرسید: «آیا حتماً تا پایان ساعت باید منتظر بمانیم؟ آیا می‌توانیم جرم باکتری‌ها را پس از نیم ساعت محاسبه کنیم؟»

پدرش گفت: تو فکر می‌کنی جرم باکتری‌ها پس از نیم ساعت چقدر می‌شود؟
محمد گفت: حدس می‌زنم جرم آنها $2^{\frac{1}{2}}$ گرم شده باشد. چون نیم همان $\frac{1}{2}$ است.

پدرش گفت: $2^{\frac{1}{2}}$ چقدر است؟

محمد گفت: نمی‌دانم ولی باید بتوانیم مقدار آن را پیدا کنیم.

اگر فرض کنیم در هر نیم ساعت جرم باکتری‌ها b برابر شود، در این صورت بعد از یک ساعت جرم باکتری‌ها باید برابر $b \times b = b^2$ شود. اما می‌دانیم پس از یک ساعت جرم باکتری‌ها دو برابر می‌شوند؛ پس $b^2 = 2$ ؛ یعنی $b = \sqrt{2}$ (زیرا b مثبت است).

نتیجه جالبی است! $2^{\frac{1}{2}} = \sqrt{2}$. مشابه این رابطه را می‌توانیم برای توان‌های دیگر نیز تعریف کنیم: $2^{\frac{1}{3}} = \sqrt[3]{2}$ ، $2^{\frac{1}{4}} = \sqrt[4]{2}$ ؛ همچنین برای عددهای دیگر $5^{\frac{1}{3}} = \sqrt[3]{5}$. می‌توانیم نماهای کسری با صورت ۱ را تعریف کنیم. a عددی حقیقی و مثبت است.

برای هر عدد طبیعی $n \geq 2$ ، توان $\frac{1}{n}$ عدد مثبت a را چنین تعریف می‌کنیم:

$$a^{\frac{1}{n}} = \sqrt[n]{a}$$

در این کتاب اگر $a < 0$ ، $a^{\frac{1}{n}}$ را تعریف نمی‌کنیم. به عنوان مثال عبارت‌هایی مانند $(-1)^{\frac{1}{3}}$ و $(-2)^{\frac{1}{4}}$ را تعریف نمی‌کنیم. در تمام این فصل، در عبارت $a^{\frac{1}{n}}$ ، a را عددی مثبت در نظر

می‌گیریم.

فعالیت

هریک از عبارات‌های زیر را به شکل رادیکالی نوشته و در صورت امکان حاصل آنها را به دست آورید.

$$\begin{array}{ccc} \frac{1}{2^3} = \sqrt[3]{2} & \frac{1}{3^2} = & \frac{1}{4^4} = \\ \frac{1}{5^7} = & \frac{1}{6^4} = & \frac{1}{81^4} = \end{array}$$

فعالیت

م حاصل a^n که $a > 0$ و m و n دو عدد طبیعی هستند را چگونه حساب می‌کنیم؟

در مبحث توان با نماهای طبیعی یادتان هست چگونه عمل کردیم؟

$$2^6 = 2^{2 \times 3} = (2^2)^3 \quad (\text{قاعده ضرب توان})$$

در مورد توان‌های گویا هم می‌توانیم به طریق مشابه عمل کنیم:

$$2^{\frac{2}{3}} = 2^{2 \times \frac{1}{3}} = (2^2)^{\frac{1}{3}} = \sqrt[3]{2^2} \quad \quad \quad 5^{\frac{8}{3}} = 5^{8 \times \frac{1}{3}} = (5^8)^{\frac{1}{3}} = \sqrt[3]{5^8}$$

به طور کلی:

هرگاه $a > 0$ برای هر دو عدد طبیعی m و n ، a^n را چنین تعریف می‌کنیم:

$$a^{\frac{m}{n}} = \sqrt[n]{a^m}$$

اگر $a > 0$ و m و n دو عدد طبیعی، $a^{\frac{m}{n}}$ به صورت زیر تعریف می‌شود:

$$a^{\frac{m}{n}} = (a^{\frac{1}{n}})^m = (a^m)^{\frac{1}{n}}$$

بنابراین: $a^{\frac{m}{n}} = (\sqrt[n]{a})^m = \sqrt[n]{a^m}$ همچنین $a^{-\frac{m}{n}}$ نیز به صورت زیر تعریف می‌شود:

$$a^{-\frac{m}{n}} = \frac{1}{a^{\frac{m}{n}}}$$

اکنون شما اعداد توان‌دار زیر را به شکل رادیکال بنویسید و در صورت امکان حاصل آنها را به دست آورید.

$$\begin{array}{ccc} \frac{2}{5^5} \quad (\text{الف}) & \frac{2}{3^7} \quad (\text{ب}) & \frac{2}{81^4} \quad (\text{پ}) \\ & & \frac{1}{16^4} \quad (\text{ت}) \end{array}$$

اگر r و s دو عدد گویا باشند، و a و b اعدادی مثبت باشند، داریم:

$$1) a^r \times a^s = a^{r+s}$$

$$2) (a^r)^s = a^{rs}$$

$$3) (ab)^r = a^r \times b^r$$

باکتری‌ها موجودات بسیار ریزی هستند که در انواع مختلف در همه جا حضور دارند. بیشتر باکتری‌ها در فاصله ۲۰ دقیقه به حداکثر رشد خود می‌رسند و می‌توانند شروع به تولید مثل کنند. در شرایط محیطی مناسب، باکتری با سرعت زیادی تکثیر می‌شود. مثلاً یک باکتری بعد از ۲۰ دقیقه به دو باکتری تبدیل می‌شود و بعد از ۲۰ دقیقه دیگر به چهار باکتری تبدیل می‌شود و به همین ترتیب، در فاصله هر ۲۰ دقیقه، تعداد باکتری‌ها دو برابر می‌شود و به ترتیب ۸ و ۱۶ و ۳۲ و ۶۴ و ۱۲۸ و ۲۵۶ و ... باکتری پدید می‌آید. اگر این روش تکثیر باکتری‌ها ۲۴ ساعت ادامه یابد، از یک باکتری، توده‌ای از باکتری‌ها به وزن ۲۰۰۰ تن به وجود خواهد آمد. البته عملاً چنین اتفاقی نمی‌افتد، زیرا در این صورت، آب و مواد غذایی لازم به زودی در محیط زندگی آنها تمام می‌شود و دیگر قادر به تولیدمثل بیشتر نخواهند بود. اگرچه بعضی از باکتری‌ها عامل فساد مواد غذایی و بیماری هستند؛ اما بسیاری از باکتری‌ها مفیدند. باکتری‌ها در تهیه فراورده‌های غذایی و شیمیایی و همچنین در شناسایی و استخراج معادن و پاکسازی محیط زیست کاربرد دارند. باکتری‌هایی نیز برای خالص سازی عناصر معدنی مانند مس و اورانیوم کاربرد دارند. همچنین باکتری‌ها در پاکسازی آب‌ها و خاک‌های آلوده به آلاینده‌های نفتی و شیمیایی کاربرد وسیعی دارند. باکتری‌ها نقش بسیار مهم در اکوسیستم جهانی (اکوسیستم‌های آبی و خشکی) دارند. مهم‌ترین راه دستیابی گیاهان به نیتروژن توسط برخی از باکتری‌ها صورت می‌گیرد.

۱ تساوی‌های زیر را مانند نمونه به صورت رادیکالی بنویسید.

$$\begin{aligned} 3^{\frac{2}{5}} &= \sqrt[5]{3^2} & 3^{\frac{5}{4}} &= \sqrt[4]{3^5} = \sqrt[4]{3^4 \times 3} = \sqrt[4]{3^4} \times \sqrt[4]{3} = 3\sqrt[4]{3} \\ 4^{\frac{1}{5}} &= & 2^{\frac{2}{3}} \times 2^{\frac{3}{2}} &= & (4 \times 2)^{\frac{1}{3}} &= \\ 5^{-\frac{4}{3}} &= & (16^{\frac{1}{3}})^{\frac{2}{4}} &= & 6^{\frac{2}{8}} &= \end{aligned}$$

۲ رادیکال‌ها را در صورت امکان به شکل توان کسری بنویسید.

$$\begin{aligned} \sqrt[3]{3^2} &= 3^{\frac{2}{3}} & \sqrt{2^5} &= & \sqrt[3]{\sqrt{2}} &= \\ \sqrt[5]{19} &= & \sqrt[5]{64} &= & \sqrt[5]{2^5} &= \end{aligned}$$

۳ با استفاده از نمای کسری نشان دهید که $\sqrt[m]{\sqrt[n]{a}} = \sqrt[nm]{a}$ است. تساوی را کامل کنید ($a > 0$).

$$\sqrt[m]{\sqrt[n]{a}} = \sqrt[m]{a^{\frac{1}{n}}} = (a^{\frac{1}{n}})^{\frac{1}{m}} = a^{\frac{1}{mn}} = \dots\dots$$

تمرین

۱ هر یک از توان‌های کسری زیر را به صورت رادیکال نوشته و در صورت امکان حاصل آنها را به دست آورید.

$$\begin{aligned} 16^{\frac{1}{2}} &= & 5^{\frac{1}{2}} &= & 4^{\frac{2}{7}} &= \\ 3^{\frac{1}{3}} \times 3^{\frac{2}{3}} &= & (4^2)^{\frac{2}{3}} &= & 4^{\frac{2}{3}} &= \\ 32^{-\frac{1}{5}} &= & 32^{\frac{2}{5}} &= & 125^{-\frac{2}{3}} &= \end{aligned}$$

۲ می‌دانیم

$$\sqrt[6]{a^2} = a^{\frac{2}{6}} = a^{\frac{1}{3}} = \sqrt[3]{a} \quad \sqrt[12]{a^4} = (a^4)^{\frac{1}{12}} = a^{\frac{4}{12}} = a^{\frac{1}{3}} = \sqrt[3]{a}$$

آیا تساوی $\sqrt[k]{\sqrt[m]{a^{km}}} = \sqrt[n]{a^m}$ همواره برقرار است ($a > 0$)؟ n, m, k طبیعی‌اند نتیجه بگیرید که هر سه عدد $\sqrt{2}$ ، $\sqrt[4]{2}$ و $\sqrt[6]{2}$ برابرند.

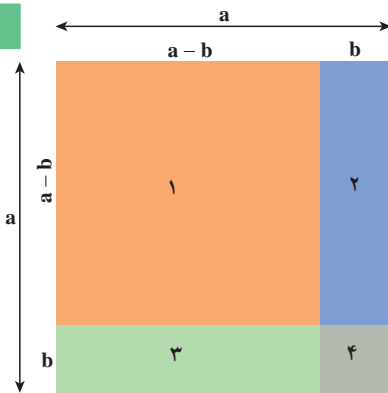
۳ فرض کنیم $a=64$ ، $r = \frac{1}{3}$ و $s = \frac{1}{4}$ مقدارهای عددی $\frac{a^r}{a^s}$ و a^{r-s} را محاسبه و با هم مقایسه کنید. اکنون خودتان، مانند نمونه سه مقدار دیگر برای a ، r ، s انتخاب کنید و بار دیگر مقدارهای $\frac{a^r}{a^s}$ و a^{r-s} را محاسبه و با هم مقایسه کنید. می‌توانید از ماشین حساب کمک بگیرید. چه نتیجه‌ای می‌گیرید؟

۴ حساب کنید.

$$\sqrt[3]{\sqrt{5}} = \quad \sqrt{\sqrt[3]{64}} = \quad \sqrt{\sqrt{81}} =$$

درس چهارم: عبارات‌های جبری

فعالیت



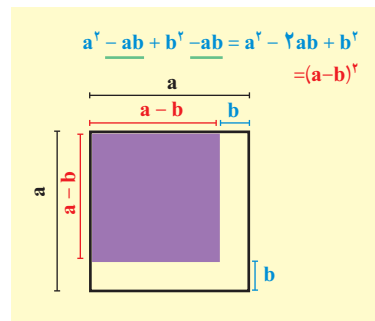
$$S_1 = (a-b)^2$$

$$S_1 = S - S_2 - S_3 - S_4$$

$$= a^2 - b(a-b) - b(a-b) - b^2$$

$$= a^2 - 2ab + b^2$$

(۱) و (۲) $\Rightarrow (a-b)^2 = a^2 - 2ab + b^2$



در سال گذشته با برخی از اتحادهای جبری آشنا شده‌اید. می‌توانید بگویید چرا به تساوی $(a+b)^2 = a^2 + 2ab + b^2$ (۱)

اتحاد گفته می‌شود؟

در حقیقت می‌توان a و b را در دو طرف با هر دو عدد دلخواه جایگزین کرد و برای دو طرف یک عدد به دست آورد. برای مثال اگر $a = \frac{1}{5}$ و $b = 3$ اختیار شود.

$$\left(\frac{1}{5} + 3\right)^2 = \left(\frac{1}{5}\right)^2 + 2 \times \frac{1}{5} \times 3 + 3^2$$

$$\left(\frac{16}{5}\right)^2 = \frac{1}{25} + \frac{6}{5} + 9 \rightarrow \frac{256}{25} = \frac{256}{25}$$

یا اگر در رابطه (۱) به جای b ، $-b$ قرار دهیم، به دست می‌آوریم:

$$(a-b)^2 = a^2 - 2ab + b^2 \quad (2)$$

گاهی هم دو اتحاد (۱) و (۲) را با هم می‌نویسیم:

$$(a \pm b)^2 = a^2 \pm 2ab + b^2 \quad (3)$$

اکنون شما می‌توانید اتحادهای دیگری به دست آورید.

۱ با محاسبه $(a+b)^2$ اتحاد دیگری به دست می‌آید که به اتحاد مکعب مجموع مشهور است. جای خالی را در محاسبه تکمیل کنید.

$$(a+b)^2 = (a+b)(a+b)$$

$$= (\quad)(a+b) = \dots\dots\dots$$

که با جمع جملات مشابه در دو طرف دوم، اگر درست عمل کرده باشید، به صورت زیر در می‌آید.

$$(a+b)^2 = a^2 + 3a^2b + 3ab^2 + b^2$$

می‌توانیم b را در سرتاسر اتحاد فوق به $-b$ تبدیل کنیم و اتحاد دیگری به دست آوریم:

$$(a-b)^2 = a^2 + 3a^2(-b) + 3a(-b)^2 + (-b)^2$$

$$(a-b)^2 = a^2 - \dots\dots\dots + \dots\dots\dots - b^2$$

۲ یک بار دیگر $(a-b)^2$ را از راه دیگر و با استفاده از اتحاد مربع تفاضل، یعنی اتحاد شماره ۲ محاسبه کنید.

$$(a-b)^2 = (a-b)(a-b) \\ = (\quad)(a-b) =$$

۳ اگر ابتدا طرف دوم هر یک از اتحادهای ۴ گانه فوق را بنویسیم، مثلاً

$$a^2 - 3a^2b + 3ab^2 - b^3 = (a-b)(a-b)(a-b) \quad (۴)$$

می‌گوییم عبارت سمت چپ؛ یعنی $a^2 - 3a^2b + 3ab^2 - b^3$ را به حاصل ضرب سه عبارت سمت راست تجزیه کرده‌ایم. هر یک از عبارتهای $a-b$ را در (۴) یک عامل یا شمارنده تجزیه می‌نامیم. ممکن است عامل‌های تجزیه مساوی نباشند. تجزیه برخی عبارتهای جبری به دسته‌بندی مناسب جملات و مهارتهای بیشتری نیاز دارد. به مثال‌های زیر توجه کنید.

یادآوری

اتحادهایی که سال قبل خوانده‌اید.

$$(a \pm b)^2 = a^2 \pm 2ab + b^2$$

$$(a-b)(a+b) = a^2 - b^2$$

$$(a+b+c)^2 = a^2 + b^2 + c^2 + 2ab + 2ac + 2bc$$

$$(x+a)(x+b) = x^2 + (a+b)x + ab$$

مثال ۱

عبارت $2x^2 + 3x + 1$ را تجزیه کنید.

می‌نویسیم:

$$2x^2 + 3x + 1 = x^2 + 2x + 1 + x^2 + x \\ = (x+1)^2 + x(x+1) \\ = (x+1)(x+1+x) = (x+1)(2x+1)$$

مثال ۲

عبارت $a^2 - 2ab + a^2b - 2b^2$ را تجزیه کنید:

$$a^2 - 2ab + a^2b - 2b^2 = a^2(a+b) - 2b(a+b) \\ = (a+b)(a^2 - 2b)$$

کار در کلاس

۱ حاصل عبارتهای زیر را به دست آورید و ساده کنید.

$$(a+b)(a^2 - ab + b^2) = a^3 - a^2b + ab^2 + \dots$$

$$(a-b)(a^2 + ab + b^2) =$$

۲ با استفاده از پرسش ۱، عبارتهای $a^2 + b^2$ و $a^2 - b^2$ را تجزیه کنید و اتحادهای جدیدی به دست آورید.

	a	b	c
a	a^2	ab	ac
b	ab	b^2	bc
c	ac	bc	c^2

$$(a+b+c)^2 = a^2 + b^2 + c^2 + 2ab + 2ac + 2bc$$

عبارتهای زیر را مانند نمونه تجزیه کنید.

$$\begin{aligned} 8x^3 - 27 &= (2x)^3 - 3^3 \\ &= (2x-3)[(2x)^2 + 2x \times 3 + 3^2] \\ &= (2x-3)(4x^2 + 6x + 9) \end{aligned}$$

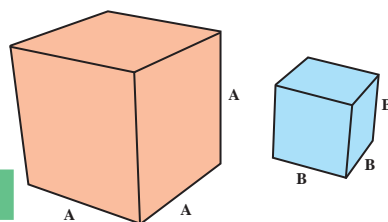
$$x^2 + 1 =$$

$$x^2 - 8 =$$

$$x^3 - 125 =$$

$$x^6 - 1 =$$

$$\begin{aligned} (a+b)(a^2 - ab + b^2) &= a^3 + b^3 \\ (a-b)(a^2 + ab + b^2) &= a^3 - b^3 \end{aligned}$$



فعالیت

واژههای مضرب و شمارنده را در حساب اعداد به خاطر دارید:

$$12 = 3 \times 4$$

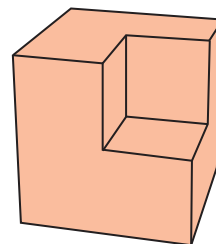
هر یک از عددهای ۳ و ۴ را یک شمارنده عدد ۱۲ و عدد ۱۲ را مضرب هر یک از این عددها می‌نامیم. ۱۲ شمارنده‌های دیگری نیز دارد، از جمله خود عدد ۱۲. عدد ۳ مضرب‌های دیگری دارد، از جمله خود عدد ۳ و همچنین هر یک از عددهای ۶، ۹، ۱۵ و ...

$$a^2 - b^2 = (a-b)(a+b)$$

مشابه این در اتحاد مزدوج

هر یک از عبارتهای $a-b$ و $a+b$ یک عامل $a^2 - b^2$ است. همچنین $a^2 - b^2$ هم مضرب $a-b$ و هم مضرب $a+b$ است.

$$A^3 - B^3$$



آیا $a+b$ مضرب دیگری دارد؟

۱ مضرب‌های هر عبارت جبری از ضرب آن در عبارتهای جبری دیگر به دست می‌آیند: $a+b$ و $2(a+b)$ و $(a+b)(a+b)^2$ و $-4(a+b)$ و $(a+b)(a-b)$ و

مضرب‌های $a+b$

بعضی از مضرب‌های $a-b$ را بنویسید.

۲ دو عبارت بنویسید که $a-b$ شمارنده هر یک از آنها باشد.

۳ عبارت $27a^3 - 1$ مضرب کدام یک از عبارتهاست؟

(ب) $9a^2 + 3a + 1$

(ب) $3a - 1$

(الف) $a - 1$

(ت) $3a + 1$

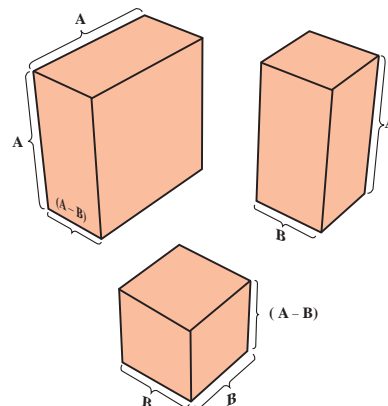
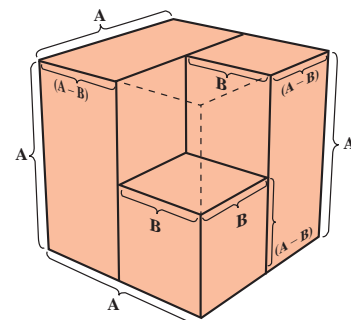
۴ کدام یک از عبارتهای زیر گویا هستند؟

(ب) $\frac{x^3 - 1}{x^3 + 1}$

(الف) $\frac{3x - \sqrt{7}}{x^2}$

(ت) $\sqrt[3]{x^2} + x - 1$

(ب) $\sqrt[3]{x} - 1$



نکته: یک عبارت گویا به ازای مقدارهایی از متغیر که مخرج آن صفر می‌شود، تعریف نمی‌گردد. (مقدار ندارد)

۵ عبارت گویای زیر به ازای چه مقدارهایی از x تعریف نمی‌شود؟

$$\frac{1}{x-1} + \frac{1}{x+1} - \frac{1}{x^2+4}$$

۶ حاصل کسرهای زیر را به دست آورید و ساده کنید.

$$\frac{1}{\sqrt{x}-1} + \frac{2}{\sqrt{x}+1} + \frac{3}{x-1}$$

(الف)

$$\frac{1}{x-1} + \frac{1}{x+1} - \frac{1}{x^2-1}$$

(ب)

کار در کلاس

۱ صورت و مخرج هر کسر را تجزیه و عبارت را ساده کنید. (جاهای خالی را پر کنید)

الف) $\frac{x^6+1}{x^4+2x^2+1}$

ب) $\frac{x^3-1}{(x-1)^3}$

پ) $\frac{x^2+1}{x^4-1}$

ت) $\frac{y^5-y^3-12y}{8y^2+16y} = \frac{y(y^4-y^2-12)}{8y(y+2)} = \frac{y(y^2-4)(y^2+3)}{8y(y+2)} = \dots\dots$

۲ در اتحاد

$$a^2+1=(a+1)(a^2-a+1)$$

قرار دهید $a = \sqrt[3]{x^2}$ و حاصل را بازنویسی کنید:

$$(\sqrt[3]{x^2})^3+1=(\sqrt[3]{x^2}+1)(\quad)$$

گویا کردن مخرج کسرها

فعالیت

۱ از سال گذشته به یاد داریم که برای گویا کردن مخرج کسرهایی که شامل یک عبارت رادیکالی هستند، می‌توانیم آن کسر را در یک عبارت رادیکالی مناسب، ضرب و تقسیم کنیم تا مخرج کسر گویا شود. در زیر کسرهایی $\frac{2}{\sqrt[3]{4}}$ و $\frac{5}{2\sqrt{3}}$ گویا شده‌اند. جاهای خالی را با عبارت‌های مناسب پر کنید.

$$\frac{5}{2\sqrt{3}} = \frac{5}{2\sqrt{3}} \times \frac{\sqrt{3}}{\sqrt{3}} = \dots$$

$$\frac{2}{\sqrt[3]{4}} = \frac{2}{\sqrt[3]{4}} \times \frac{\dots}{\sqrt[3]{4^2}} = \dots$$

۲ دو عبارت مانند $\sqrt{a} + \sqrt{b}$ و $\sqrt{a} - \sqrt{b}$ که شامل مجموع و تفاضل دو قسمت یکسان هستند را مزدوج یکدیگر می‌گوییم. حاصل ضرب این دو عبارت را می‌توانیم به صورت زیر محاسبه کنیم:

$$(\sqrt{a} + \sqrt{b})(\sqrt{a} - \sqrt{b}) = (\sqrt{a})^2 - (\sqrt{b})^2 = a - b$$

همان‌طور که مشاهده می‌شود، سمت راست تساوی بالا فاقد یک عبارت رادیکالی است. از این روش برای گویا کردن مخرج کسرها استفاده می‌کنیم. به عنوان مثال، برای گویا کردن $\frac{2}{\sqrt{3} + 5}$ به صورت زیر عمل می‌کنیم.

$$\frac{2}{\sqrt{3} + 5} = \frac{2}{\sqrt{3} + 5} \times \frac{\sqrt{3} - 5}{\sqrt{3} - 5} = \frac{2(\sqrt{3} - 5)}{(\sqrt{3})^2 - 5^2} = \frac{2(\sqrt{3} - 5)}{3 - 25} = \frac{5 - \sqrt{3}}{11}$$

مانند نمونه بالا، مخرج کسره‌های زیر را گویا کنید.

الف) $\frac{1}{\sqrt{5} - \sqrt{3}} =$

ب) $\frac{8}{3\sqrt{2} + 4} =$

پ) $\frac{x - y}{\sqrt{x} - \sqrt{y}} =$

ت) $\frac{h}{\sqrt{x+h} - \sqrt{x}} =$

۳ از اتحادهای مجموع و تفاضل مکعب‌ها که به صورت زیر هستند، برای گویا کردن کسرهایی مانند $\frac{1}{\sqrt[3]{a} + \sqrt[3]{b}}$ و $\frac{1}{\sqrt[3]{a} - \sqrt[3]{b}}$ استفاده می‌کنیم. در هر کدام از اتحادهای زیر، قرار دهید $x = \sqrt[3]{a}$ ، $y = \sqrt[3]{b}$ و آنها را بازنویسی کنید.

$$\begin{cases} (x - y)(x^2 + xy + y^2) = x^3 - y^3 \\ (\sqrt[3]{a} - \sqrt[3]{b})(\dots) = \dots \end{cases}$$

$$\begin{cases} (x + y)(x^2 - xy + y^2) = x^3 + y^3 \\ (\sqrt[3]{a} + \sqrt[3]{b})(\dots) = \dots \end{cases}$$

آیا سمت راست تساوی‌های بالا، شامل یک عبارت رادیکالی است؟

برای گویا کردن مخرج کسره‌های $\frac{1}{\sqrt[3]{x^2} - 1}$ و $\frac{1}{\sqrt[3]{2} - 1}$ به صورت زیر عمل می‌کنیم:

$$\frac{1}{\sqrt[3]{2} - 1} = \frac{1}{\sqrt[3]{2} - 1} \times \frac{\sqrt[3]{2^2} + \sqrt[3]{2} + 1}{\sqrt[3]{2^2} + \sqrt[3]{2} + 1} = \frac{\sqrt[3]{4} + \sqrt[3]{2} + 1}{(\sqrt[3]{2})^3 - 1^3} = \frac{\sqrt[3]{4} + \sqrt[3]{2} + 1}{2 - 1} = \sqrt[3]{4} + \sqrt[3]{2} + 1$$

$$\frac{1}{\sqrt[3]{x^2}-1} = \frac{((\sqrt[3]{x^2})^2 + \sqrt[3]{x^2} + 1)}{(\sqrt[3]{x^2}-1)((\sqrt[3]{x^2})^2 + \sqrt[3]{x^2} + 1)} = \frac{((\sqrt[3]{x^2})^2 + \sqrt[3]{x^2} + 1)}{(x^2-1)}$$

مانند نمونه بالا، مخرج کسرهای زیر را گویا کنید.

الف) $\frac{2}{\sqrt[3]{5}+1} =$

ب) $\frac{1}{\sqrt[3]{7}-\sqrt[3]{3}} =$

پ) $\frac{x+8}{\sqrt[3]{x}+2} =$

ت) $\frac{1}{\sqrt[3]{x^2}+1} =$

تمرین

۱ هر یک از عبارتهای زیر را تا حد ممکن (به عبارتهای گویا) تجزیه کنید.

ت) $a^3b^6 - 8$

پ) $8a^3 + 27$

ب) $x^6 - y^6$

الف) $x^4 - y^4$

۲ مخرج کسرهای زیر را گویا کنید.

ت) $\frac{6}{2\sqrt[3]{2}-1}$

پ) $\frac{1}{\sqrt[3]{x}-2}$

ب) $\frac{8}{\sqrt{5}+\sqrt{3}}$

الف) $\frac{3}{3+\sqrt{7}}$

۳ با استفاده از اتحادها، حاصل ضربهای زیر را مانند نمونه به دست آورید.

ت) 10^5

پ) 9999^2

ب) 10^5

الف) $16 \times 14 = (15+1)(15-1) = 15^2 - 1 = 224$

۴ حاصل عبارتهای زیر را به دست آورید.

ب) $\frac{1}{\sqrt[3]{x}-1} - \frac{1}{x-1}$

الف) $\frac{1}{\sqrt{x}-1} + \frac{2}{\sqrt{x}+1} - \frac{5x}{x-1}$

۵ اگر $\sqrt{x+2} + \sqrt{x-4} = 3$ ، حاصل عبارت $\sqrt{x+2} - \sqrt{x-4}$ را به دست آورید.

خواندنی

* سه عدد ۴، ۳ و ۵ را یک سه‌تایی فیثاغورسی می‌نامیم، زیرا

$$5^2 = 4^2 + 3^2$$

یک سه‌تایی دیگر مثال بزنید. چند تا از این‌گونه سه‌تایی‌ها را می‌توانید شناسایی کنید؟

* (جادوی توان) محاسبات نشان می‌دهد:

$$(1/0.1)^{365} = 37/8$$

$$(0/99)^{365} = 0/0.3$$

چرا اینقدر اختلاف وجود دارد؟ حال $(1/0.1)^{73}$ و $(0/99)^{73}$ را محاسبه و مقایسه کنید.

اگر هر روز اندکی کار خود را نسبت به روز قبل بهتر کنیم، در سال حدود 4^0 برابر راندمان (بهره‌وری) کار افزایش می‌یابد.

شما هم داستانی در باب توان‌ها بنویسید.

* (مثلث خیام)

$$(a+b)^1 = a + b$$

$$(a+b)^2 = a^2 + 2ab + b^2$$

$$(a+b)^3 = a^3 + 3a^2b + 3ab^2 + b^3$$



چه رابطه‌ای بین ضرایب در بسط اتحادها و سطرهای مثلث خیام وجود دارد؟

می‌توانید توان چهارم دوجمله‌ای را حساب و ضرایب بسط را مشخص کنید.

$$(a+b)^4 = (a+b)^3(a+b)$$

$$= (\quad) (a+b)$$

=