

درس
۹

کارها آسان می شود (۲)



خانواده‌ی علی از خانه‌شان که در حال ساخت است، بازدید می‌کنند. برای ساختن این خانه گروهی از افراد مختلف با یکدیگر کار می‌کنند. هر یک از این افراد مسئولیت انجام‌دادن کاری را به عهده دارد. آنها برای آسان‌تر شدن کارها از ابزارهای مختلف استفاده می‌کنند.



گفت و گو



برای ساختن یک ساختمان از چه وسایل و ابزاری استفاده می‌شود؟
با استفاده از هر وسیله چه کاری انجام می‌گیرد؟

یکی از کارگران یک فرغون پر از آجر را با استفاده از تخته‌ای که در شکل می‌بینید، بالا می‌برد. طرز قرار گرفتن تخته چگونه کار را برای او آسان می‌کند؟



وسایل و مواد لازم:



چند کتاب

دفترچه یادداشت و مداد



تخته‌ی چوبی صاف



کش نازک



مقداری نخ کلفت



کیسه‌ی نایلونی




متر نواری

استفاده از سطح شیب‌دار، نیروی لازم برای بالا بردن اجسام را کاهش می‌دهد یا افزایش؟ در این باره کاوش کنید.

روش اجرا:

۱- سطح شیب‌داری درست کنید.

۲- دو جلد کتاب یا دفتر را درون یک کیسه‌ی نایلونی قرار دهید و مانند شکل به هم ببندید. سپس کش را در محل نشان داده شده به نخ گره بزنید.



۳- کتاب‌ها را با کش به آرامی تا ارتفاع معینی از سطح زمین بالا ببرید. طول کش را اندازه بگیرید و در جدول بنویسید.



۴- کتاب‌ها را پایین سطح شیب‌دار قرار دهید. با استفاده از کش آنها را به آرامی روی سطح شیب‌دار بالا ببرید. طول کش را اندازه بگیرید و در جدول صفحه‌ی بعد بنویسید.



طول کش به سانتی متر			نحوه‌ی حرکت کتاب‌ها
بار سوم	بار دوم	بار اوّل	
			به طور عمودی
			روی سطح شیب دار

۵- مرحله‌های ۳ و ۴ آزمایش را دو بار دیگر تکرار کنید و نتیجه‌ی مشاهده‌های خود را در جدول بنویسید.

۶- طول کش را در دو حالت حرکت با هم مقایسه کنید و به پرسش‌ها پاسخ دهید:
الف) در کدام حالت، طول کش کمتر است؟

ب) در کدام حالت، نیروی بیشتری برای جابه‌جا کردن کتاب‌ها لازم است؟

۷- پیش‌بینی کنید که اگر ارتفاع سطح شیب‌دار را تغییر دهیم، طول کش چه تغییری می‌کند؟
برای بررسی درستی پیش‌بینی خود، آزمایش بالا را با سطح شیب‌داری که در اختیار دارید، در ارتفاع‌های مختلف تکرار کنید و نتایج را در این جدول بنویسید.

طول کش به سانتی متر	ارتفاع سطح شیب‌دار به سانتی متر



از این آزمایش چه نتیجه‌ای می‌گیرید؟



فکر کنید



در هر تصویر، سطح شیب‌دار چگونه به آسان‌شدن کارها کمک می‌کند؟



با استفاده از سطح شیب‌دار می‌توانیم اجسام را به آسانی از پایین به بالا ببریم یا از بالا به پایین بیاوریم. برای مثال، بالا رفتن و پایین آمدن از یک دیوار بلند سخت است اما با استفاده از نردبان می‌توانیم این کار را به آسانی انجام دهیم.

فکر کنید




چرا کف آشپزخانه و حمام و سطح خیابان‌ها را کمی شیب‌دار درست می‌کنند؟

گونه چیست؟

در ساختمان‌سازی از ابزارهایی مانند کلنگ (برای کندن زمین) و بیل (برای جابه‌جا کردن خاک) استفاده می‌شود. این ابزارها چگونه کارها را آسان می‌کنند؟





۱- یک سیب را بردارید و با کارد به آن نیرو وارد کنید تا بریده شود.

۲- یک سیب دیگر را بردارید و با دسته‌ی قاشق به آن نیرو وارد کنید تا بریده شود.

۳- بریدن سیب را در این دو حالت با هم مقایسه کنید و بگویید در کدام حالت سیب راحت‌تر و با نیروی کمتری بریده می‌شود.

یک لبه‌ی کارد، نازک‌تر از لبه‌ی دیگر آن است. هنگامی که با کارد به سیب نیرو وارد می‌کنید، کارد به آسانی سیب را دو تکه می‌کند؛ در حالی که وقتی این کار را با دسته‌ی قاشق انجام می‌دهید، این اتفاق نمی‌افتد.

در شکل زیر، وسایل و ابزاری را می‌بینید که قسمتی از آنها شبیه کارد است. هر یک از این وسایل در زندگی کاربردی دارد.



به وسایلی که یک لبه‌ی آنها از لبه‌ی دیگرشان نازک‌تر است، گُوه می‌گویند. این وسایل کارها را آسان‌تر می‌کنند. گُوه‌ها شبیه سطح شیب‌دارند اما کاری که انجام می‌دهند، با سطح شیب‌دار تفاوت دارد. از گُوه‌ها برای کندن، بریدن و قطعه‌قطعه کردن اجسام استفاده می‌شود ولی سطح شیب‌دار برای جابه‌جا کردن اجسام به کار می‌رود.



به شکل روبه‌رو توجه کنید و توضیح دهید که با چه ابزاری می‌توان تنه‌ی ضخیم و مقاوم درختی را خرد کرد.



شگفتی آفرینش


آیا می‌دانید که دندان‌های پیش انسان و جانوران گوشت‌خوار مانند گوه عمل می‌کنند. این دندان‌ها لبه‌ی تیزی دارند و بریدن غذا را آسان‌تر می‌کنند.

پیچ‌ها چگونه کارها را آسان می‌کنند؟

پیچ‌ها در زندگی روزانه کمک‌های زیادی به ما می‌کنند. برای مثال، با پیچ می‌توانیم دو قطعه را به هم وصل کنیم یا جسمی را روی دیوار نصب کنیم. تصویرهای زیر، نمونه‌هایی از پیچ‌ها و کاربرد آنها را نشان می‌دهند.



انواع پیچ و کاربردهای آن



با انجام دادن فعالیت زیر، به اهمیت پیچ‌ها در آسان‌تر شدن کارها پی می‌برید.

فعالیت



الف) در یک بطری آب معدنی را که پیچ دارد، باز کنید و سپس آن را محکم ببندید.

ب) در یک بطری را که پیچ ندارد، باز کنید و سپس آن را محکم ببندید.


پ) دهانه‌ی بطری‌ها را مشاهده و با هم مقایسه کنید؛ چه تفاوت‌هایی با هم دارند؟ از این فعالیت چه نتیجه‌ای می‌گیرید؟

شکل زیر یک پیچ را نشان می‌دهد. همان‌طور که می‌بینید، در بدنه‌ی آن شیارهایی به شکل مارپیچ وجود دارد. قطعه‌های چوبی، پلاستیکی یا فلزی را با استفاده از پیچ‌ها به یکدیگر وصل می‌کنند. به نظر شما، آیا می‌توانیم بگوئیم پیچ‌ها از سطح‌های شیب‌دار کوچکی درست شده‌اند؟



قرقره چه کمکی به ما می‌کند؟

وقتی کار ساختمان‌سازی به طبقه‌های بالا می‌رسد، با استفاده از سطح شیب‌دار نمی‌توانیم اجسام را تا ارتفاع زیادی بالا ببریم. برای این کار از قرقره استفاده می‌کنیم. در اینجا بعضی از کاربردهای قرقره را می‌بینید.



کاربردهای قرقره

الف) برافراشتن پرچم



پ) بالا بردن اجسام سنگین



ب) بالا کشیدن تور ماهیگیری

فعالیت 



در گروه خود، قرقره‌ای درست کنید و با استفاده از آن، اجسامی را تا ارتفاع‌های گوناگون بالا ببرید. نتیجه‌ی فعالیت گروه خود را به کلاس گزارش دهید.

چرخ و محور

چرخ و محور از یک میله و چرخ‌هایی که با آن می‌چرخد درست شده است. چرخ و محور در وسیله‌های مختلف به کار می‌رود و در زندگی به ما بسیار کمک می‌کند.



به نظر شما، چرخ و محور چه کاربردهای دیگری دارد؟ شما در این درس با سطح شیب‌دار، گُوه، پیچ، چرخ و محور، قرقره و اهرم‌ها آشنا شدید. به این وسایل، ماشین ساده می‌گویند. انسان از زمان‌های گذشته تا امروز با استفاده از این ماشین‌ها کارهایش را آسان‌تر انجام داده است.

فعالیت



در هر گروه، حداقل با سه ماشین ساده (قرقره، سطح شیب‌دار و ...) وسیله‌ای بسازید و با آن وسیله کاری انجام دهید.