

# کاربرگه‌ها



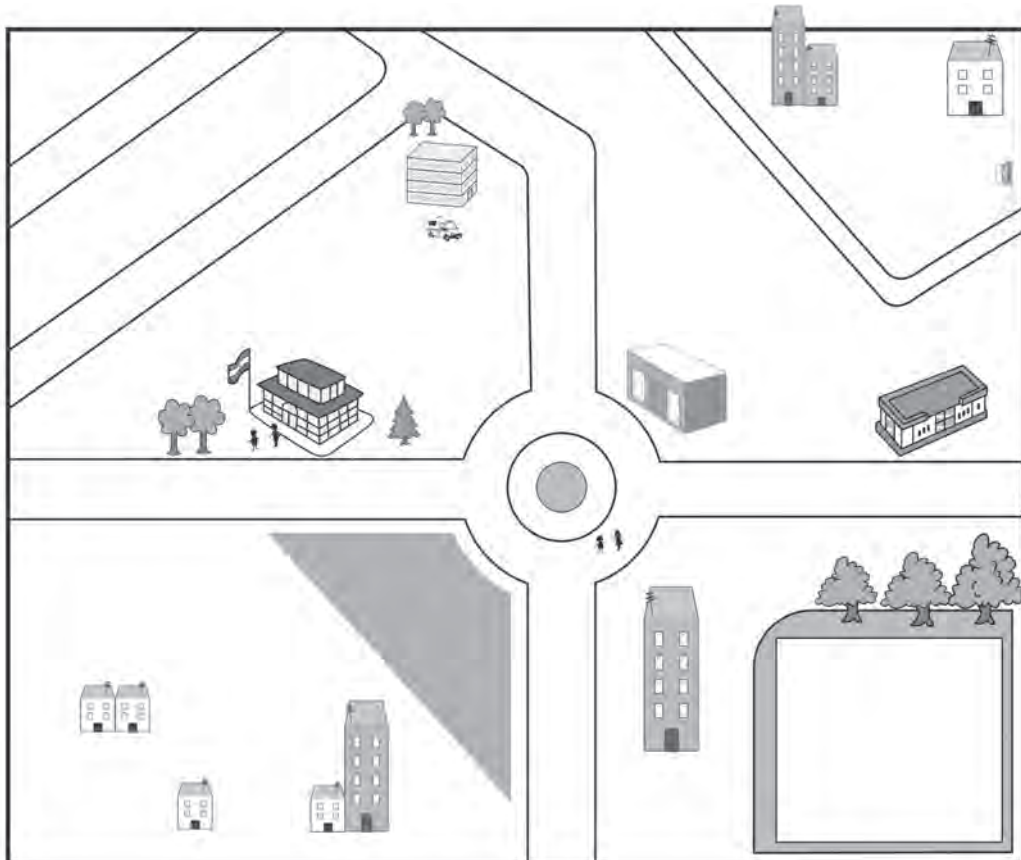
این کاربرگه به کمک معلم یا پدر و مادر پس از بازدید از محله کامل شود.

	نام این محله چیست؟
	نام خیابان و کوچه‌های مهم این محله را بنویسید.
	کدام پدیده‌های طبیعی (درخت، کوه، جنگل، رودخانه، جوی آب، جانوران و...) را در این محله مشاهده می‌کنید، نام ببرید.
	انواع ساختمان‌هایی را که در محله مشاهده می‌کنید، نام ببرید.
	ساختمان‌های مهم محله کدام‌اند؟
	چه شغل‌هایی در این محله وجود دارد؟ مردم این محله به چه فعالیت‌هایی مشغول‌اند؟
	شما چه چیزها یا چه مکان‌هایی را در محله‌ی خودتان بیشتر دوست دارید؟ اگر روزی قرار باشد از این محله به محله یا شهر دیگری بروید و در آنجا زندگی کنید، دلتان برای چه چیزهایی تنگ می‌شود؟

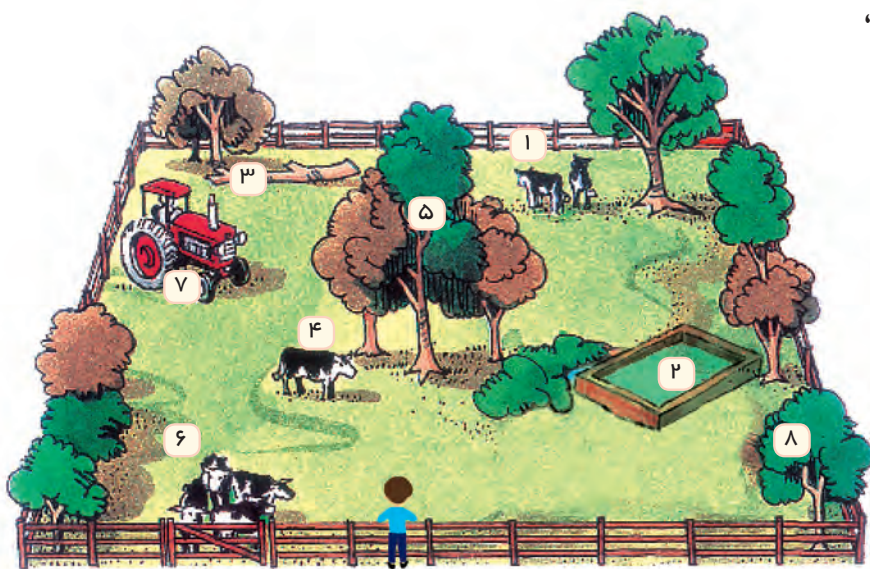
با یکی از افراد سالمند محله‌ی خود مصاحبه کنید و پاسخ‌ها را بنویسید.  
برای انجام مصاحبه از بزرگ‌ترها کمک بگیرید.

نام محله :	نام مصاحبه‌شونده :	سن :
۱- شما چند سال است که در این محله زندگی می‌کنید؟		
۲- این محله نسبت به سال‌های گذشته چه تغییراتی کرده است؟ چند مورد را بگویید.		
۳- به نظر شما، برای بهتر شدن زندگی مردم در این محله چه کارهایی باید کرد؟		


این تصویر یک محله است. فکر کنید و به دلخواه خود سه تغییر در آن به وجود آورید که موجب بهتر شدن محله یا زندگی در آن شود. (رسم کنید.)



اگر شما روبه‌روی این مزرعه بایستید،  
چنین منظره‌ای را مشاهده می‌کنید.



اگر با چرخ‌بال (هلی‌کوپتر) از روی  
این مزرعه پرواز کنید، آن را به این شکل  
می‌بینید.



الف) شماره‌های تصویر بالا را به  
تصویر پایین متصل کنید.

ب) اکنون بگویید چه چیزی را در این  
مزرعه از روبه‌رو نتوانستید ببینید، اما از بالا  
آن را مشاهده کردید؟

# کاربرگی

راهنمای نقشه

شماره‌ی ۴

الف) با توجه به نقشه، مستطیل‌های راهنما را با رنگ‌ها یا علامت‌های مناسب کامل کنید.




راهنما

پست	فرودگاه	آتش نشانی	رستوران
ایستگاه راه آهن	مسجد	جاده	پارک جنگلی
خط آهن	ایستگاه اتوبوس	کتابخانه	درمانگاه

ب) با استفاده از راهنمای نقشه، بگویید هر عدد چه چیزی را در روی نقشه نشان می‌دهد.

- (۱) جاده .....  
 (۲) .....  
 (۳) .....  
 (۴) .....  
 (۵) .....  
 (۶) .....  
 (۷) .....

۱- در عکس زیر، چه چیزهایی مشاهده می کنید؟ مانند نمونه آنها را مشخص کنید.



۲- از روی عکس‌ها می توانیم تا حدی به ویژگی های یک مکان و زندگی مردم آنجا پی ببریم. آنچه از این

عکس می فهمید بیان کنید.



.....

.....

.....

.....

.....

.....

.....

۱- روی نقشه، استان محلّ زندگی تان را با رنگ قرمز نشان دهید.

۲- استان‌های همسایه‌ی استان خود را با رنگ زرد مشخص کنید.

۳- دریا‌های نقشه را با مداد آبی رنگ کنید.

۴- الف) نام دریا‌هایی را که نوشته نشده است، بنویسید. ب) آیا استان محلّ زندگی شما در کنار دریا واقع

شده است؟



۱- با توجه به جهت‌های اصلی و فرعی، جهت هر کدام از تصویرهای زیر را بنویسید.



- خانه (شمال)
- مسجد (.....)
- هوایما (.....)
- جاده (.....)
- مدرسه (.....)
- کوه‌ها (.....)
- درختان (.....)
- فیل (.....)

۲- با توجه به شکل زیر، جاهای خالی را پر کنید.



- کشتی در جنوب گُل قرار دارد.
- بادبادک در..... گُل قرار دارد.
- ساعت در..... گُل قرار دارد.
- کتاب در..... گُل قرار دارد.
- توپ در..... گُل قرار دارد.
- پروانه در..... گُل قرار دارد.
- در خانه‌های خالی، دو تصویر به دلخواه نقاشی کنید. سپس، جهت آنها را در جمله‌هایی مانند جمله‌های زیر بنویسید.

- ..... در..... گُل قرار دارد.
- ..... در..... گُل قرار دارد.



به تصویرها نگاه کنید و حدس بزنید که این وسایل چیستند؟ ایرانیان باستان از هر کدام از این وسایل چه استفاده‌ای می‌کرده‌اند؟



.....



.....



.....



.....



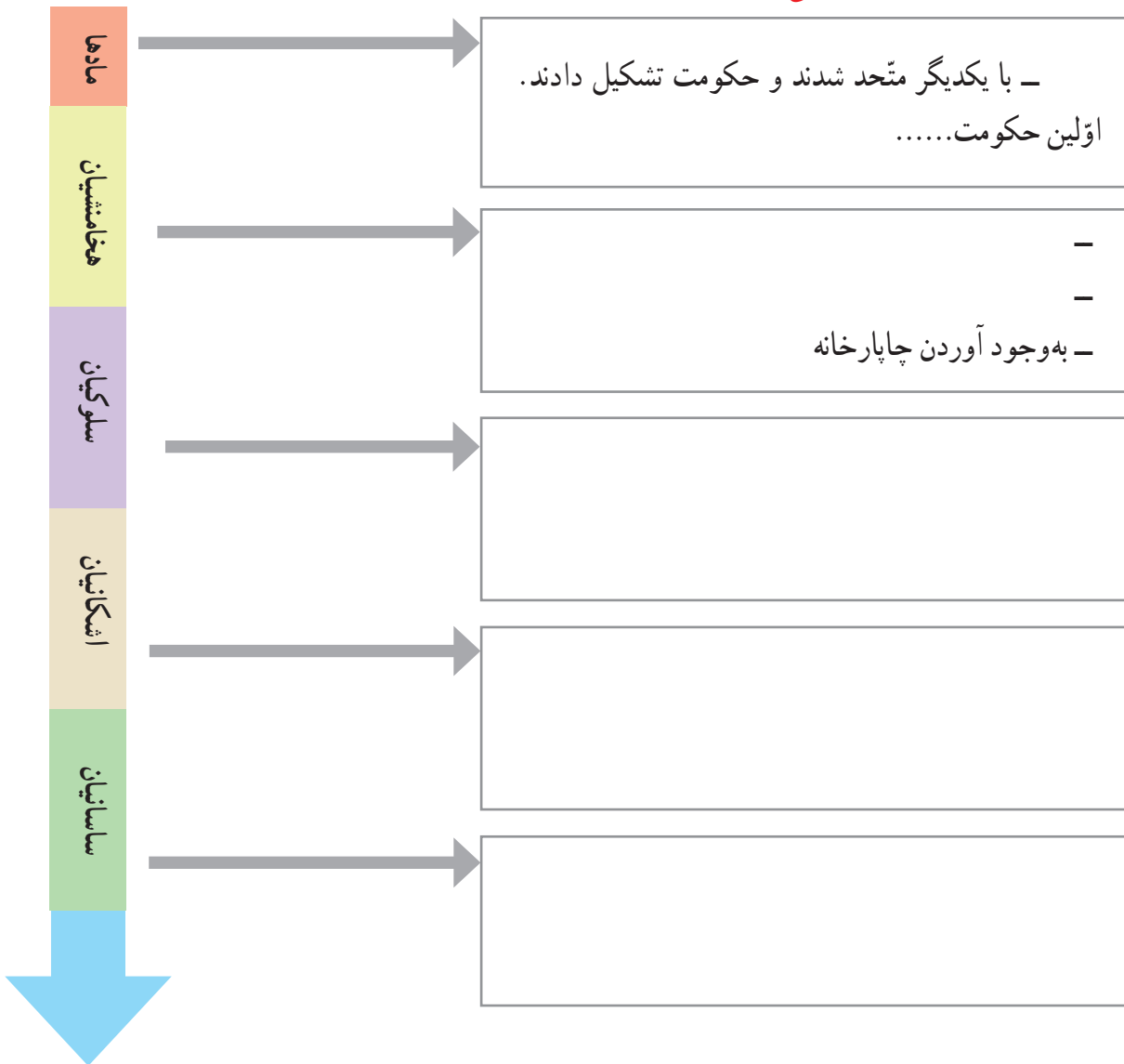
.....



.....

با توجه به آنچه درباره‌ی حکومت‌های ایران باستان خواندید، مهم‌ترین ویژگی‌های هر یک از این سلسله‌ها را در نمودار بنویسید.

ویژگی‌ها



۱- رشته کوه ها را با مداد قهوه ای و دریاها را با مداد آبی رنگ کنید. نام دریاها را بنویسید.

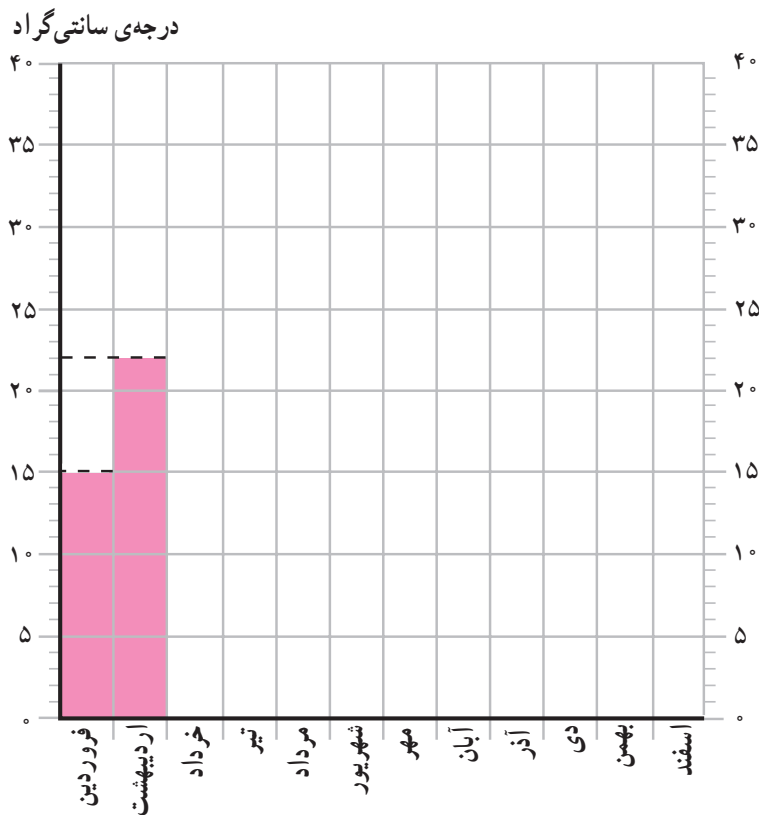


۲- روی نقشه، نام رشته کوه البرز و زاگرس و قله های دماوند، دنا، زردکوه، علم کوه را بنویسید.



۳- نام جلگه های مهم ایران را در جای خالی بنویسید و جلگه های جنوبی ایران را با مداد سبز رنگ آمیزی کنید.







در جدول زیر، میزان متوسط دما در شهر اصفهان در ماه‌های مختلف سال نوشته شده است. نمودار روبه‌روی آن را کامل و رنگ‌آمیزی کنید.



درجه	ماه‌های سال
۱۵	فروردین
۲۲	اردیبهشت
۲۶	خرداد
۳۰	تیر
۲۹	مرداد
۲۶	شهریور
۲۴	مهر
۱۶	آبان
۸	آذر
۴	دی
۶	بهمن
۱۰	اسفند

وضع هوا و تغییرات آن را در مدت یک هفته در نظر بگیرید و در جدول زیر یادداشت کنید.

مثال

شنبه	یکشنبه	دوشنبه	سه‌شنبه	چهارشنبه	پنجشنبه	جمعه	وضع هوا
تمام روز ابری							ابری 
-							آفتابی 
-							نیمه ابری 
°							بارندگی 
۱۰ درجه							دما 
ملایم							وزش باد 

#### بهمن ماه ۱۳۹۳

۲۵	۱۸	۱۱	۴		شنبه
۲۶	۱۹	۱۲	۵		یکشنبه
۲۷	۲۰	۱۳	۶		دوشنبه
۲۸	۲۱	۱۴	۷		سه‌شنبه
۲۹	۲۲	۱۵	۸	۱	چهارشنبه
۳۰	۲۳	۱۶	۹	۲	پنجشنبه
	۲۴	۱۷	۱۰	۳	جمعه

#### مردادماه ۱۳۹۳

۲۵	۱۸	۱۱	۴		شنبه
۲۶	۱۹	۱۲	۵		یکشنبه
۲۷	۲۰	۱۳	۶		دوشنبه
۲۸	۲۱	۱۴	۷		سه‌شنبه
۲۹	۲۲	۱۵	۸	۱	چهارشنبه
۳۰	۲۳	۱۶	۹	۲	پنجشنبه
	۳۱	۲۴	۱۷	۱۰	جمعه

۷ و ۸ تعطیلات عید سعید فطر

- ۱- روز تولد امین ۱۸ مرداد است. او تولدش را در کدام روز هفته جشن می‌گیرد؟
- ۲- پدر یاسمن روز ۹ بهمن به مأموریت رفت و گفت که ۶ روز دیگر برمی‌گردد. پدر او چه روزی به خانه برمی‌گردد؟
- ۳- ماه مرداد و ماه بهمن هر یک چند روز دارد؟
- ۴- در کدام ماه تعداد روزهای تعطیل بیشتر است؟ چرا؟
- ۵- سالگرد پیروزی انقلاب اسلامی چه روزی است؟ روی تقویم آن را پیدا کنید و دورش خط بکشید.
- ۶- آخرین روز ماه مرداد، کدام روز هفته است؟
- ۷- روی تقویم امسال، ماه اسفند را پیدا کنید و عددهای آن را به این جدول انتقال دهید. روزهای تعطیل را رنگ قرمز بزنید.

					شنبه
					یکشنبه
					دوشنبه
					سه‌شنبه
					چهارشنبه
					پنجشنبه
					جمعه

