

تاریخ

| شماره پرسکتی نام و نام خانوادگی: | | شماره ۲۰ تاریخ: ۹۵/۰۸/۲۸ | |
|-------------------------------------|---|-----------------------------|-----------|
| حقوق و مزایا | مبلغ | کسور و بدهی ها | مبلغ |
| حقوق ابتدا | ۵۰۰۹.۷۵۰ | بیمه | |
| تفاوت تطبیق | ۹۷۲.۲۵۰ | مقرضات تعاونی | |
| فست هزینه عائله مدای | ۹۷۲.۲۵۰ | وام تعاونی | |
| مسکن و خواروبار | ۲۵۰۰۰۰ | | |
| جمع حقوق و مزایا | ۷.۵۰۸.۲۵۰ | جمع کسور و بدهی ها | ۱.۱۲۵.۸۸۰ |
| خالص پرداختی: | (شش میلیون و هشتاد و دو هزار و سیصد و هشتاد و هفتاد ریال) ۶.۳۸۲.۳۷۰ | | |

این فیش حقوقی مربوط به چه ماهی است؟

این ماه چندمین ماه سال است؟

مانند نمونه جاهای خالی را کامل کنید.

شماره ورودی: شماره تراکنش: تاریخ صدور قبض: ۹۵/۰۷/۰۳ تاریخ مراجعه بعدی: ۹۵/۰۵/۲۵

نام مشترک قبلی: نام مشترک فعلی: شماره حساب: شماره کارت: تاریخ تراشه قبض: ۹۵/۰۴/۱۰

مبلغ قابل پرداخت: ۲۲۴۵۰
 مبلغ قبض: ۱۴۳۰۰
 مبلغ پرداخت: ۲۰۷۰
 جمع دوره: ۷۸۷۲۰
 مانده به پیشین: ۵۳۸
 کسر دوره: +۷۴۲

مشترک گرامی: اما دسترسی به شماره
 تاریخ تراشه قبض: ۹۵/۰۴/۱۰
 مبلغ قابل پرداخت: ۲۲۴۵۰
 مهلت پرداخت: ۹۵/۰۶/۱۲

شماره تراکنش: ۸۰۰۰۰
 شماره ورودی: ۹۵/۰۶/۱۲
 تاریخ تراشه قبض: ۹۵/۰۵/۲۳
 مبلغ: هشتاد هزار ریال

تاریخ صدور قبض: ۹۵/۲۵/مرداد

تاریخ مراجعه بعدی: مهلت پرداخت:

تاریخ

مانند نمونه، با توجه به تاریخ تولید و تاریخ مصرف (انقضاء) هر کالا، جاهای خالی را کامل کنید.



تاریخ تولید: ۹۴/۹/۵
تاریخ مصرف: ۹۶/۹/۵

تاریخ تولید: ۹۴ / آذر / ۵



تاریخ تولید: ۹۵/۳/۷
تاریخ مصرف: ۹۷/۳/۷

تاریخ انقضاء:



تاریخ تولید: ۹۴/۵/۴
تاریخ مصرف: ۹۵/۵/۴

تاریخ تولید:



تاریخ تولید: ۹۴/۸/۲۳
تاریخ مصرف: ۹۶/۸/۲۳

تاریخ مصرف:



مسابقات ورزشی آسیایی از ۹۴/۶/۲۸ تا ۹۴/۷/۱۲ برگزار شد.

مسابقات در چه ماهی شروع و در چه ماهی تمام شده است؟

شروع: ماه پایان ماه

تاریخ



با استفاده از تقویم، جاهای خالی را پر کنید.

روز دانش آموز ۱۳ آبان است.

روز کارگر اردیبهشت است

روز جمهوری اسلامی فروردین است.

روز درختکاری اسفند است.

مانند نمونه جاهای خالی را کامل کنید.

| | |
|---|--------------|
| نام بیمار: کبری الوندی شماره پرونده: ۱۵۸/الف | |
| تاریخ مراجعه بعدی | تاریخ مراجعه |
| ۶ ماه بعد | اردیبهشت ماه |

تاریخ مراجعه بعدی

| | |
|--|--------------|
| نام بیمار: رامین صدقی شماره پرونده: ۳۲۲ ب | |
| تاریخ مراجعه بعدی | تاریخ مراجعه |
| ۳ ماه بعد | آبان ماه |

تاریخ مراجعه بعدی **بهمن ماه**.



اکنون خرداد ماه است.

این باشگاه تا ۴ ماه دیگر افتتاح می شود.

یعنی ماه.

مشخصات خود را بنویسید.



تاریخ امروز را بنویسید.

تاریخ دیروز را بنویسید.

تاریخ فردا را بنویسید.

نام و تاریخ تولد یکی از دوستان خود را بنویسید.

مهلت پرداخت این قبض تا تاریخ ۹۵/۳/۴ است. اگر امروز ۹۵/۳/۲ باشد، چند روز دیگر تا مهلت پرداخت این قبض مانده است؟ **۲** روز

| | | | | | | | |
|--------------------|--|-------------|--|------------------|--|-------------|--|
| شرح | | مبلغ (ریال) | | مبلغ قابل پرداخت | | مهلت پرداخت | |
| آب بها | | ۲۲۴۵۰ | | ۹۵/۰۳/۴ | | ۹۵/۰۳/۴ | |
| ایستمان آب | | ۴۳۰۰ | | | | | |
| مالیات ارزش افزوده | | ۲۵۰۰ | | | | | |
| شماره ۳ | | ۲۸۰۰۰ | | | | | |
| جمع دوره | | ۵۷۲۵۰ | | | | | |
| مانده پیشین | | ۶۳۰ | | | | | |
| کسر دوره | | +۸۲۰ | | | | | |
| شماره اشتراک | | ۵۸۷۰ | | شماره قبض | | ۹۵/۰۲/۲۳ | |
| شماره پرونده | | ۹۵/۰۳/۴ | | مهلت پرداخت | | ۹۵/۰۳/۴ | |
| کد پستی | | | | شماره قبض | | | |
| تاریخ قرائت | | ۹۵/۰۲/۲۳ | | شماره پرداخت | | | |

مهلت پرداخت یک قبض برق تا تاریخ ۹۵/۷/۱۵ است. اگر امروز ۹۵/۷/۱۰ باشد، چند روز دیگر تا مهلت پرداخت این قبض مانده است؟


مهلت پرداخت یک قبض تلفن تا تاریخ ۹۵/۶/۵ است. اگر امروز ۹۵/۶/۹ باشد، چند روز از تاریخ مهلت پرداخت قبض گذشته است؟

جشن تولد علی ۹۵/۱۰/۱۵ است. اگر امروز ۹۵/۱۰/۱۲ باشد، چند روز دیگر تا جشن تولد او مانده است؟



۱- تاریخ انقضای این مایع ظرفشویی ۹۵/۵/۱۹ است. اگر امروز ۹۵/۵/۲۵ باشد، چند روز از تاریخ انقضای این مایع ظرفشویی گذشته است؟

۲- مینا در تاریخ ۹۵/۱۰/۱۵ امتحان ریاضی دارد. اگر امروز ۹۵/۱۰/۱۰ باشد، چند روز دیگر به امتحان ریاضی او مانده است؟



۳- شهاب در تاریخ ۹۵/۶/۵ وقت چشم پزشکی دارد. اگر امروز ۹۵/۶/۲ باشد، او چند روز دیگر باید به چشم پزشکی برود؟

۴- آقای جعفری در تاریخ ۹۴/۹/۱۹ به مسافرت می رود. اگر امروز ۹۴/۹/۱۵ باشد. او چند روز دیگر به مسافرت می رود؟

۵- دانش آموزان مدرسه ی امید، می خواهند در تاریخ ۹۵/۲/۱۷ به اردو بروند. اگر امروز ۹۵/۲/۱۰ باشد، آن ها چند روز دیگر به اردو می روند؟

نمایشگاه گل و گیاه




شروع نمایشگاه: ۹۵/۲/۲۰

پایان نمایشگاه: ۹۵/۲/۲۴

اگر امروز ۹۵/۲/۲۲ باشد،

چند روز دیگر نمایشگاه گل و گیاه تمام می شود؟



شروع نمایشگاه: ۹۵/۲/۱۵

پایان نمایشگاه: ۹۵/۲/۲۵

اگر امروز ۹۵/۲/۱۲ باشد،

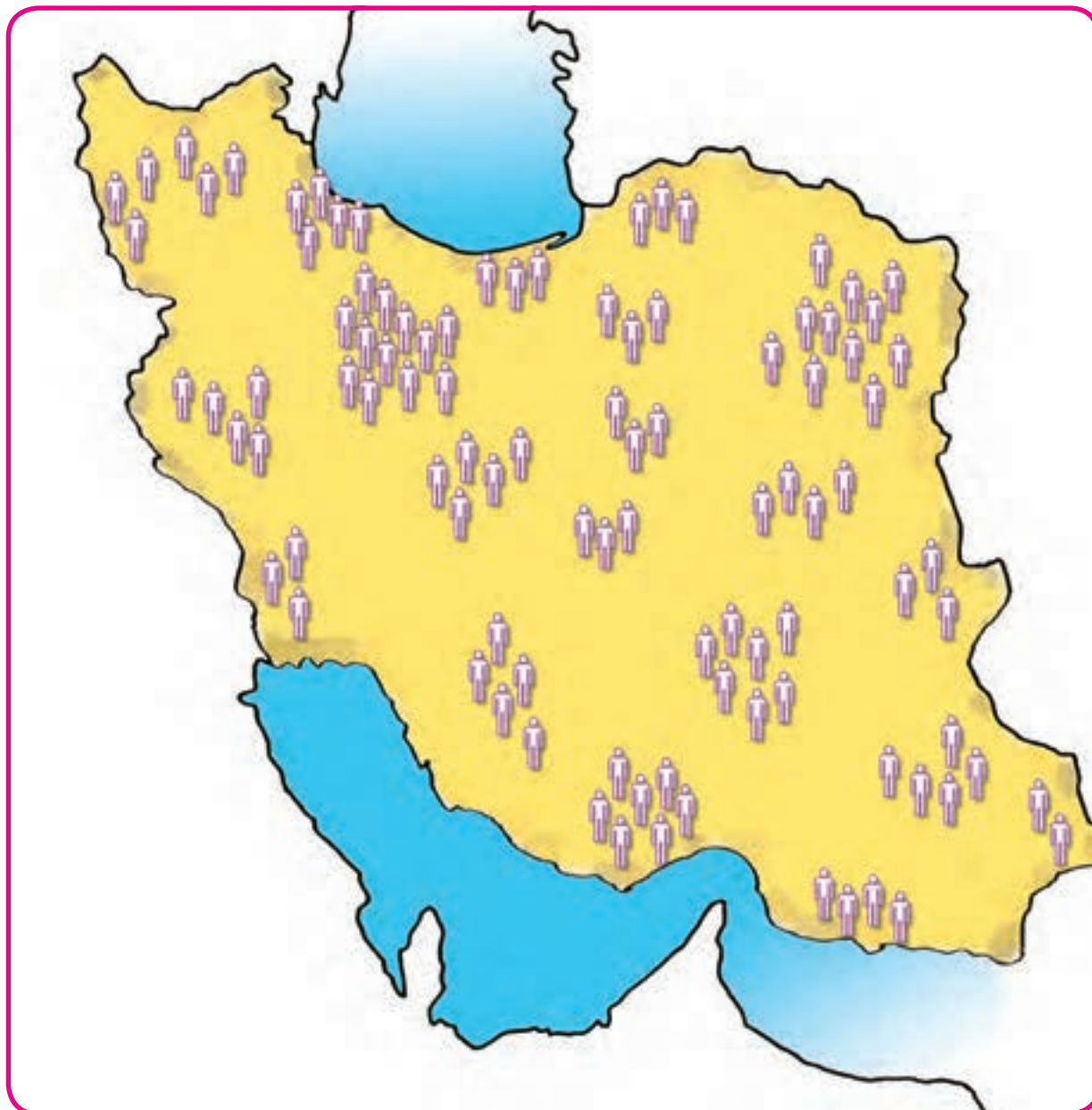
چند روز دیگر نمایشگاه کتاب شروع می شود؟

اگر در خانه خود بطری شیر دارید؛ تاریخ انقضای آن را بنویسید.

ریاضی در
زندگی من

تا چند روز دیگر می توانید آن را مصرف کنید؟

عدد نویسی



بر اساس سرشماری سال ۱۳۹۵ جمعیت ایران
۷۹/۹۲۶/۲۷۰ نفر بوده است.

آیا
می دانید?

تاریخ

مانند نمونه، عددی را که هر یک از جدول‌های زیر نشان می‌دهد با رقم و حروف بنویسید.

| میلیون | | | هزار | | | | | |
|--------|--|---|------|---|---|---|---|---|
| | | ۶ | ۳ | ۹ | ۰ | ۲ | ۸ | ۵ |

به رقم : ۶۳۹٬۰۲۸۵

به حروف : شش میلیون و سیصد و نود هزار و دویست و هشتاد و پنج

| میلیون | | | هزار | | | | | |
|--------|--|---|------|---|---|---|---|---|
| | | ۸ | ۰ | ۳ | ۰ | ۴ | ۵ | ۰ |

به رقم :

به حروف :

| میلیون | | | هزار | | | | | |
|--------|--|---|------|---|---|---|---|---|
| | | ۱ | ۷ | ۶ | ۳ | ۲ | ۷ | ۱ |

به رقم :

به حروف :

| میلیون | | | هزار | | | | | |
|--------|--|---|------|---|---|---|---|---|
| | | ۵ | ۸ | ۰ | ۰ | ۱ | ۰ | ۶ |

به رقم :

به حروف :

مانند نمونه هر عدد را داخل جدول بگذارید و سپس به حروف بنویسید.

| میلیون | هزار | |
|--------|------|-----|
| ۳ | ۷۰۲ | ۰۴۶ |



به حروف : سه میلیون و هفتصد و دو هزار و چهل و شش

| میلیون | هزار | |
|--------|-------|-------|
| | | |



به حروف :

| میلیون | هزار | |
|--------|-------|-------|
| | | |



به حروف :

| میلیون | هزار | |
|--------|-------|-------|
| | | |



به حروف :

قیمت هر یک از اجناس زیر را به حروف بنویسید.



۲۷۵۰۰۰ تومان

به حروف :



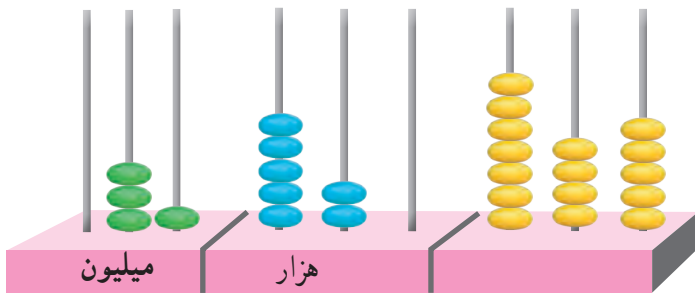
۳۵۰۰۰۰۰ تومان

به حروف :

مبلغ این چک را به حروف بنویسید.

| | | | |
|----------------------------|----------------|--|----------------------------|
| تاریخ ۱۹۹۲۰ | تاریخ ۱۹۹۲۰ | بانک صادرات ایران شعبه واحد ۲۶ شیراز ملتن ۳۶۲۵۹ | تاریخ تاریخ برودت نوشتن |
| نام گیرنده | ریال | بر حسب این چک مبلغ | به حواله کرد |
| مبلغ کلی درج شده در پشت | یا آورنده | بپردازید | حساب شماره |
| مبلغ این چک مبلغ کل | ریال ۷۵۰۰۰۰۰ | | |

به عددی که چرتکه نشان می دهد توجه کنید.



عددی را که چرتکه نشان می دهد در جدول بنویسید.

| میلیون | | | هزار | | | هزار | | |
|--------|-------|------|-------|-------|------|-------|-------|------|
| صدگان | دهگان | یکان | صدگان | دهگان | یکان | صدگان | دهگان | یکان |
| | | | | | | | | |

.....

عدد را از جدول خارج کنید.

برای خواندن این عدد رقم ها را، سه رقم، سه رقم از سمت راست جدا می کنیم :

۳۱'۵۲۰'۷۴۵

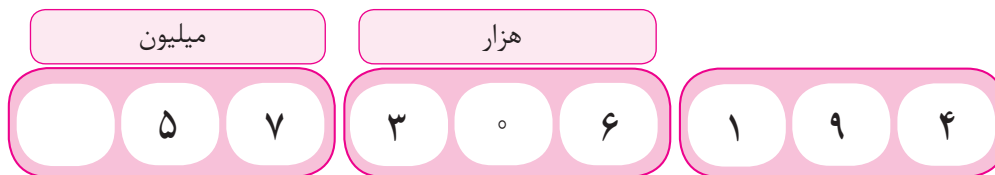
می خوانیم :

۳۱ میلیون و ۵۲۰ هزار و ۷۴۵

سی و یک میلیون و پانصد و بیست هزار و هفت صد و چهل و پنج

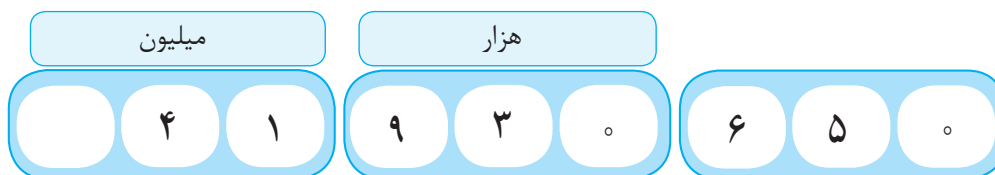
می نویسیم :

مانند نمونه، عددی را که هر یک از جدول‌های زیر نشان می‌دهد با رقم و حروف بنویسید.



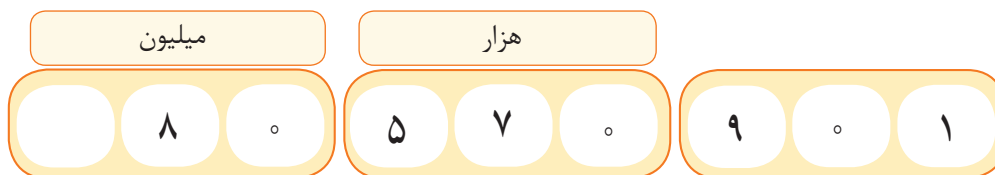
به رقم: ۵۷۳۰۶۱۹۴

به حروف: پنجاه و هفت میلیون و سی صد و شش هزار و صد و نود و چهار



به رقم:

به حروف:



به رقم:

به حروف:



به رقم:

به حروف:

مانند نمونه عدد را در جدول بگذارید و سپس آن را بخوانید و به حروف بنویسید.

| میلیون | | | هزار | | | | | |
|--------|---|---|------|---|---|---|---|---|
| | ۲ | ۵ | ۰ | ۲ | ۳ | ۰ | ۶ | ۰ |

۲۵۰۲۳۰۶۰

به حروف: بیست و پنج میلیون و بیست و سه هزار و شصت

| میلیون | | | هزار | | | | | |
|--------|--|--|------|--|--|--|--|--|
| | | | | | | | | |

۸۲۱۰۹۷۵۰

به حروف:

| میلیون | | | هزار | | | | | |
|--------|--|--|------|--|--|--|--|--|
| | | | | | | | | |

۵۴۸۳۶۰۰۰

به حروف:

| میلیون | | | هزار | | | | | |
|--------|--|--|------|--|--|--|--|--|
| | | | | | | | | |

۶۹۳۷۲۲۰۰

به حروف:

| میلیون | | | هزار | | | | | |
|--------|--|--|------|--|--|--|--|--|
| | | | | | | | | |

۹۵۰۰۰۷۲۳

به حروف:

مانند نمونه عددی را که هر جدول نشان می‌دهد، بخوانید و بنویسید.

| میلیون | هزار | |
|--------|------|-----|
| ۴۷ | ۵۶۹ | ۱۸۰ |

به رقم: ۴۷'۵۶۹'۱۸۰

به حروف: چهل و هفت میلیون و پانصد و شصت و نه هزار و صد و هشتاد

| میلیون | هزار | |
|--------|------|-----|
| ۲۰ | ۹۵۰ | ۸۴۵ |

به رقم:

به حروف:

| میلیون | هزار | |
|--------|------|-----|
| ۸۳ | ۳۲۷ | ۰۰۰ |

به رقم:

به حروف:

| میلیون | هزار | |
|--------|------|-----|
| ۹۵ | ۰۰۰ | ۴۲۶ |

به رقم:

به حروف:

مانند نمونه هر عدد را در جدول بگذارید، سپس آن را بخوانید و به حروف بنویسید.

| میلیون | هزار | |
|--------|------|-----|
| ۴۲ | ۵۶۰ | ۱۹۱ |

۴۲'۵۶۰'۱۹۱

به حروف: **چهل دو میلیون** و پانصد و شصت هزار و صد و نود و یک.

| میلیون | هزار | |
|--------|------|--|
| | | |

۳۶۰۰۴۵۹

به حروف:

| میلیون | هزار | |
|--------|------|--|
| | | |

۵۵۰۰۰۰۰۰

به حروف:

| میلیون | هزار | |
|--------|------|--|
| | | |

۹۰۲۶۰۰۰۰

به حروف:

با توجه به هر عدد، جاهای خالی را کامل کنید.

۶۴'۵۰۰'۱۷۰

شصت و چهار میلیون و پانصد هزار و صد و هفتاد

۷۵۳۶۰۴۹۳

..... میلیون و هزار و

۱۱۵۹۲۸۳۰

..... میلیون و هزار و

۳۸۹۵۷۱۶۲

..... میلیون و هزار و

۲۴۸۵۵۰۰۰ ریال



..... میلیون و هزار

قیمت هر یک از اتومبیل‌های زیر را به حروف بنویسید.



۳۱۰۰۰۰۰۰۰ تومان

با حروف:



۲۵۲۰۰۰۰۰۰ تومان

با حروف:



خانم اکبری با کارت خود مبلغی را از حسابش برداشت.
مبلغ برداشتی و مانده را به حروف بنویسید.

برداشت:

مانده قابل برداشت:

مانند نمونه، عددهای زیر را بخوانید و در جدول بنویسید.

بیست و نه میلیون و پانصد و هفت هزار و بیست

| | | | | | | | | |
|--------|---|---|------|---|---|---|---|---|
| میلیون | | | هزار | | | | | |
| | ۲ | ۹ | ۵ | ۰ | ۷ | ۰ | ۲ | ۰ |

سی و هفت میلیون و دویست و پنجاه و دو هزار و ششصد و چهل

| | | | | | | | | |
|--------|--|--|------|--|--|--|--|--|
| میلیون | | | هزار | | | | | |
| | | | | | | | | |

شصت میلیون و هفت صد و نود و پنج هزار و دویست

| | | | | | | | | |
|--------|--|--|------|--|--|--|--|--|
| میلیون | | | هزار | | | | | |
| | | | | | | | | |

نود و یک میلیون و پانصد و هشتاد و سه

| | | | | | | | | |
|--------|--|--|------|--|--|--|--|--|
| میلیون | | | هزار | | | | | |
| | | | | | | | | |

اعداد زیر را به رقم بنویسید.

سیزده میلیون و هفتصد و چهل و دو هزار

.....

هشتاد میلیون و هفتصد هزار و نوزده

.....

یازده میلیون و پانصد و سی هزار

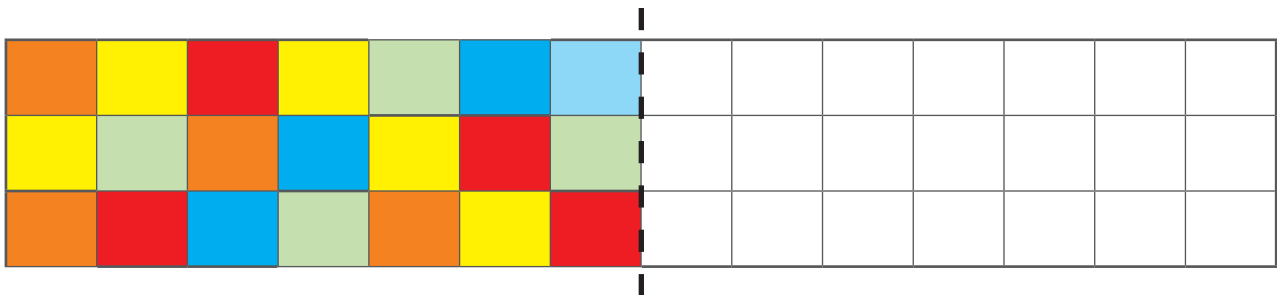
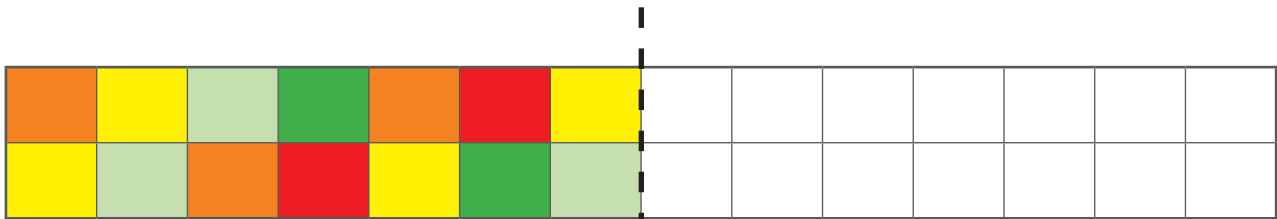
.....

همان طور که می دانید بعضی از شکل ها متقارن هستند یعنی دونیمه آن مثل هم هستند.

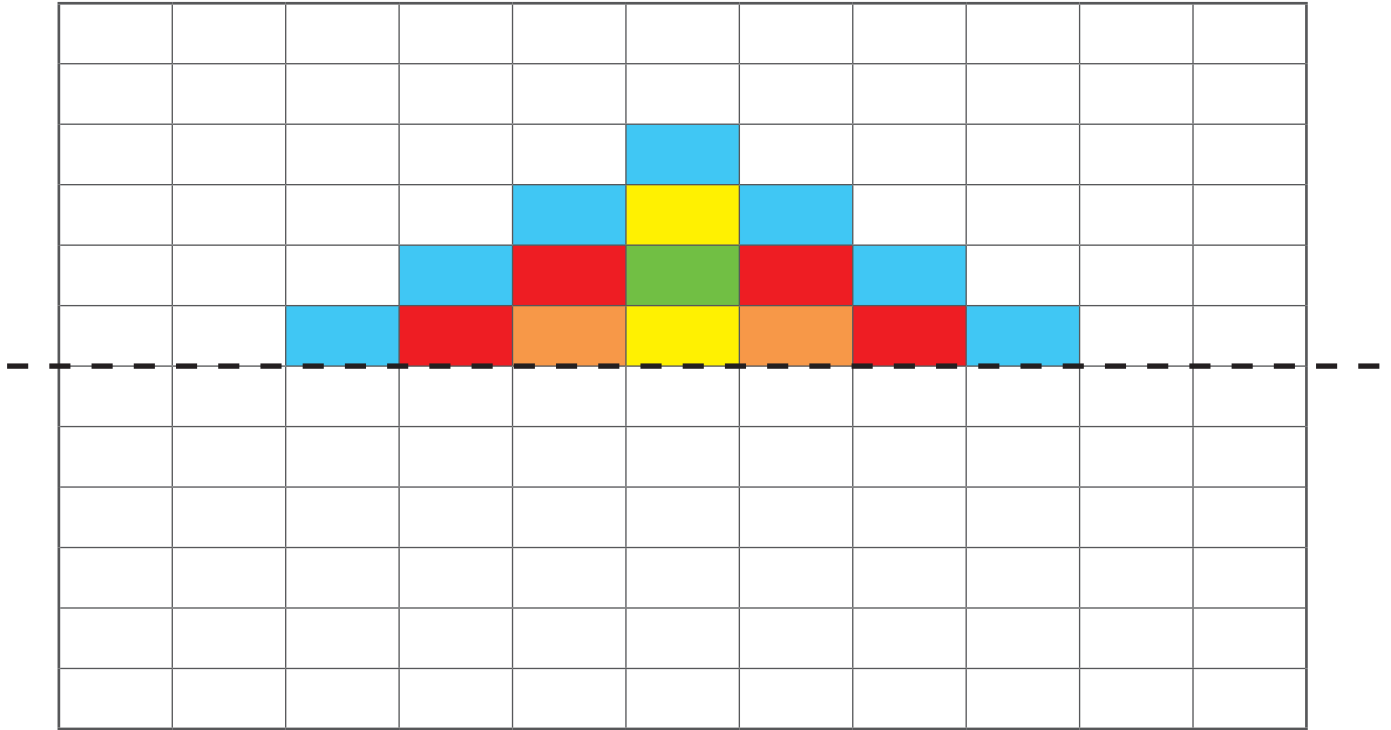


تمرین

در هر شکل با توجه به خط تقارن شکل را طوری کامل کنید که هر دو قسمت قرینه باشند.

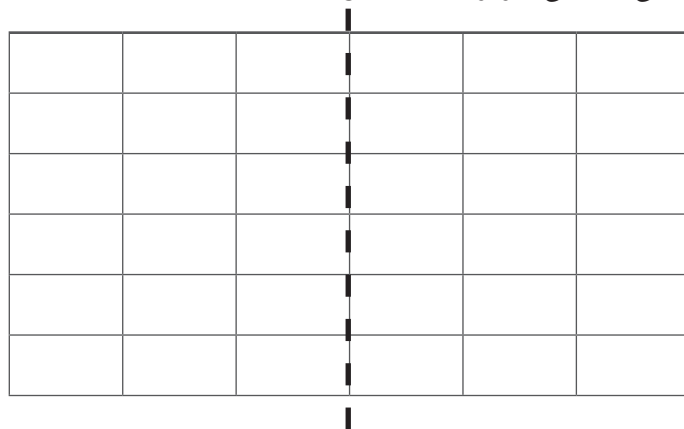


با توجه به خط تقارن، شکل را طوری کامل کنید که هر دو قسمت قرینه باشد.



سرگرمی

در شکل زیر، خط چین، خط تقارن است.
با استفاده از مداد رنگی های آبی، قرمز و زرد شکل را طوری رنگ کنید که دو نیمه آن متقارن باشد.



طرح خود را با طرح دوستان مقایسه کنید.

پول



انتشار اسکناس از وظایف بانک مرکزی می باشد.

آیا
می دانید?

مانند نمونه، در جاهای خالی عدد مناسب بگذارید.



۶۰۰۰ تومان



تومان



تومان





مانند نمونه، در جاهای خالی عدد مناسب بنویسید.

۲۵ اسکناس ۱۰۰۰ تومانی می شود ۲۵۰۰۰ تومان

۳۷ اسکناس ۱۰۰۰ تومانی می شود تومان

۴۴ اسکناس ۱۰۰۰ تومانی می شود تومان

۵۰ اسکناس ۱۰۰۰ تومانی می شود تومان

۵۰ اسکناس ۱۰۰۰ تومانی برابر است با یک چک پول ۵۰۰۰۰ تومانی



جاهای خالی زیر را با استفاده از کلمه‌های «کمتر» یا «برابر» کامل کنید.

۴۰ اسکناس ۱۰۰۰ تومانی است از یک چک پول ۵۰۰۰۰ تومانی

۵۰ اسکناس ۱۰۰۰ تومانی است با یک چک پول ۵۰۰۰۰ تومانی

۳۹ اسکناس ۱۰۰۰ تومانی است از یک چک پول ۵۰۰۰۰ تومانی

فعالیت

با اسکناس‌های ۱۰۰۰ تومانی که معلم در اختیار شما می‌گذارد، مجموعه‌های زیر را بسازید.

۸۰۰۰ تومان، ۱۵۰۰۰ تومان، ۳۱۰۰۰ تومان، ۴۲۰۰۰ تومان، ۵۰۰۰۰ تومان

مانند نمونه، با توجه به قیمت هر جنس در جاهای خالی عدد مناسب بنویسید.



۳۵۰۰۰ تومان

۳۵ اسکناس ۱۰۰۰۰ تومانی



۲۴۰۰۰ تومان

..... اسکناس ۱۰۰۰۰ تومانی



۵۰۰۰۰ تومان

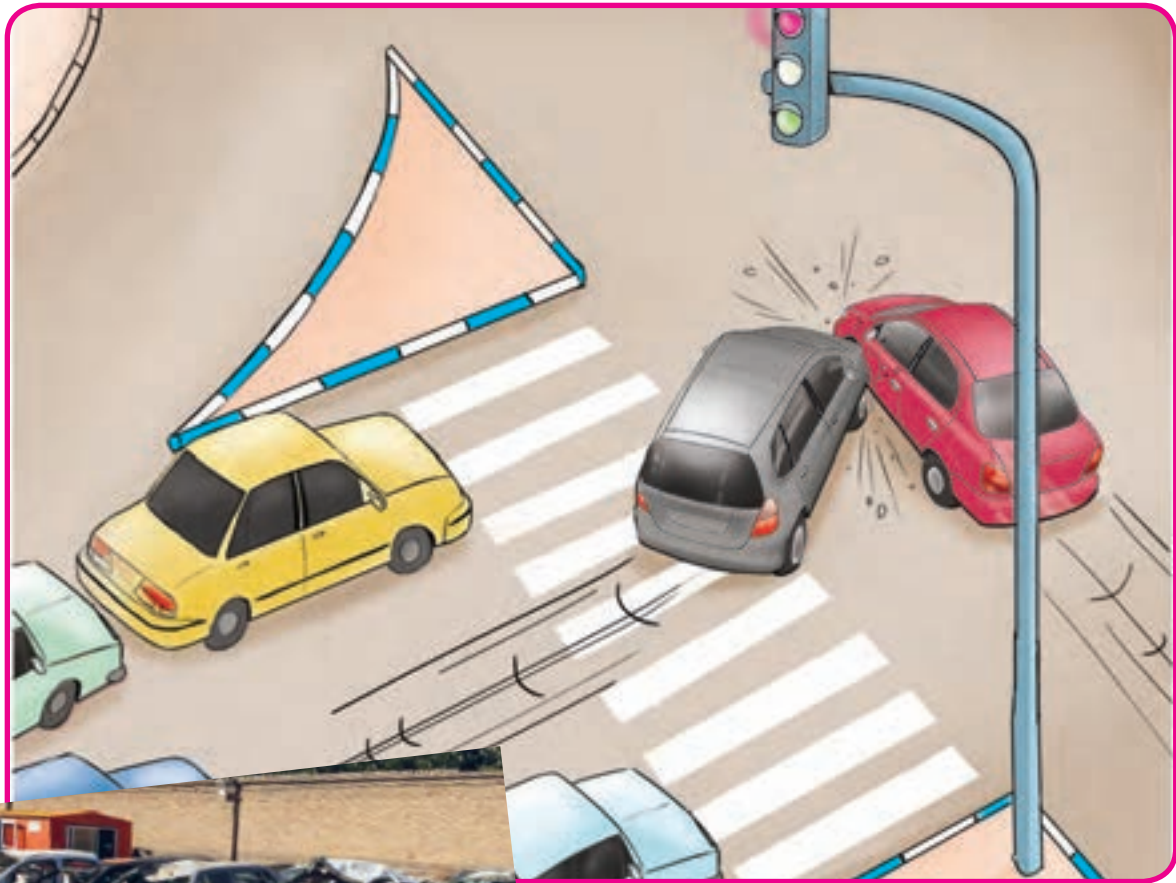
..... اسکناس ۱۰۰۰۰ تومانی



۳۸۰۰۰ تومان

..... اسکناس ۱۰۰۰۰ تومانی

عدد نویسی



آیا می دانید؟
هر سال حدود ۱۰۰۰۰/۱۰۰۰۰ نفر در جهان، به علت رعایت نکردن قوانین راهنمایی و رانندگی جان خود را از دست می دهند.



عددی را که جدول نشان می دهد، به رقم بنویسید.

| میلیون | | | هزار | | | | | |
|--------|-------|------|-------|-------|------|-------|-------|------|
| صدگان | دهگان | یکان | صدگان | دهگان | یکان | صدگان | دهگان | یکان |
| ۳ | ۲ | ۵ | ۲ | ۶ | ۰ | ۱ | ۴ | ۷ |

به رقم :

همان طور که می دانید :

برای خواندن این عدد رقم ها را، سه رقم، سه رقم، از سمت راست جدا می کنیم

۳۲۵/۲۶۰/۱۴۷

می خوانیم : ۳۲۵ میلیون و ۲۶۰ هزار و ۱۴۷

و می نویسیم :

سی صد و بیست و پنج میلیون و دویست و شصت هزار و صد و چهل و هفت

مانند نمونه، عددی را که هر یک از جدول‌های زیر نشان می‌دهد، با رقم و حروف بنویسید.

| میلیون | | | هزار | | | | | |
|--------|---|---|------|---|---|---|---|---|
| ۳ | ۷ | ۴ | ۱ | ۵ | ۰ | ۲ | ۳ | ۹ |

به رقم: ۳۷۴ ۱۵۰ / ۲۳۹

به حروف: سی صد و هفتاد و چهار میلیون و صد و پنجاه هزار و دویست و سی و نه

| میلیون | | | هزار | | | | | |
|--------|---|---|------|---|---|---|---|---|
| ۹ | ۵ | ۰ | ۷ | ۳ | ۶ | ۴ | ۰ | ۰ |

به رقم:

به حروف:

| میلیون | | | هزار | | | | | |
|--------|---|---|------|---|---|---|---|---|
| ۶ | ۷ | ۰ | ۱ | ۴ | ۵ | ۳ | ۰ | ۸ |

به رقم:

به حروف:

| میلیون | | | هزار | | | | | |
|--------|---|---|------|---|---|---|---|---|
| ۵ | ۵ | ۰ | ۳ | ۹ | ۰ | ۹ | ۰ | ۰ |

به رقم:

به حروف:

مانند نمونه عددها را در جدول بگذارید. سپس آنها را بخوانید و به حروف بنویسید.

| میلیون | | | هزار | | | | | |
|--------|---|---|------|---|---|---|---|---|
| ۱ | ۹ | ۵ | ۰ | ۲ | ۶ | ۰ | ۹ | ۰ |

۱۹۵'۰۲۶'۰۹۰

به حروف: صد و نود و پنج میلیون و بیست و شش هزار و نود

| میلیون | | | هزار | | | | | |
|--------|--|--|------|--|--|--|--|--|
| | | | | | | | | |

۳۲۶۱۰۴۵۲۰

به حروف:

| میلیون | | | هزار | | | | | |
|--------|--|--|------|--|--|--|--|--|
| | | | | | | | | |

۸۰۲۳۷۹۰۰۰

به حروف:

| میلیون | | | هزار | | | | | |
|--------|--|--|------|--|--|--|--|--|
| | | | | | | | | |

۴۵۹۳۷۲۲۰۰

به حروف:

| میلیون | | | هزار | | | | | |
|--------|--|--|------|--|--|--|--|--|
| | | | | | | | | |

۵۰۰۰۱۱۳۷۶

به حروف:

مانند نمونه عددی را که هر جدول نشان می‌دهد بخوانید و بنویسید.

| میلیون | هزار | |
|--------|------|-----|
| ۳۰۸ | ۲۴۸ | ۰۷۹ |

به رقم: ۳۰۸'۲۴۸'۰۷۹

به حروف: سیصد و هشت میلیون و دویست و چهل و هشت هزار و هفتاد و نه

| میلیون | هزار | |
|--------|------|-----|
| ۱۹۶ | ۴۱۷ | ۶۵۰ |

به رقم:

به حروف:

| میلیون | هزار | |
|--------|------|-----|
| ۸۷۲ | ۳۴۹ | ۹۰۰ |

به رقم:

به حروف:

| میلیون | هزار | |
|--------|------|-----|
| ۲۰۹ | ۸۰۰ | ۵۱۶ |

به رقم:

به حروف:

مانند نمونه هر عدد را در جدول بگذارید، سپس آن را بخوانید و به حروف بنویسید.

| میلیون | هزار | |
|--------|------|-----|
| ۳۲۹ | ۰۰۰ | ۱۵۶ |

۳۲۹'۰۰۰'۱۵۶

به حروف: سیصد و بیست و نه میلیون و صد و پنجاه و شش

| میلیون | هزار | |
|--------|------|--|
| | | |

۶۹۲۴۷۱۰۰۰

به حروف:

| میلیون | هزار | |
|--------|------|--|
| | | |

۵۴۹۰۰۰۰۱۲۰

به حروف:

| میلیون | هزار | |
|--------|------|--|
| | | |

۷۶۹۹۹۹۸۰۰

به حروف:

مانند نمونه، با توجه به هر عدد، جاهای خالی را کامل کنید.

۹۷۳۱۷۰۴۸۸

نهصد و هفتاد و سه میلیون و صد و هفتاد هزار و چهارصد و هشتاد و هشت

۸۴۰۰۰۵۳۹۹

..... میلیون و هزار و

۸۴۵۷۲۹۴۱

..... میلیون و هزار و

۱۵۷۳۶۹۹۹

..... میلیون و هزار و

۲۱۵۴۸۰۰۰۰۰ ریال



..... میلیون و هزار ریال



۳۰۶ میلیون

طبقه ی «میلیون» عدد $306\ 521\ 948$ را در جدول بگذارید و بخوانید.

| میلیون | هزار | |
|--------|------|--|
| ۳۰۶ | | |

طبقه ی «میلیون» عدد 57994017 را در جدول بگذارید و بخوانید.

| میلیون | هزار | |
|--------|------|--|
| | | |

طبقه ی «میلیون» عدد 250018000 را در جدول بگذارید و بخوانید.

| میلیون | هزار | |
|--------|------|--|
| | | |

طبقه ی «میلیون» عدد 9305428 را در جدول بگذارید و بخوانید.

| میلیون | هزار | |
|--------|------|--|
| | | |

اعداد زیر را به حروف بنویسید.

۳۴۰۱۷۵۰۰

.....

۸۳۵۰۰۰۰۰۰

.....

۸۳۵۰۰۰۰

.....

قیمت این آپارتمان را به حروف بنویسید.



۱۳۲۷۵۰۰۰۰ تومان

تومان

خانم مجیدی برای خرید این آپارتمان ۴۵۰۰۰۰۰۰ تومان از بانک وام گرفته است. این مبلغ را به حروف

بنویسید.

تومان

آقای صادقی، ماهانه ۲۳۵۰۰۰۰ تومان حقوق می‌گیرد. این مبلغ را به حروف بنویسید.

تومان

مانند نمونه عددهای زیر را بخوانید و در جدول بنویسید.

نهصد میلیون و دویست و پنج هزار و صد و بیست

| میلیون | | | هزار | | | | | |
|--------|---|---|------|---|---|---|---|---|
| ۹ | ۰ | ۰ | ۲ | ۰ | ۵ | ۱ | ۲ | ۰ |

شصت و پنج میلیون و صد و هفتاد و سه هزار و پانصد و چهل و دو

| میلیون | | | هزار | | | | | |
|--------|--|--|------|--|--|--|--|--|
| | | | | | | | | |

چهار میلیون و سیصد و هفت هزار و نوزده

| میلیون | | | هزار | | | | | |
|--------|--|--|------|--|--|--|--|--|
| | | | | | | | | |

دویست و هفتاد و چهار میلیون و نهصد و شصت هزار

| میلیون | | | هزار | | | | | |
|--------|--|--|------|--|--|--|--|--|
| | | | | | | | | |

عددهای زیر را به رقم بنویسید.

..... نه میلیون و چهل و چهار هزار و صد و سی و سه

..... چهارصد و هفتاد و پنج میلیون و نهصد و هشتاد و یک هزار و چهارصد

..... هشتاد و یک میلیون و هفتصد و بیست و پنج هزار

اعداد لاتین



در فرودگاه‌ها به علت رفت و آمد مسافران خارجی برای نمایش اطلاعات پرواز مانند: ساعت ورود، شماره پرواز هواپیماها و... از اعداد لاتین هم استفاده می‌کنند.

آیا می‌دانید؟



ریال 3/965/000

خانم مهدوی برای خرید این اتو مبلغ ۳/۹۶۵/۰۰۰ ریال پرداخت کرد.

عددهای زیر را بخوانید و مانند نمونه به لاتین بنویسید.

۵۲۹۱۶۴۸

۱۹۷۵۶۲۰

۸۴۰۸۵۱۲

5291648

.....

.....

مانند نمونه عددهای لاتین را به فارسی بخوانید و با رقم های فارسی بنویسید.

1823709

3542618

4260593

۱۸۲۳۷۰۹

.....

.....

قیمت این داروها را به فارسی بخوانید و با رقم های فارسی بنویسید.



452000



63000

ریال

ریال

عددی را که هر ماشین حساب نشان می‌دهد، به فارسی بخوانید و بنویسید.



مانند نمونه، عددهای زیر را به فارسی بخوانید و به حروف بنویسید.

4'581'260

چهار میلیون و پانصد و هشتاد و یک هزار و دویست و شصت

1796524

.....

3135000

.....

قیمت هر جنس را به فارسی بخوانید و بنویسید.



5358000 تومان

تومان



3475200 تومان

تومان



1896545 تومان

تومان



1635250 تومان

تومان



خانم افشار با ماشین حساب تلفن همراه خود قیمت خریدهای خود را حساب کرد و مبلغ 2896540 تومان تومان به فروشنده داد. این مبلغ را به فارسی بنویسید و بخوانید.

.....



کشاورزی میزان فروش محصول گندم خود
را با ماشین حساب محاسبه کرد.
و عدد ۹۸۴۵۰۰۰ را به دست آورد.

عددهای زیر را با ماشین حساب نشان دهید و به فارسی بخوانید.

1245980

507136

4750231

2600000

1563942

4273456

9416720

2081465

640003

عددهای زیر را با ماشین حساب نشان دهید و به فارسی بخوانید.

۳۶۲۱۷۸۹

۱۷۶۲۰۰۰

۸۶۵۰۷۱۲

۴۲۳۸۰۰۶

۹۲۶۹۱۳۰

۲۴۶۳۹۹۰

۶۵۲۷۰۰۰

۷۵۴۸۰۰۰

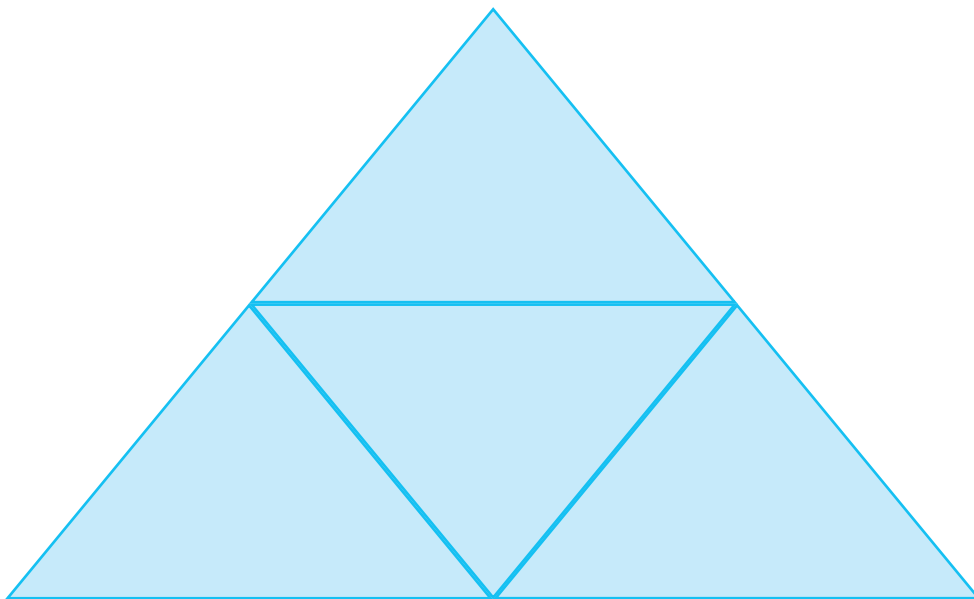
۶۴۴۰۵۲۰




عدد ۳۱۰۴ در کدام ردیف است؟
خانه‌های مربوط به این عدد را رنگ کن.

| | | | | | |
|---|---|---|---|---|---|
| ۳ | ۲ | ۰ | ۴ | ۷ | ۹ |
| ۶ | ۸ | ۳ | ۱ | ۴ | ۰ |
| ۲ | ۳ | ۱ | ۰ | ۴ | ۹ |
| ۳ | ۰ | ۱ | ۴ | ۱ | ۵ |

در شکل زیر چند مثلث می‌بینید؟



ساعت



یک شبانه روز ۲۴ ساعت می باشد. یعنی در این مدت، زمین یک دور به دور خودش می چرخد.

آیا می دانید؟

ساعت های زیر زمان را در بعد از ظهر نشان می دهد.
مانند نمونه زمان آن ها را بنویسید.



حرکت اتوبوس : ساعت ۹ بعد از ظهر

یعنی ساعت : ۲۱



بخش مسابقه فوتبال : ساعت بعد از ظهر

یعنی ساعت :



زمان شروع جشن مبعث : ساعت بعد از ظهر

یعنی ساعت :



زمان شروع نمایش : ساعت بعد از ظهر

یعنی ساعت :

پایان کلاس نقاشی ساعت ۵ بعد از ظهر است؛ یعنی ساعت

شروع مسابقه والیبال ساعت ۳ بعد از ظهر است؛ یعنی ساعت

ساعت حرکت هواپیما ۱۲ شب است؛ یعنی ساعت

ساعت در بعدازظهر (۱)

ساعت‌های زیر وقت را در بعدازظهر نشان می‌دهد.
مانند نمونه، زمان آن‌ها را بنویسید.



شروع مسابقه فوتبال ساعت ۱۵:۰۶ بعدازظهر

یعنی ساعت ۱۸:۱۵




ساعت: بعدازظهر
یعنی ساعت:



ساعت: بعدازظهر
یعنی ساعت:



ساعت: بعدازظهر
یعنی ساعت:



ساعت: بعدازظهر
یعنی ساعت:

ساعت‌های زیر زمان شروع مسابقات را در بعدازظهر نشان می‌دهد.
مانند نمونه زمان آن‌ها را بنویسید.



شروع مسابقه ساعت ۱۴:۱۵



شروع مسابقه ساعت :



شروع مسابقه ساعت :

ساعت ۲۰:۴۰ بعدازظهر یعنی ساعت

ساعت ۷:۴۵ بعدازظهر یعنی ساعت

ساعت ۱۱:۵۵ شب یعنی ساعت

مقایسه اعداد



قله دماوند با ارتفاع ۵۶۷۱ متر؛ بلندترین قلّه‌ی ایران است.

آیا می‌دانید؟

تاریخ

مانند نمونه بین هر دو عدد علامت مناسب بگذارید.

$$۷۶۰۹۸۲۳ < ۷۶۰۹۸۲۵$$

$$۱۳۶۸۳۹ \square ۴۶۸۳۹$$

$$۴۷۸۶۲۹۷ \square ۴۷۱۸۶۹۷$$

$$۳۷۸۰۹۴۵ \square ۳۷۸۰۹۴۵$$

بر اساس سرشماری سال ۱۳۹۰، کدام شهر جمعیت بیشتری دارد.



اراک :۵۲۶۱۸۲..... نفر اهواز :۱۱۱۲۰۲۱..... نفر

عددی را که روی هر پول نوشته شده به رقم بنویسید و با هم مقایسه کنید.



.....



.....

مقایسه اعداد

به عددی که هر جدول نشان می دهد توجه کنید.

۸۲/۴۳۹/۱۷۰

| میلیون | | | هزار | | | | | |
|--------|---|--|------|---|---|---|---|---|
| ۸ | ۲ | | ۴ | ۳ | ۹ | ۱ | ۷ | ۰ |

۱۳۴/۲۵۶/۰۰۰

| میلیون | | | هزار | | | | | |
|--------|---|---|------|---|---|---|---|---|
| ۱ | ۳ | ۴ | ۲ | ۵ | ۶ | ۰ | ۰ | ۰ |

$$۸۲/۴۳۹/۱۷۰ < ۱۳۴/۲۵۶/۰۰۰$$

همان طور که می بینید:

مانند نمونه بالا، عددها را با هم مقایسه کنید.

| میلیون | | | هزار | | | | | |
|--------|---|---|------|---|---|---|---|---|
| ۱ | ۳ | ۵ | ۴ | ۶ | ۰ | ۹ | ۰ | ۰ |

| میلیون | | | هزار | | | | | |
|--------|---|---|------|---|---|---|---|---|
| ۲ | ۳ | ۵ | ۸ | ۲ | ۷ | ۳ | ۱ | ۹ |



عددها را از جدول خارج کنید و سپس با هم مقایسه کنید.

.....

| میلیون | | | هزار | | | | | |
|--------|---|---|------|---|---|---|---|---|
| | ۷ | ۱ | ۵ | ۳ | ۹ | ۴ | ۴ | ۸ |

.....

| میلیون | | | هزار | | | | | |
|--------|---|---|------|---|---|---|---|---|
| | ۹ | ۴ | ۸ | ۰ | ۹ | ۶ | ۳ | ۰ |

.....

.....

| میلیون | | | هزار | | | | | |
|--------|---|---|------|---|---|---|---|---|
| ۸ | ۰ | ۵ | ۱ | ۴ | ۰ | ۳ | ۲ | ۲ |

.....

| میلیون | | | هزار | | | | | |
|--------|---|---|------|---|---|---|---|---|
| ۵ | ۹ | ۸ | ۳ | ۶ | ۱ | ۷ | ۴ | ۶ |

.....

بین هر دو عدد علامت مناسب بگذارید.

$$453.8146 > 429.8146$$

$$207824159 \square 483209007$$

$$109935648 \square 48993569$$

$$65309412 \square 87216193$$

کدام اتومبیل گران تر است؟



۱۵۳۷۸۰۰۰۰ تومان

۹۵۷۸۰۰۰۰ تومان

کدام ماشین لباس شویی ارزان تر است؟



۲۴۰۰۰۰۰۰ ریال

۱۳۵۴۰۰۰۰۰ ریال

به قیمت هر واحد از آپارتمان‌های زیر توجه کنید.



مجتمع نسیم

۱۴۵۰۰۰۰۰۰ تومان



مجتمع میلاد

۱۲۷۵۰۰۰۰۰ تومان

قیمت یک واحد آپارتمان در کدام مجتمع، بیشتر است؟

پاسخ دهید.

۱- جمعیت استان قزوین $۱٬۱۲۷٬۷۳۴$ نفر و جمعیت استان تهران $۱۳٬۲۷۳٬۰۰۹$ نفر است. جمعیت کدام استان کم تر است؟

۲- قیمت یک فروشگاه در خیابان سعدی $۱۷۵٬۰۰۰٬۰۰۰$ تومان و قیمت یک فروشگاه در خیابان حافظ $۹۸٬۰۰۰٬۰۰۰$ تومان است. قیمت کدام فروشگاه بیش تر است؟

فعالیت

یک عدد ۹ رقمی بنویسید.

دوست شما هم یک عدد ۹ رقمی بنویسد.

اعداد نوشته شده را با هم مقایسه کنید، عدد چه کسی بیشتر است؟

جمع



زنبورها برای تولید یک کیلو عسل ، باید شهد ده میلیون گل را جمع کنند.

آیا می دانید؟

تاریخ

در یک کارخانه روزانه ۵۳۰۰ بسته پودر ماشین لباسشویی و ۳۶۰۰ قالب صابون تولید می شود. با جمع این دو عدد، میزان تولید روزانه این دو محصول را به دست آورید.



$$\begin{array}{r} 5300 \\ + 3600 \\ \hline \end{array}$$

جمع های زیر را انجام دهید.

$$\begin{array}{r} 452 \\ + 307 \\ \hline \end{array}$$

$$\begin{array}{r} 569 \\ + 225 \\ \hline \end{array}$$

$$\begin{array}{r} 6250 \\ + 439 \\ \hline \end{array}$$

$$\begin{array}{r} 7236 \\ + 1620 \\ \hline \end{array}$$

$$\begin{array}{r} 7200 \\ + 2500 \\ \hline \end{array}$$

$$\begin{array}{r} 34 \\ + 20 \\ + 5 \\ \hline \end{array}$$

$$\begin{array}{r} 56 \\ + 13 \\ + 42 \\ \hline \end{array}$$

$$\begin{array}{r} 27 \\ + 81 \\ + 36 \\ \hline \end{array}$$

عددهای داخل هر قسمت را با هم جمع کنید.

۳۶۹۰ و ۵۲۰۸

۳۹ و ۶۴ و ۷

۵۴۰۰ و ۲۳۷۹

۴۲۶ و ۸۵۵

مانند نمونه جمع های زیر را انجام دهید.

$$\begin{array}{r} ۲۰۰۰۰ \\ + ۵۰۰۰۰ \\ \hline ۷۰۰۰۰ \end{array}$$

$$\begin{array}{r} ۲۰۰۰۰ \\ + ۳۰۰۰۰ \\ \hline \end{array}$$

$$\begin{array}{r} ۶۰۰۰۰ \\ + ۲۰۰۰۰ \\ \hline \end{array}$$

$$\begin{array}{r} ۳۰۰۰۰ \\ + ۵۰۰۰۰ \\ \hline \end{array}$$

$$\begin{array}{r} ۷۰۰۰۰ \\ + ۲۰۰۰۰ \\ \hline \end{array}$$

$$\begin{array}{r} ۱۰۰۰۰ \\ + ۸۰۰۰۰ \\ \hline \end{array}$$

$$\begin{array}{r} ۳۰۰۰۰ \\ + ۴۰۰۰۰ \\ \hline \end{array}$$

$$\begin{array}{r} ۱۰۰۰۰ \\ + ۱۰۰۰۰ \\ \hline \end{array}$$

$$\begin{array}{r} ۵۰ \text{ هزار} \\ + ۲۰ \text{ هزار} \\ \hline ۷۰/۰۰۰ \end{array}$$

$$\begin{array}{r} ۳۰ \text{ هزار} \\ + ۶۰ \text{ هزار} \\ \hline \end{array}$$

$$\begin{array}{r} ۴۰ \text{ هزار} \\ + ۲۰ \text{ هزار} \\ \hline \end{array}$$

$$\begin{array}{r} ۶۰ \text{ هزار} \\ + ۳۰ \text{ هزار} \\ \hline \end{array}$$

$$۵۰۰۰۰ + ۱۰۰۰۰ = ۶۰/۰۰۰$$

$$۴۰۰۰۰ + ۵۰۰۰۰ =$$

$$۲۰۰۰۰ + ۲۰۰۰۰ =$$

$$۳۰۰۰۰ + ۱۰۰۰۰ =$$

مبلغ پول‌های هر ردیف را حساب کنید.



..... تومان



..... تومان



۳۰۰۰۰ تومان



۲۰۰۰۰ تومان

قیمت اجناس هر ردیف را حساب کنید.

..... تومان



۲۰۰۰۰ تومان



۵۰۰۰۰ تومان


..... تومان

۱- آقای محمدی اجناس زیر را خریده است.

یک کیف به قیمت ۵۰۰۰۰ تومان

یک کتاب به قیمت ۲۰۰۰۰ تومان

او چقدر خرج کرده است؟



۲- زهرا یک ساعت به قیمت ۷۰۰۰۰ تومان و یک دستبند به قیمت ۲۰۰۰۰ تومان خرید. او چقدر باید به فروشنده پرداخت کند؟

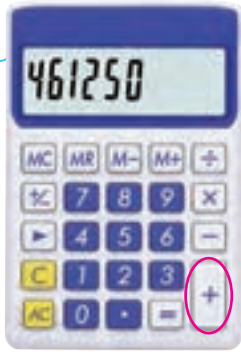
۳- قیمت یک کتری ۵۰۰۰۰ تومان و قیمت یک قوری ۳۰۰۰۰ تومان است.

قیمت این دو جنس چقدر می شود؟



۴- مبلغ قبض برق منزل آقای احمدی ۶۰۰۰۰ تومان و مبلغ قبض آب منزل او ۲۰۰۰۰ تومان است. مبلغ این دو قبض چقدر است؟

جمع دو عدد با ماشین حساب



۱۸۶۷۵۰ تومان



خانم اسدی اجناس زیر را خرید



۲۷۴۵۰۰ تومان

او با ماشین حساب قیمت این دو جنس را حساب کرد و ۴۶۱۲۵۰ تومان پرداخت کرد.

جمع‌های زیر را با ماشین حساب انجام دهید.

۶۴۲۵۵۰ و ۲۷۹۳۰۰

۵۱۳۷۷۰ و ۷۸۹۶۰۰

۷۴۹۵۰۰ و ۳۴۸۲۰۹

۵۵۷۰۰ و ۴۹۳۷۵۰

قیمت اجناس زیر را با ماشین حساب به دست آورید.

۱۹۷۰۰۰ تومان



۸۵۰۰۰ تومان




..... تومان

تاریخ

جمع دو عدد با ماشین حساب

برای انجام محاسبات از ماشین حساب استفاده کنید.
قیمت اجناس هر ردیف را حساب کنید.



۲۵۵۰۰۰ تومان



۳۲۵۰۰۰ تومان

تومان



۱۷۵۰۰۰ تومان



۱۹۸۰۰۰ تومان

تومان



۳۸۹۰۰۰ تومان



۵۹۰۰۰۰ تومان

تومان

تمرین های دوره‌ای (۱)

آقای رشیدی خانه خود را به قیمت ۶۲/۴۲۰/۰۰۰ تومان فروخت.

(به حروف و خانه‌ی دیگری به قیمت

۸۵/۰۰۰/۰۰۰ تومان خرید. قیمت خانه‌ی جدید او از قیمت خانه‌ی قبلی بود.

بنابراین او مبلغ پانزده میلیون تومان (به رقم) وام گرفت.

آقای رشیدی باید هر ماه مبلغ ۲۷۵۰۰۰ تومان (به فارسی) بابت قسط خانه پرداخت کند.



خانواده‌ی آقای رشیدی از ماه گذشته در خانه‌ی جدید زندگی می‌کنند و این خانه را خیلی دوست دارند.

نمایشگاه لوازم خانگی در ۹۶/۱۱/۲۷ تمام می‌شود.

اگر امروز ۹۶/۱۱/۲۳ باشد، چند روز دیگر به پایان نمایشگاه مانده است؟

جاهای خالی را کامل کنید.

ساعت ۶:۲۵ بعد از ظهر یعنی ساعت

ساعت ۱۰:۱۵ شب یعنی ساعت

تمرین های دوره‌ای (۱)



یک چک پول تومانی برابر است با اسکناس ۱۰۰۰ تومانی
به نظر شما: ۴۷ اسکناس ۱۰۰۰ تومانی بیشتر است یا یک چک پول ۵۰۰۰۰۰ تومانی؟

خانم موسوی کالاهای زیر را خریده است. قیمت آنها چقدر می‌شود؟



۲۰۰۰۰۰ تومان



۴۰۰۰۰۰ تومان

..... تومان

با استفاده از ماشین حساب، جمع صورت حساب زیر را به دست آورید.

| صورت حساب | |
|-----------------|-------------|
| کالا | قیمت |
| یک سرویس فنجان | ۲۶۵۰۰۰ ریال |
| یک قابلمه تفلون | ۳۹۷۵۰۰ ریال |
| جمع | |

تمرین های دوره‌ای (۱)

عددی را که جدول نشان می‌دهد، به رقم و حروف بنویسید.

| میلیون | هزار | |
|--------|------|-----|
| ۴۱۷ | ۲۳۰ | ۰۶۰ |

با رقم :

با حروف :

قیمت کدام باغ بیشتر است؟



۹۵۵۰۰۰۰۰ تومان



۱۰۵۰۰۰۰۰۰ تومان

عددهای داخل هر خانه را با هم جمع کنید. (بدون استفاده از ماشین حساب)

۷۳۵۲ و ۲۵۱۶

۸۰۷۸ و ۱۹۲۰

کیلومتر



حداکثر سرعت ۶۰ کیلومتر در ساعت یعنی، سرعت اتوموبیل‌ها در این مسیر نباید بیشتر از ۶۰ کیلومتر باشد.

آیا می‌دانید؟



عباس با خانواده ی خود برای زیارت به شهر قم می رفت و تابلوهایی را که در راه می دید، می خواند. او از پدرش پرسید: «قم ۷۰ کیلومتر؛ یعنی چه؟» پدرش جواب داد: یعنی فاصله ی اینجا تا شهر قم ۷۰ کیلومتر است.

عباس پرسید: «کیلومتر؛ یعنی چه؟»

پدرش جواب داد: «فاصله های زیاد مانند فاصله ی بین شهرها و روستاها را با کیلومتر اندازه گیری می کنند.

یک کیلومتر ۱۰۰۰ متر است.

مانند نمونه جاهای خالی را کامل کنید.



۱۰ کیلومتر مانده به چالوس



.....



.....



- به فاصله تهران تا بعضی از شهرها توجه کنید :
- فاصله تهران تا زاهدان ۱۴۹۱ کیلومتر است.
- فاصله تهران تا اراک ۲۷۸ کیلومتر است.
- فاصله تهران تا کرج ۵۲ کیلومتر است.
- کدام شهر به تهران نزدیک تر است؟
- کدام شهر به تهران دورتر است؟

فاصله‌ی شهر من، از شهر تهران کیلومتر است.

ریاضی در
زندگی من

مانند نمونه، جاهای خالی را کامل کنید.

یک کیلومتر ۱۰۰۰ متر است.

۳ کیلومتر ۳۰۰۰ متر است.

۶ کیلومتر متر است.

۱۲ کیلومتر متر است.

فاصله‌ی خانه‌ی محسن تا مدرسه ۲ کیلومتر است؛ این فاصله متر است.

فاصله‌ی یک روستا تا شهر اردبیل ۱۸ کیلومتر است؛ این فاصله متر است.

۲۰۰۰ متر یعنی ۲ کیلومتر

۴۰۰۰ متر یعنی

۷۰۰۰ متر یعنی

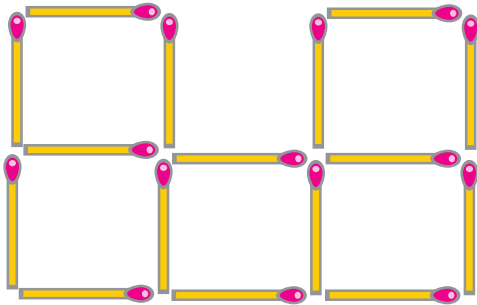
۱۴۰۰۰ متر یعنی

شما در چه شهری زندگی می‌کنید؟

اخيراً به کدام شهر مسافرت کرده‌اید؟

فاصله‌ی شهر شما تا آن شهر، چند کیلومتر است؟


ریاضی در
زندگی من



شکل روبه‌رو را با چوب کبریت بسازید.
حالا ۲ تا از چوب کبریت‌ها را بردارید
تا شکل به چهار مربع تبدیل شود.

جدول

- ۱- بزرگترین عدد سه رقمی - کوچکترین عدد زوج دو رقمی
- ۲- یک متر برابر است با سانتی‌متر - یک اسکناس پول ۵۰۰۰ ریالی می‌شود، تومان
- ۳- یک چک پول پنجاه هزار تومانی می‌شود ریال
- ۴- یک کیلومتر برابر است با متر - ساعت ۷ بعد از ظهر یعنی.....
- ۵- حاصل جمع ۳۰۰۰ و ۵۰۰۰ می‌شود - کوچکترین عدد فرد



جمع



در استان های گیلان، مازندران و گلستان مجموعاً بیشترین میزان
برنج ایران تولید می شود.

آیا
می دانید؟

جمع‌های زیر را انجام دهید.

$$\begin{array}{r} 3000 \\ + 2000 \\ + 4000 \\ \hline \end{array}$$

$$\begin{array}{r} 5000 \\ + 3000 \\ + 3000 \\ \hline \end{array}$$

$$4000 + 2000 + 1000 =$$

$$5000 + 3000 + 1000 =$$

$$\begin{array}{r} 2 \text{ هزار} \\ + 5 \text{ هزار} \\ + 3 \text{ هزار} \\ \hline \end{array}$$

$$\begin{array}{r} 3 \text{ هزار} \\ + 1 \text{ هزار} \\ + 5 \text{ هزار} \\ \hline \end{array}$$

$$\begin{array}{r} 4 \text{ هزار} \\ + 3 \text{ هزار} \\ + 2 \text{ هزار} \\ \hline \end{array}$$

$$\begin{array}{r} 5 \text{ هزار} \\ + 3 \text{ هزار} \\ + 1 \text{ هزار} \\ \hline \end{array}$$

پول‌های زیر روی هم، چند تومان است؟



تومان