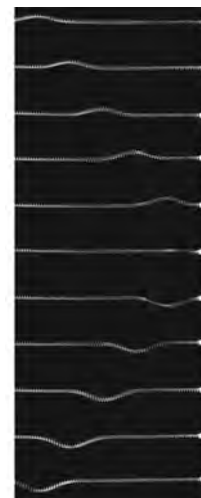


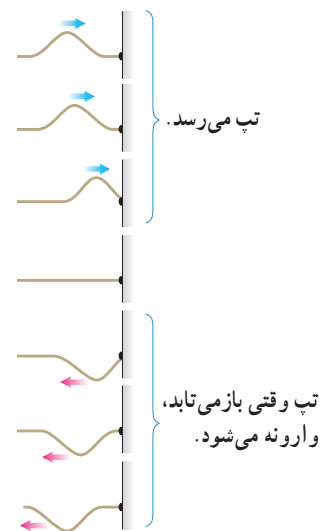
بازتاب امواج مکانیکی: اگر تپی را در یک فنر (یا یک ریسمان) کشیده بلند که یک سر آن بر تکیه‌گاهی ثابت شده است روانه کنیم، وقتی تپ به تکیه‌گاه (مرز) می‌رسد نیرویی به آن وارد می‌کند و طبق قانون سوم نیوتون، تکیه‌گاه نیز نیرویی با اندازه برابر و در جهت مخالف بر فنر وارد می‌آورد. این نیرو در محل تکیه‌گاه، تپی در فنر ایجاد می‌کند که روی فنر در جهت مخالف تپ تابیده حرکت می‌کند (شکل ۳-۳۰). شکل ۳-۳۱ طرحی واضح‌تر از تابش و بازتابش چنین تپی را نشان می‌دهد. چنین بازتابی را بازتاب در یک بُعد می‌گویند.

به خاطر داریم وقتی تیغه تختی را بر سطح آب تثبیت موج به نوسان درمی‌آوریم، امواج تختی بر سطح آب تشکیل می‌شود. اکنون اگر بر سر راه این امواج مانع‌هایی قرار دهیم، این امواج پس از برخورد با این موانع بازمی‌تابند. به چنین بازتابی، بازتاب در دو بُعد می‌گویند. ساده‌ترین شکل یک مانع، مانعی تخت است. در حضور این نوع مانع، امواج بازتابیده نیز تخت‌اند (شکل ۳-۳۲).^۱ شکل ۳-۳۳ طرحی از چنین بازتابی را نشان می‌دهد. با استفاده از جبهه‌های موج می‌توانیم به‌طور تجربی به رفتار موج در برخورد با یک مانع پی‌بریم. طرح معادل دیگری برای نشان دادن رفتار موج، استفاده از **نمودار پرتویی** است. یک پرتو، پیکان مستقیمی عمود بر جبهه‌های موج است که جهت انتشار موج را نشان می‌دهد. بدین ترتیب می‌توان نمودار پرتویی مربوط به شکل ۳-۳۳ را در حضور جبهه‌های موج به صورت شکل ۳-۳۴ رسم کرد. زاویه بین خط عمود بر سطح مانع و پرتوی تابیده (فرودی) را **زاویه تابش** می‌نامند و با θ_i نشان می‌دهند^۲ و زاویه بین خط عمود بر سطح مانع و پرتوی بازتابیده را **زاویه بازتابش** می‌نامند و با θ_r نشان می‌دهند^۳. آزمایش‌هایی نظیر آنچه در شکل ۳-۳۳ نشان داده شده است، ثابت می‌کند که برای هر وضعیت مانع، و همه انواع دیگر موج، مانند امواج دایره‌ای یا کروی نیز، همواره زاویه بازتابش برابر با زاویه تابش است یعنی: $\theta_i = \theta_r$ که به آن، **قانون بازتاب عمومی** گفته می‌شود.

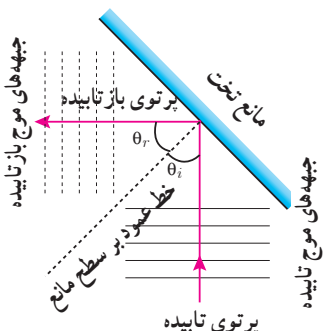
نمونه دیگری از بازتاب امواج مکانیکی، بازتاب امواج صوتی است. صوت می‌تواند از یک سطح سخت مانند دیوار بازتابش کند. این مثالی از بازتاب امواج در سه بُعد است. بازتاب صوت نیز از همان قانون بازتاب عمومی پیروی می‌کند. در فعالیت ۳-۷ به تحقیق این امر می‌پردازیم.



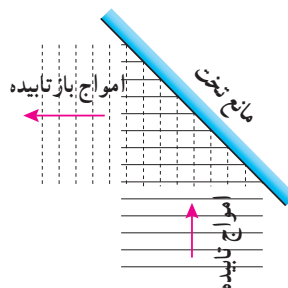
شکل ۳-۳۰ چند تصویر لحظه‌ای متوالی از پیشروی و بازتاب یک تپ عرضی در یک فنر بلند کشیده شده که یک سر آن در تکیه‌گاهی واقع در سمت راست، ثابت شده است.




شکل ۳-۳۱ طرحی از پیشروی و بازتاب تپ عرضی شکل ۳-۳۰



شکل ۳-۳۲ نمودار پرتویی همراه با جبهه‌های موج برای بازتاب امواج تخت از سطح مانعی تخت



شکل ۳-۳۳ طرحی از جبهه‌های موج تابیده (خطوط توپر) و جبهه‌های موج بازتابیده (خطوط چین)



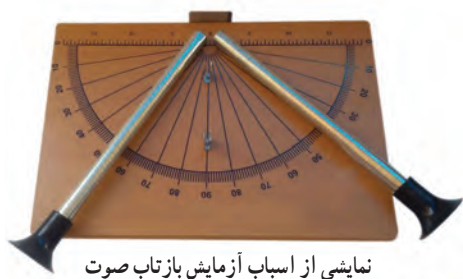
شکل ۳-۳۴ بازتاب امواج تخت از مانع تخت در تشت موج.

۱- توجه کنید که طول مانع باید در مقایسه با طول موج λ بسیار بزرگ باشد.

۲- i سرواژه کلمه incident به معنی تابش است.

۳- r سرواژه کلمه reflection به معنی بازتابش است.

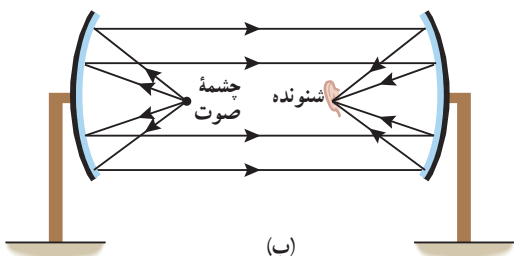
فعالیت ۳-۷



نمایشی از اسباب آزمایش بازتاب صوت

با اسباب نشان داده شده در شکل روبه‌رو، می‌توان زاویه تابش و زاویه بازتابش را در امواج صوتی اندازه‌گیری کرد. با استفاده از این اسباب، قانون بازتاب عمومی را برای امواج صوتی تحقیق کنید.

امواج صوتی می‌توانند مانند سایر امواج از سطوح خمیده نیز بازتابیده شوند. شاید در پارک‌های تفریحی دو سطح کاو را در برابر هم دیده باشید که وقتی شخصی در قانون یکی از این سطوح صحبت می‌کند، شخص دیگری در قانون سطح کاو دیگر آن را می‌شنود (شکل ۳-۳۵).



(ب)



(الف)

شکل ۳-۳۵ دو سطح بازتابنده کاو در یک پارک تفریحی و (ب) طرحی از بازتاب امواج صوتی از دو سطح کاو مقابل هم با استفاده از نمودار پرتویی

فعالیت ۳-۸



تصویری از یک میکروفون سهموی

درباره میکروفون سهموی که از آن برای ثبت صداهای ضعیف و دستگاه لیتوتریپسی^۱ که از آن برای شکستن سنگ‌های کلیه، با کمک بازتابنده‌های بیضوی استفاده می‌شود تحقیق کنید.

پژواک^۲: در برابر دیواره یا صخره بلندی که چند ده متر از شما فاصله دارد، بایستید و یک بار دست بزنید. پس از مدت زمان کوتاهی، بازتاب صدای دست زدن خود را خواهید شنید. اگر صوت پس از بازتاب، با یک تأخیر زمانی به گوش شنونده‌ای برسد که صوت اولیه را مستقیماً می‌شنود، به چنین بازتابی **پژواک** می‌گویند. اگر تأخیر زمانی بین این دو صوت کمتر از $\frac{1}{10}$ s باشد، گوش انسان نمی‌تواند پژواک را از صوت مستقیم اولیه تمیز دهد.

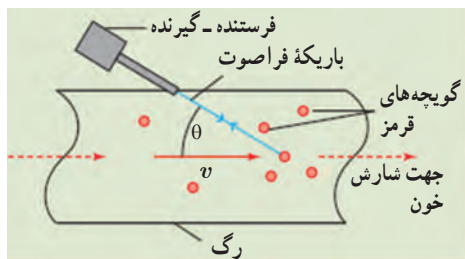
۱- Lithotripsy

۲- Echo

فناوری و کاربرد: مکان‌یابی پژواکی

مکان‌یابی پژواکی^۱ روشی است که بر اساس امواج صوتی بازتابیده از یک جسم، مکان آن جسم را تعیین می‌کند. مکان‌یابی پژواکی به همراه اثر دوپلر، در تعیین مکان اجسام متحرک و نیز تعیین تندی آنها به کار می‌رود. برخی از جانوران نظیر خفاش و دلفین از این روش استفاده می‌کنند. خفاش، فَوْرانی از امواج فراصوتی را گسیل می‌کند که این بسته به نوع خفاش از دهان یا سوراخ‌های بینی آن گسیل می‌شود. این امواج از اشیایی که در مسیر خفاش قرار دارند باز می‌تابد و بدین ترتیب خفاش را از اشیایی که بر سر راه او قرار دارند آگاه می‌سازد. البته بسته به اینکه شیء بازتابنده، خود خفاش، یا هر دو متحرک باشند، خفاش تغییر بسامدی ناشی از اثر دوپلر را در موج بازتابیده ادراک می‌کند و بدین وسیله می‌تواند سرعت خود یا شیء متحرک را تعیین کند. خفاش‌ها از این ویژگی برای شناسایی و شکار طعمه‌های خود استفاده می‌کنند. همچنین در دستگاه سونار که در کشتی‌ها برای مکان‌یابی اجسام زیر آب به کار می‌رود، و در سونوگرافی نیز از مکان‌یابی پژواکی استفاده می‌شود.

فعالیت ۹-۳



اندازه‌گیری تندی شارش خون: از مکان‌یابی پژواکی به همراه اثر دوپلر می‌توان برای تعیین تندی شارش خون (گویچه‌های قرمز) در رگ‌ها استفاده کرد. در مورد چگونگی این فناوری تحقیق کنید.

تمرین ۸-۳

کمترین فاصله بین شما و یک دیوار بلند چقدر باشد تا پژواک صدای خود را از صدای اصلی تمیز دهید؟ تندی صوت در هوا را 340 m/s در نظر بگیرید.

مثال ۱۰-۳

والِ عنبر یکی از جانورانی است که با استفاده از پژواک امواج فراصوتی، مکان‌یابی می‌کند. بسامد امواج فراصوتی‌ای که این وال تولید می‌کند حدود 10^5 kHz است. با توجه به اینکه تندی صوت در آب دریا طبق جدول ۱-۳ حدود $1.52 \times 10^3 \text{ m/s}$ است، (الف) طول موج این صوت و (ب) زمان رفت و برگشت صوت گسیل شده توسط وال برای مانعی که در فاصله 10^2 m از آن قرار گرفته، چقدر است؟

پاسخ: (الف) با استفاده از رابطه $\lambda = v/f$ داریم:

$$\lambda = \frac{v}{f} = \frac{1.52 \times 10^3 \text{ m/s}}{1.0 \times 10^5 \text{ s}^{-1}} = 1.52 \times 10^{-2} \text{ m} = 1.52 \text{ cm}$$

برای تشخیص یک جسم، اندازه آن باید در حدود طول موج به کار رفته یا بزرگ‌تر از آن باشد. بنابراین، وال اجسامی در حدود این طول موج یا بزرگ‌تر را می‌تواند تشخیص دهد.

(ب) زمان لازم برای حرکت رفت و برگشت صوت بین وال و مانع برابر است با:

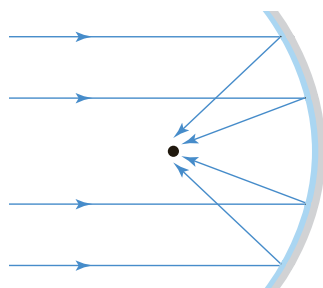
$$t = \frac{2L}{v} = \frac{2 \times 10^2 \text{ m}}{1.52 \times 10^3 \text{ m/s}} = 0.132 \text{ s}$$

بازتاب امواج الکترومغناطیسی : امواج الکترومغناطیسی نیز می‌توانند از یک سطح، بازتابیده شوند و بازتاب آنها از همان قانون بازتاب عمومی پیروی می‌کند.

امواج الکترومغناطیسی تخت تابیده به یک سطح کاو پس از بازتابش، مانند شکل ۳-۳۶ الف در یک نقطه کانونی می‌شوند. این نمونه دیگری از بازتاب در سه بُعد است. از همین سازوکار برای دریافت امواج رادیویی توسط آنتن‌های بشقابی و یا امواج فروسرخ برای گرم کردن آب یا مواد غذایی در اجاق‌های خورشیدی (شکل ۳-۳۶ ب) استفاده می‌شود.



(ب)



(الف)

شکل ۳-۳۶ الف) یک موج الکترومغناطیسی تخت پس از بازتاب از یک سطح کاو در نقطه‌ای مقابل سطح، کانونی می‌شود. (ب) تصویری از یک اجاق خورشیدی



کریستین هویگنس (۱۶۹۵-۱۶۲۹ م.)

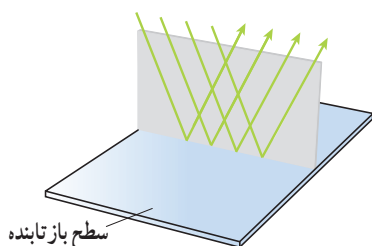
در لاهه هلند به دنیا آمد. در دانشگاه‌های لیدن و پراگ تحصیل کرد و هنگامی که فقط ۲۲ سال داشت مقاله‌هایی در زمینه ریاضی و اخترشناسی نوشت که مورد توجه رنه دکارت، ریاضی‌دان نامی، قرار گرفت. هویگنس در زمان خود دانشمندی با ذوق و مبتکر بود. در سال ۱۶۵۷ ساعت آونگی را اختراع کرد که پیش از آن دانشمندان مانند گالیله روی آن کار کرده بودند، اما به جایی نرسیده بودند. علاوه بر این، او پژوهش‌هایی با ارزش روی نور نیز انجام داد و نظریه مشهور خود را در این مورد ارائه کرد. بنا به نظریه هویگنس، نور از موج‌های زیادی تشکیل شده است که این موج‌ها را می‌توان به موج‌های صوتی یا موج‌های روی آب تشبیه کرد. نظریه موجی بودن نور هویگنس بحث‌های فراوانی برانگیخت تا اینکه در حدود ۲۰۰ سال بعد ماکسول فیزیک‌دان اسکاتلندی دوباره به این نظریه پرداخت و به آن جان تازه‌ای بخشید. هویگنس اخترشناس برجسته‌ای نیز بود و اسباب‌ها و دستگاه‌های نوری زیادی را اختراع کرد. اختراع ریزسنج را نیز به او نسبت داده‌اند.

فعالیت ۱۰-۳

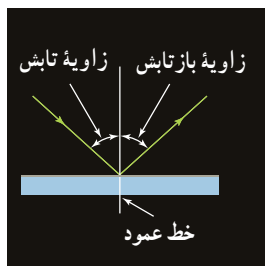


رادار دوپلری : از امواج الکترومغناطیسی نیز می‌توان برای مکان‌یابی پژواکی استفاده کرد. در این مورد و کاربرد آن به‌خصوص در تعیین تندی خودروها تحقیق کنید. (راهنمایی: اثر دوپلر برای امواج الکترومغناطیسی نیز برقرار است.)

همان‌طور که قبلاً دیدیم نور مرئی بخشی از طیف امواج الکترومغناطیسی است. بنابراین نور مرئی نیز از همان قانون بازتاب عمومی امواج پیروی می‌کند؛ یعنی زاویه تابش و بازتابش در هر بازتابشی با هم برابرند (شکل ۳-۳۷ الف)، افزون بر این، برای نور مرئی نیز همچون سایر امواج، پرتوی تابش، پرتوی بازتابش، و خط عمود بر سطح بازتابنده، در هر بازتابشی در یک صفحه واقع‌اند (شکل ۳-۳۷ ب).

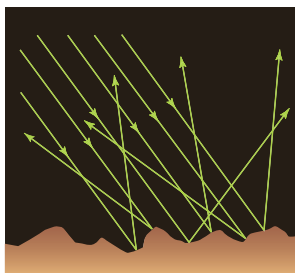


(ب)



(الف)

شکل ۳-۳۷ الف) در هر بازتابشی زاویه تابش و زاویه بازتابش با هم برابرند. (ب) پرتوی تابش، پرتوی بازتابش، و خط عمود بر سطح بازتابنده در یک صفحه واقع‌اند.



شکل ۳-۳۸ طرحی از بازتاب پخشنده نور از سطحی ناهموار. توجه کنید که در اینجا نیز در هر بازتاب، زاویه‌های تابش و بازتابش با هم برابرند و پرتوی تابش، پرتوی بازتابش، و خط عمود بر سطح بازتابنده در یک صفحه واقع‌اند.

در مواردی که سطح بازتابنده نور همچون یک آینه، بسیار هموار باشد، بازتاب نور را **بازتاب آینه‌ای**^۱ یا **منظم** می‌گویند.

نوع دیگر بازتابش، **بازتاب پخشنده**^۲ یا **نامنظم** است. این بازتاب وقتی رخ می‌دهد که نور به سطحی برخورد کند که صیقلی و هموار نباشد. پرتوهای نور به‌طور کاتوره‌ای از پستی و بلندی‌های سطح بازتابنده، و در تمام جهات پراکنده می‌شوند (شکل ۳-۳۸). به دلیل این بازتاب است که شما این صفحه کاغذ، دیوار، دستتان، دوست خود، و... را می‌بینید. در بازتاب آینه‌ای از یک آینه تخت، بازتابش یک دسته پرتوی موازی را فقط در یک جهت می‌توانید ببینید، ولی در بازتاب پخشنده، بازتابش این دسته پرتو را می‌توانید در جهات‌های مختلف مشاهده کنید. توجه کنید منظور از سطح ناهموار آن است که سطح در مقایسه با طول موج نور ناهموار است؛ مثلاً یک کاغذ در ظاهر بسیار هموار به نظر می‌رسد اما از دید میکروسکوپی این سطح از اجزای متمایز و کوچکی تشکیل شده است که بسیار بزرگ‌تر از $1\mu\text{m}$ هستند. با توجه به اینکه طول موج نور مرئی در حدود $5\mu\text{m}$ است، چنین سطحی برای نور مرئی، ناهموار محسوب می‌شود. در مقابل، ناهمواری‌های یک آینه یا یک سطح فلزی صیقلی، بسیار کوچک‌تر از $1\mu\text{m}$ است و بنابراین برای نور مرئی سطوحی هموار محسوب می‌شوند.

۳-۸ شکست موج

بازتاب، تنها راه برهم کنش امواج با محیط نیست. شکست نیز نوع دیگری از برهم کنش امواج با محیط است که بر اثر آن جهت پیشروی موج در ورود به محیط جدید تغییر می‌کند. وقتی یک ماهی را از بالای برکه‌ای می‌بینید، آن را در مکان واقعی خود مشاهده نمی‌کنید بلکه مکانی ظاهری بر اثر شکست نور را ادراک می‌کنید (شکل ۳-۳۹). رنگ‌های رنگین کمان، تصویری که با کمک عینک می‌بینیم، تصاویری که با استفاده از عدسی‌های ابزارهای نوری مانند میکروسکوپ و دوربین دیده می‌شود، و... مثال‌های رایجی از شکسته شدن موج‌های نوری در پیرامون ما است. این پدیده برای امواج صوتی نیز رخ می‌دهد ولی به

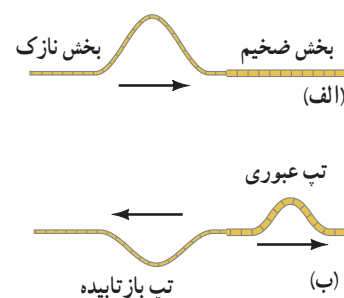


شکل ۳-۳۹ شکارچیان بومی آمریکای جنوبی به تجربه دریافته‌اند که محل واقعی یک ماهی متفاوت با محلی است که آن را می‌بینند.

^۱— specular reflection

^۲— diffuse reflection

اندازه موج‌های نوری اهمیت ندارد. وقتی موج به مرز جدایی دو محیط می‌رسد بخشی از آن بازتابیده می‌شود و بخشی دیگر عبور می‌کند که این افزون بر جذب موج است که در هر دو محیط رخ می‌دهد؛ مثلاً عبور یک تپ در طول طنابی را در نظر بگیرید که از دو بخش، یکی نازک و دیگری ضخیم، تشکیل شده است. وقتی این تپ از سمت بخش نازک به مرز دو بخش می‌رسد (شکل ۳-۴۰ الف)، بخشی از این تپ بازمی‌تابد و بخشی دیگر عبور می‌کند (شکل ۳-۴۰ ب). برای یک موج سینوسی بسامد این دو موج همان بسامد موج فرودی است که توسط چشمه موج تعیین می‌شود. بنابراین موج عبوری که تندی آن در قسمت ضخیم کمتر است، بنا به رابطه $\lambda = v/f$ ، طول موج کمتری نسبت به موج فرودی خواهد داشت.

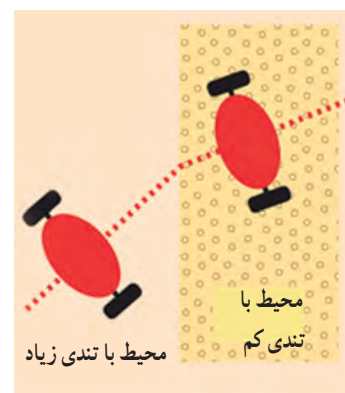


شکل ۳-۴۰ الف تپ فرودی از سمت چپ طناب وارد بخش ضخیم‌تر آن می‌شود. (ب) بخشی از آن از مرز عبور می‌کند و بخشی بازمی‌تابد.

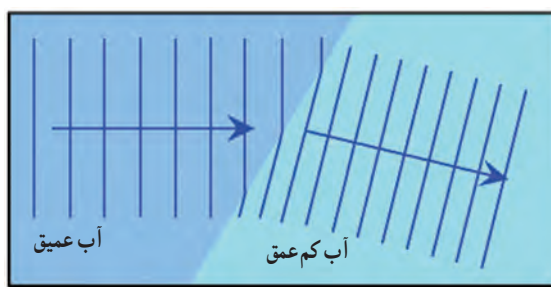

پرسش ۳-۸

اگر موج سینوسی از قسمت ضخیم طناب به قسمت نازک آن وارد شود، بسامد، تندی، و طول موج عبوری در مقایسه با موج فرودی چه تغییری می‌کند؟

در حالت‌های دو یا سه بُعدی با عبور موج از یک مرز و ورود آن به محیط دیگر، تندی موج تغییر می‌کند و ممکن است جهت انتشار موج نیز تغییر کند و اصطلاحاً موج شکست پیدا کند. همان‌طور که پیش از این دیدیم، تندی امواج روی سطح آب به عمق آن بستگی دارد. از این ویژگی می‌توانیم برای تحقیق پدیده شکست در تشت موج استفاده کنیم؛ یعنی با تغییر دادن عمق آب در بخشی از تشت می‌توان تندی موج سطحی در آن بخش را تغییر داد که این همان‌طور که دیدیم به تغییر جهت انتشار موج در آن بخش، و به عبارتی به شکست موج می‌انجامد. مشاهده می‌شود با ورود موج به بخش کم عمق، تندی موج سطحی کاهش می‌یابد. روشن است، آن بخش از جبهه موج که زودتر به ناحیه کم عمق می‌رسد، چون با تندی کمتر حرکت می‌کند از بقیه جبهه موج که هنوز وارد این ناحیه نشده عقب می‌افتد و بنابراین فاصله بین جبهه‌های موج و در نتیجه طول موج کاهش می‌یابد و به این ترتیب جبهه‌های موج مطابق شکل ۳-۴۱ در مرز دو ناحیه تغییر جهت می‌دهند. این مطلب را می‌توان در نزدیک شدن امواج به یک ساحل شیب‌دار نیز مشاهده کرد که با رسیدن جبهه‌های موج به ساحل که در آنجا عمق آب کم می‌شود، جهت انتشار جبهه‌های موج تغییر می‌کند. شاید برای تفهیم این موضوع، مثال یک اسباب‌بازی چرخ‌دار که با عبور از کف صاف اتاق وارد قالیچه‌ای می‌شود، مناسب باشد. با ورود این اسباب‌بازی به قالیچه، تندی آن کم می‌شود و در نتیجه مسیر آن تغییر می‌کند (شکل ۳-۴۲).



شکل ۳-۴۲ وقتی اسباب‌بازی وارد قالیچه می‌شود مسیرش تغییر می‌کند؛ زیرا چرخ‌ها که نخست به قالیچه می‌رسد، زودتر کند می‌شود.



شکل ۳-۴۱ الف طرحی از شکست امواج سطحی در مرز آب عمیق و آب کم عمق در تشت موج و (ب) تصویری واقعی از شکست امواج سطحی در تشت موج

جشمه موج تخت



در یک تشت موج به کمک یک نوسان‌ساز تیغه‌ای که با بسامد $50^\circ/\text{Hz}$ کار می‌کند، امواجی تخت ایجاد می‌کنیم، به طوری که فاصله بین دو برآمدگی متوالی آن برابر با 10 cm می‌شود. اگر اکنون بژه‌ای شیشه‌ای را در کف تشت قرار دهیم، امواج در ورود به ناحیه کم عمق بالای بژه، شکست پیدا می‌کنند. اگر تندی امواج در ناحیه کم عمق، 40° برابر تندی در ناحیه عمیق باشد، طول موج امواج در ناحیه کم عمق چقدر می‌شود؟

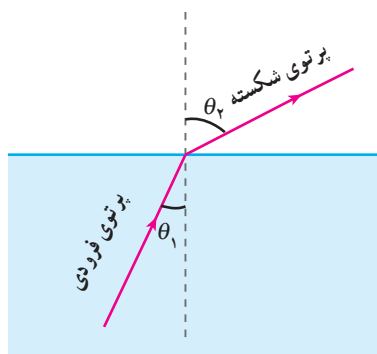


ابن هیثم در سال ۳۴۳ هجری شمسی (۳۵۴ هجری قمری) در بصره متولد شد و در سال ۴۱۸ هجری شمسی (۴۳۰ هجری قمری) درگذشت. او با اینکه از آثار گذشتگان خود استفاده کرد، اما بنیان نورشناخت را دگرگون ساخت و آن را به صورت علم منظم و مشخصی درآورد. او مانند اقلیدس هم فیزیک‌دان نظری و هم تجربی بود و به منظور تشخیص حرکت مستقیم‌الخط نور، یافتن خصوصیات سایه، موارد استفاده از عدسی‌ها و ویژگی‌های اتاق تاریک آزمایش‌هایی انجام داد. وی برای نخستین بار در مورد بسیاری از مسائل در نورشناسی به تحلیل ریاضی پرداخت. در مبحث شکست نور، وی ثابت کرد که زاویه شکست متناسب با زاویه تابش نیست و به تحقیق در مورد شکست نور در عدسی‌ها و در جو پرداخت. همچنین سهم عمده او در بحث بازتاب نور که پیش از آن یونانیان به اکتشاف‌های مهمی در آن دست یافته بودند، پژوهش در آینه‌های سهموی و کروی بود. او از آزمایش‌های خود دریافت کرد که در آینه سهموی همه پرتوها در یک نقطه متمرکز می‌شود و از این رو بهترین آینه‌های سوزاننده همین آینه‌های سهموی هستند. المناظر، کتابی است که از این دانش‌پژوه مسلمان برجای مانده است، اثری بی نظیر که یافته‌های او را در زمینه نورشناسی دربردارد. نویسنده در این شاهکار خود، با تکیه بر نظریه‌های ریاضی به توضیح علمی فرایند دیدن می‌پردازد و سعی می‌کند ساز و کار دیدن با دو چشم را توضیح دهد.

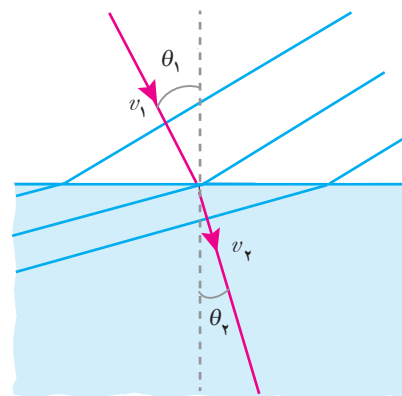
قانون شکست عمومی: در پدیده‌های شکستی که بررسی کردیم، قانونی حاکم است که اکنون به آن می‌پردازیم. فرض کنید مطابق شکل ۳-۴۳ جبهه‌های موج تختی به طور مایل به مرز دو محیط می‌رسند و سپس شکست پیدا می‌کنند. از آنجا که جبهه‌های موج در مرز جدایی دو محیط می‌شکنند، پرتوهای موج که همواره عمود بر جبهه‌های موج هستند در عبور از این مرز تغییر جهت می‌دهند. این پرتوها نیز در شکل ۳-۴۳ نشان داده شده‌اند. همان‌طور که دیدیم در یک نمودار پرتویی، زاویه پرتوی فرودی با خط عمود بر مرز را زاویه تابش می‌نامند و با θ_1 نشان می‌دهند، در حالی که زاویه پرتوی شکسته با خط عمود بر مرز را **زاویه شکست** می‌نامند و با θ_2 نشان می‌دهند^۱. در شکل ۳-۴۳، θ_1 با θ_2 و θ_1 با θ_2 نشان داده شده است. اگر تندی انتشار موج فرودی را v_1 و تندی انتشار موج شکست یافته را v_2 بنامیم، بین تندی‌های v_1 و v_2 و زاویه‌های θ_1 و θ_2 رابطه زیر برقرار است که به آن **قانون شکست عمومی** می‌گویند.

$$\frac{\sin \theta_2}{\sin \theta_1} = \frac{v_2}{v_1}$$

(۱۳-۳) (قانون شکست عمومی)



شکل ۳-۴۴ در صورتی که موج از محیطی با تندی کمتر به محیطی با تندی بیشتر برود، زاویه شکست θ_2 بزرگ‌تر از زاویه تابش θ_1 می‌شود.



شکل ۳-۴۳ جبهه موجی با زاویه تابش θ_1 از محیط اول وارد محیط دوم می‌شود و با زاویه θ_2 شکست پیدا می‌کند (شکل با فرض $v_2 < v_1$ رسم شده است).

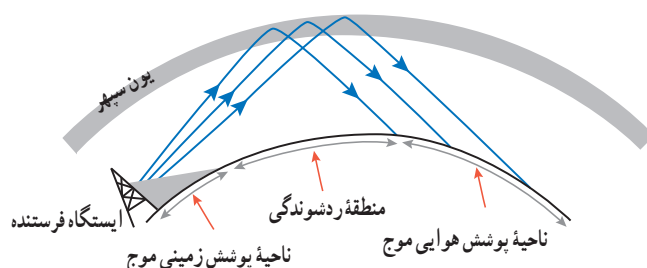
در شکل ۳-۴۳ موجی تخت از محیطی با تندی بیشتر به محیطی با تندی کمتر رفته است. ولی اگر موج در جهت مخالف حرکت کند، یعنی از محیط دوم که در آن تندی موج کمتر است وارد محیط اول شود که در آن تندی موج بیشتر است، زاویه شکست بزرگ‌تر از زاویه تابش می‌شود (شکل ۳-۴۴).

۱- شاخص پایین n سرواژه کلمه انگلیسی refraction به معنی شکست است.

تمرین ۳-۱۰

در تمرین ۳-۹ با فرض اینکه زاویه تابش امواج برابر 30° باشد، زاویه شکست چقدر می شود؟

شکست امواج الکترومغناطیسی: امواج الکترومغناطیسی (و از جمله نور مرئی) نیز با گذر از یک محیط به محیطی دیگر که در آن تندی آنها متفاوت می شود، شکست پیدا می کنند. به جز گستره نور مرئی که بیشترین و معروفترین موارد شکست برای آنها مطرح می شود و به پیامدها و کاربردهای جالبی می انجامد، شکست امواج رادیویی نیز اهمیتی کاربردی در ارتباطات رادیویی دارد.




در این شکل ناحیه پوشش زمینی مربوط به پیرامون ایستگاه است، که امواج به طور مستقیم به گیرنده می رسد. منطقه ردشوندگی ناحیه ای است که امواج به زمین نمی رسد، و ناحیه پوشش هوایی ناحیه ای است که امواج رادیویی با بازگشت از یون سپهر به زمین می رسد.

آن را از بقیه جو متمایز می سازد. یون سپهر در حالی که نور مرئی و تابش فروسرخ را عبور می دهد، امواج رادیویی با طول موج های بلند (با λ ی بزرگتر از حدود 10^3 m) را که در جهت های مناسبی به سوی این لایه ارسال شده باشند، به طرف زمین برمی گرداند. دلیل این اتفاق، یکنواخت نبودن چگالی الکترون های آزاد در این لایه و در نتیجه، تفاوت تندی امواج رادیویی در قسمت های مختلف آن است، به طوری که در سازوکاری مانند پدیده سراب که بعداً خواهیم آموخت، امواج را به سمت پایین بازمی گرداند.

خوب است بدانید


موج های ارسال شده از یک ایستگاه فرستنده رادیویی دوردست را به همان وضوحی می شنویم که در محدوده آن ایستگاه شنیده می شود. روش کار به این ترتیب است که یک موج پر قدرت رادیویی، با بسامد بین 3° تا 30° مگاهرتز، به لایه یون سپهر (یونسفر) بالای جو که در ارتفاع 80 تا 1000 کیلومتری سطح زمین واقع است فرستاده می شود. این لایه به علت وجود یونها و الکترون های آزاد، پلاسمایی را ایجاد می کند که ویژگی های فیزیکی اش

پرسش ۳-۹



شکل روبه روی یک پرتوی موج الکترومغناطیسی را نشان می دهد که با عبور از محیط اولیه a ، از طریق محیط های b و c به محیط a بازمی گردد. این محیط ها را بر حسب تندی موج در آنها از بیشترین تا کمترین مرتب کنید.

وقتی یک پرتوی نور از محیطی شفاف وارد محیط شفاف دیگری شود، بخشی از نور بازمی تابد و بخشی دیگر وارد محیط دوم می شود. همان طور که انتظار داریم آن بخش نور که وارد محیط دوم می شود، به دلیل آنکه تندی آن در محیط دوم تغییر می کند، شکسته می شود (شکل ۳-۴۵). به همین دلیل برای هر محیط ضریب شکست تعریف می کنند که برابر با نسبت تندی نور در خلأ به تندی نور در آن محیط است:



شکل ۳-۴۵ در عبور یک پرتوی نور از محیطی شفاف به محیط شفاف دیگر، بخشی از نور بازمی تابد و بخشی می شکند.

$$n = \frac{c}{v} = \frac{\text{تندی نور در خلأ}}{\text{تندی نور در یک محیط}} \quad (14-3) \quad (\text{تعریف ضریب شکست})$$

جدول ۳-۳ ضریب شکست چند ماده مختلف*

| ضریب شکست | محیط |
|-----------|----------------------------|
| ۱ | خلأ |
| ۱/۰۰۰۲۹ | هوا (شرایط متعارف) |
| ۱/۳۱ | یخ |
| ۱/۳۳ | آب (۲۰°C) |
| ۱/۳۶ | استون |
| ۱/۳۶ | اتانول |
| ۱/۳۸ | محلول آب قند (۳٪) |
| ۱/۴۹ | محلول آب قند (۸۰٪) |
| ۱/۵۰ | بنزن |
| ۱/۵۱ | پلاستیک پلیکسی گلاس |
| ۱/۵۲ | شیشه خالص |
| ۱/۵۴ | سدیم کلرید (نمک خوراکی) |
| ۱/۵۴ | کوارتز (SiO ₂) |
| ۲/۴۲ | الماس |

* برای طول موج ۵۸۹nm (نور زرد سدیم)

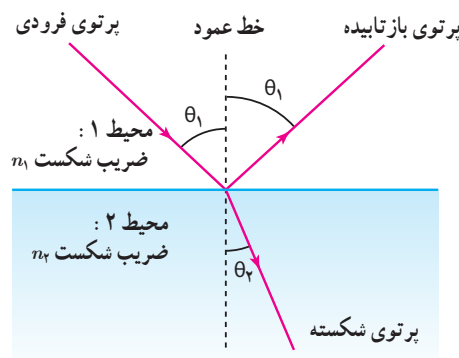
که در آن c تندی نور در خلأ با مقدار دقیق $۲۹۹\ ۷۹۲\ ۴۵۸\text{ m/s}$ است که در محاسبات، آن را برابر با $۱۰^8 \times ۳/۰۰\text{ m/s}$ در نظر می‌گیریم؛ چون تندی نور در خلأ بیشترین تندی ممکن است، ضریب شکست همواره بزرگ‌تر یا مساوی ۱ است (که ۱ مربوط به خلأ است). جدول ۳-۳ ضریب شکست برای چند ماده مختلف را به‌دست می‌دهد. بنابراین برای دو محیط خاص ۱ و ۲، ضریب شکست‌ها به‌ترتیب $n_1 = c/v_1$ و $n_2 = c/v_2$ است که v_1 و v_2 تندی نور در آن دو محیط است. حال اگر پرتوی نوری از محیط ۱ با زاویه تابش θ_1 وارد محیط ۲ شود و با زاویه θ_2 شکست پیدا کند (شکل ۳-۴۶)، از قانون شکست عمومی (رابطه ۳-۱۳) درمی‌یابیم:

$$\frac{\sin \theta_2}{\sin \theta_1} = \frac{v_2}{v_1} = \frac{c/n_2}{c/n_1} = \frac{n_1}{n_2}$$

و یا

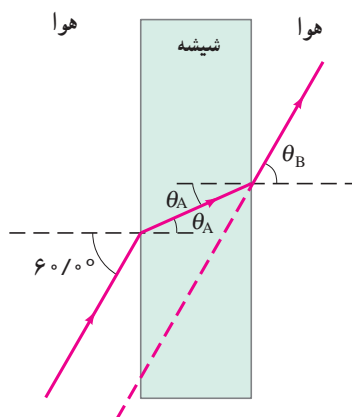
$$(۱۵-۳) \quad n_1 \sin \theta_1 = n_2 \sin \theta_2 \quad (\text{قانون شکست اسنل})$$

این رابطه را به افتخار فیزیک‌دان هلندی، ویلبرد اسنل (۱۶۲۶-۱۵۸۰م.) که آن را به‌طور تجربی کشف کرد، **قانون شکست اسنل** می‌نامند.



شکل ۳-۴۶ طرحی از بازتاب و شکست نور، در عبور یک پرتوی نور از محیطی شفاف به محیط شفافی دیگر

مثال ۱۱-۳



پرتوی نوری مطابق شکل، از هوا بر تیغه شیشه‌ای متوازی‌السطوحی، با زاویه تابش ۶۰° فروود می‌آید. الف) زاویه شکست (θ_A) پرتو در شیشه چقدر است؟ ب) زاویه خروجی (θ_B) پرتو از شیشه چقدر است؟

پاسخ: الف) برای ورود پرتوی نور از هوا به شیشه قانون شکست اسنل را به‌کار می‌بریم. با توجه به جدول ۳-۳ ضریب شکست هوا $n_1 = ۱/۰۰$ و ضریب شکست شیشه $n_2 = ۱/۵۲$ است.

$$n_1 \sin \theta_1 = n_2 \sin \theta_2 \Rightarrow (۱/۰۰)(\sin ۶۰^\circ) = (۱/۵۲)(\sin \theta_A)$$

$$\sin \theta_A = ۰/۵۶۹۸ \Rightarrow \theta_A = ۳۴/۷^\circ$$

ب) برای خروج پرتوی نور از شیشه نیز دوباره قانون اسنل را به‌کار می‌بریم. توجه کنید که زاویه تابش در اینجا برابر زاویه شکست در شیشه است؛ یعنی $\theta_1 = \theta_A$.

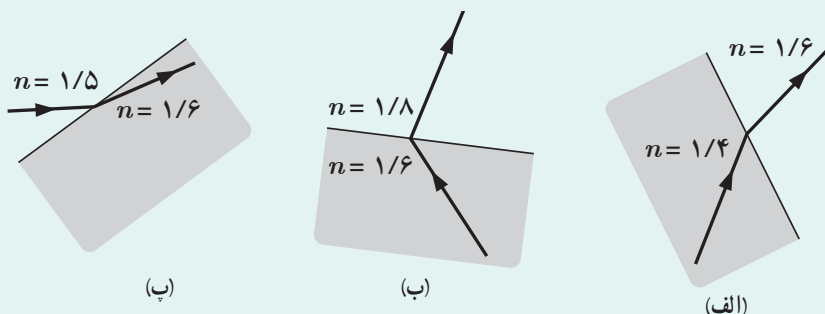
$$n_1 \sin \theta_1 = n_2 \sin \theta_2 \Rightarrow (۱/۵۲)(۰/۵۶۹۸) = (۱/۰۰)(\sin \theta_B)$$

$$\sin \theta_B = ۰/۸۶۶۱ \Rightarrow \theta_B = ۶۰^\circ$$

البته با اندکی دقت و بدون محاسبه نیز می‌توانستید مقدار θ_B را بیابید.

پرسش ۱۰-۳


کدام یک از سه شکل زیر یک شکست را نشان می‌دهد که از لحاظ فیزیکی ممکن است؟



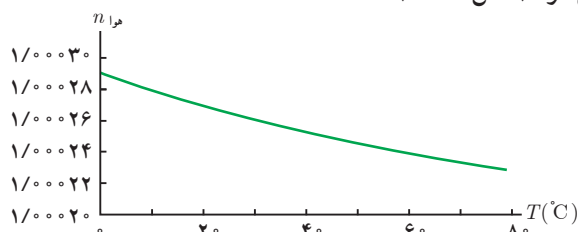
فعالیت ۱۱-۳

اندازه‌گیری ضریب شکست: با توجه به مثال ۱۱-۳، آزمایشی را طراحی و اجرا کنید که به کمک آن بتوان ضریب شکست یک تیغه متوازی السطوح شفاف را اندازه گرفت.

سراب: در روزهای گرم ممکن است برکه‌آبی را در دوردست ببینید که بر سطح زمین قرار دارد، اما وقتی به آن محل می‌رسید، آنجا را خشک می‌یابید. به این پدیده **سراب** یا سراب آبگیر می‌گویند و نه تنها می‌توان آن را دید، بلکه می‌توان از آن عکس هم گرفت (شکل ۳-۴۷). در روزهای گرم هوای سطح زمین نسبتاً داغ است. از طرفی، چگالی هوا با افزایش دما کاهش می‌یابد که این سبب کاهش ضریب شکست نیز می‌شود (شکل ۳-۴۸).

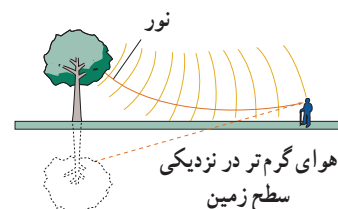


شکل ۳-۴۷ تصویر یک خودرو در سراب بر سطح گرم جاده

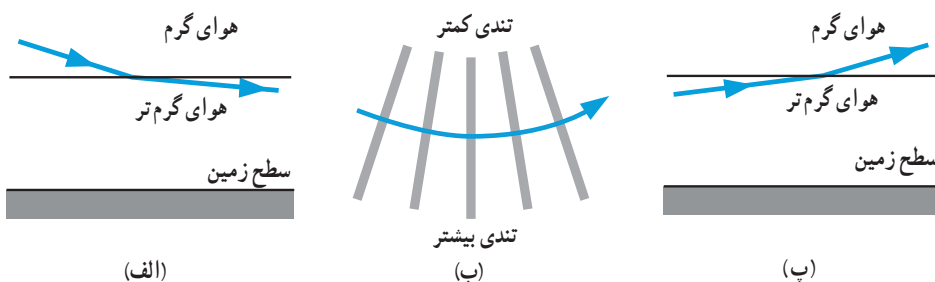


شکل ۳-۴۸ نمودار تغییرات ضریب شکست هوا با دما


در شکل ۳-۴۹ پدیده سراب را مبتنی بر جبهه‌های موج نشان داده‌ایم. برای توضیح این شکل، نخست جبهه‌های موجی را در نظر می‌گیریم که به طرف پایین می‌آیند. با پایین آمدن هر چه بیشتر پرتوهای متناظر این جبهه‌های موج، آنها با ضریب شکست‌های کوچک‌تر و کوچک‌تری روبه‌رو می‌شوند و در هر مرحله با دور شدن از خط عمود، بیشتر و بیشتر به سمت افق خم می‌شوند (شکل ۳-۵۰ الف). وقتی پرتوها در نزدیکی سطح زمین تقریباً افقی می‌شوند به سمت بالا خم برمی‌دارند. این خم شدن رو به بالا را می‌توان با استفاده از جبهه‌های موج توضیح داد. بخش پایینی هر جبهه موج در هوای کمی گرم‌تر قرار دارد و بنابراین کمی تندتر از بخش بالایی جبهه موج حرکت می‌کند و این تفاوت رفتار دو قسمت جبهه‌های موج،



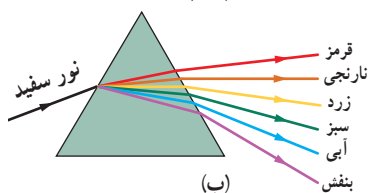
شکل ۳-۴۹ مدل‌سازی پدیده سراب به کمک جبهه‌های موج. ناظری که پرتوهای نور در پدیده سراب به چشمش می‌رسد، گمان می‌برد که این پرتوها از یک تصویر آمده‌اند.



شکل ۳-۵ الف) خمیدگی اغراق آمیز یک پرتوی نور که در امتداد یک مرز فرضی از هوای گرم به سمت هوای گرم تر پایین می‌رود. **ب)** تغییر جبهه‌های موج و خمیدگی مربوط به آن، به این دلیل رخ می‌دهد که انتهای پایین جبهه‌های موج در هوای گرم تر سریع‌تر حرکت می‌کنند. **پ)** خمیدگی اغراق آمیز یک پرتوی نور که در امتداد یک مرز فرضی از هوای گرم تر به سمت هوای گرم بالا می‌رود.



(الف)



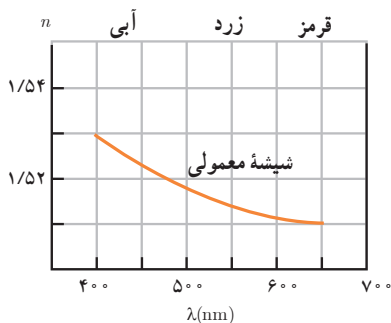
(ب)

شکل ۳-۵۱ الف) باریکه‌ای از نور سفید که بر یک منشور شیشه‌ای تابیده است، به مؤلفه‌های رنگی خود پاشیده است. **ب)** طرحی از پاشیدگی نور سفید در یک منشور با قاعده مثلثی

موجب خم شدن رو به بالای پرتوهای موج می‌شود، زیرا پرتوهای موج باید همواره عمود بر جبهه‌های موج باشند (شکل ۳-۵۰ ب). وقتی پرتوها رو به بالا می‌روند به خم شدن رو به بالای خود ادامه می‌دهند، زیرا اکنون مدام با محیط‌هایی با ضریب شکست‌های بزرگ و بزرگ‌تر مواجه می‌شوند و بنابراین در هر مرحله با نزدیک شدن به خط عمود، بیشتر و بیشتر رو به بالا خم می‌شوند (شکل ۳-۵۰ پ) اگر بخشی از این نور به چشم ما برسد، به نظر می‌آید که منشأ این نور از امتداد رو به عقب پرتوهایی است که به چشم ما رسیده‌اند و همان‌طور که در شکل ۳-۴۹ نشان داده شده است این حس را ایجاد می‌کند که گویی از سطح زمین آمده است.

پاشندگی نور: همان‌طور که در علوم هشتم دیدیم وقتی باریکه نور سفید خورشید به وجهی از یک منشور می‌تابد، در عبور از منشور به رنگ‌های مختلفی تجزیه می‌شود (شکل ۳-۵۱ الف). دلیل این پدیده آن است که ضریب شکست هر محیطی به جز خلأ به طول موج نور بستگی دارد؛ یعنی وقتی باریکه نوری شامل پرتوهایی با طول موج‌های مختلف باشد، این پرتوها هنگام عبور از مرز دو محیط در زاویه‌های مختلفی شکسته می‌شوند. به این پخش‌شدگی نور، **پاشندگی نور** می‌گویند. عموماً ضریب شکست یک محیط معین برای طول موج‌های کوتاه‌تر، بیشتر است. نمودار شکل ۳-۵۲ این وابستگی ضریب شکست به طول موج نور را برای شیشه معمولی نشان می‌دهد. با توجه به این نمودار اگر مثلاً دو باریکه نور آبی و قرمز با زاویه تابش یکسانی از هوا وارد شیشه شوند باریکه آبی بیشتر از باریکه قرمز خم می‌شود.

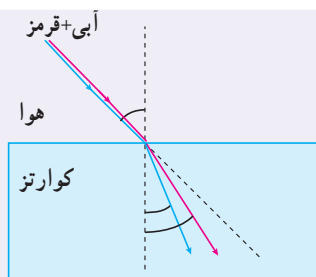
اگر باریکه نور سفید از هوا بر یک سطح شیشه‌ای فرود آید بر اثر شکست نور، مؤلفه‌های سازنده باریکه نور سفید هر کدام به میزان متفاوتی خم می‌شوند که البته این تفاوت چندان محسوس نیست. برای افزایش جدایی رنگ‌ها در پاشندگی نور، معمولاً از یک منشور با سطح مقطع مثلثی استفاده می‌کنیم. پاشندگی ناچیز در سطح اول، سپس با پاشندگی در سطح دوم افزایش می‌یابد و مؤلفه‌های رنگی نور سفید به‌طور محسوسی از هم جدا می‌شوند (شکل ۳-۵۱ ب)¹.



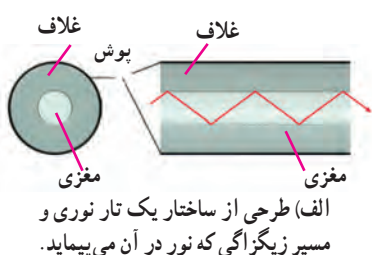
شکل ۳-۵۲ تغییرات ضریب شکست در طیف مرئی نور برحسب طول موج برای شیشه معمولی

۱- محاسبه زاویه‌ها در شکست نور به وسیله منشور، خارج از برنامه درسی این کتاب است و نباید مورد ارزشیابی قرار گیرد.


تمرین ۱۱-۳



شکل روبه‌رو باریکه نوری متشکل از دو پرتوی قرمز و آبی را نشان می‌دهد که از هوا و با زاویه تابش 45° بر سطح تیغه تختی از کوارتز می‌تابد. زاویه‌های شکست برای این دو پرتو را محاسبه کنید. ضریب شکست نورهای قرمز و آبی در کوارتز به ترتیب برابرند با $n_{\text{قرمز}} = 1/459$ و $n_{\text{آبی}} = 1/467$.



الف) طرحی از ساختار یک تار نوری و مسیر زیگزاگی که نور در آن می‌پیماید.

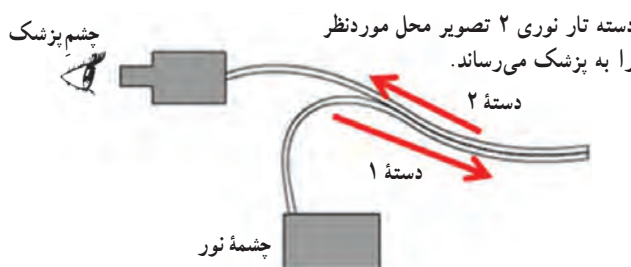


ب) یک کابل سبک تار نوری (شکل سمت چپ) می‌تواند مکالمه‌های تلفنی بسیار بیشتری را از یک کابل سیمی معمولی (شکل سمت راست) انتقال دهد.

تار نوری: وقتی نور از محیطی با ضریب شکست بیشتر به‌طور مایل وارد محیطی با ضریب شکست کمتر شود، به ازای زاویه تابش خاصی موسوم به زاویه حد، زاویه شکست 90° می‌شود و از آن پس برای هر زاویه تابش بزرگ‌تری همه نور فرودی بازمی‌تابد که به این پدیده، بازتاب داخلی کلی گفته می‌شود. تار نوری که هم در پزشکی و هم در فناوری ارتباطات نقش مهمی دارد، بر اساس این پدیده عمل می‌کند. در مرکز یک تار نوری، مغزی استوانه‌ای شفاف از جنس شیشه یا پلاستیک با ضریب شکست نسبتاً بالا قرار دارد. ضخامت این مغزی می‌تواند تا چند میکرومتر باشد. اطراف مغزی با غلافی پوشیده شده است که آن نیز شفاف است، ولی ضریب شکست بسیار کوچک‌تری از ضریب شکست مغزی دارد تا زاویه حد به اندازه کافی کوچک باشد. نور طوری از یک سر مغزی وارد می‌شود که به مرز مغزی - غلاف تحت زاویه‌ای بزرگ‌تر از زاویه حد بتابد و در نتیجه تماماً به درون مغزی بازتاب کند. سپس همین اتفاق در مرز روبه‌روی مرز قبلی رخ می‌دهد و نور بر اثر بازتاب داخلی کلی دوباره به مغزی بازتابیده می‌شود و این رفت و برگشت نور در مسیری زیگزاگ ادامه می‌یابد (شکل الف) تا اینکه به سر دیگر تار برسد. در یک تار نوری خوب، نور در مغزی کمی جذب پیدا می‌کند و بنابراین می‌تواند پیش از آنکه شدتش کاهش یابد، تا مسافت‌های طولانی حرکت کند. تارهای نوری اغلب به‌صورت دسته‌ای کنار هم قرار می‌گیرند تا به شکل یک کابل درآیند. چون تارها بسیار نازک‌اند کابل‌ها نسبتاً کوچک و انعطاف‌پذیر هستند و به این ترتیب می‌توانند در بسیاری موارد، برای انتقال اطلاعات جایگزین کابل‌های فلزی بزرگ شوند (شکل ب). یکی از کاربردهای مهم تارهای نوری در عمل آندوسکوپی در پزشکی است. از آندوسکوپ برای دیدن درون بدن، بدون انجام جراحی استفاده می‌شود. در آندوسکوپی، جراح دو دسته تار نوری را وارد بدن بیمار می‌کند که یکی نور را به محل مورد نظر می‌رساند و دیگری تصویر محل مورد نظر را به یک چشمی یا صفحه نمایشگر می‌رساند. شکل پ، طرح ساده شده‌ای از چگونگی این تصویربرداری و شکل ت، یک اسباب آندوسکوپی معمولی را نشان می‌دهد.



دو دسته تار نوری داخل کابل قرار دارد. (ت) یک اسباب آندوسکوپ معمولی



دسته تار نوری ۱ محل مورد نظر را روشن می‌کند. (پ) طرح ساده شده‌ای از طرز کار یک آندوسکوپ

۱-۳ و ۲-۳ نوسان دوره‌ای و حرکت هماهنگ ساده

۱. جسمی به جرم $1/\text{kg}$ به فنری افقی با ثابت $6/\text{N/cm}$ متصل است. فنر به اندازه $9/\text{cm}$ فشرده و سپس رها می‌شود و جسم روی سطح افقی شروع به نوسان می‌کند. با چشم‌پوشی از اصطکاک (الف) دامنه نوسان و تندی بیشینه جسم چقدر است؟ (ب) وقتی تندی جسم $1/6 \text{ m/s}$ است، انرژی پتانسیل کشسانی آن چقدر است؟

۲. معادله حرکت هماهنگ ساده یک نوسانگر در SI به صورت $x = (0.05 \text{ m}) \cos 2\pi t$ است.

(الف) در چه زمانی، پس از لحظه صفر، برای نخستین بار تندی نوسانگر به بیشترین مقدار خود می‌رسد؟ (ب) در چه زمانی، پس از لحظه صفر، برای نخستین بار تندی نوسانگر به صفر می‌رسد؟ (پ) تندی نوسانگر چقدر باشد تا انرژی جنبشی نوسانگر برابر با انرژی پتانسیل آن شود؟

۳. (الف) ساعتی آونگ‌دار (با آونگ ساده) در تهران تنظیم شده است. اگر این ساعت به منطقه‌ای در استوا برده شود، عقب می‌افتد یا جلو؟ مقدار این عقب یا جلوافتادن در یک شبانه‌روز چقدر است؟ ($g_{\text{استوا}} = 9.78 \text{ m/s}^2$ و $g_{\text{تهران}} = 9.80 \text{ m/s}^2$) (ب) به نظر شما آیا با افزایش دما، یک ساعت آونگ‌دار جلو می‌افتد یا عقب؟

۳-۴ تشدید

۱. هر فرد معمولاً با چرخش اندک بدنش به چپ و راست، راه می‌رود و بدین ترتیب نیروهای کوچکی به زمین زیر پایش وارد می‌کند. این نیروها بسامدی در حدود $5/\text{Hz}$ دارند. لرزش شدید پل هوایی میلینیوم^۱ در آغاز هزاره جدید را به عبور منظم گروهی از افراد از این پل ربط داده‌اند. چگونه ممکن است نوسان‌های بدن این افراد موجب چنین لرزشی شده باشد؟

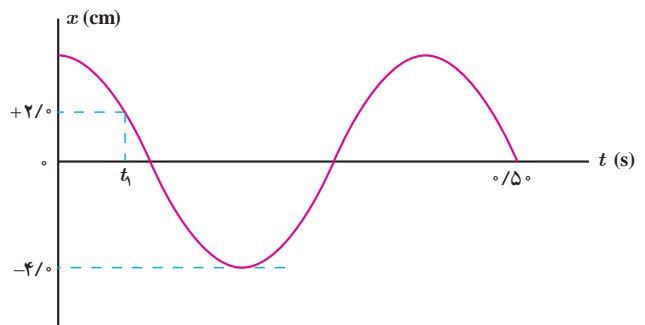


۱- Millennium bridge

۱. یک وزنه $2/\text{N}$ را از انتهای یک فنر قائم می‌آویزیم، فنر $2/\text{cm}$ کشیده می‌شود. سپس این فنر را در حالی که به یک وزنه $5/\text{N}$ متصل است روی میز بدون اصطکاک به نوسان درمی‌آوریم. دوره تناوب این نوسان چقدر است؟

۲. هرگاه جسمی به جرم m به فنری متصل شود و به نوسان درآید، با دوره تناوب $2/\text{s}$ نوسان می‌کند. اگر جرم این جسم $2/\text{kg}$ افزایش یابد، دوره تناوب $3/\text{s}$ می‌شود. مقدار m چقدر است؟ ۳. جرم خودرویی همراه با سرشینیان آن 1600 kg است. این خودرو روی چهار فنر با ثابت 10^4 N/m سوار شده است. دوره تناوب، بسامد، و بسامد زاویه‌ای ارتعاش خودرو وقتی از چاله‌ای می‌گذرد چقدر است؟ فرض کنید وزن خودرو به‌طور یکنواخت روی فنرهای چهارچرخ توزیع شده است.

۴. دامنه نوسان یک حرکت هماهنگ ساده $3 \times 10^{-2} \text{ m}$ و بسامد آن $5/\text{Hz}$ هرتز است. معادله حرکت این نوسانگر را بنویسید و نمودار مکان-زمان آن را در یک دوره رسم کنید. ۵. نمودار مکان-زمان نوسانگری مطابق شکل زیر است: (الف) معادله حرکت این نوسانگر را بنویسید. (ب) مقدار t_1 را به دست آورید. (پ) اندازه شتاب نوسانگر را در لحظه t_1 محاسبه کنید.



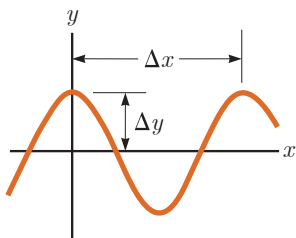
۳-۳ انرژی در حرکت هماهنگ ساده - آونگ ساده

۱. دامنه نوسان وزنه‌ای که به یک فنر با ثابت 74 N/m متصل است و در راستای افقی نوسان می‌کند، برابر با $8/\text{cm}$ است. اگر انرژی پتانسیل این نوسانگر در نقطه‌ای از مسیر نوسان، 10^{-2} J باشد، انرژی جنبشی آن در این مکان چقدر است؟ (از نیروهای اتلافی چشم‌پوشی شود.)

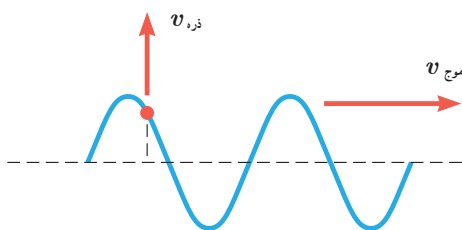
۱۱. در نمودار جابه‌جایی - مکان موج عرضی شکل زیر

نوسان در آوردن آونگ X، آونگ‌های دیگر چگونه نوسان می‌کنند؟

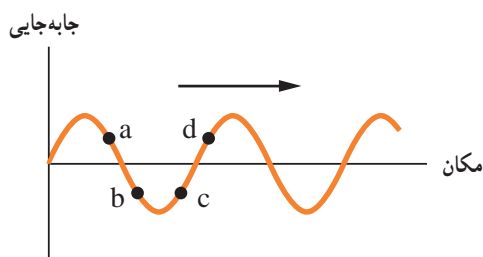
چشمه $8/0^\circ \text{ Hz}$ باشد، طول موج، دامنه، تندی و دوره تناوب موج چقدر است؟



۱۲. شکل زیر موجی عرضی در یک ریسمان را نشان می‌دهد که با تندی موج v به سمت راست حرکت می‌کند، در حالی که تندی ذره نشان داده شده ریسمان ذره $v_{\text{ذره}}$ است. آیا این دو تندی با هم برابرند؟ توضیح دهید.

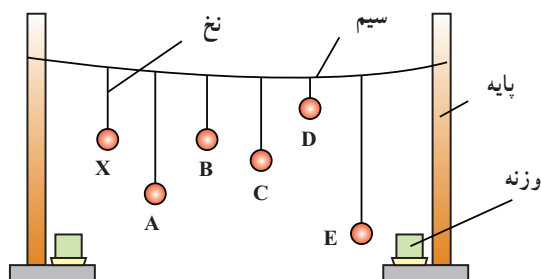


۱۳. شکل زیر یک موج سینوسی را در لحظه‌ای از زمان نشان می‌دهد که در جهت محور x در طول ریسمان کشیده شده‌ای حرکت می‌کند. چهار جزء از این ریسمان روی شکل نشان داده شده‌اند. در این لحظه هر یک از این چهار جزء بالا می‌روند یا پایین؟



۱۴. سیمی با چگالی $7/8^\circ \text{ g/cm}^3$ و سطح مقطع $5/0^\circ \text{ mm}^2$ بین دو نقطه با نیروی 156 N کشیده شده است. تندی انتشار موج عرضی را در این سیم محاسبه کنید.

۱۱. مطابق شکل چند آونگ را از سیمی آویخته‌ایم. توضیح دهید با به نوسان در آوردن آونگ X، آونگ‌های دیگر چگونه نوسان می‌کنند؟



۳-۵ و ۳-۶ موج و انواع آن، و مشخصه‌های موج

۱۱. یک نوسان‌ساز موج‌هایی دوره‌ای در یک ریسمان کشیده ایجاد می‌کند.

الف) با افزایش بسامد نوسان‌ساز کدام یک از کمیت‌های زیر تغییر نمی‌کند؟ بسامد موج، تندی موج، طول موج موج.

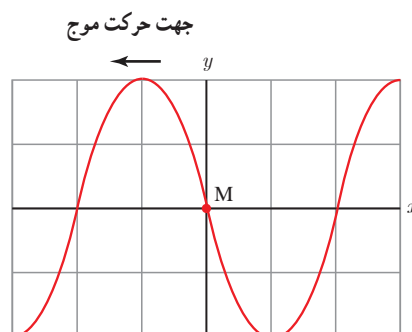
ب) حال اگر به جای افزایش بسامد، کشش ریسمان را افزایش دهیم، هر یک از کمیت‌های زیر چه تغییری می‌کند؟ بسامد موج، تندی موج، طول موج موج.

۱۲. شکل زیر یک تصویر لحظه‌ای از موجی عرضی در یک ریسمان کشیده شده را نشان می‌دهد. موج به سمت چپ حرکت می‌کند.

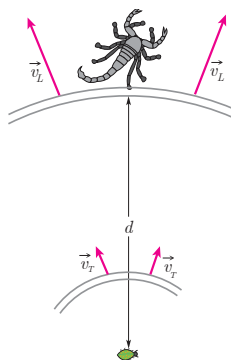
الف) با رسم این موج در زمان $T/4$ بعد، نشان دهید جزء M ریسمان در این مدت در چه جهتی حرکت کرده است. همچنین روی این موج، دامنه موج و طول موج را نشان دهید.

ب) اگر طول موج $5/0^\circ \text{ cm}$ و تندی موج 1° cm/s باشد، بسامد موج را به دست آورید.

پ) تعیین کنید موج در مدت $T/4$ چه مسافتی را پیموده است؟



که در سطح ماسه منتشر می‌شوند، بر دو نوع اند: امواج عرضی با تندی $v_T = 50 \text{ m/s}$ و امواج طولی با تندی $v_L = 150 \text{ m/s}$. عقرب این امواج به نزدیک‌ترین پای خود، فاصله خود از طعمه را تعیین کند. اگر این اختلاف زمان برابر $\Delta t = 4 \text{ ms}$ باشد، طعمه در چه فاصله‌ای از عقرب قرار دارد؟



۳۳. توضیح دهید کدام یک از عامل‌های زیر بر تندی صوت در هوا مؤثر است.

الف) شکل موج ب) دامنه موج پ) بسامد موج ت) دمای هوا
۳۴. در سونوگرافی معمولاً از کاوه‌ای^۱ دستی موسوم به تراگذار فراصوتی^۲ برای تشخیص پزشکی استفاده می‌شود که دقیقاً روی ناحیه مورد نظر از بدن بیمار گذاشته و حرکت داده می‌شود. این کاوه در بسامد $6/7 \text{ MHz}$ عمل می‌کند.

الف) بسامد زاویه‌ای در این کاوه نوسان چقدر است؟
ب) اگر تندی موج صوتی در بافتی نرم از بدن 1500 m/s باشد، طول موج این موج در این بافت چقدر است؟



۱— probe

۲— Ultrasonic Transducer

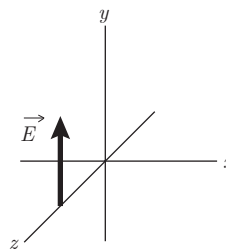
۱۸. شکل زیر طیف موج‌های الکترومغناطیسی را به طور تقریبی نشان می‌دهد.

| | | | | | | |
|------------------|-----------|---|---|---|---|---|
| پرتوهای γ | پرتوهای x | P | Q | R | S | T |
|------------------|-----------|---|---|---|---|---|

الف) نام قسمت‌هایی از طیف را که با حروف علامت‌گذاری شده‌اند، بنویسید.

ب) اگر در طول طیف از چپ به راست حرکت کنیم، مقدار کدام مشخصه‌های موج افزایش یا کاهش می‌یابد و کدام ثابت می‌ماند؟

۱۹. شکل زیر میدان الکتریکی یک موج الکترومغناطیسی سینوسی را در نقطه‌ای معین و دور از چشمه، در یک لحظه نشان می‌دهد. موج انرژی را در خلاف جهت محور z انتقال می‌دهد. جهت میدان مغناطیسی موج را در این نقطه و این لحظه تعیین کنید.



۲۰. الف) طول موج نور نارنجی در هوا حدود $6/20 \times 10^{-7} \text{ m}$ است، بسامد این نور چند هرتز است؟

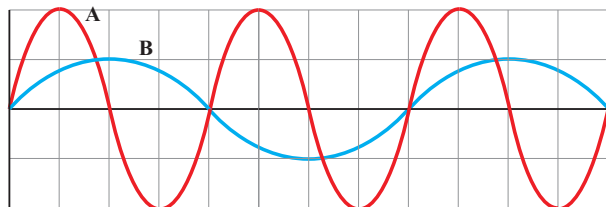
ب) بسامد نور قرمز در حدود $4/30 \times 10^{14} \text{ Hz}$ است. طول موج این نور را در هوا و آب حساب کنید. (سرعت نور را در هوا $3/0 \times 10^8 \text{ m/s}$ و در آب $2/25 \times 10^8 \text{ m/s}$ فرض کنید.)

۲۱. چشمه موجی با بسامد 10 Hz در یک محیط که تندی انتشار موج در آن 100 m/s است، نوسان‌هایی طولی ایجاد می‌کند. اگر دامنه نوسان‌ها $4/0 \text{ cm}$ باشد،

الف) فاصله بین دو تراکم متوالی این موج چقدر است؟
ب) فاصله بین یک تراکم و یک انبساط متوالی چقدر است؟
۲۲. عقرب‌های ماسه‌ای وجود طعمه را با امواجی که بر اثر حرکت طعمه در ساحل شنی ایجاد می‌شود، احساس می‌کنند. این امواج

۳۲. در یک آتش‌بازی، موشکی در بالای آسمان منفجر می‌شود. فرض کنید صوت به‌طور یکنواخت در تمام جهات منتشر شود. از جذب انرژی صوتی در محیط و نیز از بازتابی که ممکن است امواج صوتی از زمین پیدا کند چشم‌پوشی کنید. با فرض اینکه صوت با شدت $I = 0.10 \text{ W/m}^2$ به شنونده‌ای برسد که به فاصله $r_1 = 640 \text{ m}$ از محل انفجار قرار دارد، این صوت به شنونده‌ای که در فاصله $r_2 = 160 \text{ m}$ از محل انفجار قرار دارد با چه شدتی می‌رسد؟

۳۳. نمودار جابه‌جایی - مکان دو موج صوتی A و B که در یک محیط منتشر شده‌اند، به‌صورت زیر است. دامنه، طول‌موج، بسامد و شدت این دو موج صوتی را با هم مقایسه کنید.



۳۴. شکل زیر جهت‌های حرکت یک چشمه صوتی و یک ناظر (شنونده) را در وضعیت‌های مختلف نشان می‌دهد.

| چشمه | ناظر (شنونده) | |
|------|---------------|-------|
| • | • | (الف) |
| •→ | • | (ب) |
| ←• | • | (پ) |
| • | •→ | (ت) |
| • | ←• | (ث) |
| •→ | ←• | (ج) |
| ←• | •→ | (ح) |

بسامدی را که ناظر در حالت‌های مختلف می‌شنود با حالت الف مقایسه کنید.

۳۵. تندی صوت در یک فلز خاص، برابر $v_{\text{فلز}}$ است. به یک سر لوله توخالی بلندی از جنس این فلز به طول L ضربه محکمی می‌زنیم. شنونده‌ای که در سر دیگر این لوله قرار دارد دو صدا را می‌شنود. یکی ناشی از موجی است که از دیواره لوله می‌گذرد و دیگری از موجی است که از طریق هوای داخل لوله عبور می‌کند.

(الف) اگر تندی صوت در هوا $v_{\text{هوا}}$ باشد، بازه زمانی Δt بین دریافت این دو صدا در گوش شنونده چقدر خواهد بود؟

(ب) اگر $\Delta t = 1/10 \text{ s}$ و فلز از جنس فولاد باشد، طول L لوله چقدر است؟ ($v_{\text{هوا}} = 340 \text{ m/s}$)

۳۶. موجی صوتی با توان $1/2 \times 10^{-4} \text{ W}$ از دو صفحه فرضی شکل ۳-۲۶ می‌گذرد. با فرض اینکه مساحت صفحه‌ها به ترتیب $A_1 = 4 \text{ m}^2$ و $A_2 = 12 \text{ m}^2$ باشد، شدت صوت در دو سطح را تعیین کنید و توضیح دهید چرا شنونده در محل صفحه دوم، صدا را آهسته‌تر می‌شنود.

۳۷. شدت صدای حاصل از یک مته سنگ‌شکن در فاصله 10 m از آن $1/10 \times 10^{-2} \text{ W/m}^2$ است. تراز شدت صوتی آن برحسب dB چقدر می‌شود؟

۳۸. اگر به مدت 10 دقیقه در معرض صوتی با تراز شدت 120 dB باشیم، آستانه شنوایی به‌طور موقت از 28 dB افزایش می‌یابد. مطالعات نشان داده است که به‌طور متوسط اگر به مدت 10 سال در معرض صدایی با تراز شدت 92 dB قرار گیریم، آستانه شنوایی به‌طور دائم به 28 dB افزایش می‌یابد. شدت‌های صوت مربوط به 28 dB و 92 dB چقدر است؟ (راهنمایی: برای پاسخ دادن لازم است از ماشین حساب مناسب استفاده کنید.)

۳۹. یک دستگاه صوتی، صدایی با تراز شدت $\beta_1 = 90 \text{ dB}$ و دستگاه صوتی دیگر، صدایی با تراز شدت $\beta_2 = 95 \text{ dB}$ ایجاد می‌کند. شدت‌های مربوط به این دو تراز (برحسب W/m^2) به ترتیب I_1 و I_2 هستند. نسبت I_2/I_1 را تعیین کنید.

۲-۳ بازتاب موج

۳۳. دانش‌آموزی بین دو صخره قائم ایستاده است و فاصله او از صخره نزدیک تر 24 m است. دانش‌آموز فریاد می‌زند و اولین پژواک صدای خود را پس از $1/5\text{ s}$ و صدای پژواک دوم را $1/10\text{ s}$ بعد از پژواک اول می‌شنود. الف) تندی صوت در هوا چقدر است؟ ب) فاصله بین دو صخره را بیابید.

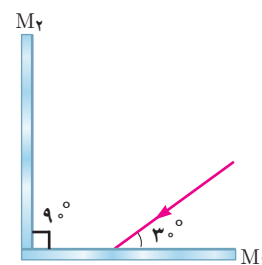
۳۴. اگر در فاصله مناسبی از یک رشته پلکان بلند بایستید و یک بار کف بزنید، پژواکی بیشتر از یک صدای برهم زدن دست می‌شنوید. نمونه جالبی از این پدیده در برابر رشته پله‌های معبد قدیمی کوکولکان^۱ در مکزیک رخ می‌دهد. این معبد از ۹۲ پله سنگی تشکیل شده است. در مورد چنین پژواکی توضیح دهید.



تصویری از معبد کوکولکان

۳۵. وقتی یک باریکه لیزر را به دیوار کلاس می‌تابانیم، همه دانش‌آموزان نقطه رنگی ایجاد شده روی دیوار را می‌بینند. دلیل آن چیست؟

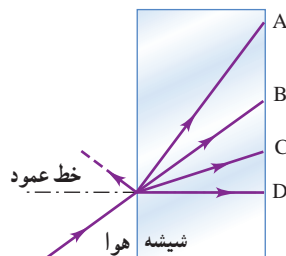
۳۶. در شکل زیر پرتوهای بازتابیده از آینه‌های تخت M_1 و M_2 را رسم کنید.



۳-۸ شکست موج

۳۷. با رسم شکلی از جبهه‌های موج توضیح دهید چگونه جهت انتشار جبهه‌های موج با رسیدن به یک ساحل شیب‌دار، تغییر می‌کند.

۳۸. شکل زیر پرتویی را نشان می‌دهد که از هوا وارد شیشه شده است. کدام گزینه‌های A تا D، می‌تواند پرتوی داخل شیشه را نشان دهد؟

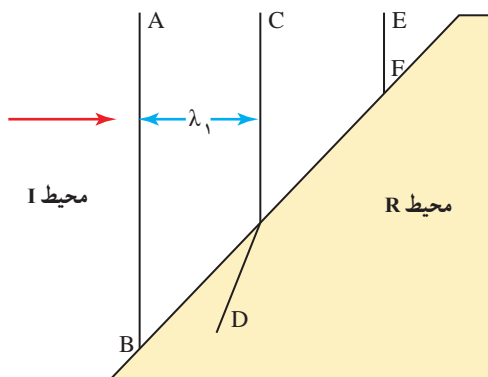


۳۹. ضریب شکست آب $1/3$ و ضریب شکست شیشه $1/5$ است. اگر نوری به‌طور مایل از آب به مرز شیشه با آب بتابد، با رسم نموداری، جبهه‌های موج را در دو محیط نشان دهید. **۴۰.** شکل زیر جبهه‌های موجی را نشان می‌دهد که بر مرز بین محیط I و محیط R فرود آمده‌اند.

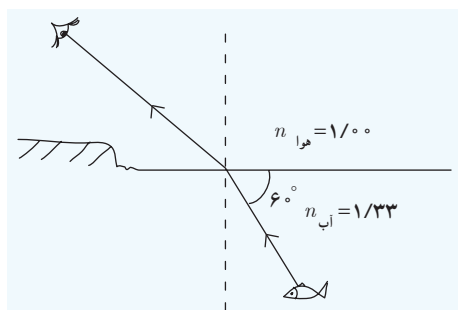
الف) ادامه جبهه موج EF را در محیط R رسم کنید.

ب) توضیح دهید در کدام محیط تندی موج بیشتر است.

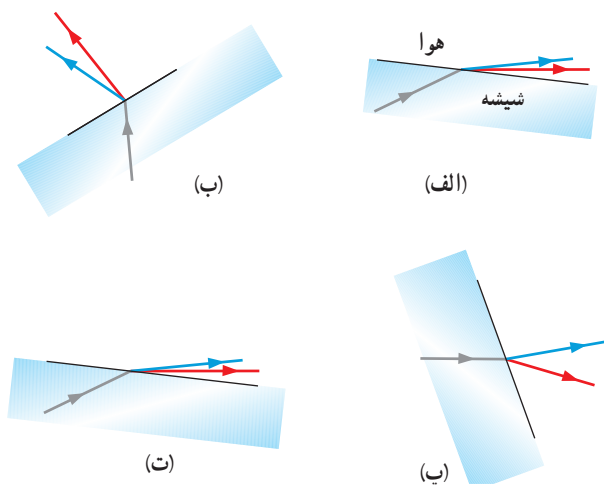
پ) آیا با استفاده از این نمودار می‌توان نسبت تندی موج عبوری به موج فرودی را محاسبه کرد؟



۴۴. مطابق شکل، پرتو نوری که از ماهی به چشمان شخص می‌رسد تحت زاویه 6° به مرز آب - هوا برخورد کرده است. زاویه شکست این پرتو در هوا چقدر است؟

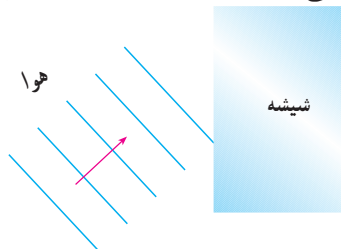


۴۵. در شکل‌های زیر، پرتوی فرودی که شامل نورهای قرمز و آبی است از شیشه وارد هوای رقیق شده است. کدام شکل، شکستی را نشان می‌دهد که از لحاظ فیزیکی ممکن است؟



۴۶. دو دانش‌آموز به نور زرد نگاه می‌کنند. یکی از آنها نور زرد را ترکیب دو نور قرمز و سبز و دیگری آن را از یک نوع رنگ می‌داند. به نظر شما با چه تجربه‌ای می‌توان بین این دو نظر، یکی را انتخاب کرد؟

۴۱. در شکل زیر موج نوری فرودی از هوا وارد شیشه می‌شود. بخشی از موج در سطح جدایی دو محیط بازمی‌تابد و بخشی دیگر شکست می‌یابد و وارد شیشه می‌شود. الف) مشخصه‌های موج بازتابیده و موج شکست یافته را با موج فرودی مقایسه کنید. ب) جبهه‌های موج بازتابیده و شکست یافته را رسم کنید.



۴۲. طول موج نور قرمز لیزر هلیوم - نئون در هوا حدود 633nm است، ولی در زجاجیه چشم 474nm است. الف) بسامد این نور چقدر است؟ ب) ضریب شکست زجاجیه برای این نور چقدر است؟ پ) تندی این نور در زجاجیه را محاسبه کنید. **۴۳.** سکه‌ای را در گوشه فنجانی خالی قرار دهید و طوری مقابل آن قرار گیرید که نتوانید سکه را ببینید. سپس بی‌آنکه سرتان را حرکت دهید به آرامی در فنجان آب بریزید، به طوری که آب ریختن شما موجب جابه‌جایی سکه نشود. با پرشدن فنجان، سکه را خواهید دید. با رسم پرتوها علت دیده شدن سکه را توضیح دهید.

