

پودمان سوم

عملیات در صنایع پوششی



پوشش ها از دو جنبه تزئینی و محافظت در برابر خوردگی اهمیت دارند. پوشش های صنعتی به عنوان کارآمدترین روش باز دارندگی خوردگی تجهیزات محسوب می شوند.

واحد یادگیری ۳

انجام عملیات در صنایع پوششی

مقدمه

پوشش‌های صنعتی برای هدف‌های گوناگون از جمله مسائل حفاظتی، ظاهری و ایمنی به کار گرفته می‌شوند. در واقع یکی از مهم‌ترین دلایل استفاده از پوشش‌های آلی و معدنی، جلوگیری از خوردگی تجهیزات است. کیفیت و مرغوبیت لایه پوششی ایجادشده، رابطه مستقیم با وضعیت و کیفیت سطح فلزی دارد که بایستی پوشش‌دهی شود. بنابراین برای دستیابی به یک پوشش با کیفیت قابل قبول، قبل از انجام دادن عمل اصلی پوشش‌دهی، لازم است سطح کار با یک مجموعه عملیات مکانیکی و شیمیایی آماده‌سازی شود. در این پودمان ابتدا عملیات آماده‌سازی قطعه برای پوشش‌دهی آورده شده است و در ادامه معرفی، مفاهیم و کاربرد آبکاری و پوشش‌های آلی همراه با فیلم آموزشی، تحقیق کنید، پرسش، فعالیت‌های عملی قابل اجرا، نکات ایمنی و زیست محیطی مرتبط آورده شده است.

استاندارد عملکرد

آماده‌سازی قطعه و پوشش‌دهی آن به روش آبکاری و رنگ طبق دستور کار

شایستگی‌های غیرفنی


- ۱ اخلاق حرفه‌ای: حضور منظم و وقت‌شناسی - انجام دادن وظایف و کارهای محول - پیروی از قوانین
- ۲ مدیریت منابع: شروع به کار به موقع - مدیریت مؤثر زمان - استفاده صحیح از مواد و تجهیزات
- ۳ کار گروهی: حضور فعال در فعالیت‌های گروهی - انجام دادن کارها و وظایف محول
- ۴ مستندسازی: گزارش نویسی فعالیت‌های کارگاهی
- ۵ محاسبه و کاربست ریاضی

شایستگی‌های فنی

- پس از پایان این واحد یادگیری هنرجویان قادر خواهند بود :
- ۱ عملیات آماده‌سازی قطعه پیش از پوشش‌دهی را انجام دهند.
 - ۲ آبکاری قطعات را انجام دهند.
 - ۳ با اعمال رنگ پوشش‌دهی را انجام دهند.



با توجه به تصویرهای زیر در مورد انواع پوشش‌های صنعتی گفت‌وگو کنید. به نظر شما پوشش‌ها چه اهمیتی در زندگی بشری دارند؟ آیا می‌توانید مثال‌های دیگری بیاورید؟



پوشش‌های صنعتی برای هدف‌های گوناگون از جمله مسائل حفاظتی، ظاهری و ایمنی به کار گرفته می‌شوند. در واقع یکی از مهم‌ترین دلایل استفاده از پوشش‌های آلی و معدنی، جلوگیری از خوردگی تجهیزات است. عمل حفاظتی پوشش‌ها از یک یا چند سازوکار تشکیل شده است که عبارت‌اند از:

۱ جلوگیری از تماس جسم و محیط

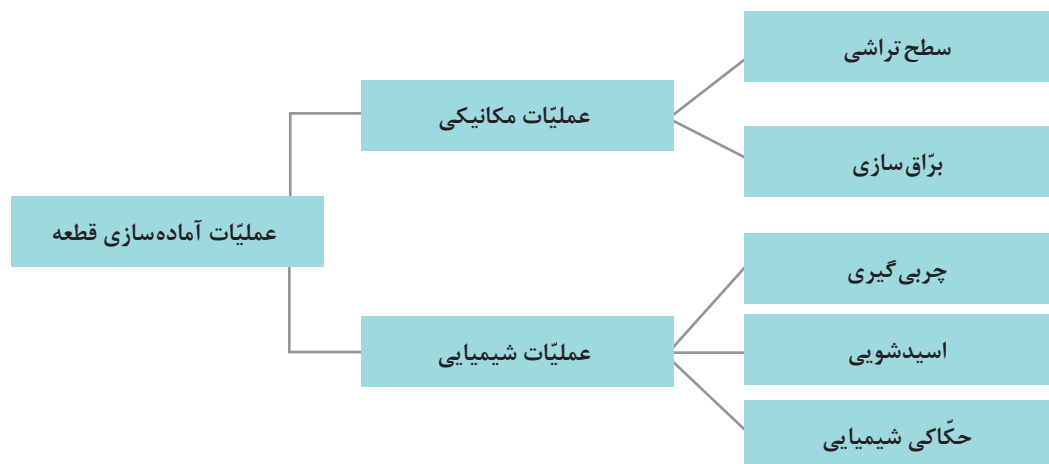
۲ محدود ساختن تماس بین جسم و محیط

۳ انتشار موادی که سبب کندکنندگی حملات محیط بر روی جسم است.

کیفیت و مرغوبیت لایه پوششی ایجادشده، رابطه مستقیم با وضعیت و کیفیت سطح فلزی دارد که باید پوشش‌دهی شود، لذا وجود چربی‌ها، اکسیدها و سایر مواد خارجی بر سطح قطعه به هنگام اجرای عمل پوشش‌دهی، در میزان چسبندگی، مقاومت مکانیکی و ظاهر پوشش تأثیر خواهد گذاشت. برای دستیابی به یک پوشش با کیفیت قابل قبول، قبل از انجام دادن عمل اصلی پوشش‌دهی، لازم است سطح کار با یک مجموعه عملیات مکانیکی و شیمیایی آماده‌سازی شود.

عملیات آماده‌سازی قطعه برای پوشش

آماده‌سازی قطعات پیش از پوشش دهی هم از نظر پایین آوردن قیمت تمام‌شده و هم از نظر بالا بردن کیفیت پوشش، اهمیت ویژه‌ای دارد. این آماده‌سازی به روش‌های مکانیکی و شیمیایی انجام می‌گیرد. در شکل ۱ مراحل آماده‌سازی قطعه برای پوشش را مشاهده می‌کنید.



شکل ۱- مراحل آماده‌سازی قطعه برای پوشش

از آنجا که در طی فرایند تولید، قطعات به انواع روغن‌های مصرفی آغشته می‌گردد، سطح آنها پوشیده از اکسید می‌شود و یا پس از خروج از قالب‌ها، ذرات گردوغبار به آنها می‌چسبند و در کناره‌های قالب لبه‌های برنده ایجاد می‌کند، لازم است قطعات تولیدشده (قطعات خام)، در ابتدا از لحاظ ظاهری و سطحی اصلاح شوند تا برای پوشش نهایی (رنگ و آبکاری^۱) آماده شوند. تمامی موارد نام‌برده، باید پیش از انجام‌شدن مراحل نهایی پوشش‌دهی قطعات به روش‌های گوناگون و متداول در صنعت، از روی سطح قطعات زدوده، اصلاح و حذف شوند. شکل ۲ یک قطعه خام را نشان می‌دهد که باید عملیات آماده‌سازی بر روی آن انجام شود.



شکل ۲- یک قطعه خام با ناصافی‌ها در سطح

عملیات مکانیکی آماده‌سازی سطح

در صنعت به مجموع فرایندهای آماده‌سازی مکانیکی سطح قطعات، پرداختکاری گفته می‌شود. پرداختکاری از دو نوع فرایند سطح‌تراشی (زیرکار) و برآق‌سازی (روکار) تشکیل شده است.

^۱ Plating

سطح تراشی (پرداخت):

برای دستیابی به این هدف معمولاً سطح قطعه کار با انواع مختلفی از سنباده‌ها پرداخت می‌شود. با انجام دادن عملیات سنباده‌زنی می‌توان چاله‌های ریز سوزنی، خطوط و زخم‌های سطحی، پلیسه‌ها و سایر عوامل نامطلوب سطح قطعه را که در بخش‌های مختلف فرایند تولید و یا حمل‌ونقل ایجاد شده‌اند، از میان برداشت و به یک سطح صاف و صیقلی مطلوب برای انجام دادن عملیات رنگ یا آبکاری رسید.

سنباده: سنباده ورقه‌ای از جنس کاغذ، پارچه و یا الیاف بافته شده است که دانه‌های سخت ساینده بر روی آن به وسیله چسب مخصوص چسبانده شده است و برای ساییدن سطوح مختلف اجسام، از آن استفاده می‌شود. ذرات ساینده در سنباده (پودر سنباده) مواد بسیار سخت و ریزی (در اندازه میکرون) هستند که در اندازه‌ها و شماره‌بندی‌های مختلف موجود هستند و با چسب مخصوص سنباده، روی ورقه‌ها یا نوارهایی (پشت‌بند سنباده) از جنس‌های مختلف چسبانده می‌شوند. این ذرات به‌طور کلی به دو دسته تقسیم‌بندی می‌شوند:

(الف) مواد طبیعی: مانند ماسه، ذرات کوارتز یا سیلیس، ذرات سنگ چخماق

(ب) مواد مصنوعی: مانند آلومینیم اکسید، براده‌های فلزات، سیلیسیم کاربید

انواع سنباده از لحاظ نوع پشت‌بند:

سنباده‌ها از لحاظ نوع پشت‌بند یا صفحات اتصال‌دهنده به دانه‌های ساینده، همانند شکل ۳، به چند دسته تقسیم‌بندی می‌شوند:

(الف) پشت‌بند کاغذی: سنباده‌های پشت‌بند کاغذی از کم‌دوام‌ترین نوع سنباده هستند و بیشتر در نقاشی ساختمان استفاده می‌شوند.

(ب) پشت‌بند پارچه‌ای: سنباده‌های پشت‌بند پارچه‌ای از دوام زیادتری برخوردارند و در رنگ‌کاری چوب، استفاده می‌شوند. آنها را معمولاً به دستگاه سنباده، با دور بالا و ماشین‌های لرزان وصل می‌نمایند و استفاده می‌کنند.

(ج) پشت‌بند الیافی: این نوع از سنباده شامل تعداد زیادی لایه‌های پارچه‌ای است که نسبتاً سخت و محکم است و برای ایجاد پشت‌بند برای دیسک‌ها و غلتک‌ها به کار می‌رود.



سنباده الیافی



سنباده پارچه‌ای



سنباده کاغذی

شکل ۳- انواع سنباده

برّاق سازی سطح:

فرایند برّاق سازی سطح یا روکار دارای دو مرحله است:

مرحله اول: در این مرحله قطعه را با فشار زیاد تا متوسط، به سطح چرخ‌های در حال چرخش برّاق کاری می‌فشارند. این کار باعث به‌دست آمدن یک سطح صاف، یکنواخت و نیمه برّاق تا برّاق می‌شود.



شکل ۴- دستگاه دو سر معمول در عملیات برّاق کاری

مرحله دوم: در این مرحله قطعه را با فشاری متوسط تا کم به سطح چرخ‌های در حال چرخش برّاق کاری می‌فشارند، که در نتیجه آن یک سطح تمیز، برّاق و درخشان ایجاد می‌شود.

در عملیات برّاق کاری، می‌توان از انواع چرخ‌های پرداختکاری (نمد، فرچه) و واکس‌های پرداختکاری استفاده کرد (شکل ۴).

فعالیت عملی ۱



تمیز کاری مکانیکی

مواد و وسایل لازم	
سنباده‌های کاغذی با زبری‌های مختلف	قطعه‌های آهنی ۴ عدد (۵ × ۲ × ۰/۱ cm و دارای سوراخی به قطر ۲ mm)
برس سیمی	خشکانه
پنبه	استون

روش کار:

- ۱ نمونه‌های آهنی که دارای زائده یا ناصافی باشند، تهیه کنید.
- ۲ با توجه به ناصافی‌های قطعه با استفاده از وسایل تمیزکاری، مانند سنباده یا برس سیمی، ناصافی‌ها را برطرف کنید.
- ۳ قطعه‌های تمیز شده را با آب شست‌وشو دهید تا ذرات ناخالصی از آنها جدا شوند.
- ۴ قطعات را با استفاده از پنبه آغشته به استون، خشک و برای مراحل بعدی در خشکانه نگهداری کنید.

عملیات شیمیایی آماده‌سازی سطح قطعه

چربی‌گیری:

به‌منظور دستیابی به یک پوشش با کیفیت، پیش از انجام دادن عمل اصلی پوشش‌دهی، لازم است سطح کار با یک مجموعه اعمال شیمیایی آماده‌سازی شود که چربی‌گیری اولین مرحله آماده‌سازی است. مواد چربی‌گیر به دو دسته کلی آلی و معدنی تقسیم‌بندی می‌شوند. چربی‌گیرهای آلی عبارت‌اند از حلال‌های گوناگون مانند استون و بنزن و هیدروکربن‌های کلردار مانند کربن تتراکلرید و تری‌کلرواتیلن، که به‌دلیل قدرت چربی‌گیری بالا به‌طور مستقیم و یا به کمک بخاراتشان قادرند انواع چربی‌های حیوانی، گیاهی و نفتی (چربی‌های معدنی) را زایل کنند.

چربی گیرهای معدنی از ترکیبات معدنی با پایه بازی (قلیایی) تشکیل شده‌اند و در آب حل می‌شوند. چربی گیرهای بازی با خاصیت صابونی کردن چربی‌ها، عمل چربی زدایی را انجام می‌دهند. معمولاً مجموعه‌ای از ترکیبات معدنی به نسبت‌های معین و در کنار یکدیگر به صورت محلول در آب استفاده می‌شوند، که تحت عنوان «چربی گیرهای قلیایی» از آنها نام می‌برند. برای فعال تر کردن چربی گیرهای قلیایی ترکیباتی به عنوان ترکنده^۱ و امولسیون کننده^۲ به آنها می‌افزایند.

فعالیت عملی ۲



چربی زدایی با حلال‌های آلی

مواد و وسایل لازم	
کربن تتراکلرید یا تری کلرواتیلن	نمونه‌های آهنی ۴ عدد
استون	خشکانه
آب گرم (حمام)	بشر دو لیتری
پنبه	بشر ۵۰۰ میلی لیتر

چربی گیری به دو صورت انجام می‌شود: الف) چربی گیری به روش غوطه‌وری در حلال آلی، ب) چربی گیری در بخار حلال آلی.

چربی گیری به روش غوطه‌وری در حلال آلی

روش کار:

- در یک بشر ۵۰۰ میلی لیتری مقداری استون (کربن تتراکلرید یا تری کلرواتیلن) بریزید، و در زیر هود قرار دهید. یک قطعه آهنی را به کمک سیم‌های نازک به مدت ۵ دقیقه در حالی که آنها را تکان می‌دهید، در استون غوطه‌ور کنید.
- سپس قطعات را خارج کنید و به وسیله پنبه تمیز، سطح آنها را پاک کنید و بعد از تبخیر نهایی استون، بدون لمس کردن در خشکانه قرار دهید.

نکات ایمنی



- آزمایش زیر هود انجام شود.
- از وسایل حفاظت و ایمنی شخصی مانند ماسک، عینک، دستکش و روپوش مناسب استفاده شود.

تحقیق کنید

۱



در زمینه چربی گیری به روش بخار حلال آلی تحقیق کنید و نتیجه را در کلاس ارائه دهید.

۱- Weting Agent

۲- Emulsifier



چربی زدایی با چربی گیرهای قلیایی

مواد و وسایل لازم	
کاغذ تورنسل یا شناساگر فنول فتالین	قطعه آهنی ۴ عدد
سدیم هیدروکسید	بشر دو لیتری یک عدد
سدیم کربنات	گرمکن برقی
سدیم تری فسفات	همزن (مغناطیسی)
سدیم متاسیلیکات	بشر یک لیتری
مایع ظرف شویی	خشکانه

روش کار:

ترکیب محلول برای چربی زدایی قطعات آهنی:

سدیم هیدروکسید	۱۵ g/L
سدیم کربنات	۳۰ g/L
سدیم تری فسفات	۱۵ g/L
سدیم متاسیلیکات	۱۵ g/L
مایع ظرف شویی	۲ g/L (به عنوان ترکنده یا فعال کننده سطح فلز)

طرز تهیه محلول چربی گیر قلیایی:

- معادل $\frac{3}{4}$ لیتر آب معمولی را در یک بشر دو لیتری بریزید و روی گرمکن برقی قرار دهید و تا مرحله جوش گرم کنید.
- ۱۵ گرم سدیم متاسیلیکات را وزن کنید و در آب جوشان به کمک همزن شیشه‌ای حل کنید.
- به ترتیب سدیم تری فسفات، سدیم کربنات، سدیم هیدروکسید و در پایان مایع ظرف شویی را به مقدار لازم برای یک لیتر محلول، وزن کنید و در آب مذکور حل کنید و حجم محلول را به یک لیتر برسانید.

روش چربی گیری قلیایی:

- ۱ محلول تهیه شده را تا حدود $35-40^{\circ}\text{C}$ به کمک گرمکن برقی گرم نمایید و قطعه آهنی را به مدت ۳۰ دقیقه در آن آویزان کنید. در این فاصله هرگاه حجم محلول به دلیل تبخیر کم شد، از بشر یک لیتری که روی گرمکن دارای آب جوشان است، به آن بیفزایید.
- ۲ پس از ۳۰ دقیقه قطعه را خارج کنید و با آب زیاد آنقدر بشویید تا سطح قطعه نسبت به کاغذ تورنسل و یا فنول فتالین حالت خنثی یا غیرقلیایی نشان دهد. استفاده از دست با دستکش لاستیکی تمیز برای پاک شدن سطح قطعه از مواد قلیایی بلامانع است.
- ۳ پس از شست و شوی کامل قطعه آن را به مدت ۳-۴ دقیقه در آب جوشان فرو ببرید و سپس خارج کنید، به این ترتیب قطعه خشک خواهد شد. سپس آن را در خشکانه قرار دهید.



به نظر شما چه نکات ایمنی را در عملیات چربی‌گیری قلیایی باید رعایت کرد؟

بررسی کیفیت سطوح چربی‌گیری شده

آزمایش گسستگی لایه آب: در این آزمایش با ایجاد یک لایه یکنواخت پیوسته آب بر روی سطوح چربی‌گیری شده و مشاهده گسستگی‌های احتمالی در این لایه پیوسته، به وجود چربی‌های زدوده‌نشده بر سطح قطعه و در نتیجه به کیفیت کار انجام‌شده پی می‌برند. مبنای علمی این کار آن است که وجود لایه چربی بر سطح قطعه از میزان چسبندگی مولکول‌های آب به سطح فلز می‌کاهد، لذا لایه آب از سطح فلز جدا می‌شود.

روش کار

سطح قطعه را در زیر جریان بسیار آرام و یکنواخت آب معمولی در دمای محیط (شیر آب سرد) بگیرید و به‌گونه‌ای قطعه را از زیر جریان آب خارج کنید که قطعه به حالت افقی یک لایه آب را روی سطح خود نگه دارد و سپس وجود گسستگی در این لایه را کنترل کنید و به این ترتیب کیفیت عمل چربی‌گیری را تعیین نمایید.

حال روش بالا را روی تمام نمونه‌های چربی‌گیری شده (نمونه‌های موجود در خشکانه) اجرا کنید و در جدول ۱ نتایج کار را گزارش کنید.

جدول ۱- نتایج بررسی کیفیت سطوح چربی‌گیری شده

شرح کار	نمونه ۱	نمونه ۲	نمونه ۳	نمونه ۴
روش چربی‌گیری				
تاریخ چربی‌گیری				
نتیجه آزمایش گسستگی آب				
تاریخ آزمایش گسستگی آب				

روش تشخیص کیفیت و ثبت نتایج: تمام قطعات تحت نظر و کنترل هنرآموز بررسی شود و به شرح زیر امتیاز دهید و در جدول ثبت کنید.

۱ اگر گسستگی به صورت نقاط پراکنده و با تخمین دیداری در گستره ۱۰-۵ درصد باشد، نتیجه «خوب» در جدول ثبت شود.

۲ اگر گسستگی به صورت نقاط پراکنده و با تخمین دیداری ۲۰-۱۰ درصد باشد، نتیجه «متوسط» در جدول ثبت شود.

۳ اگر گسستگی به صورت سطح گسترده پیوسته و با تخمین دیداری ۳۰-۲۰ درصد باشد، نتیجه «بد» در جدول ثبت شود.

پوسته زدایی یا اسیدشویی^۱

قطعاتی که باید تحت پوشش‌های آلی (رنگ) و یا معدنی (آبکاری) قرار گیرند، پس از چربی‌گیری لازم است عاری از هرگونه مواد زائد مانند اکسیدها و سایر نمک‌ها باشند؛ به همین جهت این مواد زائد را با انواع اسیدها مانند هیدروکلریک اسید، سولفوریک اسید، نیتریک اسید و فسفریک اسید از سطح قطعه پاک می‌کنند تا مانعی برای کیفیت لایه پوششی به وجود نیاید. از آنجایی که اسیدها علاوه بر اکسیدها و سایر ترکیبات، می‌توانند سطح فلز را نیز تحت تأثیر قرار دهند، در نتیجه موادی به عنوان بازدارنده^۲ به آنها اضافه می‌کنند که سطح تمیز فلز با اسید تخریب نشود. انتخاب بازدارنده‌ها به عوامل گوناگون بستگی دارد که عبارت‌اند از نوع اسید، جنس فلز و دمای عملیات اسیدشویی. مقدار بازدارنده به درصد اسید موجود در محلول بستگی دارد.

نکته

آلیاژهای مختلف مانند آهن و مس نباید در یک محفظه واحد، اسیدشویی شوند.



محفظه‌هایی که برای انجام دادن عملیات آبکاری استفاده می‌شوند، در اصطلاح صنعتی به «وان» و یا «حمام آبکاری» موسوم هستند و عموماً از ورقه‌های آهنی و به شکل مکعب مستطیل ساخته می‌شوند. هرگاه قرار باشد در یک وان آبکاری مواد خورنده مانند اسید ریخته شود، درون آنها را با ورق‌های پی‌وی‌سی و یا لاستیک مصنوعی مخصوص می‌پوشانند.

فعالیت عملی ۴



اسیدشویی قطعه‌های آهنی

مواد و وسایل لازم	
سولفوریک اسید	قطعه آهنی زنگ‌زده ۴ عدد
هیدروکلریک اسید	بشر یک لیتری
سفیده تخم‌مرغ، ۱ عدد (به عنوان بازدارنده)	بشر نیم لیتری ۲ عدد
هیدرازین (به عنوان بازدارنده)	خشکانه
الکل خالص یا استون (خشک کننده)	شامپوی بچه (به عنوان ترک‌کننده یا فعال کننده)

۱- Pickling

۲- Inhibitor

روش کار اسیدشویی شماره ۱:

- ۱ ابتدا نمونه‌ها را چربی‌گیری کنید و در خشکانه بگذارید.
- ۲ ۱۰۰ میلی‌لیتر محلول سولفوریک اسید (w/v) ۲۰٪ تهیه کنید.
- ۳ محلول سولفوریک اسید تهیه‌شده را در دو بشر نیم‌لیتری به دو قسمت مساوی تقسیم کنید.
- ۴ به یکی از این دو بشر به میزان ۱ گرم شامپوی بچه و ۵/۰ گرم هیدرازین اضافه کنید به هم بزنید، سپس در دمای محیط، در هر بشر دو نمونه آهنی بیاویزید و به مدت ۱۵ دقیقه به طور دقیق دو نمونه و پدیده‌های شیمیایی پیش‌آمده را تحت نظر داشته باشید.
- ۵ قطعات را پس از مدت زمان تعیین‌شده از محلول سولفوریک اسید خارج کنید با آب جاری به طور کامل بشوید، سپس با استون یا الکل آغشته نمایید و خشک کنید.
- ۶ کیفیت سطوح تمیزشده را با ذره‌بین با بزرگنمایی ۱۰× مشاهده و بررسی کنید.
- ۷ گزارش بررسی و پدیده‌های مشاهده‌شده ضمن کار و نتایج آن را ارائه کنید.

روش کار اسیدشویی شماره ۲:

- ۱ ۱۰۰ میلی‌لیتر محلول (w/v) ۱۰٪ هیدروکلریک اسید تهیه کنید.
- ۲ محلول تهیه‌شده را در دو بشر نیم‌لیتری به دو قسمت مساوی تقسیم کنید. به یکی از دو بشر به میزان ۱ گرم شامپوی بچه و معادل ۵/۰ درصد سفیده تخم مرغ بیفزایید (این درصد، نسبت به وزن هیدروکلریک اسید خالص موجود در محلول محاسبه می‌شود).
- ۳ در دمای محیط در هر بشر دو نمونه از قطعه‌ها را بیاویزید و به مدت ۱۵ دقیقه کلیه پدیده‌های حاصل را مشاهده و بررسی کنید.
- ۴ نمونه‌ها را از محلول اسید خارج کنید و در زیر آب جاری به طور کامل بشوید و با کمک استون یا الکل خشک کنید.
- ۵ کیفیت سطوح تمیزشده را با ذره‌بین با بزرگنمایی ۱۰× مشاهده و بررسی کنید.
- ۶ گزارش بررسی و پدیده‌های مشاهده‌شده ضمن کار و نتایج آن را ارائه کنید.

توجه



برای اسیدشویی یکی از روش‌های ۱ یا ۲ را استفاده کنید.

حکاکی^۱ شیمیایی:

حکاکی شیمیایی آخرین مرحله آماده‌سازی قطعه پیش از پوشش‌دهی است. حکاکی شیمیایی به مفهوم ایجاد خوردگی بسیار ضعیف در قسمت‌های ناپایدار سطح نمونه آماده شده است. این عمل سبب می‌شود ذرات اکسید فلز که ممکن است در مرحله چربی‌گیری پدید آمده باشد، در محلول اسید رقیق حل شود. بدین ترتیب چسبندگی پوشش بر سطح قطعه افزایش می‌یابد.

فعالیت عملی ۵



عملیات حکاکی

مواد و وسایل لازم:

محلول سولفوریک اسید با غلظت ۵ تا ۱۰ درصد، بشر یک لیتری، قطعات آماده سازی شده ۴ عدد

روش کار:

قطعه های تمیز را به مدت چند ثانیه در داخل محلول سولفوریک اسید به غلظت حدود ۵ تا ۱۰ درصد قرار دهید. سپس از محلول اسیدی خارج کنید و با آب شست و شو دهید. بدین ترتیب سطح قطعه فعال شده، آماده آبکاری می شود.

نکته



به هنگام آماده سازی بعد از هر مرحله از عملیات مکانیکی یا شیمیایی، سطح قطعه باید با آب شست و شو داده شود تا ذرات جامد یا محلول و مواد پاک کننده از سطح قطعه جدا شوند.


فیلم آموزشی



آماده سازی قطعات برای پوشش دهی

آبکاری

به تصویر قطعات آبکاری شده زیر توجه کنید. چه تشابه و تفاوت هایی در آنها مشاهده می کنید؟



بحث گروهی

۲



هر فلزی که بتواند به روش‌های الکتریکی، شیمیایی یا مکانیکی بر روی قطعه رسوب کند، می‌تواند به‌عنوان پوشش محافظ آن استفاده شود. آبکاری یکی از انواع روش‌های ایجاد پوشش‌های فلزی است که به روش شیمیایی، سطح یک جسم را با فلز مورد نظر پوشش می‌دهد. این پوشش فلزی باید چسبندگی زیادی به سطح داشته باشد و تا پایان عمر مفید آن از سطح جدا نشود. قطعه‌ای که سطح آن پوشش داده می‌شود، می‌تواند فلز یا نافلز باشد. قطعه در صورتی، قابلیت آبکاری پیدا می‌کند که پیش‌تر پوششی از یک لایه نازک رسانا به روشی بر روی سطح آن نشانده باشند. آبکاری در صنعت کاربردهای فراوان دارد. برخی از مهم‌ترین اهداف آبکاری عبارت‌اند از:

جلوگیری از خوردگی قطعه: در صنایعی که با مواد شیمیایی بسیار خورنده سروکار دارند، غالباً ظروف و دستگاه‌ها را از جنس‌های نسبتاً ارزان مانند فولاد معمولی می‌سازند که مقاومت زیادی در برابر خوردگی ندارند. سپس با پوشش دادن سطح داخلی ظروف و دستگاه‌ها با یک فلز مقاوم در مقابل خوردگی، از خراب شدن و سوراخ شدن آن جلوگیری می‌شود. شکل ۵ نمونه‌هایی از خوردگی در قطعه‌ها را نشان می‌دهد.



شکل ۵- نمونه‌هایی از خوردگی در قطعه‌های فلزی

برای جلوگیری از خوردگی داخل مخزن‌های نگهداری مواد و مایعات مختلف شیمیایی در صنایع چه اقداماتی انجام می‌شود؟

تحقیق کنید
۲



در صنایع غذایی معمولاً شدت خوردگی زیاد نیست، اما حتی میزان کم آن غیرمجاز است. تحقیق کنید برای جلوگیری از خوردگی داخل قوطی‌های نگهداری مواد غذایی، چه اقداماتی انجام می‌شود؟

تحقیق کنید
۳



افزایش مقاومت مکانیکی: در برخی از موارد نیاز است که سطح یک قطعه در مقابل سایش مقاومت بیشتری داشته باشد. در این حالت با انجام دادن نوعی آبکاری نیکل یا کروم، سختی لازم در سطح پدید می‌آید.

بهبود ظاهر قطعه: در بسیاری از موارد تنها دلیل یا یکی از دلایل استفاده از آبکاری، ایجاد ظاهری زیبا برای قطعه است. برای مثال در آبکاری زیورآلات بدلی که با یک لایه بسیار نازک طلا پوشش داده می‌شوند، فقط ظاهر زیبا مدنظر است. البته در اغلب موارد، هم جنبه "زیبایی" و هم جنبه "مقاومت در مقابل خوردگی" دلیل انجام دادن آبکاری است.

تحقیق کنید
۴



به چه دلیل در وسایل فلزی آشپزخانه از آبکاری استفاده می‌شود؟ کدام فلز یا فلزات برای این مورد به کار می‌روند؟

افزایش رسانایی الکتریکی: مس یک رسانای خوب برای جریان برق است و به همین منظور در وسایل برقی و مدارهای الکتریکی به شکل گسترده استفاده می‌شود. با گذر زمان، روی سطح مس لایه تیره نازکی تشکیل می‌گردد و باعث می‌شود در نقاط لحیم کاری شده و در اتصالات، هدایت الکتریکی سطح مس به شدت کاهش یابد. در دستگاه‌های حساس به منظور افزایش رسانایی الکتریکی سطح مس از پوشش بسیار نازک طلا استفاده می‌شود.

ایجاد خواص سطحی متنوع: علاوه بر خواصی که گفته شد، آبکاری می‌تواند خواص متنوع دیگری را نیز در سطح یک قطعه ایجاد کند. برای مثال، به منظور ایجاد قدرت انعکاس نور در یک قطعه، آن را با نقره پوشش می‌دهند.

تحقیق کنید
۵



در مورد کاربردهای فلزات مختلف جهت آبکاری و خواص آنها، تحقیق کنید و جدول زیر را کامل نمایید.

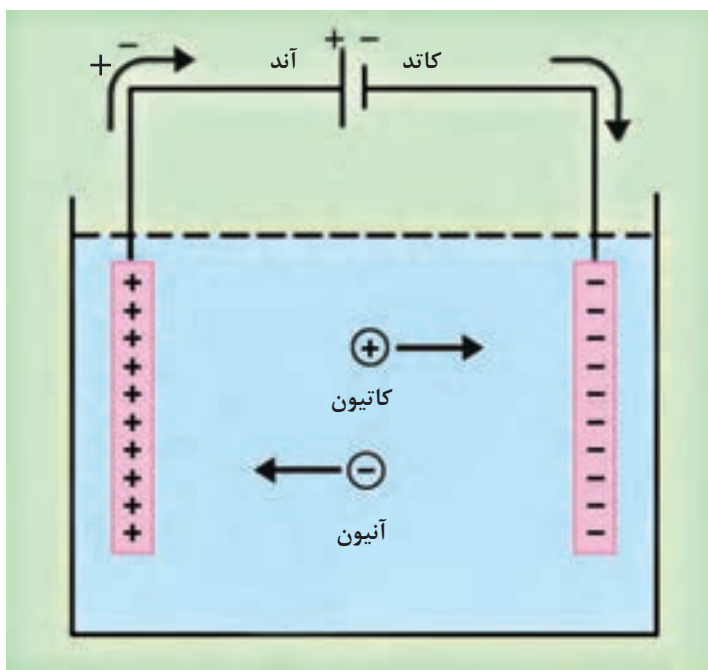
فلزات	کاربردها و خواص پوشش‌های مختلف آبکاری
طلا	
نقره	
کروم	
نیکل	
مس	
برنج ^۱	
مفرغ (برنز) ^۲	
روی	
آلومینیم	
پلاتین	
قلع	

۱- Brass Alloy. آلیاژ برنج شامل فلزات مس و روی است.

۲- Bronze Alloy. آلیاژ برنز از ترکیب مس با عناصری همچون قلع، آلومینیم، منگنز و یا فسفر تولید می‌شود و مفرغ آلیاژی از مس و قلع است.

مبانی آبکاری

آبکاری یکی از انواع فرایندهای برقکافت است که در آن به کمک جریان الکتریسیته، واکنش‌های اکسایش و کاهش انجام می‌شود و بر اثر آن پوشش مناسب بر سطح قطعه می‌نشیند. شکل ۶، اجزای اصلی یک پیل برقکافت را به شکل ساده نشان می‌دهد. جریان برق مستقیم^۱ را می‌توان به کمک یک باتری یا یک سوکننده جریان برق متناوب^۲ تأمین کرد. تیغه‌هایی که جریان الکتریسیته را وارد محلول می‌کنند **الکتروود** نام دارند. الکترودی که به قطب مثبت باتری متصل است و در آن نیم‌واکنش «اکسایش» انجام می‌شود، **آند** نام دارد. الکترودی که به قطب منفی باتری متصل است و در آن نیم‌واکنش «کاهش» انجام می‌شود، **کاتد** نام دارد. محلولی که آند و کاتد در آن قرار گرفته‌اند و حاوی یون‌های مثبت و منفی است، **الکتrolیت** نامیده می‌شود. حرکت یا به عبارت بهتر مهاجرت یون‌های مثبت و منفی به معنی عبور جریان الکتریسیته از داخل محلول است. یون‌های مثبت که به سمت کاتد مهاجرت می‌کنند، **کاتیون** و یون‌های منفی که به سمت آند مهاجرت می‌کنند، **آنیون** نام دارند.

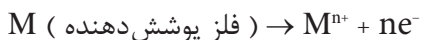


شکل ۶- اجزای اصلی یک پیل برقکافت، یون‌های مثبت (کاتیون‌ها) به سمت کاتد و یون‌های منفی (آنیون‌ها) به سمت آند مهاجرت می‌کنند.

۱- DC: Direct Current

۲- AC: Alternative Current

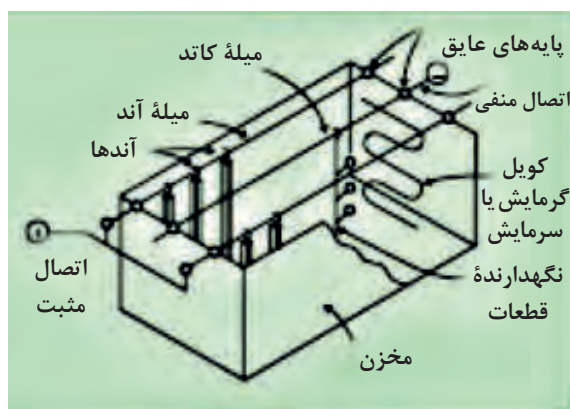
شکل های ۷ طرح کلی یک دستگاه آبکاری و مخزن آن را نشان می دهند. در عملیات آبکاری، فلز پوشش دهنده در موقعیت آند قرار می گیرد. در آند نیم واکنش اکسایش، غالباً به شکل حل شدن آند انجام می شود:



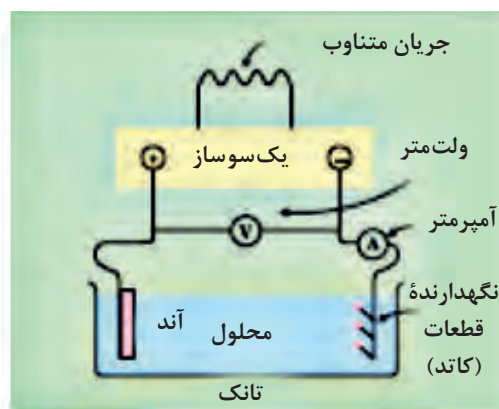
قطعه ای که باید پوشش داده شود و به آن «قطعه کار» یا «کار» می گویند، در موقعیت کاتد قرار می گیرد. در کاتد نیم واکنش کاهش به شکل رسوب فلز بر سطح قطعه کار انجام می شود:



کاتد:



(ب)



(الف)


شکل ۷- الف) طرحی از اجزای اصلی یک دستگاه آبکاری، ب) طرحی از مخزن آبکاری و قسمت های مختلف آن



پ) نمونه های صنعتی مخزن آبکاری

ممکن است لازم باشد عملیات آبکاری در یک دمای خاص انجام شود. به همین دلیل دمای مورد نیاز توسط یک گرمکن برقی که در داخل محلول الکترولیت قرار می گیرد، تأمین می شود (شکل ۷- ب).

همان‌طور که در شکل مشاهده می‌شود، سه میله از جنس مس در بالای مخزن بر روی پایه‌های عایق قرار گرفته‌اند. دو میله کناری که به قطب مثبت وصل شده‌اند، میله‌های آندی نام دارند. آندها توسط قلاب‌هایی رسانا به این میله‌ها آویزان می‌شوند. میله وسط که به قطب منفی وصل شده است، میله کاتدی نام دارد و تعدادی نگهدارنده قطعات به آن متصل است (شکل ۸).



شکل ۸- مخزن آبکاری با میله‌های آندی و کاتدی

در سال ۱۸۸۳ میلادی مایکل فاراده که به پدر علم الکتروشیمی معروف است، براساس مشاهدات تجربی خود دو قانون مهم در مورد برقکافت به دست آورد که می‌توان نتیجه آنها را در معادله (۱) خلاصه کرد:

$$m = \frac{q}{F} \times \frac{M_w}{n} \quad \text{معادله (۱)}$$

در این معادله:

m : جرم ماده‌ای است برحسب گرم، که در الکتروود موردنظر تولید می‌شود و یا از بین می‌رود.

q : مقدار الکتریسیته‌ای است که از محلول یا از مذاب مورد برقکافت عبور می‌کند و برابر است با $q = I \cdot t$ که I جریان الکتریکی برحسب آمپر و t زمان برحسب ثانیه است.

F : ثابت فاراده است که بار یک مول الکترون را می‌رساند و آن برابر ۹۶۳۸۶ (تقریباً ۹۶۵۰۰) کولن است.

M_w : جرم یک مول ماده موردنظر برحسب گرم است.

n : تعداد مول‌های الکترون به کاررفته برای تولید یا مصرف شدن یک مول ماده موردنظر در الکتروود مربوطه است. در عمل مقدار ماده‌ای که در یک مخزن آبکاری در کاتد رسوب می‌کند، کمتر از مقداری است که معادله فاراده نشان می‌دهد. به همین دلیل بازده جریان^۱، که در مورد آبکاری «بازده کاتد^۲» نام دارد، چنین تعریف می‌شود:

$$\text{بازده کاتد} = \frac{\text{جرم پوشش (واقعی)}}{\text{جرم پوشش (نظری)}} \times ۱۰۰$$

۱- Current Efficiency

۲- Cathode Efficiency

منظور از جرم پوشش نظری، مقداری است که با استفاده از معادله فاراده به دست می آید.

مثال ۱:

در یک مخزن آبکاری مس، اگر جریان ۱۰۰ آمپری در مدت ۱۰ دقیقه از محلول عبور کند، چند گرم بر جرم تیغه کاتد افزوده می شود؟ جرم اتمی مس ۶۳/۵ گرم بر مول است.

پاسخ :



$$q = I \times t = 100 \times 10 \times 60 = 6 \times 10^4 \text{ C}$$

$$m = \frac{q}{F} \times \frac{M}{n} = \frac{6 \times 10^4}{96500} \times \frac{63.5}{2} = 19.74 \text{ g}$$

در یک مخزن آبکاری فلز روی، اگر جریان ۵۰۰ آمپری در مدت ۳۰ دقیقه از محلول عبور کند و مقدار ۲۵۰ گرم از جرم تیغه آند کاسته شود، بازده کاتدی چقدر بوده است؟

تمرین ۱



در یک مخزن آبکاری مس، جریان ۱۵ آمپر از داخل محلول مس سولفات به مدت ۱۰ دقیقه عبور می کند. اگر بازده کاتد ۱۰۰٪ باشد،
الف) چه جرمی از فلز مس بر روی قطعاتی که در کاتد قرار گرفته اند، می نشیند؟
جرم اتمی مس برابر ۶۳/۵ گرم بر مول است.
ب) اگر مجموع سطح آبکاری شده ۱۵۰۰ سانتی مترمربع باشد، ضخامت لایه مسی که بر روی قطعات نشسته است، به طور متوسط چقدر است؟ چگالی مس ۸/۹۳ گرم بر سانتی مترمکعب است.

تمرین ۲



پتانسیل کاهش:

یکی دیگر از عواملی که در فرایندهای برقکافت، از جمله آبکاری نقش دارد، پتانسیل کاهش فلزات مختلف است. پتانسیل کاهش یک فلز عبارت است از توانایی یون آن فلز در گرفتن الکترون و تبدیل شدن به اتم، طبق نیم واکنش کاهش زیر است.



پتانسیل کاهش بر حسب ولت $E =$

هر چه پتانسیل کاهش یک فلز بیشتر باشد، بدان معنی است که یون آن فلز در گرفتن الکترون و انجام نیم واکنش کاهش و رسوب کردن در کاتد موفق تر است. پتانسیل کاهش یک فلز تابع عوامل مختلف از جمله غلظت یون آن فلز در محلول و دمای محلول است. جدول (۲) پتانسیل کاهش استاندارد (E°) را برای برخی از فلزات نشان می دهد. منظور از کلمه استاندارد آن است که دمای محلول 25°C و غلظت یون فلز در داخل

محلول آبی برابر یک مولار (مول بر لیتر) است. به کمک این جدول می‌توان فهمید که در شرایط استاندارد کدام فلز پتانسیل کاهش بزرگ‌تری دارد و آسان‌تر در سطح کاتد (قطعه کار) رسوب می‌کند.

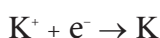
جدول ۲- پتانسیل کاهش برخی فلزات مشهور

نیم واکنش	ε (V)	نیم واکنش	ε (V)
$F_2 + 2e^- \rightarrow 2F^-$	۲٫۸۷	$O_2 + 2H_2O + 4e^- \rightarrow 4OH^-$	۰٫۴۰
$Ag^+ + e^- \rightarrow Ag$	۱٫۹۹	$Cu^{2+} + 2e^- \rightarrow Cu$	۰٫۳۴
$Co^{3+} + e^- \rightarrow Co^{2+}$	۱٫۸۲	$Hg_2Cl_2 + 2e^- \rightarrow 2Hg + 2Cl^-$	۰٫۲۷
$H_2O_2 + 2H^+ + 2e^- \rightarrow 2H_2O$	۱٫۷۸	$AgCl + e^- \rightarrow Ag + Cl^-$	۰٫۲۲
$Ce^{4+} + e^- \rightarrow Ce^{3+}$	۱٫۷۰	$SO_4^{2-} + 4H^+ + 2e^- \rightarrow H_2SO_3 + H_2O$	۰٫۲۰
$PbO_2 + 4H^+ + SO_4^{2-} + 2e^- \rightarrow PbSO_4 + 2H_2O$	۱٫۶۹	$Cu^{2+} + e^- \rightarrow Cu^+$	۰٫۱۶
$MnO_4^- + 4H^+ + 3e^- \rightarrow MnO_2 + 2H_2O$	۱٫۶۸	$2H^+ + 2e^- \rightarrow H_2$	۰٫۰۰
$2e^- + 2H^+ + IO_3^- \rightarrow IO_3^- + H_2O$	۱٫۶۰	$Fe^{3+} + 3e^- \rightarrow Fe$	-۰٫۰۳۶
$MnO_4^- + 8H^+ + 5e^- \rightarrow Mn^{2+} + 4H_2O$	۱٫۵۱	$Pb^{2+} + 2e^- \rightarrow Pb$	-۰٫۱۳
$Au^{3+} + 3e^- \rightarrow Au$	۱٫۵۰	$Sn^{2+} + 2e^- \rightarrow Sn$	-۰٫۱۴
$PbO_2 + 4H^+ + 2e^- \rightarrow Pb^{2+} + 2H_2O$	۱٫۴۶	$Ni^{2+} + 2e^- \rightarrow Ni$	-۰٫۲۳
$Cl_2 + 2e^- \rightarrow 2Cl^-$	۱٫۳۶	$PbSO_4 + 2e^- \rightarrow Pb + SO_4^{2-}$	-۰٫۳۵
$Cr_2O_7^{2-} + 14H^+ + 6e^- \rightarrow 2Cr^{3+} + 7H_2O$	۱٫۳۳	$Cd^{2+} + 2e^- \rightarrow Cd$	-۰٫۴۰
$O_2 + 4H^+ + 4e^- \rightarrow 2H_2O$	۱٫۲۳	$Fe^{2+} + 2e^- \rightarrow Fe$	-۰٫۴۴
$MnO_4^- + 4H^+ + 2e^- \rightarrow Mn^{2+} + 2H_2O$	۱٫۲۱	$Cr^{3+} + e^- \rightarrow Cr^{2+}$	-۰٫۵۰
$IO_3^- + 6H^+ + 5e^- \rightarrow I_2 + 3H_2O$	۱٫۲۰	$Cr^{3+} + 3e^- \rightarrow Cr$	-۰٫۷۳
$Br_2 + 2e^- \rightarrow 2Br^-$	۱٫۰۹	$Zn^{2+} + 2e^- \rightarrow Zn$	-۰٫۷۶
$VO_2^+ + 2H^+ + e^- \rightarrow VO^{2+} + H_2O$	۱٫۰۰	$2H_2O + 2e^- \rightarrow H_2 + 2OH^-$	-۰٫۸۳
$AuCl_3 + 3e^- \rightarrow Au + 3Cl^-$	۰٫۹۹	$Mn^{2+} + 2e^- \rightarrow Mn$	-۱٫۱۸
$NO_3^- + 4H^+ + 3e^- \rightarrow NO + 2H_2O$	۰٫۹۶	$Al^{3+} + 3e^- \rightarrow Al$	-۱٫۶۶
$ClO_2 + e^- \rightarrow ClO_2^-$	۰٫۹۵۴	$H_2 + 2e^- \rightarrow 2H^-$	-۲٫۲۳
$2Hg^{2+} + 2e^- \rightarrow Hg_2^{2+}$	۰٫۹۱	$Mg^{2+} + 2e^- \rightarrow 2H$	-۲٫۳۷
$Ag^+ + e^- \rightarrow Ag$	۰٫۸۰	$La^{3+} + 3e^- \rightarrow La$	-۲٫۳۷
$Hg_2^{2+} + 2e^- \rightarrow 2Hg$	۰٫۸۰	$Na^+ + e^- \rightarrow Na$	-۲٫۷۱
$Fe^{3+} + e^- \rightarrow Fe^{2+}$	۰٫۷۷	$Ca^{2+} + 2e^- \rightarrow Ca$	-۲٫۷۶
$O_2 + 2H^+ + 2e^- \rightarrow H_2O_2$	۰٫۶۸	$Ba^{2+} + 2e^- \rightarrow Ba$	-۲٫۹۰
$MnO_4^- + e^- \rightarrow MnO_4^{2-}$	۰٫۵۶	$K^+ + e^- \rightarrow K$	-۲٫۹۲
$I_2 + 2e^- \rightarrow 2I^-$	۰٫۵۴	$Li^+ + e^- \rightarrow Li$	-۳٫۰۵
$Cu^+ + e^- \rightarrow Cu$	۰٫۵۲		

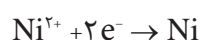
مثال ۲:

در یک عملیات آبکاری که در شرایط استاندارد (دمای $25^\circ C$ و غلظت یک مولار یون‌ها) انجام می‌شود، یون‌های پتاسیم و نیکل هر دو در حمام آبکاری حضور دارند و به سمت کاتد مهاجرت می‌کنند. سطح قطعه کار با کدام فلز پوشش داده خواهد شد؟

پاسخ: از جدول ۲ داریم:



$$E^\circ = -2/92V$$



$$E^\circ = -0/23V$$

پتانسیل یا به عبارتی توانایی کاهش نیکل، بیشتر از پتاسیم است؛ بنابراین در میدان رقابت برای گرفتن الکترون، کاتیون نیکل نسبت به کاتیون پتاسیم پیروز است؛ یعنی سطح قطعه کار با نیکل پوشیده خواهد شد. با وجود این، تجربه عملی نشان داده است که حضور یون‌های سدیم و پتاسیم در آبکاری نیکل اثر نامطلوب بر کیفیت پوشش می‌گذارد. برای به دست آوردن پتانسیل کاهش در غلظت C و دمای 25°C از معادله ساده شده نرنست^۱ استفاده می‌شود، که در آن:

$$E = E^{\circ} + \frac{0.059}{n} \log C$$

E: پتانسیل کاهش در غلظت C و دمای 25°C

E° : پتانسیل کاهش استاندارد

C: غلظت محلول برحسب مولار

n: تغییر عدد اکسایش است.

مثال ۳:

پتانسیل کاهش مس در یک محلول ۰/۱ مولار و دمای 25°C چقدر است؟

پاسخ:

به کمک جدول ۲ می‌توان دریافت که پتانسیل کاهش استاندارد مس برابر ۰/۳۴ ولت و تغییر عدد اکسایش مس برابر ۲+ است. بنابراین با جاگذاری این اعداد در معادله ساده شده نرنست داریم:

$$E = 0.34 + \frac{0.059}{2} \log 0.1 = 0.31 \text{ V}$$

پتانسیل کاهش یون‌های نیکل و کروم، در دمای 25°C با غلظت‌های زیر، چند ولت است؟
 الف) محلول نیکل (Ni^{2+}) با غلظت ۰/۰۱ مولار
 ب) محلول کروم (Cr^{3+}) با غلظت ۰/۱ مولار

تمرین ۳



قسمت‌های مختلف دستگاه آبکاری

یک دستگاه آبکاری از چهار بخش اصلی تشکیل شده است:

۱ مدار خارجی جریان مستقیم

۲ الکتروود کاتد

۳ الکتروود آند

۴ محلول آبکاری

مدار خارجی: معمولاً انرژی الکتریکی که در اختیار کارگاه‌های آبکاری قرار می‌گیرد به شکل جریان متناوب با فرکانس ۶۰ هرتز و شدت جریان ۱۵ تا ۳۰ آمپر است. معمولاً نمی‌توان در آبکاری از چنین انرژی الکتریکی استفاده کرد و باید آن را به جریان مستقیم با ولتاژی به مراتب کمتر از ۲۲۰ ولت و شدت جریانی به مراتب بیشتر از ۳۰ آمپر تبدیل کرد.

۱- Nernst Equation

برای تبدیل جریان متناوب به جریان مستقیم راه‌های مختلفی وجود دارد. یکی از این راه‌ها استفاده از یک سوسازهای جریان برق است. در کارگاه‌های آبکاری برای این منظور از دستگاه یک‌رکتیفایر^۱ استفاده می‌شود. طرز کار رکتیفایرها به این شرح است که وقتی جریان متناوب به داخل آنها وارد می‌شود، عبور جریان در یک جهت امکان‌پذیر است، ولی در جهت مخالف با مقاومت زیادی روبه‌رو خواهد شد؛ بدین ترتیب جریان متناوب به جریان مستقیم تبدیل می‌شود. شکل ۹ دو نوع یک‌سوساز جریان برق را نشان می‌دهد.



ب



الف

شکل ۹- (الف) دستگاه یک‌سوساز در کارگاه آبکاری (رکتیفایر) (ب) یک‌سوساز جریان برق

هزینه برق مصرفی در یک فرایند آبکاری را بر مبنای انرژی الکتریکی مصرف شده بر حسب کیلووات‌ساعت (KWh) محاسبه می‌کنند:

$$W(kWh) = P(kW) \times t(h)$$

در معادله داده شده W انرژی الکتریکی مصرف شده، P توان مصرفی دستگاه بر حسب کیلووات و t زمان آبکاری بر حسب ساعت است.

ولتاژی که در دو سر یک تانک آبکاری اعمال می‌شود، باید از اختلاف پتانسیل میان دو نیم‌واکنش اکسایش و کاهش بیشتر باشد. اگر ولتاژ اعمال شده کمتر از این حد باشد، آبکاری انجام نمی‌شود و اگر خیلی بیشتر از این حد باشد، مقاومت محلول افزایش می‌یابد و سبب اتلاف انرژی می‌شود. طبق قانون کولن و معادله $q=I.t$ هر قدر شدت جریان بیشتر باشد، جرم فلز رسوب کرده در مدت زمان معین بیشتر خواهد بود. اما نکته مهم آن است که افزایش شدت جریان دارای محدودیت است. شدت جریانی که با آن سرعت رسوب کردن یون‌های فلزی به بیشترین مقدار می‌رسد، «شدت جریان حد^۲» نام دارد. هنگامی که دستگاه آبکاری با شدت جریان حد یا بیشتر از آن کار می‌کند، رسوب مرغوب به دست نمی‌آید و پوشش ایجاد شده پودری شکل یا اسفنجی شکل و تیره‌رنگ خواهد بود که در اصطلاح می‌گویند پوشش سوخته است.

بیشتر بدانید



۱- Rectifier

۲- Limiting Current



معمولاً در عملیات آبکاری به جای شدت جریان (I ، آمپر) از چگالی جریان $\left(\frac{I}{S}\right)$ ، آمپر بر واحد سطح نام می‌برند.

کاتد یا قطعه کار:

به قطعه‌ای که باید آبکاری شود، «قطعه کار» یا «کار^۱» می‌گویند. چنانچه قطعه کار یک نارسانا باشد، لازم است پیش از اجرای عملیات آبکاری سطح آن با یک لایه رسانای الکتریسته پوشیده شود. مهم‌ترین روش‌های ایجاد پوشش رسانا در سطح نافلزات عبارت‌اند از:

- ذوب کردن پودر فلز در سطح جسم
 - غوطه‌ور کردن قطعه در فلز مذاب
 - انجام دادن واکنش شیمیایی در سطح قطعه به منظور رسوب دادن فلز
- با استفاده از این روش‌ها می‌توان سطح بسیاری از قطعات شیشه‌ای، چوبی، سرامیکی و پلاستیکی را با فلزات مختلف پوشاند.



به‌طور کلی در کاتد واکنشی انجام می‌شود که پتانسیل کاهش بزرگ‌تری دارد. اگر اختلاف پتانسیل اعمال شده به حمام آنقدر بود که در گستره پتانسیل دو یا چند یون باشد، آنها، به‌طور همزمان در کاتد رسوب می‌کنند.



چرا نمی‌توان به کمک آبکاری، یک لایه از فلز آلومینیم را از محلول آبی بر سطح یک قطعه نشانده؟ (با مراجعه به جدول ۲ پاسخ صحیح را بیان کنید.)

آند:

آند غالباً از جنس فلز پوشش‌دهنده است و با حل شدن خود، یون‌های مورد نیاز محلول را تأمین می‌کند. گاهی آند فقط نقش هدایت‌کننده الکتریسته به داخل محلول را دارد. در این حالت کافی است آند رسانا باشد و لازم نیست از جنس فلز پوشش‌دهنده ساخته شود.

بنابراین آند در عملیات آبکاری دو نقش اساسی دارد:

- ۱- آند خنثی^۲: تکمیل مدار الکتریکی و رسانایی الکتریسته به داخل محلول آبکاری
- ۲- آند حل‌شونده یا فعال^۴: تأمین یون‌های فلز پوشش‌دهنده

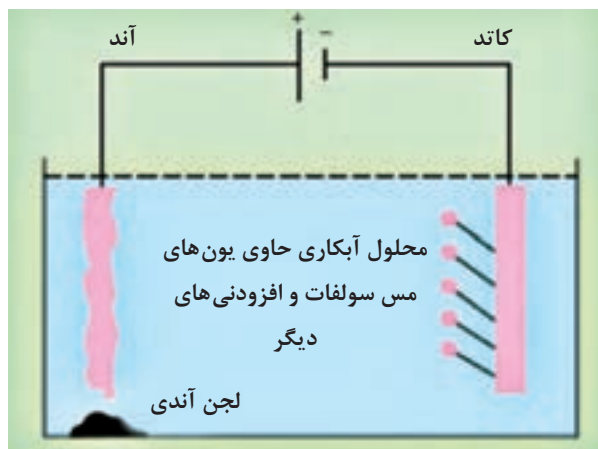
در اغلب فرایندهای آبکاری، یون‌های فلزی که در کاتد رسوب می‌کند، با حل شدن آند (که از جنس فلز پوشش‌دهنده است) تأمین می‌شود. شکل ۱۰ حل شدن آند و رسوب کردن مس را در آبکاری مس نشان می‌دهد.

۱- Current Density

۲- Work

۳- Inert Anode

۴- Active Anode



شکل ۱۰- حمام آبکاری مس

محلول آبکاری

محلولی است آبی، حاوی یون‌های فلز پوشش‌دهنده که اصطلاحاً به آن «حمام آبکاری»^۱ می‌گویند. محلول آبکاری محلولی است که از اجزای مختلف تشکیل شده است. هر کدام از اجزای سازنده حمام آبکاری خاصیت یا خواص معینی را در آن ایجاد می‌کنند. مواد سازنده یک حمام آبکاری باید دارای ویژگی‌های زیر باشد:

(الف) یون‌های فلز پوشش‌دهنده را در خود داشته باشد.

(ب) موادی داشته باشد که با یون‌های فلز پوشش‌دهنده کمپلکس تشکیل دهند. برای مثال، یون سیانید (CN^-) و اتیلن‌دی‌آمین‌تترا استات (EDTA) یکی از مهم‌ترین عوامل کمپلکس‌ساز هستند.

نکته ایمنی



به دلیل سمی بودن یون سیانید و آلودگی محیط‌زیست توسط آن، اغلب استفاده از EDTA ترجیح داده می‌شود.

(پ) محلول آبکاری باید رسانایی الکتریکی کافی داشته باشد.

(ت) محلول آبکاری باید پایدار باشد. برای مثال، اغلب فلزات نمک‌هایی دارند که در واکنش آبکافت شرکت نموده و رسوب تولید می‌کنند. برای جلوگیری از انجام‌شدن چنین واکنش‌هایی، به محلول آبکاری مواد پایدارکننده اضافه می‌کنند.

(ث) pH محلول آبکاری باید ثابت باشد. تنظیم pH در حمام‌های آبکاری در کیفیت پوشش تأثیر دارد. به همین دلیل استفاده از محلول‌های بافر در حمام‌های آبکاری متداول است.

(ج) موادی داشته باشند که شکل فیزیکی پوشش را اصلاح کند. با عبور جریان مستقیم از داخل محلول، یون‌های فلز پوشش‌دهنده بر روی کاتد می‌نشینند و در حالت عادی، کیفیت چنین رسوبی نامطلوب است؛ یعنی ناصاف است و پستی و بلندی‌های زیادی دارد، و چسبندگی مطلوب را نیز ندارد. به منظور اصلاح شکل و خواص فیزیکی پوشش، از افزودنی‌های مختلف در حمام آبکاری استفاده می‌شود. برای مثال، مواد بهبوددهنده سطح^۲، ناصافی‌های پوشش را از بین می‌برد. مواد براق‌کننده^۳ (براقی) جلای پوشش را افزایش می‌دهند و مواد مرطوب‌کننده (کفی) از حفره‌دار شدن پوشش جلوگیری می‌کند.

۱- Plating Bath

۲- Improvers

۳- Brightener

چ) موادی داشته باشد که به حل شدن آند کمک کند. در شرایطی که آند فعال است، انتظار می‌رود که بتواند یون‌های مصرف‌شده در کاتد را جایگزین کند و ترکیب حمام را ثابت نگه دارد. در مورد بعضی از فلزات همان‌طوری که قبلاً اشاره شد، احتمال دارد لایه‌های نازک نامحلول نظیر اکسید سطح فلز را بپوشاند و باعث کم اثر شدن^۱ آن شود. در این نوع حمام‌ها موادی اضافه می‌کنند تا از وقوع چنین مشکلی جلوگیری شود. در آبکاری نیکل، یون‌های کلر چنین نقشی را ایفا می‌کنند.

حمام آبکاری نیکل نیاز به برآقی نیکل دارد، ولی حمام آبکاری کروم نیازمند این نوع افزودنی نیست، زیرا کروم جلا و درخشندگی لازم را دارد.

نکته



آبکاری مس

با ایجاد تغییرات فراوان در ترکیبات محلول‌های آبکاری می‌توان پوشش‌های متنوعی با خواص گسترده به‌دست آورد. پوشش مس یکی از مرسوم‌ترین و پرمصرف‌ترین پوشش‌های الکتریکی بر روی فلزات است که به‌سادگی قابل اجرا می‌باشد. فلز مس به‌دلیل قابلیت رسانایی الکتریکی بسیار بالا و چسبندگی خوب به سایر فلزات به‌عنوان زیرکار برای پوشش‌هایی که چسبندگی کمتری روی سطوح فلزی دارند، به کار می‌رود. همچنین به‌منظور افزایش رسانایی الکتریکی در سطوحی که در برابر جریان الکتریکی به هنگام آبکاری مقاومت بیشتری نشان می‌دهند، به کار می‌رود. این نوع آبکاری علاوه بر مصرف بسیار گسترده در صنایعی مانند صنایع الکتریکی و الکترونیکی، کاربردهای تزئینی فراوانی دارد که «سیاه‌قلم مس» یکی از معروف‌ترین آنها است.

در مورد روش «سیاه قلم مس» تحقیق کنید و نتیجه را در کلاس ارائه دهید.

تحقیق کنید
۶



کیفیت اجرای عملیات آبکاری به چهار عامل اساسی وابسته است:

۱ غلظت فلز مورد آبکاری

۲ دمای محلول آبکاری

۳ pH محلول آبکاری

۴ به هم زدن محلول هنگام کار

محلول‌های آبکاری مس به انواع مختلف اسیدی و قلیایی تقسیم‌بندی می‌شوند. ترکیب زیر مربوط به یک نوع آبکاری برآق مس از نوع اسیدی می‌باشد ترکیب این وان به نام «بی‌ور» معروف است.

ترکیب وان «بی‌ور»:

مس سولفات ۲۱۰ گرم در لیتر

سولفوریک اسید ۶۰ گرم در لیتر

تیواوره ۰/۰۰۹۸ گرم در لیتر

دکسترین ۰/۰۰۹۸ گرم در لیتر

هیدروکلریک اسید ۰/۰۱۲ گرم در لیتر

شرایط عمل:

ولتاژ

۱-۴۷

$$2/16-5/4 \frac{A}{dm^2}$$

چگالی جریان (بدون هم زدن)

$$10/8-21/6 \frac{A}{dm^2}$$

چگالی جریان (در حال به هم زدن)

۲۲ - ۲۵°C

دما

آند مسی حل شونده که می توان استفاده کرد، عبارت است از مس خالص حاصل از برقکافت به صورت غلتک کاری شده و یا ریختگی. این نوع آند باید با چگالی جریانی کمتر از $4/9 \frac{A}{dm^2}$ و بدون به هم زدن محلول استفاده شود.

فعالیت عملی ۶



آبکاری مس روی قطعات آهنی

مواد و وسایل لازم	
مس سولفات	نمونه های آهنی ۴ عدد
سولفوریک اسید	مخزن آبکاری
هیدروکلریک اسید	منبع جریان برق مستقیم
تیواوره	آند مسی حل شونده
دکسترین	دماسنج
	ذره بین با بزرگ نمایی ۱۰
	گیره سوسماری و سیم های رابط
	بشر یک لیتری و دو لیتری
	همزن شیشه ای
	گرم کن برقی

روش کار: محلول آبکاری را برابر حجمی معادل $\frac{2}{3}$ حجم مخزن آبکاری و با ترکیب وان «بیور» تهیه کنید و گرمکن آن را در حدود ۲۵°C تنظیم کنید.

ساخت محلول و آماده‌سازی مخزن آبکاری: در یک بشر با حجم مناسب مقداری آب مقطر، معادل نصف حجم محلول نهایی آبکاری، بریزید و با رعایت اصول ایمنی و در حال هم زدن، به آرامی سولفوریک اسید را اضافه کنید. بعد از حل شدن کامل اسید، مس سولفات توزین شده را در محلول حل کنید، سپس تیواوره، دکسترین و هیدروکلریک اسید را اضافه کنید و با آب مقطر حجم محلول را به میزان نهایی برسانید و در مخزن آبکاری بریزید. به طوری که $\frac{2}{3}$ حجم مخزن را پر کند. دمای گرمکن را تنظیم کنید و آند مسی را در قطب مثبت به کمک سیم مخصوص ضد زنگ ببندید و آماده کار شوید.

آماده‌سازی قطعات آهنی و انجام دادن فرایند آبکاری:

- ۱ هر چهار قطعه را با حلال‌های آلی و سپس با استفاده از محلول‌های قلیایی چربی‌گیری کنید.
- ۲ پس از چربی‌گیری، اسیدشویی کنید و آنها را بلافاصله با آب جاری بشوید؛ به طوری که فرصت زنگ‌زدگی سطحی نکنند و سپس آنها را با روش آب داغ خشک کنید.
- ۳ قطعه‌ها را در قطب منفی (کاتد) و فلز مسی را در قطب مثبت (آند) ببندید.
- ۴ منبع جریان برق مستقیم را روشن کنید. چگالی جریان را به کمک محاسبات مساحت قطعه کار، با تغییر ولتاژ و جریان، تحت کنترل داشته باشید. شایان ذکر است که چگالی جریان را در محدوده $\frac{4}{9} \frac{A}{dm^2}$ نگه دارید و محلول را به همزنید.
- ۵ قطعه اول را پس از ۵ دقیقه، دومی را بعد از ۱۰ دقیقه، سومی را پس از ۲۰ دقیقه و چهارمی را پس از نیم ساعت از محلول خارج کنید.
- ۶ قطعات را پس از آبکاری با آب بشوید و از نظر کیفیت پوشش ایجاد شده بررسی قرار کنید.

چسبندگی و انعطاف پذیری پوشش:

از قطعه‌های آبکاری شده برای ارزیابی میزان چسبندگی و انعطاف پذیری پوشش ایجاد شده استفاده کنید.

روش کار:

- ۱ یک سر هر قطعه را بین دو تکه چوب در میان یک گیره کارگاهی محکم کنید و به آرامی شروع به خم کردن آن نمایید تا به زاویه ۹۰ درجه برسد. کیفیت پوشش را در محل خمش از نظر پوسته شدن، انعطاف پذیری و چسبندگی به کمک ذره بین با بزرگنمایی ۱۰ بررسی کنید.
- ۲ با ادامه عمل خمش به زاویه ۴۵ درجه برسید و کلیه بررسی‌ها را شبیه ۹۰ درجه برای این مرحله نیز انجام دهید و در جدول ۳ ثبت کنید.

جدول ۳- بررسی کیفیت پوشش قطعات آبکاری شده با فلز مس

زاویه (درجه)			قطعه ۱			قطعه ۲			قطعه ۳			قطعه ۴		
پوسته شدن	انعطاف پذیری	چسبندگی	پوسته شدن	انعطاف پذیری	چسبندگی	پوسته شدن	انعطاف پذیری	چسبندگی	پوسته شدن	انعطاف پذیری	چسبندگی	پوسته شدن	انعطاف پذیری	چسبندگی
۹۰														
۴۵														



آبکاری نیکل روی قطعات آهنی

مواد و وسایل لازم	
نیکل کلرید	نمونه‌های آهنی ۴ عدد
نیکل سولفات	مخزن آبکاری
بوریک اسید	یک سوکننده جریان برق
همزن شیشه‌ای	گرمکن برقی
بشر یک لیتری و دو لیتری	دماسنج
آند از جنس نیکل	ذره‌بین با بزرگ‌نمایی ۱۰
	گیره سوسماری و سیم‌های رابط

پوشش نیکل همانقدر که به عنوان یک پوشش صنعتی مفید است، به صورت یک لایه تزئینی نیز زیبا و قابل استفاده است، ولی هدف اصلی از ایجاد پوشش نیکل بهره‌گیری صنعتی از خواص این فلز است. یکی از مرسوم‌ترین انواع آبکاری نیکل «وات^۱» نام دارد که در دو نوع pH پایین و pH بالا مورد استفاده می‌شود. در ادامه ترکیب و مشخصات روش آبکاری با pH پایین ارائه می‌شود. در این روش پوشش مات نیکل بوجود می‌آید.

ترکیب محلول آبکاری نیکل از نوع وات با pH پایین:

نیکل سولفات
نیکل کلرید
بوریک اسید
این محلول در گسترده pH ۵/۵ - ۴/۵ و در دمای ۶۰-۴۶ درجه سلسیوس و جریانی با چگالی ۱۰/۸-۲/۷ آمپر بر دسی مترمربع عمل می‌کند. pH محلول با افزودن بوریک اسید و چگالی جریان با تغییر ولتاژ و شدت جریان در گسترده معین ثابت نگه داشته شود.

تهیه محلول آبکاری:

روش کار:

با توجه به حجم مخزن آبکاری باید محلول مورد نیاز را به مقداری تهیه کنید که معادل $\frac{3}{4}$ حجم مخزن را پر کند. لذا مواد مورد نیاز برای تهیه محلول آبکاری نیکل با pH پایین را برای حجم معین وزن کنید. حال در یک بشر به میزان نصف یا سه چهارم حجم محلول مورد نیاز، آب مقطر بریزید و روی گرمکن برقی تا دمای ۵۰ °C گرم کنید و بوریک اسید را در آن حل نمایید. بعد از حل شدن کامل اسید، دو نمک دیگر را نیز به طور

۱- Watts

کامل در محلول حل کنید و به هم بزنید (هیچ نمک نامحلولی نباید در ظرف دیده شود) در حالی که محلول روی گرمکن است، به تدریج در حال هم زدن، آب مقطر گرم به آن اضافه کنید تا به حجم مورد نیاز برای آبکاری برسد. حال محلول را در مخزن بریزید و درجه گرمکن را روی $50-55^{\circ}\text{C}$ تنظیم کنید، مقدار دما را با استفاده از دماسنج مخزن مشاهده و کنترل نمایید. محلول آبکاری آماده کار است.

- ۱ هر چهار قطعه آهنی را که در مرحله آماده سازی تمیز کرده اید، را از خشکانه بردارید.
- ۲ ابتدا عمل چربی گیری آلی و چربی گیری قلیایی، سپس اسیدشویی (با یکی از روش های معرفی شده) و عمل حکاکی شیمیایی را انجام دهید و در پایان هر مرحله قطعه ها با آب شست و شو دهید و خشک کنید.
- ۳ قطعات آهنی آماده شده را بلافاصله به کمک سیم و گیره های مخصوص به قطب منفی یا کاتد، و تگه های نیکل را در آنند یا قطب مثبت ببندید.
- ۴ دستگاه مولد برق مستقیم را روشن کنید و کلید ولتاژ دستگاه را به تدریج افزایش دهید تا حباب های بسیار ریز به آرامی از سطح آنند آزاد شوند. برای بهبود نتیجه کار در همین حال میزان جریان را روی آمپر متر بخوانید و سطح قطعه را بر حسب دسی متر مربع حساب کنید و با تقسیم مقدار جریانی که آمپر متر نشان می دهد، بر مساحت سطحی از قطعه که در محلول است، می توانید چگالی جریان را محاسبه کنید. اگر در گستره $10/8 - 2/7$ نبود، با کمک تغییر ولتاژ و جریان به این گستره از چگالی جریان وارد شوید.
- ۵ توجه داشته باشید که ممکن است با گذشت زمان عوامل تعیین کننده وضعیت آبکاری تغییر کنند که این عوامل عبارت اند از: pH، دمای محلول، چگالی جریان. با هم زدن محلول از تغییرات دمایی و غلظت موضعی جلوگیری کنید. pH محلول را هر ده دقیقه اندازه گیری کنید و در صورت نیاز به کمک بوریک اسید تنظیم نمایید.

- ۶ یک قطعه را به مدت ۵ دقیقه، ۲ عدد دیگر را ۱۰ دقیقه و آخری را ۲۰ دقیقه آبکاری کنید. بعد از تمام شدن کار و شست و شوی قطعات، آنها را خشک کنید و شکل ظاهری و کیفیت پوسته شدن احتمالی پوشش را برای کلیه قطعات به کمک ذره بین بررسی کنید و نتایج را در جدول ۴ ثبت نمایید.

جدول ۴- بررسی کیفیت پوشش قطعات آبکاری شده با فلز نیکل

قطعه ۵ دقیقه ای			قطعه ۱۰ دقیقه ای			قطعه ۲۰ دقیقه ای			زاویه (درجه)
پوسته شدن	انعطاف پذیری	چسبندگی	پوسته شدن	انعطاف پذیری	چسبندگی	پوسته شدن	انعطاف پذیری	چسبندگی	
									۹۰
									۴۵

نکته های ایمنی در صنعت آبکاری

✓ برای جلوگیری از هرگونه آسیب افرادی که با مواد شیمیایی کار می کنند، باید از وسایل حفاظت شخصی مانند روپوش مناسب، کفش، دستکش مخصوص، عینک، ماسک استفاده کنید (شکل ۱۱).

- ✓ نصب دوش و چشم‌شوی آزمایشگاهی در کارگاه آبکاری ضروری است.
- ✓ در کارگاه آبکاری بایستی برای خروج مواد زائد، از دودکشی با جنس مقاوم در برابر خوردگی استفاده شود.



شکل ۱۱- تجهیزات ایمنی ضروری به منظور فرایند آبکاری

مقوله محیط زیست از موارد مورد توجه در توسعه پایدار هر کشور محسوب می‌شود. از طرف دیگر صنعت آبکاری علی‌رغم کاربرد گسترده آن در زندگی روزمره و صنایع گوناگون، از جمله اصلی‌ترین صنایع آلوده‌کننده محیط زیست به‌شمار می‌رود. فرایندهای آبکاری از طریق آلوده کردن آب، هوا و خاک، محیط زیست را تهدید می‌کنند؛ لذا در ابتدا باید فرایندها و آلودگی‌های آن شناخته شوند و سپس راهکارهای کاهش آلودگی بررسی شود. در این راستا بهینه کردن فرایندهای رایج و یا جایگزینی روش‌های نوین، برای کاهش یا حذف آلودگی‌ها اصلی‌ترین رهیافت‌ها محسوب می‌شوند.



آلودگی زیست محیطی در کارگاه‌های آبکاری

نکات
زیست محیطی



از جمله فعالیت‌های مناسب در راستای توجهات زیست‌محیطی می‌توان به موارد زیر اشاره کرد:

- ✓ وجود یک برنامه دقیق برای تنظیم حمام‌ها به منظور پیدا کردن و تعمیر نشتی‌ها
- ✓ تعویض عایق‌های معیوب ظروف آبکاری برای جلوگیری از خارج شدن بیش از حد محلول‌ها
- ✓ نصب سینی‌هایی برای جمع‌آوری چکه‌ها
- ✓ استفاده از کمترین غلظت مواد شیمیایی درون حمام‌ها
- ✓ ایجاد فرایندهای بازیافت مواد شیمیایی و آب مورد استفاده در آبکاری برای استفاده دوباره
- ✓ پالایش حمام‌های آبکاری برای کنترل میزان آلودگی‌ها جهت افزایش عمر خدمات‌رسانی حمام‌ها
- ✓ جداسازی مواد نفتی در مواردی که غلظت مواد نفتی و روغن‌ها در پساب خام یک کارخانه بیشتر از ۲۰۰ میلی گرم در لیتر است.

در مورد صنایع وابسته به صنعت آبکاری تحقیق کنید و نتیجه را در کلاس ارائه دهید.

تحقیق کنید
۷





رنگ



به نظر شما، فرایندها و پوشش های حاصل از آبکاری و رنگ چه تفاوت ها و چه شباهت هایی با یکدیگر دارند؟

رنگ و صنعت ساخت آن، تاریخ طولانی و کهن را به خود اختصاص می دهد. تاریخچه استفاده از رنگ به انسان های اولیه بر می گردد. آنها بودند که نخستین بار بر روی دیوار غارها، نقوش رنگینی را ترسیم کردند. از ساده ترین و قدیمی ترین رنگ های مورد استفاده بشر می توان مخلوط حاصل از حل شدن خاک رس رنگی در آب را نام برد. مصریان بانیان اولیه صنعت رنگ سازی و به عبارتی هنر رنگرزی و لعاب سازی بوده اند. آنها در حدود ۱۵۰۰ سال پیش از میلاد مسیح (ع) با این هنر آشنا بودند و از صمغ های گیاهی و موم در تهیه مواد رنگی استفاده می کردند. با گذشت زمان از روغن دانه های طبیعی، به عنوان رزین در ساخت رنگ استفاده شد، اما این روغن ها کاملاً پاسخگوی نیاز صنعت نبود؛ در نتیجه، رزین های مصنوعی به طور عمده جانشین روغن های طبیعی شد. در حال حاضر رنگ های بسیار متنوعی با ویژگی های خاصی تولید می شود که برای مصارف گوناگون استفاده می شود. از مهم ترین کاربردها می توان به حفاظت در برابر خوردگی و آسیب پذیری، مصرف تزئینی، بهداشت و پاکیزگی، افزایش صافی، برآفت و علامت گذاری اشاره کرد.

اجزای تشکیل دهنده رنگ ها

اجزای تشکیل دهنده رنگ ها عبارت اند از:

- رنگ پایه (رزین)^۱
- حلال^۲
- رنگ دانه یا رنگینه (پیگمان)^۳
- مواد افزودنی^۴

■ رنگ پایه یا رزین:

رزین پایه اصلی رنگ است و سایر اجزای رنگ به وسیله آن به یکدیگر و به سطح مورد نظر می چسبند. ضمناً رزین، با تشکیل یک لایه نازک (فیلم)، بعد از خشک شدن رنگ، باعث محافظت سطوح در برابر عوامل خارجی می شود. در واقع کیفیت یک رنگ به نوع رزین آن بستگی دارد. به همین دلیل است که پوشش ها و رنگ های مختلف را بر حسب نوع رزین آنها طبقه بندی می کنند. واکنش تبدیل رنگ تر به یک فیلم جامد را که منحصراً به رزین مربوط می شود، خشک شدن می گویند.

در مورد روش های مختلف خشک شدن رنگ ها تحقیق کنید و نتیجه را در کلاس ارائه دهید.



پوشش‌ها و رنگ‌های مختلف را بر حسب نوع رزین آن طبقه‌بندی می‌کنند. رزین‌های مصرفی در رنگ‌ها به دو دسته کلی تقسیم‌بندی می‌شوند:

الف) رزین‌های طبیعی: این رزین‌ها اغلب از صمغ و شیرۀ درختان مختلف به‌دست می‌آید.

بیشتر بدانید



معروف‌ترین رزین‌های طبیعی عبارت‌اند از:

– **رزین کوپال^۱:** از درختی به همین نام (در آفریقا و فیلیپین) به‌دست می‌آید.

– **رزین شلاک^۲:** از بزاق حشراتی که ما بین شاخه‌های درختان شلاک در هندوستان زندگی می‌کنند، به‌دست می‌آید.

– **رزین دامار^۳:** از درختی در مالزی و سومالی تهیه می‌شود.

– **رزین کلوفان^۴ (رزین):** از شیرۀ درخت کاج به‌دست می‌آید. باقی‌مانده تقطیر چوب درخت کاج (که برای تهیه روغن تربانتین صورت می‌گیرد) رزین کلوفان یا رزین نام دارد.

– **صمغ‌ها و رزین‌های نفتی:** مواد باقی‌مانده از تقطیر نفت خام را شامل می‌شود.

ب) رزین‌های مصنوعی: این رزین‌ها که امروزه به شیوه‌های مختلف تهیه می‌شوند عبارت‌اند از: رزین‌های آلکید، پلی‌استر فنولی، اپوکسی، پلی‌اورتان، اپوکسی‌استر، کلروکائوچو، وینیلی، سیلیکونی، آکریلی، پلی‌وینیل استات، پلی‌وینیل بوتیرال، ملامین فرم‌آلدهید و نیترو سلولوزی.

در جدول ۵ خواص و کاربرد شش نوع رنگ و رزین مصنوعی را ملاحظه می‌کنید.

جدول ۵- خواص و کاربرد شش نوع رنگ و رزین

نوع رنگ	نوع رزین	خواص	کاربرد
رنگ آلکیدی	آلکید	خاصیت ارتجاعی، براقیت، مقاوم به نور	کالاهای صنعتی، لوازم فلزی، کاربرد ساختمانی و وسایل نقلیه
رنگ سلولوزی	نیتروسلولوز	خشک شدن سریع، نرمی، مقاوم به آب و هوا	ماشین‌آلات و اثاثیه چوبی
رنگ اپوکسی	اپوکسی	سختی بالا، مقاوم به سایش، خاصیت ارتجاعی، حفاظت از خوردگی بالا، مقاوم به روغن‌ها، حلال‌ها و بازهای رقیق	سازه‌های فولادی در صنایع شیمیایی، پوشش‌های مقاوم در برابر سایش و پوسیدگی و کلیه موارد جلوگیری از خوردگی
رنگ گرما مقاوم	سیلیکونی	مقاوم به گرما تا ۶۰۰ °C، مقاوم به آب و هوا	کوره‌ها، اجاق گاز، اتو، دودکش‌ها و کلیه مواردی که در برابر دمای بالا قرار دارند.
رنگ کوره‌ای	آکریلیک	مقاوم به آب و هوا، مقاوم به نور، براقیت، قابلیت انحنا	لوازم خانگی، قطعات یدکی، ماشین لباسشویی، داخل فریزر و یخچال و جوش‌آور آب گرم
کائوچوی کلردار شده	لاستیک کلردار	مقاوم به اسیدها و بازهای رقیق، آب و گازها	استخر شنا، مخزن آب، مخازن ذخیره اسید و حفاظت از خوردگی سازه‌های فولادی

۱- Copal

۲- Shellac

۳- Damar

۴- Rosin

رنگ دانه:

بحث گروهی
۴



در زمان های قدیم از چه موادی به عنوان رنگ دانه استفاده می کردند؟ چند نمونه مثال بزنید و درباره کاربردهای هر یک بحث کنید.

رنگ دانه ها ذرات جامد سفید یا رنگین بسیار ریزی هستند که در جزء سیال رنگ پخش می شوند ولی در آن حل نمی شوند. در این ارتباط، معمولاً به جزء سیال رنگ، ناقل^۱ نیز گفته می شود. رنگ دانه علاوه بر جنبه تزئینی، ویژگی های دیگری، از قبیل رنگ ظاهری یا فام^۲، تقویت قدرت مکانیکی و ثبات در برابر تابش نور خورشید، را در رنگ ایجاد می کند.

انواع رنگ دانه ها:

رنگ دانه ها را می توان به دو دسته تقسیم بندی کرد:

- ۱- رنگ دانه های اصلی که می توانند مواد معدنی یا آلی باشند، مانند تیتانیوم دیوکسید، سرب کرومات، روی کرومات، اکسیدهای آهن، سرنج^۳، دوده و گرافیت، فتالوسیانی ها.
 - ۲- رنگ دانه های کمکی یا رنگ دانه یار^۴ مانند کلسیم کربنات^۵ (گل سفید، سنگ آهک)، باریم سولفات^۶ (باریت)، منیزیم سیلیکات^۷ (تالک)، آلومینیم سیلیکات^۸ (خاک چینی یا کائولین که اصطلاحاً خاک رس گفته می شود)، سیلیس^۹، آزبست یا پنبه نسوز.
- رنگدانه یارها برای ارزانی و ایجاد خواصی چون پوشش دهنده گی، ماتی، جلوگیری از ته نشینی، تنظیم گران روی، حفظ شفافیت، ایجاد یکنواختی و به منظور ایجاد خواص مطلوب در سطح فیلم نظیر چسبندگی، نفوذناپذیری، قابلیت سنباده خوری و حفظ رزین از فاسد شدن به کار می روند.

تحقیق کنید
۹



درباره رنگ دانه های شبرنگ^{۱۰}، متالیک و ضد خوردگی تحقیق کنید و نتیجه را در کلاس ارائه دهید.

-
- ۱- Vehicle
 - ۲- Color
 - ۳- Pb_3O_4
 - ۴- Extender
 - ۵- $CaCO_3$
 - ۶- $BaSO_4$
 - ۷- $2MgO \cdot 4SiO_2 \cdot H_2O$
 - ۸- $Al_2O_3 \cdot 2SiO_2 \cdot 2H_2O$
 - ۹- SiO_2
 - ۱۰- Luminous Pigments

حلال‌ها:

به نظر شما حلال‌های مناسب برای تهیه رنگ چه شرایطی باید داشته باشند؟

بحث‌گروهی

۵



حلال‌ها مایعاتی هستند که برای حل کردن رنگ پایه به رنگ اضافه می‌گردند و پس از کاربرد رنگ تبخیر می‌شوند. معمولاً حلال مناسب ترکیبی از چند نوع حلال است. مخلوط و یا ترکیب مناسبی از حلال‌ها می‌تواند در کاهش قیمت، میزان آلودگی، مسمومیت و خطر آتش‌سوزی مؤثر باشد. انتخاب به‌جا و صحیح حلال در خاصیت برس‌خوری (امکان اعمال مناسب رنگ با قلم‌مو)، سرعت خشک‌شدن و در نهایت در تشکیل فیلم مطلوب تأثیر مستقیم دارد.

پرسش ۳



الف) آیا آب می‌تواند همواره یک حلال مناسب برای رنگ‌ها باشد؟ توضیح دهید.
ب) اگر خشک شدن رنگی بیش از حد معمول به‌طول انجامد، چه علتی دارد و چه مشکلاتی در فیلم رنگ ایجاد می‌کند؟ اگر در زمان بسیار کوتاهی رنگ خشک شود، چه علتی دارد و چه مشکلاتی در نتیجه کار خواهد داشت؟

مواد افزودنی: افزودنی‌ها به موادی گفته می‌شود که به منظورهای گوناگون، از جمله بهبود کیفیت، مرغوبیت بیشتر، بهبود عملکرد و سهولت استفاده به مقدار یک تا دو درصد وزن کل رنگ و حداکثر تا پنج درصد در ساخت یک رنگ استفاده می‌شوند. افزودنی‌ها در انواع گوناگون وجود دارند که برخی از آنها عبارت‌اند از: خشک‌کننده^۱، ضد پوسته، ضد ته‌نشینی، پوشش‌دهنده، پخش‌کننده، ضد شره، ضد کف، ضد قارچ و کپک‌زدگی، ضد دلمگی، انعطاف‌دهنده^۲ و پایدارکننده^۳.

رنگ‌های حفاظتی یا صنعتی

به نظر شما در صنعت به چه دلایلی از رنگ‌ها استفاده می‌شود؟

بحث‌گروهی

۶



یکی از متداول‌ترین روش‌ها برای حفاظت سازه‌های فولادی و آهنی استفاده از رنگ‌های حفاظتی یا صنعتی است. در بیشتر موارد صنعتی از چند نوع رنگ با عنوان «سامانه پوششی» استفاده می‌شود. این رنگ‌ها با عنوان ضدزنگ یا آستری^۴، رنگ میانی^۵ و رنگ رویه^۶ مشخص می‌شوند.

۱- Dryer

۲- Plastisizer

۳- Istabilize

۴- Primer

۵- Under Coat - Intermediate Coat

۶- Top Coat - Finish Coat



آیا می‌توان از یک نوع سامانه پوششی در تمام مناطق آب و هوایی کشور استفاده کرد؟

درباره رنگ‌های ضد زنگ و نقش آنها در جلوگیری از خوردگی تحقیق کنید و نتیجه را در کلاس ارائه دهید.

عوامل مؤثر در ایفای نقش حفاظتی رنگ‌های صنعتی

این عوامل عبارت‌اند از:

- انتخاب سامانه پوششی مطلوب؛
- تولید و فرمول‌بندی مناسب رنگ‌ها؛
- آماده‌سازی مناسب سطوح؛
- اجرای صحیح عملیات رنگ‌آمیزی؛
- نظارت و بازرسی در تمامی مراحل رنگ‌آمیزی.

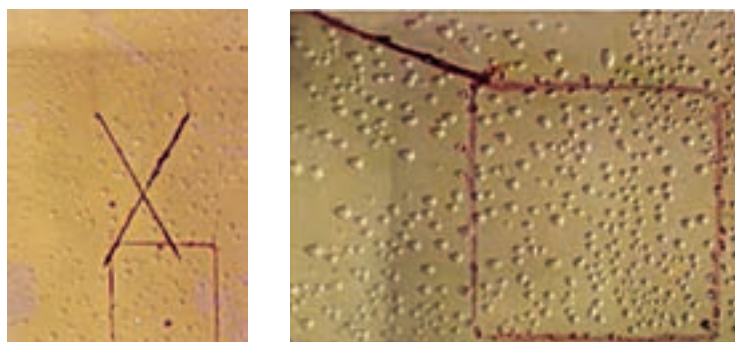
بی‌توجهی به هر یک از عوامل فوق به نوبه خود موجب ایجاد عوارض در فیلم رنگ می‌شود و در کاهش عمر مفید سامانه پوششی مؤثر خواهد بود. در ادامه توضیح مختصر هر کدام از عوامل مؤثر در ایفای نقش حفاظتی رنگ‌های صنعتی آورده شده است.

انتخاب سامانه پوششی: در انتخاب سامانه‌های پوششی باید نوع و جنس سطح مورد نظر، محیط اطراف سازه و طول عمر مفید پوشش در نظر گرفته شوند. برای رسیدن به اهداف فوق، انتخاب صحیح نوع رزین، گونه و درصد وزنی رنگ‌دانه، درصد حجمی مواد جامد و ضخامت پوشش در نظر گرفته می‌شوند.



برای تجهیزات صنعتی باید سامانه‌های پوششی با عمر متوسط ۷ سال را در نظر گرفت.

شکل ۱۲، نمونه‌ای از عوارض ناشی از انتخاب یک سامانه پوششی نامناسب را نشان می‌دهد.



شکل ۱۲- تاول‌زدگی (مقاومت نکردن فیلم رنگ در محیط رطوبتی)



در تعیین رنگ‌ها و سامانه‌های پوششی در شرایط جوی مختلف به چه عواملی باید توجه کرد؟

تولید و فرمول‌بندی مناسب رنگ‌ها: پس از انتخاب سامانه پوششی، تولید رنگ‌ها مطابق فرمول‌بندی مربوط در کارخانه صورت می‌گیرد. در تهیه رنگ‌ها بایستی از مواد مرغوب و درصد‌های مشخص و دستگاه‌ها و وسایل مناسب استفاده کرد و گرنه باید تغییرات نامطلوبی را در پوشش انتظار داشت.



چرا تهیه رنگ‌ها باید به‌طور دقیق مطابق فرمول‌بندی انجام شود؟

آماده‌سازی مناسب سطوح:




به‌نظر شما پیش از اعمال رنگ بر روی سطوح، عملیات آماده‌سازی ضرورت دارد؟ چه آلاینده‌هایی می‌تواند روی سطح تجهیزات باشد؟

قسمت عمده اهمیت یک پوشش، به کیفیت آماده‌سازی سطح مربوط می‌شود. در عملیات پوشش دادن حدود $\frac{2}{3}$ هزینه کل کار، برای آماده‌سازی سطح در نظر گرفته می‌شود؛ در نتیجه، در صورت از بین رفتن رنگ به علت نامناسب بودن سطح، دو سوم مخارج و یا به عبارتی تمامی آن به هدر می‌رود. شکل ۱۳، تمیزکاری به روش شن‌پاشی (سندبلاست) و شکل ۱۴، رنگ‌آمیزی مخزن‌های صنعتی را نشان می‌دهد.

با توجه به وضعیت سطوح، روش‌های مختلفی برای زیرسازی استفاده می‌شود. از آن جمله می‌توان شست‌وشو با حلال، سنباده‌کشی، برس‌کشی، آب‌فشانی، شن‌پاشی^۱ و ساچمه‌پاشی را نام برد. در برخی موارد خاص برای سطوح زنگ‌زده از مواد شیمیایی تبدیل‌کننده لایه اکسیدشده به یک لایه فیلم محکم با چسبندگی مناسب استفاده می‌شود.

در حال حاضر در صنعت بیشتر از روش شن‌پاشی برای آماده‌سازی قطعه استفاده می‌شود. در این روش با پاشیدن شن به وسیله فشار مشخص، لایه‌های اکسید از فلز جدا می‌شود و از طرفی در سطح، حفره‌ها و خلل و فرج‌های فراوان ایجاد می‌شود. وجود این حفره‌ها به دلیل افزایش سطح تماس، و درگیر شدن بیشتر رنگ با سطح، باعث افزایش چسبندگی رنگ به سطح می‌شود.



شکل ۱۳- چند نوع دستگاه شن پاش



شکل ۱۴- رنگ آمیزی مخزن های صنعتی

هر یک از تصویرهای داده شده، نمونه هایی از آماده سازی نامناسب قطعه برای رنگ کاری را نشان می دهد. در هر کدام علت را بیان کنید.

پرسش ۷



پ



ب



الف

اجرای صحیح عملیات رنگ آمیزی

بحث گروهی

۸



روش‌های متداول رنگ آمیزی و اعمال رنگ چیست؟ درباره هر یک چه می‌دانید؟

پس از عملیات آماده‌سازی، رنگ را باید کاملاً یکنواخت کرد و رنگ آمیزی را، طبق دستور کار مربوط، بر روی سطح مورد نظر اجرا کرد.

اگر به دلیل استفاده از رنگ‌های نامناسب و یا اجرای عملیات رنگ آمیزی نامناسب، عمر و عملکرد رنگ‌های صنعتی کوتاه باشد، مشکلات ذیل در صنعت ایجاد می‌شود:

- ۱ امکان خوردگی و تخریب زودهنگام سطوح فراهم می‌شود.
- ۲ تکرار عملیات رنگ آمیزی ضرورت پیدا می‌کند.
- ۳ گازهای سمی متصاعد شده از رنگ‌ها به هنگام تکرار عملیات، مشکلات زیست محیطی را افزایش می‌دهد.
- ۴ تخریب تأسیسات و تکرار عملیات رنگ آمیزی، توقف کار را به دنبال دارد و باعث کاهش تولید می‌شود و خسارت مالی قابل توجهی به صنعت تحمیل می‌شود.

نکته

بین عملیات شن‌پاشی (آماده‌سازی) و رنگ آمیزی نباید بیش از ۶ تا ۱۰ ساعت فاصله زمانی وجود داشته باشد.



پرسش



در رنگ آمیزی به چه نکاتی (ایمنی - زیست محیطی - کاربردی) باید توجه کرد؟

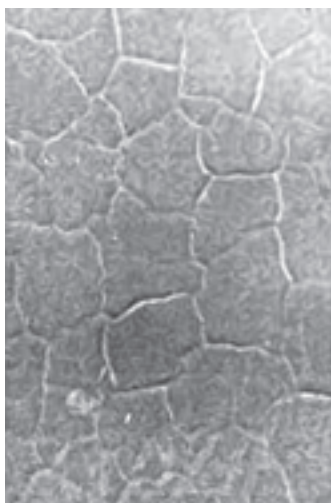
نظارت و بازرسی در تمامی مراحل یک طرح رنگ آمیزی:

پس از تعیین یک سامانه پوششی مناسب توسط کارشناسان مربوط، تولید رنگ‌ها در کارخانه صورت می‌گیرد. در این مرحله ضمن دقت در مرغوبیت و مقدار مواد مصرفی، ضروری است طی مراحل مختلف تولید، چندین بار نمونه‌گیری صورت گیرد و بررسی‌های لازم انجام شود. همچنین متقاضیان و خریداران رنگ‌ها برای پروژه‌های رنگ آمیزی خود باید نمونه‌های ارائه شده را توسط مراکز مربوط، ارزیابی کنند. در مرحله آماده‌سازی و رنگ آمیزی نیز باید تمامی اصول فنی لازم را رعایت کرد. در صورتی که به هر دلیل در اجرای صحیح مراحل فوق بی‌توجهی شود، عملاً سامانه پوششی مطلوب ایجاد نخواهد شد.



در چه صورتی ناظران عملیات رنگ آمیزی می توانند کار نظارتی خود را به خوبی انجام دهند؟

شکل ۱۵ نشان دهنده چهار نوع عارضه در فیلم رنگ به دلیل فرمول بندی و اعمال رنگ نامناسب است.



پدیده پوست سوسماری شدن



پدیده ترک خوردگی فیلم



پدیده پوسته ای شدن



پدیده شره کردن

شکل ۱۵- چهار نوع عارضه نامطلوب در فیلم رنگ

به چه دلایلی عارضه‌های نامطلوب در فیلم رنگ (شکل ۱۵) ایجاد شده است؟ در مورد علت‌های آن تحقیق کنید و نتیجه را در کلاس ارائه دهید.



وسایل و ماشین‌آلات مورد نیاز برای ساخت رنگ

مهم‌ترین وسایل و ماشین‌آلات مورد نیاز برای ساخت رنگ‌ها عبارت‌اند از:

- مخلوط‌کن‌ها^۱ یا همزن‌ها؛
- آسیاب‌ها،
- وسایل توزین، بسته‌بندی، نقاله‌های مختلف، ظروف فلزی استوانه‌ای کوچک و بزرگ، لوازم آزمایشگاهی.

مراحل تهیه یک نمونه رنگ

پس از انتخاب سامانه پوششی، تولید رنگ‌ها در کارخانه، مطابق فرمول‌بندی مربوط، طی مراحل زیر صورت می‌گیرد:

۱- مرحله ساخت پایه یا خمیر رنگ: در این مرحله براساس فرمول‌بندی مورد نظر، مقدار مشخصی از رزین، رنگ‌دانه، مواد پرکننده و حلال توسط همزن با قدرت و سرعت زیاد مخلوط می‌شوند. پس از اختلاط و تهیه خمیر رنگ، به‌منظور نرمی مناسب مواد را وارد آسیاب می‌کنند. نوع آسیاب به مواد رنگ‌دانه بستگی دارد. معمولاً باید آسیابی را در نظر گرفت که ذرات رنگ‌دانه و پرکننده‌ها را به خوبی نرم و ریز کند. در ادامه این مرحله و پیش از مرحله دوم از خمیر رنگ آسیاب‌شده نمونه‌گیری کرده و در آزمایشگاه کارخانه میزان نرمی^۲ (دانه‌بندی) آن را ارزیابی می‌کنند. درجه نرمی باید با شرایط استاندارد مطابقت داشته باشد، در غیر این صورت لازم است خمیر تهیه‌شده دوباره آسیاب شود.

۲- مرحله تکمیل و اصلاح رنگ: این مرحله در یک همزن انجام می‌شود. سایر مواد از قبیل باقی‌مانده رزین و حلال و نیز مواد افزودنی مورد نیاز در این مرحله اضافه می‌شوند. برای تنظیم رنگ (فام) از خمیرهایی که درصد رنگ‌دانه بالایی دارد و مادر رنگ نامیده می‌شود، به محصول اضافه می‌شود. این کار آنقدر با مادر رنگ‌های مختلف انجام می‌شود تا فام دلخواه به‌دست آید. این عمل را رنگ‌آرایی^۳ می‌گویند. در این مرحله نیز آزمایش‌هایی در قسمت تولید و یا کنترل کیفیت صورت می‌گیرد که مهم‌ترین آنها عبارت‌اند از: تعیین چگالی، غلظت، نرمی، براقیت^۴، چسبندگی، سختی، خشک شدن، شره کردن^۵ و ضربه‌پذیری.

۳- مرحله پرکردن و بسته‌بندی: رنگ تولیدشده پس از تأیید کیفیت، در ظروف قوطی، حلب، سطل و یا بشکه بسته‌بندی و توزین می‌گردد و پس از نصب برچسب مشخصات به انبار فرستاده می‌شود.

۱- Mixer

۲- Fineness

۳- Tint, Coloring

۴- Gloss

۵- Flowing , Running



تفاوت اساسی بین دو واژه coating و painting چیست؟

آزمایش‌های رنگ

آزمایش‌هایی که برای ارزیابی عملکرد رنگ‌ها استفاده می‌شوند متعدد و متنوع هستند. تعیین آزمایش‌های ضروری برای یک نمونه رنگ یا سامانه پوششی (مجموعه چند رنگ) به عوامل زیر بستگی دارد:

- نوع سطحی که رنگ بر روی آن اعمال می‌شود؛
- شرایط محیطی؛
- طول عمری که از رنگ برای محافظت سطح انتظار می‌رود.

به‌طور کلی آزمایش‌های رنگ به سه دسته تقسیم‌بندی می‌شوند:

۱. آزمایش‌های مربوط به رنگ مایع
۲. آزمایش‌های مربوط به فیلم تر رنگ
۳. آزمایش‌های مربوط به فیلم خشک رنگ

نکات ایمنی



- آزمون‌های مربوط به رنگ‌ها، در زیر هود یا جایی که دارای هواکش مناسب باشد، انجام گیرد.
- آزمون‌ها ترجیحاً در محیطی با دمای $25 \pm 5^\circ\text{C}$ و رطوبت نسبی 50 ± 5 صورت گیرد.
- از دستکش مرغوب استفاده شود. برای رنگ‌های صنعتی عینک و ماسک نیز سفارش می‌شود.
- از انجام دادن آزمایش‌ها در کنار شعله خودداری شود.

نکته زیست محیطی



به هیچ عنوان مواد اضافی و دورریز، به‌خصوص مواد شست‌وشو، در فاضلاب تخلیه نشود، بلکه در ظرف جداگانه‌ای جمع‌آوری شود. بدیهی است با رعایت اصول ایمنی و زیست‌محیطی باید نسبت به بازیافت و یا انهدام این مواد اقدام کرد.

آزمایش‌های مربوط به رنگ مایع

به نظر شما، نشانه‌های سالم بودن و قابل مصرف بودن رنگ‌ها کدام است؟

بحث‌گروهی ۹





تعیین نوع و درجه ته نشینی رنگ

مواد و وسایل لازم	
رنگ روغنی یک کیلو	همزن مخصوص ^۱
رنگ غنی از روی ^۲ یک کیلو	ظرف مخصوص
رنگ آلومینیمی یک کیلو	تینر ^۳

روش آزمایش :

- ۱ در قوطی رنگ را باز کنید و مطابق جدول زیر به بررسی ته نشینی آن بپردازید.
- ۲ در صورت دسترسی به دو نمونه دیگر رنگ، امکان مقایسه بهتر فراهم شود.

بررسی ته نشینی رنگ مطابق استاندارد ASTM D-۸۶۹

نوع ته نشینی ^۴	وضعیت رنگ
۱۰	در رنگ دو فاز مایع و جامد به وجود نیامده است و رنگ شرایط اصلی و اولیه را حفظ کرده است.
۸	مقدار کمی رسوب ایجاد شده است. میله همزن با وزن خود داخل رسوب فرومی رود و هیچ گونه مقاومتی در برابر حرکت آن در رنگ دیده نمی شود.
۶	میله همزن با وزن خود داخل رسوب فرومی رود و مقاومت کمی در حرکت آن در داخل رنگ مشاهده می شود. قسمت هایی از رسوب نیز به وسیله همزن کنده می شود.
۴	میله همزن با وزن خود داخل رسوب فرو نمی رود. حرکت آن در جهت پهن مشکل است، ولی در امتداد ضخامت آن، مقاومت کمی مشاهده می شود. در عین حال رنگ به آسانی یکنواخت می شود.
۲	میله همزن با فشار و سختی داخل رسوب می رود. حرکت آن در رنگ خیلی مشکل است، اما به هر ترتیب رنگ با کمک دست یکنواخت می شود.
۰	با کمک دست و حرکت میله همزن نمی توان رنگ را یکنواخت کرد.

۱- این همزن دارای جرم ۴۵ گرم است و تیغه آن به شکل مربع و مستطیل و اندازه ۱۲۵×۲۰ میلی متر است (Spatula).

۲- Zinc Rich

۳- حلالی است که برای رقیق کردن رنگ های پایه روغنی به کار می رود، همچنین می توان برای پاک کردن بخش هایی که رنگ آلود شده اند

به کار رود.

۴- Rate No.

نکته ایمنی



تحقیق کنید
۱۳



پس از تمام شدن آزمایش، بی درنگ وسایل مصرفی با حلال مناسب شسته شود و پساب ایجادشده در ظرف های مخصوص نگهداری پسماندها جمع آوری شود.

حلال تینر فوری و روغنی چه نوع ترکیب شیمیایی هستند؟ چه تفاوت و چه کاربردهایی دارند؟

فعالیت عملی ۹



بررسی وضع ظاهری رنگ در قوطی یا ظرف مربوط

مواد و وسایل لازم	
رنگ روغنی استفاده نشده یک قوطی	همزن شیشه ای
تینر	

روش کار:

- ۱ در قوطی رنگ را باز کنید. رنگ باید فاقد پوسته (رویه) باشد. رسوب آن نیز باید در حدی باشد که با هم زدن، رنگ به صورت کاملاً یکنواخت درآید.
- ۲ ضمناً هیچ گونه علائمی از فساد رنگ، شامل بوی نامطبوع و زننده، کپک زدگی، ژله ای شدن و تجمع رنگ دانه نباید در آن مشاهده نشود.

فعالیت عملی ۱۰



رویه بستن

مواد و وسایل لازم	
رنگ روغنی حدود یک لیتر	همزن شیشه ای
تینر	آون یا محیطی با دمای 40°C
یک قوطی خالی یک لیتری با در مناسب	

روش کار:

- ۱ $3/4$ قوطی خالی را از رنگ مورد نظر پر کنید و در آن را محکم ببندید. سپس به مدت ۴۸ ساعت آن را در دمای 40°C قرار دهید.
- ۲ پس از گذشت این مدت زمان، رنگ را از نظر وضع ظاهری بررسی کنید. رنگ با کیفیت نباید رویه بسته باشد.

فعالیت عملی ۱۱



تعیین گرانروی

مواد و وسایل لازم	
مقداری رنگ	چند فنجان ^۱ مخصوص اندازه‌گیری با نازل‌های مختلف
تینر	همزن شیشه‌ای
	زمان سنج

مطابق شکل ۱۶، وسایل اندازه‌گیری گرانروی رنگ را آماده کنید.

روش کار:

- ۱ رنگ را کاملاً یکنواخت کنید.
 - ۲ سوراخ نازل یکی از فنجان‌ها را با انگشت بگیرید آن را از رنگ مورد نظر پر کنید؛ به‌طوری که با گذاشتن درپوش مربوط، رنگ اضافی از فنجان جدا شود.
 - ۳ همزمان با رها کردن انگشت، زمان سنج را به کار اندازید.
 - ۴ به محض آنکه جریان ریزش رنگ (به صورت سیلان) قطع شد، زمان سنج را متوقف کنید و زمان سیلان را بر حسب ثانیه یادداشت کنید.
- شکل ۱۶، فنجان‌های اندازه‌گیری گرانروی را نشان می‌دهد.



شکل ۱۶- فنجان‌های مختلف اندازه‌گیری گرانروی

در صورت نبود این تجهیزات در کارگاه هنرستان، با استفاده از انواع لیوان یکبارمصرف، کاپ‌های مختلف را بسازید و فعالیت عملی را انجام دهید.

نکته



معمولاً برای اعمال رنگ به روش‌های مختلف، گرانروی مشخصی از رنگ احتیاج است. چگونه می‌توان گرانروی مناسب را در کاربردهای مختلف رنگ ایجاد کرد؟

پرسش ۱۰





تعیین دانه‌بندی (اندازه‌گیری درجهٔ پخش شدن رنگدانه‌ها)

مواد و وسایل لازم	
رنگ	وسیلهٔ اندازه‌گیری مربوط به نام گریندومتر ^۱
تینر	همزن شیشه‌ای

برای تعیین دانه‌بندی و اندازه‌گیری درجهٔ پخش شدن رنگدانه‌ها در رنگ از وسیله‌ای به نام گریندومتر استفاده می‌شود. گریندومتر از یک صفحهٔ فلزی مکعب‌مستطیل تشکیل شده است که در سطح آن دو شیار طولی دیده می‌شود. عمق این شیارها از یک طرف به طرف دیگر اضافه شده و از صفر تا صد میکرون درجه‌بندی شده است. یک تیغهٔ فلزی لبه‌تیز نیز، برای کشیدن رنگ بر روی شیارها وجود دارد (شکل ۱۷).



شکل ۱۷- وسیلهٔ اندازه‌گیری دانه‌بندی رنگ تر

روش کار:

- ۱ ابتدا گریندومتر را به صورت افقی قرار داده و چند قطره از رنگ مورد نظر را در قسمت عمیق در شیار قرار دهید.
- ۲ سپس رنگ را با تیغهٔ مربوط در طول دو شیار بکشید.
- ۳ پس از پهن شدن رنگ، بلافاصله گریندومتر را در مقابل نور (ترجیحاً مهتابی) قرار دهید و اندازهٔ ذرات رنگ‌دانهٔ موجود در رنگ را در مقطع شیارها مشخص کنید.
- ۴ هر جا که تجمع رنگ‌دانه‌ها بیشتر بود، عدد مربوط به آن ناحیه نشان‌دهندهٔ اندازهٔ ذرات جامد در رنگ است.

الف) اهمیت آزمایش تعیین دانه‌بندی رنگ در چیست؟

ب) اگر درجهٔ دانه‌بندی بزرگ‌تر از استاندارد باشد، چه علتی دارد و چه مشکلی در فیلم رنگ ایجاد می‌کند؟

پرسش ۱۱



فعالیت عملی ۱۳



سازگاری با رقیق کننده

مواد و وسایل لازم	
رنگ	یک ظرف مناسب ترجیحاً شیشه‌ای و مدرج
رقیق کننده یا حلال مناسب	همزن شیشه‌ای

روش کار:

- ۱ سه حجم رنگ موردنظر را در ظرف بریزید، سپس یک حجم رقیق کننده مربوط را به آرامی (ضمن همزدن) به آنها اضافه کنید و در ظرف را ببندید.
- ۲ پس از گذشت ۲۴ ساعت در ظرف را باز کنید.
- ۳ در رنگ رقیق شده نباید هیچ گونه رسوب، جدایی رنگ دانه و رنگ پایه و تشکیل فازهای مختلف مشاهده شود.

فعالیت عملی ۱۴

تعیین میزان پوشانندگی رنگ (قدرت اختفا یا پنهان کنندگی)^(۱)

مواد و وسایل لازم	
رنگ	فیلم کش (اپلیکاتور)
تینر	همزن
کاغذ شطرنجی با خانه‌های سیاه و سفید	

روش کار:

- ۱ رنگ را کاملاً یکنواخت کنید.
- ۲ مطابق شکل ۱۸، فیلم کش مناسبی را با ضخامت‌های متفاوت بر روی کاغذ شطرنجی قرار دهید و داخل آن را از رنگ پر کنید. سپس به آهستگی فیلم کش را بر روی کاغذ عبور دهید. ضخامتی از رنگ را، که در آن خانه‌های سیاه و سفید قابل تمایز نباشد، مشخص کنید.
- ۳ این ضخامت با عنوان قدرت پوشانندگی یا اختفای رنگ در نظر گرفته می‌شود.



شکل ۱۸- دو نمونه فیلم کش رنگ

نکته

در صورت موجود نبودن این تجهیزات در کارگاه هنرستان، با طراحی ساده، آنها را بسازید و فعالیت عملی را انجام دهید.



آزمایش‌های مربوط به فیلم تر رنگ

فعالیت کارگاهی ۱۵



اندازه‌گیری ضخامت فیلم تر

مواد و وسایل لازم	
رنگ	صفحات فولادی یا شیشه‌ای
تینر	همزن
شانه مخصوص ^۱	

روش کار :



شکل ۱۹- شانه مخصوص اندازه‌گیری ضخامت فیلم تر رنگ

۱ رنگ یکنواخت‌شده را بر روی سطح مناسبی (شیشه یا فلز) اعمال کنید.

۲ مطابق شکل ۱۹، شانه مخصوص را به‌صورت عمودی روی فیلم تر رنگ قرار دهید. این شانه دارای دندان‌هایی است که دندان‌های اول و آخر یکسان‌اند، اما سایر دندان‌ها کوتاه و بلند هستند و اختلاف طول آنها در بعضی نمونه‌ها یک میلی‌متر است.

۳ با قرار دادن شانه، دندان‌های که با فیلم تماس پیدا می‌کند، ضخامت آن را مشخص می‌کند.

۴ با تمیز کردن شانه این کار را می‌توان در قسمت‌های دیگر فیلم تکرار کرد و میانگین ضخامت فیلم تر را به‌دست آورد. این روش برای اندازه‌گیری‌های تقریبی استفاده می‌شود.

نکته

در صورت نداشتن شانه مخصوص اندازه‌گیری ضخامت فیلم تر رنگ استاندارد، با استفاده از فویل‌های محکم آلومینیومی، نمونه‌های مشابه با آن را بسازید و به‌طور تقریبی ضخامت فیلم تر رنگ اعمال شده را اندازه‌گیری کنید.



۱- Wet Film comb

فعالیت عملی ۱۶



مقاومت در برابر شره کردن و موجی شدن رنگ

مواد و وسایل لازم	
رنگ	صفحات فولادی یا شیشه‌ای
تینر	همزن
شانه یا تیغه مخصوص	

روش کار :

- ۱ رنگ را کاملاً یکنواخت کنید، سپس به روش برس کشی یا پاششی، آن را (با ضخامت مشخص) بر روی ورقه‌های آماده شده و تمیز اعمال کنید.
- ۲ شانه مخصوص را بر روی فیلم تر بکشید. قطعات باریکی با عرض مشخص بر روی فیلم ایجاد می‌شود.
- ۳ ورقه را بلافاصله به حالت عمود بر شیارها قرار دهید. در صورتی که رنگ مشکل شره کردن یا موجی شدن را داشته باشد، جاری می‌شود و سرتاسر باریکه‌های بدون رنگ (شیارها) را می‌پوشاند.

فعالیت عملی ۱۷



ضرورت آماده سازی سطح قبل از اعمال رنگ

مواد و وسایل لازم	
۶ قطعه ورقه فولادی به اندازه ۱۵×۱۰ سانتی متر و ضخامتی حدود ۱ تا ۲ میلی متر	چند عدد سنباده با زبری‌های مختلف

روش کار :

- ۱ یک ورقه زنگ زده را کنار بگذارید و بر روی آنها هیچ اقدامی انجام ندهید.
- ۲ یک ورقه دیگر را با سنباده، کمی تمیز کنید؛ به طوری که سطح کاملاً سفید و یکدستی ایجاد نشود.
- ۳ سطوح سه ورقه دیگر را جداگانه با سنباده‌های متفاوت کاملاً تمیز کنید. این کار برای ۳ نوع سنباده با زبری مختلف انجام شود.
- ۴ سطح یک ورقه دیگر را با سنباده کاملاً تمیز کنید. سپس آن را برای دقایقی در محیط مرطوب قرار دهید و یا سطح آن را کمی خیس کنید.
- ۵ بر روی کلیه ورقه‌های فوق، رنگ مورد نظر را به طور یکسان اعمال کنید و پس از یک هفته، به بررسی چسبندگی فیلم رنگ‌ها بپردازید.



به نظر شما در کدام ورقه چسبندگی رنگ بیشتر و در کدام نمونه رنگ کمترین چسبندگی را خواهد داشت؟

فعالیت کارگاهی ۱۸



اندازه‌گیری زمان خشک‌شدن سطحی فیلم رنگ

آزمایش ۱:

مواد و وسایل لازم	
رنگ	ورقه فولادی یا شیشه‌ای
تینر	همزن
ترازو	وزنه ۵۰۰ گرمی

روش کار:

- ۱ بر روی صفحه آماده‌شده‌ای، قشری از رنگ با ضخامت مناسب (دلخواه) اعمال کنید.
- ۲ ساعاتی بعد، پس از آنکه بر اثر تماس، رنگ به دست نچسبید، صفحه را داخل کفه ترازویی قرار دهید و در کفه دیگر با فشار دادن انگشت دست، نیرویی معادل ۵۰۰ گرم بر روی قشر رنگ وارد کنید.
- ۳ زمانی که با این فشار اثری از خطوط انگشت بر روی فیلم دیده نشود، خشک‌شدن سطحی در فیلم صورت گرفته است. این زمان را یادداشت کنید.

آزمایش ۲:

مواد و وسایل لازم	
رنگ	ورقه فولادی یا شیشه‌ای
تینر	الک ۳۰۰ و ۱۵۰ میکرونی
پودر کلسیم کربنات	قلم‌مو

روش کار:

- ۱ پودر کلسیم کربنات را الک کنید تا درشتی ذرات آن بین ۱۵۰ الی ۳۰۰ میکرون شود (از الک ۳۰۰ میکرونی قابل عبور باشد، ولی از الک ۱۵۰ میکرونی رد نشود).
- ۲ سپس آن را بر روی قشر رنگی که پیش‌تر اعمال کرده‌اید، بپاشید (زمانی که احساس می‌کنید خشک شدن سطحی اتفاق افتاده است). پس از مدتی پودرها را با قلم‌موی تمیز از روی سطح فیلم پاک کنید.
- ۳ خشک شدن سطحی زمانی اتفاق می‌افتد که پودر کلسیم کربنات کاملاً از سطح فیلم جدا شود و این عمل لطمه‌ای به قشر رنگ وارد نکند.

فعالیت عملی ۱۹



تعیین خشک شدن کامل

مواد و وسایل لازم	
ورقه رنگ شده	وزنه ۲ کیلوگرمی
ترازو	

روش کار:

- ۱ صفحه رنگ شده را در یک کفه ترازو قرار دهید. در کفه دیگر، هم وزن آن وزنه بگذارید.
 - ۲ سپس در کفه‌ای که وزنه گذارده‌اید، وزنه دیگری به جرم ۲ کیلوگرم اضافه کنید.
 - ۳ در مرحله بعد، با انگشت دست، روی صفحه رنگ شده فشار دهید تا هر دو کفه برابر شود. به مدت یک دقیقه ترازو را به همان وضع نگهدارید، سپس آن را به آرامی رها کنید.
 - ۴ هیچ اثری از انگشت نباید روی قشر رنگ باقی مانده باشد. می‌توان به جای انگشت پارچه‌ای را روی فیلم رنگ قرار داد و سپس وزنه ۲ کیلوگرمی را روی پارچه گذاشت. در این حالت نیز نباید هیچ‌گونه اثری از خطوط پارچه بر روی قشر رنگ باقی مانده باشد.
- برای اعمال رنگ وسایل مختلفی وجود دارد که با توجه به سطح موردنظر می‌توان وسیله مناسب را انتخاب کرد.

درباره وسایل مختلف اعمال رنگ تحقیق کنید و جدول را کامل کنید.

تحقیق کنید
۱۴



مقایسه وسایل اعمال رنگ		
تصویر	ویژگی‌ها و نکات مهم	وسایل اعمال رنگ
		قلم مو
		رنگ پاش
		رنگ پاش
		غلtek

آزمایش‌های فیلم خشک رنگ

فعالیت عملی ۲۰



تعیین برآقیت

فیلم‌های رنگ می‌توانند برآقیت‌های متفاوتی بین دو حالت بسیار برآق (بازتاب نور ۹۸ تا ۱۰۰٪) و مات (بازتاب نور صورت نمی‌گیرد) داشته باشند. برای تشخیص رنگ‌ها غالباً از این دسته‌بندی استفاده می‌شود: رنگ‌های بسیار برآق، رنگ‌های نیمه‌برآق، رنگ‌های برآق پوست تخم‌مرغی و رنگ‌های مات پوست تخم‌مرغی استفاده می‌شود.

مواد و وسایل لازم	
صفحه پوشش داده شده شیشه‌ای	دستگاه برآقیت سنج

روش آزمون:

- ۱ ابتدا رنگ مورد نظر را با ضخامت یکسان و یکنواخت به وسیله فیلم کش روی سطح شیشه‌ای صاف اعمال کنید.
 - ۲ ۲۴ ساعت برای خشک شدن آن فرصت دهید.
 - ۳ توسط دستگاه برآقیت سنج^۱، میانگین برآقیت آن را مشخص کنید. معمولاً برای اندازه‌گیری برق فیلم رنگ‌های بسیار برآق، از زاویه ۶۰ درجه استفاده می‌شود.
- در شرایط عادی نقاش با مخلوطی از رنگ‌های برآق و مات، برآقیت مورد نظر را به دست می‌آورد.



شکل ۲۰- دو نمونه دستگاه برآقیت سنج رنگ

فعالیت عملی ۲۱



اندازه‌گیری ضخامت فیلم خشک

مواد و وسایل لازم	
تعدادی ورقه فلزی پوشش داده شده	ضخامت سنج انگشتی
	ضخامت سنج دیجیتالی

روش آزمون

روش تخریبی:

- ۱ مطابق شکل ۲۱، دستگاه ضخامت سنج فیلم خشک رنگ، دارای ۲ پایه است که بر روی فیلم رنگ قرار می‌گیرند. میله‌ای در وسط این دو پایه وجود دارد که به صفحه مدرجی متصل است. برای تنظیم دستگاه میله را روی شیشه قرار دهید. در این حالت عقربه باید عدد صفر را نشان دهد.
- ۲ به مقدار لازم فیلم را از سطح جدا کنید و میله را در آن قسمت قرار دهید تا با سطح زیرین فیلم در تماس باشد (پایه‌ها باید بر روی فیلم قرار داشته باشند). عددی که صفحه مدرج نشان می‌دهد، ضخامت فیلم را مشخص می‌کند. در روش تخریبی می‌توان از میکرومتر و یا میکروسکوپ نیز استفاده کرد.

۱- Gloss meter



شکل ۲۱- ضخامت سنج فیلم خشک رنگ (روش تخریبی)

روش غیر تخریبی:

دستگاه‌هایی وجود دارند که با خاصیت مغناطیسی یا الکتریکی آنها می‌توان ضخامت فیلم خشک را بر روی فلزات آهنی و غیر آهنی تعیین کرد. روش تنظیم و طرز کار دستگاه‌ها در کتابچه‌های راهنمای آنها نوشته شده است. گفتنی است معمولاً ضخامت چندین نقطه را مشخص کرده و میانگین آنها را منظور می‌کنند. شکل ۲۲ دو نوع ضخامت سنج را نشان می‌دهد.

نکته

برای اندازه‌گیری ضخامت اطراف و کناره‌های ورقه‌ها را در نظر نمی‌گیرند.



شکل ۲۲- انواع ضخامت سنج فیلم خشک رنگ (غیر تخریبی)

کدام روش اندازه‌گیری ضخامت خشک رنگ بیشترین کاربرد را دارد؟ علت را بیان کنید.

پرسش ۱۳



فعالیت عملی ۲۲




تعیین چسبندگی فیلم خشک به روش برش متقاطع یا صلیبی

مواد و وسایل لازم	
تعدادی ورقه فلزی پوشش داده شده با ضخامت‌های متفاوت	چسب استاندارد پرماسل ۹۹
برس مخصوص	کاتر مخصوص یک و دو میلی متری

روش آزمایش :

- ۱ ورقه پوشش داده شده، به ضخامت فیلم خشک حداکثر ۵۰ میکرون را انتخاب کنید.
- ۲ مطابق شکل ۲۳، بر روی ورقه با کاتر مخصوص^۱ یک میلی متری دو بار به صورت عمود بر هم خراش ایجاد کنید تا ۲۵ مربع یک میلی متری ایجاد شود.
- ۳ برس مربوط دستگاه را به آرامی بر روی خراش‌ها بکشید، سپس چسب نواری مخصوص را بر روی مربع‌های تشکیل شده قرار دهید. طول چسب را حدود ۷ سانتی متر در نظر بگیرید، سپس با پاک کن حدود ۳۰ ثانیه بر روی چسب مالش دهید.
- ۴ حداکثر ۲ دقیقه بعد یک طرف نوار را برگردانید و به حالت موازی با سطح ورقه، آن را از خراش‌ها جدا کنید. مقدار رنگ جدا شده از سطح (که به چسب چسبیده است) کاهش چسبندگی را نشان می‌دهد.
- ۵ نتایج آزمون چسبندگی را مطابق استاندارد ASTM D-3359 و براساس جدول ۶ بررسی نمایید و گزارش کنید.



۳



۲



۱



۶



۵



۴

شکل ۲۳- مراحل آزمایش چسبندگی به روش صلیبی

چسبندگی مطلوب ۵B است و به طور معمول چسبندگی کمتر از ۴B در بسیاری از استانداردها پذیرفته نمی‌شود.



جدول ۶- نتایج آزمایش چسبندگی رنگ بر اساس استاندارد ASTM-۳۳۵۹

درجه بندی	درصد نواحی حذف شده	نتیجهٔ آزمون چسبندگی
۵B	۰٪	
۴B	کمتر از ۵٪	
۳B	(۵-۱۵)٪	
۲B	(۱۵-۳۵)٪	
۱B	(۳۵-۶۵)٪	
۰B	بیشتر از ۶۵٪	

فعالیت عملی ۲۳



اندازه‌گیری سختی فیلم خشک رنگ

مواد و وسایل لازم	
چند ورقه فلزی رنگ شده با ضخامت‌های متفاوت	مدادهای مخصوص با سختی متفاوت

روش آزمایش:

ساده‌ترین روش اندازه‌گیری سختی فیلم خشک استفاده از مدادهایی است که سختی آنها از ۶H به ۴B کاهش می‌یابد. انجام دادن آزمون بدین گونه است که مدادهای مختلف به صورت جداگانه روی سطح فیلم کشیده می‌شوند. این کار تا زمانی ادامه می‌یابد که یکی از مدادها بتواند خط سیاهی روی فیلم رنگ ایجاد کند. سختی مداد استفاده شده، نشان‌دهنده سختی فیلم است (شکل ۲۴-الف).

نکته

در صورت موجود نبودن مدادهای مخصوص اندازه‌گیری سختی فیلم خشک رنگ در هنرستان، با استفاده از مدادهای خود، این فعالیت را به طور تقریبی انجام دهید.



روش دیگری که برای تعیین سختی فیلم خشک رنگ در آزمایشگاه‌های مجهز به کار می‌رود، استفاده از آونگ‌های مخصوص است. در این روش سختی رنگ با استفاده از خاصیت تلف شدن انرژی در اثر نوسان آونگ مشخص می‌شود (شکل ۲۴-ب).



ب) سختی سنج پاندولی



الف) سختی سنج مدادی

شکل ۲۴- دو نوع سختی سنج فیلم خشک رنگ

رنگ‌های صنعتی

فیلم آموزشی



- ۱ هدف از انجام دادن عملیات آبکاری چیست؟ ۵ مورد را با ذکر مثال برای هر کدام بنویسید.
- ۲ قسمت‌های مختلف یک دستگاه آبکاری را نام ببرید.
- ۳ نقش‌های آند در آبکاری را نام ببرید و درباره هر کدام توضیح دهید.
- ۴ چگونه می‌توان یک قطعه نارسا را به روش آبکاری پوشش داد؟
- ۵ اجزای تشکیل دهنده یک حمام آبکاری را نام ببرید.
- ۶ انواع عملیات آماده‌سازی را نام ببرید.
- ۷ علت انجام دادن عملیات اسیدشویی را توضیح دهید.
- ۸ نقش یون‌های کلر در آبکاری نیکل را بنویسید.
- ۹ از یک محلول نقره‌نیترات جریان ۰/۰۵ آمپر به مدت ۳۰ دقیقه عبور می‌کند. در صورتی که بازده کاتد صددرصد باشد، چند گرم نقره در کاتد رسوب می‌کند؟ جرم اتمی نقره ۱۰۸ است.
- ۱۰ در یک مخزن آبکاری فلز روی، کل مساحت پوششی ۱/۵ متر مربع و متوسط ضخامت پوشش ۲۵ میکرون است. اگر شدت جریان در مدت ۱۵ دقیقه به‌طور متوسط ۱۰۰۰ آمپر باشد، بازده کاتد را به‌دست آورید. جرم اتمی روی ۶۵ و چگالی آن ۷/۱۴ گرم بر سانتی‌متر مکعب است.
- ۱۱ در آبکاری مس جریان ۱۵ آمپر از داخل محلول مس سولفات عبور می‌کند و مس بر روی قطعه کار که مساحت مجموع آنها ۱۰۰۰ سانتی‌متر مربع است، می‌نشیند. اگر بازده کاتد صددرصد باشد، چه مدت باید عملیات آبکاری را ادامه داد تا ضخامت پوشش ۵ μm شود؟ جرم اتمی مس ۶۳/۵ و چگالی آن $\frac{g}{cm^3} = \frac{8}{93}$ است.
- ۱۲ هر یک از واژه‌های زیر را توضیح دهید:
الف) کفی ب) برّاقی پ) حکاکی شیمیایی
- ۱۳ پتانسیل کاهش کروم در محلول ۰/۰۰۱ مولار حاوی یون‌های Cr^{3+} چند ولت است.
- ۱۴ اگر اجرای رنگ رویه (به هر دلیل) پس از یک سال از اجرای لایه آستری (ضد زنگ) صورت گیرد، چه کارهایی جهت چسبندگی بهتر آن باید انجام داد؟
- ۱۵ آثار موج یا غیریکنواخت بودن رنگ به هنگام رنگ‌آمیزی در منزل چگونه تشخیص داده می‌شود؟
- ۱۶ پنج مورد از نشانه‌های فساد رنگ را نام ببرید.
- ۱۷ آزمایش‌های عمومی برای رنگ‌های مختلف کدام‌اند؟
- ۱۸ در ارزیابی رنگ‌ها معمولاً به تأثیرات محیط بر روی آنها توجه می‌شود. چند نمونه را نام ببرید که تأثیر رنگ بر محیط باید بررسی شود.

ارزشیابی شایستگی انجام عملیات در صنایع پوششی

شرح کار:

چگونگی استفاده تجهیزات کارگاهی را بداند و کار داده شده را با دقت انجام دهد.
هنگام انجام دادن کار مراقب باشد که دستگاه صدمه نبیند. پس از انجام دادن کار، وسایل را تمیز و سالم در حالت اولیه قرار دهد.

استاندارد عملکرد:

آماده سازی قطعه و پوشش دهی به روش آبکاری و رنگ طبق دستور کار

شاخص ها:

- رعایت مسائل ایمنی هنگام انجام دادن کار
- انجام دادن کار طبق دستور کار

شرایط انجام کار و ابزار و تجهیزات:

شرایط مکان: کارگاه / آزمایشگاه

شرایط دستگاه: آماده به کار

زمان: یک جلسه آموزشی

ابزار و تجهیزات: وسایل ایمنی شخصی - تجهیزات کارگاهی - وان آبکاری - لوازم آزمایش های رنگ (گریندومتر - ضخامت سنج - ...)

معیار شایستگی:

ردیف	مرحله کار	حداقل نمره قبولی از ۳	نمره هنرجو
۱	آماده سازی قطعه پیش از پوشش	۱	
۲	آبکاری قطعات	۲	
۳	پوشش دهی با اعمال رنگ	۲	
۴			
<p>شایستگی های غیر فنی، ایمنی، بهداشت، توجهات زیست محیطی و نگرش:</p> <p>۱- ایمنی: انجام دادن کار کارگاهی با رعایت موارد ایمنی و استفاده از وسایل ایمنی شخصی</p> <p>۲- نگرش: صرفه جویی در مواد مصرفی</p> <p>۳- توجهات زیست محیطی: جلوگیری از صدمه زدن به محیط زیست از طریق انجام دادن کار بدون ریخت و پاش</p> <p>۴- شایستگی های غیر فنی: ۱- اخلاق حرفه ای ۲- مدیریت منابع ۳- محاسبه و کار بست ریاضی</p> <p>۵- مستند سازی: گزارش نویسی</p>			
میانگین نمرات			

* کمترین میانگین نمرات هنرجو برای قبولی و کسب شایستگی، ۲ است.